



I. 사회를 바라보는 창

1 개인 이해

본문 10~11쪽

01 실력 향상 문제

- 1 ⑤ 2 ① 3 ③ 4 자아 정체성
5 ① 6 ② 7 ② 8 ⑤
9 해설 참조 10 ⑤ 11 ④ 12 자아, 자아 정체성

본문 14~15쪽

02 실력 향상 문제

- 1 ④ 2 ③ 3 갈등 4 ④ 5 ③
6 ② 7 ⑤ 8 사회적 관계
9 해설 참조 10 ⑤ 11 ⑤

2 세상 이해

본문 18~19쪽

01 실력 향상 문제

- 1 ⑤ 2 ① 3 해설 참조 4 ④ 5 ③
6 ③ 7 ⑤ 8 해설 참조 9 ④
10 사실 판단, 가치 판단

본문 22~23쪽

02 실력 향상 문제

- 1 ⑤ 2 ④ 3 해설 참조 4 자연 현상 5 ④
6 ① 7 ② 8 ⑤ 9 해설 참조 10 ②
11 좋은 동기 나쁜 결과, 나쁜 동기 좋은 결과(순서는 상관 없음)

본문 25쪽

03 실력 향상 문제

- 1 ⑤ 2 ② 3 지도, 통계 4 해설 참조
5 ⑤ 6 ⑤

대단원 종합 문제

본문 26~29쪽

- 01 ④ 02 ③ 03 해설 참조 04 ⑤
05 경쟁, 협동 06 ③ 07 ④ 08 ⑤
09 ③ 10 해설 참조 11 ⑤ 12 ⑤
13 ③ 14 ① 15 해설 참조 16 ②
17 ④ 18 해설 참조 19 ⑤ 20 ⑤

II. 공정성과 삶의 질

1 개인과 공동체

본문 34~35쪽

01 실력 향상 문제

- 1 ④ 2 ① 3 인간 존엄성 4 ⑤
5 ② 6 ① 7 ② 8 ③ 9 ④
10 해설 참조

본문 38~39쪽

02 실력 향상 문제

- 1 ⑤ 2 ① 3 ② 4 ① 5 ④
6 ② 7 해설 참조 8 헌법 소원 9 ③ 10 ④

본문 42~43쪽

03 실력 향상 문제

- 1 ③ 2 자유 민주주의 3 ④ 4 ⑤
5 해설 참조 6 ⑤ 7 ⑤ 8 ④ 9 ④
10 ④

본문 45쪽

04 실력 향상 문제

- 1 ① 2 ① 3 (가) 적극적 우대 조치, (나) 역차별
4 ④ 5 ③

2 다양성과 관용

본문 47쪽

01 실력 향상 문제

- 1 ① 2 ㉠ 개성, ㉡ 다양성 3 ② 4 ④
5 ②

본문 51~53쪽

02 실력 향상 문제

- 1 ⑤ 2 ④ 3 ⑤ 4 다양성(특수성)
5 ② 6 ② 7 ② 8 ⑤
9 ㉠ : 문화 상대주의, ㉡ : 자문화 중심주의, ㉢ : 문화 사대주의
10 ② 11 ③ 12 ③ 13 ④
14 해설 참조 15 ③



본문 56~57쪽

03 실력 향상 문제

- 1 ④ 2 ② 3 해설 참조 4 ④ 5 ②
6 ③ 7 ② 8 ② 9 관용 10 ④

3 삶의 질과 복지

본문 60~61쪽

01 실력 향상 문제

- 1 삶의 질 2 ③ 3 ② 4 ③ 5 ②
6 해설 참조 7 ② 8 ⑤ 9 ④ 10 ③

본문 64~65쪽

02 실력 향상 문제

- 1 ① 2 ② 3 ① 4 ③ 5 재능 기부
6 ② 7 ⑤ 8 ④ 9 해설 참조
10 ②

본문 68~69쪽

03 실력 향상 문제

- 1 ② 2 ① 3 지속 가능한 개발 4 ③
5 ④ 6 ⑤ 7 ② 8 ③
9 해설 참조 10 ④

대단원 종합 문제

본문 70~73쪽

- 01 ① 02 ⑤ 03 ② 04 ② 05 ④
06 ④ 07 ③ 08 ② 09 A: 차별, B: 차이
10 ③ 11 ④ 12 ② 13 해설 참조 14 ④
15 ② 16 ⑤ 17 ⑤ 18 ② 19 ④
20 ②

III. 합리적 선택과 삶

1 고령화와 생애 설계

본문 78~79쪽

01 실력 향상 문제

- 1 ③ 2 ① 3 세대 갈등 4 ② 5 ④
6 ⑤ 7 ④ 8 해설 참조 9 ① 10 ③

본문 81쪽

02 실력 향상 문제

- 1 ④ 2 ④ 3 경제적 독립 4 ③
5 ②

본문 84~85쪽

03 실력 향상 문제

- 1 ③ 2 ② 3 안전성 4 ⑤ 5 ①
6 ④ 7 ③ 8 해설 참조 9 ② 10 ④

2 일과 여가

본문 88~89쪽

01 실력 향상 문제

- 1 ① 2 ② 3 인구의 고령화 4 ⑤
5 ③ 6 ② 7 ⑤ 8 ② 9 ①
10 해설 참조

본문 92~93쪽

02 실력 향상 문제

- 1 ④ 2 ③ 3 단결권, 단체 교섭권, 단체 행동권
4 ⑤ 5 ① 6 ④ 7 ⑤ 8 ③
9 ② 10 해설 참조

본문 96~97쪽

03 실력 향상 문제

- 1 ① 2 ⑤ 3 소비 4 ① 5 ②
6 ④ 7 ③ 8 ② 9 ④
10 해설 참조

3 금융 환경과 합리적 소비

본문 100~101쪽

01 실력 향상 문제

- 1 ② 2 ② 3 세계 무역 기구(WTO) 4 ⑤
5 ⑤ 6 ② 7 ② 8 ② 9 ②
10 해설 참조

본문 104~105쪽

02 실력 향상 문제

- 1 ② 2 ③ 3 생산 요소 4 ② 5 ①
6 ③ 7 ⑤ 8 ③ 9 ②
10 해설 참조

본문 108~109쪽

03 실력 향상 문제

- 1 ① 2 ② 3 신용 4 ① 5 ②
6 ② 7 ⑤ 8 ② 9 ④
10 해설 참조

대단원 종합 문제

본문 110~113쪽

- 01 ④ 02 ⑤ 03 생애 주기(일생 주기) 04 ③
05 ③ 06 ③ 07 ② 08 유동성(환금성)
09 ② 10 ③ 11 ④ 12 해설 참조
13 ① 14 ⑤ 15 근로 기준법 16 ⑤
17 ② 18 ② 19 ④ 20 해설 참조

IV. 환경 변화와 인간

1 과학 기술의 발달과 정보화

본문 118~119쪽

01 실력 향상 문제

- 1 ④ 2 ③ 3 ② 4 생태 중심주의
5 ⑤ 6 ③ 7 ④ 8 ①
9 (가) 생명 공학, (나) 농업 생산력 10 ④ 11 ⑤
12 기술 영향 평가

본문 122~123쪽

02 실력 향상 문제

- 1 ② 2 ① 3 (가) 공간 정보, (나) 지도
4 ③ 5 ③ 6 ⑤ 7 ③ 8 ④
9 ②

본문 126~127쪽

03 실력 향상 문제

- 1 ④ 2 ⑤ 3 스마트워크 4 ①
5 ① 6 감시와 통제 7 ② 8 파놉티콘 9 ②
10 지식 재산권 11 ①

2 공간 변화와 대응

본문 130~131쪽

01 실력 향상 문제

- 1 ② 2 ② 3 (가) 축소, (나) 확대
4 ① 5 ① 6 ④ 7 ③
8 해설참조 9 ⑤ 10 ④ 11 빨대 효과

본문 134~135쪽

02 실력 향상 문제

- 1 ① 2 ④ 3 (가) 도시화, (나) 산업화
4 ④ 5 ② 6 ② 7 ④
8 개발 제한 구역(그린 벨트) 9 ⑤ 10 ④
11 세종특별자치시

본문 138~139쪽

03 실력 향상 문제

- 1 ③ 2 ④ 3 (가) 파급 효과, (나) 역류 효과
4 ① 5 ② 6 ③ 7 ② 8 ⑤
9 ⑤

3 세계화와 상호 의존

본문 142~143쪽

01 실력 향상 문제

- 1 ④ 2 ③ 3 ② 4 다국적 기업
5 ④ 6 ③ 7 ③ 8 ②
9 해설 참조 10 ① 11 ⑤

본문 146~147쪽

02 실력 향상 문제

- 1 ⑤ 2 ④ 3 ② 4 ① 5 ⑤
6 ③ 7 ② 8 농산물 원산지 표시 제도
9 ③ 10 ⑤



본문 150~151쪽

03 실력 향상 문제

- | | | | |
|---------|------|------|---------|
| 1 ② | 2 ① | 3 ③ | 4 ③ |
| 5 해설 참조 | 6 ③ | 7 ② | 8 해설 참조 |
| 9 ④ | 10 ③ | 11 ⑤ | |

본문 153쪽

04 실력 향상 문제

- | | | | |
|-----|---------|------------|-----|
| 1 ④ | 2 ④ | 3 자유 무역 협정 | 4 ④ |
| 5 ⑤ | 6 해설 참조 | | |

대단원 종합 문제

본문 154~157쪽

- | | | | | |
|----------|------|----------|------|------|
| 01 ③ | 02 ④ | 03 해설 참조 | 04 ⑤ | 05 ⑤ |
| 06 해설 참조 | 07 ③ | 08 해설 참조 | 09 ③ | 10 ④ |
| 11 해설 참조 | 12 ④ | 13 ① | 14 ⑤ | 15 ② |
| 16 ③ | 17 ⑤ | 18 해설 참조 | 19 ⑤ | 20 ① |
| 21 ② | | | | |

V. 미래를 바라보는 창

1 인구, 식량 그리고 자원

본문 162~163쪽

01 실력 향상 문제

- | | | | | |
|-----|-------------------------------------|------|----------|-----|
| 1 ⑤ | 2 (가) 인구 변동, (나) 자연적 증감, (다) 사회적 증감 | | | |
| 3 ④ | 4 ⑤ | 5 ④ | 6 ③ | 7 ⑤ |
| 8 ⑤ | 9 ④ | 10 ② | 11 해설 참조 | |

본문 166~167쪽

02 실력 향상 문제

- | | | | |
|-----|------|---------|----------|
| 1 ⑤ | 2 ① | 3 해설 참조 | 4 ① |
| 5 ② | 6 ④ | 7 ③ | 8 애플리케이션 |
| 9 ④ | 10 ⑤ | | |

본문 170~171쪽

03 실력 향상 문제

- | | | | |
|---------|-----------------------------|------|-----|
| 1 ⑤ | 2 (가) 유한성, (나) 편재성, (다) 가변성 | 3 ① | |
| 4 ③ | 5 ① | 6 ④ | 7 ③ |
| 8 해설 참조 | 9 ② | 10 ⑤ | |

2 지구촌과 지속 가능한 발전

본문 173쪽

01 실력 향상 문제

- | | | | | |
|-----|-----|---------|-----|-----|
| 1 ③ | 2 ③ | 3 해설 참조 | 4 ⑤ | 5 ④ |
|-----|-----|---------|-----|-----|

본문 176~177쪽

02 실력 향상 문제

- | | | | | |
|------------------|-----|-----|-----|-----|
| 1 (가) 문화, (나) 민족 | 2 ② | 3 ① | 4 ① | |
| 5 ⑤ | 6 ④ | 7 ⑤ | 8 ③ | 9 ④ |
| 10 해설 참조 | | | | |

본문 180~181쪽

03 실력 향상 문제

- | | | | | |
|-----|-----|---------|-----|------|
| 1 ④ | 2 ③ | 3 사막화 | 4 ⑤ | 5 ② |
| 6 ⑤ | 7 ② | 8 해설 참조 | 9 ③ | 10 ④ |

3 인류 미래를 위한 선택

본문 184~185쪽

01 실력 향상 문제

- | | | | | |
|------|-----|-----------|---------|-----|
| 1 ⑤ | 2 ④ | 3 탈(초)영토성 | 4 ③ | |
| 5 ⑤ | 6 ③ | 7 ① | 8 해설 참조 | 9 ⑤ |
| 10 ④ | | | | |

본문 187쪽

02 실력 향상 문제

- | | | | | |
|-----|-----|---------|-----|-----|
| 1 ③ | 2 ③ | 3 해설 참조 | 4 ⑤ | 5 ② |
|-----|-----|---------|-----|-----|

대단원 종합 문제

본문 188~191쪽

- | | | | | |
|-----------|---------------------------|----------|------|--|
| 01 ③ | 02 ④ | 03 ① | 04 ④ | |
| 05 바이오에탄올 | 06 ④ | 07 ③ | 08 ② | |
| 09 ① | 10 (가) 사회, (나) 환경, (다) 경제 | 11 ② | | |
| 12 ② | 13 ③ | 14 해설 참조 | 15 ④ | |
| 16 ⑤ | 17 황사, 사막화 현상 | 18 ① | 19 ⑤ | |
| 20 ③ | | | | |



I 사회를 바라보는 창

1. 개인 이해

01 실력 향상 문제

본문 10~11쪽

1 ⑤	2 ①	3 ③	4 자아 정체성
5 ①	6 ②	7 ②	8 ⑤
9 해설 참조	10 ⑤	11 ④	12 자아, 자아 정체성

1 자아와 자아 정체성의 이해

▶ **정답 찾기** ㄷ. ㉠은 나의 눈으로 본 나, ㉡은 다른 사람의 눈으로 본 나로 모두 '나는 누구인가?'에 대한 답에 해당한다.

ㄹ. 자아 정체성은 내가 생각하는 나의 모습과 사회적 관계 속의 나의 모습이 통합되어 형성된다.

▶ **오답 피하기** ㄱ. ㉠은 내가 생각하는, 나의 눈으로 본 나에 해당한다.
ㄴ. ㉡은 사회적 관계 속에서 바라본 나의 모습으로 '자아'에 해당한다.

2 자아 정체성의 이해

▶ **정답 찾기** ① 자아 정체성은 한번 형성되면 쉽게 변화하지 않는다. 그렇지만 환경 변화 등에 따라 변화할 수도 있다.

▶ **오답 피하기** ② 자아 정체성은 남과 다른 자신의 모습에 대해 인식하는 과정에서 형성된다.

③ 자아 정체성 형성을 통해 집단의 구성원으로서의 사회적 의무와 책임을 인식 및 수행하게 되며, 이 과정에서 사회 통합에 기여하게 된다.

④ 자아 정체성이 바람직하게 형성될 경우 개인적으로 삶의 목표 설정에 기여하게 된다.

⑤ 자아 정체성의 확립 과정에서 사회 구성원으로서 자신의 지위와 역할을 인식하게 된다.

3 자아 존중감의 이해

▶ **정답 찾기** ③ 다른 사람과 다른 자신의 특징을 긍정적으로 받아들이는 자세를 자아 존중감이라 한다.

▶ **오답 피하기** ① 자아는 다른 사람과 구별되는 자신만의 모습을 의미한다.

② 자아 정체성은 다른 사람과 구별되는 자신만의 모습에 대한 인식을 의미한다.

4 자아 정체성의 이해

▶ **주관식 정답 찾기** 다른 사람과 구별되는 자신만의 모습에 대한 인식이나 자신에 대한 종합적이고 총체적인 이해를 자아 정체성이라 한다. 한번 형성된 자아 정체성은 쉽게 변하지 않기, 청소년기의 바람직한 자아 정체성의 형성은 중요하다.

5 자아 정체성의 형성

▶ **정답 찾기**

ㄱ. 구체적인 삶의 목표를 수립하는 과정에서 자아 정체성이 형성될 수 있다.

ㄴ. 나의 꿈을 생각하는 과정에서 나의 눈으로 바라본 나를 이해할 수 있다.

▶ **오답 피하기** ㄷ, ㄹ. '특별한 의식'은 자아 정체성의 형성을 위한 것으로, 갈등 발생의 예방이나 상호 작용의 활성화를 목적으로 하지 않는다.

6 자아 정체성의 기능

▶ **정답 찾기** ② 청소 당번은 사회적 관계 속의 나의 모습에 해당하며, 청소 당번이라는 자아에 대해 정확히 인식하고 있기에 청소 당번의 역할을 성실히 수행할 수 있었다. 즉, 사례와 같은 과정을 통해 자아 정체성이 형성되면 사회적 역할과 책임에 대하여 긍정적인 자세를 갖게 된다.

7 자아 정체성의 형성

▶ **정답 찾기** ② 나의 꿈과 목표를 찾지 않고, 다른 사람들의 목표를 따라하는 것은 자아 정체성을 형성할 수 있는 바람직한 방법이 아니다.

▶ **오답 피하기** ① 구체적인 삶의 목표를 수립하는 가운데 자아 정체성이 형성될 수 있다.

③ 나의 흥미나 취미 등을 찾는 과정에서 나에 대한 인식이 형성될 수 있다.

④ 객관적인 검사를 통해 자신에 대해 보다 구체적으로 이해할 수 있다.

⑤ 주변 사람과 다른 나의 모습에 대한 자신감을 자아 존중감이라 한다. 자기의 모습을 있는 그대로 받아들이고 사랑할 때 바람직한 자아 정체성이 형성될 수 있다.

8 자아 정체성의 이해

▶ **정답 찾기** ⑤ 타인과 다른 자신의 특징을 긍정적으로 인식하는 자세는 자아 존중감이다.

▶ **오답 피하기** ①, ③ 자아 정체성이 올바르게 형성될 경우 사회 구성원으로서 자신의 역할을 수행할 수 있으며, 이를 통해 사회 통합에 기여하게 된다.

② 자아 정체성이 확립될 경우 개인적 측면에서 자신의 삶에 대해 객관적으로 성찰할 수 있고, 개인의 삶의 목표를 설정할 수 있다.

④ 자아 정체성은 선천적인 요인에 따른 나의 모습, 후천적인 경험에 따른 나의 모습이 통합되어 형성된다.

9 자아 정체성 확립의 필요성

▶ **문제 분석** 자신의 돈이 아니기에 주인을 찾아줘야겠다는 생각을 하게 된 것은 시민 의식이라는 자아 정체성이 형성되어 있기 때문이다.

▶ **모범 답안** 자아 정체성이 올바르게 확립될 경우 집단의 구성원으로서 사회적 의무와 책임과 같은 사회적 역할을 수행하여 사회의 통합에 기여할 수 있다.

구분	채점 기준
상	사회적 측면에서 자아 정체성의 중요성을 제시하고, 이를 통해 사회 통합에 기여할 수 있음을 명시한 경우
중	두 가지 채점 요소 중 한 가지만 명시한 경우
하	두 가지 채점 요소 모두 정확하게 명시하지 못한 경우

10 자아 존중감과 자아 정체성의 이해

▶ **정답 찾기** ㄷ. 갑과 을 모두 다른 사람과 다른 자신의 모습에 대해 긍정적으로 받아들이지 않고 있다.

ㄹ. 자신의 삶에 대해 부정적이고 소극적이라는 점에서 자아 정체성



이 올바르게 확립되어 있지 못함을 알 수 있다.

▶ **오답 피하기** ㄱ. 갑은 스스로 잘하는 것이 없다고 인식하고 있다.
 ㄴ. 사회 구성원으로서의 윤의 역할에 대해서는 제시되어 있지 않다.

11 자아 정체성의 형성

▶ **정답 찾기** ④ 설문지의 질문은 모두 나의 눈으로 바라본 나에 해당한다. 사회적 존재로서의 나, 즉 사회적 관계 속의 나를 인식하기 위해서는 다른 유형의 질문이 필요하다.

▶ **오답 피하기** ①, ②, ③ 제시된 질문에 대한 답을 하는 과정에서 자아를 발견할 수 있으며, 자아에 대한 인식 과정에서 자아 정체성이 형성될 수 있다.

⑤ 자아 정체성이 올바르게 형성될 경우 자아 존중감 또한 높아지게 된다.

12 자아와 자아 정체성

▶ **주관식 정답 찾기** 다른 사람과 다른 나의 모습을 ‘자아’라 한다면, 나의 모습에 대한 인식 및 이에 대한 총체적인 관념은 ‘자아 정체성’에 해당한다.

02 실력 향상 문제

본문 14~15쪽

- | | | | | |
|---------|------|----------|-----|-----|
| 1 ④ | 2 ③ | 3 갈등 | 4 ④ | 5 ③ |
| 6 ② | 7 ⑤ | 8 사회적 관계 | | |
| 9 해설 참조 | 10 ⑤ | 11 ⑤ | | |

1 사회적 상호 작용의 이해

▶ **정답 찾기** ㄴ. (나)는 협동으로, 공정한 분배가 전제될 때 더 잘 이루어진다.

ㄷ. (가)는 경쟁, (나)는 협동으로, 모두 동일한 목표 달성이라는 점에서는 공통점을 가진다.

▶ **오답 피하기** ㄱ. 당사자 간 이해가 상충되는 경우는 갈등이다.
 ㄷ. 당사자 간의 합의와 상호 의존을 바탕으로 하는 상호 작용은 협동이다.

2 사회적 상호 작용의 이해

▶ **정답 찾기** ㄴ. (나)는 갈등에 해당하며, 갈등은 집단 내부의 결속력을 강화시키는 순기능을 유발하기도 한다.

ㄷ. 경쟁은 동일한 목표를 먼저 달성하기 위해 노력하는 반면, 갈등은 참여자 간 목표나 이해관계가 상충된다.

▶ **오답 피하기** ㄱ. 줄다리기에서는 협동과 경쟁이 나타나고 있다.
 ㄷ. 경쟁은 규칙을 준수하여 이루어지며, 규칙이 준수되지 않을 경우 갈등으로 전환되기도 한다.

3 사회적 상호 작용의 이해

▶ **주관식 정답 찾기** 갈등적 상호 작용의 특징은 폭력 등의 부정적인 결과로 이어지기도 하지만, 집단 내의 결속 강화와 같은 순기능을 유발하기도 한다는 것이다.

4 사회적 상호 작용의 이해

▶ **정답 찾기** ㄴ. (나)는 협동의 사례에 해당한다. 협동에서는 구성원 간의 상호 의존이 나타난다.

ㄷ. (가)는 개인의 행동으로 상호 작용에 해당하지 않는다.

▶ **오답 피하기** ㄱ, ㄷ. (가)는 상호 작용에 해당하지 않는다.

5 사회적 상호 작용의 이해

▶ **정답 찾기** ③ 당사자 간의 합의와 의존을 바탕으로 하는 상호 작용은 협동이다. 협동이 아닌 사회적 상호 작용 중 규칙이 준수되고 있는 경우는 경쟁, 준수되지 않는 경우는 갈등에 해당한다.

6 사회적 관계의 특징

▶ **정답 찾기** ㄱ. 농구라는 상호 작용이 반복적으로 이루어졌으며, 이러한 사회적 관계가 지속되는 과정에서 농구 동아리라는 사회 집단이 형성될 것이다.

ㄷ. 농구라는 공동의 관심사를 공유하는 가운데 사회적 관계가 형성되고 있다.

▶ **오답 피하기** ㄴ. 제시문에서 개방적 태도의 필요성은 확인할 수 없다.

ㄷ. 제시문에서 갈등적 상호 작용은 나타나고 있지 않다.

7 사회적 관계 형성을 위한 바람직한 태도

▶ **정답 찾기** ㄷ. 올바른 사회적 관계를 맺기 위해서는 개방적 태도와 인간 존중의 태도가 요구된다.

ㄷ. 다른 사람의 입장을 있는 그대로 바라볼 수 있는 자세는 개방적 태도에 해당한다.

▶ **오답 피하기** ㄱ. 인간의 존엄성을 침해하는 입장까지 존중해서는 안 된다.

ㄴ. 바람직한 사회적 관계의 형성을 위해서는 갈등이 우려되는 사람이라 하더라도 처음부터 평가하고 배격하는 것이 아니라, 그 사람의 입장을 존중하는 태도가 필요할 것이다.

8 사회적 관계의 이해

▶ **주관식 정답 찾기** 사회적 상호 작용이 반복적으로 지속되어 고정될 경우 사회적 관계가 형성되며, 이는 사회를 구성하는 가장 기본 단위이다.

9 사회적 관계의 이해

▶ **문제 분석** 사회적 관계는 사회적 상호 작용이 반복적으로 지속된 경우에 나타나게 된다.

▶ **모범 답안** ㉠은 개인과 개인 간의 상호 작용에 해당하나 그러한 작용이 지속되고 있지는 않다. 반면, ㉡은 개인과 개인의 상호 작용이 동아리라는 사회 집단 내에서 지속되고 있기에 사회적 관계에 해당한다.

구분	채점 기준
상	사회적 상호 작용의 지속성이라는 부분을 정확히 설명하여 ㉠과 ㉡을 비교한 경우
중	사회적 상호 작용의 지속성에 대해서 단순히 서술한 경우
하	단순히 ㉠과 ㉡을 비교한 경우

10 인간과 자연의 관계

▶ **정답 찾기** ⑤ 갑은 자연을 개발의 대상으로 인식하는 반면, 을은 자연을 공존의 대상으로 바라보고 있다.

▶ **오답 피하기** ① 갑은 자연을 이용의 대상으로 바라보고 있다.

③ 과학 기술이 발전하기 이전에는 자연을 경외의 대상으로 바라보았다. 갑과 을의 관점에 해당하지 않는다.



11 인간과 자연의 관계

정답 찾기 ⑤ 간척 사업과 산악 지대에 건설된 고속 도로의 모습은 모두 자연을 개발과 이용의 대상으로 인식하는 경우에 해당한다.

오답 피하기 ②, ③ 자연에 인간이 순응하고 적응하는 사례로 사막의 오아시스 마을을 들 수 있다.

④ 인간과 자연이 공존하는 사례로 동물들을 위한 생태 이동 통로가 있다.

2. 세상 이해

01 실력 향상 문제

본문 18~19쪽

- 1 ⑤ 2 ① 3 해설 참조 4 ④ 5 ③
 6 ③ 7 ⑤ 8 해설 참조 9 ④
 10 사실 판단, 가치 판단

1 사실 판단과 가치 판단의 이해

정답 찾기 ㄷ, ㄹ. 감의 진술은 사실 판단, 을의 진술은 가치 판단에 해당하며, 가치 판단은 사실 판단과 달리 참과 거짓의 판단이 불가능하기에 사회적 논쟁으로 이어질 가능성이 크다.

오답 피하기 ㄱ. 감의 진술은 사실에 대한 객관적 판단으로 사실 판단에 해당한다.

ㄴ. 을의 진술은 현상에 대한 주관적 평가로 가치 판단에 해당한다.

2 사실 판단과 가치 판단의 이해

정답 찾기 ㄱ. ‘멋지다’라는 표현은 참과 거짓의 판단이 어렵기에 가치 판단에 해당한다.

ㄴ. 두발 규제 정책이 폐지되어야 한다는 진술은 주관적인 생각으로 가치 판단에 해당한다.

ㄷ. 평균키의 비교는 존재하는 현상에 대한 객관적인 판단으로 사실 판단에 해당한다.

ㄹ. 인구 규모에 대한 비교는 경험적 증명으로 참과 거짓의 확인이 가능하므로 사실 판단에 해당한다.

3 사실 판단과 가치 판단의 차이점

문제 분석 ‘한라산은 겨울이 이쁘다, 케이블카를 설치해야 한다.’는 것은 모두 주관적인 주장으로 가치 판단에 해당한다.

모범 답안 사실 판단과 달리 가치 판단은 옳고 그름 및 참과 거짓을 판단하기 불가능하다. 사실 판단과 달리 가치 판단은 사회적 논쟁으로 이어질 가능성이 크다.

구분	채점 기준
상	차이점을 두 가지 정확히 서술한 경우
중	차이점을 한 가지 정확히 서술한 경우
하	차이점을 올바르게 서술하지 못한 경우

4 가치 판단의 특징

정답 찾기 ④ 제시된 사례와 같이 가치 판단은 사람마다 입장이 다르기에 옳고 그름으로 나누기 어렵다.

오답 피하기 ①, ②, ③ 가치 판단에는 개개인의 가치관이 개입되어 있기에 참과 거짓의 확인이 불가능하며, 따라서 사회적 논쟁으로 이어질 가능성이 크다.

5 사실 판단의 사례

정답 찾기 ③ 인구 구성비에 대한 통계는 경험적으로 증명이 가능한 사실 판단에 해당한다.

오답 피하기 ⑤ 사실 판단과 관련된 문제는 검증이 가능하기에 의견의 대립이 나타날 가능성이 낮다.

6 사실 판단과 가치 판단

정답 찾기 ㄴ. 쓰레기 소각장 건설이 시급한지, 쓰레기 배출량을 줄일 방안을 찾는 것이 시급한지에 대한 합의가 필요하다.

ㄷ. 쓰레기 소각장의 매연이 인체에 무해하다는 점에 대해서 갑과 을은 다른 의견을 보이고 있다.

오답 피하기 ㄱ. 대화는 사회적 논쟁의 사례로 가치의 합의가 되지 않고 있다.

ㄹ. 갑의 진술과 을의 진술 모두 사실 판단과 가치 판단이 혼재되어 있다.

7 사실 판단과 가치 판단의 구분

정답 찾기 ⑤ ㉠은 사실 판단, ㉡은 가치 판단으로, 가치 판단은 사실 판단에 비해 사회적 논쟁의 여지가 많다.

오답 피하기 ① 사실 판단은 검증이 가능하다.

③ 가치 판단과 달리 사실 판단은 검증이 가능한 객관적 진술이다.

8 사실 판단과 가치 판단의 차이점

문제 분석 가치 판단은 개인마다 중시하는 가치가 다르므로 참과 거짓의 확인이 불가능하고, 논쟁으로 이어질 가능성이 높다.

모범 답안 단정함에 대한 기준이 사람마다 다를 수 있으며, 학생에게 중요한 것이 단정함인지 다양성 존중인지에 대한 의견 또한 사람마다 다를 수 있다. 즉, 가치 판단은 개인마다 중시하는 가치가 다르므로 사회적 논쟁으로 이어지기 쉽다.

구분	채점 기준
상	제시된 사례를 활용하여 가치 판단의 특징을 서술하여 설명한 경우
중	단순히 가치 판단의 특징만을 서술하여 설명한 경우
하	사회적 논쟁으로 이어지기 쉽다는 점만 서술한 경우

9 사실 판단과 가치 판단의 비교

정답 찾기 옳고 그름에 대해 주관적으로 판단하는 경우는 가치 판단(ㄱ, ㄷ), 아닌 경우는 사실 판단(ㄴ, ㄹ)이다. ㄱ. 가장 좋다는 표현은 가치 판단에 해당한다. ㄴ, ㄹ. 수치화된 통계 자료는 사실 판단에 해당한다. ㄷ. 무엇이 필요하다는 주장은 가치 판단에 해당한다.

10 사회적 논쟁의 해결 방안

주관식 정답 찾기 사회적 논쟁의 해결을 위해서는 사실 판단의 경우 객관적인 자료를 통해 검증할 필요가 있으며, 가치 판단의 경우 가치의 우선순위를 결정하여 문제를 해결해야 할 것이다.

02 실력 향상 문제

본문 22~23쪽

- 1 ⑤ 2 ④ 3 해설 참조 4 자연 현상 5 ④
 6 ① 7 ② 8 ⑤ 9 해설 참조 10 ②
 11 좋은 동기 나쁜 결과, 나쁜 동기 좋은 결과(순서는 상관 없음)



1 인과 관계와 상관관계의 이해

정답 찾기 ⑤ 인과 관계와 상관관계 모두 현상에 대한 예측이 가능하다. 상관관계의 경우 관련성 및 방향성을 보여 주기에 어느 정도의 예측이 가능하다.

오답 피하기 ①, ② (가)는 인과 관계, (나)는 상관관계에 해당한다. ③ (나)는 양의 상관관계로 하나의 변수가 증가할 때 나머지 변수가 증가하고 있다. ④ 인과 관계는 예외가 존재하지 않으나, 상관관계는 경향성을 보여주는 것이기에 예외가 존재할 수 있다.

2 양의 상관관계의 이해

정답 찾기 ㄴ. 키와 몸무게는 양의 상관관계를 띠고 있다. 일반적으로 키가 클수록 몸무게 또한 많이 나가기 때문이다. 학습 시간과 성적 간의 관계 또한 양의 상관관계에 해당한다. ㄷ. 기온과 아이스크림 판매량 간의 관계는 양의 상관관계에 해당한다.

오답 피하기 ㄱ. 음의 상관관계에 해당한다. ㄴ. 고도가 높아질수록 기온은 낮아지는 현상은 인과 관계로 예외 없이 나타난다.

3 사회 현상의 특징

문제 분석 사회 현상은 원인과 결과가 불명확하기에 특정한 현상을 초래한 원인을 명확히 밝히기 어렵다.

모범 답안 사회 현상은 원인과 결과가 불명확하며, 저출산 또한 여러 가지 요인들이 복합적으로 작용하여 나타난 현상이다. 그러나 정부는 저출산의 원인을 경제적 이유로만 파악하여 정책을 실시하였기에 정책이 실패하였다.

구분	채점 기준
상	사회 현상의 특징을 접목하여 정책 실패 이유를 서술한 경우
중	사회 현상의 특징만을 서술한 경우
하	제시된 사례를 단순히 풀어 서술한 경우

4 자연 현상과 사회 현상의 이해

주관식 정답 찾기 자연 현상은 원인과 결과가 명확하기에 법칙이나 이론으로 정립이 용이하다. 그러나 사회 현상은 원인과 결과가 불분명하며 예외가 많기에 인과 관계로 설명하기 쉽지 않다.

5 상관관계의 이해

정답 찾기 ④ (가)는 양의 상관관계, (나)는 음의 상관관계를 보여 주고 있다. (가)와 (나) 모두 변수 간의 방향성과 관련성의 정도를 보여 주고 있다.

오답 피하기 ③ 인과 관계의 경우 두 변수의 관계를 법칙화할 수 있다. ⑤ 원인과 결과 사이의 관계는 인과 관계에 해당한다.

6 인과 관계와 상관관계의 이해

정답 찾기 ㄱ. 자기 주도 학습에 참여한 학생 중에도 성적이 향상되지 않은 경우가 있고, 자기 주도 학습에 참여하지 않은 학생 중에도 성적이 향상된 경우가 있기에 성적 향상의 원인을 명확하게 규명하기 어렵다.

ㄴ. 자기 주도 학습에 참여하더라도 성적 향상이 필연적으로 나타나지 않기 때문에, 자기 주도 학습 참여 시간과 성적 향상 간의 관계는 인과 관계가 아니라 상관관계에 해당한다.

7 자연 현상과 사회 현상의 특징 이해

정답 찾기 ㄱ. ①은 자연 현상으로 인과 법칙이 적용된다.

ㄴ. ①은 예외가 존재하기에 원인과 결과가 명확하지 않다.

오답 피하기 ㄴ. ①은 사회 현상으로 예외가 나타날 수 있다. ㄷ. ①에는 필연성이 작용하지만, ①은 그렇지 않다.

8 인과 관계와 상관관계의 차이

정답 찾기 ⑤ 여성의 경제 활동 참가로 인하여 출산율이 낮아진 것이 아니라, 다른 요인들이 복합적으로 작용한 것이다. 따라서 여성의 경제 활동 참가율과 출산율의 관계는 상관관계에 해당한다. 밑줄 친 주장은 상관관계를 인과 관계로 오해하고 있다.

9 동기와 결과에 따른 평가

문제 분석 ①은 동기가 선한 경우, ②은 동기가 악한 경우이다. 하지만 ①과 ② 모두 사람을 죽였다는 점에서 결과는 같다.

모범 답안 ①은 좋은 동기 나쁜 결과, ②은 나쁜 동기 나쁜 결과에 해당한다. ①의 경우 어느 사회에서나 처벌의 대상이 되나, ①의 경우는 사회마다 적용하는 원칙에 따라 평가가 다를 수 있다.

구분	채점 기준
상	①과 ②에 대한 설명과 ①과 ②에 대한 평가가 정확한 경우
중	두 가지 채점 요소 중 한 가지가 정확한 경우
하	두 가지 채점 요소 모두 정확하지 않은 경우

10 동기를 중시하는 경우

정답 찾기 ㄱ. 결과보다는 창의적인 도전을 중시한다는 점에서 의도, 즉 동기를 중시하고 있다.

ㄴ. 도전에 따른 실패의 횟수를 평가 지표로 활용할 만큼, 좋은 동기일 경우 권장하고 있다.

오답 피하기 ㄴ. 결과보다 동기를 중시하고 있다. ㄷ. 눈 앞의 성공보다는 실패하더라도 창의적인 도전을 중시하고 있다.

11 사회 현상의 판단 기준

주관식 정답 찾기 동기와 결과를 조합하는 경우 중에서 좋은 동기 나쁜 결과, 나쁜 동기 좋은 결과의 경우 사회마다 평가가 다를 수 있다.

03 실력 향상 문제

본문 25쪽

- 1 ⑤ 2 ② 3 지도, 통계 4 해설 참조
5 ⑤ 6 ⑤

1 양적 자료와 질적 자료의 이해

정답 찾기 ⑤ ①은 질적 자료로 인간 내면의 정서적 측면의 파악에 용이하다.

오답 피하기 ①, ② ①은 양적 자료, 정량적 자료이다. ③, ④ 양적 자료는 질적 자료에 비해 수치로 비교하기, 통계 자료화하기 용이하다.

2 양적 자료와 질적 자료의 이해

정답 찾기 ㄱ. ㄷ. 1번 문항은 객관식으로 되어 있어 각 문항별 응답자 수를 확인하는 방법으로 결과를 수치화하기 용이하다.

오답 피하기 ㄴ. 2번 문항은 주관식으로 되어 있어 정성적 자료의 조사에 용이하다. ㄷ. 체계적인 비교를 하는 데에는 양적 자료가 유리하다.



3 자료의 종류

주관식 정답 찾기 자료의 종류 중 특정 지역의 지형적, 환경적 특징을 일정 비율로 축소하여 나타낸 자료를 지도, 사회 현상에 대한 양적 정보를 수집하여 특정 항목에 따라 비교 분석하여 표현한 자료를 통계라고 한다.

4 대중 매체의 특징

문제 분석 동일한 현상에 대하여 A 신문은 수치의 조건을 예곡하였으며, B 신문은 기사 제목을 통해 사회 현상을 편향적으로 보도하고 있다.

모범 답안 '응답자의 45%'를 '전 국민의 45%'라고 보도하는 것과 같이 대중 매체가 반드시 객관적 사실을 보도하는 것은 아닐 수 있으며, '반대 45%에 불과'와 같이 매체의 가치를 담아 기사를 보도할 수 있기에 비판적으로 대중 매체를 검토해야 한다.

구분	채점 기준
상	두 가지 이유를 사례와 연계하여 서술한 경우
중	두 가지 이유만 서술한 경우
하	한 가지 이유만 서술한 경우

5 통계 자료 해석의 문제점

정답 찾기 ⑤ 정당 후보에 대한 지지도 조사를 하는 과정에서 유선 전화를 통해 여론 조사를 실시하였다. 유선 전화를 받기 힘든 사람들의 의사가 설문 조사에 반영되지 않았다. 즉, 설문 조사의 표본이 잘못 선정되어 왜곡된 결과가 나타난 것이다.

6 자료에 대한 이해

정답 찾기 ㄷ. (가)는 지도이고, (나)는 통계이다. 지도는 평면에 지리 정보를 제공하고 있다.

ㄹ. 지도와 통계 모두 사회 현상을 파악할 수 있는 자료이다.

오답 피하기 ㄱ. 지도는 질적 자료를 제공하기에는 적합하지 않다.

ㄴ. 대중 매체는 (가), (나)와 같이 가공된 많은 정보를 제공한다.

대단원 종합 문제

본문 26~29쪽

01 ④	02 ③	03 해설 참조	04 ⑤
05 경쟁, 협동	06 ③	07 ④	08 ⑤
09 ③	10 해설 참조	11 ⑤	12 ⑤
13 ③	14 ①	15 해설 참조	16 ②
17 ④	18 해설 참조	19 ⑤	20 ⑤

01 바람직한 사회적 관계의 형성

정답 찾기 ㄴ, ㄹ. 바람직한 사회적 관계의 형성을 위해서는 개방적 태도와 인간 존중 태도가 필요하다.

오답 피하기 ㄱ. 타 문화에 대한 배타적인 태도는 갈등으로 이어질 수 있다. 바람직한 사회적 관계를 맺기 위해서는 개방적 태도가 요구된다.

ㄷ. 나와 다른 사람의 의견 또한 수용할 수 있는 개방적 태도가 필요하다.

02 인간과 자연의 공존

정답 찾기 ㄴ. 생태계 복원 사업은 인간과 자연의 공존을 추구하는 정책이다.

ㄷ. 과학 기술이 발달함에 따라 자연을 경외의 대상이 아니라 개발의 대상으로 인식하게 되었다.

오답 피하기 ㄱ. 제방 건설은 자연을 이용하는 인간의 모습이다.

ㄹ. 대규모 간척 사업은 자연을 개발하는 사례에 해당한다.

03 사회적 관계의 특징

문제 분석 정보 통신 기술이 발달함에 따라 이전과 달리 온라인을 통해서 사회적 관계를 맺는 경우가 증가하고 있다.

모범 답안 인터넷을 활용하여 온라인을 통한 간접적인 사회적 관계 맺기가 확대되고 있다.

구분	채점 기준
상	인터넷, 온라인 등과 같은 단어를 활용하여 직접적 접촉 없이 사회적 관계를 맺고 있음을 설명한 경우
중	직접 만나지 않는다는 점을 강조하여 제시된 관계 맺기의 특징을 서술한 경우
하	특징을 제대로 서술하지 못한 경우

04 사회적 관계의 형성

정답 찾기 ⑤ 사회적 상호 작용이 반복적으로 지속될 경우 사회적 관계 형성으로 이어진다.

오답 피하기 ① 아기의 울음은 본능으로 사회적 행위로 볼 수 없다.

② 사회적 상호 작용은 집단과 개인, 개인과 개인 간에도 나타난다.

③ 온라인을 통한 동호회 활동과 같이 사회적 관계는 직접적인 접촉이 없이도 형성 가능하다.

④ 협동과 경쟁뿐만 아니라 갈등이 지속되더라도 사회적 관계가 형성될 수 있다.

05 사회적 상호 작용

주관식 정답 찾기 사회적 상호 작용에는 공통의 목표를 먼저 달성하려는 경쟁과 동일한 목표를 달성하기 위해 서로 돕는 협동 등이 있다.

06 자아 정체성 확립의 필요성

정답 찾기 ③ 약한 사람을 돕는 것이 민주 시민이라는 자아 정체성이 형성되어 있었기에 어린아이를 구할 수 있었다는 점에서 자아 정체성의 사회적 기능을 확인할 수 있다.

오답 피하기 ①, ④, ⑤ 자아 정체성 형성의 긍정적인 기능에 해당한다.

② 자아 정체성 형성과 갈등적 상호 작용의 예방은 직접적인 관련이 없다.

07 자아 존중감 향상 방안

정답 찾기 ④ 타인과 다른 나의 모습에 대해 긍정하고 인정하는 가운데 자아 존중감이 높아지게 된다.

오답 피하기 ①, ②, ③, ⑤는 모두 자아 정체성을 올바르게 형성하기 위한 방안이다. 자아 정체성이 바람직하게 확립될 경우 자아 존중감 또한 높아지게 된다.

08 자아 정체성의 형성

정답 찾기 ⑤ 상벌점제를 통해서 사회적으로 내가 해야 하는 행동과 해서는 안 되는 행동을 이해하게 되며, 이를 통해 사회적 관계 속의 나를 인식하게 된다.



오답 피하기 ①, ②, ③ 제시된 사례를 통해서만 사회적 관계 속의 나를 인식할 수 있으므로 거리가 멀다.

09 자아 정체성의 형성

정답 찾기 ③ 나의 눈으로 바라본 나와 사회적 관계 속의 내가 통합되어 자아 정체성이 형성된다.

오답 피하기 ① 사회적 관계 속의 나에 해당한다.

② 개인적 흥미로, 나의 눈으로 바라본 나에 해당한다.

④ 키, 몸무게와 같은 신체적 조건에 따른 자아가 선천적으로 형성된 나에 해당한다.

⑤ ㉠과 ㉡ 모두 나는 누구인가에 대한 답으로 자아에 해당한다.

10 자아와 자아 정체성

문제 분석 자아는 자신의 모습을, 자아 정체성은 자신의 모습에 대한 인식을 의미한다.

모범 답안 자아는 스스로 바라보는 자신의 모습을, 자아 정체성은 자신의 모습에 대한 인식을 의미한다. 자아 정체성이 바람직하게 형성될 경우 사회 통합에 기여할 수 있기에 중요하다.

구분	채점 기준
상	자아와 자아 정체성의 차이, 자아 정체성의 중요성 두 가지 요소를 모두 정확히 서술한 경우
중	두 가지 요소 중 한 가지만 정확히 서술한 경우
하	두 가지 모두 정확하게 서술하지 못한 경우

11 가치 판단과 사실 판단의 구분

정답 찾기 ⑤ 대화 시간과 학업 성취도 사이에는 관계가 없다고 제시문에 나타나 있다. 즉, 관련이 없는 두 변수의 관계를 상관관계로 단정하였다.

오답 피하기 ①, ③ 참과 거짓을 가릴 수 있는 사실 판단에 해당한다.

④ 양의 상관관계에 해당한다.

12 가치 판단과 사실 판단의 구분

정답 찾기 ⑤ 을은 고령화를 위기 상황으로, 병은 걱정할 정도가 아니라고 판단하고 있다.

오답 피하기 ① 갑의 진술은 참과 거짓의 판단이 가능한 사실 판단에 해당한다.

②, ③, ④ 을과 병의 진술은 가치 판단에 해당하며, 사회적 논쟁의 대상이 될 가능성이 높다.

13 가치 판단과 사실 판단의 구분

정답 찾기 ㄴ, ㉠은 가치가 개입된 가치 판단에 해당한다.

ㄷ, ㉡은 자연을 이용의 대상으로, ㉢은 자연을 공존의 대상으로 바라보고 있다.

오답 피하기 ㄱ, ㉣은 가치가 개입되어 있는 주관적 진술이다.

ㄹ, 근거를 통해 옳고 그름을 가릴 수 있는 진술은 사실 판단에 해당한다.

14 가치 판단과 사실 판단의 구분

정답 찾기 ㉠과 ㉡은 참과 거짓을 가릴 수 있는 사실 판단에 해당한다. ㉢과 ㉣은 주관적 가치가 개입된 가치 판단에 해당한다.

15 가치 판단 문제의 해결

문제 분석 가치 간의 충돌로 인해 발생하는 가치 판단 문제의 경우, 구성원의 합의를 바탕으로 가치의 우선순위를 결정하여 해결 방안을 모색해야 한다.

모범 답안 구성원의 합의를 바탕으로 가치의 우선순위를 결정할 필요가 있다.

구분	채점 기준
상	구성원의 합의 바탕, 가치의 우선순위 결정을 포함하여 서술한 경우
중	위 두 가지 요소 중 한 가지만 포함하여 서술한 경우
하	두 가지 요소 모두 포함하지 못한 경우

16 동기와 결과의 구분

정답 찾기 ㄱ, ㉠과 ㉡은 좋은 결과라는 측면에서는 동일하다.

ㄷ, ㉢은 나쁜 동기 나쁜 결과로 일반적으로 처벌의 대상이 된다.

오답 피하기 ㄴ, 사회에 따라 평가 결과가 다를 수 있는 경우는 ㉠, ㉢이다.

ㄹ, ㉠, ㉢은 사회마다 평가 결과가 다르기에 어느 것이 더 요구된다 말하기 어렵다.

17 인과 관계와 상관관계의 구분

정답 찾기 ㄴ, ㄹ, 학원 수강과 대학 입학의 관계, 확대 재정 정책과 경기 부양의 관계는 예외가 많아 인과 관계로 보기 어렵다.

오답 피하기

ㄱ, 학원 수강이 대학 입학을 보장하지 않기에 원인에 따른 결과가 명확하지 않다.

18 인과 관계와 상관관계

문제 분석 인과 관계는 원인과 결과 사이의 관계, 상관관계는 두 변수 사이의 관련 있는 관계를 의미한다.

모범 답안 인과 관계와 상관관계는 공통적으로 변수와 변수 간에 일정한 관계가 있음을 보여 준다. 그런데 인과 관계가 원인과 결과로 명확하게 구분되는 반면, 상관관계는 원인과 결과로 명확하게 구분되지 않는 두 변수가 일정한 관계를 맺고 있음을 보여 준다는 점에서 차이가 있다.

구분	채점 기준
상	공통점과 차이점을 모두 서술한 경우
중	공통점과 차이점 중 하나만 서술한 경우
하	두 가지 모두 서술하지 못한 경우

19 질적 자료와 양적 자료의 이해

정답 찾기 ㄷ, 1단계에서는 내신 성적, 2단계에서는 1단계 점수라는 양적 자료가 사용되고 있다.

ㄹ, 2단계에서는 면접이라는 정성적 자료가 반영되고 있다.

오답 피하기 ㄱ, 1단계에서는 내신 성적이라는 양적 자료가 사용되고 있다.

ㄴ, 2단계에서도 1단계 점수가 60% 반영되고 있기에 수치화된 자료가 사용되고 있다.



20 통계의 오류 이해

정답 찾기 ⑤ 이혼율은 부부 중 이혼 건수가 차지하는 비율이므로 해당 연도의 총 부부의 수 대비 해당 연도의 이혼 건수를 통해 구해야 한다. 해당 연도의 혼인 건수 대비 이혼 건수를 구하게 되면 비교 기준이 작기 때문에 그 수치가 과장되기 마련이다.

오답 피하기 ①, ②, ③, ④ 모두 통계에서 발생할 수 있는 오류에 해당하지만, 제시된 사례와는 관련이 없다.

II 공정성과 삶의 질

1. 개인과 공동체

01 실력 향상 문제

본문 34~35쪽

- | | | | |
|----------|-----|----------|-----|
| 1 ④ | 2 ① | 3 인간 존엄성 | 4 ⑤ |
| 5 ② | 6 ① | 7 ② | 8 ③ |
| 10 해설 참조 | | | 9 ④ |

1 인간 존엄성의 이해

정답 찾기 제시된 ‘이것’은 인간 존엄성이다. ㄱ. 인간 존엄성은 성별, 인종, 국적 등과 상관없이 인간이라는 이유만으로 보장된다. ㄴ. 인간은 존엄한 존재이기 때문에 다른 목적을 위한 수단이 될 수 없다.

ㄷ. 노예 제도는 인간 존엄성을 침해하는 제도로서 금지된다.

오답 피하기 ㄹ. 신체의 자유를 침해하는 고문은 인간 존엄성을 침해하는 행위에 해당한다.

2 인간 존엄성의 이해

정답 찾기 ㄱ, ㄴ. 모든 인간은 인간이라는 이유만으로 존엄한 존재로 대우받아야 한다. 따라서 인간은 다른 목적을 위한 수단이 되어서는 안 된다. 난쟁이 던지기 게임은 인간을 목적이 아닌 수단으로 이용한 게임으로, 인간 존엄성을 침해하는 게임이다.

오답 피하기 ㄷ. 난쟁이 던지기 게임은 다른 사람들의 즐거움을 위해 난쟁이를 수단으로 사용한 게임이다. 따라서 다수의 이익을 위해 인간 존엄성이 제한 가능하다는 내용은 난쟁이 던지기 게임을 법으로 금지하는 이유가 될 수 없다.

ㄹ. 인간은 특성에 따라 존엄성의 크기에 차이가 있지 않고, 인간 존엄성을 침해하기 때문에 난쟁이 던지기 게임을 금지하고 있다. 따라서 인간 존엄성 크기가 인간의 특성에 따라 차이가 있다는 내용은 난쟁이 던지기 게임을 금지하는 이유가 될 수 없다.

3 인간 존엄성의 이해

주관식 정답 찾기 우리 헌법 제10조에서는 ‘모든 국민은 인간으로서의 존엄과 가치를 가지며 ……’, 국가는 개인이 가지는 불가침의 기본적 인권을 확인하고 이를 보장할 의무를 진다.’라고 규정함으로써 인간 존엄성을 최고의 가치로서 보장하고 있다. 그리고 이러한 인간 존엄성을 보장하기 위해 자유권, 평등권, 참정권, 청구권, 사회권 등의 기본권을 보장하고 있다.

4 천부 인권 사상의 이해

정답 찾기 제시된 자료는 미국의 독립 선언문이다. ⑤ 인간이 창조주로부터 부여받은 양도할 수 없는 권리를 확보하기 위하여 인류는 정부를 조직했다는 내용을 통해 정부를 목적이 아니라 인권 실현을 위한 수단으로 인식하고 있음을 알 수 있다.

오답 피하기 ① 제시된 자료는 자유권과 평등권 모두를 중시하고 있다. 자유권보다 평등권의 실현을 중시하고 있다고 볼 수는 없다.

② 정부가 인권을 침해할 경우 국민이 정부를 개혁하거나 폐지할 수 있다는 내용을 통해 인간 존엄성 실현보다 사회 질서 유지를 강조하고 있다고 할 수 없다.

③ 모든 사람은 평등하게 태어났다는 내용을 통해 인권은 모든 사람에게 평등하게 주어졌다고 보고 있음을 알 수 있다.

④ 제시된 자료는 인간은 정부 수립 이전에도 존엄한 존재였고, 이를 보장하기 위해 정부를 수립하였다는 내용을 담고 있다.

5 자유권과 평등권의 이해

정답 찾기 (가)는 자유권 중 하나인 사생활의 비밀과 자유이고, (나)는 평등권이다. ㄱ. 자유권은 국가 권력으로부터 간섭받지 않을 권리로서 소극적이고 방어적인 권리에 해당한다.

ㄷ. 자유권과 평등권 모두 인간 존엄성 실현을 위한 핵심 권리에 해당한다.

오답 피하기 ㄴ. ‘기본권 보장을 위한 기본권’은 청구권이다.

ㄹ. 자유권과 평등권 모두 국가 성립 이전부터 인정된 전(前) 국가적 권리이다.

6 사회권의 이해

정답 찾기 제시된 기본권 A는 사회권이다. ㄱ. 사회권은 인간의 존엄과 가치를 유지하면서 살아가기 위한 최소한의 생활 수준 보장을 국가에 요구할 수 있는 권리로서 적극적 권리에 해당한다.

ㄴ. 사회권은 사회적 약자와 소외 계층의 포용을 통해 사회 통합에 기여한다.

오답 피하기 ㄷ. 국가의 정치 활동에 참여할 수 있는 권리는 참정권이다.

ㄹ. 침해된 기본권을 구제하기 위한 수단적 권리는 청구권이다.

7 사회권의 종류 파악

정답 찾기 ② 헌법 제34조 제1항에 규정되어 있는 인간다운 생활을 할 권리는 사회권에 해당한다.

오답 피하기 ① 헌법 제14조에 규정되어 있는 거주·이전의 자유는 자유권에 해당한다.

③ 헌법 제24조에 규정되어 있는 선거권은 참정권에 해당한다.

④ 헌법 제25조에 규정되어 있는 공무 부담권은 참정권에 해당한다.

⑤ 헌법 제26조 제1항에 규정되어 있는 청원권은 청구권에 해당한다.

8 청구권의 이해

정답 찾기 갑이 행사한 기본권은 형사 보상 청구권이고, 을이 행사한 기본권은 범죄 피해자 구조 청구권이다. 형사 보상 청구권과 범죄 피해자 구조 청구권 모두 청구권에 해당한다.

③ 청구권은 국민의 기본권이 국가나 타인에 의해 침해 당하였을 때 그 구제를 청구하는 권리로서, 다른 기본권을 보장하기 위한 수단적 권리이다.

오답 피하기 ① 국가 권력의 간섭을 받지 않을 권리는 자유권이다.



- ② 다른 기본권을 보장하는 궁극적인 목적은 인간으로서의 존엄과 가치이다.
- ④ 국가의 정치 과정에 능동적으로 참여할 수 있는 권리는 참정권이다.
- ⑤ 복지 국가의 필수적 요소로서 실질적 평등의 실현을 목적으로 하는 권리는 사회권이다.

9 기본권의 이해

정답 찾기 ㄴ. 청구권은 자유권이나 사회권과 달리 다른 기본권을 보장을 위한 수단적 권리이다.

ㄹ. 자유권은 소극적 권리이고, 사회권과 청구권은 적극적 권리이다.

오답 피하기 ㄱ. 복지 제도 실시의 근거가 되는 기본권은 사회권이다.

ㄷ. 자유권은 국가 설립 이전부터 인정된 권리이다.

10 청구권과 사회권의 공통점 파악

문제 분석 A는 청원법이고, B는 사회 보장 기본법이다. 청원법은 청구권 중 하나인 청원권을 보장하기 위한 법률이고, 사회 보장 기본법은 사회권을 보장하기 위한 법률이다.

모범 답안 국가의 존재를 전제로 하여 인정된다. 국가에 대하여 일정한 행위를 요구할 수 있는 적극적 권리이다.

구분	채점 기준
상	국가의 존재를 전제로 한다거나 적극적 권리라는 내용을 정확하게 서술한 경우
중	국가의 존재를 전제로 한다거나 적극적 권리라는 내용을 서술하였으나, 그 내용이 미흡한 경우
하	국가의 존재를 전제로 한다거나 적극적 권리라는 내용을 정확하게 서술하지 못한 경우

02 실력 향상 문제

본문 38~39쪽

- 1 ⑤ 2 ① 3 ② 4 ① 5 ④
6 ② 7 해설 참조 8 헌법 소원 9 ③ 10 ④

1 개인과 국가의 관계 파악

정답 찾기 ⑤ 신고항 건설 지역 선정과 관련하여 ○○시와 □□시가 대립하는 것은 개인의 이익과 국가 전체의 이익이 대립하는 사례가 아니라 지방 자치 단체 간에 대립하는 사례이다.

오답 피하기 ① 자신의 재산을 가지고 도박을 하는 것은 공공복리에 어긋나게 재산권을 행사하는 것이다.

② 인터넷에서 사이버 범죄에 해당하는 댓글을 다는 것은 공공복리에 어긋나게 표현의 자유를 행사하는 것이다.

③ 환경 보전을 목적으로 개발 제한 구역을 설정하는 것은 공공복리를 위해 재산권을 제한하는 것이다.

④ 공공의 안녕 질서에 직접적인 위협을 끼칠 것이 명백한 집회를 금지하는 것은 공공복리를 위해 집회의 자유를 제한하는 것이다.

2 개인의 이익과 국가 전체의 이익 간의 충돌

정답 찾기 ① 첫 번째 사례는 범죄 예방이라는 공익을 실현하기 위해 감청을 하면 통신의 자유라는 사익이 제한될 수 있음을 보여 주고, 두 번째 사례는 도시 계획 시설 건설이라는 공익을 실현하기 위해 특정 지역을 해당 시설 건설지로 지정하면 재산권이라는 사익

이 제한될 수 있음을 보여 주고 있다. 즉, 두 사례 모두 사익과 공익이 충돌할 수 있음을 보여 준다.

오답 피하기 ② 제시된 두 사례 모두 공익과 사익 실현 중 어느 것이 더 중요한지 강조하고 있지 않다.

③ 제시된 두 사례 모두 공익 실현을 위한 노력이 사익을 감소시키는 결과를 초래할 수 있음을 보여 주고 있다. 즉, 사익 실현이 곧 공익 실현을 의미함을 보여 주는 사례로 볼 수 없다.

④ 제시된 두 사례 모두 공익 실현을 위해 사익을 제한해서는 안 된다는 당위를 보여 주는 것이 아니라, 사익과 공익이 충돌할 수 있다는 사실을 보여 주고 있다.

⑤ 제시된 두 사례가 사익과 공익을 동시에 달성하는 것이 불가능하다는 것을 보여 준다고는 할 수 없다.

3 기본권 제한의 이해

정답 찾기 ㄱ. 전염병이 확산되는 것을 방지하는 것은 공공복리를 위한 것이다. 공공복리를 위해서 기본권을 제한할 수 있다.

ㄷ. 전염병 감염 의심 환자를 격리하는 것은 기본권 제한에 해당한다. 기본권을 제한하기 위해서는 법률에 근거가 있어야 한다.

오답 피하기 ㄴ. 전염병이 확산되는 것을 방지하는 것은 공익을 실현하기 위한 것이다.

ㄹ. 전염병 의심 환자를 격리함으로써 제한되는 기본권은 자유권이다.

4 사익과 공익의 조화 추구 이해

정답 찾기 갑. 공공필요에 의한 재산권의 수용·사용 또는 제한을 할 수 있다는 내용과 이 과정에서 발생한 손실에 대한 정당한 보상을 해야 한다는 내용을 통해 공익과 사익의 조화를 추구하고 있음을 알 수 있다.

병. 재산권의 한계를 법률에 정하고, 재산권의 행사는 공공복리에 적합하도록 해야 한다는 내용을 통해 공익을 훼손하는 사익의 추구를 인정하지 않음을 알 수 있다.

오답 피하기 을, 정. 공공복리나 공공필요에 의해 사익을 제한할 수 있지만, 이 경우에도 정당한 보상을 해야 한다. 즉, 공익을 위해 사익의 완전한 포기를 강제할 수는 없다.

5 기본권 제한의 이해

정답 찾기 ④ 기본권을 제한할 때는 행정부가 제정한 규칙이 아닌 국회에서 제정한 법률에 근거가 있어야 한다.

오답 피하기 ①, ②, ③ 국민의 기본권은 공공복리, 질서 유지, 국가 안전 보장을 목적으로 제한될 수 있다.

⑤ 기본권을 제한하더라도 자유와 권리의 본질적인 내용은 침해할 수 없다.

6 사익과 공익의 충돌 및 해결 방안 파악

정답 찾기 ㄱ. 송전탑을 건설하는 것은 전력 대란 예방이라는 공익을 실현하기 위한 것이다.

ㄷ. 송전탑이 건설되는 토지 소유자에게 적절한 보상을 하는 것은 전력 대란 예방이라는 공익과 재산권 보장이라는 사익을 모두 실현시키는 방안이다.

오답 피하기 ㄴ. 송전탑 건설로 인한 피해를 토지 소유자에게 전가하는 것은 사익을 훼손하는 결과를 초래한다.

ㄹ. 송전탑 건설로 인해 제한되는 기본권은 재산권이다. 재산권은 사회권이 아닌 자유권에 해당한다.



7 기본권 제한의 이해

문제 분석 국민의 기본권은 국가 안전 보장, 질서 유지, 공공복리를 위하여 필요한 경우에 한하여 법률로써 제한할 수 있지만, 제한하는 경우에도 자유와 권리의 본질적인 내용은 침해할 수 없다. 제시된 의견을 가지고 있는 헌법 재판관은 개인이 적법하게 취득한 문화재를 국가가 무상으로 몰수하는 것을 허용하면 헌법이 재산권을 보장하는 궁극적 목적을 달성할 수 없게 된다고 판단하고 있다. 이를 통해 제시된 의견을 가지고 있는 헌법 재판관은 개인이 적법하게 취득한 문화재에 대한 무상 몰수는 재산권의 본질적 내용을 침해하기 때문에 헌법에 위반된다고 보고 있음을 알 수 있다.

모범 답안 재산권(자유와 권리)의 본질적 내용을 침해하므로

구분	채점 기준
상	기본권의 본질적 내용을 침해하였다는 내용을 정확하게 서술한 경우
중	기본권의 본질적 내용을 침해하였다는 내용을 서술하였으나, 그 내용이 미흡한 경우
하	기본권의 본질적 내용을 침해하였다는 내용을 정확하게 서술하지 못한 경우

8 기본권 침해 구제 제도의 이해

주관식 정답 찾기 공권력의 행사 또는 불행사로 인해 기본권을 침해당한 국민은 헌법 재판소에 헌법 소원을 청구할 수 있다.

9 개인과 국가의 관계 이해

정답 찾기 갑은 전체주의를 지지하고 있고, 을은 사회 계약설을 지지하고 있다. 나. 을은 국가는 그 자체가 목적이 아니라 개인의 이익을 보호하는 수단이라고 보고 있다. 다. 갑은 국가가 개인의 이익을 침해하는 것을 허용하고 있는 반면, 을은 국가가 개인의 이익을 침해해서는 안 된다고 보고 있다. 즉, 갑보다 을이 국가 권력의 남용에 대한 견제를 강조하고 있다.

오답 피하기

ㄱ, ㄴ. 갑은 국가를 위한 개인의 희생을 당연하다고 보고 있다. 즉, 갑은 개인보다 국가의 우월성을 강조하고 있고, 공공복리를 위한 기본권 제한을 긍정적으로 보고 있다.

10 개인의 권리와 국가 정책 간의 갈등 해결 방안 파악

정답 찾기 나. 서로의 차이나 불일치를 인내하는 관용의 태도는 개인의 권리와 국가 정책 간의 갈등을 합리적으로 해결하기 위한 개인적·의식적 차원의 노력에 해당한다.

ㄴ. 정책 시행으로 손해를 입은 개인에 대한 적절한 보상은 개인의 권리와 국가 정책 간의 갈등을 합리적으로 해결하기 위한 사회적·제도적 차원의 노력에 해당한다.

오답 피하기 ㄱ. 개인의 권리와 국가 정책 간에 갈등이 발생했을 때 공익을 위해 사익을 포기하는 것은 바람직하다고 할 수 없다. 공익과 사익의 조화를 추구하는 것이 바람직하다.

ㄷ. 갈등을 합리적으로 조정하려는 타협의 자세는 개인의 권리와 국가 정책 간의 갈등을 합리적으로 해결하기 위한 개인적·의식적 차원의 노력에 해당한다.

03 실력 향상 문제

본문 42~43쪽

- 1 ③ 2 자유 민주주의 3 ④ 4 ⑤
5 해설 참조 6 ⑤ 7 ⑤ 8 ④ 9 ④
10 ④

1 자유 민주적 기본 질서의 이해

정답 찾기 제시된 자료의 밑줄 친 '이것'은 자유 민주적 기본 질서이다. 나. 폭력적 지배나 독재는 자유 민주적 기본 질서에 위반된다. 다. 국민이 자유 민주적 기본 질서를 침해할 경우 법적인 제재를 받을 수 있다. 즉, 자유 민주적 기본 질서는 기본권 제한의 근거가 될 수 있다.

오답 피하기 ㄱ. 자유 민주적 기본 질서를 유지하기 위해서는 복수 정당제가 보장되어야 한다. 일당제 하에서는 국민이 자유롭게 정당을 선택할 수 없고 정권을 교체하기 어려워 독재 정치가 등장할 가능성이 커진다.

ㄴ. 자유 민주적 기본 질서는 자유주의와 민주주의 이념을 모두 포함한다.

2 자유 민주주의의 이해

주관식 정답 찾기 개인의 자유 존중을 근본 가치로 삼아 국가 권력의 간섭을 최소화해야 한다는 정치 원리를 자유주의라고 하고, 국가 권력의 창출과 통치 과정이 국민적 합의에 근거하여 정당성을 가져야 한다는 정치 원리를 민주주의라고 하며, 자유주의와 민주주의가 결합된 정치 원리를 자유 민주주의라고 한다.

3 권력 분립의 원리에 대한 이해

정답 찾기 제시된 그림은 우리나라의 권력 분립의 원리를 나타내고 있다. 나. 권력 분립의 원리는 자유 민주적 기본 질서를 유지하기 위한 장치 중 하나이다.

ㄴ. 권력 분립의 원리는 권력의 집중을 방지하여 권력의 남용을 억제하고 국민의 기본권을 보호하는 것을 목적으로 한다.

오답 피하기 ㄱ. 권력 분립의 원리는 국가 권력에 대한 불신을 바탕으로 한다.

ㄷ. 권력 분립을 통한 국가 기관의 독립성만을 지나치게 중시할 경우, 다른 권력 기관의 통제가 어려워 오히려 국민의 기본권이 침해될 수 있다. 따라서 국가 기관의 독립성 보장뿐만 아니라 권력 기관 상호간의 견제를 통해 균형을 이루는 것이 중요하다.

4 복수 정당제의 이해

정답 찾기 ⑤ 복수 정당제를 보장하는 한편, 민주주의의 근본적인 이념을 부정하는 전체주의적 통치를 추구하는 정당의 설립과 활동을 제한하는 것은 자유 민주주의적 기본 질서를 유지하기 위한 것이다.

오답 피하기 ① 실질적 평등은 사회권의 보장 등을 통해 달성된다. 제시된 밑줄 친 부분의 목적을 실질적 평등의 달성으로 볼 수는 없다.

② 직접 민주주의를 실현하기 위한 제도로는 국민 투표 제도, 국민 발안 제도, 국민 소환 제도 등이 있다. 제시된 밑줄 친 부분의 목적을 직접 민주주의의 실현으로 볼 수는 없다.

③ 복수 정당제가 보장되면 다양한 시민들의 의사가 정책에 반영될 수 있다. 따라서 제시된 밑줄 친 부분의 목적을 국가 의사의 통일성 제고로 볼 수는 없다.



④ 국민 생활의 균등한 향상은 사회권 보장 등을 통해 달성된다. 제시된 밑줄 친 부분의 목적을 국민 생활의 균등한 향상으로 볼 수는 없다.

5 자유 민주적 기본 질서의 이해

문제 분석 헌법 제8조 제1항에서는 복수 정당제를 보장하고 있고, 헌법 제41조 제1항에서는 보통·평등·직접·비밀 선거의 원칙에 의한 민주적 선거 제도를 보장하고 있으며, 헌법 제61조 제1항에서는 행정부를 견제하는 국회의 권한에 대해서, 즉 권력 분립에 대해서 규정하고 있다. 복수 정당제, 민주적 선거 제도, 권력 분립 모두 자유 민주적 기본 질서를 유지하기 위한 장치에 해당한다.

모범 답안 자유 민주적 기본 질서를 유지한다.

구분	채점 기준
상	자유 민주적 기본 질서 유지라는 내용을 정확하게 서술한 경우
중	자유 민주적 기본 질서 유지라는 내용을 서술하였으나, 그 내용이 미흡한 경우
하	자유 민주적 기본 질서 유지라는 내용을 정확하게 서술하지 못한 경우

6 자유 민주적 기본 질서의 이해

정답 찾기 ⑤ 인간의 존엄성, 자유와 평등을 실현하는 것을 이념으로 하는 정치 원리, 즉 자유 민주주의를 유지함으로써 모든 국민이 존엄한 존재로 대우받으며, 자유와 권리를 누릴 수 있는 통치 질서는 자유 민주적 기본 질서이다.

오답 피하기 ① ‘인류 공영에 이바지함으로써’는 국제 질서를 존중하고, 인류의 번영을 위해 노력한다는 원리가 표현된 내용이다.

② ‘유구한 역사와 전통에 빛나는’은 문화의 자율성을 인정하면서 국가가 문화를 보호하고 발전시켜야 한다는 원리가 표현된 내용이다.

③ ‘평화적 통일의 사명에 임각하여’는 통일을 평화적으로 추구한다는 원리가 표현된 내용이다.

④ ‘국민 생활의 균등한 향상을 기하고’는 국민의 복지에 대한 책임을 국가에 부여하는 원리가 표현된 내용이다.

7 자유 민주적 기본 질서의 이해

정답 찾기 ⑤ 권력 분립과 사유 재산 제도 모두 자유 민주적 기본 질서를 유지하기 위한 장치에 해당한다.

오답 피하기 ① 폭력적 지배와 자의적 지배를 배제하고, 민주주의와 자유·평등의 기본 원칙에 의한 법치주의적 질서를 강조하는 통치 질서는 자유 민주적 기본 질서이다.

② 일인 독재나 일당 독재에서는 국민의 의사를 반영하는 상향식 의사 결정이 이루어지는 것이 아니라, 국가가 결정하여 국민에게 지시하는 하향식 의사 결정이 주로 이루어진다.

③ 국민 자치의 원리를 실현하는 제도는 크게 직접 민주제와 대의제 두 가지가 있다.

④ 자유 민주적 기본 질서를 유지하기 위해서는 목적이나 내용까지 정당한 법에 따라 통치하는 실질적 법치주의를 실현해야 한다.

8 정치 참여의 필요성 파악

정답 찾기 ④ 제시된 이슥 우화는 민주 사회에서 투표권을 행사하지 않을 때 발생할 수 있는 부작용을 간접적으로 보여 준다. 즉, 시민 스스로의 이익을 지켜내기 위해서 정치 참여가 필요함을 보여 주고 있다.

오답 피하기 ① 정치 참여 집단은 정당, 이익 집단, 시민 단체 등이 있는데, 교사가 이를 설명하기 위해 제시된 이슥 우화를 준비하였다고 할 수 없다.

② 정치 참여의 의미는 시민들이 정치적 의사 결정 과정에 영향을 끼치거나 지지와 반대의 입장을 표명하기 위해 취하는 모든 행동을 의미하는데, 교사가 이를 설명하기 위해 제시된 이슥 우화를 준비하였다고 할 수 없다.

③ 정치 참여의 방법에는 개별적 참여 방법과 집단적 참여 방법이 있는데, 교사가 이를 설명하기 위해 제시된 이슥 우화를 준비하였다고 할 수 없다.

⑤ 정치 참여는 정치 과정을 혼란스럽게 하는 부작용을 초래할 수 있는데, 교사가 이를 설명하기 위해 제시된 이슥 우화를 준비하였다고 할 수 없다.

9 정치 참여에 대한 입장 파악

정답 찾기 ㄴ. 을은 시민의 정치 참여가 정책 결정 과정에서 혼란을 야기할 수 있다고 보고 있다. 즉, 을은 시민의 정치 참여와 정치 안정이 상충될 수 있다고 보고 있다.

ㄹ. 갑은 시민의 정치 참여에 대하여 긍정적인 시각을 가지고 있고, 을은 부정적인 시각을 가지고 있다. 따라서 을보다 갑이 정치적 무관심의 극복을 강조할 것임을 알 수 있다.

오답 피하기 ㄱ. ‘스스로 다스리고 다스림을 받는다.’는 원리는 국민 자치의 원리이다. 국민 자치의 원리는 시민이 정치에 참여할 때 실현 가능성이 더 높아진다.

ㄷ. 시민의 정치 참여를 긍정적으로 보는 갑은 상향식 의사 결정 방식을 선호할 것으로 추론할 수 있고, 정책 결정을 소수의 전문가에게 맡겨야 한다는 을은 하향식 의사 결정 방식을 선호할 것으로 추론할 수 있다.

10 사회 참여 방법의 이해

정답 찾기

ㄱ. 선거는 대의제에서 주권자로 사회에 참여하는 가장 일반적이고 기본적인 방법이다.

ㄴ. 병은 환경 보전이라는 공익을 실현하기 위하여 참여를 하였다.

ㄹ. 선거, 온라인 서명 등 개별적 참여 방법이고, 시민 단체를 통한 참여는 집단적 참여 방법이다.

오답 피하기

ㄷ. 선거보다 온라인을 통한 참여가 공간적 제약으로부터 더 자유롭다.

04 실력 향상 문제

본문 45쪽

1 ①	2 ①	3 (가) 적극적 우대 조치, (나) 역
차별	4 ④	5 ③

1 사회적 약자의 이해

정답 찾기 ① 누가 사회적 약자인지는 그 사회의 정치·경제·사회·문화적 상황에 따라 달라진다. 즉, 사회적 약자는 상대적으로 규정되며, 사회적 약자를 규정하는 절대적인 기준은 존재하지 않는다.



오답 피하기 ② 선천적인 특성은 사회적 약자를 규정하는 기준이 될 수 있지만, 이를 제시된 내용을 통해 내릴 수 있는 결론으로는 볼 수 없다.

③ 사회적 약자에 대한 적극적 우대 조치의 실시는 역차별을 초래할 수 있지만, 이를 제시된 내용을 통해 내릴 수 있는 결론으로는 볼 수 없다.

④ 경제적 능력 또한 사회적 약자를 규정하는 기준이기는 하지만, 이를 제시된 내용을 통해 내릴 수 있는 결론으로 볼 수 없다.

⑤ 사회 통합을 위해 사회적 약자를 보호하는 정책이 필요하지만, 이를 제시된 내용을 통해 내릴 수 있는 결론으로 볼 수 없다.

2 사회적 약자 보호 정책의 이해

정답 찾기 ㄱ. (가)는 장애인 의무 고용 제도이다. 장애인 의무 고용 제는 사회적 차별을 줄이기 위해 사회적 약자인 장애인에게 적극적으로 특혜를 주는 제도로서, 대표적인 적극적 우대 조치에 해당한다.

ㄴ. (나)는 국민 기초 생활 보장 제도이다. 국민 기초 생활 보장 제도는 빈곤층의 최저 생활을 보장하기 위하여 실시하는 제도이다.

오답 피하기 ㄷ. 장애인 의무 고용 제도와 국민 기초 생활 보장 제도 모두 사회적 약자를 보호하는 정책으로 사회 통합에 기여한다.

ㄹ. 장애인 의무 고용 제도와 국민 기초 생활 보장 제도 모두 실질적 평등의 실현을 목적으로 한다.

3 적극적 우대 조치와 역차별의 이해

주관식 정답 찾기 사회적 차별을 줄이고 과거의 잘못을 고치고자 적극적으로 가산점을 주거나 특혜를 주는 사회 정책을 적극적 우대 조치라고 하고, 차별을 받는 쪽을 보호하려고 마련한 제도나 장치가 너무 강하여 오히려 반대편이 차별받는 현상을 역차별이라고 한다.

4 적극적 우대 조치와 역차별의 이해

정답 찾기 ㄴ. 입학 순위에 있어서 흑인과 히스패닉계와 같은 소수 민족을 우대하는 정책은 적극적 우대 조치에 해당한다.

ㄷ. 공정한 입학을 위한 학생들(SFFA)은 흑인과 히스패닉계에 대한 사회적 차별을 줄이기 위한 정책의 실시로 인해 아시아계 민족이 역차별을 당하고 있다고 보고 있다.

오답 피하기 ㄱ. 공정한 입학을 위한 학생들(SFFA)은 흑인과 히스패닉계 지원자에게 입학 우선순위를 주는 정책이 불합리한 차별이라고 보고 있다.

ㄷ. 흑인과 히스패닉계 지원자에게 입학 우선순위를 주는 정책에 찬성하는 사람은 아시아계 입학생 수가 줄어든 결과를 합리적 차별로 볼 것이다.

5 지역 격차 해소 방안의 파악

정답 찾기 제시된 자료에서 지적하고 있는 사회 문제는 지역 격차이다. ㄴ. 낙후된 지역에 대한 투자 증대는 지역 격차 해소에 기여한다. ㄷ. 공기업과 공공 기관을 지방으로 이전하는 정책과 같이 수도권이 담당하고 있는 기능을 지방으로 이전하는 정책은 지역 격차 해소에 기여한다.

오답 피하기 ㄱ. 성장 거점 개발 방식은 발전 가능성이 높은 지역에 집중 투자하는 방식으로, 지역 격차를 확대하는 결과를 가져올 수 있다. 지역 격차를 줄이기 위해서는 낙후된 지역에 우선 투자하는 균형 개발 방식을 채택해야 한다.

ㄹ. 수도권에 지정된 개발 제한 구역을 해제하면 수도권 집중 현상은 더욱 심화된다.

2 · 다양성과 관용

01 실력 향상 문제

본문 47쪽

1 ① 2 ㉠ 개성, ㉡ 다양성 3 ② 4 ④
5 ②

1 개성과 다양성의 이해

정답 찾기

① 제시된 자료에는 다수의 의견과 다르다는 이유로 특정 개인에게 침묵을 강요해서는 안 된다는 내용이 언급되어 있다. 즉, 개성과 다양성을 존중해야 함을 강조하고 있다.

오답 피하기

② 제시된 자료에 언급된 내용은 다른 사람을 평가해서는 안 됨을 강조하고 있는 것이 아니라 자신과 다른 타인의 의견을 존중해야 함을 강조하고 있다.

③ 제시된 자료에는 개인의 이익과 사회의 이익 중 어느 것을 더 중시해야 하는지에 대해서는 언급되어 있지 않다.

④ 제시된 자료에는 다수가 특정 개인의 의견을 표현하지 못하도록 강제해서는 안 된다는 점을 강조하고 있을 뿐, 소수의 이익을 위해 다수의 이익을 포기해야 됨을 강조하고 있지는 않다.

⑤ 제시된 자료에 언급된 내용은 자신보다 타인의 가치관을 기준으로 사회를 바라보아야 함을 강조하고 있는 것이 아니라 특정 개인의 의견도 존중해야 함을 강조하고 있다.

2 개성과 다양성의 개념 이해

주관식 정답 찾기 개인이 가지고 있는 고유한 취향이나 성격과 같이 남들과 구별되는 특성을 개성이라 하고, 개성의 차이로 인해 나타나는 여러 가지 양상을 지닌 특성을 다양성이라고 한다.

3 차이와 차별의 이해

정답 찾기 ② 갑국에서는 대통령이 되는 데 학력 차별을 하고 있고, 을국에서는 공무원이 되는 데 있어 종교 차별을 하고 있다. 즉, 차이를 이유로 구성원을 부당하게 차별하고 있다.

오답 피하기 ① 갑국과 을국 모두 차이, 즉 다름을 인정하지 않고, 다름을 틀린 것으로 인식하고 있다.

③ 갑국과 을국 모두 차이와 차별을 엄격히 구분하지 않고, 차이를 이유로 차별하고 있다.

④ 차이를 이유로 차별을 하면 다양성이 훼손된다.

⑤ 대졸 이상만 대통령이 될 수 있게 하거나 특정 종교를 믿는 사람만 공무원이 될 수 있게 하는 것은 합리적 차별로 볼 수 없다.

4 차이와 차별의 이해

정답 찾기 ④ 갑국 국민들은 스스로를 평가할 때 타인의 관점을 기준으로 삼아야 됨을 중시하는 것이 아니라, 자신과 다른 정치적·종교적 신념과 행동을 존중하는 것을 중시하고 있다.

오답 피하기 ①, ②, ③, ⑤ 갑국 국민들은 자신과 다른 정치적·종교적 신념과 행동을 존중하고 있다. 즉, 차이를 인정하고 개성과 다양성을 존중하며, '다름'을 '틀림'으로 인식하지 않는다.



5 차별로 인해 발생하는 문제 파악

정답 찾기 ② 갑국에서는 부당한 차별로 인해 사회 갈등이 심해져 폭동이 발생하였다. 즉, 갑국의 사례는 차별이 사회 통합을 어렵게 할 수 있음을 보여 주고 있다.

오답 피하기 ① 합리적 차별은 허용되어야 하고, 제시된 갑국의 사례는 불합리한 차별의 문제점을 지적하고 있다.

③ 제시된 갑국의 사례는 개성의 존중이 사회 질서를 해칠 수 있음을 보여 주는 것이 아니라, 다름을 인정하지 않는 태도가 야기할 수 있는 문제점을 보여 주고 있다.

④ 차이는 차별을 정당화시키지 못한다. 그리고 제시된 갑국의 폭동은 차이를 이유로 이민자들을 부당하게 대우한 것이 원인이 되어 발생하였다.

⑤ 제시된 갑국의 사례는 차별이 필수 불가결함을 보여 주는 것이 아니라 차별의 부작용을 보여 주는 것이다.

02 실력 향상 문제

본문 51~53쪽

- | | | | |
|--|----------|------|------------|
| 1 ⑤ | 2 ④ | 3 ⑤ | 4 다양성(특수성) |
| 5 ② | 6 ② | 7 ② | 8 ⑤ |
| 9 ㉠ : 문화 상대주의, ㉡ : 자문화 중심주의, ㉢ : 문화 상대주의 | 10 ② | 11 ③ | 12 ③ |
| 13 ④ | 14 해설 참조 | 15 ③ | |

1 문화의 이해

정답 찾기 ⑤ 몽골의 전통 가옥인 게르는 몽골의 기후와 몽골 민족의 삶의 방식이 반영되어 고안되고 정착되었다. 이를 통해 문화는 자연환경과 사회적 상황에 적응해 나가면서 형성됨을 알 수 있다.

오답 피하기 ① 문화는 고정 불변의 것이 아니라 변동하지만, 제시된 자료는 이러한 문화의 변동성을 보여 주기 위한 것이 아니다.

② 몽골의 주거 문화와 같이 문화는 그 사회 나름대로의 고유한 의미가 있다. 따라서 문화를 이해의 대상이 아니라 평가의 대상으로 보는 것은 적절치 않다.

③ 문화가 그 사회의 자연환경과 사회적 상황을 반영하여 형성된다는 것은 다른 사회의 문화를 그 사회의 맥락 속에서 바라보면 그 사회의 문화를 제대로 이해할 수 있음을 보여 준다. 즉, 다른 사회의 문화를 이해하는 것이 불가능한 것은 아니다.

④ 제시된 자료는 문화는 그 사회의 자연환경과 사회적 상황을 반영하여 형성되기 때문에 문화가 다양하게 나타남을 보여 준다.

2 문화의 기능 파악

정답 찾기 ④ 인간은 문화를 통해 구성원을 출산하고 보호하며, 사회 갈등을 해소한다. 즉, 문화는 사회를 존속하고 유지시키는 기능을 한다.

오답 피하기 ① 문화는 인간이 환경에 적응하며 환경의 도전에 대처하기 위해 만들어 낸 하나의 생존 수단으로서 기능하지만, 제시된 자료가 이러한 문화의 기능에 대하여 언급하고 있다고 할 수 없다.

② 문화는 상징 체계를 통해 직접 경험하지 못한 지식을 터득하고 다음 세대에 전승하는 기능을 하지만, 제시된 자료가 이러한 문화의 기능에 대하여 언급하고 있다고 할 수 없다.

③ 예술과 같은 관념 문화는 인간의 심미적 욕구를 충족시키는 기능을 하지만, 제시된 자료가 이러한 문화의 기능에 대하여 언급하고

있다고 할 수 없다.

⑤ 문화가 사회 변동의 원동력이 된다는 내용은 제시된 자료에 언급되어 있지 않다.

3 문화의 이해

정답 찾기 ⑤ 인류학자 갑과 티브족은 서로 다른 문화적 배경 속에서 살아왔다. 이러한 이유로 귀신에 대한 인식에 차이가 발생하고, 형수와 결혼하는 문화에 대하여 서로 다르게 해석하고 있다.

오답 피하기 ① 인간은 다른 동물과 달리 문화 창조 능력이 있지만, 제시된 자료가 이를 시사한다고 할 수 없다.

② 제시된 자료에는 어떤 가치나 윤리에 대한 해석이 문화적 배경에 따라 달라질 수 있음이 언급되어 있을 뿐, 문화를 평가하는 어떤 기준에 대해서는 언급되어 있지 않다.

③ 문화의 보편성에 대한 진술이다. 제시된 자료에는 문화적 배경의 차이가 가져오는 현상에 대하여 언급되어 있다.

④ 문화는 인간이 환경적 제약을 극복하는 데 기여하지만, 제시된 자료가 이를 시사한다고 할 수 없다.

4 문화 다양성의 이해

주관식 정답 찾기 문화는 각 사회의 서로 다른 자연환경과 역사적 전통, 사회적 상황 등이 반영되어 나타나기 때문에 문화는 다양성(특수성)을 갖게 된다.

5 문화 상대성의 이해

정답 찾기 ② 우리의 피부색을 '살색'으로 명명한 것은 우리의 기준만으로 사물을 바라보는 시각이 반영되어 있다. 즉, 문화의 상대성을 인정하지 않는 태도에 해당한다.

오답 피하기 ① 문화는 여러 구성 요소들이 결합된 하나로서의 총체인데, 이를 문화의 총체성이라고 한다.

③ 문화는 고정 불변의 것이 아니라 끊임없이 변동하는데, 이를 문화의 변동성이라고 한다.

④ 후천적으로 학습된 것만을 문화라고 하는데, 이를 문화의 학습성이라고 한다.

⑤ 문화는 한 사회 구성원이 공통적으로 가지고 있는 생활 양식을 의미하는데, 이를 문화의 공유성이라고 한다.

6 문화 다양성의 의의 파악

정답 찾기 ② 제시된 자료는 문화가 획일화될 경우 나타날 수 있는 문제점에 대하여 언급하고 있다. 이러한 문제점을 극복하기 위해서는 문화의 다양성을 유지해야 한다.

오답 피하기 ①, ⑤ 문화 상대주의는 문화의 정체성을 훼손할 수 있는 폐해가 있지만, 이를 제시된 자료를 통해서 얻을 수 있는 교훈으로 볼 수 없다.

③ 문화는 상징 체계를 통해 다음 세대에 전승되지만, 이를 제시된 자료를 통해서 얻을 수 있는 교훈으로 볼 수 없다.

④ 극단적 문화 상대주의는 인류의 보편적 가치를 훼손하는 문제점이 있지만, 이를 제시된 자료를 통해서 얻을 수 있는 교훈으로 볼 수 없다.

7 문화의 특징 파악

정답 찾기 ㄱ. 낙태에 대한 인식 변동으로 인해 문화 요소인 법의 내용이 바뀌었다. 이를 통해 문화는 고정 불변의 것이 아님을 파악할 수 있다.



ㄷ. 제시된 자료를 통해 태아의 생명 보호에 대하여 사회가 어떤 가치를 부여하는가에 따라 낙태는 합법이 될 수도 있고, 불법이 될 수도 있음을 파악할 수 있다. 즉, 문화는 그 사회의 가치가 반영되어 있음을 알 수 있다.

오답 피하기 ㄴ. 제시된 자료를 통해 법이나 관습과 같은 문화 요소가 개인의 사고나 행동을 구속할 수 있음을 알 수 있다.

ㄹ. 자연환경, 역사적 전통, 사회적 상황의 차이로 인해 각 사회가 추구하는 가치는 달라지기 마련이다. 이로 인해 문화는 특수성을 띠게 된다.

8 문화 상대주의의 이해

정답 찾기 제시된 협약은 '문화적 표현의 다양성 보호와 증진 협약(문화 다양성 협약)'이다. 문화의 다양성을 강조하고 문화의 특수성을 인정하는 내용을 통해 이 협약에 문화 상대주의 태도가 반영되어 있음을 알 수 있다. ⑤ 문화 상대주의는 각 문화가 해당 사회의 맥락에서 갖는 고유한 의미를 존중하는 태도이다.

오답 피하기 ① 문화 상대주의는 문화의 다양성 유지에 기여한다.

② 문화 상대주의는 문화의 상대성을 인정한다.

③ 문화 상대주의는 문화를 평가의 대상이 아닌 이해의 대상으로 인식한다.

④ 자기 문화의 정체성을 훼손할 위험이 있는 문화 이해 태도는 문화 상대주의이다.

9 문화 이해의 태도

주관식 정답 찾기 해당 사회의 관점에서 그 사회의 문화를 이해하고 서로 다른 사회의 문화가 갖는 고유한 의미와 가치를 인정하는 문화 이해 태도를 문화 상대주의라고 한다. 그리고 자기 문화의 우수성을 내세워 다른 사회의 문화를 평가 절하하는 문화 이해 태도를 자문화 중심주의, 다른 사회 문화의 우수성을 앞세우며 자기 문화를 평가 절하하는 문화 이해 태도를 문화 상대주의라고 한다.

10 자문화 중심주의의 이해

정답 찾기 제시된 경향으로 인해 나타나는 문화 이해 태도는 자기 문화의 우수성을 내세워 다른 사회의 문화를 평가 절하하는 태도인 자문화 중심주의이다. ㄱ. 자문화 중심주의는 문화의 상대성을 부정한다.

ㄴ. 자문화 중심주의는 제국주의적 문화 인식을 정당화하는 근거가 된다.

오답 피하기 ㄴ. 자문화 중심주의는 문화를 평가의 대상으로 파악한다.

ㄷ. 자기 문화의 주체성 상실을 초래하는 문화 이해 태도는 문화 상대주의이다.

11 문화 상대주의의 이해

정답 찾기 ③ 제시된 밑줄 친 '친구'의 문화 이해 태도는 문화 상대주의이다. 문화 상대주의는 다른 사회의 문화의 우수성을 내세워 자기 문화를 평가 절하하는 태도로 문화적 정체성 상실을 초래할 수 있다.

오답 피하기 ① 국수주의로 흐를 위험이 있는 문화 이해 태도는 자문화 중심주의이다.

② 문화 상대주의는 선진 문물의 수용에 기여할 수 있다는 순기능이 있다.

④ 문화 상대주의는 문화 간에 우열이 있다고 인식한다. 문화 간에 우

열이 없다고 인식하는 문화 이해 태도는 문화 상대주의이다.

⑤ 각 사회의 문화가 가지는 고유한 의미와 가치를 인정하는 문화 이해 태도는 문화 상대주의이다.

12 극단적 문화 상대주의의 이해

정답 찾기 ③ 남편이 죽으면 아내가 따라 죽는 관습은 생명 존중이라는 인류의 보편적 가치를 훼손하는 문화이다. 이와 같이 인류의 보편적 가치를 훼손하는 문화까지 인정하는 문화 이해 태도를 극단적 문화 상대주의라고 한다.

오답 피하기 ①, ④ 문화 제국주의로 흐를 수 있고, 자문화의 국제적 고립을 야기할 수 있는 문화 이해 태도는 자문화 중심주의이다.

② 극단적 문화 상대주의는 그 내용과 관계없이 모든 문화를 인정하는 태도이기 때문에 문화의 획일화를 초래하지 않는다.

⑤ 자기 문화의 낙후성을 개선하는 순기능이 있는 문화 이해 태도는 문화 상대주의이다.

13 문화 이해 태도의 파악

정답 찾기 문화 상대주의는 문화 상대주의, 자문화 중심주의와 달리 문화를 이해의 대상으로 본다. 그리고 자문화 중심주의는 문화 상대주의, 문화 상대주의와 달리 다른 모든 사회의 문화를 부정적으로 평가한다. 즉, (가)는 문화 상대주의, (나)는 자문화 중심주의, (다)는 문화 상대주의이다. ④ 자문화 중심주의는 자기 문화의 관점에서 다른 사회의 문화를 낮게 평가하기 때문에 다른 사회의 문화에 대한 객관적인 이해를 어렵게 한다.

오답 피하기 ① 문화 상대주의는 문화적 다양성 실현에 기여한다.

② 문화 제국주의를 정당화시키는 문화 이해 태도는 자문화 중심주의이다.

③ 자문화 중심주의는 집단의 결속력을 강화시키는 순기능이 있다.

⑤ 문화 상대주의는 인류의 보편적 가치가 아닌 다른 사회의 관점을 기준으로 자기 문화를 낮게 평가한다.

14 자문화 중심주의와 문화 상대주의의 공통점 파악

문제 분석 자기 문화는 우수하고 다른 사회의 문화는 열등하다고 평가하는 문화 이해 태도인 (가)는 자문화 중심주의이고, 강대국이나 선진국의 문화는 우수하고 자기 문화는 열등하다고 평가하는 문화 이해 태도인 (나)는 문화 상대주의이다.

모범 답안 문화의 상대성을 부정한다. 문화 간에 우열이 있다고 본다. 문화를 이해가 아닌 평가의 대상으로 본다.

구분	채점 기준
상	자문화 중심주의와 문화 상대주의의 공통점을 정확하게 서술한 경우
중	자문화 중심주의와 문화 상대주의의 공통점을 서술했으나, 그 내용이 미흡한 경우
하	자문화 중심주의와 문화 상대주의의 공통점을 정확하게 서술하지 못한 경우

15 문화 이해 태도의 파악

정답 찾기 ③ 자문화 중심주의와 달리 문화 상대주의는 자기 문화의 정체성이나 주체성을 약화시킬 수 있다는 부작용이 있다.

오답 피하기 ① 자문화 중심주의, 문화 상대주의와 달리 문화 상대주의는 문화 간에 우열이 없다고 본다.



- ② 자문화 중심주의, 문화 상대주의와 달리 문화 상대주의는 문화의 다양성 유지에 기여한다.
- ④ 외부 사회의 문화를 수용하는 데 부정적인 문화 이해 태도는 자문화 중심주의이다.
- ⑤ 자문화 중심주의와 문화 상대주의 모두 문화를 이해가 아닌 평가의 대상으로 인식한다.

03 실력 향상 문제

본문 56~57쪽

- 1 ④ 2 ② 3 해설 참조 4 ④ 5 ②
6 ③ 7 ② 8 ② 9 관용 10 ④

1 다문화 사회의 이해

정답 찾기 ㄴ. 첫째 유형은 이민자에 대한 충분한 접촉 경험이 없는 상태에서 이주민이 유입되어 다문화 사회로 이행하는 유형이기 때문에 이주민의 다양한 특성에 대한 이해가 부족할 수 있다.

ㄷ. 우리나라는 비교적 동질적인 문화를 가진 전통적 국민 국가 형태를 유지하다가 이주민의 유입으로 다문화 사회로 이행을 경험하는 상황으로 볼 수 있다.

오답 피하기 ㄱ. 첫째 유형에서도 이주민의 문화에 대하여 존중하고 인정해주면 문화적 다양성을 실현할 수 있다.

ㄷ. 이주민에 대한 차별은 첫째 유형과 둘째 유형 모두에서 나타날 수 있다.

2 다문화 사회의 갈등 해결 방법의 이해

정답 찾기 ㄱ. 다문화 사회의 갈등을 해결하기 위해서는 다양한 문화 집단의 차이를 인정하며 서로의 문화를 이해하는 태도를 정착해야 한다.

ㄷ. 이주민을 우리 사회의 주체가 아닌 수동적인 객체 또는 대상으로 도구화하는 것은 다문화 사회 갈등의 원인이 된다. 따라서 다문화 사회의 갈등을 해결하기 위해서는 이주민을 또 다른 ‘우리’로 인식하는 자세가 필요하다.

오답 피하기 ㄴ. 이주민을 특별 대우의 대상, 즉 객체로 인식하는 것은 다문화 사회 갈등 해결을 위해 바람직하다고 할 수 없다.

ㄷ. 이주민을 우리 사회 구성원과 엄격히 분리하는 것보다 우리 사회 구성원과 동등하게 대우하는 것이 다문화 사회의 갈등을 해결하는 바람직한 자세이다.

3 다문화 사회의 의미

문제 분석 서로 다른 문화권에 속한 사람들 간에 접촉이 빈번해지면서 다양한 인종, 종교, 문화를 가진 사람들이 함께 공존하는 사회가 나타났는데, 이를 다문화 사회라고 한다.

모범 답안 한 사회 속에서 다른 인종, 민족, 종교, 지역 등 여러 집단의 문화가 함께 존재하는 사회이다.

구분	채점 기준
상	다문화 사회의 의미를 정확하게 서술한 경우
중	다문화 사회의 의미를 서술하였으나, 그 내용이 미흡한 경우
하	다문화 사회의 의미를 정확하게 서술하지 못한 경우

4 다문화 사회와 다문화 정책의 이해

정답 찾기 ㄱ. 이주민에 대한 차별은 이주민의 우리 사회에 대한 불만을 증가시켜 사회 통합을 어렵게 할 수 있다.

ㄷ. 이주민에 대한 일방적인 한글 교육은 이주민을 우리나라 문화에 동화시키고자 하는 정책에 해당한다.

ㄷ. 단일 민족 의식을 강조하면 이주민을 우리 사회의 주체가 아닌 객체로 인식하게 되고, 이는 이주민에 대한 차별로 이어질 수 있다.

오답 피하기 ㄴ. 단일 민족 의식이 높을수록 문화의 다양성을 실현하기 어려워진다.

5 다문화 사회와 관련된 자료 해석

정답 찾기 ㄱ. 2011년의 주민등록 인구가 가장 적고, 주민등록 인구 대비 외국인 주민 비율이 가장 낮다. 이를 통해 2011년의 외국인 주민 수가 가장 적음을 알 수 있다.

ㄷ. 주민등록 인구는 매년 증가하고 있고, 주민등록 인구 대비 외국인 비율은 전년에 비해 높아지거나 유지되고 있다. 이를 통해 외국인 주민 수가 지속적으로 증가함을, 즉 다문화 사회로 이행하고 있음을 알 수 있다.

오답 피하기

ㄴ. 2012년과 2013년의 주민등록 인구 대비 외국인 비율은 같지만, 주민등록 인구는 2013년이 2012년보다 많다. 따라서 외국인 주민 수는 2012년보다 2013년이 더 많다.

ㄷ. 다문화 사회에 대처하기 위해서는 기존의 단일 민족 의식을 대체하는 새로운 가치관을 정립하는 것이 바람직하다.

6 다문화 사회의 영향 파악

정답 찾기 ㄴ. ‘새로운 문화 요소가 도입되어 사회 구성원들의 문화 선택의 기회가 확대된다.’에서 다문화 사회가 문화적 다양성을 높이는 데 기여한다는 내용을 확인할 수 있다.

ㄷ. ‘다문화 사회는 우리 사회에 다양한 언어를 사용하는 인적 자원을 풍부하게 해 준다.’에서 다문화 사회가 우리 사회의 국제 경쟁력을 향상시키는 데 기여한다는 내용을 확인할 수 있다.

오답 피하기 ㄱ. 제시된 자료에 다문화 사회가 사회 통합에 기여한다는 내용은 언급되어 있지 않다. 한편 다양한 문화를 가진 구성원들이 존재하는 다문화 사회에서는 다른 문화에 대한 이해 부족으로 문화 간에 갈등이 발생할 수 있다.

ㄷ. 제시된 자료에 다문화 사회가 문화의 정체성을 강화시킨다는 내용은 언급되어 있지 않다.

7 다문화 정책의 이해

정답 찾기 A 모델은 동화주의, B 모델은 다문화주의이다. ㄱ. 동화주의는 이주민이 출신 문화에서 탈피하고 자국의 문화를 따를 것을 요구하고, 이를 지원한다. 즉, 이주민의 문화적 정체성이 바뀌는 것을 기대한다.

ㄷ. 동화주의는 이주민의 문화를 자국 문화에 동화시키는 것을 목표로 하지만, 다문화주의는 이주민의 문화와 자국 문화의 공존과 교류를 목표로 한다. 따라서 동화주의보다 다문화주의가 문화적 다양성 확보에 유리하다.

오답 피하기 ㄴ. 이주민이 자국의 문화에 동화되는 것을 당연한 과정으로 받아들이는 동화주의가 문화적 단일성을 유지하는 데 초점을 둔다.

ㄷ. 이주민의 문화를 인정하는 다문화주의는 문화 상대주의를 바탕으로 한다.



8 외국인에게 느끼는 사회적 거리감 자료 분석

정답 찾기 ㄱ. 모든 학력에서 미국인에게 느끼는 사회적 거리감이 가장 작다.

ㄴ. 모든 국적에서 학력이 높아질수록 사회적 거리감은 작게 나타나고 있다. 즉, 학력과 외국인에게 느끼는 사회적 거리감은 음(-)의 상관관계가 있다.

오답 피하기 ㄴ. 중졸 이하의 경우 외국인에게 느끼는 사회적 거리감은 일본인-동남아시아인-조선족-미국인 순이지만, 고졸의 경우 외국인에게 느끼는 사회적 거리감은 동남아시아인-조선족-일본인-미국인 순이고, 대졸 이상의 경우 동남아시아인-일본인-조선족-미국인 순이다.

ㄷ. 모든 학력에서 동남아시아인보다 조선족에게 느끼는 사회적 거리감이 더 작게 나타났다.

9 관용의 이해

주관식 정답 찾기 다문화 사회에서 나타나는 여러 가지 갈등을 해결하고, 우리와 다른 문화적 배경을 가진 사람들과 함께 어우러져 살기 위해서는 다양한 문화에 대한 이해와 존중이 필요한데, 이때 중시되는 태도가 관용이다.

10 다문화 사회의 갈등 해결 방법의 이해

정답 찾기 ㄴ. 다양한 문화를 가진 민족들로 구성된 다문화 사회에서는 다른 문화에 대한 이해 부족으로 갈등이 발생할 수 있다.

ㄷ. 자국 국민을 대상으로 이주민의 문화를 체험하도록 하는 교육 프로그램을 시행하는 것은 다문화주의를 정착시키기 위한 제도적 차원의 노력에 해당한다.

오답 피하기 ㄱ. 다문화주의는 이주민을 사회의 주체로 인식한다. 동화주의가 이주민을 통합의 객체로 인식한다.

ㄴ. 혈통 중심주의 사고나 단일 민족 의식을 견지하는 것은 다문화주의에 배치된다. 다문화주의를 실현하기 위해서는 다양한 문화·집단의 차이를 인정하며 서로의 문화를 이해하는 태도가 필요하다.

3. 삶의 질과 복지

01 실력 향상 문제

본문 60~61쪽

1 삶의 질	2 ③	3 ②	4 ③	5 ②
6 해설 참조	7 ②	8 ⑤	9 ④	10 ③

1 삶의 질의 이해

주관식 정답 찾기 일상에서 정신적·신체적·경제적·사회적 상태로부터 느끼는 행복한 정도를 삶의 질이라고 한다.

2 삶의 질 측정 지표의 이해

정답 찾기 ①은 삶의 질을 측정하는 객관적 지표이고, ②은 삶의 질을 측정하는 주관적 지표이다.

③ 평균 수명은 삶의 질을 측정하는 객관적 지표이고, 행복감 수준은 삶의 질을 측정하는 주관적 지표이다.

오답 피하기 ① 교육 수준과 문맹률 모두 삶의 질을 측정하는 객관적 지표이다.

② 국민 소득과 빈곤률 모두 삶의 질을 측정하는 객관적 지표이다.

④ 삶의 만족도는 삶의 질을 측정하는 주관적 지표이고, 평균 수명은 삶의 질을 측정하는 객관적 지표이다.

⑤ 행복감 수준은 삶의 질을 측정하는 주관적 지표이고, 교육 수준은 삶의 질을 측정하는 객관적 지표이다.

3 삶의 질을 위한 요건 파악

정답 찾기 ㄱ. ㄴ. 글쓴이는 노인들의 삶의 질이 떨어지는 이유를 빈곤에서 찾고 있고, 이를 해결하기 위하여 국가가 사회 복지 제도를 확충해야 한다고 보고 있다. 즉, 노인들의 삶의 질을 높이기 위해서는 사회 복지 제도의 확충을 통해서 노인들에게 적절한 소득을 보장해 주어야 한다고 주장하고 있다.

오답 피하기 ㄴ. 쾌적한 환경 또한 삶의 질을 높이기 위한 요건으로 볼 수 있지만, 노인들의 삶의 질을 높이기 위해 제시된 글쓴이가 주장하고 있는 내용으로 볼 수 없다.

ㄷ. 치안 유지를 통한 안전한 삶의 보장은 삶의 질을 높이기 위한 요건으로 볼 수 있지만, 노인들의 삶의 질을 높이기 위해 글쓴이가 주장하고 있는 내용으로 볼 수 없다.

4 삶의 질을 위한 요건 파악

정답 찾기 ③ 제시된 내용을 통해 삶의 질을 높이기 위해서는 경제 성장만으로는 부족하고, 보건·의료·문화·사회 보장 등 다양한 분야의 발전이 필요함을 알 수 있다. 즉, 삶의 질은 경제적 요인에 의해서만 좌우되지는 않는다고 주장하고 있다.

오답 피하기 ① 제시된 내용에 따르면 보건·의료·문화·사회 보장뿐만 아니라 경제적 요인 역시 삶의 질에 영향을 미친다.

② 제시된 주장은 경제 성장만으로 삶의 질을 높일 수 없다는 주장이지 경제 성장과 삶의 질 수준이 음(-)의 관계에 있다는 주장은 아니다.

④ 기본적인 의식주의 해결이 삶의 질을 높이기 위한 기본 전제이지만, 제시된 내용이 삶의 질을 높이기 위한 기본 전제에 대하여 언급하고 있지는 않다.

⑤ 주관적 지표보다 객관적 지표의 개선이 삶의 질을 높이는 데 더 기여한다고 단정할 수 없으며, 제시된 자료가 이를 보여 준다고도 할 수 없다.

5 소득과 삶의 질 간의 관계 파악

정답 찾기 ② 첫 번째 자료는 소득은 교육 수준을 높이는 데 기여하고, 이는 자아실현의 기회를 넓혀 삶의 질을 높이는 데 기여함을 보여 주고 있다. 두 번째 자료는 신체적 건강은 인간답게 살기 위해 필수적으로 요구되고, 이를 위해서는 일정 정도의 소득이 필요함을 보여 주고 있다. 즉, 두 자료 모두 소득 수준의 향상이 삶의 질을 높이는 데 기여함을 보여 주고 있다.

오답 피하기 ① 제시된 두 자료에 담긴 내용은 삶의 질이 소득의 크기에 영향을 받는다는 내용이지, 삶의 질이 소득의 크기에 의해 결정된다는 내용으로 볼 수는 없다.

③ 제시된 두 자료 모두 국가 정책의 최우선 목표에 대하여 언급하고 있지는 않다.

④ 제시된 두 자료 모두 국민의 삶의 질을 높이는 것이 개인의 책임인지 국가의 책임인지에 대해서는 언급하고 있지 않다.



⑤ 제시된 두 자료 모두 소득 수준의 향상이 삶의 질을 높이는 데 기여한다는 내용이다. 따라서 성장 위주보다 분배 위주의 정책이 삶의 질을 높이는 데 효과적이라고 본다고 할 수 없다.

6 삶의 질에 영향을 미치는 요인 이해

문제 분석 환경과 여가 모두 삶의 질에 영향을 주는 요인이다. 따라서 국민 소득이 증가해도 환경이 오염되거나 여가 시간이 줄어들면 국민의 삶의 질이 낮아질 수 있다. 즉, 경제적 요인뿐 아니라 다양한 요인이 삶의 질에 영향을 미친다.

모범 답안 삶의 질은 경제적 요인에 의해서 좌우되지 않는다. 다양한 요인이 삶의 질에 영향을 미친다.

구분	채점 기준
상	삶의 질은 경제적 요인에 의해서 좌우되지 않는다는 내용을 정확하게 서술한 경우
중	삶의 질은 경제적 요인에 의해서 좌우되지 않는다는 내용을 서술하였으나, 그 내용이 미흡한 경우
하	삶의 질은 경제적 요인에 의해서 좌우되지 않는다는 내용을 정확하게 서술하지 못한 경우

7 삶의 질에 대한 국가의 책임 이해

정답 찾기 갑, 두 법 조항을 통해 국가는 국민의 삶의 질을 높이기 위한 기본 계획을 수립해야 하고, 국민의 인간다운 삶을 보장하기 위한 제도를 시행해야 함을 알 수 있다. 이를 통해 국민의 삶의 질을 높이는 것이 국가의 책임 중 하나임을 알 수 있다.

병, 제24조 제1항을 통해 소득 보장이 인간다운 생활을 하는 데 필요한 요소임을 알 수 있다.

오답 피하기 을, 제시된 법 조항은 적극적 권리의 성격을 지니는 사회권을 보장하기 위하여 제정되었다.

정, 국민의 삶의 질 향상을 국가와 지방 자치 단체가 공적 영역에서 책임져야 할 과제로 인식하고 있다.

8 행복한 삶 관련 설문 조사의 결과 분석

정답 찾기 다, 자녀에 대한 만족도가 1위이고, 배우자에 대한 만족도가 2위이다. 즉, 만족도 1, 2위를 기록하는 항목은 모두 가족과 관련이 있다.

르, 소득·재산 항목의 중요도와 만족도 간 차이가 2.0점으로 가장 크다.

오답 피하기 가, 종교 생활 항목은 중요도보다 만족도가 더 크다.

나, 중요도가 높을수록 만족도가 낮게 나타나고 있지는 않다. 예를 들어 건강 항목의 중요도가 가장 높고, 종교 생활의 중요도가 가장 낮지만, 자녀 항목의 만족도가 가장 높고, 문화·여가 생활 항목의 만족도가 가장 낮다.

9 경제 성장과 삶의 질 간의 관계 파악

정답 찾기 갑은 경제가 성장해야 삶의 질이 높아진다고 보고 있는 반면, 을은 경제 성장이 삶의 질 향상으로 이어진다고 단정할 수는 없다고 주장하고 있다.

나, 무분별하게 경제 성장을 추구하면 국민 소득은 증가할 수 있지만, 환경 오염으로 인해 국민의 삶의 질이 떨어질 수 있다. 따라서 이는 을이 주장하는 내용의 근거가 될 수 있다.

르, 경제 성장 과정에서 나타나는 빈부 격차의 확대에 의한 상대적 박탈감의 증가는 삶의 질을 떨어뜨리는 요인이다. 따라서 이는 을이 주장하는 내용의 근거가 될 수 있다.

오답 피하기 가, 국민 소득이 높은 선진국의 문맹률이 국민 소득이 낮은 개발 도상국의 문맹률보다 낮다는 것은 갑이 주장하는 내용의 근거, 즉 국민 소득이 삶의 질을 높인다는 근거가 된다.

다, 경제 성장이 삶의 질 향상으로 이어질 가능성이 높다는 것은 갑이 주장하는 내용의 근거가 된다.

10 국민 삶의 질 지표의 이해

정답 찾기 나, 국민 삶의 질 지표를 측정하는 영역에는 소득·소비·자산, 고용·임금, 주거 등의 물질적 영역과 건강, 교육, 문화·여가, 가족·공동체, 시민 참여, 안전, 환경, 주관적 웰빙 등의 비물질적 영역이 모두 포함되어 있다.

다, 국민 삶의 질 지표를 측정하는 영역에 사회 복지가 포함되어 있는 것을 통해 사회 안전망이 삶의 질에 영향을 미친다고 보고 있음을 알 수 있다.

오답 피하기 가, 제시된 영역 중 소득·소비·자산, 고용·임금 등은 객관적 지표이다.

르, 국민 삶의 질 지표는 국내 총생산이 그 나라 국민의 삶의 질과 직결되지 않는다는 점을 인정하고, 이를 보완하기 위해 개발되었다.

02 실력 향상 문제

본문 64~65쪽

- | | | | | |
|------|-----|-----|---------|---------|
| 1 ① | 2 ② | 3 ① | 4 ③ | 5 재능 기부 |
| 6 ② | 7 ⑤ | 8 ④ | 9 해설 참조 | |
| 10 ② | | | | |

1 기부의 이해

정답 찾기 제시된 ‘직장인 월급 1% 나눔 캠페인’은 기부금을 모금하는 캠페인이다.

가, 기부는 개인이 자발적으로 참여하는 행위이다.

나, 기부는 경제적으로 어려운 사람에게 대가 없이 물질적·금전적 후원을 하는 행위를 말한다.

오답 피하기 다, ‘직장인 월급 1% 나눔 캠페인’은 공동체의 발전을 위한 개인적 차원의 노력이다.

르, 무보수로 재능을 제공하는 것을 사회봉사라고 한다. 기부는 물질적·금전적 지원 행위이다.

2 기부의 의의 파악

정답 찾기 가, 소외 계층의 상대적 박탈감의 심화는 사회 갈등의 심화로 이어질 수 있다. 제시된 자료에 의하면 기부는 소외 계층의 상대적 박탈감을 해소하는 데 기여한다. 즉, 기부가 사회 통합에 기여한다고 보고 있다.

다, 제시된 자료에 따르면 기부가 소외 계층의 어려움을 해결해 줌으로써 복지 사회, 즉 더불어 사는 공동체를 이루는 원천이 된다.

오답 피하기

나, 제시된 자료에는 기부의 필요성이 언급되어 있을 뿐, 기부를 법으로 강제해야 한다는 내용은 언급되어 있지 않다.

르, 제시된 자료에는 기부가 복지 사회 건설을 위해서 필요하다고 언급되어 있을 뿐, 복지 사회 건설에 대한 1차적인 책임이 개인에게 있다는 내용이 언급되어 있지는 않다.



3 사회봉사의 의의 파악

정답 찾기 ㄱ. 봉사 활동은 이웃의 문제, 지역 사회의 문제 해결에 도움을 주는 행위라고 보고 있다.

ㄴ. 봉사 활동이 봉사자의 성장에 도움을 주는 행위라고 보고 있다.

오답 피하기 ㄷ. 봉사 활동은 봉사자와 봉사 대상자가 함께 하는 활동임을 강조하고 있다. 즉, 봉사자와 봉사 대상자의 엄격한 분리는 바람직하지 않다고 보고 있다.

ㄹ. 봉사 활동을 봉사자가 봉사 대상자에게 일방적인 동정을 베푸는 활동이 아니라 봉사자와 봉사 대상자가 함께 하는 활동이라고 보고 있다.

4 봉사 활동의 유의 사항 파악

정답 찾기 ③ ‘봉사 대상자를 봉사자에게 나란히 서도록 하는 것이 아니라 봉사자가 봉사 대상자 곁에 나란히 서는 것이 봉사 정신임을 잊어서는 안 된다.’라는 내용을 통해 봉사자는 자신의 입장이 아닌 봉사 대상자의 입장을 고려해야 함을 강조하고 있음을 알 수 있다.

오답 피하기 ① 봉사 활동은 자발적으로 참여해야 하지만, 이를 제시된 자료에서 강조하고 있는 내용으로 보기는 어렵다.

② 봉사 활동은 기본적으로 대가를 바라고 해서는 안 되지만, 이를 제시된 자료에서 강조하고 있는 내용으로 보기는 어렵다.

④ 지속적인 봉사 활동이 필요하지만, 이를 제시된 자료에서 강조하고 있는 내용으로 보기는 어렵다.

⑤ 봉사 활동을 통해 봉사 대상자의 문제를 해결해 주는 것도 필요하지만, 이를 제시된 자료에서 강조하고 있는 내용으로 보기는 어렵다.

5 재능 기부 의의 파악

주관식 정답 찾기 개인이 가지고 있는 역량, 즉 재능을 자신의 이익을 위해서만 사용하지 않고 이를 활용해 사회에 기여하는 새로운 기부 형태를 재능 기부라고 한다.

6 기부와 사회봉사의 특징 파악

정답 찾기 ② 기부는 경제적으로 어려운 사람에게 물질적·금전적 후원을 하는 행위인 반면, 사회봉사는 물질적·금전적 후원을 하는 행위가 아니라 개인의 노동력을 제공하는 행위이다.

오답 피하기 ① 기본적으로 기부와 사회봉사 모두 대가 없이 이루어진다.

③ 기부와 사회봉사 모두 국가에 의해서 강제되는 행위가 아니라 자발성에 바탕을 둔 행위이다.

④ 기부와 사회봉사 모두 개인적 차원의 활동이다.

⑤ 기부와 사회봉사 모두 사회 연대 의식을 높이는 데 기여한다.

7 기부 참여 동기 조사의 자료 분석

정답 찾기 ㄷ. 응답자 수는 1,000명으로 같고, 응답률 수치가 가장 크게 변한 항목은 동정심이다. 이를 통해 기부에 참여한 동기가 동정심이라고 응답한 사람의 수가 가장 크게 변화하였음을 알 수 있다.

ㄹ. 2014년에는 사회적 책임감을 기부에 참여한 동기라고 응답한 사람의 비율이 26.8%로 가장 높았다.

오답 피하기 ㄱ. 종교적 신념 때문에 기부에 참여한다고 응답한 비율이 증가하였다. 따라서 종교적 신념이 기부에 미치는 영향력은 감소하였다고 할 수 없다.

ㄴ. 2013년에는 응답자의 23.1%가 사회적 책임감 때문에 기부에 참여한다고 응답하였다. 사회적 책임감이 법적 의무를 의미하지는 않는다.

8 기부, 재능 기부, 사회봉사의 이해

정답 찾기 ④ 갑의 행위는 금전적 후원 행위에 해당한다.

오답 피하기 ① 갑은 대가 없이 물질적·금전적 후원, 즉 기부를 하였다.

② 을은 노래라는 자신의 재능을 기부하였다.

③ 병의 행위는 사회봉사이다. 사회봉사는 자신의 노동력을 최대한 활용할 수 있다는 장점이 있다.

⑤ 기부, 재능 기부, 사회봉사 모두 공동체의 결속감이나 연대 의식을 높이는 데 기여한다.

9 기부 문화 활성화 방안의 이해

문제 분석 첫 번째 내용의 기부금 세액 공제 제도와 두 번째 내용의 기부금 모금액과 활용 실적 공개 제도 모두 기부 문화를 확산시키기 위한 제도이다.

모범 답안 기부 문화를 확산시킨다.

구분	채점 기준
상	기부 문화를 확산시킨다는 내용을 정확하게 서술한 경우
중	기부 문화를 확산시킨다는 내용을 서술하였으나, 그 내용이 미흡한 경우
하	기부 문화를 확산시킨다는 내용을 정확하게 서술하지 못한 경우

10 봉사 활동 사업의 취지 파악

정답 찾기 ㄱ. ‘봉사 실적에 따라 장관 표창장 수여 등 인센티브를 제공한다.’를 통해 봉사 활동 활성화를 목적으로 하고 있음을 알 수 있다.

ㄹ. ‘봉사자의 보유 역량을 반영하여 봉사단이 잘 할 수 있는 분야에서 봉사 활동을 할 수 있도록 한다.’를 통해 봉사단에게 맞춤형 봉사 일감을 제공하고자 한다는 것을 알 수 있다.

오답 피하기 ㄴ. 제시된 사업은 자발적인 봉사 희망자를 등록하고 관리하는 사업이지 봉사 활동을 제도적으로 강제하는 사업은 아니다.

ㄷ. 봉사 희망자를 보유 역량별로 구분한다는 것이 특별한 재능이 있는 봉사자만을 대상으로 한다는 것을 의미하지 않는다.

03 실력 향상 문제

본문 68~69쪽

- | | | | |
|--------------|-----|-------------|-----|
| 1 ② | 2 ① | 3 지속 가능한 개발 | 4 ③ |
| 5 ④ | 6 ⑤ | 7 ② | 8 ③ |
| 9 해설 참조 10 ④ | | | |

1 삶의 질 향상을 위한 정책의 이해

정답 찾기 ② 제시된 밑줄 친 정책은 삶의 질 향상에 기여하는 경제 성장을 위한 정책이다. 불합리하고 불필요한 규제 완화를 바탕으로 한 경제 활동 보장 정책은 이에 해당한다.

오답 피하기 ① 사회 안전망 확충은 복지 향상을 위한 정책이다.

③, ⑤ 지역의 균형 개발 실시와 공기업 및 공공 기관의 지방 이전은 지역 격차 해소를 위한 정책이다.

④ 지속 가능한 개발 추구는 쾌적한 환경을 위한 정책이다.

2 삶의 질 향상을 위한 정책 파악

정답 찾기 ㄱ. 공공 부조는 빈부 격차 해소를 위해 실시하는 사회 보장 제도이다.

ㄴ. 환경 영향 평가는 환경 오염을 해결하기 위해 실시하는 정책이다.



오답 피하기 다. 하향식 지역 개발 방식은 성장 거점 위주의 지역 개발 방식에서 채택된다.

르. 기업의 연구 개발비 보조는 경제 성장을 위해 실시하는 정책이다.

3 지속 가능한 개발의 이해

주관식 정답 찾기 미래 세대가 그들의 필요를 충족시킬 수 있는 가능성을 손상시키지 않는 범위 내에서, 현재 세대의 필요를 충족하는 개발을 지속 가능한 개발이라고 한다.

4 삶의 질 향상을 위한 정책의 이해

정답 찾기 (가)는 균형 개발 방식, (나)는 국민 기초 생활 보장 제도, (다)는 환경 영향 평가 제도이다. 나. 국민 기초 생활 보장 제도는 복지 향상을 위한 제도이다.

다. 환경 영향 평가 제도는 지속 가능한 개발을 추구한다.

오답 피하기 가. 균형 개발 방식은 지역의 균형 개발을 목표로 한다.
르. 균형 개발 방식, 국민 기초 생활 보장 제도, 환경 영향 평가 제도 모두 삶의 질 향상에 기여할 수 있다.

5 복지 정책의 실효성 확보 방안 파악

정답 찾기 나, 르. 제시된 글쓴이는 복지 수요자의 요구를 반영하는 복지 정책, 즉 복지 수요자 맞춤형 복지 정책을 실시해야 한다고 주장하고 있다. 이를 위해서는 복지 제공자의 판단에 의한 하향식 복지 정책 수립을 지양하고, 복지 정책 수립 시 주민들의 의견을 반영해야 한다.

오답 피하기 가, 다. 제시된 글쓴이는 복지 예산이 양적으로 확대되어도 복지 수요자의 욕구를 충족시키지 못하면 삶의 질 향상으로 이어질 수 없다고 주장하고 있다. 즉, 복지 제공자 중심이 아닌 복지 수요자 중심의 정책 수립을 주장하고 있다.

6 삶의 질 향상을 위한 정책과 관련된 조사 결과 분석

정답 찾기 다. 2013년과 2014년 모두 응답자 항목별 순위는 1위가 복지 향상, 2위가 경제 성장, 3위가 환경 보존, 4위가 지역 격차 해소로 변동이 없다.

르. 2013년과 2014년 모두 사회 보장 제도를 통해 실현하고자 하는 정책 목표, 즉 '복지 향상'을 선택한 응답자가 가장 많았다.

오답 피하기 가. 2013년에 응답자의 70%가 국민의 삶의 질 향상을 위해 가장 우선시해야 하는 정책 목표로 '경제 성장'을 선택하지 않았다. 그렇다고 해서 응답자의 70%가 경제 성장이 삶의 질 향상에 기여하지 못한다고 본 것은 아니다.

나. 2014년에 응답자의 55%가 국민의 삶의 질 향상을 위해 가장 우선시해야 하는 정책 목표로 '복지 향상'을 선택하지 않았다. 그렇다고 해서 응답자의 55%가 국민의 삶의 질 향상을 위해 사회 보장 제도가 불필요하다고 본 것은 아니다.

7 사회 보장 제도의 이해

정답 찾기 가. '법정 요건에 맞지 않아 보호받지 못하고 있는 비수급 빈곤층에게 최소한의 생계를 보장해주는 제도'라는 내용을 통해 ○○형 기초 보장 제도는 복지의 사각 지대 해소를 목적으로 함을 알 수 있다.

다. 국민 기초 생활 보장 제도는 공공 부조 제도 중 하나이다.

오답 피하기 나. ○○형 기초 보장 제도의 혜택을 받을 수 있는 소득 기준은 2014년이 2013년보다 완화되었다. 따라서 2014년의 ○○형 기초 보장 제도의 수혜자가 2013년보다 축소되었다고 할 수 없다.

르. ○○형 기초 보장 제도와 국민 기초 생활 보장 제도 모두 복지 향상을 위한 정책에 해당한다.

8 사회 보험의 이해

정답 찾기 제시된 법 조항은 국민 연금 제도를 규정하고 있는 국민 연금법의 조항이다.

나. 국민 연금 제도는 소득 재분배 효과가 있다.

다. 국민 연금 제도는 사회 보험의 일종으로서 강제 가입을 원칙으로 한다.

오답 피하기 가. 국민 연금 제도는 공공 부조가 아니라 사회 보험이다.

르. 복지 비용을 복지 제공자가 전액 부담하는 사회 보장 제도는 공공 부조이다. 사회 보험은 복지 수혜자가 일정액의 복지 비용을 부담한다.

9 사회 보장 제도의 이해

문제 분석 국민에게 보험 방식을 적용하여 질병, 노령, 실업, 사망 등과 같은 사회적 위험에 대비하는 제도를 사회 보험이라고 하고, 생활 유지 능력이 부족한 사람에게 급여를 제공하여 이들의 최저 생활을 보장하고 자활을 돕는 제도를 공공 부조라고 한다. 공공 부조는 국가나 지방 자치 단체가 복지 비용을 전액 부담하지만, 사회 보험은 복지 수혜자도 일정 부분의 복지 비용을 부담한다.

모범 답안 (가)의 복지 수혜자는 복지 비용의 일부를 부담하지만, (나)의 복지 수혜자는 비용을 부담하지 않는 것을 원칙으로 한다.

구분	채점 기준
상	복지 수혜자의 복지 비용 부담과 관련하여 사회 보험과 공공 부조의 차이를 정확하게 서술한 경우
중	복지 수혜자의 복지 비용 부담과 관련하여 사회 보험과 공공 부조의 차이를 서술하였으나, 그 내용이 미흡한 경우
하	복지 수혜자의 복지 비용 부담과 관련하여 사회 보험과 공공 부조의 차이를 정확하게 서술하지 못한 경우

10 사회 보장 제도의 이해

정답 찾기 (가)는 사회 보험, (나)는 공공 부조이다. 나. 사회 보험과 공공 부조 모두 소득 재분배 효과가 발생한다.

르. 사회 보험에 해당하는 제도에는 국민 건강 보험 제도, 국민 연금 제도, 고용 보험 제도 등이 있고, 공공 부조에 해당하는 제도에는 국민 기초 생활 보장 제도, 의료 급여 제도 등이 있다.

오답 피하기 가. (가)가 사회 보험, (나)가 공공 부조이다.

다. 공공 부조의 복지 비용은 국가나 지방 자치 단체가 전액 부담하는 것을 원칙으로 한다. 즉, 공공 부조의 수혜자는 복지 비용을 부담하지 않는다.

대단원 종합 문제

본문 70~73쪽

01 ①	02 ⑤	03 ②	04 ②	05 ④
06 ④	07 ③	08 ②	09 A: 차별, B: 차이	
10 ③	11 ④	12 ②	13 해설 참조	14 ④
15 ②	16 ⑤	17 ⑤	18 ②	19 ④
20 ②				



01 인간 존엄성의 이해

▶ **정답 찾기** ① 인간은 존엄성을 지니고 있기 때문에 수단이 아닌 목적이 되어야 하는데, 제시된 필소는 여성을 목적이 아닌 수단으로 취급함으로써 인간 존엄성을 해치고 있다. 이러한 이유로 독일 정부가 필소를 금지하였다.

▶ **오답 피하기** ② 필소를 금지해야 하는지 여부는 공익과 사익의 충돌로 보기도 어렵고, 공익보다 사익을 보호하기 위하여 필소를 금지했다고도 보기 어렵다.

③ 기본권 제한은 국가 권력에 의해 이루어진다. 즉, 필소가 기본권 제한의 한계를 넘어서었다는 것 자체가 성립하지 않는다.

④ 독일 정부는 인간을 목적이 아닌 수단으로 취급하였다고 판단하여 필소를 금지하였다.

⑤ 남성과 여성은 동등하게 존엄성을 보장받는다. 즉, 남성보다 여성의 존엄성을 지키는 것이 더 중요하기 때문에 필소를 금지하였다고 할 수 없다.

02 자유권의 이해

▶ **정답 찾기** 첫 번째 내용과 두 번째 내용에는 성문의 법률이 없으면 범죄가 성립하지 않고 형벌도 부과할 수 없다는 죄형 법정주의가, 세 번째 내용에는 변호인의 조력을 받을 권리가 언급되어 있다. 죄형 법정주의와 변호인의 조력을 받을 권리 모두 자유권 중 하나인 신체의 자유를 보장하기 위한 제도적 장치이다. ⑤ 자유권은 국가 권력으로부터 간섭받지 않고 자유롭게 생활할 권리이다.

▶ **오답 피하기** ① 국가의 의사 결정 과정에 참여할 수 있는 권리는 참정권이다.

② 인간의 최소한의 생활 수준을 보장하기 위한 권리는 사회권이다.

③ 침해된 다른 기본권을 구제하기 위한 수단적 권리는 청구권이다.

④ 합리적인 이유 없이 불평등한 대우를 받지 않을 권리는 평등권이다.

03 기본권의 이해

▶ **정답 찾기** A는 범죄 피해자 구조 청구권이고, B는 교육을 받을 권리이다. ② 범죄 피해자 구조 청구권은 청구권이고, 교육을 받을 권리는 사회권이다.

▶ **오답 피하기** ①, ③, ④, ⑤ 사회권에는 근로 3권, 교육을 받을 권리, 인간다운 생활을 할 권리, 환경권 등이 있고, 청구권에는 청원권, 재판 청구권, 형사 보상 청구권, 국가 배상 청구권, 범죄 피해자 구조 청구권 등이 있고, 자유권에는 신체의 자유, 양심의 자유, 종교의 자유, 거주·이전의 자유 등이 있으며, 참정권에는 선거권, 국민 투표권, 공무 담임권 등이 있다.

04 청구권과 사회권의 공통점과 차이점 파악

▶ **정답 찾기** (가)에는 사회권과 구분되는 청구권의 특징이, (나)에는 청구권과 사회권의 공통적인 특징이, (다)에는 청구권과 구분되는 사회권의 특징이 들어갈 수 있다. ② 사회권과 달리 청구권은 다른 기본권 보장을 위한 수단적 권리이다.

▶ **오답 피하기** ① 실질적 평등 달성을 목적으로 하는 기본권은 사회권이다.

③ 국가의 의사 결정에 참여할 수 있는 권리는 참정권이다.

④, ⑤ 청구권과 사회권 모두 적극적 권리이고, 국가의 존재를 전제로 인정된다.

05 개인의 권리 침해 구제 제도의 이해

▶ **정답 찾기** 공무원이 직무를 수행하면서 고의 또는 과실로 법령을

위반하여 개인에게 손해를 끼친 경우 국가가 손해를 배상해 주는 제도를 행정상 손해 배상 제도(가)라고 하고, 형사 피의자 또는 형사 피고인으로 구금되었던 자가 법률이 정하는 불기소 처분을 받거나 무죄 판결을 받은 경우 국가가 그로 인한 물질적·정신적 피해를 보상하는 제도를 형사 보상 제도(나)라고 한다. ④ 행정상 손해 배상 제도와 형사 보상 제도 모두 국가에 의해 침해된 개인의 권리를 구제해 주는 제도이다.

06 정치 참여의 기능 파악

▶ **정답 찾기** 제시된 밑줄 친 부분에는 갑의 주장을 반박하는 내용, 즉 정치 참여의 긍정적인 기능이 들어갈 수 있다. ㄱ. 시민은 정치 참여를 통해 민주 시민 의식을 학습하고, 주권 의식을 신장시킬 수 있다.

ㄴ, ㄷ. 시민의 정치 참여를 통해 시민의 의사를 정책 결정 과정에 투입함으로써 시민의 의사가 반영된 결정을 유도할 수 있다. 즉, 정책의 민주적 정당성을 높일 수 있다.

▶ **오답 피하기** ㄴ. 시민의 정치 참여가 직접 민주주의의 정치보다 대의 민주 정치를 강화시킨다고 할 수 없다.

07 자유 민주적 기본 질서 유지를 위한 장치 이해

▶ **정답 찾기** 민주적 선거 제도, 권력 분립, 실질적 법치주의 등은 자유 민주적 기본 질서 유지에 필요한 장치이다. ③ 권력 분립은 국정 운영의 능률성을 높이는 것을 목적으로 하는 것이 아니라, 국가 권력의 남용으로부터 국민의 기본권을 보호하는 것을 목적으로 한다.

▶ **오답 피하기** ① (가)는 자유 민주주의를 유지함으로써 모든 국민이 인간으로서의 존엄과 가치를 가지며, 자유와 권리를 누릴 수 있는 통치 질서인 자유 민주적 기본 질서이다.

② 자유 민주적 기본 질서를 위해서는 보통·평등·직접·비밀 선거의 원칙에 기초한 민주적 선거 제도가 필요하다.

④ 복수 정당제는 자유 민주적 기본 질서를 유지하기 위한 장치 중 하나이다.

⑤ 실질적 법치주의는 법률의 형식뿐만 아니라 법률의 목적과 내용도 중시한다.

08 여성 고용 할당제에 대한 찬반 입장 분석

▶ **정답 찾기** 채용이나 승진을 할 때 전체 인원 중 일정 비율의 인원을 여성에게 의무적으로 배분하는 제도를 여성 고용 할당제라고 한다. 이를 갑은 정당한 조치라고 보고 있고, 을은 불합리한 조치라고 보고 있다. ㄱ. 여성 고용 할당제는 장애인 의무 고용제 등과 같이 적극적 우대 조치에 해당한다.

ㄷ. 을은 여성 차별을 해결하기 위한 여성 고용 할당제로 인해 남성이 역차별을 당할 수밖에 없다고 보고 있다.

▶ **오답 피하기** ㄴ. 갑은 여성 고용 할당제를 합리적인 차별로 보고 있다.

ㄴ. 고용과 승진에 있어 남성과 여성의 형식적인 기회 균등을 강조하고 있는 사람은 을이다.

09 차이와 차별의 구분

▶ **주관식 정답 찾기** 성(性), 인종, 종교, 취향 등에서 서로 다른 특성을 보이는 것을 '차이'라고 하고, 차이가 있다는 이유로 특정한 개인이나 집단을 부당하게 대우하는 것을 '차별'이라고 한다.



10 문화 상대주의의 이해

정답 찾기 제시된 자료에는 어떤 사회의 특수한 자연환경, 역사적 배경, 사회적 맥락 등을 고려하여 그 사회의 문화를 이해하는 태도인 문화 상대주의가 나타나 있다. ③ 문화 상대주의는 문화는 나름대로의 고유한 가치와 의미를 지니고 있다고 보기 때문에 타 문화를 부정하지 않는다. 따라서 문화의 다양성 유지에 기여한다.

오답 피하기 ① 문화 상대주의는 문화의 상대성을 인정한다.

② 문화 상대주의는 문화 간에 우열이 존재하지 않는다고 본다.

④ 문화 상대주의는 문화를 평가의 대상이 아닌 이해의 대상으로 본다.

⑤ 문화 상대주의가 자문화를 업신여기거나 낮게 평가하지 않기 때문에 자문화의 정체성 유지를 어렵게 한다고 보기 어렵다.

11 문화 이해 태도의 이해

정답 찾기 ㄴ. A는 자문화 중심주의이고, B는 문화 상대주의이다. 자문화 중심주의는 자기 문화의 우수성만 내세우고 다른 문화를 평가 절하하기 때문에 문화적 마찰을 야기할 수 있다. ㄷ. 조선 시대 부들의 중국 문화 숭배는 대표적인 문화 상대주의의 사례이다.

오답 피하기 ㄱ. 문화적 다양성 확보에 기여하는 문화 이해 태도는 문화 상대주의이다.

ㄷ. 인류의 보편적 가치에 위배되는 식인 풍습을 인정하는 태도는 극단적 문화 상대주의에 해당한다.

12 다문화 정책의 비교

정답 찾기 ㄱ. 융광로 정책은 이주민의 문화를 주류 문화에 동화시켜 문화적 단일성을 유지하는 데 초점을 둔다.

ㄷ. 샐러드 볼 정책은 이주민의 문화와 주류 문화가 공존하면서 서로 존중받으며 함께 발전해야 한다는 관점을 반영한 정책이다.

오답 피하기 ㄴ. 융광로 정책은 문화적 단일성 실현을 중시하는 정책이다. 문화적 다양성 실현을 중시하는 정책은 샐러드 볼 정책이다.

ㄷ. 문화적 다양성을 이해하고 존중하며 다문화주의 정체성을 수립하려는 사상이나 운동을 의미하는 다문화주의 실현에 초점을 두는 정책은 샐러드 볼 정책이다.

13 극단적 문화 상대주의의 폐해 파악

문제 분석 모든 사회의 문화는 나름대로의 의미와 가치를 지니고 있음을 인정하고 이를 존중하는 문화 이해 태도를 문화 상대주의라고 한다. 하지만 문화 상대주의가 극단적으로 흐르면 인류의 보편적 가치를 훼손하는 문화까지 인정하는 결과를 초래할 수 있으므로 이를 경계해야 한다.

모범 답안 인류의 보편적 가치를 훼손

구분	채점 기준
상	인류의 보편적 가치를 훼손할 수 있다는 내용을 정확하게 서술한 경우
중	인류의 보편적 가치를 훼손할 수 있다는 내용을 서술하였으나, 그 내용이 미흡한 경우
하	인류의 보편적 가치를 훼손할 수 있다는 내용을 정확하게 서술하지 못한 경우

14 행복 지수의 이해

정답 찾기 ㄱ. 첫 번째 항목과 두 번째 항목의 만점은 각각 10점이고, 세 번째 항목의 만점은 50점이고, 네 번째 항목의 만점은 30점이다. 즉, 행복 지수는 만점이 100점이 되도록 설계되어 있다.

ㄴ. 행복 지수는 세 번째 항목을 첫 번째 항목과 두 번째 항목의 중

요도의 5배로 보고 있고, 네 번째 항목을 첫 번째 항목과 두 번째 항목의 중요도의 3배로 보고 있다. 즉, 세 번째 항목에 가장 높은 가중치를 두고 있다.

ㄷ. '달성 가능한 목표를 가지는 것'은 네 번째 항목의 내용 중 '자신이 세운 기대치를 달성하고 있다.'의 만족도를 높일 수 있다.

오답 피하기 ㄷ. 세 번째 항목에서 확인할 수 있듯이 행복 지수는 돈이나 건강 등과 같은 객관적 지표에 대한 판단을 반영하고 있다.

15 행복 지수의 계산

정답 찾기 제시된 표를 바탕으로 갑~병의 행복 지수를 계산하면 다음과 같다.

갑	$4 + 5 + (8 \times 5) + (7 \times 3) = 70$
을	$5 + 5 + (5 \times 5) + (5 \times 3) = 50$
병	$7 + 8 + (6 \times 5) + (5 \times 3) = 60$

ㄱ. 갑의 행복 지수가 70점으로 가장 높고, 을의 행복 지수가 50점으로 가장 낮다. ㄷ. 네 번째 항목과 관련하여 행복 지수에 계산되는 갑의 점수는 21점이고, 을의 점수는 15점으로, 두 사람의 점수 차이는 6점이다.

오답 피하기 ㄴ. 갑과 을의 행복 지수의 차이는 20점이다.

ㄷ. 점수가 그대로 반영되는 항목은 첫 번째와 두 번째 항목이다. 이 두 항목의 점수의 합은 병이 가장 높다.

16 기부 참여율의 통계 분석

정답 찾기 현금 기부와 물품 기부를 모두 한 사람이 존재할 수 있다는 사실에 유의하여 자료를 분석해야 한다. 예를 들어 물품 기부에 참여한 모든 남자가 현금 기부에도 참여하였다면 남자 중 35.8%가 기부에 참여한 경험이 있는 것이고, 물품 기부에 참여한 남자 중 단 한 사람도 현금 기부에 참여하지 않았다면 남자 중 40.3%가 기부에 참여한 경험이 있는 것이다. 즉, 남자 중 기부에 참여한 사람의 비율은 35.8%~40.3%인 것이다. ⑤ 학력이 높아질수록 현금 기부 참여율은 높아지고 있다. 이를 통해 학력과 현금 기부 참여율 간에는 양(+)의 관계가 있음을 알 수 있다.

오답 피하기 ① 중졸보다 고졸의 현금 기부 참여율이 더 높지만, 제시된 자료만으로 중졸과 고졸의 현금 기부액은 비교할 수 없다.

② 물품 기부에 참여한 여자 중 현금 기부에 참여한 사람이 단 한 사람도 없을 때에만 성립한다. 하지만 현금 기부와 물품 기부를 동시에 한 여자가 있을 수 있기 때문에 여자 중 기부에 참여한 비율은 36.4%이라고 할 수 없다.

③ 남자보다 여자의 물품 기부 참여율이 더 높지만, 제시된 자료만으로 남자와 여자의 물품 기부 횟수는 비교할 수 없다.

④ 대졸 이상 중 기부에 참여한 사람의 비율은 46.1%~54.8%이다. 따라서 대졸 이상 중 기부에 참여한 사람이 과반수가 되지 않을 수도 있다.

17 삶의 질 향상을 위한 정책의 이해

정답 찾기 ㄷ. 건강 보험 제도는 사회 보험에 해당하는 사회 보장 제도로써 복지 향상을 위한 제도이다.

ㄷ. 개발 제한 구역 제도는 지속 가능한 개발을 위한 제도로써 쾌적한 환경을 위한 제도이다.

오답 피하기

ㄱ. 환경 영향 평가 제도는 쾌적한 환경을 위한 제도이다.

ㄴ. 성장 거점 위주의 지역 개발은 지역 격차를 심화시킬 수 있다.



18 사회 보장 제도의 이해

▶ **정답 찾기** 국민연금 제도, 국민 건강 보험 제도는 사회 보험이고, 국민 기초 생활 보장 제도, 의료 급여 제도는 공공 부조이다. ㄱ. 사회 보험은 강제 가입을 원칙으로 한다.

ㄴ. 사회 보험과 공공 부조 모두 삶의 질 향상에 기여한다.

▶ **오답 피하기** ㄴ. 공공 부조에 필요한 비용은 국가나 지방 자치 단체가 전액 부담하는 것을 원칙으로 한다.

ㄷ. 사회 보험과 공공 부조 모두 소득 재분배 효과가 있다.

19 행복도와 관련된 설문 조사 결과 분석

▶ **정답 찾기** ㄱ. 모든 소득 구간의 응답자 수가 같고, 각 소득 구간에서 '보통이다'라고 응답한 비율의 평균이 50%보다 크다. 이를 통해 전체 응답자의 과반수가 '보통이다'라고 응답하였음을 알 수 있다.

ㄴ. 모든 소득 구간의 응답자 수가 같고, 소득이 많아질수록 '불행하다'에 응답한 비율은 감소하고 있다. 이를 통해 소득이 많을수록 '불행하다'고 응답한 사람의 수가 적음을 알 수 있다.

ㄷ. 모든 소득 구간의 응답자 수가 같고, '불행하다'고 응답한 비율은 '99만 원 이하'가 '100~199만 원'의 2배보다 많다. 이를 통해 '불행하다'고 응답한 사람의 수는 '99만 원 이하'가 '100~199만 원'의 2배 이상임을 알 수 있다.

▶ **오답 피하기** ㄴ. 모든 소득 구간의 응답자 수가 같고, '행복하다'고 응답한 비율은 '500~799만 원'이 가장 높다. 이를 통해 '행복하다'고 응답한 사람의 수는 '500~799만 원'이 가장 많음을 알 수 있다.

20 소득과 행복감의 관계 파악

▶ **정답 찾기** 갑. 제시된 밑줄 친 연구에 따르면 연소득이 7만 5천 달러 이하인 경우에만 소득 증가가 행복감 증가로 이어진다고 나타났다. 이는 행복감 증가에 소득 증가가 미치는 영향은 한계가 있음을 보여 준다.

병. 제시된 밑줄 친 연구에 따르면 연소득이 7만 5천 달러 이하에서는 소득이 증가하면 행복감이 증가한 것으로 나타났다.

▶ **오답 피하기** 을. 제시된 밑줄 친 연구에 따르면 연소득이 7만 5천 달러 이하에서는 행복감 증가의 결정적 요인이 소득 증가인 것으로 나타났다.

정. 제시된 밑줄 친 연구에 따르면 연소득이 7만 5천 달러 이하에서는 행복감 증가의 결정적 요인이 소득 증가인 것으로 나타난 것이지만, 소득 증가만 행복감 증가에 영향을 미친다는 결과가 나타난 것은 아니다.

III 합리적 선택과 삶

1. 고령화와 생애 설계

01 실력 향상 문제

본문 78~79쪽

- | | | | |
|-----|-----|-------------|------|
| 1 ㉓ | 2 ㉑ | 3 세대 갈등 4 ㉒ | 5 ㉔ |
| 6 ㉕ | 7 ㉔ | 8 해설 참조 9 ㉑ | 10 ㉓ |

1 인구 고령화 현상의 이해

▶ **정답 찾기** 제시된 글에서 설명하고 있는 현상은 인구의 고령화이다. ㄴ. 고령화가 진행되면 노인 인구 비율이 증가하는 대신 청·장년층 인구 비율이 하락하여 노동력 부족 현상이 나타날 우려가 있다.

ㄷ. 인구가 고령화되면 노동력 부족의 문제가 발생할 수 있고, 각 개인의 노후 생활에 대한 부담이 커질 수 있기 때문에 근로자 정년의 연장을 요구하는 주장이 등장할 수 있다.

▶ **오답 피하기** ㄱ. 고령화는 노인 인구 비율의 상승 현상이므로 다수의 의사를 중시하는 민주주의 국가에서 노인의 정치적 영향력을 강화시킬 수 있는 요인이다.

ㄷ. 우리 사회의 경우 산업화 시기에 농촌에서 청·장년층 인구가 대규모로 도시로 이동하는 바람에 농촌의 고령화가 도시보다 심각하게 나타나고 있다.

2 인구 고령화 진행 단계의 이해

▶ **정답 찾기** ① 2000년에는 총인구에서 65세 이상의 고령 인구가 차지하는 비율이 10%에 이르고 있다. 노인 인구 비율이 7% 이상 14% 미만일 경우 고령화 사회 단계에 있다고 본다.

▶ **오답 피하기** ② 초고령 사회는 총인구 대비 65세 이상 인구 비율이 20%를 넘는 사회이다. 총인구 3,000만 명의 20%는 600만 명인데, 2010년 65세 이상 인구는 500만 명이므로 2010년에 초고령 사회의 단계에 있는 것은 아니다. 2010년의 65세 이상 인구 비율은 약 16.7%이므로 고령 사회의 단계에 있다.

③ 10년 전 대비 총인구 증가량은 1990년과 2000년이 500만 명으로 같다. 증가량은 같지만 비교 기준이 되는 기준 연도의 총인구(10년 전 총인구)가 1990년이 적으므로 10년 전 대비 총인구 증가율은 1990년이 2000년보다 크다.

④ 1990년에 비해 2000년에 총인구 증가율은 (500만 명/2,000만 명)×100이고, 65세 이상 인구 증가율은 (130만 명/120만 명)×100이다. 총인구 증가율은 25%이고, 65세 이상 인구 증가율은 100%를 넘는다.

⑤ 1980년 대비 2000년의 총인구는 2배가 되지 않으므로 100% 증가하지 않았다. 65세 이상 인구는 1980년에 비해 2000년에 2배가 넘으므로 증가율이 100%를 넘는다.

3 인구 고령화로 인한 사회적 갈등

▶ **주관식 정답 찾기** 인구의 고령화로 인해 노인 복지 비용이 증가하면 청·장년층의 조세 부담이 상승할 수밖에 없다. 이로 인해 현재의 노인 세대에 대한 청·장년층의 거부감이 발생하고, 과거 청·장년층이 유소년일 때 그들을 부양했던 현재의 노인 세대가 청·장년층에 대하여 거부감을 가질 경우 세대 간 갈등이 발생할 수 있다. 또한 노인의 일자리를 늘리려고 할 경우 일자리는 한정되어 있기 때문에 일자리를 둘러싼 청·장년층과 노인 세대 간의 갈등이 발생할 수도 있다.

4 인구 고령화의 요인

▶ **정답 찾기** 제시문에서는 국민 연금의 보험료 부과와 급여 지급 방식을 개선해야 한다고 주장하고 있다. 제시문에 직접적인 언급은 없지만 연금 기금 고갈을 우려하는 것으로 볼 때 보험료를 상향 조정하고, 연금 급여를 하향 조정해야 할 필요성을 암시하고 있다. 이러한 주장의 근거로 인구의 고령화를 들고 있으므로 주장을 뒷받침하



려면 고령화의 요인을 제시해야 한다. ㄱ. 출산율 저하와 ㄴ. 평균 수명 상승 추세는 인구의 고령화를 유발하는 대표적인 요인이다.

▶오답 피하기 ㄴ. 인구의 고령화와 그로 인한 국민 연금 개혁은 실업률의 상승과 관련이 없다.

ㄷ. 노인의 경제 활동 참가율이 상승하고 있다면 노후 생활을 노인 스스로 책임지는 경향이 강해지고 있는 것이므로 연금 기금 고갈을 우려하는 주장을 할 필요 없다.

5 노인 부양 문제의 해결 방안

▶정답 찾기 ㄱ. 노인 부양 문제를 개인이나 가족이 아닌 국가가 책임져야 한다는 주장을 하고 있다. 따라서 ㄴ. 국가가 노인에게 하여 기초 생계비를 지원하는 정책이 ㄱ의 입장에 부합한다. 을은 가족과 국가가 함께 노인 부양의 책임을 져야 한다고 주장하고 있다. ㄷ. 노인을 부양하는 자녀에 대하여 소득세를 감면해 주는 정책은 가족이 노인을 부양할 경우 정부가 가족의 경제적인 부담을 덜어주는 정책이므로 노인 부양에 대하여 가족과 국가가 함께 노력하는 방안이다. 병은 노인 스스로 자신을 부양할 수 있도록 사회적 여건을 조성하자는 주장을 하고 있다. ㄱ. 노인이 경제 활동을 할 수 있도록 노인 고용을 의무화하는 정책은 정부나 가족이 직접 노인을 부양하는 방안이 아니라 노인이 소득을 얻어 스스로 자신을 부양할 수 있도록 여건을 조성하는 방안에 해당한다.

▶오답 피하기 ㄴ. 자녀가 노인을 부양하도록 의식을 개선하려는 정책으로서 ㄱ, 을, 병 모두의 입장에 부합하지 않는 방안이다.

6 인구 고령화의 정도 탐구

▶정답 찾기 ⑤ 인구의 고령화 수준은 총인구 대비 노인 인구 비율로 파악할 수 있다. 따라서 농촌과 도시 중 어느 지역이 인구의 고령화 정도가 심각한지를 비교하려면 농촌 인구와 농촌 노인 인구, 도시 인구와 도시 노인 인구에 대한 정보가 필요하다. 총인구와 도시 인구를 알면 농촌 인구(총인구 - 도시 인구)를 알 수 있고, 총노인 인구와 도시 노인 인구를 알면 농촌 노인 인구(총노인 인구 - 도시 노인 인구)를 알 수 있다. 이러한 정보를 바탕으로 농촌 인구 대비 농촌 노인 인구 비율, 도시 인구 대비 도시 노인 인구 비율을 구하면 어느 지역이 인구의 고령화 정도가 더 심각한지 파악할 수 있다.

▶오답 피하기 ① 인구의 고령화는 총인구 대비 노인 인구 비율이므로 노인 인구만으로는 고령화 정도를 비교할 수 없다.

② 총노인 인구만으로는 농촌 노인 인구와 도시 노인 인구를 파악할 수 없다.

③ 총인구만으로는 농촌 인구와 도시 인구를 파악할 수 없다.

④ 총노인 인구 중 농촌 노인 인구 비율과 도시 노인 인구 비율을 알 수 있는 정보들이다. 농촌과 도시의 인구를 알아야 고령화 정도를 비교할 수 있다.

7 인구 고령화로 인한 사회 변화

▶정답 찾기 ④ 제시문에서는 인구의 고령화로 인해 노인 복지를 강화하고 가족의 노인 부양 부담을 덜어 주기 위해 새로운 사회 보장 제도가 도입되었음을 설명하고 있다. 이러한 사회 보장 제도의 도입은 인구 고령화로 인해 노인 부양에 대한 국가의 역할이 강조되고 있기 때문에 나타난 변화이다.

▶오답 피하기 ① 제시문에서는 노인의 경제 활동이 활발해지고 있는지 설명하고 있지 않다.

② 산업화 이후로 노인 공경 의식이 약화되고 있기는 하지만, 제시

된 사회 보장 제도의 도입은 노인 공경 의식의 약화보다는 노인 부양에 대한 국가적 책임의 강화와 관련되어 있다.

③ 제시된 사회 보장 제도는 노인에게 대한 경제적 지원을 내용으로 하고 있다.

⑤ 실버산업이 발달하여 노인 세대를 위한 재화나 서비스의 생산 및 판매가 증가하고 있다는 설명은 찾아볼 수 없다.

8 인구 고령화로 인한 문제

▶문제 분석 인구 고령화로 인한 문제를 정부와 청·장년층의 두 가지 측면으로 나누어 설명할 것을 요구하고 있다. 자료의 전반부는 정부 측면에서 겪게 될 문제, 후반부는 청·장년층 측면에서 겪게 될 문제를 시사한다.

▶모범 답안 정부는 노인 복지 비용이 증가함에 따라 재정 건전성이 악화될 수 있다. 청·장년층의 경우 노인 복지를 위한 정부의 부담이 커지면 조세 부담이 상승할 수 있다.

구분	채점 기준
상	정부의 재정, 청·장년층의 조세 부담을 활용하여 인구의 고령화로 인한 문제를 설명하였다.
중	정부의 재정과 청·장년층의 조세 부담 중 한 가지를 활용하여 인구의 고령화로 인한 문제를 설명하였다.
하	정부의 재정과 청·장년층의 조세 부담을 활용하지 못하고 제시문의 내용을 요약하는 정도에 그쳤다.

9 인구 고령화로 인한 노년 부양비의 변화

▶정답 찾기 ㄱ. 2000년 을국의 경우 노년 부양비가 10명이다. 이는 15~64세 인구 100명당 65세 이상 인구가 10명임을 의미하므로 15~64세 인구가 65세 이상 인구의 10배이다.

ㄴ. 1990년 대비 2010년 노년 부양비의 상승 폭은 병국이 가장 크다. 병국의 경우 1990년 노년 부양비가 세 국가 중 가장 낮은 수준이었으나, 2010년 가장 높은 수준으로 상승하였다.

▶오답 피하기 ㄴ. 1990년 갑국의 경우 노년 부양비가 20명이다. 이는 15~64세 인구 100명당 65세 이상 인구가 20명임을 의미하므로 65세 이상 인구 1명을 부양하는 데 15~64세 인구 5명이 필요하다.

ㄷ. 노년 부양비는 15~64세 인구 대비 65세 이상 인구를 나타내므로 노년 부양비가 높다고 해서 65세 이상 인구가 많다고 단정할 수 없다.

10 인구 고령화로 인한 노인 문제

▶정답 찾기 ③ 2006년 대비 2013년 고령 인구의 빈곤율이 높다. 고령 인구가 증가하고 있는 상황에서 고령 인구 중 빈곤 인구의 비율이 상승한 것은 고령 인구 증가율보다 고령 빈곤 인구의 증가율이 높기 때문이다.

▶오답 피하기 ① 고령 인구의 빈곤율은 대체로 상승 추세에 있지만 2012년에는 2011년에 비해 하락하였으므로 지속적으로 상승한 것은 아니다.

② 고령 인구 빈곤율은 고령 인구 중 빈곤 인구 비율을 나타내는 값이다. 따라서 전체 빈곤 인구 중 고령 빈곤 인구가 어느 정도 비율인지는 알 수 없다.

④ 2012년에 비해 2013년에 전체 빈곤율이 일정하다고 해서 전체 빈곤 인구가 두 해에 같다고 단정할 수는 없다. 하지만 고령 인구가 증가하는 상황에서 2012년에 비해 2013년에 고령 인구 빈곤율이 상승하였으므로 고령 빈곤 인구는 2012년에 비해 2013년에 많다.



⑤ 전체 인구 빈곤율과 고령 인구 빈곤율의 전년도 대비 변동 방향은 2010년과 2013년에 상호 일치하지 않는다. 전년도 대비 2010년에 전체 인구 빈곤율은 하락하였으나 고령 인구 빈곤율은 상승하였다. 전년도 대비 2013년에 전체 인구 빈곤율은 변동 없으나 고령 인구 빈곤율은 상승하였다.

02 실력 향상 문제

본문 81쪽

- 1 ④ 2 ④ 3 경제적 독립 4 ③
5 ②

1 생애 설계의 필요성 이해

정답 찾기 ④ 제시된 글에서는 경제적인 목표만을 추구하며 살았던 자신의 삶에 대한 후회와 반성이 드러나 있다. 비록 경제적인 목표는 달성했으나, 은퇴 후 인생의 허무함을 느끼는 모습으로부터 인생을 장기적으로 보면서 만족하는 삶을 살기 위한 설계가 필요함을 파악할 수 있다.

오답 피하기 ① 제시된 글에서는 경제적으로 성공한 삶을 살기 위해 노력했다가 다른 많은 소중한 것을 잃고 후회하는 모습이 나타나 있다.

② 공동체의 발전에 기여하는 삶은 가치가 있지만, 제시된 글에서는 그러한 목표를 위해 살아야 한다는 주장을 하고 있지 않다.

③ 제시된 글에서는 젊을 때 세운 목표를 달성했으나 인생 전반에 대해서 후회하고 있다. 이는 목표를 설정할 때부터 다양한 요소를 고려해야 함을 시사한다.

⑤ 제시된 글에는 가족이나 친구를 잃고 후회하는 모습이 드러나 있으나, 가족이나 친구들의 즐거움을 위해 삶을 살아야 한다고 주장하고 있지는 않다.

2 합리적인 생애 설계의 이해

정답 찾기 ④ 갑은 정년 퇴직 후 직업을 갖는 등 생산 활동에 대한 참여를 전혀 고려하지 않고, 여행과 같은 소비 생활만 계획하고 있다.

오답 피하기 ① 갑은 어느 학과에 진학할 것인지 등 희망 직업과 관련된 구체적인 계획을 고려하지 않고 있다.

② 갑은 자녀 1명만 출산할 계획을 세우고 있다. 이는 저출산 추세를 따르는 것으로 인구의 고령화 추세를 완화시키는 데 기여하기 어렵다.

③ 월급의 90%를 저축한다는 것은 생활을 위한 필수적인 소비나 출산 후 자녀 양육 및 교육비 부담 등을 고려하면 매우 비현실적인 계획이라고 볼 수 있다.

⑤ 생애 설계가 40세에서 갑자기 60세 이후로 이어지고 있다. 생애 설계가 생애 주기 전반에 걸쳐 있다기보다 특정 시기 이전에 집중되어 있다.

3 생애 단계별 과업 이해

주관식 정답 찾기 생애 주기 중 청년기에 달성해야 할 과업을 묻고 있다. 제시문에서는 청년기가 부모의 경제적 후원이 끝날 수밖에 없는 시기라는 점을 강조하고 있으므로 개인이 부모로부터 독립하여 경제생활을 영위할 수 있는 역량을 갖추어야 한다는 과업을 추론할 수 있다.

4 생애 설계를 위한 기준 이해

정답 찾기 나. 제시된 연설에서는 다른 사람들이 부러워하는 삶이 아닌 자신이 행복해질 수 있는 삶을 추구할 것을 강조하고 있다. 이를 통해 개인의 뚜렷한 가치관을 바탕으로 생애를 설계해야 함을 파악할 수 있다.

다. 제시된 연설에서는 현재의 기성세대가 인정하는 직업이 아닌 청소년들이 어른이 되었을 때 인정받는 직업을 선택할 것을 강조하고 있다. 이를 통해 생애 설계를 할 때에는 사회의 현재 모습보다 미래의 모습을 예측하고 그것에 대응하는 설계가 되어야 함을 알 수 있다.

오답 피하기 나. 생애 설계에 있어서 어른의 추천과 충고는 충분히 고려할 사항이다. 하지만 제시된 연설에서 강조하는 생애 설계의 기준은 아니다.

리. 안전한 노후 생활을 고려하는 것은 생애 설계에 있어서 중요하다. 하지만 제시된 연설에서는 노후 생활에 대한 고려를 언급하고 있지 않다.

5 생애 설계에 있어서 중시하는 가치 이해

정답 찾기 ② 응답 항목별로 보면 성별, 학교급별과 상관없이 직업을 선택한 응답자 비율이 가장 높다. 따라서 인생에서 가장 중시하는 것으로 직업을 선택한 응답자가 가장 많다.

오답 피하기 ① 중학생과 고등학생의 항목별 응답 순위는 다르다. 예를 들어 중학생은 직업이 1위, 명예가 2위이다. 하지만 고등학생은 직업이 1위, 대학이 2위이다.

③ 결혼을 가장 중시한다고 응답한 사람의 비율은 남학생보다 여학생이 높다.

④ 대학을 선택하지 않았다고 해서 대학을 중시하지 않는 사람인 것은 아니다. 인생에서 가장 중시하는 것을 몰랐기 때문에 다른 항목을 선택한 사람도 대학을 인생에서 중시할 가능성이 있다.

⑤ 중학생 응답자 중 명예를 선택한 응답자와 친구를 선택한 응답자의 합은 30%이다. 고등학생 중 명예를 선택한 응답자와 친구를 선택한 응답자의 합은 21%이다. 따라서 전체 응답자 중 명예를 선택한 응답자 수와 친구를 선택한 응답자 수의 합이 차지하는 비율은 21%와 30% 사이에 있다.

03 실력 향상 문제

본문 84~85쪽

- 1 ③ 2 ② 3 안전성 4 ⑤ 5 ①
6 ④ 7 ③ 8 해설 참조 9 ② 10 ④

1 자산 관리의 원칙 이해

정답 찾기 ③ 제시된 사례의 주인공은 주식 투자의 경우 확률 50%로 50만 원의 이익이 기대됨에도 불구하고 50만 원의 이익이 예금의 이익처럼 100%로 확실히 실현될 것이라고 생각하는 태도를 갖고 있다. 즉, 주식 투자의 위험을 무시하려는 태도로 인해 위험을 알면서도 예금과 주식 투자 사이에서 고민하고 있는 것이다.

오답 피하기 ① 제시된 사례의 주인공은 예금과 주식 투자 중 한 가지를 선택하기 위해 고민하고 있다.

② 제시된 사례의 주인공은 이익이 실현될 확률을 고려할 때 예금의 기대 이익이 주식 투자의 기대 이익보다 크다는 점을 알고 있다.



- ④ 제시된 사례의 주인공은 투자에 있어서 안전성과 수익성 중 어느 쪽을 중시해야 할 것인지에 대하여 고민하고 있다.
- ⑤ 제시된 사례의 주인공은 예금의 이익이 실현될 확률은 100%, 주식 투자의 이익이 실현될 확률은 50%라는 점을 알고 있는데, 그 확률을 무시하고 수익성을 고려하고 있기 때문에 선택의 고민이 생긴 것이다.

2 자산 관리 수단의 이해

정답 찾기 ㄱ. 갑은 아파트 구입을 통해 자산 관리를 하고자 하였으므로 실물 자산에 투자하였다.

ㄷ. 아파트 가격의 상승을 기대하고 구입하였으므로 시세 차익을 통해 자산을 늘리고자 하였다.

오답 피하기 ㄴ. 주변 사람들의 의견에 의존하였으므로 과학적인 자료를 참고하여 투자 여부를 결정한 것은 아니다.

ㄹ. 5년 후 가격 상승으로 인한 이익을 기대하고 있는 것으로 보아 5년 이내에 발생할 대규모 지출액 증가에 대비한 자산 관리는 아니다.

3 자산 관리의 기본 원칙 이해

주관식 정답 찾기 자산 관리를 위해 위험성이 높은 고수익 상품보다 현재의 자산을 안전하게 보존하면서 작지만 꾸준히 이익을 주는 상품을 선택해야 한다고 주장하고 있다. 이를 통해 자산 관리의 원칙으로서 안전성을 강조하고 있음을 알 수 있다.

4 자산 관리의 필요성 이해

정답 찾기 ⑤ 제시된 글에서는 갈수록 길어지는 평균 수명을 고려하면 과거보다 더 오랜 기간 소득 없이 소비만 해야 한다는 점 때문에 자산 관리를 해야 한다고 주장하고 있다. 이는 평균 수명 연장으로 과거보다 더 많은 노후 생활 자금이 필요하다는 점을 고려하여 적극적으로 자산을 관리해야 함을 시사한다.

오답 피하기 ① 자산을 늘려야 경제 활동 기간을 줄일 수 있다는 주장은 제시되지 않았다.

② 노후 생활을 위한 자금이 경제 활동을 통해 얻는 총소득보다 많기 때문이 아니라 소득 중 지출하고 남은 부분보다 노후 생활을 위한 자금이 많을 수 있기 때문에 자산 관리가 필요하다는 입장이다.

③ 소득을 얻을 수 있는 기간이 점차 짧아지고 있다고 주장하는 글이 아니다.

④ 퇴직을 하면 소득 없이 소비해야 한다고 주장하는 것으로 보아 퇴직 후 소득을 얻기 위한 생산 활동의 어려움을 바탕으로 퇴직 전 자산 관리의 필요성을 주장하고 있다.

5 자산의 의미와 자산 관리의 이해

정답 찾기 ㄱ. 보유하고 있는 현금도 자산의 한 형태에 해당한다.

ㄴ. 청년기는 노년기와 시간적으로 멀리 떨어져 있지만 노후 생활 대비는 일찍 시작할수록 좋으므로 노후 생활 자금의 마련은 청년기의 자산 관리 목적이 될 수 있다.

오답 피하기 ㄷ. 노년기에 자산 관리를 할 때에도 수익성과 안전성, 유동성 모두를 고려해야 한다.

ㄹ. 자산보다 부채가 많은 사람이라고 해서 반드시 자산 증식이 아닌 부채 축소만 추구해야 하는 것은 아니다. 자산 증식을 통해 부채를 축소할 수도 있다.

6 자산 관리 수단의 종류 이해

정답 찾기 ④ 연령대가 높을수록 예금을 활용한다는 응답자의 비

율이 높다. 예금은 다른 자산 관리 수단에 비해 안전성이 높은 금융 자산이다.

오답 피하기 ① 40대에서 예금과 주식을 함께 활용하는 응답자의 비율은 최대 37%이다. 주식을 활용하는 37%의 응답자가 모두 예금도 활용할 때 두 수단을 함께 활용하는 응답자 비율이 최대가 된다.

② 50대 이상에서는 주식보다 부동산을 활용하는 응답자 비율이 높다.

③ '기타' 항목을 제외하면 실물 자산은 부동산뿐이다. 부동산을 활용하는 응답자 비율은 30대가 가장 낮고 50대 이상이 가장 높다.

⑤ 채권은 일정 기간 후에 이자 수입을 기대할 수 있고, 구입 가격과 나중의 판매 가격 간의 차이, 즉 시세 차익도 기대할 수 있다. 채권을 활용하는 응답자 비율은 50대 이상이 가장 높다.

7 자산 관리의 기본 원칙 이해

정답 찾기 ㄴ. 갑은 노후 대비를 위해 현재의 자산마저 감소시킬 수 있는 자산을 회피하고자 한다. 즉, 자산 관리에 있어서 안전성을 중시하고 있다.

ㄷ. 갑은 자신의 생애 단계에서 예상되는 자녀 교육비 지출을 위해 수시로 현금으로 바꿀 수 있는 자산, 즉 유동성이 높은 자산에 투자하고자 한다.

오답 피하기 ㄱ. 갑은 과거에 수익성만을 고려하여 주식 투자를 하였다가 실패한 경험이 있다. 따라서 수익성보다 안전성과 유동성을 중시한 자산 관리를 계획하고 있다.

ㄹ. 갑은 자산 관리에 있어서 안전성을 중시하고 있으므로 기존의 자산 관리 방식이 아닌 창의적인 방식을 추구한다고 볼 수 없다.

8 재무 설계에 있어서 고려 사항 이해

문제 분석 제시된 글의 '나'가 재무 설계에 있어서 간과하고 있는 점을 파악하여, '나'가 고려해야 할 점을 제시하도록 요구하는 문제이다.

모범 답안 미래에 결혼, 자녀 교육, 내집 마련 등을 위해 지출이 증가할 수 있고, 질병이나 실직 등으로 수입이 감소할 수 있음을 고려하면 안전한 노후 생활을 위해 지금부터 생애 전체를 고려한 재무 설계를 할 필요가 있다.

구분	채점 기준		
	사례 활용	미래에 지출 증가 가능성 지적	미래에 수입 감소 가능성 지적
상	○	○	○
중	○	○	×
	○	×	○
하	×	○	○
	×	×	×
	×	×	○

* ○는 답안에 포함되어 있음, ×는 답안에 포함되지 않음을 의미한다.

* 적절하지 않은 사례를 제시한 경우 사례 활용에 ×를, 미래의 두 가지 가능성 중 한 가지에만 사례를 활용한 경우 사례 활용에 ○를 부여한다.

9 자산 관리 수단의 선택

정답 찾기 ㄱ. A 방식은 큰 이익을 얻거나 큰 손실이 발생할 가능성이 있는 방식으로서 수익성을 기대할 수 있지만 안전성은 낮다. B 방식은 A 방식에 비해 이익이 적지만 손실이 발생하지 않으므로 안전성은 높다. 따라서 안전성보다 수익성을 중시하면 A 방식을, 수익성보다 안전성을 중시하면 B 방식을 선택할 것이다.



ㄷ. B 방식은 자산을 다양한 수단에 분산시킴으로써 투자를 통해 발생할 수 있는 손실 위험을 최소화하는 데 유리하다. A 방식은 큰 이익이 발생할 수도 있지만 큰 손실이 발생할 위험도 크다.

오답 피하기 ㄴ. B 방식은 투자하는 상품 중 특정 상품에서 손실이 발생해도 다른 상품에서 이익이 발생하면 전체적으로 이익을 얻을 수 있음을 전제로 한다.

ㄹ. A 방식을 선택했을 때 10%의 손실이 발생하면, B 방식을 선택했을 때 최소 이익인 1%의 이익이 발생하더라도 A 방식보다 B 방식을 선택할 경우에 이익이 크다. 즉, A 방식을 선택할 경우의 이익이 항상 큰 것은 아니다.

10 재무 관리의 이해

정답 찾기 ④ 은행 예금 1천만 원을 찾아 자동차 할부 잔액을 모두 갚으면 자산 감소액과 부채 감소액이 같으므로 순자산(자산 - 부채)에는 변동이 없다.

오답 피하기 ① 자산이 부채보다 많으므로 순자산(자산 - 부채)은 양(+)의 값이다.

② 은행 대출 잔액을 모두 갚으면 부채가 1억 원 감소한다. 그런데 은행 대출 잔액을 갚으려면 아파트 매도 등을 통해 현금을 마련하고 1억 원을 지출해야 하므로 주어진 자료만 고려하면 자산이 증가할 수 없다.

③ 안전성과 환금성, 즉 유동성이 높은 자산은 은행 예금이며, 그 금액은 1천만 원이다.

⑤ 자녀들의 대학 교육비 지출을 고려하면 예금과 같은 유동성이 높은 자산을 확보해야 한다. 부동산은 현금화하는 데 곤란함이 많은 자산으로서 유동성이 낮으며, 부동산을 늘릴 경우 유동성이 높은 예금 자산이 감소할 우려가 있다.

2. 일과 여가

01 실력 향상 문제

본문 88~89쪽

1 ①	2 ②	3 인구의 고령화	4 ⑤
5 ③	6 ②	7 ⑤	8 ②
9 ①			

10 해설 참조

1 직업관의 비교

정답 찾기 ㄱ. 같은 직업을 생계 수단으로 간주하고 있으므로 경제적인 관점을 취하고 있다.

ㄴ. 을은 직업 선택에 있어서 소득도 중요하지만 내면의 욕구나 인간으로서의 궁극적인 목표, 만족감의 성취도 중요하다는 입장이다. 따라서 주관적 요소를 고려해야 함을 강조하고 있다.

오답 피하기 ㄷ. 을은 직업 활동을 통해 자아실현을 할 수 있어야 한다는 입장인 반면, 갑은 직업 활동을 단지 생계의 수단으로만 보고 있다.

ㄹ. 을 역시 직업 선택에 있어서 생계에 대한 고려가 필요하다는 입장이다.

2 직업관의 변화 파악

정답 찾기 ② 평생 직장이라는 말이 사라지고 평생 직업이라는 말이 널리 받아들여지고 있는 시대에는 직장을 바꾸는 일이 누구에게나 발생할 수 있으므로 끊임없는 자기 개발의 필요성이 커진다.

오답 피하기 ① 직장을 바꾸는 일이 흔히 나타난다는 것은 직장의 안정성이 약화되었음을 시사한다.

③ 직장을 바꾸는 일이 흔히 나타나면 한 직장에 대한 평균 근무 기간은 짧아질 가능성이 높다.

④ 보수보다 복리후생을 중시하기 때문에 직장을 옮긴다는 설명은 제시문에서 찾아볼 수 없다.

⑤ 한 직업 분야에서 직장을 옮기는 현상을 설명하고 있다. 다양한 직업 분야에서 필요로 하는 능력을 갖춰야 함을 주장하는 글이 아니다.

3 미래 사회의 직업 변동 이해

주관식 정답 찾기 노인 복지와 관련된 직업, 실버산업 관련 직업의 증가를 예측하고 있다는 점에 주목하여 미래 사회에 나타날 변동을 추론해야 한다. 고령 인구의 비율이 높아지면 노인 세대가 주요 소비자 집단으로 등장한다는 점을 고려할 필요가 있다.

4 기업가 정신과 혁신의 이해

정답 찾기 ⑤ 제시된 글에서는 미래의 위험성에도 불구하고 적극적·능동적으로 새로운 상품에 도전하여 성공한 사례가 나타나 있다.

오답 피하기 ① 제시된 사례에서는 안전성보다 혁신을 추구하여 성공을 거두었다.

② 제시된 사례에서 기업가 정신을 발휘한 것은 미래 사회에서 상품 판매를 확대함으로써 이익을 창출하기 위해서였다.

③ 미래에 실패할 가능성이 있음에도 불구하고 혁신을 시도한 사례이다.

④ 다수의 의견을 존중할 필요성이 아닌 혁신을 추구할 필요성을 강조하는 사례이다.

5 직업 선택의 전략 이해

정답 찾기 ③ 소득, 안정성, 사회적 평판을 기준으로 평가한 점수를 합산하면 A가 8점, B가 11점, C가 13점이다. 따라서 C를 선택하는 것이 합리적이다.

오답 피하기 ① 소득 순위는 A가 가장 높고, C가 가장 낮다. 안정성 순위는 C가 가장 높고, A가 가장 낮다.

② 소득이 가장 적은 C가 사회적 평판은 가장 높다.

④ 소득과 안정성만을 기준으로 하면 A가 7점, B가 8점, C가 8점이므로 A를 선택하는 것은 합리적이지 않다.

⑤ 소득을 고려하지 않을 때 A는 3점, B는 7점, C는 10점이다. 따라서 소득을 고려하지 않을 때와 세 가지 기준을 모두 고려할 때 선택하게 될 직업은 C로 일치한다.

6 창업의 증가 요인 분석

정답 찾기 ㄱ. 제시문에서는 취업에 집착하지 않고 창업을 하는 사람들이 증가할 것이라는 주장을 하고 있다. 정보화로 인해 많은 정보가 공유될 수 있고, 자신에게 필요한 창업 정보의 수집이 용이해진 것은 창업을 증가시키는 요인이 될 수 있다.

ㄷ. 첨단 기술이나 정보 통신 기술을 활용하여 SOHO(Small Office Home Office)와 같이 소자본으로 작은 공간을 활용하여 고부가가치를 창출할 수 있게 된 점도 창업 증가의 배경이 될 수 있다.



오답 피하기 나. 창업 비용이 증가하면 일반 사람들의 창업은 어려워진다.

르. 일자리의 감소 추세가 창업 증가에 영향을 미쳤음을 지적하고 있는 것으로 볼 때, 근로 소득에 비해 창업을 통해 얻는 사업 소득이 커지고 있기 때문에 창업이 증가한다고 주장하는 글은 아니다.

7 창업시 고려 사항 이해

정답 찾기 다. 갑은 새로운 의자를 만들어 판매하였지만 호황임에도 불구하고 소비자들의 반응이 좋지 않았다. 소비자의 취향을 제대로 조사하지 않아 상품성이 높은 제품의 생산에 실패했다고 볼 수 있다.

르. 갑은 자신의 상품에 대한 아이디어가 다수의 다른 사람들이 원하는 상품에 관한 아이디어인지 객관적으로 평가했어야 했다.

오답 피하기 가. 은행이 자금을 대출해 준 것은 갑의 아이디어가 수익성이 있다고 평가했기 때문이라고 보기는 어렵다. 그보다는 갑이 대출금을 갚지 못했을 때에 대비하여 아파트를 담보로 확보할 수 있기 때문에 대출해 주었다고 볼 수 있다.

나. 갑이 창업 비용 중 부족한 부분을 은행에 아파트를 담보로 제공하고 대출을 받은 것으로 볼 때 창업을 구상할 때 자금 조달 가능성이 있음을 인식하고 있었다고 볼 수 있다.

8 미래 직업에 대한 대응 방안 이해

정답 찾기 ② 제시문에서는 미래 사회에서 문화 활동이나 콘텐츠를 기획하고 상품에 느낌을 불어 넣는 디자인과 관련된 일이 유망할 것이라고 보고 있다. 이러한 종류의 일은 기계나 로봇에 의해 대체될 수 없는데, 그 이유는 상상력과 창의성이 필요하기 때문이다.

오답 피하기

- ① 제시문에서는 상품 생산 기술을 갖추고 있어야 함을 강조하고 있지 않다.
- ③ 다양한 프로그램을 다룰 수 있는 능력보다 상상력 및 창의성이 필요함을 시사하는 글이다.
- ④ 오랜 경험을 통해 누적된 기능이나 지식보다 상상력 및 창의성을 강조하고 있다.
- ⑤ 직업 탐색을 위한 정보 수집의 필요성에 대해서는 언급하고 있지 않다.

9 창업 전략의 이해

정답 찾기 ① 제시문에서는 많은 사람들이 이미 참여하고 있는 상품 시장에 뛰어들 경우 실패할 가능성이 높다는 점을 지적하고 있다. 따라서 다른 사람들과 차별화된 창의적인 품목을 개발하여 창업해야 함을 시사하는 글이다.

오답 피하기 ② 부족한 자금으로 창업을 하면 실패할 수밖에 없다는 주장을 하는 글이 아니다.

③ 실패를 고려하지 말고 무조건 창업을 하라고 주장하는 글은 아니다. 모두가 참여하는 상품 시장을 겨냥한 창업은 실패 가능성이 높다는 점을 지적하는 것으로 보아 창업을 할 때에는 실패 가능성을 고려해야 함을 주장하는 글이라고 볼 수 있다.

④ 이익이 되는 창업이 불가능하다는 것이 아니라 창의성이 없는 창업이 이익을 창출하기 어렵다는 점을 강조하는 글이다.

⑤ 수많은 사람들에 의해 이미 검증된 상품이 아니라 독자적인 상품에 도전할 것을 주장하는 글이다.

10 창업의 사회적 기능 이해

문제 분석 정부가 창업 장려를 통해 어떤 목표를 달성하고자 하는지, 창업 증가가 사회적으로 어떤 영향을 미치는지 파악하는 문제이다.

모범 답안 창업은 일자리를 창출하여 실업 문제의 해결에 기여할 수 있다.

구분	채점 기준
상	창업과 일자리 증가, 실업 감소를 타당성 있게 관련시켜 서술하였다.
중	창업과 일자리 증가의 관계를 설명하지 못하고 실업 문제의 해결만 언급하였다.
하	일자리 증가, 실업 감소 등을 구체적으로 언급하지 못하고 경제 성장에 기여할 것이라는 모호한 설명을 하였다.

02 실력 향상 문제

본문 92~93쪽

- | | | |
|-----|----------|-----------------------|
| 1 ④ | 2 ③ | 3 단결권, 단체 교섭권, 단체 행동권 |
| 4 ⑤ | 5 ① | 6 ④ 7 ⑤ 8 ③ |
| 9 ② | 10 해설 참조 | |

1 근대 산업 사회의 근로 조건 이해

정답 찾기 ④ 근대 산업 혁명 초기에는 자유방임주의 사상에 따라 근로 계약을 사적 자유의 영역으로 간주하고 정부가 경제 활동에 대한 개입을 최소화하였기 때문에 근로자들이 열악한 근로 조건에서 비인간적인 생활을 할 수밖에 없었다.

오답 피하기 ① 지나치게 적은 임금과 지나치게 많은 노동 시간 등을 보면 근로 조건이 인간다운 생활을 보장하는 데에는 적합하지 않았다.

② 노동 시간이 가혹하고, 어린이와 부녀자 등을 저임금으로 사용한 것으로 볼 때 노동 착취를 통해 사용자가 부당한 이익을 취했다고 볼 수 있다.

③ 현대 민주주의 사회와 달리 어린이와 여자의 근로를 보호하기 위한 정부의 노력이 없었음을 알 수 있는 자료이다.

⑤ 사용자에게 비해 근로자에게 현저하게 불리한 근로 조건 하에서 근로자들이 일을 하였으므로 사용자와 근로자가 동등한 지위에서 근로 계약을 체결했다고 볼 수 없다.

2 근로 조건과 인간다운 삶의 이해

정답 찾기 나. 임금과 근로 시간, 휴식 시간이나 휴일, 근무 장소나 담당 업무 등은 근로 계약 체결 시 결정해야 할 대표적인 근로 조건이다.

다. 근로 계약은 당사자들이 동등한 지위에서 자유 의사에 따라 체결하는 것이 원칙이다.

오답 피하기 가. 근로는 정신노동과 육체노동을 모두 가리킨다.

르. 국가가 근로 기준법 등을 통해 제시한 근로 조건의 기준은 최저 기준이다. 이 기준에 미치지 못하는 근로 조건이 포함된 근로 계약은 그 전체가 무효가 아니라 해당 부분만 무효이다. 근로 계약 전체가 무효가 될 경우 실직 등 근로자가 입게 될 피해가 매우 클 수 있기 때문에 부분적으로 근로 기준에 미달하는 조건을 내용으로 하는 부분만 무효화한다.



3 근로자의 권리 이해

정답 찾기 대한민국 헌법에 보장되어 있는 근로자의 권리를 묻고 있다. 흔히 노동 3권이라고 불리는 단결권, 단체 교섭권, 단체 행동권은 근로자가 사용자에게 비해 경제적 약자라는 점을 고려할 때 개개인이 근로 조건의 개선을 위해 노력하는 데에는 한계가 있을 것을 전제로 하고 있다.

4 근로자의 특성별 근로 조건의 이해

정답 찾기 ⑤ 15세 이상 18세 미만인 자와 임신부(임신 중이거나 산후 1년이 지나지 않은 여성)는 도덕상 또는 보건상 유해하거나 위험한 사업장에 고용하지 못한다.

오답 피하기 ① 15세 미만인 자는 원칙적으로 근로자로 고용할 수 없다.

② 18세 미만인 연소 근로자에게도 최저 임금법이 적용된다.

③ 18세 미만인 연소 근로자에게도 근로 기준법이 적용되며, 유해하거나 위험한 사업장의 고용이 제한되며, 본인의 동의가 있고 고용 노동부 장관의 인가가 있는 경우를 제외하고 밤 10시부터 새벽 6시까지의 야간 근로나 휴일 근로를 시킬 수 없다.

④ 원칙적으로 사업장에 고용할 수 없는 15세 미만인 자의 경우, 일정한 절차에 따라 고용 노동부 장관이 발급한 취직 인허증이 필요하다.

5 근로 계약의 이해

정답 찾기 ① 갑의 근로 계약 내용 중 최저 임금의 1/2을 받기로 한 조건은 최저 임금법에 위반된다. 이 경우 근로 계약 전체가 아니라 임금에 대한 조건 부분만 무효이며, 최저 임금에 해당하는 임금을 지급해야 한다.

오답 피하기 ② 18세 미만의 연소 근로자는 원칙적으로 1일 7시간, 1주일 40시간을 초과하여 근로시킬 수 없고, 밤 10시부터 새벽 6시까지 야간 근로를 시킬 수 없다. 따라서 갑의 근로 시간 계약은 근로 기준법에 위반되지 않는다.

③ 분식집은 도덕상 또는 보건상 유해하거나 위험한 사업장이 아니므로 18세 미만인 자를 고용할 수 있다.

④ 미성년자도 임금을 직접 청구하여 받을 수 있다.

⑤ 비록 자유 의사에 따라 체결한 근로 계약이라 하더라도 최저 임금법에 위반되는 임금 조건은 무효이므로 최저 임금을 지급하라는 청구를 할 수 있다.

6 근로 기준법의 목적 이해

정답 찾기 나. 제시된 내용은 근로 기준법의 목적이다. 근로 기준법은 근로 계약에 명시해야 할 임금, 근로 시간 등의 조건을 구체적으로 명시하게 함으로써 근로 제공자와 사용자가 입을 수 있는 피해를 방지하고자 한다.

르. 근로 기준법은 근로자에 대한 사용자의 폭행이나 협박, 강제 근로를 금지함으로써 사회적 약자인 근로자를 보호하고자 한다.

오답 피하기 가. 근로 기준법은 대부분 근로에 관한 최저 기준을 제시하고 그 이상의 조건으로 근로 계약을 체결하도록 하고 있다. 하지만 근로 시간에 관해서는 “1일 8시간, 1주간 40시간을 초과할 수 없다.”와 같이 근로시킬 수 있는 최대 시간을 제시한다.

다. 근로자가 받아야 할 임금 수준의 하한선, 즉 최저 임금을 보장하기 위한 법은 최저 임금법이다.

7 근로 조건과 인간의 존엄성 실현 간의 관계 이해

정답 찾기 나. 적절한 휴식은 근로자에게 재충전의 시간을 제공하기 때문에 노동의 질을 향상시키는 데 기여할 수 있다.

다. 근로 계약에 근로 기준법에서 정하고 있는 일정 일수 이상의 유급 휴일이나 유급 휴가에 대한 합의를 포함시키도록 하는 것은 근로자에게 휴식 및 여가를 위한 시간을 줌으로써 인간의 존엄성에 부합하는 조건에서 근로할 수 있도록 보장하기 위해서이다.

르. 휴일이나 휴가를 무급으로 하면 근로자가 휴식보다 근로를 선택할 수밖에 없는 경우가 많아 노동 착취가 발생하고 근로자의 삶의 질이 악화될 우려가 있기 때문에 근로 기준법은 유급 휴일과 유급 휴가를 규정하고 있다.

오답 피하기 가. 유급 휴일, 유급 휴가이므로 인건비 절약을 위해 휴일과 휴가를 제공하도록 규정하는 것은 아니다.

8 미성년자 근로 계약에 대한 이해

오답 피하기 ③ 부모 등 보호자가 미성년자의 근로 계약을 대리할 수 없게 한 것은 보호자가 미성년자의 의지와 상관없이 노동을 강요함으로써 발생할 수 있는 노동 착취를 방지하기 위해서이다. 보호자 등이 미성년자에게 불리한 근로 계약을 해지할 수 있게 한 것은 미성숙한 미성년자가 자신에게 불리한 내용으로 근로 계약을 체결함으로써 발생할 수 있는 노동 착취를 방지하기 위해서이다.

오답 피하기 ① 미성년자라도 15세 이상인 자는 고용할 수 있다.

② 미성년자의 경제적 자립을 지원하려는 것이 아니라 미성년자의 근로 계약에서 발생할 수 있는 문제를 방지하기 위한 것이다.

④ 미성년자의 근로 계약을 부모가 대리할 수 없게 하였으므로 미성년자에 대한 부모의 관리 감독권을 강화하는 것은 아니다.

⑤ 성인과 다른 미성년자의 근로에 대한 보호 규정이다.

9 근로자의 권리 이해

정답 찾기 ② 근로자는 노동조합을 통해 근로 조건의 향상을 위한 협상을 할 수 있는데, 협상 대상인 근로 조건에는 임금도 포함된다.

오답 피하기 ① 근로자가 노동조합을 결성하여 사용자 측과 협상을 할 수 있고, 의견의 불일치로 인해 분쟁이 발생한 경우 쟁의 행위를 할 수 있음을 설명하고 있으므로, 노동 3권인 단결권, 단체 교섭권, 단체 행동권을 모두 파악할 수 있다.

③ 근로자의 노동 3권은 헌법에 의해 보장되는 권리이므로 사용자의 승인은 불필요하다.

④ 파업과 같은 쟁의 행위는 사업장의 정상적인 운영을 저해하는 행위인데, 이는 근로 조건 향상을 위해 보장되는 단체 행동권에 해당한다. 다만 폭력으로 사업장을 점거하거나 기계를 파괴하는 등의 불법 행위는 인정되지 않는다.

⑤ 근로자의 단결권, 단체 교섭권, 단체 행동권을 보장하는 것은 근로자와 사용자 간의 분쟁을 당사자 간 자율적 합의에 의해 해결되도록 하는 것을 우선적인 목적으로 한다. 다만 노사 분쟁이 자율적으로 해결될 수 없고, 심각하게 공익을 해치는 경우 국가가 개입할 수 있다.

10 근로 계약의 원칙 이해

문제 분석 사례를 통해 근로의 권리 보장에 있어서 평등의 원칙을 적용해 보는 문제이다. 사례를 읽고 양성평등의 원칙에 부합하는지, 같은 성의 사람들 간에 평등의 원칙이 지켜지고 있는지를 파악해야 한다.



모범 답안 사례는 양성평등의 원칙에 위반된다. 회계 업무는 여자에게만 가능한 업무가 아니므로 남자를 차별하고 있고, 여자 중에서 미혼이면서 몸무게가 일정 수준 이하인 여자에게만 가능한 업무인 것도 아니므로 여자 간에 차별을 하고 있다.

구분	채점 기준			
	평가 결론		평가 근거	
	양성평등 위반 지적	여자 간의 평등 위반 지적	양성평등 위반의 타당한 근거 제시	여자 간의 평등 위반의 타당한 근거 제시
상	네 가지 항목 모두를 갖추어 서술한 경우			
중	네 가지 항목 중 2~3개를 갖추어 서술한 경우			
하	네 가지 항목 중 1개만 갖추어 서술한 경우			

03 실력 향상 문제

본문 96~97쪽

1 ①	2 ⑤	3 소비	4 ①	5 ②
6 ④	7 ③	8 ②	9 ④	
10 해설 참조				

1 여가 생활의 필요성 이해

정답 찾기 ① 제시된 글에서는 근로자에게 기업이 여가 생활을 보장해 주는 것은 기업에게도 이익이 됨을 강조하고 있다. 이러한 주장은 여가 생활을 통해 근로자가 피로를 해소하고 활력을 충전하게 되면 노동의 질이 향상되어 기업의 생산성이 높아질 수 있음을 근거로 한다.

오답 피하기 ② 근로자의 여가 시간을 줄여 근로 시간을 늘리자는 주장이 아니라 여가 시간을 보장하자는 주장이다.

③ 근로자의 여가 시간을 늘릴수록 기업의 이윤이 증가한다고 주장하는 글이라기보다 적절한 여가 시간을 보장하자는 취지의 글이다.

④ 근로자가 소득보다 여가 생활을 더 중시하는지는 제시된 글을 통해 알 수 없다.

⑤ 기업의 이윤 증대 차원에서 근로자의 여가 생활을 바라보는 글이므로 기업이 손해를 감수하면서 근로자의 여가 시간을 보장하자는 주장은 아니다.

2 여가 생활 실태의 이해

정답 찾기 ㄷ. 여가 생활을 하고 있다는 응답자는 600명이다. 그 중 여가 생활에서 운동의 비중이 가장 높다고 응답한 사람이 20%로서 120명이다.

ㄹ. 여가 생활을 하고 있다는 응답자 중 문화 관람의 비중이 가장 높다고 응답한 사람은 15.5%이고, 자기 계발의 비중이 가장 높다고 응답한 사람은 3.1%이다. 따라서 문화 관람의 비중이 가장 높은 응답자 수는 자기 계발의 비중이 가장 높은 응답자 수의 5배에 해당한다.

오답 피하기 ㄱ. 응답자 중 여가 생활을 하는 사람이 60%로서 그렇지 않은 사람보다 많다.

ㄴ. 여가 생활에서 가장 비중 높은 활동을 물었으므로 TV 시청을 선택하지 않은 응답자라고 해서 TV를 시청하지 않는다고 볼 수는 없다. 따라서 TV 시청을 하지 않는 사람이 여가 생활을 하는 사람 중 과반수인지 알 수 없다.

3 여가 생활의 사회적 기능 이해

주관식 정답 찾기 여가 생활을 위해 음식을 사먹고, 특정 기구를 돈을 주고 빌려 사용하며 숙박을 위해 돈을 지불하는 행위들은 모두 여가 생활이 소비 활동을 바탕으로 함을 의미한다. 제시문은 여가 생활이 소비를 촉진하여 경기 활성화에 기여할 수 있음을 강조하고 있다.

4 여가 생활의 변화 이해

정답 찾기 ① 제시문은 산업 사회에서는 대중문화의 영향으로 사람들의 여가 생활에 획일성이 나타났지만, 정보화가 진행되면서 다양하고 차별화된 정보가 제공되어 사람들의 여가 생활이 다양해지고 있음을 지적하고 있다.

오답 피하기 ② 여가 생활 시간은 비교하고 있지 않다.

③ 여가의 금전적 가치를 높게 보는 경향이 생겼는지에 대해서는 알 수 없는 글이다.

④ 여가 선호의 경향으로 근로를 경시하는 문제가 발생했음을 지적하고 있지 않다.

⑤ 여가의 개인적 가치와 사회적 가치 중 무엇을 중시하는지에 대해서는 언급하고 있지 않다.

5 여가 생활 설계의 문제점 이해

정답 찾기 ② 갑은 지나치게 많은 시간을 여가 생활에 투입함으로써 소득 감소와 생계 곤란을 겪고 있다. 이러한 문제를 방지하기 위해서는 일과 여가의 조화를 추구하는 여가 생활 설계가 필요하다.

오답 피하기 ① 갑은 삶의 질이 갖는 중요성을 중시했으나, 소득도 삶의 질을 위해 필요하다는 점을 간과하였다.

③ 여가 활동을 통해 소득을 창출해야 하는 것은 아니다. 갑은 여가 활동을 위해 소득이 필요하다는 점을 간과했다고 볼 수 있다.

④ 자전거 타는 데 많은 시간을 투자하였으므로 갑이 흥미에 부합하지 않는 여가 활동을 선택한 것은 아니었다.

⑤ 여가 시간을 늘리기 위해서는 근로 시간을 줄여야 할 수도 있다. 갑의 문제점은 여가 시간을 늘리기 위해 근로 시간을 지나치게 많이 줄였다는 것에 있다.

6 일과 여가의 선택 문제 이해

정답 찾기 주어진 조건을 바탕으로 갑의 근로 시간별 소득, 여가의 가치, 근로와 여가의 총가치를 나타내면 표와 같다.

(단위: 만 원)

근로 시간별 소득	8	10	12	14	16	18
여가 시간별 가치	5	4	3	2	1	0
근로와 여가의 총가치	13	14	15	16	17	18

④ 여가의 가치가 시간당 3만 원이 된다면 여가 시간별 가치가 현재의 3배가 되므로 근로와 여가의 총가치는 근로 시간이 4시간일 때 23만 원, 근로 시간이 5시간일 때 22만 원, 근로 시간이 6시간일 때 21만 원……과 같이 나타난다. 따라서 근로 시간을 늘릴수록 근로와 여가의 총가치는 감소한다.

오답 피하기 ① 갑의 현재 근로와 여가의 가치를 적용하면 근로 시간이 증가할수록 근로와 여가의 총가치가 증가한다.

② 여가가 2시간에서 4시간으로 2배가 되면 근로 시간이 7시간에서 5시간으로 줄어 소득이 감소하므로 근로와 여가의 총가치가 16만 원에서 14만 원으로 감소한다.

③ 여가의 가치가 시간당 2만 원이 되면 근로 시간당 가치와 여가



시간당 가치가 2만 원으로 같아진다. 이 경우 근로 시간이 줄면서 발생하는 소득 감소액과 여가 시간이 늘면서 발생하는 가치 증가액이 같으므로 근로 시간 변동과 상관없이 근로와 여가의 총가치는 18만 원으로 일정하다.

⑤ 필요한 하루 소득이 최저 12만 원이라는 것은 6시간 이상 근로를 해야 한다는 것을 의미한다. 이때 여가의 가치가 시간당 3만 원이라면 근로 시간을 늘릴수록 근로와 여가의 총가치가 감소하므로 근로 시간을 6시간으로 결정하는 것이 합리적이다.

7 일과 여가의 가치 비교

▶ **정답 찾기** ㄴ. 음은 여가 1시간을 만듦으로써 근로 1시간으로 벌 수 있는 소득 1만 원을 포기해야 한다. 따라서 음에게 여가 1시간의 기회비용은 근로 소득 1만 원이다.

ㄷ. 갑은 여가 1시간보다 근로 1시간을 통해 벌 수 있는 1만 원의 가치가 크다고 보고 있다. 음은 근로 1시간을 통해 벌 수 있는 1만 원보다 여가 1시간의 가치가 크다고 보고 있다. 따라서 여가 1시간의 금전적 가치는 갑보다 음이 크다.

▶ **오답 피하기** ㄱ. 갑은 여가 1시간의 가치보다 1시간 근로의 가치가 크다고 보기 때문에 여가 1시간을 없어서 근로 1시간을 늘리고자 한다.

ㄹ. 갑, 음 모두 근로 1시간과 여가 1시간을 교환하고 있으므로 선택으로 인해 근로 시간과 여가 시간의 합에 변동이 없다.

8 소득과 여가 활동의 관계 이해

▶ **정답 찾기** ② 그림은 1인당 국민 소득이 일정 수준에 이를 때까지 여가 활동 시간이 급속하게 증가하다가 일정 수준 이후부터는 매우 완만하게 증가하거나 유지되는 현상을 보여 주고 있다. 이는 일정 수준 이하의 소득 구간에서 소득은 여가 활동 시간 증가에 강한 영향을 미치지만, 일정 수준 이상의 소득 구간에서 소득은 여가 활동 시간 증가에 큰 영향을 미치지 못함을 시사한다. 그런데 소득이 갖는 영향력의 정도를 떠나 그림은 여가 활동에 있어서 소득이 필요함을 보여 준다.

▶ **오답 피하기** ① 모든 소득 수준에서 1인당 국민 소득과 여가 활동 시간이 비례하는 것은 아니다.

③ 그림을 통해서 알 수 없는 진술이다.

④ 1인당 국민 소득이 일정 수준 이상이 되면 여가 활동 시간 증가 속도가 크게 둔화되는데, 이러한 현상이 여가 활동의 필요성 감소에 기인한 것인지는 알 수 없다.

⑤ 그림을 보면 일정 소득 수준 이하 구간에서 1인당 국민 소득 증가가 여가 활동 시간 증가에 강한 영향을 미치고 있다. 따라서 여가 활동 장려를 위한 경제적 지원 정책은 부유한 국가보다 가난한 국가에서 더 필요하다고 볼 수 있다.

9 여가 생활의 변화 파악

▶ **정답 찾기** ㄴ. 제시문에서는 가족 중심의 여가 활동을 통해 자녀의 일탈을 줄일 수 있다고 보고 있다. 이는 가족 중심의 여가 활동이 자녀에게 행위의 기준, 즉 규범을 교육시킬 수 있는 기회가 되기 때문이다.

ㄹ. 과거 직장 중심의 여가 활동은 음주 위주의 향락적 특성이 강했다는 점을 비판하면서 가족 중심의 여가 활동이 갖는 장점을 설명하는 글이다. 가족 중심의 여가 활동은 향락적인 활동으로 호를 가능성이 거의 없으므로 가족 중심의 여가 활동이 확산되면 여가 활동의

진전성이 높아질 수 있다.

▶ **오답 피하기** ㄱ. 제시문을 통해서 판단할 수 없는 진술이다.

ㄷ. 제시문에 명시적으로 나타나 있지는 않지만, 과거에 직장 중심의 여가 활동이 활발했다는 점을 통해 직장 중심의 여가 활동도 직장 구성원들 간에 유대감을 강화하는 효과가 있다고 추론할 수 있다.

10 여가 생활 설계의 문제점 파악

▶ **문제 분석** 고등학교 1학년 학생이라는 점, 비용 마련을 위해 지나치게 많은 아르바이트를 하고 있다는 점, 공부 소홀로 인해 자신의 진학 목표 달성에 어려움이 발생했다는 점을 고려할 필요가 있다.

▶ **모범 답안** 갑은 공부와 여가가 조화되지 않는 여가 생활을 계획하였다. 또한 갑은 학생으로서 지나치게 비용이 많이 드는 여가 생활을 계획함으로써 비용 마련을 위해 학생으로서 더 중요한 성적을 포기하는 결과가 발생하였다.

구분	채점 기준
상	학생으로서 여가와 공부의 조화, 학생의 경제적 능력과 여가 비용 간의 조화 측면에서 각각 문제점을 지적하였다.
중	학생으로서 여가와 공부의 조화, 학생의 경제적 능력과 여가 비용 간의 조화 중 한 가지 측면에서 문제점을 지적하였다.
하	여가 생활 설계로 인해 발생한 결과, 즉 지나치게 많은 시간 아르바이트를 한다거나 성적이 하락했다는 점만 지적하였다.

3. 금융 환경과 합리적 소비

01 실력 향상 문제

본문 100~101쪽

- 1 ② 2 ② 3 세계 무역 기구(WTO) 4 ⑤
5 ⑤ 6 ② 7 ② 8 ② 9 ②
10 해설 참조

1 글로벌 경제가 개인에게 미치는 영향 이해

▶ **정답 찾기** ② (가)에서는 국내 소비자의 해외 직접 구매 대상 국가가 2배로 증가한 사실을 파악할 수 있다. 이는 거리의 한계를 약화시키고 있는 정보 통신 기술의 발달과 밀접하게 관련되어 있다.

▶ **오답 피하기** ① 국내 소비자가 수입업체의 수입품을 구입하지 않고 직접 해외에서 구매하는 국가가 증가하였다. 이는 수입업체의 매출에 불리한 상황이 발생했음을 의미하므로 수입업체 수가 크게 증가하였다고 추론할 수 있는 근거가 될 수 없다.

③ 해외 제품을 직접 구매하는 현상의 증가는 국내 생산업체에게 부정적인 영향을 미칠 가능성이 크다.

④ 의류나 건강 식품, 신발 등은 모두 국내에서 구입할 수 없는 상품이 아니다.

⑤ 의류의 구매 비중이 높을 뿐 의류 구입을 위한 지출액이 가장 큰지는 알 수 없다.

2 노동력의 자유로운 이동이 미치는 영향 이해

▶ **정답 찾기** ② 세계화로 외국인 노동자의 국내 유입이 증가하고 있다. 이러한 현상은 국내 노동자의 일자리를 빼앗아 실업의 증가를 초래할 우려가 있다.

▶ **오답 피하기** ① 외국인 노동자의 유입 증가가 생산성의 하락을 초



래할 것이라고 단정할 수 없다.

- ③ 노동의 공급 증가는 임금 하락 요인이다. 따라서 임금의 급격한 상승이 나타난다고 볼 수 없다.
- ④ 저임금 외국인 노동자의 유입은 기업의 생산 비용을 줄여주는 역할을 할 수 있다.
- ⑤ 영세 기업의 경우 저임금 외국인 노동자의 고용을 통해 경영난을 줄일 수 있다.

3 글로벌 경제의 등장 요인 이해

주관식 정답 찾기 시장 개방과 자유 무역 질서의 확대를 통해 글로벌 경제화 현상의 등장에 큰 영향을 미친 국제기구를 묻고 있다. 세계 무역 기구의 설립은 경제 영역에서 세계화가 심화되는 데 많은 영향을 미쳤다.

4 글로벌 경제의 장점 이해

정답 찾기 ⑤ 자유 무역이 확대되면서 개인은 국내 생산품과 해외 생산품 중 가격과 품질을 따져 자유롭게 선택할 수 있게 되었다.

- 오답 피하기** ① 제시된 글은 소비자의 입장에서 글로벌 경제가 갖는 장점을 강조하고 있으므로 수출 시장의 확대는 답이 될 수 없다.
- ② 글로벌 경제가 노동자에게 주는 이익이다.
 - ③ 글로벌 경제가 투자자에게 주는 이익이다.
 - ④ 창업을 통해 자기 사업을 갖고자 하는 사람에게 글로벌 경제는 더 많은 기회를 제공할 수 있다. 이러한 장점은 글로벌 경제가 소비자에게 주는 장점은 아니다.

5 자본의 국제적 이동이 미치는 영향 이해

정답 찾기 ㄴ. 선진국 기업들이 개발 도상국으로 생산 공장을 이전하는 이유 중 하나는 개발 도상국의 임금 수준이 낮아 생산 비용을 줄일 수 있기 때문이다.

- ㄷ. 선진국 기업이 개발 도상국으로 진출할 경우 첨단 생산 기술도 함께 가지고 가기 때문에 기술 이전의 효과가 발생할 수 있다.
- ㄹ. 선진국 기업이 개발 도상국에서 경제 정책에 영향력을 행사하는 것은 자칫 국제 사회에서 주권 침해의 문제로 인식될 수 있다.

오답 피하기 ㄱ. 노동력이 아닌 자본의 국제 이동 현상에 해당한다.

6 글로벌 경제 시대에 유의해야 할 점 이해

정답 찾기 ② 우리 사회와 다른 문화를 가진 사회에 진출한 기업이 현지 문화를 존중하지 않는 것은 규범적으로 바람직하지 않을 뿐만 아니라 기업 활동에 지장을 초래하여 경제적으로도 손실이 발생할 수 있다.

- 오답 피하기** ① 제시문에서는 기업의 해외 진출로 인한 수익성의 문제를 설명하고 있지 않다.
- ③ 현지 문화를 존중하지 않는 것은 문화 사대주의보다 자문화 중심주의와 밀접하게 관련되어 있다.
 - ④ 다른 국가와 경제적 교류를 할 때 문화를 존중하자는 주장일 뿐 경제적 교류보다 문화적 교류를 우선시해야 한다는 주장은 아니다.
 - ⑤ 문화가 다른 국가로 진출하지 말자고 주장하는 글이 아니라 다른 문화를 존중하는 것이 해외 진출 기업의 기본 자세임을 주장하는 글이다.

7 해외 투자의 유의점 이해

정답 찾기 ㄱ. 국내 기업과 달리 해외 투자 국가나 기업에 대한 정

보는 일반 국민이 충분히 확보하기 어렵다. 따라서 해외 투자시에는 투자 대상에 대한 정보를 충분히 습득하고 분석할 필요가 있다.

ㄷ. 환율 변동은 해외 투자에 있어서 반드시 고려해야 할 변수이다. 만약 환율이 1달러당 1,000원일 때 1천만 원을 1만 달러로 바꿔 해외 주식을 구입하였다가 1만 1천 달러에 되팔았다고 가정하자. 얼핏 이익이 발생한 것 같지만 해당 기간에 환율이 1달러당 900원으로 하락했을 경우, 우리나라 돈으로 환전하면 990만 원을 받게 되므로 해외 주식 투자는 손실을 볼 수 있다.

오답 피하기 ㄴ. 해외 주식 투자가 반드시 장기간 투자해야 하는 것은 아니다. 투자 기간은 투자자의 목적과 필요에 따라 자유롭게 결정될 수 있다.

ㄹ. 해외 투자의 경우 충분한 정보를 얻기 위해 현지 방문이 필요할 수도 있다. 하지만 정보 시대에 반드시 직접 현지를 방문할 필요는 없으며, 중요한 것은 충분한 정보를 확인하고 투자하는 것이다.

8 글로벌 경제와 개인의 투자 이해

정답 찾기 ② 갑의 국내 투자 금액이 증가하였는데, 국내 투자 금액의 비중은 하락하였다. 이는 갑의 총투자 금액이 증가하였음을 의미한다. 총투자 금액이 증가하였는데 해외 투자 금액의 비중이 상승하였으므로 갑의 해외 투자 금액은 증가하였다. 을의 경우 국내 투자 금액이 증가하였는데 국내 투자 금액의 비중이 일정하다. 이는 을의 총투자 금액도 증가하였음을 의미한다. 해외 투자 금액의 비중은 일정하지만 총투자 금액이 증가하였으므로 을의 해외 투자 금액도 증가하였다.

오답 피하기 ① 2010년 갑이 을에 비해 국내 투자 금액이 차지하는 비중이 높을 뿐, 국내 투자 금액이 많은지는 알 수 없다.

- ③ 2015년에는 을보다 갑의 해외 투자 비중이 높다.
- ④ 을은 일정액을 투자하는 것이 아니라 총투자 금액을 일정 비율로 나누어 국내와 해외에 투자한다.
- ⑤ 갑과 을 모두 해외 투자 금액이 증가하였으므로 두 사람이 모두 해외 투자의 수익성이 악화되었다고 판단했을 가능성은 낮다.

9 해외 기업 유치의 장점 이해

정답 찾기 ② 을은 외국 기업의 장점을 배우는 것이 우리나라에도 도움이 될 것이라고 주장하고 있다. 따라서 선진 경영 기법의 도입은 을의 주장에 대한 근거가 될 수 있다.

오답 피하기 ① 외국 기업이 국내에 진출할 경우 일자리 창출이라는 장점이 발생할 수 있으나, 을의 주장과는 관련이 없다.

- ③ 외국 기업의 국내 진출이 증가한다고 해서 국내 기업의 수출 시장이 넓어지는 것은 아니다.
- ④ 외국 기업의 국내 진출은 우리 국민의 투자 대상을 확대시킬 수 있다. 하지만 이러한 이익은 을이 강조하는 이익과 관련이 없다.
- ⑤ 질 좋은 상품을 저렴하게 소비할 수 있는 기회의 증가는 소비자 측면의 이익이므로 을이 강조하는 기업 측면의 이익과 거리가 멀다.

10 글로벌 경제 시대의 특성 이해

문제 분석 글로벌 경제 시대에 나타나는 현상을 통해 글로벌 경제 시대의 특성을 파악하게 하는 문제이다. 중국의 경기 침체가 아시아 국가들뿐만 아니라 유럽, 미국 등 세계 각국에 강한 영향을 미치는 현상을 보여 주고 있다.

모범 답안 국가 간 상호 의존성이 강하여 지역적 위기가 세계적 위기로 급속하게 확산될 수 있다.



구분	채점 기준
상	국가 간 상호 의존성이 강하기 때문에 위기도 급속하게 확산될 수 있다는 점을 설명하였다.
중	국가 간 상호 의존성 측면에서 설명하지 못하고 위기의 급속한 확산이라는 단순 현상 기술이나 제시문의 요약 수준에 그쳤다.
하	중국에 주목하여 강대국의 영향력이 강하다는 점에 초점을 맞추어 설명하였다.

02 실력 향상 문제

본문 104~105쪽

- 1 ② 2 ③ 3 생산 요소 4 ② 5 ①
6 ③ 7 ⑤ 8 ③ 9 ②
10 해설 참조

1 가계 소득의 변동 이해

정답 찾기 ㄱ. 2014년의 전년 대비 가계 소득 증가율이 0%이다. 따라서 2013년과 2014년의 가계 소득은 같다.

ㄷ. 2014년과 2013년의 가계 소득이 같고, 2013년은 2012년에 비해 1% 증가하였다. 따라서 2014년의 가계 소득은 2012년에 비해 1% 많다.

오답 피하기 ㄴ. 2011년은 2010년에 비해 1% 많고, 2012년은 2011년에 비해 2% 많다. 2013년은 2012년에 비해 1% 많다. 단순히 보면 총 4% 증가한 것처럼 보이지만 2012년과 2013년에는 2010년 보다 큰 값을 기준으로 각각 2%, 1% 증가하였으므로 2013년의 가계 소득은 2010년에 비해 4% 넘게 증가하였다.

ㄹ. 2012년의 증가율이 가장 높을 뿐 가계 소득이 가장 많은 것은 아니다. 2013년과 2014년의 가계 소득은 2012년보다 많다.

2 가계 소득의 구성 이해

정답 찾기 ③ 갑과 을 간에 사업 소득 격차는 20만 원이고, 재산 소득 격차는 70만 원이다.

오답 피하기 ① 이전 소득은 을보다 갑이 많다.

② 갑과 을 간에 월 소득 격차는 180만 원이고, 근로 소득 격차는 110만 원이다.

④ 월 소득에서 사업 소득이 차지하는 비율은 갑의 경우 30/270이고, 을의 경우 50/450으로서 1/9로 같다.

⑤ 을의 월 소득이 갑의 월 소득보다 많지만 소비 수준을 모르기 때문에 저축을 위해 남길 수 있는 소득이 누가 많은지는 알 수 없다.

3 가계 소득의 원천 이해

주관식 정답 찾기 제시문에 소개된 사례에 노동을 제공하고 임금이라는 소득을 얻는다는 점에 착안하여 가계가 생산 요소를 제공하고 소득을 얻는다는 점을 추론할 수 있다.

4 가계 소득의 유형 이해

정답 찾기 ㄱ. 채권 이자 소득과 주식 배당금은 모두 개인이 소유한 자산을 활용하여 얻는 소득으로서 재산 소득에 해당한다.

ㄷ. 소득은 가계가 소비를 하는데 필요한 재원이 된다.

오답 피하기 ㄴ. 이자 소득이나 배당금 소득은 모두 조세 부과의 대상이 된다.

ㄹ. 재산 소득은 개인의 재산을 생산 활동을 위해 제공하고 그 대가를 받는 것이므로 생산 활동과 무관하게 무상으로 얻는 이전 소득이

아니다.

5 가계 소득에 대한 입장 이해

정답 찾기 ① 부동산 임대 소득은 노동을 하지 않고 재산을 활용하여 얻는 소득이기 때문에 불로 소득에 해당한다.

오답 피하기 ② 불로 소득이라고 해서 불법적이거나 부당한 소득인 것은 아니다.

③ 정신노동 역시 근로에 해당하므로 ㉠은 정신노동을 통해 얻는 소득이 바람직하다고 볼 것이다.

④ 불로 소득의 정당성을 인정한다고 해서 불법적이거나 탈법적인 소득의 정당성까지 인정하는 것은 아니다.

⑤ ㉠과 ㉡은 모두 근로 소득이 가치가 있음을 인정하고 있다. 다만 ㉠은 근로 소득만 가치가 있다고 보는데 비해, ㉡은 근로 소득과 불로 소득 모두 가치가 있다고 주장하고 있다.

6 비합리적인 소비의 이해

정답 찾기 ㄴ. 갑은 텔레비전 드라마를 보고 갑자기 자전거 구입을 결정하였으므로 대중 매체의 영향을 받았다. 이와 달리 을은 매장에 갔다가 디자인이 맘에 들어 갑자기 신발 구입을 결정하였으므로 대중 매체의 영향을 받아 소비를 한 것은 아니다.

ㄷ. 갑은 텔레비전 드라마를 보다가 갑자기 소비를 결정했고, 을은 특별한 고민 없이 소비를 결정한 결과 구입한 상품을 제대로 활용하지 못하는 문제에 직면하였다. 따라서 두 사람 모두 상품 구입에 앞서 정보를 수집하지 않고 상품 소비를 통해 얻을 수 있는 만족감도 고려하지 않았다는 점에서 주체적이고 합리적인 소비를 하지 않았다.

오답 피하기 ㄱ. 갑과 을 모두 충분한 정보 수집과 비교 분석 없이 갑자기 상품 구입을 결정했다는 점에서 충동 소비를 하였다.

ㄹ. 갑과 을의 소비는 모두 비합리적인 소비에 해당한다. 하지만 상품의 소비는 기업의 생산 활동을 자극하므로 두 사람의 소비가 기업의 생산 활동을 위축시키는 것은 아니다.

7 합리적인 소비의 이해

정답 찾기 ㄷ. 총만족도는 A사 제품이 6점, B사 제품이 8점, C사 제품이 7점이다. A사 제품과 C사 제품을 구입함으로써 포기하는 가장 가치가 큰 제품은 B사 제품이다. 따라서 A사 제품과 C사 제품을 구입함으로써 발생하는 각각의 기회비용은 B사 제품으로 같다.

ㄹ. 디자인을 고려하지 않을 때 총만족도는 A사 제품이 4점, B사 제품이 5점, C사 제품이 4점이다. 따라서 디자인을 고려하지 않을 때와 모든 항목을 고려할 때 갑의 합리적 선택은 B사 제품을 구입하는 것으로 같다.

오답 피하기 ㄱ. 총만족도를 구해 보면 B사 제품이 8점으로 가장 크므로 B사 제품의 구입이 합리적이다.

ㄴ. C사 제품의 가격에 대한 만족도가 가장 낮다. 따라서 C사 제품의 가격이 가장 높다고 볼 수 있다.

8 합리적인 소득 관리의 이해

정답 찾기 ③ 주어진 조건에 따라 대출 이자 비용을 구하면 600만 원이다. 따라서 이자 비용 이외에 다른 비용이 전혀 없다면 아파트 가격은 600만 원보다 많이 상승해야 아파트 매도를 통해 대출금과 이자를 모두 갚은 후 이익이 발생할 수 있다. 아파트 가격이 2억 원이므로 600만 원보다 많이 상승하려면 아파트 가격이 3%보다 높게 상승해야 한다.

오답 피하기 ① 아파트 매도 가격이 매입 가격보다 높아도 그 이



익이 대출 이자보다 작다면 손해가 발생하므로 합리적인 투자가 될 수 없다.

② 아파트 가격이 꾸준히 상승해도 대출금과 이자를 갚고 손해가 발생한다면 합리적인 투자가 될 수 없다.

④ 아파트 매도 후 원래 자산 1억 원이 감소하지 않아야 합리적인 투자가 될 수 있는 것은 아니다. 매도 후 대출금과 이자를 갚고 나서 자산이 증가해야 합리적인 투자가 될 수 있다.

⑤ 대출금 1억 원뿐만 아니라 이자까지 갚고 이익이 발생해야 합리적인 투자가 될 수 있다.

9 가계 대출 증가의 영향 이해

정답 찾기 ② 가계 대출이 증가하면 가계의 경제 활동, 즉 소비 활동이 위축될 수밖에 없고, 가계의 소비 활동이 위축되면 기업이 생산한 상품 판매가 감소할 수 있어 기업의 생산 활동도 위축될 수 있다.

오답 피하기 ① 가계 대출의 증가는 고금리가 아닌 저금리 상황에서 발생하기 쉽다.

③ 가계 부채 문제가 기업에게 미치는 영향을 고려하는 것으로 볼 때 가계 부채의 증가를 개별 가계 차원으로 인식하고 있는 것은 아니다.

④ 가계 부채 문제의 해결을 강조하고 있는 것으로 볼 때 가계 대출에 대한 정부 규제 완화의 완화를 주장한다고 볼 수 없다.

⑤ 가계의 소비가 소득을 초과해서 부채가 증가하고 있다고 주장하는 글은 아니다. 따라서 소비 금액이 항상 소득 금액을 초과해서는 안 됨을 강조하고 있는지는 알 수 없다.

10 비합리적인 소비의 이해

문제 분석 구체적인 소비의 사례를 통해 비합리적인 소비의 원인을 찾는 문제이다. 제시된 사례에서 갑의 소득과 소비 목적을 고려하면 갑의 소비가 왜 비합리적인 소비에 해당하는지 그 이유를 파악할 수 있다.

모범 답안 갑은 소득에 비해 과도한 금액의 상품을 구입하였으며, 소비를 통한 만족감보다 과시를 목적으로 하는 소비를 하였다.

구분	채점 기준
상	과소비와 과시 소비의 문제점을 모두 타당하게 지적하였다.
중	과소비와 과시 소비 중 한 가지 문제점을 타당하게 지적하였다.
하	유명 연예인이나 부유층 소비를 모방하는 소비를 하였음을 지적하였다.

03 실력 향상 문제

본문 108~109쪽

- 1 ① 2 ② 3 신용 4 ① 5 ②
6 ② 7 ⑤ 8 ② 9 ④

10 해설 참조

1 결제 수단의 이해

정답 찾기 ① 제시된 글에서는 신용 카드 결제를 거부하고 현금 결제를 유도하는 행위가 결국 정부에게 판매 수입을 정직하게 노출시키지 않기 위한 것이라는 점을 강조하고 있다. 따라서 제시된 글은 현금 결제보다 신용 카드 결제가 탈세를 방지에 기여할 수 있음을 주장하고 있다.

오답 피하기 ② 현금 결제의 불편함에 대해서는 언급하고 있지 않다.

③ 신용 카드 결제가 소비자에게 주는 이익이 아닌 투명한 조세 행정에 주는 이익을 강조하고 있다.

④ 신용 카드 결제로 인한 경제 활성화 효과에 대해서는 언급하고 있지 않다.

⑤ 현금 결제보다 신용 카드 결제가 탈세를 방지함으로써 정부의 조세 수입 증대에 기여할 수 있다는 입장이다.

2 현금과 비현금 결제 수단의 이해

정답 찾기 ㄱ. 거액 결제를 할 때 현금은 소지하기 불편하다는 단점이 있다.

ㄴ. 신용 카드로 결제하면 일반적으로 상품 구입 후 일정 기간이 지난 후 신용 카드사로부터 상품 대금이 판매자에게 지급된다.

오답 피하기 ㄴ. 비현금 결제 수단을 사용할 경우 거래 장소에서 당장 현금이 지출되지 않기 때문에 자신의 소득 수준에 둔감해질 우려가 있어 현금 결제보다 과소비를 방지하기 어렵다는 문제가 있다.

ㄷ. 직불 카드는 결제와 거의 동시에 결제자의 계좌로부터 판매자의 계좌로 대금이 이체되기 때문에 자신의 계좌에 사용 가능한 잔액이 있어야만 사용 가능하다.

3 신용의 중요성 이해

주관식 정답 찾기 비현금 결제나 은행 대출은 개인의 신용이 바탕이 될 때 사용 가능하다. 따라서 제시문에 소개된 문제들이 미래에 지불하거나 갚을 능력이 없을 때 발생한다는 점에 착안하여 신용을 추론할 필요가 있다.

4 현금 결제와 신용 카드 결제의 특징 이해

정답 찾기 ① 신용 카드 결제 금액은 일정 기간이 지난 후 카드사에 갚아야 할 돈이므로 부채에 해당한다.

오답 피하기 ② 할부로 결제한 경우 구입한 상품의 가격이 상승했다고 해서 카드사에 지급해야 할 금액이 증가하는 것은 아니다.

③ 두 사람 각자가 냉장고 구입을 통해 느끼는 만족감과 각자에게 발생한 기회비용이 얼마나 큰지 알 수 없으므로 판단할 수 없는 진술이다.

④ 한 번에 냉장고 가격을 모두 현금으로 지불한 갑이 1회에 감소하는 자산 금액이 크다.

⑤ 현금 결제와 달리 신용 카드 결제는 카드사로부터 판매자에게 상품 대금이 지급되고, 구입자가 카드사에게 결제 금액을 지급한다. 따라서 대금의 이동 과정에서 제3자가 개입하는 것은 신용 카드 결제이다.

5 직불 카드와 계좌 이체의 특징 이해

정답 찾기 ② 직불 카드와 계좌 이체는 모두 상거래에 있어서 기록을 남기기 때문에 정직하고 투명한 상거래 문화의 정착에 기여할 수 있다.

오답 피하기 ① 직불 카드와 계좌 이체 모두에 해당되지 않는 내용이다. 두 결제 수단은 결제와 함께 계좌 잔액이 결제 금액만큼 감소한다.

③ 직불 카드와 계좌 이체의 공통점으므로 (가)에 해당하는 내용이다.

④ 구매자가 직접 대금을 온라인으로 송금하는 계좌 이체와 달리 직불 카드는 구매자가 판매자의 거래 은행이나 계좌 번호를 알 필요가 없다. 직불 카드로 결제하면 금융사로부터 판매자의 계좌로 대금이 이체되기 때문이다. 따라서 (다)에 해당하는 내용이다.

⑤ 직불 카드 결제와 계좌 이체 결제의 공통점으므로 (가)에 해당하는 내용이다.



6 예금의 종류 이해

정답 찾기 ㄱ. 보통 예금은 수시로 입금하고 출금할 수 있기 때문에 일정 기간 동안 예치해야 하는 정기 예금보다 필요할 때마다 현금을 인출할 수 있다. 즉, 유동성이 높다.

ㄴ. 수시로 입금하고 출금할 수 있는 보통 예금은 은행 입장에서 수익성이 낮기 때문에 이자율이 정기 예금이나 정기 적금에 비해 낮을 수밖에 없다. 또한 예금자가 수시로 인출하여 사용하기 때문에 목돈으로 축적되기 어렵다. 이와 달리 정기 예금이나 정기 적금은 일정 기간 동안 인출하지 않을 의도로 예치하고, 만기 이전에 해지할 경우 이자가 감소하기 때문에 예금자가 해지를 회피하려고 노력하게 된다. 이러한 이유로 보통 예금보다 목돈의 운용이나 마련에 유리한 편이다.

오답 피하기 ㄴ. 한 번에 큰 금액을 예치하고 일정 기간 경과 후 원리금을 받는 것은 정기 예금이다.

ㄷ. 예금은 기본적으로 수익성보다 안전성을 중시할 때 적합한 저축 수단이다.

7 신용의 중요성 이해

정답 찾기 ⑤ 값은 부채를 줄이기 위해 대출금을 상환하고 있다. 값의 대출금 월 상환액은 소득 400만 원 중 100만 원이므로 25%에 해당한다.

오답 피하기 ① 지출액은 300만 원이고, 소득 중 월급이 300만 원이므로 지출액과 월급은 같다.

② 주식 배당금 100만 원은 재산을 주식에 투자하여 얻은 소득이므로 재산 소득에 해당한다.

③ 소득이 400만 원이고 지출이 300만 원이므로 지출하지 않고 남은 소득이 존재한다. 따라서 미래에 대비하는 저축을 안 하고 있다고 볼 수 없다.

④ 사회 보험 중에는 국민 연금이 포함된다. 따라서 노후 대비 수단에 지출을 하고 있다.

8 다양한 저축 수단의 이해

정답 찾기 ② 을은 주식을 구입하였으므로 안전성보다 수익성을 중시하는 선택을 하였다.

오답 피하기 ① 채권은 만기가 되었을 때 약정한 채권 구입 금액과 이자를 받을 수 있다.

③ 보험은 미래에 발생할 수 있는 위험에 대비하는 것을 목적으로 한다.

④ 채권과 주식은 매매를 할 수 있으므로 과거 구입 가격과 현재 판매 가격의 차이, 즉 시세 차익을 기대할 수 있다.

⑤ 채권, 주식, 보험 상품 구입은 미래의 소비를 위해 현재 소비를 하지 않고 소득을 투자하는 것이므로 현재의 소비 금액을 감소시킬 수 있다.

9 부채와 신용의 이해

정답 찾기 ㄴ. 소득 대비 부채 비율은 2011년에 50%이고, 2013년에 100%이다.

ㄷ. 제시된 기간 동안 지속적으로 소득 대비 부채 비율이 상승하는 양상이 나타나고 있다. 이러한 양상이 나타나는 개인에 대해서 금융기관이나 다른 사람들은 신용 수준을 낮출 가능성이 높다.

오답 피하기 ㄱ. 2012년 이후 전년도에 비해 부채는 매년 증가하였으나, 소득은 2013년과 2014년이 같다.

ㄴ. 부채 증가 폭이 1,000만 원으로 일정하고 기준 값에 해당하는 전년도의 부채는 2012년이 2014년보다 작으므로 전년 대비 부채 증가율은 2014년보다 2012년이 높다. 구체적으로 계산하면 전년 대비 2012년의 부채 증가율은 $(1,000만 원 / 1,000만 원) \times 100$ 으로 100%이고, 2014년의 증가율은 $(1,000만 원 / 3,000만 원) \times 100$ 으로 약 33.3%이다.

10 신용 관리의 필요성 이해

문제 분석 소득이 적은 사람이 신용 카드를 사용할 때 발생할 수 있는 문제점을 통해 신용 하락의 요인을 추론하도록 요구하고 있다.

모범 답안 신용 카드로 주로 결제할 경우 자신의 소득 수준을 객관적으로 인식하지 못하고 소득을 초과하는 소비, 즉 과소비를 할 가능성이 높아질 수 있다. 신용 카드 사용을 자주 하면 현금이 없어도 소비가 가능하기 때문에 충동 소비를 억제하지 못할 가능성이 높아질 수 있다.

구분	채점 기준
상	신용 카드 결제가 자신의 소득 수준을 간과하게 만든다는 이유를 과소비나 충동 소비와 관련시켜 타당하게 진술하였다.
중	신용 카드 결제가 과소비나 충동 소비의 문제를 유발한다는 점을 진술하였으나, 왜 그런 문제가 발생하는지 이유를 밝히지는 못하였다.
하	과소비나 충동 소비 개념을 사용하지 못하고, 그런 문제가 발생하는 이유를 설명하지 못했으며 단지 신용 카드 결제로 인해 소비가 증가한다는 점만 강조하였다.

대단원 종합 문제

본문 110~113쪽

01 ④	02 ⑤	03 생애 주기(일생 주기)	04 ③
05 ③	06 ③	07 ②	08 유동성(환금성)
09 ②	10 ③	11 ④	12 해설 참조
13 ①	14 ⑤	15 근로 기준법	16 ⑤
17 ②	18 ②	19 ④	20 해설 참조

01 인구 고령화의 이해

정답 찾기 ④ 농촌에서 인구의 고령화가 심각해짐으로써 나타나는 대표적인 문제는 노동력 부족이다.

오답 피하기 ① 총인구 중 65세 이상 인구 비율이 7% 이상 14% 미만인 사회를 고령화 사회, 14% 이상 20% 미만인 사회를 고령 사회, 20% 이상인 사회를 초고령 사회라고 한다.

② 출산율의 저하와 평균 수명의 연장은 65세 이상 인구 비율의 상승에 결정적인 영향을 미치고 있는 요인이다.

③ 산업화 과정에서 청년층이 대규모로 도시로 이동한 것은 농촌의 인구 고령화가 심각해지는 데 큰 영향을 미쳤다.

⑤ 농촌에 다양한 나라에서 들어 온 외국인 근로자들이 거주하게 되면서 농촌에서는 다문화 사회의 특성이 나타나고 있다.

02 인구 고령화의 문제점 이해

정답 찾기 ⑤ 20대를 제외하고 30대, 40대, 50대, 60대 이상 응답자 모두에서 경제적 어려움을 선택한 응답자 비율과 건강을 선택한 응답자 비율의 합이 50%를 넘는다. 따라서 20대를 제외한 전체 응답자 중 경제적 어려움을 선택한 응답자 수와 건강을 선택한 응답자 수의



합이 과반수이다.

오답 피하기 ① 30대보다 40대가 건강을 선택한 응답자 비율이 낮다. 따라서 연령대가 높을수록 건강을 선택한 응답자 비율이 높은 것은 아니다.

② 여가 시설 부족을 선택한 응답자 비율은 20대가 가장 높다. 그런데 각 연령대별 응답자 수를 모르므로 여가 시설 부족을 선택한 응답자 수가 20대에서 가장 많은지는 판단할 수 없다.

③ 외로움을 선택한 응답자 비율은 50대가 14%, 60대 이상이 10%이다. 50대와 60대 응답자 수가 같다면 50대 이상에서 외로움을 선택한 응답자 비율은 $12\%((14\%+10\%)/2)$ 이지만, 두 연령대의 응답자 수를 모르므로 50대 이상 응답자 중 외로움을 선택한 사람의 비율이 10%와 14% 사이의 값을 갖는다는 점만 알 수 있다.

④ 기타 항목을 제외할 경우 20대에서는 여가 시설 부족이 아닌 경제적 어려움을 선택한 응답자가 가장 적다.

03 생애 설계의 중요성 이해

주관식 정답 찾기 사람이 살아가면서 각 인생 단계마다 성취하거나 준비해야 할 과업이 있음을 강조하고 있는 글이다. 그 과업을 고려하여 생애를 설계하지 않을 경우 삶 전체에서 많은 문제가 발생할 수 있으므로 생애 주기를 고려한 생애 설계의 필요성을 강조하고 있음을 알 수 있다.

04 노인 부양 문제의 이해

정답 찾기 노년 부양비는 15~64세 인구 100명당 65세 이상 인구를, 노령화 지수는 0~14세 인구 100명당 65세 이상 인구를 의미한다. 예를 들어 1990년의 노년 부양비가 10이라는 것은 15~64세 인구 100명당 65세 이상 인구가 10명이라는 것을, 노령화 지수가 25이라는 것은 0~14세 인구 100명당 65세 이상 인구가 25명이라는 것을 의미한다.

ㄴ. 2000년 15~64세 인구를 100명이라고 가정하면 노년 부양비(20)를 통해 65세 이상 인구가 20명이라고 파악할 수 있다. 노령화 지수가 50이므로 0~14세 인구는 65세 이상 인구의 2배인 40명이 된다. 이를 통해 0~14세 인구 비율을 구하면 $40/(40+100+20) \times 100$ 이므로 25%가 된다.

ㄷ. 2010년에는 노령화 지수가 100이다. 이는 0~14세 인구와 65세 이상 인구가 같음을 의미한다.

오답 피하기 ㄱ. 1990년 노년 부양비가 10이다. 이는 15~64세 인구를 분모로, 65세 이상 인구를 분자로 했을 때 도출되는 값이므로 분모를 총인구로, 65세 이상 인구를 분자로 놓게 되면 그 값은 하락할 수밖에 없다. 따라서 1990년 총인구 중 65세 이상 인구의 비율은 10%보다 낮다.

ㄹ. 65세 이상 인구 1명당 15~64세 인구는 1990년에 10명($10/100=1/10$)이고, 2000년에 5명($20/100=1/5$)이므로 1990년이 2000년의 2배이다. 노년 부양비가 크다는 것은 15~64세 인구 100명에 대응하는 65세 이상 인구가 많아(65세 이상 인구 1명에 대응하는 15~64세 인구가 적어) 경제 활동 세대의 노인 부양 부담이 크다는 것을 의미한다.

05 직업 선택의 유의점 이해

정답 찾기 ③ 제시문에서는 다른 사람들의 평가에 의존하여 직업을 선택하면 자신에게 맞지 않는 직업을 고르게 되어 만족도가 낮을 수밖에 없다는 점을 지적하고 있다. 따라서 자신의 흥미와 적성을 고려하여 직업을 선택해야 함을 시사하고 있다.

오답 피하기 ① 보수와 같은 경제적 요소를 중시해야 한다는 주장은 찾아볼 수 없다.

② 다른 사람들의 평가에 의존하지 말라는 점을 강조하고 있으므로 사회적 지위를 가장 중시해야 한다는 주장은 아니다.

④ 직업을 통해 공동체에 기여해야 한다는 주장은 찾아볼 수 없다.

⑤ 직업 만족도를 높이기 위해 직업을 바꿀 수 있어야 한다는 주장이 아니라 처음부터 자신의 흥미와 적성에 맞는 직업을 선택할 것을 강조하고 있다.

06 자산 관리 수단 이해

정답 찾기 ③ (다)는 주식과 채권의 공통점이다. 두 수단은 모두 구입 당시의 가격과 판매 시점의 가격 차이를 통한 이익, 즉 시세 차익을 얻을 수 있다.

오답 피하기 ① (가)는 예금, 주식, 채권의 공통점이다. 세 가지 수단은 모두 금융 자산에 해당한다.

② (나)는 예금이 주식, 채권과 달리 가진 특징이다. 이자 소득이 발생하는 것은 예금과 채권의 공통점이다.

④ (라)는 예금과 주식의 공통점이다. 수익성은 낮으나 안전성이 높은 것은 예금의 특징이다. 주식은 수익성은 높으나 안전성이 낮은 자산에 해당한다.

⑤ (마)는 채권이 예금, 주식과 달리 가진 특징이다. 배당금을 받을 수 있는 자산 관리 수단은 주식이다.

07 재무와 자산, 부채의 이해

정답 찾기 ㄱ. 자산은 아파트 3억 원, 자동차 2천만 원, 예금 4천만 원, 주식 2천만 원, 국채 2천만 원의 합으로 4억 원이다.

ㄷ. 부동산, 예금, 주식, 국채와 같이 특성이 다른 다양한 자산 관리 수단을 활용하고 있으므로 자산 관리의 안전성을 위해 분산 투자를 하고 있다고 볼 수 있다.

오답 피하기 ㄴ. 부채는 신용 카드사에 결제할 금액 3백만 원, 은행 대출 잔액 1억 원, 친구로부터 빌린 돈 1천만 원, 자동차 할부 잔액 7백만 원의 합으로 1억 2천만 원이다. 따라서 자산 4억 원에서 부채 1억 2천만 원을 빼면 순자산이 2억 8천만 원이 된다.

ㄹ. 주식을 현재 가치로 모두 매각하면 주식 자산 2천만 원이 사라지지만, 현금 자산이 2천만 원 생기므로 자산에는 변동이 없다.

08 자산 관리 원칙 및 자산별 특징 이해

주관식 정답 찾기 대표적인 실물 자산인 부동산은 물가가 상승하면 그만큼 가치가 상승하므로 수익성이 높은 편이다. 하지만 손쉽게 거래할 수 있는 자산이 아니기 때문에 필요할 때 현금으로 바꾸는데 불편함이 있다. 제시문에서는 바로 이러한 부동산의 단점을 지적하고 있으므로 유동성 또는 환금성이 낮다는 점을 떠올릴 수 있다.

09 합리적인 자산 관리의 이해

정답 찾기 ㄱ. 예금 이자율이 3%이지만 물가가 5% 상승하였으므로 이자율의 가치는 실질적으로 3%가 되지 않는다.

ㄷ. 1년 전에는 2천만 원으로 자동차를 구입할 수 있었지만, 현재 시점에서는 그 자동차 가격이 200만 원 상승하였기 때문에 예금 이자가 더해진 2천 60만 원으로 그 자동차를 구입할 수 없다.

오답 피하기 ㄴ. 현금으로 보유했다면 물가 상승으로 인해 가치가



떨어지게 된다.

ㄴ. 모든 선택에는 기회비용이 발생한다. 1년 전에 자동차를 구입했다면 포기하는 가치 중 은행 예금의 가치(원리금 2천 60만 원)가 가장 크므로 그것이 자동차 구입의 기회비용이 된다.

10 자산 관리의 안전성과 수익성의 이해

▶ **정답 찾기** ③ 같은 B에 비해 적은 이익이지만 확실하게 이익이 보장되는 A를 선택하였으므로 수익성보다 안전성을 중시하였다.

▶ **오답 피하기** ① B보다 수익성은 낮지만 안전성이 높은 A가 예금의 특성에 가깝다.

② 어느 투자 수단의 선택이 합리적인지는 투자자의 투자 비용과 투자 수입 간의 관계, 투자에 있어서 중시하는 원칙 등에 따라 다르다.

④ 음은 '고수익 고위험'의 특성을 갖는 수단을 선택하였다.

⑤ 음의 투자 수익이 500만 원이 될 가능성은 10%이다. 따라서 갑보다 음의 실제 수익이 클 지는 단정할 수 없다. 한편 기대 이익은 확률×이익이므로 갑의 기대 이익과 음의 기대 이익은 모두 50만 원으로 같다.

11 합리적인 직업 선택의 이해

▶ **정답 찾기** ㄴ. 흥미 점수를 제외한 상태에서 점수 합은 A가 6점, B와 C는 12점이다. 따라서 B에 대한 흥미 점수가 가장 낮은 사람의 경우 C를 선택하게 되는데, A는 5점 만점을 주어도 합산 점수가 최대 11점이므로 B, C의 합산 점수보다 클 수 없고, B는 흥미 점수가 가장 낮기 때문에 합산 점수에서 C보다 클 수 없다.

ㄷ. A, B, C에 대한 흥미 점수가 같은 사람이 소득을 가장 중시한다면 합산 점수가 같은 B와 C 중에서 소득 점수가 높은 B를 선택하게 된다. A는 합산 점수가 가장 작고, 소득 점수도 가장 작기 때문에 무조건 선택에서 제외된다.

▶ **오답 피하기** ㄱ. 흥미 점수를 제외한 상태에서 점수 합이 6점이기 때문에 A에 대한 흥미 점수를 5점 만점으로 주어도 A의 합산 점수가 B, C의 합산 점수보다 작기 때문에 A에 대한 선택은 나타나지 않는다.

ㄷ. B와 C의 흥미 점수가 같은 사람의 경우 합산 점수도 같기 때문에 주어진 조건에 따르면 어느 직업을 선택할지 알 수 없게 된다.

12 창업 시 유의 사항 이해

▶ **문제 분석** 사례를 읽고 소비자들의 반응을 통해 갑이 창업에 실패한 이유가 무엇인지 파악하는 문제이다. 소비자들이 갑이 판매하는 제품에 대하여 마치 열대 지방에서의 보일러처럼 사용할 데가 없는 제품이라는 반응을 보이고 있다는 점에 주목할 필요가 있다.

▶ **모범 답안** 시장에서의 소비자의 욕구가 무엇인지에 대한 조사를 하지 않고 자신의 생각만 고려하였다.

구분	채점 기준
상	소비자 욕구에 대한 고려가 없었다는 점을 서술하였다.
중	제품의 용도를 고려하지 않았다는 점을 서술하였다.
하	시장에서 잘 팔리지 않는 제품을 생산하였다고 서술하였다.

13 기업이 정신의 이해

▶ **정답 찾기** ① 제시문에서는 불가능하다고 말만 하지 말고 도전하여 불가능해 보이는 일을 가능하게 만들어야 함을 강조하고 있다. 즉, 실패를 두려워하지 않는 도전 정신이 강조되고 있다.

▶ **오답 피하기** ② 여러 가지 사업에 많이 도전하라는 입장이 아니다.

③ 다수의 의견이 불가능하다는 입장이라고 하더라도 도전 정신을 갖고 위험을 회피하지 말아야 함을 강조하는 글이다.

④ 무조건 새로운 것을 추구하기보다 불가능해 보이는 일을 노력을 통해 개척해야 한다는 점을 강조하고 있는 글이다.

⑤ 성공 가능성을 고려하되 위험을 회피하지 않고 도전하는 정신을 강조하고 있다.

14 근로자의 권리 이해

▶ **정답 찾기** ㄷ. 16세인 음에게도 최저 임금법이 적용된다. 따라서 음은 최저 임금 이상의 임금을 요구할 권리가 있다.

ㄴ. 근로 기준법에 따르면 원칙적으로 임신부와 18세 미만인 자는 오후 10시부터 오전 6시까지의 시간과 휴일에 근로시키지 못한다. 따라서 갑과 음은 사장의 요구를 거절할 수 있다.

▶ **오답 피하기** ㄱ. 임신부의 근로가 무조건 근로 기준법에 위반되는 것은 아니다. 임신부의 휴일 근로를 강제하는 것이 근로 기준법 위반이다.

ㄴ. 미성년자는 직접 근로 계약을 체결할 수 있다. 미성년자의 근로 계약을 부모 등 보호자가 대리하는 것은 미성년자에 대한 노동 착취를 방지하기 위해 법적으로 금지되어 있다.

15 근로 조건과 관련된 법의 이해

▶ **주관식 정답 찾기** 헌법에 규정되어 있는 근로자의 권리를 구체화하여 근로자의 기본적인 생활 보장 및 향상, 균형 있는 국민 경제의 발전을 위해 제정된 법이 근로 기준법이다. 근로 조건과 근로자의 안전 및 보건을 위한 사용자의 의무 등이 규정된 법이라는 점에서 근로 기준법을 추론할 수 있다.

16 일과 여가의 조화 이해

▶ **정답 찾기** 갑이 10시간을 배분하기로 하였으므로 배분 가능한 근로 시간과 여가 시간의 조합 및 근로와 여가의 가치는 다음과 같이 나타낼 수 있다.

(단위: 만 원)

근로 시간	10	9	8	7	6	5	4	3	2	1	0
여가 시간	0	1	2	3	4	5	6	7	8	9	10
근로의 가치	20	18	16	14	12	10	8	6	4	2	0
여가의 가치	0	5	8	9	8	5	0	0	0	0	0
근로와 여가의 총가치	20	23	24	23	20	15	8	6	4	2	0

ㄷ. 근로 시간을 4시간 이하로 할 경우 여가 시간은 6시간 이상이 된다. 여가 시간이 6시간 이상이 되면 그 가치가 0원이므로 근로 시간이 4시간 이하가 되면 근로와 여가의 총가치는 근로 소득과 일치한다.

ㄴ. 10시간을 근로 시간과 여가 시간으로 배분할 경우 근로 8시간, 여가 2시간일 때 근로와 여가의 총가치가 가장 크다.

▶ **오답 피하기** ㄱ. 근로 시간이 증가해도 시간당 소득은 2만 원으로 일정하다.

ㄴ. 3시간이 될 때까지 여가의 총가치는 지속적으로 증가하지만 1시간씩 여가가 증가할 때 새롭게 추가되는 가치는 점차 감소한다. 여가 1시간에서 2시간으로 1시간 증가할 때 추가되는 가치는 3만 원이고, 여가 2시간에서 3시간으로 1시간 증가할 때 추가되는 가치는 1만 원이다.



17 글로벌 경제와 다국적 기업의 이해

정답 찾기 ② 다국적 기업은 현지 국가의 법을 준수해야 하며, 내정 간섭을 해서는 안 된다. 모든 국가는 주권을 갖고 있기 때문이다.

오답 피하기 ① 세계 무역 기구는 자유 무역과 시장 개방을 촉진하여 글로벌 경제 시대가 개막되는 데 지대한 영향을 미쳤다.

③ 다국적 기업은 현지에서 근로자를 고용하게 되므로 고용 창출에 기여할 수 있다.

④ 저임금 노동자를 확보하려고 하는 것은 생산 비용의 절약을 목적으로 하므로 ㉠ 유형에 해당한다.

⑤ 미국에 진출한 우리나라 기업은 보다 넓은 시장을 확보하고, 무역에 따른 비용을 절감하는 것을 목적으로 하므로 ㉡ 유형에 해당한다.

18 여가 생활의 기능 이해

정답 찾기 ② 제시문에서는 고립을 초래하는 여가 활동 대신 단적으로 하는 활동적인 여가 생활을 장려함으로써 협력 의식과 책임감, 서로 다름에 대한 배려와 관용 정신을 배울 수 있도록 해야 함을 강조하고 있다. 즉, 여가 활동이 사회성 함양에 기여해야 함을 강조하고 있다.

오답 피하기 ① 컴퓨터 게임을 하거나 TV를 시청하는 것이 사회 규범에 어긋나는 여가 활동인 것은 아니다.

③ 여가 활동을 위한 비용이 부족하다는 문제점을 지적하고 있지는 않다.

④ 학습 때문에 여가 활동 시간이 부족하다는 점을 지적하고 있지는 않다.

⑤ 여가 활동이 개인의 진학이나 직업 선택을 위한 수단이 되어야 한다고 주장하는 글이 아니다.

19 가계 소득과 지출의 이해

정답 찾기 ④ 갑의 소득 400만 원 중 근로 소득이 250만 원으로 가장 높은 비율을 차지한다.

오답 피하기 ① (가)는 소득이지만, (나)는 소비가 아니라 지출이다. 지출은 식료품 구입이나 교육비 지출과 같은 일반적인 생활비 지출과 세금이나 사회 보험료 지출과 같은 비소비 지출로 이루어진다. 비소비 지출은 일상생활 영위와 관련은 없으나 가계의 유지를 위해 필수적으로 나타나는 지출을 의미한다.

② 예금 이자는 자산을 예금하여 벌어들인 소득이므로 재산 소득에 해당한다.

③ 소득이 400만 원이고, 지출이 230만 원이므로 소득이 지출보다 많다.

⑤ 세금과 사회 보험료는 의무적인 지출액이다. 즉, 30만 원은 갑의 의지와 상관없이 지출해야 하므로 그 금액을 빼고 남은 금액인 370만 원이 자유롭게 사용할 수 있는 소득이다. 따라서 자유롭게 사용할 수 있는 소득 대비 생활비의 비율은 (200만 원/370만 원)×100으로서 50%를 넘는다.

20 가계 부채 증가의 문제점 이해

문제 분석 표에 나타난 일정한 경향이나 추세를 파악하고, 그것이 가계와 금융 기관, 일반 기업에게 미치는 악영향을 추론하도록 요구하고 있다.

모범 답안 가계의 경우 소비와 저축이 위축되고, 금융 기관은 대출금을 회수하지 못해 부실해질 우려가 있다. 이러한 현상이 발생하면 일반 기업은 투자 자금을 구하기 힘들어지고 상품 판매가 감소하여 생산 활동이 위축될 수밖에 없다.

수준	채점 기준		
	가계 차원	금융 기관 차원	일반 기업 차원
상	○	○	○
중	○	○	×
	○	×	○
하	×	○	○
	○	×	×
	×	○	×

* ○ : 옳은 내용으로 진술한 경우, × : 틀린 내용으로 진술한 경우

IV 환경 변화와 인간

1 과학 기술의 발달과 정보화

01 실력 향상 문제

본문 118~119쪽

- | | | | |
|-------------------------|------|------|-----------|
| 1 ④ | 2 ③ | 3 ② | 4 생태 중심주의 |
| 5 ⑤ | 6 ③ | 7 ④ | 8 ① |
| 9 (가) 생명 공학, (나) 농업 생산력 | 10 ④ | 11 ⑤ | |
| 12 기술 영향 평가 | | | |

1 과학 기술의 발달 과정

정답 찾기 ㄴ. 산업 혁명을 통해 인류는 농업 중심의 사회에서 공업 중심의 사회로 진입하게 되었다.

ㄷ. 과학 기술의 발달로 인해 업무 처리의 신속성과 효율성이 향상되어 노동 시간이 단축되고 여가 시간이 늘어났다.

오답 피하기 ㄱ. 수렵과 채집 위주의 생활은 농업 혁명 이전의 생활 모습이다.

ㄴ. 디지털 혁명으로 인한 정보화 사회에서 가장 중요한 생산 요소는 정보와 지식이다.

2 과학 기술의 발달이 인간에게 미친 영향

정답 찾기 ③ 위험 사회에서 과학 기술은 우리가 일상적으로 마주하는 다양한 위험 상황의 원인이 된다.

오답 피하기 ①, ② 올리버 벅이 처음 사용한 개념으로, 과학 기술에 대한 성찰과 반성이 없이 근대화를 이룬 현대 사회를 의미한다.

④ 위험 사회에서 우리는 일상적으로 과학 기술이 예기치 않게 가져온 위험 상황과 마주하는데, 방사능 유출, 환경 오염 등이 그 사례이다.

⑤ 과학 기술에 대한 성찰 없이 근대화가 진행됨에 따라 다양한 위험 사회의 모습이 등장하였다.



3 과학 기술의 발달이 인간에게 미친 영향

▶ **정답 찾기** ② 갑은 인간을 자연에 순응해야 하는 존재로 여기고, 자연을 두려움과 숭배의 대상으로 본다.

▶ **오답 피하기** ① 을이 자연을 바라보는 입장이다.

③, ④ 갑이 자연을 바라보는 입장이다.

⑤ 자연에 대해 합리적으로 성찰하는 것은 갑보다 을의 관점이다.

4 과학 기술을 바라보는 관점

▶ **주관식 정답 찾기** 생태 중심주의적 관점은 과학 기술에 의해 환경이 악화된다고 보았으며, 과학 기술의 발달이 자원 고갈과 환경 악화의 주된 원인이라고 본다. 또한, 인간은 자연을 구성하는 한 부분으로, 다양한 생물체는 모두 그 자체로서 존재의 의미를 가진다고 본다.

5 과학 기술의 발달이 인간에게 미친 영향

▶ **정답 찾기** ㄷ. 생명 공학의 발달은 농업 생산력을 증대하여 많은 인구를 부양할 수 있게 되었다.

ㄹ. 정보 통신 기술이 발달함에 따라 시·공간적 제약이 감소하였다.

▶ **오답 피하기** ㄱ. 인간의 대면 접촉이 감소하면서 인간 소외 등의 문제를 초래하였다.

ㄴ. 과학 기술의 발달은 물질적 풍요를 가져왔으나 자원 고갈 및 환경 오염 문제를 야기하였다.

6 과학 기술의 발달이 인간에게 미친 영향

▶ **정답 찾기** ③ 과거에는 자연을 두려움의 대상으로 여겨서 순응하였으나, 과학 기술이 발전하면서 자연을 도구로 여기게 되었다.

▶ **오답 피하기**

① 과학 기술의 발달에 따른 부작용으로 환경이 파괴되고 생태계의 안정성을 위협하게 되었다.

② 불건전한 정보의 유통은 과학 기술의 발달 과정에서 나타나는 대표적인 부작용 중의 하나이다.

④ 과학 기술의 발달은 인류에게 물질적 풍요를 가져다 주었지만 자원 고갈, 환경 오염 등의 문제를 초래하였다.

⑤ 교통의 발달로 생활권이 확대되었으나 교통량의 증가로 대기 오염과 교통사고로 인한 피해는 증가하였다.

7 산업 혁명으로 인한 변화

▶ **정답 찾기** ㄱ. 부를 축적한 산업 자본가가 등장하였고, 이로 인해 자본가와 노동자의 계급으로 분화되어 노동 문제가 발생하였다.

ㄴ. 산업화된 지역으로 인구 이동이 활발해지고 도시가 빠르게 성장하였으며, 이는 자본주의가 발전하는 데 영향을 미쳤다.

ㄷ. 산업 혁명으로 생산량이 증대되었고, 그로부터 부를 축적한 산업 자본가가 등장하였다.

▶ **오답 피하기** ㄹ. 농촌 인구가 산업화된 지역으로 이동하면서 도시가 빠르게 성장하였다.

8 과학 기술의 바람직한 활용 방안

▶ **정답 찾기** ① 제시된 글의 내용은 과학 기술의 가치 중립성을 의미한다.

▶ **오답 피하기** ②~⑤ 사회적 요구에 대한 책임을 가지고 반성적 태도로 과학 기술에 접근해야 한다는 내용은 가치 내재성을 바탕으로

로 서술한 것이다.

9 과학 기술의 발달이 인간에게 미친 영향

▶ **주관식 정답 찾기** 생명 공학의 발달은 인간의 생명을 연장했고, 농업 생산력을 증대시켜 많은 인구를 부양할 수 있게 하였다. 생명 공학 기술은 생물이 가지고 있는 고유한 기능을 개량하여 필요한 물질을 대량으로 생산해 내는 기술을 의미한다. 이로 인해 유전자 재조합 농작물(GMO)이 개발되었다.

10 기술 중심주의

▶ **정답 찾기** ㄴ. 기술 중심주의에서는 자연을 인간의 이익을 위해 이용해야 될 대상으로 보며, 이 과정에서 발생하는 환경 파괴는 어쩔 수 없는 부작용이라고 본다.

ㄹ. 환경 파괴는 기술의 진보를 통해 해결할 수 있다고 본다.

▶ **오답 피하기** ㄱ, ㄷ. 생태 중심주의적 관점이다.

11 생태 중심주의

▶ **정답 찾기** ㄷ. 인간은 자연을 구성하는 한 부분이므로, 야생 동물을 위한 생태 통로 건설은 생태 중심주의 입장의 사례에 해당한다.

ㄹ. 환경 오염 물질의 배출을 줄이기 위한 신·재생 에너지를 활용한 발전은 생태 중심주의 입장의 사례에 해당한다.

▶ **오답 피하기** ㄱ, ㄴ. 과학 기술 중심주의 입장의 사례에 해당한다.

12 과학 기술의 바람직한 활용 방안

▶ **주관식 정답 찾기** 과학 기술의 영향에 대한 반성을 통해 부정적인 측면을 최소화하기 위한 노력으로 기술 영향 평가를 실시한다. 과학 기술 주무 부처인 미래 창조 과학부가 한국과학기술 기획평가원에 위탁하여 매년 국가 및 사회에 큰 영향을 줄 수 있는 과학 기술 분야들을 선정하여 기술 영향 평가를 실시하고 있다.

02 실력 향상 문제

본문 122~123쪽

- | | | |
|-----|-----|-----------------------|
| 1 ② | 2 ① | 3 (가) 공간 정보, (나) 지도 |
| 4 ③ | 5 ③ | 6 ⑤ 7 ③ 8 ④ |
| 9 ② | | |

1 공간 정보 기술의 변화

▶ **정답 찾기** (가)는 바빌로니아 점토판 지도, (나)는 TO 지도(중세), (다)는 고대 그리스·로마 시대의 프톨레마이오스의 세계 지도, (라)는 메르카토르 세계 지도(1569년)이다. 제시된 지도를 제작 연대 순으로 옳게 배열하면 (가) - (다) - (나) - (라)이다.

2 공간 정보 기술의 변화

▶ **정답 찾기** ㄱ. (가)는 바빌로니아 점토판 지도이다. 메소포타미아 일대를 점, 선, 면으로 표현하였으며 현존하는 가장 오래된 세계 지도이다.

ㄴ. (나)는 중세 TO 지도이다. 중세 유럽은 크리스토퍼가 절대적인 권위를 가졌던 시대로 당시의 지도에는 이러한 세계관이 잘 반영되어 있다.

▶ **오답 피하기** ㄷ. (다)는 고대 그리스·로마 시대에 프톨레마이오스가 경선과 위선을 이용하여 제작한 세계 지도이다.



르. (라)는 메르카토르의 세계 지도이다. 이 지도는 바다에서 측정한 나침반의 방위각과 지도상의 방위각이 같아서 항해 방향을 제대로 파악할 수 있다는 장점이 있다.

3 공간 정보 기술

주관식 정답 찾기 공간 정보란 지구라는 공간에 존재하는 모든 사물과 현상에 대한 위치 정보 및 이와 관련된 공간 인식과 의사 결정에 도움이 되는 정보들이다. 특히 지도는 인류가 문자를 만들기 전부터 이용되었으며, 당시 사람들의 공간에 대한 인식과 지리적 세계관 및 미지의 땅에 대한 상상력 등이 집약적으로 표현된 공간 정보이다.

4 공간 정보 기술의 발전

정답 찾기 ③ 특정 시설의 최적의 입지 지역을 선정하는 것은 GIS의 중첩 기능을 통해 가능하다.

오답 피하기 ① GPS는 인공위성을 이용한 위치 정보 시스템으로 자신의 현재 위치를 파악할 수 있다.

② GPS 장치는 야외에서 자신의 위치를 파악하여 목적지까지의 경로를 검색하는 데 도움을 준다.

④ 비행기, 선박, 자동차의 자동 항법 장치를 운영하는 데 이용되고 있다.

⑤ 위급 상황이 발생하였을 때 GPS 장치가 경찰서나 소방서의 관계 시스템으로 자동 연결되어 신속한 구조 활동을 벌일 수 있다.

5 공간 정보 기술의 발전

정답 찾기 ③ 지리 정보 체계(GIS)는 인쇄물 형태로 이용하던 지리 정보를 수치화하여 필요에 따라 가공 활용할 수 있다.

오답 피하기 ① 지리 정보 체계(GIS)를 활용하면 정보의 검색 및 분석 시간이 단축된다.

② 지리 정보 체계(GIS)의 초기 자료 구축 과정은 어렵고 많은 비용이 든다.

④ 기술 수준, 비용 등을 고려할 때 개발 도상국보다는 선진국에서보다 폭넓게 사용되고 있다.

⑤ 지도의 중첩으로 다양한 자료를 비교하여 최적의 입지 장소를 선정할 수 있다.

6 공간 정보 기술의 양면성

정답 찾기 ⑤ 휴대 전화 실시간 위치 추적은 사생활의 비밀, 일반적인 행동의 자유, 인격권 등을 침해하고 명확성의 원칙, 영장주의 원칙 등에 반하고, 수사권이 남용될 여지가 크다고 지적을 받고 있다. 이는 공간 정보 기술의 부정적인 영향에 해당한다.

7 공간 정보 기술의 양면성

정답 찾기 나. (나)는 휴대 전화 위치 추적을 이용하여 생명을 구한 사례이다. 위급한 상황에 처한 경우 개인 정보 및 위치를 활용하여 생명을 구할 수 있다.

ㄷ. 위치 추적 기술의 남용을 막아 인간의 기본권이 침해되지 않도록 필요한 경우에만 활용해야 한다.

오답 피하기 ㄱ. 공간 정보 기술은 일반인의 영역에도 자리 잡고 있으며, 유사시에는 이를 통해 생명을 구하는 등 긍정적인 영향도 있다.

르. 개인 정보 및 위치 정보의 전면적인 공개는 사생활의 침해 및 행

동 자유의 침해 위험이 크다.

8 공간 정보 기술의 발전

정답 찾기 ④ 재난, 재해 관리 분야에서 재난이 발생했을 때 피해를 최소화하는 데 도움을 준다.

오답 피하기 ①, ③ 도시 계획 및 관리 분야에서 활용되는 공간 기술 정보이다.

②, ⑤ 농업 분야에서 활용되는 공간 기술 정보이다.

9 최적의 입지 선정

정답 찾기 ② (나)는 구역 내 학교 수가 3개이며, 소음 수준은 30dB, 도로와의 거리가 2km이므로 제시된 조건에 적합하다.

오답 피하기 ① 소음 수준이 50dB 이므로 부적합하다.

③ 소음 수준이 50dB 이므로 부적합하다.

④ 구역 내 학교가 1개이므로 부적합하다.

⑤ 도로와의 거리가 3km를 초과하므로 부적합하다.

03 실력 향상 문제

본문 126~127쪽

- | | | | |
|-----|-----------|---------|--------|
| 1 ④ | 2 ⑤ | 3 스마트워크 | 4 ① |
| 5 ① | 6 감시와 통제 | 7 ② | 8 파놉티콘 |
| 9 ② | 10 지식 재산권 | 11 ① | |

1 정보화로 인한 삶의 변화

정답 찾기 나. 스마트폰의 등장으로 SNS를 통해 개인의 의견이나 정보를 쉽게 공유할 수 있어 시·공간적 제약이 크게 줄어들었다.

르. (나)는 (가)보다 소식이 전달되는 범위가 매우 넓으며, 물리적 제약이 거의 없다.

오답 피하기 ㄱ. (나)에 대한 설명이다.

ㄷ. (나)는 (가)에 비해 쌍방향 소통이 수월하다.

2 정보화 사회의 특징

정답 찾기 ⑤ 정보의 제공자와 수용자가 고정되지 않았으며, 쌍방향 소통이 가능하다.

오답 피하기 ① 정보화 사회에서는 정보와 지식이 정치, 경제, 사회, 문화 등 인간 생활 전반에 영향을 미친다.

② 인터넷을 이용하여 쇼핑이나 은행 업무, 과제를 해결하는 등 일상생활의 편리함이 증가하였다.

③ 컴퓨터와 스마트폰, 인터넷 등의 발달로 비대면 접촉의 기회가 증가하고 재택근무가 활성화되는 등 공간 활용에 있어서도 큰 변화가 나타났다.

④ 소셜 네트워크 서비스(SNS)를 통해 선거 운동을 하고 정치적 의견을 표출할 수 있다.

3 정보화에 따른 일상생활의 변화

주관식 정답 찾기 정보화는 사회생활의 여러 영역에서 정보 통신 기술을 활용하는 과정을 의미한다. 정보화로 인해 경제 활동 영역이 확장되어 인터넷을 이용한 전자 상거래가 활성화되고, 재택근무를 비롯한 스마트워크가 확대되어 사람들은 좀 더 다양한 환경에서 효율적으로 일할 수 있게 되었다.



4 정보화로 인한 삶의 변화

정답 찾기 ㄱ. 유비쿼터스 도시는 정보 기술과 도시 기반 시설을 이용하여 도시의 주요 기능을 통합적으로 관리하고 주민에게 도시 서비스를 제공한다.

ㄴ. 유비쿼터스 환경을 통해 일상생활에서도 손쉽게 공간 정보를 접할 수 있다.

오답 피하기 ㄷ. 유비쿼터스 환경이 구축되면 개인의 사생활 및 위치 정보는 노출될 위험이 있다.

ㄹ. 통신망의 발달을 통한 유비쿼터스 환경에서는 대면 접촉이 감소한다.

5 정보화로 인한 삶의 변화

정답 찾기 ㄱ. 전자 상거래가 발달하면 택배 및 물류, 창고업이 함께 활성화된다.

ㄴ. 전자 상거래는 매장을 통한 거래 방식에 비해 상품의 도달 범위가 넓다.

오답 피하기 ㄷ. 생산자와 소비자 사이에 직거래가 가능하므로, 상품의 유통 단계는 단순해질 것이다.

ㄹ. 상점 입지의 물리적 제약이 감소하며, 무점포 거래가 가능하다.

6 정보화 사회의 문제점

주관식 정답 찾기 개인 정보 수집, 위성·휴대 전화 등의 위치 추적 기술, CCTV, 전자 주민 카드 등은 권력 기관에 의해 감시 또는 통제 수단으로 악용될 수 있다.

7 정보화 사회의 문제점

정답 찾기 ㄱ. 사이버 폭력은 정확한 원인을 밝혀내기 어렵고 인터넷을 통해 확산되기 때문에 피해 범위가 넓다.

ㄷ. 사이버 폭력의 대표적인 사례로는 인터넷 게시판에서의 악성 댓글이나 채팅 중에 발생하는 언어폭력 등이 있다.

오답 피하기 ㄴ. 정보 격차에 대한 설명이다.

ㄹ. 정보화 사회가 되면 상품의 유통 단계가 단순해지고 상점 입지의 물리적 제약이 감소한다.

8 정보화 사회의 문제점

주관식 정답 찾기 파놉티콘은 ‘모두 다 본다.’라는 뜻으로, 1791년 영국의 철학자 벤담이 죄수를 효과적으로 감시하기 위해 고안한 감옥이다. 이 감옥은 원형 공간의 중앙에 죄수가 안을 들여다 볼 수 없는 높은 감시탑을 세우고, 중앙 감시탑 바깥의 원 둘레를 따라서 죄수들의 방이 훤히 보이도록 설계되었다.

9 정보화 사회의 문제점

정답 찾기 ② 지나치게 인터넷에 의존한 나머지 일상생활에 지장을 받게 되는 인터넷 중독이 발생할 수 있다.

오답 피하기 ① 정보에 접근할 수 있는 제도, 환경의 차이 등으로 인해 계층·지역 간 정보 격차가 야기될 수 있다.

③ 사이버 폭력은 정보 통신망을 통해 타인의 명예나 권익을 침해하는 행위를 의미한다.

④ 개인 정보 수집, 위성·휴대 전화 등의 위치 추적 기술, CCTV, 전자 주민 카드 등은 권력 기관에 의해 감시 또는 통제 수단으로 악용될 수 있다.

⑤ 사이버 상의 개인 정보가 전산망을 통해 다른 사람에게 공개되어

개인의 사생활이 침해될 수 있다.

10 정보화 사회의 문제점

주관식 정답 찾기 정보에 대한 지식 재산권의 보호가 점차 중요해지고 있다. 지식 재산권이란 지적 창작물에 부여된 특허권, 저작권 등의 권리를 말한다. 다른 사람의 글이나 사진, 영상물과 같은 저작물을 허락 없이 사용하면 그 사람의 권리를 침해하게 되므로, 올바른 절차를 거쳐 사용해야 한다.

11 정보화 사회의 문제점

정답 찾기 ① 정보에 접근할 수 있는 제도와 환경의 차이가 정보의 계층 간, 지역 간 격차를 불러 올 수 있다. 정보 격차는 사회의 양극화로 이어질 수 있으므로 소외 지역 및 계층에 대한 정보화 교육, 정보 기기 지원 등이 필요하다.

오답 피하기 ② 감시와 통제 문제는 기업 및 정부에 대한 감시망 구축으로 해결을 모색할 수 있다.

③ 사이버 폭력은 사이버 예절 교육 강화를 통해 해결을 모색할 수 있다.

④ 인터넷 중독은 올바른 인터넷 습관 확립 교육 및 캠페인으로 해결을 모색할 수 있다.

⑤ 개인 정보 유출 문제는 개인 정보의 중요성 인식 교육을 통해 해결책을 모색할 수 있다.

2. 공간 변화와 대응

01 실력 향상 문제

본문 130~131쪽

1 ②	2 ②	3 (가) 축소, (나) 확대	
4 ①	5 ①	6 ④	7 ③
8 해설참조	9 ⑤	10 ④	11 빨대 효과

1 교통·통신의 발달에 따른 공간 인식 변화

정답 찾기 ㄱ. 교통·통신의 발달은 시간·거리의 축소를 가져와 생활 공간을 확대시켰다.

ㄷ. 다른 지역으로의 이동이 쉬워져 교역이 증가하였다.

오답 피하기 ㄴ. 다른 지역과의 교류가 증가하면서 지역 문화의 고유성은 감소한다.

ㄹ. 교통·통신의 발달로 인해 시간 거리와 비용 거리가 감소한다.

2 교통·통신의 발달에 따른 인간 생활의 변화

정답 찾기 갑. 교통과 통신이 발달하면 지역 간의 접근성이 높아진다.

병. 교통과 통신의 발달로 생활 공간이 확대되었고, 시간 거리가 단축되면서 대도시의 통근권과 상권이 확대되었다.

오답 피하기 을. 교통 및 통신 기술의 발달로 지역 간의 관계는 긴밀해지고 상호 의존성이 심화된다.

정. 지역 간의 교류가 활발해지므로 지역 내에서 생산된 제품에 대한 의존도가 낮아진다.



3 교통·통신의 발달로 인한 공간 인식의 변화

주관식 정답 찾기 교통 및 통신의 발달은 공간의 확대와 시간 거리의 축소를 가져와 인간 삶의 공간을 확대시켰다. 시간 거리란, 같은 거리를 가는 데 걸리는 시간으로 교통수단이 발달할수록 시간 거리는 단축된다. 산업 혁명 이후 증기 기관이 발명되면서 육상 교통과 해상 교통이 발달하였고, 이로 인해 인간의 공간 인식이 확대되었다.

4 교통·통신의 발달에 따른 인간 생활의 변화

정답 찾기 ㄱ. 고속 철도의 개통으로 서울과 부산 간의 시간 거리는 단축되었다.

ㄴ. 고속 철도의 개통으로 시간 거리가 단축되어 서울-부산 간의 교류는 크게 확대되었다.

오답 피하기 ㄷ. 고속 철도의 등장으로 국내 항공 교통의 여객 수송 분담률은 감소하였다.

ㄹ. 도로 교통의 여객 수송 분담률은 2004년에 15.3%, 2010년에 16.5%를 나타내므로 감소하였다고 보기 어렵다.

5 교통·통신의 발달에 따른 인간 생활의 변화

정답 찾기 ㉠ 고속 철도의 등장으로 인한 속도 혁명은 전국 주요 대도시를 2시간 내에 연결할 수 있도록 하였다. 고속 철도를 활용한 교류는 전 구간에서 증가할 것으로 예상된다.

㉡ 고속 철도의 등장으로 지역 간 교류가 활발해지고, 정치·지역 주위의 상권은 활성화된다.

오답 피하기 ㉢ 고속 철도가 정착하는 지역의 인구가 모두 증가할 것이라고 판단하기는 어렵다. 교통이 편리해지면 작은 도시의 인구가 큰 도시로 빠져나갈 가능성도 높다.

㉣ 고속 철도는 주로 여객을 운송하는 수단이므로 고속 철도의 개통이 제조업 발달에 큰 영향을 미치기는 어렵다.

6 교통·통신의 발달에 따른 인간 생활의 변화

정답 찾기 ㄱ. (가) 시기에는 도시의 규모가 작고 원형을 띤다. 도보·우마차 시대이므로 도시의 규모가 작다.

ㄴ. (나) 시기에는 철도 교통이 발달하여 철로를 따라 별 모양으로 도시가 확장된다.

ㄷ. (라) 시기에는 광역 고속 교통망이 형성되고 이를 따라 대도시권이 넓어지게 된다.

오답 피하기 ㄸ. (다) 시기에는 자동차 교통이 발달하면서 전차 궤도의 사이가 메워지고, 부도심이 발달하는 등 도시가 다핵화된다.

7 교통·통신의 발달에 따른 인간 생활의 변화

정답 찾기 ③ 대도시의 규모 확장에 따른 대도시권의 확대를 의미하므로 이를 통해 촌락 거주 인구의 비중 증가를 설명할 수 없다.

오답 피하기 ① 도시의 규모가 커지면 주거, 상업, 공업 지역 등으로 도시 내의 기능 지역이 분화된다.

② 도시의 규모가 커지면서 도시 외곽으로 거주지가 확대된다.

④ 교통수단의 발달로 인해 도시 간 시간 거리가 줄어든다.

⑤ 교통수단의 발달로 도시의 규모가 확대되고, 통근권과 통학권이 광역화된다.

8 교통·통신의 발달에 따른 생태 환경의 변화

주관식 정답 찾기 교통수단의 증가는 대기 오염과 소음 등의 환경 문제를 유발하기도 한다. 자동차 배기가스는 공기를 오염시키고 생물종에 해를 끼치며, 교통수단의 소음 또한 동물의 번식과 식물의

성장에 영향을 줄 수 있다. 최근 환경 기술을 개발하여 부정적인 영향을 최소화하고자 노력을 기울이고 있다. 그 예로 소음이나 진동을 줄이기 위한 환경 친화적인 도로를 건설하고, 자동차 배기가스를 줄이기 위한 저감 장치의 부작을 의무화하고 있다.

9 교통·통신의 발달에 따른 생태 환경의 변화

정답 찾기 ⑤ 교통수단의 증가로 인한 소음은 동물의 번식과 식물의 성장에 악영향을 끼친다.

오답 피하기 ① 교통수단의 증가는 도로와 철도 건설로 이어지며, 이로 인해 산림 훼손과 녹지 면적의 감소를 가져왔다.

② 녹지 면적의 감소와 산림 훼손으로 인해 야생 동물의 서식지가 감소한다.

③ 교통수단의 증가로 인해 대기 오염과 소음 등의 환경 문제가 증가한다.

④ 교통수단의 발달로 인해 질병의 지역 간 이동이 활발해져 통제하기 어려워진다.

10 교통·통신의 발달에 따른 인간 생활의 변화

정답 찾기 ④ 교통이 발달해도 중추 관리 기능은 부산에 존재한다.

오답 피하기 ① 2010년 부산-거제를 연결하는 거가 대교가 완공되어 부산과 주변 지역 간의 교통이 편리해지면서 통근권이 확대된다.

② 교통이 편리해져 일상생활권이 확대된다.

③ 교통이 편리해지면 부산과 거제 간의 교류는 증가한다.

⑤ 부산과 주변 지역 간의 접근성이 높아지고, 상호 교류가 활발해진다.

11 고속 교통로의 개통으로 인한 변화

주관식 정답 찾기 고속 도로나 고속 철도와 같이 고속 교통로가 개통되면 컵의 음료를 빨대로 빨아들이듯 대도시가 주변 중소 도시의 인구나 경제력을 흡수하는 현상이 나타난다. 빨대 효과는 고속 도로나 고속 철도 개통에 따른 부작용 중 하나로 거론된다.

02 실력 향상 문제

본문 134~135쪽

- | | | |
|------|-------------------|--------------------|
| 1 ① | 2 ④ | 3 (가) 도시화, (나) 산업화 |
| 4 ④ | 5 ② | 6 ② |
| 7 ④ | 8 개발 제한 구역(그린 벨트) | 9 ⑤ |
| 10 ④ | 11 세종특별자치시 | |

1 도시화·산업화에 따른 변화

정답 찾기 ① 공장의 기계화로 인해 소품종 대량 생산이 가능해졌다.

오답 피하기 ② 기계화, 자동화, 표준화로 인해 이전 시기에 비해 소비의 다양화가 이루어졌다.

③ 식량 생산이 증가하고, 의학 기술의 발달로 세계 인구가 폭발적으로 증가하였다.

④ 업무 처리가 자동화되고, 근로자의 노동 생산성이 향상되어 여가 시간이 증가하였다.

⑤ 소득의 증대와 여가 시간의 증가로 관광 및 스포츠 활동이 활성화되고, 이와 관련된 서비스업이 발달하게 되었다.



2 도시화·산업화에 따른 변화

정답 찾기 ㄱ. 생산에 종사하는 인간을 기계의 부속품처럼 취급하여 노동에서 얻는 만족감이나 성취감이 약화되었다.

ㄴ. 사회가 전체적으로 풍요로워졌지만 소수에게 부가 집중되는 빈부 격차 현상이 나타나게 되었다.

ㄷ. 산업화 과정에서 석탄, 석유 등의 화석 연료가 주요 동력원으로 이용되면서 자원 고갈과 환경 오염 문제가 심각해지고 있다.

오답 피하기 ㄴ. 산업화로 야기되는 다양한 문제는 단순히 개인적인 불행을 넘어서 사회 안정을 저해하는 불안 요소로 작용할 수 있다.

3 도시화와 산업화의 의미

주관식 정답 찾기 도시화란 도시 인구 비율이 증가하고 주민의 생활 양식이 도시적으로 변화하는 것을 말한다. 전통 농업 사회에서는 넓은 평야를 중심으로 흩어져 살았기 때문에 특정 지역에 인구가 집중되지 않았다. 산업화란 분업화, 기계화 등과 함께 농업 중심의 사회가 공업 중심의 사회로 변모하는 현상이다. 산업 혁명으로 2, 3차 산업이 발달하면서 사람들의 생활 양식이 크게 변화하였고, 도시는 급격하게 성장하였다.

4 지역(대륙)별 도시화를 변화

정답 찾기 ④ 유럽 및 앵글로아메리카 등 선진국이 많이 분포하는 지역(대륙)에서 도시화가 먼저 시작되었다.

오답 피하기 ① 현재 아프리카에서 도시화율이 가장 낮다.

② 앵글로아메리카는 1950년부터 2050년(추정)에 이르는 기간 동안 도시화율이 가장 높다.

③ 1990년대 이후 라틴 아메리카의 도시화율은 유럽보다 높게 나타난다.

⑤ 아프리카의 도시화 곡선은 유럽보다 기울기가 급하므로 빠르게 진행되고 있음을 알 수 있다.

5 도시화·산업화로 인한 거주 공간의 변화

정답 찾기 ㄱ. 고기 잡고 감자 심던 삼포에 공사판이 벌어지고 신작로가 들어서면서 녹지 면적이 감소하였을 것이다.

ㄴ. 삼포가 빠르게 변하면서 외지에서 유입되는 인구가 늘어나게 되면 공동체 의식은 약화된다. 글에서 노인은 사람이 많아지는 것에 대해 번고라는 표현을 사용하면서 걱정하는 모습을 살펴볼 수 있다.

오답 피하기 ㄴ. 사람이 많아진다는 표현을 통해 유출 인구보다 유입 인구가 더 많다는 것을 알 수 있다. 전체 인구는 증가하고 있다.

ㄷ. 인구가 증가하게 되면 상업 기능은 발달하게 된다.

6 도시화·산업화에 따른 거주 공간의 변화

정답 찾기 ② ㉠-2, 3차 산업은 비교적 좁은 공간에서 집약적으로 이루어지므로, 도시는 자연환경보다 사회 경제적 환경의 영향을 크게 받는다.

오답 피하기 ① ㉠-농업을 중심으로 하는 1차 산업은 토지를 기반으로 이루어진다.

③ ㉠-평지와 낮은 산이 주거지나 산업 단지, 업무 지구로 바뀌면서 시가지의 면적이 넓어진다.

④ ㉠-제한된 공간을 효율적으로 사용하기 위하여 고층 건물이 들어서게 되는 등 집약적인 토지 이용이 이루어진다.

⑤ ㉠-산업화가 진행되면서 도시 공간은 상업 지역, 주거 지역, 서비스 기능 지역 등 다양한 기능을 담당하는 지역으로 분화된다.

7 도시화·산업화에 따른 거주 공간의 변화

정답 찾기 왼쪽 사진은 산업화와 도시화가 진행되기 이전의 안산을 보여 주는 것으로 어선들이 정박해 있는 포구의 경관이다. 당시에는 어업을 비롯한 농업 등 1차 산업의 비중이 높았고 인구 밀도가 비교적 낮았던 지역이었다. 오른쪽 사진은 넓게 조성된 공원과 그 뒤 쪽으로 고층 아파트 단지의 경관이 나타난다.

④ 임야와 농경지, 간석지 등이 줄어들면서 연안 지역의 생태 환경이 개선되었다고 보기는 어려우므로 생태 자원은 감소했을 것으로 판단된다.

오답 피하기 ① 인구가 늘어나고 2, 3차 산업이 발달하면서 도시화가 진행되었다.

② 인구 유입에 따라 인구가 크게 늘어났다.

③ 고층 빌딩과 아파트 등이 들어서면서 토지 이용의 집약도는 높아졌다.

⑤ 과거에 비해 2, 3차 산업에 종사하는 사람들의 비중이 크게 증가하였다.

8 도시화와 산업화에 따른 공간 변화

주관식 정답 찾기 개발 제한 구역(그린 벨트)은 도시의 시가지 팽창을 억제하고 도시 주변 지역의 개발 행위를 제한하고자 설치된 녹지대를 말한다. 대체로 개발 제한 구역은 도시 주변 지역을 띠 모양으로 둘러싸고 있는데, 도시로의 인구 집중 억제, 녹지대 형성, 상수원 보호, 무질서한 개발 방지 등을 목표로 한다.

9 도시화·산업화에 따른 삶의 방식 변화

정답 찾기 ㄴ. 산업 단지 내에는 고층 건물이 들어서면서 이전보다 집약적 토지 이용이 이루어진다.

ㄷ. 구로 공업 단지에는 1970년대 섬유, 봉제, 가발 등의 경공업과 전기, 전자 공업이 분포하였다. 현재는 첨단 지식 정보 산업 시설이 밀집한 가산 디지털 단지로 변모했다. 따라서 기술 개발을 위한 연구 인력이 모여든다.

오답 피하기 ㄱ. 기술 집약적 산업으로 변모하면서 사업체당 종사자 수는 감소하였다.

ㄴ. 과거 노동 집약적 산업에서 현재 기술 집약적 산업으로 변모하였다.

10 도시화·산업화에 따른 삶의 방식 변화

정답 찾기 ㄴ. 도시화에 따른 거주 공간의 변화는 여러 가지 부작용을 낳기도 하며, 이를 최소화하고자 다양한 노력을 기울이고 있다. 건물의 옥상에 녹지 공간을 조성한 옥상 공원으로 도시의 미관을 살릴 수 있다.

ㄷ. 녹지 공간 확보를 위해 조성된 옥상 공원으로 인해 상대 습도가 높아진다.

오답 피하기 ㄱ. 옥상 공원을 조성하여 여름철 냉방비를 줄일 수 있다.

ㄴ. 도시 녹화로 도시 내 열섬 현상의 발생 횟수가 감소할 것이다.

11 도시화와 산업화에 따른 지역의 변화

주관식 정답 찾기 세종특별자치시는 옛 충청남도 연기군 전체와 공주시 일부, 충청북도 청원군 일부를 포함하여 2012년 7월 1일에 출범하였다. 행정 기능을 중심으로 교육, 문화, 복지 등의 기능이 어우러진 복합 도시로, 지역 균형 발전과 수도권 인구 분산의 중심축이 될 것이라는 기대를 받고 있다. 지리적으로 수도권과 인접해



있고, 주요 고속 도로 및 KTX와의 접근성이 우수하므로 지방과 수도권권을 잇는 교통의 중심지 역할을 할 것으로 기대된다.

03 실력 향상 문제

본문 138~139쪽

- | | | |
|-----|-----|------------------------|
| 1 ③ | 2 ④ | 3 (가) 파급 효과, (나) 역류 효과 |
| 4 ① | 5 ② | 6 ③ 7 ② 8 ⑤ |
| 9 ⑤ | | |

1 지역 개발 방식

정답 찾기 ③ (가)는 경제 성장의 극대화를 추구하고, (나)는 경제적 형평성을 추구한다.

오답 피하기 ① (가)는 성장 거점 개발 방식, (나)는 균형 개발 방식이다.

② (가)는 중앙 정부가 주체가 되며, (나)는 주민 및 지방 정부가 주체가 된다.

④ (가)의 장점은 단기간에 개발의 효과가 나타나고, 자원의 효율적 투자가 가능하다는 것이다. (나)의 장점은 지역 주민의 의사가 잘 반영된다는 점이다.

⑤ (가)의 단점은 지역 격차가 심화되고, (나)의 단점은 지역 이기주의가 발생하거나 자원의 효율적 배분이 어렵다는 점이다.

2 성장 거점 개발 방식

정답 찾기 ㄴ. 성장 잠재력이 큰 지역에 우선 투자하여 효율성을 극대화한다.

ㄷ. 경제 발전의 수준이 낮은 개발 도상국에서 주로 채택하는 지역 개발 방식이다.

오답 피하기 ㄱ. (가)는 성장 거점 개발 방식으로 성장 잠재력이 큰 지역에 우선 투자하므로 효율성을 추구한다.

ㄴ. 우리나라에서는 1970년대에 주로 시행하던 방식이다.

3 성장 거점 개발 방식의 특징

주관식 정답 찾기 성장 거점 개발 방식의 목표는 개발 거점의 성장이 주변 지역에 자원 생산과 기술 발달을 촉진하여 주변 지역의 산업을 발전시키는 파급 효과를 유도하는 것이다. 그러나 성장 거점이 발전함에 따라 주변 지역의 인구와 자본이 거점으로 집중하면서 오히려 주변 지역의 발전이 저해되는 역류 효과가 나타나기도 한다.

4 지역 개발 방식의 사례

정답 찾기 ① ㉠은 원료의 수입과 제품의 수출에 유리한 입지 조건을 갖춘 곳이다.

오답 피하기 ② ㉡은 중앙 정부가 주체가 된 하향식 개발 방식이다.

③ ㉢은 성장 거점 개발 방식을 의미하며, 자원이 집중적으로 투자된다.

④ ㉣은 비교적 낙후된 지역으로 균형 개발 방식에 의해 투자되는 지역이다.

⑤ ㉤은 지역 주민 및 지방 정부가 주체가 된 상향식 개발 방식에 해당한다.

5 지역 개발 방식

정답 찾기 ② 효율성은 성장 거점 개발 방식에서, 높은 친환경 수

준은 균형 개발 방식에서 기대하는 효과이다.

오답 피하기 ① 형평성은 균형 개발 방식, 효율성은 성장 거점 개발 방식에서 높게 나타난다.

③ 파급 효과와 역류 효과 모두 성장 거점 개발 방식과 관계가 깊다.

④ 주민 참여도와 형평성은 모두 균형 개발 방식에서 높게 나타난다.

⑤ 친환경 수준과 주민 참여도는 모두 균형 개발 방식에서 높게 나타난다.

6 지역 개발 방식의 사례

정답 찾기 ㄴ. (가)의 갯벌은 오염 물질의 정화 기능을 유지할 수 있어서, 개발보다 보전에 더 큰 가치를 둔다.

ㄷ. (나)의 간척지는 경제적 효율성이 강조되며, 환경 보전보다 개발을 추구한다.

오답 피하기 ㄱ. (나)에 대한 설명이다.

ㄷ. (나)에 간척지가 조성되면 인공 호수가 형성되지만, 많은 어패류를 채취할 수 있는 것은 갯벌이다.

7 지역 개발과 환경 보전을 둘러싼 입장

정답 찾기 ㄱ. 갑은 기술 중심주의 관점으로 과학 기술에 대한 신뢰와 경제 성장론에 근거를 둔다.

ㄷ. 을은 생태 중심주의 관점으로 자연과 인간이 조화를 이루는 동등한 위치에 있다고 본다.

오답 피하기 ㄴ. 갑은 환경 보전보다 환경의 효율적 관리를 통한 환경 문제의 해결을 강조하는 점이 특징이다.

ㄷ. 자원의 고갈 문제를 기술 개발을 통해 해결할 수 있다고 보는 것은 갑의 관점이다.

8 지역 개발을 둘러싼 갈등 해결

정답 찾기 ㄷ. 쓰레기 소각장은 대표적인 혐오 시설로 자기 지역에 입지하는 것을 기피하게 된다. 이는 남비 현상과 관련이 있는 시설이다.

ㄷ. 인접한 지역에서 공동 분담하여 설치하므로 개별적으로 건설하는 경우에 비해 경제적 이익을 얻게 되었다.

오답 피하기 ㄱ. 지방 정부 간의 협조를 통해 갈등을 해결하게 되었다.

ㄴ. 남비 현상의 갈등 해결 사례에 해당한다.

9 지역 개발을 둘러싼 갈등 해결

정답 찾기 ⑤ 지역 개발을 둘러싼 갈등의 경우 조정 기구 및 조정 능력이 부족할 경우 갈등이 심화되기도 한다.

오답 피하기 ① (가)는 남비 현상, (나)는 뽀뽀 현상이다.

② (나)에 대한 설명이다.

③ (가)에 대한 설명이다.

④ (가), (나)는 당사자의 합의와 이해로 해결하는 것이 좋다.



3. 세계화와 상호 의존

01 실력 향상 문제

본문 142~143쪽

- 1 ④ 2 ③ 3 ② 4 다국적 기업
5 ④ 6 ③ 7 ③ 8 ②
9 해설 참조 10 ① 11 ⑤

1 세계화 현상의 이해

- 정답 찾기** 나. 세계화로 인해 국가 간 교역 규모는 증가하게 된다.
르. 세계화로 인해 소비자는 더욱 다양한 재화를 선택할 수 있게 된다.
오답 피하기 가. 세계화로 인하여 다른 문화와의 접촉 기회는 확대된다.
다. 교통수단의 발달로 국가 간 공간적 거리는 축소된다.

2 자유 무역의 확대

- 정답 찾기** 나, 다. 제시문의 빈칸에 들어갈 단어는 세계 무역 기구(WTO)이다. WTO의 출범 이후 자유 무역이 더욱 확대되고 있다.
오답 피하기 가. 외국과의 교류 기회는 더욱 증가하게 된다.
르. 노동과 자본으로 교역의 대상이 확대되고 있다.

3 자유 무역 협정의 이해

- 정답 찾기** ② 자유 무역 협정(FTA)은 협정을 체결한 당사국 간 자유 무역을 추구하는 협정으로, 우리나라는 미국을 비롯한 세계 여러 나라들과 현재 자유 무역 협정을 체결하였다.

4 다국적 기업의 이해

- 주관식 정답 찾기** 다국적 기업은 재화 및 서비스의 생산 및 판매가 어느 특정한 국가에 국한된 것이 아니라 전 세계적으로 이뤄지는 기업을 의미한다.

5 통신 기술의 발달

- 정답 찾기** ④ 제시된 사례는 통신 기술의 발달을 보여 주고 있다. 통신 기술이 발달함에 따라 해외 지구와 같은 방식으로 국가 간 재화의 이동은 더욱 증가하고 있다.
오답 피하기 ① 교통과 통신 기술의 발달은 세계화를 촉진하고 있다.
②, ③ 교통과 통신 기술을 통해 국경을 넘어 소통이 활성화되며 시공간의 제약을 극복하고 있다.
⑤ 교통의 발달과 다른 나라와의 통신을 통해 다양한 문화 체험의 기회가 증가하게 된다.

6 세계화의 영향

- 정답 찾기** ③ 과거와 달리 오늘날에는 국산 자동차뿐만 아니라 수입 자동차 또한 소비의 대상이 되고 있다. 즉, 소비자의 선택의 폭이 넓어지고 있다.
오답 피하기 ① 선진국의 기술 이전 여부는 확인할 수 없다.
② 다국적 기업의 활동은 제시문에 나타나 있지 않다.
④ 새로운 문화가 형성되었음은 제시문에 나타나 있지 않다.
⑤ 생산 요소의 이동 또한 제시문에 나타나 있지 않다.

7 생산 요소의 이동

- 정답 찾기** 나. 외국인 근로자는 생산 요소 중 노동에 해당한다. 외

국인 노동자의 증가 현상은 생산 요소의 국가 간 이동을 보여 주고 있다.

다. 외국인 근로자가 증가하는 과정에서 다양한 문화의 접촉 기회가 증가하게 된다.

오답 피하기 가. 지역 경제 공동체에 대한 설명은 제시되어 있지 않다.

르. 외국인 근로자들은 자기들만의 문화를 유지하고 있다.

8 세계화의 영향

정답 찾기 ② 기업들이 국내 수요에 비해 훨씬 많은 재화를 생산할 수 있는 이유는 수출이 가능하기 때문이다. 즉, 세계화로 인하여 국내 기업의 판매 시장이 확대되고 있다.

오답 피하기 ①, ③, ④, ⑤ 세계화의 영향에 해당하나, 제시문과 관련이 없다.

9 문화적 측면의 세계화

문제 분석 제시문은 우리나라의 문화가 하나의 상품으로 교역되고 있음을 보여 주고 있다. 이러한 현상은 교통 및 정보·통신 기술의 발달, 국가 간 자유 무역의 확대, 교역 대상의 확대 등 다양한 요인으로 인하여 나타나고 있다.

모범 답안 교통과 통신 기술이 발달함에 따라 그리고 교역의 대상이 재화에서 문화 등으로 확대됨에 따라 제시문과 같은 한류 현상 나타나게 되었다.

구분	채점 기준
상	제시된 현상의 배경을 두 가지 제시한 경우
중	제시된 현상의 배경을 한 가지 제시한 경우
하	제시된 현상의 배경을 서술하지 못한 경우

10 문화적 측면의 세계화

정답 찾기 가. 지역 고유의 영화 산업이 붕괴되고 있다는 점에서 문화적 다양성이 약화되고 있음을 알 수 있다.

나. 문화적 다양성의 약화는 세계 문화가 획일화될 가능성이 커지고 있음을 의미한다.

오답 피하기 다. 타 문화와의 갈등은 제시문에 나타나 있지 않다.
르. 문화 교류 과정에서 문화 융합으로 제3의 문화가 등장할 수 있으나, 제시문과는 관련이 없다.

11 경제적 측면의 세계화

정답 찾기 다, 르. 인터넷의 발달로 인하여 소비자가 직접 해외에서 물건을 구매하는 등 소비자의 선택의 폭이 넓어지고 있다. 즉, 세계화가 더욱 촉진되고 있다.

오답 피하기 가. 소비자가 직접 재화를 수입함에 따라 기업 간의 경쟁은 더욱 심화되고 있다.

02 실력 향상 문제

본문 146~147쪽

- 1 ⑤ 2 ④ 3 ② 4 ① 5 ⑤
6 ③ 7 ② 8 농산물 원산지 표시 제도
9 ③ 10 ⑤

1 국제 거래의 의미

정답 찾기 ⑤ 세계화로 인하여 국가 간 재화가 이동함에 따라 소비자의 상품 선택의 폭이 확대되고 있다.



- 오답 피하기** ② 문화 다양성의 약화 여부를 확인할 수 없다.
 ③ 생산 요소의 이동이 아닌 생산물의 이동에 해당한다.
 ④ 재화가 이동하는 가운데 문화 요소 간의 접촉이 확대될 수 있다.

2 국제 거래의 원인

정답 찾기 ㄴ, ㄷ. 커피 생산이 어려운 자연환경으로 인하여 우리나라는 커피를 수입하고 있다. 즉, 국가마다 상대적으로 효율적으로 생산할 수 있는 재화가 다르기에 우리는 커피를 수입하는 것이다.

오답 피하기 ㄱ. 일반적으로 기술 수준의 차이로 인해 국제 거래가 발생한다. 그러나 기술 수준에 대해서는 제시문에 나타나 있지 않다.

ㄷ. 자연환경의 차이로 국가마다 생산비가 다르다. 우리나라의 경우 커피 생산비가 높아서 국내 생산이 이루어지지 않고 있다.

3 국제 거래의 특징

정답 찾기 ② 과거에는 재화가 주된 거래 대상이었으나, 오늘날에는 재화뿐만 아니라 영화와 음악과 같은 문화 서비스로 교역 대상이 확대되고 있다. 또한 오늘날에는 자본, 노동과 같은 생산 요소의 교역도 증가하고 있다.

4 무역 의존도의 의미 이해

정답 찾기 ㄱ. 무역 의존도가 높아지고 있다는 점에서 다른 나라와의 교역이 증가하고 있음을 알 수 있다. 즉, 다른 나라와의 상호 의존성이 높아지고 있는 것이다.

ㄴ. GDP가 증가하고 있으며, GDP에서 수출입 총액이 차지하는 비율 또한 증가하고 있다. 따라서 국제 거래의 규모는 증가하고 있는 것이다.

오답 피하기 ㄷ. 다른 나라와의 상호 의존성이 높아짐에 따라 국제 경기가 국내에 미치는 영향력이 커지게 된다.

ㄷ. 국내로 유입되는 외국인 근로자 수의 변화는 확인할 수 없다.

5 국제 거래의 장점

정답 찾기 ⑤ 국제 거래의 과정에서 해외 기업들과 경쟁을 하는 가운데 혁신이 촉발되어 기술과 품질이 더욱 발전하고 있다.

오답 피하기 ① 기업의 생산 비용 감소 여부는 제시되어 있지 않다.

② 분업과 특화의 여부는 제시되어 있지 않다.

③ 국내 경제 전반의 활성화 여부는 제시되어 있지 않다.

④ 제시문은 품질의 향상에 대해 설명하고 있으며, 판매 시장의 확대 여부는 제시되어 있지 않다.

6 교역의 필요성

정답 찾기 ③ 갑국은 자동차 생산에 을국은 쌀 생산에 특화하였다. 즉, 갑국은 을국에 비해 자동차를, 을국은 갑국에 비해 쌀을 잘 생산하는 것이다.

오답 피하기 ① 기술 및 자연환경의 차이가 나타나고 있다.

②, ⑤ 특화한 이후 자동차와 쌀의 전체적인 생산량은 기존에 비하여 많다. 즉, 전체적인 소비 가능량은 증가하게 된다.

④ 전체적인 생산량이 증가하였기에 교역을 통해 거래의 이익이 발생할 수 있다.

7 교역의 필요성

정답 찾기 특화한 이후 갑국은 자동차 100대, 을국은 쌀 100포대

를 생산하고 있다. 1:1의 교역 조건으로 자동차 50대와 쌀 50포대를 교역할 경우 갑국은 특화 이전에 비하여 쌀 25포대를, 을국은 교역 이전에 비하여 자동차 40대를 더 소비할 수 있게 된다.

8 농산물 원산지 표시 제도

주관식 정답 찾기 외국 농산물을 국산으로 속여 판매하는 불공정 거래가 증가함에 따라 농산물 원산지 표시 제도가 도입되었다.

9 국제 거래의 장점

정답 찾기 ㄴ. 수출이 증가할 경우 국내 총생산의 증가로 국민 경제가 성장하게 된다.

ㄷ. 제시문의 빈칸에는 국제 거래의 장점이 들어가야 한다. 국제 거래를 통해 기업이 성장할 경우 일자리가 창출될 수 있다.

오답 피하기 ㄱ. 국제 거래가 확대될 경우 소비자의 상품 선택의 폭은 넓어지게 된다.

ㄷ. 교역을 통해 값싼 원자재를 수입하게 될 경우 기업의 생산 비용은 낮아지게 된다.

10 국제 거래의 이해

정답 찾기 ⑤ 국제 거래의 과정에서 선진국의 기술이 개발 도상국으로 이전될 수 있으나, 제시된 사례와는 관련이 없다.

오답 피하기 ① 전통적으로 재화가 교역의 대상이었으나 문화로 대상이 확대되고 있음을 알 수 있다.

② 복제가 용이한 문화 서비스의 경우 지식 재산권에 대한 보호 장치가 요구된다.

③ 문화의 교역 과정에서 문화 체험의 기회가 증가할 것이다.

④ 문화의 교역 과정에서 자연스럽게 문화가 다른 지역으로 전파될 것이다.

03 실력 향상 문제

본문 150~151쪽

- | | | | |
|---------|------|------|---------|
| 1 ② | 2 ① | 3 ③ | 4 ③ |
| 5 해설 참조 | 6 ③ | 7 ② | 8 해설 참조 |
| 9 ④ | 10 ③ | 11 ⑤ | |

1 외국인의 국내 투자의 이해

정답 찾기 ㄱ. 주식을 매입하는 방식의 투자는 간접 투자에 해당한다.

ㄷ. 단기적 투자에 그칠 경우 외국 투자 자본의 국내 시장 이탈로 주가 및 환율에 영향을 미치게 된다.

오답 피하기 ㄴ. 생산 활동에 직접 참여하는 방식은 직접 투자이다.

ㄷ. 직접 투자는 생산 시설을 직접 설립하는 방식의 투자이다.

2 외국인의 국내 투자의 이해

정답 찾기 ㄱ. (가)는 생산 시설을 건립한다는 점에서 직접 투자, (나)는 주식을 매입한다는 점에서 간접 투자에 해당한다.

ㄴ. 직접 투자와 간접 투자 모두 기업의 생산 증대로 이어질 수 있다.

오답 피하기 ㄷ. 생산 활동에 직접 참여하는 경우는 (가)이다.

ㄷ. (가)와 달리 (나)는 국내 주식 시장에 직접적으로 영향을 미칠 수 있다.

3 외국인의 국내 투자의 영향

정답 찾기 ③ 외국 기업이 국내 기업을 인수한 후 되파는 과정에



서 매매 차익을 거두었다. 즉, 우리나라의 자본이 매매 차익의 형태로 해외로 유출된 것이다.

오답 피하기 ①, ⑤ 외국 자본의 국내 유입으로 주식 시장이 활성화될 수 있으나, 이탈할 경우 주식 가격이 크게 하락할 수 있다. 제시된 내용과는 관련이 없다.

② 외국인의 국내 투자의 장점이다.

④ 외국인의 국내 투자의 단점이다.

4 외국인의 국내 투자의 장점

정답 찾기 ③ 대화의 빈칸에는 외국인의 국내 투자의 장점이 적절하다. 외국인의 국내 투자로 인하여 경쟁력이 약한 국내 기업이 쇠퇴하게 될 경우 실업이 증가하는 등의 문제가 발생할 수 있다. 이는 단점에 해당한다.

오답 피하기 ①, ②, ④, ⑤ 외국인의 국내 투자의 장점에 해당한다.

5 외국인의 국내 투자의 단점

문제 분석 국내로 유입된 외국 자본이 단기적 시세 차익을 남기고 본국으로 돌아갈 경우 금융 시장에 부정적 영향을 미치게 된다.

모범 답안 투기 자금이 주식 시장에서 수익을 올린 후 주식을 대규모로 매각할 경우 주식 가격이 급락할 수 있으며, 본국으로 돌아가기 위해 투자 자금을 외화로 환전할 경우 환율이 급등할 수 있다.

구분	채점 기준
상	환율 및 주식 가격의 측면에서 영향을 서술한 경우
중	두 가지 중 한 가지 측면에서만 서술한 경우
하	두 가지 측면 모두 서술하지 못한 경우

6 환율 변화의 이해

정답 찾기 ㄴ. 환율의 상승은 원화 가치의 하락을 의미한다.

ㄷ. 원화 가치의 하락은 달러화 가치의 상승을 의미한다.

오답 피하기 ㄱ, ㄹ. 외국 화폐 한 단위와 교환되는 우리나라 화폐의 양이 증가하는 경우를 환율 상승이라 한다.

7 환율 변화의 영향

정답 찾기 ② 원/달러 환율이 상승하게 될 경우 우리나라가 미국에 수출하는 상품의 달러화 표시 가격은 하락하게 되며, 이에 따라 대미 수출이 증가하게 된다. 반면, 미국산 수입품의 달러화 표시 가격은 그대로이나 원화 표시 가격은 상승하게 된다. 이로 인해 대미 수입은 감소하게 된다.

8 환율 변화의 영향

문제 분석 환율이 상승할 경우 수입품의 원화 표시 가격이 상승하고, 원자재 가격의 상승으로 물가는 상승하게 된다.

모범 답안 환율이 상승할 경우 수입품의 가격은 상승하게 된다. 수입 원자재 가격 또한 상승하게 되며, 이는 기업의 생산 비용 증가로 이어져 기업이 생산하는 재화 및 서비스의 가격이 상승하게 된다. 따라서 물가 또한 상승하게 된다.

구분	채점 기준
상	수입품과 수입 원자재 두 가지 측면에서 영향을 서술한 경우
중	두 가지 중 한 가지 측면에서만 서술한 경우
하	두 가지 측면 모두 서술하지 못한 경우

9 환율의 결정

정답 찾기 ㄴ. 우리 기업의 수출이 증가할 경우 수출 대금으로 받

아온 외화를 국내 외환 시장에서 원화로 교환하려 할 것이다.

ㄷ. 외국인 관광객이 관광을 위해서 국내 외환 시장에서 외화를 원화로 교환하려 할 것이다.

오답 피하기 ㄱ. 투기 자금이 해외로 이탈하기 위해서는 원화로 투자한 자금을 외화로 교환해야 한다. 즉, 외화의 수요가 증가하게 된다.

ㄴ. 수입을 하기 위해서는 수입 대금으로 외화를 지불해야 한다. 즉, 수입 증가는 외화에 대한 수요 증가로 이어진다.

10 환율 변동의 영향

정답 찾기 ㄴ. 달러화로 표시된 부채는 달러화로 상환해야 한다. 원/달러 환율이 하락할 경우 달러화로 표시된 부채 상환을 위해 필요한 원화가 감소하기 때문에 부담이 줄어들게 된다.

ㄷ. 원/달러 환율이 하락할 경우 대미 수출 기업의 실적이 악화될 수 있다. 밑줄 친 ㉠은 원/달러 환율 하락을 의미한다. 원/달러 환율이 하락할 경우 미국으로 유학을 간 자녀를 둔 가정의 교육비 부담이 감소하게 된다.

오답 피하기 ㄱ. 미국 여행 경비는 달러화로 지불한다. 원/달러 환율이 하락하면 동일한 달러화를 마련하기 위해 필요한 원화가 감소하게 된다. 즉, 미국 여행 경비 부담이 줄게 된다.

ㄷ. 원/달러 환율 하락 추이가 지속될 경우 달러화를 원화로 환전해야 하는 기업의 경우 환전하는 시기를 늦출수록 손해를 보게 된다.

11 환율 변동의 영향

정답 찾기 ㄷ. 수출 기업의 경우 수출하는 재화의 외화 표시 가격이 하락하기에 환율 상승이 유리하다.

ㄷ. 환율이 상승할 경우 국내로 여행오는 미국인은 동일한 달러를 가지고 더 많은 원화로 교환할 수 있기에 유리하다.

오답 피하기 ㄱ. 미국 대학에서 유학하기 위해서는 달러를 환전해야 한다. 환율이 상승할 경우, 일정한 액수의 달러를 환전하기 위해서는 더 많은 원화가 필요하기에 유리하지 않다.

ㄴ. 수입하는 재화의 원화 표시 가격은 상승하기에 수입하는 기업은 유리하지 않다.

04 실력 향상 문제

본문 153쪽

- | | | | |
|-----|---------|------------|-----|
| 1 ④ | 2 ④ | 3 자유 무역 협정 | 4 ④ |
| 5 ⑤ | 6 해설 참조 | | |

1 상호 의존성 심화의 영향

정답 찾기 ④ 빈칸에는 국가 간 상호 의존성이 심화됨에 따른 부정적 영향이 들어가야 한다. 환경 오염과 같은 전 지구적 문제에 대해 국제적 협력이 이뤄지는 것은 긍정적 영향에 해당한다.

오답 피하기 ①, ②, ③, ⑤는 국가 간 상호 의존성 심화에 따른 부정적 영향에 해당한다.

2 지역 간 상호 의존성의 심화

정답 찾기 ④ ASEAN과 NAFTA는 모두 지역 경제 공동체의 사례에 해당한다. 즉, 지리적으로 인접한 국가 간의 상호 의존성이 심화되고 있음을 보여 준다.

오답 피하기 ① 전 세계적이 아닌 지역적으로 자유 무역이 확대되고 있다.

③ 개별 국가 간 자유 무역에 대한 협약은 자유 무역 협정이다.

⑤ 지역 경제 공동체는 무역 장벽을 완화하고자 한다.



3 자유 무역 협정의 이해

주관식 정답 찾기 협정 당사국 사이에서 자유 무역을 추구하고자 맺는 협정은 자유 무역 협정이다. 지역 경제 공동체는 회원국 간의 자유 무역을 추구한다는 점에서 자유 무역 협정과 차이가 있다.

4 위기의 세계화

정답 찾기 ④ 국가 간 상호 의존성이 심화됨에 따라 한 국가에서 발생한 경제 위기가 다른 국가나 지역으로 전파되고 있다.

오답 피하기 ① 무역 의존도가 높아질수록 국가 간 상호 의존성은 심화된다.

② 제시문과 직접적 관련이 없다.

③ 국가 간 생산 요소의 이동은 더욱 확대되고 있다.

⑤ 무역 장벽이 낮아짐에 따라 국가 간 상호 의존성은 더욱 심화되고 있다.

5 세계화에 대한 반대

정답 찾기 ⑤ 국가 간 상호 의존성이 심화되는 과정에서 부정적 영향이 나타남에 따라 세계화를 반대하는 사람들도 나타나고 있다. 국제기구, 다국적 기업 등의 역할이 증대됨에 따라 개별 국가의 자율성이 약화되고 있는 상황은 세계화에 따른 부정적 영향 중 하나이다.

오답 피하기 ①, ②, ③, ④ 모두 세계화에 따른 부정적 영향에 해당한다.

6 자유 무역 협정의 장단점

문제 분석 자유 무역 협정에 대한 찬성과 반대의 입장은 세계화의 장점과 단점으로 설명 가능하다.

모범 답안 자유 무역 협정이 확대될 경우 국가 간 교역이 확대되어 국가 경제가 성장할 수 있다. 그러나 국가 간 자유 무역이 확대되는 과정에서 경쟁력이 약한 국내 기업이 도태될 경우, 실업 증가 등의 문제가 발생할 수 있다.

구분	채점 기준
상	찬성과 반대의 입장을 하나씩 서술한 경우
중	두 가지 중 한 가지만 서술한 경우
하	두 가지 모두 서술하지 못한 경우

대단원 종합 문제

본문 154~157쪽

01 ③	02 ④	03 해설 참조	04 ⑤	05 ⑤
06 해설 참조	07 ③	08 해설 참조	09 ③	10 ④
11 해설 참조	12 ④	13 ①	14 ⑤	15 ②
16 ③	17 ⑤	18 해설 참조	19 ⑤	20 ①
21 ②				

01 과학 기술의 발달이 인간 생활에 미친 영향

정답 찾기 3대 기술 혁명은 농업 혁명, 산업 혁명, 정보 혁명이다. 수렵과 채집 활동을 하며 이동 생활을 하던 인류는 농업 혁명을 통해 정착 생활을 시작하였다. 이후 18세기에 증기 기관이 발명되면서 산업 혁명이 나타났고, 농업 사회가 산업 사회로 전환되었다. 20세

기에 들어와 컴퓨터의 발명과 인터넷의 발달로 정보 혁명이 이루어지면서 정보 사회가 도래되었다.

을. 18세기 이후 증기 기관의 발명과 함께 산업 혁명이 나타났다.

병. 산업 혁명으로 인해 농업 사회가 산업 사회로 전환되었다.

오답 피하기 갑. 농업 혁명을 통해 비로소 정착 생활을 시작하였다.

정. 과학 기술의 발달로 만들어진 수많은 도구와 기계들은 노동 시간을 줄이고, 여가 시간을 늘리는 역할을 하였다.

02 과학 기술의 바람직한 활용

정답 찾기 과학 기술은 사실 판단의 영역이지 가치 판단의 영역에 속하는 것이 아니라고 보는 입장은 과학 기술의 가치 중립성을 의미한다. 반면 과학 기술은 사회적 요구로부터 자유롭지 못하므로 과학자의 반성적 사고와 가치 판단이 필요하다고 보는 것이 과학 기술의 가치 내재성을 의미한다.

④ 과학 연구는 사회적 요구로부터 자유롭지 못하다.

오답 피하기 ① 과학 연구에서는 과학자의 선입견을 배제하기 어렵다.

② 사실 판단의 영역에 속한다고 보는 가치 중립성은 실험 과정에서는 타당할 수 있다.

③ 과학 기술의 활용에 대해서는 과학자의 사회적 책임이 필요하다.

⑤ 현재 또는 미래에 발생할 수 있는 부작용에 대한 반성적 태도가 필요하다.

03 과학 기술의 바람직한 활용 방안

모범 답안 우선 과학 기술을 통해 이루고자 하는 우리 사회의 모습을 생각하고, 과학 기술이 가져올 다양한 영향에 대해 예측해야 한다. 또한 과학 기술과 관련된 의사 결정 과정에서 시민의 의견이 반영되도록 해야 한다.

구분	채점 기준
상	밀줄 친 부분 세 가지를 정확히 서술한 경우
중	밀줄 친 부분 중 두 가지를 정확히 서술한 경우
하	밀줄 친 부분 중 한 가지를 정확히 서술한 경우

04 공간 정보 기술의 변화

정답 찾기 선사·고대 시대에는 기호로 공간 정보를 나타내다가 경·위선으로 공간 정보를 표현하는 수준에 이르게 되었다. 중세 유럽은 크리스티교가 절대적인 권위를 가졌던 시대로, 당시 지도에는 이러한 세계관이 잘 반영되어 있다.

근·현대에는 망원경 등이 발명되어 공간 인식의 지평을 넓혔으며, 항공기와 인공위성 등을 이용한 원격 탐사는 어떤 곳이든 정확한 위치와 공간 정보를 실시간으로 제공해 주고 있다.

ㄷ. 중세 유럽에서는 크리스티교의 절대적인 권위가 지도에 반영되어 있었다.

ㄹ. 항공기와 인공위성 등은 깊은 산이나 바다 한가운데, 황량한 사막 등 어떤 곳에서든 정확한 위치와 공간 정보를 실시간으로 제공해 준다.

오답 피하기 ㄱ. 이미 선사·고대 시대에 축적의 개념이 반영된 세계 지도가 제작되었다.

ㄴ. 고대 시대에는 지도가 제작되기는 하였으나 전 세계의 지리 정보를 상세하게 담지는 못했다.



05 공간 정보 기술이 인간 생활에 미친 영향

정답 찾기 “휴대 전화 실시간 위치 추적을 허가한 통신 비밀 보호법이 기본권을 침해하고 있다.”라는 내용의 헌법 소원이 제기되었으며, 이들은 헌법 소원 심판 청구서에서 “휴대 전화 실시간 위치 추적은 엄격한 허가 요건이 필요함에도 통신 사실 확인 자료 규정을 활용해 자료를 제공받는 것이므로 명백히 위헌”이라고 주장하고 있다.

ㄷ. 실시간 위치 추적은 사생활의 비밀, 일반적 행동의 자유를 침해한다.

ㄹ. 현재로서는 모든 범죄가 위치 추적의 대상이 될 수 있고 수사권이 남용될 여지가 크다.

오답 피하기 ㄱ. 인터넷 중독은 사용자가 지나치게 인터넷에 의존한 나머지 일상생활에 지장을 받게 되는 상태를 의미한다.

ㄴ. 사이버 폭력은 정보 통신망에서 부호, 글, 소리, 화상 등을 이용하여 타인의 명예나 권익을 침해하는 행위를 말한다.

06 공간 정보 기술의 발달이 일상생활에 미친 영향

문제 분석 제시된 그림은 위치 정보 시스템(GPS)을 활용하여 버스 도착 시간을 안내하거나 주변 지역을 검색하는 것을 보여 준다. 위치 정보 시스템(GPS)은 인공위성이 정해진 지구 궤도를 돌며 GPS 수신기로 신호를 보내 위치를 알려주는 기술이다.

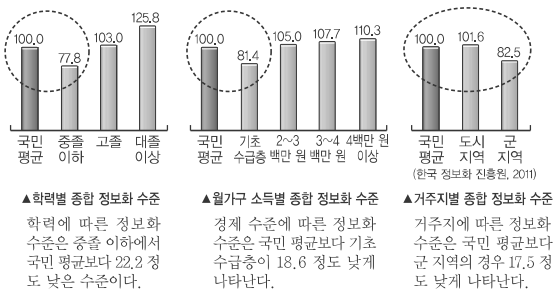
모범 답안 (1) 위치 정보 시스템(GPS)

(2) 위치 정보 시스템으로부터 수신된 정보를 일상생활에서 편리하게 활용할 수 있다. 휴대 전화 등에 내재된 지도에서 본인의 위치를 쉽게 파악할 수 있고, 길을 잃거나 조난을 당했을 경우 자신의 위치를 정확하게 알려줄 수도 있다. 그러나 개인의 행동 반경이 특정 개인이나 집단에 노출되는 등 사생활 침해 문제가 발생하기도 하며, 내비게이션과 같은 공간 정보 기술에 대한 맹목적 의존은 사람들의 공간 인지 능력이나 길 찾기 능력을 저하시키기도 한다.

구분	채점 기준
상	(1)번 문항의 위치 정보 시스템, (2)번 문항의 긍정적인 면과 부정적인 면을 모두 정확히 서술한 경우
중	(1)번 문항의 위치 정보 시스템을 정확히 쓰고, (2)번 문항의 긍정적인 면 또는 부정적인 면 한 가지를 정확히 서술한 경우
하	(1)번 문항의 위치 정보 시스템을 정확히 쓰고, (2)번 문항의 긍정적인 면과 부정적인 면을 모두 정확하게 서술하지 못한 경우

07 정보 사회의 문제점과 해결 방안

자료 분석



정답 찾기

ㄴ. 기초 수급층은 정보화 수준이 81.4로 국민 평균(100)보다 정보화 수준이 낮게 나타난다.

ㄹ. 학력과 소득이 높을수록 정보화 수준이 높게 나타나고 학력과 소득이 낮을수록 정보화 수준이 낮게 나타나고 있다.

오답 피하기 ㄱ. 학력별 정보 격차가 경제적 수준에 따른 정보 격차보다 크다.

ㄷ. 거주지별 정보 격차는 학력별 정보 격차보다 작게 나타난다.

08 교통 발달로 인한 인간 생활의 변화

모범 답안 새롭게 교통로가 만들어지면서 상대적으로 교통 조건이 불리해진 기존의 교통로 주변 지역이나 교통 발달의 혜택에서 소외된 지역의 경우에는 지역의 경제가 쇠퇴하기도 한다.

구분	채점 기준
상	교통 발달과 지역 경제의 관계를 관련지어 논리적으로 서술한 경우
하	교통 발달과 지역 경제의 관계를 명확하게 표현하지 못한 경우

09 교통의 발달과 인간 생활의 변화

정답 찾기 제시된 지도는 케냐에서 꽃을 수출하는 나라를 보여 준다. 유럽 연합(EU) 국가들에 꽃을 가장 많이 수출하는 나라는 적도에 위치한 아프리카의 케냐이다. 수도 나이로비 근처의 고원은 장미를 키우기에 기후가 적당하며, 나이바샤 호수의 풍부한 물을 이용할 수 있다. 아프리카에 정착한 유럽인이 소규모로 시작한 화훼 농업은 항공 교통의 발달로 수출을 할 수 있게 되면서 빠르게 성장하였다. 케냐는 현재 유럽 연합이 수입하는 꽃의 3분의 1을 공급하고 있으며, 케냐 경제에서 화훼 농업이 차지하는 비중은 20%가 넘는다.

을. 항공 교통의 발달로 수출 지역이 확대되었다.

병. 케냐의 저렴한 노동력을 바탕으로 화훼 농업은 다른 농작물을 재배하는 것에 비해 상대적으로 고부가 가치를 창출하고 있다.

오답 피하기 갑. 유럽에서도 꽃을 생산할 수 있다.

정. 자유 무역이 확대되면서 무역의 장벽이 해소되어 국가 간 교역이 활발해졌다.

10 도시화와 산업화에 따른 거주 공간의 변화

정답 찾기 (가)는 촌락, (나)는 도시의 경관이다. 촌락에는 토지를 기반으로 하는 1차 산업의 비중이 높으며, 인구 밀도가 낮고, 고층 건물의 비율이 낮다. 반면 도시에는 2, 3차 산업의 비중이 높으며, 인구 밀도가 높고, 시가지의 면적이 넓게 나타난다.

ㄴ. 도시는 고층 건물의 밀도가 높고, 좁은 면적을 효율적으로 이용하기 위해 집약적 토지 이용이 이루어진다.

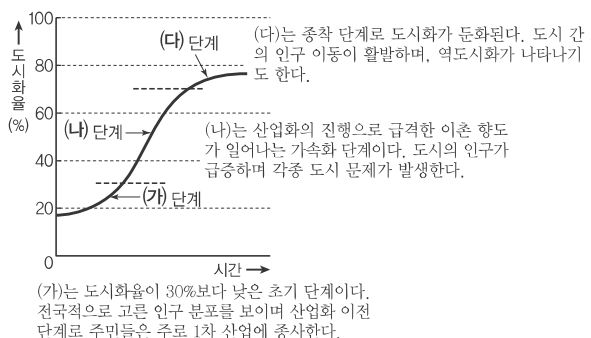
ㄷ. 도시는 낮은 산지와 녹지가 주거지, 산업 단지, 업무 지구로 바뀌면서 시가지의 면적이 넓게 나타난다.

오답 피하기 ㄱ. 1차 산업의 비중이 높은 것은 촌락이다.

ㄹ. 산업화의 진행으로 도시화가 이루어지며, 도시의 규모가 커질수록 여러 가지 기능이 분화되어 나타난다.

11 도시화 과정

주관식 정답 찾기





모범 답안 (가) 초기 단계, (나) 가속화 단계, (다) 종착 단계

12 도시화 과정

정답 찾기 ㄱ. (가)는 초기 단계로 산업화 이전의 시기이다. 대부분의 사람들이 토지를 기반으로 하는 1차 산업에 종사한다.

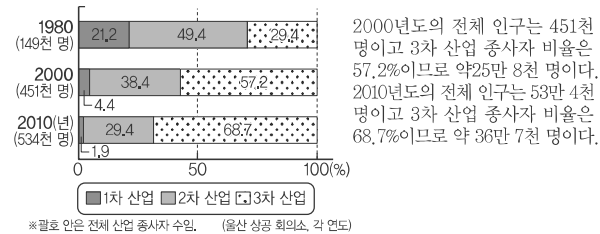
ㄷ. (다)는 종착 단계로 도시화가 둔화되며, 도시 간 인구 이동이 활발하고, 역도시화 현상이 나타나기도 한다.

ㄹ. 도시에 거주하는 인구 비중이 가장 높은 단계는 종착 단계인 (다)이다.

오답 피하기 ㄴ. 도시 간의 인구 이동이 가장 활발한 것은 (다) 단계이다.

13 산업화로 인한 공간의 변화

자료 분석



정답 찾기 ㄱ. 1차 산업 중심에서 2차 산업 중심으로, 2차 산업 중심에서 3차 산업 중심으로 변화되었으므로, 산업 구조의 고도화가 이루어졌다.

ㄴ. 자동차 및 트레일러, 화학 물질 및 화학 제품, 금속 가공 제품, 기계 및 장비 제조업 등은 대표적인 중화학 공업이다.

오답 피하기 ㄷ. 1980년에 비해 2000년에 2차 산업 종사자의 비중은 감소하였지만, 전체 산업 종사자가 증가하고 있어서 2차 산업 종사자 수는 증가하였다.

ㄹ. 2010년에 3차 산업 종사자 수는 약 36만 7천 명, 2000년에 3차 산업 종사자 수는 약 25만 8천 명으로 2배 이상의 증가로 보기 어렵다.

14 지역 개발 과정에서 발생하는 갈등

정답 찾기 제시된 자료는 지역 개발 과정에서 나타날 수 있는 갈등 가운데 썬피(PIMFY) 현상을 의미한다. 썬피 현상은 지하철역, 행정 기관 등과 같이 지역 발전에 도움이 되는 시설을 자기 지역에 유치하려는 현상이다.

⑤ 주민의 삶에 긍정적인 영향을 줄 것으로 기대되는 시설을 유치하는 과정에서 발생한다.

오답 피하기 ① 도청 이전 평가 위원단으로부터 가장 높은 평가를 받아 이전 지역이 결정되었다.

② 썬피 현상이라고 한다.

③ 지역 개발에 대한 주민의 관심과 영향력이 높아져서 발생한다.

④ 이는 경제적 이익과 가장 관련이 깊은 갈등 유형이다.

15 환율의 변화

정답 찾기 ㄱ. 환율이 상승할 경우 수입품의 가격 상승 및 원자재 가격의 상승으로 물가 상승 압력이 높아지게 된다.

ㄹ. 환율이 상승할 경우 수출품의 달러화 표시 가격 하락으로 가격 경쟁력이 높아지게 된다.

오답 피하기 ㄴ. 미국으로 여행을 가기 위해서는 달러화를 준비해

야 하며, 환율 상승으로 같은 규모의 달러화를 준비하기 위한 원화의 규모가 증가하게 된다.

ㄷ. 수입품의 달러화 표시 가격은 변함이 없으나, 환율 상승으로 원화 표시 가격은 상승하게 된다.

16 세계화의 영향

정답 찾기 ③ 인터넷의 발달로 인하여 소비자가 직접 해외 인터넷 쇼핑몰에서 물건을 구매하는 경우가 증가하고 있다. 즉, 통신 기술의 발달로 세계화는 가속화되고 있으며, 소비자의 상품 선택의 폭은 확대되고 있다.

17 국제 거래의 필요성

정답 찾기 ㄷ. ㄹ. 각국이 보다 낮은 비용으로 생산할 수 있는 재화의 생산에 특화할 경우 전체적인 생산량은 증가하게 된다. 따라서 교역을 통해 두 나라의 소비 수준은 향상될 수 있다.

오답 피하기 ㄱ. ㄴ. 을국은 자동차, 갑국은 쌀을 보다 낮은 비용으로 생산할 수 있다. 보다 낮은 비용으로 생산 가능한 재화에 특화해야 한다.

18 거래의 이익

문제 분석 특화하여 생산할 경우 을국은 자동차를 20대, 갑국은 쌀을 20포대 생산할 수 있다. 자동차 10대와 쌀 10포대를 교역할 경우, 갑국과 을국은 각각 자동차 10대와 쌀 10포대를 소비할 수 있다.

모범 답안 갑국과 을국은 교역을 통해 자동차 10대와 쌀 10포대를 소비할 수 있다. 교역 이전과 비교하여 교역을 통해 갑국은 자동차 5대, 을국은 쌀 5포대를 더 소비할 수 있게 된 것이다.

구분	채점 기준
상	교역 이전과 이후를 비교하여, 거래의 이익을 정확히 명시한 경우
중	두 가지 평가 요소 중 한 가지만 정확한 경우
하	두 가지 평가 요소가 모두 정확하지 않은 경우

19 외국인의 국내 투자의 영향

정답 찾기 ⑤ 직접 투자는 생산 시설을 건립하는 방식으로 투자하는 것이므로 국내 주식 시장의 급격한 변동 자체를 유발했다고 단정 짓기 어렵다.

오답 피하기 ①, ②, ③, ④ 외국인의 국내 투자가 직접 투자의 방식으로 진행될 경우 기대되는 긍정적 효과이다.

20 자유 무역 협정의 영향

자료 분석 ① 자유 무역 협정을 통해 국가 간 교역이 확대될 경우 무역 의존도는 높아지게 된다.

오답 피하기 ② 자유 무역의 확대로 소비자는 다양한 재화를 낮은 가격에 소비할 수 있게 된다.

③ 자유 무역 협정은 협정 당사국 간 무역 장벽의 완화를 목적으로 한다.

④ 국가 간 교역이 확대될수록 상호 의존성은 심화될 것이다.

21 세계화의 양상

자료 분석

ㄱ. 제시문은 음식 문화가 국경을 넘어 전파되고 있는 사례이다.



ㄷ. 새로운 문화 요소와 기존 문화 요소의 결합으로 새로운 음식 문화가 발생하고 있다.

오답 피하기

ㄴ. 문화의 전파 과정에서 다양한 음식 문화가 등장하고 있기에 문화가 획일화될 가능성은 낮아지고 있다.

ㄹ. 서구 문화와 전통문화가 결합되어 새로운 문화가 나타나고 있으므로 정체성이 상실되고 있다고 보기 어렵다.

V 미래를 바라보는 창

1. 인구, 식량 그리고 자원

01 실력 향상 문제

본문 162~163쪽

- | | |
|-----|-------------------------------------|
| 1 ⑤ | 2 (가) 인구 변동, (나) 자연적 증감, (다) 사회적 증감 |
| 3 ④ | 4 ⑤ 5 ④ 6 ③ 7 ⑤ |
| 8 ⑤ | 9 ④ 10 ② 11 해설 참조 |

1 인구 변천 단계 모형

정답 찾기 ㄷ. 제3단계는 감산 소사 단계로 출생률이 낮아지는 단계이다. 출생률이 낮아지는 원인으로는 여성의 사회 진출 증가, 가족 계획 사업 등을 예로 들 수 있다.

ㄹ. 제4단계는 소산 소사 단계로 사망률과 출생률이 낮아지면서 인구 전체에서 노년층이 차지하는 비중이 높아지고 결과적으로 고령화 현상이 나타날 것이다.

오답 피하기 ㄱ. 제1단계는 다산 다사 단계이며, 인구 증가율은 낮은 수준으로 정체하게 된다. 한편, 인구 증가율은 제2단계와 제3단계에서 높은 편이다.

ㄴ. 총 인구가 가장 많은 단계는 제4단계이다. 제2단계는 인구 증가율이 높으나 총 인구는 제3단계와 제4단계보다 적다.

2 인구 변동

주관식 정답 찾기 일정 기간 동안 인구가 증가 및 감소하는 현상을 인구 변동이라고 한다. 인구 변동은 자연적 증감과 사회적 증감의 합으로 구할 수 있다. 한편 자연적 증감은 출생과 사망에 의한 인구 증감을 의미하며, 사회적 증감은 전입과 전출에 의한 인구 증감이다. 이를 계산한 값을 통해 전체적인 인구의 변화 추이를 파악할 수 있다. 따라서 (가)는 인구 변동, (나)는 자연적 증감, (다)는 사회적 증감이다.

3 세계의 인구 변화

정답 찾기 ④ 그래프는 세계 인구의 변화를 보여 주고 있다. 세계 인구는 1800년대 초반에 약 10억 명이었던 인구가 약 20억 명으로 증가하기까지 100년이 넘는 시간이 걸렸던 것에 비하여, 최근에는 불과 12년 만에 약 10억 명의 인구가 증가하였다. 한편 개발 도상국의 인구 증가율은 선진국보다 높으며, 이미 20세기 이전부터 세계 인구의 절반 이상이 개발 도상국에 거주해왔다.

오답 피하기 ① 세계 인구 변화 그래프의 기울기를 살펴볼 때 세계 인구 증가율은 1800년대보다 1900년대가 더 높다.

② 선진국은 인구가 비교적 완만하게 증가하는 반면, 개발 도상국의 인구는 급격하게 증가하고 있다. 이를 통해 세계 인구에서 차지하는 비중이 높아지는 것은 개발 도상국임을 알 수 있다.

③ 2000년대 개발 도상국의 인구는 지속적으로 증가하고 있다. 인구가 증가하는 원인은 출생률의 증가와 사망률의 감소로 볼 수 있다. 따라서 2000년대 개발 도상국에서는 출생률보다 사망률이 낮은 것이다.

⑤ 최근의 급격한 인구 증가는 개발 도상국의 높은 출생률로 인해서 나타난 현상이다. 한편, 선진국은 저출산으로 인해 출생률이 낮은 편이다.

4 세계 인구 분포의 요인

정답 찾기 ㄷ, ㄹ. 인구 분포의 요인은 기온, 강수량, 토양, 천연자원 등 자연적 요인과 산업, 교통, 문화, 교육, 인구 정책 등 사회적·경제적 요인의 영향을 받는다. 최근에는 사회적·경제적 요인이 인구 분포에 많은 영향을 주고 있다. 교육·문화 기반을 잘 갖춘 지역에는 인구가 밀집하며, 산업 시설이 부족한 지역은 인구의 유입보다 유출이 많아 인구가 희박하다.

오답 피하기 ㄱ. 한대 및 건조 기후 지역은 기후적으로 인간이 거주하기에 불리한 환경이다. 따라서 인구 희박 지역의 사례에 해당한다.

ㄴ. 평야가 넓게 펼쳐진 지역은 농업이 발달하고 농업 생산력이 높아 인구 부양력이 높다. 따라서 인구 밀집 지역의 사례에 해당한다.

5 세계의 인구 분포

정답 찾기 ④ 고온 다습한 열대 우림 기후 지역, 극지방, 사막과 높은 산지 지역 등은 인간이 거주하기에 불리한 환경이기 때문에 인구 희박 지역에 해당한다.

오답 피하기 ① 북반구 중위도 지역은 기후적으로 인간이 거주하기에 유리하고 일찍부터 산업이 발달하였기 때문에 인구가 밀집한 지역이다.

② 벼농사가 발달한 지역은 인구 부양력이 높기 때문에 인구 밀도가 상대적으로 높은 편이다.

③ 서부 유럽의 경우 일찍이 산업이 발달한 지역으로 인구가 밀집한 정도가 다른 지역보다 높은 편이다.

⑤ 온대 기후 지역의 하천과 해안 지역은 상대적으로 기후가 유리하고 하천과 해안을 통해 얻을 수 있는 농·수산물도 많다. 또한 과거 내륙 수운과 해운을 이용한 교통도 발달하여 전통적으로 인구가 밀집 분포한다.

6 대륙별 세계 인구 분포

정답 찾기 ③ 중국과 인도를 포함하는 아시아 지역에는 세계 인구의 60% 이상이 거주한다. 그 다음으로는 출생률이 높은 아프리카이며, 산업이 발달한 유럽은 세 번째로 인구가 많은 곳에 해당한다. 한편 오세아니아의 경우는 인구가 희박한 대륙에 해당한다.

7 세계 인구의 국제 이동

정답 찾기 ㄷ, ㄹ. 제시된 지도는 세계 인구의 국제 이동 유형과 주요 이민 발생국 및 주요 이민 수용국을 나타낸 것이다. (가)는 주



로 선진국으로 이동하는 것을 통해 볼 때 경제적 이동에 해당하며, (나)는 주로 분쟁이 발생하는 지역에서 주변국으로 이동하는 경우가 많은 것을 볼 때 정치적 이동에 해당한다.

오답 피하기 ㄱ. (가)는 주로 유럽과 북아메리카 등 경제적 수준이 높은 지역으로 이동하고 있다. 대부분 인접한 국가로 이동하는 것은 (나)에 해당한다.

ㄴ. (나)는 각종 분쟁과 내전을 피해 다른 국가로 이동하는 경우에 해당한다.

8 선진국과 개발 도상국의 인구 피라미드

정답 찾기 ⑤ (가)는 유소년층의 비중이 낮고 상대적으로 노년층의 비중이 높은 선진국의 인구 피라미드이다. (나)는 유소년층의 비중이 높고 노년층의 비중이 상대적으로 낮은 개발 도상국의 인구 피라미드이다. (가)는 선진국(이탈리아), (나)는 개발 도상국(카메룬)의 인구 피라미드이다.

오답 피하기 ① 선진국에서는 저출산 현상이 지속되고 있으며, 이러한 현상을 해결하기 위해 출산 장려 정책이 시행될 것이다.

② 개발 도상국에서는 인구 급증으로 식량 부족, 빈곤 확산 등의 문제가 발생할 것이다.

③ 선진국은 개발 도상국보다 가입 여성 1명이 평생 동안 낳을 것으로 예상되는 평균 출생아 수를 나타낸 지표인 합계 출산율이 낮다.

④ 고령화 현상이 심각하게 나타나는 곳은 합계 출산율이 낮은 선진국이다.

9 국가별 노년 인구 비율

정답 찾기 ④ 제시된 지도에서 비중이 높게 나타나는 곳은 대체로 선진국에 해당한다. 선진국에서 나타나는 현상으로는 합계 출산율 감소, 평균 수명의 연장 등으로 인한 노년 인구 비율의 증가, 인구 정체 및 감소, 고령화 현상 등을 들 수 있다. 따라서 해당 사항과 관련이 깊은 것은 노년 인구 비율이 될 수 있다.

오답 피하기 ① 사망률은 일반적으로 경제적 수준이 낮은 개발 도상국에서 높은 편이다.

② 인구 밀도는 중국, 인도 등 동부 및 남부 아시아 지역에서 높게 나타난다.

③ 인구 증가율은 아프리카, 아시아 등에 위치한 개발 도상국에서 높게 나타난다.

⑤ 기아 인구 증가율은 식량 자원이 부족한 아프리카 등에서 높게 나타난다.

10 지역별 합계 출산율과 빈곤층 비율

정답 찾기 ㄱ. 지역별 합계 출산율은 아프리카에서 가장 높게 나타난다. 반면 유럽은 세계 평균에 미치지 못하고 있다. 따라서 아프리카는 유럽보다 합계 출산율이 높다.

ㄴ. 남부 아시아는 라틴 아메리카보다 빈곤층의 비율이 높다.

오답 피하기 ㄴ. 합계 출산율이 높은 지역에서 빈곤층의 비율이 높은 편이다.

ㄷ. 유럽의 합계 출산율은 1.5명으로 세계 평균 합계 출산율인 2.5명보다 낮다. 따라서 합계 출산율이 낮은 유럽 인구의 자연 증가는 세계 인구의 평균 자연 증가율보다 낮을 것으로 예상할 수 있다.

11 우리나라의 인구 추이

문제 분석 2012년 이후 우리나라의 인구는 5,000만 명을 넘었다.

그러나 국제 연합에 따르면 2010~2015년 우리나라의 합계 출산율은 1.23명으로 낮은 편이다. 이 때문에 우리나라의 인구는 2030년을 정점으로 총 인구가 감소할 전망이며, 노년층의 인구 비중이 상대적으로 높아질 것으로 예상된다.

모범 답안 우리나라의 인구 구조는 지속적으로 유소년층의 비중이 감소하고 있으며, 노년층의 비중은 증가하고 있다. 청장년층의 비중은 지속적으로 증가하다가 2010년 이후 감소할 것으로 예상된다. 총 인구는 2030년까지는 증가하다가 2030년 이후 감소할 것으로 전망된다.

구분	채점 기준
상	인구 구조와 총 인구 변화에 대해 시기를 제시하며 서술한 경우
중	인구 구조의 변화만을 정확하게 서술한 경우
하	총 인구 변화의 특징에 대해서만 옳게 서술한 경우

02 실력 향상 문제

본문 166~167쪽

- | | | | |
|-----|------|---------|----------|
| 1 ⑤ | 2 ① | 3 해설 참조 | 4 ① |
| 5 ② | 6 ④ | 7 ③ | 8 애그플레이션 |
| 9 ④ | 10 ⑤ | | |

1 세계의 식량, 인구, 경지 면적

정답 찾기 ⑤ 2000년 이후 세계의 곡물 생산량, 인구, 경지 면적은 모두 증가하였다. 이 중에서 세계의 곡물 생산량 증가율은 경지 면적 증가율보다 높다. 이를 통해서 한정된 공간에서 많은 양의 곡물을 재배할 수 있는 과학 기술이 발달하였음을 유추할 수 있다.

오답 피하기 ① 단위 면적당 곡물 생산량은 전체적으로 증가 추세를 보이고 있다.

② 경지 면적은 전체적으로 증가 추세이다. 대표적으로 열대 우림 기후 지역에서는 열대림 지역을 경작지로 변경하는 경우가 많다.

③ 인구와 전체 곡물 생산량의 그래프에서 기울기가 더 가파른 것은 전체 곡물 생산량이다. 이를 통해 인구 증가율이 전체 곡물 생산 증가율보다 낮음을 알 수 있다.

④ 1970년의 전체 곡물 생산량을 100이라고 하였을 때 2005년의 전체 곡물 생산량은 약 200이므로 약 2배 증가하였음을 알 수 있다.

2 식량 작물의 생산지와 이동

정답 찾기 ㄱ. (가)는 아시아에서 주로 생산되는 쌀이며, (나)는 아메리카, 오세아니아 등에서 많이 생산되는 밀이다. 쌀은 단위 면적당 생산량이 많아 인구 부양력이 높은 자원에 해당한다.

ㄴ. 밀은 신대륙에서 기계를 이용해 상업적으로 재배하고 있으며 신대륙에서 구대륙으로의 이동이 활발한 편이다.

오답 피하기 ㄷ. 밀은 쌀보다 상대적으로 기온이 낮거나 건조한 지역에서도 재배가 가능하기 때문에 쌀보다 재배 범위가 넓다.

ㄹ. 밀은 신대륙에서 구대륙으로의 이동이 활발하고 북반구와 수확 시기가 다른 남반구의 밀이 북반구로 이동하는 등 쌀보다 국제 이동량이 많다.

3 밀 수확 시기

문제 분석 제시된 자료는 밀의 재배 달력이다. 밀은 신대륙에서 구



대륙으로, 남반구에서 북반구로의 이동이 많은 식량 작물에 해당한다. 한편, 남반구와 북반구는 밀의 수확 시기가 다르기 때문에 국제 이동량이 많다.

모범 답안 제시된 자료의 식량 자원은 밀이다. 밀은 남반구와 북반구의 수확 시기가 다르기 때문에 남반구의 밀은 높은 가격으로 북반구에 수출된다.

구분	채점 기준
상	밀을 쓰고, 이와 관련된 국제 이동의 특징을 서술한 경우
중	남반구와 북반구가 수확 시기가 다르기 때문에 남반구의 밀이 북반구에 높은 가격으로 수출된다고만 서술한 경우
하	작물의 명칭만 밀이라고 쓴 경우

4 주요 식량 자원의 수출 비중

정답 찾기 ① (가)는 미국, 프랑스, 캐나다 등에서 수출하는 비중이 높은 식량 작물로 밀에 해당한다. (나)는 타이, 베트남 등 아시아 계절풍 기후 지역에 위치한 국가들의 수출 비중이 높으므로 쌀에 해당한다. (다)는 미국, 아르헨티나, 브라질 등의 수출 비중이 높은 식량 작물로 옥수수에 해당한다.

5 바이오에탄올의 특징

정답 찾기 갑. 바이오에탄올은 사탕수수, 옥수수 등의 녹말 작물을 발효시켜 만든 연료를 의미한다.

병. 식량 작물로 이용되는 옥수수가 바이오에탄올의 원료로 사용되면서 옥수수와 같은 곡물의 수요가 증가하였을 것이다.

오답 피하기 을. 바이오에탄올은 화석 연료보다 연소할 때 배출하는 환경 오염 물질이 적다.

정. 바이오에탄올 생산량 증가로 가축의 사료로 사용되는 옥수수의 가격은 비싸지게 되고 이로 인해 육류의 가격이 상승한다.

6 국가별 영양 결핍 인구 비율

정답 찾기 ④ 지도에서는 아프리카, 남부 아시아 등에 위치한 개발 도상국에서 지표의 비율이 높게 나타나고 있다. 반면 유럽, 북아메리카 등에 위치한 선진국에서는 비율이 낮게 나타나고 있다. 비율이 높은 지역들은 대체로 식량 생산량이 절대적으로 부족하고, 식량의 저장 및 유통 시설이 부족하여 식량 부족 문제를 겪고 있다. 따라서 이와 관련된 지표로는 영양 결핍 인구 비율로 보는 것이 적절하다.

오답 피하기 ① 곡물 생산 비율은 대체로 아시아 계절풍 기후 지역과 북아메리카 등 쌀과 밀 농사가 발달한 지역에서 높게 나타난다.

② 경지 면적 비율은 대체로 농업이 발달한 지역에서 높게 나타난다.

③ 성인 비만 인구 비율은 대체로 유럽, 북아메리카 등에 위치한 선진국에서 높게 나타난다.

⑤ 미국과 브라질이 세계 바이오에탄올 생산량의 절반 이상을 생산하므로 바이오 연료의 생산 비율은 미국과 브라질에서 상대적으로 높게 표시되어야 한다.

7 지역별 식량 부족 인구

정답 찾기 ③ 세계의 식량 부족 인구는 인구가 많이 밀집하고 인구가 많은 아시아·태평양 연안의 개발 도상국에서 가장 많다. 그

다음으로 사하라 이남 아프리카 지역에서 식량 부족 인구가 많다.

오답 피하기 북극해 연안은 인구 희박 지역으로 식량 부족 인구의 절대량도 적다. 따라서 그래프에서와 같이 이 지역의 식량 부족 인구가 세계에서 첫 번째나 두 번째로 많을 수는 없다.

8 애그플레이션

주관식 정답 찾기 제시된 자료는 국제 곡물 가격 상승과 더불어 물가가 올라가는 현상과 관련이 있다. 국제 곡물 가격이 상승하면 식량 자급률이 낮은 국가에서는 물가가 더불어 올라가는 애그플레이션이 발생할 가능성이 높다.

9 국제 곡물 가격의 변화

정답 찾기 나, 르. 제시된 자료는 국제 곡물 가격의 변화를 나타낸 것으로 콩, 밀, 옥수수 등의 가격이 2010년 6월~2011년 2월 사이에 지속적으로 증가하고 있다. 이와 같은 현상의 원인으로는 식량 자원에 대한 수요 증가를 들 수 있다. 한편 식량의 해외 의존도가 높은 국가의 부담이 커졌을 것이다.

오답 피하기 가. 곡물 생산 비용이 낮아지면 곡물 가격은 하락했을 것이다.

다. 사료용 곡물의 소비량이 줄어들면 곡물 가격은 하락했을 것이다.

10 세계의 식량 문제

정답 찾기 ⑤ 전 세계 곡물 생산량과 재고량은 전 세계 소비량보다 많지만 아프리카 지역에서 식량 문제가 발생하는 것은 분배 측면의 문제와 관련이 깊다. 이를 해결하기 위해서는 식량 생산의 확대와 더불어 원활한 식량 분배가 필요하며, 이를 위해 식량 부족 국가에 대한 인도적 차원의 지원 등 국제 사회의 협력이 필요하다.

오답 피하기 ① 국제 식량 대기업의 영향력을 확대하면 곡물 가격이 상승하여 식량을 수입에 많이 의존하는 국가에서는 애그플레이션이 발생할 위험이 크다.

② 선진국의 경작 면적 확대가 식량 분배 문제를 해결하는 방안이 되기는 어렵다. 오히려 개발 도상국의 식량 생산량을 늘릴 수 있는 방안이 필요하다.

③ 곡물 수출국의 보호 무역 정책을 강화하면 곡물의 국제 거래가 줄어들게 된다. 이 과정에서 굶주림에 시달리는 지역이 늘어나게 될 것이다.

④ 개발 도상국이 상품 작물 재배 비중을 늘리면 상대적으로 곡물 재배 비중은 낮아지게 된다. 따라서 상품 작물 재배 비중을 높이기 보다는 곡물 재배 비중을 높이는 방법이 적절하다.

03 실력 향상 문제

본문 170~171쪽

- 1 ⑤ 2 (가) 유한성, (나) 편재성, (다) 가변성 3 ①
4 ③ 5 ① 6 ④ 7 ③
8 해설 참조 9 ② 10 ⑤

1 자원의 의미

정답 찾기 다, 르. A는 자연 상태를 의미하며, B는 기술적으로 개



발 가능하나 경제성이 없는 경우이다. 반면 C는 기술적으로 개발 가능하고 경제적으로 유용한 경우에 해당한다. C의 사례로는 석유, 석탄 등의 화석 에너지를 들 수 있다. 한편 과학 기술의 발달로 채산성이 높아지게 되면 기술적 의미의 자원에서 경제적 의미의 자원으로 변하는 자원의 종류가 많아지게 될 것이다.

오답 피하기 ㄱ. A는 자연에 해당하며, 자국에서 생산되는 천연자원에 대한 소유권을 강조한 개념인 자원 민족주의와 관련이 없다. ㄴ. 도시 광산 사업으로 산업 폐기물에서 금속을 추출하는 것은 B에서 C로 자원의 의미가 변한 사례에 해당한다.

2 자원의 특성

주관식 정답 찾기 자원의 특성으로는 우선 유한성을 들 수 있다. 대부분의 자원은 매장량이 한정되어 있으며 연젠가는 고갈된다. 또한 일부 중요한 자원은 특정 지역에 편중되어 분포하며, 자원 민족주의의 배경이 되기도 하는데 이를 편재성이라고 한다. 한편 자원은 개발할 당시의 채산성, 기술 수준, 대체 자원의 유무에 따라 가치가 변하는데 이를 가변성이라고 한다.

3 자원의 종류

정답 찾기 ① 자료에서 A는 사용함에 따라 고갈되는 재생 불가능한 자원으로 화석 연료이다. B는 사용량과 재활용 정도에 따라 재생 수준이 달라지는 것으로 비금속 광물이다. C는 사용량과는 무관한 재생 가능 자원으로 태양열, 조력, 수력, 풍력 등과 같은 재생 자원이다. 따라서 A는 화석 연료인 석유, B는 비금속 광물인 석회석, C는 재생 자원인 풍력이다.

오답 피하기 ② 텅스텐은 금속 광물에 해당한다.

- ③ 천연가스는 화석 연료이다.
- ④ 철광석은 금속 광물이다.
- ⑤ 석탄은 대표적인 화석 연료이다.

4 주요 금속 광물 자원의 분포

정답 찾기 ㄴ. 산업의 기초가 되는 철광석은 중국, 브라질, 오스트레일리아 등이 대표적인 생산국이며 오스트레일리아에서의 수출량이 많은 편이다.

ㄷ. 전기가 실용화된 이후 수요가 증가한 구리는 칠레, 미국, 캐나다, 인도네시아 등에 매장되어 있다.

오답 피하기 ㄱ. 알루미늄의 원료인 보크사이트는 열대 기후 지역에 주로 매장되어 있다.

ㄹ. 주요 광물은 광물별로 매장되어 있는 지역이 차이가 있다. 경제 발전 정도와 주요 광물의 매장과는 큰 관련이 없다.

5 희토류의 매장량과 생산량

정답 찾기 ① 자료의 (가) 지원은 전 세계 생산량의 대부분을 중국이 차지하고 있는 희토류이다. 희토류는 특수 합금, 액정 디스플레이 등의 필수 소재로 활용되며 최근 그 가치가 높아지고 있다. 한편 산업 혁명의 배경이 된 자원은 석탄이다.

오답 피하기 ② 전 세계 매장량의 약 3분의 1을 중국이 보유하고 있기 때문에 자원 민족주의가 발생할 수 있는 자원에 해당한다.

③ 중국에서의 생산 비중이 높은 자원이기 때문에 중국의 생산량에 따라 국제 가격 변동 가능성이 크다.

④ 희토류는 반도체, 태양광 전지, LED 등의 생산에 필수적인 소재로 전자 분야 산업에 끼치는 영향이 절대적이다.

⑤ 주요 국가들은 희토류 자원 확보에 적극적이며 자원의 안정적 공급을 위해 국가 간 경쟁이 치열한 편이다.

6 세계 에너지 소비 구조의 변화

정답 찾기 ④ 2010년 현재 세계에서 가장 많이 사용되는 1차 에너지 자원인 B는 석유이다. 다음으로 많이 사용되는 1차 에너지 자원은 석탄(C)이며, 세 번째로 많이 사용되는 1차 에너지 자원은 천연가스(A)이다.

7 주요 에너지 자원의 분포

정답 찾기 ③ A는 주로 서남아시아, 멕시코 만, 러시아 등에서 생산되는 자원이며 페르시아 만에서 다른 지역으로 이동하는 양이 많은 것으로 석유이다. B는 미국, 러시아, 중국, 오스트레일리아를 비롯하여 비교적 넓은 지역에 분포하는 자원으로 석탄이다. 한편 A(석유)는 B(석탄)보다 수송용으로 사용되는 비중이 높다.

오답 피하기 ① A(석유)는 주로 신생대 지층에 매장되어 있다.

② 냉동 액화 기술의 발달로 국제 이동량이 증가한 것은 천연가스이다.

④ A(석유)는 B(석탄)보다 지역적 편재성이 크고 사용 비중이 높아 국제적 이동량이 많다.

⑤ A는 석유, B는 석탄이다.

8 북극해 지역의 영해 확보 분쟁

문제 분석 제시된 자료는 북극해 주변에서 나타나는 영해 확보 분쟁과 관련이 있다. 이와 관련이 깊은 자원은 석유와 천연가스이다.

모범 답안 석유와 천연가스는 주로 신생대 지층에 분포하는 자원으로 자원의 유한성과 편재성이 매우 크다. 또한 이 두 자원은 세계적으로 사용량이 많은 주요 자원으로 국제적으로 이를 둘러싼 갈등이 발생하게 된다.

구분	채점 기준
상	자원의 편재성, 유한성 및 사용 비중을 모두 서술한 경우
중	자원의 편재성, 유한성만을 정확하게 서술한 경우
하	자원의 편재성, 유한성 중 하나만을 옳게 서술한 경우

9 신·재생 에너지의 특징

정답 찾기 ② 태양광, 태양열, 바이오매스, 수력, 풍력, 해양, 지열 에너지 등의 재생 에너지와 연료 전지와 같은 신에너지로 구성된 신·재생 에너지는 화석 연료의 고갈과 환경 문제에 대처하기 위해 그 사용량과 비중이 점점 증가하고 있으며, 신·재생 에너지 소비량은 선진국이 개발 도상국보다 많다.

오답 피하기 ① 면적이 독일보다 넓은 인도의 소비량이 적기 때문에 면적이 넓은 국가일수록 소비량이 많다고 보기는 어렵다.

③ 신·재생 에너지의 소비량은 인도 등 인구가 많은 국가보다 독일, 에스파냐 등 인구가 상대적으로 적지만 경제 발달 정도가 높은 국가에서 상대적으로 많을 것이다.

④ 화석 연료가 많이 매장되어 있는 미국과 중국에서도 신·재생 에너지 소비량이 많기 때문에 화석 연료의 매장량이 적은 국가에서 소비량이 많다고 보기는 어렵다.



⑤ 신·재생 에너지는 고갈 가능성이 적은 에너지 자원에 해당한다.

10 비재생 자원의 고갈 시기

정답 찾기 ㄷ, ㄹ. A는 채광하여 사용한 후 그대로 버리는 단계이며, B는 재순환, 채광 기술 개선 단계, C는 재순환, 채광 기술 개선, 1인당 소비량 감소 단계이다. 따라서 A에서 C 단계로 갈수록 자원의 고갈 시기가 늦춰질 것이다.

오답 피하기 ㄱ. 자원의 재활용 정도가 가장 높은 단계는 C 단계이다.

ㄴ. 자원을 사용한 후 그대로 버리는 비중이 가장 높은 단계는 A 단계이다.

2 지구촌과 지속 가능한 발전

01 실력 향상 문제

본문 173쪽

1 ③ 2 ③ 3 해설 참조 4 ⑤ 5 ④

1 지구촌의 다양한 문제

정답 찾기 ③ 생태계는 한번 파괴되면 회복이 매우 더디고 힘들기 때문에 다른 문제보다 해결이 쉽지 않다. 현재 지구 환경의 파괴가 매우 빠르게 진행되고 있으므로 이러한 생태적 위기에 대한 인류의 각성이 절실히 요구되고 있다.

오답 피하기 ① 인류의 다양한 문제는 인류의 발전을 가로막는 심각한 문제로 인류의 더 나은 삶을 향한 발전을 저해한다.

② 기아, 난민 등의 문제는 대체로 경제 발전 정도가 낮은 개발 도상국에서 나타난다.

④ 20세기에 급속히 퍼진 전염병으로는 후천성 면역 결핍증(AIDS), 조류 인플루엔자(AI), 말라리아 등이 대표적이다.

⑤ 새로운 문제가 전 세계로 빠르게 퍼지게 된 원인으로는 인구의 증가, 교통·통신의 발달, 세계화 등을 들 수 있다.

2 국제 연합 평화 유지군의 활동

정답 찾기 ㄴ, ㄷ. 국제 연합 평화 유지군(PKF)은 세계 평화와 안전 유지를 위해 국제 연합에서 편성한 국제 군대이다. 분쟁 지역에서 정전 감시, 건설·의료 지원 등의 활동을 하며, 평화에 대한 공로로 1988년 노벨 평화상을 받았다.

오답 피하기 ㄱ. 파견된 국가에서 무력행사는 가능하지만 자기 방어 의 경우로 엄격하게 제한하고 있다.

ㄹ. 국제 연합 평화 유지군은 보통 여러 국가에서 자발적으로 파견된다.

3 지속 가능한 발전

모범 답안 지속 가능한 발전, 미래 세대가 그들의 필요를 충족시킬 수 있는 능력을 저해하지 않으면서 현재 세대의 필요를 충족시키는 발전 방식이다.

구분	채점 기준
상	'지속 가능한 발전'을 쓰고 지속 가능한 발전의 의미를 정확하게 서술한 경우
중	'지속 가능한 발전'의 의미만을 정확하게 서술한 경우
하	'지속 가능한 발전'만을 쓴 경우

4 지속 가능한 발전의 범위

정답 찾기 ⑤ 제시된 자료는 지속 가능한 발전의 범위를 나타낸 것이다. 지속 가능한 발전을 위해서는 개인, 국가를 넘어 전 지구적 차원의 협력을 필요로 한다.

오답 피하기 ①, ④ 지속 가능한 발전은 환경 보호와 경제 성장의 조화를 강조하는 개념이다.

② 지속 가능한 발전은 무조건 현재 세대의 욕구를 제한하지 않는다. 현재 세대의 필요를 충족하며 미래 세대의 필요를 충족하고자 하는 발전 방식이다.

③ 자연에 대한 인간의 개발보다는 미래 세대의 필요를 충족하기 위한 보전을 강조한다.

5 생태 발자국의 크기 변화

정답 찾기 ㄱ. 제시된 자료는 생태 발자국의 크기 변화를 나타낸 것으로 생태 발자국이 커질수록 생태계 훼손이 심하다는 의미이다. 현재 지구의 생태 발자국은 그 크기가 점차 커지고 있는데 지구의 자원 소비량 증가 등이 그 원인이다.

ㄴ. 축산업보다 농업의 생태 발자국 크기가 크므로 농업에 의한 생태계 훼손 정도가 축산업보다 크다고 볼 수 있다.

ㄷ. 생태 발자국의 크기에서 가장 큰 비중을 차지하는 것은 탄소 배출량으로 화석 연료의 사용 증가가 생태 발자국 크기 변화에 가장 큰 영향을 주었음을 알 수 있다.

오답 피하기 ㄷ. 인간이 생태계를 훼손한 결과 생태 발자국이 커졌을 것이다.

02 실력 향상 문제

본문 176~177쪽

1 (가) 문화, (나) 민족 2 ② 3 ① 4 ①
5 ⑤ 6 ④ 7 ⑤ 8 ③ 9 ④
10 해설 참조

1 문화와 민족의 의미

주관식 정답 찾기 (가) 문화는 의식주, 풍습, 언어, 종교 등으로 이루어진 다양한 생활 양식이기 때문에 문화에 따라 세계에 대한 시각과 태도가 다른 것이 일반적이다. 한편 (나) 민족은 오랜 기간에 걸쳐 형성되어 온 역사, 생활 양식 등을 공유하는 집단으로 민족마다 고유한 특성이 있다.

2 세계의 주요 분쟁 지역

정답 찾기 ② 제시된 지도는 세계의 주요 분쟁 지역을 나타낸 것이다. 분쟁 지역은 대체로 서로 다른 민족과 종교와의 갈등 지역에 해당한다. 따라서 민족 분포가 복잡한 지역일수록 분쟁이 잦은 편이다. 한편 오늘날의 분쟁은 인종·민족·종교·문화를 비롯하여 다양한 정치·경제적 이해관계에 따라 매우 복잡한 양상을 띠고 있다.



오답 피하기 ① 소련의 해체 이후 동서의 이념 대립은 상대적으로 약화되었다.

- ③ 문화 상대주의는 다른 문화의 가치를 인정하고 존중하는 관점이다. 문화 상대주의에 입각하면 다양한 분쟁을 줄일 수 있다.
④ 제국주의 열강에 의한 식민지 쟁탈전은 19세기에 활발했다.
⑤ 종교에 대한 정체성이 강한 지역에서도 분쟁이 발생한다.

3 팔레스타인 분쟁 지역

정답 찾기 ① 제시된 지역은 팔레스타인 지방으로 유대 인과 아랍인 간 분쟁 지역에 해당한다. 팔레스타인 분쟁은 로마 시대 유대인들이 추방된 이후 아랍인들이 지배해 오던 이 지역에서 제2차 세계 대전 이후 유대인들이 이 지역에 대한 권리를 주장하면서 이스라엘 국가를 건립한 데서 비롯되었다.

오답 피하기 ② 해당 지역의 분쟁은 유대교와 이슬람교 간의 갈등이 원인이다.

- ③ 팔레스타인 분쟁은 제2차 세계 대전 이후 이스라엘 건국으로 인해 발생하였다.
④ 4차례의 전쟁 결과 이스라엘의 영토는 확대되었다.
⑤ 서로 다른 민족 간의 갈등으로 인해 분쟁이 확대된 사례에 해당한다.

4 카슈미르 분쟁 지역

정답 찾기 ① A는 이슬람교, B는 힌두교이다. 이슬람교는 율법의 영향으로 돼지고기를 금기시한다.

오답 피하기 ② B는 힌두교로 다신교에 해당한다. 유일신을 믿는 종교로는 이슬람교, 그리스도교 등이 있다.

- ③ A는 이슬람교, B는 힌두교이다.
④ 카슈미르 지역은 민족과 종교 차이로 인한 분쟁 지역에 해당한다.
⑤ 국제 연합의 중재로 현재 카슈미르 지역을 파키스탄과 인도가 나누어 통치하고 있으나, 양국 간 분쟁이 끊이지 않고 있다.

5 아프리카의 국경과 민족 경계

정답 찾기 ⑤ 지도는 아프리카의 국경과 민족 경계로 열대 기후 지역에 해당하는 중부 아프리카의 경우에는 민족 경계가 복잡하지만, 대체로 건조 기후 지역에 해당하는 북부 아프리카의 경우 민족별 경계가 상대적으로 단순한 편이다.

오답 피하기 ① 아프리카에는 수많은 민족의 경계선을 볼 수 있으며 다양한 소규모 민족이 거주하고 있음을 파악할 수 있다.

- ② 민족 경계와 국경이 서로 다르게 설정되었으며 이로 인한 분쟁이 잦은 편이다.
③ 민족 경계를 고려하지 않은 국경이므로 외부 세력에 의해 강제적으로 국경이 확정되었을 것으로 유추할 수 있다. 실제로 아프리카는 식민지 시대 열강에 의해 강제적으로 국경이 나뉘었다.
④ 아프리카는 서로 다른 문화와 언어를 갖는 민족이 하나의 국가로 묶이면서 민족 분쟁이 잦아졌다.

6 구 유고슬라비아 지역의 분쟁

정답 찾기 ㄱ. 발칸 반도는 구 유고슬라비아의 해체 이후 다양한 민족과 종교 분포로 인해 분쟁이 격화된 지역이다. 이 중 코소보 사태는 그리스도교와 이슬람교의 갈등에 해당한다.

ㄴ. 이 지역의 분쟁은 국제 연합(UN)이 코소보 사태의 해결을 위해 개입하였으나 아직까지 갈등의 씨앗이 남아 있다.

ㄷ. 보스니아 헤르체고비나에서는 세르비아계 민병대가 30만 명의 이슬람계 보스니아 인을 학살하여 '인종 청소'라는 비난을 받았다.

오답 피하기 ㄹ. 발칸 반도의 분쟁은 1991년 소련이 해체된 이후 구 유고슬라비아 연방이 해체되면서 발생하였다.

7 세계의 분쟁 지역

정답 찾기 ⑤ A는 수단과 남수단, B는 르완다, C는 이란과 이라크, D는 스리랑카, E는 필리핀 민다나오 섬이다. 필리핀 민다나오 섬(E)은 이슬람교를 신봉하는 모로 족과 이슬람교를 믿지 않는 다른 주민들과의 대립이 나타나는 지역이다. 소수 민족인 바스크 족의 독립 운동 지역은 에스파냐의 바스크 지방이다.

오답 피하기 ① 수단은 이슬람교를 믿는 아랍 계와 그리스도교 또는 토속 신앙을 믿는 부족 간 갈등으로 2011년 남수단이 분리·독립하였다.

- ② 르완다는 소수 민족인 투치 족과 토착 부족인 후투 족 간 종족 분쟁으로 심한 갈등을 겪은 국가이다.
③ 시아파가 대다수인 이란과 시아파와 수니파가 비슷하게 분포하는 이라크 간에는 이슬람교의 종파적 갈등으로 전쟁이 발발하였다.
④ 스리랑카에서는 힌두교도인 타밀 족과 불교도인 싱할라 족 간 갈등으로 내전이 발생했다.

8 벨기에의 언어 차이에 따른 갈등

정답 찾기 ③ 벨기에에는 북부 네덜란드 어권, 남부 프랑스 어권, 동부 독일어권으로 구분된다. 벨기에의 모든 경제·사회 문제는 언어 분쟁과 연관된다. 남부와 북부 사람들은 서로 상대방의 언어를 배우려는 노력조차 하지 않고 있으며 북부와 남부의 지역 갈등으로 2011년 이후 1년 4개월 동안 내각을 구성하지 못하기도 했다.

오답 피하기 ① 자원을 둘러싼 갈등은 주로 석유, 천연가스가 매장되어 있는 지역에서 치열하게 전개된다.

- ② 벨기에에는 국민 대다수가 그리스도교를 믿는다.
④ 소수 민족의 독립 운동의 사례로는 러시아의 체첸, 중국의 신장 웨이우얼과 시짱(티베트) 등을 들 수 있다.
⑤ 민족의 경계와 국경이 불일치해 분쟁이 잦은 지역으로는 아프리카 등을 예로 들 수 있다.

9 프랑스의 이주민과의 갈등

정답 찾기 ㄱ, ㄷ, ㄹ. 제시된 자료는 프랑스에서 유럽인과 이슬람교도 이주자 간의 갈등을 나타낸 것이다. 프랑스는 주민의 대다수가 그리스도교를 믿는 지역이나 최근 프랑스로 이주하는 아랍 계 노동자들이 증가하면서 이슬람교의 종교적 관습이 퍼지고 있다. 이런 종교적 관습을 프랑스에 거주하는 유럽인들은 위협으로 여겼으며 이를 제한하는 '부르카 금지법'을 시행하기에 이르렀다. 이는 종교적 관습 차이에 따른 문화 갈등의 사례로 볼 수 있다.

오답 피하기 ㄴ. 프랑스의 부르카 금지법은 아랍인들의 자발적 요구로 보기는 어렵다.

10 다양한 종교의 공존

문제 분석 제시된 자료는 말레이시아의 공휴일을 나타낸 것이다. 말레이시아는 1950년대만 하더라도 민족과 종교 간의 갈등이 심했는데 1969년에 발생한 인종 폭동을 계기로 분쟁 해결을 위해 정부 차원의 다양한 노력이 펼쳐졌다. 이와 관련된 대표적인 예로 힌두교(빛의 축제), 이슬람교(예언자 무함마드 탄신일 등), 그리스도교(크



리스마스), 불교(부처님 오신 날)와 관련된 공휴일을 지정한 것을 들 수 있다.

모범 답안 힌두교, 이슬람교, 크리스마스, 불교이다. 각 종교의 공휴일 지정을 통해 차이를 강조하기보다는 협력을 통해 공존하고자 하는 노력으로 지속 가능한 발전을 꾀하고 있다.

구분	채점 기준
상	공휴일과 관련된 종교를 모두 쓰고 공휴일을 지정한 이유에 대해 제시어를 모두 사용하여 서술한 경우
중	공휴일과 관련된 종교를 모두 쓰거나 공휴일을 지정한 이유에 대해 제시어를 참고하여 정확히 서술한 경우
하	공휴일과 관련된 종교를 일부만 쓰거나 공휴일을 지정한 이유에 대해 제시어를 참고하지 않고 서술한 경우

03 실력 향상 문제

본문 180~181쪽

- 1 ④ 2 ③ 3 사막화 4 ⑤ 5 ②
6 ⑤ 7 ② 8 해설 참조 9 ③ 10 ④

1 지구 온난화의 원인

정답 찾기 나, 르. 자료는 북극곰의 개체 수가 줄어든다는 것과 관련이 있다. 북극곰의 개체 수가 줄어든 원인은 지구 온난화로 극지방의 빙하가 감소하고 이로 인해 북극곰이 익사하는 경우가 많아졌기 때문이다. 한편 지구 온난화는 화석 연료의 과도한 사용, 가축의 배설물 및 쓰레기 매립 증가, 무분별한 농경지 확대, 삼림 파괴 등으로 인해 대기 중의 온실가스가 증가하여 나타난다.

오답 피하기 가. 성층권의 오존층 파괴는 염화플루오린화탄소의 사용 증대로 나타난다.

디. 강수량 감소에 의한 극심한 가뭄은 사막화와 관련이 있다.

2 지구 온난화의 영향

정답 찾기 ③ 그래프는 대기 중 이산화탄소의 평균 농도가 높아지는 현상과 유사하게 지구 평균 기온이 상승하고 있음을 보여 주고 있다. 이와 같은 현상이 나타나게 되면 홍수, 가뭄, 폭풍우 등 자연재해가 발생하게 되며 생태계 변화로 인해 작물의 재배 북한계선이 북상한다.

오답 피하기 ① 지구 온난화로 인해 단풍의 시작일은 늦어진다.

② 서리는 기온이 낮아질 때 나타나는 현상이다. 따라서 지구 온난화가 지속되면 서리가 내리는 기간이 짧아진다.

④ 고산 식물은 대체로 해발 고도가 높아 기온이 낮은 지역에 분포한다. 따라서 지구 온난화로 기온이 상승하면 고산 식물의 분포 지역은 대체로 축소된다.

⑤ 지구 온난화가 진행되면 극지방의 빙하가 감소하여 해수면이 상승하고 해안 저지대의 침수 피해가 증가한다.

3 사막화 현상

주관식 정답 찾기 사막화는 극심한 가뭄과 강수량의 감소와 같은 자연적 요인과 인구 증가로 인한 과도한 경작과 관개, 방목 등의 인위적 요인에 의해 발생한다. 사막화가 진행되면 지역 생물종의 다양성이 감소하고, 바람에 의한 토양 침식이 활발해지며, 토양 내에 염류가 많아지면서 점차 그 범위가 확대된다.

4 아랄 해의 면적 축소 원인

정답 찾기 ⑤ 세계에서 4번째로 큰 호수였던 아랄 해는 대부분의 지역이 사막으로 변하였다. 아랄 해의 사막화 원인은 호수로 유입되는 아무다리아 강과 시르다리아 강 유역에 대규모 목화밭이 조성되어 두 강에 100여 개가 넘는 댐이 건설되면서부터 호수가 말라버렸기 때문이다. 즉, 관개 농업에 의해 호수로 유입되는 하천 유량이 크게 감소한 것을 주요 원인으로 들 수 있다.

오답 피하기 ① 아랄 해 일대는 건조 기후 지역에 해당한다. 열대림 개발로 인한 삼림의 제거는 아마존 강 유역이 대표적이다.

② 이상 기후로 인한 집중 호우 증가와 아랄 해의 면적 감소와는 관련이 없다.

③ 아랄 해 지역은 관개 농업으로 인해 사막화가 가속화되었다.

④ 아랄 해 지역은 공업보다는 농업이 발달하였다.

5 사막화 현상이 나타나는 지역

정답 찾기 가, 디. 지도는 사막화 현상이 나타나는 지역을 표시한 것이다. 사막화 현상이 나타나게 되면 작물 재배가 불가능한 토양이 증가하고 이로 인한 난민이 발생하게 된다. 또한 야생 동물 멸종, 생물 종 다양성 감소 등 다양한 문제점이 발생한다.

오답 피하기 나. 피부암, 백내장 등의 질병이 증가하는 것은 오존층 파괴와 관련이 깊다.

르. 홍수, 폭풍우와 같은 자연재해가 자주 발생하는 것은 지구 온난화 현상과 관계가 깊다.

6 오존홀의 변화

정답 찾기 ⑤ 자료는 오존홀이 커지고 있는 현상을 나타낸 것이다. 세계 각국은 오존층의 파괴로 인해 발생한 다양한 피해를 극복하기 위해 염화플루오린화탄소의 사용을 규제하는 몬트리올 의정서를 채택하는 등의 노력을 기울이고 있다.

오답 피하기 ① 오존층이 파괴되면 지표에 도달하는 자외선의 양이 증가하여 농작물의 성장에 방해가 된다.

② 지나치게 많은 양의 자외선을 받게 되면 피부암, 백내장 등의 발병률이 높아지게 된다.

③ 성층권의 오존층이 파괴된 결과 지표에 도달하는 자외선의 양이 증가했다.

④ 오존층 파괴의 가장 큰 원인은 염화플루오린화탄소(CFCs)의 사용 증가이다.

7 산성비의 피해

정답 찾기 ② 지도는 산성비 피해 정도를 나타낸 것이다. 산성비는 화석 연료의 사용으로 인해 배출된 오염 물질이 비에 섞여 내리는 현상으로 바람에 의해 주변으로 확산된다. 이로 인해 삼림의 황폐화 및 건축물 부식 등이 나타난다.

오답 피하기 ① 사막화 현상이 나타나는 곳은 사막 주변이나 과도한 삼림의 개발이 나타나는 지역 등이다.

③ 오존층 파괴는 남극 상공에서 가장 크게 나타난다.

④ 해당 지역에서는 대체로 온대림, 냉대림 등이 자생한다.

⑤ 지구 온난화에 따른 피해는 해안 저지대 일대의 침수 등을 예로 들 수 있다.



8 남북문제의 의미

문제 분석 제시된 자료를 통해 북반구에 위치한 선진국과 적도 인근이나 남반구에 위치한 개발 도상국 간의 경제적 격차를 볼 수 있고 이를 남북 격차라고 한다. 또한 이와 관련된 문제를 남북문제라고 한다.

모범 답안 남북 문제, 대체로 북반구에 위치한 선진국과 대체로 남반구에 위치한 개발 도상국 간의 경제적 격차를 의미한다.

구분	채점 기준
상	남북문제를 쓰고 그 의미를 모두 서술한 경우
중	남북문제의 의미만을 서술한 경우
하	남북문제만 쓴 경우

9 개발 도상국과 선진국의 입장 차이

정답 찾기 을, 병. 선진국은 개발 도상국이 개발 제한 및 환경 보전에 동참할 것을 주장하고 있다. 반면 개발 도상국은 경제 성장이 최우선적 목표이기 때문에 개발 도상국의 성장을 위해서는 온실가스의 배출이 불가피하다는 입장을 밝히고 있다.

오답 피하기 갑. 개발 도상국은 대체로 환경 보전보다 경제 성장을 우선시하고 있다.

정. 개발 도상국은 현재 지구촌의 환경 문제는 선진국이 과거에 배출한 온실가스 때문이라고 주장하며 선진국의 책임을 강조하고 있다.

10 국제 환경 협약

정답 찾기 ④ 교토 의정서(D)는 1997년에 체결되었으며 기후 변화 협약에 따른 온실가스 감축 목표치를 규정하고 있다.

오답 피하기 ① 심각한 가뭄 및 사막화의 영향을 받는 국가들의 사막화 방지를 위한 것은 사막화 방지 협약으로 프랑스 파리에서 1994년에 체결되었다.

② 물새 서식지로서 국제적으로 중요한 습지 보호를 위한 것은 람사르 협약(C)으로 1971년에 체결되었다.

③ 유해 폐기물의 국가 간 이동 및 처리를 규제하는 것은 바젤 협약(B)이다.

⑤ 환경적으로 건전하고 지속 가능한 발전을 위한 '의제 21'은 리우데자네이루에서 열린 국제 연합 환경 개발 회의에서 채택되었다.

3. 인류 미래를 위한 선택

01 실력 향상 문제

본문 184~185쪽

- 1 ⑤ 2 ④ 3 탈(초)영토성 4 ③
5 ⑤ 6 ③ 7 ① 8 해설 참조 9 ⑤
10 ④

1 지구의 다양한 위기 대처

정답 찾기 ⑤ 지역 경제 협력체는 냉전 체제가 끝난 뒤 경제 문제를 우선시하게 되면서 나타났고 대표적인 사례로는 유럽 연합(EU)을 들 수 있다. 북대서양 조약 기구는 유럽의 여러 국가와 미국 및 캐나다 사이에 체결된 북대서양 조약에 의거하여 설립되었다. 이는 북아메리카와 서유럽을 연결하는 집단 안전 보장 기구로 군사 협력을 위한 조직체이다.

오답 피하기 ① 국제 사회는 제2차 세계 대전 이후 전쟁 방지와 국제 평화를 위해 국제 연합(UN)을 창설하였다.

② 각종 자원 문제를 해결하기 위해 자원 생산국과 소비국 간 대화와 협상, 신·재생 에너지 개발 등을 하고 있다.

③ 국제 사회는 지구촌의 환경 문제를 해결하기 위해 기후 변화 협약 등 다양한 환경 협약을 체결하고 있다.

④ 국제 시민 단체로는 그린피스, 국경 없는 의사회와 같은 비정부 기구 등이 있다.

2 성장의 한계 모형

정답 찾기 나, 르. 자료는 로마 클럽이 1972년 보고서를 통해 발표한 성장의 한계 모형이다. 로마 클럽은 성장의 한계 모형을 통해 인류가 자원 고갈, 환경 오염 등으로 인해 위기에 처해 있다고 밝혔다. 로마 클럽은 인류의 안정적인 성장을 위해서는 적절한 정책과 환경 친화적 기술이 필요하다고 밝혔다.

오답 피하기 가. 1인당 식량 생산량은 2000년대 초반까지 증대하였으나 동일한 시기에 자원의 양은 지속적으로 감소하고 있다.

다. 1인당 공업 생산량 증대로 인해 오염이 심화되고 이로 인해 인류의 위기가 더욱 가속화될 수 있다.

3 탈(초)영토성의 의미

주관식 정답 찾기 자료는 탈(초)영토성에 대한 것이다. 탈(초)영토성은 영토의 고정성과 배타성이 약해지는 현상으로 국가 간 무역 및 투자 등의 제약이 완화되고 사람들의 왕래가 활발해지면서 나타나게 되었다. 이러한 탈(초)영토성의 사례로는 유럽 연합(EU)의 국경선 의미 약화, 다국적 기업의 대두 등을 들 수 있다.

4 세계화의 특징

정답 찾기 ③ 자료는 개별 국민, 상품, 자본, 기술 등이 국경을 초월하여 교류가 이루어지면서 세계가 단일한 체계로 나아가는 현상으로 세계화에 해당한다. 정보 통신 및 교통의 발달로 인해 지구촌의 변화 속도가 더욱 빨라지면서 세계화가 가속화되었다.

오답 피하기 ① 도시화는 인구의 도시 집중과 이에 따른 지역적·사회적 변화 양상을 일컫는 개념이다.

② 산업화는 산업 활동의 확대 과정을 의미하며 산업 혁명 이후 나



타나게 되었다.

- ④ 지역화는 개별 지역의 역할과 의미가 전체적으로 부각되는 현상이다.
 ⑤ 탈공업화는 2차 산업 비중이 감소하고 3차 산업 비중이 증가하는 현상을 의미한다.

5 영토와 국경 문제의 특징

정답 찾기 나. 영토는 한 국가의 주권이 미치는 땅의 범위로 국민의 생존 기반이 된다.

다. 영토 분쟁은 민족적 자존심의 영향을 크게 받으며 자원에 대한 경제적 이익 등이 걸린 까닭에 쉽게 합의점을 찾기 못하고 있다.

르. 영토와 관련하여 지리적인 영토나 공간에 대해서 개인이나 집단이 갖고 있는 배타적인 태도나 성향을 영토성이라고 한다.

오답 피하기 가. 오늘날 영토 범위에 대한 견해 차이는 지속적으로 제기되고 있으며 이로 인한 영토 분쟁이 많이 발생하고 있다. 따라서 정답에는 예로 표기해야 한다.

6 민주주의의 확산과 갈등 발생

정답 찾기 나, 다. 지도는 서남아시아와 북부 아프리카에 위치한 국가들의 민주화 과정을 나타낸 것이다. '아랍의 봄'이라고 불리는 민주화 운동은 튀니지에서 처음 시작되었으며 민주 사회의 실현과 정치적 다양성에 대한 요구로 인해 발생하였다.

오답 피하기 가. 해당 지역은 대부분 이슬람교를 믿는 곳이다. 따라서 크리스티교와의 종교·문화적 갈등이라고 보기는 어렵다.

르. 해당 지역에서의 갈등은 국가 내부에서 정치적 다양성을 요구한 것이다. 소수 민족이 거주 영역에 대한 자치권이나 독립을 요구한 사례로는 중국의 티베트 족과 위구르 족의 독립 요구 등이 대표적이다.

7 소수 민족의 분리 독립 운동

정답 찾기 ① 자료는 중국에서 나타나는 소수 민족 분리 운동과 관련이 있다. 중국의 신장웨이우얼 자치구에서는 위구르 족, 시짱 자치구에서는 티베트 족, 네이멍구 자치구에서는 몽골 족이 각각 독립을 요구하고 있으며 이는 소수 민족의 분리주의 확산이 주원인이다.

오답 피하기 ② 중국은 한족 중심의 중화주의 정책을 강화하고 있으며 이로 인한 소수 민족의 반발이 나타나고 있다.

③ 해당 지역은 소수 민족 간 주도권 쟁탈이라기보다 중국 정부에 소수 민족을 독립시켜 달라는 요구에 해당한다.

④ 해당 지역에서의 갈등은 중국 정부에 대해 이슬람교, 티베트교, 라마교를 믿는 각각의 소수 민족들이 독립을 요구하는 것이지 각 종교 간의 갈등으로 나타난 것이 아니다.

8 동중국해와 남중국해의 영역 분쟁

문제 분석 동중국해와 남중국해에 위치한 센카쿠 열도, 시사 군도, 난사 군도 등에서는 최근 영토·영해 분쟁이 치열하게 전개되고 있다. 이와 같은 분쟁이 동아시아에서 많은 이유는 역사적인 원인과 경제적인 원인으로 살펴볼 수 있다.

모범 답안 동중국해와 남중국해가 위치한 동아시아는 역사적으로 지배와 피지배의 관계가 복잡하였다. 또한 경제적으로 천연자원이 풍부하게 매장되어 있다는 사실이 알려지면서 분쟁이 심화되었다.

구분	채점 기준
상	역사적, 경제적 원인을 모두 정확하게 서술한 경우
중	역사적인 원인과 경제적인 원인 중 한 가지만 정확하게 서술한 경우
하	역사적인 원인과 경제적인 원인을 모두 정확하게 서술하지 못한 경우

9 세계의 영토·국경 분쟁 지역

정답 찾기 ⑤ 지도의 A는 서사하라, B는 이라크 - 쿠웨이트, C는 난사 군도, D는 쿠릴 열도, E는 포클랜드 제도이다. 포클랜드 제도(E)는 아르헨티나와 영국 간 분쟁이 발생한 지역이다.

오답 피하기 ① A - 서사하라 지역은 과거 에스파냐의 식민지였던 서사하라 지역에 대한 모로코의 영유권 주장과 이에 대한 주민들의 독립 투쟁으로 발생하였다.

② B - 이라크와 쿠웨이트 간의 분쟁은 쿠웨이트에 대한 이라크의 영유권 주장으로 인해 발생했으며 이로 인해 걸프 전쟁이 발발하였다.

③ C - 난사 군도는 중국, 타이완, 베트남, 말레이시아, 브루나이, 필리핀 등이 영유권 분쟁을 하고 있는 지역이다.

④ D - 쿠릴 열도의 4개 섬에 대한 러시아와 일본 간의 분쟁 지역에 해당한다.

10 센카쿠 열도의 분쟁

정답 찾기 가, 나, 르. 동중국해 상의 무인도와 암초로 구성된 센카쿠 열도는 명나라 이후 중국의 영토였으나 청일 전쟁 이후 일본 영토에 편입되었고, 제2차 세계 대전 후 미국이 관리하다가 다시 일본에 넘어갔다. 이에 따라 현재 일본이 실효 지배하고 있으나 중국과 타이완이 영유권을 주장하고 있다. 이 지역의 명칭은 일본명은 센카쿠 열도, 중국명은 다오위다오이며, 주변 해역에 석유와 천연가스 등의 자원이 매장되어 있다는 사실이 알려지면서 분쟁이 더욱 격화되고 있다.

오답 피하기 다. 남중국해에 위치하고 있어 산호초가 많은 곳으로 난사 군도를 들 수 있다. 센카쿠 열도는 동중국해에 위치한다.

02 실력 향상 문제

본문 187쪽

1 ③ 2 ③ 3 해설 참조 4 ⑤ 5 ②

1 대륙 철도의 연결

정답 찾기 ③ 지도는 통일 이후 예상되는 철도 연결 노선도를 나타낸 것이다. 철도 노선이 확보되면 철도를 이용한 물류 수송량이 증가하고 국제 수송에서 철도 수송 분담률이 높아질 것이다. 반면 해상 교통의 국제 수송 분담률은 낮아질 것이다.

오답 피하기 ① 남북 연결 철도를 이용함으로써 남한과 북한의 교역이 많아지게 될 것이다. 따라서 남북 간 물자 교역량이 증가할 것이다.

② 대륙 철도를 활용하게 되면 중국, 러시아, 유럽 등이 연결되어 우리나라의 국제 물류비용이 절감될 것이다.

④ 대륙 철도의 연결로 인해 한반도는 대륙과 해양을 연결하는 교통의 중심지로 성장할 것이다.

⑤ 대륙 철도의 연결로 인해 유럽의 여러 국가와 육상 교통을 통한 교류가 확대될 가능성이 높다.



2 우리나라 5대 수출 품목의 수출액 순위 변화

정답 찾기 ③ 자료는 우리나라 5대 수출 품목의 수출액 순위 변화를 나타낸 것이다. 우리나라는 1960년대까지만 하더라도 철광석 등 원자재의 수출이 많았으나 이후 노동 집약적 산업의 발달로 인해 섬유, 의류 등의 수출이 증가하였다. 한편, 최근에는 기술·지식 집약적 산업의 발달로 인해 반도체의 수출액 비중이 증가하였다.

3 고령화 현상

문제 분석 자료는 우리나라 노년층의 변화를 나타내고 있다. 우리나라의 노년층 인구 비율은 지속적으로 증가하였다. 이와 같은 현상을 고령화 현상이라고 한다. 미래에는 고령화 현상으로 인해 고령화 사회와 관련된 다양한 노인 복지 산업이 발달할 것으로 여겨진다.

모범 답안 고령화 현상, 노인 관련 서비스와 의료 산업 등이 발달할 것으로 여겨진다.

구분	채점 기준
상	우리나라에서 예상되는 인구 현상과 그로 인해 발달하게 될 미래 산업을 모두 서술한 경우
중	우리나라에서 예상되는 인구 현상과 관련된 미래 산업만을 서술한 경우
하	우리나라에서 예상되는 인구 현상만을 서술한 경우

4 다문화 사회

정답 찾기 ㄷ, ㄹ. 자료는 우리나라에서 증가하고 있는 다문화 가정 학생 수와 전체 학생 대비 다문화 가정 학생 비율을 나타낸 것이다. 우리나라는 다문화 사회로 변화하고 있으며 이와 관련하여 세계의 다양한 문화를 이해하고 수용하는 개방적 자세의 함양이 필요하다. 또한 외국인의 인권을 보장하는 법 제정 등이 필요하다.

오답 피하기 ㄱ. 다른 문화와 생활 습관을 지닌 이주민들의 유입으로 인해 문화적인 충돌이나 갈등이 증가하였을 것이다.
ㄴ. 우리나라에 거주하는 외국인이 증가하였을 것이다.

5 녹색 성장 패러다임

정답 찾기 ㄱ, ㄷ. 자료는 녹색 성장 패러다임을 나타낸 것이다. 이를 위해 기술을 혁신하여 생태 효율을 높여야 한다. 또한 청정 에너지와 녹색 기술을 통해 에너지 자립을 이루어야 한다.

오답 피하기 ㄴ. 에너지 가격을 낮추게 되면 에너지에 대한 수요가 증가하게 되며 이로 인한 에너지 과소비가 발생할 수 있다.
ㄹ. 지속 가능한 성장을 위해서는 미래 세대가 그들의 필요를 충족시킬 수 있는 능력을 저해하지 않으면서 현재 세대의 필요를 충족시키는 발전 방식을 추구해야 한다.

대단원 종합 문제

본문 188~191쪽

01 ③	02 ④	03 ①	04 ④
05 바이오에탄올	06 ④	07 ③	08 ②
09 ①	10 (가) 사회, (나) 환경, (다) 경제	11 ②	
12 ②	13 ③	14 해설 참조	15 ④
16 ⑤	17 황사, 사막화 현상	18 ①	19 ⑤
20 ③			

01 대륙별 인구 변화

정답 찾기 ③ 세계의 인구는 지속적으로 증가하고 있으며 이 중에서 인구 성장률이 높을 것으로 예상되는 대륙은 아시아, 아프리카 등이다. 반면 유럽은 상대적으로 인구 증가율이 낮을 것으로 예상된다.

오답 피하기 ① 세계 인구는 1650년 이후 지속적으로 증가하고 있다.

② 아시아의 인구는 전 시기에 걸쳐 가장 많았으며, 앞으로도 가장 많을 것으로 예측된다.

④ 2050년 세계 인구는 약 90억 명에 육박할 것이다. 이 중에서 개발 도상국의 인구는 약 80억 명이 될 것으로 예상되므로 세계 인구의 80% 이상은 개발 도상국에 거주할 것이다.

⑤ 최근의 급격한 인구 증가는 개발 도상국의 인구 급증과 관련이 깊다. 개발 도상국은 인구가 급증하고 있는데, 이것이 세계 인구의 급증에 큰 영향을 주었다.

02 세계의 인구 분포

정답 찾기 세계의 인구 분포는 기온, 강수량, 토양, 천연자원 등 자연적 요인과 산업, 교통, 문화, 교육, 인구 정책 등 사회적·경제적 요인의 영향을 받는다.

ㄴ. B는 사하라 사막이 위치한 지역으로 사막이 분포해 인구가 희박하다.

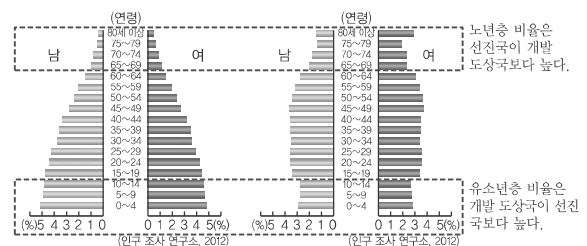
ㄹ. D는 열대 우림 기후가 나타나는 아마존 강 유역으로 연중 고온 다습하기 때문에 인구 밀도가 낮다.

오답 피하기 ㄱ. A는 유럽으로 일찍부터 산업이 발달해 인구 밀도가 높다.

ㄷ. C는 아시아 계절풍 기후 지역으로 벼농사가 발달해 인구가 밀집 분포한다.

03 선진국과 개발 도상국의 인구 피라미드

정답 찾기 선진국과 개발 도상국의 인구 피라미드는 유소년층과 노년층의 인구 비율을 통해서 파악할 수 있다. 선진국은 노년층의 인구 비율이 높으며, 개발 도상국은 유소년층의 인구 비율이 높다.



① (가)는 개발 도상국의 인구 피라미드, (나)는 선진국의 인구 피라미드이다. (나) 선진국은 (가) 개발 도상국보다 노년층의 비중이 높다(A, B, C). 또한 개발 도상국보다 인구 증가율이 낮고(A, C, E).



합계 출산율도 낮게 나타난다(A, D). 따라서 이 모든 조건을 만족하는 것은 그림의 A이다.

04 세계의 식량 작물

정답 찾기 ④ (가)는 중국, 인도, 방글라데시 등 아시아 계절풍 기후 지역에서의 생산 비중이 높은 쌀이다. (나)는 중국, 인도 다음으로 미국, 프랑스, 러시아 등의 생산 비중이 높은 것으로 보아 밀에 해당한다. (다)는 미국의 생산량이 가장 많은 것으로 보아 옥수수에 해당한다. 이 중에서 옥수수(다)는 가축 사료로 이용되는 비중이 높은 작물에 해당한다.

오답 피하기 ① 바이오에탄올의 원료로 수요가 증가하고 있는 것은 옥수수(다)이다.

② 아시아 계절풍 기후 지역에서 주로 생산되는 것은 쌀(가)이다.

③ 쌀(가)은 밀(나)보다 국제 이동량이 적은 편이다.

⑤ 옥수수(다)는 쌀(가)보다 비교적 다양한 기후에서 재배되는 작물로 쌀보다 기후적 제약에 의한 영향이 작다.

05 바이오에탄올

주관식 정답 찾기 생명체에서 얻을 수 있는 물질을 이용하여 만든 연료를 바이오 연료라고 한다. 이 중에서 녹말 작물을 발효시켜 만든 연료는 바이오에탄올이라고 한다. 이것은 연소할 때 배출하는 환경 오염 물질이 화석 연료보다 적다. 따라서 화석 연료를 대체할 재생 에너지로 주목받고 있다.

06 국가별 성인 비만 인구 비율

정답 찾기 ④ 지도에서 비율이 높게 나타나는 곳은 북아메리카, 유럽 등에 위치한 국가로 대체로 선진국이다. 이들 국가와 관련이 깊은 것은 성인 비만 인구 비율이다.

오답 피하기 ① 합계 출산율은 개발 도상국에서 높게 나타난다.

② 쌀 생산 비율은 아시아의 계절풍 기후 지역에서 높게 나타난다.

③ 석탄 매장 비율은 고생대 지층에서 높게 나타난다.

⑤ 영양 결핍 인구 비율은 아프리카와 같은 지역에서 높게 나타난다.

07 주요 화석 에너지의 국가별 생산량 비중

정답 찾기 ③ (가)는 중국의 생산량 비중이 가장 높으므로 석탄이다. (나)는 사우디아라비아와 러시아의 생산 비중이 높으므로 석유이다. (다)는 미국과 러시아의 비중이 높으므로 천연가스이다. 이 중에서 천연가스(다)는 냉동 액화 기술의 발달로 소비량이 크게 증가하였다.

오답 피하기 ① 세계의 1차 에너지 소비 구조에서 차지하는 비중이 가장 높은 것은 석유(나)이다.

② 주로 고기 조산대 주변에 매장되어 있는 에너지 자원은 석탄(가)이다.

④ 자원의 편재성이 커서 국제 이동량이 많은 것은 석유(나)이다.

⑤ 연소 시 대기 오염 물질 배출량이 적은 화석 에너지 자원으로는 천연가스(다)를 들 수 있다. 석유와 석탄은 연소 시 대기 오염 물질 배출량이 많은 편이다.

08 세계의 주요 광물 자원

정답 찾기 ② 재생 수준이 사용량과 재활용 정도에 따라 달라지는 자원으로는 금속 광물과 비금속 광물이 대표적이다. 한편 강도와 경

도가 높으며, 전구의 필라멘트 등에 사용되는 대표적인 금속 광물로는 텅스텐을 들 수 있다. 텅스텐은 현재 중국에서의 생산량이 가장 많은 자원이다.

오답 피하기 ① 전기 분해를 통해서 알루미늄을 얻을 수 있는 광물 자원은 보크사이트이다.

③ 특수 합금, 액정 디스플레이 등의 필수 소재는 희토류이다.

④ 가정용·산업용으로 주로 이용되는 에너지 자원은 천연가스이다.

⑤ 주요 수입국은 2차 산업이 발달한 곳이다.

09 자원을 둘러싼 분쟁 지역

정답 찾기 ① 지도에 표시된 지역은 석유, 천연가스를 둘러싼 분쟁이 나타나는 곳이다. 따라서 자원을 둘러싼 분쟁 지역으로 볼 수 있다.

오답 피하기 ② 종교 차이로 인한 분쟁 지역으로는 팔레스타인, 카슈미르 등이 대표적이다.

③ 언어적 차이에 의한 갈등 지역으로는 벨기에가 대표적이다.

④ 식량 분배를 둘러싼 분쟁 지역으로는 식량 부족 지역인 아프리카에 위치한 국가 등이 표시되어 있어야 한다.

⑤ 소수 민족의 분리 독립 요구 지역으로는 중국이 대표적이다.

10 지속 가능한 발전 구조

주관식 정답 찾기 제시된 자료는 지속 가능한 발전의 구조와 의미를 나타낸 것으로 지속 가능한 발전의 핵심 요소는 사회의 발전과 통합, 환경의 보호, 경제의 성장이다. 지속 가능한 발전은 이와 같은 핵심 요소를 통해 인류와 자연이 지속적으로 공존하는 발전을 추구한다.

11 국가별 1인당 생태 발자국 크기

정답 찾기 ㄱ, ㄴ. 생태 발자국은 인간이 일상생활에서 사용하는 자원의 생산과 폐기에 드는 비용을 토지 면적 또는 지구의 개수로 환산한 값으로 생태계 훼손이 심할수록 1인당 생태 발자국이 크다. 한편 유럽, 북아메리카 등에 위치한 선진국에서의 1인당 생태 발자국이 큰 것을 확인할 수 있다.

오답 피하기 ㄴ. 1인당 생태 발자국 크기와 국가 면적의 크기는 관련이 없으며 1인당 에너지 소비가 많은 국가일수록 1인당 생태 발자국 크기가 큰 편이다.

ㄷ. 1인당 생태 발자국이 클수록 자원의 생산과 폐기에 드는 비용이 많이 발생한다.

12 세계의 종교 분쟁 지역

정답 찾기 ② A는 나이지리아, B는 발칸 반도, C는 팔레스타인, D는 카슈미르, E는 필리핀이다. 발칸 반도(B)에서는 가톨릭교, 그리스 정교, 이슬람교 간 갈등이 나타나고 있다.

오답 피하기 ① A는 나이지리아로 크리스티교와 이슬람교의 갈등 지역이다.

③ C는 팔레스타인으로 유대교와 이슬람교의 갈등 지역이다.

④ D는 카슈미르 지역으로 이슬람교와 힌두교의 갈등 지역이다.

⑤ E는 필리핀으로 가톨릭교와 이슬람교의 갈등 지역이다.

13 언어 차이가 나타나는 지역

정답 찾기 A는 벨기에, B는 스위스이다. 두 국가는 모두 두 개 이



상의 언어를 사용하는 국가이다.

ㄴ. 스위스(B)는 4개의 언어를 공용어로 채택하였다.

ㄷ. 벨기에(A)는 지역 간 문화적(언어적) 차이로 인한 갈등이 지속되어 왔다.

오답 피하기 ㄱ. 벨기에(A)의 갈등은 언어적 차이에 따른 갈등에 해당한다. 구 소련의 해체 과정에서 분쟁이 발생한 지역은 발칸 반도이다.

ㄹ. 벨기에(A)는 언어 차이로 인한 갈등 지역, 스위스(B)는 언어 차이를 극복한 국가이다.

14 퀘벡 주의 분리 독립 운동

문제 분석 지도에 표시된 C 지역은 캐나다의 퀘벡 주이다. 이 지역에서는 캐나다에서의 분리 독립 운동이 나타나고 있다.

모범 답안 캐나다 퀘벡 주, 캐나다 퀘벡 주는 영국 문화가 주류를 이루는 캐나다에서 프랑스 문화와 가톨릭교가 전파된 지역으로 분리 독립 운동이 나타나고 있다.

구분	채점 기준
상	캐나다 퀘벡 주라고 쓰고 캐나다의 주류 문화와 퀘벡 주의 주류 문화 및 종교를 모두 서술한 경우
중	캐나다 퀘벡 주의 주류 문화 및 종교만을 서술한 경우
하	캐나다 퀘벡 주라고만 쓴 경우

15 세계의 지역 분쟁

정답 찾기 제시된 글의 (가)는 콩고 민주 공화국(B)의 사례에 해당한다. (나)는 불교도와 힌두교도 간 분쟁 지역인 스리랑카(D)의 사례이다. A는 에스파냐 북부의 바스크 지방, B는 콩고 민주 공화국, C는 팔레스타인, D는 스리랑카이다.

오답 피하기 A - 바스크 독립 운동은 에스파냐 북부의 바스크 지방에 거주하는 소수 민족인 바스크 족의 독립 운동이다. C - 팔레스타인 분쟁은 유대인(유대교)과 아랍인(이슬람교) 간의 갈등과 관련이 깊다.

16 지구 온난화 현상

정답 찾기 ㄷ, ㄹ. 그림은 온실 효과를 나타낸 것이다. 온실 효과의 강화로 인해 지구 온난화가 나타난다. 지구 온난화로 인해 농작물 재배 북한계선은 북상하며, 해수면 상승으로 인해 해안 저지대의 침수 피해가 증가한다.

오답 피하기 ㄱ. 지구 온난화로 인해 열대성 질병의 발병률은 증가한다.

ㄴ. 지구의 평균 기온이 높아지면 침엽수림의 분포 면적은 축소된다.

17 황사 현상과 사막화

주관식 정답 찾기 지도는 중국 내륙의 고비 사막, 타클라마칸(타클라마칸) 사막 등지의 먼지 폭풍에서 비롯된 황사의 주요 발원지와 이동을 나타낸 것이다. 따라서 A는 황사이며, 이것이 심화된 것과 관련된 현상은 사막화 현상이다. 중국 북부 내륙 지역의 경제 개발로 인해 이 지역의 사막화가 진행되면서 우리나라의 황사 발생 빈도가 늘어나고 있다. 이를 방지하기 위해 조림 사업 실시, 국제적 협력 등이 필요하다.

18 열대림 파괴와 물 분쟁 지역

정답 찾기 ① 지도의 A는 열대림이며, B는 물 분쟁 지역을 나타낸 것이다. 남아메리카, 아프리카, 동남아시아 등 적도 부근에 위치한 지역의 열대림은 자원 개발, 경지 조성 등을 위해 파괴되고 있다.

오답 피하기 ② 지표에 도달하는 자외선의 양이 증가한 것은 염화플루오린화탄소의 사용에 따른 오존층 파괴 정도와 관련이 깊다.

③ 민족의 다양성을 인정하는 것은 민족 분쟁 지역과 관련이 깊다.

④ B 분쟁 지역은 물 자원을 둘러싼 국가 간 갈등에 해당한다.

⑤ 몬트리올 의정서 채택은 오존층 파괴와 관련이 있으며 국제 연합(UN)은 제2차 세계 대전 이후 세계 평화를 위해 창설되었다.

19 아시아의 영역 분쟁

정답 찾기 A는 쿠릴 열도, B는 센카쿠 열도(다오위다오), C는 시사 군도, D는 난사 군도이다.

ㄴ. 센카쿠 열도(B)는 1978년 일본의 자국령 선포로 중국과 일본 간의 갈등이 본격화되었다.

ㄷ. 시사 군도(C)는 주변 해역에 석유와 천연가스 등이 매장되어 있는 지역으로 중국과 베트남 간 분쟁 지역에 해당한다.

ㄹ. 난사 군도(D)는 중국, 타이완, 베트남, 말레이시아, 필리핀, 브루나이 등 6개국이 영유권을 주장하고 있다.

오답 피하기 ㄱ. 쿠릴 열도(A)는 현재 러시아가 실효 지배하고 있으며 일본과 러시아의 분쟁 지역에 해당한다. 제2차 세계 대전 이후 미국이 관리하다가 일본이 실효 지배하고 있는 지역은 센카쿠 열도(다오위다오)이다.

20 남북한의 주요 사회 지표

정답 찾기 ㄴ, ㄷ. 남한은 북한보다 전력 생산량이 상당히 많으며 인구 대비 전력 자원도 많다. 한편 남한은 자본과 기술 측면에서, 북한은 지하자원 측면에서 경쟁력이 높다.

오답 피하기 ㄱ. 에너지 자원의 수입량은 남한이 북한보다 많다.

ㄹ. 북한은 남한보다 철도 총 연장이 긴 반면, 도로 총 연장은 짧다. 따라서 북한은 남한보다 철도 교통의 이용 비중이 높음을 유추할 수 있다.