



정답 및 풀이

❖ 빠른 정답 찾기

2~9

「빠른 정답 찾기」는 각 문제의 정답만을 실어 문제의 정답을 빠르게 확인할 수 있습니다.

🔍 자세한 풀이

10~103

I 제곱근과 실수

01	제곱근의 뜻과 성질	10
02	무리수와 실수	19
03	근호를 포함한 식의 계산 (1)	25
04	근호를 포함한 식의 계산 (2)	31

II 인수분해

05	인수분해 공식	41
06	인수분해 공식의 활용	47

III 이차방정식

07	이차방정식의 풀이 (1)	54
08	이차방정식의 풀이 (2)	64
09	이차방정식의 활용	72

IV 이차함수

10	이차함수의 그래프 (1)	78
11	이차함수의 그래프 (2)	86
12	이차함수의 활용	93

01 제곱근의 뜻과 성질

A 단계

- 0001 64, 64, ± 8 0002 $\frac{4}{9}, \frac{4}{9}, \pm \frac{2}{3}$
 0003 0 0004 1, -1 0005 13, -13
 0006 없다. 0007 0.1, -0.1 0008 $\frac{1}{12}, -\frac{1}{12}$
 0009 \times 0010 \bigcirc 0011 \times 0012 \times
 0013 (1) 6 (2) -6 (3) 3 (4) -3 (5) $\frac{5}{2}$ (6) $-\frac{5}{2}$
 0014 $\pm\sqrt{11}$ 0015 $\pm\sqrt{50}$ 0016 $\pm\sqrt{5.4}$ 0017 $\pm\sqrt{\frac{3}{20}}$
 0018 2 0019 -9 0020 ± 0.8 0021 $\frac{4}{3}$ 0022 $\sqrt{6}$
 0023 $-\sqrt{6}$ 0024 $\pm\sqrt{6}$ 0025 $\sqrt{6}$
 0026 (1) ± 4 (2) 4 (3) $\pm\sqrt{18}$ (4) $\sqrt{18}$ 0027 2.1 0028 $-\frac{4}{13}$
 0029 -27 0030 -16 0031 $\frac{9}{8}$ 0032 -2.3 0033 4
 0034 -2 0035 $\frac{1}{2}$ 0036 2 0037 (1) a (2) $-a$
 (3) a (4) $-a$ (5) $-a$ (6) a (7) $-a$ (8) a
 0038 $7a$ 0039 $3a$ 0040 $-7a$ 0041 $-3a$
 0042 $>, 1-a$ 0043 $<, -a+1$
 0044 5 0045 2 0046 $<$ 0047 $>$ 0048 $<$
 0049 $<$ 0050 $\sqrt{27}, \sqrt{32}, \sqrt{35}$ 0051 9, 10, 11, ..., 15
 0052 2, 3, 4, ..., 8

B 단계

- 0053 ④, ⑤ 0054 ⑤ 0055 ①, ③ 0056 27
 0057 ② 0058 ② 0059 ③, ④ 0060 $(\neg), (\supset), (=)$
 0061 ④ 0062 ④ 0063 2 0064 ①, ⑤ 0065 ②
 0066 -1 0067 $\sqrt{6}$ 0068 ④ 0069 ③ 0070 $\sqrt{22}$
 0071 ③ 0072 ② 0073 ①, ③ 0074 ⑤ 0075 ⑤
 0076 $(-\sqrt{6})^2$ 0077 ⑤ 0078 ④ 0079 -4
 0080 ⑤ 0081 5 0082 ⑤ 0083 13 0084 ③
 0085 40 0086 5 0087 -2 0088 ⑤ 0089 ②
 0090 ④ 0091 ④ 0092 ⑤ 0093 1 0094 ①
 0095 ⑤ 0096 $2a$ 0097 $\frac{1}{4}a^2$ 0098 $-ab$ 0099 ④
 0100 ③ 0101 -3 0102 $2a-2c$ 0103 ②
 0104 $-3a-2b$ 0105 ② 0106 ② 0107 ①
 0108 5 0109 33 0110 38 0111 42 0112 90
 0113 3 0114 ④ 0115 ④ 0116 ⑤ 0117 ①
 0118 ② 0119 8 0120 ⑤ 0121 ② 0122 ③

0123 66 0124 ④ 0125 ③

- 0126 $\sqrt{6}, 1, 0, -\sqrt{2}, -\sqrt{3}$ 0127 $-\sqrt{15}, \sqrt{\frac{1}{5}}$
 0128 ⑤ 0129 27 0130 ④ 0131 ③ 0132 ③
 0133 ⑤ 0134 11 0135 ② 0136 ④ 0137 54
 0138 ③ 0139 ② 0140 30 0141 ② 0142 3
 0143 3 0144 ④ 0145 19

C 단계

- 0146 ⑤ 0147 ③, ⑤ 0148 ② 0149 ⑤
 0150 ⑤ 0151 $-2 \leq a \leq 2$ 0152 $-2a+2b-2c$
 0153 ③ 0154 6 0155 ④ 0156 28 0157 ④
 0158 48 0159 ② 0160 34 0161 $\sqrt{2}m$ 0162 $2x+6$
 0163 $x+5$ 0164 $3a-1$ 0165 36 0166 $1-ab$ 0167 9

02 무리수와 실수

A 단계

- 0168 무 0169 유 0170 유 0171 무
 0172 유 0173 유 0174 \times 0175 \bigcirc 0176 \times
 0177 \bigcirc 0178 2,665 0179 2,709 0180 2,655 0181 2,687
 0182 5 0183 $\sqrt{5}$ 0184 $1+\sqrt{5}$ 0185 $1-\sqrt{5}$ 0186 \bigcirc
 0187 \bigcirc 0188 \times 0189 $<$ 0190 $<$ 0191 $>$
 0192 $>$

B 단계

- 0193 ② 0194 ③ 0195 ②, ④ 0196 84
 0197 $(\neg), (\supset)$ 0198 ②, ③ 0199 ④ 0200 $(\neg), (\supset), (=)$
 0201 ④ 0202 ②, ⑤ 0203 ⑤ 0204 ① 0205 ③
 0206 11,592 0207 -13 0208 ①, ③ 0209 점 C 0210 -2
 0211 ③ 0212 $3+\sqrt{2}$ 0213 $P(2-\sqrt{2}), Q(2+\sqrt{2})$
 0214 -2 0215 $-2+\sqrt{10}$ 0216 6 0217 $2-\sqrt{5}$
 0218 ③, ⑤ 0219 ②, ⑤ 0220 3 0221 ② 0222 ③
 0223 ④ 0224 ③ 0225 ④ 0226 ③
 0227 $\sqrt{a-b} > \sqrt{a}-\sqrt{b}$ 0228 ③

0229 (1) $A > B$ (2) $A < C$ (3) $B < A < C$ 0230 B 0231 3
 0232 ② 0233 ④ 0234 점 B 0235 ①
 0236 구간 F, 구간 B, 구간 C 0237 ④ 0238 ⑤
 0239 ② 0240 ①, ⑤ 0241 ② 0242 (㉠), (㉡), (㉢)

C 단계 0243 ② 0244 (㉠) 0245 ③ 0246 ⑤
 0247 9 0248 ⑤ 0249 4030 0250 ②, ④ 0251 456
 0252 $-1 - \sqrt{2}$ 0253 4 0254 $3 + \sqrt{2}$ 0255 10
 0256 $\sqrt{6} + \sqrt{5}$, $-\sqrt{5}$

0331 ④ 0332 2 0333 ⑤ 0334 $\frac{\sqrt{30}}{15}$ 0335 ④
 0336 ④ 0337 8 0338 ① 0339 $\frac{3\sqrt{2}}{4}$ 0340 ④
 0341 $90\sqrt{15}\pi \text{ cm}^3$

C 단계 0342 ⑤ 0343 ① 0344 ① 0345 ⑤
 0346 ④ 0347 7 0348 ⑤ 0349 ② 0350 ⑤
 0351 $\frac{2\sqrt{3}}{3}$ 배 0352 $\frac{4\sqrt{3}}{3}$ 0353 $\frac{2\sqrt{21}}{7}$ 0354 $\frac{4}{5}$
 0355 $5\sqrt{2} \text{ cm}$

03 근호를 포함한 식의 계산 (1)

A 단계 0257 $\sqrt{10}$ 0258 $2\sqrt{42}$ 0259 $15\sqrt{10}$ 0260 2
 0261 3 0262 5 0263 10 0264 $2\sqrt{7}$ 0265 $4\sqrt{2}$
 0266 $-5\sqrt{2}$ 0267 $-4\sqrt{3}$ 0268 $\sqrt{24}$ 0269 $\sqrt{125}$ 0270 $-\sqrt{90}$
 0271 $-\sqrt{98}$ 0272 $\sqrt{7}$ 0273 $\sqrt{5}$ 0274 6
 0275 (㉠) 5 (㉡) 3 (㉢) 5 0276 (㉠) 90 (㉡) 2 (㉢) 10 (㉣) 10
 0277 $\frac{\sqrt{7}}{3}$ 0278 $\frac{\sqrt{31}}{10}$ 0279 $\frac{\sqrt{3}}{10}$ 0280 $\frac{\sqrt{3}}{5}$ 0281 $\frac{\sqrt{6}}{6}$
 0282 $2\sqrt{5}$ 0283 $\frac{\sqrt{14}}{7}$ 0284 $\frac{3\sqrt{3}}{2}$

B 단계 0285 ⑤ 0286 ④ 0287 ② 0288 10
 0289 3 0290 2 0291 $2\sqrt{5}$ 0292 ③ 0293 ④
 0294 ① 0295 30 0296 (1) 128 (2) $32\sqrt{2}$ 0297 ⑤
 0298 $4, \sqrt{17}, 3\sqrt{2}, 2\sqrt{5}$ 0299 12 0300 25 0301 ⑤
 0302 24 0303 $2\sqrt{2}$ 0304 4배 0305 $\sqrt{3}$ 0306 ①
 0307 ② 0308 ① 0309 ③ 0310 $\sqrt{0.75}, \frac{\sqrt{3}}{6}, \sqrt{\frac{3}{121}}$
 0311 ④ 0312 20 0313 ⑤ 0314 ⑤ 0315 15
 0316 ④ 0317 ③, ⑤ 0318 ④ 0319 ① 0320 ④
 0321 3 0322 ③ 0323 ③ 0324 $\frac{\sqrt{6}}{6}$ 0325 ④
 0326 $\frac{\sqrt{3}}{\sqrt{5}}$ 0327 ⑤ 0328 4 0329 $\frac{9}{2}$ 0330 ④

04 근호를 포함한 식의 계산 (2)

A 단계 0356 $9\sqrt{3}$ 0357 $4\sqrt{2}$ 0358 $-25\sqrt{3}$
 0359 $10\sqrt{2} - 3\sqrt{3}$ 0360 $-8\sqrt{7} + 12\sqrt{10}$
 0361 (㉠) 2 (㉡) 2 (㉢) 3 (㉣) 11 (㉤) 3 0362 $2\sqrt{2}$ 0363 $4\sqrt{3}$
 0364 $10\sqrt{5}$ 0365 $2\sqrt{2} + 2\sqrt{3}$ 0366 $3\sqrt{3} - 4\sqrt{6}$
 0367 $\sqrt{15} + \sqrt{21}$ 0368 $3\sqrt{10} - 2\sqrt{30}$
 0369 $2\sqrt{3} - 2\sqrt{6}$ 0370 $\sqrt{5} - \sqrt{3}$
 0371 $5 - 2\sqrt{3}$ 0372 $\frac{\sqrt{5} + \sqrt{15}}{5}$
 0373 $\frac{2\sqrt{6} - \sqrt{10}}{2}$ 0374 $\frac{\sqrt{6} + 1}{2}$
 0375 $\frac{\sqrt{30} - 3}{6}$ 0376 $\sqrt{5} + 2$ 0377 $3 + \sqrt{7}$ 0378 $\sqrt{6} + 2$
 0379 $\sqrt{3} + \sqrt{2}$ 0380 $3 + 2\sqrt{2}$ 0381 $4 + \sqrt{15}$

B 단계 0382 ③ 0383 ① 0384 ⑤ 0385 $5\sqrt{2}$
 0386 ⑤ 0387 $-2 + \sqrt{6}$ 0388 ① 0389 ③
 0390 ⑤ 0391 18 0392 ③ 0393 ④ 0394 ③
 0395 ①, ③ 0396 $\frac{4}{5}$ 배 0397 ③ 0398 $-6\sqrt{3} + 2\sqrt{7}$
 0399 ② 0400 ③ 0401 -7 0402 13 0403 -2
 0404 ⑤ 0405 10 0406 $\frac{\sqrt{15}}{15}$ 0407 ① 0408 ①
 0409 5 0410 ⑤ 0411 $\sqrt{10}$ 0412 7 0413 -1

0414 ⑤ 0415 ② 0416 $9\sqrt{7}$ 0417 ③ 0418 -1
 0419 ⑤ 0420 ③ 0421 ④ 0422 (1) 5 (2) 24
 0423 2 0424 4 0425 ④ 0426 ⑤ 0427 ④
 0428 ④ 0429 -2 0430 -4 0431 ② 0432 ①
 0433 ④ 0434 3,224 0435 26,424 0436 ④ 0437 ⑤
 0438 ② 0439 ③ 0440 ① 0441 $2\sqrt{2}-3$
 0442 26 0443 ③ 0444 ⑤ 0445 ④ 0446 1
 0447 ⑤ 0448 ④ 0449 $\pm\sqrt{21}$ 0450 ③ 0451 ⑤
 0452 ① 0453 -44 0454 ② 0455 -1 0456 ②
 0457 ③ 0458 ③ 0459 ⑤ 0460 9 0461 $4+\sqrt{3}$
 0462 ② 0463 ④ 0464 $(6\sqrt{3}-6)\text{cm}$ 0465 ⑤
 0466 $60\sqrt{2}\text{cm}^3$ 0467 $28\sqrt{5}\text{cm}$ 0468 ②
 0469 ③ 0470 ④ 0471 $4\sqrt{2}$ 0472 ③ 0473 ⑤
 0474 ④ 0475 ①
 0476 (1) $A < B$ (2) $C < A$ (3) $C < A < B$ 0477 ⑤

C 단계 0478 ⑤ 0479 ③ 0480 ②
 0481 $\frac{2\sqrt{33}}{3}$ 0482 ② 0483 ③, ⑤ 0484 -24
 0485 ④ 0486 ③ 0487 ⑤ 0488 $-2\sqrt{6}$ 0489 $17\sqrt{3}$
 0490 2 0491 ① 0492 $4-\sqrt{6}$ 0493 $3-2\sqrt{6}$
 0494 5 0495 141 0496 20 0497 $(7+6\sqrt{2})\text{m}^2$
 0498 $24-4\sqrt{6}$

05 인수분해 공식

A 단계 0499 x^2+3x 0500 $x^2+12x+36$
 0501 $2x^2-x-3$ 0502 $xy, xy(x+5)$
 0503 $x^2, x^2(x-y+z)$ 0504 $2y, 2y(x^2-2)$
 0505 $2a(2ab-1)$ 0506 $-5xy^2(1-2xy)$
 0507 $x(a+2b-5)$ 0508 $(a+3)(xy-2)$
 0509 $(a-b)(x+y)$ 0510 $3x(a-1)$
 0511 $(a+1)^2$ 0512 $(2x+1)^2$
 0513 $(5x+3y)^2$ 0514 $(a-6)^2$

0515 $(4x-3)^2$ 0516 $(x-\frac{1}{3})^2$ 0517 25
 0518 16 0519 $\frac{1}{4}$ 0520 ± 16 0521 ± 14 0522 $\pm \frac{2}{5}$
 0523 $(x+2)(x-2)$ 0524 $(5a+b)(5a-b)$
 0525 $(\frac{1}{2}x+\frac{2}{3}y)(\frac{1}{2}x-\frac{2}{3}y)$ 0526 $3(y+5)(y-5)$
 0527 2, 4 0528 -1, 5 0529 -5, 3 0530 -7, -5
 0531 (가) x (나) -1 (다) $-x$ (라) $-4x$ (마) 1
 0532 (가) x (나) -2 (다) 12 (라) $-2x$ (마) 2
 0533 $(x+1)(x+2)$ 0534 $(x-4)(x-3)$
 0535 $(x+3)(x-8)$ 0536 $(a+3b)(a-2b)$
 0537 (가) $2x$ (나) 5 (다) $10x$ (라) $-3x$ (마) 5 (바) 2
 0538 (가) $3x$ (나) -1 (다) 1 (라) $-3x$ (마) 1 (바) 3
 0539 $(3x+1)(x-2)$ 0540 $(2a+3)(3a+2)$
 0541 $(x-2y)(3x+5y)$ 0542 $(-5x+2y)(2x-y)$

B 단계 0543 ③ 0544 ② 0545 ④ 0546 ④
 0547 ④ 0548 ③ 0549 ② 0550 $2x-3$ 0551 ⑤
 0552 ③ 0553 ② 0554 15 0555 21 0556 64
 0557 ② 0558 ③ 0559 ④ 0560 8 0561 $\frac{16}{3}$
 0562 ⑤ 0563 ③ 0564 $2x$ 0565 $a+2b$ 0566 ①
 0567 ①, ③ 0568 21 0569 ④ 0570 ⑤ 0571 ④
 0572 ④ 0573 -13 0574 ④ 0575 $(x+4)(x-1)$
 0576 ④ 0577 $2x-2$ 0578 ④ 0579 ③ 0580 ②, ③
 0581 ④ 0582 2 0583 $8x+3$ 0584 8 0585 ④
 0586 ⑤ 0587 17 0588 ④ 0589 ② 0590 ④
 0591 ③ 0592 -28 0593 ⑤ 0594 -6 0595 ①
 0596 ② 0597 (1) x^2-6x+8 (2) $(x-2)(x-4)$
 0598 $(2x+3)(x-5)$ 0599 ⑤ 0600 ② 0601 ③
 0602 $8x+6$ 0603 $28x$ 0604 ② 0605 $2a+3$ 0606 $x+5$
 0607 ⑤ 0608 24

C 단계 0609 ① 0610 ② 0611 ② 0612 380
 0613 $2(x+1)(x-10)$ 0614 최댓값: 22, 최솟값: -22
 0615 4 0616 ① 0617 ① 0618 $\frac{2}{3}$ 0619 $\frac{3}{x}$
 0620 14 0621 5 0622 $x^2+10x+25$

06

인수분해 공식의 활용

A 단계

0623 $y(x-4)^2$

0624 $x^2(x+2)(x-2)$

0625 $2a(a+3)(a-1)$

0626 $(x+9)^2$

0627 $(a-b-2)^2$

0628 $(a+5)(a-1)$

0629 $4(x+2)(x+4)$

0630 $y-1$

0631 $a+1$

0632 $b-3$

0633 $x+2$

0634 $a+7$

0635 $x-3$

0636 $(x-y)(x+y+1)$

0637 $(x-y+2)(x-y-2)$

0638 340

0639 10000

0640 10000

0641 199

0642 2500

0643 100

0644 10

0645 600

B 단계

0646 ⑤

0647 ④

0648 ①, ② 0649 -8

0650 ②, ③ 0651 ③

0652 ②

0653 $2x-17$

0654 ①

0655 -108

0656 ②

0657 ④

0658 ①

0659 $2a+6$

0660 -6

0661 ②, ④

0662 ①, ⑤

0663 $\ominus, 3(3x-2y)(7x-5y)$

0664 ③

0665 $-16xy$

0666 ③

0667 $(x+3)(x-3)(x^2+4)$

0668 ①, ④ 0669 88

0670 ⑤

0671 ①

0672 ②

0673 ⑤

0674 ①

0675 4

0676 ③

0677 ①, ②

0678 $2x$

0679 ③

0680 ④

0681 0

0682 ③

0683 $x-y+4$

0684 -5

0685 ④

0686 ⑤

0687 ①

0688 920

0689 ④

0690 1

0691 ①

0692 ③

0693 ⑤

0694 ③

0695 ①

0696 -6

0697 120

0698 ①

0699 ④

0700 ①

0701 ①

0702 ①

0703 $5-2\sqrt{5}$

0704 $9\sqrt{5}$

0705 ⑤

0706 ④

0707 $6x^2+4xy-2$

C 단계

0708 $(x-4y-3)^2$

0709 ④

0710 ②, ④

0711 ①

0712 ①

0713 -6

0714 ⑤

0715 ①

0716 ③

0717 7006

0718 ④

0719 ④

0720 ②

0721 56

0722 ⑤

0723 $(xy-3x+9)(xy-3y+9)$

0724 54

0725 $18\sqrt{10}-27$

0726 5

0727 $-7+7\sqrt{5}$

0728 $\frac{1}{4}$

0729 2

0730 2

07

이차방정식의 풀이 (1)

A 단계

0731 \times

0732 \circ

0733 \circ

0734 \times

0735 ②

0736 \circ

0737 \times

0738 \circ

0739 $x=0$ 또는 $x=1$

0740 $x=-1$

0741 $x=1$

0742 -4

0743 -6

0744 2

0745 $(\neg), (\wedge), (\vee)$

0746 $x=0$ 또는 $x=2$

0747 $x=-5$ 또는 $x=1$

0748 $x=-\frac{1}{3}$ 또는 $x=-\frac{1}{4}$

0749 $x=-5$ 또는 $x=5$

0750 $x=0$ 또는 $x=8$

0751 $x=-\frac{1}{5}$ 또는 $x=\frac{1}{2}$

0752 $x=-3$ 또는 $x=\frac{2}{3}$

0753 $x=-5$ (중근)

0754 $x=-\frac{1}{2}$ (중근)

0755 $x=-4$ (중근)

0756 $x=\frac{2}{3}$ (중근)

0757 $x=\pm\sqrt{2}$

0758 $x=\pm\frac{7}{2}$

0759 $x=-4\pm\sqrt{2}$

0760 $x=-3$ 또는 $x=1$

0761 $(\neg) 9$ $(\wedge) 3$ $(\vee) 6$

0762 $(x-1)^2=5$

0763 $(x-2)^2=3$

0764 $(x+2)^2=\frac{8}{3}$

0765 $(x+5)^2=26$

0766 $a=25, b=5$

0767 $a=\frac{9}{4}, b=-\frac{3}{2}$

0768 $a=\frac{1}{49}, b=\frac{1}{7}$

0769 $(\neg) 1$ $(\wedge) 1$ $(\vee) 6$ $(\Rightarrow) \pm\sqrt{6}$ $(\Leftrightarrow) 1\pm\sqrt{6}$

0770 $x=4\pm\sqrt{7}$

0771 $x=\frac{-1\pm\sqrt{26}}{5}$

0772 $x=1\pm\frac{\sqrt{10}}{2}$

0773 $x=\frac{4\pm\sqrt{13}}{3}$

B 단계

0774 ③

0775 ⑤

0776 13

0777 ④

0778 ⑤

0779 ④

0780 $x=1$

0781 ②

0782 $x=2$

0783 ④

0784 37

0785 $a=1, b=3$

0786 ④

0787 ④

0788 ①

0789 ④

0790 1

0791 ⑤

0792 14

0793 ③

0794 13

0795 ②

0796 ③

0797 24

0798 ①

0799 ④

0800 $x=-1$ 또는 $x=5$

0801 18

0802 ④

0803 -3

0804 ④

0805 ①

0806 3

0807 ⑤

0808 1

0809 ①

0810 ③

0811 $(1) 3$ $(2) x=\frac{4}{3}$

0812 ⑤

0813 3

0814 15

0815 ③

0816 1

0817 ②, ④

0818 ③

0819 8

0820 ⑤

0821 ②

0822 ①, ⑤ 0823 ①

0824 8

0825 ②

0826 5

0827 $x=-2$

0828 ①

0829 -4 0830 5 0831 ⑤ 0832 $-\frac{3}{2}$ 0833 ③
 0834 ④ 0835 10 0836 ① 0837 5 0838 ③
 0839 ③ 0840 6 0841 ⑤ 0842 $\frac{7}{4}$ 0843 4
 0844 33 0845 ③ 0846 ④ 0847 ③ 0848 40
 0849 ② 0850 16

C 단계 0851 ④ 0852 ③ 0853 $x=0$ 또는 $x=5$
 0854 ④ 0855 ② 0856 ④ 0857 $x=-3$ 또는 $x=1$
 0858 $x=\frac{10}{3}$ 0859 $\frac{3}{2}$ 0860 ③ 0861 ②
 0862 -6 0863 ③ 0864 -25 0865 ④ 0866 ⑤
 0867 6 0868 -1 0869 (1) $x=-2y$ (2) -3
 0870 $-\frac{1}{2}$ 0871 (1) $-\frac{9}{2}, \frac{11}{2}$ (2) 95 0872 6
 0873 $\frac{5 \pm \sqrt{29}}{2}$
 0874 (1) $x = \frac{5 \pm \sqrt{25-4q}}{2}$ (2) $q \leq \frac{25}{4}$ (3) 4, 6

B 단계 0897 ① 0898 ③ 0899 ① 0900 ⑤
 0901 -24 0902 ② 0903 -8 0904 2 0905 $x=\frac{2}{3}$
 0906 ④ 0907 ④ 0908 36 0909 $\sqrt{13}$ 0910 ④
 0911 ① 0912 $x=-\frac{7}{6}$ 0913 4 0914 ③
 0915 -8 0916 3 0917 ③, ⑤ 0918 ④ 0919 ③
 0920 1 0921 ① 0922 3 0923 5 0924 ①
 0925 0 0926 ② 0927 ①, ③ 0928 -1 0929 $\frac{3}{2}$
 0930 ⑤ 0931 8 0932 ⑤ 0933 ⑤
 0934 $-\frac{1}{4} < k \leq \frac{3}{2}$ 0935 4 0936 ③ 0937 48
 0938 3 0939 -2 0940 ④ 0941 ⑤ 0942 $\frac{3}{8}$
 0943 ③ 0944 $\frac{4}{5}$ 0945 10 0946 -4 0947 ⑤
 0948 ③ 0949 $x=\frac{1}{2}$ 또는 $x=3$ 0950 8 0951 -36
 0952 ② 0953 ④ 0954 ③ 0955 4 0956 19
 0957 ⑤

C 단계 0958 ④ 0959 ⑤ 0960 ③ 0961 30
 0962 ① 0963 ② 0964 1 0965 ④
 0966 $x = \frac{-3 \pm \sqrt{17}}{4}$ 0967 ②, ⑤ 0968 11 0969 $\frac{1}{18}$
 0970 -5 0971 -6 0972 -9

08 이차방정식의 풀이 (2)

A 단계 0875 (가) $-\frac{c}{a}$ (나) $\frac{b}{2a}$ (다) b^2-4ac (라) $-b$
 0876 $x = \frac{-3 \pm \sqrt{41}}{4}$ 0877 $x = \frac{-7 \pm \sqrt{13}}{6}$
 0878 $x = -1 \pm 2\sqrt{2}$ 0879 $x = \frac{1 \pm \sqrt{7}}{3}$
 0880 $x = -3$ 또는 $x = 8$ 0881 $x = \frac{2 \pm \sqrt{13}}{3}$
 0882 $x = \frac{-3 \pm \sqrt{17}}{2}$ 0883 $x = 1 \pm \sqrt{5}$
 0884 $x = -9$ 또는 $x = 5$ 0885 $x = 1$ (중근)
 0886 $x = 1$ 또는 $x = 9$ 0887 $x = -\frac{10}{3}$ 또는 $x = -1$
 0888 (1) 33 (2) 2 (3) 0 (4) 1 (5) -16 (6) 0 0889 0
 0890 2 0891 1 0892 0 0893 5, -2
 0894 0, $-\frac{5}{2}$ 0895 4, $\frac{5}{3}$ 0896 -2, -10

09 이차방정식의 활용

A 단계 0973 $1-\sqrt{2}$ 0974 $3+\sqrt{5}$ 0975 $2-3\sqrt{3}$
 0976 $5+7\sqrt{2}$ 0977 $6-2\sqrt{3}$
 0978 $4+2\sqrt{5}$ 0979 $x^2-10x+24=0$
 0980 $x^2-6x=0$ 0981 $x^2+4x+4=0$
 0982 $x^2-\frac{1}{25}=0$ 0983 $x^2+\frac{1}{4}x-\frac{3}{4}=0$
 0984 $8x^2-2x-1=0$ 0985 $9x^2-6x+1=0$
 0986 $-x^2+3x+10=0$ 0987 $3x^2-9x-8=0$
 0988 (1) $x^2-4x+3=0$ (2) 1 또는 3

0989 (1) $2x+1$ (2) 5 (3) 9, 11 0990 (1) 0m (2) 8초
 0991 (1) $(x^2+13x+40)m^2$ (2) 2

B 단계 0992 ① 0993 3 0994 8 0995 -16
 0996 ⑤ 0997 ④ 0998 12 0999 ③
 1000 $2x^2+3x-6=0$ 1001 $5x^2+28x-49=0$ 1002 -6
 1003 $x=1$ 또는 $x=2$ 1004 ⑤ 1005 ② 1006 ④
 1007 ③ 1008 2 1009 ② 1010 ①, ④ 1011 ④
 1012 -3 또는 -1 1013 182 1014 57 1015 ③
 1016 63 1017 ① 1018 ③ 1019 ④ 1020 5
 1021 12 1022 ③ 1023 ② 1024 (1) 15 (2) 3초
 1025 6초 1026 12cm 1027 ③ 1028 4cm
 1029 $(-3+3\sqrt{5})\text{cm}$ 1030 12cm 1031 ⑤
 1032 $(-2+2\sqrt{2})\text{cm}$ 1033 ③ 1034 2cm 1035 ④
 1036 3 1037 $(6+6\sqrt{2})\pi\text{m}$ 1038 ③ 1039 6초
 1040 18cm^2 1041 72cm^3 1042 ②, ③ 1043 2m 1044 ②
 1045 2m

C 단계 1046 $x=2$ 또는 $x=4$ 1047 34 1048 ⑤
 1049 12초 1050 $-12+6\sqrt{6}$ 1051 $(6-\sqrt{14})\text{cm}$
 1052 ③ 1053 ② 1054 10m 1055 60
 1056 $\frac{10-2\sqrt{13}}{3}\text{cm}$ 1057 18 1058 20cm^2

10 이차함수의 그래프 (1)

A 단계 1059 \times 1060 \bigcirc 1061 \times 1062 \bigcirc
 1063 $y=4x$, 이차함수가 아니다.
 1064 $y=4\pi x^2$, 이차함수이다.
 1065 $y=x^2+x$, 이차함수이다. 1066 -5 1067 -3
 1068 -15 1069 $-\frac{37}{9}$ 1070 (ㄱ), (ㄴ)

1071 (1) (0, 0) (2) $x=0$ (3) $y=\frac{2}{5}x^2$ 1072 (ㄱ), (ㄴ) 1073 (ㄷ)

1074 (ㄴ), (ㄴ) 1075 (ㄴ) 1076 (ㄴ) 1077 (ㄱ) 1078 (ㄷ)

1079 $0 < a < 2$ 1080 $a < -1$

1081 $y=-4x^2-2$ 1082 $y=\frac{1}{5}x^2-1$

1083 $y=2x^2+\frac{2}{3}$ 1084 (0, -1), $x=0$

1085 (0, 2), $x=0$ 1086 $a < 0$, $q > 0$

1087 $a > 0$, $q < 0$ 1088 $y=(x+3)^2$

1089 $y=-2(x-1)^2$ 1090 $y=\frac{4}{3}\left(x+\frac{1}{2}\right)^2$

1091 (3, 0), $x=3$ 1092 $\left(\frac{1}{5}, 0\right)$, $x=\frac{1}{5}$

1093 $a > 0$, $p > 0$ 1094 $a < 0$, $p < 0$

1095 $y=\frac{7}{2}(x-1)^2-1$ 1096 $y=5(x-2)^2+4$

1097 $y=-(x+4)^2-2$ 1098 (1, 2), $x=1$

1099 $\left(\frac{3}{2}, -3\right)$, $x=\frac{3}{2}$

B 단계 1100 ①, ④ 1101 3 1102 ② 1103 $a \neq 3$
 1104 ②, ⑤ 1105 ① 1106 3 1107 ④ 1108 ④
 1109 -6 1110 1 1111 ⑤ 1112 ④ 1113 (ㄱ), (ㄷ)
 1114 ② 1115 $0 < a < \frac{3}{4}$ 1116 ③ 1117 ③
 1118 -4 1119 ②, ④ 1120 ③ 1121 20 1122 12
 1123 ⑤ 1124 -8 1125 $\sqrt{6}$ 1126 ② 1127 ⑤
 1128 $-\frac{2}{3}$ 1129 9 1130 ② 1131 (ㄷ), (ㄴ) 1132 ⑤
 1133 ⑤ 1134 ④ 1135 20 1136 -3 1137 ②
 1138 제3사분면 1139 ④ 1140 ② 1141 -8
 1142 ① 1143 ③ 1144 1 1145 1 1146 ③
 1147 -1 1148 ⑤ 1149 2 1150 4 1151 ②
 1152 -2 1153 ② 1154 ⑤ 1155 ③ 1156 ③, ⑤
 1157 7 1158 ④ 1159 ④ 1160 ④ 1161 ①
 1162 ③

C 단계 1163 3 1164 ④ 1165 ④ 1166 $\frac{1}{3}$
 1167 16 1168 5 1169 ① 1170 ③ 1171 ⑤
 1172 3 1173 ③ 1174 ① 1175 ②

- 1176 제3사분면 1177 ② 1178 $\frac{64}{9}$
 1179 $-5 < k < -\frac{1}{2}$ 1180 20 1181 1
 1182 $P(-1+2\sqrt{2}, -8)$ 1183 $y = -x + 3$ 1184 $k > 3$
 1185 52 1186 (1) $\frac{3}{4}$ (2) $y = -\frac{3}{4}x^2 - 4$

- C 단계 1246 ④ 1247 ⑤ 1248 9 1249 $\frac{16}{3}$
 1250 ④ 1251 $y = -\frac{3}{2}x + 3$ 1252 ⑤ 1253 ②
 1254 30 1255 $D(-2, 4)$ 1256 -21 1257 $(1, \frac{5}{4})$
 1258 16 1259 0

11 이차함수의 그래프 (2)

- A 단계 1187 (가) 6 (나) 9 (다) 3 (라) -23
 1188 $y = (x+2)^2 - 5$ 1189 $y = -2(x - \frac{1}{2})^2 + \frac{11}{2}$
 1190 $y = \frac{1}{3}(x-6)^2$ 1191 $y = -\frac{3}{2}(x - \frac{1}{3})^2 + \frac{1}{6}$
 1192 $(-4, -17), x = -4$ 1193 $(1, 5), x = 1$
 1194 $(\frac{1}{8}, \frac{1}{16}), x = \frac{1}{8}$ 1195 $(-1, -2), x = -1$
 1196 (가) $2 \pm \sqrt{6}$ (나) $2 + \sqrt{6}$ (다) 0 (라) 1
 1197 x 축: $(1, 0)$, y 축: $(0, 1)$
 1198 x 축: $(1, 0), (3, 0)$, y 축: $(0, -3)$
 1199 (1) $>$ (2) $<$, $<$ (3) $>$
 1200 (1) $<$ (2) $>$, $<$ (3) $<$

- B 단계 1201 ① 1202 (ㄷ) 1203 2 1204 55
 1205 ③ 1206 ③ 1207 ⑤ 1208 ④ 1209 3
 1210 ② 1211 ④ 1212 $(0, 3)$ 1213 4
 1214 $(-14, 0)$ 1215 ① 1216 ② 1217 ⑤
 1218 $\frac{5}{4}$ 1219 ⑤ 1220 ⑤ 1221 ④ 1222 ⑤
 1223 $-\frac{11}{2}$ 1224 $\frac{1}{2}$ 1225 $k < -4$ 1226 ⑤
 1227 3 1228 ② 1229 ① 1230 -3 1231 ④
 1232 ③ 1233 (ㄴ), (ㄷ), (ㄹ) 1234 ⑤ 1235 27
 1236 ⑤ 1237 ⑤ 1238 $\frac{55}{2}$ 1239 6 1240 ⑤
 1241 ② 1242 ③ 1243 ③ 1244 ④ 1245 ⑤

12 이차함수의 활용

- A 단계 1260 (가) $x+3$ (나) -2 (다) 4 (라) 2
 (마) $y = 2x^2 + 12x + 20$ 1261 $y = (x-4)^2 - 1$
 1262 $y = -(x-2)^2 + 5$ 1263 (가) $x-3$ (나) -2 (다) -1 (라) 2
 (마) $y = -x^2 + 6x - 7$ 1264 $y = -2(x+2)^2 + 5$
 1265 $y = \frac{1}{2}(x+1)^2 - 3$ 1266 (가) 3 (나) $4a+2b+c$ (다) 1
 (라) -6 (마) $y = x^2 - 6x + 8$ 1267 $y = 3x^2 - 6x + 4$
 1268 $y = -2x^2 + 4x$
 1269 (가) $x-4$ (나) 0 (다) 12 (라) -1 (마) $y = -x^2 + x + 12$
 1270 $y = 3x(x+3)$ 1271 최솟값: 1, $x=0$
 1272 최솟값: -4, $x=1$ 1273 최댓값: -1, $x=0$
 1274 최댓값: -2, $x=1$ 1275 $y = \frac{1}{2}(x+1)^2 - \frac{3}{2}$
 1276 최솟값: $-\frac{3}{2}$, $x=-1$
 1277 $y = -2(x-5)^2 + 40$ 1278 최댓값: 40, $x=5$
 1279 $x+4$ 1280 $y = x^2 + 4x$ 1281 -4 1282 -2, 2
 1283 $(12-x)$ cm 1284 $y = -x^2 + 12x$ 1285 36 cm^2
 1286 6 cm

- B 단계 1287 ⑤ 1288 $(0, 3)$ 1289 ③ 1290 ②
 1291 -1 1292 ④ 1293 ⑤ 1294 16 1295 ②
 1296 -14 1297 ⑤ 1298 ① 1299 -4 1300 ②
 1301 -3 1302 $(5, 8)$ 1303 ② 1304 ② 1305 ②
 1306 ② 1307 3 1308 ④ 1309 ① 1310 8

1311 ⑤ 1312 ④ 1313 ③ 1314 ⑤ 1315 ①
 1316 (1) 2 (2) 최댓값: 12, $x=2$ 1317 ④ 1318 -14
 1319 4 1320 ⑤ 1321 2 1322 ③ 1323 8
 1324 ① 1325 2 1326 -7 1327 ③ 1328 19
 1329 8 1330 ③ 1331 $\frac{3}{2}$ 1332 ③
 1333 $y=\frac{1}{2}x^2-4x+8$ 1334 ④ 1335 ⑤ 1336 6
 1337 ② 1338 -2 1339 ③ 1340 $-\frac{11}{4}$ 1341 ④
 1342 -8, 8 1343 72
 1344 (1) $y=10-x$ (2) 25 (3) $x=5, y=5$ 1345 ③
 1346 ③ 1347 ⑤ 1348 ④ 1349 72 cm^2 1350 6 cm
 1351 ② 1352 최댓값: $\frac{49}{2}, x=\frac{3}{2}$ 1353 ① 1354 162
 1355 36 cm^2 1356 4 1357 (1) $(14-x)\text{ cm}$ (2) $98\pi\text{ cm}^2$
 1358 ② 1359 (1) $y=-(x-2)^2+4$ (2) 4, P(2, 4)
 1360 $P\left(\frac{9}{2}, 3\right)$ 1361 ④ 1362 63m 1363 ③
 1364 ⑤ 1365 4초 1366 ③

C 단계 1367 ③ 1368 ④ 1369 1 1370 -14
 1371 $-\frac{5}{4}$ 1372 ③ 1373 ⑤ 1374 ④ 1375 ④
 1376 ④ 1377 $\frac{7}{4}$ 1378 ② 1379 ④ 1380 ④
 1381 $\sqrt{10}$ 1382 $8\sqrt{2}$ 1383 12
 1384 (1) $k=-a^2-6a$ (2) 9 1385 9 cm^2
 1386 (1) (2, 9) (2) $l=-2k^2+12k+2$ (3) 20
 1387 (1) $\left(4-\frac{2}{3}x\right)\text{ cm}$ (2) $y=-\frac{2}{3}x^2+4x$ (3) 6 cm^2

01 제곱근의 뜻과 성질

- 0001 답 64, 64, ± 8
- 0002 답 $\frac{4}{9}, \frac{4}{9}, \pm \frac{2}{3}$
- 0003 답 0
- 0004 답 1, -1
- 0005 답 13, -13
- 0006 답 없다.
- 0007 답 0.1, -0.1
- 0008 답 $\frac{1}{12}, -\frac{1}{12}$
- 0009 답 \times
- 0010 답 \bigcirc
- 0011 답 \times
- 0012 답 \times
- 0013 답 (1) 6 (2) -6 (3) 3 (4) -3 (5) $\frac{5}{2}$ (6) $-\frac{5}{2}$
- 0014 답 $\pm\sqrt{11}$
- 0015 답 $\pm\sqrt{50}$
- 0016 답 $\pm\sqrt{5.4}$
- 0017 답 $\pm\sqrt{\frac{3}{20}}$
- 0018 답 2
- 0019 답 -9
- 0020 답 ± 0.8
- 0021 답 $\frac{4}{3}$
- 0022 답 $\sqrt{6}$
- 0023 답 $-\sqrt{6}$
- 0024 답 $\pm\sqrt{6}$
- 0025 답 $\sqrt{6}$
- 0026 답 (1) ± 4 (2) 4 (3) $\pm\sqrt{18}$ (4) $\sqrt{18}$
- 0027 답 2.1
- 0028 답 $-\frac{4}{13}$
- 0029 답 -27
- 0030 답 -16
- 0031 답 $\frac{9}{8}$
- 0032 답 -2.3
- 0033 (주어진 식) $= 2 + 2 = 4$ 답 4
- 0034 (주어진 식) $= 5 - 7 = -2$ 답 -2
- 0035 (주어진 식) $= \frac{5}{4} \times \frac{2}{5} = \frac{1}{2}$ 답 $\frac{1}{2}$
- 0036 (주어진 식) $= 8 \div 4 = 2$ 답 2
- 0037 답 (1) a (2) $-a$ (3) a (4) $-a$
(5) $-a$ (6) a (7) $-a$ (8) a
- 0038 (주어진 식) $= 2a + \{-(-5a)\} = 7a$ 답 $7a$

- 0039 (주어진 식) $= 6a - \{-(-3a)\} = 3a$ 답 $3a$
- 0040 (주어진 식) $= -2a + (-5a) = -7a$ 답 $-7a$
- 0041 (주어진 식) $= -6a - (-3a) = -3a$ 답 $-3a$
- 0042 답 $>, 1-a$
- 0043 답 $<, -a+1$
- 0044 답 5
- 0045 답 2
- 0046 답 $<$
- 0047 답 $>$
- 0048 $\sqrt{8} < \sqrt{9}$ 이므로 $\sqrt{8} \leq 3$ 답 $<$
- 0049 $\sqrt{11} > \sqrt{10}$ 이므로 $-\sqrt{11} \leq -\sqrt{10}$ 답 $<$
- 0050 $5 = \sqrt{25}, 6 = \sqrt{36}$ 이므로 5와 6 사이의 수는
 $\sqrt{27}, \sqrt{32}, \sqrt{35}$ 답 $\sqrt{27}, \sqrt{32}, \sqrt{35}$
- 0051 $3 \leq \sqrt{x} < 4$ 에서 각 변을 제곱하면
 $9 \leq x < 16$
이때 x 는 자연수이므로 $x = 9, 10, 11, \dots, 15$
답 9, 10, 11, \dots , 15
- 0052 $2 < \sqrt{3x} < 5$ 에서
각 변을 제곱하면 $4 < 3x < 25$
각 변을 3으로 나누면 $\frac{4}{3} < x < \frac{25}{3}$
이때 x 는 자연수이므로 $x = 2, 3, 4, \dots, 8$
답 2, 3, 4, \dots , 8
- 0053 x 가 a 의 제곱근이므로
 $x^2 = a$ 또는 $x = \pm\sqrt{a}$ 답 ④, ⑤
- 0054 x 는 12의 제곱근이므로
 $x^2 = 12$ 또는 $x = \pm\sqrt{12}$ 답 ⑤
- 0055 음수의 제곱근은 없으므로 제곱근을 구할 수 없는 수는
①, ③이다. 답 ①, ③
- 0056 $a^2 = 12, b^2 = 15$ 이므로 $a^2 + b^2 = 27$ 답 27
- 0057 ① 음수의 제곱근은 없다.
③ 0의 제곱근은 0이다.
④ 제곱근 6은 $\sqrt{6}$ 이다.
⑤ 제곱근 5는 $\sqrt{5}$ 이고, 5의 제곱근은 $\pm\sqrt{5}$ 이므로 같지 않다.
답 ②
- 0058 ①, ③, ④, ⑤ ± 2 ② 2 답 ②
- 0059 ① 13의 제곱근은 $\pm\sqrt{13}$ 이므로 $-\sqrt{13}$ 은 13의 제곱근이다.
② $\sqrt{0.49} = 0.7$

- ③ $4^2=16$ 의 제곱근은 ± 4 이다.
 ④ 제곱하여 0.1이 되는 수는 $\pm\sqrt{0.1}$ 의 2개이다.
 ⑤ 10의 제곱근은 $\pm\sqrt{10}$ 의 2개이고, $\sqrt{10}+(-\sqrt{10})=0$ 이다.

답 ③, ④

0060 (ㄱ) $\sqrt{25}=5$ 이고, 제곱근 5는 $\sqrt{5}$ 이다.(ㄴ) $0.4=\frac{4}{10}$ 의 제곱근은 $\pm\frac{2}{5}$ 이고, $\pm 0.2=\pm\frac{2}{10}$ 이므로

$$\pm\frac{2}{5} \neq \pm\frac{2}{10}$$

(ㄷ) $\left(\frac{1}{5}\right)^2=\frac{1}{25}$ 의 제곱근은 $\pm\frac{1}{5}$ 이다.

(ㄹ) 음수의 제곱근은 없다.

(ㅎ) 0의 제곱근은 0의 1개이다.

이상에서 옳은 것은 (ㄱ), (ㄷ), (ㄹ)이다.

답 (ㄱ), (ㄷ), (ㄹ)

0061 제곱근 a^2 이 16이므로 $a^2=16^2=256$

$$\therefore a=\pm 16$$

답 ④

0062 $\sqrt{81}=9$ 의 음의 제곱근은 -3 이므로 $A=-3$ $(-5)^2=25$ 의 양의 제곱근은 5이므로 $B=5$

$$\therefore A+B=2$$

답 ④

0063 $\frac{b}{a}=\sqrt{\frac{25}{49}}=\frac{5}{7}$ 이므로 $a=7, b=5$

$$\therefore a-b=2$$

답 2

0064 ② 24의 제곱근 $\rightarrow \pm\sqrt{24}$ ③ $\sqrt{4}=2$ 의 제곱근 $\rightarrow \pm\sqrt{2}$ ④ 125의 제곱근 $\rightarrow \pm\sqrt{125}$

답 ①, ⑤

0065 $7.\dot{1}=\frac{71-7}{9}=\frac{64}{9}$ 이므로 $7.\dot{1}$ 의 음의 제곱근은

$$-\sqrt{\frac{64}{9}}=-\frac{8}{3}$$

답 ②

0066 제곱근 36은 6이므로 $A=6$ $\left(-\frac{1}{6}\right)^2=\frac{1}{36}$ 의 음의 제곱근은 $-\frac{1}{6}$ 이므로

$$B=-\frac{1}{6}$$

... ②

$$\therefore AB=-1$$

... ③

답 -1

채점 기준

① A의 값을 구할 수 있다.	40%
② B의 값을 구할 수 있다.	40%
③ AB의 값을 구할 수 있다.	20%

0067 $a=13, b=-13$ ($\because a>b$)이므로

$$\sqrt{2a-b-3}=\sqrt{2\times 13-(-13)-3}=\sqrt{36}=6$$

따라서 제곱근 6은 $\sqrt{6}$ 이다.

... ①

... ②

... ③

답 $\sqrt{6}$

채점 기준

① a, b의 값을 구할 수 있다.	40%
② $\sqrt{2a-b-3}$ 의 값을 구할 수 있다.	30%
③ 제곱근 $\sqrt{2a-b-3}$ 의 값을 구할 수 있다.	30%

0068 1번 접었을 때의 정사각형의 넓이는

$$\frac{1}{2} \times 10 \times 10 = 50(\text{cm}^2)$$

2번 접었을 때의 정사각형의 넓이는 $\frac{1}{2} \times 50 = 25(\text{cm}^2)$ 넓이가 25cm^2 인 정사각형의 한 변의 길이를 $x\text{cm}$ 라 하면

$$x^2=25 \quad \therefore x=5 \quad (\because x>0)$$

따라서 구하는 정사각형의 한 변의 길이는 5 cm이다.

답 ④

0069 (삼각형의 넓이) $=\frac{1}{2} \times 7 \times 12 = 42$ 넓이가 42인 정사각형의 한 변의 길이를 x 라 하면

$$x^2=42 \quad \therefore x=\sqrt{42} \quad (\because x>0)$$

따라서 구하는 정사각형의 한 변의 길이는 $\sqrt{42}$ 이다.

답 ③

0070 (사다리꼴의 넓이) $=\frac{1}{2} \times (4+7) \times 4 = 22$... ①넓이가 22인 정사각형의 한 변의 길이를 x 라 하면

$$x^2=22 \quad \therefore x=\sqrt{22} \quad (\because x>0)$$

따라서 구하는 정사각형의 한 변의 길이는 $\sqrt{22}$ 이다.

... ②

답 $\sqrt{22}$

채점 기준

① 사다리꼴의 넓이를 구할 수 있다.	50%
② 정사각형의 한 변의 길이를 구할 수 있다.	50%

0071 주어진 수의 제곱근을 각각 구해 보면

$$15 \rightarrow \pm\sqrt{15}, \quad 0.4 \rightarrow \pm\sqrt{0.4}, \quad \frac{1}{25} \rightarrow \pm\sqrt{\frac{1}{25}} = \pm\frac{1}{5},$$

$$0.\dot{1}=\frac{1}{9} \rightarrow \pm\sqrt{\frac{1}{9}} = \pm\frac{1}{3}, \quad \frac{4}{81} \rightarrow \pm\sqrt{\frac{4}{81}} = \pm\frac{2}{9}$$

따라서 제곱근을 근호를 사용하지 않고 나타낼 수 있는 수는

$$\frac{1}{25}, 0.\dot{1}, \frac{4}{81} \text{의 3개이다.}$$

답 ③

0072 ② $\pm\sqrt{\frac{144}{25}} = \pm\frac{12}{5}$

답 ②

0073 ① $\sqrt{0.01}=0.1$ 의 제곱근은 $\pm\sqrt{0.1}$ 이다.

$$\textcircled{2} \pm\sqrt{1.\dot{7}} = \pm\sqrt{\frac{16}{9}} = \pm\frac{4}{3}$$

$$\textcircled{4} \pm\sqrt{\frac{225}{4}} = \pm\frac{15}{2}$$

⑤ $\sqrt{625}=25$ 의 제곱근은 $\pm\sqrt{25}=\pm 5$ 이다.

답 ①, ③

0074 ①, ②, ③, ④ 3 ⑤ -3

답 ⑤

0075 ⑤ $\sqrt{\left(-\frac{4}{9}\right)^2} = \frac{4}{9}$

답 ⑤

0076 $-\sqrt{2^2}=-2$, $\sqrt{3^2}=3$, $-(-\sqrt{5})^2=-5$, $(-\sqrt{6})^2=6$,
 $\sqrt{(-7)^2}=7$ 이므로 작은 수부터 나열하면
 $-(-\sqrt{5})^2$, $-\sqrt{2^2}$, $\sqrt{3^2}$, $(-\sqrt{6})^2$, $\sqrt{(-7)^2}$
 따라서 네 번째에 오는 수는 $(-\sqrt{6})^2$ 이다. **답** $(-\sqrt{6})^2$

0077 ① $\frac{1}{2}$ ② $\frac{1}{4}$ ③ $\frac{1}{2}$ ④ $\frac{1}{3}$ ⑤ $\frac{1}{9}$
 따라서 가장 작은 수는 ⑤이다. **답** ⑤

0078 (ㄹ) $-\sqrt{(-15)^2}=-15$
 이상에서 옳은 것은 (ㄱ), (ㄴ), (ㄷ)이다. **답** ④

0079 $\sqrt{(-1)^2}=1$ 의 양의 제곱근은 1이므로 $A=1$
 $(-\sqrt{25})^2=25$ 의 음의 제곱근은 -5 이므로 $B=-5$
 $\therefore A+B=-4$ **답** -4

0080 $(-\sqrt{0.64})^2=0.64$ 의 제곱근은 $\pm\sqrt{0.64}=\pm 0.8$
답 ⑤

0081 $(\sqrt{8})^2=8$ 의 음의 제곱근은 $-\sqrt{8}$ 이므로
 $A=-\sqrt{8}$... ①
 $\sqrt{(-9)^2}=9$ 의 양의 제곱근은 3이므로 $B=3$... ②
 $\therefore A^2-B=(-\sqrt{8})^2-3=8-3=5$... ③
답 5

채점 기준

① A의 값을 구할 수 있다.	40%
② B의 값을 구할 수 있다.	40%
③ A^2-B 의 값을 구할 수 있다.	20%

0082 (주어진 식) $=8 \div 2 + 5 \times \frac{1}{5} = 4 + 1 = 5$ **답** ⑤

0083 (주어진 식) $=20 - 13 + 6 = 13$ **답** 13

0084 (주어진 식) $=6 - 3 \times \frac{5}{3} + 6 = 6 - 5 + 6 = 7$ **답** ③

0085 $A=0.5 \div 0.1 \times 10 = \frac{1}{2} \times 10 \times 10 = 50$
 $B=-8 \times \frac{1}{2} - 2 \times 3 = -4 - 6 = -10$
 $\therefore A+B=40$ **답** 40

0086 $A=4+10+12-1=25$... ①
 $\therefore \sqrt{A}=\sqrt{25}=5$... ②
답 5

채점 기준

① A의 값을 구할 수 있다.	70%
② \sqrt{A} 의 값을 구할 수 있다.	30%

0087 (주어진 식) $=2 \times (\sqrt{2})^2 - 3 \times (-\sqrt{5})^2 + \sqrt{3^2} \times \sqrt{(-3)^2}$
 $=2 \times 2 - 3 \times 5 + 3 \times 3$
 $=4 - 15 + 9 = -2$ **답** -2

0088 (ㄱ) $a < 0$ 이므로 $-\sqrt{a^2} = -(-a) = a$

(ㄴ) $3a < 0$ 이므로 $\sqrt{(3a)^2} = -3a$

(ㄷ) $-6a > 0$ 이므로 $\sqrt{(-6a)^2} = -6a$

(ㄹ) $-\sqrt{49a^2} = -\sqrt{(7a)^2}$ 이고, $7a < 0$ 이므로
 $-\sqrt{49a^2} = -\sqrt{(7a)^2} = -(-7a) = 7a$

이상에서 옳은 것은 (ㄷ), (ㄹ)이다. **답** ⑤

0089 $\sqrt{36a^2} = \sqrt{(6a)^2}$ 이고, $6a < 0$ 이므로
 $\sqrt{36a^2} = \sqrt{(6a)^2} = -6a$ **답** ②

0090 ① $-a < 0$ 이므로 $\sqrt{(-a)^2} = -(-a) = a$

② $2a > 0$ 이므로 $-\sqrt{(2a)^2} = -2a$

③ $-5a < 0$ 이므로 $\sqrt{(-5a)^2} = -(-5a) = 5a$

④ $-\sqrt{4a^2} = -\sqrt{(2a)^2}$ 이고, $2a > 0$ 이므로
 $-\sqrt{4a^2} = -\sqrt{(2a)^2} = -2a$

⑤ $-8a < 0$ 이므로 $-\sqrt{(-8a)^2} = -\{-(-8a)\} = -8a$ **답** ④

0091 $a < 0$ 일 때, $-a > 0$ 이므로

(ㄱ) $\sqrt{a^2} = -a$ (ㄴ) $-\sqrt{a^2} = a$ (ㄷ) $\sqrt{(-a)^2} = -a$

(ㄹ) $-\sqrt{(-a)^2} = a$ (ㅁ) $(-\sqrt{-a})^2 = -a$

이상에서 그 값이 양수인 것은 (ㄱ), (ㄷ), (ㅁ)이다. **답** ④

0092 ① $3a$ ② $\frac{5}{3}a$ ③ $\frac{3}{2}a$ ④ $-3a$ ⑤ $4a$
 따라서 그 값이 가장 큰 것은 ⑤이다. **답** ⑤

0093 (i) $2a-1 \geq 0$, 즉 $a \geq \frac{1}{2}$ 일 때,
 $\sqrt{(2a-1)^2} = 2a-1 = 7 \quad \therefore a=4$

(ii) $2a-1 < 0$, 즉 $a < \frac{1}{2}$ 일 때,
 $\sqrt{(2a-1)^2} = -(2a-1) = 7 \quad \therefore a=-3$

(i), (ii)에서 $a=4$ 또는 $a=-3$ 이므로 구하는 합은 1이다. **답** 1

0094 $a > 0$ 이므로 $-a < 0$, $2a > 0$
 $b < 0$ 이므로 $5b < 0$
 \therefore (주어진 식) $= -(-a) - 2a + (-5b) = -a - 5b$ **답** ①

0095 (주어진 식) $= -(-2a) - 4 \times (-b) = 2a + 4b$ **답** ⑤

0096 (주어진 식) $= \sqrt{a^2} + \sqrt{(4a)^2} - \sqrt{(-7a)^2}$
 $= -a + (-4a) - (-7a) = 2a$ **답** $2a$

0097 (주어진 식)
 $= \sqrt{a^2} \times \sqrt{\left(-\frac{9}{4}a\right)^2} - \sqrt{(4a)^2} \times \sqrt{(0.5a)^2}$
 $= -a \times \left(-\frac{9}{4}a\right) - (4a) \times (-0.5a)$... ①
 $= \frac{9}{4}a^2 - 2a^2 = \frac{1}{4}a^2$... ② **답** $\frac{1}{4}a^2$

채점 기준

① 근호를 없앨 수 있다.	60%
② 식을 간단히 할 수 있다.	40%

0098 $a > 0, ab < 0$ 에서 $b < 0$

$$\begin{aligned} \therefore (\text{주어진 식}) &= 2a \times (-b) - \{ -(-3a) \} \times \left(-\frac{1}{3}b \right) \\ &= -2ab + ab = -ab \end{aligned} \quad \text{답 } -ab$$

0099 $-x-1 < 0, 2-x > 0$ 이므로

$$\begin{aligned} (\text{주어진 식}) &= -(-x-1) - (2-x) \\ &= x+1-2+x=2x-1 \end{aligned} \quad \text{답 } ④$$

0100 $a-2 < 0, 2-a > 0$ 이므로

$$(\text{주어진 식}) = -(a-2) + (2-a) = -2a+4 \quad \text{답 } ③$$

0101 $x < 1$ 이므로 $x-1 < 0, x-3 < 0$... ①

$$\begin{aligned} \therefore \sqrt{(x-1)^2} + \sqrt{(x-3)^2} &= -(x-1) - (x-3) \quad \dots ② \\ &= -2x+4=10 \quad \dots ③ \end{aligned}$$

$$\therefore x = -3 \quad \dots ④$$

답 -3

채점 기준

① $x-1, x-3$ 의 부호를 결정할 수 있다.	40%
② 근호를 없앨 수 있다.	20%
③ 식을 간단히 할 수 있다.	20%
④ x 의 값을 구할 수 있다.	20%

0102 $a-b > 0, b-c > 0, c-a < 0$ 이므로

$$\begin{aligned} (\text{주어진 식}) &= (a-b) + (b-c) - (c-a) \\ &= 2a-2c \end{aligned} \quad \text{답 } 2a-2c$$

0103 (㉠) $x > 1$ 이면 $1+x > 0, 1-x < 0$

$$\therefore A = (1+x) + (1-x) = 2$$

(㉡) $-1 < x < 1$ 이면 $1+x > 0, 1-x > 0$

$$\therefore A = (1+x) - (1-x) = 2x$$

(㉢) $x < -1$ 이면 $1+x < 0, 1-x > 0$

$$\therefore A = -(1+x) - (1-x) = -2$$

이상에서 옳은 것은 (㉠), (㉡)이다. 답 ②

0104 $a-b < 0$ 에서 $a < b$ 이고, $ab < 0$ 에서 a, b 는 서로 다른 부호이므로 $a < 0, b > 0$... ①

따라서 $3b > 0, 2a-b < 0$ 이므로

$$\begin{aligned} (\text{주어진 식}) &= \sqrt{a^2} - \sqrt{(3b)^2} + \sqrt{(2a-b)^2} \\ &= -a-3b-(2a-b) \quad \dots ② \\ &= -3a-2b \quad \dots ③ \end{aligned}$$

답 -3a-2b

채점 기준

① a, b 의 부호를 결정할 수 있다.	40%
② 근호를 없앨 수 있다.	40%
③ 식을 간단히 할 수 있다.	20%

0105 $300x = 2^2 \times 3 \times 5^2 \times x$ 이므로 $x = 3 \times (\text{자연수})^2$ 꼴이어야 한다.

따라서 가장 작은 두 자리 자연수는 $x = 3 \times 2^2 = 12$ 답 ②

0106 $x = 5 \times (\text{자연수})^2$ 꼴이어야 한다.

① $5 = 5 \times 1^2$ ② $10 = 5 \times 2$ ③ $20 = 5 \times 2^2$
 ④ $45 = 5 \times 3^2$ ⑤ $80 = 5 \times 4^2$ 답 ②

0107 $\frac{75}{2}x = \frac{3 \times 5^2}{2} \times x$ 이므로 $x = 2 \times 3 \times (\text{자연수})^2$ 꼴이어야 한다.

따라서 가장 작은 자연수는 $x = 2 \times 3 = 6$ 답 ①

0108 $18n = 2 \times 3^2 \times n$ 이므로 $n = 2 \times (\text{자연수})^2$ 꼴이어야 한다. 따라서 $10 \leq n < 100$ 인 n 은

$$2 \times 3^2, 2 \times 4^2, 2 \times 5^2, 2 \times 6^2, 2 \times 7^2$$

의 5개이다. 답 5

0109 $\frac{108a}{5} = \frac{2^2 \times 3^3 \times a}{5}$ 이므로 $a = 3 \times 5 \times (\text{자연수})^2$ 꼴이어야 한다. ... ①

a 의 값이 최소일 때, b 의 값도 최소이므로 $a+b$ 의 값도 최소가 된다.

$$\therefore (a \text{의 최소값}) = 3 \times 5 = 15,$$

$$(b \text{의 최소값}) = \sqrt{2^2 \times 3^4} = 2 \times 9 = 18 \quad \dots ②$$

$$\therefore (a+b \text{의 최소값}) = 33 \quad \dots ③$$

답 33

채점 기준

① a 의 조건을 구할 수 있다.	30%
② a, b 의 최소값을 구할 수 있다.	50%
③ $a+b$ 의 최소값을 구할 수 있다.	20%

0110 $24a = 2^3 \times 3 \times a$ 이므로 $a = 2 \times 3 \times (\text{자연수})^2$ 꼴이어야 한다.

이때 $0 < a < 10$ 이므로 $a = 6$... ①

$45b = 3^2 \times 5 \times b$ 이므로 $b = 5 \times (\text{자연수})^2$ 꼴이어야 한다.

이때 $0 < b < 10$ 이므로 $b = 5$... ②

따라서

$$\sqrt{24a} + \sqrt{45b} = \sqrt{24 \times 6} + \sqrt{45 \times 5} = 12 + 15 = 27$$

이므로 $c = 27$... ③

$$\therefore a+b+c = 38 \quad \dots ④$$

답 38

채점 기준

① a 의 값을 구할 수 있다.	30%
② b 의 값을 구할 수 있다.	30%
③ c 의 값을 구할 수 있다.	30%
④ $a+b+c$ 의 값을 구할 수 있다.	10%

0111 $\frac{168}{x} = \frac{2^3 \times 3 \times 7}{x}$ 이므로 $x = 2 \times 3 \times 7 = 42$ 답 42

0112 $\frac{360}{x} = \frac{2^3 \times 3^2 \times 5}{x}$ 이므로 $x=2 \times 5 \times (\text{자연수})^2$ 풀이어야 한다.

이때 x 는 360의 약수이면서 가장 큰 두 자리 자연수이므로
 $x=2 \times 5 \times 3^2=90$ 답 90

0113 $\frac{48}{x^3} = \frac{2^4 \times 3}{x^3}$ 이므로 $x^3=3 \times (\text{자연수})^2$ 풀이어야 한다.

이때 x 가 자연수이고 가장 작은 수이어야 하므로
 $x^3=3 \times 3^2 \quad \therefore x=3$ 답 3

0114 $\frac{96}{m} = \frac{2^5 \times 3}{m}$ 이므로 m 은 96의 약수이면서

$2 \times 3 \times (\text{자연수})^2$ 풀이어야 한다.
 n 의 값이 최대이려면 m 의 값은 최소이어야 하므로

$$(m \text{의 최솟값}) = 2 \times 3 = 6$$

$$\therefore (n \text{의 최댓값}) = \sqrt{\frac{96}{6}} = \sqrt{16} = 4$$
 답 4

0115 $312xy=2^3 \times 3 \times 13 \times xy$ 이므로
 $xy=2 \times 3 \times 13 \times (\text{자연수})^2$ 풀이어야 한다.

이때 $\sqrt{312xy}$ 가 가장 작은 자연수이려면
 $xy=2 \times 3 \times 13=78$
 따라서 이를 만족시키는 x, y 의 순서쌍 (x, y) 가 아닌 것은 ④이다. 답 4

0116 $120xy=2^3 \times 3 \times 5 \times xy$ 이므로
 $xy=2 \times 3 \times 5 \times (\text{자연수})^2$ 풀이어야 한다.

따라서 xy 의 최솟값은 $2 \times 3 \times 5=30$ 답 5

0117 $80xy=2^4 \times 5 \times xy$ 이므로 $xy=5 \times (\text{자연수})^2$ 풀이어야 한다.

이때 $\sqrt{80xy}$ 가 가장 작은 자연수이려면 $xy=5$
 따라서 x, y 의 순서쌍 (x, y) 는 (1, 5), (5, 1)이므로 이것을 모두 근으로 갖는 일차방정식은 ①이다. 답 1

참고 ② (5, 1) $\rightarrow 5-1+4 \neq 0$ ③ (5, 1) $\rightarrow 10-1+3 \neq 0$
 ④ (1, 5) $\rightarrow 2-15-7 \neq 0$ ⑤ (5, 1) $\rightarrow 15-2+7 \neq 0$

0118 $72ab=2^3 \times 3^2 \times ab$ 이므로 $ab=2 \times (\text{자연수})^2$ 풀이어야 한다.

$\therefore ab=2, 2 \times 2^2, 2 \times 3^2 (\because 1 \leq ab \leq 36)$
 따라서 a, b 의 순서쌍 (a, b) 는
 (i) $ab=2$ 인 경우: (1, 2), (2, 1)의 2개
 (ii) $ab=2 \times 2^2=8$ 인 경우: (2, 4), (4, 2)의 2개
 (iii) $ab=2 \times 3^2=18$ 인 경우: (3, 6), (6, 3)의 2개
 이상에서 구하는 경우의 수는 6 답 2

참고 $ab=2 \times 4^2=32$ 인 경우 이를 만족시키는 a, b 의 순서쌍 (a, b) 는 존재하지 않는다.

0119 56보다 큰 제곱수는 64, 81, 100, ...
 x 가 가장 작은 자연수이므로 $56+x=64 \quad \therefore x=8$ 답 8

0120 $15+x=16, 25, 36, 49, 64, \dots$ 이므로
 $x=1, 10, 21, 34, 49, \dots$

따라서 x 의 값이 아닌 것은 ⑤이다. 답 5

0121 78보다 큰 제곱수는 81, 100, 121, ...
 a 가 가장 작은 자연수이므로 $78+a=81 \quad \therefore a=3$

$$\therefore b = \sqrt{78+a} = \sqrt{78+3} = \sqrt{81} = 9$$

$$\therefore a+b=12$$
 답 2

0122 $30-x$ 가 30보다 작은 제곱수 또는 0이어야 하므로
 $30-x=0, 1, 4, 9, 16, 25$

$$\therefore x=30, 29, 26, 21, 14, 5$$

따라서 자연수 x 의 개수는 6이다. 답 3

0123 $24-x$ 가 24보다 작은 제곱수이어야 하므로

$$24-x=1, 4, 9, 16 \quad \therefore x=23, 20, 15, 8$$

따라서 모든 자연수 x 의 값의 합은 66이다. ... 1
... 2
답 66

해점 기준

① x 의 값을 구할 수 있다.	70%
② 모든 x 의 값의 합을 구할 수 있다.	30%

0124 $36-x$ 가 36보다 작은 제곱수 또는 0이어야 하므로
 $36-x=0, 1, 4, 9, 16, 25$

$36-x=0$ 에서 $x=36$
 $36-x=25$ 에서 $x=11$
 따라서 x 의 최댓값과 최솟값의 합은 47이다. 답 4

0125 ① $\sqrt{80} < \sqrt{81}$ 이므로 $\sqrt{80} < 9$

② $\sqrt{5} > \sqrt{3}$ 이므로 $-\sqrt{5} < -\sqrt{3}$

③ $\sqrt{0.01} < \sqrt{0.1}$ 이므로 $0.1 < \sqrt{0.1}$

④ $\sqrt{\frac{1}{3}} > \sqrt{\frac{1}{4}}$ 이므로 $\sqrt{\frac{1}{3}} > \frac{1}{2}$

⑤ $\sqrt{35} < \sqrt{36}$ 이므로 $-\sqrt{35} > -\sqrt{36} \quad \therefore -\sqrt{35} > -6$ 답 3

0126 (i) 음수: $\sqrt{2} < \sqrt{3}$ 이므로 $-\sqrt{2} > -\sqrt{3}$

(ii) 양수: $\sqrt{6} > \sqrt{1}$ 이므로 $\sqrt{6} > 1$

(i), (ii)에서 $\sqrt{6} > 1 > 0 > -\sqrt{2} > -\sqrt{3}$
답 $\sqrt{6}, 1, 0, -\sqrt{2}, -\sqrt{3}$

0127 (i) 음수: $\sqrt{15} < \sqrt{16}$ 이므로 $-\sqrt{15} > -\sqrt{16}$

$$\therefore -\sqrt{15} > -4$$

(ii) 양수: $\frac{1}{3} = \sqrt{\frac{1}{9}}, \sqrt{0.5} = \sqrt{\frac{1}{2}}$ 이므로 $\frac{1}{3} < \sqrt{\frac{1}{5}} < \sqrt{0.5}$

(i), (ii)에서 $-4 < -\sqrt{15} < \frac{1}{3} < \sqrt{\frac{1}{5}} < \sqrt{0.5}$

따라서 두 번째에 오는 수는 $-\sqrt{15}$ 이고, 네 번째에 오는 수는 $\sqrt{\frac{1}{5}}$ 이다. 답 $-\sqrt{15}, \sqrt{\frac{1}{5}}$

0128 ① $-\sqrt{(-5)^2} = -\sqrt{25}$ ④ $(-\sqrt{7})^2 = 7$
 (음수) < 0 < (양수) 이므로 음수인 수의 대소를 비교하면
 $\sqrt{\frac{1}{10}} < \sqrt{25} < \sqrt{27} \quad \therefore -\sqrt{\frac{1}{10}} > -\sqrt{25} > -\sqrt{27}$
 $\therefore -\sqrt{\frac{1}{10}} > -\sqrt{(-5)^2} > -\sqrt{27}$ **답 ⑤**

0129 (i) 음수: $\sqrt{0.8} < \sqrt{9} < \sqrt{10}$ 이므로
 $-\sqrt{0.8} > -3 > -\sqrt{10} \quad \therefore a = -\sqrt{10}$... ①

(ii) 양수: $\sqrt{(-4)^2} = \sqrt{16}$ 이고, $\sqrt{\frac{9}{2}} < \sqrt{16} < \sqrt{17}$ 이므로
 $\sqrt{\frac{9}{2}} < \sqrt{(-4)^2} < \sqrt{17} \quad \therefore b = \sqrt{17}$... ②

(i), (ii)에서
 $a^2 + b^2 = (-\sqrt{10})^2 + (\sqrt{17})^2 = 10 + 17 = 27$... ③ **답 27**

채점 기준

① a 의 값을 구할 수 있다.	40%
② b 의 값을 구할 수 있다.	40%
③ $a^2 + b^2$ 의 값을 구할 수 있다.	20%

0130 ① $0 < a^2 < 1$ ② $0 < a < 1$ ③ $0 < \sqrt{a} < 1$

④ $\frac{1}{a} > 1$ ⑤ $\sqrt{\frac{1}{a}} > 1$

이때 $\frac{1}{a} > \sqrt{\frac{1}{a}}$ 이므로 $\frac{1}{a}$ 의 값이 가장 크다. **답 ④**

참고 $a = \frac{1}{4}$ 이라 하면 $a^2 = \frac{1}{16}$, $\sqrt{a} = \frac{1}{2}$, $\frac{1}{a} = 4$, $\sqrt{\frac{1}{a}} = 2$ 이
 므로 $a^2 < a < \sqrt{a} < \sqrt{\frac{1}{a}} < \frac{1}{a}$ 임을 알 수 있다.

0131 $\sqrt{9} < \sqrt{10}$ 이므로 $3 < \sqrt{10}$
 $\therefore 3 - \sqrt{10} < 0$, $\sqrt{10} - 3 > 0$
 \therefore (주어진 식) $= -(3 - \sqrt{10}) - (\sqrt{10} - 3)$
 $= -3 + \sqrt{10} - \sqrt{10} + 3 = 0$ **답 ③**

0132 $\sqrt{1} < \sqrt{3} < \sqrt{4}$ 이므로 $1 < \sqrt{3} < 2$
 $\therefore 1 - \sqrt{3} < 0$, $2 - \sqrt{3} > 0$
 \therefore (주어진 식) $= -(1 - \sqrt{3}) + (2 - \sqrt{3})$
 $= -1 + \sqrt{3} + 2 - \sqrt{3} = 1$ **답 ③**

0133 $x + y = 6 + (4 + \sqrt{5}) = 10 + \sqrt{5} > 0$
 $x - y = 6 - (4 + \sqrt{5}) = 2 - \sqrt{5} < 0$
 \therefore (주어진 식) $= (10 + \sqrt{5}) + (2 - \sqrt{5}) = 12$ **답 ⑤**

0134 $\sqrt{8} < \sqrt{9}$ 이므로 $\sqrt{8} < 3$
 $\therefore 3 - \sqrt{8} > 0$, $\sqrt{8} - 3 < 0$
 \therefore (주어진 식) $= (3 - \sqrt{8}) + (\sqrt{8} - 3) + 3 + 8 = 11$ **답 11**

0135 $5 < \sqrt{3n} < 6$ 에서 $5^2 < (\sqrt{3n})^2 < 6^2$
 $25 < 3n < 36 \quad \therefore \frac{25}{3} < n < 12$
 따라서 자연수 n 은 9, 10, 11의 3개이다. **답 ②**

0136 $-\sqrt{17} < -\sqrt{3x-1} < -2$ 에서
 $2 < \sqrt{3x-1} < \sqrt{17}$, $2^2 < (\sqrt{3x-1})^2 < (\sqrt{17})^2$
 $4 < 3x-1 < 17 \quad \therefore \frac{5}{3} < x < 6$

따라서 자연수 x 는 2, 3, 4, 5이므로 구하는 합은 14이다. **답 ④**

0137 $\frac{5}{2} < \sqrt{x-2} \leq 4$ 에서 $\left(\frac{5}{2}\right)^2 < (\sqrt{x-2})^2 \leq 4^2$
 $\frac{25}{4} < x-2 \leq 16 \quad \therefore \frac{33}{4} < x \leq 18$... ①

따라서 자연수 x 중에서 3의 배수는 9, 12, 15, 18이므로 구하는 합은 54이다. ... ②

답 54

채점 기준

① x 의 값의 범위를 구할 수 있다.	50%
② x 중에서 3의 배수의 합을 구할 수 있다.	50%

0138 $\sqrt{3} < x < \sqrt{27}$ 에서 $(\sqrt{3})^2 < x^2 < (\sqrt{27})^2$
 $\therefore 3 < x^2 < 27$

따라서 자연수 x 는 2, 3, 4, 5이므로 $M=5$, $m=2$
 $\therefore M-m=3$ **답 ③**

0139 (i) $2.4 < \sqrt{x} < 3.2$ 에서 $2.4^2 < (\sqrt{x})^2 < 3.2^2$
 $\therefore 5.76 < x < 10.24$

따라서 이를 만족시키는 자연수 x 의 값은 6, 7, 8, 9, 10이다.

(ii) $3\sqrt{5} < x < 5\sqrt{3}$ 에서 $(3\sqrt{5})^2 < x^2 < (5\sqrt{3})^2$
 $\therefore 45 < x^2 < 75$

따라서 이를 만족시키는 자연수 x 의 값은 7, 8이다.
 (i), (ii)에서 두 부등식을 동시에 만족시키는 자연수 x 는 7, 8이
 므로 구하는 합은 15이다. **답 ②**

0140 $5 \leq \sqrt{n} < 5.5$ 에서 $5^2 \leq (\sqrt{n})^2 < 5.5^2$
 $\therefore 25 \leq n < 30.25$... ①

n 이 자연수이므로 $n=25, 26, 27, 28, 29, 30$
 $\therefore a=30$, $b=25$... ②

$\sqrt{\frac{30}{25}} \times c = \sqrt{\frac{2 \times 3}{5}} \times c$ 가 자연수가 되려면

$c = 2 \times 3 \times 5 \times (\text{자연수})^2$ 꼴이어야 한다.

따라서 가장 작은 자연수는 $c = 2 \times 3 \times 5 = 30$... ③
답 30

채점 기준

① n 의 값의 범위를 구할 수 있다.	30%
② a , b 의 값을 구할 수 있다.	30%
③ c 의 값을 구할 수 있다.	40%

0141 $\sqrt{1}=1$, $\sqrt{4}=2$, $\sqrt{9}=3$ 이므로
 $f(1)=f(2)=f(3)=1$
 $f(4)=f(5)=f(6)=f(7)=f(8)=2$
 $f(9)=3$
 \therefore (주어진 식) $= 1 \times 3 + 2 \times 5 + 3 = 16$ **답 ②**

0142 $\sqrt{25} < \sqrt{32} < \sqrt{36}$ 이므로 $5 < \sqrt{32} < 6 \quad \therefore a=5$
또 $\sqrt{64} < \sqrt{72} < \sqrt{81}$ 이므로 $8 < \sqrt{72} < 9 \quad \therefore b=8$
 $\therefore b-a=3$ 답 3

0143 $2x-1=105$ 에서 $2x=106 \quad \therefore x=53$
이때 $\sqrt{49} < \sqrt{53} < \sqrt{64}$, 즉 $7 < \sqrt{53} < 8$ 이므로
 $f(105)=7$... ①
 $2x-1=35$ 에서 $2x=36 \quad \therefore x=18$
이때 $\sqrt{16} < \sqrt{18} < \sqrt{25}$, 즉 $4 < \sqrt{18} < 5$ 이므로
 $f(35)=4$... ②
 $\therefore f(105)-f(35)=7-4=3$... ③
답 3

채점 기준

① $f(105)$ 의 값을 구할 수 있다.	40%
② $f(35)$ 의 값을 구할 수 있다.	40%
③ $f(105)-f(35)$ 의 값을 구할 수 있다.	20%

0144 $f(x)=8$ 인 자연수 x 는 $8 \leq \sqrt{x} < 9$ 에서
 $8^2 \leq (\sqrt{x})^2 < 9^2 \quad \therefore 64 \leq x < 81$
따라서 자연수 x 는 64, 65, 66, ..., 80의 17개이다. 답 ④

0145 $f(1)=0$
 $f(2)=f(3)=f(4)=1$
 $f(5)=f(6)=f(7)=f(8)=f(9)=2$
 $f(10)=f(11)=f(12)=f(13)=f(14)=f(15)=f(16)=3$
 $f(17)=f(18)=f(19)=4$
 $\therefore f(1)+f(2)+f(3)+\dots+f(19)$
 $=0+1 \times 3+2 \times 5+3 \times 7+4 \times 3=46$
 $\therefore n=19$ 답 19

0146 **전략** 양수 A 의 제곱근은 $\pm\sqrt{A}$ 이다.
풀이 (㉠) a, b 가 양수 A 의 제곱근이므로 $a^2=A, b^2=A$
 $\therefore a^2=b^2$
(㉡), (㉢) 양수 A 의 제곱근은 $\sqrt{A}, -\sqrt{A}$ 이고, $\sqrt{A} > 0, -\sqrt{A} < 0$
이므로 $ab < 0, a+b=0$
이상에서 (㉠), (㉡), (㉢) 모두 옳다. 답 ⑤

0147 **전략** $a > 0$ 일 때, a 의 제곱근은 $\pm\sqrt{a}$, 제곱근 a 는 \sqrt{a} 이다.
풀이 ③ $\sqrt{\frac{36}{49}} = \frac{6}{7}$
⑤ $\sqrt{16}=4$ 를 2배 하면 $8=\sqrt{64}$ 답 ③, ⑤

0148 **전략** $a > 0$ 일 때, a 의 양의 제곱근은 \sqrt{a} , 음의 제곱근은 $-\sqrt{a}$ 이다.
풀이 $A = \sqrt{\left(-\frac{14}{15}\right)^2} = \frac{14}{15}$
 $B = -\sqrt{5.4} = -\sqrt{\frac{49}{9}} = -\frac{7}{3}$
 $\therefore B \div A = -\frac{7}{3} \div \frac{14}{15} = -\frac{7}{3} \times \frac{15}{14} = -\frac{5}{2}$ 답 ②

0149 **전략** 두 원의 넓이의 비가 $2^2 : 3^2$ 임을 이용하여 큰 원의 넓이를 구한다.

풀이 닮음비가 $2 : 3$ 이므로 두 원의 넓이의 비는
 $2^2 : 3^2 = 4 : 9$
두 원의 넓이를 각각 $4x\text{cm}^2, 9x\text{cm}^2$ 라 하면
 $4x+9x=65\pi, \quad 13x=65\pi \quad \therefore x=5\pi$
따라서 큰 원의 넓이는 $9x=45\pi(\text{cm}^2)$ 이므로 큰 원의 반지름의 길이는 $\sqrt{45}\text{cm}$ 이다. 답 ⑤



두 닮은 평면도형의 닮음비가 $m : n$ 이면 넓이의 비는 $m^2 : n^2$ 이다.

0150 **전략** $k > 0$ 이면 $\sqrt{k^2}=k, k < 0$ 이면 $\sqrt{k^2}=-k$ 임을 이용한다.

풀이 $a < 0$ 이므로 $b = \sqrt{(-a)^2} = -a$
위의 식에서 $-a > 0$, 즉 $b > 0$ 이므로
 $c = -\sqrt{16b^2} = -\sqrt{(4b)^2} = -4b = -4 \times (-a) = 4a$
 $\therefore a-b+c = a - (-a) + 4a = 6a$ 답 ⑤

0151 **전략** a 의 값의 범위를 나누어 식의 값을 구한다.

풀이 (i) $a \geq 2$ 일 때, $a+2 > 0, a-2 \geq 0$ 이므로
 $(a+2)+(a-2)=4, \quad 2a=4 \quad \therefore a=2$
(ii) $-2 \leq a < 2$ 일 때, $a+2 \geq 0, a-2 < 0$ 이므로
 $(a+2)-(a-2)=4 \quad \therefore -2 \leq a < 2$
(iii) $a < -2$ 일 때, $a+2 < 0, a-2 < 0$ 이므로
 $-(a+2)-(a-2)=4, \quad -2a=4 \quad \therefore a=-2$
 $a=-2$ 는 $a < -2$ 를 만족시키지 않는다.
이상에서 $-2 \leq a \leq 2$ 답 $-2 \leq a \leq 2$

0152 **전략** 주어진 조건을 이용하여 a, b, c 의 부호를 결정한다.

풀이 $a(b-c) < 0$ 에서 조건 (㉠)에 의하여 $b-c > 0$ 이므로
 $a < 0$
조건 (㉡), (㉢)에 의하여 $c < 0, b > 0$
따라서 $a-b < 0, c < 0, a-b+c < 0$ 이므로
(주어진 식) $= -(a-b)-c-(a-b+c)$
 $= -a+b-c-a+b-c$
 $= -2a+2b-2c$ 답 $-2a+2b-2c$

0153 **전략** 80, 180을 각각 소인수분해하여 소인수의 지수가 모두 짝수가 되도록 하는 x 의 값을 정한다.

풀이 (i) $80x = 2^4 \times 5 \times x$ 이므로 $x = 5 \times (\text{자연수})^2$ 풀이여야 한다.
(ii) $\frac{180}{x} = \frac{2^2 \times 3^2 \times 5}{x}$ 이므로 x 는 180의 약수이면서
 $5 \times (\text{자연수})^2$ 풀이여야 한다.
(i), (ii)에서 가장 작은 두 자리 자연수는 $x = 5 \times 2^2 = 20$ 답 ③

0154 **전략** 1200을 소인수분해하여 소인수의 지수가 모두 짝수가 되도록 하는 n 의 값을 정한다.

풀이 $\frac{1200}{n} = \frac{2^4 \times 3 \times 5^2}{n} = \frac{3 \times 20^2}{n}$ 이므로

$n = 3 \times a^2$ (a 는 20의 약수) 꼴이어야 한다.

$20 = 2^2 \times 5$ 이므로 20의 약수의 개수는

$$(2+1) \times (1+1) = 6$$

따라서 자연수 n 의 개수는 6이다. 답 6

참고 자연수 n 의 값은 다음과 같다.

$$3 \times 1^2 = 3, 3 \times 2^2 = 12, 3 \times 4^2 = 48,$$

$$3 \times 5^2 = 75, 3 \times 10^2 = 300, 3 \times 20^2 = 1200$$



자연수 A 가 $a^m \times b^n$ (a, b 는 서로 다른 소수, m, n 은 자연수)으로 소인수분해될 때, A 의 약수의 개수는 $(m+1) \times (n+1)$ 이다.

0155 전략 24를 소인수분해하여 소인수의 지수가 모두 짝수가 되도록 하는 xy 의 값을 정한다.

풀이 $24xy = 2^3 \times 3 \times xy$ 에서 $xy = 2 \times 3 \times (\text{자연수})^2$ 꼴이어야 하므로 $xy = 2 \times 3, 2 \times 3 \times 2^2 (\because 1 \leq xy \leq 36)$

따라서 x, y 의 순서쌍 (x, y) 는

(i) $xy = 2 \times 3 = 6$ 인 경우: $(1, 6), (2, 3), (3, 2), (6, 1)$ 의 4개

(ii) $xy = 2 \times 3 \times 2^2 = 24$ 인 경우: $(4, 6), (6, 4)$ 의 2개

(i), (ii)에서 구하는 확률은 $\frac{6}{36} = \frac{1}{6}$ 답 ④



$$(\text{사건 } A \text{가 일어날 확률}) = \frac{(\text{사건 } A \text{가 일어나는 경우의 수})}{(\text{모든 경우의 수})}$$

0156 전략 $\sqrt{x+52} - \sqrt{97-y}$ 가 가장 작은 정수가 되려면 $\sqrt{x+52}$ 는 가장 작은 자연수, $\sqrt{97-y}$ 는 가장 큰 자연수가 되어야 한다.

풀이 $\sqrt{x+52}$ 가 가장 작은 자연수가 되어야 하므로

$$x+52=64 \quad \therefore x=12$$

$\sqrt{97-y}$ 가 가장 큰 자연수가 되어야 하므로

$$97-y=81 \quad \therefore y=16$$

$$\therefore x+y=28 \quad \text{답 28}$$

0157 전략 $0 < a < 1$ 임을 이용하여 $\frac{1}{a}, \sqrt{a}, a^2, \frac{1}{\sqrt{a}}, a-1$ 의 값의 범위를 구한다.

풀이 (ㄱ) $0 < a < 1$ 이므로 $\frac{1}{a} > 1 \quad \therefore a < \frac{1}{a}$

(ㄴ) $0 < \sqrt{a} < \sqrt{1}$ 이므로 $0 < \sqrt{a} < 1 \quad \therefore \sqrt{a} - 1 < 0$

(ㄷ) $0 < a^2 < 1$ 이고, $0 < \sqrt{a} < 1$ 에서 $\frac{1}{\sqrt{a}} > 1$ 이므로 $a^2 < \frac{1}{\sqrt{a}}$

(ㄹ) $a-1 < 0$ 이므로 $\sqrt{(a-1)^2} = -(a-1) = 1-a$

이상에서 옳은 것은 (ㄱ), (ㄴ), (ㄹ)의 3개이다. 답 ④

0158 전략 제곱근의 정의를 이용하여 식을 세우고, $a > 0, b > 0, x > 0$ 일 때, $a < \sqrt{x} < b$ 이면 $a^2 < (\sqrt{x})^2 < b^2$ 임을 이용한다.

풀이 n 의 양의 제곱근이 $5+p$ 이므로 $\sqrt{n} = 5+p$

$$1 < p < 2 \text{이므로} \quad 6 < 5+p < 7 \quad \therefore 6 < \sqrt{n} < 7$$

$$\therefore 36 < n < 49$$

따라서 자연수 n 의 최댓값은 48이다. 답 48

0159 전략 $2 \leq \sqrt{nx} < 3$ 의 각 변을 제공하고, nx 가 자연수임을 이용하여 x 의 값을 구한다.

풀이 $2 \leq \sqrt{nx} < 3$ 에서 $4 \leq nx < 9$ 이고, nx 는 자연수이므로

$$nx = 4, 5, 6, 7, 8 \quad \therefore x = \frac{4}{n}, \frac{5}{n}, \frac{6}{n}, \frac{7}{n}, \frac{8}{n}$$

$$\frac{4}{n} + \frac{5}{n} + \frac{6}{n} + \frac{7}{n} + \frac{8}{n} = 15 \text{이므로}$$

$$\frac{30}{n} = 15 \quad \therefore n = 2 \quad \text{답 ②}$$

0160 전략 $x=1, 2, 3, \dots, 12$ 에 대하여 $\sqrt{2x-1}$ 과 가장 가까운 제곱수를 찾는다.

풀이 $\sqrt{1}=1, \sqrt{4}=2, \sqrt{9}=3, \sqrt{16}=4$ 이므로

$$N(1) = N(2) = 1$$

$$N(3) = N(4) = 2$$

$$N(5) = N(6) = N(7) = N(8) = 3$$

$$N(9) = N(10) = N(11) = N(12) = 4$$

$$\therefore (\text{주어진 식}) = 1 \times 2 + 2 \times 2 + 3 \times 4 + 4 \times 4 = 34 \quad \text{답 34}$$

0161 전략 각 정사각형의 넓이의 비를 이용하여 A 의 넓이를 구한다.

풀이 D 의 넓이가 16m^2 이므로 C 의 넓이는 8m^2 , B 의 넓이는 4m^2 , A 의 넓이는 2m^2 이다. ... ①

따라서 A 의 한 변의 길이는 $\sqrt{2}\text{m}$ 이다. ... ②

$$\text{답 } \sqrt{2}\text{ m}$$

채점 기준

① A 의 넓이를 구할 수 있다.	60%
② A 의 한 변의 길이를 구할 수 있다.	40%

0162 전략 $k > 0$ 이면 $\sqrt{k^2} = k$, $k < 0$ 이면 $\sqrt{k^2} = -k$ 임을 이용한다.

풀이 $5x+6 > 3x+12$ 에서 $2x > 6 \quad \therefore x > 3$... ①

따라서 $x+3 > 0, 2x > 0, 3-x < 0$ 이므로 ... ②

$$(\text{주어진 식}) = \sqrt{[3(x+3)]^2} - \sqrt{(2x)^2} + \sqrt{(3-x)^2}$$

$$= 3(x+3) - 2x - (3-x) \quad \text{... ③}$$

$$= 2x+6 \quad \text{... ④}$$

$$\text{답 } 2x+6$$

채점 기준

① x 의 값의 범위를 구할 수 있다.	20%
② $x+3, 2x, 3-x$ 의 부호를 결정할 수 있다.	20%
③ 근호를 없앨 수 있다.	40%
④ 식을 간단히 할 수 있다.	20%

0163 전략 x 의 값의 범위를 나누어 a, b 의 값을 구한다.

풀이 (i) $x > a, x > -b$ 일 때, $x-a > 0, x+b > 0$ 이므로

$$(x-a) + 2(x+b) = 3x-a+2b$$

$$\text{이때 } 3x-a+2b = 3x-9 \text{이므로} \quad -a+2b = -9$$

(ii) $x > a, x < -b$ 일 때, $x-a > 0, x+b < 0$ 이므로

$$(x-a)-2(x+b)=-x-a-2b$$

$$\therefore -x-a-2b \neq 3x-9$$

(iii) $x < a$, $x > -b$ 일 때, $x-a < 0$, $x+b > 0$ 이므로

$$-(x-a)+2(x+b)=x+a+2b$$

$$\therefore x+a+2b \neq 3x-9$$

(iv) $x < a$, $x < -b$ 일 때, $x-a < 0$, $x+b < 0$ 이므로

$$-(x-a)-2(x+b)=-3x+a-2b$$

$$\therefore -3x+a-2b \neq 3x-9$$

이상에서 $-a+2b=-9$

... ①

이때 $a+b=6$ 이므로 두 식을 연립하여 풀면

$$a=7, b=-1$$

... ②

따라서 바르게 계산한 식은

$$-(x-7)+2(x-1)=x+5$$

... ③

(i)에서 부호를 잘못 본 식이 $x-7 > 0$ 이므로
바르게 본 식은 $x-7 < 0$ 이다.

답 x+5

채점 기준

① x의 값의 범위를 나누어 a, b 사이의 관계식을 구할 수 있다.	50%
② a, b의 값을 구할 수 있다.	20%
③ 바르게 계산한 식을 구할 수 있다.	30%

0164 전라 $(a+\frac{1}{a})^2-4=(a-\frac{1}{a})^2$, $(a-\frac{1}{a})^2+4=(a+\frac{1}{a})^2$ 임을 이용한다.

풀이 $0 < a < 1$ 이므로 $\frac{1}{a} > 1$

$$\therefore \frac{1}{a}-1 > 0, a-\frac{1}{a} < 0, a+\frac{1}{a} > 0$$

... ①

$$\therefore (\text{주어진 식}) = \left(\frac{1}{a}-1\right) + 2\left(a-\frac{1}{a}\right) + \left(a+\frac{1}{a}\right)$$

... ②

$$= 3a-1$$

... ③

답 $3a-1$

채점 기준

① $\frac{1}{a}-1$, $a-\frac{1}{a}$, $a+\frac{1}{a}$ 의 부호를 결정할 수 있다.	40%
② 근호를 없앨 수 있다.	40%
③ 식을 간단히 할 수 있다.	20%



$$\begin{aligned} \sqrt{\left(a+\frac{1}{a}\right)^2-4} &= \sqrt{\left(a^2+2+\frac{1}{a^2}\right)-4} = \sqrt{a^2-2+\frac{1}{a^2}} = \sqrt{\left(a-\frac{1}{a}\right)^2} \\ \sqrt{\left(a-\frac{1}{a}\right)^2+4} &= \sqrt{\left(a^2-2+\frac{1}{a^2}\right)+4} = \sqrt{a^2+2+\frac{1}{a^2}} = \sqrt{\left(a+\frac{1}{a}\right)^2} \end{aligned}$$

0165 전라 $\sqrt{20n}$, $\sqrt{56-n}$ 이 모두 자연수가 되도록 하는 자연수 n 의 값을 정한다.

풀이 진료실과 주사실의 한 변의 길이는 각각 $\sqrt{20n}$, $\sqrt{56-n}$ 이고, 모두 자연수이다.

$\sqrt{20n} = \sqrt{2^2 \times 5 \times n}$ 이므로 $n = 5 \times (\text{자연수})^2$ 풀이어야 한다.

$$\therefore n=5, 20, 45, \dots$$

... ①

$56-n$ 은 56보다 작은 제곱수이어야 하므로

$$56-n=1, 4, 9, 16, 25, 36, 49$$

$$\therefore n=55, 52, 47, 40, 31, 20, 7$$

... ②

따라서 $n=20$ 이므로 주사실의 넓이는 $56-20=36$

답 36

채점 기준

① $\sqrt{20n}$ 이 자연수가 되도록 하는 n 의 값을 구할 수 있다.	40%
② $\sqrt{56-n}$ 이 자연수가 되도록 하는 n 의 값을 구할 수 있다.	40%
③ 주사실의 넓이를 구할 수 있다.	20%

0166 전라 $k > 0$ 이면 $\sqrt{k^2}=k$, $k < 0$ 이면 $\sqrt{k^2}=-k$ 임을 이용하여 식을 간단히 한 후, 대소를 비교한다.

풀이 $a-1 < 0$ 이므로 $\sqrt{(a-1)^2}=-(a-1)=1-a$

$$1-b > 0 \text{이므로 } \sqrt{(1-b)^2}=1-b$$

$$ab-1 < 0 \text{이므로 } \sqrt{(ab-1)^2}=-(ab-1)=1-ab$$

$$a > 0 \text{이므로 } \frac{1}{\sqrt{a^2}} = \frac{1}{a}$$

$$b > 0 \text{이므로 } \frac{1}{\sqrt{b^2}} = \frac{1}{b}$$

... ①

이때 $0 < ab < a < b < 1$ 이므로

$$\sqrt{(1-b)^2} < \sqrt{(a-1)^2} < \sqrt{(ab-1)^2} < 1$$

$$\text{또 } \frac{1}{a} > \frac{1}{b} > 1 \text{이므로 } 1 < \frac{1}{\sqrt{b^2}} < \frac{1}{\sqrt{a^2}}$$

$$\therefore \sqrt{(1-b)^2} < \sqrt{(a-1)^2} < \sqrt{(ab-1)^2} < \frac{1}{\sqrt{b^2}} < \frac{1}{\sqrt{a^2}} \dots ②$$

따라서 작은 것부터 나열할 때, 세 번째에 오는 식은

$$\sqrt{(ab-1)^2}=1-ab$$

... ③

답 $1-ab$

채점 기준

① 주어진 식의 부호를 결정할 수 있다.	40%
② 주어진 식의 대소를 비교할 수 있다.	40%
③ 세 번째에 오는 식을 간단히 할 수 있다.	20%

0167 전라 부등식의 각 변을 제곱하여 x 의 값의 범위를 구한다.

풀이 $2n-1 < \sqrt{x} < 2n+1$ 에서

$$(2n-1)^2 < x < (2n+1)^2$$

... ①

따라서 위의 부등식을 만족시키는 자연수 x 의 개수는

$$(2n+1)^2 - (2n-1)^2 - 1$$

$$= (4n^2+4n+1) - (4n^2-4n+1) - 1 = 8n-1$$

... ②

이때 $8n-1=71$ 이므로

$$8n=72 \quad \therefore n=9$$

... ③

답 9

채점 기준

① x의 값의 범위를 구할 수 있다.	20%
② 자연수 x의 개수를 n으로 나타낼 수 있다.	50%
③ n의 값을 구할 수 있다.	30%



a, b, x 가 정수일 때,

$$a \leq x \leq b \rightarrow (\text{정수 } x \text{의 개수}) = b-a+1$$

$$a \leq x < b \rightarrow (\text{정수 } x \text{의 개수}) = b-a$$

$$a < x \leq b \rightarrow (\text{정수 } x \text{의 개수}) = b-a$$

$$a < x < b \rightarrow (\text{정수 } x \text{의 개수}) = b-a-1$$

02 무리수와 실수

0168 답 무

0169 답 유

0170 답 유

0171 답 무

0172 답 유

0173 답 유

0174 답 ×

0175 답 ○

0176 답 ×

0177 답 ○

0178 답 2.665

0179 답 2.709

0180 답 2.655

0181 답 2.687

0182 $\square ABCD = 3 \times 3 - 4 \times \left(\frac{1}{2} \times 2 \times 1\right) = 5$ 답 5

0183 $\square ABCD = 5$ 이므로 구하는 한 변의 길이는 $\sqrt{5}$
답 $\sqrt{5}$

0184 $\overline{BC} = \overline{BP} = \sqrt{5}$ 이므로 점 P에 대응하는 수는 $1 + \sqrt{5}$
답 $1 + \sqrt{5}$

0185 $\overline{BA} = \overline{BQ} = \sqrt{5}$ 이므로 점 Q에 대응하는 수는 $1 - \sqrt{5}$
답 $1 - \sqrt{5}$

0186 답 ○

0187 답 ○

0188 답 ×

0189 $(\sqrt{3} + 1) - 3 = \sqrt{3} - 2 = \sqrt{3} - \sqrt{4} < 0$
 $\therefore \sqrt{3} + 1 < 3$ 답 <

0190 $(\sqrt{11} - 2) - (\sqrt{11} - 1) = -1 < 0$
 $\therefore \sqrt{11} - 2 < \sqrt{11} - 1$ 답 <

0191 $(\sqrt{6} - 8) - (\sqrt{5} - 8) = \sqrt{6} - \sqrt{5} > 0$
 $\therefore \sqrt{6} - 8 > \sqrt{5} - 8$ 답 >

0192 $(-\sqrt{3} + \sqrt{10}) - (-2 + \sqrt{10}) = -\sqrt{3} + 2$
 $= -\sqrt{3} + \sqrt{4} > 0$
 $\therefore -\sqrt{3} + \sqrt{10} > -2 + \sqrt{10}$ 답 >

0193 $\sqrt{\frac{1}{9}} = \frac{1}{3}$, $-\sqrt{(-6)^2} = -6$ 은 유리수이다.
따라서 무리수는 $-\sqrt{0.4}$, $5 + \sqrt{2}$ 의 2개이다. 답 ②

0194 각 정사각형의 한 변의 길이를 구해 보면 다음과 같다.
① $\sqrt{2}$ ② $\sqrt{6}$ ③ $\sqrt{16} = 4$
④ $\sqrt{24}$ ⑤ $2\sqrt{2}$ 답 ③

0195 ① $\pm\sqrt{1.44} = \pm 1.2$

③ $\sqrt{0.4} = \sqrt{\frac{4}{9}} = \frac{2}{3}$

⑤ $\sqrt{0.09} - \sqrt{1} = 0.3 - 1 = -0.7$

답 ②, ④



순환소수를 분수로 나타내기

① $0.\dot{a} = \frac{a}{9}$

② $0.\dot{a}\dot{b} = \frac{ab}{99}$

③ $0.a\dot{b} = \frac{ab-a}{90}$

④ $0.ab\dot{c} = \frac{abc-ab}{900}$

0196 두 자리 자연수의 개수는

10, 11, 12, ..., 99의 90

... ①

이 중 유리수의 개수는

$\sqrt{16}, \sqrt{25}, \sqrt{36}, \sqrt{49}, \sqrt{64}, \sqrt{81}$ 의 6

... ②

따라서 무리수의 개수는

$90 - 6 = 84$

... ③

답 84

채점 기준

① 두 자리 자연수의 개수를 구할 수 있다.	20%
② 유리수의 개수를 구할 수 있다.	40%
③ 무리수의 개수를 구할 수 있다.	40%

0197 (ㄱ) (무리수) + (유리수) = (무리수)이므로 $a + 1$ 은 무리수이다.

(ㄴ) $a = \sqrt{2}$ 이면 $a - \sqrt{2} = \sqrt{2} - \sqrt{2} = 0$

(ㄷ) (유리수) × (무리수) = (무리수) ((유리수) ≠ 0)이므로 $2a$ 는 무리수이다.

(ㄹ) $a = \sqrt{3}$ 이면 $\sqrt{3}a = \sqrt{3} \times \sqrt{3} = 3$

(ㄴ) $a = \sqrt{2}$ 이면 $(\sqrt{2})^2 = 2$

이상에서 항상 무리수인 것은 (ㄱ), (ㄷ)이다.

답 (ㄱ), (ㄷ)

0198 ① 소수는 유한소수와 무한소수로 이루어져 있다.

④ 순환하지 않는 무한소수는 무리수이다.

⑤ 순환소수는 무한소수이지만 유리수이다.

답 ②, ③

0199 ④ $\sqrt{25} = 5$ 와 같이 근호 안의 수가 제곱수이면 유리수이다.
답 ④

0200 (ㄷ) 근호 안의 수가 제곱수이면 유리수이다.

(ㄴ) 순환소수는 유한소수로 나타낼 수 없지만 유리수이다.

이상에서 옳은 것은 (ㄱ), (ㄴ), (ㄹ)이다.

답 (ㄱ), (ㄴ), (ㄹ)

0201 ④ 무리수는 기약분수로 나타낼 수 없다.

답 ④

0202 ② 순환하지 않는 무한소수는 무리수이고 실수이다.

⑤ 실수 중 정수가 아닌 수는 유리수 또는 무리수이다. 답 ②, ⑤

0220 (ㄱ) $\sqrt{7} < 3 < \sqrt{10}$ 이므로 $\sqrt{7}$ 과 $\sqrt{10}$ 사이에는 1개의 자연수가 있다.

(ㄴ) 1과 2 사이에는 무수히 많은 무리수가 있다.

이상에서 옳은 것은 (ㄱ), (ㄷ), (ㄹ)의 3개이다.

답 3

0221 영배: 1에 가장 가까운 무리수는 알 수 없다.

민지: 모든 무리수는 각각 수직선 위의 한 점에 대응한다.

따라서 옳지 않은 설명을 한 학생은 영배, 민지이다.

답 ②

0222 $1 < \sqrt{2} < 2$ 이므로

(ㄴ) $x=1$ 의 1개

(ㄷ) $x=-1, 0, 1$ 의 3개

이상에서 x 의 값이 무수히 많은 것은 (ㄱ), (ㄷ), (ㄹ)의 3개이다.

답 ③

0223 ① $(\sqrt{5}-1)-1=\sqrt{5}-2=\sqrt{5}-\sqrt{4}>0$
 $\therefore \sqrt{5}-1>1$

② $(\sqrt{11}-2)-(-2+\sqrt{10})=\sqrt{11}-\sqrt{10}>0$
 $\therefore \sqrt{11}-2>-2+\sqrt{10}$

③ $(2-\sqrt{3})-(\sqrt{6}-\sqrt{3})=2-\sqrt{6}=\sqrt{4}-\sqrt{6}<0$
 $\therefore 2-\sqrt{3}<\sqrt{6}-\sqrt{3}$

④ $(\sqrt{7}+3)-(\sqrt{7}+\sqrt{8})=3-\sqrt{8}=\sqrt{9}-\sqrt{8}>0$
 $\therefore \sqrt{7}+3>\sqrt{7}+\sqrt{8}$

⑤ $(5-\sqrt{\frac{1}{6}})-(5-\sqrt{\frac{1}{5}})=-\sqrt{\frac{1}{6}}+\sqrt{\frac{1}{5}}>0$
 $\therefore 5-\sqrt{\frac{1}{6}}>5-\sqrt{\frac{1}{5}}$

답 ④

0224 ① $3-(\sqrt{5}+1)=2-\sqrt{5}=\sqrt{4}-\sqrt{5}<0$
 $\therefore 3<\sqrt{5}+1$

② $(\sqrt{10}-3)-1=\sqrt{10}-4=\sqrt{10}-\sqrt{16}<0$
 $\therefore \sqrt{10}-3<1$

③ $(6-\sqrt{8})-4=2-\sqrt{8}=\sqrt{4}-\sqrt{8}<0$
 $\therefore 6-\sqrt{8}<4$

④ $2-(\sqrt{7}-1)=3-\sqrt{7}=\sqrt{9}-\sqrt{7}>0$
 $\therefore 2>\sqrt{7}-1$

⑤ $(\sqrt{20}-4)-1=\sqrt{20}-5=\sqrt{20}-\sqrt{25}<0$
 $\therefore \sqrt{20}-4<1$

답 ③

0225 ① $(\sqrt{2}-5)-(\sqrt{3}-5)=\sqrt{2}-\sqrt{3}<0$
 $\therefore \sqrt{2}-5 \leq \sqrt{3}-5$

② $2-(\sqrt{10}-1)=3-\sqrt{10}=\sqrt{9}-\sqrt{10}<0$
 $\therefore 2 \leq \sqrt{10}-1$

③ $(\sqrt{12}+1)-(\sqrt{14}+1)=\sqrt{12}-\sqrt{14}<0$
 $\therefore \sqrt{12}+1 \leq \sqrt{14}+1$

④ $(6-\sqrt{2})-\sqrt{(-4)^2}=2-\sqrt{2}=\sqrt{4}-\sqrt{2}>0$
 $\therefore 6-\sqrt{2} \geq \sqrt{(-4)^2}$

⑤ $(\sqrt{15}-\sqrt{17})-(-\sqrt{17}+4)=\sqrt{15}-4=\sqrt{15}-\sqrt{16}<0$
 $\therefore \sqrt{15}-\sqrt{17} \leq -\sqrt{17}+4$

답 ④

0226 (ㄱ) $(2+\sqrt{5})-(2+\sqrt{6})=\sqrt{5}-\sqrt{6}<0$
 $\therefore 2+\sqrt{5}<2+\sqrt{6}$

(ㄴ) $(\sqrt{8}-\sqrt{7})-(3-\sqrt{7})=\sqrt{8}-3=\sqrt{8}-\sqrt{9}<0$
 $\therefore \sqrt{8}-\sqrt{7}<3-\sqrt{7}$

(ㄷ) $(-\sqrt{12}-1)-(-\sqrt{12}-\sqrt{2})=-1+\sqrt{2}>0$
 $\therefore -\sqrt{12}-1>-\sqrt{12}-\sqrt{2}$

(ㄹ) $(-4+\sqrt{10})-(-4+\sqrt{8})=\sqrt{10}-\sqrt{8}>0$
 $\therefore -4+\sqrt{10}>-4+\sqrt{8}$

이상에서 옳은 것은 (ㄴ), (ㄷ)이다.

답 ③

0227 $(\sqrt{a}-\sqrt{b})^2=a-2\sqrt{ab}+b$ 이고 $a-b>0$ 이므로 ... ①

$$\begin{aligned} (\sqrt{a-b})^2-(\sqrt{a}-\sqrt{b})^2 &= (a-b)-(a-2\sqrt{ab}+b) \\ &= 2\sqrt{ab}-2b \\ &= 2(\sqrt{ab}-\sqrt{b^2})>0 \end{aligned}$$

$$\therefore (\sqrt{a-b})^2>(\sqrt{a}-\sqrt{b})^2 \quad \dots ②$$

이때 $\sqrt{a-b}>0$, $\sqrt{a}-\sqrt{b}>0$ 이므로

$$\sqrt{a-b}>\sqrt{a}-\sqrt{b} \quad \dots ③$$

답 $\sqrt{a-b}>\sqrt{a}-\sqrt{b}$

채점 기준

① $(\sqrt{a}-\sqrt{b})^2$ 을 전개할 수 있다.	30%
② $(\sqrt{a-b})^2$ 과 $(\sqrt{a}-\sqrt{b})^2$ 의 대소 관계를 나타낼 수 있다.	50%
③ $\sqrt{a-b}$ 와 $\sqrt{a}-\sqrt{b}$ 의 대소 관계를 나타낼 수 있다.	20%



두 실수 A, B 의 대소 관계는 제곱의 차의 부호로도 알 수 있다.

$A>0, B>0$ 일 때

① $A^2-B^2>0$ 이면 $A>B$

② $A^2-B^2=0$ 이면 $A=B$

③ $A^2-B^2<0$ 이면 $A<B$

0228 $a-c=(\sqrt{3}+3)-4=\sqrt{3}-1>0$ 이므로 $a>c$

$b-c=(5-\sqrt{2})-4=1-\sqrt{2}<0$ 이므로 $b<c$

$$\therefore b<c<a \quad \text{답 ③}$$

0229 (1) $A-B=(\sqrt{5}+3)-(\sqrt{5}+\sqrt{6})=3-\sqrt{6}$
 $=\sqrt{9}-\sqrt{6}>0$

$$\therefore A>B \quad \dots ①$$

(2) $A-C=(\sqrt{5}+3)-(3+\sqrt{6})=\sqrt{5}-\sqrt{6}<0$

$$\therefore A<C \quad \dots ②$$

(3) $B<A, A<C$ 이므로 $B<A<C$

$$\text{답 ① } A>B \quad \text{② } A<C \quad \text{③ } B<A<C$$

채점 기준

① A, B 의 대소 관계를 나타낼 수 있다.	40%
② A, C 의 대소 관계를 나타낼 수 있다.	40%
③ A, B, C 의 대소 관계를 나타낼 수 있다.	20%

0230 $(4-\sqrt{5})-2=2-\sqrt{5}=\sqrt{4}-\sqrt{5}<0$ 이므로
 $4-\sqrt{5}<2$
 $(4-\sqrt{5})-(4-\sqrt{6})=-\sqrt{5}+\sqrt{6}>0$ 이므로
 $4-\sqrt{5}>4-\sqrt{6}$
 $\therefore 4-\sqrt{6}<4-\sqrt{5}<2$
 따라서 2가 가장 큰 수이므로 B의 넓이가 가장 크다. **답 B**

0231 $-1-\sqrt{5}$ 는 음수이고, $\sqrt{3}+\sqrt{5}$, $1+\sqrt{5}$, 3은 양수이다.
 $(\sqrt{3}+\sqrt{5})-(1+\sqrt{5})=\sqrt{3}-1>0$ 이므로
 $\sqrt{3}+\sqrt{5}>1+\sqrt{5}$
 $(1+\sqrt{5})-3=-2+\sqrt{5}=-\sqrt{4}+\sqrt{5}>0$ 이므로
 $1+\sqrt{5}>3$
 $\therefore \sqrt{3}+\sqrt{5}>1+\sqrt{5}>3>-1-\sqrt{5}$
 따라서 세 번째 오는 수는 3이다. **답 3**

0232 $0<a<1$ 이므로 $A>0$, $B>0$, $C>0$ 이다.
 $A-B=(1-a)-(1-\sqrt{a})=\sqrt{a}-a>0$ 이므로 $A>B$
 $A^2-C^2=(1-a)^2-(\sqrt{1-a})^2=(1-2a+a^2)-(1-a)$
 $=a^2-a<0$
 이므로 $A^2<C^2 \therefore A<C$
 $\therefore B<A<C$ **답 ②**

0233 $\sqrt{9}<\sqrt{10}<\sqrt{16}$ 에서 $3<\sqrt{10}<4$
 $3-2<\sqrt{10}-2<4-2 \therefore 1<\sqrt{10}-2<2$
 따라서 $\sqrt{10}-2$ 에 대응하는 점은 점 D이다. **답 ④**

0234 $\sqrt{36}<\sqrt{40}<\sqrt{49}$ 에서 $6<\sqrt{40}<7$
 따라서 $\sqrt{40}$ 에 대응하는 점은 점 B이다. **답 점 B**

0235 $\sqrt{4}<\sqrt{7}<\sqrt{9}$ 에서 $2<\sqrt{7}<3$
 $-3<-\sqrt{7}<-2$, $6-3<6-\sqrt{7}<6-2$
 $\therefore 3<6-\sqrt{7}<4$
 따라서 $6-\sqrt{7}$ 에 대응하는 점은 구간 A에 있다. **답 ①**

0236 (i) $\sqrt{4}<\sqrt{8}<\sqrt{9}$ 에서 $2<\sqrt{8}<3$
 따라서 $\sqrt{8}$ 에 대응하는 점은 구간 F에 있다. ... ①
 (ii) $1<\sqrt{3}<\sqrt{4}$ 에서 $1<\sqrt{3}<2 \therefore -2<-\sqrt{3}<-1$
 따라서 $-\sqrt{3}$ 에 대응하는 점은 구간 B에 있다. ... ②
 (iii) $1<\sqrt{2}<\sqrt{4}$ 에서 $1<\sqrt{2}<2$, $-2<-\sqrt{2}<-1$
 $-2+1<1-\sqrt{2}<-1+1 \therefore -1<1-\sqrt{2}<0$
 따라서 $1-\sqrt{2}$ 에 대응하는 점은 구간 C에 있다. ... ③
 이상에서 구하는 구간은 구간 F, 구간 B, 구간 C이다.
답 구간 F, 구간 B, 구간 C

채점 기준

① $\sqrt{8}$ 에 대응하는 점이 있는 구간을 찾을 수 있다.	30%
② $-\sqrt{3}$ 에 대응하는 점이 있는 구간을 찾을 수 있다.	30%
③ $1-\sqrt{2}$ 에 대응하는 점이 있는 구간을 찾을 수 있다.	40%

0237 $\sqrt{4}<\sqrt{7}<\sqrt{9}$ 에서 $2<\sqrt{7}<3$
 $\therefore -3<-\sqrt{7}<-2$

따라서 $-\sqrt{7}$ 은 점 A에 대응하는 수이므로 $a=-\sqrt{7}$
 $1<\sqrt{3}<\sqrt{4}$ 에서 $1<\sqrt{3}<2$
 $2+1<2+\sqrt{3}<2+2 \therefore 3<2+\sqrt{3}<4$
 따라서 $2+\sqrt{3}$ 은 점 D에 대응하는 수이므로 $b=2+\sqrt{3}$
 $\therefore a^2-b=(-\sqrt{7})^2-(2+\sqrt{3})=5-\sqrt{3}$ **답 ④**
참고 $1<\sqrt{3}<2$, $-2<1-\sqrt{5}<-1$ 이므로 $\sqrt{3}$, $1-\sqrt{5}$ 는 각각 점 C, 점 B에 대응하는 수이다.

0238 ⑤ $2<\sqrt{5}<3$ 이므로 $0<\sqrt{5}-2<1$
 따라서 $\sqrt{5}-2$ 는 $\sqrt{3}$ 과 $\sqrt{5}$ 사이의 수가 아니다. **답 ⑤**

0239 $2=\sqrt{4}$, $3=\sqrt{9}$ 이므로 2와 3 사이에 있는 수는
 $\sqrt{7}$, $\sqrt{6.25}$, $\sqrt{\frac{13}{2}}$, $\sqrt{\frac{41}{6}}$
 의 4개이다. **답 ②**

0240 ① $\sqrt{7}<\sqrt{8}<\sqrt{9}$
 ② $\sqrt{7}+0.4=3.046>3$
 ③ $\sqrt{7.29}=\sqrt{2.7^2}=2.7$ 은 유리수이다.
 ④ $\frac{3-\sqrt{7}}{2}=0.177<\sqrt{7}$
 ⑤ $\sqrt{7}<\frac{3+\sqrt{7}}{2}<3$
 따라서 조건을 만족시키는 수는 ①, ⑤이다. **답 ①, ⑤**

0241 ② $\sqrt{2}+2=3.414>\sqrt{6}$
 ④ $\sqrt{2}$ 와 $\sqrt{6}$ 사이의 정수는 2뿐이다. **답 ②**

0242 색칠한 정사각형의 넓이는
 $4 \times 4 - 4 \times \left(\frac{1}{2} \times 3 \times 1\right) = 10$
 따라서 점 P에 대응하는 수는 $\sqrt{10}$ 이므로 $a=\sqrt{10}$
 (㉠) $\sqrt{10}<\sqrt{12}<\sqrt{16}$
 (㉡) $\sqrt{5}+\frac{1}{2}=2.736<\sqrt{10}$
 (㉢) $\sqrt{12.25}=\sqrt{3.5^2}=3.5$ 는 유리수이다.
 (㉣) $\sqrt{10}<a+0.1=\sqrt{10}+0.1=3.262<4$
 (㉤) $\sqrt{10}<\frac{a}{2}+2=\frac{\sqrt{10}+4}{2}<4$
 (㉥) $\frac{a-1}{2}=\frac{\sqrt{10}-1}{2}=1.081<\sqrt{10}$
 이상에서 구하는 무리수는 (㉠), (㉣), (㉤)이다. **답 (㉠), (㉣), (㉤)**

0243 **전략** (유리수)+(무리수)=(무리수)임을 이용한다.
풀이 ① $a=0$, $c=\sqrt{2}$ 이면 $ac=0$
 ② (유리수)+(무리수)=(무리수)이므로 $a+d=(\text{무리수})$
 ③ $c=\sqrt{2}$ 이면 $c^2=2$
 ④ $c=\sqrt{2}$, $d=-\sqrt{2}$ 이면 $c+d=0$
 ⑤ $c=\sqrt{2}$, $d=\sqrt{2}$ 이면 $\frac{1}{cd}=\frac{1}{\sqrt{2} \times \sqrt{2}}=\frac{1}{2}$
 따라서 항상 무리수인 것은 ②이다. **답 ②**

0244 전략 (유리수) \pm (유리수) = (유리수)임을 이용한다.

풀이 (ㄱ) $x=0$ 일 때, y 는 존재하지 않는다.

(ㄴ) 임의의 무리수 x 에 대하여 $y = \frac{1}{x}$ 이 존재하고

$$xy = x \times \frac{1}{x} = 1 \text{이다.}$$

(ㄷ) (유리수) - (유리수) = (유리수)이므로 방정식

$$x - y + \sqrt{2} = 0, \text{ 즉 } x - y = -\sqrt{2} \text{를 만족시키는 유리수 } x, y \text{는}$$

존재하지 않는다.

(ㄹ) $x = \sqrt{2}, y = \sqrt{2}$ 이면 $x + y = 2\sqrt{2}$ 이므로 무리수이지만

$$x - y = \sqrt{2} - \sqrt{2} = 0 \text{이다.}$$

이상에서 옳은 것은 (ㄴ) 뿐이다. **답** (ㄴ)

0245 전략 반지름의 길이가 r 인 원의 둘레의 길이는 $2\pi r$ 이다.

풀이 점 P와 점 A 사이의 거리는 원의 둘레의 길이와 같으므로

$$2\pi \times \frac{1}{2} = \pi \quad \therefore a = \pi$$

① π 는 무리수이다.

② $\pi - \pi = 0$ 은 유리수이다.

④ 2π 는 무리수이다.

⑤ $\pi - 1$ 은 무리수이므로 $\frac{n}{m}$ (m, n 은 정수, $m \neq 0$) 꼴로 나타낼 수 없다. **답** ③

0246 전략 한 변의 길이가 1인 정사각형의 대각선의 길이는 $\sqrt{2}$ 임을 이용한다.

풀이 정사각형 ABCD의 대각선의 길이는 $\sqrt{2}$ 이므로

$$\overline{BD} = \overline{BP} = \sqrt{2} \quad \therefore p = b - \sqrt{2}$$

(ㄱ) $p = \sqrt{2}$ 이면 $a = \sqrt{2} + \sqrt{2} - 1, b = \sqrt{2} + \sqrt{2}$ 이다.

(ㄴ) p 가 유리수이면 (유리수) $+\sqrt{2}$ = (무리수)이므로 b 는 무리수이고, (무리수) -1 = (무리수)이므로 a 도 무리수이다.

(ㄷ) a 가 유리수이면 (유리수) $+1$ = (유리수)이므로 b 는 유리수이고, (유리수) $-\sqrt{2}$ = (무리수)이므로 p 는 무리수이다.

이상에서 옳은 것은 (ㄴ), (ㄷ)이다. **답** ⑤

0247 전략 넓이가 a 인 정사각형의 한 변의 길이는 \sqrt{a} 임을 이용한.

풀이 $\overline{PA} = \overline{PR} = \sqrt{5}$ 이므로 점 A에 대응하는 수는

$$a = -1 - \sqrt{5}$$

$\overline{QB} = \overline{QS} = \sqrt{2}$ 이므로 점 B에 대응하는 수는

$$b = 2 + \sqrt{2}$$

$$\therefore (a+1)^2 + (b-\sqrt{2})^2 = (-\sqrt{5})^2 + 2^2 = 5 + 4 = 9$$

답 9

0248 전략 $A \geq 0$ 일 때 $\sqrt{A^2} = A$ 이고, $A < 0$ 일 때 $\sqrt{A^2} = -A$ 임을 이용하여 근호를 없앤 후, a, b 의 값을 대입한다.

풀이 ① $a+1 = (\sqrt{7}-1) + 1 = \sqrt{7}$

② $a = \sqrt{7}-1 > 0$ 이므로 $-a < 0$

$$\therefore \sqrt{(-a)^2} = a = \sqrt{7}-1$$

③ $-b < 0$ 이므로 $\sqrt{(-b)^2} = b = 2$

④ $a-b = (\sqrt{7}-1) - 2 = \sqrt{7}-3 < 0$ 이므로

$$\sqrt{(a-b)^2} = -(a-b) = -(\sqrt{7}-3) = 3-\sqrt{7}$$

⑤ $a+b = (\sqrt{7}-1) + 2 = \sqrt{7}+1 > 0$ 이므로

$$\sqrt{(a+b)^2} = a+b = \sqrt{7}+1$$

이때 $2 < \sqrt{7} < 3$ 이므로 이상에서 가장 큰 수는 ⑤이다. **답** ⑤

참고 $2 < \sqrt{7} < 3$ 이므로

$$1 < \sqrt{7}-1 < 2, 0 < 3-\sqrt{7} < 1, 3 < \sqrt{7}+1 < 4$$

$$\therefore 3-\sqrt{7} < \sqrt{7}-1 < 2 < \sqrt{7} < \sqrt{7}+1$$

0249 전략 $<1, 2>=2, <2, 3>=4, <3, 4>=6, \dots$ 임을 이용하여 $<n, n+1>$ 의 값을 구한다.

풀이 $<1, 2>=2, <2, 3>=4, <3, 4>=6, \dots$ 이므로

$$<n, n+1>=2n$$

$$\therefore <2015, 2016>=2 \times 2015 = 4030$$

답 4030

다른 풀이 $2015 = \sqrt{4060225}, 2016 = \sqrt{4064256}$ 이므로 2015, 2016 사이에 대응하는 점의 개수는

$$<2015, 2016> = 4064256 - 4060225 - 1 = 4030$$

0250 전략 $\sqrt{5}, \sqrt{19}$ 와 가장 가까운 정수를 각각 찾는다.

풀이 ① 실수 x 는 무수히 많다.

② $2 < \sqrt{5} < 3, 4 < \sqrt{19} < 5$ 이므로 정수는 3, 4의 2개이다.

③ 유리수 x 는 무수히 많다.

④ $1 < \sqrt{3} < 2$ 에서 $3 < \sqrt{3}+2 < 4$

$$\sqrt{5} < 3, 4 < \sqrt{19} \text{이므로 } \sqrt{5} < \sqrt{3}+2 < \sqrt{19}$$

⑤ 무리수 x 는 무수히 많다.

따라서 옳은 것은 ②, ④이다. **답** ②, ④

0251 전략 먼저 $\sqrt{n}, \sqrt{3n}, \sqrt{5n}$ 이 각각 유리수가 되도록 하는 n 의 개수를 구한다.

풀이 (i) \sqrt{n} 이 유리수가 되도록 하는 n 은

$$1^2, 2^2, \dots, 22^2 \text{의 } 22 \text{개}$$

답 ①

(ii) $\sqrt{3n}$ 이 유리수가 되도록 하는 n 은

$$3 \times 1^2, 3 \times 2^2, \dots, 3 \times 12^2 \text{의 } 12 \text{개}$$

답 ②

(iii) $\sqrt{5n}$ 이 유리수가 되도록 하는 n 은

$$5 \times 1^2, 5 \times 2^2, \dots, 5 \times 10^2 \text{의 } 10 \text{개}$$

답 ③

이상에서 구하는 n 의 개수는

$$500 - (22 + 12 + 10) = 456$$

답 ④

답 456

채점 기준

① \sqrt{n} 이 유리수가 되도록 하는 n 의 개수를 구할 수 있다.	30%
② $\sqrt{3n}$ 이 유리수가 되도록 하는 n 의 개수를 구할 수 있다.	30%
③ $\sqrt{5n}$ 이 유리수가 되도록 하는 n 의 개수를 구할 수 있다.	30%
④ $\sqrt{n}, \sqrt{3n}, \sqrt{5n}$ 이 무리수가 되도록 하는 n 의 개수를 구할 수 있다.	10%

0252 전략 한 변의 길이가 1인 정사각형의 대각선의 길이는 $\sqrt{2}$ 임을 이용하여 두 점 A, B에 대응하는 수를 구한다.

풀이 $\overline{AP} = \overline{AC} = \sqrt{2}$ 이므로 점 A에 대응하는 수는

$$(\sqrt{2}-2) - \sqrt{2} = -2$$

답 ①

이때 $\square ABCD$ 는 한 변의 길이가 1인 정사각형이므로 점 B에 대응하는 수는 $-2+1=-1$... ②

$BQ=BD=\sqrt{2}$ 이므로 점 Q에 대응하는 수는 $-1-\sqrt{2}$... ③
 답 $-1-\sqrt{2}$

채점 기준

① 점 A에 대응하는 수를 구할 수 있다.	40%
② 점 B에 대응하는 수를 구할 수 있다.	20%
③ 점 Q에 대응하는 수를 구할 수 있다.	40%

0253 전략 넓이가 a 인 정사각형의 한 변의 길이는 \sqrt{a} 임을 이용한다.

풀이 $\square OABC = \frac{1}{2} \times (4 \times 4) = 8$ 이므로

$$\overline{BP} = \overline{BA} = \sqrt{8}, \overline{OQ} = \overline{OC} = \sqrt{8} \quad \dots ①$$

따라서 $p=4-\sqrt{8}, q=\sqrt{8}$ 이므로 ... ②

$$p+q=4 \quad \dots ③$$

답 4

채점 기준

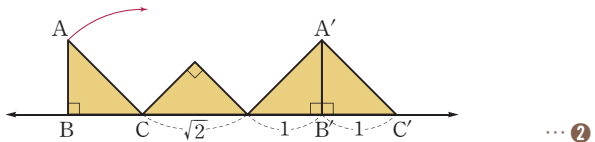
① BP, OQ의 길이를 구할 수 있다.	40%
② p, q의 값을 구할 수 있다.	40%
③ p+q의 값을 구할 수 있다.	20%

0254 전략 직각을 낀 두 변의 길이가 1인 직각이등변삼각형의 빗변의 길이는 $\sqrt{2}$ 임을 이용한다.

풀이 \overline{AC} 는 한 변의 길이가 1인 정사각형의 대각선의 길이와 같으므로

$$\overline{AC} = \sqrt{2} \quad \dots ①$$

이때 점 C는 다음 그림과 같이 이동한다.



따라서 점 C'에 대응하는 수는

$$1+\sqrt{2}+1+1=3+\sqrt{2} \quad \dots ③$$

답 $3+\sqrt{2}$

채점 기준

① AC의 길이를 구할 수 있다.	20%
② 점 C가 이동하는 경로를 그릴 수 있다.	50%
③ 점 C'에 대응하는 수를 구할 수 있다.	30%

0255 전략 $A \geq 0$ 일 때 $\sqrt{A^2} = A$ 이고, $A < 0$ 일 때 $\sqrt{A^2} = -A$ 임을 이용하여 근호를 없앤다.

$$\text{풀이 } a+b=5+(\sqrt{10}+2)=7+\sqrt{10} > 0$$

$$a-b=5-(\sqrt{10}+2)=3-\sqrt{10}=\sqrt{9}-\sqrt{10} < 0 \quad \dots ①$$

$$\therefore \sqrt{(a+b)^2} - \sqrt{(a-b)^2} = a+b + (a-b) \quad \dots ②$$

$$= 2a$$

$$= 2 \times 5 = 10 \quad \dots ③$$

답 10

채점 기준

① $a+b, a-b$ 의 부호를 결정할 수 있다.	40%
② 주어진 식의 근호를 없앨 수 있다.	30%
③ 주어진 식의 값을 구할 수 있다.	30%

0256 전략 먼저 음수와 양수로 나눈 후, 각각의 대소를 비교한다.

풀이 (i) 음수: $-\sqrt{6}-\sqrt{2}, -\sqrt{5}$

$$\sqrt{6} > \sqrt{5} \text{이므로 } -\sqrt{6} < -\sqrt{5}$$

$$\therefore -\sqrt{6}-\sqrt{2} < -\sqrt{5} \quad \dots ①$$

(ii) 양수: $\sqrt{5}+3, \sqrt{6}+\sqrt{5}, 2+\sqrt{5}$

$$(\sqrt{5}+3) - (\sqrt{6}+\sqrt{5}) = 3-\sqrt{6} = \sqrt{9}-\sqrt{6} > 0 \text{이므로}$$

$$\sqrt{5}+3 > \sqrt{6}+\sqrt{5}$$

$$(\sqrt{6}+\sqrt{5}) - (2+\sqrt{5}) = \sqrt{6}-2 = \sqrt{6}-\sqrt{4} > 0 \text{이므로}$$

$$\sqrt{6}+\sqrt{5} > 2+\sqrt{5}$$

$$\therefore 2+\sqrt{5} < \sqrt{6}+\sqrt{5} < \sqrt{5}+3 \quad \dots ②$$

(i), (ii)에서

$$-\sqrt{6}-\sqrt{2} < -\sqrt{5} < 2+\sqrt{5} < \sqrt{6}+\sqrt{5} < \sqrt{5}+3$$

수를 수직선 위에 나타낼 때, 왼쪽에서 오른쪽으로 갈수록 큰 수
 이므로 오른쪽에서 두 번째에 오는 수는 $\sqrt{6}+\sqrt{5}$ 이고, 왼쪽에서
 두 번째에 오는 수는 $-\sqrt{5}$ 이다. ... ③

$$\text{답 } \sqrt{6}+\sqrt{5}, -\sqrt{5}$$

채점 기준

① 음수의 대소 관계를 나타낼 수 있다.	20%
② 양수의 대소 관계를 나타낼 수 있다.	50%
③ 답을 구할 수 있다.	30%

03 근호를 포함한 식의 계산 (1)

0257 답 $\sqrt{10}$

0258 답 $2\sqrt{42}$

0259 답 $15\sqrt{10}$

0260 $\sqrt{\frac{5}{3}} \times \sqrt{\frac{12}{5}} = \sqrt{\frac{5}{3} \times \frac{12}{5}} = \sqrt{4} = 2$ 답 2

0261 답 3

0262 답 5

0263 답 10

0264 $\sqrt{28} = \sqrt{2^2 \times 7} = 2\sqrt{7}$ 답 $2\sqrt{7}$

0265 $\sqrt{32} = \sqrt{4^2 \times 2} = 4\sqrt{2}$ 답 $4\sqrt{2}$

0266 $-\sqrt{50} = -\sqrt{5^2 \times 2} = -5\sqrt{2}$ 답 $-5\sqrt{2}$

0267 $-\sqrt{48} = -\sqrt{4^2 \times 3} = -4\sqrt{3}$ 답 $-4\sqrt{3}$

0268 $2\sqrt{6} = \sqrt{2^2 \times 6} = \sqrt{24}$ 답 $\sqrt{24}$

0269 $5\sqrt{5} = \sqrt{5^2 \times 5} = \sqrt{125}$ 답 $\sqrt{125}$

0270 $-3\sqrt{10} = -\sqrt{3^2 \times 10} = -\sqrt{90}$ 답 $-\sqrt{90}$

0271 $-7\sqrt{2} = -\sqrt{7^2 \times 2} = -\sqrt{98}$ 답 $-\sqrt{98}$

0272 $\frac{\sqrt{77}}{\sqrt{11}} = \sqrt{\frac{77}{11}} = \sqrt{7}$ 답 $\sqrt{7}$

0273 $\sqrt{40} \div \sqrt{8} = \frac{\sqrt{40}}{\sqrt{8}} = \sqrt{\frac{40}{8}} = \sqrt{5}$ 답 $\sqrt{5}$

0274 $\sqrt{72} \div \sqrt{2} = \frac{\sqrt{72}}{\sqrt{2}} = \sqrt{\frac{72}{2}} = \sqrt{36} = 6$ 답 6

0275 답 (가) 5 (나) 3 (다) 5

0276 답 (가) 90 (나) 2 (다) 10 (라) 10

0277 $\sqrt{\frac{7}{9}} = \sqrt{\frac{7}{3^2}} = \frac{\sqrt{7}}{3}$ 답 $\frac{\sqrt{7}}{3}$

0278 $\sqrt{\frac{62}{200}} = \sqrt{\frac{31}{100}} = \sqrt{\frac{31}{10^2}} = \frac{\sqrt{31}}{10}$ 답 $\frac{\sqrt{31}}{10}$

0279 $\sqrt{0.03} = \sqrt{\frac{3}{100}} = \sqrt{\frac{3}{10^2}} = \frac{\sqrt{3}}{10}$ 답 $\frac{\sqrt{3}}{10}$

0280 $\sqrt{0.12} = \sqrt{\frac{12}{100}} = \sqrt{\frac{2^2 \times 3}{10^2}} = \frac{2\sqrt{3}}{10} = \frac{\sqrt{3}}{5}$ 답 $\frac{\sqrt{3}}{5}$

0281 $\frac{1}{\sqrt{6}} = \frac{\sqrt{6}}{\sqrt{6} \times \sqrt{6}} = \frac{\sqrt{6}}{6}$ 답 $\frac{\sqrt{6}}{6}$

0282 $\frac{10}{\sqrt{5}} = \frac{10 \times \sqrt{5}}{\sqrt{5} \times \sqrt{5}} = \frac{10\sqrt{5}}{5} = 2\sqrt{5}$ 답 $2\sqrt{5}$

0283 $\frac{\sqrt{2}}{\sqrt{7}} = \frac{\sqrt{2} \times \sqrt{7}}{\sqrt{7} \times \sqrt{7}} = \frac{\sqrt{14}}{7}$ 답 $\frac{\sqrt{14}}{7}$

0284 $\frac{9}{2\sqrt{3}} = \frac{9 \times \sqrt{3}}{2\sqrt{3} \times \sqrt{3}} = \frac{9\sqrt{3}}{6} = \frac{3\sqrt{3}}{2}$ 답 $\frac{3\sqrt{3}}{2}$

0285 $3\sqrt{3} \times \left(-\sqrt{\frac{7}{5}}\right) \times (-2\sqrt{5}) = 6\sqrt{3 \times \frac{7}{5} \times 5} = 6\sqrt{21}$ 답 ⑤

0286 ④ $\sqrt{\frac{5}{2}} \times \sqrt{\frac{6}{5}} = \sqrt{\frac{5}{2} \times \frac{6}{5}} = \sqrt{3}$ 답 ④

0287 $\sqrt{0.15} \times \sqrt{0.6} = \sqrt{0.15 \times 0.6} = \sqrt{0.09} = 0.3$ 답 ②

0288 $\sqrt{\frac{6}{5}} \times \sqrt{\frac{10}{3}} = \sqrt{\frac{6}{5} \times \frac{10}{3}} = \sqrt{4} = 2 \quad \therefore a=2$

$\sqrt{\frac{7}{4}} \times 5\sqrt{\frac{8}{14}} = 5\sqrt{\frac{7}{4} \times \frac{8}{14}} = 5 \quad \therefore b=5$
 $\therefore ab = 2 \times 5 = 10$ 답 10

0289 $2 \times \sqrt{3} \times \sqrt{k} = 2\sqrt{3k}, \sqrt{2} \times \sqrt{18} = \sqrt{36} = 6$ 이므로
 $2\sqrt{3k} = 6, \sqrt{3k} = 3, 3k = 9$
 $\therefore k = 3$ 답 3

0290 $\sqrt{2} \times \sqrt{3} \times \sqrt{a} \times \sqrt{18} \times \sqrt{3a} = \sqrt{2 \times 3 \times a \times 18 \times 3a}$
 $= \sqrt{18^2 \times a^2} = \sqrt{(18a)^2}$
 $= 18a (\because a > 0)$... ①
따라서 $18a = 36$ 이므로 $a = 2$... ②
답 2

채점 기준

① 주어진 식의 좌변을 간단히 할 수 있다.	70%
② a의 값을 구할 수 있다.	30%

0291 $\sqrt{32} = \sqrt{4^2 \times 2} = 4\sqrt{2} \quad \therefore a=4$
 $\sqrt{75} = \sqrt{5^2 \times 3} = 5\sqrt{3} \quad \therefore b=5$
 $\therefore \sqrt{ab} = \sqrt{4 \times 5} = \sqrt{2^2 \times 5} = 2\sqrt{5}$ 답 $2\sqrt{5}$

0292 $\sqrt{600} = \sqrt{10^2 \times 6} = 10\sqrt{6} \quad \therefore x=10$
 $\sqrt{112} = \sqrt{4^2 \times 7} = 4\sqrt{7} \quad \therefore y=4$
 $\therefore x-y=6$ 답 ③

0293 ① $\sqrt{28} = \sqrt{2^2 \times 7} = 2\sqrt{7} \quad \therefore \square = 2$
② $-\sqrt{40} = -\sqrt{2^2 \times 10} = -2\sqrt{10} \quad \therefore \square = 10$
③ $\sqrt{80} = \sqrt{4^2 \times 5} = 4\sqrt{5} \quad \therefore \square = 4$
④ $\sqrt{99} = \sqrt{3^2 \times 11} = 3\sqrt{11} \quad \therefore \square = 11$

⑤ $\sqrt{108} = \sqrt{6^2 \times 3} = 6\sqrt{3} \quad \therefore \square = 6$

따라서 가장 큰 것은 ④이다.

답 ④

0294 $\sqrt{54} = \sqrt{3^2 \times 6} = 3\sqrt{6} \quad \therefore a = 6$

$\sqrt{180} = \sqrt{6^2 \times 5} = 6\sqrt{5} \quad \therefore b = 5$

$\sqrt{1000} = \sqrt{10^2 \times 10} = 10\sqrt{10} \quad \therefore c = 10$

$$\begin{aligned} \therefore \sqrt{\frac{ac}{b}} &= \sqrt{\frac{6 \times 10}{5}} = \sqrt{12} \\ &= \sqrt{2^2 \times 3} = 2\sqrt{3} \end{aligned}$$

답 ①

0295 $\sqrt{15} \times \sqrt{18} \times \sqrt{20} = \sqrt{3 \times 5 \times 3^2 \times 2 \times 2^2 \times 5} = 30\sqrt{6}$

$\therefore a = 30$

답 30

0296 (1) $\square EFGH = 256 \times \frac{1}{2} = 128$

... ①

(2) $\square EFGH$ 의 넓이가 128이므로 한 변의 길이는

$\sqrt{128} = \sqrt{8^2 \times 2} = 8\sqrt{2}$

... ②

따라서 $\square EFGH$ 의 둘레의 길이는

$4 \times 8\sqrt{2} = 32\sqrt{2}$

... ③

답 (1) 128 (2) $32\sqrt{2}$

채점 기준

① $\square EFGH$ 의 넓이를 구할 수 있다.	30%
② $\square EFGH$ 의 한 변의 길이를 구할 수 있다.	40%
③ $\square EFGH$ 의 둘레의 길이를 구할 수 있다.	30%

0297 ⑤ $-2\sqrt{7} = -\sqrt{2^2 \times 7} = -\sqrt{28}$

답 ⑤

0298 $2\sqrt{5} = \sqrt{20}$, $4 = \sqrt{16}$, $3\sqrt{2} = \sqrt{18}$ 이므로

$4 < \sqrt{17} < 3\sqrt{2} < 2\sqrt{5}$

답 4, $\sqrt{17}$, $3\sqrt{2}$, $2\sqrt{5}$

0299 $4\sqrt{6} = \sqrt{4^2 \times 6} = \sqrt{96}$ 이므로

$36 + 5x = 96$, $5x = 60$

$\therefore x = 12$

답 12

$$\begin{aligned} 0300 \quad a\sqrt{\frac{9b}{a}} + b\sqrt{\frac{4a}{b}} &= \sqrt{a^2 \times \frac{9b}{a}} + \sqrt{b^2 \times \frac{4a}{b}} \\ &= \sqrt{9ab} + \sqrt{4ab} \\ &= 3\sqrt{ab} + 2\sqrt{ab} \end{aligned}$$

$ab = 25$ 를 위의 식에 대입하면

(주어진 식) $= 3\sqrt{25} + 2\sqrt{25} = 15 + 10 = 25$

답 25

0301 ①, ②, ③, ④ $\frac{\sqrt{5}}{2}$ ⑤ $\frac{2}{\sqrt{5}}$

답 ⑤

$$\begin{aligned} 0302 \quad 3\sqrt{2} \div \frac{\sqrt{5}}{8} \div \frac{1}{\sqrt{40}} &= 3\sqrt{2} \times \frac{\sqrt{8}}{\sqrt{5}} \times \sqrt{40} \\ &= 3\sqrt{2 \times \frac{8}{5} \times 40} \\ &= 24\sqrt{2} \end{aligned}$$

$\therefore n = 24$

답 24

$$\begin{aligned} 0303 \quad \frac{\sqrt{24}}{3\sqrt{3}} \div \frac{\sqrt{12}}{\sqrt{30}} \div \frac{\sqrt{15}}{3\sqrt{6}} &= \frac{\sqrt{24}}{3\sqrt{3}} \times \frac{\sqrt{30}}{\sqrt{12}} \times \frac{3\sqrt{6}}{\sqrt{15}} \\ &= \sqrt{\frac{24}{3} \times \frac{30}{12} \times \frac{6}{15}} \\ &= \sqrt{8} = \sqrt{2^2 \times 2} \\ &= 2\sqrt{2} \end{aligned}$$

답 $2\sqrt{2}$

$$\begin{aligned} 0304 \quad \sqrt{20} \div \frac{\sqrt{5}}{2} &= \sqrt{20} \times \frac{2}{\sqrt{5}} = 2\sqrt{20 \times \frac{1}{5}} \\ &= 2\sqrt{4} = 4 \end{aligned}$$

따라서 $\sqrt{20}$ 은 $\frac{\sqrt{5}}{2}$ 의 4배이다.

답 4배

0305 $\sqrt{a} = \frac{\sqrt{54}}{\sqrt{3}} = \sqrt{\frac{54}{3}} = \sqrt{18}$

... ①

$$\begin{aligned} \sqrt{b} &= \sqrt{\frac{28}{3}} \div \sqrt{\frac{14}{9}} = \frac{\sqrt{28}}{\sqrt{3}} \div \frac{\sqrt{14}}{\sqrt{9}} = \frac{\sqrt{28}}{\sqrt{3}} \times \frac{\sqrt{9}}{\sqrt{14}} \\ &= \sqrt{\frac{28}{3} \times \frac{9}{14}} = \sqrt{6} \end{aligned}$$

... ②

$$\begin{aligned} \therefore \sqrt{a} \div \sqrt{b} &= \sqrt{18} \div \sqrt{6} = \sqrt{18 \times \frac{1}{6}} \\ &= \sqrt{\frac{18}{6}} = \sqrt{3} \end{aligned}$$

... ③

답 $\sqrt{3}$

채점 기준

① \sqrt{a} 의 값을 구할 수 있다.	30%
② \sqrt{b} 의 값을 구할 수 있다.	50%
③ $\sqrt{a} \div \sqrt{b}$ 의 값을 구할 수 있다.	20%

0306 $\sqrt{\sqrt{\frac{1}{5}} \div \sqrt{\frac{1}{45}}} = \sqrt{\frac{1}{\sqrt{5}}} \times \sqrt{45} = \sqrt{\sqrt{9}} = \sqrt{3}$

답 ①

0307 (ㄴ) $\sqrt{\frac{28}{18}} = \sqrt{\frac{14}{9}} = \frac{\sqrt{14}}{3}$

(ㄷ) $\sqrt{0.24} = \sqrt{\frac{24}{100}} = \frac{2\sqrt{6}}{10} = \frac{\sqrt{6}}{5}$

(ㄹ) $-\sqrt{\frac{9}{48}} = -\sqrt{\frac{3}{16}} = -\frac{\sqrt{3}}{4}$

이상에서 옳은 것은 (ㄴ), (ㄷ)이다.

답 ②

0308 $\sqrt{\frac{15}{108}} = \sqrt{\frac{5}{36}} = \frac{\sqrt{5}}{6}$

따라서 $a = 6$, $b = 5$ 이므로 $a + b = 11$

답 ①

0309 $\sqrt{0.4} = \sqrt{\frac{40}{100}} = \frac{2\sqrt{10}}{10} = \frac{\sqrt{10}}{5}$

$\therefore k = \frac{1}{5}$

답 ③

0310 $\sqrt{\frac{3}{121}} = \frac{\sqrt{3}}{11}$, $\sqrt{0.75} = \sqrt{\frac{75}{100}} = \sqrt{\frac{3}{4}} = \frac{\sqrt{3}}{2}$ 이므로

$\sqrt{0.75} > \frac{\sqrt{3}}{6} > \sqrt{\frac{3}{121}}$

답 $\sqrt{0.75}$, $\frac{\sqrt{3}}{6}$, $\sqrt{\frac{3}{121}}$

$$\begin{aligned} 0311 \quad \frac{2\sqrt{2}}{\sqrt{10}} &= \frac{\sqrt{8}}{\sqrt{10}} = \sqrt{\frac{8}{10}} = \sqrt{\frac{4}{5}} \quad \therefore a = \frac{4}{5} \\ \frac{5}{2\sqrt{3}} &= \frac{\sqrt{25}}{\sqrt{12}} = \sqrt{\frac{25}{12}} \quad \therefore b = \frac{25}{12} \\ \therefore ab &= \frac{4}{5} \times \frac{25}{12} = \frac{5}{3} \end{aligned}$$

답 ④

$$\begin{aligned} 0312 \quad \sqrt{\frac{128}{25}} &= \frac{\sqrt{128}}{\sqrt{25}} = \frac{8\sqrt{2}}{5} \text{ 이므로 } a = \frac{8}{5} \quad \dots ① \\ \sqrt{0.0448} &= \sqrt{\frac{448}{10000}} = \frac{8\sqrt{7}}{100} = \frac{2\sqrt{7}}{25} \text{ 이므로 } b = \frac{2}{25} \quad \dots ② \\ \therefore \frac{a}{b} &= a \times \frac{1}{b} = \frac{8}{5} \times \frac{25}{2} = 20 \quad \dots ③ \end{aligned}$$

답 20

채점 기준

① a의 값을 구할 수 있다.	40%
② b의 값을 구할 수 있다.	40%
③ $\frac{a}{b}$ 의 값을 구할 수 있다.	20%

$$\begin{aligned} 0313 \quad ① \sqrt{3290} &= \sqrt{32.9 \times 100} = 10\sqrt{32.9} = 10 \times 5.736 = 57.36 \\ ② \sqrt{329} &= \sqrt{3.29 \times 100} = 10\sqrt{3.29} = 10 \times 1.814 = 18.14 \\ ③ \sqrt{0.329} &= \sqrt{\frac{32.9}{100}} = \frac{\sqrt{32.9}}{10} = \frac{5.736}{10} = 0.5736 \\ ④ \sqrt{0.0329} &= \sqrt{\frac{3.29}{100}} = \frac{\sqrt{3.29}}{10} = \frac{1.814}{10} = 0.1814 \\ ⑤ \sqrt{0.00329} &= \sqrt{\frac{32.9}{10000}} = \frac{\sqrt{32.9}}{100} = \frac{5.736}{100} = 0.05736 \end{aligned}$$

답 ⑤

$$\begin{aligned} 0314 \quad ① \sqrt{172} &= \sqrt{1.72 \times 100} = 10\sqrt{1.72} = 10 \times 1.311 = 13.11 \\ ② \sqrt{0.0194} &= \sqrt{1.94 \times \frac{1}{100}} = \frac{\sqrt{1.94}}{10} = \frac{1.393}{10} = 0.1393 \\ ③ \sqrt{15400} &= \sqrt{1.54 \times 10000} = 100\sqrt{1.54} = 100 \times 1.241 = 124.1 \\ ④ \sqrt{190} - 1 &= \sqrt{1.9 \times 100} - 1 = 10\sqrt{1.9} - 1 = 10 \times 1.378 - 1 \\ &= 13.78 - 1 = 12.78 \\ ⑤ \sqrt{0.00173} &= \sqrt{\frac{17.3}{10000}} = \frac{\sqrt{17.3}}{100} \text{ 이므로 } \sqrt{17.3} \text{의 값이 주어} \\ &\text{되어야 한다.} \end{aligned}$$

답 ⑤

$$\begin{aligned} 0315 \quad \sqrt{230} &= 10\sqrt{2.3} = 10 \times 1.517 = 15.17 \quad \dots ① \\ \text{따라서 } \sqrt{230} \text{과 가장 가까운 정수는 } 15 \text{이다.} \quad \dots ② \end{aligned}$$

답 15

채점 기준

① $\sqrt{230}$ 의 값을 구할 수 있다.	70%
② $\sqrt{230}$ 과 가장 가까운 정수를 구할 수 있다.	30%

$$\begin{aligned} 0316 \quad (ㄱ) \sqrt{56000} &= 100\sqrt{5.6} = 100 \times 2.366 = 236.6 \\ (ㄴ) \sqrt{0.056} &= \sqrt{\frac{5.6}{100}} = \frac{\sqrt{5.6}}{10} = \frac{2.366}{10} = 0.2366 \\ (ㄷ) \sqrt{0.56} &= \sqrt{\frac{56}{100}} = \frac{\sqrt{56}}{10} = \frac{7.483}{10} = 0.7483 \\ (ㄹ) \sqrt{5600} &= 10\sqrt{56} = 10 \times 7.483 = 74.83 \\ \text{이상에서 옳은 것은 (ㄱ), (ㄷ), (ㄹ)이다.} \end{aligned}$$

답 ④

$$0317 \quad ① \sqrt{0.0245} = \sqrt{\frac{2.45}{100}} = \frac{\sqrt{2.45}}{10} = \frac{1}{10}a = 0.1a$$

$$② \sqrt{0.245} = \sqrt{\frac{24.5}{100}} = \frac{\sqrt{24.5}}{10} = \frac{1}{10}b = 0.1b$$

$$③ \sqrt{980} = \sqrt{2.45 \times 400} = 20\sqrt{2.45} = 20a$$

$$④ \sqrt{2450} = \sqrt{24.5 \times 100} = 10\sqrt{24.5} = 10b$$

$$⑤ \sqrt{24500} = \sqrt{2.45 \times 10000} = 100\sqrt{2.45} = 100a \quad \text{답 ③, ⑤}$$

$$0318 \quad \sqrt{180} = \sqrt{2^2 \times 3^2 \times 5} = (\sqrt{2})^2 \times 3 \times \sqrt{5} = 3a^2b \quad \text{답 ④}$$

$$\begin{aligned} 0319 \quad \sqrt{75} - \sqrt{98} &= \sqrt{5^2 \times 3} - \sqrt{7^2 \times 2} = 5\sqrt{3} - 7\sqrt{2} \\ &= -7x + 5y \end{aligned}$$

답 ①

$$0320 \quad ① \sqrt{0.0005} = \sqrt{\frac{5}{100^2}} = \frac{\sqrt{5}}{100} = \frac{a}{100}$$

$$② \sqrt{0.005} = \sqrt{\frac{50}{100^2}} = \frac{\sqrt{50}}{100} = \frac{b}{100}$$

$$③ \sqrt{0.5} = \sqrt{\frac{50}{10^2}} = \frac{\sqrt{50}}{10} = \frac{b}{10}$$

$$④ \sqrt{5000} = \sqrt{50 \times 10^2} = 10\sqrt{50} = 10b$$

$$⑤ \sqrt{50000} = \sqrt{5 \times 100^2} = 100\sqrt{5} = 100a \quad \text{답 ④}$$

$$\begin{aligned} 0321 \quad \sqrt{300} + \sqrt{1.17} &= \sqrt{3 \times 10^2} + \sqrt{\frac{3^2 \times 13}{10^2}} = 10\sqrt{3} + \frac{3\sqrt{13}}{10} \\ &= 10x + \frac{3}{10}y \end{aligned}$$

답 ①

$$\begin{aligned} \text{따라서 } a &= 10, b = \frac{3}{10} \text{ 이므로 } \dots ② \\ ab &= 3 \quad \dots ③ \end{aligned}$$

답 3

채점 기준

① 주어진 식을 $ax+by$ 꼴로 정리할 수 있다.	50%
② a, b의 값을 구할 수 있다.	30%
③ ab의 값을 구할 수 있다.	20%

$$0322 \quad \sqrt{ab} = \sqrt{10k \times 100k} = \sqrt{10^2 \times k^2 \times 10} = 10k\sqrt{10} \quad \text{답 ③}$$

$$\begin{aligned} 0323 \quad 8 &= 3+5 = (\sqrt{3})^2 + (\sqrt{5})^2 = a^2 + b^2 \\ \therefore \sqrt{8} &= \sqrt{a^2 + b^2} \end{aligned}$$

답 ③

$$0324 \quad \frac{2\sqrt{2}}{\sqrt{5}} = \frac{2\sqrt{2} \times \sqrt{5}}{\sqrt{5} \times \sqrt{5}} = \frac{2\sqrt{10}}{5} \quad \therefore a = \frac{2}{5}$$

$$\frac{5}{\sqrt{48}} = \frac{5}{4\sqrt{3}} = \frac{5\sqrt{3}}{4\sqrt{3} \times \sqrt{3}} = \frac{5\sqrt{3}}{12} \quad \therefore b = \frac{5}{12}$$

$$\therefore \sqrt{ab} = \sqrt{\frac{2}{5} \times \frac{5}{12}} = \sqrt{\frac{1}{6}} = \frac{1}{\sqrt{6}} = \frac{\sqrt{6}}{6}$$

답 $\frac{\sqrt{6}}{6}$

$$0325 \quad ④ \frac{10}{3\sqrt{5}} = \frac{10\sqrt{5}}{3\sqrt{5} \times \sqrt{5}} = \frac{2\sqrt{5}}{3} \quad \text{답 ④}$$

$$0326 \quad \frac{\sqrt{3}}{\sqrt{5}} = \frac{\sqrt{15}}{5}, \quad \frac{3}{\sqrt{5}} = \frac{3\sqrt{5}}{5} = \frac{\sqrt{45}}{5}, \quad \frac{3}{5} = \frac{\sqrt{9}}{5},$$

$$\sqrt{5} = \frac{5\sqrt{5}}{5} = \frac{\sqrt{125}}{5} \text{ 이므로}$$

$$\frac{\sqrt{3}}{5} < \frac{3}{5} < \frac{\sqrt{3}}{\sqrt{5}} < \frac{3}{\sqrt{5}} < \sqrt{5}$$

따라서 세 번째에 오는 수는 $\frac{\sqrt{3}}{\sqrt{5}}$ 이다.

답 $\frac{\sqrt{3}}{\sqrt{5}}$

$$0327 \quad (1) \sqrt{\frac{x}{y}} = \frac{\sqrt{x}}{\sqrt{y}} = \frac{\sqrt{x}\sqrt{y}}{\sqrt{y}\sqrt{y}} = \frac{\sqrt{xy}}{y}$$

이상에서 옳은 것은 (1), (2), (3)이다.

답 ⑤

$$0328 \quad \frac{5a^3}{b} = \frac{5 \times (\sqrt{3})^3}{\sqrt{5}} = \frac{5 \times 3\sqrt{3}}{\sqrt{5}} = \frac{5 \times 3\sqrt{3} \times \sqrt{5}}{\sqrt{5} \times \sqrt{5}} = 3\sqrt{15}$$

따라서 $p=3, q=1$ 이므로 $p+q=4$

답 4

$$0329 \quad \sqrt{\frac{27}{50}} = \frac{\sqrt{27}}{\sqrt{50}} = \frac{3\sqrt{3}}{5\sqrt{2}} = \frac{3\sqrt{3} \times \sqrt{2}}{5\sqrt{2} \times \sqrt{2}} = \frac{3\sqrt{6}}{10}$$

... ①

따라서 $a=5, b=3, c=\frac{3}{10}$ 이므로

... ②

$$abc = \frac{9}{2}$$

... ③

답 $\frac{9}{2}$

채점 기준

① $\sqrt{\frac{27}{50}}$ 의 분모를 유리화할 수 있다.	50%
② a, b, c 의 값을 구할 수 있다.	30%
③ abc 의 값을 구할 수 있다.	20%

$$0330 \quad \frac{\sqrt{14}}{\sqrt{24}} \times \frac{2\sqrt{2}}{\sqrt{7}} \div \sqrt{\frac{2}{9}} = \frac{\sqrt{14}}{2\sqrt{6}} \times \frac{2\sqrt{2}}{\sqrt{7}} \times \frac{3}{\sqrt{2}}$$

$$= \frac{3}{\sqrt{3}} = \sqrt{3}$$

답 ④

$$0331 \quad ④ \sqrt{\frac{3}{2}} \times \frac{\sqrt{15}}{2} \div \sqrt{\frac{10}{9}} = \frac{\sqrt{3}}{\sqrt{2}} \times \frac{\sqrt{15}}{2} \times \frac{3}{\sqrt{10}} = \frac{9}{4}$$

답 ④

$$0332 \quad \sqrt{18} \times \sqrt{48} \div \sqrt{108} = 3\sqrt{2} \times 4\sqrt{3} \times \frac{1}{6\sqrt{3}} = 2\sqrt{2}$$

$\therefore a=2$

답 2

$$0333 \quad \frac{\sqrt{75}}{2} \div (-6\sqrt{2}) \times \sqrt{32} = \frac{5\sqrt{3}}{2} \times \left(-\frac{1}{6\sqrt{2}}\right) \times 4\sqrt{2}$$

$$= -\frac{5\sqrt{3}}{3}$$

답 ⑤

$$0334 \quad (\text{주어진 식}) = \frac{\sqrt{2a}}{\sqrt{3b}} \times \frac{\sqrt{b}}{2\sqrt{a}} \times \frac{\sqrt{6a}}{\sqrt{5b}} \times \frac{\sqrt{2b}}{\sqrt{3a}}$$

$$= \frac{\sqrt{6}}{3\sqrt{5}} = \frac{\sqrt{30}}{15}$$

답 $\frac{\sqrt{30}}{15}$

$$0335 \quad 4 \times \sqrt{45} \div 6\sqrt{2} = 4 \times 3\sqrt{5} \times \frac{1}{6\sqrt{2}} = \frac{2\sqrt{5}}{\sqrt{2}} = \sqrt{10}$$

답 ④

0336 \overline{AB} 를 한 변으로 하는 정사각형의 넓이가 8이므로

$$\overline{AB} = \sqrt{8} = 2\sqrt{2}$$

\overline{BC} 를 한 변으로 하는 정사각형의 넓이가 27이므로

$$\overline{BC} = \sqrt{27} = 3\sqrt{3}$$

$$\therefore \triangle ABC = \frac{1}{2} \times \overline{AB} \times \overline{BC}$$

$$= \frac{1}{2} \times 2\sqrt{2} \times 3\sqrt{3} = 3\sqrt{6}$$

답 ④

$$0337 \quad (\text{삼각형의 넓이}) = \frac{1}{2} \times \sqrt{48} \times x = \frac{1}{2} \times 4\sqrt{3} \times x$$

$$= 2\sqrt{3}x$$

... ①

$$(\text{직사각형의 넓이}) = \sqrt{32} \times \sqrt{24} = 4\sqrt{2} \times 2\sqrt{6} = 16\sqrt{3}$$

... ②

따라서 $2\sqrt{3}x = 16\sqrt{3}$ 이므로

$$x = \frac{16\sqrt{3}}{2\sqrt{3}} = 8$$

... ③

답 8

채점 기준

① 삼각형의 넓이를 구할 수 있다.	30%
② 직사각형의 넓이를 구할 수 있다.	30%
③ x 의 값을 구할 수 있다.	40%

0338 원뿔의 높이를 x cm 라 하면

$$\frac{1}{3} \times \pi \times (2\sqrt{6})^2 \times x = 16\sqrt{15}\pi, \quad 8x = 16\sqrt{15}$$

$$\therefore x = \frac{16\sqrt{15}}{8} = 2\sqrt{15}$$

따라서 원뿔의 높이는 $2\sqrt{15}$ cm 이다.

답 ①

$$0339 \quad S_1 = \sqrt{3}$$

$$S_2 = \frac{1}{2} S_1$$

$$S_3 = \frac{1}{2} S_2 = \left(\frac{1}{2}\right)^2 S_1$$

⋮

$$S_6 = \frac{1}{2} S_5 = \left(\frac{1}{2}\right)^5 S_1 = \left(\frac{1}{2}\right)^5 \times \sqrt{3} = \frac{\sqrt{3}}{32}$$

여섯 번째 정삼각형의 한 변의 길이를 a 라 하면

$$\frac{\sqrt{3}}{4} a^2 = \frac{\sqrt{3}}{32}, \quad a^2 = \frac{1}{8}$$

$$\therefore a = \sqrt{\frac{1}{8}} = \frac{1}{2\sqrt{2}} = \frac{\sqrt{2}}{4}$$

따라서 여섯 번째 정삼각형의 둘레의 길이는

$$3 \times \frac{\sqrt{2}}{4} = \frac{3\sqrt{2}}{4}$$

답 $\frac{3\sqrt{2}}{4}$

0340 정삼각형의 한 변의 길이를 a , 정사각형의 한 변의 길이를 b 라 하면 둘레의 길이가 서로 같으므로

$$3a=4b \quad \therefore a=\frac{4}{3}b$$

이때 정삼각형의 넓이는 $\frac{\sqrt{3}}{4}a^2$, 정사각형의 넓이는 b^2 이므로

$$\begin{aligned} \frac{\sqrt{3}}{4}a^2 \div b^2 &= \frac{\sqrt{3}}{4} \times \left(\frac{4}{3}b\right)^2 \times \frac{1}{b^2} \\ &= \frac{4\sqrt{3}}{9}b^2 \times \frac{1}{b^2} = \frac{4\sqrt{3}}{9} \end{aligned}$$

따라서 정삼각형의 넓이는 정사각형의 넓이의 $\frac{4\sqrt{3}}{9}$ 배이다.

답 ④

0341 밑면인 원의 반지름의 길이를 r cm라 하면

$$2\pi r = 6\sqrt{5}\pi \quad \therefore r = 3\sqrt{5} \quad \dots ①$$

따라서 구하는 원기둥의 부피는

$$\pi \times (3\sqrt{5})^2 \times 2\sqrt{15} = 90\sqrt{15}\pi (\text{cm}^3) \quad \dots ②$$

답 $90\sqrt{15}\pi \text{ cm}^3$

채점 기준

① 밑면인 원의 반지름의 길이를 구할 수 있다.	50%
② 원기둥의 부피를 구할 수 있다.	50%

0342 전략 먼저 제곱근의 곱셈을 한 후, 근호 안의 제곱인 인수를 근호 밖으로 꺼낸다.

$$\begin{aligned} \text{풀이} \quad 3\sqrt{5} \times \sqrt{\frac{32}{5}} &= 3\sqrt{5 \times \frac{32}{5}} = 3\sqrt{32} \\ &= 3\sqrt{4^2 \times 2} = 12\sqrt{2} \end{aligned}$$

따라서 $a=12$, $b=2$ 이므로

$$a+b=14 \quad \text{답 ⑤}$$

0343 전략 $x>0$, $y>0$ 일 때, $x\sqrt{y}=\sqrt{x^2y}$, $\sqrt{\frac{y}{x}}=\frac{y}{\sqrt{x}}$ 임을 이용한다.

$$\begin{aligned} \text{풀이} \quad \frac{1}{b}\sqrt{\frac{b}{a}} - \frac{3}{a}\sqrt{\frac{a}{b}} &= \sqrt{\frac{1}{b^2} \times \frac{b}{a}} - \sqrt{\frac{9}{a^2} \times \frac{a}{b}} \\ &= \sqrt{\frac{1}{ab}} - \sqrt{\frac{9}{ab}} \\ &= \frac{1}{\sqrt{ab}} - \frac{3}{\sqrt{ab}} \\ &= \frac{1}{4} - \frac{3}{4} = -\frac{1}{2} \quad \text{답 ①} \end{aligned}$$

0344 전략 0.016, 2000을 5, 10의 곱으로 나타낼 수 있도록 변형한다.

$$\text{풀이} \quad \sqrt{0.016} = \sqrt{\frac{160}{10000}} = \frac{4\sqrt{10}}{100} = \frac{\sqrt{10}}{25} = \frac{1}{25}b$$

$$\sqrt{2000} = \sqrt{400 \times 5} = 20\sqrt{5} = 20a$$

$$\therefore (\text{주어진 식}) = 20a + \frac{1}{25}b \quad \text{답 ①}$$

0345 전략 근호 안의 수를 소인수분해한 후, 근호를 분리하여 주어진 수를 x , y 로 나타낸다.

$$\text{풀이} \quad ① \sqrt{63} = \sqrt{3^2 \times 7} = (\sqrt{3})^2 \times \sqrt{7} = x^2y$$

$$② \sqrt{2100} = \sqrt{3 \times 7 \times 10^2} = \sqrt{3} \times \sqrt{7} \times 10 = 10xy$$

$$③ \sqrt{\frac{7}{3}} = \frac{\sqrt{7}}{\sqrt{3}} = \frac{y}{x}$$

$$④ \sqrt{\frac{27}{7}} = \frac{\sqrt{27}}{\sqrt{7}} = \frac{(\sqrt{3})^3}{\sqrt{7}} = \frac{x^3}{y}$$

$$⑤ \sqrt{0.07} = \sqrt{\frac{7}{100}} = \frac{\sqrt{7}}{10} = \frac{1}{10}y \quad \text{답 ⑤}$$

0346 전략 주어진 식을 간단히 한 후, a 의 값을 대입한다.

$$\begin{aligned} \text{풀이} \quad \frac{\sqrt{1+a}}{\sqrt{1-a}} + \frac{\sqrt{1-a}}{\sqrt{1+a}} &= \frac{(\sqrt{1+a})^2 + (\sqrt{1-a})^2}{\sqrt{1-a}\sqrt{1+a}} \\ &= \frac{(1+a) + (1-a)}{\sqrt{1-a^2}} \\ &= \frac{2}{\sqrt{1-a^2}} \end{aligned}$$

위의 식에 $a = \frac{1}{\sqrt{5}}$ 을 대입하면

$$(\text{주어진 식}) = 2 \div \sqrt{1 - \frac{1}{5}} = 2 \div \frac{2}{\sqrt{5}} = 2 \times \frac{\sqrt{5}}{2} = \sqrt{5}$$

답 ④

0347 전략 $\sqrt{300}$ 을 $a\sqrt{b}$ 꼴로 고쳐 분수를 간단히 한 후 분모를 유리화한다.

$$\text{풀이} \quad \frac{\sqrt{300}}{5\sqrt{k}} = \frac{10\sqrt{3}}{5\sqrt{k}} = \frac{2\sqrt{3}}{\sqrt{k}} = \frac{2\sqrt{3k}}{k}$$

$$\text{따라서 } \frac{2\sqrt{3k}}{k} = \frac{2\sqrt{21}}{7} \text{ 이므로 } k=7 \quad \text{답 7}$$

0348 전략 나눗셈은 역수의 곱셈으로 고친 후, 앞에서부터 순서대로 계산한다.

$$\begin{aligned} \text{풀이} \quad \frac{14}{\sqrt{15}} \times \sqrt{\frac{5}{6}} \div \frac{\sqrt{7}}{3\sqrt{2}} &= \frac{14}{\sqrt{15}} \times \frac{\sqrt{5}}{\sqrt{6}} \times \frac{3\sqrt{2}}{\sqrt{7}} \\ &= \frac{14}{\sqrt{7}} = 2\sqrt{7} \end{aligned}$$

$$\therefore a=7 \quad \text{답 ⑤}$$

0349 전략 정사각형 D 의 한 변의 길이를 x cm로 놓고, A 의 넓이를 x 에 대한 식으로 나타낸다.

풀이 정사각형 D 의 한 변의 길이를 x cm라 하면 D 의 넓이는 $x^2 \text{ cm}^2$ 이므로 A 의 넓이는

$$x^2 \times 3 \times 3 \times 3 = 27x^2 (\text{cm}^2)$$

$$\text{이때 } 27x^2 = 4 \text{ 이므로 } x^2 = \frac{4}{27}$$

$$\therefore x = \sqrt{\frac{4}{27}} = \frac{2}{3\sqrt{3}} = \frac{2\sqrt{3}}{9}$$

$$\text{따라서 } D \text{의 한 변의 길이는 } \frac{2\sqrt{3}}{9} \text{ cm이다.} \quad \text{답 ②}$$

0350 전략 (평행사변형의 넓이) = (삼각형의 넓이)임을 이용하여 식을 세운다.

$$\text{풀이} \quad \sqrt{24} \times x = \frac{1}{2} \times \sqrt{45} \times \sqrt{18} \text{ 이므로}$$

$$2\sqrt{6} \times x = \frac{1}{2} \times 3\sqrt{5} \times 3\sqrt{2}$$

$$\therefore x = \frac{3\sqrt{5} \times 3\sqrt{2}}{2 \times 2\sqrt{6}} = \frac{3\sqrt{15}}{4} \quad \text{답 ⑤}$$

0351 전략 두 피자 반지름의 길이를 각각 a, b 로 놓고 비례식을 세운다.

풀이 레귤러사이즈 피자 반지름의 길이를 a , 라지사이즈 피자 반지름의 길이를 b 라 하면

$$a^2\pi : b^2\pi = 16500 : 22000$$

$$a^2 : b^2 = 3 : 4, \quad 3b^2 = 4a^2$$

$$b^2 = \frac{4}{3}a^2 \quad \therefore b = \frac{2}{\sqrt{3}}a = \frac{2\sqrt{3}}{3}a$$

따라서 라지사이즈 피자 반지름의 길이는 레귤러사이즈 피자 반지름의 길이의 $\frac{2\sqrt{3}}{3}$ 배이다. 답 $\frac{2\sqrt{3}}{3}$ 배

0352 전략 $\sqrt{x} \times \sqrt{y} = \sqrt{xy}$, $\sqrt{y} \div \sqrt{x} = \sqrt{\frac{y}{x}}$ 임을 이용한다.

풀이 $\sqrt{x} \times \sqrt{y} = 6$ 에서 $\sqrt{xy} = 6$ 이므로

$$\sqrt{9m} = 6$$

따라서 $3\sqrt{m} = 6$, 즉 $\sqrt{m} = 2$ 이므로

$$m = 4$$

$\sqrt{y} \div \sqrt{x} = n$ 에서 $\sqrt{\frac{y}{x}} = n$ 이므로

$$n = \sqrt{\frac{4}{9}} = \frac{2}{3}$$

$$\therefore \sqrt{2mn} = \sqrt{2 \times 4 \times \frac{2}{3}} = \sqrt{\frac{16}{3}} = \frac{4}{\sqrt{3}} = \frac{4\sqrt{3}}{3}$$

답 $\frac{4\sqrt{3}}{3}$

채점 기준

① m 의 값을 구할 수 있다.	30%
② n 의 값을 구할 수 있다.	30%
③ $\sqrt{2mn}$ 의 값을 구할 수 있다.	40%

0353 전략 $a > 0, b > 0$ 일 때, $\sqrt{a^2b} = a\sqrt{b}$ 임을 이용한다.

풀이 $\sqrt{147} = \sqrt{7^2 \times 3} = 7\sqrt{3}$ 이므로 $a = 7$... ①

$\sqrt{288} = \sqrt{12^2 \times 2} = 12\sqrt{2}$ 이므로 $b = 12$... ②

$$\therefore \sqrt{\frac{b}{a}} = \sqrt{\frac{12}{7}} = \frac{2\sqrt{3}}{\sqrt{7}} = \frac{2\sqrt{21}}{7}$$

답 $\frac{2\sqrt{21}}{7}$

채점 기준

① a 의 값을 구할 수 있다.	35%
② b 의 값을 구할 수 있다.	35%
③ $\sqrt{\frac{b}{a}}$ 의 값을 구할 수 있다.	30%

0354 전략 $a > 0, b > 0$ 일 때, $\sqrt{a^2b} = a\sqrt{b}$ 임을 이용하여 분수를 간단히 한 후 분모를 유리화한다.

풀이 $\frac{8}{\sqrt{72}} = \frac{8}{\sqrt{6^2 \times 2}} = \frac{8}{6\sqrt{2}} = \frac{4}{3\sqrt{2}} = \frac{2\sqrt{2}}{3}$ 이므로

$$a = \frac{2}{3}$$

... ①

$$\frac{6}{\sqrt{5}} = \frac{6\sqrt{5}}{5} \text{이므로} \quad b = \frac{6}{5} \quad \text{... ②}$$

$$\therefore ab = \frac{4}{5} \quad \text{... ③}$$

답 $\frac{4}{5}$

채점 기준

① a 의 값을 구할 수 있다.	40%
② b 의 값을 구할 수 있다.	30%
③ ab 의 값을 구할 수 있다.	30%

0355 전략 $\overline{DE} = x$ cm로 놓고, $\triangle ADE \sim \triangle ABC$ (AA 닮음)임을 이용한다.

풀이 $\overline{DE} = x$ cm라 하면 $\triangle ADE \sim \triangle ABC$ (AA 닮음)이고 닮음비가 $x : 10$ 이므로 넓이의 비는

$$x^2 : 100$$

$$\therefore \triangle ABC : \square DBCE = 100 : (100 - x^2) = 2 : 1 \quad \text{... ①}$$

위의 식에서

$$100 = 200 - 2x^2, \quad 2x^2 = 100, \quad x^2 = 50$$

$$\therefore x = \sqrt{50} = 5\sqrt{2} (\because x > 0)$$

따라서 \overline{DE} 의 길이는 $5\sqrt{2}$ cm이다. ... ②

답 $5\sqrt{2}$ cm

채점 기준

① $\triangle ABC : \square DBCE$ 를 x 에 대한 식으로 나타낼 수 있다.	60%
② \overline{DE} 의 길이를 구할 수 있다.	40%

참고 $\triangle ADE$ 와 $\triangle ABC$ 에서

$\angle D = \angle B$ (동위각), $\angle A$ 는 공통

이므로 $\triangle ADE \sim \triangle ABC$ (AA 닮음)



닮은 두 평면도형의 닮음비가 $m : n$ 일 때

① 둘레의 길이의 비 $\rightarrow m : n$

② 넓이의 비 $\rightarrow m^2 : n^2$

04 근호를 포함한 식의 계산 (2)

0356 $4\sqrt{3}+5\sqrt{3}=(4+5)\sqrt{3}=9\sqrt{3}$ 답 9 $\sqrt{3}$

0357 $3\sqrt{2}+5\sqrt{2}-4\sqrt{2}=(3+5-4)\sqrt{2}=4\sqrt{2}$ 답 4 $\sqrt{2}$

0358 $10\sqrt{3}-15\sqrt{3}-20\sqrt{3}=(10-15-20)\sqrt{3}=-25\sqrt{3}$
 답 $-25\sqrt{3}$

0359 $4\sqrt{3}+6\sqrt{2}-7\sqrt{3}+4\sqrt{2}=(6+4)\sqrt{2}+(4-7)\sqrt{3}$
 $=10\sqrt{2}-3\sqrt{3}$ 답 $10\sqrt{2}-3\sqrt{3}$

0360 $4\sqrt{10}-5\sqrt{7}-3\sqrt{7}+8\sqrt{10}$
 $=(-5-3)\sqrt{7}+(4+8)\sqrt{10}$
 $=-8\sqrt{7}+12\sqrt{10}$ 답 $-8\sqrt{7}+12\sqrt{10}$

0361 답 (가) 2 (나) 2 (다) 3 (라) 11 (마) 3

0362 $\sqrt{50}-\sqrt{18}=5\sqrt{2}-3\sqrt{2}=2\sqrt{2}$ 답 2 $\sqrt{2}$

0363 $\sqrt{27}+\sqrt{75}-2\sqrt{12}=3\sqrt{3}+5\sqrt{3}-2\times 2\sqrt{3}=4\sqrt{3}$ 답 4 $\sqrt{3}$

0364 $4\sqrt{20}+3\sqrt{45}-7\sqrt{5}=8\sqrt{5}+9\sqrt{5}-7\sqrt{5}=10\sqrt{5}$ 답 10 $\sqrt{5}$

0365 $\sqrt{48}-\sqrt{18}+\sqrt{50}-\sqrt{12}=4\sqrt{3}-3\sqrt{2}+5\sqrt{2}-2\sqrt{3}$
 $=2\sqrt{2}+2\sqrt{3}$ 답 $2\sqrt{2}+2\sqrt{3}$

0366 $4\sqrt{12}+2\sqrt{6}-3\sqrt{24}-5\sqrt{3}=8\sqrt{3}+2\sqrt{6}-6\sqrt{6}-5\sqrt{3}$
 $=3\sqrt{3}-4\sqrt{6}$ 답 $3\sqrt{3}-4\sqrt{6}$

0367 $\sqrt{3}(\sqrt{5}+\sqrt{7})=\sqrt{3}\sqrt{5}+\sqrt{3}\sqrt{7}=\sqrt{15}+\sqrt{21}$
 답 $\sqrt{15}+\sqrt{21}$

0368 $\sqrt{5}(3\sqrt{2}-2\sqrt{6})=\sqrt{5}\times 3\sqrt{2}-\sqrt{5}\times 2\sqrt{6}$
 $=3\sqrt{10}-2\sqrt{30}$ 답 $3\sqrt{10}-2\sqrt{30}$

0369 $(\sqrt{6}-\sqrt{12})\sqrt{2}=\sqrt{6}\sqrt{2}-\sqrt{12}\sqrt{2}$
 $=\sqrt{12}-\sqrt{24}=2\sqrt{3}-2\sqrt{6}$ 답 $2\sqrt{3}-2\sqrt{6}$

0370 $(\sqrt{40}-\sqrt{24})\div\sqrt{8}=(\sqrt{40}-\sqrt{24})\times\frac{1}{\sqrt{8}}$
 $=\sqrt{40}\times\frac{1}{\sqrt{8}}-\sqrt{24}\times\frac{1}{\sqrt{8}}$
 $=\sqrt{5}-\sqrt{3}$ 답 $\sqrt{5}-\sqrt{3}$

0371 $(\sqrt{125}-\sqrt{60})\div\sqrt{5}=(\sqrt{125}-\sqrt{60})\times\frac{1}{\sqrt{5}}$
 $=\sqrt{125}\times\frac{1}{\sqrt{5}}-\sqrt{60}\times\frac{1}{\sqrt{5}}$
 $=\sqrt{25}-\sqrt{12}=5-2\sqrt{3}$ 답 $5-2\sqrt{3}$

0372 $\frac{1+\sqrt{3}}{\sqrt{5}}=\frac{(1+\sqrt{3})\times\sqrt{5}}{\sqrt{5}\times\sqrt{5}}=\frac{\sqrt{5}+\sqrt{15}}{5}$ 답 $\frac{\sqrt{5}+\sqrt{15}}{5}$

0373 $\frac{\sqrt{12}-\sqrt{5}}{\sqrt{2}}=\frac{(\sqrt{12}-\sqrt{5})\times\sqrt{2}}{\sqrt{2}\times\sqrt{2}}=\frac{\sqrt{24}-\sqrt{10}}{2}$
 $=\frac{2\sqrt{6}-\sqrt{10}}{2}$ 답 $\frac{2\sqrt{6}-\sqrt{10}}{2}$

0374 $\frac{3\sqrt{2}+\sqrt{3}}{2\sqrt{3}}=\frac{(3\sqrt{2}+\sqrt{3})\times\sqrt{3}}{2\sqrt{3}\times\sqrt{3}}=\frac{3\sqrt{6}+3}{6}$
 $=\frac{\sqrt{6}+1}{2}$ 답 $\frac{\sqrt{6}+1}{2}$

0375 $\frac{2\sqrt{5}-\sqrt{6}}{\sqrt{24}}=\frac{2\sqrt{5}-\sqrt{6}}{2\sqrt{6}}=\frac{(2\sqrt{5}-\sqrt{6})\times\sqrt{6}}{2\sqrt{6}\times\sqrt{6}}$
 $=\frac{2\sqrt{30}-6}{12}=\frac{\sqrt{30}-3}{6}$ 답 $\frac{\sqrt{30}-3}{6}$

0376 $\frac{1}{\sqrt{5}-2}=\frac{\sqrt{5}+2}{(\sqrt{5}-2)(\sqrt{5}+2)}=\sqrt{5}+2$ 답 $\sqrt{5}+2$

0377 $\frac{2}{3-\sqrt{7}}=\frac{2(3+\sqrt{7})}{(3-\sqrt{7})(3+\sqrt{7})}=3+\sqrt{7}$ 답 $3+\sqrt{7}$

0378 $\frac{\sqrt{2}}{\sqrt{3}-\sqrt{2}}=\frac{\sqrt{2}(\sqrt{3}+\sqrt{2})}{(\sqrt{3}-\sqrt{2})(\sqrt{3}+\sqrt{2})}=\sqrt{6}+2$ 답 $\sqrt{6}+2$

0379 $\frac{\sqrt{3}}{3-\sqrt{6}}=\frac{\sqrt{3}(3+\sqrt{6})}{(3-\sqrt{6})(3+\sqrt{6})}=\frac{3\sqrt{3}+3\sqrt{2}}{3}$
 $=\sqrt{3}+\sqrt{2}$ 답 $\sqrt{3}+\sqrt{2}$

0380 $\frac{\sqrt{2}+1}{\sqrt{2}-1}=\frac{(\sqrt{2}+1)^2}{(\sqrt{2}-1)(\sqrt{2}+1)}=3+2\sqrt{2}$ 답 $3+2\sqrt{2}$

0381 $\frac{\sqrt{5}+\sqrt{3}}{\sqrt{5}-\sqrt{3}}=\frac{(\sqrt{5}+\sqrt{3})^2}{(\sqrt{5}-\sqrt{3})(\sqrt{5}+\sqrt{3})}=\frac{8+2\sqrt{15}}{2}$
 $=4+\sqrt{15}$ 답 $4+\sqrt{15}$

0382 $\frac{3\sqrt{2}}{4}-\frac{\sqrt{5}}{3}+\frac{\sqrt{5}}{2}-\frac{5\sqrt{2}}{12}$
 $=\left(\frac{3}{4}-\frac{5}{12}\right)\sqrt{2}+\left(-\frac{1}{3}+\frac{1}{2}\right)\sqrt{5}$
 $=\frac{\sqrt{2}}{3}+\frac{\sqrt{5}}{6}=\frac{1}{3}a+\frac{1}{6}b$ 답 ③

0383 $A=8\sqrt{5}$, $B=-\sqrt{2}$ 이므로 $A+B=8\sqrt{5}-\sqrt{2}$ 답 ①

0384 $\frac{\sqrt{a}}{2}-\frac{\sqrt{a}}{7}=\frac{5\sqrt{a}}{14}=1$ 에서 $\sqrt{a}=\frac{14}{5}$
 $\therefore a=\frac{196}{25}$ 답 ⑤

0385 $x+y=\frac{\sqrt{10}+\sqrt{5}}{2}+\frac{\sqrt{10}-\sqrt{5}}{2}=\frac{2\sqrt{10}}{2}=\sqrt{10}$... ①

$$x-y = \frac{\sqrt{10}+\sqrt{5}}{2} - \frac{\sqrt{10}-\sqrt{5}}{2} = \frac{2\sqrt{5}}{2} = \sqrt{5} \quad \dots ②$$

$$\therefore (x+y)(x-y) = \sqrt{10} \times \sqrt{5} = 5\sqrt{2} \quad \dots ③$$

답 ⑤

채점 기준

① $x+y$ 의 값을 구할 수 있다.	40%
② $x-y$ 의 값을 구할 수 있다.	40%
③ $(x+y)(x-y)$ 의 값을 구할 수 있다.	20%

다른 풀이 $x^2 = \left(\frac{\sqrt{10}+\sqrt{5}}{2}\right)^2 = \frac{10+2\sqrt{50}+5}{4} = \frac{15+10\sqrt{2}}{4}$

$$y^2 = \left(\frac{\sqrt{10}-\sqrt{5}}{2}\right)^2 = \frac{10-2\sqrt{50}+5}{4} = \frac{15-10\sqrt{2}}{4}$$

$$\therefore (x+y)(x-y) = x^2 - y^2 = \frac{15+10\sqrt{2}}{4} - \frac{15-10\sqrt{2}}{4}$$

$$= \frac{20\sqrt{2}}{4} = 5\sqrt{2}$$

0386 $x^2 - 4x - (3+2\sqrt{3}) = (-\sqrt{3})^2 - 4 \times (-\sqrt{3}) - 3 - 2\sqrt{3}$

$$= 3 + 4\sqrt{3} - 3 - 2\sqrt{3} = 2\sqrt{3}$$

답 ⑤

0387 $3 - \sqrt{6} > 0, 2\sqrt{6} - 5 < 0$ 이므로 $\dots ①$

(주어진 식) $= (3 - \sqrt{6}) + (2\sqrt{6} - 5)$

$$= -2 + \sqrt{6} \quad \dots ②$$

답 $-2 + \sqrt{6}$

채점 기준

① 괄호 안의 식의 부호를 결정할 수 있다.	50%
② 주어진 식을 간단히 할 수 있다.	50%

0388 $\sqrt{32} + 2\sqrt{54} - \sqrt{98} + \sqrt{24} = 4\sqrt{2} + 6\sqrt{6} - 7\sqrt{2} + 2\sqrt{6}$

$$= -3\sqrt{2} + 8\sqrt{6}$$

따라서 $a = -3, b = 8$ 이므로 $ab = -24$ 답 ①

0389 $\sqrt{72} - 3\sqrt{18} + 2\sqrt{8} = 6\sqrt{2} - 9\sqrt{2} + 4\sqrt{2} = \sqrt{2}$ 답 ③

0390 $\sqrt{27} - \sqrt{12} + 5\sqrt{3} = 3\sqrt{3} - 2\sqrt{3} + 5\sqrt{3} = 6\sqrt{3}$

$$\therefore k = 6 \quad \dots ⑤$$

0391 $2\sqrt{a} - \sqrt{98} + \sqrt{32} = \sqrt{18}$ 에서

$$2\sqrt{a} - 7\sqrt{2} + 4\sqrt{2} = 3\sqrt{2}$$

$$2\sqrt{a} = 6\sqrt{2}, \quad \sqrt{a} = 3\sqrt{2} \quad \dots ①$$

$$\therefore a = 18 \quad \dots ②$$

답 18

채점 기준

① 주어진 식을 간단히 할 수 있다.	60%
② a 의 값을 구할 수 있다.	40%

0392 $2 - \sqrt{48} + 3 + x = 4 + \sqrt{3} + 3 - 1 - 2\sqrt{12}$ 이므로

$$x + 5 - 4\sqrt{3} = 6 - 3\sqrt{3}$$

$$\therefore x = 6 - 3\sqrt{3} - (5 - 4\sqrt{3}) = 1 + \sqrt{3} \quad \dots ③$$

0393 $6\sqrt{2} - \sqrt{75} - \frac{6}{\sqrt{2}} + \sqrt{27} = 6\sqrt{2} - 5\sqrt{3} - 3\sqrt{2} + 3\sqrt{3}$

$$= 3\sqrt{2} - 2\sqrt{3}$$

따라서 $a = 3, b = -2$ 이므로 $a + b = 1$ 답 ④

0394 $-\sqrt{8} - \sqrt{72} + \frac{5\sqrt{3}}{\sqrt{6}} \times 2 = -2\sqrt{2} - 6\sqrt{2} + 5\sqrt{2} = -3\sqrt{2}$

답 ③

0395 ① $2\sqrt{3} - \sqrt{108} + \sqrt{3} = 2\sqrt{3} - 6\sqrt{3} + \sqrt{3} = -3\sqrt{3}$

② $3\sqrt{2} - \sqrt{32} + \sqrt{98} - \sqrt{3} = 3\sqrt{2} - 4\sqrt{2} + 7\sqrt{2} - \sqrt{3}$

$$= 6\sqrt{2} - \sqrt{3}$$

③ $\frac{5}{\sqrt{8}} - \frac{1}{\sqrt{2}} = \frac{5}{2\sqrt{2}} - \frac{1}{\sqrt{2}} = \frac{5\sqrt{2}}{4} - \frac{\sqrt{2}}{2} = \frac{3\sqrt{2}}{4}$

④ $\frac{5}{\sqrt{20}} + \frac{3}{\sqrt{45}} = \frac{5}{2\sqrt{5}} + \frac{1}{\sqrt{5}} = \frac{\sqrt{5}}{2} + \frac{\sqrt{5}}{5} = \frac{7\sqrt{5}}{10}$

⑤ $\frac{2}{\sqrt{6}} + \frac{4\sqrt{2}}{\sqrt{3}} - \sqrt{24} = \frac{\sqrt{6}}{3} + \frac{4\sqrt{6}}{3} - 2\sqrt{6} = -\frac{\sqrt{6}}{3}$ 답 ①, ③

0396 $b = a - \frac{1}{a} = \sqrt{5} - \frac{1}{\sqrt{5}} = \sqrt{5} - \frac{\sqrt{5}}{5} = \frac{4\sqrt{5}}{5}$

따라서 b 는 a 의 $\frac{4}{5}$ 배이다. 답 $\frac{4}{5}$ 배

0397 $\frac{b}{a} + \frac{a}{b} = \frac{\sqrt{5}}{\sqrt{2}} + \frac{\sqrt{2}}{\sqrt{5}} = \frac{\sqrt{10}}{2} + \frac{\sqrt{10}}{5} = \frac{7\sqrt{10}}{10}$ 답 ③

다른 풀이 $\frac{b}{a} + \frac{a}{b} = \frac{b^2 + a^2}{ab} = \frac{(\sqrt{5})^2 + (\sqrt{2})^2}{\sqrt{2} \times \sqrt{5}}$

$$= \frac{7}{\sqrt{10}} = \frac{7\sqrt{10}}{10}$$

0398 $\sqrt{8} \times \frac{9}{\sqrt{54}} - \frac{14}{\sqrt{7}} + \sqrt{112} - 2\sqrt{48}$

$$= 2\sqrt{2} \times \frac{\sqrt{6}}{2} - 2\sqrt{7} + 4\sqrt{7} - 8\sqrt{3}$$

$$= 2\sqrt{3} - 2\sqrt{7} + 4\sqrt{7} - 8\sqrt{3}$$

$$= -6\sqrt{3} + 2\sqrt{7} \quad \dots ⑤$$

0399 $\sqrt{3}(\sqrt{12} + 1) + \sqrt{5}(2\sqrt{5} - \sqrt{15})$

$$= \sqrt{36} + \sqrt{3} + 2\sqrt{25} - \sqrt{75}$$

$$= 6 + \sqrt{3} + 10 - 5\sqrt{3}$$

$$= -4\sqrt{3} + 16$$

따라서 $a = -4, b = 16$ 이므로 $a + b = 12$ 답 ②

0400 $\sqrt{8} - \sqrt{3}(3\sqrt{6} - \sqrt{24}) = 2\sqrt{2} - 3\sqrt{18} + \sqrt{72}$

$$= 2\sqrt{2} - 9\sqrt{2} + 6\sqrt{2}$$

$$= -\sqrt{2} \quad \dots ③$$

0401 $\sqrt{2}x - \sqrt{5}y = \sqrt{2}(\sqrt{5} - \sqrt{2}) - \sqrt{5}(\sqrt{5} + \sqrt{2})$

$$= \sqrt{10} - 2 - 5 - \sqrt{10} = -7 \quad \dots ④$$

$$0402 \quad \frac{\sqrt{6}}{\sqrt{3}} - \sqrt{28} + \sqrt{7} \left(\frac{\sqrt{2}}{\sqrt{7}} - 1 \right) = \sqrt{2} - 2\sqrt{7} + \sqrt{2} - \sqrt{7} \\ = 2\sqrt{2} - 3\sqrt{7} \quad \dots ①$$

따라서 $p=2, q=-3$ 이므로 $\dots ②$

$$p^2 + q^2 = 2^2 + (-3)^2 = 13 \quad \dots ③$$

답 13

채점 기준

① 주어진 식의 좌변을 간단히 할 수 있다.	60%
② p, q 의 값을 구할 수 있다.	20%
③ $p^2 + q^2$ 의 값을 구할 수 있다.	20%

$$0403 \quad \frac{\sqrt{72}-18}{\sqrt{12}} = \frac{6\sqrt{2}-18}{2\sqrt{3}} = \frac{3\sqrt{2}-9}{\sqrt{3}} \\ = \frac{(3\sqrt{2}-9) \times \sqrt{3}}{\sqrt{3} \times \sqrt{3}} = \frac{3\sqrt{6}-9\sqrt{3}}{3} \\ = -3\sqrt{3} + \sqrt{6}$$

따라서 $a=-3, b=1$ 이므로

$$a+b=-2$$

답 -2

$$0404 \quad \frac{\sqrt{12}-\sqrt{15}}{\sqrt{3}} + \sqrt{5} \\ = \frac{2\sqrt{3}-\sqrt{15}}{\sqrt{3}} + \sqrt{5} \\ = \frac{(2\sqrt{3}-\sqrt{15}) \times \sqrt{3}}{\sqrt{3} \times \sqrt{3}} + \sqrt{5} \\ = \frac{6-3\sqrt{5}}{3} + \sqrt{5} = 2 - \sqrt{5} + \sqrt{5} = 2 \quad \dots ⑤$$

$$0405 \quad x = \frac{10+\sqrt{10}}{\sqrt{2}} = \frac{(10+\sqrt{10}) \times \sqrt{2}}{\sqrt{2} \times \sqrt{2}} = \frac{10\sqrt{2}+2\sqrt{5}}{2} \\ = 5\sqrt{2} + \sqrt{5}$$

$$y = \frac{10-\sqrt{10}}{\sqrt{2}} = \frac{(10-\sqrt{10}) \times \sqrt{2}}{\sqrt{2} \times \sqrt{2}} = \frac{10\sqrt{2}-2\sqrt{5}}{2} = 5\sqrt{2} - \sqrt{5}$$

따라서 $x-y=2\sqrt{5}$ 이므로

$$\sqrt{5}(x-y) = \sqrt{5} \times 2\sqrt{5} = 10 \quad \dots ⑩$$

$$0406 \quad x = \frac{\sqrt{5}+\sqrt{3}}{\sqrt{5}} = \frac{(\sqrt{5}+\sqrt{3}) \times \sqrt{5}}{\sqrt{5} \times \sqrt{5}} = \frac{5+\sqrt{15}}{5} \quad \dots ①$$

$$y = \frac{\sqrt{5}-\sqrt{3}}{\sqrt{5}} = \frac{(\sqrt{5}-\sqrt{3}) \times \sqrt{5}}{\sqrt{5} \times \sqrt{5}} = \frac{5-\sqrt{15}}{5} \quad \dots ②$$

$$\text{따라서 } x+y=2, x-y=\frac{2\sqrt{15}}{5} \text{이므로} \quad \dots ③$$

$$\frac{x+y}{5(x-y)} = \frac{2}{2\sqrt{15}} = \frac{\sqrt{15}}{15} \quad \dots ④$$

답 $\frac{\sqrt{15}}{15}$

채점 기준

① x 의 분모를 유리화할 수 있다.	25%
② y 의 분모를 유리화할 수 있다.	25%
③ $x+y, x-y$ 의 값을 구할 수 있다.	25%
④ $\frac{x+y}{5(x-y)}$ 의 값을 구할 수 있다.	25%

$$0407 \quad \frac{2\sqrt{3}+4}{\sqrt{3}} - \sqrt{2}(\sqrt{6}-\sqrt{2}) = 2 + \frac{4\sqrt{3}}{3} - 2\sqrt{3} + 2 \\ = 4 - \frac{2\sqrt{3}}{3}$$

따라서 $a=4, b=-\frac{2}{3}$ 이므로

$$a+3b=4+3 \times \left(-\frac{2}{3}\right) = 4-2=2 \quad \dots ①$$

$$0408 \quad 2\sqrt{3}(1-\sqrt{3}) + \frac{3}{\sqrt{3}} - \sqrt{12} = 2\sqrt{3} - 6 + \sqrt{3} - 2\sqrt{3} \\ = \sqrt{3} - 6 \quad \dots ①$$

$$0409 \quad \frac{4}{\sqrt{2}} + \frac{6}{\sqrt{3}} - \sqrt{2}(1-\sqrt{6}) = 2\sqrt{2} + 2\sqrt{3} - \sqrt{2} + 2\sqrt{3} \\ = \sqrt{2} + 4\sqrt{3}$$

따라서 $a=1, b=4$ 이므로

$$a+b=5 \quad \dots ⑤$$

$$0410 \quad \sqrt{3}A - 2\sqrt{2}B = \sqrt{3} \left(3\sqrt{2} - \frac{1}{\sqrt{3}} \right) - 2\sqrt{2} \left(\sqrt{2} + \frac{\sqrt{3}}{2} \right) \\ = 3\sqrt{6} - 1 - 4 - \sqrt{6} \\ = 2\sqrt{6} - 5 \quad \dots ⑤$$

$$0411 \quad \frac{2\sqrt{3}}{3} (3-5\sqrt{2}) + \frac{12-\sqrt{8}}{\sqrt{3}} \\ = 2\sqrt{3} - \frac{10\sqrt{6}}{3} + \frac{12\sqrt{3}-2\sqrt{6}}{3} \\ = 6\sqrt{3} - 4\sqrt{6} \quad \dots ①$$

따라서 $m=6, n=-4$ 이므로 $\dots ②$

$$\sqrt{m-n} = \sqrt{6-(-4)} = \sqrt{10} \quad \dots ③$$

답 $\sqrt{10}$

채점 기준

① 주어진 식의 좌변을 간단히 할 수 있다.	60%
② m, n 의 값을 구할 수 있다.	20%
③ $\sqrt{m-n}$ 의 값을 구할 수 있다.	20%

$$0412 \quad a = \sqrt{2}(\sqrt{6}+\sqrt{3}) - \frac{2}{\sqrt{3}}(\sqrt{18}-\sqrt{12}) \\ = 2\sqrt{3} + \sqrt{6} - 2\sqrt{6} + 4 \\ = 4 + 2\sqrt{3} - \sqrt{6}$$

$$b = \sqrt{24} - \frac{6}{\sqrt{3}} + \sqrt{3}(\sqrt{3}-\sqrt{2})$$

$$= 2\sqrt{6} - 2\sqrt{3} + 3 - \sqrt{6}$$

$$= 3 - 2\sqrt{3} + \sqrt{6}$$

$$\therefore a+b=7 \quad \dots ⑦$$

$$0413 \quad (3-2\sqrt{2})(4+5\sqrt{2}) = 12 + (15-8)\sqrt{2} - 10 \times (\sqrt{2})^2 \\ = 12 + 7\sqrt{2} - 20 \\ = -8 + 7\sqrt{2}$$

따라서 $a=-8, b=7$ 이므로

$$a+b=-1 \quad \dots ①$$



곱셈 공식

- ① $(a+b)^2 = a^2 + 2ab + b^2$, $(a-b)^2 = a^2 - 2ab + b^2$
 ② $(a+b)(a-b) = a^2 - b^2$
 ③ $(x+a)(x+b) = x^2 + (a+b)x + ab$
 ④ $(ax+b)(cx+d) = acx^2 + (ad+bc)x + bd$

$$0414 \quad (2\sqrt{3}+3)(2\sqrt{3}-a) = (2\sqrt{3})^2 + (-2a+6)\sqrt{3} - 3a$$

$$= 12 - 3a + (-2a+6)\sqrt{3}$$

이때 $12 - 3a + (-2a+6)\sqrt{3} = 6 + b\sqrt{3}$ 이므로

$$12 - 3a = 6, \quad -2a + 6 = b$$

$$\therefore a = 2, b = 2$$

$$\therefore ab = 4$$

답 ⑤

$$0415 \quad (\sqrt{2}-4)^2 - (2\sqrt{2}+3)(2\sqrt{2}-3)$$

$$= (\sqrt{2})^2 - 8\sqrt{2} + 4^2 - \{(2\sqrt{2})^2 - 3^2\}$$

$$= 18 - 8\sqrt{2} - (8 - 9)$$

$$= 19 - 8\sqrt{2}$$

답 ②

$$0416 \quad A = (\sqrt{7}+2)^2 = 7 + 4\sqrt{7} + 4 = 11 + 4\sqrt{7}$$

... ①

$$B = (2\sqrt{7}+1)(\sqrt{7}-3) = 14 - 5\sqrt{7} - 3 = 11 - 5\sqrt{7}$$

... ②

$$\therefore A - B = 9\sqrt{7}$$

... ③

답 $9\sqrt{7}$

채점 기준

① A의 값을 구할 수 있다.	40%
② B의 값을 구할 수 있다.	40%
③ A-B의 값을 구할 수 있다.	20%

$$0417 \quad (5+2\sqrt{6})(5-2\sqrt{6})(\sqrt{3}-2)(\sqrt{3}+2)$$

$$= \{(5+2\sqrt{6})(5-2\sqrt{6})\} \{(\sqrt{3}-2)(\sqrt{3}+2)\}$$

$$= (25-24)(3-4)$$

$$= 1 \times (-1) = -1$$

답 ③

$$0418 \quad (4\sqrt{3}+7)^{2015} (4\sqrt{3}-7)^{2015}$$

$$= \{(4\sqrt{3}+7)(4\sqrt{3}-7)\}^{2015}$$

$$= (48-49)^{2015} = (-1)^{2015} = -1$$

답 -1



m이 자연수일 때

① $(ab)^m = a^m b^m$ ② $\left(\frac{a}{b}\right)^m = \frac{a^m}{b^m} (b \neq 0)$

$$0419 \quad (4+2\sqrt{5})(a-3\sqrt{5}) = 4a + (-12+2a)\sqrt{5} - 30$$

$$= (4a-30) + (2a-12)\sqrt{5}$$

따라서 $2a-12=0$ 이므로 $a=6$

답 ⑤

$$0420 \quad (3+a\sqrt{2})(b-2\sqrt{2}) = 3b + (-6+ab)\sqrt{2} - 4a$$

$$= (-4a+3b) + (ab-6)\sqrt{2}$$

따라서 $ab-6=0$ 이므로 $ab=6$

답 ③

$$0421 \quad \frac{a}{\sqrt{2}}(\sqrt{8}-2) + \sqrt{24}\left(\frac{1}{\sqrt{3}} - \frac{1}{\sqrt{6}}\right)$$

$$= 2a - \sqrt{2}a + 2\sqrt{2} - 2$$

$$= (2a-2) + (2-a)\sqrt{2}$$

따라서 $2-a=0$ 이므로 $a=2$

답 ④

$$0422 \quad (1) A = 7k - 7\sqrt{5} - 3\sqrt{5} + 2k\sqrt{5} - 11$$

$$= (7k-11) + (2k-10)\sqrt{5}$$

... ①

A가 유리수이므로 $2k-10=0$

$$\therefore k=5$$

... ②

(2) $k=5$ 이므로

$$A = 7k - 11 = 7 \times 5 - 11 = 24$$

... ③

답 (1) 5 (2) 24

채점 기준

① A를 간단히 할 수 있다.	40%
② k의 값을 구할 수 있다.	40%
③ A의 값을 구할 수 있다.	20%

$$0423 \quad (\text{주어진 식}) = 3 - 4\sqrt{3} + 4 - 3a + 2a\sqrt{3}$$

$$= (7-3a) + (-4+2a)\sqrt{3}$$

... ①

따라서 $-4+2a=0$ 이므로

... ②

$$a=2$$

... ③

답 2

채점 기준

① 주어진 식을 간단히 할 수 있다.	50%
② 유리수가 되는 조건을 알 수 있다.	30%
③ a의 값을 구할 수 있다.	20%

$$0424 \quad (a*1) + (2*a) = (a\sqrt{2}-1) + (2\sqrt{2}-a)$$

$$= (-1-a) + (a+2)\sqrt{2} = b$$

따라서 $-1-a=b$, $a+2=0$ 이므로 $a=-2$, $b=1$

$$\therefore b\sqrt{2}*a = \sqrt{2}*(-2) = \sqrt{2}\sqrt{2} - (-2) = 4$$

답 4

$$0425 \quad \frac{\sqrt{3}}{\sqrt{6}-\sqrt{3}} - \frac{\sqrt{3}}{\sqrt{6}+\sqrt{3}}$$

$$= \frac{\sqrt{3}(\sqrt{6}+\sqrt{3})}{(\sqrt{6}-\sqrt{3})(\sqrt{6}+\sqrt{3})} - \frac{\sqrt{3}(\sqrt{6}-\sqrt{3})}{(\sqrt{6}+\sqrt{3})(\sqrt{6}-\sqrt{3})}$$

$$= \frac{3\sqrt{2}+3}{3} - \frac{3\sqrt{2}-3}{3}$$

$$= (\sqrt{2}+1) - (\sqrt{2}-1) = 2$$

답 ④

$$0426 \quad \frac{2}{2-\sqrt{2}} = \frac{2(2+\sqrt{2})}{(2-\sqrt{2})(2+\sqrt{2})} = \frac{2(2+\sqrt{2})}{2}$$

$$= 2 + \sqrt{2}$$

답 ⑤

$$0427 \quad \frac{\sqrt{3}+\sqrt{2}}{\sqrt{3}-\sqrt{2}} = \frac{(\sqrt{3}+\sqrt{2})^2}{(\sqrt{3}-\sqrt{2})(\sqrt{3}+\sqrt{2})} = 3 + 2\sqrt{6} + 2$$

$$= 5 + 2\sqrt{6}$$

답 ④

$$\begin{aligned}
 0428 \quad & \frac{\sqrt{12}-\sqrt{2}}{\sqrt{2}} - \frac{\sqrt{27}-4}{\sqrt{3}-2} \\
 &= \frac{(2\sqrt{3}-\sqrt{2}) \times \sqrt{2}}{\sqrt{2} \times \sqrt{2}} - \frac{(3\sqrt{3}-4)(\sqrt{3}+2)}{(\sqrt{3}-2)(\sqrt{3}+2)} \\
 &= \frac{2\sqrt{6}-2}{2} + (9+2\sqrt{3}-8) \\
 &= \sqrt{6}-1+1+2\sqrt{3}=2\sqrt{3}+\sqrt{6} \quad \text{답 ④}
 \end{aligned}$$

$$\begin{aligned}
 0429 \quad & \frac{3}{\sqrt{5}+\sqrt{2}} - \frac{6}{\sqrt{5}-\sqrt{2}} \\
 &= \frac{3(\sqrt{5}-\sqrt{2})}{(\sqrt{5}+\sqrt{2})(\sqrt{5}-\sqrt{2})} - \frac{6(\sqrt{5}+\sqrt{2})}{(\sqrt{5}-\sqrt{2})(\sqrt{5}+\sqrt{2})} \\
 &= \frac{3(\sqrt{5}-\sqrt{2})}{3} - \frac{6(\sqrt{5}+\sqrt{2})}{3} \\
 &= \sqrt{5}-\sqrt{2}-2\sqrt{5}-2\sqrt{2}=-3\sqrt{2}-\sqrt{5} \\
 &\text{따라서 } a=-3, b=-1 \text{ 이므로} \\
 &a-b=-2 \quad \text{답 -2}
 \end{aligned}$$

$$\begin{aligned}
 0430 \quad & \frac{\sqrt{2}+2}{\sqrt{2}-2} - \frac{\sqrt{2}-2}{\sqrt{2}+2} \\
 &= \frac{(\sqrt{2}+2)^2}{(\sqrt{2}-2)(\sqrt{2}+2)} - \frac{(\sqrt{2}-2)^2}{(\sqrt{2}+2)(\sqrt{2}-2)} \\
 &= \frac{2+4\sqrt{2}+4}{-2} - \frac{2-4\sqrt{2}+4}{-2} \\
 &= -3-2\sqrt{2}+3-2\sqrt{2}=-4\sqrt{2} \quad \dots ① \\
 &\text{따라서 } a=0, b=-4 \text{ 이므로} \\
 &a+b=-4 \quad \dots ② \\
 &\dots ③ \\
 &\text{답 -4}
 \end{aligned}$$

채점 기준

① 주어진 식의 좌변을 간단히 할 수 있다.	60%
② a, b의 값을 구할 수 있다.	20%
③ a+b의 값을 구할 수 있다.	20%

$$\begin{aligned}
 0431 \quad & \frac{\sqrt{5}-\sqrt{3}}{\sqrt{2}} = \frac{\sqrt{10}-\sqrt{6}}{2} = \frac{1}{2} \times (3.162-2.449) \\
 &= 0.3565 \quad \text{답 ②}
 \end{aligned}$$

$$\begin{aligned}
 0432 \quad & \frac{1}{\sqrt{2}} - \frac{1}{\sqrt{5}} = \frac{\sqrt{2}}{2} - \frac{\sqrt{5}}{5} = \frac{1}{2} \times 1.414 - \frac{1}{5} \times 2.236 \\
 &= 0.707 - 0.4472 = 0.2598 \quad \text{답 ①}
 \end{aligned}$$

$$\begin{aligned}
 0433 \quad & \sqrt{125} = 5\sqrt{5} = 5 \times 2.236 = 11.18 \\
 & \sqrt{\frac{1}{20}} = \frac{1}{2\sqrt{5}} = \frac{\sqrt{5}}{10} = \frac{2.236}{10} = 0.2236 \\
 & \therefore \sqrt{125} + \sqrt{\frac{1}{20}} = 11.18 + 0.2236 = 11.4036 \quad \text{답 ④}
 \end{aligned}$$

$$\begin{aligned}
 0434 \quad & \sqrt{0.6} = \sqrt{\frac{0.6 \times 4}{4}} = \frac{\sqrt{2.4}}{2} = \frac{1}{2} \times 1.549 = 0.7745 \\
 & \sqrt{6} = \sqrt{\frac{6 \times 4}{4}} = \frac{\sqrt{24}}{2} = \frac{1}{2} \times 4.899 = 2.4495 \\
 & \therefore \sqrt{0.6} + \sqrt{6} = 0.7745 + 2.4495 = 3.224 \quad \text{답 3.224}
 \end{aligned}$$

$$\begin{aligned}
 0435 \quad & \frac{7}{\sqrt{28}} + \sqrt{630} = \frac{7}{2\sqrt{7}} + 3\sqrt{70} = \frac{\sqrt{7}}{2} + 3\sqrt{70} \\
 &= \frac{1}{2} \times 2.646 + 3 \times 8.367 \\
 &= 1.323 + 25.101 = 26.424 \quad \text{답 26.424}
 \end{aligned}$$

$$\begin{aligned}
 0436 \quad & \sqrt{0.75} + \frac{3}{2\sqrt{3}} - \sqrt{0.12} = \sqrt{\frac{75}{100}} + \frac{3\sqrt{3}}{6} - \sqrt{\frac{12}{100}} \\
 &= \frac{\sqrt{3}}{2} + \frac{\sqrt{3}}{2} - \frac{\sqrt{3}}{5} = \frac{4\sqrt{3}}{5} \\
 &= \frac{4}{5} \times 1.732 = 1.3856 \quad \text{답 ④}
 \end{aligned}$$

$$\begin{aligned}
 0437 \quad & 2 < \sqrt{5} < 3 \text{에서 } 4 < \sqrt{5} + 2 < 5 \text{이므로} \\
 & a=4, b=\sqrt{5}-2 \\
 & \therefore a-b=6-\sqrt{5} \quad \text{답 ⑤}
 \end{aligned}$$

$$\begin{aligned}
 0438 \quad & \frac{1}{\sqrt{2}-1} = \frac{\sqrt{2}+1}{(\sqrt{2}-1)(\sqrt{2}+1)} = \sqrt{2}+1 \\
 & 1 < \sqrt{2} < 2 \text{에서 } 2 < \sqrt{2}+1 < 3 \text{이므로 } a=2, b=\sqrt{2}-1 \\
 & \therefore \frac{1}{a+b} + \frac{1}{a-b-2} \\
 &= \frac{1}{\sqrt{2}+1} + \frac{1}{1-\sqrt{2}} \\
 &= \frac{\sqrt{2}-1}{(\sqrt{2}+1)(\sqrt{2}-1)} + \frac{1+\sqrt{2}}{(1-\sqrt{2})(1+\sqrt{2})} \\
 &= \sqrt{2}-1-(1+\sqrt{2})=-2 \quad \text{답 ②}
 \end{aligned}$$

$$\begin{aligned}
 0439 \quad & 1 < \sqrt{2} < 2 \text{이므로 } a=\sqrt{2}-1 \\
 & 2 < \sqrt{5} < 3 \text{이므로 } b=\sqrt{5}-2 \\
 & \therefore \sqrt{2}a + \sqrt{5}b + \frac{10}{\sqrt{5}} = \sqrt{2}(\sqrt{2}-1) + \sqrt{5}(\sqrt{5}-2) + 2\sqrt{5} \\
 &= 2-\sqrt{2}+5-2\sqrt{5}+2\sqrt{5} \\
 &= 7-\sqrt{2} \quad \text{답 ③}
 \end{aligned}$$

$$\begin{aligned}
 0440 \quad & 2 < \sqrt{6} < 3 \text{이므로 } k=\sqrt{6}-2 \quad \therefore \sqrt{6}=k+2 \\
 & \text{이때 } 12 < \sqrt{150} < 13 \text{이므로 } \sqrt{150} \text{의 소수 부분은} \\
 & \sqrt{150}-12=5\sqrt{6}-12=5(k+2)-12=5k-2 \quad \text{답 ①}
 \end{aligned}$$

$$\begin{aligned}
 0441 \quad & 7 < \sqrt{50} < 8 \text{이므로 } f(50)=\sqrt{50}-7=5\sqrt{2}-7 \quad \dots ① \\
 & 4 < \sqrt{18} < 5 \text{이므로 } f(18)=\sqrt{18}-4=3\sqrt{2}-4 \quad \dots ② \\
 & \therefore f(50)-f(18)=2\sqrt{2}-3 \quad \dots ③ \\
 & \text{답 } 2\sqrt{2}-3
 \end{aligned}$$

채점 기준

① f(50)의 값을 구할 수 있다.	40%
② f(18)의 값을 구할 수 있다.	40%
③ f(50)-f(18)의 값을 구할 수 있다.	20%

$$\begin{aligned}
 0442 \quad & \sqrt{n}=a+b \text{이고 } 2 < a < 5, 0.3 < b < 0.6 \text{에서} \\
 & 2.3 < \sqrt{n} < 5.6 \quad \therefore 5.29 < n < 31.36 \\
 & \text{따라서 구하는 자연수 } n \text{은 } 6, 7, 8, \dots, 31 \text{의 } 26 \text{개이다.} \\
 & \text{답 26}
 \end{aligned}$$

$$\begin{aligned}
 0443 \quad a+b &= (3+\sqrt{6}) + (3-\sqrt{6}) = 6 \\
 ab &= (3+\sqrt{6})(3-\sqrt{6}) = 3 \\
 \therefore \frac{b}{a} + \frac{a}{b} &= \frac{a^2+b^2}{ab} = \frac{(a+b)^2-2ab}{ab} \\
 &= \frac{6^2-2 \times 3}{3} = 10
 \end{aligned}$$

답 ③



곱셈 공식의 변형

- ① $a^2+b^2=(a+b)^2-2ab=(a-b)^2+2ab$
- ② $(a+b)^2=(a-b)^2+4ab$
- ③ $(a-b)^2=(a+b)^2-4ab$

$$\begin{aligned}
 0444 \quad x+y &= (\sqrt{5}+\sqrt{3}) + (\sqrt{5}-\sqrt{3}) = 2\sqrt{5} \\
 xy &= (\sqrt{5}+\sqrt{3})(\sqrt{5}-\sqrt{3}) = 2 \\
 \therefore (\text{주어진 식}) &= x^2+xy-xy+y^2+xy \\
 &= x^2+y^2+xy = (x+y)^2-xy \\
 &= (2\sqrt{5})^2-2 = 18
 \end{aligned}$$

답 ⑤

$$\begin{aligned}
 0445 \quad a+b &= (2+\sqrt{5}) + (2-\sqrt{5}) = 4 \\
 ab &= (2+\sqrt{5})(2-\sqrt{5}) = -1 \\
 \therefore \left(a+\frac{1}{b}\right) + \left(b+\frac{1}{a}\right) &= a+b+\frac{1}{a}+\frac{1}{b} = a+b+\frac{a+b}{ab} \\
 &= 4+\frac{4}{-1} = 0
 \end{aligned}$$

답 ④

$$\begin{aligned}
 0446 \quad a &= \frac{1}{1+\sqrt{2}} = \frac{1-\sqrt{2}}{(1+\sqrt{2})(1-\sqrt{2})} = -1+\sqrt{2} \\
 b &= \frac{1}{1-\sqrt{2}} = \frac{1+\sqrt{2}}{(1-\sqrt{2})(1+\sqrt{2})} = -1-\sqrt{2} \quad \dots ① \\
 \therefore a+b &= (-1+\sqrt{2}) + (-1-\sqrt{2}) = -2 \\
 ab &= (-1+\sqrt{2})(-1-\sqrt{2}) = -1 \quad \dots ② \\
 \therefore a^2+b^2+5ab &= (a+b)^2+3ab \\
 &= (-2)^2+3 \times (-1) = 1 \quad \dots ③ \\
 &\text{답 1}
 \end{aligned}$$

채점 기준

① a, b의 분모를 유리화할 수 있다.	30%
② a+b, ab의 값을 구할 수 있다.	30%
③ a ² +b ² +5ab의 값을 구할 수 있다.	40%

$$\begin{aligned}
 0447 \quad \left(x+\frac{1}{x}\right)^2 &= \left(x-\frac{1}{x}\right)^2+4=4^2+4=20 \\
 x>1 \text{ 일 때, } x+\frac{1}{x} &>0 \text{ 이므로} \\
 x+\frac{1}{x} &= \sqrt{20}=2\sqrt{5}
 \end{aligned}$$

답 ⑤

$$\begin{aligned}
 0448 \quad x^2+\frac{1}{x^2} &= \left(x-\frac{1}{x}\right)^2+2 \\
 &= (3-\sqrt{5})^2+2=16-6\sqrt{5}
 \end{aligned}$$

답 ④

$$\begin{aligned}
 0449 \quad x^2+5x+1=0 \text{ 의 양변을 } x \text{ 로 나누면} \\
 x+5+\frac{1}{x}=0 \quad \therefore x+\frac{1}{x}=-5 \\
 \therefore \left(x-\frac{1}{x}\right)^2 = \left(x+\frac{1}{x}\right)^2-4 = (-5)^2-4=21 \\
 \therefore x-\frac{1}{x} = \pm\sqrt{21}
 \end{aligned}$$

답 $\pm\sqrt{21}$



$$\begin{aligned}
 x^2+ax\pm 1=0 \quad (x \neq 0, a \text{ 는 상수}) \text{ 일 때 } x \neq 0 \text{ 이므로} \\
 x^2+ax\pm 1=0 \text{ 의 양변을 } x \text{ 로 나누면} \\
 x+a\pm \frac{1}{x}=0 \quad \therefore x\pm \frac{1}{x}=-a
 \end{aligned}$$

$$\begin{aligned}
 0450 \quad (x+y)^2-(x-y)^2 &= (x^2+2xy+y^2)-(x^2-2xy+y^2) \\
 &= 4xy = 4 \times 2\sqrt{2} \times (2-\sqrt{3}) \\
 &= 16\sqrt{2}-8\sqrt{6}
 \end{aligned}$$

답 ③

$$\begin{aligned}
 0451 \quad (x+y)(x-y) &= x^2-y^2 = (2+\sqrt{6})^2-(\sqrt{2}+\sqrt{3})^2 \\
 &= (10+4\sqrt{6})-(5+2\sqrt{6}) = 5+2\sqrt{6}
 \end{aligned}$$

답 ⑤

$$\begin{aligned}
 0452 \quad \frac{2}{x+y} + \frac{2}{x-y} &= \frac{4x}{x^2-y^2} = \frac{4 \times 3\sqrt{2}}{(3\sqrt{2})^2-(2\sqrt{3})^2} \\
 &= \frac{12\sqrt{2}}{6} = 2\sqrt{2}
 \end{aligned}$$

답 ①

$$\begin{aligned}
 0453 \quad (x+3y)^2-(2x+y)(2x-y)-6xy \\
 &= (x^2+6xy+9y^2)-(4x^2-y^2)-6xy = -3x^2+10y^2 \\
 &= -3 \times (3\sqrt{2})^2+10 \times (-1)^2 = -44
 \end{aligned}$$

답 -44

$$\begin{aligned}
 0454 \quad x &= \frac{2}{\sqrt{6}-2} = \frac{2(\sqrt{6}+2)}{(\sqrt{6}-2)(\sqrt{6}+2)} = \sqrt{6}+2 \\
 y &= \frac{3}{3-\sqrt{6}} = \frac{3(3+\sqrt{6})}{(3-\sqrt{6})(3+\sqrt{6})} = 3+\sqrt{6} \\
 \therefore x(y+2)-y(x+2) &= 2x-2y \\
 &= 2(\sqrt{6}+2)-2(3+\sqrt{6}) \\
 &= -2
 \end{aligned}$$

답 ②

$$\begin{aligned}
 0455 \quad x &= \frac{1}{\sqrt{5}+2} = \frac{\sqrt{5}-2}{(\sqrt{5}+2)(\sqrt{5}-2)} = \sqrt{5}-2 \quad \dots ① \\
 \therefore \frac{x+1}{x-1} - \frac{x-1}{x+1} &= \frac{(x+1)^2-(x-1)^2}{(x-1)(x+1)} = \frac{4x}{x^2-1} \quad \dots ② \\
 &= \frac{4(\sqrt{5}-2)}{(\sqrt{5}-2)^2-1} = \frac{4(\sqrt{5}-2)}{-4(\sqrt{5}-2)} \\
 &= -1 \quad \dots ③ \\
 &\text{답 -1}
 \end{aligned}$$

채점 기준

① x의 분모를 유리화할 수 있다.	30%
② 주어진 식을 간단히 할 수 있다.	40%
③ 주어진 식의 값을 구할 수 있다.	30%

0456 $x+3=\sqrt{7}$ 이므로 $(x+3)^2=7$

$x^2+6x+9=7, \quad x^2+6x=-2$

$\therefore x^2+6x-1=-2-1=-3$ 답 ②

0457 $x-2=-\sqrt{3}$ 이므로 $(x-2)^2=3$

$\therefore x^2-4x+4=(x-2)^2=3$ 답 ③

0458 $x+3=2\sqrt{5}$ 이므로 $(x+3)^2=20$

$x^2+6x+9=20, \quad x^2+6x=11$

$\therefore \sqrt{x^2+6x+1}=\sqrt{11+1}=\sqrt{12}=2\sqrt{3}$ 답 ③

0459 $x=\frac{3+2\sqrt{2}}{(3-2\sqrt{2})(3+2\sqrt{2})}=3+2\sqrt{2}$ 에서 $x-3=2\sqrt{2}$ 이

므로 $(x-3)^2=8, \quad x^2-6x+9=8, \quad x^2-6x=-1$

$\therefore x^2-6x+3=-1+3=2$ 답 ⑤

0460 $x=\frac{\sqrt{3}-\sqrt{2}}{\sqrt{3}+\sqrt{2}}=\frac{(\sqrt{3}-\sqrt{2})^2}{(\sqrt{3}+\sqrt{2})(\sqrt{3}-\sqrt{2})}$
 $=\frac{(\sqrt{3}-\sqrt{2})^2}{(\sqrt{3}-\sqrt{2})^2}=5-2\sqrt{6}$... ①

$x-5=-2\sqrt{6}$ 이므로 $(x-5)^2=24$

$x^2-10x+25=24, \quad x^2-10x=-1$... ②

$\therefore x^2-10x+10=-1+10=9$... ③

답 9

채점 기준

① x 의 분모를 유리화할 수 있다.	30%
② x^2-10x 의 값을 구할 수 있다.	50%
③ $x^2-10x+10$ 의 값을 구할 수 있다.	20%

0461 $x=\frac{1}{4-2\sqrt{3}}=\frac{4+2\sqrt{3}}{(4-2\sqrt{3})(4+2\sqrt{3})}=1+\frac{\sqrt{3}}{2}$

$x-1=\frac{\sqrt{3}}{2}$ 이므로 $(x-1)^2=\frac{3}{4}$

$x^2-2x+1=\frac{3}{4}, \quad x^2-2x=-\frac{1}{4}$

$\therefore 4x^2-6x+3=4(x^2-2x)+2x+3$
 $=4\times\left(-\frac{1}{4}\right)+2\left(1+\frac{\sqrt{3}}{2}\right)+3=4+\sqrt{3}$

답 4+√3

0462 $\square ABCD=\frac{1}{2}\{\sqrt{80}+(\sqrt{45}+\sqrt{20})\}\times\sqrt{72}$

$=\frac{1}{2}(4\sqrt{5}+3\sqrt{5}+2\sqrt{5})\times6\sqrt{2}$

$=\frac{1}{2}\times9\sqrt{5}\times6\sqrt{2}$

$=27\sqrt{10}(\text{cm}^2)$ 답 ②

0463 직육면체의 밑면의 가로의 길이를 x 라 하면

$2(\sqrt{8}\times\sqrt{2}+\sqrt{8x}+\sqrt{2x})=56, \quad 8+6\sqrt{2}x=56$

$6\sqrt{2}x=48 \quad \therefore x=\frac{48}{6\sqrt{2}}=4\sqrt{2}$

따라서 이 직육면체의 부피는 $4\sqrt{2}\times\sqrt{2}\times\sqrt{8}=16\sqrt{2}$ 답 ④

0464 두 정삼각형은 항상 닮음이고 넓이의 비가 1:3이므로 한 변의 길이의 비는 $1:\sqrt{3}$ 이다.

작은 정삼각형의 한 변의 길이를 x cm라 하면

$3(x+\sqrt{3}x)=36, \quad (\sqrt{3}+1)x=12$

$\therefore x=\frac{12}{\sqrt{3}+1}=\frac{12(\sqrt{3}-1)}{(\sqrt{3}+1)(\sqrt{3}-1)}$
 $=6\sqrt{3}-6$

따라서 작은 정삼각형의 한 변의 길이는 $(6\sqrt{3}-6)$ cm이다.

답 $(6\sqrt{3}-6)$ cm

0465 $\overline{AB}=\sqrt{12}+\sqrt{75}=2\sqrt{3}+5\sqrt{3}=7\sqrt{3}(\text{cm})$

$\overline{BC}=\sqrt{75}+\sqrt{27}=5\sqrt{3}+3\sqrt{3}=8\sqrt{3}(\text{cm})$

$\therefore \overline{AB}+\overline{BC}=15\sqrt{3}(\text{cm})$ 답 ⑤

0466 (밑면의 가로 길이) $=\sqrt{128}-2\sqrt{2}$

$=8\sqrt{2}-2\sqrt{2}=6\sqrt{2}(\text{cm})$

(밑면의 세로의 길이) $=\sqrt{98}-2\sqrt{2}=7\sqrt{2}-2\sqrt{2}=5\sqrt{2}(\text{cm})$

(높이) $=\sqrt{2}$ cm ... ①

따라서 직육면체의 부피는

$6\sqrt{2}\times5\sqrt{2}\times\sqrt{2}=60\sqrt{2}(\text{cm}^3)$... ②

답 $60\sqrt{2}\text{cm}^3$

채점 기준

① 직육면체의 밑면의 가로 길, 세로의 길이와 높이를 구할 수 있다.	60%
② 직육면체의 부피를 구할 수 있다.	40%

0467 세 정사각형의 한 변의 길이는 각각

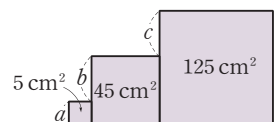
$\sqrt{5}$ cm, $\sqrt{45}=3\sqrt{5}(\text{cm})$, $\sqrt{125}=5\sqrt{5}(\text{cm})$... ①

오른쪽 그림에서

(둘레의 길이)

$=(\sqrt{5}+3\sqrt{5}+5\sqrt{5})\times2$
 $+5\sqrt{5}+(a+b+c)$
 $=18\sqrt{5}+5\sqrt{5}+5\sqrt{5}$ 5√5 cm
 $=28\sqrt{5}(\text{cm})$... ②

답 $28\sqrt{5}$ cm



채점 기준

① 세 정사각형의 한 변의 길이를 구할 수 있다.	50%
② 도형의 둘레의 길이를 구할 수 있다.	50%

0468 $a=2-\sqrt{2}, \quad b=3+\sqrt{2}$ 이므로

$ab=(2-\sqrt{2})(3+\sqrt{2})=4-\sqrt{2}$ 답 ②

0469 $\square PQRS=3\times3-4\times\left(\frac{1}{2}\times2\times1\right)=5$

따라서 $\square PQRS$ 의 한 변의 길이는 $\sqrt{5}$ 이므로

$\overline{QP}=\overline{QR}=\sqrt{5}$

$\therefore a=1-\sqrt{5}, \quad b=1+\sqrt{5}$

$\therefore a^2+b^2=(1-\sqrt{5})^2+(1+\sqrt{5})^2$
 $=6-2\sqrt{5}+6+2\sqrt{5}=12$ 답 ③

0470 $a = -1 - \sqrt{2}$, $b = -2 + \sqrt{2}$, $c = 2 - \sqrt{2}$ 이므로
 $b(a-c) = (-2 + \sqrt{2})(-1 - \sqrt{2} - 2 + \sqrt{2})$
 $= (-2 + \sqrt{2}) \times (-3)$
 $= 6 - 3\sqrt{2}$ 답 ④

0471 $\overline{EF} = \overline{GF} = \sqrt{8} = 2\sqrt{2}$ 이므로
 $p = 2 + 2\sqrt{2}$, $q = 2 - 2\sqrt{2}$
 $\therefore p - q = (2 + 2\sqrt{2}) - (2 - 2\sqrt{2}) = 4\sqrt{2}$ 답 4√2

0472 두 점 P, Q에 대응하는 수를 각각 p , q 라 하면
 $\overline{AC} = \overline{AP} = \overline{AQ} = \sqrt{2}$ 이므로 $p = 1 - \sqrt{2}$, $q = 1 + \sqrt{2}$
 ① $P(1 - \sqrt{2})$
 ② $Q(1 + \sqrt{2})$
 ③ $\overline{PQ} = q - p = (1 + \sqrt{2}) - (1 - \sqrt{2}) = 2\sqrt{2}$
 ④, ⑤ $\overline{AQ} = \overline{PA} = \sqrt{2}$ 답 ③
참고 $\overline{PQ} = \overline{AP} + \overline{AQ} = \sqrt{2} + \sqrt{2} = 2\sqrt{2}$

0473 정사각형 P의 넓이가 2이므로 정사각형 Q, R의 넓이는 각각 6, 18이다.
 따라서 P, Q, R의 한 변의 길이는 각각 $\sqrt{2}$, $\sqrt{6}$, $3\sqrt{2}$ 이므로
 $a = \sqrt{2}$, $b = \sqrt{2} + \sqrt{6}$, $c = 4\sqrt{2} + \sqrt{6}$
 $\therefore a - b + c = \sqrt{2} - (\sqrt{2} + \sqrt{6}) + 4\sqrt{2} + \sqrt{6}$
 $= 4\sqrt{2}$ 답 ⑤

0474 ① $(\sqrt{5} + \sqrt{2}) - (\sqrt{5} + 1) = \sqrt{2} - 1 > 0$
 $\therefore \sqrt{5} + \sqrt{2} > \sqrt{5} + 1$
 ② $(3 + \sqrt{2}) - (\sqrt{9} + 2) = \sqrt{2} - 2 = \sqrt{2} - \sqrt{4} < 0$
 $\therefore 3 + \sqrt{2} < \sqrt{9} + 2$
 ③ $-\sqrt{18} < -\sqrt{16}$
 $\therefore -\sqrt{18} < -4$
 ④ $(3\sqrt{5} + \sqrt{6}) - (2\sqrt{11} + \sqrt{6}) = 3\sqrt{5} - 2\sqrt{11}$
 $= \sqrt{45} - \sqrt{44} > 0$
 $\therefore 3\sqrt{5} + \sqrt{6} > 2\sqrt{11} + \sqrt{6}$
 ⑤ $(3\sqrt{3} - 4\sqrt{2}) - (-\sqrt{12} + \sqrt{8}) = 3\sqrt{3} - 4\sqrt{2} + 2\sqrt{3} - 2\sqrt{2}$
 $= 5\sqrt{3} - 6\sqrt{2}$
 $= \sqrt{75} - \sqrt{72} > 0$
 $\therefore 3\sqrt{3} - 4\sqrt{2} > -\sqrt{12} + \sqrt{8}$ 답 ④

0475 (ㄱ) $(3 + \sqrt{3}) - (1 + \sqrt{12}) = 2 - \sqrt{3} = \sqrt{4} - \sqrt{3} > 0$
 $\therefore 3 + \sqrt{3} > 1 + \sqrt{12}$
 (ㄴ) $(2\sqrt{5} + \sqrt{6}) - (\sqrt{5} + 2\sqrt{6}) = \sqrt{5} - \sqrt{6} < 0$
 $\therefore 2\sqrt{5} + \sqrt{6} < \sqrt{5} + 2\sqrt{6}$
 (ㄷ) $(\sqrt{5} + \sqrt{18}) - (\sqrt{20} + \sqrt{2}) = 2\sqrt{2} - \sqrt{5} = \sqrt{8} - \sqrt{5} > 0$
 $\therefore \sqrt{5} + \sqrt{18} > \sqrt{20} + \sqrt{2}$
 (ㄹ) $(5\sqrt{3} - \sqrt{18}) - (\sqrt{12} + \sqrt{2}) = 3\sqrt{3} - 4\sqrt{2} = \sqrt{27} - \sqrt{32} < 0$
 $\therefore 5\sqrt{3} - \sqrt{18} < \sqrt{12} + \sqrt{2}$
 이상에서 옳은 것은 (ㄱ), (ㄴ)이다. 답 ①

0476 (1) $A - B = (2\sqrt{5} + 1) - (8 - \sqrt{5}) = 3\sqrt{5} - 7$
 $= \sqrt{45} - \sqrt{49} < 0$
 $\therefore A < B$... ①
 (2) $A - C = (2\sqrt{5} + 1) - (3\sqrt{2} + 1) = 2\sqrt{5} - 3\sqrt{2}$
 $= \sqrt{20} - \sqrt{18} > 0$
 $\therefore C < A$... ②
 (3) $C < A$, $A < B$ 이므로 $C < A < B$... ③
답 ① $A < B$ ② $C < A$ ③ $C < A < B$

채점 기준

① A, B의 대소 관계를 나타낼 수 있다.	40%
② A, C의 대소 관계를 나타낼 수 있다.	40%
③ A, B, C의 대소 관계를 나타낼 수 있다.	20%

0477 $A - B = (\sqrt{3} + \sqrt{2}) - 2\sqrt{2} = \sqrt{3} - \sqrt{2} > 0$
 $\therefore B < A$
 $B - C = 2\sqrt{2} - (3\sqrt{2} - \sqrt{5}) = \sqrt{5} - \sqrt{2} > 0 \therefore C < B$
 $\therefore C < B < A$ 답 ⑤

0478 **전략** 두 점 P(p), Q(q)에 대하여 \overline{PQ} 의 중점에 대응하는 수는 $\frac{p+q}{2}$ 이다.

풀이 점 M에 대응하는 수는 $\frac{\sqrt{2} + \sqrt{3}}{2}$
 $A(\sqrt{2})$, $M(\frac{\sqrt{2} + \sqrt{3}}{2})$ 에 대하여 \overline{AM} 의 중점 N에 대응하는 수는
 $\frac{1}{2}(\sqrt{2} + \frac{\sqrt{2} + \sqrt{3}}{2}) = \frac{1}{2}(\frac{3\sqrt{2} + \sqrt{3}}{2}) = \frac{3\sqrt{2} + \sqrt{3}}{4}$ 답 ⑤

0479 **전략** 먼저 주어진 식을 간단히 한 후 $a+b$, ab 의 값을 대입한다.

풀이 $\sqrt{\frac{b}{a}} + \sqrt{\frac{a}{b}} = \frac{\sqrt{b}}{\sqrt{a}} + \frac{\sqrt{a}}{\sqrt{b}} = \frac{a+b}{\sqrt{ab}} = \frac{12}{\sqrt{3}} = 4\sqrt{3}$ 답 ③

0480 **전략** 분모의 유리화를 이용하여 x , y 를 간단히 한 후

$\frac{x-2y}{2x+y}$ 에 대입한다.

풀이 $x = \frac{3\sqrt{2} + \sqrt{3}}{\sqrt{3}} = \frac{3\sqrt{6} + 3}{3} = \sqrt{6} + 1$

$y = \frac{2\sqrt{3} - 2\sqrt{2}}{\sqrt{2}} = \frac{2\sqrt{6} - 4}{2} = \sqrt{6} - 2$

이므로

$2x + y = 2(\sqrt{6} + 1) + (\sqrt{6} - 2) = 3\sqrt{6}$

$x - 2y = (\sqrt{6} + 1) - 2(\sqrt{6} - 2) = 5 - \sqrt{6}$

$\therefore \frac{x-2y}{2x+y} = \frac{5-\sqrt{6}}{3\sqrt{6}} = \frac{5\sqrt{6}-6}{18} = \frac{5\sqrt{6}}{18} - \frac{1}{3}$

따라서 $a = \frac{5}{18}$, $b = -\frac{1}{3}$ 이므로 $a+b = -\frac{1}{18}$ 답 ②

0481 **전략** 분배법칙을 이용하여 괄호를 푼 후 덧셈과 뺄셈을 한다.

$$\begin{aligned}
 \text{풀이} & \sqrt{6} \left(\frac{6}{\sqrt{32}} - \frac{3}{\sqrt{2}} \right) - \sqrt{2} \left(\frac{2}{\sqrt{6}} - \frac{10}{\sqrt{12}} \right) \\
 &= \frac{3\sqrt{6}}{2\sqrt{2}} - 3\sqrt{3} - \frac{2}{\sqrt{3}} + \frac{10}{\sqrt{6}} \\
 &= \frac{3\sqrt{3}}{2} - 3\sqrt{3} - \frac{2\sqrt{3}}{3} + \frac{5\sqrt{6}}{3} \\
 &= -\frac{13\sqrt{3}}{6} + \frac{5\sqrt{6}}{3}
 \end{aligned}$$

따라서 $a = -\frac{13}{6}$, $b = \frac{5}{3}$ 이므로

$$\sqrt{b-6a} = \sqrt{\frac{5}{3} - 6 \times \left(-\frac{13}{6}\right)} = \sqrt{\frac{44}{3}} = \frac{2\sqrt{11}}{\sqrt{3}} = \frac{2\sqrt{33}}{3}$$

답 ② $\frac{2\sqrt{33}}{3}$

0482 전략 공통부분을 한 문자로 생각하고, 곱셈 공식을 이용한다.

$$\begin{aligned}
 \text{풀이} & (1 - \sqrt{2} + \sqrt{3})^2 + (2 + \sqrt{2} - \sqrt{3})(2 - \sqrt{2} + \sqrt{3}) \\
 &= [1 - (\sqrt{2} - \sqrt{3})]^2 + \{2 + (\sqrt{2} - \sqrt{3})\}\{2 - (\sqrt{2} - \sqrt{3})\} \\
 &= 1 - 2(\sqrt{2} - \sqrt{3}) + (\sqrt{2} - \sqrt{3})^2 + 4 - (\sqrt{2} - \sqrt{3})^2 \\
 &= 5 - 2\sqrt{2} + 2\sqrt{3}
 \end{aligned}$$

답 ②

0483 전략 주어진 식의 값을 구하여 유리수인 것을 찾는다.

$$\begin{aligned}
 \text{풀이} & \textcircled{1} \sqrt{3}x = \sqrt{3}(\sqrt{3}-1) = 3 - \sqrt{3} \\
 & \textcircled{2} 3x = 3(\sqrt{3}-1) = 3\sqrt{3} - 3 \\
 & \textcircled{3} x^2 + 2x = (\sqrt{3}-1)^2 + 2(\sqrt{3}-1) = 4 - 2\sqrt{3} + 2\sqrt{3} - 2 = 2 \\
 & \textcircled{4} x + \frac{1}{x} = \sqrt{3} - 1 + \frac{1}{\sqrt{3}-1} \\
 & \quad = \sqrt{3} - 1 + \frac{\sqrt{3}+1}{(\sqrt{3}-1)(\sqrt{3}+1)} = \frac{3\sqrt{3}-1}{2} \\
 & \textcircled{5} x - \frac{2}{x} = \sqrt{3} - 1 - \frac{2}{\sqrt{3}-1} \\
 & \quad = \sqrt{3} - 1 - \frac{2(\sqrt{3}+1)}{(\sqrt{3}-1)(\sqrt{3}+1)} = -2
 \end{aligned}$$

답 ③, ⑤

0484 전략 a, b 가 유리수이고 \sqrt{m} 이 무리수일 때, $a + b\sqrt{m}$ 이 유리수가 되려면 $b=0$ 이어야 한다.

$$\begin{aligned}
 \text{풀이} & \sqrt{2}(2\sqrt{2}-6) - \frac{k(1-\sqrt{2})}{2\sqrt{2}} = 4 - 6\sqrt{2} - \frac{k(\sqrt{2}-2)}{4} \\
 & \quad = \left(4 + \frac{k}{2}\right) - \left(6 + \frac{k}{4}\right)\sqrt{2}
 \end{aligned}$$

$$\text{따라서 } 6 + \frac{k}{4} = 0 \text{ 이므로 } \frac{k}{4} = -6$$

$$\therefore k = -24$$

답 -24

0485 전략 $(a+b)(a-b) = a^2 - b^2$ 임을 이용하여 $f(x)$ 의 분모를 유리화한다.

$$\begin{aligned}
 \text{풀이} & f(x) = \frac{\sqrt{x+1} - \sqrt{x}}{(\sqrt{x+1} + \sqrt{x})(\sqrt{x+1} - \sqrt{x})} = \sqrt{x+1} - \sqrt{x} \\
 & \therefore f(2) + f(3) + f(4) + \dots + f(49) \\
 &= (\sqrt{3} - \sqrt{2}) + (\sqrt{4} - \sqrt{3}) + (\sqrt{5} - \sqrt{4}) + \dots + (\sqrt{50} - \sqrt{49}) \\
 &= \sqrt{50} - \sqrt{2} = 5\sqrt{2} - \sqrt{2} = 4\sqrt{2}
 \end{aligned}$$

답 ④

0486 전략 주어진 조건을 이용하여 x_1, x_2, x_3 의 값을 구한다.

$$\text{풀이} 1 < \sqrt{3} < 2 \text{ 이므로 } \langle \sqrt{3} \rangle = 2$$

$$\therefore x_1 = \sqrt{3} + \langle \sqrt{3} \rangle = \sqrt{3} + 2$$

$$x_2 = x_1 - \langle x_1 \rangle \text{ 이고, } 3 < \sqrt{3} + 2 < 4 \text{ 이므로 } \langle \sqrt{3} + 2 \rangle = 4$$

$$\therefore x_2 = \sqrt{3} + 2 - \langle \sqrt{3} + 2 \rangle = \sqrt{3} + 2 - 4 = \sqrt{3} - 2$$

$$x_3 = x_2 - \langle x_2 \rangle \text{ 이고, } -1 < \sqrt{3} - 2 < 0 \text{ 이므로 } \langle \sqrt{3} - 2 \rangle = 0$$

$$\therefore x_3 = \sqrt{3} - 2 - \langle \sqrt{3} - 2 \rangle = \sqrt{3} - 2$$

$$\begin{aligned} \therefore x_1 x_2 x_3 &= (\sqrt{3} + 2)(\sqrt{3} - 2)(\sqrt{3} - 2) \\ &= -(\sqrt{3} - 2) = -\sqrt{3} + 2 \end{aligned}$$

답 ③

0487 전략 무리수 \sqrt{a} 의 소수 부분은 $\sqrt{a} - (\sqrt{a}$ 의 정수 부분)임을 이용한다.

$$\text{풀이} 1 < \sqrt{2} < 2 \text{ 에서 } 3 < 2 + \sqrt{2} < 4$$

$$\therefore a = (2 + \sqrt{2}) - 3 = \sqrt{2} - 1$$

$$\frac{2}{3 - \sqrt{2}} = \frac{2(3 + \sqrt{2})}{(3 - \sqrt{2})(3 + \sqrt{2})} = \frac{6 + 2\sqrt{2}}{7} \text{ 에서}$$

$$8 < 6 + 2\sqrt{2} < 9, \quad \frac{8}{7} < \frac{6 + 2\sqrt{2}}{7} < \frac{9}{7}$$

$$\therefore b = \frac{6 + 2\sqrt{2}}{7} - 1 = \frac{-1 + 2\sqrt{2}}{7}$$

$$a = \sqrt{2} - 1, b = \frac{-1 + 2\sqrt{2}}{7} \text{ 를 } (a-1)x + 7by + 6 = 0 \text{ 에 대입하면}$$

$$(\sqrt{2} - 2)x + (-1 + 2\sqrt{2})y + 6 = 0$$

$$(-2x - y + 6) + (x + 2y)\sqrt{2} = 0$$

$$\therefore -2x - y + 6 = 0, x + 2y = 0$$

$$\text{위의 두 식을 연립하여 풀면 } x = 4, y = -2$$

$$\therefore x + y = 2$$

답 ⑤

0488 전략 $x = 5 + \sqrt{2} - \sqrt{3}$ 을 $x - 5 = \sqrt{2} - \sqrt{3}$ 으로 변형한 후 양변을 제곱하여 정리한다.

$$\text{풀이} x - 5 = \sqrt{2} - \sqrt{3} \text{ 이므로 } (x - 5)^2 = (\sqrt{2} - \sqrt{3})^2$$

$$x^2 - 10x + 25 = 5 - 2\sqrt{6}, \quad x^2 - 10x = -20 - 2\sqrt{6}$$

$$\therefore x^2 - 10x + 20 = -20 - 2\sqrt{6} + 20$$

$$= -2\sqrt{6}$$

답 $-2\sqrt{6}$

0489 전략 직사각형의 넓이에서 삼각형의 넓이를 빼서 오각형의 넓이를 구한다.

풀이 오른쪽 그림에서

(오각형 ABCDE의 넓이)

$$= \square FGHI - (\triangle FBA + \triangle BGC$$

$$+ \triangle CGD + \triangle DHE + \triangle AEI)$$

$$= 5\sqrt{2} \times 3\sqrt{6}$$

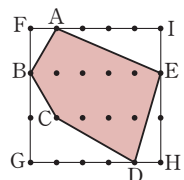
$$- \frac{1}{2} \times (\sqrt{2} \times \sqrt{6} + \sqrt{2} \times 2\sqrt{6} + 4\sqrt{2} \times \sqrt{6} + \sqrt{2} \times 2\sqrt{6}$$

$$+ 4\sqrt{2} \times \sqrt{6})$$

$$= 30\sqrt{3} - \frac{1}{2} \times (2\sqrt{3} + 4\sqrt{3} + 8\sqrt{3} + 4\sqrt{3} + 8\sqrt{3})$$

$$= 30\sqrt{3} - \frac{1}{2} \times 26\sqrt{3} = 17\sqrt{3}$$

답 $17\sqrt{3}$



0490 전략 □ABCD의 넓이를 구한 후 □ABCD의 한 변의 길이를 구한다.

풀이 □ABCD = $3 \times 3 - \left(\frac{1}{2} \times 2 \times 1\right) \times 4 = 5$

따라서 □ABCD의 한 변의 길이는 $\sqrt{5}$ 이므로

$$\overline{AP} = \overline{AD} = \sqrt{5}, \overline{AQ} = \overline{AB} = \sqrt{5}$$

$$\therefore a = 4 - \sqrt{5}, b = 4 + \sqrt{5}$$

$$2 < \sqrt{5} < 3 \text{에서 } 1 < 4 - \sqrt{5} < 2 \text{이므로 } x = 1$$

$$6 < 4 + \sqrt{5} < 7 \text{이므로 } y = (4 + \sqrt{5}) - 6 = \sqrt{5} - 2$$

$$\therefore a + xy = (4 - \sqrt{5}) + (\sqrt{5} - 2) = 2$$

답 2

0491 전략 제곱근의 덧셈과 실수의 대소 관계를 이용하여 주어진 식을 만족시키는 a, b 의 경우의 수를 구한다.

풀이 (i) $a = 1, b = 2$ 또는 $a = 2, b = 1$ 일 때,

$$2 < \sqrt{1} + \sqrt{2} < 3, \text{ 즉 } 1 < \sqrt{2} < 2 \text{이므로 성립한다.}$$

(ii) $a = 1, b = 3$ 또는 $a = 3, b = 1$ 일 때,

$$2 < \sqrt{1} + \sqrt{3} < 3, \text{ 즉 } 1 < \sqrt{3} < 2 \text{이므로 성립한다.}$$

(iii) $a = 2, b = 2$ 일 때,

$$2 < \sqrt{2} + \sqrt{2} < 3, \text{ 즉 } \sqrt{4} < \sqrt{8} < \sqrt{9} \text{이므로 성립한다.}$$

이상에서 $2 < \sqrt{a} + \sqrt{b} < 3$ 을 만족시키는 a, b 의 경우의 수는 5이므로 구하는 확률은 $\frac{5}{36}$ 이다.

답 ①

0492 전략 분배법칙과 분모의 유리화를 이용하여 주어진 식을 간단히 한다.

풀이 $P \triangle Q = \left(\frac{6}{\sqrt{3}}, \sqrt{8} - 2\sqrt{3}\right) \triangle \left(\frac{1}{\sqrt{2}}, \sqrt{3} - \sqrt{2}\right)$

$$= \frac{6}{\sqrt{3}}(\sqrt{3} - \sqrt{2}) - (\sqrt{8} - 2\sqrt{3}) \times \frac{1}{\sqrt{2}} \quad \dots ①$$

$$= 6 - \frac{6\sqrt{2}}{\sqrt{3}} - 2 + \frac{2\sqrt{3}}{\sqrt{2}}$$

$$= 6 - 2\sqrt{6} - 2 + \sqrt{6} = 4 - \sqrt{6} \quad \dots ②$$

답 $4 - \sqrt{6}$

채점 기준

① 주어진 규칙에 의하여 식을 세울 수 있다.	40%
② $P \triangle Q$ 의 값을 구할 수 있다.	60%

0493 전략 $A, 3A - 5B$ 의 값을 구하여 주어진 식에 대입한다.

풀이 $A = \sqrt{18} - \frac{5}{\sqrt{3}} = 3\sqrt{2} - \frac{5\sqrt{3}}{3} \quad \dots ①$

$$3A - 5B = 3\left(3\sqrt{2} - \frac{5\sqrt{3}}{3}\right) - 5\left(\sqrt{3} + \frac{\sqrt{2}}{5}\right)$$

$$= 9\sqrt{2} - 5\sqrt{3} - 5\sqrt{3} - \sqrt{2} = 8\sqrt{2} - 10\sqrt{3} \quad \dots ②$$

$$\therefore \sqrt{3}A + \frac{1}{\sqrt{2}}(3A - 5B)$$

$$= \sqrt{3}\left(3\sqrt{2} - \frac{5\sqrt{3}}{3}\right) + \frac{1}{\sqrt{2}}(8\sqrt{2} - 10\sqrt{3})$$

$$= 3\sqrt{6} - 5 + 8 - 5\sqrt{6} = 3 - 2\sqrt{6} \quad \dots ③$$

답 $3 - 2\sqrt{6}$

채점 기준

① A 의 분모를 유리화할 수 있다.	20%
② $3A - 5B$ 의 값을 구할 수 있다.	40%
③ $\sqrt{3}A + \frac{1}{\sqrt{2}}(3A - 5B)$ 의 값을 구할 수 있다.	40%

0494 전략 \sqrt{A} 의 정수 부분이 n 이면 $n \leq \sqrt{A} < n+1$ 임을 이용한다.

풀이 $\frac{\sqrt{4n}}{\sqrt{n-3}}$ 의 정수 부분이 5이므로

$$5 \leq \frac{\sqrt{4n}}{\sqrt{n-3}} < 6 \quad \dots ①$$

$$5 \leq \frac{\sqrt{4n}}{\sqrt{n-3}} \text{에서 } 5\sqrt{n-3} \leq \sqrt{4n}$$

$$3\sqrt{n} \leq 15, \sqrt{n} \leq 5 \therefore n \leq 25 \quad \dots ②$$

$$\frac{\sqrt{4n}}{\sqrt{n-3}} < 6 \text{에서 } 2\sqrt{n} < 6\sqrt{n-3} - 18$$

$$4\sqrt{n} > 18, \sqrt{n} > \frac{9}{2}$$

$$\therefore n > \frac{81}{4} \quad \dots ③$$

$$\text{②, ③에서 } \frac{81}{4} < n \leq 25 \quad \dots ④$$

따라서 구하는 자연수 n 은 21, 22, 23, 24, 25의 5개이다.

답 5

채점 기준

① 부등식 $5 \leq \frac{\sqrt{4n}}{\sqrt{n-3}} < 6$ 을 세울 수 있다.	30%
② 부등식의 해를 구할 수 있다.	40%
③ 자연수 n 의 개수를 구할 수 있다.	30%

0495 전략 $x+y, xy$ 의 값을 구한 후, 곱셈 공식의 변형을 이용하여 주어진 식의 값을 구한다.

풀이 $x = \frac{(\sqrt{7} + \sqrt{5})^2}{(\sqrt{7} - \sqrt{5})(\sqrt{7} + \sqrt{5})} = \frac{12 + 2\sqrt{35}}{2} = 6 + \sqrt{35}$

$$y = \frac{(\sqrt{7} - \sqrt{5})^2}{(\sqrt{7} + \sqrt{5})(\sqrt{7} - \sqrt{5})} = \frac{12 - 2\sqrt{35}}{2} = 6 - \sqrt{35} \quad \dots ①$$

따라서 $x+y=12, xy=1$ 이므로 $\dots ②$

$$x^2 - xy + y^2 = (x+y)^2 - 3xy = 12^2 - 3 \times 1 = 141 \quad \dots ③$$

답 141

채점 기준

① x, y 의 분모를 유리화할 수 있다.	40%
② $x+y, xy$ 의 값을 구할 수 있다.	20%
③ $x^2 - xy + y^2$ 의 값을 구할 수 있다.	40%

0496 전략 x 의 값을 $x-a=\sqrt{b}$ 로 변형한 후, 양변을 제곱하여 정리한다.

풀이 $x = (2\sqrt{3} + 1)(\sqrt{3} - 2) = 6 - 3\sqrt{3} - 2$

$$= 4 - 3\sqrt{3} \quad \dots ①$$

$$x - 4 = -3\sqrt{3} \text{이므로 } (x-4)^2 = 27$$

$$x^2 - 8x + 16 = 27, x^2 - 8x = 11 \quad \dots ②$$

$$\therefore x^2 - 8x + 9 = 11 + 9 = 20 \quad \dots ③$$

답 20

채점 기준

① x 의 값을 구할 수 있다.	30%
② x^2-8x 의 값을 구할 수 있다.	50%
③ x^2-8x+9 의 값을 구할 수 있다.	20%

0497 전략 길의 폭을 x m로 놓으면 $2x+\sqrt{2}=2$ 임을 이용하여 x 의 값을 구한다.

풀이 길의 폭을 x m라 하면

$$2x+\sqrt{2}=2 \quad \therefore x=\frac{2-\sqrt{2}}{2} \quad \dots ①$$

따라서 길을 제외한 화단의 넓이는

$$\begin{aligned} & (\sqrt{5}+\sqrt{10}) \times \sqrt{10}-2 \times 2+\sqrt{2}\left(2-\frac{2-\sqrt{2}}{2}\right) \\ & =5\sqrt{2}+10-4+\sqrt{2}+1 \\ & =7+6\sqrt{2}(\text{m}^2) \quad \dots ② \\ & \text{답 } (7+6\sqrt{2})\text{m}^2 \end{aligned}$$

채점 기준

① 길의 폭을 구할 수 있다.	30%
② 길을 제외한 화단의 넓이를 구할 수 있다.	70%

0498 전략 닮은 두 도형의 넓이의 비가 $a:b$ 이면 닮음비는 $\sqrt{a}:\sqrt{b}$ 임을 이용한다.

풀이 두 정사각형 ABFE와 EGHD의 넓이의 비가 $3:2$ 이므로 닮음비는 $\sqrt{3}:\sqrt{2}$... ①

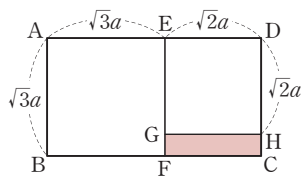
오른쪽 그림과 같이 $\overline{AE}=\sqrt{3}a$, $\overline{DE}=\sqrt{2}a$ 라 하면

$$\begin{aligned} & 2(\sqrt{3}a+\sqrt{3}a+\sqrt{2}a)=40 \\ & (2\sqrt{3}+\sqrt{2})a=20 \\ & \therefore a=\frac{20}{2\sqrt{3}+\sqrt{2}} \\ & =\frac{20(2\sqrt{3}-\sqrt{2})}{(2\sqrt{3}+\sqrt{2})(2\sqrt{3}-\sqrt{2})}=2(2\sqrt{3}-\sqrt{2}) \\ & =4\sqrt{3}-2\sqrt{2} \quad \dots ② \end{aligned}$$

$$\begin{aligned} & \overline{GH}=\sqrt{2}a, \overline{GF}=\sqrt{3}a-\sqrt{2}a \text{이므로 } \square \text{GFCH의 둘레의 길이는} \\ & 2(\sqrt{2}a+\sqrt{3}a-\sqrt{2}a)=2\sqrt{3}a=2\sqrt{3}(4\sqrt{3}-2\sqrt{2}) \\ & =24-4\sqrt{6} \quad \dots ③ \\ & \text{답 } 24-4\sqrt{6} \end{aligned}$$

채점 기준

① 두 정사각형 ABFE와 EGHD의 닮음비를 구할 수 있다.	20%
② a 의 값을 구할 수 있다.	40%
③ \square GFCH의 둘레의 길이를 구할 수 있다.	40%



05 인수분해 공식

0499 답 x^2+3x

0500 답 $x^2+12x+36$

0501 답 $2x^2-x-3$

0502 답 $xy, xy(x+5)$

0503 답 $x^2, x^2(x-y+z)$

0504 답 $2y, 2y(x^2-2)$

0505 답 $2a(2ab-1)$

0506 답 $-5xy^2(1-2xy)$

0507 답 $x(a+2b-5)$

0508 답 $(a+3)(xy-2)$

0509 (주어진 식) $=x(a-b)+y(a-b)$

$= (a-b)(x+y)$ 답 $(a-b)(x+y)$

0510 (주어진 식) $= (a-1)(x-y+2x+y)$

$= 3x(a-1)$ 답 $3x(a-1)$

0511 답 $(a+1)^2$

0512 답 $(2x+1)^2$

0513 답 $(5x+3y)^2$

0514 답 $(a-6)^2$

0515 답 $(4x-3)^2$

0516 답 $(x-\frac{1}{3})^2$

0517 $\square = (\frac{10}{2})^2 = 25$

답 25

0518 $\square = (\frac{8}{2})^2 = 16$

답 16

0519 $\square = (\frac{-1}{2})^2 = \frac{1}{4}$

답 $\frac{1}{4}$

0520 $\square = \pm 2\sqrt{64} = \pm 2 \times 8 = \pm 16$

답 ± 16

0521 $\square = \pm 2\sqrt{49} = \pm 2 \times 7 = \pm 14$

답 ± 14

0522 $\square = \pm 2\sqrt{\frac{1}{25}} = \pm 2 \times \frac{1}{5} = \pm \frac{2}{5}$

답 $\pm \frac{2}{5}$

0523 답 $(x+2)(x-2)$

0524 답 $(5a+b)(5a-b)$

0525 답 $(\frac{1}{2}x+\frac{2}{3}y)(\frac{1}{2}x-\frac{2}{3}y)$

0526 답 $3(y+5)(y-5)$

0527 답 2, 4

0528 답 -1, 5

0529 답 -5, 3

0530 답 -7, -5

0531 답 (가) x (나) -1 (다) $-x$ (라) $-4x$ (마) 1

0532 답 (가) x (나) -2 (다) 12 (라) $-2x$ (마) 2

- 0533** 답 $(x+1)(x+2)$ **0534** 답 $(x-4)(x-3)$
- 0535** 답 $(x+3)(x-8)$ **0536** 답 $(a+3b)(a-2b)$
- 0537** 답 (가) $2x$ (나) 5 (다) $10x$ (라) $-3x$ (마) 5 (바) 2
- 0538** 답 (가) $3x$ (나) -1 (다) 1 (라) $-3x$ (마) 1 (바) 3
- 0539** 답 $(3x+1)(x-2)$ **0540** 답 $(2a+3)(3a+2)$
- 0541** 답 $(x-2y)(3x+5y)$ **0542** 답 $(-5x+2y)(2x-y)$
- 0543** 답 ③
- 0544** 답 ②
- 0545** $-2a^3x+10a^2y=-2a^2(ax-5y)$ 답 ④
- 0546** ④ ㉠의 과정에서 분배법칙이 이용된다. 답 ④
- 0547** ① $ax-ay=a(x-y)$
 ② $4xy+2y^2=2y(2x+y)$
 ③ $3a^2b^2+6ab^2=3ab^2(a+2)$
 ⑤ $ab^2-4a^2b+2ab=ab(b-4a+2)$ 답 ④
- 0548** $a(x-1)+b(1-x)=a(x-1)-b(x-1)$
 $= (a-b)(x-1)$ 답 ③
- 0549** $xy(2x+3y)-xy(x+y)=xy(2x+3y-x-y)$
 $=xy(x+2y)$
 이 상에서 주어진 다항식의 인수는 (㉠), (㉡), (㉢)이다. 답 ②
- 0550** $(x-1)(x+3)-5(x+3)=(x+3)(x-6)$
 이때 두 일차식은 $x+3$, $x-6$ 이므로
 $(x+3)+(x-6)=2x-3$ 답 $2x-3$
- 0551** ⑤ $16x^2-16xy+4y^2=4(4x^2-4xy+y^2)$
 $=4(2x-y)^2$ 답 ⑤
- 0552** $4x^2+12x+9=(2x)^2+2 \times 2x \times 3+3^2$
 $= (2x+3)^2$ 답 ③
- 0553** (㉠) $(x+7)^2$ (㉡) $2(y+1)^2$ (㉢) $5a(x+y)^2$
 이 상에서 완전제곱식으로 인수분해할 수 있는 것은 (㉠), (㉡), (㉢)이다. 답 ②
- 0554** $x(x+a)+25=x^2+ax+25=(x+b)^2$
 $25=b^2$ 이므로 $b=\pm 5$
 $ax=2 \times x \times b$ 이므로 $a=\pm 10$
 $a>0$ 이므로 $a=10$, $b=5$
 $\therefore a+b=15$ 답 15

- 0555** $ax^2=(3x)^2=9x^2 \quad \therefore a=9$... ①
 $24x=2 \times 3x \times c$ 이므로 $c=4$... ②
 $\therefore b=c^2=4^2=16$... ③
 $\therefore a+b-c=21$... ④
 답 21

채점 기준

① a 의 값을 구할 수 있다.	30%
② c 의 값을 구할 수 있다.	30%
③ b 의 값을 구할 수 있다.	30%
④ $a+b-c$ 의 값을 구할 수 있다.	10%

- 0556** $25x^2+20x+a=(5x)^2+2 \times 5x \times 2+a$
 $\therefore a=2^2=4$
 $b=2\sqrt{64}=16$ 이므로 $ab=64$ 답 64
- 0557** $ax^2+12x+9=(\sqrt{ax})^2+2 \times \sqrt{ax} \times 3+3^2$ 이므로
 $\sqrt{a}=2 \quad \therefore a=4$ 답 ②
- 0558** ① $A=\left(\frac{-6}{2}\right)^2=9$
 ② $A=\pm 2\sqrt{25}=\pm 10 \quad \therefore A=10 (\because A>0)$
 ③ $A=\left(\frac{1}{2} \times \frac{1}{2}\right)^2=\frac{1}{16}$
 ④ $4x^2+Ax+1=(2x \pm 1)^2$ 이므로
 $Ax=\pm 2 \times 2x \times 1=\pm 4x$
 $\therefore A=4 (\because A>0)$
 ⑤ $\frac{1}{16}x^2-Ax+\frac{1}{9}=\left(\frac{1}{4}x \pm \frac{1}{3}\right)^2$ 이므로
 $-Ax=\pm 2 \times \frac{1}{4}x \times \frac{1}{3}=\pm \frac{1}{6}x$
 $\therefore A=\frac{1}{6} (\because A>0)$
 이 상에서 A 의 값이 가장 작은 것은 ③이다. 답 ③
- 0559** $(x+3)(x-7)+k=x^2-4x-21+k$ 에서
 $-21+k=\left(\frac{-4}{2}\right)^2=4$
 $\therefore k=25$ 답 ④
- 0560** $x^2+(2a-8)xy+16y^2=(x \pm 4y)^2$... ①
 이때 $2a-8=\pm 8$ 이므로 $a=8 (\because a>0)$... ②
 답 8

채점 기준

① 완전제곱식을 만들 수 있다.	40%
② 양수 a 의 값을 구할 수 있다.	60%

- 0561** $3x^2-8x+A=3\left(x^2-\frac{8}{3}x+\frac{A}{3}\right)$ 이므로
 $\frac{A}{3}=\left\{\frac{1}{2} \times \left(-\frac{8}{3}\right)\right\}^2=\frac{16}{9}$
 $\therefore A=\frac{16}{3}$ 답 $\frac{16}{3}$

0562 $-2 < x < 2$ 이므로 $x+2 > 0, x-2 < 0$

$$\therefore (\text{주어진 식}) = \sqrt{(x+2)^2} - \sqrt{(x-2)^2} \\ = (x+2) + (x-2) = 2x \quad \text{답 ⑤}$$

0563 $-1 < a < 3$ 이므로 $a-3 < 0, a+1 > 0$

$$\therefore (\text{주어진 식}) = \sqrt{(a-3)^2} + \sqrt{(a+1)^2} \\ = -(a-3) + (a+1) = 4 \quad \text{답 ③}$$

0564 $x > 0, y < 0$ 이므로 $x-y > 0$

$$\therefore (\text{주어진 식}) = \sqrt{x^2} - \sqrt{y^2} + \sqrt{(x-y)^2} \\ = x - (-y) + (x-y) \\ = 2x \quad \text{답 } 2x$$

0565 $0 < a < b$ 이므로 $a > 0, a+b > 0, a-b < 0$... ①

$$\therefore (\text{주어진 식}) = \sqrt{a^2} + \sqrt{(a+b)^2} + \sqrt{(a-b)^2} \quad \dots ② \\ = a + (a+b) - (a-b) \quad \dots ③ \\ = a+2b \quad \text{답 } a+2b$$

채점 기준

① $a, a+b, a-b$ 의 부호를 알 수 있다.	20%
② 근호 안의 식을 인수분해할 수 있다.	40%
③ 식을 간단히 할 수 있다.	40%

0566 $0 < 3x < 1$, 즉 $0 < x < \frac{1}{3}$ 이므로

$$x - \frac{1}{3} < 0, x + \frac{1}{3} > 0 \\ \therefore (\text{주어진 식}) = \sqrt{\left(x - \frac{1}{3}\right)^2} - \sqrt{\left(x + \frac{1}{3}\right)^2} \\ = -\left(x - \frac{1}{3}\right) - \left(x + \frac{1}{3}\right) \\ = -2x \quad \text{답 ①}$$

0567 $a^3 - a = a(a^2 - 1) = a(a+1)(a-1)$... ①, ③

0568 $9x^2 - 49 = (3x)^2 - 7^2 = (3x+7)(3x-7)$
따라서 $A=3, B=7$ 이므로 $AB=21$... 21

0569 $-12x^2 + 27y^2 = -3(4x^2 - 9y^2)$
 $= -3\{(2x)^2 - (3y)^2\}$
 $= -3(2x+3y)(2x-3y)$
따라서 $a=-3, b=2, c=3$ 이므로
 $a+b+c=2$... ④

0570 ① $-x^2 - 9 = -(x^2 + 9)$

② $x^2 - \frac{1}{x^2} = \left(x + \frac{1}{x}\right)\left(x - \frac{1}{x}\right)$

③ $-75x^2 + 27y^2 = -3(25x^2 - 9y^2)$
 $= -3(5x+3y)(5x-3y)$

④ $a^4 - 1 = (a^2 + 1)(a^2 - 1)$
 $= (a^2 + 1)(a+1)(a-1)$

⑤ $xy^2 - 4x = x(y^2 - 4)$
 $= x(y+2)(y-2)$... ⑤

참고 다항식을 인수분해할 때에는 먼저 공통인수로 묶어 낸 후 유리수의 범위에서 더 이상 인수분해할 수 없을 때까지 계속한다.

0571 $(a-b)x^2 + (b-a)y^2 = (a-b)x^2 - (a-b)y^2$
 $= (a-b)(x^2 - y^2)$
 $= (a-b)(x+y)(x-y)$... ④

0572 $x^8 - 1 = (x^4 + 1)(x^4 - 1)$
 $= (x^4 + 1)(x^2 + 1)(x^2 - 1)$
 $= (x^4 + 1)(x^2 + 1)(x+1)(x-1)$... ④

0573 $x^2 + ax - 24 = (x+3)(x-b) = x^2 + (3-b)x - 3b$ 이므로
 $a = 3-b, -24 = -3b$
 $\therefore a = -5, b = 8 \quad \therefore a-b = -13$... ④

0574 $x^2 - 3xy - 10y^2 = (x+2y)(x-5y)$... ④

0575 $(x+1)(x+2) - 6 = x^2 + 3x + 2 - 6$
 $= x^2 + 3x - 4$
 $= (x+4)(x-1)$... ④

0576 ① $x^2 - 3x - 4 = (x+1)(x-4)$
② $x^2 - 5x + 4 = (x-1)(x-4)$
③ $x^2 - 9x + 20 = (x-4)(x-5)$
④ $x^2 + x - 12 = (x+4)(x-3)$
⑤ $x^2 + 2x - 24 = (x+6)(x-4)$... ④

0577 $(x+4)(x-2) - 4x = x^2 + 2x - 8 - 4x = x^2 - 2x - 8$
 $= (x+2)(x-4)$... ①

이때 두 일차식은 $x+2, x-4$ 이므로
 $(x+2) + (x-4) = 2x-2$... ②
... 2x-2

채점 기준

① 주어진 식을 인수분해할 수 있다.	70%
② 두 일차식의 합을 구할 수 있다.	30%

0578 곱이 12인 두 정수는
 $-1, -12$ 또는 $-2, -6$ 또는 $-3, -4$
또는 $3, 4$ 또는 $2, 6$ 또는 $1, 12$
이므로 A 의 값이 될 수 있는 것은 $-13, -8, -7, 7, 8, 13$ 이다.
따라서 A 의 값이 될 수 없는 것은 ④이다. ... ④

0579 $ax^2 + bx - 10 = (3x+5)(x+c) = 3x^2 + (3c+5)x + 5c$
이므로 $a=3, b=3c+5, -10=5c$
 $\therefore a=3, b=-1, c=-2$
 $\therefore a+b+c=0$... ③

0580 $6x^2 - 11x + 3 = (2x - 3)(3x - 1)$ 답 ②, ③

0581 $8x^2 + 10x - 3 = (2x + 3)(4x - 1)$ 이므로
 $a = 3, b = -1 \quad \therefore a - b = 4$ 답 ④

0582 $3x^2 - 10xy - 8y^2 = (3x + 2y)(x - 4y)$ 이므로 ... ①
 $a = 3, b = 2, c = 1, d = -4$
 또는 $a = 1, b = -4, c = 3, d = 2$... ②
 $\therefore a + b + c + d = 2$... ③
 답 2

채점 기준

① 주어진 식을 인수분해할 수 있다.	50%
② a, b, c, d 의 값을 구할 수 있다.	30%
③ $a + b + c + d$ 의 값을 구할 수 있다.	20%

0583 $7x^2 - 3x - 4 = (x - 1)(7x + 4)$
 이때 두 일차식은 $x - 1, 7x + 4$ 이므로
 $(x - 1) + (7x + 4) = 8x + 3$ 답 $8x + 3$

0584 $5x^2 + (2a - 5)x - 14 = (x - 2)(5x + b)$
 $= 5x^2 + (b - 10)x - 2b$
 이므로 $2a - 5 = b - 10, -14 = -2b$... ①
 $\therefore a = 1, b = 7$... ②
 $\therefore a + b = 8$... ③
 답 8

채점 기준

① a, b 에 대한 식을 세울 수 있다.	60%
② a, b 의 값을 구할 수 있다.	30%
③ $a + b$ 의 값을 구할 수 있다.	10%

0585 ④ $4x^2 + 4x - 15 = (2x - 3)(2x + 5)$ 답 ④

0586 ①, ②, ③, ④ 3 ⑤ 4 답 ⑤

0587 $x^2 - 4x - 12 = (x + 2)(x - 6) \quad \therefore a = 2$... ①
 $x^2 - 169 = (x + 13)(x - 13) \quad \therefore b = 13$... ②
 $6x^2 - 5x - 6 = (2x - 3)(3x + 2) \quad \therefore c = 2$... ③
 $\therefore a + b + c = 17$... ④
 답 17

채점 기준

① a 의 값을 구할 수 있다.	30%
② b 의 값을 구할 수 있다.	30%
③ c 의 값을 구할 수 있다.	30%
④ $a + b + c$ 의 값을 구할 수 있다.	10%

0588 $12x^2 - 3 = 3(4x^2 - 1) = 3(2x + 1)(2x - 1)$
 $2x^2 - 9x - 5 = (2x + 1)(x - 5)$ 답 ④

0589 $a^2b - ab^2 = ab(a - b)$
 $-2a + 2b = -2(a - b)$ 답 ②

0590 ① $(x + 1)(x - 1)$ ② $2x(x - 1)$
 ③ $(x + 7)(x - 1)$ ④ $(x + 1)(3x - 2)$
 ⑤ $(5x + 1)(x - 1)$ 답 ④

0591 $12x^2 - ax - 12 = (4x + 3)(3x + m)$ 으로 놓으면
 $4m + 9 = -a, 3m = -12$
 $\therefore m = -4, a = 7$ 답 ③

0592 $5x^2 + ax - 12 = (x - 6)(5x + m)$ 으로 놓으면
 $m - 30 = a, -6m = -12$
 $\therefore m = 2, a = -28$ 답 -28

0593 $x^2 - 5x + k = (x - 1)(x + m)$ 으로 놓으면
 $m - 1 = -5, -m = k \quad \therefore m = -4, k = 4$ 답 ⑤

0594 $x^2 + ax + 40 = (x - 4)(x + m)$ 으로 놓으면
 $m - 4 = a, -4m = 40 \quad \therefore m = -10, a = -14$... ①
 $3x^2 - 10x + b = (x - 4)(3x + n)$ 으로 놓으면
 $n - 12 = -10, -4n = b \quad \therefore n = 2, b = -8$... ②
 $\therefore a - b = -6$... ③
 답 -6

채점 기준

① a 의 값을 구할 수 있다.	40%
② b 의 값을 구할 수 있다.	40%
③ $a - b$ 의 값을 구할 수 있다.	20%

0595 $x^2 + 5x + 4 = (x + 1)(x + 4)$ 이므로 $x^2 + ax - 5$ 는 $x + 1$
 또는 $x + 4$ 를 인수로 갖는다.
 (i) $x^2 + ax - 5 = (x + 1)(x + m)$ 으로 놓으면
 $m + 1 = a, m = -5 \quad \therefore a = -4$
 (ii) $x^2 + ax - 5 = (x + 4)(x + n)$ 으로 놓으면
 $n + 4 = a, 4n = -5 \quad \therefore n = -\frac{5}{4}, a = \frac{11}{4}$
 (i), (ii)에서 a 는 정수이므로 $a = -4$ 답 ①

0596 원호: $x^2 + 7x - 18 \rightarrow$ 상수항: -18
 지운: $x^2 + 3x + 2 \rightarrow x$ 의 계수: 3
 따라서 이 이차식은 $x^2 + 3x - 18 = (x + 6)(x - 3)$ 답 ②

0597 (1) 영채: $x^2 + 9x + 8 \rightarrow$ 상수항: 8
 지영: $x^2 - 6x - 16 \rightarrow x$ 의 계수: -6
 따라서 이 이차식은 $x^2 - 6x + 8$... ①
 (2) $x^2 - 6x + 8 = (x - 2)(x - 4)$... ②
 답 (1) $x^2 - 6x + 8$ (2) $(x - 2)(x - 4)$

채점 기준

① 이차식을 구할 수 있다.	60%
② 이 이차식을 바르게 인수분해할 수 있다.	40%

0598 은주: $4x^2 - 7x - 15 \rightarrow x$ 의 계수: -7 , 상수항: -15
 유민: $2x^2 + x - 15 \rightarrow x^2$ 의 계수: 2 , 상수항: -15

따라서 이 이차식은

$$2x^2 - 7x - 15 = (2x+3)(x-5) \quad \text{답 } (2x+3)(x-5)$$

0599 (넓이) $= x^2 + 4x + 3 = (x+1)(x+3)$

따라서 새로운 직사각형의 가로, 세로의 길이의 합은

$$(x+1) + (x+3) = 2x+4 \quad \text{답 } ⑤$$

0600 (넓이) $= x^2 + 2x + 1 = (x+1)^2$

따라서 구하는 정사각형의 한 변의 길이는 $x+1$ 이다. 답 ②

0601 [그림 1]의 도형의 넓이는 $x^2 - 1$

[그림 2]의 도형은 가로의 길이가 $x+1$, 세로의 길이가 $x-1$ 인 직사각형이므로 그 넓이는 $(x+1)(x-1)$

이때 두 도형의 넓이가 같으므로

$$x^2 - 1 = (x+1)(x-1) \quad \text{답 } ③$$

0602 (넓이) $= 3x^2 + 5x + 2 = (x+1)(3x+2) \quad \dots ①$

따라서 새로운 직사각형의 가로, 세로의 길이는 $x+1$, $3x+2$ 이므로 구하는 둘레의 길이는

$$2\{(x+1) + (3x+2)\} = 8x+6 \quad \dots ②$$

답 8x+6

채점 기준

① 넓이를 인수분해할 수 있다.	50%
② 둘레의 길이를 구할 수 있다.	50%

참고 (가로의 길이) $= x+1$, (세로의 길이) $= 3x+2$
또는 (가로의 길이) $= 3x+2$, (세로의 길이) $= x+1$

0603 $49x^2 - 25 = (7x+5)(7x-5)$

따라서 세로의 길이는 $7x+5$ 이므로 둘레의 길이는

$$2\{(7x+5) + (7x-5)\} = 28x \quad \text{답 } 28x$$

0604 $3x^2 - 48 = 3(x+4)(x-4)$ 이므로 직육면체의 밑면의 가로의 길이는

$$(x+4)\text{cm} \quad \text{답 } ②$$

참고 이 직육면체의 밑면의 세로의 길이는 $(x-4)\text{cm}$ 이다.

0605 사다리꼴의 넓이가 $2a^2 + 7a + 6$ 이므로

$$\frac{1}{2} \times \{(a-1) + (a+5)\} \times (\text{높이}) = 2a^2 + 7a + 6 \quad \dots ①$$

$$(a+2) \times (\text{높이}) = (a+2)(2a+3) \quad \dots ②$$

$$\therefore (\text{높이}) = 2a+3 \quad \dots ③$$

답 2a+3

채점 기준

① 식을 세울 수 있다.	30%
② 넓이를 인수분해할 수 있다.	50%
③ 높이를 구할 수 있다.	20%

0606 주어진 도형의 넓이는

$$(x+2)^2 - 3^2 = x^2 + 4x - 5 = (x+5)(x-1)$$

따라서 주어진 도형과 넓이가 같은 직사각형의 세로의 길이는

$$x+5 \quad \text{답 } x+5$$

0607 잘라낸 작은 원의 지름의 길이는

$$19r - 2 \times 4r = 11r(\text{cm})$$

따라서 색칠한 부분의 넓이는

$$\begin{aligned} \pi \left(\frac{19}{2}r \right)^2 - \pi \left(\frac{11}{2}r \right)^2 &= \pi \left\{ \left(\frac{19}{2}r \right)^2 - \left(\frac{11}{2}r \right)^2 \right\} \\ &= \pi \left(\frac{19}{2}r + \frac{11}{2}r \right) \left(\frac{19}{2}r - \frac{11}{2}r \right) \\ &= \pi \times 15r \times 4r \\ &= 60\pi r^2(\text{cm}^2) \end{aligned} \quad \text{답 } ⑤$$

0608 둘레의 길이의 합이 100이므로

$$4a + 4b = 100 \quad \therefore a + b = 25$$

넓이의 차는 150이므로 $a^2 - b^2 = 150$

$$(a+b)(a-b) = 150, \quad 25(a-b) = 150$$

$$\therefore a-b=6$$

따라서 두 정사각형의 둘레의 길이의 차는

$$4a - 4b = 4(a-b) = 4 \times 6 = 24 \quad \text{답 } 24$$

0609 **전략** $a^2 \pm 2ab + b^2 = (a \pm b)^2$ (복호동순)임을 이용한다.

풀이 (가) $x^2 + 4x + 4 = (x+2)^2 \Rightarrow x+2$

(나) $9x^2 - 6x + 1 = (3x-1)^2 \Rightarrow 3x-1$

따라서 왼쪽의 두 다항식의 합을 인수분해하면 오른쪽 다항식의 제곱이 된다.

(다)에서

$$\begin{aligned} (x^2 - 15x + 4) + (3x^2 + 3x + 5) &= 4x^2 - 12x + 9 \\ &= (2x-3)^2 \end{aligned}$$

$\therefore \square = 2x-3 \quad \text{답 } ①$

0610 **전략** $x^2 - ax + b$ 가 완전제곱식이 되려면 $\left(-\frac{a}{2}\right)^2 = b$ 임을 이용한다.

풀이 $x^2 - ax + b$ 가 완전제곱식이 되려면

$$\left(-\frac{a}{2}\right)^2 = b, \quad \text{즉 } a^2 = 4b$$

이를 만족시키는 a, b 의 순서쌍 (a, b) 는

$$(2, 1), (6, 9) \text{의 2가지} \quad \text{답 } ②$$

0611 **전략** $a^2 - b^2 = (a+b)(a-b)$ 임을 이용한다.

풀이 $8n^3 - 2n = 2n(4n^2 - 1)$

$$= (2n-1)2n(2n+1)$$

이므로 $8n^3 - 2n$ 은 연속된 세 자연수의 곱이다.

이때 연속된 세 자연수의 곱은 2의 배수인 동시에 3의 배수이므로 $8n^3 - 2n$ 은 6의 배수이다. 답 ②

0612 **전략** a, b 가 두 자리 자연수임에 유의한다.

풀이 $\sqrt{a^2-39}=b$ 의 양변을 제곱하면
 $a^2-39=b^2, \quad a^2-b^2=39$
 $\therefore (a+b)(a-b)=39$

a, b 는 자연수이므로

$$\begin{cases} a+b=39 \\ a-b=1 \end{cases} \text{ 또는 } \begin{cases} a+b=13 \\ a-b=3 \end{cases}$$

또 a, b 는 두 자리 자연수이므로 $a=20, b=19$

$$\therefore ab=380 \quad \text{답 380}$$

참고 $a+b=13, a-b=3$ 이면 $a=8, b=5$ 로 a, b 가 두 자리 자연수가 아니다.

0613 전략 주어진 약속에 따라 식을 구하여 전개한 후, 인수분해한다.

풀이 $\langle\langle 2x, 4, 1 \rangle\rangle - \langle\langle 4, -x, 2x \rangle\rangle$
 $= (2x-4)(2x+1) - (4+x)(4+2x)$
 $= 4x^2 - 6x - 4 - (16 + 12x + 2x^2)$
 $= 2x^2 - 18x - 20$
 $= 2(x^2 - 9x - 10)$
 $= 2(x+1)(x-10) \quad \text{답 } 2(x+1)(x-10)$

0614 전략 곱이 21인 두 정수를 찾아 a 의 최댓값과 최솟값을 구한다.

풀이 $x^2+ax+21=(x+b)(x+c)$ 에서
 $a=b+c, 21=bc$
 곱이 21이 되는 두 정수 b, c 는
 1과 21, -1과 -21, 3과 7, -3과 -7
 $\therefore (a \text{의 최댓값}) = 1+21=22,$
 $(a \text{의 최솟값}) = -1+(-21)=-22$
답 최댓값: 22, 최솟값: -22

0615 전략 $x^2-3x-k=(x+a)(x+b)(a>b)$ 로 인수분해한다.

풀이 $x^2-3x-k=(x+a)(x+b)(a>b)$ 라 하면
 $a+b=-3, ab=-k$
 이때 $10<k<60$ 에서 $ab<0$ 이므로
 $a>0, b<0, -60<ab<-10$
 이를 만족시키는 정수 a, b 의 순서쌍 (a, b) 는
 $(3, -6), (4, -7), (5, -8), (6, -9)$
 따라서 k 는 18, 28, 40, 54의 4개이다. **답 4**

0616 전략 인수분해 공식을 이용한다.

풀이 ② $100 - \frac{1}{49}x^2 = \left(10 + \frac{1}{7}x\right)\left(10 - \frac{1}{7}x\right)$
 ③ $\frac{1}{4}x^2 + 2x + 4 = \left(\frac{1}{2}x + 2\right)^2$
 ④ $x^2 + \frac{5}{3}x - \frac{2}{3} = \frac{1}{3}(3x^2 + 5x - 2) = \frac{1}{3}(x+2)(3x-1)$
 ⑤ $10x^2 - 3x - 1 = (5x+1)(2x-1) \quad \text{답 ①}$

0617 전략 $mx+n$ 이 이차식 ax^2+bx+c 의 인수이면
 $ax^2+bx+c=(mx+n)(\square x+\triangle)$ 로 놓는다.

풀이 $2x^2+3xy-2y^2=(x+2y)(2x-y)$ 이므로 $b=2$

따라서 $x+2y$ 가 공통인수이므로

$$4x^2+5xy+ay^2=(x+2y)(4x+my)$$

로 놓으면 $m+8=5, 2m=a$

$$\therefore m=-3, a=-6$$

$$\therefore ab=-12 \quad \text{답 ①}$$

0618 전략 실수 A, B 에 대하여 $(A-B)^2=0$ 이면 $A-B=0$ 임을 이용한다.

풀이 $\frac{1}{9}x^2 - \frac{1}{3}xy + \frac{1}{4}y^2 = 0$ 에서 $\left(\frac{1}{3}x - \frac{1}{2}y\right)^2 = 0$

$$\frac{1}{3}x - \frac{1}{2}y = 0 \quad \therefore x = \frac{3}{2}y \quad \dots ①$$

$$\therefore \frac{y}{x} = y \times \frac{2}{3y} = \frac{2}{3} \quad \dots ②$$

$$\text{답 } \frac{2}{3}$$

채점 기준

① x 를 y 에 대한 식으로 나타낼 수 있다.	50%
② $\frac{y}{x}$ 의 값을 구할 수 있다.	50%

0619 전략 $\sqrt{a^2} = \begin{cases} a & (a \geq 0) \\ -a & (a < 0) \end{cases}$ 임을 이용하여 주어진 식을 간단히 한다.

풀이 $0 < x < 1$ 이므로 $\frac{1}{x} > 1$

$$\therefore x - \frac{1}{x} < 0, x + \frac{1}{x} > 0 \quad \dots ①$$

$$\therefore (\text{주어진 식}) = \sqrt{\frac{1}{x^2}} + \sqrt{\left(x - \frac{1}{x}\right)^2} + \sqrt{\left(x + \frac{1}{x}\right)^2} \quad \dots ②$$

$$= \frac{1}{x} - \left(x - \frac{1}{x}\right) + \left(x + \frac{1}{x}\right) = \frac{3}{x} \quad \dots ③$$

$$\text{답 } \frac{3}{x}$$

채점 기준

① $\frac{1}{x}, x - \frac{1}{x}, x + \frac{1}{x}$ 의 부호를 알 수 있다.	30%
② 근호 안의 식을 인수분해할 수 있다.	30%
③ 식을 간단히 할 수 있다.	40%

0620 전략 $a^2-b^2=(a+b)(a-b)$ 를 이용하여 $f(x)$ 를 인수분해한다.

풀이 $f(x) = 1 - \frac{1}{x^2} = \left(1 - \frac{1}{x}\right)\left(1 + \frac{1}{x}\right)$ 이므로 $\dots ①$

$$(\text{주어진 식}) = \left(1 - \frac{1}{2}\right)\left(1 + \frac{1}{2}\right) \times \left(1 - \frac{1}{3}\right)\left(1 + \frac{1}{3}\right)$$

$$\times \dots \times \left(1 - \frac{1}{9}\right)\left(1 + \frac{1}{9}\right)$$

$$= \left(\frac{1}{2} \times \frac{3}{2}\right) \times \left(\frac{2}{3} \times \frac{4}{3}\right) \times \dots \times \left(\frac{8}{9} \times \frac{10}{9}\right)$$

$$= \frac{1}{2} \times \frac{10}{9} = \frac{5}{9} \quad \dots ②$$

따라서 $a=9, b=5$ 이므로
 $a+b=14$

... ③

... ④

답 14

채점 기준

① $f(x)$ 를 인수분해할 수 있다.	30%
② $f(2) \times f(3) \times \dots \times f(9)$ 의 값을 구할 수 있다.	50%
③ a, b 의 값을 구할 수 있다.	10%
④ $a+b$ 의 값을 구할 수 있다.	10%

0621 전략 자연수 A, B 에 대하여 $A \times B = (\text{소수})$ 이라면 $A=1$ 또는 $B=1$ 이어야 한다.

풀이 $n^2 + 8n - 48 = (n+12)(n-4)$

... ①

따라서 $n^2 + 8n - 48$ 이 소수가 되려면

$$n+12=1 \text{ 또는 } n-4=1$$

... ②

n 은 자연수이므로 $n=5$

... ③

답 5

채점 기준

① 주어진 식을 인수분해할 수 있다.	40%
② 소수가 되도록 하는 조건을 구할 수 있다.	40%
③ n 의 값을 구할 수 있다.	20%



1보다 큰 자연수 중에서 1과 그 자신만을 약수로 갖는 수를 소수라 한다.

0622 전략 도형 A 의 가로 길이가 $x+7$ 임을 이용하여 상수 a 의 값을 구한다.

풀이 $x^2 + 10x + a = (x+7)(x+b)$ 로 놓으면

$$7+b=10, 7b=a$$

$$\therefore a=21, b=3$$

... ①

따라서 도형 A 의 둘레의 길이는

$$2\{(x+3) + (x+7)\} = 4x+20 = 4(x+5)$$

... ②

즉 도형 B 는 한 변의 길이가 $x+5$ 인 정사각형이므로 구하는 넓이는 $(x+5)^2 = x^2 + 10x + 25$

... ③

답 $x^2 + 10x + 25$

채점 기준

① a 의 값을 구할 수 있다.	40%
② 도형 A 의 둘레의 길이를 구할 수 있다.	30%
③ 도형 B 의 넓이를 구할 수 있다.	30%

06 인수분해 공식의 활용

0623 (주어진 식) $= y(x^2 - 8x + 16) = y(x-4)^2$ 답 $y(x-4)^2$

0624 (주어진 식) $= x^2(x^2 - 4) = x^2(x+2)(x-2)$
 답 $x^2(x+2)(x-2)$

0625 (주어진 식) $= 2a(a^2 + 2a - 3) = 2a(a+3)(a-1)$
 답 $2a(a+3)(a-1)$

0626 $x+1=A$ 로 치환하면
 (주어진 식) $= A^2 + 16A + 64 = (A+8)^2 = (x+9)^2$
 답 $(x+9)^2$

0627 $a-b=A$ 로 치환하면
 (주어진 식) $= A^2 - 4A + 4 = (A-2)^2 = (a-b-2)^2$
 답 $(a-b-2)^2$

0628 $a+2=A$ 로 치환하면
 (주어진 식) $= A^2 - 9 = (A+3)(A-3) = (a+5)(a-1)$
 답 $(a+5)(a-1)$

0629 $2x+5=A$ 로 치환하면
 (주어진 식) $= A(A+2) - 3 = A^2 + 2A - 3$
 $= (A-1)(A+3) = (2x+4)(2x+8)$
 $= 4(x+2)(x+4)$ 답 $4(x+2)(x+4)$

0630 답 $y-1$ **0631** 답 $a+1$

0632 답 $b-3$ **0633** 답 $x+2$

0634 답 $a+7$ **0635** 답 $x-3$

0636 (주어진 식) $= (x+y)(x-y) + (x-y)$
 $= (x-y)(x+y+1)$ 답 $(x-y)(x+y+1)$

0637 (주어진 식) $= (x-y)^2 - 2^2 = (x-y+2)(x-y-2)$
 답 $(x-y+2)(x-y-2)$

0638 $17 \times 67 - 17 \times 47 = 17 \times (67 - 47) = 17 \times 20 = 340$
 답 340

0639 $95^2 + 10 \times 95 + 5^2 = (95+5)^2 = 10000$ 답 10000

0640 $102^2 - 4 \times 102 + 4 = (102-2)^2 = 10000$ 답 10000

0641 $100^2 - 99^2 = (100+99)(100-99) = 199$ 답 199

0642 $x^2 - 4x + 4 = (x-2)^2 = (52-2)^2 = 2500$ 답 2500

0643 $x^2 + 2xy + y^2 = (x+y)^2 = (6.4+3.6)^2 = 100$ 답 100

$$\begin{aligned} 0644 \quad \sqrt{a^2-b^2} &= \sqrt{(a+b)(a-b)} \\ &= \sqrt{(14.5+10.5)(14.5-10.5)} \\ &= \sqrt{25 \times 4} = \sqrt{100} = 10 \end{aligned} \quad \text{답 10}$$

$$\begin{aligned} 0645 \quad a^2+6a-16 &= (a+8)(a-2) = (22+8)(22-2) \\ &= 30 \times 20 = 600 \end{aligned} \quad \text{답 600}$$

$$\begin{aligned} 0646 \quad (\text{주어진 식}) &= x^2(x-1) - 9(x-1) = (x-1)(x^2-9) \\ &= (x-1)(x+3)(x-3) \end{aligned} \quad \text{답 ⑤}$$

$$0647 \quad (\text{주어진 식}) = 2ab(a^2-2ab+b^2) = 2ab(a-b)^2 \quad \text{답 ④}$$

$$\begin{aligned} 0648 \quad (\text{주어진 식}) &= (x+y)(4x^2-5xy+y^2) \\ &= (x+y)(x-y)(4x-y) \end{aligned} \quad \text{답 ①, ②}$$

$$\begin{aligned} 0649 \quad (\text{주어진 식}) &= x^2(y+2) - 4(y+2) = (y+2)(x^2-4) \\ &= (x+2)(x-2)(y+2) \\ \therefore abc &= 2 \times (-2) \times 2 = -8 \end{aligned} \quad \text{답 -8}$$

$$\begin{aligned} 0650 \quad (\text{주어진 식}) &= (2x-1)(y^2+3y-10) \\ &= (2x-1)(y+5)(y-2) \end{aligned} \quad \text{답 ②, ③}$$

$$\begin{aligned} 0651 \quad A &= -(a-b) + a(a-b) - b(a-b) \\ &= (a-b)(a-b-1) \\ B &= (a+2)(a^2-b^2) = (a+2)(a+b)(a-b) \end{aligned}$$

따라서 두 다항식의 공통인수는 $a-b$ 이다. 답 ③

$$\begin{aligned} 0652 \quad 2x+1 &= A \text{로 치환하면} \\ (\text{좌변}) &= A^2-6A+8 = (A-2)(A-4) \\ &= (2x-1)(2x-3) \\ \therefore a+b &= -1 + (-3) = -4 \end{aligned} \quad \text{답 ②}$$

$$\begin{aligned} 0653 \quad x-5 &= A \text{로 치환하면} \\ A^2-7A+12 &= (A-3)(A-4) = (x-8)(x-9) \end{aligned}$$

따라서 두 일차식의 합은 $(x-8) + (x-9) = 2x-17$ 답 $2x-17$

$$\begin{aligned} 0654 \quad a+b &= A \text{로 치환하면} \\ (\text{주어진 식}) &= A^2+3Ac+2c^2 = (A+c)(A+2c) \\ &= (a+b+c)(a+b+2c) \end{aligned} \quad \text{답 ①}$$

$$\begin{aligned} 0655 \quad x-3y &= A \text{로 치환하면} \\ (\text{주어진 식}) &= 4(x-3y)^2 - (x-3y) - 3 \\ &= 4A^2-A-3 = (4A+3)(A-1) \\ &= (4x-12y+3)(x-3y-1) \end{aligned} \quad \dots ①$$

따라서 $a=-12, b=3, c=-3, d=-1$ 이므로 $abcd = -12 \times 3 \times (-3) \times (-1) = -108$... ②

$abcd = -12 \times 3 \times (-3) \times (-1) = -108$... ③

답 -108

채점 기준

① 주어진 식을 인수분해할 수 있다.	60%
② a, b, c, d 의 값을 구할 수 있다.	30%
③ $abcd$ 의 값을 구할 수 있다.	10%

$$\begin{aligned} 0656 \quad x^2+2x &= A \text{로 치환하면} \\ (\text{주어진 식}) &= 2A^2-5A-3 = (A-3)(2A+1) \\ &= (x^2+2x-3)(2x^2+4x+1) \\ &= (x+3)(x-1)(2x^2+4x+1) \end{aligned} \quad \text{답 ②}$$

$$\begin{aligned} 0657 \quad x-y &= A \text{로 치환하면} \\ (\text{주어진 식}) &= 2A(A+1) - 24 = 2A^2+2A-24 \\ &= 2(A^2+A-12) = 2(A-3)(A+4) \\ &= 2(x-y-3)(x-y+4) \end{aligned} \quad \text{답 ④}$$

$$\begin{aligned} 0658 \quad 2a+3b &= A \text{로 치환하면} \\ (\text{주어진 식}) &= A^2-10(A-2)+5 = A^2-10A+25 \\ &= (A-5)^2 = (2a+3b-5)^2 \end{aligned} \quad \text{답 ①}$$

$$\begin{aligned} 0659 \quad a+3 &= A \text{로 치환하면} \\ (\text{주어진 식}) &= (A-b)(A+b) - 3b^2 = A^2-4b^2 \\ &= (A+2b)(A-2b) \\ &= (a+3+2b)(a+3-2b) \end{aligned} \quad \dots ①$$

따라서 두 일차식의 합은 $(a+3+2b) + (a+3-2b) = 2a+6$... ②

답 $2a+6$

채점 기준

① 주어진 식을 인수분해할 수 있다.	70%
② 두 일차식의 합을 구할 수 있다.	30%

$$\begin{aligned} 0660 \quad 3x-y &= A \text{로 치환하면} \\ (\text{주어진 식}) &= A(A-8z) - 20z^2 = A^2-8Az-20z^2 \\ &= (A-10z)(A+2z) \\ &= (3x-y-10z)(3x-y+2z) \\ \therefore a+b+c+d &= -1 + (-10) + 3 + 2 = -6 \end{aligned} \quad \text{답 -6}$$

$$\begin{aligned} 0661 \quad x^2-x &= A \text{로 치환하면} \\ (\text{주어진 식}) &= (A-5)(A-9) - 21 = A^2-14A+24 \\ &= (A-2)(A-12) = (x^2-x-2)(x^2-x-12) \\ &= (x+1)(x-2)(x+3)(x-4) \end{aligned} \quad \text{답 ②, ④}$$

$$\begin{aligned} 0662 \quad a-1 &= A, b-1 = B \text{로 치환하면} \\ (\text{주어진 식}) &= A^2-B^2 = (A+B)(A-B) \\ &= \{(a-1) + (b-1)\} \{(a-1) - (b-1)\} \\ &= (a+b-2)(a-b) \end{aligned} \quad \text{답 ①, ⑤}$$

$$\begin{aligned} 0663 \quad x+y &= A, 2x-y = B \text{로 치환하면} \\ (\text{주어진 식}) &= A^2-9AB+20B^2 = (A-4B)(A-5B) \\ &= \{(x+y) - 4(2x-y)\} \{x+y - 5(2x-y)\} \\ &= (-7x+5y)(-9x+6y) \\ &= 3(3x-2y)(7x-5y) \end{aligned} \quad \text{답 } 3(3x-2y)(7x-5y)$$

0664 $x-1=A$, $x+4=B$ 로 치환하면

$$\begin{aligned}(\text{좌변}) &= 2A^2 + AB - B^2 = (A+B)(2A-B) \\ &= \{(x-1) + (x+4)\} \{2(x-1) - (x+4)\} \\ &= (2x+3)(x-6)\end{aligned}$$

따라서 $a=2$, $b=3$, $c=-6$ 이므로 $ab+c=0$ 답 ③

0665 $x-4y=A$, $x+4y=B$ 로 치환하면

$$\begin{aligned}(\text{주어진 식}) &= (x-4y)^2 - (-x-4y)^2 \\ &= (x-4y)^2 - (x+4y)^2 \\ &= A^2 - B^2 = (A+B)(A-B) \\ &= \{(x-4y) + (x+4y)\} \{(x-4y) - (x+4y)\} \\ &= 2x \times (-8y) = -16xy \quad \text{답 } -16xy\end{aligned}$$

0666 (주어진 식) $= \{x(x+3)\} \{(x+1)(x+2)\} - 8$

$$\begin{aligned}&= \frac{(x^2+3x)(x^2+3x+2)}{A} - 8 \\ &= A(A+2) - 8 \\ &= A^2 + 2A - 8 = (A+4)(A-2) \\ &= (x^2+3x+4)(x^2+3x-2) \quad \text{답 ③}\end{aligned}$$

0667 (주어진 식) $= \frac{(x^2-1)(x^2-4)}{A} - 40$

$$\begin{aligned}&= (A-1)(A-4) - 40 = A^2 - 5A - 36 \\ &= (A-9)(A+4) = (x^2-9)(x^2+4) \\ &= (x+3)(x-3)(x^2+4) \quad \text{답 } (x+3)(x-3)(x^2+4)\end{aligned}$$

0668 (주어진 식)

$$\begin{aligned}&= \{(x+1)(x+6)\} \{(x+2)(x+5)\} - 12 \\ &= \frac{(x^2+7x+6)(x^2+7x+10)}{A} - 12 \\ &= (A+6)(A+10) - 12 = A^2 + 16A + 48 \\ &= (A+4)(A+12) = (x^2+7x+4)(x^2+7x+12) \\ &= (x+3)(x+4)(x^2+7x+4) \quad \text{답 ①, ④}\end{aligned}$$

0669 (좌변) $= \{(a+1)(a+7)\} \{(a+3)(a+5)\} + 16$

$$\begin{aligned}&= \frac{(a^2+8a+7)(a^2+8a+15)}{A} + 16 \\ &= (A+7)(A+15) + 16 = A^2 + 22A + 121 \\ &= (A+11)^2 = (a^2+8a+11)^2 \quad \dots ①\end{aligned}$$

따라서 $m=8$, $n=11$ 이므로

$$mn=88 \quad \dots ② \quad \dots ③ \quad \text{답 } 88$$

채점 기준

① 주어진 식의 좌변을 인수분해할 수 있다.	60%
② m, n 의 값을 구할 수 있다.	30%
③ mn 의 값을 구할 수 있다.	10%

0670 (주어진 식) $= \{x(x-5)\} \{(x-2)(x-3)\} + k$

$$\begin{aligned}&= \frac{(x^2-5x)(x^2-5x+6)}{A} + k \\ &= A(A+6) + k = A^2 + 6A + k\end{aligned}$$

이 식이 완전제곱식이 되려면 $k = \left(\frac{6}{2}\right)^2 = 9$ 답 ⑤

0671 (주어진 식) $= a^3 - a^2b - a + b = a^2(a-b) - (a-b)$

$$= (a-b)(a^2-1) = (a-b)(a+1)(a-1)$$

따라서 주어진 다항식의 인수인 것은 (㉠), (㉡), (㉢)이다. 답 ①

다른 풀이 (주어진 식) $= a^3 - a - a^2b + b = a(a^2-1) - b(a^2-1)$
 $= (a-b)(a^2-1) = (a-b)(a+1)(a-1)$

0672 (주어진 식) $= (x+y)(x-y) - z(x-y)$

$$= (x-y)(x+y-z) \quad \text{답 ②}$$

0673 (주어진 식) $= x^2(x+2) - 9(x+2) = (x+2)(x^2-9)$

$$= (x+2)(x+3)(x-3)$$

따라서 세 일차식의 합은

$$(x+2) + (x+3) + (x-3) = 3x+2 \quad \text{답 ⑤}$$

다른 풀이 (주어진 식) $= x^3 - 9x + 2x^2 - 18$
 $= x(x^2-9) + 2(x^2-9) = (x+2)(x^2-9)$
 $= (x+2)(x+3)(x-3)$

0674 $xy+5x-y-5 = x(y+5) - (y+5)$

$$= (x-1)(y+5)$$

$$x^2 - x + xy - y = x(x-1) + y(x-1)$$

$$= (x-1)(x+y)$$

따라서 두 다항식의 공통인수는 $x-1$ 이다. 답 ①

0675 $xy+x+y+1=5$ 에서 $x(y+1) + (y+1) = 5$

$$\therefore (x+1)(y+1) = 5 \quad \dots ①$$

x, y 가 정수이므로

$x+1$	1	5	-1	-5
$y+1$	5	1	-5	-1

 \rightarrow

x	0	4	-2	-6
y	4	0	-6	-2

따라서 정수 x, y 의 순서쌍 (x, y) 는

$$(0, 4), (4, 0), (-2, -6), (-6, -2) \text{의 4개} \quad \dots ②$$

답 4

채점 기준

① 주어진 식의 좌변을 인수분해할 수 있다.	50%
② 정수 x, y 의 순서쌍 (x, y) 의 개수를 구할 수 있다.	50%

0676 (주어진 식) $= a^2 - 4a + 4 - b^2 = (a-2)^2 - b^2$

$$= (a+b-2)(a-b-2) \quad \text{답 ③}$$

0677 (주어진 식) $= 1 - (x^2 - 2xy + y^2) = 1^2 - (x-y)^2$

$$= (1+x-y)(1-x+y) \quad \text{답 ①, ②}$$

0678 (주어진 식) $= x^2 - (y^2 - 14y + 49) = x^2 - (y-7)^2$

$$= (x+y-7)(x-y+7)$$

따라서 두 일차식의 합은

$$(x+y-7) + (x-y+7) = 2x \quad \text{답 } 2x$$

0679 (주어진 식) $= (a-3b)^2 - (5c)^2$
 $= (a-3b+5c)(a-3b-5c)$ 답 ③

0680 (주어진 식) $= 16x^2y^2 - 48xy + 36 - z^2$
 $= (4xy-6)^2 - z^2$
 $= (4xy+z-6)(4xy-z-6)$ 답 ④

0681 (주어진 식) $= 16x^2 + 8xy + y^2 - 9 = (4x+y)^2 - 3^2$
 $= (4x+y+3)(4x+y-3)$... ①

따라서 $a=4, b=1, c=-3$ 이므로 ... ②
 $a-b+c=0$... ③
답 0

채점 기준

① 주어진 식을 인수분해할 수 있다.	60%
② a, b, c 의 값을 구할 수 있다.	30%
③ $a-b+c$ 의 값을 구할 수 있다.	10%

0682 (주어진 식) $= 3(x-1)y + x^2 + 4x - 5$
 $= 3(x-1)y + (x+5)(x-1)$
 $= (x-1)(x+3y+5)$ 답 ③

0683 (좌변) $= x^2 + x - (y^2 - 7y + 12)$
 $= x^2 + x - (y-4)(y-3)$
 $= \{x-(y-4)\}\{x+(y-3)\}$
 $= (x-y+4)(x+y-3)$
 $\therefore A = x-y+4$ 답 $x-y+4$

0684 (주어진 식) $= x^2 - 2(y+z)x - 3(y^2 + 2yz + z^2)$
 $= x^2 - 2(y+z)x - 3(y+z)^2$
 $= \{x+(y+z)\}\{x-3(y+z)\}$
 $= (x+y+z)(x-3y-3z)$... ①

따라서 $a=1, b=-3, c=-3$ 이므로 ... ②
 $a+b+c=-5$... ③

채점 기준

① 주어진 식을 인수분해할 수 있다.	60%
② a, b, c 의 값을 구할 수 있다.	30%
③ $a+b+c$ 의 값을 구할 수 있다.	10%

0685 (주어진 식) $= x^2 - 2yx - (3y^2 - 4y + 1)$
 $= x^2 - 2yx - (y-1)(3y-1)$
 $= (x+y-1)(x-3y+1)$

따라서 두 일차식의 합은 답 ④
 $(x+y-1) + (x-3y+1) = 2x-2y$

0686 (주어진 식) $= 2x^2 + (5y+2)x + 3y^2 + 4y - 4$
 $= 2x^2 + (5y+2)x + (y+2)(3y-2)$
 $= (x+y+2)(2x+3y-2)$ 답 ⑤

0687 $7.5^2 \times 23.8 - 2.5^2 \times 23.8$
 $= 23.8 \times (7.5^2 - 2.5^2)$
 $= 23.8 \times (7.5+2.5) \times (7.5-2.5)$
 $= 23.8 \times 10 \times 5 = 1190$ 답 ①

0688 $A = 33.5^2 - 2 \times 33.5 \times 3.5 + 3.5^2$
 $= (33.5 - 3.5)^2 = 30^2 = 900$... ①

$B = \sqrt{(52+48)(52-48)} = \sqrt{100 \times 4} = \sqrt{400} = 20$... ②
 $\therefore A+B=920$... ③

답 920

채점 기준

① A 의 값을 구할 수 있다.	40%
② B 의 값을 구할 수 있다.	40%
③ $A+B$ 의 값을 구할 수 있다.	20%

0689 $5 \times 21^2 - 5 \times 42 + 5 = 5 \times (21^2 - 2 \times 21 + 1^2)$
 $= 5 \times (21-1)^2$
 $= 5 \times 20^2 = 2000$ 답 ④

0690 (주어진 식) $= \frac{998 \times (997+3)}{(999+1)(999-1)} = \frac{998 \times 1000}{1000 \times 998} = 1$
답 1

0691 (주어진 식) $= (1+2)(1-2) + (3+4)(3-4)$
 $+ (5+6)(5-6) + (7+8)(7-8)$
 $= -3 + (-7) + (-11) + (-15)$
 $= -36$ 답 ①

0692 (주어진 식) $= \frac{(2-1)(2+1)}{2 \times 2} \times \frac{(3-1)(3+1)}{3 \times 3}$
 $\times \frac{(4-1)(4+1)}{4 \times 4} \times \dots \times \frac{(10-1)(10+1)}{10 \times 10}$
 $= \frac{1 \times 3}{2 \times 2} \times \frac{2 \times 4}{3 \times 3} \times \frac{3 \times 5}{4 \times 4} \times \dots \times \frac{9 \times 11}{10 \times 10}$
 $= \frac{1}{2} \times \frac{11}{10} = \frac{11}{20}$ 답 ③

0693 $x=2+\sqrt{3}, y=2-\sqrt{3}$ 이므로
 $x+y=4, x-y=2\sqrt{3}, xy=1$
 $\therefore x^3y - xy^3 = xy(x^2 - y^2) = xy(x+y)(x-y)$
 $= 1 \times 4 \times 2\sqrt{3} = 8\sqrt{3}$ 답 ⑤

0694 (주어진 식) $= 2(x^2 - 2xy - 3y^2) = 2(x+y)(x-3y)$
 $= 2(3.75+0.25)(3.75-3 \times 0.25)$
 $= 2 \times 4 \times 3 = 24$ 답 ③

0695 (주어진 식) $= \frac{x(x^2+2x)+6}{2x+3} = \frac{4x+6}{2x+3}$
 $= \frac{2(2x+3)}{2x+3} = 2$ 답 ①

0696 $2x^2 - 2y^2 + 4x + 2 = 2(x^2 + 2x + 1 - y^2)$
 $= 2\{(x+1)^2 - y^2\}$
 $= 2(x+1+y)(x+1-y)$... ①
 $x+y=2\sqrt{2}$, $x-y=2$ 이므로
 $(좌변) = 2(2\sqrt{2}+1)(2+1) = 12\sqrt{2}+6$... ②
따라서 $a=6$, $b=12$ 이므로 ... ③
 $a-b=-6$... ④
답 -6

채점 기준

① 주어진 식의 좌변을 인수분해할 수 있다.	40%
② 주어진 식의 좌변의 값을 구할 수 있다.	30%
③ a , b 의 값을 구할 수 있다.	20%
④ $a-b$ 의 값을 구할 수 있다.	10%

0697 $a=3+\sqrt{5}$, $b=3-\sqrt{5}$ 이므로 ... ①
 $a+b=6$, $a-b=2\sqrt{5}$... ②
 \therefore (주어진 식) $= a^2(a-b) - b^2(a-b) = (a-b)(a^2-b^2)$
 $= (a-b)^2(a+b)$... ③
 $= (2\sqrt{5})^2 \times 6 = 120$... ④
답 120

채점 기준

① a , b 의 값을 구할 수 있다.	20%
② $a+b$, $a-b$ 의 값을 구할 수 있다.	10%
③ 주어진 식을 인수분해할 수 있다.	50%
④ 주어진 식의 값을 구할 수 있다.	20%

0698 $a=\sqrt{10}-3$, $b=3$ 이므로 $a+b=\sqrt{10}$
 \therefore (주어진 식) $= \frac{a^2(a+b) - b^2(a+b)}{a-b}$
 $= \frac{(a+b)(a^2-b^2)}{a-b} = \frac{(a+b)^2(a-b)}{a-b}$
 $= (a+b)^2 = (\sqrt{10})^2 = 10$ **답** ①

0699 $x^2 - y^2 = (x+y)(x-y) = 7\sqrt{5}$ **답** ④

0700 (주어진 식) $= c(a-b) - b(a-b)$
 $= (a-b)(c-b)$
 $= 3 \times (-2) = -6$ **답** ①

0701 (주어진 식) $= (a+b)(a^2-b^2)$
 $= (a+b)^2(a-b)$
 $= (2\sqrt{2})^2(\sqrt{2}-1) = 8\sqrt{2}-8$ **답** ①

0702 (좌변) $= a^2 + a - b^2 + b$
 $= a^2 - b^2 + a + b$
 $= (a+b)(a-b) + (a+b)$
 $= (a+b)(a-b+1) = 10$
한편 $a+b=-2$ 이므로 $a-b+1=-5$
 $\therefore a-b=-6$ **답** ①

0703 $2x+y = \frac{\sqrt{5}+2}{(\sqrt{5}-2)(\sqrt{5}+2)} = \sqrt{5}+2$
 $2x-y = \frac{\sqrt{5}-2}{(\sqrt{5}+2)(\sqrt{5}-2)} = \sqrt{5}-2$... ①
 \therefore (주어진 식) $= 4x^2 - y^2 - 4x + 2y$
 $= (2x+y)(2x-y) - 2(2x-y)$
 $= (2x-y)(2x+y-2)$... ②
 $= (\sqrt{5}-2)(\sqrt{5}+2-2)$
 $= 5-2\sqrt{5}$... ③
답 $5-2\sqrt{5}$

채점 기준

① $2x+y$, $2x-y$ 의 분모를 유리화할 수 있다.	20%
② 주어진 식을 인수분해할 수 있다.	50%
③ 주어진 식의 값을 구할 수 있다.	30%

0704 $(2a+b)^2 - (a+2b)^2$
 $= (2a+b+a+2b)(2a+b-a-2b)$
 $= (3a+3b)(a-b) = 3(a+b)(a-b)$
한편 $(a-b)^2 = (a+b)^2 - 4ab = 3^2 - 4 \times 1 = 5$ 이므로
 $a-b = \sqrt{5}$ ($\because a > b$)
 \therefore (주어진 식) $= 3 \times 3 \times \sqrt{5} = 9\sqrt{5}$ **답** $9\sqrt{5}$

0705 도형 A의 넓이는
 $(3x+7)^2 - (x+1)^2 = (3x+7+x+1)(3x+7-x-1)$
 $= (4x+8)(2x+6)$
이것은 도형 B의 넓이와 같으므로 도형 B의 가로, 세로의 길이는
 $4x+8$ 이다. **답** ⑤

0706 $\frac{1}{2}\pi(x+y)^2 - \frac{1}{2}\pi x^2 + \frac{1}{2}\pi y^2$
 $= \frac{1}{2}\pi\{(x+y)^2 - (x^2 - y^2)\}$
 $= \frac{1}{2}\pi\{(x+y)^2 - (x+y)(x-y)\}$
 $= \frac{1}{2}\pi \times 2y(x+y) = y(x+y)\pi$ **답** ④

0707 $x^3 + x^2y - x - y = x^2(x+y) - (x+y)$
 $= (x+y)(x^2-1)$
 $= (x+y)(x+1)(x-1)$... ①
따라서 직육면체의 높이는 $x-1$ 이므로 겉넓이는
 $2\{(x+y)(x-1) + (x-1)(x+1) + (x+1)(x+y)\}$
 $= 2\{(x^2 - x + xy - y) + (x^2 - 1) + (x^2 + xy + x + y)\}$
 $= 2(3x^2 + 2xy - 1) = 6x^2 + 4xy - 2$... ②
답 $6x^2 + 4xy - 2$

채점 기준

① 부피를 나타내는 식을 인수분해할 수 있다.	50%
② 겉넓이를 구할 수 있다.	50%

0708 전략 적당한 항끼리 묶어 공통부분을 찾아 치환하여 인수분해한다.

$$\begin{aligned} \text{풀이} & \text{ (주어진 식)} = \frac{(x-4y)^2}{A} - 6\frac{(x-4y)}{A} + 9 \\ & = A^2 - 6A + 9 = (A-3)^2 \\ & = (x-4y-3)^2 \quad \text{답 } (x-4y-3)^2 \end{aligned}$$

$$\begin{aligned} \text{다른 풀이} & \text{ (주어진 식)} = x^2 - 2(4y+3)x + 16y^2 + 24y + 9 \\ & = x^2 - 2\frac{(4y+3)}{A}x + \frac{(4y+3)^2}{A^2} \\ & = x^2 - 2Ax + A^2 = (x-A)^2 \\ & = (x-4y-3)^2 \end{aligned}$$

0709 전략 공통부분을 한 문자로 치환하여 인수분해한다.

$$\begin{aligned} \text{풀이} & x+y=X \text{로 치환하면} \\ & A=X^2-X+a+1, B=X^2-3X+b \\ & A=X^2-X+a+1=(X+2)(X+m) \text{으로 놓으면} \\ & 2+m=-1, 2m=a+1 \quad \therefore m=-3, a=-7 \\ & B=X^2-3X+b=(X+2)(X+n) \text{으로 놓으면} \\ & 2+n=-3, 2n=b \quad \therefore n=-5, b=-10 \\ & \therefore a-b=3 \quad \text{답 } ④ \end{aligned}$$

0710 전략 공통부분이 생기도록 2개씩 묶어 전개한 후 공통부분을 치환하여 인수분해한다.

$$\begin{aligned} \text{풀이} & \text{ (주어진 식)} = (x-1)(x-2)(x+2)(x+3) - 60 \\ & = \{(x-1)(x+2)\}\{(x-2)(x+3)\} - 60 \\ & = \frac{(x^2+x-2)}{A} \frac{(x^2+x-6)}{A} - 60 \\ & = (A-2)(A-6) - 60 \\ & = A^2 - 8A - 48 \\ & = (A-12)(A+4) \\ & = (x^2+x-12)(x^2+x+4) \\ & = (x-3)(x+4)(x^2+x+4) \quad \text{답 } ②, ④ \end{aligned}$$

0711 전략 공통부분이 생기도록 양변에 같은 수를 더한다.

$$\begin{aligned} \text{풀이} & xy+x-4y-7=0 \text{에서} \quad x(y+1)-4(y+1)=3 \\ & \therefore (x-4)(y+1)=3 \\ & x, y \text{가 정수이므로} \end{aligned}$$

$x-4$	1	3	-1	-3
$y+1$	3	1	-3	-1

 \rightarrow

x	5	7	3	1
y	2	0	-4	-2

따라서 xy 의 최솟값은 -12 이다. 답 ①

0712 전략 적당한 항끼리 묶어 A^2-B^2 꼴로 변형하여 인수분해한다.

$$\begin{aligned} \text{풀이} & \text{ (주어진 식)} = (x+y)(x-y) + x+y - (x-y) - 1 \\ & = x^2 - y^2 + 2y - 1 = x^2 - (y^2 - 2y + 1) \\ & = x^2 - (y-1)^2 \\ & = (x+y-1)(x-y+1) \quad \text{답 } ① \end{aligned}$$

0713 전략 \sqrt{A} 가 자연수이려면 A 는 제곱수이어야 함을 이용한다.

$$\begin{aligned} \text{풀이} & x^2+6x+4=k^2 (k \neq 0 \text{인 정수}) \text{이라 하면} \\ & (x^2+6x+9) - k^2 = 5, \quad (x+3)^2 - k^2 = 5 \\ & \therefore (x+k+3)(x-k+3) = 5 \end{aligned}$$

x, k 가 정수이므로

$$\begin{aligned} \text{(i)} & x+k+3=1, x-k+3=5 \text{일 때,} \quad x=0, k=-2 \\ \text{(ii)} & x+k+3=5, x-k+3=1 \text{일 때,} \quad x=0, k=2 \\ \text{(iii)} & x+k+3=-1, x-k+3=-5 \text{일 때,} \quad x=-6, k=2 \\ \text{(iv)} & x+k+3=-5, x-k+3=-1 \text{일 때,} \quad x=-6, k=-2 \end{aligned}$$

이상에서 0이 아닌 정수 x 의 값은 -6 이다. 답 -6

0714 전략 한 문자에 대하여 내림차순으로 정리하여 인수분해한다.

$$\begin{aligned} \text{풀이} & \text{ (주어진 식)} = (bc+b+c+1)a + bc+b+c+1 \\ & = (a+1)(bc+b+c+1) \\ & = (a+1)\{b(c+1)+c+1\} \\ & = (a+1)(b+1)(c+1) \quad \text{답 } ⑤ \end{aligned}$$

0715 전략 복잡한 수의 계산을 할 때, 인수분해한 후 계산한다.

$$\begin{aligned} \text{풀이} & 10^4 - 81 = 10^4 - 3^4 = (10^2+3^2)(10^2-3^2) \\ & = (10^2+3^2)(10+3)(10-3) \\ & = 109 \times 13 \times 7 \end{aligned}$$

7, 13, 109가 모두 소수이므로 10^4-81 의 약수의 개수는 $2 \times 2 \times 2 = 8$ 답 ①



자연수 N 이 $a^m \times b^n$ (a, b 는 서로 다른 소수, m, n 은 자연수)으로 소인수분해될 때

- ① N 의 약수는 $a^k \times b^l$ ($k=0, 1, 2, \dots, m, l=0, 1, 2, \dots, n$)
 ② N 의 약수의 개수는 $(m+1)(n+1)$

0716 전략 복잡한 수의 계산을 할 때, 인수분해한 후 계산한다.

$$\begin{aligned} \text{풀이} & 2^{16} - 1 = (2^8+1)(2^8-1) \\ & = (2^8+1)(2^4+1)(2^4-1) \\ & = (2^8+1)(2^4+1)(2^2+1)(2^2-1) \\ & = 257 \times 17 \times 5 \times 3 \end{aligned}$$

따라서 자연수 a 의 값이 될 수 없는 것은 ③이다. 답 ③

0717 전략 $7005=a$ 로 놓고 주어진 식을 인수분해한다.

$$\begin{aligned} \text{풀이} & 7005=a \text{로 치환하면} \\ & 7005 \times 7007 + 1 = a(a+2) + 1 = a^2 + 2a + 1 \\ & = (a+1)^2 = 7006^2 \end{aligned}$$

따라서 어떤 자연수는 7006이다. 답 7006

0718 전략 치환하여 $A^2-B^2=(A+B)(A-B)$ 임을 이용한다.

$$\begin{aligned} \text{풀이} & \sqrt{6}+\sqrt{3}+\sqrt{2}-1=A, \sqrt{6}+\sqrt{3}-\sqrt{2}+1=B \text{로 치환하면} \\ & A+B=2(\sqrt{6}+\sqrt{3}), A-B=2(\sqrt{2}-1) \\ & \therefore \text{(주어진 식)} = A^2-B^2 = (A+B)(A-B) \\ & = 4(\sqrt{6}+\sqrt{3})(\sqrt{2}-1) \\ & = 4\sqrt{3} \quad \text{답 } ④ \end{aligned}$$

0719 전략 $1 < \sqrt{3} < 2$ 임을 이용하여 $2 + \sqrt{3}$ 의 정수 부분과 소수 부분을 구한다.

풀이 $a=3, b=\sqrt{3}-1$ 이므로

$$\begin{aligned} (\text{주어진 식}) &= a^2 - (b^2 + 2b + 1) = a^2 - (b+1)^2 \\ &= (a+b+1)(a-b-1) \\ &= (3+\sqrt{3}-1+1)(3-\sqrt{3}+1-1) \\ &= (3+\sqrt{3})(3-\sqrt{3}) \\ &= 6 \end{aligned}$$

답 ④

0720 전략 $(a-b)^2 = (a+b)^2 - 4ab$ 임을 이용한다.

$$\begin{aligned} \text{풀이 } (p-q)^2 &= \{(ax+by) - (bx+ay)\}^2 \\ &= \{(a-b)x - (a-b)y\}^2 \\ &= \{(a-b)(x-y)\}^2 \\ &= (a-b)^2(x-y)^2 \end{aligned}$$

$$\begin{aligned} (a-b)^2 &= (a+b)^2 - 4ab = 7^2 - 4 \times 12 = 1, \\ (x-y)^2 &= (x+y)^2 - 4xy = (-3)^2 - 4 \times (-10) = 49 \end{aligned}$$

이므로

$$(\text{주어진 식}) = 1 \times 49 = 49$$

답 ②

0721 전략 주어진 두 식을 연립하여 $a-b$ 의 값을 구한다.

풀이 $b-c=2, c-a=4$ 를 변끼리 더하면

$$b-a=6 \quad \therefore a-b=-6$$

\therefore (주어진 식)

$$\begin{aligned} &= a^2 - 2ab + b^2 + b^2 - 2bc + c^2 + c^2 - 2ca + a^2 \\ &= (a-b)^2 + (b-c)^2 + (c-a)^2 \\ &= (-6)^2 + 2^2 + 4^2 = 56 \end{aligned}$$

답 56

0722 전략 반지름의 길이가 r 인 원의 둘레의 길이는 $2\pi r$, 넓이는 πr^2 임을 이용한다.

풀이 $\overline{AB}=2rcm$ 라 하면

$$\overline{AC}=2r+3(cm), \overline{AD}=2r+6(cm)$$

\overline{AC} 를 지름으로 하는 원의 둘레의 길이가 $a\pi cm$ 이므로

$$(2r+3)\pi = a\pi \quad \therefore 2r+3=a$$

$$\begin{aligned} \therefore (\text{색칠한 부분의 넓이}) &= \left(\frac{2r+6}{2}\right)^2 \pi - \left(\frac{2r}{2}\right)^2 \pi \\ &= \{(r+3)^2 - r^2\} \pi \\ &= (r+3+r)(r+3-r) \pi \\ &= 3(2r+3) \pi \\ &= 3a\pi (cm^2) \end{aligned}$$

답 ⑤

0723 전략 공통부분을 한 문자로 치환하여 인수분해 공식을 이용한다.

풀이 (주어진 식) $= (xy+9)(xy-3x-3y+9) + 9xy$

이때 $xy+9=A$ 로 치환하면

$$\begin{aligned} (\text{주어진 식}) &= A(A-3x-3y) + 9xy \\ &= A^2 - (3x+3y)A + 9xy \end{aligned}$$

$$= (A-3x)(A-3y)$$

$$= (xy-3x+9)(xy-3y+9)$$

... ②

$$\text{답 } (xy-3x+9)(xy-3y+9)$$

채점 기준

① 주어진 식을 전개하여 공통부분을 찾을 수 있다.

30%

② 주어진 식을 인수분해할 수 있다.

70%

0724 전략 인수분해 공식 $a^2-b^2=(a+b)(a-b)$ 를 이용한다.

$$\begin{aligned} \text{풀이 } 3^{24}-1 &= (3^{12}+1)(3^{12}-1) = (3^{12}+1)(3^6+1)(3^6-1) \\ &= (3^{12}+1)(3^6+1)(3^3+1)(3^3-1) \end{aligned}$$

... ①

따라서 $3^{24}-1$ 은 3^3+1 과 3^3-1 , 즉 28과 26으로 나누어떨어지므로 구하는 합은

$$28+26=54$$

... ②

답 54

채점 기준

① 주어진 식을 인수분해할 수 있다.

50%

② 두 자연수의 합을 구할 수 있다.

50%

0725 전략 x, y 의 분모를 유리화한 후, 인수분해 공식을 이용한다.

$$\text{풀이 } x = \frac{\sqrt{10}+3}{(\sqrt{10}-3)(\sqrt{10}+3)} = \sqrt{10}+3,$$

$$y = \frac{\sqrt{10}-3}{(\sqrt{10}+3)(\sqrt{10}-3)} = \sqrt{10}-3 \text{ 이므로}$$

... ①

$$x+y=2\sqrt{10}, x-y=6$$

... ②

$$\therefore x^2-y^2+6y-9 = x^2 - (y^2-6y+9) = x^2 - (y-3)^2$$

$$= (x+y-3)(x-y+3)$$

... ③

$$= (2\sqrt{10}-3)(6+3)$$

$$= 18\sqrt{10}-27$$

... ④

$$\text{답 } 18\sqrt{10}-27$$

채점 기준

① x, y 의 분모를 유리화할 수 있다.

20%

② $x+y, x-y$ 의 값을 구할 수 있다.

10%

③ 주어진 식을 인수분해할 수 있다.

50%

④ 주어진 식의 값을 구할 수 있다.

20%

0726 전략 x 를 a 에 대한 식으로 나타낸 후, 근호 안의 식을 인수분해한다.

$$\text{풀이 } \sqrt{x} = a+2 \text{ 에서 } x = (a+2)^2$$

... ①

$$\therefore \sqrt{x-8a} + \sqrt{x+2a+5}$$

$$= \sqrt{(a+2)^2-8a} + \sqrt{(a+2)^2+2a+5}$$

$$= \sqrt{a^2-4a+4} + \sqrt{a^2+6a+9}$$

$$= \sqrt{(a-2)^2} + \sqrt{(a+3)^2}$$

... ②

$$= -(a-2) + a+3 \quad (\because a-2 < 0, a+3 > 0)$$

$$= 5$$

... ③

답 5

채점 기준

① x 를 a 에 대한 식으로 나타낼 수 있다.

20%

② 근호 안의 식을 인수분해할 수 있다.

50%

③ 식을 간단히 할 수 있다.

30%

0727 전략 $x=a+\sqrt{b}$ 를 $x-a=\sqrt{b}$ 로 변형한 후, 양변을 제곱하여 정리한다.

풀이 $2x+1=\sqrt{5}$ 의 양변을 제곱하면

$$\begin{aligned} 4x^2+4x+1=5 & \quad \therefore 4x^2+4x=4 & \dots ① \\ \therefore 8x^3+8x^2+6x=2x(4x^2+4x+3) & & \dots ② \\ & =(-1+\sqrt{5}) \times 7 & \\ & =-7+7\sqrt{5} & \dots ③ \\ \text{답} & \quad -7+7\sqrt{5} \end{aligned}$$

채점 기준

① $4x^2+4x$ 의 값을 구할 수 있다.	40%
② 주어진 식을 인수분해할 수 있다.	30%
③ 주어진 식의 값을 구할 수 있다.	30%

0728 **전략** 주어진 식의 좌변을 인수분해하여 xy 의 값을 구한다.

풀이 $x^2y+xy^2+3x+3y=xy(x+y)+3(x+y)$
 $= (x+y)(xy+3)=40$... ①
 $x+y=8$ 이므로 $xy+3=5$... ②
 $\therefore \frac{x^2y-xy^2}{x^2-y^2} = \frac{xy(x-y)}{(x+y)(x-y)}$
 $= \frac{xy}{x+y} = \frac{2}{8} = \frac{1}{4}$... ③
답 $\frac{1}{4}$

채점 기준

① $x^2y+xy^2+3x+3y$ 를 인수분해할 수 있다.	50%
② xy 의 값을 구할 수 있다.	20%
③ 주어진 식의 값을 구할 수 있다.	30%

0729 **전략** $a=b-1$, $c=b+1$ 임을 이용하여 주어진 식을 한 문자로 정리한다.

풀이 a, b, c 가 연속하는 세 자연수이므로
 $a=b-1, c=b+1$... ①
 $\therefore (\text{주어진 식}) = (a-b)(b-c)(c-a)$
 $= (b-1-b)(b-b-1)(b+1-b+1)$
 $= -1 \times (-1) \times 2$
 $= 2$... ②
답 2

채점 기준

① a, c 를 b 에 대한 식으로 나타낼 수 있다.	50%
② 주어진 식의 값을 구할 수 있다.	50%

0730 **전략** 반지름의 길이가 r 인 원의 둘레의 길이는 $2\pi r$, 넓이는 πr^2 임을 이용한다.

풀이 주어진 그림에서 점선인 원의 반지름의 길이를 r m라 하면
 $2\pi r=16\pi$... ①
 $\therefore r=8$
 길의 넓이가 64π m²이므로
 $\pi(8+x)^2-\pi(8-x)^2=64\pi$... ②
 $(8+x+8-x)(8+x-8+x)=64$
 $32x=64$... ③
 $\therefore x=2$... ④
답 2

채점 기준

① 점선인 원의 반지름의 길이를 구할 수 있다.	20%
② 길의 넓이를 구하는 식을 세울 수 있다.	40%
③ x 의 값을 구할 수 있다.	40%

07 이차방정식의 풀이 (1)

0731 $3x-4=-3x+2$ 에서 $6x-6=0$ 답 ×

0732 $2x^2=3x-1$ 에서 $2x^2-3x+1=0$ 답 ○

0733 $-x^2+x^3=4x-3+x^3$ 에서 $x^2+4x-3=0$ 답 ○

0734 $x^2+\frac{1}{x^2}=x^2$ 에서 $\frac{1}{x^2}=0$ 답 ×

0735 ax^2+bx+c 가 x 에 대한 이차식이 되어야 하므로 $a \neq 0$ 답 ②

0736 $2 \times 0 = 0$ 답 ○ **0737** $3^2+3 \times 3-1 \neq 0$ 답 ×

0738 $-1 \times 1 = -2 \times (-1) - 3$ 답 ○

0739 $x=-1$ 일 때, $-1 \times (-2) \neq 0$
 $x=0$ 일 때, $0 \times (-1) = 0$
 $x=1$ 일 때, $1 \times 0 = 0$ 답 $x=0$ 또는 $x=1$

0740 $x=-1$ 일 때, $(-1)^2-2 \times (-1)-3=0$
 $x=0$ 일 때, $-3 \neq 0$
 $x=1$ 일 때, $1^2-2 \times 1-3 \neq 0$ 답 $x=-1$

0741 $x=-1$ 일 때, $3 \times (-1)^2-2 \times (-1)-1 \neq 0$
 $x=0$ 일 때, $-1 \neq 0$
 $x=1$ 일 때, $3 \times 1^2-2 \times 1-1=0$ 답 $x=1$

0742 $2^2+2a+4=0$ 이므로 $a=-4$ 답 -4

0743 $(-3)^2+5 \times (-3)-a=0$ 이므로 $a=-6$ 답 -6

0744 $a^2-a-2=0$ 이므로 $a^2-a=2$ 답 2

0745 (㉔) $AB=-2 \times 1 \neq 0$ 답 (㉔), (㉕), (㉖)

0746 $3x(x-2)=0$ 에서 $3x=0$ 또는 $x-2=0$
 $\therefore x=0$ 또는 $x=2$ 답 $x=0$ 또는 $x=2$

0747 $\frac{1}{2}(x+5)(x-1)=0$ 에서 $x+5=0$ 또는 $x-1=0$
 $\therefore x=-5$ 또는 $x=1$ 답 $x=-5$ 또는 $x=1$

0748 $(3x+1)(4x-1)=0$ 에서 $3x+1=0$ 또는 $4x-1=0$
 $\therefore x=-\frac{1}{3}$ 또는 $x=\frac{1}{4}$ 답 $x=-\frac{1}{3}$ 또는 $x=\frac{1}{4}$

0749 $x^2-25=0$ 에서 $(x+5)(x-5)=0$
 $\therefore x=-5$ 또는 $x=5$ 답 $x=-5$ 또는 $x=5$

0750 $2x^2-16x=0$ 에서 $2x(x-8)=0$

$$\therefore x=0 \text{ 또는 } x=8$$

$$\textcircled{답} x=0 \text{ 또는 } x=8$$

$$\textbf{0751} \quad 10x^2-3x-1=0 \text{에서} \quad (5x+1)(2x-1)=0$$

$$\therefore x=-\frac{1}{5} \text{ 또는 } x=\frac{1}{2} \quad \textcircled{답} x=-\frac{1}{5} \text{ 또는 } x=\frac{1}{2}$$

$$\textbf{0752} \quad 3x^2+7x-6=0 \text{이므로} \quad (x+3)(3x-2)=0$$

$$\therefore x=-3 \text{ 또는 } x=\frac{2}{3} \quad \textcircled{답} x=-3 \text{ 또는 } x=\frac{2}{3}$$

$$\textbf{0753} \quad \textcircled{답} x=-5 \text{ (중근)}$$

$$\textbf{0754} \quad 3(2x+1)^2=0 \text{에서} \quad (2x+1)^2=0$$

$$\therefore x=-\frac{1}{2} \text{ (중근)} \quad \textcircled{답} x=-\frac{1}{2} \text{ (중근)}$$

$$\textbf{0755} \quad x^2+8x+16=0 \text{이므로} \quad (x+4)^2=0$$

$$\therefore x=-4 \text{ (중근)} \quad \textcircled{답} x=-4 \text{ (중근)}$$

$$\textbf{0756} \quad 9x^2-12x+4=0 \text{이므로} \quad (3x-2)^2=0$$

$$\therefore x=\frac{2}{3} \text{ (중근)} \quad \textcircled{답} x=\frac{2}{3} \text{ (중근)}$$

$$\textbf{0757} \quad x^2=2 \text{이므로} \quad x=\pm\sqrt{2}$$

$$\textcircled{답} x=\pm\sqrt{2}$$

$$\textbf{0758} \quad x^2=\frac{49}{4} \text{이므로} \quad x=\pm\frac{7}{2}$$

$$\textcircled{답} x=\pm\frac{7}{2}$$

$$\textbf{0759} \quad (x+4)^2=2 \text{이므로} \quad x+4=\pm\sqrt{2}$$

$$\therefore x=-4\pm\sqrt{2} \quad \textcircled{답} x=-4\pm\sqrt{2}$$

$$\textbf{0760} \quad (x+1)^2=4 \text{이므로} \quad x+1=\pm 2$$

$$\therefore x=-3 \text{ 또는 } x=1 \quad \textcircled{답} x=-3 \text{ 또는 } x=1$$

$$\textbf{0761} \quad x^2-6x+3=0 \text{에서} \quad x^2-6x+9=-3+9$$

$$(x-3)^2=6 \quad \textcircled{답} \textcircled{가} 9 \textcircled{나} 3 \textcircled{다} 6$$

$$\textbf{0762} \quad x^2-2x=4 \text{이므로} \quad x^2-2x+1=4+1$$

$$\therefore (x-1)^2=5 \quad \textcircled{답} (x-1)^2=5$$

$$\textbf{0763} \quad x^2-4x=-1 \text{이므로} \quad x^2-4x+4=-1+4$$

$$\therefore (x-2)^2=3 \quad \textcircled{답} (x-2)^2=3$$

$$\textbf{0764} \quad \text{양변을 3으로 나누면} \quad x^2+4x+\frac{4}{3}=0$$

$$x^2+4x=-\frac{4}{3}, \quad x^2+4x+4=-\frac{4}{3}+4$$

$$\therefore (x+2)^2=\frac{8}{3} \quad \textcircled{답} (x+2)^2=\frac{8}{3}$$

$$\textbf{0765} \quad \text{양변에 } -1 \text{을 곱하면} \quad x^2+10x-1=0$$

$$x^2+10x=1, \quad x^2+10x+25=1+25$$

$$\therefore (x+5)^2=26$$

$$\textcircled{답} (x+5)^2=26$$

$$\textbf{0766} \quad a=\left(\frac{10}{2}\right)^2=25$$

$$x^2+10x+25=(x+5)^2 \text{이므로} \quad b=5 \quad \textcircled{답} a=25, b=5$$

$$\textbf{0767} \quad a=\left(\frac{-3}{2}\right)^2=\frac{9}{4}$$

$$x^2-3x+\frac{9}{4}=\left(x-\frac{3}{2}\right)^2 \text{이므로} \quad b=-\frac{3}{2}$$

$$\textcircled{답} a=\frac{9}{4}, b=-\frac{3}{2}$$

$$\textbf{0768} \quad a=\left(\frac{1}{7}\right)^2=\frac{1}{49}$$

$$x^2+\frac{2}{7}x+\frac{1}{49}=\left(x+\frac{1}{7}\right)^2 \text{이므로} \quad b=\frac{1}{7}$$

$$\textcircled{답} a=\frac{1}{49}, b=\frac{1}{7}$$

$$\textbf{0769} \quad x^2-2x-5=0 \text{에서} \quad x^2-2x+1=5+1$$

$$(x-1)^2=6, \quad x-1=\pm\sqrt{6}$$

$$\therefore x=1\pm\sqrt{6} \quad \textcircled{답} \textcircled{가} 1 \textcircled{나} 1 \textcircled{다} 6 \textcircled{라} \pm\sqrt{6} \textcircled{마} 1\pm\sqrt{6}$$

$$\textbf{0770} \quad x^2-8x+9=0 \text{에서} \quad x^2-8x+16=-9+16$$

$$(x-4)^2=7, \quad x-4=\pm\sqrt{7}$$

$$\therefore x=4\pm\sqrt{7} \quad \textcircled{답} x=4\pm\sqrt{7}$$

$$\textbf{0771} \quad x^2+\frac{2}{5}x-1=0 \text{에서} \quad x^2+\frac{2}{5}x+\frac{1}{25}=1+\frac{1}{25}$$

$$\left(x+\frac{1}{5}\right)^2=\frac{26}{25}, \quad x+\frac{1}{5}=\pm\frac{\sqrt{26}}{5}$$

$$\therefore x=\frac{-1\pm\sqrt{26}}{5} \quad \textcircled{답} x=\frac{-1\pm\sqrt{26}}{5}$$

$$\textbf{0772} \quad 2x^2-4x-3=0 \text{에서} \quad x^2-2x-\frac{3}{2}=0$$

$$x^2-2x+1=\frac{3}{2}+1, \quad (x-1)^2=\frac{5}{2}$$

$$x-1=\pm\frac{\sqrt{10}}{2} \quad \therefore x=1\pm\frac{\sqrt{10}}{2} \quad \textcircled{답} x=1\pm\frac{\sqrt{10}}{2}$$

$$\textbf{0773} \quad 3x^2-8x+1=0 \text{에서} \quad x^2-\frac{8}{3}x+\frac{1}{3}=0$$

$$x^2-\frac{8}{3}x+\frac{16}{9}=-\frac{1}{3}+\frac{16}{9}, \quad \left(x-\frac{4}{3}\right)^2=\frac{13}{9}$$

$$x-\frac{4}{3}=\pm\frac{\sqrt{13}}{3} \quad \therefore x=\frac{4\pm\sqrt{13}}{3} \quad \textcircled{답} x=\frac{4\pm\sqrt{13}}{3}$$

$$\textbf{0774} \quad \textcircled{ㄴ} 5x^2-5x+4=0 \quad \textcircled{ㄷ} -x^2+4=0$$

$$\textcircled{ㄹ} -1-\frac{1}{x}=0 \quad \textcircled{ㄴ} -3x-1=0$$

$$\text{이상에서 } x \text{에 대한 이차방정식은 } \textcircled{ㄴ}, \textcircled{ㄷ} \text{이다.} \quad \textcircled{답} \textcircled{3}$$

$$\textbf{0775} \quad \textcircled{5} 1-x^2=x-x^2 \quad \therefore -x+1=0 \text{ (일차방정식)}$$

$$\textcircled{답} \textcircled{5}$$

0776 $(2x+1)(x-3)=4x-1$ 에서

$2x^2-5x-3=4x-1 \quad \therefore 2x^2-9x-2=0$

따라서 $a=2, b=-9, c=-2$ 이므로

$a-b-c=13$

답 13

0777 $ax^2+4=(x+1)(x-2)$ 에서 $(a-1)x^2+x+6=0$

$a-1 \neq 0$ 이어야 하므로 $a \neq 1$

답 4

0778 ① $(3-1) \times (3+3) \neq 0$ ② $(-5)^2+5 \neq 0$

③ $(-1)^2-(-1) \neq 3 \times (-1) \times (-1+1)$

④ $2^2-7 \times 2+6 \neq 0$ ⑤ $5 \times 2^2-7 \times 2-6=0$

답 5

0779 ① $(-1)^2+3 \times (-1)-4 \neq 0$

② $(-1+2) \times (-1-3) \neq 4$ ③ $(-1)^2-2 \times (-1)+1 \neq 0$

④ $(-1)^2+7 \times (-1)+6=0$ ⑤ $(-1+5)^2 \neq 36$

답 4

0780 $x=-2$ 일 때, $(-2)^2+2 \times (-2)-3 \neq 0$

$x=-1$ 일 때, $(-1)^2+2 \times (-1)-3 \neq 0$

$x=0$ 일 때, $-3 \neq 0$

$x=1$ 일 때, $1^2+2 \times 1-3=0$

$x=2$ 일 때, $2^2+2 \times 2-3 \neq 0$

따라서 해는 $x=1$ 이다.

답 x=1

0781 ① $x=2$ 일 때, $2^2+5 \times 2+4 \neq 0$

② $x=-4$ 일 때, $-4 \times (-4+3)=-4+3$

$x=2$ 일 때, $2 \times (2+3)=2+3$

③ $x=-4$ 일 때, $(-4)^2-(-4)+10 \neq 2 \times (-4) \times (-4+2)$

④ $x=-4$ 일 때, $(-4-1)^2+(-4)-3 \neq 0$

⑤ $x=-4$ 일 때, $(-4+3)^2 \neq 4$

답 2

0782 $3x-4 \leq x+2$ 에서 $2x \leq 6 \quad \therefore x \leq 3$

... 1

이때 x 는 자연수이므로 $x=1, 2, 3$

... 2

$x=1$ 일 때, $1^2+1-6 \neq 0$

$x=2$ 일 때, $2^2+2-6=0$

$x=3$ 일 때, $3^2+3-6 \neq 0$

따라서 해는 $x=2$ 이다.

... 3

답 x=2

채점 기준

① 부등식의 해를 구할 수 있다.	30%
② 부등식을 만족시키는 자연수 x 를 구할 수 있다.	20%
③ 이차방정식의 해를 구할 수 있다.	50%

0783 $x=1$ 을 $2x^2-ax-2a+1=0$ 에 대입하면

$2 \times 1^2-a \times 1-2a+1=0, \quad -3a+3=0$

$\therefore a=1$

답 4

0784 $x=-2$ 를 $x^2+ax+b=0$ 에 대입하면

$(-2)^2+a \times (-2)+b=0 \quad \therefore 2a-b=4 \quad \dots\dots \textcircled{1}$

$x=3$ 을 $x^2+ax+b=0$ 에 대입하면

$3^2+a \times 3+b=0 \quad \therefore 3a+b=-9 \quad \dots\dots \textcircled{2}$

①, ②를 연립하여 풀면 $a=-1, b=-6$

$\therefore a^2+b^2=(-1)^2+(-6)^2=37$

답 37

0785 $x=1$ 을 $3x^2-2x-a=0$ 에 대입하면

$3 \times 1^2-2 \times 1-a=0 \quad \therefore a=1$

$x=3$ 을 $4x^2-11x-b=0$ 에 대입하면

$4 \times 3^2-11 \times 3-b=0 \quad \therefore b=3$

답 a=1, b=3

0786 $x=\frac{1}{2}$ 을 $x^2-4x+a=0$ 에 대입하면

$\left(\frac{1}{2}\right)^2-4 \times \frac{1}{2}+a=0 \quad \therefore a=\frac{7}{4}$

$x=\frac{1}{2}$ 을 $2x^2+bx-1=0$ 에 대입하면

$2 \times \left(\frac{1}{2}\right)^2+b \times \frac{1}{2}-1=0 \quad \therefore b=1$

$\therefore a+b=\frac{11}{4}$

답 4

0787 ① $x=a$ 를 $x^2-5x+3=0$ 에 대입하면

$a^2-5a+3=0$

..... ①

② $4+5a-a^2=4-(a^2-5a)=4-(-3)=7$

③ $2a^2-10a=2(a^2-5a)=2 \times (-3)=-6$

④ $3a^2-15a+10=3(a^2-5a)+10=3 \times (-3)+10=1$

⑤ ①의 양변을 a 로 나누면 $a-5+\frac{3}{a}=0 \quad \therefore a+\frac{3}{a}=5$
 $\perp x=0$ 일 때, $0^2-5 \times 0+3 \neq 0$ 이므로 $a \neq 0$

답 4

0788 $a^2+4a-1=0$ 의 양변을 a 로 나누면

$a+4-\frac{1}{a}=0 \quad \therefore a-\frac{1}{a}=-4$

답 1

0789 $k^2+k-1=0$ 이므로

$k^5+k^4-k^3+k^2+k+5=k^3(k^2+k-1)+(k^2+k-1)+6$
 $=k^3 \times 0+0+6=6$

답 4

0790 $2a^2+3a-1=0, b^2-2b-5=0$ 이므로

$2a^2+3a=1, b^2-2b=5$

$\therefore 2a^2-b^2+3a+2b+5=2a^2+3a-(b^2-2b)+5$
 $=1-5+5=1$

답 1

0791 $a^2-a-1=0$ 이므로 $1+a=a^2, 1-a^2=-a$

$\therefore \frac{a^2}{1+a}-\frac{3a}{1-a^2}=\frac{a^2}{a^2}-\frac{3a}{-a}=1+3=4$

답 5

0792 $x^2+7x+2=11x+1$ 에서 $x^2-4x+1=0$

따라서 $a^2-4a+1=0$ 의 양변을 a 로 나누면

$a-4+\frac{1}{a}=0 \quad \therefore a+\frac{1}{a}=4$

... 1

$\therefore a^2+\frac{1}{a^2}=\left(a+\frac{1}{a}\right)^2-2=4^2-2=14$

... 2

답 14

채점 기준

① $a + \frac{1}{a}$ 의 값을 구할 수 있다.	50%
② $a^2 + \frac{1}{a^2}$ 의 값을 구할 수 있다.	50%

0793 ① $x = -4$ 또는 $x = -\frac{1}{3}$

② $x = -\frac{1}{3}$ 또는 $x = 4$ ③ $x = -4$ 또는 $x = \frac{1}{3}$

④ $x = \frac{1}{3}$ 또는 $x = 4$ ⑤ $x = 0$ 또는 $x = 4$ **답** ③

0794 $(x+2)(x-3)=0$ 에서 $x = -2$ 또는 $x = 3$
따라서 $\alpha = -2, \beta = 3$ 또는 $\alpha = 3, \beta = -2$ 이므로
 $\alpha^2 + \beta^2 = (-2)^2 + 3^2 = 13$ **답** 13

0795 ①, ③, ④, ⑤ $x = -\frac{1}{4}$ 또는 $x = \frac{1}{2}$

② $x = -\frac{1}{2}$ 또는 $x = \frac{1}{4}$ **답** ②

0796 ① $x = 0$ 또는 $x = -4$ 이므로 $0 - 4 = -4$

② $x = -1$ 또는 $x = 4$ 이므로 $-1 + 4 = 3$

③ $x = 1$ 또는 $x = 3$ 이므로 $1 + 3 = 4$

④ $x = -6$ 또는 $x = 2$ 이므로 $-6 + 2 = -4$

⑤ $x = -5$ 또는 $x = -1$ 이므로 $-5 - 1 = -6$ **답** ③

0797 $(x+1)(x-5)=0$ 에서 $x = -1$ 또는 $x = 5$

$(3x+1)(x-5)=0$ 에서 $x = -\frac{1}{3}$ 또는 $x = 5$... ①

따라서 $\alpha = 5, \beta = -1$ 이므로 ... ②

$\alpha^2 - \beta^2 = 5^2 - (-1)^2 = 24$... ③

답 24

채점 기준

① 두 이차방정식의 근을 구할 수 있다.	40%
② α, β 의 값을 구할 수 있다.	40%
③ $\alpha^2 - \beta^2$ 의 값을 구할 수 있다.	20%

0798 $x^2 + 13x - 90 = 0$ 에서 $(x+18)(x-5) = 0$

$\therefore x = -18$ 또는 $x = 5$ **답** ①

0799 $x^2 = 6x - 8$ 이므로 $x^2 - 6x + 8 = 0$

$(x-2)(x-4) = 0 \therefore x = 2$ 또는 $x = 4$

따라서 $A = 2 + 4 = 6, B = |2 - 4| = 2$ 이므로

$A - 2B = 6 - 2 \times 2 = 2$ **답** ④

0800 $(x+4)(x-1) = -2(x+3) - 2$ 에서

$x^2 + 3x - 4 = -2x - 8, x^2 + 5x + 4 = 0$

$(x+4)(x+1) = 0 \therefore x = -4$ 또는 $x = -1$

$\therefore a = -4, b = -1 (\because a < b)$

따라서 $x^2 + ax + a + b = 0$, 즉 $x^2 - 4x - 5 = 0$ 에서

$(x+1)(x-5) = 0 \therefore x = -1$ 또는 $x = 5$

답 $x = -1$ 또는 $x = 5$

0801 $2A = 3B$ 에서 $2(x^2 + 5x + 6) = 3(x^2 - 2x - 8)$

$2x^2 + 10x + 12 = 3x^2 - 6x - 24$

$x^2 - 16x - 36 = 0, (x+2)(x-18) = 0$

$\therefore x = -2$ 또는 $x = 18$

이때 $x^2 + 5x + 6 \neq 0$ 에서 $(x+2)(x+3) \neq 0$

$\therefore x \neq -2$ 이고 $x \neq -3$

따라서 조건을 만족시키는 x 의 값은 18이다. **답** 18

0802 $3x^2 - 2x - 1 = 0$ 에서 $(3x+1)(x-1) = 0$

$\therefore x = -\frac{1}{3}$ 또는 $x = 1$

$a > b$ 이므로 $a = 1, b = -\frac{1}{3} \therefore a - b = \frac{4}{3}$ **답** ④

0803 $2x^2 + 5x - 3 = 0$ 에서 $(x+3)(2x-1) = 0$

$x = -3$ 또는 $x = \frac{1}{2}$

따라서 -3 과 $\frac{1}{2}$ 사이에 있는 정수는 $-2, -1, 0$ 이므로 구하는 합은 -3 이다. **답** -3

0804 $2(x-1)(2x-1) = 1 - x^2$ 에서

$4x^2 - 6x + 2 = 1 - x^2, 5x^2 - 6x + 1 = 0$

$(5x-1)(x-1) = 0 \therefore x = \frac{1}{5}$ 또는 $x = 1$ **답** ④

0805 $3k^2 - k^2 - 10k + 3k - 4 = 0$ 에서 $2k^2 - 7k - 4 = 0$

$(2k+1)(k-4) = 0 \therefore k = -\frac{1}{2}$ 또는 $k = 4$

k 는 양수이므로 $k = 4$ **답** ①

0806 $4(2a-1) - 2a(a+1) + a + 1 = 0$ 이므로

$2a^2 - 7a + 3 = 0, (2a-1)(a-3) = 0$... ①

$\therefore a = \frac{1}{2}$ 또는 $a = 3$

그런데 $2a - 1 \neq 0$, 즉 $a \neq \frac{1}{2}$ 이어야 하므로 $a = 3$... ②

답 3

채점 기준

① a 에 대한 이차방정식을 세울 수 있다.	40%
② a 의 값을 구할 수 있다.	60%

0807 $4 - 4a - a + 11 = 0$ 이므로 $a = 3$

즉 $x^2 + 6x + 8 = 0$ 이므로 $(x+4)(x+2) = 0$

$\therefore x = -4$ 또는 $x = -2$

따라서 $b = -4$ 이므로 $a + b = -1$ **답** ⑤

0808 $9 + 3a - 6 = 0$ 이므로 $a = -1$

즉 $x^2 - x - 6 = 0$ 이므로 $(x+2)(x-3) = 0$

$\therefore x = -2$ 또는 $x = 3$

따라서 $b = -2$ 이므로 $a - b = 1$ **답** 1

0809 $x^2 - 2ax + 6 = 0$ 의 한 해가 $x = -2$ 이므로

$4 + 4a + 6 = 0 \therefore a = -\frac{5}{2}$

즉 $x^2+5x+6=0$ 이므로 $(x+2)(x+3)=0$
 $\therefore b=-3$
 $\therefore a+b=-\frac{11}{2}$

답 ①

0810 $4(a-1)-2(a^2+1)+2(a+1)=0$ 이므로
 $a^2-3a+2=0, (a-1)(a-2)=0$
 $\therefore a=1$ 또는 $a=2$

그런데 $a-1 \neq 0$, 즉 $a \neq 1$ 이어야 하므로 $a=2$
 즉 $x^2-5x+6=0$ 이므로 $(x-2)(x-3)=0$
 $\therefore x=2$ 또는 $x=3$

따라서 $b=3$ 이므로 $ab=6$

답 ③

0811 (1) $x=-1$ 을 $ax^2+(2-a)x+5-a^2=0$ 에 대입하면
 $a-2+a+5-a^2=0, a^2-2a-3=0$
 $(a+1)(a-3)=0$
 $\therefore a=3$ ($\because a>0$)

... ①

(2) $a=3$ 을 주어진 이차방정식에 대입하면
 $3x^2-x-4=0, (x+1)(3x-4)=0$
 $\therefore x=-1$ 또는 $x=\frac{4}{3}$

... ②

따라서 다른 한 근은 $x=\frac{4}{3}$ 이다.

... ③

답 (1) 3 (2) $x=\frac{4}{3}$

채점 기준

① a의 값을 구할 수 있다.	50%
② 이차방정식의 두 근을 구할 수 있다.	30%
③ 다른 한 근을 구할 수 있다.	20%

0812 $x^2-5x+4=0$ 에서 $(x-1)(x-4)=0$
 $\therefore x=1$ 또는 $x=4$
 따라서 $x^2-x-a=0$ 의 한 근이 $x=4$ 이므로
 $16-4-a=0 \therefore a=12$

답 ⑤

0813 $x^2+2x-3=0$ 에서 $(x+3)(x-1)=0$
 $\therefore x=-3$ 또는 $x=1$
 따라서 $x^2+ax+a-3=0$ 의 한 근이 $x=-3$ 이므로
 $9-3a+a-3=0 \therefore a=3$

답 3

0814 $x(x-3)=18$ 에서 $x^2-3x-18=0$
 $(x+3)(x-6)=0 \therefore x=-3$ 또는 $x=6$
 따라서 $2x^2+(k+1)x+2k=0$ 의 한 근이 $x=-3$ 이므로
 $18-3(k+1)+2k=0 \therefore k=15$

... ②

답 15

채점 기준

① $x(x-3)=18$ 의 해를 구할 수 있다.	50%
② k의 값을 구할 수 있다.	50%

0815 $2x^2-5x=3$ 에서 $2x^2-5x-3=0$
 $(2x+1)(x-3)=0 \therefore x=-\frac{1}{2}$ 또는 $x=3$

따라서 $x^2-(m-2)x+m+3=0$ 의 한 근이 $x=3$ 이므로
 $9-3(m-2)+m+3=0 \therefore m=9$

또 $4x^2-nx-3=0$ 의 한 근이 $x=-\frac{1}{2}$ 이므로

$1+\frac{1}{2}n-3=0 \therefore n=4$

$\therefore m-n=5$

답 ③

0816 $25+10a-5=0$ 이므로 $a=-2$
 즉 $x^2+4x-5=0$ 이므로 $(x+5)(x-1)=0$
 $\therefore x=-5$ 또는 $x=1$

따라서 $x^2+(b-2)x-3b=0$ 의 한 근이 $x=1$ 이므로

$1+b-2-3b=0 \therefore b=-\frac{1}{2}$

$\therefore ab=1$

답 1

0817 ② $3(x+2)(x+6)=0 \therefore x=-6$ 또는 $x=-2$

④ $(x+1)(x-1)=0 \therefore x=-1$ 또는 $x=1$

답 ②, ④

0818 (ㄴ) $(x-6)^2=0 \therefore x=6$ (중근)

(ㄹ) $(x+1)^2=0 \therefore x=-1$ (중근)

이상에서 중근을 갖는 이차방정식은 (ㄴ), (ㄹ)이다.

답 ③

0819 중근 $x=-2$ 를 해로 갖고 x^2 의 계수가 1인 이차방정식은
 $(x+2)^2=0$, 즉 $x^2+4x+4=0$

따라서 $a=4, b=4$ 이므로 $a+b=8$

답 8

0820 $(x-2)(x+a)=b$ 에서 $x^2+(a-2)x-2a-b=0$
 이때 중근 $x=3$ 을 해로 갖고 x^2 의 계수가 1인 이차방정식은
 $(x-3)^2=0$, 즉 $x^2-6x+9=0$

이므로 $a-2=-6, -2a-b=9$

$\therefore a=-4, b=-1$

$\therefore ab=4$

답 ⑤

0821 $5-2k=\left(\frac{2}{2}\right)^2=1$ 이므로 $k=2$

답 ②

0822 $9=\left(\frac{a}{2}\right)^2$ 이므로 $a^2=36$

$\therefore a=-6$ 또는 $a=6$

답 ①, ⑤

0823 $x^2+2ax-8a+20=0$ 에서 $-8a+20=\left(\frac{2a}{2}\right)^2$

$a^2+8a-20=0, (a+10)(a-2)=0$

$\therefore a=-10$ 또는 $a=2$

따라서 a의 값의 합은 -8이다.

답 ①

0824 $x^2+8x+3a+4=0$ 이 중근을 가지므로

$3a+4=\left(\frac{8}{2}\right)^2=16 \therefore a=4$

즉 $x^2+8x+16=0$ 이므로 $(x+4)^2=0 \therefore x=-4$ (중근)

따라서 $b=-4$ 이므로 $a-b=8$

답 8

0825 $x^2 - (a+b)x + ab = 0$ 이 중근을 가지므로

$$ab = \left(-\frac{a+b}{2}\right)^2, \quad ab = \frac{a^2 + 2ab + b^2}{4}$$

$$a^2 - 2ab + b^2 = 0, \quad (a-b)^2 = 0$$

$$\therefore a-b=0$$

답 ②

0826 $x^2 + 6x - m = 0$ 이 중근을 가지므로

$$-m = \left(\frac{6}{2}\right)^2 = 9 \quad \therefore m = -9 \quad \dots ①$$

즉 $-3x^2 + 14x - 15 = 0$ 이므로 $3x^2 - 14x + 15 = 0$

$$(3x-5)(x-3) = 0 \quad \therefore x = \frac{5}{3} \text{ 또는 } x = 3 \quad \dots ②$$

따라서 두 근의 곱은 $\frac{5}{3} \times 3 = 5 \quad \dots ③$ 답 5

채점 기준

① m 의 값을 구할 수 있다.	40%
② $(m+6)x^2 + 14x - 15 = 0$ 의 해를 구할 수 있다.	40%
③ 두 근의 곱을 구할 수 있다.	20%

0827 $x^2 + 7x + 10 = 0$ 에서 $(x+5)(x+2) = 0$

$$\therefore x = -5 \text{ 또는 } x = -2$$

$5x^2 + 7x - 6 = 0$ 에서 $(x+2)(5x-3) = 0$

$$\therefore x = -2 \text{ 또는 } x = \frac{3}{5}$$

따라서 공통인 근은 $x = -2$ 이다. 답 $x = -2$

0828 $x = -1$ 은 두 이차방정식의 공통인 근이므로

$$1 + a - 4 = 0 \text{에서 } a = 3$$

$$1 - (b-1) + 3b = 0 \text{에서 } b = -1$$

$$\therefore ab = -3 \quad \dots ①$$

0829 $x = 8$ 은 두 이차방정식의 공통인 근이므로

$$128 - 120 + a = 0 \text{에서 } a = -8$$

$$64 - 8b - 24 = 0 \text{에서 } b = 5 \quad \dots ①$$

$$2x^2 - 15x - 8 = 0 \text{에서 } (2x+1)(x-8) = 0$$

$$\therefore x = -\frac{1}{2} \text{ 또는 } x = 8 \quad \therefore p = -\frac{1}{2}$$

$$x^2 - 5x - 24 = 0 \text{에서 } (x+3)(x-8) = 0$$

$$\therefore x = -3 \text{ 또는 } x = 8 \quad \therefore q = -3 \quad \dots ②$$

$$\therefore 2p + q = -4 \quad \dots ③$$

채점 기준

① a, b 의 값을 구할 수 있다.	40%
② p, q 의 값을 구할 수 있다.	40%
③ $2p + q$ 의 값을 구할 수 있다.	20%

0830 $x^2 + x - 12 = 0$ 에서 $(x+4)(x-3) = 0$

$$\therefore x = -4 \text{ 또는 } x = 3 \quad \dots ①$$

$$x^2 - 8x + 15 = 0 \text{에서 } (x-3)(x-5) = 0$$

$$\therefore x = 3 \text{ 또는 } x = 5 \quad \dots ②$$

따라서 두 이차방정식의 공통인 근이 $x = 3$ 이므로

$$18 - 3a + 2 - a = 0 \quad \therefore a = 5 \quad \dots ③$$

답 5

채점 기준

① $x^2 + x - 12 = 0$ 의 해를 구할 수 있다.	30%
② $x^2 - 8x + 15 = 0$ 의 해를 구할 수 있다.	30%
③ a 의 값을 구할 수 있다.	40%

$$\mathbf{0831} \quad m = \left(\frac{-4}{2}\right)^2 = 4$$

$$x^2 - 10x + 21 = 0 \text{에서 } (x-3)(x-7) = 0$$

$$\therefore x = 3 \text{ 또는 } x = 7$$

$$2x^2 - 13x - 7 = 0 \text{에서 } (2x+1)(x-7) = 0$$

$$\therefore x = -\frac{1}{2} \text{ 또는 } x = 7$$

따라서 공통인 근은 $x = 7$ 이다. 답 ⑤

0832 $x^2 + (a-2)x - a + 1 = 0$ 에서

$$(x-1)(x+a-1) = 0 \quad \therefore x = 1 \text{ 또는 } x = -a+1$$

$$x^2 - (a+4)x + 4a = 0 \text{에서}$$

$$(x-4)(x-a) = 0 \quad \therefore x = 4 \text{ 또는 } x = a$$

(i) 공통인 근이 $x = 1$ 일 때, $a = 1$

(ii) 공통인 근이 $x = 4$ 일 때, $-a+1 = 4 \quad \therefore a = -3$

(iii) 공통인 근이 $x = a$ 또는 $x = -a+1$ 일 때, $-a+1 = a$

$$\therefore a = \frac{1}{2}$$

이상에서 a 의 값의 합은 $-\frac{3}{2}$ 이다. 답 $-\frac{3}{2}$

$$\mathbf{0833} \quad (x-1)^2 = 3 \text{이므로 } x-1 = \pm\sqrt{3} \quad \therefore x = 1 \pm\sqrt{3}$$

따라서 $a = 1, b = 3$ 이므로 $a+b = 4$ 답 ③

$$\mathbf{0834} \quad (x+a)^2 = 6 \text{이므로 } x+a = \pm\sqrt{6} \quad \therefore x = -a \pm\sqrt{6}$$

따라서 $a = 2, b = 6$ 이므로 $b-a = 4$ 답 ④

$$\mathbf{0835} \quad (x+a)^2 = \frac{b}{4} \text{이므로 } x+a = \pm\sqrt{\frac{b}{4}}$$

$$\therefore x = -a \pm\sqrt{\frac{b}{4}} \quad \dots ①$$

따라서 $-a = 2, \frac{b}{4} = 3$ 이므로 $a = -2, b = 12 \quad \dots ②$

$$\therefore a+b = 10 \quad \dots ③$$

채점 기준

① 이차방정식의 해를 구할 수 있다.	50%
② a, b 의 값을 구할 수 있다.	40%
③ $a+b$ 의 값을 구할 수 있다.	10%

$$\mathbf{0836} \quad (x+3)^2 = q \text{이므로 } x+3 = \pm\sqrt{q} \quad \therefore x = -3 \pm\sqrt{q}$$

주어진 이차방정식의 한 근이 $x = \sqrt{3}-3$ 이므로 $q = 3$

따라서 다른 한 근은 $x = -3-\sqrt{3}$ 이다. 답 ①

[다른 풀이] $x = \sqrt{3}-3$ 을 $(x+3)^2 = q$ 에 대입하면

$$q = (\sqrt{3}-3+3)^2 = 3$$

즉 $(x+3)^2 = 3$ 이므로 $x = -3 \pm\sqrt{3}$

$$\mathbf{0837} \quad (x-3)^2 = 5k \text{이므로 } x-3 = \pm\sqrt{5k}$$

$$\therefore x = 3 \pm\sqrt{5k}$$

이때 서로 다른 두 근이 정수가 되려면

$$5k=1, 4, 9, 16, 25, \dots$$

$$\therefore k = \frac{1}{5}, \frac{4}{5}, \frac{9}{5}, \frac{16}{5}, 5, \dots$$

따라서 자연수 k 의 최솟값은 5이다.

답 5

0838 (ㄷ) $(x+p)^2=q$ 에서 $x=-p\pm\sqrt{q}$ 이므로 이차방정식 $(x+p)^2=q$ 의 두 근의 절댓값은 다르다.

이상에서 옳은 것은 (ㄱ), (ㄴ)이다.

답 ③

0839 $k>0$ 이면 서로 다른 두 근을 갖고, $k=0$ 이면 중근을 가지므로 해를 가질 조건은 $k\geq 0$

답 ③

0840 $3x^2+4x+\frac{a+5}{9}=0$ 에서

$$3\left(x+\frac{2}{3}\right)^2=\frac{7-a}{9}$$

이 이차방정식이 서로 다른 두 근을 가지려면

$$\frac{7-a}{9}>0 \quad \therefore a<7$$

따라서 정수 a 의 최댓값은 6이다.

답 6

0841 $x^2+6x-2=0$ 에서 $x^2+6x=2$
 $x^2+6x+9=2+9 \quad \therefore (x+3)^2=11$

따라서 $p=3, q=11$ 이므로 $p+q=14$

답 ⑤

0842 $2x^2-6x+1=0$ 의 양변을 2로 나누면

$$x^2-3x+\frac{1}{2}=0, \quad x^2-3x=-\frac{1}{2}$$

$$x^2-3x+\frac{9}{4}=-\frac{1}{2}+\frac{9}{4} \quad \therefore \left(x-\frac{3}{2}\right)^2=\frac{7}{4}$$

$$\therefore k=\frac{7}{4}$$

답 $\frac{7}{4}$

0843 $x^2+px+a=(x+b)^2=x^2+2bx+b^2$
 $\therefore p=2b, a=b^2$

이때 $a+b=6$, 즉 $a=6-b$ 이므로

$$6-b=b^2, \quad (b+3)(b-2)=0$$

$$\therefore b=-3 \text{ 또는 } b=2$$

(i) $b=-3$ 일 때, $p=-6$

(ii) $b=2$ 일 때, $p=4$

(i), (ii)에서 $p>0$ 이므로 $p=4$

답 4

0844 $3(x+1)(x-3)=4x(x+2)$ 에서 $x^2+14x=-9$
 $x^2+14x+49=-9+49 \quad \therefore (x+7)^2=40$

따라서 $a=7, b=40$ 이므로 $b-a=33$

답 33

0845 $x^2+7x=5$ 이므로 $x^2+7x+\frac{49}{4}=5+\frac{49}{4}$

$$\left(x+\frac{7}{2}\right)^2=\frac{69}{4}, \quad x+\frac{7}{2}=\pm\sqrt{\frac{69}{4}}$$

$$\therefore x=-\frac{7}{2}\pm\sqrt{\frac{69}{4}}$$

따라서 $A=\frac{49}{4}, B=\frac{7}{2}, C=\frac{69}{4}$ 이므로

$$A-B+C=26$$

답 ③

0846 ① $x=\pm 2$

② $x=-3$ 또는 $x=1$

③ $x=1$ 또는 $x=5$

④ $2x^2+5x-1=0$ 에서 $x^2+\frac{5}{2}x-\frac{1}{2}=0$

$$x^2+\frac{5}{2}x+\frac{25}{16}=\frac{1}{2}+\frac{25}{16}, \quad \left(x+\frac{5}{4}\right)^2=\frac{33}{16}$$

$$x+\frac{5}{4}=\pm\frac{\sqrt{33}}{4} \quad \therefore x=\frac{-5\pm\sqrt{33}}{4}$$

⑤ $4x^2-4x+1=3x^2-2x$ 에서 $x^2-2x+1=0$
 $(x-1)^2=0 \quad \therefore x=1$ (중근)

답 ④

0847 ③ $x^2+x-1=0$ 에서 $x^2+x+\frac{1}{4}=1+\frac{1}{4}$

$$\left(x+\frac{1}{2}\right)^2=\frac{5}{4}, \quad x+\frac{1}{2}=\pm\frac{\sqrt{5}}{2}$$

$$\therefore x=\frac{-1\pm\sqrt{5}}{2}$$

답 ③

0848 $3x^2-8x+2=0$ 에서 $x^2-\frac{8}{3}x=-\frac{2}{3}$

$$x^2-\frac{8}{3}x+\frac{16}{9}=-\frac{2}{3}+\frac{16}{9}, \quad \left(x-\frac{4}{3}\right)^2=\frac{10}{9}$$

$$x-\frac{4}{3}=\pm\frac{\sqrt{10}}{3} \quad \therefore x=\frac{4\pm\sqrt{10}}{3}$$

... ①

따라서 $a=4, b=10$ 이므로

... ②

$$ab=40$$

... ③ 답 40

채점 기준

① $3x^2-8x+2=0$ 의 해를 구할 수 있다.	60%
② a, b 의 값을 구할 수 있다.	20%
③ ab 의 값을 구할 수 있다.	20%

0849 $x^2-2x-3=0$ 에서 $x^2-2x+1=3+1$

$$(x-1)^2=4 \quad \therefore a=-1, b=4$$

$(x-1)^2=4$ 에서 $x-1=\pm 2 \quad \therefore x=-1$ 또는 $x=3$

$$\therefore c=-1, d=3$$

$$\therefore ad+bc=-1\times 3+4\times (-1)=-7$$

답 ②

0850 $2x^2-8x+3=0$ 에서 $x^2-4x+\frac{3}{2}=0$

$$x^2-4x+4=-\frac{3}{2}+4, \quad (x-2)^2=\frac{5}{2}$$

$$x-2=\pm\sqrt{\frac{5}{2}} \quad \therefore x=2\pm\sqrt{\frac{5}{2}}=\frac{4\pm\sqrt{10}}{2}$$

... ①

따라서 $a=2, b=4, c=10$ 일 때, $a+b+c$ 의 값이 최소이므로 구하는 값은 16이다.

... ②

답 16

채점 기준

① $2x^2-8x+3=0$ 의 해를 구할 수 있다.	50%
② $a+b+c$ 의 최솟값을 구할 수 있다.	50%

0851 전략 주어진 해를 각각의 이차방정식에 대입한다.

풀이 $x = -1$ 을 $x^2 + 2mx + n = 0$ 에 대입하면

$$1 - 2m + n = 0 \quad \therefore 2m - n = 1 \quad \dots\dots \textcircled{1}$$

$x = -2$ 를 $x^2 - 3mx - 4n = 0$ 에 대입하면

$$4 + 6m - 4n = 0 \quad \therefore 3m - 2n = -2 \quad \dots\dots \textcircled{2}$$

$\textcircled{1}, \textcircled{2}$ 을 연립하여 풀면 $m = 4, n = 7$

$$\therefore m + n = 11 \quad \text{답 } \textcircled{4}$$

0852 전략 주어진 이차방정식에 $x = k$ 를 대입하여 정리한다.

풀이 $3k^2 - (2a+1)k - 3 = 0$ 의 양변을 k 로 나누면

$$3k - (2a+1) - \frac{3}{k} = 0 \quad \therefore k - \frac{1}{k} = \frac{2a+1}{3}$$

$$\text{즉 } \frac{2a+1}{3} = a \text{ 이므로 } 2a+1=3a \quad \therefore a=1 \quad \text{답 } \textcircled{3}$$

0853 전략 $f(x) = ax^2 + bx + c$ ($a \neq 0$)로 놓고 조건을 만족시키는 $f(x)$ 를 구한다.

풀이 $f(x) = ax^2 + bx + c$ ($a \neq 0$)로 놓으면

$$f(x+1) - f(x) = a(x+1)^2 + b(x+1) + c - (ax^2 + bx + c) \\ = 2ax + a + b$$

즉 $2ax + a + b = 2x - 2$ 이므로

$$2a = 2, a + b = -2$$

$$\therefore a = 1, b = -3$$

$f(0) = 2$ 에서 $c = 2$

따라서 $f(x) = x^2 - 3x + 2$ 이므로 $f(x) = 2x + 2$ 에서

$$x^2 - 3x + 2 = 2x + 2, \quad x^2 - 5x = 0$$

$$x(x-5) = 0 \quad \therefore x = 0 \text{ 또는 } x = 5 \quad \text{답 } x = 0 \text{ 또는 } x = 5$$

0854 전략 주어진 이차방정식의 해를 구한 후 각 경우에 해당되는 주사위 눈의 수의 순서쌍을 구한다.

풀이 $x^2 - 7x + 10 = 0$ 에서 $(x-2)(x-5) = 0$

$$\therefore x = 2 \text{ 또는 } x = 5$$

(i) $x = 2$ 일 때, 두 개의 주사위 눈의 수의 순서쌍은

$$(1, 3), (2, 4), (3, 5), (4, 6), (6, 4), (5, 3),$$

$$(4, 2), (3, 1) \text{의 8개}$$

(ii) $x = 5$ 일 때, 두 개의 주사위 눈의 수의 순서쌍은

$$(1, 6), (6, 1) \text{의 2개}$$

$$(i), (ii) \text{에서 구하는 확률은 } \frac{8+2}{36} = \frac{5}{18} \quad \text{답 } \textcircled{4}$$

0855 전략 곱해서 -6 이 되는 두 정수를 찾는다.

풀이 이차방정식 $x^2 + mx - 6 = 0$ 의 두 근이

(i) $x = -6$ 또는 $x = 1$ 일 때, 두 근 중 한 근 $x = 1$ 을 대입하면

$$1 + m - 6 = 0 \quad \therefore m = 5$$

(ii) $x = -3$ 또는 $x = 2$ 일 때, 두 근 중 한 근 $x = 2$ 를 대입하면

$$4 + 2m - 6 = 0 \quad \therefore m = 1$$

(iii) $x = -2$ 또는 $x = 3$ 일 때, 두 근 중 한 근 $x = -2$ 를 대입하면

$$4 - 2m - 6 = 0 \quad \therefore m = -1$$

(iv) $x = -1$ 또는 $x = 6$ 일 때, 두 근 중 한 근 $x = -1$ 을 대입하면

$$1 - m - 6 = 0 \quad \therefore m = -5$$

이상에서 m 의 값이 될 수 없는 것은 $\textcircled{2}$ 이다. 답 $\textcircled{2}$

0856 전략 이차방정식의 이차항의 계수는 0이 아님을 이용한다.

풀이 $(a^2 - 4a - 5)x^2 + (a-1)x - 1 = 0$ 이 x 에 대한 이차방정식 이 되려면

$$a^2 - 4a - 5 \neq 0, \quad (a+1)(a-5) \neq 0$$

$$\therefore a \neq -1 \text{이고 } a \neq 5$$

답 $\textcircled{4}$

0857 전략 주어진 이차방정식의 x 의 계수와 상수항을 바꾼 후 $x = 2$ 를 대입한다.

풀이 주어진 이차방정식의 x 의 계수와 상수항을 바꾸면

$$x^2 + 3ax + a + 3 = 0$$

$x = 2$ 를 $x^2 + 3ax + a + 3 = 0$ 에 대입하면

$$4 + 6a + a + 3 = 0 \quad \therefore a = -1$$

따라서 $x^2 + 2x - 3 = 0$ 이므로 $(x+3)(x-1) = 0$

$$\therefore x = -3 \text{ 또는 } x = 1$$

답 $x = -3 \text{ 또는 } x = 1$

0858 전략 $3 \leq x < 4$ 일 때, $[x] = 3$ 임을 이용한다.

풀이 $[x] = 3$ 이므로 주어진 방정식은

$$3x^2 - 7x - 10 = 0, \quad (x+1)(3x-10) = 0$$

$$\therefore x = -1 \text{ 또는 } x = \frac{10}{3}$$

$$\text{이때 } 3 \leq x < 4 \text{이므로 } x = \frac{10}{3} \quad \text{답 } x = \frac{10}{3}$$

0859 전략 연립방정식 $\begin{cases} ax+by=c \\ a'x+b'y=c' \end{cases}$ 의 해가 존재하지 않으려면

$\frac{a}{a'} = \frac{b}{b'} \neq \frac{c}{c'}$ 임을 이용한다.

풀이 연립방정식 $\begin{cases} (a-1)x+y=1 \\ x+(5-2a)y=1 \end{cases}$ 의 해가 존재하지 않으므로

$$\frac{a-1}{1} = \frac{1}{5-2a} \neq 1 \quad \dots\dots \textcircled{1}$$

$$(a-1)(5-2a) = 1, \quad 2a^2 - 7a + 6 = 0$$

$$(2a-3)(a-2) = 0 \quad \therefore a = \frac{3}{2} \text{ 또는 } a = 2$$

(i) $a = \frac{3}{2}$ 일 때, $a-1 = \frac{3}{2} - 1 \neq 1$ 이므로 $\textcircled{1}$ 을 만족시킨다.

(ii) $a = 2$ 일 때, $a-1 = 2-1 = 1$ 이므로 $\textcircled{1}$ 을 만족시키지 않는다.

$$(i), (ii) \text{에서 } a = \frac{3}{2}$$

답 $\frac{3}{2}$



연립방정식 $\begin{cases} ax+by=c \\ a'x+b'y=c' \end{cases}$ 이

① 오직 한 쌍의 해를 갖는다. $\rightarrow \frac{a}{a'} \neq \frac{b}{b'}$

② 무수히 많은 해를 갖는다. $\rightarrow \frac{a}{a'} = \frac{b}{b'} = \frac{c}{c'}$

③ 해를 갖지 않는다. $\rightarrow \frac{a}{a'} = \frac{b}{b'} \neq \frac{c}{c'}$

0860 전략 $f(n) = \frac{n}{n-1} \times \frac{n}{n+1}$ 임을 이용하여 α 의 값을 구한 후, 주어진 이차방정식에 대입한다.

풀이 $f(n) = \frac{n}{n-1} \times \frac{n}{n+1}$ 이므로
 $\alpha = f(2) \times f(3) \times f(4) \times \cdots \times f(2015)$
 $= \frac{2}{1} \times \frac{2}{3} \times \frac{3}{2} \times \frac{3}{4} \times \frac{4}{3} \times \frac{4}{5} \times \cdots \times \frac{2015}{2014} \times \frac{2015}{2016}$
 $= \frac{2015}{1008}$

따라서 $2015x^2 - x - 2014 = 0$ 에서
 $(2015x + 2014)(x - 1) = 0$
 $\therefore x = -\frac{2014}{2015}$ 또는 $x = 1$
 따라서 해가 될 수 있는 것은 ③이다.

답 ③

0861 전략 먼저 $x = 10 - 3a$ 를 주어진 이차방정식에 대입하여 자연수 a 의 값을 구한다.

풀이 $(10 - 3a)^2 - 10(10 - 3a) + a^2 = 0$ 이므로
 $a^2 - 3a = 0, \quad a(a - 3) = 0$
 $\therefore a = 3$ ($\because a$ 는 자연수)
 즉 $x^2 - 4x - 12 = 0$ 이므로 $(x + 2)(x - 6) = 0$
 $\therefore x = -2$ 또는 $x = 6$
 따라서 두 근의 곱은 -12 이다.

답 ②

0862 전략 주어진 근을 이차방정식에 대입하여 다른 한 근을 구한다.

풀이 $x = 6$ 을 $x^2 + 2ax - 12 = 0$ 에 대입하면
 $36 + 12a - 12 = 0 \quad \therefore a = -2$
 따라서 $x^2 - 4x - 12 = 0$ 에서
 $(x + 2)(x - 6) = 0 \quad \therefore x = -2$ 또는 $x = 6$
 $x = -2$ 가 $2x^2 + (b - 2)x + 5b = 0$ 의 한 근이므로
 $8 - 2(b - 2) + 5b = 0 \quad \therefore b = -4$
 $\therefore a + b = -6$

답 -6

0863 전략 조건을 만족시키는 두 자리 자연수 b 를 구한다.

풀이 $x^2 + ax + 4b = 0$ 이 중근을 가지려면
 $4b = \left(\frac{a}{2}\right)^2 \quad \therefore a^2 = 16b = 4^2b$
 따라서 b 는 제곱수이어야 하고, b 가 최대일 때 a 가 최대가 된다.
 두 자리 자연수 중 가장 큰 제곱수는 81 이므로 $b = 81$
 $\therefore a^2 = 4^2 \times 81 = (4 \times 9)^2 = 36^2$
 $\therefore a = 36$

답 ③

0864 전략 $x^2 + ax + b = 0$ 이 $x = -7$ 을 중근으로 가짐을 이용한다.

풀이 $x^2 + ax + b = 0$ 이 $x = -7$ 을 중근으로 가지므로
 $(x + 7)^2 = 0, \quad x^2 + 14x + 49 = 0$
 $\therefore a = 14, b = 49$
 또 $x^2 + px + 21 = 0$ 의 한 근이 $x = -7$ 이므로
 $49 - 7p + 21 = 0 \quad \therefore p = 10$
 $\therefore a - b + p = -25$

답 -25

0865 전략 k 의 값을 이차방정식에 대입한 후, 근을 구한다.

풀이 ① $(x - 2)^2 = 9$ 이므로 $x - 2 = \pm 3$
 $\therefore x = -1$ 또는 $x = 5$
 ② $(x - 2)^2 = 8$ 이므로 $x - 2 = \pm 2\sqrt{2} \quad \therefore x = 2 \pm 2\sqrt{2}$
 ③ $(x - 2)^2 = 5$ 이므로 $x - 2 = \pm \sqrt{5} \quad \therefore x = 2 \pm \sqrt{5}$
 ④ $(x - 2)^2 = 1$ 이므로 $x - 2 = \pm 1 \quad \therefore x = 1$ 또는 $x = 3$
 ⑤ $(x - 2)^2 = -1$ 이므로 근이 존재하지 않는다.

답 ④

0866 전략 완전제곱식을 이용하여 주어진 이차방정식의 근을 구한다.

풀이 $x^2 - 2ax + b = 0$ 에서 $x^2 - 2ax = -b$
 $x^2 - 2ax + a^2 = a^2 - b, \quad (x - a)^2 = a^2 - b$
 $x - a = \pm \sqrt{a^2 - b} \quad \therefore x = a \pm \sqrt{a^2 - b}$
 따라서 $a \pm \sqrt{a^2 - b} = 3 \pm 2\sqrt{5} = 3 \pm \sqrt{20}$ 이므로
 $a = 3, a^2 - b = 20 \quad \therefore a = 3, b = -11$
 $\therefore a + b = -8$

답 ⑤

0867 전략 $x = 1$ 을 주어진 이차방정식에 대입하여 a, b 사이의 관계를 식으로 나타낸다.

풀이 $x = 1$ 을 $x^2 + a(b - 2)x - b - 1 = 0$ 에 대입하면
 $1 + ab - 2a - b - 1 = 0$
 $\therefore (a - 1)(b - 2) = 2 \quad \dots ①$
 이때 a, b 는 자연수이므로
 $a - 1 = 1, b - 2 = 2$ 또는 $a - 1 = 2, b - 2 = 1$
 $\therefore a = 2, b = 4$ 또는 $a = 3, b = 3 \quad \dots ②$
 $\therefore a + b = 6 \quad \dots ③$

답 6

채점 기준

① a, b 사이의 관계를 식으로 나타낼 수 있다.	50%
② a, b 의 값을 구할 수 있다.	30%
③ $a + b$ 의 값을 구할 수 있다.	20%

0868 전략 $y = ax + b$ 의 그래프가 제1사분면을 지나지 않으려면 $a < 0, b \leq 0$ 이어야 한다.

풀이 $y = mx - (2m + 5)$ 에 $x = m - 1, y = m$ 을 대입하면
 $m = m(m - 1) - (2m + 5), \quad m^2 - 4m - 5 = 0$
 $(m + 1)(m - 5) = 0 \quad \therefore m = -1$ 또는 $m = 5 \quad \dots ①$
 이때 일차함수 $y = mx - (2m + 5)$ 의 그래프가 제1사분면을 지나지 않으려면 $m < 0, -(2m + 5) \leq 0$
 $\therefore -\frac{5}{2} \leq m < 0 \quad \dots ②$
 $\therefore m = -1 \quad \dots ③$

답 -1

채점 기준

① m 에 대한 이차방정식의 해를 구할 수 있다.	40%
② m 의 값의 범위를 구할 수 있다.	40%
③ m 의 값을 구할 수 있다.	20%

0869 전략 $AB=0$ 이면 $A=0$ 또는 $B=0$ 임을 이용한다.

풀이 (1) $x^2 - xy - 6y^2 = 0$ 에서 $(x+2y)(x-3y) = 0$

$$x+2y=0 \text{ 또는 } x-3y=0$$

$$\therefore x=-2y \text{ 또는 } x=3y$$

그런데 $xy < 0$ 이므로 $x = -2y$

... ①

(2) $x = -2y$ 이므로

$$\frac{2y}{x} + \frac{x}{y} = \frac{2y}{-2y} + \frac{-2y}{y}$$

$$= -1 - 2 = -3$$

... ②

답 (1) $x = -2y$ (2) -3

채점 기준

① x 를 y 에 대한 식으로 나타낼 수 있다.	60%
② $\frac{2y}{x} + \frac{x}{y}$ 의 값을 구할 수 있다.	40%

0870 전략 인수분해를 이용하여 두 식을 풀어 x 의 값을 구한다.

풀이 $x^2 + 3x - 18 \neq 0$ 에서 $(x+6)(x-3) \neq 0$

$$\therefore x \neq -6 \text{이고 } x \neq 3$$

... ①

$2x^2 - 5x - 3 = 0$ 에서 $(2x+1)(x-3) = 0$

$$\therefore x = -\frac{1}{2} \text{ 또는 } x = 3$$

... ②

따라서 두 식을 동시에 만족시키는 x 의 값은 $-\frac{1}{2}$ 이다.

... ③

답 $-\frac{1}{2}$

채점 기준

① $x^2 + 3x - 18 \neq 0$ 을 만족시키는 x 의 조건을 구할 수 있다.	40%
② $2x^2 - 5x - 3 = 0$ 의 해를 구할 수 있다.	40%
③ x 의 값을 구할 수 있다.	20%

0871 전략 이차방정식 $x^2 + ax + b = 0$ 이 중근을 가질 조건은

$$b = \left(\frac{a}{2}\right)^2 \text{이다.}$$

풀이 (1) $x^2 - (2k-1)x + 25 = 0$ 에서 $25 = \left(-\frac{2k-1}{2}\right)^2$

$$4k^2 - 4k - 99 = 0, \quad (2k+9)(2k-11) = 0$$

$$\therefore k = -\frac{9}{2} \text{ 또는 } k = \frac{11}{2}$$

... ①

(2) (1)에서 두 근이 $x = -\frac{9}{2}$ 또는 $x = \frac{11}{2}$ 이고 x^2 의 계수가 4

$$\text{인 이차방정식은 } 4\left(x + \frac{9}{2}\right)\left(x - \frac{11}{2}\right) = 0$$

$$\therefore 4x^2 - 4x - 99 = 0$$

따라서 $m = -4$, $n = -99$ 이므로

... ②

$$m - n = 95$$

... ③

답 (1) $-\frac{9}{2}, \frac{11}{2}$ (2) 95

채점 기준

① k 의 값을 구할 수 있다.	50%
② m, n 의 값을 구할 수 있다.	40%
③ $m - n$ 의 값을 구할 수 있다.	10%

0872 전략 먼저 주어진 두 이차방정식의 공통인 근을 구한다.

풀이 $x^2 + 4x - 12 = 0$ 에서 $(x+6)(x-2) = 0$

$$\therefore x = -6 \text{ 또는 } x = 2$$

... ①

$(x+1)^2 = 25$ 에서 $x+1 = \pm 5$

$$\therefore x = -6 \text{ 또는 } x = 4$$

... ②

①, ②에서 공통인 근은 $x = -6$

... ③

$x = -6$ 을 $\frac{1}{2}x^2 + ax + 3a = 0$ 에 대입하면

$$18 - 6a + 3a = 0$$

$$\therefore a = 6$$

... ④

답 6

채점 기준

① 공통인 근을 구할 수 있다.	60%
② a 의 값을 구할 수 있다.	40%

0873 전략 정해진 규칙에 따라 a 에 대한 이차방정식을 세운다.

풀이 $(a+4) \diamond (2a-1) = -11$ 에서

$$(a+4)(2a-1) - (a+4) - (2a-1)^2 = -11$$

... ①

$$2a^2 - 10a - 2 = 0, \quad a^2 - 5a + \frac{25}{4} = 1 + \frac{25}{4}$$

$$\left(a - \frac{5}{2}\right)^2 = \frac{29}{4}, \quad a - \frac{5}{2} = \pm \frac{\sqrt{29}}{2}$$

$$\therefore a = \frac{5 \pm \sqrt{29}}{2}$$

... ②

답 $\frac{5 \pm \sqrt{29}}{2}$

채점 기준

① a 에 대한 이차방정식을 세울 수 있다.	60%
② a 의 값을 구할 수 있다.	40%

0874 전략 주어진 이차방정식의 좌변이 인수분해되지 않으므로 완전제곱식을 이용하여 해를 구한다.

풀이 (1) $x^2 - 5x + q = 0$ 에서 $x^2 - 5x + \frac{25}{4} = -q + \frac{25}{4}$

$$\left(x - \frac{5}{2}\right)^2 = \frac{25-4q}{4}, \quad x - \frac{5}{2} = \pm \frac{\sqrt{25-4q}}{2}$$

$$\therefore x = \frac{5 \pm \sqrt{25-4q}}{2}$$

... ①

(2) $25 - 4q \geq 0$ 이므로 $q \leq \frac{25}{4}$

... ②

(3) $25 - 4q$ 가 0 또는 제곱수이어야 하므로

$$25 - 4q = 0, 1, 4, 9, 16$$

$$\therefore q = \frac{25}{4}, 6, \frac{21}{4}, 4, \frac{9}{4}$$

그런데 q 는 자연수이므로

$$q = 4, 6$$

... ③

답 (1) $x = \frac{5 \pm \sqrt{25-4q}}{2}$ (2) $q \leq \frac{25}{4}$ (3) 4, 6

채점 기준

① 해를 q 에 대한 식으로 나타낼 수 있다.	30%
② q 의 값의 범위를 구할 수 있다.	30%
③ q 의 값을 구할 수 있다.	40%

08 이차방정식의 풀이 (2)

0875 $ax^2+bx+c=0$ 에서 $x^2+\frac{b}{a}x+\frac{c}{a}=0$

$$\therefore x^2+\frac{b}{a}x=\left[-\frac{c}{a}\right]$$

좌변을 완전제곱식으로 만들면

$$x^2+\frac{b}{a}x+\left(\frac{b}{2a}\right)^2=\left[-\frac{c}{a}\right]+\left(\frac{b}{2a}\right)^2$$

$$\left(x+\frac{b}{2a}\right)^2=\frac{b^2-4ac}{4a^2}$$

$$x+\frac{b}{2a}=\pm\frac{\sqrt{b^2-4ac}}{2a}$$

$$\therefore x=\frac{-b\pm\sqrt{b^2-4ac}}{2a}$$

㉠ (가) $-\frac{c}{a}$ (나) $\frac{b}{2a}$ (다) b^2-4ac (라) $-b$

0876 $x=\frac{-3\pm\sqrt{3^2-4\times 2\times (-4)}}{2\times 2}=\frac{-3\pm\sqrt{41}}{4}$

㉠ $x=\frac{-3\pm\sqrt{41}}{4}$

0877 $3x^2+7x+3=0$ 이므로

$$x=\frac{-7\pm\sqrt{7^2-4\times 3\times 3}}{2\times 3}=\frac{-7\pm\sqrt{13}}{6}$$

㉠ $x=\frac{-7\pm\sqrt{13}}{6}$

0878 $x^2+2x-7=0$ 이므로

$$x=-1\pm\sqrt{1^2-1\times(-7)}=-1\pm\sqrt{8}=-1\pm 2\sqrt{2}$$

㉠ $x=-1\pm 2\sqrt{2}$

0879 $3x^2-2x-2=0$ 이므로

$$x=\frac{1\pm\sqrt{(-1)^2-3\times(-2)}}{3}=\frac{1\pm\sqrt{7}}{3}$$

㉠ $x=\frac{1\pm\sqrt{7}}{3}$

0880 $(x-2)(x-3)=30$ 에서 $x^2-5x-24=0$

$$(x+3)(x-8)=0 \quad \therefore x=-3 \text{ 또는 } x=8$$

㉠ $x=-3 \text{ 또는 } x=8$

0881 $3x^2-5=-2+4x$ 에서 $3x^2-4x-3=0$

$$\therefore x=\frac{2\pm\sqrt{13}}{3}$$

㉠ $x=\frac{2\pm\sqrt{13}}{3}$

0882 $x^2+2x-1=2x^2+5x-3$ 에서 $x^2+3x-2=0$

$$\therefore x=\frac{-3\pm\sqrt{17}}{2}$$

㉠ $x=\frac{-3\pm\sqrt{17}}{2}$

0883 양변에 4를 곱하면 $x^2-2x-4=0$

$$\therefore x=1\pm\sqrt{5}$$

㉠ $x=1\pm\sqrt{5}$

0884 양변에 10을 곱하여 정리하면 $x^2+4x-45=0$

$$(x+9)(x-5)=0 \quad \therefore x=-9 \text{ 또는 } x=5$$

㉠ $x=-9 \text{ 또는 } x=5$

0885 $x+1=A$ 로 치환하면 $A^2-4A+4=0$

$$(A-2)^2=0 \quad \therefore A=2 \text{ (중근)}$$

즉 $x+1=2$ 이므로 $x=1$

㉠ $x=1$ (중근)

0886 $x-2=A$ 로 치환하면 $A^2-6A-7=0$

$$(A+1)(A-7)=0 \quad \therefore A=-1 \text{ 또는 } A=7$$

즉 $x-2=-1$ 또는 $x-2=7$ 이므로

$$x=1 \text{ 또는 } x=9$$

㉠ $x=1 \text{ 또는 } x=9$

0887 $x+3=A$ 로 치환하면 $3A^2-5A-2=0$

$$(3A+1)(A-2)=0 \quad \therefore A=-\frac{1}{3} \text{ 또는 } A=2$$

즉 $x+3=-\frac{1}{3}$ 또는 $x+3=2$ 이므로

$$x=-\frac{10}{3} \text{ 또는 } x=-1$$

㉠ $x=-\frac{10}{3} \text{ 또는 } x=-1$

0888

$ax^2+bx+c=0$	b^2-4ac 의 값	근의 개수
$x^2-5x-2=0$	$(-5)^2-4\times 1\times (-2)=33$	2
$4x^2+4x+1=0$	$4^2-4\times 4\times 1=0$	1
$x^2-2x+5=0$	$(-2)^2-4\times 1\times 5=-16$	0

㉠ (1) 33 (2) 2 (3) 0 (4) 1 (5) -16 (6) 0

0889 $x^2+x+4=0$ 에서 $1^2-4\times 1\times 4=-15<0$

㉠ 0

0890 $x^2-6x+5=0$ 에서 $(-6)^2-4\times 1\times 5=16>0$

㉠ 2

0891 $9x^2-6x+1=0$ 에서 $(-6)^2-4\times 9\times 1=0$

㉠ 1

0892 $4x^2+5x+3=0$ 에서 $5^2-4\times 4\times 3=-23<0$

㉠ 0

0893 (두 근의 합) $=-\frac{-5}{1}=5$, (두 근의 곱) $=\frac{-2}{1}=-2$

㉠ 5, -2

0894 (두 근의 합) $=-\frac{0}{-2}=0$, (두 근의 곱) $=\frac{5}{-2}=-\frac{5}{2}$

㉠ 0, $-\frac{5}{2}$

0895 $3x^2-12x+5=0$ 이므로

(두 근의 합) $=-\frac{-12}{3}=4$, (두 근의 곱) $=\frac{5}{3}$

㉠ 4, $\frac{5}{3}$

0896 $x^2+2x-10=0$ 이므로

(두 근의 합) $=-2$, (두 근의 곱) $=-10$

㉠ -2, -10

0897 $2x^2+6x-1=0$ 이므로 $x=\frac{-3\pm\sqrt{11}}{2}$

따라서 $A=-3$, $B=11$ 이므로 $A+B=8$

㉠ ①

0898 $x^2-6x+4=0$ 에서 $x=3\pm\sqrt{5}$

$\therefore \alpha=3-\sqrt{5}, \beta=3+\sqrt{5}$

따라서 $-\sqrt{5}<n<\sqrt{5}$ 를 만족시키는 정수 n 은 $-2, -1, 0, 1, 2$ 의 5개이다. 답 ③

0899 $x=\frac{3\pm\sqrt{9-3A}}{3}=1\pm\frac{\sqrt{9-3A}}{3}$ 이므로

$B=1, \sqrt{9-3A}=2\sqrt{6}=\sqrt{24}$

즉 $9-3A=24$ 이므로 $A=-5$

$\therefore A-B=-6$ 답 ①

0900 $x^2-8x-3=0$ 에서 $x=4\pm\sqrt{19}$ ㉠

$3x-9>6$ 에서 $x>5$ ㉡

㉠, ㉡에서 $p=4+\sqrt{19} \therefore p-4=\sqrt{19}$ 답 ⑤

참고 $16<19<25$ 이므로 $4<\sqrt{19}<5$

$\therefore 8<4+\sqrt{19}<9$

또 $-5<-\sqrt{19}<-4$ 이므로 $-1<4-\sqrt{19}<0$

0901 $\frac{-b-\sqrt{b^2-4ac}}{4a}=-2$ 이므로

$\frac{-b-\sqrt{b^2-4ac}}{2a}=-4$... ①

$\frac{-b+\sqrt{b^2-4ac}}{4a}=3$ 이므로 $\frac{-b+\sqrt{b^2-4ac}}{2a}=6$... ②

따라서 이차방정식의 옳은 두 근은 $-4, 6$ 이므로 두 근의 곱은

$-4 \times 6 = -24$... ③

답 -24

채점 기준

① 이차방정식의 옳은 한 근을 구할 수 있다.	40%
② 이차방정식의 옳은 다른 한 근을 구할 수 있다.	40%
③ 옳은 두 근의 곱을 구할 수 있다.	20%

0902 양변에 20을 곱하면 $4x^2-5x=2$

$4x^2-5x-2=0 \therefore x=\frac{5\pm\sqrt{57}}{8}$

따라서 $p=5, q=19$ 이므로 $p+q=24$ 답 ②

0903 양변에 12를 곱하면 $-4x=-3x^2+2$

$3x^2-4x-2=0 \therefore x=\frac{2\pm\sqrt{10}}{3}$

따라서 $p=2, q=10$ 이므로 $p-q=-8$ 답 -8

0904 양변에 15를 곱하면 $9x^2-10x+15A=0$

$\therefore x=\frac{5\pm\sqrt{25-135A}}{9}$... ①

따라서 $5=B, 25-135A=7$ 이므로

$A=\frac{2}{15}, B=5$... ②

$\therefore 3AB=2$... ③ 답 2

채점 기준

① 이차방정식의 해를 구할 수 있다.	40%
② A, B 의 값을 구할 수 있다.	50%
③ $3AB$ 의 값을 구할 수 있다.	10%

0905 $\frac{1}{2}x^2+\frac{7}{6}x-1=0$ 의 양변에 6을 곱하면

$3x^2+7x-6=0, (x+3)(3x-2)=0$

$\therefore x=-3$ 또는 $x=\frac{2}{3}$... ①

$0.3x^2-1.7x+1=0$ 의 양변에 10을 곱하면

$3x^2-17x+10=0, (3x-2)(x-5)=0$

$\therefore x=\frac{2}{3}$ 또는 $x=5$... ②

따라서 공통인 근은 $x=\frac{2}{3}$... ③

답 $x=\frac{2}{3}$

채점 기준

① $\frac{1}{2}x^2+\frac{7}{6}x-1=0$ 의 해를 구할 수 있다.	40%
② $0.3x^2-1.7x+1=0$ 의 해를 구할 수 있다.	40%
③ 공통인 근을 구할 수 있다.	20%

0906 양변에 10을 곱하면

$2x+10=10x-2(3x-1)(x-3)$

$3x^2-14x+8=0, (3x-2)(x-4)=0$

$\therefore x=\frac{2}{3}$ 또는 $x=4$

따라서 두 근 사이에 있는 자연수는 1, 2, 3이므로 그 합은 6이다. 답 ④

0907 양변에 3을 곱하면 $12x-(x^2+1)=6(x-1)$

$x^2-6x-5=0 \therefore x=3\pm\sqrt{14}$ 답 ④

0908 양변에 12를 곱하면 $4x(x-3)=3(x-1)(x-2)$

$x^2-3x-6=0 \therefore x=\frac{3\pm\sqrt{33}}{2}$

따라서 $p=3, q=33$ 이므로

$p+q=36$ 답 36

0909 양변에 6을 곱하면 $3(x+1)(x+3)=4x(x+2)$

$x^2-4x-9=0 \therefore x=2\pm\sqrt{13}$

따라서 $a=2-\sqrt{13}$ 이므로 $2-a=\sqrt{13}$ 답 $\sqrt{13}$

0910 양변에 4를 곱하면

$2(x+2)^2-(3x+1)(2x-3)=8x+14$

$4x^2-7x+3=0, (4x-3)(x-1)=0$

$\therefore x=\frac{3}{4}$ 또는 $x=1$

따라서 $a=\frac{3}{4}, \beta=1$ 이므로

$4a-\beta=2$ 답 ④

0911 $x+\frac{1}{2}=A$ 로 치환하면

$2A^2-4A+1=0 \therefore A=\frac{2\pm\sqrt{2}}{2}$

즉 $x+\frac{1}{2}=\frac{2\pm\sqrt{2}}{2}$ 이므로 $x=\frac{1\pm\sqrt{2}}{2}$ 답 ①

0912 $2x+1=A$ 로 치환하면 $0.3A^2+\frac{1}{10}A=0.4$

양변에 10을 곱하면 $3A^2+A-4=0$

$(3A+4)(A-1)=0 \quad \therefore A=-\frac{4}{3}$ 또는 $A=1$

즉 $2x+1=-\frac{4}{3}$ 또는 $2x+1=1$ 이므로

$x=-\frac{7}{6}$ 또는 $x=0$

따라서 음수인 해는 $x=-\frac{7}{6}$ 답 $x=-\frac{7}{6}$

0913 $x-3y=A$ 로 치환하면

$(A+1)(A+3)+1=0$... ①

$A^2+4A+4=0, \quad (A+2)^2=0$

$\therefore A=-2$ (중근) ... ②

즉 $x-3y=-2$ 이므로

$6y-2x=-2(x-3y)=-2 \times (-2)=4$... ③

답 4

채점 기준

① 공통부분을 A 로 치환할 수 있다.	30%
② A 의 값을 구할 수 있다.	40%
③ $6y-2x$ 의 값을 구할 수 있다.	30%

0914 $2(x^2+2xy+y^2)=8xy-5x+5y+3$ 이므로

$2(x^2-2xy+y^2)+5(x-y)-3=0$

$2(x-y)^2+5(x-y)-3=0$

$x-y=A$ 로 치환하면 $2A^2+5A-3=0$

$(A+3)(2A-1)=0$

$\therefore A=-3$ 또는 $A=\frac{1}{2}$

$\therefore x-y=-3$ ($\because x < y$)

답 ③

0915 $x^2+4x=A$ 로 치환하면 $A^2-2A-15=0$

$(A+3)(A-5)=0 \quad \therefore A=-3$ 또는 $A=5$

(i) $A=-3$, 즉 $x^2+4x=-3$ 일 때,

$x^2+4x+3=0, \quad (x+3)(x+1)=0$

$\therefore x=-3$ 또는 $x=-1$

(ii) $A=5$, 즉 $x^2+4x=5$ 일 때,

$x^2+4x-5=0, \quad (x+5)(x-1)=0$

$\therefore x=-5$ 또는 $x=1$

(i), (ii)에서 주어진 방정식의 해는

$x=-5$ 또는 $x=-3$ 또는 $x=-1$ 또는 $x=1$

이므로 구하는 합은 -8 이다.

답 -8

0916 $2(3x+y)^2-63x-21y-11=0$ 에서

$2(3x+y)^2-21(3x+y)-11=0$

$3x+y=A$ 로 치환하면 $2A^2-21A-11=0$

$(2A+1)(A-11)=0 \quad \therefore A=-\frac{1}{2}$ 또는 $A=11$

즉 $3x+y=-\frac{1}{2}$ 또는 $3x+y=11$ 에서 x, y 가 자연수이므로

$3x+y=11$

따라서 구하는 순서쌍은 $(1, 8), (2, 5), (3, 2)$ 의 3개이다. 답 3

0917 ① $x^2-4x+4=0$ 이므로

$(-4)^2-4 \times 1 \times 4=0 \rightarrow 1$ 개

② $1^2-4 \times 6 \times 8=-191 < 0 \rightarrow 0$ 개

③ $0^2-4 \times 4 \times (-9)=144 > 0 \rightarrow 2$ 개

④ $2x^2+3x+5=0$ 이므로

$3^2-4 \times 2 \times 5=-31 < 0 \rightarrow 0$ 개

⑤ $x^2+\frac{1}{3}x-\frac{1}{6}=0$ 이므로

$(\frac{1}{3})^2-4 \times 1 \times (-\frac{1}{6})=\frac{7}{9} > 0 \rightarrow 2$ 개 답 ③, ⑤

0918 ① $(-6)^2-4 \times 2 \times (-1)=44 > 0 \rightarrow 2$ 개

② $0^2-4 \times 4 \times (-1)=16 > 0 \rightarrow 2$ 개

③ $3^2-4 \times 1 \times (-18)=81 > 0 \rightarrow 2$ 개

④ $12^2-4 \times 4 \times 9=0 \rightarrow 1$ 개

⑤ 양변에 10을 곱하여 정리하면 $x^2+4x-5=0$ 이므로

$4^2-4 \times 1 \times (-5)=36 > 0 \rightarrow 2$ 개 답 ④

0919 (ㄱ) $(-3)^2-4 \times 1 \times 2=1 > 0$ 이므로 서로 다른 두 근을 갖는다.

(ㄴ) $0^2-4 \times 1 \times 9=-36 < 0$ 이므로 근이 없다.

(ㄷ) $A=2, B=1$ 이면 $2^2-4 \times 1 \times 1=0$ 이므로 중근을 갖는다.

(ㄹ) $B < 0$ 이면 $A^2-4B > 0$ 이므로 서로 다른 두 근을 갖는다.

이상에서 옳은 것은 (ㄱ), (ㄹ)이다. 답 ③

0920 $0.3x^2-\frac{1}{2}x+0.1=0$ 의 양변에 10을 곱하면

$3x^2-5x+1=0$

이때 $(-5)^2-4 \times 3 \times 1=13 > 0$ 이므로 $a=2$... ①

$\frac{1}{5}x^2-2x+5=0$ 에서 $(-2)^2-4 \times \frac{1}{5} \times 5=0$ 이므로

$b=1$... ②

$-2(x+1)^2=4$ 에서 $x^2+2x+3=0$

이때 $2^2-4 \times 1 \times 3=-8 < 0$ 이므로 $c=0$... ③

$\therefore a-b+c=1$... ④

답 1

채점 기준

① a 의 값을 구할 수 있다.	30%
② b 의 값을 구할 수 있다.	30%
③ c 의 값을 구할 수 있다.	30%
④ $a-b+c$ 의 값을 구할 수 있다.	10%

0921 $(-3k)^2-4(-3k+8)=0$ 이므로

$9k^2+12k-32=0, \quad (3k+8)(3k-4)=0$

$\therefore k=-\frac{8}{3}$ 또는 $k=\frac{4}{3}$

따라서 모든 상수 k 의 값의 합은 $-\frac{4}{3}$ 이다. 답 ①

0937 $\frac{k}{3} = -2$ 에서 $k = -6$

즉 $3x^2 - 10x - 6 = 0$ 이므로 $x = \frac{5 \pm \sqrt{43}}{3}$

따라서 $A=5, B=43$ 이므로 $A+B=48$

답 48

다른 풀이 $\frac{A+\sqrt{B}}{3} + \frac{A-\sqrt{B}}{3} = \frac{10}{3}$ 에서

$\frac{2A}{3} = \frac{10}{3} \quad \therefore A=5$

$\frac{A+\sqrt{B}}{3} \times \frac{A-\sqrt{B}}{3} = -2$ 에서

$\frac{25-B}{9} = -2 \quad \therefore B=43$

$\therefore A+B=48$

0938 $-n=5$ 이므로 $n=-5$

$4m-1=-9$ 이므로 $m=-2$

$\therefore m-n=3$

답 3

0939 두 근의 합은 $-m-4$, 곱은 m^2+3m 이므로

$-m-4=m^2+3m$

... ①

$m^2+4m+4=0, (m+2)^2=0$

$\therefore m=-2$

... ②

답 -2

채점 기준

① m 에 대한 이차방정식을 세울 수 있다.	70%
② m 의 값을 구할 수 있다.	30%

0940 주어진 이차방정식의 두 근을 α, β 라 하면 근과 계수의 관계에 의하여

$\alpha+\beta=\alpha, \alpha\beta=-8$

$\alpha\beta=-8$ 을 만족시키는 두 정수 α, β 의 순서쌍 (α, β) 는

$(-8, 1), (-4, 2), (-2, 4), (-1, 8), (1, -8),$

$(2, -4), (4, -2), (8, -1)$

이므로 α 의 값이 될 수 있는 수는 $-7, -2, 2, 7$ 이다. **답** ④

0941 ①, ② $\alpha+\beta=6, \alpha\beta=\frac{7}{2}$

③ $\alpha^2+\beta^2=(\alpha+\beta)^2-2\alpha\beta=6^2-2 \times \frac{7}{2}=29$

④ $(\alpha-\beta)^2=(\alpha+\beta)^2-4\alpha\beta=6^2-4 \times \frac{7}{2}=22$

⑤ $\frac{1}{\alpha^2} + \frac{1}{\beta^2} = \frac{\alpha^2+\beta^2}{\alpha^2\beta^2} = 29 \times \frac{4}{49} = \frac{116}{49}$

답 ⑤

0942 양변에 3을 곱하여 정리하면 $4x^2+3x-8=0$... ①

근과 계수의 관계에 의하여

$\alpha+\beta=-\frac{3}{4}, \alpha\beta=-2$

... ②

$\therefore \frac{1}{\alpha} + \frac{1}{\beta} = \frac{\alpha+\beta}{\alpha\beta} = -\frac{3}{4} \times \left(-\frac{1}{2}\right) = \frac{3}{8}$

... ③

답 $\frac{3}{8}$

채점 기준

① 이차방정식을 $ax^2+bx+c=0$ 꼴로 나타낼 수 있다.	30%
② $\alpha+\beta, \alpha\beta$ 의 값을 구할 수 있다.	30%
③ $\frac{1}{\alpha} + \frac{1}{\beta}$ 의 값을 구할 수 있다.	40%

0943 근과 계수의 관계에 의하여 $\alpha+\beta=4, \alpha\beta=-6$ 이므로

$\alpha^2+\beta^2=(\alpha+\beta)^2-2\alpha\beta=4^2-2 \times (-6)=28$

$\therefore \frac{\beta}{\alpha+1} + \frac{\alpha}{\beta+1} = \frac{\beta(\beta+1)+\alpha(\alpha+1)}{(\alpha+1)(\beta+1)}$

$= \frac{\alpha^2+\beta^2+\alpha+\beta}{\alpha\beta+\alpha+\beta+1} = \frac{28+4}{-6+4+1}$

$= -32$

답 ③

0944 양변에 5를 곱하면 $-x^2+3x+5(m-1)=0$

근과 계수의 관계에 의하여

$\alpha+\beta=3, \alpha\beta=-5(m-1)$

... ①

$\therefore \alpha^2+\beta^2=(\alpha+\beta)^2-2\alpha\beta=3^2+10(m-1)$

$=10m-1$

... ②

$\frac{\beta}{\alpha} + \frac{\alpha}{\beta} = 7$ 에서 $\frac{\alpha^2+\beta^2}{\alpha\beta} = 7, \frac{10m-1}{-5(m-1)} = 7$

$10m-1=-35m+35$

$45m=36 \quad \therefore m=\frac{4}{5}$

... ③

답 $\frac{4}{5}$

채점 기준

① $\alpha+\beta, \alpha\beta$ 의 값을 구할 수 있다.	30%
② $\alpha^2+\beta^2$ 의 값을 구할 수 있다.	30%
③ m 의 값을 구할 수 있다.	40%

0945 주어진 직선의 방정식은 $y=-2x-6$ 이므로

$a=-2, b=-6$

따라서 이차방정식 $x^2-2x-6=0$ 의 두 근이 α, β 이므로 근과 계수의 관계에 의하여

$\alpha+\beta=2, \alpha\beta=-6$

$\therefore \alpha^2+\alpha\beta+\beta^2=(\alpha+\beta)^2-\alpha\beta=2^2-(-6)=10$

답 10

0946 $(x+1) \triangle (2x-1)=4$ 에서

$(x+1)(2x-1)+(x+1)+(2x-1)+1=4$

$2x^2+4x=4$

$x^2+2x-2=0$

근과 계수의 관계에 의하여 $\alpha+\beta=-2, \alpha\beta=-2$

$\therefore \frac{\alpha}{\beta} + \frac{\beta}{\alpha} = \frac{\alpha^2+\beta^2}{\alpha\beta} = \frac{(\alpha+\beta)^2-2\alpha\beta}{\alpha\beta}$

$= \frac{(-2)^2-2 \times (-2)}{-2} = -4$

답 -4

0947 근과 계수의 관계에 의하여

$-p=-6+2=-4 \quad \therefore p=4$

$q=-6 \times 2=-12$

따라서 $4x^2-12x+7=0$ 의 두 근의 합은 3이다.

답 ⑤

0948 $x^2-7x-2=0$ 의 두 근의 곱은 -2 이므로
 $(-2)^2-2k-3=0 \quad \therefore k=\frac{1}{2}$

답 ③

0949 근과 계수의 관계에 의하여

$$-\frac{a}{4}=-\frac{1}{4}+2=\frac{7}{4} \quad \therefore a=-7$$

$$\frac{b}{4}=-\frac{1}{4} \times 2=-\frac{1}{2} \quad \therefore b=-2$$

따라서 $-2x^2+7x-3=0$, 즉 $2x^2-7x+3=0$ 이므로

$$(2x-1)(x-3)=0 \quad \therefore x=\frac{1}{2} \text{ 또는 } x=3$$

답 $x=\frac{1}{2}$ 또는 $x=3$

0950 근과 계수의 관계에 의하여

$$-\frac{a}{2}=-4+b \quad \therefore a=8-2b$$

..... ㉠

$$\frac{10}{2}=-4 \times b \quad \therefore b=-\frac{5}{4}$$

$$b=-\frac{5}{4} \text{를 ㉠에 대입하면} \quad a=\frac{21}{2}$$

$$\therefore a+2b=\frac{21}{2}+2 \times \left(-\frac{5}{4}\right)=8$$

답 8

0951 $x^2-4x-5=0$ 의 두 근의 합은 4, 곱은 -5 이므로 ... ①
 $2x^2+ax+b=0$ 에서

$$-\frac{a}{2}=4+(-5)=-1 \quad \therefore a=2$$

$$\frac{b}{2}=4 \times (-5)=-20 \quad \therefore b=-40$$

... ②

$$\therefore 2a+b=2 \times 2+(-40)=-36$$

... ③

답 -36

채점 기준

① $x^2-4x-5=0$ 의 두 근의 합, 곱을 구할 수 있다.	30%
② a, b 의 값을 구할 수 있다.	50%
③ $2a+b$ 의 값을 구할 수 있다.	20%

0952 $(\alpha+1)+(\beta+1)=-2$ 이므로 $\alpha+\beta=-4$
 $(\alpha+1)(\beta+1)=-6$ 이므로

$$\alpha\beta+\alpha+\beta+1=-6 \quad \therefore \alpha\beta=-3$$

 $x^2+ax+2b=0$ 에서 $\alpha+\beta=-a, \alpha\beta=2b$ 따라서 $-a=-4, 2b=-3$ 이므로

$$a=4, b=-\frac{3}{2}$$

$$\therefore ab=-6$$

답 ②

0953 두 근을 $\alpha, \alpha+2$ 로 놓으면

$$\alpha+(\alpha+2)=-4k, \alpha(\alpha+2)=4k^2-k+3$$

따라서 $\alpha=-2k-1$ 을 $\alpha(\alpha+2)=4k^2-k+3$ 에 대입하면

$$(-2k-1)(-2k+1)=4k^2-k+3$$

$$4k^2-1=4k^2-k+3$$

$$\therefore k=4$$

답 ④

0954 두 근을 $\alpha, 3\alpha$ 로 놓으면 $\alpha+3\alpha=8 \quad \therefore \alpha=2$
따라서 두 근이 2, 6이므로 $2 \times 6=2k$
 $\therefore k=6$

답 ③

0955 두 근을 $4\alpha, 3\alpha(\alpha \neq 0)$ 로 놓으면

$$4\alpha+3\alpha=2k-1, 4\alpha \times 3\alpha=3k$$

 $k=4\alpha^2$ 을 $4\alpha+3\alpha=2k-1$ 에 대입하여 정리하면

$$8\alpha^2-7\alpha-1=0, (8\alpha+1)(\alpha-1)=0$$

$$\therefore \alpha=-\frac{1}{8} \text{ 또는 } \alpha=1$$

$$\therefore k=\frac{1}{16} \text{ 또는 } k=4$$

그런데 k 는 정수이므로 $k=4$

답 4

0956 두 근을 $\alpha, \alpha+1$ 로 놓으면

$$(\alpha+1)^2-\alpha^2=11, 2\alpha+1=11 \quad \therefore \alpha=5$$

따라서 두 근은 5, 6이므로

$$5+6=-a, 5 \times 6=b$$

$$\therefore a=-11, b=30$$

$$\therefore a+b=19$$

답 19

0957 두 근을 $\alpha, -\alpha(\alpha > 0)$ 로 놓으면

$$\alpha^2-\alpha-6=0, (\alpha+2)(\alpha-3)=0$$

$$\therefore \alpha=-2 \text{ 또는 } \alpha=3$$

 $\alpha \times (-\alpha)=-\alpha+2$ 에서(i) $\alpha=-2$ 일 때, $-\alpha^2=4$, 즉 $\alpha^2=-4$ 이므로 이를 만족시키는 α 는 존재하지 않는다.(ii) $\alpha=3$ 일 때,

$$-\alpha^2=-1, \text{ 즉 } \alpha^2=1 \text{이므로} \quad \alpha=1 (\because \alpha > 0)$$

(i), (ii)에서 $\alpha=3$

답 ⑤

0958 전라 근의 공식을 이용하여 주어진 이차방정식의 근을 구한 후 주어진 x 의 값과 비교한다.

풀이 $11x^2-6x+A=0$ 의 근은 $x=\frac{3 \pm \sqrt{9-11A}}{11}$ 이므로

$$B=3, 9-11A=C$$

 $11A+C=9, 8A+C=15$ 를 연립하여 풀면

$$A=-2, C=31$$

$$\therefore A-B+C=26$$

답 ④

0959 전라 괄호를 풀어 이차방정식을 정리한 후 근의 공식을 이용한다.

풀이 $4x^2-11x-3=2(x^2-4x+4)-10$ 이므로

$$2x^2-3x-1=0 \quad \therefore x=\frac{3 \pm \sqrt{17}}{4}$$

따라서 $\alpha=\frac{3-\sqrt{17}}{4}$ 이고 $4 < \sqrt{17} < 5$ 이므로

$$-1 < -\frac{1}{2} < \alpha < -\frac{1}{4} < 0$$

$$\therefore n=-1$$

답 ⑤

0960 [전략] $f(x)=k(x-\alpha)(x-\beta)$ ($k \neq 0$)로 놓고 $f(4x-3)$ 을 구한다.

[풀이] 이차방정식 $f(x)=0$ 의 두 근이 α, β 이므로

$$f(x)=k(x-\alpha)(x-\beta) \quad (k \neq 0)$$

로 놓을 수 있다.

$$\therefore f(4x-3)=k(4x-3-\alpha)(4x-3-\beta)$$

$f(4x-3)=0$ 에서

$$x=\frac{3+\alpha}{4} \quad \text{또는} \quad x=\frac{3+\beta}{4}$$

따라서 방정식 $f(4x-3)=0$ 의 두 근의 합은

$$\frac{3+\alpha}{4} + \frac{3+\beta}{4} = \frac{6+(\alpha+\beta)}{4} = \frac{6+6}{4} = 3$$

답 ③

0961 [전략] $x+y=A$ 로 치환하여 A 에 대한 이차방정식으로 나타낸 후 A 의 값을 구한다.

[풀이] $x+y=A$ 로 치환하면 $A^2+4A-12=0$

$$(A+6)(A-2)=0 \quad \therefore A=-6 \text{ 또는 } A=2$$

(i) $A=-6$, 즉 $x+y=-6$ 일 때,

$$x^2+y^2=(x+y)^2-2xy=(-6)^2-2 \times 3=30$$

(ii) $A=2$, 즉 $x+y=2$ 일 때,

$$x^2+y^2=(x+y)^2-2xy=2^2-2 \times 3=-2$$

이를 만족시키는 실수 x, y 는 존재하지 않는다.

(i), (ii)에서 $x^2+y^2=30$

답 30

0962 [전략] 중근을 가질 조건을 이용하여 a, b 사이의 관계를 그래프로 나타낸다.

[풀이] $2^2-4ab=0$ 이므로 $ab=1$

$ax^2+2x+b=0$ 이 이차방정식이므로 $a \neq 0$

$$\therefore b=\frac{1}{a}$$

따라서 a, b 사이의 관계를 바르게 나타낸 그래프는 ①이다.

답 ①

0963 [전략] $a+b+1=A$ 로 치환한 후 이차방정식이 해를 가질 조건을 이용한다.

[풀이] $a+b+1=A$ 로 치환하면

$$3x^2-2Ax+(A+2)^2+2=0$$

이 이차방정식이 해를 가지려면

$$(-2A)^2-12[(A+2)^2+2] \geq 0$$

$$A^2+6A+9 \leq 0, \quad (A+3)^2 \leq 0 \quad \therefore A=-3$$

따라서 $a+b+1=-3$ 이므로

$$a+b=-4$$

답 ②

0964 [전략] 먼저 중근을 가질 조건을 이용하여 상수 a 의 값을 구한다.

[풀이] $a^2-4 \times 4=0$ 이므로 $a^2=16 \quad \therefore a=\pm 4$

(i) $a=-4$ 일 때,

$$-6x^2+7x+1=2x^2-x-15 \text{에서} \quad 8x^2-8x-16=0$$

$$\therefore x^2-x-2=0$$

따라서 두 근의 합은 1이다.

(ii) $a=4$ 일 때,

$$2x^2+7x+1=2x^2-x-15 \text{에서} \quad 8x+16=0$$

이것은 이차방정식이 아니다.

(i), (ii)에서 두 근의 합은 1이다.

답 1

0965 [전략] $\alpha^2-\beta^2=(\alpha+\beta)(\alpha-\beta)$ 임을 이용한다.

[풀이] 근과 계수의 관계에 의하여 $\alpha+\beta=6, \alpha\beta=-8$ 이므로

$$(\alpha-\beta)^2=(\alpha+\beta)^2-4\alpha\beta=6^2-4 \times (-8)=68$$

이때 $\alpha > \beta$ 이므로 $\alpha-\beta=\sqrt{68}=2\sqrt{17}$

$$\therefore \alpha^2-\beta^2=(\alpha+\beta)(\alpha-\beta)$$

$$=6 \times 2\sqrt{17}=12\sqrt{17}$$

답 ④

0966 [전략] 이차방정식의 근과 계수의 관계를 이용하여 a, b, c 사이의 관계를 식으로 나타낸다.

[풀이] $ax^2+bx+c=0$ 에서 근과 계수의 관계에 의하여

$$-\frac{b}{a}=3 \quad \therefore b=-3a \quad \dots\dots \textcircled{A}$$

$$\frac{c}{a}=-2 \quad \therefore c=-2a \quad \dots\dots \textcircled{B}$$

①, ②를 $cx^2+bx+a=0$ 에 대입하면

$$-2ax^2-3ax+a=0, \quad 2x^2+3x-1=0$$

$$\therefore x=\frac{-3 \pm \sqrt{17}}{4} \quad \text{답 } x=\frac{-3 \pm \sqrt{17}}{4}$$

[다른 풀이] 두 근의 합이 3, 곱이 -2이고 x^2 의 계수가 a 인 이차방정식은

$$a(x^2-3x-2)=0, \text{ 즉 } ax^2-3ax-2a=0$$

으로 놓을 수 있다.

$$\therefore b=-3a, c=-2a$$



이차방정식 $ax^2+bx+c=0$ 의 두 근을 α, β 라 하면

$$\alpha+\beta=-\frac{b}{a}, \quad \alpha\beta=\frac{c}{a}$$

이므로 이차방정식 $cx^2+bx+a=0$ 의

$$(\text{두 근의 합})=-\frac{b}{c}=-\frac{b}{a} \times \frac{a}{c}=\frac{\alpha+\beta}{\alpha\beta}$$

$$(\text{두 근의 곱})=\frac{a}{c}=\frac{1}{\alpha\beta}$$

0967 [전략] 두 근을 $\alpha, \alpha+3$ 으로 놓고 근과 계수의 관계를 이용한다.

[풀이] 두 근을 $\alpha, \alpha+3$ 으로 놓으면

$$\alpha+(\alpha+3)=-2a+1, \quad \alpha(\alpha+3)=a+1$$

$\alpha=-a-1$ 을 $\alpha(\alpha+3)=a+1$ 에 대입하면

$$(-a-1)(-a+2)=a+1$$

$$a^2-2a-3=0, \quad (a+1)(a-3)=0$$

$$\therefore a=-1 \text{ 또는 } a=3$$

답 ②, ⑤

0968 [전략] 근의 공식을 이용하여 주어진 이차방정식의 해를 구한다.

[풀이] $2x^2+3x+a-4=0$ 에서

$$x=\frac{-3 \pm \sqrt{3^2-4 \times 2 \times (a-4)}}{4}$$

$$=\frac{-3 \pm \sqrt{41-8a}}{4}$$

... ①

이때 x 가 유리수이려면 $41-8a=0$ 또는 $41-8a=k^2$ (k 는 정수) 꼴이어야 한다.

(i) $41-8a=1$ 에서 $a=5$

(ii) $41-8a=9$ 에서 $a=4$

(iii) $41-8a=25$ 에서 $a=2$

이상에서 구하는 합은 $5+4+2=11$

... ②

... ③

답 11

채점 기준

① 이차방정식의 해를 구할 수 있다.	30%
② a 의 값을 구할 수 있다.	50%
③ 모든 a 의 값의 합을 구할 수 있다.	20%

참고 $41-8a=0$, $41-8a=4$, $41-8a=16$, $41-8a=36$, ... 을 만족시키는 a 는 자연수가 아니다.

0969 **전략** 중근을 가질 조건을 이용하여 a, b 사이의 관계를 식으로 나타낸다.

풀이 주사위를 2번 던져 나올 수 있는 모든 경우의 수는 36이다. ... ①

이차방정식 $x^2+ax+b=0$ 이 중근을 가지려면

$$a^2-4b=0 \quad \therefore a^2=4b \quad \dots ②$$

따라서 a, b 의 순서쌍 (a, b) 는 $(2, 1), (4, 4)$ 의 2가지이므로 구하는 확률은

$$\frac{2}{36} = \frac{1}{18} \quad \dots ③ \quad \text{답 } \frac{1}{18}$$

채점 기준

① 모든 경우의 수를 구할 수 있다.	20%
② a, b 사이의 관계를 식으로 나타낼 수 있다.	30%
③ 확률을 구할 수 있다.	50%



어떤 실험이나 관찰에서 각 경우가 일어날 가능성이 같을 때 일어날 수 있는 모든 경우의 수가 n 이고 어떤 사건 A 가 일어나는 경우의 수가 a 이면 사건 A 가 일어날 확률 p 는

$$p = \frac{(\text{사건 } A \text{가 일어나는 경우의 수})}{(\text{모든 경우의 수})} = \frac{a}{n}$$

0970 **전략** 이차방정식 $ax^2+bx+c=0$ 에서 b^2-4ac 의 값을 이용한다.

풀이 (i) $x^2-8x+(20+m)=0$ 에서

$$(-8)^2-4(20+m)>0$$

$$\therefore m<-4 \quad \dots ①$$

(ii) $(m^2+2)x^2+2(m-4)x+3=0$ 에서

$$\{2(m-4)\}^2-4(m^2+2) \times 3=0$$

$$m^2+4m-5=0, \quad (m+5)(m-1)=0$$

$$\therefore m=-5 \text{ 또는 } m=1 \quad \dots ②$$

(i), (ii)에서 $m=-5$... ③

답 -5

채점 기준

① $x^2-8x+(20+m)=0$ 에서 m 의 값의 범위를 구할 수 있다.	40%
② $(m^2+2)x^2+2(m-4)x+3=0$ 에서 m 의 값을 구할 수 있다.	40%
③ m 의 값을 구할 수 있다.	20%

0971 **전략** 이차방정식의 근과 계수의 관계를 이용한다.

풀이 $x^2-3x-1=0$ 에서 $a+b=3, ab=-1$

$$x^2-4x+2=0 \text{에서 } c+d=4, cd=2 \quad \dots ①$$

$$\therefore (\text{주어진 식}) = \frac{bd+ac+bc+ad}{abcd}$$

$$= \frac{a(c+d)+b(c+d)}{abcd}$$

$$= \frac{(a+b)(c+d)}{abcd} \quad \dots ②$$

$$= \frac{3 \times 4}{(-1) \times 2} = -6 \quad \dots ③$$

답 -6

채점 기준

① $a+b, ab, c+d, cd$ 의 값을 구할 수 있다.	40%
② 주어진 식을 간단히 할 수 있다.	40%
③ 식의 값을 구할 수 있다.	20%

0972 **전략** 이차방정식의 근과 계수의 관계를 이용하여 p, q 의 값을 구한다.

풀이 $x^2+px+q=0$ 의 두 근의 합이 $-p$, 곱이 q 이므로

$$x^2+(q-3)x+2p=0 \text{의 두 근이 } -p, q \text{이다.} \quad \dots ①$$

근과 계수의 관계에 의하여

$$-p+q=-(q-3), \quad -pq=2p$$

$$p=2q-3 \text{을 } -pq=2p \text{에 대입하여 정리하면}$$

$$2q^2+q-6=0, \quad (q+2)(2q-3)=0$$

$$\therefore q=-2 \text{ 또는 } q=\frac{3}{2} \quad \dots ②$$

$$\textcircled{1} \text{을 } p=2q-3 \text{에 대입하면 } p=-7 \text{ 또는 } p=0$$

그런데 $p=0, q=\frac{3}{2}$ 이면 $x^2+px+q=0$, 즉 $x^2+\frac{3}{2}=0$ 은 근을 갖지 않으므로

$$p=-7, q=-2 \quad \dots ③$$

$$\therefore p+q=-9 \quad \dots ④$$

답 -9

채점 기준

① $x^2+(q-3)x+2p=0$ 의 두 근을 구할 수 있다.	30%
② p, q 의 값을 구할 수 있다.	60%
③ $p+q$ 의 값을 구할 수 있다.	10%

09 이차방정식의 활용

0973 답 $1-\sqrt{2}$

0974 답 $3+\sqrt{5}$

0975 답 $2-3\sqrt{3}$

0976 답 $5+7\sqrt{2}$

0977 $6+\sqrt{12}=6+2\sqrt{3}$ 이므로 다른 한 근은 $6-2\sqrt{3}$
 답 $6-2\sqrt{3}$

0978 $4-\sqrt{20}=4-2\sqrt{5}$ 이므로 다른 한 근은 $4+2\sqrt{5}$
 답 $4+2\sqrt{5}$

0979 $(x-4)(x-6)=0$ 이므로 $x^2-10x+24=0$
 답 $x^2-10x+24=0$

0980 $x(x-6)=0$ 이므로 $x^2-6x=0$ 답 $x^2-6x=0$

0981 $(x+2)^2=0$ 이므로 $x^2+4x+4=0$
 답 $x^2+4x+4=0$

0982 $(x+\frac{1}{5})(x-\frac{1}{5})=0$ 이므로 $x^2-\frac{1}{25}=0$
 답 $x^2-\frac{1}{25}=0$

0983 $(x-\frac{3}{4})(x+1)=0$ 이므로 $x^2+\frac{1}{4}x-\frac{3}{4}=0$
 답 $x^2+\frac{1}{4}x-\frac{3}{4}=0$

0984 $8(x-\frac{1}{2})(x+\frac{1}{4})=0$ 이므로 $8x^2-2x-1=0$
 답 $8x^2-2x-1=0$

0985 $9(x-\frac{1}{3})^2=0$ 이므로 $9x^2-6x+1=0$
 답 $9x^2-6x+1=0$

0986 $-(x^2-3x-10)=0$ 이므로 $-x^2+3x+10=0$
 답 $-x^2+3x+10=0$

0987 $3(x^2-3x-\frac{8}{3})=0$ 이므로 $3x^2-9x-8=0$
 답 $3x^2-9x-8=0$

0988 (1) $(x+3)^2=10x+6$ 에서 $x^2-4x+3=0$
 (2) $x^2-4x+3=0$ 에서 $(x-1)(x-3)=0$
 $\therefore x=1$ 또는 $x=3$
 답 (1) $x^2-4x+3=0$ (2) 1 또는 3

0989 (1) $(2x-1)+2=2x+1$
 (2) $(2x-1)(2x+1)=99$ 에서 $4x^2-1=99$
 $x^2=25 \therefore x=5$ ($\because x$ 는 자연수)
 (3) $x=5$ 이므로 연속하는 두 홀수는 9, 11이다.
 답 (1) $2x+1$ (2) 5 (3) 9, 11

0990 (1) 물체가 지면에 떨어질 때의 높이는 0m이다.

(2) $40x-5x^2=0$ 에서 $x^2-8x=0$

$x(x-8)=0 \therefore x=8$ ($\because x>0$)

따라서 물체가 지면에 떨어질 때까지 걸리는 시간은 8초이다.

답 (1) 0m (2) 8초

0991 (1) $(x+8)(x+5)=x^2+13x+40$ (m²)

(2) $x^2+13x+40=8 \times 5+30$ 이므로

$x^2+13x-30=0, (x+15)(x-2)=0$

$\therefore x=2$ ($\because x>0$)

답 (1) $(x^2+13x+40)$ m² (2) 2

0992 다른 한 근은 $2+2\sqrt{3}$ 이므로

$k+1=(2-2\sqrt{3})(2+2\sqrt{3})=-8$

$\therefore k=-9$

답 ①

0993 다른 한 근은 $2+\sqrt{5}$ 이므로

$p=(2-\sqrt{5})+(2+\sqrt{5})=4$

$q=(2-\sqrt{5})(2+\sqrt{5})=-1$

$\therefore p+q=3$

답 3

0994 $3<\sqrt{10}<4$ 이므로 $2<6-\sqrt{10}<3$

$\therefore a=2, b=4-\sqrt{10}$

따라서 $2x^2+px+q=0$ 의 다른 한 근은 $4+\sqrt{10}$ 이므로

$-\frac{p}{2}=(4-\sqrt{10})+(4+\sqrt{10})=8$

$\frac{q}{2}=(4-\sqrt{10})(4+\sqrt{10})=6$

$\therefore p=-16, q=12$

$\therefore p+2q=-16+2 \times 12=8$

답 8

0995 $\frac{1}{2+\sqrt{3}}=\frac{2-\sqrt{3}}{(2+\sqrt{3})(2-\sqrt{3})}=2-\sqrt{3}$

따라서 $mx^2-8x-n=0$ 의 다른 한 근은 $2+\sqrt{3}$ 이므로 ... ①

$\frac{8}{m}=(2-\sqrt{3})+(2+\sqrt{3})=4$

$-\frac{n}{m}=(2-\sqrt{3})(2+\sqrt{3})=1$

$\therefore m=2, n=-2$... ②

따라서 $m-n=4, mn=-4$ 가 이차방정식 $x^2-px+q=0$ 의 두 근이므로

$p=4+(-4)=0, q=4 \times (-4)=-16$... ③

$\therefore p+q=-16$... ④

답 -16

채점 기준

① 이차방정식의 다른 한 근을 구할 수 있다.	30%
② m, n 의 값을 구할 수 있다.	30%
③ p, q 의 값을 구할 수 있다.	30%
④ $p+q$ 의 값을 구할 수 있다.	10%

0996 $\alpha+\beta=-2, \alpha\beta=-5$ 이므로 구하는 이차방정식은

$(x+2)(x+5)=0 \therefore x^2+7x+10=0$

답 ⑤

0997 두 근이 $-3, 5$ 이고 x^2 의 계수가 2인 이차방정식은
 $2(x+3)(x-5)=0 \quad \therefore 2x^2-4x-30=0$

따라서 $a=-4, b=-30$ 이므로 $a-b=26$ 답 ④

다른 풀이 근과 계수의 관계에 의하여

$$-\frac{a}{2} = -3+5=2, \quad \frac{b}{2} = -3 \times 5 = -15$$

따라서 $a=-4, b=-30$ 이므로 $a-b=26$

0998 x^2 의 계수가 4이고 중근 -3 을 갖는 이차방정식은
 $4(x+3)^2=0 \quad \therefore 4x^2+24x+36=0$

따라서 $A=24, B=12$ 이므로

$$A-B=12 \quad \text{답 12}$$

0999 $(-6)^2-4 \times 3m=0$ 이므로 $m=3$

따라서 두 근이 $3, 6$ 이고 x^2 의 계수가 2인 이차방정식은

$$2(x-3)(x-6)=0 \quad \therefore 2x^2-18x+36=0 \quad \text{답 ③}$$

1000 $\alpha+\beta=\frac{5}{2}, \alpha\beta=-2$ 이므로 ... ①

$$(\alpha-2)+(\beta-2)=\alpha+\beta-4=\frac{5}{2}-4=-\frac{3}{2}$$

$$(\alpha-2)(\beta-2)=\alpha\beta-2(\alpha+\beta)+4$$

$$=-2-2 \times \frac{5}{2}+4=-3 \quad \text{... ②}$$

따라서 구하는 이차방정식은

$$2\left(x^2+\frac{3}{2}x-3\right)=0 \quad \therefore 2x^2+3x-6=0 \quad \text{... ③}$$

$$\text{답 } 2x^2+3x-6=0$$

채점 기준

① $\alpha+\beta, \alpha\beta$ 의 값을 구할 수 있다.	30%
② $(\alpha-2)+(\beta-2), (\alpha-2)(\beta-2)$ 의 값을 구할 수 있다.	40%
③ 이차방정식을 구할 수 있다.	30%

1001 $y=ax+b$ 의 그래프에서 $a=\frac{7}{5}, b=-7$... ①

따라서 $\frac{7}{5}, -7$ 을 두 근으로 하고 x^2 의 계수가 5인 이차방정식은

$$5\left(x-\frac{7}{5}\right)(x+7)=0 \quad \therefore 5x^2+28x-49=0 \quad \text{... ②}$$

$$\text{답 } 5x^2+28x-49=0$$

채점 기준

① a, b 의 값을 구할 수 있다.	40%
② 이차방정식을 구할 수 있다.	60%

1002 -8 과 1 을 두 근으로 하고 x^2 의 계수가 1인 이차방정식은
 $(x+8)(x-1)=0 \quad \therefore x^2+7x-8=0$

즉 이차방정식의 상수항은 -8 이다.

-5 와 3 을 두 근으로 하고 x^2 의 계수가 1인 이차방정식은

$$(x+5)(x-3)=0 \quad \therefore x^2+2x-15=0$$

즉 이차방정식의 x 의 계수는 2 이다.

따라서 처음에 주어진 이차방정식은 $x^2+2x-8=0$ 이므로

$$a=2, b=-8 \quad \therefore a+b=-6 \quad \text{답 -6}$$

1003 $x^2-3ax+2a=0$ 에서 x 의 계수와 상수항을 바꾸면
 $x^2+2ax-3a=0$

$x=-3$ 을 위의 식에 대입하면

$$(-3)^2-6a-3a=0 \quad \therefore a=1$$

따라서 처음에 주어진 이차방정식은 $x^2-3x+2=0$ 이므로

$$(x-1)(x-2)=0 \quad \therefore x=1 \text{ 또는 } x=2$$

$$\text{답 } x=1 \text{ 또는 } x=2$$

1004 $\frac{n(n-3)}{2}=44$ 이므로 $n^2-3n-88=0$

$$(n+8)(n-11)=0 \quad \therefore n=11 (\because n>0)$$

따라서 구하는 다각형은 십일각형이다. 답 ⑤

1005 $\frac{n(n+1)}{2}=36$ 이므로 $n^2+n-72=0$

$$(n+9)(n-8)=0 \quad \therefore n=8 (\because n>0)$$

따라서 구하는 삼각형은 8번째 삼각형이다. 답 ②

1006 $\frac{n(n+1)}{2}=210$ 이므로 $n^2+n-420=0$

$$(n+21)(n-20)=0 \quad \therefore n=20 (\because n>0)$$

따라서 1부터 20까지 더해야 한다. 답 ④

1007 $n(n-1)=42$ 이므로 $n^2-n-42=0$

$$(n+6)(n-7)=0 \quad \therefore n=7 (\because n>0)$$

$$\text{답 ③}$$



0이 아닌 서로 다른 한 자리의 숫자가 각각 하나씩 적힌 n 장의 카드 중에서

① 2장을 뽑아 만들 수 있는 두 자리 자연수의 개수는 $\rightarrow n(n-1)$

② 3장을 뽑아 만들 수 있는 세 자리 자연수의 개수는

$$\rightarrow n(n-1)(n-2)$$

1008 가로, 세로, 대각선에 있는 수의 합이 모두 같으므로 가로에 있는 수의 합은

$$\frac{1+2+3+\cdots+9}{3}=\frac{45}{3}=15$$

$$(x^2+4)+(2x-1)+4=15 \text{에서} \quad x^2+2x-8=0$$

$$(x+4)(x-2)=0 \quad \therefore x=2 (\because x \text{는 자연수}) \quad \text{답 2}$$

1009 $\langle x \rangle^2+\langle x \rangle-12=0$ 에서 $(\langle x \rangle+4)(\langle x \rangle-3)=0$

$$\therefore \langle x \rangle=3 (\because \langle x \rangle>0)$$

$$\therefore x=4, 9$$

따라서 모든 자연수 x 의 값의 합은 13 이다. 답 ②

1010 $(x-2)(x+1)-(-3x)=1$ 이므로

$$x^2+2x-3=0, \quad (x+3)(x-1)=0$$

$$\therefore x=-3 \text{ 또는 } x=1$$

$$\text{답 ①, ④}$$

1011 $(x-1)(3x+2)-(x-1)+(3x+2)=7$ 이므로

$$3x^2+x-6=0$$

따라서 모든 실수 x 의 값의 곱은 근과 계수의 관계에 의하여

$$-\frac{6}{3}=-2$$

$$\text{답 ④}$$

1012 어떤 수를 x 라 하면 $(x+3)^2=2(x+3)$
 $x^2+4x+3=0, (x+3)(x+1)=0$
 $\therefore x=-3$ 또는 $x=-1$ 답 -3 또는 -1

1013 어떤 양수를 x 라 하면
 $x(x-1)=156, x^2-x-156=0$
 $(x+12)(x-13)=0 \therefore x=13 (\because x>0)$
 따라서 원래의 두 수의 곱은 $13 \times 14=182$ 답 182

1014 십의 자리의 숫자를 x 라 하면 일의 자리의 숫자는 $12-x$ 이므로
 $x(12-x)=(10x+12-x)-22$... ①
 $x^2-3x-10=0, (x+2)(x-5)=0$
 $\therefore x=5 (\because x \text{는 자연수})$... ②
 따라서 구하는 수는 57이다. ... ③
답 57

채점 기준

① 이차방정식을 세울 수 있다.	40%
② 이차방정식의 해를 구할 수 있다.	40%
③ 두 자리 자연수를 구할 수 있다.	20%

1015 연속하는 세 자연수를 $x-1, x, x+1$ 로 놓으면
 $5\{(x+1)+(x-1)\}+24=x^2$
 $x^2-10x-24=0, (x+2)(x-12)=0$
 $\therefore x=12 (\because x \text{는 자연수})$
 따라서 가장 큰 수는 13이다. 답 ③
참고 세 자연수는 11, 12, 13이다.

1016 연속하는 두 홀수를 $x, x+2$ 로 놓으면
 $x^2+(x+2)^2=130$... ①
 $x^2+2x-63=0, (x+9)(x-7)=0$
 $\therefore x=7 (\because x \text{는 홀수})$... ②
 따라서 두 홀수는 7, 9이므로 구하는 곱은 63이다. ... ③
답 63

채점 기준

① 이차방정식을 세울 수 있다.	40%
② 이차방정식의 해를 구할 수 있다.	40%
③ 두 수의 곱을 구할 수 있다.	20%

1017 연속하는 세 짝수를 $x-2, x, x+2$ 로 놓으면
 $(x+2)^2=2x(x-2)+20, x^2-8x+16=0$
 $(x-4)^2=0 \therefore x=4$
 따라서 세 짝수는 2, 4, 6이므로 구하는 합은 12이다. 답 ①

1018 동생의 나이를 x 살이라 하면 영은이의 나이는 $(x+5)$ 살
 이므로
 $(x+5)^2=2x^2+1, x^2-10x-24=0$
 $(x+2)(x-12)=0 \therefore x=12 (\because x>0)$
 따라서 동생의 나이는 12살이다. 답 ③

1019 여름 캠프의 날짜를 $(x-1)$ 일, x 일, $(x+1)$ 일이라 하면
 $(x-1)^2+x^2+(x+1)^2=245, 3x^2=243$
 $x^2=81 \therefore x=9 (\because x>1)$
 따라서 출발 날짜는 8일이다. 답 ④

1020 상품의 가격을 A 원, 이때의 판매량을 B 개라 하면 가격
 인상 전후의 수입이 같으므로
 $AB=A\left(1+\frac{5x}{100}\right)B\left(1-\frac{4x}{100}\right)$... ①
 $20x^2-100x=0, 20x(x-5)=0$
 $\therefore x=5 (\because x>0)$... ②
답 5

채점 기준

① 이차방정식을 세울 수 있다.	50%
② x 의 값을 구할 수 있다.	50%

1021 처음 동아리 학생 수를 x 라 하면
 $\left(\frac{108}{x}-1\right)+4=x, \frac{108}{x}+3=x$
 $x^2-3x-108=0, (x+9)(x-12)=0$
 $\therefore x=12 (\because x>0)$
 따라서 구하는 학생 수는 12이다. 답 12

1022 $2+9t-5t^2=0$ 이므로 $5t^2-9t-2=0$
 $(5t+1)(t-2)=0 \therefore t=2 (\because t>0)$
 따라서 2초 후에 지면에 떨어진다. 답 ③

1023 $-5t^2+25t+70=100$ 이므로 $t^2-5t+6=0$
 $(t-2)(t-3)=0 \therefore t=2$ 또는 $t=3$
 따라서 2초 후에 터지도록 해야 한다. 답 ②

1024 (1) $k=-5 \times 1^2+20 \times 1=15$... ①
 (2) $-5t^2+20t=15$ 이므로 $t^2-4t+3=0$
 $(t-1)(t-3)=0 \therefore t=1$ 또는 $t=3$... ②
 따라서 3초 후에 높이가 15 m인 지점을 다시 지난다. ... ③
답 (1) 15 (2) 3초

채점 기준

① k 의 값을 구할 수 있다.	50%
② t 의 값을 구할 수 있다.	30%
③ 답을 구할 수 있다.	20%

1025 $50t-5t^2=80$ 이므로 $t^2-10t+16=0$
 $(t-2)(t-8)=0 \therefore t=2$ 또는 $t=8$
 따라서 높이가 80m 이상인 지점을 지나는 시간은 2초부터 8초
 까지이므로 6초 동안이다. 답 6초

1026 가로 길이를 x cm라 하면 세로 길이는 $(18-x)$ cm
 이므로
 $x(18-x)=72, x^2-18x+72=0$
 $(x-6)(x-12)=0$
 $\therefore x=12 (\because 9<x<18)$
 따라서 가로의 길이는 12 cm이다. 답 12 cm

참고 (i) 가로 길이가 세로 길이보다 길어야 하므로

$$x > 18 - x \quad \therefore x > 9$$

(ii) 세로 길이는 양수이므로 $18 - x > 0 \quad \therefore x < 18$

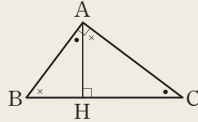
(i), (ii)에서 $9 < x < 18$

1027 $(x+1)^2 = 4(4+2x)$ 이므로 $x^2 - 6x - 15 = 0$

$$\therefore x = 3 + 2\sqrt{6} \quad (\because x > 0) \quad \text{답 ③}$$



$\angle A = 90^\circ$ 인 직각삼각형 ABC의 꼭짓점 A에서 빗변 BC에 내린 수선의 발을 H라 할 때



① $\overline{AB}^2 = \overline{BH} \times \overline{BC}$

② $\overline{AC}^2 = \overline{CH} \times \overline{CB}$

③ $\overline{AH}^2 = \overline{HB} \times \overline{HC}$

1028 $\overline{BQ} = x$ cm라 하면 $\overline{QC} = (6-x)$ cm, $\overline{PC} = (8-x)$ cm이므로

$$\frac{1}{2}(6-x)(8-x) = 4 \quad \dots ①$$

$$x^2 - 14x + 40 = 0, \quad (x-4)(x-10) = 0$$

$$\therefore x = 4 \quad (\because 0 < x < 6) \quad \dots ②$$

따라서 \overline{BQ} 의 길이는 4cm이다. $\dots ③$

답 4cm

채점 기준

① 이차방정식을 세울 수 있다.	50%
② 이차방정식의 해를 구할 수 있다.	40%
③ BQ의 길이를 구할 수 있다.	10%

1029 $\angle BAC = \angle BCA = \frac{1}{2} \times (180^\circ - 36^\circ) = 72^\circ$ 이므로

$$\angle BAD = \angle CAD = 36^\circ, \quad \angle CDA = 72^\circ$$

$$\therefore \overline{AC} = \overline{AD} = \overline{BD}$$

이때 $\overline{AC} = x$ cm라 하면 $\overline{AB} : \overline{AC} = \overline{BD} : \overline{CD}$ 에서

$$6 : x = x : (6-x), \quad x^2 + 6x - 36 = 0$$

$$\therefore x = -3 + 3\sqrt{5} \quad (\because 0 < x < 6)$$

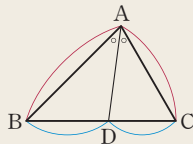
따라서 \overline{AC} 의 길이는 $(-3 + 3\sqrt{5})$ cm이다. $\text{답 } (-3 + 3\sqrt{5}) \text{ cm}$



삼각형의 내각의 이등분선의 성질

$\triangle ABC$ 에서 $\angle A$ 의 이등분선이 \overline{BC} 와 만나는 점을 D라 하면

$$\overline{AB} : \overline{AC} = \overline{BD} : \overline{CD}$$



1030 $\overline{AD} = x$ cm라 하면

$$\frac{1}{2} \times (x+x+4) \times x = 80 \quad \dots ①$$

$$x^2 + 2x - 80 = 0, \quad (x+10)(x-8) = 0$$

$$\therefore x = 8 \quad (\because x > 0) \quad \dots ②$$

$$\therefore \overline{BC} = 2 + 8 + 2 = 12 \text{ (cm)} \quad \dots ③$$

답 12cm

채점 기준

① 이차방정식을 세울 수 있다.	40%
② 이차방정식의 해를 구할 수 있다.	40%
③ BC의 길이를 구할 수 있다.	20%

1031 큰 정사각형의 한 변의 길이를 x cm라 하면

$$x^2 + (10-x)^2 = 58, \quad x^2 - 10x + 21 = 0$$

$$(x-3)(x-7) = 0$$

$$\therefore x = 7 \quad (\because 5 < x < 10)$$

따라서 큰 정사각형의 한 변의 길이는 7cm이다. 답 ⑤

1032 작은 정사각형의 한 변의 길이를 x cm라 하면 작은 정사각형의 둘레의 길이는 $4x$ cm이므로 큰 정사각형의 둘레의 길이는 $(8-4x)$ cm이고, 큰 정사각형의 한 변의 길이는 $(2-x)$ cm이다. 두 정사각형의 넓이의 비가 1 : 2이므로

$$x^2 : (2-x)^2 = 1 : 2, \quad (2-x)^2 = 2x^2 \quad \dots ①$$

$$x^2 + 4x - 4 = 0$$

$$\therefore x = -2 + 2\sqrt{2} \quad (\because x > 0) \quad \dots ②$$

따라서 작은 정사각형의 한 변의 길이는 $(-2 + 2\sqrt{2})$ cm이다. $\dots ③$

답 $(-2 + 2\sqrt{2})$ cm

채점 기준

① 이차방정식을 세울 수 있다.	50%
② 이차방정식의 해를 구할 수 있다.	40%
③ 작은 정사각형의 한 변의 길이를 구할 수 있다.	10%

1033 $\overline{BC} = x$ cm라 하면 $\overline{CG} = (13-x)$ cm이므로

$$10 : x = (13-x) : 4, \quad x(13-x) = 40$$

$$x^2 - 13x + 40 = 0, \quad (x-5)(x-8) = 0$$

$$\therefore x = 8 \quad (\because \frac{13}{2} < x < 13)$$

$$\therefore \square ABCD = 10 \times 8 = 80 \text{ (cm}^2\text{)} \quad \text{답 ③}$$

1034 $\overline{OP} = x$ cm라 하면 $\overline{AP} = (6+x)$ cm, $\overline{PB} = (6-x)$ cm이므로

$$(6+x)^2 = 4(6-x)^2, \quad x^2 - 20x + 36 = 0$$

$$(x-2)(x-18) = 0 \quad \therefore x = 2 \quad (\because 0 < x < 6)$$

따라서 \overline{OP} 의 길이는 2cm이다. 답 2cm

1035 가장 작은 반원의 반지름의 길이를 x cm라 하면 두 번째로 큰 반원의 반지름의 길이는 $(10-x)$ cm이므로

$$\frac{1}{2}\pi \times 10^2 - \frac{1}{2}\pi x^2 - \frac{1}{2}\pi (10-x)^2 = 24\pi$$

$$x^2 - 10x + 24 = 0, \quad (x-4)(x-6) = 0$$

$$\therefore x = 4 \quad (\because 0 < x < 5)$$

따라서 가장 작은 반원의 반지름의 길이는 4cm이다. 답 ④

1036 $\pi \times (6+x)^2 - \pi \times 6^2 = 45\pi$ 이므로

$$x^2 + 12x - 45 = 0, \quad (x+15)(x-3) = 0$$

$$\therefore x = 3 \quad (\because x > 0) \quad \text{답 3}$$

1037 연못의 반지름의 길이를 x m라 하면

$$\pi \times (x+3)^2 - \pi \times x^2 = \frac{1}{2} \pi \times (x+3)^2 \quad \dots ①$$

$$x^2 - 6x - 9 = 0 \quad \dots ②$$

$$\therefore x = 3 + 3\sqrt{2} \quad (\because x > 0)$$

따라서 연못의 둘레의 길이는

$$2\pi \times (3 + 3\sqrt{2}) = (6 + 6\sqrt{2})\pi \text{ (m)} \quad \dots ③$$

답 (6 + 6√2)π m

채점 기준

① 이차방정식을 세울 수 있다.	40%
② 이차방정식의 해를 구할 수 있다.	40%
③ 연못의 둘레의 길이를 구할 수 있다.	20%

1038 늘어난 길이를 x m라 하면

$$(x+8)(x+4) = 8 \times 4 + 28$$

$$x^2 + 12x - 28 = 0, \quad (x+14)(x-2) = 0$$

$$\therefore x = 2 \quad (\because x > 0)$$

따라서 세로의 길이는 2m 만큼 늘어났다. 답 ③

1039 x 초 후에 처음 직사각형의 넓이와 같아진다고 하면

$$(9-x)(6+2x) = 54$$

$$x^2 - 6x = 0, \quad x(x-6) = 0$$

$$\therefore x = 6 \quad (\because 0 < x < 9)$$

따라서 6초 후에 처음 직사각형의 넓이와 같아진다. 답 6초

1040 처음 삼각형의 밑변의 길이를 x cm라 하면

$$\frac{1}{2}(x+2)(x+3) = 2 \times \left(\frac{1}{2} \times x \times x\right) \quad \dots ①$$

$$x^2 - 5x - 6 = 0, \quad (x+1)(x-6) = 0$$

$$\therefore x = 6 \quad (\because x > 0) \quad \dots ②$$

따라서 처음 삼각형의 넓이는

$$\frac{1}{2} \times 6 \times 6 = 18 \text{ (cm}^2\text{)} \quad \dots ③$$

답 18 cm²

채점 기준

① 이차방정식을 세울 수 있다.	40%
② 이차방정식의 해를 구할 수 있다.	40%
③ 처음 삼각형의 넓이를 구할 수 있다.	20%

1041 잘라내는 정사각형의 한 변의 길이를 x cm라 하면

$$(10-2x)^2 = 36, \quad x^2 - 10x + 16 = 0$$

$$(x-2)(x-8) = 0 \quad \therefore x = 2 \quad (\because 0 < x < 5)$$

따라서 구하는 부피는

$$6 \times 6 \times 2 = 72 \text{ (cm}^3\text{)} \quad \text{답 } 72 \text{ cm}^3$$

1042 물받이의 높이를 x cm라 하면

$$x(50-2x) = 312, \quad x^2 - 25x + 156 = 0$$

$$(x-12)(x-13) = 0 \quad \therefore x = 12 \text{ 또는 } x = 13$$

따라서 물받이의 높이는 12cm 또는 13cm이다. 답 ②, ③

1043 도로의 폭을 x m라 하면

도로를 제외한 나머지 부분의 넓이는 가로 길이가 $(18-x)$ m, 세로 길이가 $(10-x)$ m인 직사각형의 넓이와 같으므로

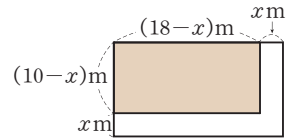
$$(18-x)(10-x) = 128$$

$$x^2 - 28x + 52 = 0$$

$$(x-2)(x-26) = 0$$

$$\therefore x = 2 \quad (\because 0 < x < 10)$$

따라서 도로의 폭은 2m이다. 답 2 m



1044 산책로의 폭을 x m라 하면

$$(9+2x)(4+2x) - 9 \times 4 = 48$$

$$2x^2 + 13x - 24 = 0, \quad (x+8)(2x-3) = 0$$

$$\therefore x = \frac{3}{2} \quad (\because x > 0)$$

따라서 산책로의 폭은 $\frac{3}{2}$ m이다. 답 ②

1045 길의 폭을 x m라 하면 남은 땅은 가로의 길이가

$$(13-x)\text{m, 세로 길이가 } (10-2x)\text{m인 직사각형 모양이므로}$$

$$(13-x)(10-2x) = 66, \quad x^2 - 18x + 32 = 0$$

$$(x-2)(x-16) = 0$$

$$\therefore x = 2 \quad (\because 0 < x < 5)$$

따라서 길의 폭은 2m이다. 답 2 m

1046 **전략** 이차방정식 $9x^2 + ax - b = 0$ 의 계수가 모두 유리수이므로 다른 한 근은 $\frac{-2+\sqrt{6}}{3}$ 이다.

풀이 다른 한 근은 $\frac{-2+\sqrt{6}}{3}$ 이므로

$$-\frac{a}{9} = \frac{-2-\sqrt{6}}{3} + \frac{-2+\sqrt{6}}{3} = -\frac{4}{3} \quad \therefore a = 12$$

$$-\frac{b}{9} = \frac{-2-\sqrt{6}}{3} \times \frac{-2+\sqrt{6}}{3} = -\frac{2}{9} \quad \therefore b = 2$$

따라서 $2x^2 - 12x + 16 = 0$, 즉 $x^2 - 6x + 8 = 0$ 이므로

$$(x-2)(x-4) = 0 \quad \therefore x = 2 \text{ 또는 } x = 4$$

답 $x = 2$ 또는 $x = 4$

1047 **전략** $\langle x \rangle + 1 = A$ 로 치환하여 이차방정식을 푼다.

풀이 $\langle x \rangle + 1 = A$ 로 치환하면

$$A^2 - 2(A+3) - 9 = 0, \quad A^2 - 2A - 15 = 0$$

$$(A+3)(A-5) = 0$$

$$\therefore A = -3 \text{ 또는 } A = 5$$

(i) $\langle x \rangle + 1 = -3$ 에서 $\langle x \rangle = -4$

(ii) $\langle x \rangle + 1 = 5$ 에서 $\langle x \rangle = 4$

(i), (ii)에서 $\langle x \rangle = 4 \quad (\because \langle x \rangle \geq 0)$

따라서 자연수 x 는 7, 8, 9, 10이므로 구하는 합은 34이다. 답 34

참고 소수는 2, 3, 5, 7, 11, ...이므로 6 이하의 소수의 개수는 3이고, 11 이하의 소수의 개수는 5이다.

1048 전략 (소금의 양) = $\frac{(\text{농도})}{100} \times (\text{소금물의 양})$ 임을 이용한다.

풀이 20%의 소금물 100g에서 x g의 소금물을 퍼내면 남아 있는 소금물의 양은 $(100-x)$ g이므로 소금의 양은

$$\frac{20}{100}(100-x)(g)$$

이 소금물에 물 x g을 넣으면 소금물의 양은 100g이므로 소금물의 농도는

$$\frac{20}{100}(100-x)(\%)$$

이 소금물에서 다시 x g의 소금물을 퍼내면 남아 있는 소금물의 양은 $(100-x)$ g이므로 소금의 양은

$$\frac{20}{100}(100-x) \times \frac{1}{100} \times (100-x) = \frac{1}{500}(100-x)^2(g)$$

이 소금물에 물 x g을 넣으면 소금물의 양은 100g이므로 소금물의 농도는

$$\frac{1}{500}(100-x)^2(\%)$$

이때 이 소금물의 농도가 5%이므로

$$\frac{1}{500}(100-x)^2=5, \quad (100-x)^2=2500$$

$$100-x=\pm 50 \quad \therefore x=50 \quad (\because 0 < x < 100) \quad \text{답 ⑤}$$

1049 전략 트랙의 둘레의 길이는 모형 자동차가 8초 동안 움직인 거리와 같다.

풀이 트랙의 둘레의 길이는 모형 자동차가 8초 동안 움직인 거리와 같으므로

$$8^2+4 \times 8=96(m)$$

모형 자동차가 트랙을 두 바퀴를 돌 때 움직인 거리는

$$96 \times 2=192(m) \text{이므로}$$

$$t^2+4t=192, \quad t^2+4t-192=0$$

$$(t+16)(t-12)=0$$

$$\therefore t=12 \quad (\because t>0)$$

따라서 두 바퀴를 도는 데 12초 걸린다.

답 12초

1050 전략 점 A의 좌표를 $(a, -\frac{1}{2}a+3)$ 으로 놓는다.

풀이 점 A의 좌표를 $(a, -\frac{1}{2}a+3)$ 이라 하면

$$\overline{BD}=6-a, \quad \overline{CE}=3-\left(-\frac{1}{2}a+3\right)=\frac{1}{2}a$$

$\triangle ABD : \triangle ECA = 3 : 2$ 이므로

$$2\triangle ABD = 3\triangle ECA$$

$$2\left\{\frac{1}{2} \times (6-a) \times \left(-\frac{1}{2}a+3\right)\right\} = 3\left\{\frac{1}{2} \times a \times \frac{1}{2}a\right\}$$

$$\frac{1}{2}a^2-6a+18=\frac{3}{4}a^2, \quad a^2+24a-72=0$$

$$\therefore a=-12+6\sqrt{6} \quad (\because 0 < a < 6)$$

따라서 점 A의 x 좌표는 $-12+6\sqrt{6}$ 이다.

답 $-12+6\sqrt{6}$

1051 전략 $\overline{AH}=x$ cm로 놓고 정사각형 ABCD의 넓이를 x 에 대한 식으로 나타낸다.

풀이 $\triangle AEH \equiv \triangle BFE \equiv \triangle CGF \equiv \triangle DHG$ 이므로

$$\square ABCD = \square EFGH + 4\triangle AEH$$

$\overline{AH}=x$ cm라 하면

$$12^2=10^2+4 \times \frac{1}{2}x(12-x), \quad x^2-12x+22=0$$

$$\therefore x=6-\sqrt{14} \quad (\because 0 < x < 6)$$

따라서 \overline{AH} 의 길이는 $(6-\sqrt{14})$ cm이다. 답 $(6-\sqrt{14})$ cm

1052 전략 $\overline{AD}=x$ 로 놓고 두 직사각형 ABCD와 BCEF가 닮음임을 이용한다.

풀이 $\overline{AD}=x$ 라 하면 $\square ABCD \sim \square BCEF$ 이므로

$$\overline{AB} : \overline{AD} = \overline{BC} : \overline{BF}$$

$$2 : x = x : (2-x), \quad x^2+2x-4=0$$

$$\therefore x=-1+\sqrt{5} \quad (\because x>0)$$

따라서 \overline{AD} 의 길이는 $-1+\sqrt{5}$ 이다. 답 ③

1053 전략 오각형 APQCD의 넓이가 258cm^2 일 때의 $\triangle PBQ$ 의 넓이를 구한다.

풀이 x 초 후에 오각형 APQCD의 넓이가 258cm^2 가 된다고 하면 그때의 $\triangle PBQ$ 의 넓이는 $300-258=42(\text{cm}^2)$ 이므로

$$\frac{1}{2} \times (15-2x) \times 3x = 42, \quad 2x^2-15x+28=0$$

$$(2x-7)(x-4)=0$$

$$\therefore x=\frac{7}{2} \text{ 또는 } x=4$$

따라서 구하는 시간은 $\frac{7}{2}$, 즉 3.5초이다. 답 ②

1054 전략 길의 폭을 x m로 놓고 길을 제외한 부분의 넓이를 x 에 대한 식으로 나타낸다.

풀이 길의 폭을 x m라 하면

$$(70-x)(60-2x)=2400, \quad x^2-100x+900=0$$

$$(x-10)(x-90)=0 \quad \therefore x=10 \quad (\because 0 < x < 30)$$

따라서 길의 폭은 10m이다. 답 10m

1055 전략 연속하는 다섯 개의 자연수를 $x-2, x-1, x, x+1, x+2$ 로 놓고 이차방정식을 세운다.

풀이 다섯 개의 자연수를 $x-2, x-1, x, x+1, x+2$ 로 놓으면

$$(x-2)^2+(x-1)^2+x^2=(x+1)^2+(x+2)^2 \quad \cdots ①$$

$$x^2-12x=0, \quad x(x-12)=0$$

$$\therefore x=12 \quad (\because x \text{는 자연수}) \quad \cdots ②$$

따라서 연속하는 다섯 개의 자연수는 10, 11, 12, 13, 14이므로 구하는 합은 60이다. 답 60

채점 기준

① 이차방정식을 세울 수 있다.	40%
② 이차방정식의 해를 구할 수 있다.	40%
③ 다섯 개의 자연수의 합을 구할 수 있다.	20%

1056 전략 $\overline{EP}=x\text{cm}$ 로 놓고 $\triangle QCP \sim \triangle ABP$ 임을 이용하여 이차방정식을 세운다.

풀이 $\overline{EP}=x\text{cm}$ 라 하면 $\overline{PC}=(4-x)\text{cm}$, $\overline{PB}=(12-x)\text{cm}$ 이고 $\triangle QCP : \triangle ABCQ = 1 : 12$ 이므로

$$\triangle QCP : \triangle ABP = 1 : 13 \quad \dots ①$$

이때 $\triangle QCP \sim \triangle ABP$ (AA 답음)이므로

$$(4-x)^2 : (12-x)^2 = 1 : 13 \quad \dots ②$$

$$(12-x)^2 = 13(4-x)^2$$

$$3x^2 - 20x + 16 = 0$$

$$\therefore x = \frac{10-2\sqrt{13}}{3} \quad (\because 0 < x < 4) \quad \dots ③$$

따라서 \overline{EP} 의 길이는 $\frac{10-2\sqrt{13}}{3}\text{cm}$ 이다. $\dots ④$

답 $\frac{10-2\sqrt{13}}{3}\text{cm}$

채점 기준

① $\triangle QCP$ 와 $\triangle ABP$ 의 넓이의 비를 구할 수 있다.	10%
② 이차방정식을 세울 수 있다.	40%
③ 이차방정식의 해를 구할 수 있다.	40%
④ \overline{EP} 의 길이를 구할 수 있다.	10%

1057 전략 큰 정사각형의 한 변의 길이를 x 로 놓으면 작은 정사각형의 한 변의 길이가 $x-6$ 임을 이용하여 이차방정식을 세운다.

풀이 큰 정사각형의 한 변의 길이를 x 라 하면 작은 정사각형의 한 변의 길이는 $x-6$ 이므로

$$x^2 + (x-6)^2 = 468 \quad \dots ①$$

$$x^2 - 6x - 216 = 0, \quad (x+12)(x-18) = 0$$

$$\therefore x = 18 \quad (\because x > 6) \quad \dots ②$$

따라서 큰 정사각형의 한 변의 길이는 18이다. $\dots ③$

답 18

채점 기준

① 이차방정식을 세울 수 있다.	50%
② 이차방정식의 해를 구할 수 있다.	40%
③ 큰 정사각형의 한 변의 길이를 구할 수 있다.	10%

1058 전략 색지의 짧은 변의 길이를 $x\text{cm}$ 로 놓고 널빤지의 넓이를 x 에 대한 식으로 나타낸다.

풀이 색지의 짧은 변의 길이를 $x\text{cm}$ 라 하면 긴 변의 길이는

$$\frac{1}{3}(6x-9) = 2x-3(\text{cm})$$

널빤지의 넓이가 216cm^2 이므로

$$6x(2x-3+x) = 216 \quad \dots ①$$

$$x^2 - x - 12 = 0, \quad (x+3)(x-4) = 0$$

$$\therefore x = 4 \quad (\because x > \frac{3}{2}) \quad \dots ②$$

따라서 색지의 짧은 변의 길이는 4cm , 긴 변의 길이는 5cm 이므로 그 넓이는 $4 \times 5 = 20(\text{cm}^2)$ $\dots ③$

답 20cm^2

채점 기준

① 이차방정식을 세울 수 있다.	40%
② 이차방정식의 해를 구할 수 있다.	40%
③ 색지 한 장의 넓이를 구할 수 있다.	20%

10 이차함수의 그래프 (1)

1059 답 \times **1060** 답 \bigcirc

1061 $y = -3x$ 이므로 이차함수가 아니다. 답 \times

1062 $y = x^2 + 10x + 25$ 이므로 이차함수이다. 답 \bigcirc

1063 답 $y = 4x$, 이차함수가 아니다.

1064 답 $y = 4\pi x^2$, 이차함수이다.

1065 답 $y = x^2 + x$, 이차함수이다.

1066 $f(0) = -5$ 답 -5

1067 $f(1) = -1^2 + 3 \times 1 - 5 = -3$ 답 -3

1068 $f(-2) = -(-2)^2 + 3 \times (-2) - 5 = -15$ 답 -15

1069 $f\left(\frac{1}{3}\right) = -\left(\frac{1}{3}\right)^2 + 3 \times \frac{1}{3} - 5 = -\frac{37}{9}$ 답 $-\frac{37}{9}$

1070 (ㄷ) $x > 0$ 일 때, x 의 값이 증가하면 y 의 값도 증가한다.

(ㄹ) $y = -x^2$ 의 그래프와 x 축에 대칭이다.

이상에서 옳은 것은 (ㄱ), (ㄴ)이다. 답 (ㄱ), (ㄴ)

1071 답 (1) $(0, 0)$ (2) $x=0$ (3) $y = \frac{2}{5}x^2$

1072 답 (ㄱ), (ㄹ) **1073** 답 (ㄷ)

1074 답 (ㄴ), (ㄹ) **1075** 답 (ㄴ)

1076 답 (ㄹ) **1077** 답 (ㄱ)

1078 답 (ㄷ)

1079 그래프가 아래로 볼록하므로 $a > 0$

a 의 절댓값이 2보다 작으므로 $a < 2$

$$\therefore 0 < a < 2 \quad \text{답 } 0 < a < 2$$

1080 그래프가 위로 볼록하므로 $a < 0$

a 의 절댓값이 -1 의 절댓값보다 크므로 $a < -1$

$$\therefore a < -1 \quad \text{답 } a < -1$$

1081 답 $y = -4x^2 - 2$ **1082** 답 $y = \frac{1}{5}x^2 - 1$

1083 답 $y = 2x^2 + \frac{2}{3}$ **1084** 답 $(0, -1), x=0$

1085 답 $(0, 2), x=0$ **1086** 답 $a < 0, q > 0$

1087 답 $a > 0, q < 0$ **1088** 답 $y = (x+3)^2$

1089 답 $y = -2(x-1)^2$

1090 답 $y = \frac{4}{3}\left(x + \frac{1}{2}\right)^2$

1091 답 $(3, 0), x=3$

1092 답 $\left(\frac{1}{5}, 0\right), x=\frac{1}{5}$

1093 답 $a>0, p>0$

1094 답 $a<0, p<0$

1095 답 $y = \frac{7}{2}(x-1)^2 - 1$

1096 답 $y = 5(x-2)^2 + 4$

1097 답 $y = -(x+4)^2 - 2$

1098 답 $(1, 2), x=1$

1099 답 $\left(\frac{3}{2}, -3\right), x=\frac{3}{2}$

1100 ① $y = -x^2 + 6x$

③ $y = 2x - 1$

⑤ $y = x^3 + x^2 - 4x + 4$

답 ①, ④

1101 (ㄴ) $y = -x^2$

(ㄷ) $y = x^2 - 6x + 9$

(ㄹ) $y = -2x$

(ㅁ) $y = 4x - 1$

(ㅂ) $y = 2x^2 - x - 3$

이상에서 이차함수인 것은 (ㄴ), (ㄷ), (ㅂ)의 3개이다.

답 3

1102 (ㄱ) $y = \pi x^2$

(ㄴ) $y = 4x$

(ㄷ) $y = 6x^2$

(ㄹ) $y = 10x$

이상에서 이차함수인 것은 (ㄱ), (ㄷ)이다.

답 ②

1103 $y = (a-3)x^2 + x + 2a$ 가 이차함수이려면
 $a-3 \neq 0 \quad \therefore a \neq 3$

답 $a \neq 3$

1104 $y = (k^2 - 2k - 3)x^2 + 5x$ 가 이차함수이려면
 $k^2 - 2k - 3 \neq 0, \quad (k+1)(k-3) \neq 0$
 $k \neq -1$ 이고 $k \neq 3$

답 ②, ⑤

1105 $f(2) = 2^2 + 3 \times 2 - 4 = 6, f(0) = -4$ 이므로
 $f(2) - f(0) = 6 - (-4) = 10$

답 ①

1106 $f(-3) = -(-3)^2 - 2 \times (-3) + 6 = 3$

답 3

1107 $f(-1) = a \times (-1)^2 - 5 \times (-1) - 4 = 3$ 이므로
 $a + 1 = 3 \quad \therefore a = 2$

답 ④

1108 $f(a) = -a^2 + 5a + a = 9$ 이므로
 $a^2 - 6a + 9 = 0, \quad (a-3)^2 = 0 \quad \therefore a = 3$

답 ④

1109 $f(-1) = a \times (-1)^2 - 6 \times (-1) - 4 = 4$ 이므로
 $a + 2 = 4 \quad \therefore a = 2$

... ①

즉 $f(x) = 2x^2 - 6x - 4$ 이므로

$b = f(2) = 2 \times 2^2 - 6 \times 2 - 4 = -8$

... ②

$\therefore a + b = -6$

... ③ 답 -6

채점 기준

① a의 값을 구할 수 있다.	40%
② b의 값을 구할 수 있다.	40%
③ a+b의 값을 구할 수 있다.	20%

1110 $f(-2) = (-2)^2 - a(-2) + b = 6$ 이므로

$2a + b = 2$

..... ㉠

$f(1) = 1 - a + b = -3$ 이므로

$-a + b = -4$

..... ㉡ ... ①

㉠, ㉡을 연립하여 풀면 $a = 2, b = -2$

... ②

따라서 $f(x) = x^2 - 2x - 2$ 이므로

$f(3) = 3^2 - 2 \times 3 - 2 = 1$

... ③

답 1

채점 기준

① a, b에 대한 연립방정식을 세울 수 있다.	30%
② a, b의 값을 구할 수 있다.	50%
③ f(3)의 값을 구할 수 있다.	20%

1111 ⑤ $a < 0$ 일 때, 함수값의 범위는 $y \leq 0$ 이다.

답 ⑤

1112 ① 위로 볼록한 포물선이다.

② 점 $(-1, -3)$ 을 지난다.

③ 모든 실수 x 에 대하여 $y \leq 0$ 이다.

⑤ $x < 0$ 일 때, y 의 값은 x^2 의 값에 정비례한다.

답 ④

1113 (ㄴ) $y = -\frac{1}{3}x^2$ 의 그래프는 위로 볼록하다.

(ㄹ) $y = -\frac{1}{3}x^2$ 의 그래프는 $x < 0$ 일 때, x 의 값이 증가하면 y 의 값도 증가한다.

이상에서 공통점은 (ㄱ), (ㄷ)이다.

답 (ㄱ), (ㄷ)

1114 $-2 < a < -\frac{2}{3}$

답 ②

1115 $0 < 4a < 3$ 이므로 $0 < a < \frac{3}{4}$

답 $0 < a < \frac{3}{4}$

1116 a 의 부호가 음수이면서 절댓값의 크기가 가장 작은 것은 ③이다.

답 ③

1117 그래프가 색칠한 부분을 지나는 이차함수의 식을 $y = ax^2$ 으로 놓으면

$-1 < a < 0$ 또는 $0 < a < \frac{1}{3}$

따라서 구하는 이차함수는 ③이다.

답 ③

1118 포물선 ㉠은 위로 볼록하면서 $y = x^2, y = \frac{3}{2}x^2$ 의 그래프보다 폭이 넓으므로 이차함수의 식은

$y = -\frac{1}{4}x^2$

... ①

이 그래프가 점 $(4, a)$ 를 지나므로

$a = -\frac{1}{4} \times 4^2 = -4$

... ②

답 -4

채점 기준

① 포물선 ㉠을 나타내는 이차함수의 식을 구할 수 있다.	50%
② a의 값을 구할 수 있다.	50%

1119 답 ②, ④

1120 답 ③

1121 $y=4x^2$ 의 그래프가 점 $(-2, a)$ 를 지나므로
 $a=4 \times (-2)^2=16$... ①
 $y=4x^2$ 의 그래프는 $y=-4x^2$ 의 그래프와 x 축에 대칭이므로
 $b=-4$... ②
 $\therefore a-b=20$... ③
 답 20

채점 기준

① a 의 값을 구할 수 있다.	40%
② b 의 값을 구할 수 있다.	40%
③ $a-b$ 의 값을 구할 수 있다.	20%

1122 $y=\frac{1}{4}x^2$ 의 그래프가 점 $(a-4, a-1)$ 을 지나므로
 $a-1=\frac{1}{4}(a-4)^2, \quad a^2-12a+20=0$
 따라서 근과 계수의 관계에 의하여 모든 a 의 값의 합은 12이다.
 답 12

1123 이차함수의 식을 $y=ax^2$ 으로 놓으면 이 그래프가 점
 $(\frac{1}{2}, 1)$ 을 지나므로
 $1=a(\frac{1}{2})^2 \quad \therefore a=4 \quad \therefore y=4x^2$... ⑤
 답 ⑤

1124 $f(x)=ax^2$ 으로 놓으면 $y=f(x)$ 의 그래프가 점
 $(3, -2)$ 를 지나므로
 $f(3)=9a=-2 \quad \therefore a=-\frac{2}{9}$... ①
 따라서 $f(x)=-\frac{2}{9}x^2$ 이므로
 $f(6)=-\frac{2}{9} \times 6^2=-8$... ②
 답 -8

채점 기준

① a 의 값을 구할 수 있다.	50%
② $f(6)$ 의 값을 구할 수 있다.	50%

1125 포물선의 식을 $y=ax^2$ 으로 놓으면 이 그래프가 점
 $(-3, 27)$ 을 지나므로
 $27=a(-3)^2 \quad \therefore a=3$... ①
 따라서 $y=3x^2$ 의 그래프가 점 $(k, 18)$ 을 지나므로
 $18=3k^2, \quad k^2=6$
 $\therefore k=\sqrt{6} (\because k>0)$... ②
 답 $\sqrt{6}$

채점 기준

① a 의 값을 구할 수 있다.	50%
② 양수 k 의 값을 구할 수 있다.	50%

1126 포물선의 식을 $y=ax^2$ 으로 놓으면 이 그래프가 점
 $(-3, -6)$ 을 지나므로

$$-6=a(-3)^2 \quad \therefore a=-\frac{2}{3}$$

$y=-\frac{2}{3}x^2$ 의 그래프와 x 축에 대칭인 포물선의 식은

$$y=\frac{2}{3}x^2$$

따라서 이 포물선이 지나는 점이 아닌 것은 ②이다. ... ②

참고 $-\frac{2}{3} \neq \frac{2}{3}(-1)^2$

1127 $y=-2x^2+4$ 의 그래프의 꼭짓점의 좌표는 $(0, 4)$ 이고,
 축의 방정식은 $x=0$ 이므로
 $p=0, q=4, m=0$
 $\therefore p+q+m=4$... ⑤
 답 ⑤

1128 $y=ax^2+5$ 의 그래프가 점 $(3, -1)$ 을 지나므로
 $-1=9a+5 \quad \therefore a=-\frac{2}{3}$... ②
 답 $-\frac{2}{3}$

1129 $f(x)=-3x^2+3$ 이므로
 $f(1)=0, f(2)=-9$
 $\therefore f(1)-f(2)=0-(-9)=9$... ⑨
 답 9

1130 (ㄴ) $y=ax^2$ 의 그래프를 y 축의 방향으로 q 만큼 평행이동
 한 것이다.
 (ㄷ) $y=-ax^2-q$ 의 그래프와 x 축에 대칭이다.
 이상에서 옳은 것은 (ㄴ), (ㄷ)이다. ... ②
 답 ②

1131 (ㄷ) 이차함수 $y=-\frac{3}{4}x^2$ 의 그래프를 y 축의 방향으로 2
 만큼 평행이동하면 $y=-\frac{3}{4}x^2+2$ 의 그래프와 포개어진다.
 (ㄴ) 이차함수 $y=-\frac{3}{4}x^2$ 의 그래프를 x 축의 방향으로 2만큼 평행
 이동하면 $y=-\frac{3}{4}(x-2)^2$ 의 그래프와 포개어진다.
 이상에서 완전히 포갤 수 있는 그래프는 (ㄷ), (ㄴ)이다. ... ②
 답 (ㄷ), (ㄴ)

1132 ① $y=\frac{1}{2}x^2-1$ 의 그래프는 점 $(\frac{1}{2}, -\frac{7}{8})$ 을 지난다.
 ② $y=\frac{1}{2}x^2-1$ 의 그래프의 축의 방정식은 $x=0$ 이고,
 $y=-\frac{1}{2}(x+1)^2$ 의 그래프의 축의 방정식은 $x=-1$ 이다.
 ③ $y=-\frac{1}{2}(x+1)^2$ 의 그래프는 $y=-\frac{1}{2}x^2$ 의 그래프를 평행
 이동한 것이다.
 ④ $y=\frac{1}{2}x^2-1$ 의 그래프의 꼭짓점의 좌표는 $(0, -1)$ 이고,
 $y=-\frac{1}{2}(x+1)^2$ 의 그래프의 꼭짓점의 좌표는 $(-1, 0)$ 이다.
 ... ⑤
 답 ⑤

1133 $y = -\frac{4}{5}(x-4)^2$ 이므로 $x > 4$ 이면 x 의 값이 증가할 때 y 의 값은 감소한다. 답 ⑤

1134 $y = -4(x+1)^2$

- ① 꼭짓점의 좌표는 $(-1, 0)$ 이다.
 ② $|-4| > 1$ 이므로 $y = -4(x+1)^2$ 의 그래프가 $y = x^2$ 의 그래프보다 폭이 좁다.
 ③ 위로 볼록한 포물선이다.
 ⑤ $x = -1$ 일 때, $y = 0$ 이다. 답 ④

1135 이차함수 $y = 2(x-5)^2$ 의 그래프가 점 $(4, m)$ 을 지나므로 $m = 2 \times (4-5)^2 = 2$... ①

또 점 $(8, n)$ 을 지나므로 $n = 2 \times (8-5)^2 = 18$... ②
 $\therefore m+n=20$... ③
답 20

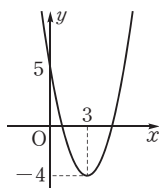
채점 기준

① m 의 값을 구할 수 있다.	40%
② n 의 값을 구할 수 있다.	40%
③ $m+n$ 의 값을 구할 수 있다.	20%

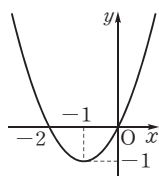
1136 $y = -2(x-1)^2 - 1$ 의 그래프가 점 $(2, k)$ 를 지나므로 $k = -2 \times (2-1)^2 - 1 = -3$ 답 -3

1137 주어진 이차함수의 그래프의 꼭짓점의 좌표를 구해 보면
 (㉠) $(-1, 1) \rightarrow$ 제 2사분면
 (㉡) $(1, -2) \rightarrow$ 제 4사분면
 (㉢) $(-1, -4) \rightarrow$ 제 3사분면
 (㉣) $(3, 2) \rightarrow$ 제 1사분면
 이상에서 그래프의 꼭짓점이 제 4사분면에 있는 이차함수는 (㉡) 뿐이다. 답 ②

1138 $y = (x-3)^2 - 4$ 의 그래프의 꼭짓점의 좌표는 $(3, -4)$ 이고 아래로 볼록하므로 그래프는 오른쪽 그림과 같다.
 따라서 그래프가 지나지 않는 사분면은 제 3사분면이다. 답 제 3사분면



1139 ④ $y = (x+1)^2 - 1$ 의 그래프는 오른쪽 그림과 같으므로 제 4사분면을 지나지 않는다. 답 ④



1140 꼭짓점의 좌표가 $(p, 2p^2)$ 이고, 이 점이 직선 $y = -x+3$ 위에 있으므로 $2p^2 = -p+3$, $2p^2+p-3=0$
 $(2p+3)(p-1)=0$
 $\therefore p = -\frac{3}{2}$ ($\because p < 0$) 답 ②

1141 이차함수 $y = a(x-p)^2 + q$ 의 그래프가 x 축과 두 점 $(-2, 0)$, $(6, 0)$ 에서 만나므로 꼭짓점의 x 좌표는

$$\frac{-2+6}{2} = 2 \quad \therefore p = 2 \quad \dots ①$$

또 꼭짓점이 직선 $y = -8$ 위에 있으므로 꼭짓점의 y 좌표는 -8 이다. $\therefore q = -8$... ②

따라서 꼭짓점의 좌표가 $(2, -8)$ 인 이차함수의 식은

$$y = a(x-2)^2 - 8$$

이 이차함수의 그래프가 점 $(-2, 0)$ 을 지나므로

$$0 = a(-2-2)^2 - 8, \quad 16a - 8 = 0 \quad \therefore a = \frac{1}{2} \quad \dots ③$$

$$\therefore apq = \frac{1}{2} \times 2 \times (-8) = -8 \quad \dots ④$$

답 -8

채점 기준

① p 의 값을 구할 수 있다.	30%
② q 의 값을 구할 수 있다.	30%
③ a 의 값을 구할 수 있다.	30%
④ apq 의 값을 구할 수 있다.	10%



이차함수 $y = a(x-p)^2 + q$ 의 그래프가 x 축과 두 점 $(m, 0)$, $(n, 0)$ 에서 만나면 $\rightarrow \frac{m+n}{2} = p$

1142 $y = 4(x-p-1)^2 - 2 + q$ 와 $y = 4x^2$ 의 그래프가 일치하므로 $-p-1=0$, $-2+q=0$

따라서 $p = -1$, $q = 2$ 이므로

$$p - q = -3 \quad \dots ①$$

1143 $y = -3(x-1-1)^2 + 2 + 4 = -3(x-2)^2 + 6$ 답 ③

1144 $y = a(x-7)^2$ 의 그래프를 y 축의 방향으로 -3 만큼 평행 이동한 그래프의 식은 $y = a(x-7)^2 - 3$... ①

이 그래프가 점 $(5, 1)$ 을 지나므로

$$1 = a(-2)^2 - 3 \quad \therefore a = 1 \quad \dots ②$$

답 1

채점 기준

① 평행이동한 그래프의 식을 구할 수 있다.	50%
② a 의 값을 구할 수 있다.	50%

1145 $y = (x-k+1)^2 - 1 + 2k$ 의 그래프가 점 $(-1, 2)$ 를 지나므로

$$2 = (-1-k+1)^2 - 1 + 2k, \quad k^2 + 2k - 3 = 0$$

$$(k+3)(k-1) = 0 \quad \therefore k = 1 \quad (\because k > 0) \quad \dots ①$$

1146 $y = -(x+5+b)^2 + c - 4$ 와 $y = a(x+3)^2 - 2$ 의 그래프가 일치하므로

$$a = -1, \quad 5+b=3, \quad c-4=-2$$

따라서 $a = -1$, $b = -2$, $c = 2$ 이므로

$$a + b + c = -1 \quad \dots ③$$

1147 $y = -2(x-1)^2 + 3 + a$ 의 그래프가 점 $(3, -1)$ 을 지나므로

$$-1 = -2 \times (3-1)^2 + 3 + a \quad \therefore a = 4 \quad \dots ①$$

$y = -2(x-b-1)^2 + 3$ 의 그래프가 점 $(-1, -15)$ 를 지나므로

$$-15 = -2 \times (-1-b-1)^2 + 3, \quad (b+2)^2 = 9$$

$$b+2 = \pm 3 \quad \therefore b = -5 \quad (\because b < 0) \quad \dots ②$$

$$\therefore a+b = -1 \quad \dots ③$$

답 -1

채점 기준

① a 의 값을 구할 수 있다.	40%
② b 의 값을 구할 수 있다.	40%
③ $a+b$ 의 값을 구할 수 있다.	20%

1148 $y = 3x^2$ 의 그래프를 x 축의 방향으로 -4 만큼, y 축의 방향으로 2 만큼 평행이동한 그래프의 식은 $y = 3(x+4)^2 + 2$ 이 그래프를 y 축에 대하여 대칭이동한 그래프의 식은

$$y = 3(-x+4)^2 + 2 \quad \therefore y = 3(x-4)^2 + 2$$

따라서 그래프의 꼭짓점의 좌표는 $(4, 2)$ 이다. 답 ⑤

1149 $y = \frac{1}{2}(x-1)^2 - 4$ 의 그래프를 x 축에 대하여 대칭이동한 그래프의 식은

$$-y = \frac{1}{2}(x-1)^2 - 4 \quad \therefore y = -\frac{1}{2}(x-1)^2 + 4$$

이 그래프가 점 $(3, k)$ 를 지나므로

$$k = -\frac{1}{2} \times (3-1)^2 + 4 = 2 \quad \dots ②$$

1150 $y = a(x+1)^2$ 의 그래프를 x 축에 대하여 대칭이동한 그래프의 식은 $-y = a(x+1)^2 \quad \therefore y = -a(x+1)^2$ 이 그래프를 y 축에 대하여 대칭이동한 그래프의 식은

$$y = -a(-x+1)^2 \quad \therefore y = -a(x-1)^2$$

이 그래프가 점 $(2, -4)$ 를 지나므로

$$-4 = -a(2-1)^2 \quad \therefore a = 4 \quad \dots ④$$

1151 $y = 2x^2 - 5$ 의 그래프를 x 축에 대하여 대칭이동한 그래프의 식은 $-y = 2x^2 - 5 \quad \therefore y = -2x^2 + 5$ 이 그래프를 y 축의 방향으로 b 만큼 평행이동한 그래프의 식은

$$y = -2x^2 + 5 + b$$

이 그래프가 $y = ax^2 + 6$ 의 그래프와 일치하므로

$$a = -2, b = 1 \quad \therefore a+b = -1 \quad \dots ②$$

1152 $y = (x+a)^2$ 의 그래프를 x 축에 대하여 대칭이동한 그래프의 식은 $-y = (x+a)^2 \quad \therefore y = -(x+a)^2 \quad \dots ①$ 이 그래프를 y 축의 방향으로 2 만큼 평행이동한 그래프의 식은

$$y = -(x+a)^2 + 2 \quad \dots ②$$

이 그래프의 꼭짓점 $(-a, 2)$ 가 직선 $y = 4x - 6$ 위에 있으므로

$$2 = -4a - 6 \quad \therefore a = -2 \quad \dots ③$$

답 -2

채점 기준

① x 축에 대하여 대칭이동한 그래프의 식을 구할 수 있다.	40%
② 평행이동한 그래프의 식을 구할 수 있다.	40%
③ a 의 값을 구할 수 있다.	20%

1153 주어진 조건을 만족시키는 이차함수의 식은

$$y = -\frac{1}{2}(x-4)^2 - 5 \text{이므로} \quad a = -\frac{1}{2}, p = -4, q = -5$$

$$\therefore apq = -10$$

답 ②

1154 꼭짓점의 좌표가 $(-2, -3)$ 이므로

$$p = -2, q = -3$$

$y = a(x+2)^2 - 3$ 의 그래프가 점 $(0, 1)$ 을 지나므로

$$1 = a \times 2^2 - 3 \quad \therefore a = 1$$

$$\therefore a + pq = 1 + (-2) \times (-3) = 7$$

답 ⑤

1155 꼭짓점의 좌표가 $(0, -1)$ 이므로 이차함수의 식을 $y = ax^2 - 1$ 로 놓을 수 있다.

$y = ax^2 - 1$ 의 그래프가 점 $(-3, 8)$ 을 지나므로

$$8 = a(-3)^2 - 1 \quad \therefore a = 1$$

따라서 $y = x^2 - 1$ 의 그래프 위의 점인 것은 ③이다. 답 ③

1156 $y = -x^2$ 의 그래프를 평행이동한 그래프의 식은

$$y = -(x+3)^2 + 2$$

이 그래프가 점 $(k, -2)$ 를 지나므로

$$-2 = -(k+3)^2 + 2, \quad (k+3)^2 = 4$$

$$k+3 = \pm 2 \quad \therefore k = -5 \text{ 또는 } k = -1$$

답 ③, ⑤

1157 $y = -2(x-a-2)^2 + b$ 의 그래프의 꼭짓점의 좌표가 $(a+2, b)$ 이므로

$$a+2 = c, b = 3 \quad \dots ①$$

즉 $y = -2(x-c)^2 + 3$ 의 그래프가 점 $(1, -5)$ 를 지나므로

$$-5 = -2(1-c)^2 + 3, \quad (1-c)^2 = 4$$

$$1-c = \pm 2 \quad \therefore c = 3 \quad (\because c > 0) \quad \dots ②$$

$$\therefore a = c - 2 = 3 - 2 = 1 \quad \dots ③$$

$$\therefore a + b + c = 7 \quad \dots ④$$

답 7

채점 기준

① b 의 값을 구할 수 있다.	30%
② c 의 값을 구할 수 있다.	30%
③ a 의 값을 구할 수 있다.	30%
④ $a+b+c$ 의 값을 구할 수 있다.	10%

1158 그래프가 아래로 볼록하므로 $a > 0$

꼭짓점 (p, q) 가 제 4사분면에 있으므로

$$p > 0, q < 0$$

답 ④

1159 그래프가 위로 볼록하므로 $a < 0$

꼭짓점 $(p, 0)$ 이 y 축의 왼쪽에 있으므로

$$p < 0$$

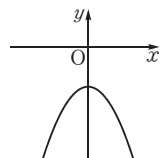
답 ④

1160 이차함수 $y = ax^2 - q$ 의 그래프가 제 1사분면과 제 2사분면을 지나지 않으려면 오른쪽 그림과 같아야 하므로

$$a < 0 \text{이고 } -q \leq 0, \text{ 즉 } q \geq 0$$

$$\therefore aq \leq 0$$

답 ④



1161 $a > 0, p > 0, q = 0$ 이므로 $y = p(x - q)^2 + a$, 즉 $y = px^2 + a$ 의 그래프의 개형으로 알맞은 것은 ①이다. [답] ①

1162 $a < 0, -b > 0$ 이므로 $a < 0, b < 0$
따라서 $y = a(x - b)^2$ 의 그래프의 개형으로 알맞은 것은 ③이다. [답] ③

1163 [전략] y 가 x 에 대한 이차함수 $\rightarrow y = (x \text{에 대한 이차식})$
[풀이] (i) $a^2 - 1 \neq 0$ 이어야 하므로 $a \neq -1$ 이고 $a \neq 1$
(ii) $a^2 - 2a - 3 = 0$ 이어야 하므로
 $(a + 1)(a - 3) = 0 \quad \therefore a = -1 \text{ 또는 } a = 3$
(i), (ii)에서 $a = 3$ [답] 3

1164 [전략] $y = \frac{1}{3}x^2$ 에 두 점 $(-3, p), (q, 27)$ 의 좌표를 각각 대입하여 p, q 의 값을 구한 후, 두 점을 지나는 직선의 기울기를 구한다.

[풀이] $p = \frac{1}{3} \times (-3)^2 = 3$
 $27 = \frac{1}{3}q^2$ 이므로 $q^2 = 81 \quad \therefore q = 9 (\because q > 0)$
두 점 $(-3, 3), (9, 27)$ 을 지나는 직선의 기울기는 $\frac{27-3}{9-(-3)} = 2$
이므로 직선의 방정식을 $y = 2x + b$ 로 놓으면 이 직선이 점 $(-3, 3)$ 을 지나므로
 $3 = -6 + b \quad \therefore b = 9 \quad \therefore y = 2x + 9$ [답] ④



서로 다른 두 점 $(x_1, y_1), (x_2, y_2)$ 를 지나는 직선의 방정식 구하기

- (i) 기울기 a 를 구한다. $\rightarrow a = \frac{y_2 - y_1}{x_2 - x_1}$ (단, $x_1 \neq x_2$)
(ii) $y = ax + b$ 에 한 점의 좌표를 대입하여 b 의 값을 구한다.

1165 [전략] 점 D의 x 좌표를 $3k (k > 0)$ 로 놓고 k 에 대한 식을 세운다.

[풀이] $3\overline{AB} = 2\overline{BC}$ 에서 $\overline{AB} : \overline{BC} = 2 : 3$
이때 $y = 2x^2, y = ax^2$ 의 그래프는 각각 y 축에 대칭이므로
 $\overline{DE} : \overline{CD} = 2 : 3$
점 D의 x 좌표를 $3k (k > 0)$ 라 하면 점 E의 x 좌표는 $5k$ 이고, 두 점 D, E의 y 좌표는 같으므로
 $2 \times (3k)^2 = a \times (5k)^2 \quad \therefore a = \frac{18}{25}$ [답] ④

1166 [전략] 두 점 A, B에서 x 축에 내린 수선의 발을 각각 C, D라 한 후 $\triangle OCA \sim \triangle ODB$ 임을 이용한다.

[풀이] 오른쪽 그림과 같이 두 점 A, B에서 x 축에 내린 수선의 발을 각각 C, D라 하자.

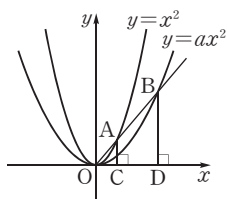
점 A의 좌표를 (p, p^2) 으로 놓으면 $C(p, 0)$

$\triangle OCA \sim \triangle ODB$ 이므로

$$\overline{OC} : \overline{OD} = \overline{OA} : \overline{OB} = 1 : 3$$

$$\therefore \overline{OD} = 3\overline{OC} = 3p \quad \therefore D(3p, 0)$$

또 $\overline{AC} : \overline{BD} = 1 : 3$ 이므로



$$\overline{BD} = 3\overline{AC} = 3p^2 \quad \therefore B(3p, 3p^2)$$

점 B는 $y = ax^2$ 의 그래프 위의 점이므로

$$3p^2 = a \times (3p)^2 \quad \therefore a = \frac{1}{3} \quad \text{[답]} \frac{1}{3}$$

1167 [전략] 이차함수의 그래프의 꼭짓점의 좌표와 x 축과 만나는 점의 좌표를 각각 구한다.

$$[풀이] y = -\frac{3}{4}x^2 + 12 \text{에서} \quad A(0, 12)$$

$$\text{또 } 0 = -\frac{3}{4}x^2 + 12 \text{에서} \quad x^2 = 16 \quad \therefore x = \pm 4$$

$$\therefore B(-4, 0), C(4, 0)$$

$$y = -\frac{1}{2}x^2 + 8 \text{에서} \quad A'(0, 8)$$

$$\therefore (\text{다각형 } ABA'C \text{의 넓이}) = \triangle ABC - \triangle A'BC$$

$$= \frac{1}{2} \times 8 \times 12 - \frac{1}{2} \times 8 \times 8$$

$$= 16 \quad \text{[답]} 16$$

1168 [전략] 이차함수 $y = ax^2$ 의 그래프를 x 축의 방향으로 p 만큼 평행이동한 그래프의 식은 $y = a(x - p)^2$ 이다.

[풀이] $y = (x - 1)^2$ 의 그래프는 $y = (x + 4)^2$ 의 그래프를 x 축의 방향으로 5만큼 평행이동한 것이므로

$$\overline{AB} = 5 \quad \text{[답]} 5$$

1169 [전략] $y = ax + b$ 에서 a 는 직선의 기울기, b 는 y 절편임을 이용하여 a, b 의 값을 구한다.

$$[풀이] a = \frac{1}{2}, b = -3 \text{이므로} \quad y = \frac{1}{2}(x + 3)^2$$

따라서 $x < -3$ 이면 x 의 값이 증가할 때 y 의 값은 감소한다.

[답] ①

1170 [전략] 이차함수 $y = a(x - p)^2$ 의 그래프가

(i) x 축과 만나는 점의 x 좌표 $\rightarrow y = 0$ 을 대입

(ii) y 축과 만나는 점의 y 좌표 $\rightarrow x = 0$ 을 대입

$$[풀이] y = (x - 3k)^2 \text{에서} \quad A(3k, 0), B(0, 9k^2)$$

$$\triangle OAB = \frac{1}{2} \times 3k \times 9k^2 = 4 \text{이므로}$$

$$27k^3 = 8, \quad k^3 = \frac{8}{27} = \left(\frac{2}{3}\right)^3 \quad \therefore k = \frac{2}{3} \quad \text{[답]} ③$$

1171 [전략] 점 (a, b) 가 직선 $y = -4x$ 위에 있으면 $b = -4a$ 가 성립함을 이용한다.

[풀이] 꼭짓점 (p, q) 가 직선 $y = -4x$ 위에 있으므로

$$q = -4p$$

즉 $y = (x - p)^2 - 4p$ 의 그래프는 점 $(2, -3)$ 을 지나므로

$$-3 = (2 - p)^2 - 4p, \quad p^2 - 8p + 7 = 0$$

$$(p - 1)(p - 7) = 0 \quad \therefore p = 1 \text{ 또는 } p = 7$$

$$\therefore p = 1, q = -4 \text{ 또는 } p = 7, q = -28$$

따라서 $p + q$ 의 값은 -3 또는 -21 이므로 최댓값은 -3 이다.

[답] ⑤

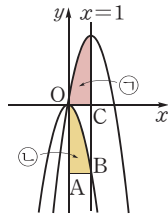
1172 전략 평행이동한 두 이차함수의 그래프의 모양이 같음을 이용하여 넓이가 같은 부분을 찾는다.

풀이 두 이차함수 $y = -3x^2$, $y = -3(x-1)^2 + 3$ 의 그래프의 폭이 같으므로 ㉠의 넓이와 ㉡의 넓이는 같다. 따라서 구하는 넓이는 $\square OABC$ 의 넓이와 같다.

$y = -3x^2$ 에 $x=1$ 을 대입하면 $y = -3$

따라서 $B(1, -3)$ 이므로

$$\square OABC = 1 \times 3 = 3$$



답 3

1173 전략 꼭짓점의 좌표를 이용하여 조건을 만족시키는 이차함수의 그래프의 개형을 생각해 본다.

풀이 꼭짓점의 좌표가 $(-3, -2)$ 이므로 제3사분면 위의 점이다. 이때 그래프가 모든 사분면을 지나려면 아래로 볼록해야 하므로

$$k > 0$$

또 y 축과의 교점이 x 축의 아래쪽에 위치해야 하므로

$$k \times 3^2 - 2 < 0 \quad \therefore k < \frac{2}{9}$$

$$\therefore 0 < k < \frac{2}{9}$$

따라서 상수 k 의 값이 될 수 있는 것은 ㉢이다.

답 ㉢

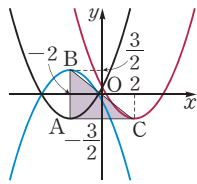
1174 전략 대칭이동한 그래프의 꼭짓점의 좌표를 이용하여 $\triangle ABC$ 의 넓이를 구한다.

풀이 세 이차함수의 그래프가 오른쪽 그림과 같으므로 세 점 A, B, C의 좌표는

$$A\left(-2, -\frac{3}{2}\right), B\left(-2, \frac{3}{2}\right),$$

$$C\left(2, -\frac{3}{2}\right)$$

$$\therefore \triangle ABC = \frac{1}{2} \times 4 \times 3 = 6$$



답 ㉠

1175 전략 이차함수의 식을 $y = a(x-p)^2 + q$ 로 놓고 조건을 만족시키는 a 의 값과 p, q 의 부호를 구한다.

풀이 $y = a(x-p)^2 + q$ 로 놓으면 조건 (가), (나)에 의하여 $a = -3$

조건 (나)에 의하여 $p < 0, q > 0$

따라서 주어진 조건을 모두 만족시키는 이차함수의 식은 ㉡이다.

답 ㉡

1176 전략 이차함수의 그래프의 축 $x=p$ 가 y 축의 왼쪽에 위치하면 $p < 0$, 오른쪽에 위치하면 $p > 0$ 임을 이용한다.

풀이 주어진 이차함수의 그래프의 축의 방정식은

$$x = -a - 2$$

축이 y 축의 왼쪽에 위치하므로 $-a - 2 < 0 \quad \therefore a > -2$

주어진 이차함수의 그래프의 꼭짓점의 좌표는

$$(-a-2, -3a-6)$$

$a > -2$ 이므로 $-3a-6 < 0$

따라서 꼭짓점 $(-a-2, -3a-6)$ 은 제3사분면에 있다.

답 제3사분면

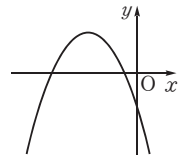
1177 전략 제2, 3, 4 사분면을 지나는 이차함수의 그래프를 그린 후 a, p, q 의 부호를 조사한다.

풀이 $y = a(x+p)^2 - q$ 의 그래프가 오른쪽 그림과 같이 위로 볼록하고 꼭짓점

$(-p, -q)$ 가 제2사분면에 있어야 하므로

$$a < 0, -p < 0, -q > 0$$

$$\therefore a < 0, p > 0, q < 0$$



답 ㉡

1178 전략 점 A의 좌표를 $(-a, a^2)$ ($a > 0$)으로 놓고 나머지 세 점 B, C, D의 좌표를 구한다.

풀이 점 A의 좌표를 $(-a, a^2)$ ($a > 0$)으로 놓으면

$$B(a, a^2), C\left(-a, -\frac{1}{2}a^2\right), D\left(a, -\frac{1}{2}a^2\right) \quad \dots ㉠$$

따라서 $\overline{AB} = 2a, \overline{AC} = \frac{3}{2}a^2$ 이고 $\overline{AB} = \overline{AC}$ 이므로

$$2a = \frac{3}{2}a^2 \quad \therefore a = \frac{4}{3} \quad (\because a > 0) \quad \dots ㉡$$

$$\therefore \square ACDB = \overline{AB}^2 = (2a)^2 = \left(2 \times \frac{4}{3}\right)^2 = \frac{64}{9} \quad \dots ㉢$$

답 $\frac{64}{9}$

채점 기준

㉠ 네 점 A, B, C, D의 좌표를 a 로 나타낼 수 있다.	30%
㉡ a 의 값을 구할 수 있다.	40%
㉢ $\square ACDB$ 의 넓이를 구할 수 있다.	30%

1179 전략 모든 x 의 값에 대하여 y 의 값이 음수가 되려면 이차함수의 그래프는 위로 볼록하고, 꼭짓점의 y 좌표가 음수이어야 함을 이용한다.

풀이 $y = (2k+1)x^2 - k - 5$ 에서 모든 x 의 값에 대하여 y 의 값이 음수이려면 그래프가 위로 볼록해야 하므로

$$2k+1 < 0 \quad \therefore k < -\frac{1}{2} \quad \dots ㉠ \quad \dots ㉠$$

또 꼭짓점의 y 좌표가 음수이어야 하므로

$$-k-5 < 0 \quad \therefore k > -5 \quad \dots ㉡ \quad \dots ㉡$$

$$\therefore ㉠, ㉡ \text{에서} \quad -5 < k < -\frac{1}{2} \quad \dots ㉢$$

답 $-5 < k < -\frac{1}{2}$

채점 기준

㉠ ㉠을 구할 수 있다.	40%
㉡ ㉡을 구할 수 있다.	40%
㉢ k 의 값의 범위를 구할 수 있다.	20%

1180 전략 $y=f(x)$ 에 $x=0$ 을 대입하여 y 절편을 구한다.

풀이 $f(x) = (x-p)^2$ 이고 $f(1) = 9$ 이므로

$$9 = (1-p)^2, \quad 1-p = \pm 3$$

$$\therefore p = -2 \text{ 또는 } p = 4 \quad \dots ㉠$$

$$\therefore f(x) = (x+2)^2 \text{ 또는 } f(x) = (x-4)^2 \quad \dots ㉡$$

따라서 두 이차함수의 그래프의 y 절편은 4, 16이므로 구하는 합은 20이다. ... ③

답 20

채점 기준

① p 의 값을 구할 수 있다.	50%
② 두 이차함수의 식을 구할 수 있다.	20%
③ y 절편의 합을 구할 수 있다.	30%

1181 전략 두 이차함수의 그래프의 꼭짓점의 좌표를 먼저 구한다.

풀이 $y=x^2-4$ 의 그래프의 꼭짓점의 좌표는 $(0, -4)$
 $y=a(x-p)^2$ 의 그래프의 꼭짓점의 좌표는 $(p, 0)$... ①

$y=x^2-4$ 의 그래프가 점 $(p, 0)$ 을 지나므로
 $0=p^2-4 \quad \therefore p=-2 (\because p<0)$... ②

즉 $y=a(x+2)^2$ 의 그래프가 점 $(0, -4)$ 를 지나므로
 $-4=a(0+2)^2 \quad \therefore a=-1$... ③

$\therefore a-p=1$... ④

답 1

채점 기준

① 두 이차함수의 그래프의 꼭짓점의 좌표를 구할 수 있다.	30%
② p 의 값을 구할 수 있다.	30%
③ a 의 값을 구할 수 있다.	30%
④ $a-p$ 의 값을 구할 수 있다.	10%

1182 전략 $\triangle OAP$ 의 넓이를 이용하여 점 P의 좌표를 구한다.

풀이 꼭짓점 A의 좌표는 $A(-1, 0)$... ①

점 P의 좌표를 $(a, -(a+1)^2)$ 으로 놓으면

$$\triangle OAP = \frac{1}{2} \times 1 \times (a+1)^2 = 4 \quad \dots ②$$

$$(a+1)^2 = 8, \quad a+1 = \pm 2\sqrt{2}$$

$$\therefore a = -1 + 2\sqrt{2} (\because a > 0) \quad \dots ③$$

따라서 점 P의 좌표는 $P(-1+2\sqrt{2}, -8)$... ④

답 $P(-1+2\sqrt{2}, -8)$

채점 기준

① 점 A의 좌표를 구할 수 있다.	20%
② $\triangle OAP=4$ 임을 이용하여 식을 세울 수 있다.	30%
③ a 의 값을 구할 수 있다.	30%
④ 점 P의 좌표를 구할 수 있다.	20%

1183 전략 기울기가 -1인 직선의 방정식을 $y=-x+b$ 로 놓고 꼭짓점의 좌표를 대입하여 b 의 값을 구한다.

풀이 꼭짓점의 좌표는 $(-a, a+3)$... ①

구하는 직선의 방정식을 $y=-x+b$ 로 놓으면 이 직선이 점 $(-a, a+3)$ 을 지나므로

$$a+3 = -(-a)+b \quad \therefore b=3 \quad \dots ②$$

$$\therefore y = -x+3 \quad \dots ③$$

답 $y = -x+3$

채점 기준

① 이차함수의 그래프의 꼭짓점의 좌표를 구할 수 있다.	30%
② 직선의 y 절편을 구할 수 있다.	50%
③ 직선의 방정식을 구할 수 있다.	20%

1184 전략 이차함수 $y=a(x-p)^2$ 의 그래프를 x 축의 방향으로 m 만큼, y 축의 방향으로 n 만큼 평행이동한 그래프의 식은

$$y=a(x-m-p)^2+n \text{이다.}$$

풀이 $y=-2(x-k-1)^2+3-k$ 의 그래프의 꼭짓점의 좌표는 $(k+1, 3-k)$... ①

이 꼭짓점이 제 4사분면에 있으므로

$$k+1 > 0, \quad 3-k < 0$$

$$\therefore k > 3 \quad \dots ②$$

답 $k > 3$

채점 기준

① 이차함수의 그래프의 꼭짓점의 좌표를 구할 수 있다.	50%
② k 의 값의 범위를 구할 수 있다.	50%

1185 전략 이차함수 $y=f(x)$ 의 그래프가 y 축과 만나는 점의 좌표는 $(0, f(0))$ 이다.

풀이 점 P의 좌표는 $P(0, -26)$... ①

$y=-(x-5)^2-1$ 의 그래프를 x 축에 대하여 대칭이동한 그래프의 식은

$$-y=-(x-5)^2-1 \quad \therefore y=(x-5)^2+1$$

따라서 점 Q의 좌표는 $Q(0, 26)$... ②

$$\therefore PQ = 26 - (-26) = 52 \quad \dots ③$$

답 52

채점 기준

① 점 P의 좌표를 구할 수 있다.	40%
② 점 Q의 좌표를 구할 수 있다.	40%
③ PQ의 길이를 구할 수 있다.	20%

1186 전략 함수 $y=g(x)$ 의 그래프를 x 축에 대하여 대칭이동한 그래프의 식은 $-y=g(x)$, 즉 $y=-g(x)$ 이다.

풀이 (1) $f(3)-f(1)=(3 \times 3-2)-(3 \times 1-2)=6$,

$$g(3)-g(1)=(9a+4)-(a+4)=8a \text{이므로}$$

$$8a=6 \quad \therefore a=\frac{3}{4} \quad \dots ①$$

(2) $g(x)=\frac{3}{4}x^2+4$ 이므로 $y=g(x)$ 의 그래프를 x 축에 대하여

대칭이동한 그래프의 식은

$$-y=\frac{3}{4}x^2+4 \quad \therefore y=-\frac{3}{4}x^2-4 \quad \dots ②$$

$$\text{답 (1) } \frac{3}{4} \quad (2) y = -\frac{3}{4}x^2 - 4$$

채점 기준

① a 의 값을 구할 수 있다.	60%
② 대칭이동한 그래프의 식을 구할 수 있다.	40%

11 이차함수의 그래프 (2)

1187 답 (가) 6 (나) 9 (다) 3 (라) -23

1188 $y = x^2 + 4x - 1 = (x^2 + 4x + 4 - 4) - 1$
 $= (x+2)^2 - 5$ 답 $y = (x+2)^2 - 5$

1189 $y = -2x^2 + 2x + 5 = -2\left(x^2 - x + \frac{1}{4} - \frac{1}{4}\right) + 5$
 $= -2\left(x - \frac{1}{2}\right)^2 + \frac{11}{2}$ 답 $y = -2\left(x - \frac{1}{2}\right)^2 + \frac{11}{2}$

1190 $y = \frac{1}{3}x^2 - 4x + 12 = \frac{1}{3}(x^2 - 12x + 36 - 36) + 12$
 $= \frac{1}{3}(x-6)^2$ 답 $y = \frac{1}{3}(x-6)^2$

1191 $y = -\frac{3}{2}x^2 + x = -\frac{3}{2}\left(x^2 - \frac{2}{3}x + \frac{1}{9} - \frac{1}{9}\right)$
 $= -\frac{3}{2}\left(x - \frac{1}{3}\right)^2 + \frac{1}{6}$ 답 $y = -\frac{3}{2}\left(x - \frac{1}{3}\right)^2 + \frac{1}{6}$

1192 $y = x^2 + 8x - 1 = (x+4)^2 - 17$ 답 $(-4, -17), x = -4$

1193 $y = -3x^2 + 6x + 2 = -3(x-1)^2 + 5$ 답 $(1, 5), x = 1$

1194 $y = -4x^2 + x = -4\left(x - \frac{1}{8}\right)^2 + \frac{1}{16}$
 답 $\left(\frac{1}{8}, \frac{1}{16}\right), x = \frac{1}{8}$

1195 $y = \frac{1}{2}x^2 + x - \frac{3}{2} = \frac{1}{2}(x+1)^2 - 2$
 답 $(-1, -2), x = -1$

1196 $-\frac{1}{2}x^2 + 2x + 1 = 0$, 즉 $x^2 - 4x - 2 = 0$ 의 해는

$x = 2 \pm \sqrt{6}$

이므로 x 축과의 교점의 좌표는

$(2 - \sqrt{6}, 0), (2 + \sqrt{6}, 0)$

$x=0$ 일 때의 함숫값이 1이므로 y 축과의 교점의 좌표는

$(0, 1)$

답 (가) $2 \pm \sqrt{6}$ (나) $2 + \sqrt{6}$ (다) 0 (라) 1

1197 $y=0$ 을 대입하면 $x^2 - 2x + 1 = 0, (x-1)^2 = 0$
 $\therefore x=1$

$x=0$ 을 대입하면 $y=1$

답 x 축: $(1, 0), y$ 축: $(0, 1)$

1198 $y=0$ 을 대입하면 $-x^2 + 4x - 3 = 0$

$x^2 - 4x + 3 = 0, (x-1)(x-3) = 0$

$\therefore x=1$ 또는 $x=3$

$x=0$ 을 대입하면 $y=-3$

답 x 축: $(1, 0), (3, 0), y$ 축: $(0, -3)$

1199 답 (1) $>$ (2) $<$, (3) $>$

1200 답 (1) $<$ (2) $>$, (3) $<$

1201 $y = 3x^2 - 12x + 1 = 3(x-2)^2 - 11$

따라서 $a=3, p=2, q=-11$ 이므로

$a+p+q = -6$

답 ①

1202 $y = -\frac{1}{2}x^2 + 3x + 1$

$= -\frac{1}{2}(x^2 - 6x) + 1$

$= -\frac{1}{2}(x^2 - 6x + 9 - 9) + 1$

$= -\frac{1}{2}(x^2 - 6x + 9) + \frac{9}{2} + 1$

$= -\frac{1}{2}(x-3)^2 + \frac{11}{2}$

답 ㄷ

1203 $y = -3x^2 - x - 1$

$= -3\left(x^2 + \frac{1}{3}x + \frac{1}{36} - \frac{1}{36}\right) - 1$

$= -3\left(x + \frac{1}{6}\right)^2 - \frac{11}{12}$

... ①

따라서 $-p = \frac{1}{6}, \frac{11}{q} = -\frac{11}{12}$ 이므로

$p = -\frac{1}{6}, q = -12$

... ②

$\therefore pq = 2$

... ③

답 2

채점 기준

① $y = a(x-b)^2 + c$ 꼴로 변형할 수 있다.	50%
② p, q 의 값을 구할 수 있다.	40%
③ pq 의 값을 구할 수 있다.	10%

1204 $y = -x^2 + 10x = -(x-5)^2 + 25$ 의 그래프의 꼭짓점의 좌표는 $(5, 25)$

$y = x^2 - 2px + q = (x-p)^2 - p^2 + q$ 의 그래프의 꼭짓점의 좌표는 $(p, -p^2 + q)$

따라서 $p=5, -p^2 + q = 25$ 이므로 $q=50$

$\therefore p+q=55$

답 55

1205 ① $x=0$ ② $x=-1$ ③ $x=-4$

④ $y = \left(x - \frac{1}{2}\right)^2 - \frac{5}{4}$ 이므로 $x = \frac{1}{2}$

⑤ $y = \frac{1}{5}\left(x + \frac{5}{2}\right)^2 + \frac{3}{4}$ 이므로 $x = -\frac{5}{2}$

따라서 그래프의 축이 가장 왼쪽에 있는 것은 ③이다.

답 ③

1206 $y=4x^2+2x+q=4\left(x+\frac{1}{4}\right)^2+q-\frac{1}{4}$ 의 그래프의 꼭짓점의 좌표는 $\left(-\frac{1}{4}, q-\frac{1}{4}\right)$ 이므로

$$p=-\frac{1}{4}, q-\frac{1}{4}=0 \quad \therefore p=-\frac{1}{4}, q=\frac{1}{4}$$

$$\therefore p+q=0$$

답 ③

1207 ① $y=-3(x+1)^2$ 이므로 $(-1, 0)$

② $y=-2(x-3)^2+2$ 이므로 $(3, 2)$

③ $y=-(x-1)^2-2$ 이므로 $(1, -2)$

④ $y=(x+3)^2+1$ 이므로 $(-3, 1)$

⑤ $y=2(x+1)^2-1$ 이므로 $(-1, -1)$

따라서 꼭짓점이 제3사분면에 있는 것은 ⑤이다.

답 ⑤

1208 $y=x^2-2ax+b$ 의 그래프가 점 $(1, 2)$ 를 지나므로

$$2=1-2a+b \quad \therefore b=2a+1$$

$$\therefore y=x^2-2ax+2a+1$$

$$=(x^2-2ax+a^2-a^2)+2a+1$$

$$=(x-a)^2-a^2+2a+1$$

이 그래프의 꼭짓점의 좌표는 $(a, -a^2+2a+1)$

이 꼭짓점이 직선 $y=x-5$ 위에 있으므로

$$-a^2+2a+1=a-5, \quad a^2-a-6=0$$

$$(a+2)(a-3)=0 \quad \therefore a=3 (\because a>0)$$

$$\therefore b=2 \times 3 + 1 = 7$$

$$\therefore b-a=4$$

답 ④

1209 $y=x^2-2kx+5=(x-k)^2-k^2+5$

이 그래프의 꼭짓점의 좌표는 $(k, -k^2+5)$

$y=-2x+2$ 의 그래프가 이 점을 지나므로

$$-k^2+5=-2k+2, \quad k^2-2k-3=0$$

$$(k+1)(k-3)=0 \quad \therefore k=3 (\because k>0)$$

답 3

1210 $y=0$ 을 대입하면

$$x^2-4x-5=0, \quad (x+1)(x-5)=0$$

$$\therefore x=-1 \text{ 또는 } x=5$$

$$\therefore p=-1, q=5 \text{ 또는 } p=5, q=-1$$

$x=0$ 을 대입하면 $y=-5 \quad \therefore r=-5$

$$\therefore p+q+r=-1$$

답 ②

1211 $y=\frac{1}{3}x^2-2x-9=\frac{1}{3}(x-3)^2-12$

$$\therefore C(3, -12)$$

$y=0$ 을 대입하면

$$\frac{1}{3}x^2-2x-9=0, \quad x^2-6x-27=0$$

$$(x+3)(x-9)=0 \quad \therefore x=-3 \text{ 또는 } x=9$$

$$\therefore A(-3, 0), E(9, 0)$$

$x=0$ 을 대입하면 $y=-9 \quad \therefore B(0, -9)$

$y=-9$ 를 대입하면 $\frac{1}{3}x^2-2x-9=-9$

$$x^2-6x=0, \quad x(x-6)=0 \quad \therefore x=0 \text{ 또는 } x=6$$

$$\therefore D(6, -9)$$

따라서 옳지 않은 것은 ④이다.

답 ④

1212 $y=2x^2-7x+a$ 에 $x=\frac{1}{2}, y=0$ 을 대입하면

$$0=\frac{1}{2}-\frac{7}{2}+a \quad \therefore a=3$$

따라서 $y=2x^2-7x+3$ 에 $x=0$ 을 대입하면

$$y=3$$

따라서 이 그래프가 y 축과 만나는 점의 좌표는 $(0, 3)$

답 (0, 3)

1213 $y=0$ 을 대입하면 $0=-2x^2+4x+6$

$$x^2-2x-3=0, \quad (x+1)(x-3)=0$$

$$\therefore x=-1 \text{ 또는 } x=3$$

... ①

따라서 A(-1, 0), B(3, 0)으로 놓으면

$$\overline{AB}=4$$

... ②

답 4

해점 기준

① x 축과의 교점의 x 좌표를 구할 수 있다.

50%

② AB의 길이를 구할 수 있다.

50%

1214 $y=ax^2-3x+7$ 에 $x=2, y=0$ 을 대입하면

$$0=4a-6+7 \quad \therefore a=-\frac{1}{4}$$

... ①

즉 $y=-\frac{1}{4}x^2-3x+7$ 에 $y=0$ 을 대입하면

$$0=-\frac{1}{4}x^2-3x+7, \quad x^2+12x-28=0$$

$$(x+14)(x-2)=0 \quad \therefore x=-14 \text{ 또는 } x=2$$

... ②

따라서 다른 한 점의 좌표는 $(-14, 0)$

... ③

답 (-14, 0)

해점 기준

① a 의 값을 구할 수 있다.

30%

② x 축과의 교점의 x 좌표를 구할 수 있다.

50%

③ 다른 한 점의 좌표를 구할 수 있다.

20%

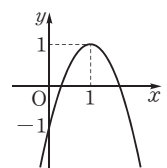
1215 $y=-\frac{1}{2}x^2+2x+1=-\frac{1}{2}(x-2)^2+3$

따라서 꼭짓점의 좌표가 $(2, 3)$ 이고, y 축과의 교점의 좌표가 $(0, 1)$ 이므로 주어진 이차함수의 그래프는 ①과 같다.

답 ①

1216 $y=-2x^2+4x-1=-2(x-1)^2+1$

따라서 꼭짓점의 좌표가 $(1, 1)$ 이고, y 축과의 교점의 좌표가 $(0, -1)$ 이므로 주어진 이차함수의 그래프는 오른쪽 그림과 같이 제 2사분면을 지나지 않는다.



답 ②

1217 ①, ② 제1, 2사분면을 지나지 않는다.

$$\textcircled{3} y = -4x^2 + 12x = -4\left(x - \frac{3}{2}\right)^2 + 9$$

따라서 꼭짓점의 좌표가 $\left(\frac{3}{2}, 9\right)$ 이고, 원점을 지나므로 제2사분면을 지나지 않는다.

$$\textcircled{4} y = -3x^2 - x - 1 = -3\left(x + \frac{1}{6}\right)^2 - \frac{11}{12}$$

따라서 꼭짓점의 좌표가 $\left(-\frac{1}{6}, -\frac{11}{12}\right)$ 이고, y 축과의 교점의 좌표가 $(0, -1)$ 이므로 제1, 2사분면을 지나지 않는다.

$$\textcircled{5} y = -5x^2 - 4x + 1 = -5\left(x + \frac{2}{5}\right)^2 + \frac{9}{5}$$

따라서 꼭짓점의 좌표가 $\left(-\frac{2}{5}, \frac{9}{5}\right)$ 이고, y 축과의 교점의 좌표가 $(0, 1)$ 이므로 모든 사분면을 지난다.

답 ⑤

1218 $y = -x^2 + 4x - 4a + 1 = -(x-2)^2 - 4a + 5$ 의 그래프의 꼭짓점의 좌표는 $(2, -4a+5)$ 이므로 그래프가 x 축에 접하려면

$$-4a + 5 = 0 \quad \therefore a = \frac{5}{4}$$

답 $\frac{5}{4}$

$$\textcircled{1} y = 9x^2 - 6x + 1 = (3x-1)^2$$

따라서 이 그래프는 x 축과 한 점에서 만난다.

$$\textcircled{2} y = x^2 - 2x + 4 = (x-1)^2 + 3$$

따라서 이 그래프는 x 축과 만나지 않는다.

$$\textcircled{3} y = -\frac{1}{2}x^2 + 3x - \frac{13}{2} = -\frac{1}{2}(x-3)^2 - 2$$

따라서 이 그래프는 x 축과 만나지 않는다.

$$\textcircled{4} y = -\frac{1}{4}x^2 + x - 1 = -\frac{1}{4}(x-2)^2$$

따라서 이 그래프는 x 축과 한 점에서 만난다.

$$\textcircled{5} y = -x^2 - x = -\left(x + \frac{1}{2}\right)^2 + \frac{1}{4}$$

따라서 이 그래프는 x 축과 서로 다른 두 점에서 만난다.

답 ⑤

1220 $y = x^2 + 4x - k + 6 = (x+2)^2 - k + 2$ 의 그래프의 꼭짓점의 좌표는 $(-2, -k+2)$ 이므로 이 그래프가 x 축과 서로 다른 두 점에서 만나려면

$$-k + 2 < 0 \quad \therefore k > 2$$

답 ⑤

1221 $y = x^2 + 2x - 4 = (x+1)^2 - 5$ 의 그래프를 x 축의 방향으로 a 만큼, y 축의 방향으로 b 만큼 평행이동한 그래프의 식은

$$y = (x-a+1)^2 - 5 + b$$

$$y = x^2 - 8x + 14 = (x-4)^2 - 2 \text{이므로}$$

$$-a + 1 = -4, \quad -5 + b = -2$$

따라서 $a=5, b=3$ 이므로

$$ab = 15$$

답 ④

$$\textcircled{1222} y = \frac{1}{3}x^2 + 2x - 4 = \frac{1}{3}(x+3)^2 - 7 \text{의 그래프는}$$

$y = \frac{1}{3}x^2$ 의 그래프를 x 축의 방향으로 -3 만큼, y 축의 방향으로 -7 만큼 평행이동한 것이다.

따라서 $a = \frac{1}{3}, b = -3, c = -7$ 이므로

$$abc = 7$$

답 ⑤

1223 $y = 4x^2 - 12x - 1 = 4\left(x - \frac{3}{2}\right)^2 - 10$ 의 그래프를 x 축의 방향으로 a 만큼, y 축의 방향으로 7 만큼 평행이동한 그래프의 식은

$$y = 4\left(x - a - \frac{3}{2}\right)^2 - 10 + 7 = 4\left(x - a - \frac{3}{2}\right)^2 - 3$$

이 그래프의 꼭짓점의 좌표가 $(-1, b)$ 이므로

$$a + \frac{3}{2} = -1, \quad -3 = b$$

$$\therefore a = -\frac{5}{2}, b = -3$$

$$\therefore a + b = -\frac{11}{2}$$

답 $-\frac{11}{2}$

$$\textcircled{1224} y = -\frac{1}{2}x^2 - 3x - 2 = -\frac{1}{2}(x+3)^2 + \frac{5}{2} \quad \dots \textcircled{1}$$

이 그래프를 x 축의 방향으로 2 만큼 평행이동한 그래프의 식은

$$y = -\frac{1}{2}(x-2+3)^2 + \frac{5}{2}$$

$$= -\frac{1}{2}(x+1)^2 + \frac{5}{2} \quad \dots \textcircled{2}$$

이 그래프가 점 $(1, m)$ 을 지나므로

$$m = -\frac{1}{2} \times 2^2 + \frac{5}{2} = \frac{1}{2} \quad \dots \textcircled{3}$$

답 $\frac{1}{2}$

재점 기준

① $y = a(x-p)^2 + q$ 꼴로 변형할 수 있다.

40%

② 평행이동한 그래프의 식을 구할 수 있다.

40%

③ m 의 값을 구할 수 있다.

20%

1225 $y = -x^2 + 6x + k = -(x-3)^2 + k + 9$ 의 그래프를 y 축의 방향으로 -5 만큼 평행이동한 그래프의 식은

$$y = -(x-3)^2 + k + 9 - 5 = -(x-3)^2 + k + 4$$

이 그래프의 꼭짓점의 좌표는 $(3, k+4)$ 이므로 그래프가 x 축과 만나지 않으려면

$$k + 4 < 0 \quad \therefore k < -4$$

답 $k < -4$

1226 $y = -3x^2 - 6x - 7 = -3(x+1)^2 - 4$ 이므로 구하는 범위가 될 수 있는 것은

$$x > -1$$

답 ⑤

$$1227 \quad y = -\frac{1}{2}x^2 + ax - 5 = -\frac{1}{2}(x-a)^2 + \frac{1}{2}a^2 - 5$$

이때 축의 방정식이 $x=a$ 이므로 $a=3$

답 3

1228 $y=2x^2-8x+7=2(x-2)^2-1$ 의 그래프를 x 축의 방향으로 k 만큼 평행이동한 그래프의 식은

$$y=2(x-k-2)^2-1$$

이때 축의 방정식이 $x=k+2$ 이므로

$$k+2=1 \quad \therefore k=-1$$

답 ②

1229 $y=5x^2+kx+9$ 의 그래프가 점 $(-2, -1)$ 을 지나므로 $-1=20-2k+9 \quad \therefore k=15$

따라서 $y=5x^2+15x+9=5\left(x+\frac{3}{2}\right)^2-\frac{9}{4}$ 이므로 구하는 범위가 될 수 있는 것은

$$x < -\frac{3}{2}$$

답 ①

1230 주어진 그래프가 점 $(0, -2)$ 를 지나므로 $-2=b$
꼭짓점의 좌표가 $(k, -3)$ 이므로

$$y=\frac{1}{4}(x-k)^2-3=\frac{1}{4}x^2-\frac{1}{2}kx+\frac{1}{4}k^2-3$$

이 그래프가 $y=\frac{1}{4}x^2+ax+b$ 의 그래프와 일치하므로

$$-\frac{1}{2}k=a, \quad \frac{1}{4}k^2-3=b$$

$$\therefore k=-2, a=1 (\because k < 0)$$

$$\therefore a+b+k=-3$$

답 -3

$$1231 \quad y=-x^2+4x+5=-(x-2)^2+9$$

$$\textcircled{3} \quad -x^2+4x+5=0 \text{에서} \quad x^2-4x-5=0$$

$$(x+1)(x-5)=0 \quad \therefore x=-1 \text{ 또는 } x=5$$

따라서 x 축과의 교점의 좌표는 $(-1, 0), (5, 0)$ 이다.

④ $x > 2$ 일 때, x 의 값이 증가하면 y 의 값은 감소한다.

답 ④

$$1232 \quad y=-3x^2+6x=-3(x-1)^2+3$$

③ 함숫값의 범위는 $y \leq 3$ 이다.

⑤ $y=-3x^2$ 의 그래프를 x 축의 방향으로 1만큼, y 축의 방향으로 3만큼 평행이동한 그래프이다.

답 ③

1233 $y=2x^2-4x+1=2(x-1)^2-1$ 의 그래프를 x 축의 방향으로 -1만큼, y 축의 방향으로 2만큼 평행이동한 그래프의 식은 $y=2(x+1-1)^2-1+2=2x^2+1$

(-) 꼭짓점의 좌표는 $(0, 1)$

이상에서 옳은 것은 (ㄴ), (ㄷ), (ㄹ)이다.

답 (ㄴ), (ㄷ), (ㄹ)

1234 ① $a > 0$ 이면 아래로 볼록하다.

② 축의 방정식은 $x=-\frac{b}{2a}$ 이다.

③ 이차함수 $y=ax^2$ 의 그래프와 폭이 같다.

④ x 축과의 교점의 개수는 알 수 없다.

답 ⑤

$$1235 \quad y=-x^2+2x+8=-(x-1)^2+9$$

$$\therefore A(1, 9)$$

$$y=0 \text{을 대입하면} \quad -x^2+2x+8=0$$

$$x^2-2x-8=0, \quad (x+2)(x-4)=0$$

$$\therefore x=-2 \text{ 또는 } x=4$$

$$\text{따라서 } B(-2, 0), C(4, 0) \text{이므로} \quad \overline{BC}=6$$

$$\therefore \triangle ABC = \frac{1}{2} \times 6 \times 9 = 27$$

답 27

$$1236 \quad y=-\frac{1}{2}x^2-2x+\frac{5}{2}=-\frac{1}{2}(x+2)^2+\frac{9}{2} \text{이므로}$$

$$C\left(-2, \frac{9}{2}\right)$$

$$x=0 \text{을 대입하면} \quad y=\frac{5}{2} \quad \therefore D\left(0, \frac{5}{2}\right)$$

$$\therefore \triangle ABC : \triangle ABD$$

$$=\left(\frac{1}{2} \times \overline{AB} \times \frac{9}{2}\right) : \left(\frac{1}{2} \times \overline{AB} \times \frac{5}{2}\right)$$

$$=9 : 5$$

답 ⑤

1237 그래프가 원점을 지나므로 $c=0$

축의 방정식이 $x=3$ 이므로 $B(6, 0)$

$$-\frac{1}{2} \times 6^2 + 6b = 0 \text{이므로} \quad b=3$$

$$\text{즉 } y=-\frac{1}{2}x^2+3x=-\frac{1}{2}(x-3)^2+\frac{9}{2} \text{이므로}$$

$$A\left(3, \frac{9}{2}\right)$$

$$\therefore \triangle AOB = \frac{1}{2} \times 6 \times \frac{9}{2} = \frac{27}{2}$$

답 ⑤

$$1238 \quad x=0 \text{을 대입하면} \quad y=-5 \quad \therefore A(0, -5) \quad \dots \textcircled{1}$$

$$y=x^2-4x-5=(x-2)^2-9 \text{이므로} \quad B(2, -9) \quad \dots \textcircled{2}$$

$$y=0 \text{을 대입하면} \quad x^2-4x-5=0$$

$$(x+1)(x-5)=0 \quad \therefore x=-1 \text{ 또는 } x=5$$

$$\therefore C(5, 0) \quad \dots \textcircled{3}$$

$$\therefore \square OABC = \triangle OAB + \triangle OBC$$

$$=\frac{1}{2} \times 5 \times 2 + \frac{1}{2} \times 5 \times 9$$

$$=\frac{55}{2}$$

... ④

$$\text{답 } \frac{55}{2}$$

채점 기준

① 점 A의 좌표를 구할 수 있다.	20%
② 점 B의 좌표를 구할 수 있다.	20%
③ 점 C의 좌표를 구할 수 있다.	20%
④ $\square OABC$ 의 넓이를 구할 수 있다.	40%

1239 $y=x^2+ax-8$ 의 그래프가 점 $(-4, 0)$ 을 지나므로

$$0=16-4a-8 \quad \therefore a=2$$

$$y=x^2+2x-8=(x+1)^2-9 \text{이므로} \quad B(-1, -9)$$

$$x=0 \text{을 대입하면} \quad y=-8 \quad \therefore C(0, -8)$$

$$\begin{aligned}\therefore \triangle ABC &= \triangle OAB + \triangle OBC - \triangle OAC \\ &= \frac{1}{2} \times 4 \times 9 + \frac{1}{2} \times 8 \times 1 - \frac{1}{2} \times 4 \times 8 \\ &= 6\end{aligned}$$

답 6

1240 $a > 0, b < 0, c < 0$

① $ac < 0$ ② $ab < 0$ ③ $\frac{b}{c} > 0$

④ $x = -1$ 일 때 $y > 0$ 이므로 $a - b + c > 0$

⑤ $x = 2$ 일 때 $y < 0$ 이므로 $4a + 2b + c < 0$

답 ⑤

1241 그래프가 아래로 볼록하므로 $a > 0$

축이 y 축의 오른쪽에 위치하므로 $ab < 0 \quad \therefore b < 0$

y 축과의 교점이 원점의 위쪽에 위치하므로 $c > 0$

답 ②

1242 $a < 0, -b < 0$ 이므로 $a < 0, b > 0$

$y = ax^2 + bx + a - b$ 의 그래프에서

(i) $a < 0$ 이므로 위로 볼록

(ii) $ab < 0$ 이므로 축은 y 축의 오른쪽에 위치

(iii) $a - b < 0$ 이므로 y 축과의 교점이 원점의 아래쪽에 위치

이상에서 $y = ax^2 + bx + a - b$ 의 그래프의 개형은 ③과 같다.

답 ③

1243 이차방정식 $x^2 + bx - c = 0$ 의 두 근이 모두 양수이므로
근과 계수의 관계에 의하여

$$-b > 0, -c > 0$$

$$\therefore b < 0, c < 0$$

$y = -bx^2 + x + c$ 의 그래프에서

(i) $-b > 0$ 이므로 아래로 볼록

(ii) $-b \times 1 > 0$ 이므로 축은 y 축의 왼쪽에 위치

(iii) $c < 0$ 이므로 y 축과의 교점이 원점의 아래쪽에 위치

이상에서 $y = -bx^2 + x + c$ 의 그래프의 개형은 ③과 같다.

답 ③



이차방정식의 근과 계수의 관계

이차방정식 $ax^2 + bx + c = 0$ 의 두 근을 α, β 라 할 때

① 두 근의 합: $\alpha + \beta = -\frac{b}{a}$

② 두 근의 곱: $\alpha\beta = \frac{c}{a}$

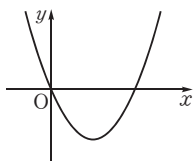
1244 $a < 0, b = 0, c > 0$ 이므로 $y = cx^2 + ax + b$ 의 그래프에서

(i) $c > 0$ 이므로 아래로 볼록

(ii) $ac < 0$ 이므로 축은 y 축의 오른쪽에 위치

(iii) $b = 0$ 이므로 원점을 지난다.

이상에서 $y = cx^2 + ax + b = cx^2 + ax$ 의 그래프의 개형은 오른쪽 그림과 같으므로 제1, 2, 4사분면을 지난다.



답 ④

1245 $y = ax^2 + bx + c$ 의 그래프가 오른쪽 그림과 같으므로

$$a < 0, b > 0, c \leq 0$$

이때 $y = cx^2 - bx + a$ 가 이차함수이므로 $c \neq 0$

$$\therefore a < 0, b > 0, c < 0$$

$y = cx^2 - bx + a$ 의 그래프에서

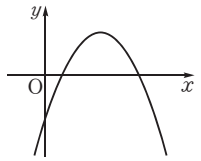
(i) $c < 0$ 이므로 위로 볼록

(ii) $-bc > 0$ 이므로 축은 y 축의 왼쪽에 위치

(iii) $a < 0$ 이므로 y 축과의 교점이 원점의 아래쪽에 위치

이상에서 $y = cx^2 - bx + a$ 의 그래프의 개형은 ⑤와 같다.

답 ⑤



1246 **전략** 직선의 기울기가 $\frac{5}{2}$, y 절편이 5임을 이용하여 a, b 의 값을 구하고 주어진 이차함수를 표준형으로 변형한다.

풀이 $a = \frac{5}{2}, b = 5$ 이므로

$$y = 5x^2 - \frac{5}{2}x + 2 = 5\left(x - \frac{1}{4}\right)^2 + \frac{27}{16}$$

따라서 이 그래프의 축의 방정식은 $x = \frac{1}{4}$

답 ④

1247 **전략** 주어진 이차함수를 $y = a(x-p)^2 + q$ 꼴로 변형하여 꼭짓점의 좌표를 k 에 대한 식으로 나타낸다.

풀이 $y = x^2 - 4kx + 4k^2 - k + 2 = (x - 2k)^2 - k + 2$

이 그래프의 꼭짓점의 좌표는 $(2k, -k + 2)$

이 점이 제4사분면에 있으려면

$$2k > 0, -k + 2 < 0$$

$$\therefore k > 2$$

따라서 실수 k 의 값이 될 수 있는 것은 ⑤이다.

답 ⑤

1248 **전략** $\square ABCD$ 가 평행사변형을 이용하여 넓이를 구한다.

풀이 $y = x^2 - x - 2 = \left(x - \frac{1}{2}\right)^2 - \frac{9}{4}$ 이므로

$$B\left(\frac{1}{2}, -\frac{9}{4}\right)$$

$$y = x^2 - 9x + 18 = \left(x - \frac{9}{2}\right)^2 - \frac{9}{4}$$
이므로

$$C\left(\frac{9}{2}, -\frac{9}{4}\right)$$

즉 $y = x^2 - 9x + 18$ 의 그래프는 $y = x^2 - x - 2$ 의 그래프를 x 축의 방향으로 4만큼 평행이동한 것이므로 $\square ABCD$ 는 평행사변형이다.

$$\therefore \square ABCD = 4 \times \frac{9}{4} = 9$$

답 9

1249 **전략** $y = a(x-p)^2 + q$ 의 그래프를 x 축에 대칭이동한 그래프의 식은 $y = -a(x-p)^2 - q$ 이다.

풀이 $y = 3x^2 - 2x + 1 = 3\left(x - \frac{1}{3}\right)^2 + \frac{2}{3}$

이 그래프를 x 축의 방향으로 p 만큼, y 축의 방향으로 q 만큼 평행이동한 그래프의 식은

$$y = 3\left(x - p - \frac{1}{3}\right)^2 + \frac{2}{3} + q$$

이 그래프를 x 축에 대하여 대칭이동한 그래프의 식은

$$y = -3\left(x - p - \frac{1}{3}\right)^2 - \frac{2}{3} - q \quad \dots\dots ㉠$$

한편 $y = ax^2 + 6x - 1 = a\left(x + \frac{3}{a}\right)^2 - \frac{9}{a} - 1$ 이고, 이 그래프와

㉠의 그래프가 일치하므로

$$a = -3, -p - \frac{1}{3} = \frac{3}{a}, -\frac{2}{3} - q = -\frac{9}{a} - 1$$

따라서 $a = -3, p = \frac{2}{3}, q = -\frac{8}{3}$ 이므로

$$apq = \frac{16}{3} \quad \text{답 } \frac{16}{3}$$

1250 전략 이차함수 $y = -x^2 + 4x + 5$ 의 그래프가 x 축과 만나는 두 점 사이의 거리를 구한다.

풀이 $y = 0$ 을 대입하면 $-x^2 + 4x + 5 = 0$

$$x^2 - 4x - 5 = 0, \quad (x+1)(x-5) = 0$$

$$\therefore x = -1 \text{ 또는 } x = 5$$

따라서 $y = -x^2 + 4x + 5$ 의 그래프가 x 축과 만나는 두 점 사이의 거리는 6이다.

$y = -x^2 + 4x + 5 = -(x-2)^2 + 9$ 의 그래프를 y 축의 방향으로 k 만큼 평행이동한 그래프의 식은

$$y = -(x-2)^2 + 9 + k$$

이 그래프의 축의 방정식은

$$x = 2$$

이때 평행이동한 그래프와 x 축과의 교점 사이의 거리가 12이므로 교점의 좌표는

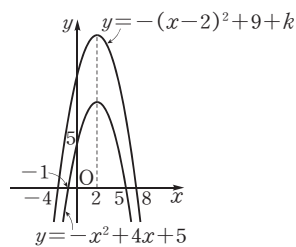
$$(-4, 0), (8, 0)$$

따라서 $y = -(x-2)^2 + 9 + k$

에 $x = -4, y = 0$ 을 대입하면

$$0 = -(-4-2)^2 + 9 + k$$

$$\therefore k = 27$$



답 ④

1251 전략 직선 l 이 $\triangle ABC$ 의 넓이를 이등분하려면 선분 AB 의 중점을 지나야 함을 이용한다.

풀이 $y = 0$ 을 대입하면

$$x^2 - 4x + 3 = 0$$

$$(x-1)(x-3) = 0$$

$$\therefore x = 1 \text{ 또는 } x = 3$$

$$\therefore A(1, 0), B(3, 0)$$

$x = 0$ 을 대입하면

$$\therefore y = 3 \quad C(0, 3)$$

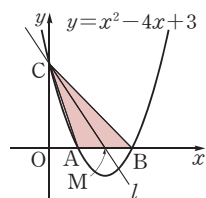
직선 l 이 $\triangle ABC$ 의 넓이를 이등분하므로 \overline{AB} 의 중점을 지난다.

이 중점을 M 이라 하면

$$M(2, 0)$$

따라서 두 점 $C(0, 3), M(2, 0)$ 을 지나는 직선 l 의 방정식은

$$y = -\frac{3}{2}x + 3 \quad \text{답 } y = -\frac{3}{2}x + 3$$



1252 전략 주어진 이차함수의 그래프를 이용하여 a, b, c 의 부호를 결정한다.

풀이 $a < 0, b > 0, c > 0$

$$\textcircled{2} a < 0, b > 0 \text{이므로 } 4a < 0, -2b < 0$$

$$\therefore 4a - 2b < 0$$

$$\textcircled{3} x = -1 \text{일 때 } y = 0 \text{이므로 } a - b + c = 0$$

$$\textcircled{5} \text{ 축이 직선 } x = 1 \text{이므로 } x = 3 \text{일 때 } y = 0 \text{이다.}$$

따라서 $x = 2$ 일 때 $y > 0$ 이므로

$$4a + 2b + c > 0$$

답 ⑤

1253 전략 $x = 1$ 에서 함숫값의 부호를 이용하면 $a + b$ 의 부호를 알 수 있다.

풀이 $a < 0, b > 0$ 이므로 $ab < 0$

$$y = ax + b \text{에서 } x = 1 \text{일 때 } y > 0 \text{이므로 } a + b > 0$$

$y = x^2 + (a+b)x + ab$ 의 그래프에서

(i) $1 > 0$ 이므로 아래로 볼록

(ii) $a + b > 0$ 이므로 축이 y 축의 왼쪽에 위치

(iii) $ab < 0$ 이므로 y 축과의 교점이 원점의 아래쪽에 위치

이상에서 $y = x^2 + (a+b)x + ab$ 의 그래프의 개형은 ②와 같다.

답 ②

1254 전략 주어진 이차함수를 $y = a(x-p)^2 + q$ 꼴로 변형하여 꼭짓점의 좌표를 a 에 대한 식으로 나타낸다.

풀이 $y = (x+a)^2 + 2(a+1)x + 6$

$$= x^2 + (4a+2)x + a^2 + 6$$

$$= (x+2a+1)^2 - 3a^2 - 4a + 5$$

... ①

이 그래프의 꼭짓점의 좌표는 $(-2a-1, -3a^2-4a+5)$ 이므로

$$-2a-1=5, -3a^2-4a+5=b$$

$$\therefore a = -3, b = -10$$

... ②

$$\therefore ab = 30$$

... ③

답 30

채점 기준

① $y = a(x-p)^2 + q$ 꼴로 변형할 수 있다.	50%
② a, b 의 값을 구할 수 있다.	40%
③ ab 의 값을 구할 수 있다.	10%

1255 전략 $\square ABCD$ 가 평행사변형이면 두 쌍의 대변이 각각 평행하다.

풀이 $y = 0$ 을 대입하면 $\frac{1}{2}x^2 + x - 4 = 0$ 에서

$$x^2 + 2x - 8 = 0, \quad (x+4)(x-2) = 0$$

$$\therefore x = -4 \text{ 또는 } x = 2$$

$$\therefore A(-4, 0), C(2, 0)$$

$x = 0$ 을 대입하면 $y = -4$

$$\therefore B(0, -4)$$

... ①

$D(a, b)$ 라 하면 $\square ABCD$ 가 평행사변형이므로

$$\overline{AB} \parallel \overline{CD} \text{에서 } \frac{-4-0}{0-(-4)} = \frac{b-0}{a-2}$$

$$\therefore a+b=2$$

..... ㉠

$$\overline{AD} \parallel \overline{BC} \text{에서 } \frac{b-0}{a-(-4)} = \frac{0-(-4)}{2-0}$$

$$\therefore 2a-b=-8$$

..... ㉡

㉠, ㉡을 연립하여 풀면 $a=-2, b=4$
 $\therefore D(-2, 4)$

답 D(-2, 4)

채점 기준

① 세 점 A, B, C의 좌표를 구할 수 있다.	40%
② 점 D의 좌표를 구할 수 있다.	60%



① 두 점 $(x_1, y_1), (x_2, y_2)$ 를 지나는 직선의 기울기

$$\rightarrow \frac{y_2 - y_1}{x_2 - x_1} \quad (\text{단, } x_1 \neq x_2)$$

② 두 직선 $y=ax+b, y=a'x+b'$ 이 평행하면 $\rightarrow a=a', b \neq b'$

1256 전략 $y=a(x-p)^2+q$ 의 그래프를 x 축에 대하여 대칭이동한 그래프의 식은 $y=-a(x-p)^2-q$ 이다.

풀이 $y=2x^2+2px+5=2\left(x+\frac{p}{2}\right)^2-\frac{p^2}{2}+5$

이 그래프를 x 축에 대칭이동한 그래프의 식은

$$y=-2\left(x+\frac{p}{2}\right)^2+\frac{p^2}{2}-5$$

이 그래프를 x 축의 방향으로 -2 만큼, y 축의 방향으로 q 만큼 평행이동한 그래프의 식은

$$y=-2\left(x+2+\frac{p}{2}\right)^2+\frac{p^2}{2}-5+q \quad \dots ①$$

이 그래프가 $y=a(x-1)^2$ 의 그래프와 일치하므로

$$\begin{aligned} a &= -2, 2 + \frac{p}{2} = -1, \frac{p^2}{2} - 5 + q = 0 \\ \therefore a &= -2, p = -6, q = -13 & \dots ② \\ \therefore a + p + q &= -21 & \dots ③ \end{aligned}$$

답 -21

채점 기준

① 대칭이동·평행이동한 그래프의 식을 구할 수 있다.	60%
② a, p, q 의 값을 구할 수 있다.	30%
③ $a+p+q$ 의 값을 구할 수 있다.	10%

1257 전략 주어진 이차함수의 그래프의 축의 방정식이 $x=1$ 임을 이용한다.

풀이 $y = -\frac{1}{4}x^2 + \frac{1}{2}mx + 2m - 1$

$$= -\frac{1}{4}(x-m)^2 + \frac{1}{4}m^2 + 2m - 1 \quad \dots ①$$

이 그래프의 축의 방정식이 $x=1$ 이므로 $m=1$ $\dots ②$

따라서 $\frac{1}{4}m^2 + 2m - 1 = \frac{5}{4}$ 이므로 꼭짓점의 좌표는

$$\left(1, \frac{5}{4}\right) \quad \dots ③$$

답 $\left(1, \frac{5}{4}\right)$

채점 기준

① $y=a(x-p)^2+q$ 꼴로 변형할 수 있다.	40%
② m 의 값을 구할 수 있다.	30%
③ 꼭짓점의 좌표를 구할 수 있다.	30%

1258 전략 축의 방정식과 $\overline{AB}=4$ 임을 이용하여 두 점 A, B의 좌표를 구한다.

풀이 $y=2x^2+4x+k=2(x+1)^2+k-2$

이 그래프의 축의 방정식이 $x=-1$ 이고, $\overline{AB}=4$ 이므로

$$A(-3, 0), B(1, 0) \quad \dots ①$$

$y=2x^2+4x+k$ 에 $x=1, y=0$ 을 대입하면

$$0=2+4+k \quad \therefore k=-6 \quad \dots ②$$

즉 $y=2x^2+4x-6=2(x+1)^2-8$ 이므로

$$\therefore C(-1, -8) \quad \dots ③$$

$$\therefore \triangle ABC = \frac{1}{2} \times 4 \times 8 = 16 \quad \dots ④$$

답 16

채점 기준

① 두 점 A, B의 좌표를 구할 수 있다.	30%
② k 의 값을 구할 수 있다.	20%
③ 점 C의 좌표를 구할 수 있다.	30%
④ $\triangle ABC$ 의 넓이를 구할 수 있다.	20%

1259 전략 주어진 이차함수의 그래프를 이용하여 a, b 의 부호를 결정한다.

풀이 그래프의 축이 y 축의 오른쪽에 위치하므로

$$-a < 0 \quad \therefore a > 0$$

y 축과의 교점이 원점의 아래쪽에 위치하므로

$$b < 0 \quad \dots ①$$

$$\therefore a-b > 0, b-a < 0 \quad \dots ②$$

$$\begin{aligned} \therefore \sqrt{(a-b)^2} - \sqrt{(b-a)^2} &= a-b + (b-a) \\ &= 0 \quad \dots ③ \end{aligned}$$

답 0

채점 기준

① a, b 의 부호를 결정할 수 있다.	40%
② $a-b, b-a$ 의 부호를 결정할 수 있다.	30%
③ 주어진 식을 간단히 할 수 있다.	30%



$\sqrt{(a-b)^2}$ 의 성질

① $a > b$ 이면 $\rightarrow \sqrt{(a-b)^2} = a-b$

② $a < b$ 이면 $\rightarrow \sqrt{(a-b)^2} = -(a-b)$

12 이차함수의 활용

1260 ㉠ (가) $x+3$ (나) -2 (다) 4 (라) 2 (마) $y=2x^2+12x+20$

1261 구하는 이차함수의 식을 $y=a(x-4)^2-1$ 로 놓으면 그래프가 점 $(1, 8)$ 을 지나므로

$$8=9a-1 \quad \therefore a=1$$

$$\therefore y=(x-4)^2-1 \quad \text{답 } y=(x-4)^2-1$$

1262 구하는 이차함수의 식을 $y=a(x-2)^2+5$ 로 놓으면 그래프가 점 $(0, 1)$ 을 지나므로

$$1=4a+5 \quad \therefore a=-1$$

$$\therefore y=-(x-2)^2+5 \quad \text{답 } y=-(x-2)^2+5$$

1263 ㉠ (가) $x-3$ (나) -2 (다) -1 (라) 2 (마) $y=-x^2+6x-7$

1264 구하는 이차함수의 식을 $y=a(x+2)^2+q$ 로 놓으면 그래프가 두 점 $(-4, -3), (-1, 3)$ 을 지나므로

$$-3=4a+q, 3=a+q$$

$$\therefore a=-2, q=5$$

$$\therefore y=-2(x+2)^2+5 \quad \text{답 } y=-2(x+2)^2+5$$

1265 구하는 이차함수의 식을 $y=a(x+1)^2+q$ 로 놓으면 그래프가 두 점 $(0, -\frac{5}{2}), (1, -1)$ 을 지나므로

$$-\frac{5}{2}=a+q, -1=4a+q$$

$$\therefore a=\frac{1}{2}, q=-3$$

$$\therefore y=\frac{1}{2}(x+1)^2-3 \quad \text{답 } y=\frac{1}{2}(x+1)^2-3$$

1266 ㉠ (가) 3 (나) $4a+2b+c$ (다) 1 (라) -6 (마) $y=x^2-6x+8$

1267 구하는 이차함수의 식을 $y=ax^2+bx+c$ 로 놓고,

$$x=0, y=4 \text{를 대입하면} \quad 4=c \quad \dots\dots \text{㉠}$$

$$x=1, y=1 \text{을 대입하면} \quad 1=a+b+c \quad \dots\dots \text{㉡}$$

$$x=2, y=4 \text{를 대입하면} \quad 4=4a+2b+c \quad \dots\dots \text{㉢}$$

㉠, ㉡, ㉢을 연립하여 풀면

$$a=3, b=-6, c=4$$

$$\therefore y=3x^2-6x+4 \quad \text{답 } y=3x^2-6x+4$$

1268 구하는 이차함수의 식을 $y=ax^2+bx+c$ 로 놓고,

$$x=-1, y=-6 \text{을 대입하면} \quad -6=a-b+c \quad \dots\dots \text{㉠}$$

$$x=0, y=0 \text{을 대입하면} \quad 0=c \quad \dots\dots \text{㉡}$$

$$x=3, y=-6 \text{을 대입하면} \quad -6=9a+3b+c \quad \dots\dots \text{㉢}$$

㉠, ㉡, ㉢을 연립하여 풀면

$$a=-2, b=4, c=0$$

$$\therefore y=-2x^2+4x \quad \text{답 } y=-2x^2+4x$$

1269 ㉠ (가) $x-4$ (나) 0 (다) 12 (라) -1 (마) $y=-x^2+x+12$

1270 구하는 이차함수의 식을 $y=ax(x+3)$ 으로 놓으면 그래프가 점 $(-1, -6)$ 을 지나므로

$$-6=-2a \quad \therefore a=3$$

$$\therefore y=3x(x+3) \quad \text{답 } y=3x(x+3)$$

1271 ㉠ 최솟값: $1, x=0$

1272 ㉠ 최솟값: $-4, x=1$

1273 ㉠ 최댓값: $-1, x=0$

1274 ㉠ 최댓값: $-2, x=1$

$$1275 \quad y=\frac{1}{2}x^2+x-1=\frac{1}{2}(x^2+2x+1-1)-1$$

$$=\frac{1}{2}(x+1)^2-\frac{3}{2} \quad \text{답 } y=\frac{1}{2}(x+1)^2-\frac{3}{2}$$

1276 ㉠ 최솟값: $-\frac{3}{2}, x=-1$

$$1277 \quad y=-2x^2+20x-10=-2(x^2-10x+25-25)-10$$

$$=-2(x-5)^2+40 \quad \text{답 } y=-2(x-5)^2+40$$

1278 ㉠ 최댓값: $40, x=5$

1279 ㉠ $x+4$

$$1280 \quad y=x(x+4)=x^2+4x \quad \text{답 } y=x^2+4x$$

$$1281 \quad y=x^2+4x=(x+2)^2-4$$

따라서 두 수의 곱의 최솟값은 -4 이다. ㉠ -4

1282 $x=-2$ 일 때, 두 수의 곱이 최소이므로 구하는 두 수는 $-2, 2$ 이다. ㉠ $-2, 2$

1283 ㉠ $(12-x)\text{cm}$

$$1284 \quad y=x(12-x)=-x^2+12x \quad \text{답 } y=-x^2+12x$$

$$1285 \quad y=-x^2+12x=-(x-6)^2+36$$

따라서 직사각형의 넓이의 최댓값은 36cm^2 이다. ㉠ 36cm^2

1286 $x=6$ 일 때, 직사각형의 넓이가 최대이므로 구하는 가로와 길이는 6cm 이다. ㉠ 6cm

1287 $y=ax^2+bx+c$ 의 그래프의 꼭짓점의 좌표가 $(2, -1)$ 이므로 이차함수의 식을 $y=a(x-2)^2-1$ 로 놓을 수 있다.

이 그래프가 점 $(0, 7)$ 을 지나므로

$$7=4a-1 \quad \therefore a=2$$

따라서 $y=2(x-2)^2-1=2x^2-8x+7$ 이므로

$$b=-8, c=7$$

$$\therefore a-b+c=17 \quad \text{답 } \textcircled{5}$$

1288 꼭짓점의 좌표가 (1, 4)이므로 이차함수의 식을 $y=a(x-1)^2+4$ 로 놓을 수 있다.
이 그래프가 점 (3, 0)을 지나므로
 $0=4a+4 \quad \therefore a=-1$
따라서 $y=-(x-1)^2+4=-x^2+2x+3$ 이므로 이 그래프가 y 축과 만나는 점의 좌표는 (0, 3)이다. **답** (0, 3)

1289 꼭짓점의 좌표가 (0, -6)이므로 이차함수의 식을 $y=ax^2-6$ 으로 놓을 수 있다.
이 그래프가 점 (3, 0)을 지나므로
 $0=9a-6 \quad \therefore a=\frac{2}{3}$
따라서 $y=\frac{2}{3}x^2-6$ 의 그래프가 점 (4, k)를 지나므로
 $k=\frac{2}{3} \times 4^2-6=\frac{14}{3}$ **답** ③

1290 조건 (가), (나)에서 그래프의 꼭짓점의 좌표는 (3, 0)이므로 이차함수의 식을 $y=a(x-3)^2$ 으로 놓을 수 있다.
조건 (다)에서 이 그래프가 점 (-3, 9)를 지나므로
 $9=36a \quad \therefore a=\frac{1}{4}$
따라서 구하는 이차함수의 식은
 $y=\frac{1}{4}(x-3)^2$ **답** ②

1291 $y=ax^2+bx+c$ 의 그래프의 꼭짓점의 좌표가 $(-\frac{1}{2}, \frac{3}{2})$ 이므로 이차함수의 식을 $y=a(x+\frac{1}{2})^2+\frac{3}{2}$ 으로 놓을 수 있다.
이 그래프가 점 (0, 1)을 지나므로
 $1=\frac{1}{4}a+\frac{3}{2} \quad \therefore a=-2$... ①
따라서 $y=-2(x+\frac{1}{2})^2+\frac{3}{2}=-2x^2-2x+1$ 이므로
 $b=-2, c=1$... ②
 $\therefore a-2b-3c=-2-2 \times (-2)-3 \times 1=-1$... ③
답 -1

채점 기준

① a의 값을 구할 수 있다.	50%
② b, c의 값을 구할 수 있다.	40%
③ a-2b-3c의 값을 구할 수 있다.	10%

1292 꼭짓점의 좌표가 (1, -3)이므로 이차함수의 식을 $y=a(x-1)^2-3$ 으로 놓을 수 있다.
이 그래프가 점 (0, -2)를 지나므로
 $-2=a-3 \quad \therefore a=1$
즉 $y=(x-1)^2-3=x^2-2x-2$ 이므로 $y=0$ 을 대입하면
 $x^2-2x-2=0 \quad \therefore x=1 \pm \sqrt{3}$
따라서 B(1- $\sqrt{3}$, 0), C(1+ $\sqrt{3}$, 0)이므로
 $\overline{BC}=(1+\sqrt{3})-(1-\sqrt{3})=2\sqrt{3}$
 $\therefore \triangle ABC=\frac{1}{2} \times 2\sqrt{3} \times 3=3\sqrt{3}$ **답** ④

1293 축의 방정식이 $x=-4$ 이므로 이차함수의 식을 $y=a(x+4)^2+q$ 로 놓을 수 있다.
이 그래프가 두 점 (-2, 1), (1, 22)를 지나므로
 $1=4a+q, 22=25a+q$
 $\therefore a=1, q=-3$
따라서 $y=(x+4)^2-3=x^2+8x+13$ 이므로 그래프가 y 축과 만나는 점의 y 좌표는 13이다. **답** ⑤

1294 $y=x^2+ax+b$ 의 그래프의 축의 방정식이 $x=-3$ 이므로 $y=(x+3)^2+q$ 로 놓을 수 있다.
이 그래프가 점 (-1, 5)를 지나므로
 $5=4+q \quad \therefore q=1$
따라서 $y=(x+3)^2+1=x^2+6x+10$ 이므로
 $a=6, b=10$
 $\therefore a+b=16$ **답** 16

1295 축의 방정식이 $x=1$ 이고, 평행이동하면 함수 $y=-2x^2$ 의 그래프와 완전히 포개어지므로 이차함수의 식을 $y=-2(x-1)^2+q$ 로 놓을 수 있다.
이 그래프가 점 (0, 3)을 지나므로
 $3=-2+q \quad \therefore q=5$
따라서 $y=-2(x-1)^2+5$ 이므로 이 그래프의 꼭짓점의 좌표는 (1, 5)이다. **답** ②

1296 $y=ax^2+bx+c$ 의 그래프의 축의 방정식이 $x=-2$ 이므로 $y=a(x+2)^2+q$ 로 놓을 수 있다.
이 그래프가 두 점 (0, 5), (1, 0)을 지나므로
 $5=4a+q, 0=9a+q$
 $\therefore a=-1, q=9$... ①
따라서 $y=-(x+2)^2+9=-x^2-4x+5$ 이므로
 $b=-4, c=5$... ②
 $\therefore a+2b-c=-14$... ③
답 -14

채점 기준

① a의 값을 구할 수 있다.	50%
② b, c의 값을 구할 수 있다.	30%
③ a+2b-c의 값을 구할 수 있다.	20%

1297 축의 방정식이 $x=-1$ 이므로 이차함수의 식을 $y=a(x+1)^2+q$ 로 놓을 수 있다.
이 그래프가 두 점 (0, 3), (-3, -3)을 지나므로
 $3=a+q, -3=4a+q$
 $\therefore a=-2, q=5$
따라서 $y=-2(x+1)^2+5$ 의 그래프가 점 (2, k)를 지나므로
 $k=-2 \times 3^2+5=-13$ **답** ⑤

1298 $y=ax^2+bx+c$ 에
 $x=-1, y=8$ 을 대입하면 $8=a-b+c$ ㉠
 $x=0, y=1$ 을 대입하면 $1=c$ ㉡

$$x=2, y=-1 \text{을 대입하면} \quad -1=4a+2b+c \quad \cdots \cdots \textcircled{C}$$

$$\textcircled{A}, \textcircled{B}, \textcircled{C} \text{을 연립하여 풀면}$$

$$a=2, b=-5, c=1$$

$$\therefore abc=-10 \quad \text{답 } \textcircled{A} \textcircled{1}$$

1299 $y=ax^2+4x+b$ 에

$$x=0, y=-3 \text{을 대입하면} \quad -3=b \quad \cdots \cdots \textcircled{A}$$

$$x=1, y=c \text{를 대입하면} \quad c=a+4+b \quad \cdots \cdots \textcircled{B}$$

$$x=3, y=0 \text{을 대입하면} \quad 0=9a+12+b \quad \cdots \cdots \textcircled{C}$$

$$\textcircled{A}, \textcircled{B}, \textcircled{C} \text{을 연립하여 풀면}$$

$$a=-1, b=-3, c=0$$

$$\therefore a+b+c=-4 \quad \text{답 } -4$$

1300 주어진 세 점을 지나는 그래프의 이차함수의 식을 $y=ax^2+bx+c$ 로 놓고

$$x=0, y=-5 \text{을 대입하면} \quad -5=c \quad \cdots \cdots \textcircled{A}$$

$$x=5, y=0 \text{을 대입하면} \quad 0=25a+5b+c \quad \cdots \cdots \textcircled{B}$$

$$x=2, y=3 \text{을 대입하면} \quad 3=4a+2b+c \quad \cdots \cdots \textcircled{C}$$

$$\textcircled{A}, \textcircled{B}, \textcircled{C} \text{을 연립하여 풀면}$$

$$a=-1, b=6, c=-5$$

따라서 $y=-x^2+6x-5=-(x-3)^2+4$ 이므로 이 그래프의 꼭짓점의 좌표는 (3, 4)이다. $\text{답 } \textcircled{A} \textcircled{2}$

1301 주어진 그래프의 이차함수의 식을 $y=ax^2+bx+c$ 로 놓고

$$x=-1, y=-3 \text{을 대입하면} \quad -3=a-b+c \quad \cdots \cdots \textcircled{A}$$

$$x=0, y=-\frac{1}{3} \text{을 대입하면} \quad -\frac{1}{3}=c \quad \cdots \cdots \textcircled{B}$$

$$x=2, y=1 \text{을 대입하면} \quad 1=4a+2b+c \quad \cdots \cdots \textcircled{C}$$

$$\textcircled{A}, \textcircled{B}, \textcircled{C} \text{을 연립하여 풀면}$$

$$a=-\frac{2}{3}, b=2, c=-\frac{1}{3}$$

$$\therefore y=-\frac{2}{3}x^2+2x-\frac{1}{3} \quad \cdots \textcircled{1}$$

따라서 $y=-\frac{2}{3}x^2+2x-\frac{1}{3}$ 의 그래프가 점 (4, k)를 지나므로

$$k=-\frac{2}{3} \times 4^2+2 \times 4-\frac{1}{3}=-3 \quad \cdots \textcircled{2}$$

$\text{답 } -3$

채점 기준

① 이차함수의 식을 구할 수 있다.	60%
② k의 값을 구할 수 있다.	40%

1302 주어진 세 점을 지나는 그래프의 이차함수의 식을 $y=ax^2+bx+c$ 로 놓고

$$x=-5, y=12 \text{를 대입하면} \quad 12=25a-5b+c \quad \cdots \cdots \textcircled{A}$$

$$x=0, y=-3 \text{을 대입하면} \quad -3=c \quad \cdots \cdots \textcircled{B}$$

$$x=10, y=-3 \text{을 대입하면} \quad -3=100a+10b+c \quad \cdots \cdots \textcircled{C}$$

$$\textcircled{A}, \textcircled{B}, \textcircled{C} \text{을 연립하여 풀면}$$

$$a=\frac{1}{5}, b=-2, c=-3$$

즉 $y=\frac{1}{5}x^2-2x-3$ 의 그래프를 x 축에 대하여 대칭이동한 이차함수의 그래프의 식은

$$-y=\frac{1}{5}x^2-2x-3$$

$$\therefore y=-\frac{1}{5}x^2+2x+3=-\frac{1}{5}(x-5)^2+8$$

따라서 구하는 꼭짓점의 좌표는 (5, 8)이다. $\text{답 } (5, 8)$



이차함수 $y=ax^2+bx+c$ 의 그래프를

① x 축에 대하여 대칭이동한 그래프의 식은

$$y=-ax^2-bx-c$$

② y 축에 대하여 대칭이동한 그래프의 식은

$$y=ax^2-bx+c$$

1303 주어진 세 점을 지나는 그래프의 이차함수의 식을 $y=ax^2+bx+c$ 로 놓고

$$x=-1, y=5 \text{를 대입하면} \quad 5=a-b+c \quad \cdots \cdots \textcircled{A}$$

$$x=0, y=2 \text{를 대입하면} \quad 2=c \quad \cdots \cdots \textcircled{B}$$

$$x=2, y=-10 \text{을 대입하면} \quad -10=4a+2b+c \quad \cdots \cdots \textcircled{C}$$

$$\textcircled{A}, \textcircled{B}, \textcircled{C} \text{을 연립하여 풀면}$$

$$a=-1, b=-4, c=2$$

즉 $y=-x^2-4x+2$ 이므로 $y=0$ 을 대입하면

$$-x^2-4x+2=0 \quad \therefore x=-2 \pm \sqrt{6}$$

따라서 x 축과의 두 교점의 좌표가 $(-2-\sqrt{6}, 0), (-2+\sqrt{6}, 0)$ 이므로

$$\overline{AB}=(-2+\sqrt{6})-(-2-\sqrt{6})=2\sqrt{6} \quad \text{답 } \textcircled{A} \textcircled{2}$$

1304 x 축과 두 점 $(-2, 0), (4, 0)$ 에서 만나므로 이차함수의 식을 $y=a(x+2)(x-4)$ 로 놓을 수 있다.

이 그래프가 점 $(0, 8)$ 을 지나므로

$$8=-8a \quad \therefore a=-1$$

$$\therefore y=-(x+2)(x-4)=-x^2+2x+8=-(x-1)^2+9$$

따라서 이 그래프의 꼭짓점의 y 좌표는 9이다. $\text{답 } \textcircled{A} \textcircled{2}$

1305 $y=x^2+ax+b$ 의 그래프가 x 축과 두 점 $(-3, 0), (2, 0)$ 에서 만나므로

$$y=(x+3)(x-2)=x^2+x-6$$

따라서 $a=1, b=-6$ 이므로 $ab=-6$ $\text{답 } \textcircled{A} \textcircled{2}$

1306 $y=-4(x+2)(x-1)=-4x^2-4x+8$ $\text{답 } \textcircled{A} \textcircled{2}$

1307 x 축과 두 점 $(-3, 0), (2, 0)$ 에서 만나므로 이차함수의 식을 $y=a(x+3)(x-2)$ 로 놓을 수 있다.

이 그래프가 점 $(-2, 2)$ 를 지나므로

$$2=-4a \quad \therefore a=-\frac{1}{2}$$

따라서 $y=-\frac{1}{2}(x+3)(x-2)=-\frac{1}{2}x^2-\frac{1}{2}x+3$ 이므로 그래프가 y 축과 만나는 점의 y 좌표는 3이다. $\text{답 } 3$

1308 x 축과 두 점 $(2, 0)$, $(6, 0)$ 에서 만나므로 이차함수의 식을 $y=a(x-2)(x-6)$ 으로 놓을 수 있다.

이 그래프가 점 $(0, 6)$ 을 지나므로

$$6=12a \quad \therefore a=\frac{1}{2}$$

$$\therefore y=\frac{1}{2}(x-2)(x-6)=\frac{1}{2}x^2-4x+6=\frac{1}{2}(x-4)^2-2$$

따라서 구하는 그래프의 꼭짓점의 좌표는 $(4, -2)$ 이다. **답 ④**

1309 $y=x^2+ax+b$ 의 그래프가 x 축과 두 점 $(-3, 0)$, $(3, 0)$ 에서 만나므로

$$y=(x+3)(x-3)=x^2-9$$

즉 $a=0$, $b=-9$ 이므로 $a+b=-9$ **답 ①**

1310 $y=-2x^2+4x+1=-2(x-1)^2+3$ 이므로

$$M=3$$

$$y=\frac{1}{2}x^2-4x+3=\frac{1}{2}(x-4)^2-5$$
이므로

$$m=-5$$

$$\therefore M-m=8 \quad \text{답 8}$$

1311 **답 ⑤**

1312 $y=-5x^2+10x+15=-5(x-1)^2+20$

따라서 $x=1$ 일 때 최댓값 20을 가지므로

$$a=1, b=20$$

$$\therefore a+b=21 \quad \text{답 ④}$$

1313 (ㄱ) $x=0$ 일 때 최댓값 2를 갖는다.

(ㄴ) $x=0$ 일 때 최솟값 2를 갖는다.

(ㄷ) $x=1$ 일 때 최솟값 2를 갖는다.

(ㄹ) $x=2$ 일 때 최솟값 0을 갖는다.

(ㅁ) $y=-x^2-2x+1=-(x+1)^2+2$ 는 $x=-1$ 일 때 최댓값 2를 갖는다.

(ㅂ) $y=x^2+6x+5=3(x+1)^2+2$ 는 $x=-1$ 일 때 최솟값 2를 갖는다.

이상에서 최솟값이 2인 것은 (ㄴ), (ㄷ), (ㅂ)의 3개이다. **답 ③**

1314 ① 최댓값은 -2 이다.

② $y=-x^2-2x+2=-(x+1)^2+3$ 의 최댓값은 3이다.

③ $y=-2x^2+4x+\frac{1}{2}=-2(x-1)^2+\frac{5}{2}$ 의 최댓값은 $\frac{5}{2}$ 이다.

④ $y=-\frac{1}{2}x^2+2x+1=-\frac{1}{2}(x-2)^2+3$ 의 최댓값은 3이다.

⑤ $y=-\frac{1}{4}x^2-2x=-\frac{1}{4}(x+4)^2+4$ 의 최댓값은 4이다.

답 ⑤

1315 $y=3(x-1-2)^2+\frac{1}{2}-3=3(x-3)^2-\frac{5}{2}$

따라서 이차함수의 최솟값은 $-\frac{5}{2}$ 이다. **답 ①**



이차함수 $y=a(x-p)^2+q$ 의 그래프를 x 축의 방향으로 m 만큼, y 축의 방향으로 n 만큼 평행이동한 그래프의 식은 $y=a(x-m-p)^2+q+n$

1316 (1) $y=-x^2+2kx+8$ 의 그래프가 점 $(k+2, 2k^2)$ 을 지나므로

$$2k^2=-(k+2)^2+2k(k+2)+8$$

$$k^2=4 \quad \therefore k=2 \quad (\because k>0) \quad \text{... ①}$$

(2) $y=-x^2+4x+8=-(x-2)^2+12$ 이므로 $x=2$ 일 때 최댓값 12를 갖는다. **... ②**

답 (1) 2 (2) 최댓값: 12, $x=2$

해점 기준

① 양수 k 의 값을 구할 수 있다.	40%
② 최댓값과 그래프의 x 의 값을 구할 수 있다.	60%

1317 조건 (가), (나)에서 주어진 이차함수의 식을

$$y=\frac{2}{3}(x-5)^2+q$$
로 놓으면 조건 (다)에서 이 그래프가 점 $(2, 3)$ 을

지나므로

$$3=6+q \quad \therefore q=-3$$

따라서 $y=\frac{2}{3}(x-5)^2-3$ 의 최솟값은 -3 이다. **답 ④**

1318 $y=2x^2-12x+3p+1=2(x-3)^2+3p-17$ 의 그래프의 꼭짓점의 좌표는

$$(3, 3p-17) \quad \text{... ①}$$

$y=-4x-2$ 에 $x=3$, $y=3p-17$ 을 대입하면

$$3p-17=-12-2 \quad \therefore p=1 \quad \text{... ②}$$

따라서 $y=2(x-3)^2-14$ 의 최솟값은 -14 이다. **... ③**

답 -14

해점 기준

① 꼭짓점의 좌표를 구할 수 있다.	40%
② p 의 값을 구할 수 있다.	40%
③ 최솟값을 구할 수 있다.	20%

1319 주어진 이차함수의 식을 $y=a(x-1)(x-5)$ 로 놓고

$x=0$, $y=-5$ 를 대입하면

$$-5=5a \quad \therefore a=-1$$

따라서 $y=-(x-1)(x-5)=-(x-3)^2+4$ 의 최댓값은 4이다. **답 4**

1320 $y=-3x^2+12x+k-7=-3(x-2)^2+k+5$

이 함수의 최댓값이 1이므로

$$k+5=1 \quad \therefore k=-4 \quad \text{답 ⑤}$$

1321 $y=ax^2+4ax+7=a(x+2)^2-4a+7$

이 함수의 최솟값이 -1 이므로

$$-4a+7=-1 \quad \therefore a=2 \quad \text{답 2}$$

$$1322 \quad y = \frac{7}{2}x^2 + 7x + k - \frac{5}{2} = \frac{7}{2}(x+1)^2 + k - 6$$

$$y = -3x^2 + 6x - 2k = -3(x-1)^2 - 2k + 3$$

$$\text{따라서 } k-6 = -2k+3 \text{ 이므로 } 3k=9$$

$$\therefore k=3$$

답 ③

$$1323 \quad y = -x^2 + 3ax = -\left(x - \frac{3}{2}a\right)^2 + \frac{9}{4}a^2$$

이 함수의 최댓값이 9이므로

$$\frac{9}{4}a^2 = 9, \quad a^2 = 4 \quad \therefore a = 2 \quad (\because a > 0) \quad \dots ①$$

따라서 $y = -x^2 + 6x$ 의 그래프가 점 $(2, k)$ 를 지나므로

$$k = -2^2 + 6 \times 2 = 8 \quad \dots ②$$

답 8

채점 기준

① a 의 값을 구할 수 있다.	50%
② k 의 값을 구할 수 있다.	50%

$$1324 \quad y = -2x^2 + 3x + a = -2\left(x - \frac{3}{4}\right)^2 + a + \frac{9}{8}$$

이 함수의 최댓값이 $\frac{1}{8}$ 이하가 되려면

$$a + \frac{9}{8} \leq \frac{1}{8} \quad \therefore a \leq -1$$

따라서 a 의 최댓값은 -1 이다.

답 ①

$$1325 \quad y = -2x^2 - 8px - 4p = -2(x+2p)^2 + 8p^2 - 4p$$

이 함수의 최댓값이 12이므로

$$8p^2 - 4p = 12, \quad (p+1)(2p-3) = 0$$

$$\therefore p = -1 \quad (\because p < 0)$$

따라서 $y = -2(x-2)^2 + 12$ 이므로 구하는 꼭짓점의 x 좌표는 2이다.

답 2

$$1326 \quad y = -2x^2 + ax + b \text{가 } x = -\frac{1}{2} \text{에서 최댓값 4를 가지므로}$$

$$y = -2\left(x + \frac{1}{2}\right)^2 + 4 = -2x^2 - 2x + \frac{7}{2}$$

$$\therefore a = -2, b = \frac{7}{2} \quad \therefore ab = -7 \quad \dots ①$$

답 -7

$$1327 \quad y = kx^2 + 10x - 3 \text{이 } x = -1 \text{에서 최솟값 } p \text{를 가지므로}$$

$$y = k(x+1)^2 + p = kx^2 + 2kx + k + p$$

따라서 $10 = 2k, -3 = k + p$ 이므로

$$k = 5, p = -8 \quad \dots ③$$

답 ③

$$1328 \quad y = x^2 - 2ax + b = (x-a)^2 - a^2 + b \text{의 그래프를 } x \text{축의 방향으로 } 2a \text{만큼 평행이동한 그래프의 식은}$$

$$y = (x - 2a - a)^2 - a^2 + b = (x - 3a)^2 - a^2 + b$$

이 그래프의 축의 방정식이 $x = 4$ 이고, 최솟값이 -1 이므로

$$3a = 4, -a^2 + b = -1 \quad \therefore a = \frac{4}{3}, b = \frac{7}{9}$$

$$\therefore 9(a+b) = 9 \times \left(\frac{4}{3} + \frac{7}{9}\right) = 19 \quad \dots ②$$

답 19

$$1329 \quad y = -\frac{1}{4}x^2 + ax - 2 \text{가 } x = 6 \text{에서 최댓값 } b \text{를 가지므로}$$

$$y = -\frac{1}{4}(x-6)^2 + b = -\frac{1}{4}x^2 + 3x + b - 9$$

$$\text{따라서 } a = 3, -2 = b - 9 \text{이므로 } a = 3, b = 7 \quad \dots ①$$

$$y = -\frac{1}{4}x^2 + 3x - 2 \text{의 그래프가 점 } (k, -9) \text{를 지나므로}$$

$$-9 = -\frac{1}{4}k^2 + 3k - 2, \quad k^2 - 12k - 28 = 0$$

$$(k+2)(k-14) = 0 \quad \therefore k = -2 \quad (\because k < 0) \quad \dots ②$$

$$\therefore a + b + k = 8 \quad \dots ③$$

답 8

채점 기준

① a, b 의 값을 구할 수 있다.	40%
② k 의 값을 구할 수 있다.	40%
③ $a + b + k$ 의 값을 구할 수 있다.	20%

$$1330 \quad y = -x^2 + 4(2-a)x - 1 \text{이 } x = -2 \text{에서 최댓값 } k \text{를 가지므로}$$

$$y = -(x+2)^2 + k = -x^2 - 4x + k - 4$$

따라서 $4(2-a) = -4, -1 = k - 4$ 이므로

$$a = 3, k = 3 \quad \therefore ak = 9 \quad \dots ③$$

답 ③

$$1331 \quad y = ax^2 + bx + c \text{가 } x = -2 \text{일 때 최솟값 5를 가지므로 이차함수의 식을 } y = a(x+2)^2 + 5 \text{로 놓을 수 있다.}$$

이 그래프가 점 $(0, 6)$ 을 지나므로

$$6 = 4a + 5 \quad \therefore a = \frac{1}{4}$$

$$\text{따라서 } y = \frac{1}{4}(x+2)^2 + 5 = \frac{1}{4}x^2 + x + 6 \text{이므로}$$

$$b = 1, c = 6 \quad \therefore abc = \frac{3}{2} \quad \dots ③$$

답 $\frac{3}{2}$

$$1332 \quad \text{축의 방정식이 } x = -2 \text{이고, 최댓값이 6이므로 이차함수의 식을 } y = a(x+2)^2 + 6 \text{으로 놓을 수 있다.}$$

이 그래프가 점 $(0, 0)$ 을 지나므로

$$0 = 4a + 6 \quad \therefore a = -\frac{3}{2}$$

$$\therefore y = -\frac{3}{2}(x+2)^2 + 6 = -\frac{3}{2}x^2 - 6x$$

이 그래프가 점 $\left(-\frac{1}{3}, k\right)$ 를 지나므로

$$k = -\frac{3}{2} \times \left(-\frac{1}{3}\right)^2 - 6 \times \left(-\frac{1}{3}\right) = \frac{11}{6} \quad \dots ③$$

답 ③

$$1333 \quad \text{조건 (가), (나)에서 이차함수가 } x = 4 \text{에서 최솟값 0을 가지므로 } y = a(x-4)^2 \text{으로 놓을 수 있다.}$$

조건 (다)에서 이 그래프가 점 $(-2, 18)$ 을 지나므로

$$18 = 36a \quad \therefore a = \frac{1}{2}$$

$$\therefore y = \frac{1}{2}(x-4)^2 = \frac{1}{2}x^2 - 4x + 8 \quad \dots ② \quad y = \frac{1}{2}x^2 - 4x + 8$$

1334 $x = -\frac{4}{3}$ 에서 최솟값 5를 가지므로 이차함수의 식을

$$y = a\left(x + \frac{4}{3}\right)^2 + 5 \text{로 놓을 수 있다.}$$

이 그래프를 x 축의 방향으로 1만큼, y 축의 방향으로 m 만큼 평행이동한 그래프의 식은

$$\begin{aligned} y &= a\left(x - 1 + \frac{4}{3}\right)^2 + 5 + m = a\left(x + \frac{1}{3}\right)^2 + 5 + m \\ &= ax^2 + \frac{2}{3}ax + \frac{a}{9} + 5 + m \end{aligned}$$

이 그래프가 $y = 6x^2 + nx + \frac{8}{3}$ 의 그래프와 완전히 포개어지므로

$$\begin{aligned} a &= 6, \frac{2}{3}a = n, \frac{a}{9} + 5 + m = \frac{8}{3} \\ \therefore a &= 6, n = 4, m = -3 \\ \therefore m^2 + n^2 &= (-3)^2 + 4^2 = 25 \end{aligned}$$

답 ④

1335 두 점 $(-2, 0)$, $(6, 0)$ 을 지나므로 이차함수의 식을 $y = a(x+2)(x-6)$ 으로 놓으면

$$y = a(x^2 - 4x - 12) = a(x-2)^2 - 16a$$

이 함수의 최댓값이 16이므로 $-16a = 16 \quad \therefore a = -1$

따라서 $y = -(x^2 - 4x - 12) = -x^2 + 4x + 12$ 이므로 이 그래프는 점 $(-3, -9)$ 를 지난다.

답 ⑤

1336 이차방정식 $ax^2 + bx + c = 0$ 의 두 근이 $-1, 3$ 이므로 $y = ax^2 + bx + c$ 의 그래프와 x 축과의 두 교점의 x 좌표는 $-1, 3$ 이다.

$$\begin{aligned} \therefore y &= a(x+1)(x-3) = a(x^2 - 2x - 3) \\ &= a(x-1)^2 - 4a \end{aligned}$$

이 함수의 최솟값이 -4 이므로 $-4a = -4 \quad \therefore a = 1$

따라서 $y = x^2 - 2x - 3$ 이므로

$$\begin{aligned} b &= -2, c = -3 \quad \dots ② \\ \therefore abc &= 6 \quad \dots ③ \end{aligned}$$

답 6

채점 기준

① 이차함수의 그래프와 x 축과의 두 교점의 x 좌표를 구할 수 있다.	30%
② a, b, c 의 값을 구할 수 있다.	50%
③ abc 의 값을 구할 수 있다.	20%

1337 $y = -2x^2 + 4ax + 4a = -2(x-a)^2 + 2a^2 + 4a$

$$\therefore M = 2a^2 + 4a = 2(a+1)^2 - 2$$

따라서 M 은 $a = -1$ 일 때 최솟값 -2 를 갖는다.

답 ②

1338 $y = -x^2 - 2kx + 4k = -(x+k)^2 + k^2 + 4k$

$$\therefore M = k^2 + 4k = (k+2)^2 - 4$$

따라서 M 의 값이 최소가 되도록 하는 k 의 값은 -2 이다.

답 -2

1339 $y = \frac{1}{2}x^2 - mx + 3m = \frac{1}{2}(x-m)^2 - \frac{1}{2}m^2 + 3m$

$$\therefore f(m) = -\frac{1}{2}m^2 + 3m = -\frac{1}{2}(m-3)^2 + \frac{9}{2}$$

따라서 $f(m)$ 은 $m = 3$ 일 때 최댓값 $\frac{9}{2}$ 를 갖는다.

답 ③

1340 $y = x^2 + 4ax - b = (x+2a)^2 - 4a^2 - b$ 이므로 이 그래프의 꼭짓점의 좌표는

$$(-2a, -4a^2 - b)$$

이 점이 직선 $y = -x + 3$ 위에 있으므로

$$-4a^2 - b = 2a + 3$$

$$\therefore b = -4a^2 - 2a - 3 = -4\left(a + \frac{1}{4}\right)^2 - \frac{11}{4}$$

따라서 b 의 최댓값은 $-\frac{11}{4}$ 이다.

답 $-\frac{11}{4}$

1341 두 수를 $x, 24-x$ 라 하고, 두 수의 곱을 y 라 하면

$$y = x(24-x) = -x^2 + 24x$$

$$= -(x-12)^2 + 144$$

따라서 두 수의 곱의 최댓값은 144이다.

답 ④

1342 두 수를 $x, x+16$ 이라 하고, 두 수의 곱을 y 라 하면

$$y = x(x+16) = x^2 + 16x$$

$$= (x+8)^2 - 64$$

따라서 두 수의 곱이 최소가 될 때의 두 수는 $-8, 8$ 이다.

답 -8, 8

1343 두 수를 $x, 12-x$ 라 하고, 두 수의 제곱의 합을 y 라 하면

$$y = x^2 + (12-x)^2 = 2x^2 - 24x + 144$$

$$= 2(x-6)^2 + 72$$

... ①

따라서 두 수의 제곱의 합의 최솟값은 72이다.

... ②

답 72

채점 기준

① 이차함수의 식을 세울 수 있다.	70%
② 최솟값을 구할 수 있다.	30%

1344 (1) $y = 10 - x$

... ①

(2) $xy = x(10-x) = -(x^2 - 10x) = -(x-5)^2 + 25$ 이므로 xy 의 최댓값은 25이다.

... ②

(3) $x = 5$ 일 때 xy 가 최대이므로 $x = 5, y = 5$

... ③

답 (1) $y = 10 - x$ (2) 25 (3) $x = 5, y = 5$

채점 기준

① y 를 x 에 대한 식으로 나타낼 수 있다.	20%
② xy 의 최댓값을 구할 수 있다.	50%
③ 두 수 x, y 를 구할 수 있다.	30%

1345 꽃밭의 넓이를 ym^2 라 하면

$$y = x(16-2x) = -2x^2 + 16x$$

$$= -2(x-4)^2 + 32$$

따라서 꽃밭의 최대 넓이는 $32m^2$ 이다.

답 ③

1346 직사각형의 세로의 길이를 x cm, 넓이를 ycm^2 라 하면

$$y = x(24-x) = -x^2 + 24x$$

$$= -(x-12)^2 + 144$$

따라서 $x = 12$ 일 때 직사각형의 넓이는 최대이므로 세로의 길이는 12cm이다.

답 ③

1347 삼각형의 밑변의 길이를 x cm, 넓이를 y cm²라 하면

$$y = \frac{1}{2}x(60-x) = \frac{1}{2}(-x^2+60x)$$

$$= -\frac{1}{2}(x-30)^2+450$$

따라서 삼각형의 최대 넓이는 450cm²이다. **답 ⑤**

1348 물받이의 높이를 x cm, 빗금친 부분의 넓이를 y cm²라 하면

$$y = x(18-2x) = -2x^2+18x$$

$$= -2\left(x-\frac{9}{2}\right)^2+\frac{81}{2}$$

따라서 $x=\frac{9}{2}=4.5$ 일 때 빗금친 부분의 넓이는 최대이므로 물받이의 높이는 4.5cm이다. **답 ④**

1349 색칠한 두 사각형은 모두 정사각형이므로 $\overline{HI}=x$ cm, 두 정사각형의 넓이의 합을 y cm²라 하면 $\overline{IF}=(12-x)$ cm이므로

$$y = x^2 + (12-x)^2 = 2x^2 - 24x + 144$$

$$= 2(x-6)^2 + 72$$

따라서 두 정사각형의 넓이의 합의 최솟값은 72cm²이다. **답 ②**
⑤ 72cm²

채점 기준

① 이차함수의 식을 세울 수 있다.	70%
② 최솟값을 구할 수 있다.	30%

1350 $\overline{AP}=x$ cm, 두 도형의 넓이의 합을 y cm²라 하면 $\overline{BP}=(18-x)$ cm이므로

$$y = x^2 + \frac{1}{2}(18-x)^2 = \frac{3}{2}x^2 - 18x + 162$$

$$= \frac{3}{2}(x-6)^2 + 108$$

따라서 $x=6$ 일 때 두 도형의 넓이의 합은 최소이므로 \overline{AP} 의 길이는 6cm이다. **답 ⑥ 6cm**

1351 새로운 직사각형의 넓이를 y cm²라 하면 이 직사각형의 가로 길이는 $(5+x)$ cm, 세로 길이는 $(9-x)$ cm이므로

$$y = (5+x)(9-x) = -x^2+4x+45$$

$$= -(x-2)^2+49$$

따라서 $x=2$ 일 때 직사각형의 넓이는 최대이다. **답 ②**

1352 새로운 직사각형의 가로 길이는 $(10-2x)$ cm, 세로 길이는 $(2+x)$ cm이므로

$$y = (10-2x)(2+x) = -2x^2+6x+20$$

$$= -2\left(x-\frac{3}{2}\right)^2+\frac{49}{2}$$

따라서 y 의 최댓값은 $\frac{49}{2}$ 이고 그때의 x 의 값은 $\frac{3}{2}$ 이다. **답 ②**

⑤ 최댓값: $\frac{49}{2}$, $x=\frac{3}{2}$

채점 기준

① 이차함수의 식을 세울 수 있다.	70%
② y 의 최댓값과 그때의 x 의 값을 구할 수 있다.	30%

1353 새로운 삼각형의 넓이를 y cm²라 하면 이 삼각형의 밑변의 길이는 $(10+x)$ cm, 높이는 $(14-x)$ cm이므로

$$y = \frac{1}{2}(10+x)(14-x) = \frac{1}{2}(-x^2+4x+140)$$

$$= -\frac{1}{2}(x-2)^2+72$$

따라서 삼각형의 최대 넓이는 72cm²이다. **답 ①**

1354 x 초 후 직사각형의 가로 길이는 $(15-x)$ cm, 세로 길이는 $(6+2x)$ cm이므로

$$y = (15-x)(6+2x) = -2x^2+24x+90$$

$$= -2(x-6)^2+162$$

따라서 y 의 최댓값은 162이다. **답 162**

1355 부채꼴의 반지름의 길이를 x cm, 넓이를 y cm²라 하면 호의 길이는 $(24-2x)$ cm이므로

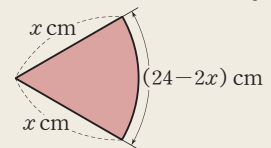
$$y = \frac{1}{2}x(24-2x) = -x^2+12x$$

$$= -(x-6)^2+36$$

따라서 부채꼴의 넓이의 최댓값은 36cm²이다. **답 36cm²**



오른쪽 그림과 같이 부채꼴의 반지름의 길이를 x cm라 하면 호의 길이는 $(24-2x)$ cm이다.



1356 부채꼴의 넓이를 y cm²라 하면 호의 길이는 $(16-2x)$ cm이므로

$$y = \frac{1}{2}x(16-2x) = -x^2+8x$$

$$= -(x-4)^2+16$$

따라서 $x=4$ 일 때 부채꼴의 넓이는 최대이다. **답 4**

1357 (1) 두 원의 반지름의 길이의 합은 14cm이므로 원 O' 의 반지름의 길이는 $(14-x)$ cm이다. **답 ①**

(2) 두 원의 넓이의 합을 y cm²라 하면

$$y = \pi x^2 + \pi(14-x)^2 = \pi(2x^2-28x+196)$$

$$= 2\pi(x-7)^2+98\pi$$

따라서 두 원의 넓이의 합의 최솟값은 98π cm²이다. **답 ②**

⑤ (1) $(14-x)$ cm (2) 98π cm²

채점 기준

① 원 O' 의 반지름의 길이를 x 에 대한 식으로 나타낼 수 있다.	30%
② 최솟값을 구할 수 있다.	70%

1358 점 P의 좌표를 $(x, -x+6)$, $\square OQPR$ 의 넓이를 y 라 하면

$$y = x(-x+6) = -x^2+6x$$

$$= -(x-3)^2+9$$

따라서 $\square OQPR$ 의 최대 넓이는 9이다. **답 ②**

1359 (1) 점 P의 좌표가 $(x, -2x+8)$ 이므로

$$y = \frac{1}{2}x(-2x+8) = -x^2+4x$$

$$= -(x-2)^2+4 \quad \dots \textcircled{1}$$

(2) $x=2$ 일 때 $\triangle POA$ 의 최대 넓이는 4이므로 그때의 점 P의 좌표는 $(2, 4)$ $\dots \textcircled{2}$

$\textcircled{답} (1) y = -(x-2)^2+4 \quad (2) 4, P(2, 4)$

해점 기준

① y 를 x 에 대한 식으로 나타낼 수 있다.	60%
② $\triangle POA$ 의 최대 넓이와 점 P의 좌표를 구할 수 있다.	40%

1360 직선 l 은 두 점 $(9, 0), (0, 6)$ 을 지나므로

$$y = -\frac{6}{9}x+6 = -\frac{2}{3}x+6$$

점 P의 좌표를 $(x, -\frac{2}{3}x+6)$, $\square OQPR$ 의 넓이를 y 라 하면

$$y = x\left(-\frac{2}{3}x+6\right) = -\frac{2}{3}x^2+6x$$

$$= -\frac{2}{3}\left(x-\frac{9}{2}\right)^2+\frac{27}{2}$$

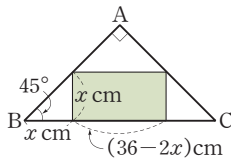
따라서 $x=\frac{9}{2}$ 일 때 $\square OQPR$ 의 넓이가 최대이므로 그때의 점 P의 좌표는 $\left(\frac{9}{2}, 3\right)$ 이다. $\textcircled{답} P\left(\frac{9}{2}, 3\right)$

1361 직사각형의 세로의 길이를 x cm, 넓이를 y cm²라 하면 가로의 길이는 $(36-2x)$ cm이므로

$$y = x(36-2x) = -2x^2+36x$$

$$= -2(x-9)^2+162$$

따라서 직사각형의 최대 넓이는 162cm²이다. $\textcircled{답} \textcircled{4}$



1362 $h = -5t^2+30t+18 = -5(t-3)^2+63$

따라서 최고 높이에 도달했을 때의 지면으로부터의 높이는 63m이다. $\textcircled{답} 63\text{m}$

1363 $y = -\frac{1}{10}x^2+x+\frac{3}{2} = -\frac{1}{10}(x-5)^2+4$

따라서 5초 후에 공이 가장 높이 올라간다. $\textcircled{답} \textcircled{3}$

1364 이익을 y 만 원이라 하면

$$y = -\frac{1}{20}x^2+30x-500 = -\frac{1}{20}(x-300)^2+4000$$

따라서 하루에 300개의 제품을 생산할 때 이익이 최대가 된다. $\textcircled{답} \textcircled{5}$

1365 $y = 40x-5x^2 = -5(x-4)^2+80$ 이므로 4초 후에 최고 높이에 도달한다. $\dots \textcircled{1}$

물 로켓이 쏘아 올린 지 x 초 후에 지면에 떨어진다고 하면

$$40x-5x^2=0, \quad x(x-8)=0$$

$$\therefore x=8 \quad (\because x>0) \quad \dots \textcircled{2}$$

따라서 최고 높이에 도달한 지 4초 후에 지면에 떨어진다. $\dots \textcircled{3}$

$\textcircled{답} 4\text{초}$

해점 기준

① 최고 높이에 도달할 때까지 걸린 시간을 구할 수 있다.	40%
② 지면에 떨어질 때까지 걸린 시간을 구할 수 있다.	40%
③ 답을 구할 수 있다.	20%

1366 $y = -5x^2+150x+2000 = -5(x-15)^2+3125$

① 15초 후에 높이가 최대이다.

② 최대 높이는 3125 m이다.

③ $0 = -5x^2+150x+2000$ 에서

$$x^2-30x-400=0, \quad (x+10)(x-40)=0$$

$$\therefore x=40 \quad (\because x>0)$$

따라서 40초 후에 지면에 떨어진다.

④ $x=1$ 을 대입하면

$$y = -5+150+2000=2145$$

따라서 분출한 지 1초 후의 용암의 지면으로부터의 높이는 2145 m이다.

⑤ $3000 = -5x^2+150x+2000$ 에서

$$x^2-30x+200=0, \quad (x-10)(x-20)=0$$

$$\therefore x=10 \text{ 또는 } x=20$$

따라서 용암의 지면으로부터의 높이가 3000 m가 되는 때는 분출한 지 10초 후와 20초 후이다. $\textcircled{답} \textcircled{3}$

1367 **전략** h 를 t 에 대한 식으로 나타낸 후, $h=0$ 일 때의 $t(t>0)$ 의 값을 구한다.

풀이 꼭짓점의 좌표가 $(4, 50)$ 이므로 $h=a(t-4)^2+50$ 으로 놓을 수 있다.

이 그래프가 점 $(0, 18)$ 을 지나므로

$$18=16a+50 \quad \therefore a=-2$$

$$\therefore h=-2(t-4)^2+50$$

물체가 지면에 떨어질 때 $h=0$ 이므로

$$0=-2(t-4)^2+50, \quad (t-4)^2=25$$

$$t-4=\pm 5 \quad \therefore t=9 \quad (\because t>0)$$

따라서 구하는 시간은 9초이다. $\textcircled{답} \textcircled{3}$

1368 **전략** 호수의 중앙 M을 원점으로 하는 좌표평면 위에 포물선을 놓는다.

풀이 오른쪽 그림과 같이 점 M을 원점으로 하는 좌표평면 위에 포물선을 놓으면 포물선을 그래프로 하는 이차함수의 식은

$$y=ax^2-10$$

B지점의 좌표는 $(20, 0)$ 이므로

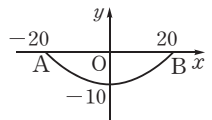
$$0=400a-10 \quad \therefore a=-\frac{1}{40}$$

$$\therefore y=-\frac{1}{40}x^2-10$$

$x=16$ 을 대입하면

$$y=-\frac{1}{40} \times 16^2-10=-\frac{18}{5}=-3.6$$

따라서 구하는 수심은 3.6 m이다. $\textcircled{답} \textcircled{4}$



1369 전략 $\triangle ABC$ 의 넓이를 이용하여 점 C의 좌표를 구한 후, 이차함수의 식을 구한다.

풀이 $\triangle ABC = \frac{1}{2} \times \overline{AB} \times \overline{OC}$ 이므로

$$3 = \frac{1}{2} \times 6 \times \overline{OC} \quad \therefore \overline{OC} = 1 \quad \therefore C(0, -1)$$

$y = ax^2 + bx + c$ 의 그래프가 x 축과 두 점 $(-5, 0)$, $(1, 0)$ 에서 만나므로

$$y = a(x+5)(x-1)$$

이 그래프가 점 $(0, -1)$ 을 지나므로

$$-1 = -5a \quad \therefore a = \frac{1}{5}$$

$$\therefore y = \frac{1}{5}(x+5)(x-1) = \frac{1}{5}x^2 + \frac{4}{5}x - 1$$

따라서 $a = \frac{1}{5}$, $b = \frac{4}{5}$, $c = -1$ 이므로

$$a - bc = 1$$

답 1

1370 전략 이차함수의 그래프의 축의 방정식을 이용하여 두 점 A, B의 좌표를 구한다.

풀이 $y = \frac{1}{2}x^2 + 2x + k = \frac{1}{2}(x+2)^2 + k - 2$ 의 그래프의 축의 방정식은 $x = -2$ 이고, $\overline{AB} = 8$ 이므로

$$A(-6, 0), B(2, 0)$$

$$\therefore y = \frac{1}{2}(x+6)(x-2) = \frac{1}{2}x^2 + 2x - 6$$

$$= \frac{1}{2}(x+2)^2 - 8$$

따라서 $k = -6$, $m = -8$ 이므로

$$k + m = -14$$

답 -14



x 축과의 두 교점의 좌표가 $(m, 0)$, $(n, 0)$ 이면 이차함수의 그래프는 축에 대칭이므로 축의 방정식은 $x = \frac{m+n}{2}$ 이다.

1371 전략 $a+b$ 를 a 에 대한 이차함수로 나타낸 후 $a+b = m(a-p)^2 + q$ 꼴로 변형한다.

풀이 $y = x^2 - 4x + 1$ 의 그래프가 점 (a, b) 를 지나므로

$$b = a^2 - 4a + 1$$

$$\therefore a + b = a + a^2 - 4a + 1 = a^2 - 3a + 1$$

$$= \left(a - \frac{3}{2}\right)^2 - \frac{5}{4}$$

따라서 $a+b$ 의 최솟값은 $-\frac{5}{4}$ 이다.

답 $-\frac{5}{4}$

1372 전략 주어진 이차함수의 그래프가 x 축과 만나는 점의 좌표가 $(3, 0)$, $(7, 0)$ 임을 이용한다.

풀이 주어진 이차함수의 식을 $y = a(x-3)(x-7)$ 로 놓으면

$$y = a(x-3)(x-7) = a(x^2 - 10x + 21)$$

$$= a(x-5)^2 - 4a$$

이 함수의 최솟값이 -8 이므로

$$-4a = -8 \quad \therefore a = 2$$

따라서 $f(x) = 2(x-3)(x-7)$ 이므로

$$f(2) = 2 \times (-1) \times (-5) = 10$$

답 ③

1373 전략 이차함수 $y = ax^2 + bx + c (a < 0)$ 에서 y 의 값이 항상 음수려면 y 의 최댓값이 음수이어야 한다.

풀이 $y = -x^2 + 6x + a - 2 = -(x-3)^2 + a + 7$

y 의 값이 항상 음수가 되려면 y 의 최댓값이 음수이어야 하므로

$$a + 7 < 0 \quad \therefore a < -7$$

따라서 정수 a 의 최댓값은 -8 이다.

답 ⑤

1374 전략 $x = p$ 일 때 최솟값 q 를 갖는 이차함수의 식은 $y = a(x-p)^2 + q (a > 0)$ 로 놓는다.

풀이 $y = x^2 + ax + b$ 가 $x = k$ 일 때 최솟값 7 을 가지므로

$$y = (x-k)^2 + 7$$

이 그래프가 점 $(1, k^2)$ 을 지나므로

$$k^2 = (1-k)^2 + 7, \quad 2k = 8 \quad \therefore k = 4$$

따라서 $y = (x-4)^2 + 7 = x^2 - 8x + 23$ 이므로

$$a = -8, b = 23$$

$$\therefore a + b + k = 19$$

답 ④

1375 전략 모든 사분면을 지나도록 함수의 그래프를 그려 y 절편의 범위를 생각한다.

풀이 $y = a(x-1)^2 - 3 = ax^2 - 2ax + a - 3$

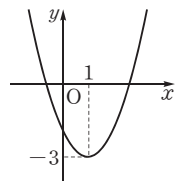
오른쪽 그림과 같이 함수의 그래프가 모든 사분면을 지나려면 $a > 0$ 이고, $x = 0$ 일 때 $y < 0$ 이어야 하므로

$$a - 3 < 0 \quad \therefore a < 3$$

따라서 실수 a 의 값의 범위는

$$0 < a < 3$$

답 ④



1376 전략 그래프가 x 축과 두 점 $(m, 0)$, $(n, 0)$ 에서 만나는 이차함수의 식은 $y = a(x-m)(x-n)$ 으로 놓는다.

풀이 $y = p(x+1)(x-3)$ 으로 놓으면

$$y = p(x^2 - 2x - 3) = p(x-1)^2 - 4p$$

이 함수의 최솟값이 -4 이므로

$$-4p = -4 \quad \therefore p = 1$$

$$\therefore y = x^2 - 2x - 3$$

$y = x^2 - 2x - 3$ 의 그래프를 x 축에 대하여 대칭이동한 그래프의 식은

$$-y = x^2 - 2x - 3 \quad \therefore y = -x^2 + 2x + 3$$

따라서 $a = -1$, $b = 2$, $c = 3$ 이므로

$$2a + b + c = 2 \times (-1) + 2 + 3 = 3$$

답 ④

1377 전략 두 점 P, Q의 좌표를 x 에 대한 식으로 나타내고 \overline{PQ} 의 길이를 y 라 한 후, x, y 사이의 관계를 식으로 나타낸다.

풀이 $P(x, x^2 + 2)$, $Q(x, x)$, \overline{PQ} 의 길이를 y 라 하면

$$y = (x^2 + 2) - x = x^2 - x + 2$$

$$= \left(x - \frac{1}{2}\right)^2 + \frac{7}{4}$$

따라서 \overline{PQ} 의 길이의 최솟값은 $\frac{7}{4}$ 이다.

답 $\frac{7}{4}$

1378 전략 발의 가로, 세로의 길이를 각각 x 에 대한 식으로 나타낸 후, (발의 넓이)=(가로의 길이)×(세로의 길이)임을 이용한다.

풀이 발의 세로의 길이를 x m, 넓이를 y m²라 하면 가로의 길이는 $(80-5x)$ m이므로

$$y = x(80-5x) = -5x^2 + 80x \\ = -5(x-8)^2 + 320$$

따라서 발의 최대 넓이는 320m²이다.

답 ②

1379 전략 x 초 후에 $\overline{PB} = (20-2x)$ cm, $\overline{BQ} = 3x$ cm임을 이용한다.

풀이 x 초 후에 $\overline{AP} = 2x$ cm, $\overline{BQ} = 3x$ cm이므로

$$\overline{PB} = (20-2x)$$
cm

$\triangle PBQ$ 의 넓이를 y cm²라 하면

$$y = \frac{1}{2} \times (20-2x) \times 3x = -3x^2 + 30x \\ = -3(x-5)^2 + 75$$

따라서 5초 후에 $\triangle PBQ$ 의 넓이는 최대가 된다.

답 ④

1380 전략 총 판매 금액이 최대일 때의 x 의 값을 구한다.

풀이 총 판매 금액을 y 원이라 하면

$$y = (200+2x)(600-3x) = -6x^2 + 600x + 120000 \\ = -6(x-50)^2 + 135000$$

따라서 $x=50$ 일 때 총 판매 금액이 최대이므로 그때의 사탕 한 개의 가격은

$$200 + 2 \times 50 = 300 \text{ (원)}$$

답 ④

1381 전략 그래프의 꼭짓점의 좌표가 (p, q) 인 이차함수의 식은

$$y = a(x-p)^2 + q \text{로 놓는다.}$$

풀이 $y = -4x^2 - 5$ 의 그래프의 꼭짓점의 좌표는 $(0, -5)$

... ①

이므로 이차함수의 식을 $y = ax^2 - 5$ 로 놓을 수 있다.

이 그래프가 점 $(3, 13)$ 을 지나므로

$$13 = 9a - 5 \quad \therefore a = 2$$

$$\therefore y = 2x^2 - 5$$

... ②

$$0 = 2x^2 - 5 \text{에서 } x^2 = \frac{5}{2}$$

$$\therefore x = \pm \frac{\sqrt{10}}{2}$$

따라서 이차함수의 그래프가 x 축과 만나는 두 점의 좌표는

$$\left(-\frac{\sqrt{10}}{2}, 0\right), \left(\frac{\sqrt{10}}{2}, 0\right) \text{이므로 두 점 사이의 거리는}$$

$$\frac{\sqrt{10}}{2} - \left(-\frac{\sqrt{10}}{2}\right) = \sqrt{10}$$

... ③

답 $\sqrt{10}$

채점 기준

① $y = -4x^2 - 5$ 의 그래프의 꼭짓점의 좌표를 구할 수 있다.	30%
② 이차함수의 식을 구할 수 있다.	50%
③ x 축과 만나는 두 점 사이의 거리를 구할 수 있다.	20%

1382 전략 축의 방정식이 $x=p$ 인 이차함수의 식은

$$y = a(x-p)^2 + q \text{로 놓는다.}$$

풀이 축의 방정식이 $x=-2$ 이므로 이차함수의

식을 $y = a(x+2)^2 + q$ 로 놓을 수 있다.

이 그래프가 두 점 $(0, 8)$, $(-1, -4)$ 를 지나므로

$$8 = 4a + q, -4 = a + q$$

$$\therefore a = 4, q = -8$$

$$\text{즉 } y = 4(x+2)^2 - 8 \text{이므로 } A(-2, -8)$$

... ①

$$0 = 4(x+2)^2 - 8 \text{에서 } (x+2)^2 = 2$$

$$x+2 = \pm\sqrt{2} \quad \therefore x = -2 \pm \sqrt{2}$$

따라서 이차함수의 그래프가 x 축과 만나는 두 점의 좌표는

$$(-2-\sqrt{2}, 0), (-2+\sqrt{2}, 0)$$

... ②

이므로

$$\overline{BC} = (-2+\sqrt{2}) - (-2-\sqrt{2}) = 2\sqrt{2}$$

$$\therefore \triangle ABC = \frac{1}{2} \times 2\sqrt{2} \times 8 = 8\sqrt{2}$$

... ③

답 $8\sqrt{2}$

채점 기준

① 점 A의 좌표를 구할 수 있다.	50%
② x 축과 만나는 두 점의 좌표를 구할 수 있다.	20%
③ $\triangle ABC$ 의 넓이를 구할 수 있다.	30%

1383 전략 주어진 조건에 맞는 이차함수의 식을 구한 후 최댓값을 구한다.

풀이 $y = -3x^2 + ax + b$ 에 $x=4, y=0$ 을 대입하면

$$0 = -48 + 4a + b$$

..... ①

또 $y = -9$ 를 대입하면

$$-9 = -3x^2 + ax + b$$

$$\therefore 3x^2 - ax - b - 9 = 0$$

두 점의 x 좌표의 합이 4이므로 근과 계수의 관계에 의하여

$$-\frac{-a}{3} = 4 \quad \therefore a = 12$$

... ①

$a=12$ 를 ①에 대입하면

$$-48 + 4 \times 12 + b = 0 \quad \therefore b = 0$$

... ②

따라서 $y = -3x^2 + 12x = -3(x-2)^2 + 12$ 이므로 구하는 최댓값은 12이다.

... ③

답 12

채점 기준

① a 의 값을 구할 수 있다.	40%
② b 의 값을 구할 수 있다.	30%
③ 최댓값을 구할 수 있다.	30%



이차방정식의 근과 계수의 관계

이차방정식 $ax^2+bx+c=0$ 의 두 근을 α, β 라 할 때

$$(1) \text{ 두 근의 합: } \alpha + \beta = -\frac{b}{a}$$

$$(2) \text{ 두 근의 곱: } \alpha\beta = \frac{c}{a}$$

1384 전략 $a+b$, ab 의 값을 구한 후 k 를 a 에 대한 식으로 나타낸다.

풀이 (1) $x^2-6x+k=x^2+(a+b)x+ab$ 에서

$$a+b=-6, ab=k$$

... ①

$$b=-6-a \text{ 이므로}$$

$$k=a(-6-a)=-a^2-6a$$

... ②

$$(2) k=-a^2-6a=-(a+3)^2+9$$

따라서 $a=-3$ 일 때 k 의 최댓값은 9이다.

... ③

$$\text{답 (1) } k=-a^2-6a \quad (2) 9$$

채점 기준

① $a+b$, ab 의 값을 구할 수 있다.	20%
② k 를 a 에 대한 식으로 나타낼 수 있다.	40%
③ k 의 최댓값을 구할 수 있다.	40%

1385 전략 $\overline{AP}=\overline{AQ}=x\text{cm}$ 라 하고 $\triangle PQR$ 의 넓이에 대한 이차함수의 식을 세운다.

풀이 $\overline{AP}=\overline{AQ}=x\text{cm}$, $\triangle PQR$ 의 넓이를 $y\text{cm}^2$ 라 하면

$$\overline{BQ}=\overline{BR}=(6-x)\text{cm} \text{ 이므로}$$

$$y=\square\text{ABRP}-(\triangle\text{AQP}+\triangle\text{QBR})$$

$$=\frac{1}{2} \times \{x+(6-x)\} \times 6$$

$$-\left\{\frac{1}{2} \times x \times x + \frac{1}{2} \times (6-x) \times (6-x)\right\}$$

$$=-x^2+6x$$

$$=-(x-3)^2+9$$

... ①

따라서 $\triangle PQR$ 의 넓이의 최댓값은 9cm^2 이다.

... ②

$$\text{답 } 9\text{cm}^2$$

채점 기준

① 이차함수의 식을 세울 수 있다.	60%
② $\triangle PQR$ 의 넓이의 최댓값을 구할 수 있다.	40%

참고 $\square\text{ABRP}=\square\text{PRCD}$ 이므로

$$\triangle\text{PQR}=\frac{1}{2}\square\text{ABCD}-(\triangle\text{AQP}+\triangle\text{QBR})$$

임을 이용하여 풀 수도 있다.

1386 전략 이차함수의 그래프의 축의 방정식을 이용하여 두 점 A, B의 좌표를 구한다.

풀이 (1) $y=-x^2+4x+5=-(x-2)^2+9$ 의 그래프의 꼭짓점의 좌표는 (2, 9) ... ①

(2) 오른쪽 그림에서

$$\overline{AB}=2(k-2)$$

점 C의 좌표는 $(k, -k^2+4k+5)$ 이

므로

$$\overline{BC}=-k^2+4k+5$$

$$\therefore l=2(\overline{AB}+\overline{BC})$$

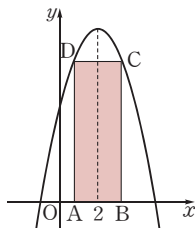
$$=2\{2(k-2)$$

$$+(-k^2+4k+5)\}$$

$$=-2k^2+12k+2$$

... ②

$$(3) l=-2k^2+12k+2=-2(k-3)^2+20$$



따라서 $\square\text{ABCD}$ 의 둘레의 길이의 최댓값은 20이다. ... ③

$$\text{답 (1) } (2, 9) \quad (2) l=-2k^2+12k+2 \quad (3) 20$$

채점 기준

① 꼭짓점의 좌표를 구할 수 있다.	20%
② l 을 k 에 대한 식으로 나타낼 수 있다.	40%
③ $\square\text{ABCD}$ 의 둘레의 길이의 최댓값을 구할 수 있다.	40%

1387 전략 $\triangle\text{BQP} \sim \triangle\text{BAC}$ (AA 닮음)임을 이용하여 \overline{PQ} 의 길이를 x 에 대한 식으로 나타낸다.

풀이 (1) $\triangle\text{BQP} \sim \triangle\text{BAC}$ (AA 닮음)이므로

$$\overline{BQ} : \overline{BA} = \overline{PQ} : \overline{CA}$$

$$(6-x) : 6 = \overline{PQ} : 4, \quad 6\overline{PQ} = 24-4x$$

$$\therefore \overline{PQ} = 4 - \frac{2}{3}x \text{ (cm)} \quad \dots ①$$

$$(2) y = x \left(4 - \frac{2}{3}x \right) = -\frac{2}{3}x^2 + 4x \quad \dots ②$$

$$(3) y = -\frac{2}{3}x^2 + 4x = -\frac{2}{3}(x-3)^2 + 6$$

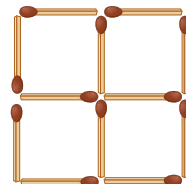
따라서 $\square\text{AQPR}$ 의 최대 넓이는 6cm^2 이다. ... ③

$$\text{답 (1) } \left(4 - \frac{2}{3}x \right) \text{ cm} \quad (2) y = -\frac{2}{3}x^2 + 4x \quad (3) 6\text{cm}^2$$

채점 기준

① \overline{PQ} 의 길이를 x 에 대한 식으로 나타낼 수 있다.	40%
② y 를 x 에 대한 식으로 나타낼 수 있다.	30%
③ $\square\text{AQPR}$ 의 최대 넓이를 구할 수 있다.	30%

18쪽



23쪽

1부터 9까지의 자연수의 합은 45이므로

$$45 \times 3 = 135$$

따라서 합이 10인 카드를 계속 내려 놓으면 내려 놓은 카드의 합은 10의 배수가 되므로 마지막에 남은 카드에 적힌 숫자는 5이다.

84쪽

$$1+2+3+4+5+6+7=55$$

MEMO



A series of horizontal dashed lines for writing, spanning the width of the page.