

문제 풀이
능력을 향상시키는



채움 해설서



정답

한눈에 보기

02



기본

학습서편

04

- I. 내가 사는 세계 04
- II. 우리와 다른 기후, 다른 생활 10
- III. 자연으로 떠나는 여행 17
- IV. 다양한 세계, 다양한 문화 23
- V. 지구 곳곳에서 일어나는 자연재해 29
- VI. 자원을 둘러싼 경쟁과 갈등 34



시험

대비서편

39



정답

한눈에 보기

기본 학습서편

I 내가 사는 세계

010~013쪽 ① 지도에 나타난 세계

01 ⑤ 02 ① 03 ④ 04 ② 05 ① 06 ④ 07 ② 08 ④ 09 ①
10 ③ 11 ④ 12 ② 13 ⑤ 14 ② 15 주제도 16 (가) B, (나) C 17 A
-C-B 18 해설 참조 19 해설 참조 20 해설 참조

018~021쪽 ② 위치와 인간 생활 ~ ③ 지리 정보 기술과 일상생활

01 ④ 02 ② 03 ④ 04 ② 05 ④ 06 ⑤ 07 ④ 08 ⑤ 09 ③
10 ⑤ 11 ④ 12 ④ 13 ④ 14 ④ 15 랜드마크 16 (가) 여름, (나) 겨울
17 목요일 오후 11시(또는 23시) 18 해설 참조 19 해설 참조 20 해설 참조

023~026쪽 대단원 완성 문제

01 ③ 02 ③ 03 ⑤ 04 ④ 05 ⑤ 06 ② 07 ② 08 ④ 09 ⑤
10 ① 11 ① 12 ② 13 ⑤ 14 ④ 15 ② 16 ⑤ 17 해설 참조
18 해설 참조 19 해설 참조 20 해설 참조

II 우리와 다른 기후, 다른 생활

032~035쪽 ① 세계의 기후 지역 ~ ② 열대 우림 기후 지역의 생활 모습

01 ① 02 ⑤ 03 ② 04 ⑤ 05 ③ 06 ② 07 ④ 08 ② 09 ⑤
10 ② 11 ⑤ 12 ③ 13 ⑤ 14 ③ 15 고산 기후 16 스콜 17 (나)-
(다)-(가) 18 해설 참조 19 해설 참조 20 해설 참조

038~041쪽 ③ 온대 기후 지역의 생활 모습

01 ③ 02 ⑤ 03 ④ 04 ① 05 ① 06 ② 07 ① 08 ② 09 ④
10 ③ 11 ① 12 ④ 13 ① 14 ① 15 편서풍 16 A-수목, B-곡물
17 온대 계절풍 18 해설 참조 19 해설 참조 20 해설 참조

044~047쪽 ④ 건조 기후 지역과 툰드라 기후 지역의 생활 모습

01 ② 02 ② 03 ① 04 ④ 05 ⑤ 06 ③ 07 ⑤ 08 ③ 09 ①
10 ② 11 ② 12 ④ 13 ③ 14 ③ 15 A-사막, B-스텝 16 영구 동
토층 17 A-유목, B-관개 농업 18 해설 참조 19 해설 참조 20 해설
참조

051~054쪽 대단원 완성 문제

01 ③ 02 ② 03 ① 04 ⑤ 05 ③ 06 ⑤ 07 ② 08 ③ 09 ②
10 ② 11 ① 12 ③ 13 ③ 14 ① 15 ⑤ 16 ⑤ 17 해설 참조
18 해설 참조 19 해설 참조 20 해설 참조

III 자연으로 떠나는 여행

060~063쪽 ① 산지 지형과 생활 모습 ~ ② 해안 지형과 관광 산업

01 ④ 02 ③ 03 ② 04 ④ 05 ③ 06 ③ 07 ④ 08 ⑤ 09 ③
10 ④ 11 ① 12 ② 13 ⑤ 14 ② 15 고기 습곡 16 A-알프스 B-
히말라야 C-로키 D-안데스 17 파랑 18 해설 참조 19 해설 참조
20 해설 참조

068~071쪽 ③ 우리나라의 자연 경관

01 ④ 02 ⑤ 03 ⑤ 04 ② 05 ② 06 ④ 07 ④ 08 ② 09 ④
10 ② 11 ② 12 ① 13 ③ 14 ③ 15 동해안, 퇴적 16 A-종유석,
B-석주, C-석순 17 세계 자연 유산 18 해설 참조 19 해설 참조
20 해설 참조

073~076쪽 대단원 완성 문제

01 ⑤ 02 ⑤ 03 ③ 04 ② 05 ⑤ 06 ④ 07 ② 08 ① 09 ②
10 ② 11 ③ 12 ④ 13 ③ 14 ② 15 ⑤ 16 ② 17 해설 참조
18 해설 참조 19 해설 참조 20 해설 참조

IV 다양한 세계, 다양한 문화

082~085쪽 ① 세계의 다양한 문화

01 ② 02 ④ 03 ③ 04 ② 05 ④ 06 ⑤ 07 ② 08 ① 09 ②
10 ④ 11 ② 12 ⑤ 13 ③ 14 ④ 15 ㉠ 문화, ㉡ 문화 지역 16 벼
농사 17 크리스마스 18 해설 참조 19 해설 참조 20 해설 참조

088~091쪽 ② 세계화에 따른 문화 변화 ~ ③ 문화의 공존과 갈등

01 ④ 02 ④ 03 ⑤ 04 ② 05 ③ 06 ④ 07 ③ 08 ⑤ 09 ⑤
10 ① 11 ② 12 ③ 13 ② 14 ② 15 ㉠ 문화 접촉, ㉡ 문화 전파
16 세계화 17 벨기에 18 해설 참조 19 해설 참조 20 해설 참조

093~096쪽 대단원 완성 문제

01 ⑤ 02 ③ 03 ② 04 ③ 05 ① 06 ④ 07 ② 08 ④ 09 ②
10 ③ 11 ③ 12 ⑤ 13 ③ 14 ⑤ 15 ② 16 ③ 17 해설 참조
18 해설 참조 19 해설 참조 20 해설 참조

V 지구 곳곳에서 일어나는 자연재해

100~103쪽 ① 자연재해의 발생 지역과 원인

01 ⑤ 02 ② 03 ③ 04 ④ 05 ③ 06 ④ 07 ③ 08 ④ 09 ②
10 ① 11 ② 12 ② 13 ⑤ 14 ③ 15 지진 해일 16 환태평양 조산
대 17 태풍 18 해설 참조 19 해설 참조 20 해설 참조

106~109쪽 ② 자연재해와 주민 생활 ~ ③ 자연재해의 피해와 대응 방안

01 ⑤ 02 ① 03 ② 04 ③ 05 ④ 06 ① 07 ④ 08 ④ 09 ③
10 ④ 11 ② 12 ① 13 ① 14 ⑤ 15 ㉠ 홍수, ㉡ 가뭄 16 지열 발
전 17 사막화 방지 협약 18 해설 참조 19 해설 참조 20 해설 참조

113~116쪽 대단원 완성 문제

01 ① 02 ⑤ 03 ④ 04 ③ 05 ② 06 ⑤ 07 ④ 08 ④ 09 ④
10 ③ 11 ③ 12 ② 13 ② 14 ⑤ 15 ② 16 ② 17 해설 참조
18 해설 참조 19 해설 참조 20 해설 참조

VI 자원을 둘러싼 경쟁과 갈등

120~123쪽 ① 자원의 분포와 자원을 둘러싼 갈등

01 ⑤ 02 ④ 03 ② 04 ④ 05 ③ 06 ⑤ 07 ⑤ 08 ① 09 ②
10 ① 11 ① 12 ② 13 ① 14 ② 15 편재성 16 자원 민족주의
17 쌀 18 해설 참조 19 해설 참조 20 해설 참조

128~131쪽 ② 자원과 주민 생활 ~ ③ 지속 가능한 자원 개발

01 ① 02 ④ 03 ⑤ 04 ② 05 ① 06 ⑤ 07 ④ 08 ③ 09 ②
10 ④ 11 ⑤ 12 ⑤ 13 ④ 14 ② 15 석유 16 노르웨이 17 조력
18 해설 참조 19 해설 참조 20 해설 참조

133~136쪽 대단원 완성 문제

01 ④ 02 ② 03 ④ 04 ④ 05 ④ 06 ④ 07 ② 08 ② 09 ⑤
10 ④ 11 ③ 12 ② 13 ② 14 ② 15 ④ 16 ① 17 해설 참조
18 해설 참조 19 해설 참조 20 해설 참조

시험 대비서편

I 내가 사는 세계

02~05쪽 필수 문제로 학교시험 대비하기

01 ② 02 ④ 03 ① 04 ⑤ 05 ② 06 ③ 07 ① 08 ③ 09 ⑤
10 ⑤ 11 ② 12 ① 13 ④ 14 ③ 15 ④ 16 ③ 17 ⑤ 18 ②
19 ② 20 ③ 21 해설 참조 22 해설 참조 23 해설 참조

06~09쪽 실전 문제로 등급 올리기

01 ④ 02 ④ 03 ① 04 ④ 05 ② 06 ② 07 ③ 08 ③ 09 ④
10 ⑤ 11 ② 12 ① 13 ① 14 ⑤ 15 ③ 16 ④ 17 ④ 18 ②
19 ⑤ 20 ③ 21 해설 참조 22 해설 참조 23 해설 참조

II 우리와 다른 기후, 다른 생활

10~13쪽 필수 문제로 학교시험 대비하기

01 ⑤ 02 ④ 03 ⑤ 04 ⑤ 05 ③ 06 ⑤ 07 ④ 08 ① 09 ②
10 ④ 11 ④ 12 ④ 13 ③ 14 ④ 15 ⑤ 16 ① 17 ④ 18 ④
19 ⑤ 20 ② 21 해설 참조 22 해설 참조 23 해설 참조

14~17쪽 실전 문제로 등급 올리기

01 ④ 02 ① 03 ③ 04 ④ 05 ② 06 ④ 07 ⑤ 08 ① 09 ③
10 ③ 11 ④ 12 ① 13 ① 14 ③ 15 ⑤ 16 ⑤ 17 ② 18 ②
19 ⑤ 20 ③ 21 해설 참조 22 해설 참조 23 해설 참조

III 자연으로 떠나는 여행

18~21쪽 필수 문제로 학교시험 대비하기

01 ① 02 ③ 03 ② 04 ② 05 ② 06 ② 07 ① 08 ③ 09 ③
10 ④ 11 ④ 12 ④ 13 ⑤ 14 ③ 15 ② 16 ① 17 ④ 18 ②
19 ④ 20 ④ 21 해설 참조 22 해설 참조 23 해설 참조

22~25쪽 실전 문제로 등급 올리기

01 ② 02 ② 03 ⑤ 04 ① 05 ⑤ 06 ③ 07 ④ 08 ③ 09 ④
10 ② 11 ③ 12 ② 13 ② 14 ① 15 ⑤ 16 ② 17 ③ 18 ③
19 ③ 20 ④ 21 해설 참조 22 해설 참조 23 해설 참조

IV 다양한 세계, 다양한 문화

26~29쪽 필수 문제로 학교시험 대비하기

01 ① 02 ⑤ 03 ③ 04 ③ 05 ⑤ 06 ① 07 ② 08 ① 09 ④
10 ⑤ 11 ③ 12 ⑤ 13 ③ 14 ⑤ 15 ④ 16 ④ 17 ③ 18 ③
19 ④ 20 ② 21 해설 참조 22 해설 참조 23 해설 참조

30~33쪽 실전 문제로 등급 올리기

01 ③ 02 ② 03 ① 04 ⑤ 05 ④ 06 ④ 07 ④ 08 ④ 09 ⑤
10 ④ 11 ② 12 ⑤ 13 ④ 14 ② 15 ⑤ 16 ④ 17 ② 18 ②
19 ③ 20 ③ 21 해설 참조 22 해설 참조 23 해설 참조

V 지구 곳곳에서 일어나는 자연재해

34~37쪽 필수 문제로 학교시험 대비하기

01 ② 02 ⑤ 03 ④ 04 ③ 05 ④ 06 ③ 07 ② 08 ① 09 ①
10 ① 11 ① 12 ② 13 ① 14 ④ 15 ③ 16 ② 17 ③ 18 ①
19 ④ 20 ④ 21 해설 참조 22 해설 참조 23 해설 참조

38~41쪽 실전 문제로 등급 올리기

01 ③ 02 ③ 03 ③ 04 ① 05 ⑤ 06 ③ 07 ② 08 ① 09 ②
10 ③ 11 ④ 12 ⑤ 13 ⑤ 14 ② 15 ⑤ 16 ③ 17 ⑤ 18 ①
19 ① 20 ② 21 해설 참조 22 해설 참조 23 해설 참조

VI 자원을 둘러싼 경쟁과 갈등

42~45쪽 필수 문제로 학교시험 대비하기

01 ② 02 ② 03 ④ 04 ③ 05 ④ 06 ① 07 ③ 08 ④ 09 ③
10 ③ 11 ③ 12 ④ 13 ④ 14 ⑤ 15 ⑤ 16 ③ 17 ③ 18 ②
19 ② 20 ④ 21 해설 참조 22 해설 참조 23 해설 참조

46~48쪽 실전 문제로 등급 올리기

01 ① 02 ⑤ 03 ④ 04 ① 05 ② 06 ① 07 ① 08 ② 09 ④
10 ④ 11 ⑤ 12 ⑤ 13 ② 14 ② 15 해설 참조 16 해설 참조
17 해설 참조

I 내가 사는 세계

1 지도에 나타난 세계

학교 내역 격중 문제

▶ 기본학습서 010~013 쪽

01 ⑤ 02 ① 03 ④ 04 ② 05 ① 06 ④
07 ② 08 ④ 09 ① 10 ③ 11 ④ 12 ②
13 ⑤ 14 ② 15 주제도 16 (가) B, (나) C 17 A-C
-B 18 해설 참조 19 해설 참조 20 해설 참조

01

지도는 실제 지역을 일정한 비율로 줄여 2차원의 평면 위에 축척, 방위, 기호 등을 사용하여 나타낸 것이다. 지도는 내용에 따라 일반도와 주제도로 구분할 수 있다. 일반도는 지형, 도로 등 종합적인 내용을 담은 지도로 지형도, 세계 전도, 우리나라 전도가 대표적이다. 주제도는 특정한 목적에 따라 필요한 내용만 상세하게 나타낸 지도로, 각종 통계 지도나 지하철 노선도, 관광 지도 등이 있다.

02

기호는 지표에 나타나는 여러 현상을 간략하게 나타낸 것으로 공항 기호가 있는 도시는 케플라비크이다. 지도상에 방위 표시가 없으면 지도의 위쪽이 북쪽이므로 해클라산은 비크의 북쪽에 있다.

오답풀이 영재 : 해안에서 내륙으로 갈수록 갈색이 진해 지므로 내륙의 해발 고도가 더 높다. 준기 : 아이슬란드의 동부에는 빙하가 분포한다.

03

두 지도를 비교하면 (가) 지도는 (나) 지도에 비해 아이슬란드가 더 자세히 표현되어 있으므로 실제 크기를 더 적게 줄였다고 볼 수 있다. 따라서 아이슬란드에 관한 더 자세한 정보를 얻기 위해서는 (가) 지도를 이용하는 것이 적합하다. (나) 지도는 아이슬란드 주변국의 위치를 한눈에 파악하는 데 적합하다.

오답풀이 ① (가)와 (나) 지도 모두 지표면의 지리 현상이 종합적으로 표현된 일반도이다. ② (나) 지도는 (가) 지도에 비해 실제 크기를 더 많이 줄여서 나타낸 지도이다. ③ 아이슬란드 관광에는 아이슬란드에 대해 더 자세한 정보를 담고 있는 (가) 지도가 더 유용하다. ⑤ (나) 지도는 아이슬란드의 위치와 모양 정도만 파악할 수 있다.

04

제시된 지도는 우리나라의 빗꽃 개화 시기를 나타낸 통계 지도이다. 통계 지도는 특정한 주제나 목적에 따라 필요한 내용만 상세하게 나타낸다. 우리나라의 빗꽃 개화는 대체

통계 지도의 표현

- 점 : 지리 정보의 분포나 밀도를 나타냄
- 선 : 지리 정보 흐름의 방향이나 양을 나타냄
- 면 : 단계별로 색 또는 패턴을 다르게 해서 지리 정보를 나타냄
- 도형 : 통계 자료를 그래프를 사용하여 다양한 도형으로 나타냄

지도의 분류

- 소축척 지도 : 비교적 넓은 지역을 작고 간략하게 보여주는 지도
- 대축척 지도 : 비교적 좁은 지역을 크고 자세하게 보여주는 지도

주제도

- 특정한 목적에 따라 필요한 내용만 상세하게 나타냄
- 통계 지도, 기후도, 관광 지도, 지하철 노선도 등

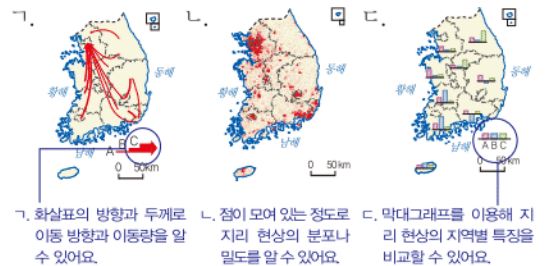
로 남쪽부터 시작되어 서귀포(3/24)가 가장 빠르며, 비슷한 위도의 경우 서해안보다 동해안에서 먼저 시작된다는 것을 알 수 있다.

오답풀이 ㄴ. 서귀포의 빗꽃 개화일이 3/24이고 춘천이 4/12이므로 빗꽃은 남쪽에서 먼저 핀다. ㄷ. 지리 정보를 종합적으로 나타내는 것은 일반도에 대한 설명이다.

05

(가)와 같이 인구 이동과 관련된 지리 정보는 화살표의 방향과 굵기를 이용하여 지도상에 나타낼 수 있다. (나)와 같이 인구 100만 명 이상인 도시의 위치 및 분포와 관련된 지리 정보는 해당 도시의 위치에 점을 찍어 지도상에 표현할 수 있다.

문제자료 뜯어보기



06

지하철 노선도는 목적지에 가기 위해 갈아타야 할 역이나, 내리는 역 등의 정보를 제공하는 주제도이며, 교통과 관련된 인문 환경 정보를 담고 있는 지도이다.

07

A는 아프리카, B는 유럽, C는 오세아니아, D는 북아메리카, E는 남아메리카이다.

08

지도에 표시된 지역은 세계에서 가장 높은 산인 에베레스트산이 위치한 히말라야산맥이다.

오답풀이 ① 그린란드는 북극해 부근에 위치해 있다. ②, ⑤ 안데스산맥과 아마존강은 남아메리카에 위치해 있다. ③ 바이칼호는 러시아에 위치해 있다.

09

메콩강은 '세계의 지붕'이라고 불리는 티베트(시짱)고원에서 발원하여 동남아시아를 흐르는 강이다. 에베레스트산은 아시아의 히말라야산맥에서 볼 수 있는 산으로, 세계에서 가장 높은 산이다. 두 지역 모두 아시아에 위치한 세계적인 지형이다.

10

①은 아프리카 북부의 사하라 사막으로 세계 최대의 사막이며, 아프리카를 북부와 중남부로 구분하는 기준이 된다.

㉠은 아프리카 중부의 빅토리아호에서 발원하여 사하라 사막을 통과해 북쪽의 지중해로 흘러드는 나일강으로, 아프리카에서 가장 긴 강이며 하류의 삼각주에서 이집트 문명이 발생하였다.

11

나이아가라 폭포는 미국과 캐나다에 걸쳐 있는 북아메리카에서 가장 큰 폭포이다. 오대호 중 하나인 이리호에서 흘러나온 나이아가라강이 온타리오호로 들어가는 도중에 형성된 대폭포로, 미국과 캐나다의 국경에 위치한다.

문제자료 뜯어보기



12

인문 환경은 인구, 도시, 산업, 정치, 문화, 지역 분쟁 등 사람들이 살아오면서 만들어낸 환경으로, 다양한 형태의 지도를 이용하면 여러 지역 간 인문 환경의 차이를 쉽게 파악할 수 있다. 세계의 하천 분포는 자연환경과 관련된 지리 정보이다.

13

지도는 세계의 합계 출산율을 단계별로 색을 구분하여 나타낸 것이다. 지도에서 색이 진할수록 합계 출산율이 높다는 것을 의미한다. ⑤ 합계 출산율이 높은 국가가 가장 많은 대륙은 아프리카이다.

오답풀이 ① 합계 출산율이란 가임 여성 한 명이 낳을 것으로 예상되는 자녀의 평균수로, 이 자료만으로는 인구가 가장 많이 분포하는 대륙을 알 수 없다. ② 국가별 합계 출산율을 단계별로 구분하여 색으로 표현하였다. ③ 경제 수준이 높은 대륙일수록 대체로 합계 출산율이 낮다. ④ 합계 출산율이 낮은 국가가 가장 많은 대륙은 유럽이다.

14

제시된 두 지도를 통해 아프리카 지역의 자연환경과 인문 환경 간의 관계를 분석할 수 있다. 지도를 읽으면 아프리카의 북부에서는 건조 기후, 중남부에서는 대체로 열대 기후가 나타남을 알 수 있다. 이러한 기후 분포로 인해 저주에 적합하거나 농업 활동에 유리한 온대 기후 지역, 해안 지역 등을 중심으로 인구 밀도가 높으며, 식수를 얻기 어렵거나 농업 활동에 불리한 건조 기후 지역은 인구 밀도가 매우 낮다.

인문 환경

- 인간이 살아오면서 만들 어낸 환경
- 인구 도시, 산업, 문화, 지역 분쟁 등

해결의 실마리

(가), (나) 지도의 분포 패턴 읽기

온대·고산 기후 지역은 인구 밀도가 비교적 높음

+

건조 기후 지역은 인구 밀도가 낮음

↓

인구 밀도와 기후 간에는 높은 상관 관계가 있음

15

특정한 목적에 따라 특수한 주제·내용만을 나타내어 그린 지도를 주제도라고 한다. 각 지역의 기온·강수량·기압 등을 지도에 나타낸 기상도, 인구 분포 차이를 색이나 점으로 표현한 인구분포도, 지하철 노선도 등이 대표적인 주제도이다.

16

왼쪽 사진은 사막에서 낙타 타기, 오른쪽 사진은 고산 지대 트레킹과 관련된 것이다. 지도의 A는 영국 일대, B는 사하라 사막, C는 히말라야산맥, D는 인도네시아, E는 오대호 일대, F는 아마존강 유역이다. 이 중 낙타 타기가 가능한 곳은 B의 사하라 사막, 고산 지대의 트레킹이 가능한 곳은 C의 히말라야산맥이다.

17

지도는 멕시코의 주별 지역 내 총생산(GRDP)을 단계별로 색을 다르게 하여 표현한 것이다. 색이 진할수록 지역 내 총생산이 많다는 것을 의미하므로 A-C-B 순으로 지역 내 총생산이 많다.

18

예시답안 방위, 방위는 지도에서 동서남북의 방향을 나타낸다. 지도에 방위가 없으면 지도의 위쪽이 북쪽이 된다.

채점 기준	등급	평가 기준
	상	방위라는 명칭을 쓰고, 지도에서 방향을 나타낸다는 방위표의 역할과 방위가 없을 때 지도의 위쪽이 북쪽이 된다고 올바르게 서술한 경우
	하	방위라는 명칭을 쓰고, 방위의 역할과 방위가 없을 때 지도 읽는 법 중 한 가지만 올바르게 서술한 경우

19

예시답안 주요 대륙, 바다, 산맥, 하천, 사막 등의 자연환경을 파악하기 위해서이다. 우리가 가 보지 못한 지역의 자연환경을 쉽게 알기 위해서이다. 등

채점 기준	등급	평가 기준
	상	대륙, 바다, 산맥, 하천, 사막 등 자연환경을 파악하기 위해서라고 올바르게 서술한 경우
	하	자연환경을 파악하기 위해서라고 서술했으나 내용이 미흡한 경우

20

예시답안 인구, 지역 간 무역량, 자원 등 지리 정보의 흐름은 선 또는 화살표의 방향과 굵기를 이용하여 지도상에 효과적으로 나타낼 수 있다.

채점 기준	등급	평가 기준
	상	선, 화살표를 이용한 지도로 자원과 인구, 무역량, 자원 등의 이동을 나타낸다고 옳게 서술한 경우
	하	지도상에 선을 이용하여 나타내려고만 서술한 경우

2 위치와 인간 생활

3 지리 정보 기술과 일상생활

학교 시험 적중 문제

▶ 기본학습서 018~021쪽

01 ④ 02 ② 03 ④ 04 ② 05 ④ 06 ⑤
07 ④ 08 ⑤ 09 ③ 10 ⑤ 11 ④ 12 ④
13 ④ 14 ④ 15 랜드마크 16 (가) 여름, (나) 겨울
17 목요일 오후 11시(또는 23시) 18 해설 참조 19 해
설 참조 20 해설 참조

01

좁은 공간에서의 위치 표현은 주소, 랜드마크, 지형지물 등을 활용할 수 있고, 넓은 공간에서의 위치 표현은 위도와 경도로 표현하거나 대륙과 해양의 분포 등을 활용할 수 있다.

02

대륙과 해양의 분포를 이용하여 우리나라의 위치를 설명할 때는 “아시아 대륙의 동쪽 끝에 위치하고 태평양과 접해 있다.”와 같이 나타낼 수 있다.

03

제시된 그림의 A는 위선, B는 위도, C는 경도, D는 적도, E는 경선이다. 위도는 남극과 북극으로부터 거리가 같은 지점을 연결한 적도(위도 0°)를 기준으로 남북 90°까지로 구분되며, 경도는 본초 자오선을 기준으로 동서 180°까지로 구분한다. ④ 경도 0°선은 본초 자오선이라 하며, 영국 런던의 그리니치 천문대를 지난다. 적도는 위도 0°선을 나타내는 선이다.

04

적도 북쪽은 북위(N) 0°~90°, 적도 남쪽은 남위(S) 0°~90°로 표현하고, 본초 자오선을 기준으로 동쪽은 동경(E) 0°~180°, 서쪽은 서경(W) 0°~180°로 표현한다. 지도에서 북위 30°, 동경 31°에 위치한 도시는 이집트의 카이로이다.

05

지구가 둥글기 때문에 지역에 따라 일사량의 차이가 발생한다. 햇빛이 수직으로 닿아 태양 에너지를 많이 받는 저위도 지역은 일 년 내내 기온이 높고, 햇빛을 비스듬히 받아 태양 에너지를 적게 받는 고위도 지역은 연중 기온이 낮다.

오답풀이 ① 저위도 지역은 햇빛이 수직으로 닿아 일사량이 많다. ② 중위도 지역은 계절의 변화가 뚜렷한 곳이다. ③ 극지방은 햇빛이 비스듬히 닿아 일 년 내내 기온이 낮다. ⑤ 적도에서 극지방으로 가면서 대체로 열대 기후, 온대 기후, 냉대 기후, 한대 기후가 차례로 나타난다.

위도와 계절 차

- 원인 : 지구의 자전축이 23.5° 기울어진 상태로 공전하기 때문
- 6월 : 북반구 여름(하지) → 남반구 겨울
- 12월 : 북반구 겨울(동지) → 남반구 여름

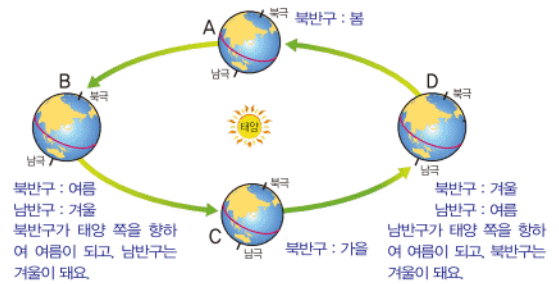
06

북반구와 남반구의 중위도 지역은 계절이 정반대이기 때문에 밀의 수확 시기도 정반대이다. 따라서 남반구에서 밀을 수확할 시기에 밀 수확이 이루어지지 않는 북반구로 밀을 수출한다.

07

지구의 자전축이 23.5° 기울어진 채 공전하기 때문에 남반구와 북반구의 중위도 지역에서는 계절이 반대로 나타난다. B 시기에 북반구는 태양에 가까워져 여름이 되고, D 시기에는 태양으로부터 멀어져 겨울이 된다. 여름에는 극지방에서 밤에도 해가 지지 않는 백야 현상이 나타난다.

문제자료 | 뜯어보기



오답풀이 ㄱ. A 시기의 북반구는 봄이다. ㄴ. C 시기의 남반구는 봄이다.

계절과 인간 생활

- 수확 시기의 차이 → 북반구와 남반구 간 농산물 무역이 이루어짐
- 계절 차이를 이용한 관광 산업이 발달함

시차와 인간 생활

- 여행, 지역 간 교류, 국제 무역 등에 영향

08

지구의 공전은 지구의 계절 변화와 관계가 있다. 키리바시, 사모아 등 날짜 변경선에 가까운 남태평양의 섬들은 세계에서 가장 먼저 해돋이를 볼 수 있다는 지역 특색을 관광 산업에 이용하고 있는데, 이는 시차와 관계있는 인간 생활 모습에 해당한다.

09

지구는 하루에 한 바퀴씩 서쪽에서 동쪽으로 자전을 하기 때문에 미국과 인도 사이에 시차가 발생한다. 미국의 서부와 인도는 약 13시간의 시차가 나기 때문에 이를 이용하여 업무를 끊임없이 주고받을 수 있다.

10

우리나라와 낮과 밤이 정반대인 곳은 우리나라와 12시간의 시차가 발생하는 곳으로, 경도가 180° 차이 나는 브라질의 리우데자네이루이다.

11

지도를 보면 로스앤젤레스의 표준시는 본초 자오선보다 8시간이 느리다. 우리나라는 본초 자오선보다 9시간이 빠르므로 서울은 로스앤젤레스보다 17시간이 빠르다. 따라서 비행기가 출발하는 시각이 로스앤젤레스에서 8월 3일

오전 10시일 때 우리나라의 시각은 8월 4일 오전 3시이고, 비행시간이 14시간이므로 인천 공항에는 8월 4일 오후 5시에 마중을 나가면 된다.

문제자료 뜯어보기



지구가 한 바퀴 자전하는 동안 24시간이 걸리므로 경도 15마다 1시간의 시간 차이가 발생한다. 우리나라는 동경 135°를 표준시로 사용하므로, 이를 기준으로 다른 지역과의 시차를 계산할 수 있다.

12

지리 정보란 지역의 지표 공간과 관련하여 자연적·인문적 특성을 담은 정보를 일컫는다. 지리 정보는 일상 생활 뿐만 아니라 도시 계획 수립, 재해 및 재난 관리, 국토 및 환경 관리 등 국가나 지방 자치 단체의 공간적 의사 결정에 활용되기도 한다.

13

오늘날 지리 정보 체계는 다양한 정보 통신 기술과 결합되어 일상생활에 많은 도움을 주고 있다. 영어 사전을 검색하는 것은 지리 정보와 지리 정보 기술을 이용한 사례로 보기 어렵다.

14

지리 정보 체계(GIS)는 지역에 관한 다양한 자료를 입력, 저장, 처리, 분석하여 종합적인 지리 정보를 제공함으로써 공간적 의사 결정에 도움을 주기 위한 정보 체계이다.

15

랜드마크는 지역을 대표하는 장소나 건물에 해당하는 상징물로 좁은 공간에서의 위치를 표현할 때 유용하다.

16

지구의 자전축이 23.5° 기울어진 채 공전하기 때문에 남반구와 북반구는 계절이 서로 반대로 나타난다. 북반구의 중위도에 위치한 우리나라는 (가) 시기에 태양에 가까워져 여름이 되고, (나) 시기에는 태양으로부터 멀어져 겨울이 된다.

17

표준 경선 135°를 사용하고 있는 우리나라는 영국의 런던보다 9시간이 빠르므로 영국 현지 시각에 9시간을 더하면 우리나라의 시각이 된다. 목요일 오후 2시(14시)에 9시간을 더하면 목요일 오후 11시(23시)이다.

우공비 Note

해결의 실마리

우리나라의 표준시는 본초 자오선보다 9시간 빠름

+

로스앤젤레스의 표준시는 본초 자오선보다 8시간 늦음

↓

우리나라와 로스앤젤레스의 시차는 17시간

↓

8/3 오전 10시+17시간(시차)=8/4 오전 3시

↓

8/4 오전 3시+14시간(비행시간)=8/4 오후 5시

지도의 목적

- 지도를 통한 위치 파악
- 다른 지역의 자연환경과 인문 환경의 특징 파악
- 지리적 현상의 분포 특징 파악

18

예시답안 지구는 둥근 모양이므로 태양으로부터 지표면에 도달하는 일사량이 위도에 따라 차이가 나기 때문이다. 즉, 저위도(적도 부근)는 햇빛이 거의 수직으로 닿아 기온이 가장 높고, 고위도 지역으로 갈수록 햇빛을 비스듬히 받아 기온이 낮아진다.

채점기준	등급	평가 기준
상	상	지구가 둥글기 때문에 위도에 따라 일사량의 차이가 나타나 저위도(적도 부근)에서 고위도로 갈수록 기온이 낮아진다고 옳게 서술한 경우
	하	단순히 지구가 둥글기 때문이라고만 서술한 경우

19

예시답안 지구의 자전축이 23.5° 기울어진 상태로 태양 주위를 공전하여 남반구와 북반구 중위도 지역의 계절이 반대로 나타나기 때문이다.

채점기준	등급	평가 기준
상	상	자전축이 기울어진 채 공전하므로 북반구와 남반구 중위도 지역의 계절이 반대로 나타난다고 옳게 서술한 경우
	하	지구가 기울어진 채로 공전하기 때문이라고만 서술한 경우

20

예시답안 우리나라는 북반구의 중위도에 위치하여 온대 기후와 냉대 기후가 나타나고, 본초 자오선이 지나는 영국보다 9시간이 빠른 시간대를 사용한다.

채점기준	등급	평가 기준
상	상	위도 및 경도와 관련된 특징을 모두 옳게 서술한 경우
	하	위도와 관련된 특징과 경도와 관련된 특징 중 한 가지만 옳게 서술한 경우

대단원 완성문제

▶ 기본학습서 023~026쪽

01 ③ 02 ③ 03 ⑤ 04 ④ 05 ⑤ 06 ② 07 ②
08 ④ 09 ⑤ 10 ① 11 ① 12 ② 13 ⑤ 14 ④
15 ② 16 ⑤ 17 해설 참조 18 해설 참조 19 해설 참조 20 해설 참조

01

지도는 복잡한 지표면의 실제 모습을 그대로 담아낼 수는 없다. 하지만, 축척, 방위, 기호 등과 같이 정해진 규칙을 이용하면 지도를 통해 실제 지표의 다양한 자연환경과 인문 환경에 대한 지리 정보를 파악할 수 있다.

02

지도에 실제 지역을 작게 줄여 나타낸 비율을 축척, 지도 상에 동서남북의 방향을 알려주는 것을 방위, 지표면의 여러 가지 현상을 지도에 표현하기 위해 간단하게 나타낸 것을 기호라고 한다.

03

지도는 국가의 크기를 인구수에 비례하여 표현한 통계 지도이다. 통계 지도는 주제를 확실하게 표현하고 있어 지도의 내용을 쉽고 빠르게 파악하는 데 유리하다.

오답풀이 ① 통계 지도는 주제도에 속한다. ② 통계 자료의 내용에 따라 국가나 지역의 형태가 실제와 다르게 표현되었다. ③ 인구 분포는 지역의 인문 환경과 관계가 있다. ④ 국가의 크기를 국가별 인구수와 비례하여 다각형을 이용하여 표현하고 있다.

04

지도의 A는 남아메리카의 열대 밀림 사이를 흐르는 아마존강이다. 아마존강은 안데스산맥에서 발원하며, 세계에서 유량이 가장 많은 하천이다.

오답풀이 ① 미국과 캐나다의 국경에 위치한 오대호이며, 나이아가라 폭포를 볼 수 있다. ② 유럽에 위치한 마터 호른으로, 몽블랑산과 함께 알프스산맥에 위치한 유명한 산이다. ③ 아프리카 북부에 펼쳐져 있는 사하라 사막으로 세계에서 가장 넓은 사막이다. ⑤ 유럽의 덴마크에 속해 있는 그린란드로, 세계에서 가장 큰 섬이며, 오로라를 볼 수 있는 곳이다.

05

일반도를 통해 대륙과 해양의 분포, 국가와 도시, 주요 산맥과 하천 등의 위치를 파악할 수 있다. 대서양은 유럽, 아프리카, 북아메리카, 남아메리카 대륙에 둘러싸여 있는 해양이다.

문제자료 뜯어보기



오답풀이 ① 아프리카의 북부에는 사하라 사막이, 남부에는 칼라하리 사막이 분포한다. ② 오스트레일리아는 태평양과 인도양 사이에 위치한다. ③ 우리나라는 아시아 대륙의 동안에 위치한다. ④ 아메리카 대륙의 서쪽에는 로키 산맥과 안데스산맥이 길게 뻗어 있다.

06

1인당 국내 총생산은 한 나라의 국내 총생산을 그 나라의 인구수로 나눈 것으로, 국민 한 명의 평균적인 소득 수준을 나타내는 지표이다. 제시된 지도는 색을 이용하여 국가별 1인당 국내 총생산을 단계별로 구분한 통계 지도이다. 1인당 국내 총생산이 많은 국가일수록 지도상에 짙은 색으로 나타나 있다. 중국은 1인당 국내 총생산이 2,500~10,000 달러 사이이고, 우리나라와 일본은 25,000 달러 이상이다.

위도별 기본 특성

저위도	햇빛이 수직으로 닿아 기온이 높음
중위도	공전 주기에 따른 계절의 변화
고위도	햇빛이 비스듬히 닿아 기온이 낮음

일반도

- 지역의 지리 정보를 종합적으로 나타낸 지도
- 지형도, 세계 지도, 우리나라 지도 등

세계의 시간 설정

- 기준 : 본초 자오선
- 경도 15°=1시간
- 동반구 : 본초 자오선보다 빠른 시간
- 서반구 : 본초 자오선보다 늦은 시간
- 날짜 변경선 : 경도 180° 부근
- 우리나라 표준시 : 동경 135° → 영국보다 9시간 빠름

로 아시아에서 1인당 국내 총생산이 가장 많은 국가가 중국이라는 내용은 옳지 않다.

07

자신이 사는 지역이나 특정 장소와 같이 좁은 지역의 위치를 표현할 때는 주소, 랜드마크, 건물·상점 등 지형지물을 이용해 설명하는 방법이 적절하다.

오답풀이 ① 위도와 경도는 공간 규모에 상관없이 정확한 위치를 알 수 있다는 장점이 있으나, 일상생활에서 위도와 경도는 잘 활용하지 않으므로 우리 동네를 표현하는 데는 적합하지 않다. ③ 주소 체계는 나라마다 다르다. ④ 우리나라는 2014년부터 지번 체계에서 도로명 주소 체계로 주소 체계를 바꿔 사용하고 있다. ⑤ 대륙과 해양을 이용해 위치를 설명할 때는 국가 수준의 공간 범위가 적당하다.

08

본초 자오선은 영국 런던의 그리니치 천문대를 지나는 경도 0°를 말하며, 이를 기준으로 동쪽은 동경(E), 서쪽은 서경(W)으로 구분한다.

09

지구가 둥근 모양이므로 태양으로부터 지표면에 도달하는 일사량은 위도에 따라 차이가 난다. C와 같이 햇빛이 거의 수직으로 닿는 적도 부근은 태양 에너지를 집중적으로 받아 기온이 가장 높다. A와 같이 햇빛이 비스듬히 닿는 고위도는 일사량이 적어 기온이 낮다. 반면, B는 중위도 지역으로 온대 기후와 냉대 기후가 나타난다.

10

(가) 시기에는 북반구가 여름, 남반구가 겨울이고, (나) 시기에는 북반구가 겨울, 남반구가 여름이다. 지도의 A는 북반구의 중위도, B는 적도, C는 남반구의 중위도 지역이다. 낮의 길이는 하지 무렵인 여름철에 더 길게 나타나므로, 북반구는 (가) 시기에, 남반구는 (나) 시기에 더 길다.

오답풀이 ② 남반구인 C 지역의 크리스마스는 (나) 시기에 속해 있다. ③ B는 적도 지역이므로 연중 일사량이 많고 기온이 높아 열대 기후가 나타난다. ④ A 지역은 (나) 시기보다 (가) 시기에 일사량이 더 많다. ⑤ A 지역이 C 지역으로부터 과일을 수입하는 시기는 A 지역이 겨울이고 C 지역이 여름인 (나) 시기이다.

11

매일 낮과 밤이 번갈아 나타나는 이유는 지구가 24시간마다 한 바퀴씩 자전을 하기 때문이다. 이로 인해 경도 15°마다 1시간의 시차가 발생한다. ($360^\circ \div 24 = 15^\circ$)

12

표준시는 각 국가나 지방에서 사용하는 통일된 표준 시각이다. 본초 자오선을 기준으로 동쪽으로 가면 날짜 변경선까지 경도 15°마다 1시간씩 빨라지고, 서쪽으로 가면 1시간

씩 늦어진다.

오답풀이 ① 중국은 경도의 차이로 본래 5개의 시간대를 사용해야 하나, 정치적인 이유로 1개의 시간대를 사용한다. ③ 해가 가장 빨리 뜨는 곳은 날짜 변경선의 서쪽에 위치한 국가들이다. ④ 본초 자오선과 날짜 변경선은 경도 상 180° 차이가 나므로 시차는 12시간이다. ⑤ 서울-런던은 9시간, 런던-로스앤젤레스는 8시간의 시차가 난다.

13

‘이 도시’의 시간이 우리나라보다 12시간 늦은 것으로 보아 경도가 약 180° 정도 차이이고 우리나라보다 서쪽에 위치하는 도시이다. 이에 해당하는 도시는 리우데자네이루이다.

문제자료 뜯어보기



14

인터넷 전자 지도는 다양한 형태로 이용이 가능하며, 다양한 축척 변환이 가능하여 지도의 확대와 축소가 쉽다. 또한, 지도의 저장·가공·출력이 편리하고, 원하는 정보를 신속하게 찾을 수 있어 최근 이용이 증가하고 있다.

- 인터넷 전자 지도의 특징
 - 손쉽게 정보 획득
 - 지도의 축소·확대, 저장 등이 가능

15

버스 도착 안내 시스템이나 스마트폰의 길 안내 시스템 등은 지리 정보 기술이 다양한 정보 통신 기술과 결합되어 일상생활에 유용하게 사용되고 있는 사례이다.

- 지리 정보 기술의 이용
 - 개인 : 빠른 길 찾기, 버스 도착 예정 시각 검색, 자신이 있는 곳의 정보 검색 등
 - 국가 : 국가 재난·재해 관리, 국토 및 환경 관리, 교통 관리 등의 정책 결정

16

오늘날 지리 정보 체계(GIS)는 일상생활 및 공공 분야에 폭넓게 사용되며, 효율적인 공간적 의사 결정에 활용되고 있다.

17

예시답안 지도는 전 세계 인구 분포의 차이를 단계별로 색을 다르게 하여 표현하였다. 짙은 색일수록 인구 밀도가 높은 것을 나타내므로 세계에서 인구 밀도가 높은 대륙은 유럽과 아시아이다.

채점 기준	등급	평가 기준
	상	인구 분포의 차이를 색을 이용하여 표현했다고 설명하고, 인구 밀도가 높은 대륙을 옳게 서술한 경우
	하	인구 분포의 차이를 색을 이용하여 표현하였으나, 인구 밀도가 높은 대륙을 서술하지 못한 경우

18

예시답안 지구의 자전축이 23.5° 기울어진 채로 공전함에 따라 남반구와 북반구에서 계절이 반대로 나타난다. 이로 인해 남반구와 북반구의 농산물 수확 시기가 달라 농산물 거래가 이루어지고, 북반구의 겨울철에 많은 관광객이 따뜻한 남반구로 이동한다.

채점 기준	등급	평가 기준
	상	남반구와 북반구의 계절이 반대로 나타난다고 쓰고, 이로 인한 인간 생활 모습을 두 가지 모두 옳게 서술한 경우
	하	남반구와 북반구의 계절이 반대로 나타난다고 쓰고, 이로 인한 인간 생활 모습을 한 가지만 서술한 경우

19

예시답안 러시아는 국토가 동서 방향으로 길어 경도 차가 크게 나타나기 때문에 여러 개의 표준시를 사용한다. 반면, 칠레는 국토가 남북으로 길어 경도 차가 크지 않기에 단일 시간대를 사용한다.

채점기준	등급	평가 기준
	상	러시아는 국토가 동서 방향으로 길어 경도 차가 발생하기 때문이고, 칠레는 국토가 남북 방향으로 길어 경도 차가 크지 않기 때문이라고 옳게 서술한 경우
	하	러시아와 칠레의 표준시에 대한 설명 중 한 가지만 옳게 서술한 경우

20

예시답안 표준시 개정에 찬성한다. 동경 135°를 지나는 표준시를 사용함으로써 우리나라는 동경 127.5°보다 30분 빠른 생활을 하고 있다. 즉, 우리나라에서 하루 중 해가 가장 높이 뜨는 시각은 12시가 아니라 12시 30분인 것이다. 동경 135°를 표준시로 사용하는 것은 일제 강점기에 일본에 의해 정해진 것이다. 따라서 실제 시각과 일치하는 사람들의 생활 패턴과 역사를 바로잡기 위해 표준시를 127.5°로 개정하는 것이 옳다.

표준시 개정에 반대한다. 동경 135°를 지나는 표준시를 사용함으로써 우리나라는 동경 127.5°보다 30분 빠른 생활을 하고 있다. 실제 시각과 사람들의 생체 리듬이 일치하지는 않지만, 지금까지 사용해 오던 표준시를 갑자기 변경하게 되면 이미 체결된 각종 국제적 계약을 수정해야 하는 문제가 발생하게 된다. 또한, 한 시간 단위로 시차를 계산하는 국제적 관례에서도 벗어나게 된다. 따라서 국제적인 시간 환산의 편리성과 시간 변동으로 인한 사회·경제적 혼란을 막기 위해 현재의 표준시를 그대로 사용하는 것이 옳다.

채점기준	등급	평가 기준
	상	개의 상황으로 인해 나타난 시차와 표준시 개정에 대한 찬반 의견 및 그 근거를 옳게 서술한 경우
	중	개의 상황으로 인해 나타난 시차와 표준시 개정에 대한 찬반 의견을 서술했으나 그 근거가 미흡한 경우
	하	개의 상황으로 인해 나타난 시차와 표준시 개정에 대한 찬반 의견 및 그 근거를 미흡하게 서술한 경우

II 우리와 다른 기후, 다른 생활

1 세계의 기후 지역 구분

2 열대 우림 기후 지역의 생활 모습

학교시험 걱정 문제

▶ 기본학습서 032~035쪽

- 01 ① 02 ⑤ 03 ② 04 ⑤ 05 ③ 06 ②
07 ④ 08 ② 09 ⑤ 10 ② 11 ⑤ 12 ③
13 ⑤ 14 ③ 15 고산 기후 16 스콜 17 (나)-(다)
-가 18 해설 참조 19 해설 참조 20 해설 참조

01

세계 기후는 저위도에서 고위도로 갈수록 기온이 낮아지며, 적도 부근의 기온이 가장 높게 나타난다. 강수량은 적도 부근과 해안 부근에서 많다. 반면, 위도 20°~30° 부근, 극지방, 대륙 내부는 강수량이 적은데, 특히 남·북회귀선 부근인 위도 20° 부근은 강수량이 매우 적어 건조 기후가 나타난다.

오답풀이 ② 기후 분포는 위도와 대체적으로 평행하게 나타난다. ③ 고위도로 갈수록 기온은 낮아진다. ④ 위도 20° 부근은 강수량이 매우 적은 건조한 지역이다. ⑤ 저위도에 가까울수록 기온은 높아진다.

02

(가)는 열대 기후 지역의 경관이다. 따라서 열대 우림 기후 지역인 D(마나우스)와 연결할 수 있다. (나)는 한대 기후 지역의 경관이다. 이는 툰드라 기후 지역인 C(베로)와 연결할 수 있다.

오답풀이 A는 건조 기후 지역인 카이로, B는 온대 계절풍 기후 지역인 서울이다.

03

기후 그래프는 어느 지역의 기후 상태를 종합적으로 알 수 있는 자료로, 해당 기후 지역의 기후 특성 및 식생, 농업 등 다양한 현상을 파악하는 데 매우 유용한 자료이다.

04

기후 그래프에서 월평균 기온은 꺾은선 그래프로, 월 강수량은 막대 그래프로 표현한다. 기후 그래프는 지역에 따라 형태가 다양하게 나타나기 때문에 지역의 기후 특징을 파악하는 데 매우 유용하다.

오답풀이 ㄱ. 일교차는 하루 중 최고 기온과 최저 기온의 차이를 일컫는 말이며, 기후 그래프로는 알 수 없다. ㄴ. 연교차는 최난월 평균 기온과 최한월 평균 기온의 차이를 일컫는 말로, 기후 그래프의 꺾은선 그래프를 이용하여 알 수 있다.

해결의 실마리

인간 거주
필수 조건



농업 활동을
통한 의식주 해결



농업에 유리한
기후



냉·온대 기후

기후에 따른 식생

- 열대 기후: 울창한 삼림으로 이루어진 밀림
- 건조 기후: 사막과 초원
- 온대 기후: 혼합림
- 냉대 기후: 침엽수림(타이가)
- 한대 기후: 툰드라

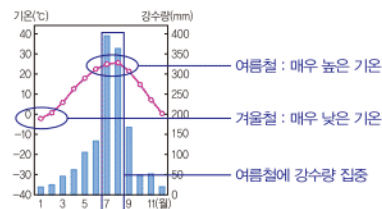
이동식 화전 농업

- 지역: 열대 우림 기후의 삼림 지역
- 방법: 숲에 불을 놓아 2~3년을 주기로 이동하며 농업 활동
- 원인: 농경지 확보와 거름 이용
- 작물: 카시바, 암 등을 자급적으로 재배

05

제시된 그래프는 우리나라 서울의 기후 그래프로, 여름철은 비교적 기온이 높고 강수량이 많으며, 겨울철은 기온이 낮고 강수량도 적다는 것을 알 수 있다.

문제자료 뜯어보기



06

기후 조건은 인간 거주 조건과 밀접한 관련이 있다. 특히, 기온이 온화하고 강수량이 적절한 냉·온대 기후 지역은 농업 및 다양한 인간 활동에 유리한 지역으로, 인간 거주에 유리한 조건을 형성하고 있다. 반면, 너무 덥거나 추운 지역, 강수량이 적은 지역은 농업 활동 및 인간 활동이 어려워 인간 거주에 불리한 조건으로 작용하고 있다.

07

일 년 중 기온이 가장 낮은 달의 평균 기온이 18℃ 이상인 곳은 연중 기온이 높은 열대 기후 지역에 해당한다. 지구 상에서 열대 기후가 나타나는 곳은 적도 주변 지역이며, 그 중 밀림이 형성되는 곳은 아프리카 콩고 분지, 동남아시아 열대, 아마존강 유역(D)이 대표적이다.

08

연중 기온이 높고 강수량이 많은 열대 우림 기후 지역에서는 해충의 피해를 막고 지면의 열기와 습기를 차단하기 위해 고상 가옥이 발달하였다.

문제자료 뜯어보기



09

이동식 화전 농업은 숲에 불을 놓아 농경지를 개간하고 카시바, 암을 재배하는 전통적 농업 방식이다. 열대 우림 기후 지역은 삼림이 울창하고 토양이 척박하여 농경지 확보가 어렵기 때문에 숲에 불을 지른 후 남은 재를 거름으로 활용하여 농경지를 확보한다. 2~3년 후, 토양이 다시 척박해지면 다른 곳으로 이동해 다시 이를 반복한다.

10

플랜테이션은 열대 기후 지역에서 선진국의 자본과 원주민의 노동력이 결합되어 열대 상품 작물을 대규모로 재배하는 농업 방식이다.

오답풀이 ❌ 나. 수출할 목적으로 상품 작물을 재배한다. 르. 플랜테이션의 확대로 식량 재배지가 감소하고 있다.

11

지도에 표시된 카카오, 바나나, 기름야자, 천연고무 등은 열대 기후 지역에서 플랜테이션의 형태로 재배되는 열대 상품 작물이다. 플랜테이션의 확대로 농경지 확보를 위해 열대 우림이 파괴되면서 환경 문제가 발생하고 있다.

오답풀이 ❌ ① 플랜테이션으로 재배되고 있는 작물들이다. ② 열대 지역에서 생산되어 대부분 선진국으로 수출되고 있다. ③ 이동식 화전 농업의 특징이다. ④ 선진국의 자본과 기술을 이용하지만, 작물 재배에 원주민의 많은 노동력이 투입되고 있다.

12

최근 열대 우림 기후 지역은 농업 및 자원 개발로 인해 밀림이 파괴되면서, 원주민의 생활 근거지 파괴, 환경 오염 및 생태계 파괴가 빠르게 진행되고 있다. ③ 장기간의 가뭄으로 사막화가 진행되는 것은 사하라 사막 주변의 사헬 지대와 관련되는 내용이다.

13

열대 우림 기후 지역에서는 울창한 열대 밀림이 형성되고 전통적 농업 방식인 이동식 화전 농업이 이루어지기도 한다. 주민들은 주로 고상 가옥이나 수상 가옥에 거주하며, 무더위에 적응하기 위해 얇고 간편한 옷을 입는다. ⑤ 서안 해양성 기후 지역에서 주로 나타나는 목축업이다.

14

말레이시아의 쿠알라룸푸르, 싱가포르, 브라질 마나우스 등은 열대 우림 기후 지역에 발달한 대표적인 도시들이다. 이들 도시는 편리한 교통 조건과 풍부한 자원을 바탕으로 중계무역, 금융 산업, 관광 산업 등이 발달한 세계적인 도시로 성장하였다.

열대 우림 기후 지역의 도시

- 도시 : 싱가포르, 말레이시아 쿠알라룸푸르, 브라질 마나우스 등
- 성장 배경 : 편리한 교통 조건, 풍부한 자원
- 발달 산업 : 중계 무역, 금융 산업 등

15

고산 기후는 적도 부근의 해발 고도 2,000m 이상에 나타나는 기후로, 연중 봄날과 같이 온화하여 인간이 거주하기에 유리하다.

16

열대 우림 기후 지역은 강수량이 많은 지역이다. 열대 우림 기후 지역에서는 낮 동안 뜨거워진 지면의 열기가 상승하면서 매일 오후에 소나기와 같은 비가 내리기 때문이다. 이를 스콜이라고 한다.

스콜

- 강한 태양열에 의해 대류된 공기가 상승하여 구름을 만들고 비를 내리게 함
- 열대 우림 기후 지역은 매일 오후 대류성 강수인 스콜이 내림
- 우리나라 여름철의 소나기도 발생 원리가 비슷한

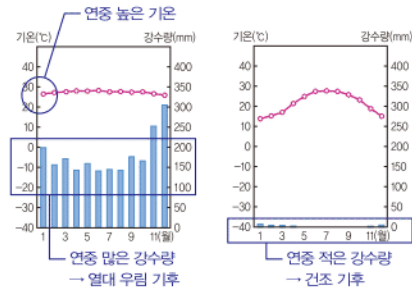
17

(가)는 연중 기온이 낮은 한대 기후, (나)는 연중 기온이 높은 열대 기후, (다)는 침엽수림이 발달한 냉대 기후 지역의 모습이다.

18

예시답안 (가)는 열대 우림 기후 지역으로 일 년 내내 덥고 습하기 때문에 인간 활동에 불리하고, (나)는 건조 기후 지역으로 강수량이 부족하여 식량 생산이 어렵기 때문에 인간 거주에 불리하다.

문제자료 뜯어보기



채점기준	등급	평가기준
	상	(가), (나) 두 지역의 기후 조건과 관련하여 인간 거주에 대해 옳게 서술한 경우
	중	(가), (나) 두 지역의 기후 조건과 인간 거주 특징 중 한 가지만 서술한 경우
	하	단순히 인간이 생활하기에 불리한 기후가 나타난다고만 서술한 경우

19

예시답안 연중 고온 다습한 열대 우림 기후 지역에서는 고상 가옥을 짓는데, 이는 지면에서 올라오는 열기와 습기를 차단하고 해충의 피해를 막기 위해서이다. 이러한 가옥은 창문을 크게 하여 통풍이 잘 되게 하고, 지붕의 경사를 급하게 만들어 많은 강수량에 대비한다.

채점기준	등급	평가기준
	상	고상 가옥이 형성되는 이유, 창문의 크기, 지붕의 특징을 모두 옳게 서술한 경우
	중	위의 요소 중 두 가지만을 서술한 경우
	하	위의 요소 중 한 가지의 내용만을 서술한 경우

20

예시답안 플랜테이션은 열대 기후 지역에서 선진국의 자본 및 기술과 원주민의 노동력이 결합하여 이루어지는 농업 형태이다. 주로 천연고무, 카카오, 기름야자, 바나나 등의 열대 상품 작물을 대량으로 재배한다.

채점기준	등급	평가기준
	상	기후, 자본 및 기술, 노동력, 재배 작물을 옳게 서술한 경우
	중	위의 요소 중 세 가지를 옳게 서술한 경우
	하	위의 요소 중 두 가지 이하의 내용만을 서술한 경우

3 온대 기후 지역의 생활 모습

학교 내형 격중 문제

▶ 기본학습서 038~041쪽

- 01 ③ 02 ⑤ 03 ④ 04 ① 05 ① 06 ②
07 ① 08 ② 09 ④ 10 ③ 11 ① 12 ④
13 ① 14 ① 15 편서풍 16 A-수목, B-곡물
17 온대 계절풍 18 해설 참조 19 해설 참조 20 해
설 참조

01

유럽 일대, 동부 아시아, 북아메리카 및 남아메리카 일대 등 중위도 지역에는 온대 기후가 나타난다.

02

온대 기후는 중위도 지역에 나타나며, 기온이 온화하고 강수량이 적당한 기후로, 계절의 변화가 뚜렷하게 나타난다. 따라서 농업 활동 및 다양한 인간 활동에 유리한 조건을 가지고 있어 세계적인 인구 조밀 지역을 형성하고 있다.

03

지도의 ㉠은 서안 해양성 기후가 나타나는 대륙 서안, ㉡은 온대 계절풍 기후가 나타나는 대륙 동안이다. 서안 해양성 기후에 영향을 미치는 바람은 편서풍이고, 온대 계절풍 기후 지역에 영향을 미치는 바람은 계절풍이다.

04

제시된 그래프는 여름은 서늘하고 겨울은 온화하며 연중 강수량이 고르게 내리는 서안 해양성 기후의 기후 그래프이다. 서안 해양성 기후는 북서 유럽을 중심으로 나타나며, 난류와 편서풍의 영향으로 나타난다.

05

서안 해양성 기후 지역은 서늘한 기후를 바탕으로 낙농업과 원예 농업이 발달하여 우유나 치즈 등의 유제품 생산에 유리하고, 겨울철에도 기온이 온화하여 초목색의 천연 잔디를 볼 수 있다. 또한, 연중 강수량이 고르기 때문에 하천의 수위 변화가 작아 수상 교통이 발달하였으며, 비오는 날이 많으므로 주민들은 우산을 필수품으로 챙긴다.

06

서안 해양성 기후가 나타나는 지역은 기후가 서늘하여 목초 재배에 유리하기 때문에, 가축 사육과 곡물 재배를 함께 하는 혼합 농업이 주로 이루어지고 있다.

07

서안 해양성 기후 지역은 난류와 편서풍의 영향으로 흐리고 비오는 날이 많다. 따라서 날씨가 화창할 때면 많은 사람들이 일광욕을 즐긴다.

우공비 Note

지중해성 기후

- 여름 : 고온 건조
- 겨울 : 온난 습윤
- 강수량 : 여름 < 겨울
- 농업 : 여름-수목 농업, 겨울-곡물 농업

해결의 실마리

지중해 연안의 여름

▶ 맑고 건조 강한 일사량

▶ 흰색 → 햇빛 반사

▶ 흰색 건축물

편서풍과 계절풍

- 편서풍 : 남·북위 30° ~ 60°의 중위도 지방에서 일 년 내내 서쪽에서 동쪽으로 부는 바람
- 계절풍 : 계절에 따라 주기적으로 방향이 바뀌는 바람. 여름에는 바다에서 대륙으로, 겨울에는 대륙에서 바다로 불

우리나라의 계절풍

- 여름 : 고온 다습한 남동 계절풍 → 기온이 높고 강수량이 많은 계절
- 겨울 : 한랭 건조한 북서 계절풍 → 기온이 낮고 건조한 계절

08

지중해성 기후는 여름철 기온이 매우 높고 겨울철은 온화하며, 여름철보다 겨울철의 강수량이 많은 것이 특징이다.

오답풀이 ㄴ. 서안 해양성 기후에 대한 설명이다. ㄹ. 교통 조건을 바탕으로 발달하는 산업은 중계 무역, 금융 산업 등으로 지중해성 기후에 대한 설명은 아니다.

09

지중해성 기후 지역에서는 여름철 고온 건조한 기후에 잘 견디는 포도, 올리브, 오렌지 등의 작물을 재배하는 수목 농업이 이루어지며, 온난 습윤한 겨울철에는 밀 등 곡물을 재배하는 것이 특징이다.

10

지중해성 기후 지역에서 이루어지는 수목 농업의 주요 작물은 포도, 올리브, 오렌지, 코르크 등이다.

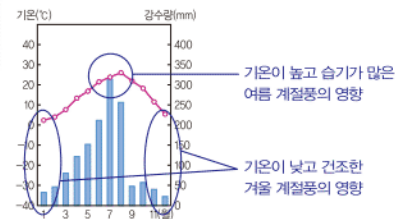
11

지중해성 기후 지역은 여름이 맑고 햇빛이 강한 것이 특징이다. 이러한 특징을 반영하듯 그리스 산토리니 지역에서는 강한 햇빛을 반사하기 위해 건물을 흰색으로 칠하고 있다. 이와 같은 독특한 경관은 관광 자원으로 활용되고 있다.

12

우리나라와 같은 대륙 동안 지역은 계절에 따라 바람의 방향과 성격이 달라지는 계절풍의 영향을 주로 받는다.

문제자료 뜯어보기



13

온대 계절풍 기후 지역에서는 여름철 고온 다습한 기후에 잘 자라는 벼농사가 주로 이루어지고 있다.

오답풀이 ㄹ. 서안 해양성 기후 지역에서 볼 수 있는 낙농업의 모습이다. ㉠ 건조 기후 지역에서 볼 수 있는 오아시스 농업의 모습이다. ㉡ 열대 우림 기후 지역에서 볼 수 있는 이동식 화전 농업의 모습이다. ㉢ 열대 우림 기후 지역에서 볼 수 있는 플랜테이션의 모습이다.

14

온대 계절풍 기후 지역은 여름이 고온 다습하며 겨울이 한랭 건조하여 기온의 연교차가 크고, 계절에 따른 강수량의 차가 매우 크다.

오답풀이 ㄹ. 온대 계절풍 기후 지역은 계절에 따른 강수

량 차이가 매우 큰 지역이다. ③ 온대 기후 중 연교차가 가장 작은 기후는 서안 해양성 기후이며, 연교차가 가장 큰 기후는 온대 계절풍 기후이다. ④ 와인을 제조하기에 유리한 기후는 지중해성 기후이다. ⑤ 온대 계절풍 기후 지역은 계절에 따른 강수량의 변동이 커서 하천 수위의 변화가 심하기 때문에 하천을 이용한 교통 발달에 불리한 편이다.

15

중위도 지역에서 일 년 내내 서쪽에서 동쪽으로 부는 바람을 편서풍이라고 한다. 편서풍은 대륙 서쪽에 영향을 미쳐 연중 온화한 기후가 나타나는 원인이 되고 있다.

16

지중해성 기후 지역에서는 여름철에 고온 건조한 기후에 잘 견디는 포도, 올리브 등을 재배하는 수목 농업이 이루어지고, 온난 습윤한 겨울철에는 곡물 농업이 이루어진다.

17

온대 계절풍 기후 지역은 계절에 따라 성격이 다른 계절풍의 영향으로 여름철에는 고온 다습하고, 겨울철에는 한랭 건조한 기후 특징이 나타난다.

18

예시답안 여름은 덥고 겨울은 온화하며, 여름보다 겨울에 강수량이 더 많다.

채점기준	등급	평가 기준
	상	여름과 겨울 기온 특징, 계절에 따른 강수량 특징을 모두 올바르게 서술한 경우
	하	여름과 겨울 기온 특징, 계절에 따른 강수량 특징 중 한 가지만을 옳게 서술한 경우

19

예시답안 여름은 서늘하고 겨울은 온화하며, 연중 강수량이 고른 서안 해양성 기후 지역에서는 가축 사육과 곡물 재배를 함께 하는 혼합 농업이 이루어진다.

채점기준	등급	평가 기준
	상	기온과 강수량의 특징을 모두 옳게 서술한 경우
	중	기온과 강수량의 특징 중 한 가지만 옳게 서술한 경우
	하	기온과 강수량의 구분 없이 서술한 경우

20

예시답안 우리나라는 겨울이 길고 추위 채소를 먹기 어렵다. 이러한 이유로 배추를 절여 긴 겨울 동안 채소를 먹기 위해 김장과 같은 문화가 나타나게 되었다.

채점기준	등급	평가 기준
	상	기후 특징을 설명하고, 이와 관련하여 김장 문화가 나타나는 이유를 옳게 서술한 경우
	중	기후 특징과 김장 문화를 서술하였으나, 연관성을 옳게 서술하지 못한 경우
	하	기후 특징과 김장 문화에 대한 내용을 서술하지 못한 경우

건조 기후 지역

- 분포 : 남·북위 20° 부근, 대륙 내부
- 특징 : 연 강수량 500mm 미만, 연교차 < 일교차, 강수량 < 증발량
- 식생 : 사막, 초원
- 주민 생활 : 활량하고 긴 옷, 작은 창문, 두꺼운 벽, 평평한 지붕의 흙벽돌집

서안 해양성 기후의 형성 원인

- 난류 : 따뜻한 바닷물의 영향으로 겨울철에도 기온이 온화하게 나타난다.
- 편서풍 : 남서쪽의 바다에서 불어오는 편서풍의 영향으로 온화하고 습윤한 바람이 불어 연중 강수량이 고르게 내린다.

4 건조 기후 지역과 툰드라 기후 지역의 생활 모습

학교시험격중 문제

▶ 기본학습서 044~047쪽

- 01 ② 02 ② 03 ① 04 ④ 05 ⑤ 06 ③
07 ⑤ 08 ③ 09 ① 10 ② 11 ② 12 ④
13 ③ 14 ③ 15 A-사막, B-스텝 16 영구 동토층
17 A-유목, B-관개 농업 18 해설 참조 19 해설 참조
20 해설 참조

01

건조 기후는 연 강수량 500mm 미만으로, 강수량이 매우 적고 기온의 연교차보다 일교차가 크며, 강수량보다 증발량이 큰 것이 특징이다.

02

건조 기후 지역에서는 큰 일교차와 모래바람 등을 막기 위해 창문은 작고 벽은 두꺼우며, 지붕은 평평한 흙벽돌집이 발달한다. 또한, 그늘을 만들기 위해 가옥과 가옥의 거리가 매우 가까운 것이 특징이다.

03

강수량이 250~500mm 사이의 초원 지역에서는 가축에게 먹일 물과 풀을 찾아 이동하는 유목이 발달하였다. 따라서 이에 편리한 이동식 가옥이 발달하였다.

문제자료 뜯어보기



대표적인 이동식 가옥인 몽골의 게르요. 쉽게 이동하기 위해 만든 이 가옥은 나무, 가축의 털이나 가죽 등을 이용하여 만들어져요.

04

건조한 사막에서는 농업이 불리하다. 그러나 물이 솟아나는 오아시스 주변에서는 밀과 대추야자 등을 재배하는 오아시스 농업이 이루어지고 있다.

05

낙타는 건조한 기후에 잘 적응할 수 있는 구조를 가지고 있으며, 순록은 추운 기후에 잘 견딜 수 있는 구조를 가지고 있다.

우답풀이 ① 순록만을 설명하는 내용이다. ② 낙타만을 설명하는 내용이다. ③ 기업적 목축으로는 소나 양을 사육한다. ④ 낙타와 순록 모두 해당 지역에서 매우 유용하게 활용된다.

06

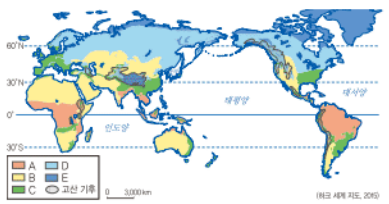
툰드라 기후 지역은 연중 기온이 낮은 지역으로, 짧은 여름 동안에만 풀과 이끼류가 자란다. 이러한 식생을 툰드라라고 한다.

오답풀이 ① 강수량보다 증발량이 많은 지역은 건조 기후 지역이다. ② 대규모 침엽수림이 형성되는 지역은 냉대 기후 지역이다. ④ 백야 현상은 극지방의 여름철에만 나타난다. ⑤ 고산 기후는 적도 부근의 고산 지대에서 나타난다.

07

툰드라 기후 지역은 극지방을 중심으로 고위도 지역에 나타난다.

문제자료 뜯어보기



A-열대 기후, B-건조 기후, C-온대 기후, D-냉대 기후, E-한대 기후
세계의 기후는 일반적으로 위도와 평행하게 나타나요. 적도에서 극지방으로 가면서 열대 기후, 온대 기후, 냉대 기후, 한대 기후가 순서대로 나타나고 있어요.

08

툰드라 기후 지역은 기온이 낮아 농업이 불가능하다. 따라서 이 지역의 주민들은 주로 순록을 유목하며 생활하고 있다. 순록은 고기와 젖을 얻거나 가죽을 얻는 데 이용되며, 이동 수단으로도 활용된다.

09

툰드라 기후 지역의 주민들은 연료와 땀감이 부족하여 전통적으로 날음식을 주로 먹으며, 훈제, 냉동, 염장 등의 방법으로 음식을 저장한다.

10

얼음으로 만든 이글루는 이누이트족이 수렵과 어로 활동을 할 때 잠시 머물기 위해 만든 임시 가옥이다. 최근에는 기술의 발달로 인해 점차 사라지고 있다.

11

건조 기후 지역은 강수량이 매우 적고, 툰드라 기후 지역은 기온이 매우 낮아 농업 및 인간 거주에 불리한 조건이 형성된다.

12

건조 기후 지역에서는 기술 발달로 관개 수로 개발이 이루어지면서, 대규모 농업이나 목축업이 가능해지고 있다.

13

과거 사막에 불과하였던 서남아시아의 두바이는 석유 자

툰드라 지역의 변화

- 관광 산업 : 얼음 호텔, 빙하 체험 등의 관광 상품 등장
- 자원 개발 : 석유, 천연가스 등의 자원 다량 매장 → 툰드라 생태계의 근원인 이끼 훼손
- 교통의 요지 : 항공 교통과 해상 교통의 요충지

원이 개발되면서 경제가 성장하고 관개 수로를 개발하여 사막에 세계적인 도시를 건설하게 되었다.

14

건조 기후 지역과 툰드라 기후 지역은 최근 석유 등 자원 개발로 인해 많은 변화가 나타나고 있다. 이로 인해 경제가 성장하고 외부로부터 많은 사람들이 유입되고 있으나, 전통문화와 가치관이 훼손되고 환경이 오염되는 등의 부작용이 발생하고 있다.

15

건조 기후는 연 강수량 500mm 미만의 기후를 의미한다. 그 중, 연 강수량이 250mm 미만인 지역은 강수량이 적어 식생이 거의 자라지 못하는 사막 기후가 형성된다. 또한, 연 강수량이 250~500mm인 지역에서는 키가 작은 풀이 자라는 초원이 형성되는데, 이러한 지역의 기후를 스텝 기후라고 한다.

16

영구 동토층이란 땅속 온도가 연중 0℃ 이하를 유지하여 항상 얼어 있는 토양층을 말한다. 툰드라 기후 지역에서는 가옥이나 송유관 등의 구조물을 건설할 때 기둥을 영구 동토층까지 깊게 박아 여름철 땅의 표면이 녹으면서 건물이나 구조물이 붕괴하는 것을 방지한다.

17

스텝 기후 지역에서는 전통적으로 가축을 몰고 물과 풀을 찾아 이동하는 유목 생활이 발달해왔다. 그러나 최근 국경이 공고해지고 대규모 수로가 건설되자 도시가 발달하면서 유목민의 정착이 늘어났다. 이와 함께 일부 초원 지대에서는 관개 농업이 발달하고, 이를 활용한 기업적 농목업이 발달하고 있다.

18

예시답안 사막에 거주하는 주민들은 온몸을 감싸는 험렁한 옷을 주로 입는데, 이는 강한 모래바람과 햇빛으로부터 몸을 보호하고 큰 일교차에 대비하기 위해서이다.

채점기준	등급	평가기준
상	상	의복의 형태와 모래바람, 강한 햇빛, 큰 일교차 내용을 모두 유효게 서술한 경우
	하	의복의 형태와 모래바람, 강한 햇빛, 큰 일교차의 내용 중 두 가지만 유효게 서술한 경우

19

예시답안 툰드라 기후 지역에서는 지면에서 일정한 높이를 띄워서 집을 짓는 고상 가옥이 나타나는데, 이는 여름철 지표 부근의 땅이 녹아 가옥이 붕괴되는 것을 막기 위해서이다.

채점기준	등급	평가기준
상	상	고상 가옥의 특징과 지면 붕괴 내용을 모두 유효게 서술한 경우
	하	고상 가옥의 특징과 지면 붕괴 내용 중 한 가지만 유효게 서술한 경우

해결의 실마리

낮은 기온 → 식생 ×

연료와 땀감 ×

음식을 익혀 먹지 않음

날음식

건조 기후 지역의 경제 생활

- 신대륙 : 기업적 목축업
- 서남아시아와 중앙아시아 : 유목
- 사막 지역 : 오아시스 농업, 관개 농업

20

예시답안 툰드라 기후 지역은 최근 석유 개발과 교통의 발달로 인해 현대적인 생활 모습이 나타나고, 많은 관광객이 증가하고 있다.

채점기준	등급	평가기준
	상	석유 자원 개발, 교통 발달, 관광객 증가의 내용을 모두 옳게 서술한 경우
	하	위 내용 중 한 가지만 옳게 서술한 경우

대단원 완성문제

▶ 기본학습서 051~054쪽

01 ③ 02 ② 03 ① 04 ⑤ 05 ③ 06 ⑤
07 ② 08 ③ 09 ② 10 ② 11 ① 12 ③
13 ③ 14 ① 15 ⑤ 16 ⑤ 17 해설 참조 18 해설 참조 19 해설 참조 20 해설 참조

01

(가)는 강수량이 매우 적은 건조 기후, (나)는 연중 기온이 높고 강수량이 많은 열대 우림 기후, (다)는 기온이 낮고 지표가 얼음으로 덮여 있는 한대 기후 지역의 모습이다. 지도에서 A는 온대 기후, B는 열대 기후, C는 건조 기후, D는 한대 기후, E는 고산 기후 지역에 해당한다.

02

인간 거주에 유리한 기후 지역은 연중 기온이 온화하고 강수량이 적당한 곳으로 다양한 농업 활동이 가능한 온대(A) 및 냉대 기후 지역이나 연중 봄철과 같은 온화한 기후가 나타나는 고산(E) 기후 지역이다.

03

최한월 평균 기온이 18℃ 이상인 기후 지역은 열대 기후 지역이다. 열대 기후 지역은 일반적으로 기온이 높고 강수량이 풍부하다.

04

열대 우림 기후 지역의 가옥은 많은 강수량으로 지붕의 경사가 급하고, 통풍을 위해 창문이 크다. 또한, 해충 피해를 막고 지면의 열기와 습기를 차단하기 위해 고상 가옥의 형태가 나타난다.

오답풀이 ① 온대 기후 지역, ② 건조 기후 지역, ③ 냉대 기후 지역, ④ 한대 기후 지역의 기후 그래프이다.

05

플랜테이션은 열대 기후 지역에서 선진국의 자본과 기술, 원주민의 노동력을 바탕으로 열대 상품 작물을 재배하는 농업 방식이다.

해결의 실마리

편서풍과 난류의 영향



연중 고른 강수량



흐리고 비오는 날씨



우산 준비

인간 거주에 유리한 기후

- 조건 : 기온이 온화하고 강수량이 적당한 지역
- 기후 지역 : 온대 및 냉대 기후, 고산 기후 지역
- 원인 : 다양한 농업 활동과 인간 활동 가능

열대 우림 기후 지역의 주민 생활

- 의 : 짧고 간편한 옷
- 식 : 기름에 튀겨거나 향신료가 많은 음식
- 주 : 고상 가옥
- 농업 : 이동식 화전 농업, 플랜테이션

지중해성 기후 지역의 주민의 생활

- 강한 햇빛을 피하기 위한 선글라스
- 포도 생산으로 와인 관련 산업 발달
- 고대 문명의 많은 유적이 위치하여 많은 관광객 방문
- '시에스타'라는 낮잠 문화 형성

06

열대 우림 기후 지역 중 발달한 도시들은 편리한 교통 조건과 풍부한 자원을 바탕으로 성장하였으며, 특히 중계 무역, 금융 산업, 관광 산업 등이 발달하였다. 대표적인 도시로는 싱가포르, 말레이시아 쿠알라룸푸르, 브라질 마나우스 등이 있다.

07

영국은 편서풍과 난류의 영향으로 서안 해양성 기후가 나타난다. 서안 해양성 기후 지역은 흐리고 비오는 날이 많아 이 지역 주민들은 외출할 때 우산을 필수품으로 챙기며, 맑고 화창한 날씨가 나타날 때에는 일광욕을 즐기는 모습도 볼 수 있다.

오답풀이 ① 온대 계절풍 기후 지역에 대한 설명이다. ③ 건조 기후 지역에 대한 설명이다. ④ 서안 해양성 기후 지역에서 연중 일정한 것은 기온이 아닌 강수량이다. ⑤ 열대 우림 기후 지역과 관련되는 내용이다.

08

서안 해양성 기후 지역에서는 가축 사육과 곡물 농업을 함께 하는 혼합 농업이 이루어지고 있다. 따라서 이 지역 주민들은 빵, 감자, 육류 등을 주식으로 한다.

09

지중해성 기후 지역의 여름철은 매우 덥고 건조하기 때문에 이러한 기후 조건에 잘 견디는 뿌리가 깊은 작물을 재배한다. 대표적인 작물로는 포도, 올리브, 오렌지, 코르크 등이 있다.

오답풀이 ① 치즈나 우유 등을 주로 생산하는 농업은 낙농업이다. ③ 목초와 곡물을 함께 재배하는 농업은 혼합 농업이다. ④ 바나나, 커피 등 상품 작물을 재배하는 농업은 플랜테이션이다. ⑤ 이동식 화전 농업을 통해 카사바와 양 등의 작물을 재배한다.

10

지중해성 기후 지역은 여름철에 일사량이 매우 강하여 햇빛을 반사하기 위해 집을 흰색으로 칠한다. 또한, 여름철 한낮 무더위를 피하기 위해 일부 지역에서는 낮잠을 자는 문화가 나타나기도 하며, 무더위를 식히기 위해 도시 곳곳에는 여러 분수대가 설치되기도 한다. 한편, 겨울철은 여름철에 비하여 온난 습윤하여 밀 등의 곡물 재배가 이루어진다. ② 흙벽돌집 또는 흙집이 나타나는 곳은 건조 기후 지역이다.

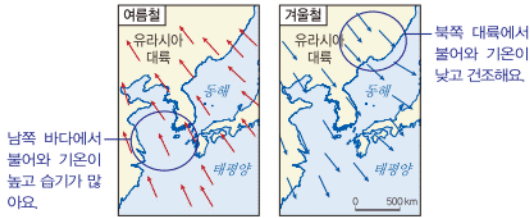
11

계절에 따라 바람의 방향과 성격이 바뀌는 바람을 계절풍이라고 한다. 계절풍이 부는 지역은 여름철 고온 다습한 기후에 잘 자라는 벼농사가 발달하여 쌀밥을 주식으로 한다.

오답풀이 ㄷ. 고상 가옥은 열대 기후 지역이나 한대 기

후 지역에서 나타난다. 즉, 오아시스 농업은 건조 기후 지역에서 주로 행해진다.

문제자료 1. 뜯어보기



12

건조 기후 지역에 발달하는 가옥은 큰 일교차에 대비하고 모래바람을 차단하기 위해 두꺼운 벽, 작은 창문을 가지고 있으며, 그늘을 만들기 위해 건물 사이가 좁은 것이 특징이다. 또한, 주변에서 구하기 쉬운 흙을 이용하여 가옥의 재료로 이용한다.

문제자료 1. 뜯어보기



- 평평한 지붕
- 작은 창문
- 두꺼운 벽
- 건물 사이 좁은 간격
- 재료 : 흙 또는 흙벽돌

13

건조 기후 지역의 주민들은 강한 햇빛으로부터 피부나 머리를 보호하고 큰 일교차에 대비하기 위해 온몸을 감싸는 헝겊 옷을 주로 입는다.

14

툰드라 기후 지역은 연중 기온이 낮지만 짧은 여름철이나 가옥의 난방열로 인해 지면이 녹는 경우가 있고, 이로 인해 가옥이 붕괴되는 일이 발생한다. 이러한 문제점을 해결하기 위해 땅속에 기둥을 박고 지면으로부터 일정한 높이를 띄워 집을 짓는 고상 가옥이 나타난다.

15

툰드라 기후 지역의 주민들은 순록을 통해 고기나 젖, 가죽 등을 얻고, 이동 수단으로도 활용한다. 따라서 이들에게 순록은 매우 중요한 자원이다.

16

툰드라 기후 지역은 연중 기온이 낮고 얼음과 빙하가 많은 지역으로, 교통이 불편하여 사람들의 접근이 잘 이루어지지 않는 곳이었다. 그러나 최근 기술 및 교통수단의 발달, 석유 등의 자원 개발로 인해 도로와 항만이 건설되고 외부로부터 많은 사람들이 들어와 인구가 증가하게 되었다. 이

고상 가옥
 • 열대 기후 지역의 고상 가옥
 → 지열과 습기를 피하고 해충의 접근을 방지하기 위함
 • 한대 기후 지역의 고상 가옥
 → 지표 부근의 땅이 녹아 가옥이 붕괴되는 것을 막기 위함

해결의 실마리



러한 변화로 인해 현대화되고 생활이 편리해지는 등 긍정적인 측면도 있으나, 전통문화가 훼손되거나 환경 오염 및 생태계가 파괴 등의 문제점이 발생하기도 한다.

17

예시답안 열대 우림 기후 지역에서는 음식이 상하는 것을 방지하기 위해 음식을 기름에 튀기거나 향신료를 많이 사용하고 있으며, 무더위로 인해 통풍이 잘 되는 짧고 간편한 옷을 주로 입는다.

채점기준	등급	평가 기준
	상	열대 우림 기후 지역의 음식과 의복 문화에 대한 내용을 모두 옳게 서술한 경우
	하	열대 우림 기후 지역의 음식과 의복 문화에 대한 내용 중 한 가지만 옳게 서술한 경우

18

예시답안 건조 기후(사막) 지역이다. 건조 기후 지역은 강수량보다 증발량이 많고, 기온의 일교차가 매우 크다.

채점기준	등급	평가 기준
	상	건조 기후를 쓰고, 건조 기후의 특징을 옳게 서술한 경우
	하	건조 기후는 썼으나, 건조 기후의 특징은 서술하지 못한 경우

19

예시답안 툰드라 기후 지역이다. 툰드라 기후 지역은 연중 기온이 낮은 곳으로, 짧은 여름 동안 눈과 얼음이 녹으면서 풀과 이끼류가 자란다.

채점기준	등급	평가 기준
	상	툰드라 기후를 쓰고, 툰드라 기후 특징을 옳게 서술한 경우
	하	툰드라 기후는 썼으나, 툰드라 기후 특징은 서술하지 못한 경우

20

예시답안 영국은 우리나라보다 고위도에 위치하고 있으나 겨울철 기온은 오히려 더 따뜻하다. 그 이유는 영국의 경우 편서풍과 난류의 영향을 받아 겨울이 온화한 반면, 우리나라는 차가운 북서 계절풍의 영향으로 겨울이 춥기 때문이다.

또한, 영국은 연중 고른 강수 분포로 인해 하천의 수위 변화가 작기 때문에 하천을 이용한 교통 발달에 유리하여 운하 등이 발달하였다. 반면, 우리나라는 대부분의 강수가 여름철에 집중되어 있어 계절에 따른 하천의 수위 변화가 심하다. 이 때문에 하천을 이용한 교통 발달에 불리하며, 운하보다는 홍수와 가뭄 조절에 대비한 다목적 댐 건설이 더 필요하다.

채점기준	등급	평가 기준
	상	영국과 우리나라의 기후 차이가 나타나는 원인을 옳게 서술하고, 기후에 따라 나타나는 특징을 바르게 제시한 경우
	하	영국과 우리나라의 기후 차이가 나타나는 원인을 제시하였으나, 운하 또는 댐의 필요성을 제시하지 못한 경우

III 자연으로 떠나는 여행

1 산지 지형과 생활 모습

2 해안 지형과 관광 산업

학교시험 걱정문제

▶ 기본학습서 060~063쪽

- 01 ④ 02 ③ 03 ② 04 ④ 05 ③ 06 ③
07 ④ 08 ⑤ 09 ③ 10 ④ 11 ① 12 ②
13 ⑤ 14 ② 15 고기 습곡 16 A-알프스 B-히말라
야 C-로키 D-안데스 17 파랑 18 해설 참조 19 해
설 참조 20 해설 참조

01

규모가 큰 세계적인 산지는 지각의 판과 판이 충돌하면서 일어나는 거대한 습곡 작용이나, 지각의 약한 부분에서 마그마가 땅 위로 분출하는 대규모 화산 폭발과 같은 지구 내부의 힘에 의해 형성된다.

오답풀이 < ㄱ. 빙하의 퇴적 작용이나, ㄴ. 하천의 침식 작용에 의해 형성되는 지형은 각각 빙하가 분포하거나, 하천이 흐르는 지역에서 지구 외부의 힘에 의해 형성되는 비교적 작은 규모의 지형이다.

02

호른은 산 정상부에 빙하가 형성된 후, 이 빙하가 아래로 이동하면서 산 정상부를 침식하여 형성된 뾰족하고 날카로운 형태의 봉우리 지형이다.

오답풀이 < ① 화산 지형의 모습이다. ②, ④ 높은 고도에 위치한 평탄한 지형인 고원의 모습이다. ⑤ 오랜 기간 풍화와 침식을 받아 고도가 낮고 경사가 완만한 고기 습곡 산지의 모습이다.

03

고기 습곡 산지는 형성된 지 오래된 산지로, 오랜 기간 풍화와 침식 작용으로 형성되었다. 애팔래치아산맥, 그레이트디바이딩산맥, 우랄산맥 등이 대표적이다.

오답풀이 < ①, ③, ⑤는 형성된 지 오래되지 않아 높고 험준한 특징이 있는 신기 습곡 산지에 대한 설명이다. ④는 화산에 대한 설명이다.

04

A는 알프스산맥, B는 히말라야산맥, C는 로키산맥, E는 안데스산맥이다. 이 산맥들은 형성된 지 오래되지 않아 풍화와 침식을 비교적 덜 받은 산지로, 해발 고도가 높고 험준한 신기 습곡 산지에 해당한다. D는 애팔래치아산맥으로 고기 습곡 산지에 해당한다.

해결의 실마리

안데스 산지의
열대 고산 지역



높은 해발 고도



온화한 기후



고산 도시 발달

해결의 실마리

고기 습곡 산지



오래된 산지



오랜 풍화와 침식



낮고 완만한 산지

신기 습곡 산지

- 특징 : 형성된 지 오래되지 않은 높고 험준한 산지
- 대표적인 산지 : 알프스 산맥, 히말라야산맥, 로키 산맥, 안데스산맥

05

사진 속 산지는 일본의 후지산이다. 후지산은 화산 활동에 의해 형성된 대표적 화산이다. 화산 활동에 의해 형성된 산지는 대부분 용암이 분출한 분화구가 나타나는 것이 특징이다.

문제자료 뜯어보기



분화구
→ 용암이 분출한 분화구가 있어 화산 지형임을 알 수 있어요.

06

산지 지역에 거주하는 주민들은 밭농사 위주로 감자, 옥수수 등을 재배하거나 소규모 가축 사육을 통해 젖, 고기, 털, 가죽 등을 얻기도 한다. 또, 지하자원을 생산하는 광업에 종사하거나 임산물을 채취하기도 하며, 아름다운 자연 경관을 활용한 관광 산업에 종사하기도 한다. ③ 기업적 목적업은 주로 신대륙의 넓은 평지에서 이루어지고 있다.

07

안데스 산지의 ㉠은 열대 고산 지역이다. 해발 고도가 높아질수록 기온은 낮아지기 때문에 저위도 지방의 고산 지역에서는 일 년 내내 온화한 기후가 나타난다. 따라서 이 지역에는 일찍부터 사람들이 거주하게 되어 고대 문명 및 고산 도시가 발달하게 되었다. 열대 고산 지역에 사는 주민들은 고산 기후를 이용하여 감자나 옥수수 등을 재배하고, 알파카 등의 가죽을 길러 젖과 고기, 털과 가죽 등을 얻는다. ④ 플랜테이션은 열대 기후가 나타나는 안데스 산지의 저지대에서 상품 작물을 대량으로 재배하는 농업 방식이다.

08

제시된 그림에서 A는 갯벌, B는 모래사장(사빈), C는 해안 절벽(해식애), D는 시 스택이다. 갯벌은 조류의 퇴적 작용으로 형성된 지형이며 다양한 생물들이 서식하고 있어 생태 체험 등에 이용된다. 모래사장(사빈)은 바다가 육지 쪽으로 들어간 만에서 발달하는 파랑 퇴적 지형이다. 즉, A와 B 모두 해안 퇴적 지형이다. 해안 절벽(해식애)과 시 스택은 해안 침식 지형으로 육지가 바다 쪽으로 돌출된 곳에서 파랑의 침식을 받아 형성된 지형이다.

09

사진의 모래사장(사빈)은 파랑의 퇴적 작용에 의해 형성된 대표적인 해안 퇴적 지형이다.

10

산호초 해안과 맹그로브 숲은 따뜻한 열대 해안 지역에서 형성되는 해안 지형으로, 해일이나 파도의 침식에서 해안을 보호하고 다양한 바다 생물의 안식처 역할을 한다.

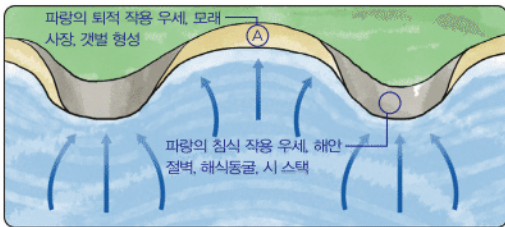
오답풀이 ① 모래사장(사빈)에 대한 설명이다. ② 산호초 해안과 맹그로브 숲은 열대 기후 지역에서 발달한다. ③ 파도의 침식에 의해 형성되는 것은 파랑 침식 지형이다. ⑤ 갯벌에 대한 설명이다.

11

그림의 A 지역은 바다가 육지로 들어간 만으로, 파랑의 퇴적 작용이 활발하게 일어나 모래사장(사빈) 등이 발달한다.

오답풀이 ②, ④는 파랑의 침식 작용으로 형성되는 지형이며 각각 시스택과 시 아치, 해식애의 모습이다. ③은 열대 기후에서 볼 수 있는 산호초의 모습이다. ⑤는 빙하의 침식 작용으로 형성된 피오르 해안의 모습이다.

문제자료 뜯어보기



12

갯벌은 조류의 퇴적 작용에 의해 형성된 지형으로 생태적으로도 가치가 높다. 이 곳은 다양한 동식물의 서식지이므로 생태 체험이 이루어지거나 다양한 어패류의 양식장으로도 활용된다.

13

해안 지역이 관광지로 개발될 경우 도로나 항만 시설 등을 건설하여 지역 개발을 추진할 수 있으며, 많은 관광객이 방문하여 일자리 창출 등의 경제적 이득을 가져올 수 있다. 그러나 ⑤ 해안 지역이 관광지로 개발될 경우 전통문화는 훼손될 가능성이 높다.

14

해안 지역이 관광지로 개발될 경우 환경 훼손 및 해양 생태계 파괴, 전통문화 훼손 등의 문제점이 발생할 수 있다. 또, 현지 주민과 관광객 사이에 문화적 갈등이 발생할 수도 있다. 이러한 문제점을 해결하기 위해 환경 문제를 최소화할 수 있는 지속 가능한 형태의 생태 관광을 확대할 필요가 있다. 더불어, 환경세를 부과하거나 친환경적 개발을 추진할 필요가 있다. ③ 대규모 리조트 건설은 관광 산업 발달에 따른 문제점을 심화시킬 수 있으므로 해결 방안으로 적절하지 않다.

해안 지형

- 파랑 침식 지형 : 해식동굴, 해안 절벽, 시스택, 시 아치 등
- 파랑 퇴적 지형 : 모래사장, 사주, 석호 등
- 조류 퇴적 지형 : 갯벌

해안 지역의 관광지 개발

- 긍정적 측면 : 지역 개발, 경제적 이득 및 경제 성장, 일자리 창출 등
- 부정적 측면 : 환경 오염, 생태계 파괴, 전통문화 훼손

15

고기 습곡 산지는 형성된 후 오랜 시간에 걸쳐 풍화와 침식을 받은 지형이다. 따라서 신기 습곡 산지에 비해 해발 고도가 낮고, 경사가 완만한 편이다. 이러한 고기 습곡 산지의 대표적인 예로 그레이트디바이딩산맥, 우랄산맥, 애팔래치아산맥 등이 있다.

16

A는 알프스산맥, B는 히말라야산맥, C는 로키산맥, D는 안데스산맥에 해당한다. 이들은 형성된 지 오래되지 않아 세계적으로 높고 험준한 신기 습곡 산지에 해당하는 산맥들이다.

17

해안 지형은 파랑과 조류가 작용하면서 만들어진다. 파랑이 지형을 깎아내는 파랑의 침식 작용, 파랑이 운반한 물질을 쌓는 파랑의 퇴적 작용, 조류가 미세한 흙을 운반해 쌓으면서 만들어지는 조류의 퇴적 작용 등을 통해 다양한 해안 지형이 형성된다.

18

예시답안 세계적인 규모의 산맥은 지구 내부의 힘에 의해 판과 판이 충돌하면서 대규모 습곡 작용이 발생하여 형성된다. 이러한 산지는 형성된 지 오래되지 않아 해발 고도가 높고 험준하다.

채점기준	등급	평가 기준
	상	신기 습곡 산지의 형성 과정과 특징을 모두 서술한 경우
	하	신기 습곡 산지의 형성 과정과 특징 중 한 가지만 옳게 서술한 경우

19

예시답안 히말라야 산지 지역의 주민들은 히말라야산맥을 오르는 등반가들의 짐을 들어주거나 안내하며 살아가고 있으며, 이들을 셰르파라고 한다.

채점기준	등급	평가 기준
	상	히말라야 산지 지역의 셰르파 명칭 및 역할을 모두 옳게 서술한 경우
	하	위 내용 중 한 가지만을 서술한 경우

20

예시답안 해안 지역이 관광지로 개발됨에 따라 쓰레기 발생 등의 환경 문제가 발생할 수 있다. 이러한 문제점을 해결하기 위해서는 친환경적 개발이 이루어지고, 환경 피해를 최소화하며 여행을 즐기는 생태 관광 상품을 개발할 필요가 있다.

채점기준	등급	평가 기준
	상	해안 지역 개발에 따른 문제점과 해결 방안을 모두 옳게 서술한 경우
	하	문제점과 해결 방안 중 한 가지만 서술한 경우

3 우리나라의 자연 경관

학교시험적중문제

▶ 기본학습서 068~071쪽

- 01 ④ 02 ⑤ 03 ⑤ 04 ② 05 ② 06 ④
07 ④ 08 ② 09 ④ 10 ② 11 ② 12 ①
13 ③ 14 ③ 15 동해안, 퇴적 16 A-종유석, B-석주, C-석순 17 세계 자연 유산 18 해설 참조
19 해설 참조 20 해설 참조

01

우리나라의 국토는 약 70%가 산지로 이루어졌으며, 형성된 지 오래되어 고도가 낮고 경사가 완만한 편이다. 또, 동쪽으로 치우쳐 융기되어 동쪽이 높고 서쪽이 낮은 동고서저의 지형이 나타난다. 이로 인해 높은 산지는 주로 북동부에 위치하고 하천이 남서쪽으로 흐르면서 평야 또한 남쪽과 서쪽에 많이 분포하게 되었다. ④ 높은 산지는 주로 북동쪽에 치우쳐 있다.

02

사진은 화강암으로 이루어진 돌산의 모습이다. 돌산은 화강암을 덮고 있던 지층이 오랜 기간 풍화 과정을 거쳐 제거되면서 암석이 산 위로 드러나 기암괴석의 산 정상부가 나타난 산지이다.

오답풀이 ◀ ① 휴산에 대한 설명이다. ② 화산 활동에 의해 형성된 산지에 대한 설명이다. ③ 세계 자연 유산으로 지정되어 있는 산은 한라산이다. ④ 카르스트 지형에 대한 설명이다.

03

우리나라의 돌산은 덮여있던 지층이 오랜 세월 침식을 받아 깎여 나가면서 땅속에 있던 화강암이 정상부에 노출되어 형성되었다. 우리나라의 대표적인 돌산으로는 설악산, 북한산, 금강산 등이 있다.

오답풀이 ◀ ㄱ. 덕유산과 ㄴ. 지리산은 편마암이 풍화되어 흙으로 덮인 휴산에 해당한다.

문제자료 뜯어보기



산 정상부에 화강암으로 이루어진 기암괴석이 드러나 멋진 경관이 만들어졌어요.

우리나라의 산지

- 돌산 : 화강암 산지로 오랜 기간 풍화로 형성, 기암괴석 봉우리, 설악산, 북한산 등
- 휴산 : 편마암 풍화로 두꺼운 토양 형성, 울창한 삼림과 경사가 완만한 산 정상부, 지리산, 덕유산 등

해결의 실마리

동고서저



동쪽 : 산지
서쪽 : 평지



하천 흐름 방향



동 - 서

04

우리나라는 동고서저 지형이 발달하여 규모가 큰 대부분

의 하천이 서해로 흘러간다. 서해로 흘러드는 하천은 동해로 흐르는 하천보다 길이가 길고 경사가 완만하다. 하천의 상류는 물이 빠르게 굽이쳐 흘러 깊은 골짜기가 만들어지고, 하천 하류 주변에는 넓은 평야가 발달하거나, 갯벌이나 모래사장이 발달하여 관광지로 쓰인다.

05

우리나라의 서해안은 해안선이 복잡하고 섬이 많으며, 수심이 얇고 조차가 커서 갯벌이 발달하였다. 반면, 동해안은 해안선이 단조롭고 섬이 적고, 수심이 깊으며, 모래사장이 발달하였다.

06

사진에 나타난 해안 지형은 주로 동해안에 넓게 분포하는 모래사장이다. 파랑의 퇴적 작용으로 형성되는 모래사장은 여름철 해수욕 장소로 인기가 높아 그 주변이 관광지로 만들어지는 경우가 많다.

오답풀이 ◀ ① 염전은 소금을 만들기 위해 바닷물을 끌어 들여 농처럼 만든 곳으로, 갯벌을 활용하여 조성한다. ② 간척 사업은 대부분 갯벌을 이용하여 실시된다. ③ 계단식 논은 산지 지형에서 볼 수 있는 모습이다. ⑤ 생태 학습장은 갯벌을 이용하는 방법 중 하나이다.

07

우리나라의 남해안은 해안선이 복잡하고 섬이 많은 리아스 해안이 나타난다. 이 곳은 바다와 섬이 어우러져 경치가 아름답고 물이 맑아 해상 국립 공원으로 지정되어 많은 사람들이 찾는 지역이다. ④ 화산 지형에 대한 설명이다. 점성이 높은 용암으로 형성된 지형은 우리나라의 독도와 울릉도에서 볼 수 있다.

문제자료 뜯어보기



리아스 해안이 나타나고 바다와 많은 섬이 어우러져 절경을 이루어요. 이러한 다도해를 해상 국립 공원으로 조성하였어요.

08

제시된 글에서 설명하는 지형은 갯벌이다. 갯벌은 전통적으로 양식장과 염전 등으로 사용되어 왔으나, 최근에는 생태 체험장이나 머드 축제 등의 관광지로 이용되고 있다.

오답풀이 ◀ ① 모래사장의 모습으로 동해안에서 많이 볼 수 있다. ③ 해안 절벽의 모습으로 곳 등에서 볼 수 있는 해안 침식 지형이다. ④ 석호의 모습으로, 만이었던 바다가 사주에 의해 막혀 호수가 된 지형이다. ⑤ 주상 절리의 모습으로 제주도 등에서 볼 수 있는 화산 지형이다.

09

우리나라의 강원도 남부와 충청북도 북동부 일대에는 카르스트 지형이 발달해 있다. 카르스트 지형으로 석회 동굴과 돌리네가 있으며 대표적인 석회 동굴로는 단양의 고수동굴, 삼척의 환선굴 등이 있다. ④ 돌리네는 물이 잘 빠지는 특징이 있기 때문에 주로 발농사에 이용되고 있다.

10

석회동굴은 대표적인 카르스트 지형이다. 하천이나 지하수가 석회암 지대를 지나면서 땅속의 석회암을 서서히 녹이면 오랜 시간 동안 규모가 커져 석회동굴이 형성된다.

오답풀이 ① 해안 절벽의 모습으로 파랑의 침식 작용이 활발한 동해안에서 볼 수 있다. ③ 갯벌의 모습으로 조차가 큰 우리나라 서·남해안에서 많이 볼 수 있다. ④ 화강암 바위가 드러나 기암괴석을 이룬 돌산의 모습이다. ⑤ 봉우리가 토양으로 두껍게 덮여 나무와 풀이 우거진 휴산의 모습이다.

11

지도에 표시된 지역인 제주도는 화산 활동으로 형성되었으며, 섬 전체가 다양한 화산 지형으로 되어 있다.

12

사진은 화구호인 제주도 한라산의 백록담 모습이다. 화구호는 화산이 분출한 후 분화구에 물이 고여 형성된다.

오답풀이 ② 석회암 지형 중 지하의 석회암이 물에 녹아 땅 표면이 함몰되어 나타나는 지형은 돌리네이다. ③ 소규모 분출로 형성된 작은 화산체는 기생 화산이다. ④ 용암이 흘러가면서 만들어 낸 용암동굴에 대한 설명이다. ⑤ 용암이 식으면서 육각형의 기둥 모양을 형성하는 지형은 주상 절리이다.

13

왼쪽의 용암동굴은 용암이 식으면서 겉과 안의 냉각 속도의 차이에 의해 형성된 동굴이다. 오른쪽의 주상 절리는 용암이 식으면서 육각형이나 다각형 모양의 기둥으로 굳어진 지형이다. 두 지형은 모두 용암이 흐르다가 냉각되어 형성되었다.

오답풀이 ① 하천의 침식 작용으로는 계곡이나 협곡이 형성된다. ② 석회동굴, 돌리네와 같은 카르스트 지형의 특징이다. ④ 주로 건조한 사막에서 볼 수 있는 지형이다. ⑤ 호른, U자곡, 피오르 등의 빙하 지형이다.

14

제주도는 유네스코가 지정한 세계 자연 유산이자 세계 생물권 보전 지역, 세계 지질 공원으로 지정된 곳이다.

오답풀이 르. 람사르 협약은 습지를 보호하기 위한 협정으로 우리나라에서는 순천만을 비롯한 갯벌 지역이 보호 습지로 지정되어 있다.

카르스트 지형

- 형성 원인 : 석회암이 물에 녹아 형성
- 발달 지형 : 석회동굴, 석순, 석주, 종유석, 돌리네 등

해결의 실마리

용암 분출

↓
표면이 먼저 굳고
안쪽의 용암이 흘러
빠져나감

↓
동굴 형성

15

석호는 만의 입구에 파랑의 퇴적 작용으로 모래가 쌓여 형성된 지형이다. 우리나라는 동해안의 영랑호, 청초호, 강릉의 경포호가 대표적인 석호에 해당한다.

문제자료 뜯어보기



사주가 만의 입구를 막아 바다와 분리되어 호수가 형성되었어요.

16

석회암이 물에 녹아 형성된 석회동굴의 내부에는 종유석, 석순, 석주 등의 지형이 나타난다.

17

한라산 일대, 성산 일출봉, 거문오름 용암동굴계는 매우 보존 가치가 높은 곳으로 유네스코 세계 자연 유산으로 등재되면서 우리나라뿐만 아니라 세계인이 방문하는 관광지로 발전하고 있다.

18

예시답안 (가)는 화강암으로 이루어진 돌산으로, 경사가 급하고 기암괴석이 나타난다. (나)는 지층이 오랫동안 풍화와 침식을 받으면서 토양이 두껍게 덮인 휴산으로, 삼림이 울창하며 정상부의 경사가 완만하다.

채점기준	등급	평가 기준
	상	(가), (나) 특징을 정확히 비교하여 서술한 경우
	하	(가), (나) 중 한 가지의 특징만 서술한 경우

19

예시답안 갯벌, 우리나라의 서·남해안은 해안선의 드나들이 복잡하고 밀물과 썰물의 차이가 커 갯벌이 넓게 발달하였다.

채점기준	등급	평가 기준
	상	갯벌을 쓰고 조차가 큼을 서술한 경우
	하	갯벌만 쓰고 원인을 서술하지 못한 경우

20

예시답안 용암이 분출하여 흐르는 과정에서 공기와 접촉하는 바깥쪽이 먼저 굳고 식지 않은 안쪽 용암이 흘러 빠져나간 자리에 용암동굴이 형성된다.

채점기준	등급	평가 기준
	상	용암동굴 형성 과정을 3단계에 걸쳐 자세히 설명한 경우
	하	용암동굴 형성 과정을 2단계 정도로 서술한 경우

대단원 완성문제

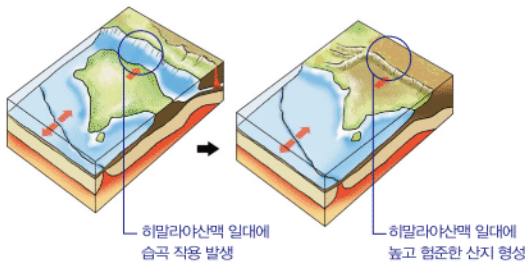
▶ 기본학습서 073~076쪽

- 01 ⑤ 02 ⑤ 03 ③ 04 ② 05 ⑤ 06 ④
07 ② 08 ① 09 ② 10 ② 11 ③ 12 ④
13 ③ 14 ② 15 ⑤ 16 ② 17 해설 참조 18 해
설 참조 19 해설 참조 20 해설 참조

01

세계적인 산지 및 산맥은 판과 판이 충돌하는 곳에서의 습곡 작용으로 형성된다. 이러한 신기 습곡 산지는 형성된 지 오래되지 않아 높고 험준한 특징을 가진다. ⑤ 고기 습곡 산지의 특징이다.

문제자료 뜯어보기



02

알프스산맥, 히말라야산맥, 로키산맥, 안데스산맥은 형성된 지 오래되지 않은 신기 습곡 산지의 대표적인 산맥이다. ⑤ 애팔래치아산맥은 형성된 지 오래된 고기 습곡 산지이다.

03

사진 속의 마티호른은 산봉우리에 있던 빙하가 아래로 흐르면서 산봉우리를 뾰족하고 날카롭게 침식하면서 형성된 지형이다.

오답풀이 ① 시 스택에 대한 표현으로 해안 침식 지형에 적절한 표현이다. ② 융기로 형성된 티베트고원을 '세계의 지붕'이라 부른다. ④ 강물에 대해 표현하고 있으므로 하천 지형에 적절한 표현이다. ⑤ 용암에 대한 표현으로 화산과 관련된 지형에 적절한 표현이다.

04

히말라야산맥(B)은 세계 최고봉인 에베레스트산을 포함하여 8,000m가 넘는 산지가 많이 분포한다. 그래서 이곳을 등반하려는 많은 등반가들이 방문하고 있으며, 이 지역 주민들은 등반가들의 짐을 들어주거나 길을 안내하는 셰르파 활동으로 수입의 대부분을 벌어들인다. 이들은 평소에는 비탈진 산을 일구어 밭농사를 하며 살아가고 있다.

오답풀이 A는 알프스산맥, C는 로키산맥, D는 애팔래치아산맥, E는 안데스산맥이다.

해안 지형

- 파랑 침식 지형 : 해식동굴, 해안 절벽, 시 스택, 시 아치 등
- 파랑 퇴적 지형 : 모래사장, 사주, 석호 등
- 조류 퇴적 지형 : 갯벌

세계적인 산지 지역의 주민 생활

- 알프스 산지 : 이목, 관광, 열차 운행, 스키장 등
- 히말라야 산지 : 셰르파 활동, 밭농사, 야크 사육
- 로키산맥 : 지하자원 생산
- 안데스 산지 : 고산 도시, 감자, 옥수수 재배, 라마와 알파카 사육

05

지도의 A 지역은 위도상 적도 주변에 위치하고 있으나, 해발 고도가 높아 일 년 내내 봄처럼 온화한 고산 기후가 나타난다. 따라서 이 지역에는 많은 사람들이 거주하여 고산 도시가 형성되었다. 이 지역에서는 과거 고대 문명의 발생지였던 점을 활용해 관광 산업이 발달하였으며, 원주민들은 감자, 옥수수를 재배하거나 라마, 알파카 등을 사육하며 살아오고 있다. ⑤ 계절에 따라 산의 위아래를 오가며 이루어지는 이목은 알프스 산지에서 이루어지는 목축업이다.

06

시 스택은 파랑 에너지가 집중하는 곳에서 파랑에 의해 형성된 해안 침식 지형으로, 파랑의 침식 작용이 계속되면 무너져 내리기도 한다.

07

바다가 육지로 들어간 만 지역은 파랑의 퇴적 작용으로 모래 해안과 같은 퇴적 지형이 나타난다. 모래 해안의 모래사장은 주로 해수욕장으로 이용되고 있다.

오답풀이 ① 해안 절벽, 해식동굴, 시 스택, 시 아치 등은 대표적인 해안 침식 지형으로, 주로 곳에서 볼 수 있다. ③ 산호초 해안에서 나타나는 모습이다. ④ 해수욕장으로 이용된다. ⑤ 피오르 해안에서 나타나는 모습이다.

08

환경 파괴를 최소화하고 자연을 관찰 및 학습하며 즐기는 지속 가능한 여행 형태를 생태 관광이라고 한다.

09

해안 지역이 관광지로 개발될 경우 쓰레기 증가, 환경 및 생태계 파괴, 인공 구조물 증가로 인한 해안 침식 확대, 전통문화 훼손 등의 문제점이 나타날 수 있다. ② 일자리 증가는 관광 산업의 발달로 인한 긍정적인 영향이다.

10

지리산, 덕유산 등은 우리나라의 대표적인 휴산이다. 휴으로 이루어진 산은 오랜 기간 풍화를 받아 토양이 두껍고 울창한 삼림이 형성되었으며, 산 정상부가 둥글고 완만한 형태를 가지고 있다.

오답풀이 ① 기암괴석은 돌산의 산봉우리에서 볼 수 있는 경관이다. ③ 빙하 지형의 호른에 대한 표현이다. ④ 석회암이 하천이나 지하수에 의해 녹아 나타나는 카르스트 지형에 대한 표현이다. ⑤ 분화구는 화산 지형에서 볼 수 있는 경관이다.

11

우리나라는 북동부에 많은 산지가 위치하고 남서부에는 평야가 발달한 동고서저의 지형적 특징이 나타난다. 이로 인해 많은 하천들이 황해나 남해로 흐른다.

12

해안선이 복잡한 우리나라의 서·남해안에는 큰 조석 간만의 차이로 인해 넓은 갯벌이 형성되어 있다. 갯벌은 다양한 환경적 가치를 지닌 생태계의 보고로, 양식장이나 염전, 생태 체험 학습장, 관광지 등으로 활용된다. ④ 갯벌이 형성되기 위해서는 조석 간만의 차가 커야 하기 때문에 해안선이 단조로운 곳에서는 발달하기 어렵다.

문제자료 뜯어보기



이것은 갯벌의 분포를 나타내는 지도예요. 우리나라의 서해안과 남해안에 많이 분포되어 있고, 바다가 육지 쪽으로 들어간 만에 발달해 있어요.

13

제시된 사진은 대표적인 카르스트 지형인 석회동굴의 모습이다. 카르스트 지형은 석회암이 빗물이나 지하수 등에 녹으면서 형성되며, 석회동굴은 종유석, 석순, 석주 등의 신비로운 경관을 볼 수 있어 많은 관광객이 방문한다.

14

제주도는 우리나라의 대표적인 화산섬으로 지형학적 가치가 높은 다양한 화산 지형이 나타난다. 이는 학술적·생태적으로 보존 가치가 높아 세계 자연 유산으로 지정되었다.

15

제주도 한라산 정상부에는 용암이 분출한 분화구가 나타나며, 이곳에 물이 고여 형성된 화구호인 백록담을 볼 수 있다.

오답풀이 ①은 주상 절리의 모습이다. 용암이 냉각되는 과정에서 다각형으로 쪼개져 형성되었으며, 해안가에 많이 분포한다. ②는 성산 일출봉으로, 제주도의 동쪽 해안에 위치해 있다. ③은 용암동굴이며, 분출된 용암이 흘러 내리는 과정에서 길이 먼저 굳고, 안쪽은 계속 흐르면서 만들어지는 지형이다. 따라서 한라산 정상과는 거리가 멀다. ④는 오름으로, 소규모 분출로 형성된 기생 화산이다.

16

우리나라의 해안 중 갯벌이 발달한 곳은 서·남해안이며, 카르스트 지형이 발달한 석회암 지대는 강원도 남부와 충청북도 북동부, 경상북도 북부 지역에 걸쳐 나타난다. 동해안은 파랑의 작용이 활발하며, 파랑의 퇴적 작용에 의해 형성된 모래사장이 넓게 분포한다.

제주도의 가치

- 세계 자연 유산 : 한라산 일대, 성산 일출봉, 거문오름 용암동굴계
- 생물권 보전 지역
- 세계 지질 공원

해결의 실마리

첫째 날 : 갯벌
→ 서해안 또는 남해안에서 출발(C 제외)

둘째 날 : 카르스트 지형
→ 강원도 남부, 충청북도 북동부, 경상북도 북부(D, E 제외)

셋째 날 : 모래사장
→ 동해안 도착(A 제외)

B

17

예시답안 애플래치아산맥은 고기 습곡 산지로 오랜 기간 풍화와 침식을 받아 해발 고도가 낮고 경사가 완만한 반면, 로키산맥은 형성된 지 오래되지 않아 험준하고 해발 고도가 높다.

채점기준	등급	평가 기준
	상	두 산지의 경관과 형성 과정을 옮겨 비교하여 서술한 경우
	하	두 산지의 경관 또는 형성 과정 중 한 가지만 서술한 경우

18

예시답안 두 지형 모두 해안 지역에서 파랑에 의해 형성된 지형이다. 그러나 (가)는 파랑의 침식 작용에 의해 형성되었으며, (나)는 파랑의 퇴적 작용에 의해 형성되었다.

채점기준	등급	평가 기준
	상	파랑에 의해 형성된 해안 지형이라는 공통점과, 침식·퇴적에 의해 형성된 지형이라는 차이점을 옮겨 서술한 경우
	하	공통점과 차이점 중 한 가지만 옮겨 서술한 경우

19

예시답안 서해안은 해안선이 복잡하고 밀물과 썰물의 조차가 커서 갯벌이 형성되어 있으며, 동해안은 해안선이 단조롭고 모래사장이 넓게 발달해 있다.

채점기준	등급	평가 기준
	상	서해안과 동해안의 해안선 특징을 옮겨 비교하고, 발달한 지형을 모두 옮겨 서술한 경우
	하	서해안과 동해안의 해안선 특징을 옮겨 비교하였으나 발달한 지형을 서술하지 못한 경우

20

예시답안 몰디브는 경제적으로 부유한 국가가 아니며, 국내 총생산에 있어 관광 산업이 차지하는 비중이 매우 높은 지역이므로, 적극적인 관광 산업 육성은 국가 경제를 발전시킬 수 있다. 이러한 관광지 개발은 현지 지역 주민에게도 많은 변화를 가져다주었다. 관광 산업 발전으로 다양한 일자리 증가, 수익 증대와 같은 경제적 이익이 증가하였고, 도로나 항만 시설 건설, 다양한 선진 문화 도입으로 생활 수준이 향상되었다는 긍정적인 측면이 있다. 그러나 외부 문화의 무분별한 유입으로 인해 전통문화가 훼손되고, 많은 쓰레기 때문에 환경 문제가 발생하였다. 또한 일자리는 증가했으나, 단순 직종에 국한되는 경우가 많아 오히려 삶의 수준은 더 낙후되어가는 부정적인 측면도 있다.

이러한 문제를 해결하기 위해서는 생태 관광을 확대하거나 환경세 부과, 친환경적 개발 등의 다양한 방법이 요구되고 있다.

채점기준	등급	평가 기준
	상	몰디브 정부의 입장, 관광지 개발에 따른 긍정적·부정적 측면, 관광지 개발의 합리적인 방안을 적절하게 서술한 경우
	중	위 조건 중 두 가지만 서술한 경우
	하	위 조건 중 한 가지만 서술한 경우

IV 다양한 세계, 다양한 문화

1 세계의 다양한 문화

학교 시험 적용 문제

▶ 기본학습서 082~085쪽

- 01 ② 02 ④ 03 ③ 04 ② 05 ④ 06 ⑤ 07 ②
08 ① 09 ② 10 ④ 11 ② 12 ⑤ 13 ③ 14 ④
15 ⑦ 문화, ⑧ 문화 지역 16 벵농사 17 크리스티교
18 해설 참조 19 해설 참조 20 해설 참조

01

눈에 보이는 문화의 모습을 문화 경관이라고 한다. 문화 경관을 통해 지역 간 문화의 차이를 파악할 수 있다.

02

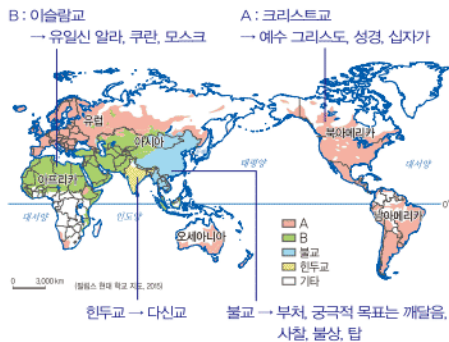
제시된 지도는 경제·사회적 환경인 종교를 기준으로 문화 지역을 구분한 것이며, 같은 종교 문화 지역 안에서는 비슷한 종교 경관이 나타난다. ④ 문화 지역의 범위와 경계는 구분 기준에 따라 달라진다.

03

우리나라, 중국, 일본을 포함하는 동아시아 지역은 오랫동안 영향을 주고받으면서 불교, 한자 등의 공통적인 문화적 특징이 나타난다.

오답풀이 ① A는 크리스티교이다. ② B는 이슬람교이다. ④ 북부 아프리카는 이슬람교 문화 지역인 반면, 중·남부 아프리카는 다양한 종교가 나타나는 지역이다. ⑤ 힌두교 문화 지역은 주로 남부 아시아 지역에서 나타난다.

문제자료 뜯어보기



04

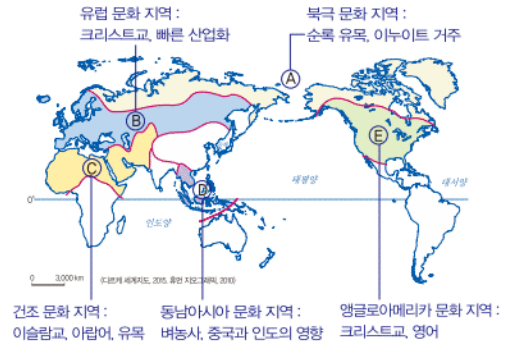
유럽 일대는 크리스티교가 생활 양식에 크게 영향을 미친 곳으로 유럽 문화 지역이다. 이 문화 지역은 개신교 중심의 북서부 유럽, 가톨릭교 중심의 남부 유럽, 그리스 정교 중심의 동부 유럽으로 나눌 수 있다.

오답풀이 ① A는 북극 문화 지역이다. ③ C는 건조 문화 지역이다. ④ D는 동남아시아 문화 지역이다. ⑤ E는 앵글로아메리카 문화 지역이다.

05

동남아시아 문화 지역(D)은 인도와 중국의 영향을 많이 받은 곳이다. 또한, 계절풍 기후 지역으로 벵농사가 활발하여 쌀을 이용한 음식 문화가 발달하였다.

문제자료 뜯어보기



06

자연환경이 비슷한 지역이라고 할지라도 산업, 종교, 관습 등과 같은 경제·사회적 환경에 따라 서로 다른 문화가 나타나기도 한다.

07

더위를 피하기 위해 얇고 통풍이 잘되는 가벼운 옷차림이 나타나는 (가) 지역은 열대 기후 지역, 추위에 견디기 위해 보온이 잘되는 두꺼운 털옷을 입는 (나) 지역은 한대 기후 지역이다. 지도의 A는 열대 기후 지역, B는 건조 기후 지역, C는 한대 기후 지역이다.

문제자료 뜯어보기



더운 날씨에 적응하기 위해 옷을 가볍게 입어요.



추운 날씨에 적응하기 위해 두꺼운 털 가죽으로 만든 옷을 입어요.

08

문화는 지역의 자연환경에 따라 다르게 나타난다. 특히, 기후는 지역별 농업 차이가 나타나는 데 큰 영향을 미친다. 이동식 화전 농업은 열대 기후 지역의 전통 농업 방식이고, 벵농사는 아시아의 계절풍 기후 지역에서 주로 행해지는 농업 방식이다. 건조 기후 지역에서는 건조한 기후 때문에 농경이 어려워 유목이 이루어진다.

해결의 실마리

(가) : 가벼운 옷차림



무더위 극복
→ 열대 기후 지역



적도 주변(A)



(나) : 두꺼운 털옷



추위 극복
→ 한대 기후 지역



극 주변(C)

기후와 전통 농목업

- 열대 기후 : 이동식 화전 농업
- 건조 기후 : (밀, 양, 염소 등) 유목
- 한대 기후 : (순록) 유목
- 계절풍 기후 : 벵농사

09

계단식 농업이 이루어지는 지역이다. 특히, 아시아의 산간 지역에서는 급경사 지형의 불리함을 극복하기 위해 경작지를 계단식으로 조성해 농사를 짓는다.

오답풀이 ◀ ㄴ. 계단식 경작지는 지형의 영향을 받은 경관이다. ㄹ. 카사바나 양을 재배하는 농업은 경작지를 태워 재배하는 이동식 화전 농업 방식이다. 사진에 제시된 농업은 벼농사이다.

10

사진 속 건축물은 이슬람 사원으로 둥근 지붕과 뾰족한 첨탑이 특징이다. 주로 북부 아프리카와 서남아시아에서 볼 수 있는 종교 경관이다.

11

이슬람교에서는 경전인 쿠란에 따라 술과 돼지고기를 먹지 않는다.

오답풀이 ◀ ① 소를 신성하게 여겨 소고기를 먹지 않는 것은 힌두교 문화 지역에서 나타나는 모습이다. ③ 크리스티교 문화 지역의 종교 경관이다. ④ 힌두교 문화 지역의 종교 경관이다. ⑤ 불교 문화 지역의 종교 경관이다.

12

경제적 활동과 사회 계층에 따라 서로 다른 문화 경관이 나타나는 사례이다.

오답풀이 ◀ ④ 같은 도시 내에서도 서로 다른 경관이 나타나고 있다.

13

자료는 동아시아 문화 지역에 대한 것으로, 한국, 일본, 중국 등이 포함된 C에 해당한다.

14

지도의 A 지역은 라틴 아메리카 문화 지역이다. 주로 에스파냐와 포르투갈의 라틴족이 이주하였으며, 원주민, 유럽계, 아프리카계의 다양한 혼혈 문화가 형성되었다.

오답풀이 ◀ ① 계절풍의 영향을 받는 아시아의 문화 특징이다. ② 라틴 아메리카 문화 지역은 주로 에스파냐어와 포르투갈어를 사용한다. ③ 아프리카 문화 지역의 특징이다. ⑤ 건조 문화 지역의 특징이다.

15

인간이 주변 환경에 적응하거나 주변 환경을 극복하는 과정에서 만들어진 생활 양식을 문화라고 한다. 그리고 비슷한 문화가 나타나는 공간 범위를 문화 지역이라고 하며, 동일한 문화 지역에서는 비슷한 문화 경관이 나타난다.

16

제시된 지도의 A는 인도 문화 지역, B는 동아시아 문화 지역, C는 동남아시아 문화 지역이다. 모두 고온 다습한 계절풍의 영향을 받는 지역으로, 넓은 평야 지대를 중심으로 벼농사가 이루어진다.

다양한 종교 경관

- 크리스티교 : 십자가, 성당, 교회
- 이슬람교 : 성지(메카) 순례, 하잡, 돼지고기 금기, 모스크(둥근 지붕, 뾰족한 첨탑)
- 불교 : 사찰, 불상, 불탑, 승려
- 힌두교 : 쇠고기 금기, 갠지스강 목욕 의식

식사 도구를 기준으로 한 문화 지역

- 젓가락 문화권 : 한국, 중국, 베트남 등 → 반찬을 집기에 편리한 젓가락 사용
- 손가락 문화권 : 남아시아 지역 등 → 찻기가 없는 밥을 식혀서 먹기 때문
- 나이프 · 포크 문화권 : 유럽, 아메리카, 오세아니아 등 → 음식을 식탁에서 잘라먹기 때문

해결의 실마리

한자, 불교, 유교, 벼농사



동아시아 문화 지역



한국, 중국, 일본 → C

17

제시된 사진은 십자가가 있는 교회나 성당에서 예배를 드리는 모습과, 크리스티교의 상징인 십자가의 모습이다. 이러한 문화 경관은 크리스티교 문화 지역에서 볼 수 있다.

문제자료 | 뜯어보기



크리스티교의 종교 경관인 예배하는 모습이에요.



크리스티교의 상징인 십자가예요.

18

예시답안 (1) 식사 도구, (2) A 지역은 젓가락을 사용하여 식사하는 문화가 나타나는 반면, B 지역은 주로 손을 이용하여 식사하는 문화가 나타날 것이다.

채점 기준	등급	평가 기준
	상	젓가락 문화권의 특징과 손가락 문화권의 특징을 모두 옳게 서술한 경우
	하	젓가락 문화권의 특징과 손가락 문화권의 특징을 밝히지 않고 식사 도구가 다르다고만 서술한 경우

19


예시답안 (가) 지역은 기온이 높고 강수량이 많은 곳인 반면, (나) 지역은 강수량이 적고 부드러운 황토가 많이 쌓여 있는 곳이다.

채점 기준	등급	평가 기준
	상	(가) 지역과 (나) 지역의 자연환경을 모두 옳게 서술한 경우
	하	(가) 지역과 (나) 지역의 자연환경 중 하나만 옳게 서술한 경우

문제자료 | 뜯어보기



수면보다 가옥의 바닥을 높게 지은 수상 가옥이에요. 창문이 크고 사방이 탁 트여 있어요.



황토 언덕에 굴을 파서 만든 가옥이에요.

20

예시답안 이슬람교를 믿는 여성들은 외출할 때 머리와 목을 가리는 천을 두른다(히잡을 착용한다).

채점 기준	등급	평가 기준
	상	이슬람교와 관련 있음을 밝히고, 의복의 특징을 옳게 서술한 경우
	하	이슬람교와 의복의 특징 중 하나만 옳게 서술한 경우

2 세계화에 따른 문화 변화

3 문화의 공존과 갈등

학교시험적용문제

▶ 기본학습서 088~091쪽

- 01 ④ 02 ④ 03 ⑤ 04 ② 05 ③ 06 ④ 07 ③
08 ⑤ 09 ⑤ 10 ① 11 ② 12 ③ 13 ② 14 ②
15 ⑦ 문화 접촉, ⑧ 문화 전파 16 세계화
17 벨기에 18 해설 참조 19 해설 참조 20 해설 참조

01

문화가 전파되는 지역은 문화가 형성된 지역과 자연환경 및 경제·사회적 환경이 다르기 때문에 문화가 전파되는 과정에서 기존의 모습이 변형되거나 새로운 문화가 만들어지는 문화 변용이 나타난다.

02

문화가 다른 지역으로 전해져 그 지역에 정착되는 현상을 문화 전파라고 한다. 이슬람교 상인들의 상업 활동으로 동남아시아에 이슬람교가 전파된 것, 스포츠나 음악 등이 다른 지역으로 전파되는 것이 대표적인 사례이다.


03

라틴 아메리카(E)의 '라틴'은 남부 유럽의 민족과 언어를 뜻한다. 이 지역은 에스파냐와 포르투갈의 지배를 받으면서 남부 유럽의 문화가 전파되어 남부 유럽과 비슷한 문화적 특징이 나타나게 되었다.

04

건조 기후 지역에 위치한 말리는 주변에서 쉽게 구할 수 있는 진흙을 이용하여 이슬람 사원을 만들었다. 이는 이슬람교가 전파되는 과정에서 지역의 자연환경을 반영하여 종교 건축물의 재료가 변형된 사례이다.

문제자료 뜯어보기



흙으로 지은 이슬람교 사원이에요. 말리의 자연환경과 고유 문화를 반영하여 독특한 첨탑 대신 풍요를 상징하는 타조 알이 얹혀 있어요.

05

한국, 중국, 일본은 모두 젓가락을 사용하는 문화권에 속하지만 지역의 특성이 반영되어 젓가락의 형태가 조금씩 다르다. (가)는 한국, (나)는 중국, (다)는 일본 젓가락의 특징이다.

문제자료 뜯어보기



중국 젓가락
→ 나무나 플라스틱으로 만들어졌고, 멀리 있는 음식을 집을 수 있도록 길이가 길어요.



한국 젓가락
→ 쇠로 만들어졌으며, 중국과 일본의 중간 정도 길이예요.



일본 젓가락
→ 습한 섬나라의 특성상 녹슬지 않는 나무로 만들었고, 그릇을 입에 대고 먹어 길이가 짧아요.

06

미국 남부에서 기원한 재즈는 흑인 노예들의 감정을 표현한 아프리카 전통 음악과 유럽 군악대 연주 기법이 결합되어 만들어졌다.

오답풀이 ① 레게는 아프리카에서 온 사람들이 미국의 음악과 악기 등의 영향을 받아 만든 음악이다. ② 살사는 쿠바의 전통 음악에 라틴 아메리카의 음악이 더해져 만들어진 새로운 장르의 리듬댄스이다. ③ 삼바는 화려하고 정열적인 춤으로 아프리카에서 브라질로 이주한 사람들의 아픔을 달래주던 춤이다. ⑤ 탱고는 유럽 이주민들과 아프리카 이주민들의 춤이 결합되어 남아메리카에서 발생한 춤이다.

07

미국 영화 산업은 막대한 자본을 바탕으로 전 세계 영화 상영권을 장악하였다. 이로 인해 각국의 영화 산업이 쇠퇴하거나 문화 다양성이 훼손되고 문화의 획일화 현상이 나타나는 부작용도 있다.

08

세계화로 인해 문화 교류가 활발해지면서 서로 다른 문화 요소들이 결합되어 기존 문화의 성격을 지니면서도 새로운 성격을 지닌 제3의 문화가 형성되기도 한다.

09

미국 광부의 작업복으로 제작되었던 청바지를 전 세계인이 즐겨 입게 된 것은 세계 여러 지역 사람들의 옷차림이 비슷해지는 문화의 획일화 사례에 해당한다.

오답풀이 ② 생활한복은 한복의 아름다움에 서양 의복의 실용성을 결합한 것이다. ③ 전통적인 국악 연주와 외국에서 들어온 뮤지컬이 만나 새로운 공연을 창조하였다.

10

스위스는 유럽 내륙에 위치하며 복잡한 국가 형성 과정을 거치면서 다양한 언어가 공존하게 되었다. 독일어, 프랑스어, 이탈리아어, 레토로망스어 등 네 개의 공용어를 사용하고 있으며, 소수 언어를 보호하는 것을 헌법에 명시하고 있어 다양한 언어가 갈등 없이 공존하고 있다.

라틴 아메리카로의 남부 유럽 문화 전파
• 언어 : 에스파냐어, 포르투갈어(브라질)
• 종교 : 가톨릭교
• 인종 : 원주민, 유럽계, 아프리카계 등 다양한 문화 형성

세계화와 문화의 획일화
• 의미 : 전 세계의 문화가 비슷해짐
• 영향 : 서구화, 지역 고유 문화의 약화
• 사례 : 글로벌 의류 기업, 미국 영화 산업, 햄버거·커피·피자 판매 기업

해결의 실마리

- 돌침대 : 침대 문화 + 온돌 문화
- 불고기 피자 : 피자 + 불고기

서로 다른 문화 요소의 결합 사례

11

이스라엘에 설치된 분리 장벽은 이스라엘과 팔레스타인 간의 갈등을 보여주는 사례이다. 이 지역은 유대교와 이슬람교 간의 종교 갈등이 심각한 지역으로, 분리 장벽이 설치되면서 장벽 안에 위치한 팔레스타인 사람들이 어려움을 겪게 되었다.

문제자료 뜯어보기



영국 국기를 든 백인과 원주민인 마오리 부족 측장이 마주 보고 있어요.



이스라엘과 팔레스타인을 나누는 분리 장벽이 설치되었어요.



스위스 지폐에는 여러 언어가 함께 적혀 있어요.



스위스 여권은 네 개의 공용어와 영어가 함께 적혀 있어요.



가톨릭교 성당에서 이슬람교 종교 지도자가 설교를 하고 있어요.

12

제시된 내용은 지도의 C(카슈미르)지역에 대한 것이다. 주민 대다수가 이슬람교 신자인 카슈미르는 파키스탄과 비슷한 문화를 갖고 있다. 하지만 이 지역의 힌두교 지도자가 인도에 통치권을 넘기면서 종교 갈등이 발생하였다.

오답풀이 < 지도의 A는 언어 갈등을 겪고 있는 벨기에, B는 종교 갈등을 겪고 있는 이스라엘-팔레스타인, D는 다양한 문화가 공존하는 말레이시아, E는 언어 갈등을 겪고 있는 캐나다의 퀘벡주이다.

13

무역이 발달한 싱가포르의 노동력 확보를 위한 이민 정책을 펼쳤고, 그 결과 다양한 민족과 종교가 공존하게 되었다.

14

문화 다양성을 유지하기 위해서는 다양한 종교와 언어의 자유를 법적으로 보장해야 한다.

15

서로 다른 문화를 지닌 집단이나 사회가 지속적으로 만나 는 현상을 문화 접촉, 문화가 다른 지역으로 전해져 정착 되는 현상을 문화 전파라고 한다.

해결의 실마리

성모상의 갈색 피부



가톨릭교 전파



원주민 모습 반영하여 문화 변용

햄버거와 문화 변용

- 라이스 버거 : 빵 대신 밥 이용 → 아시아의 농업 방식(벼농사) 반영
- 타코 버거 : 얇은 빵에 고기를 싸먹는 형태 → 멕시코의 식사 방식 반영

해결의 실마리

힌두교, 불교, 이슬람교 종교 경관 공존



다양한 문화 공존



문화 교류에 유리한 위치, 이민 정책

문화 다양성 유지 노력

- 제도적 차원 : 종교의 자유 보장, 다양한 공용어 지정
- 개인적 차원 : 문화 상대주의, 다문화주의적 태도, 문화 교류 참여

16

오늘날에는 교통과 통신의 발달로 지역 간의 교류가 활발해지면서 세계 각 지역의 문화가 유사한 모습으로 변해가는 문화의 세계화 현상이 나타나고 있다.

17

벨기에는 네덜란드어를 쓰는 북부 플랑드르 지역과 남부 왈롱 지역 간의 언어 차이로 인한 갈등을 겪고 있다. 이러한 언어 갈등은 남북 간의 경제적 격차로 인해 더욱 심해지고 있다.

18

예시답안 가톨릭교가 전파되는 과정에서 원주민의 모습을 반영하여 자신들의 모습과 닮은 갈색 피부의 성모상을 만들었다.

채점 기준	등급	평가 기준
	상	문화 변용의 과정과 성모상의 특징을 모두 서술한 경우
	하	문화 변용의 과정과 성모상의 특징 중 하나만 서술한 경우

문제자료 뜯어보기



라틴 아메리카에 문화를 전파한 남부 유럽의 성모상과 달리 지역 주민의 모습이 반영되어 갈색 피부가 나타나고 있어요. 이를 보고 문화 변용이 일어났음을 알 수 있어요.

19

예시답안 햄버거와 같은 특정 음식이 세계 여러 지역에 판매되면서 음식 문화가 획일화되고 지역의 고유한 음식 문화가 줄어들었다. 반면, 지역의 특성을 반영한 새로운 햄버거 메뉴가 개발되어 새로운 음식 문화가 창조되기도 하였다.

채점 기준	등급	평가 기준
	상	세계화가 문화 변용에 미친 부정적인 측면과 긍정적인 측면을 모두 옳게 서술한 경우
	하	부정적인 측면과 긍정적인 측면 중 하나만 서술한 경우

20

예시답안 제도적 측면에서는 다양한 언어나 종교의 자유를 법적으로 보장하는 것이 필요하다. 또, 개인적 측면에서는 다양한 문화의 가치를 이해하고 존중하는 문화 상대주의와 다문화주의의 태도를 가지는 것이 필요하다.

채점 기준	등급	평가 기준
	상	제도적 측면의 노력과 개인적 측면의 노력을 모두 서술한 경우
	하	제도적 측면의 노력과 개인적 측면의 노력 중 하나만 서술한 경우

대단원 완성문제

▶ 기본학습서 093~096쪽

01 ⑤ 02 ③ 03 ② 04 ③ 05 ① 06 ④ 07 ②
08 ④ 09 ② 10 ③ 11 ③ 12 ⑤ 13 ③ 14 ⑤
15 ② 16 ③ 17 해설 참조 18 해설 참조 19 해설
참조 20 해설 참조

01

사람들이 환경에 적응하면서 나타나는 의식주, 언어, 종교, 음악 등의 생활 양식을 문화라고 한다. 문화는 지역마다 다른 자연환경과 경제·사회적 환경의 영향을 받아 다양하게 나타난다. 지리적으로 가깝거나 오랜 교류를 통해 비슷한 문화가 나타나는 지역을 묶은 것을 문화 지역이라고 한다. ⑤ 공업 및 서비스업이 발달한 지역은 도시로, 고층 건물, 도로와 자동차 등 현대적이고 인공적인 경관이 잘 나타난다.

02


(가)는 우리나라, 중국, 일본이 포함되는 동아시아 문화 지역(C), (나)는 유럽 문화 지역(A)에 대한 설명이다.

오답풀이 ◀ B는 건조 문화 지역, D는 오세아니아 문화 지역, E는 앵글로아메리카 문화 지역이다.

03

북부 아프리카와 서남 아시아, 중앙 아시아 일대에서 나타나는 건조 문화 지역(B)의 주민들은 이슬람교를 주로 믿고, 온몸을 감싸는 헐렁한 옷을 입는 것이 특징이다.

문제자료 뜯어보기



이슬람교를 믿는 지역에서는 이슬람교의 성지인 메카를 순례하는 모습을 볼 수 있어요.



건조 기후 지역에서는 강한 햇볕과 모래바람을 막기 위해 온몸을 감싸는 헐렁한 옷을 주로 입어요.

04

제시된 농업 분포 지도를 통해 인도 북서부에서는 주로 밀 농사를, 남부에서는 벼농사를 하고 있음을 알 수 있다. 그리고 제시된 종교 분포 지도를 통해, 인도는 주로 힌두교를 믿는 반면, 방글라데시와 파키스탄은 주로 이슬람교를 믿는다는 것을 알 수 있다.

오답풀이 ◀ 가. 인도 남부에서는 주로 벼농사를 하기 때문에 쌀을 주식으로 한다. 나. 쌀농사를 주로 하는 방글라데시는 인도 남부와 비슷한 농업 문화가 나타난다.

기후와 전통 가옥

- 열대 기후 : 개방적 가옥 구조, 고상 가옥, 수상 가옥
- 건조 기후 : 두꺼운 벽, 작은 창문, 흙집
- 현대 기후 : 폐쇄적 가옥 구조, 고상 가옥

05

연중 기온이 높고 강수량이 많은 열대 기후 지역에서는 가옥의 바닥을 지면보다 높게 짓는 고상 가옥을 볼 수 있다. 고상 가옥은 지열과 해충을 피할 수 있으며, 창문이 크고 사방이 트여 있어 무더위를 피할 수 있다.

06

지도의 (가) 지역은 이슬람교 문화 지역, (나) 지역은 힌두교 문화 지역이다. 가.은 교회로 크리스트교 종교 경관이다. 나.은 이슬람교를 믿는 여성들이 착용하는 히잡, 다.은 힌두교를 믿는 사람들이 갠지스강에서 목욕하며 죄를 씻는 의식을 하는 모습이다.

문제자료 뜯어보기



크리스트교 : 성당이나 교회 건물을 볼 수 있어요.
불교 : 불탑, 불상, 승려 등을 볼 수 있어요.
이슬람교 : 둥근 모양의 지붕과 뾰족한 첨탑의 모스크, 메카 성지 순례 모습, 히잡을 착용한 여성들의 모습을 볼 수 있어요.
힌두교 : 갠지스강에서 목욕하는 모습을 볼 수 있어요.

07

재즈는 아프리카 음악과 유럽의 연주 기법이 결합되어 만들어진 음악 형태이며, 멕시코의 성모상은 원주민의 특징이 반영된 모습이다. 이처럼 문화는 전파되는 과정에서 지역의 환경을 반영하여 변형되기도 하는데, 이를 문화 변용이라고 한다.

08

제시된 사례는 모두 어떤 문화 요소가 다른 지역으로 이동하여 그 사회의 문화로 정착한 것으로 문화 전파의 대표적인 사례이다.

오답풀이 ◀ ⑤ 문화의 섬이란 문화 전파 과정에서 주변 지역과 다른 독특한 문화 지역이 형성된 경우를 말한다.

09

제시된 자료는 햄버거가 전 세계로 전파된 과정을 설명하고 있다. 몽골족의 음식 문화에서 시작된 햄버거는 유럽을 거쳐 미국의 패스트푸드 기업을 통해 전 세계로 전파되었다. 이 과정에서 해당 지역의 음식 문화가 반영되기도 하였다.

10

벼농사가 활발한 아시아 지역에서는 빵 대신 밥을 이용한 라이스 버거가 개발되었다. 이와 같이 지역의 특성을 반영한 햄버거 메뉴 개발은 문화 변용의 대표적인 사례이다.

11

생활한복이나 한복 드레스는 전파된 문화가 기존의 문화와 융합되면서 새로운 문화가 창조된 사례이다. 돌침대와 불고기 피자 또한 새로운 문화 창조의 모습이다.

오답풀이 ◀ ㄱ과 ㄴ은 세계의 문화가 획일화되고 있는 사례에 해당한다.

12

대중 매체와 인터넷의 발달로 문화 전파가 빠르게 이루어지면서 자국의 문화를 창조적으로 발전시켜 널리 알리려는 노력이 이루어지고 있다. 한류는 대표적인 사례이다.

오답풀이 ◀ ① 세계화로 지역 간의 문화 교류가 더욱 활발해지고 있다. ③ 문화 산업의 경제적 가치는 높아지고 있다. ④ 우리나라의 문화가 다른 지역으로 전파된 사례이다.

13

이스라엘 팔레스타인은 유대교와 이슬람교가 대립하고 있는 지역이며, 카슈미르는 힌두교와 이슬람교 간의 갈등으로 영토 분쟁이 발생하고 있는 지역이다.

14

제시된 표는 싱가포르의 종교 기념일이다. 싱가포르는 다양한 종교 기념일을 법정 공휴일로 지정하여 다양한 문화 공존을 당연하게 받아들일 수 있는 여건을 마련하였다.

15

히잡은 이슬람교 여성들이 착용하는 복장이다. 프랑스에서는 여성 차별 금지, 범죄 예방 등을 목적으로 히잡 착용을 금지하는 법이 제정되었다. 그러나 프랑스에 거주하는 이슬람교도들은 히잡 착용 금지가 종교적 자유를 침해하는 것이라며 반발하고 있다.

16

제시된 정책은 모두 다른 나라의 문화를 이해하는 기회를 마련하는 것이다. 이를 통해 문화 다양성을 유지할 수 있다.

17

예시답안 이 지역은 일 년 내내 몹시 춥기 때문에 추위를 견디기 위해 털옷 등을 입는 의복 문화가 발달하였다.

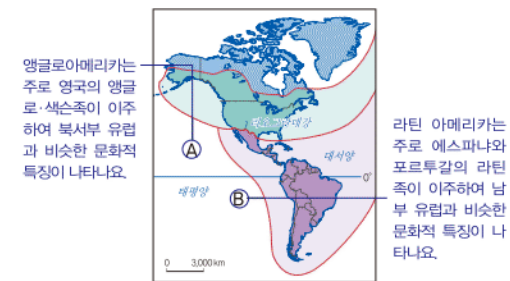
채점 기준	등급	평가 기준
	상	기후 특색과 옷차림의 특징을 모두 서술한 경우
	하	기후 특색과 옷차림의 특징 중 하나만 서술한 경우

18

예시답안 A 지역 주민들은 주로 개신교를 믿고 영어를 사용하는 반면, B 지역 주민들은 주로 가톨릭교를 믿고 에스파냐어와 포르투갈어를 사용한다.

채점 기준	등급	평가 기준
	상	A 지역과 B 지역의 종교와 언어를 옳게 비교하여 모두 서술한 경우
	하	A 지역과 B 지역의 종교와 언어 중 한 가지만 서술한 경우

문제자료 뜯어보기



19

예시답안 벨기에에서는 네덜란드어를 사용하는 북부 플랑드르 지역과 프랑스어를 사용하는 남부 왈롱 지역 간에 언어 갈등이 발생하고 있다.

채점 기준	등급	평가 기준
	상	벨기에에서 일어나고 있는 언어 갈등과 관련된 두 언어를 모두 포함하여 서술한 경우
	하	단순히 언어 갈등이라고만 서술한 경우

20

예시답안 세계화는 문화 변동에 부정적인 영향을 미친다. 세계화로 인해 세계 여러 지역은 문화적 교류가 활발하게 이루어지게 되었지만, 그로 인해 전 세계의 문화가 획일화되고 지역의 고유문화가 줄어드는 문제점이 나타나고 있다. 예를 들면, 세계 여러 지역의 사람들이 양복이나 청바지와 같은 비슷한 옷을 입게 되면서 지역 고유의 옷차림은 줄어들게 되었다. 또한, 햄버거·커피·피자와 같이 비슷한 음식을 먹게 되면서 지역 고유의 음식 문화는 약화되고 있다. 이와 같이 세계화로 인해 세계 여러 지역의 문화가 계속해서 선진국의 문화와 유사해진다면 각 지역의 개성과 정체성은 사라지게 될지도 모른다.

세계화는 문화 변동에 긍정적인 영향을 미친다. 문화는 세계의 다양한 시대의 흐름에 따라 끊임없이 변화해왔다. 세계화로 인해 전 세계 여러 지역의 문화가 활발하게 교류하면서 문화의 다양성이 커지고 기존의 문화는 더욱 풍성해졌다. 예를 들면, 불고기 피자과 같이 외국의 음식 문화와 우리의 음식 문화가 합쳐져 새로운 음식 문화가 만들어지기도 하고, 생활한복이나 한복 드레스와 같이 우리 고유의 의복 문화를 창조적으로 발전시키기도 하였다. 또한, 창조적으로 발전시킨 우리 문화를 전 세계 여러 지역에 쉽게 알릴 수 있게 되었다. 이러한 현상의 대표적인 사례로 한류가 있다.

채점 기준	등급	평가 기준
	상	자신의 의견을 분명히 밝히고 구체적인 사례를 들어 논리적으로 전개한 경우
	하	자신의 의견을 밝히지 못하였거나 구체적인 사례를 제시하지 못한 경우

언어 공존과 갈등

- 언어 공존 지역 : 스위스 (독일어, 프랑스어, 이탈리아어, 레토로망스어), 인도(지역, 민족별로 다른 언어 존재)
- 언어 갈등 지역 : 벨기에 (북부 네덜란드어 ↔ 남부 프랑스어), 캐나다 (퀘벡 주(프랑스어 사용))

해결의 실마리

- 할리우드 영화
 - 문화의 획일화, 서구화 → 지역 고유문화의 약화
- 사례 : 패스트푸드 음식, 청바지, 양복
- 발리우드 영화
 - 문화 융합 → 지역 고유문화의 창조적 발전
- 사례 : 퓨전 음식, 퓨전 음악, 생활한복, 한복 드레스

V 지구 곳곳에서 일어나는 자연재해

1 자연재해의 발생 지역과 원인

학교나별 적중 문제

▶ 기본학습서 100~103쪽

01 ⑤ 02 ② 03 ③ 04 ④ 05 ③ 06 ④ 07 ③
08 ④ 09 ② 10 ① 11 ② 12 ② 13 ⑤ 14 ③
15 지진 해일 16 환태평양 조산대 17 태풍 18 해설
참조 19 해설 참조 20 해설 참조

01

자연재해는 크게 지진과 화산 활동, 지진 해일 등 지형과 관련된 재해와 홍수, 가뭄, 열대 저기압, 폭설 등 기후와 관련된 재해로 나눌 수 있다. ⑤ 지진은 지형과 관련된 재해이며, 나머지는 기후와 관련된 재해이다.

02

자연재해는 기상 현상이나 지각 변동 등에 의해 인명 손실 및 재산 피해를 발생시킨다. 자연재해는 크게 기후와 관련된 재해인 태풍, 홍수, 가뭄 등이 있고, 지형과 관련된 재해인 지진, 화산 활동, 지진 해일 등으로 구분한다.

오답풀이 ㄴ. 가뭄은 오랫동안 비가 내리지 않아 사용할 물이 부족하여 나타나는 현상으로, 오랜 기간 넓은 지역에 피해를 주는 대표적인 자연재해이다. ㄹ. 지구 온난화로 자연재해의 증가 속도는 더욱 빨라지고 있다.

03

제시된 지도에 표시된 알프스·히말라야 조산대와 환태평양 조산대는 지각판과 지각판의 경계에 해당하는 지역이다. 조산대는 지각 변동으로 인한 지진과 화산 활동이 활발한 지역으로 지각이 매우 불안정하다.

04

제시된 사진은 지진으로 무너진 도로의 모습을 나타낸 것이다. 지진은 지각판이 움직이면 그 경계에서 판과 판이 서로 충돌하거나 어긋나면서 발생한다.

오답풀이 ① 풍수해는 집중 호우나 태풍에 의해 주로 나타나는 자연재해이다. ② 지진은 진행 속도가 매우 빠르다. ③ 판과 판이 만나는 경계에서 발생한다. ⑤ 지진은 지형 관련 자연재해이다.

05

지진과 같은 지형적 원인에 의해 발생하는 자연재해에는 화산 활동과 지진 해일이 있다.

오답풀이 ㄱ. 가뭄과 ㄹ. 열대 저기압은 기후적 원인에 의해 발생하는 자연재해이다.

화산 폭발에 의한 분출물

- 화산재 : 화산재는 호흡기 문제를 유발하며 기계를 오작동시키기도 함
- 화산 가스 : 화산이 분출할 때 나오는 독성 기체
- 화산쇄설물 : 화산의 분화로 분출되는 크고 작은 모양의 고체 물질을 통틀어 이르는 말

06

화산 활동이 발생하면 용암이나 화산 분출물에 의해 농경지, 시설물 등이 파괴되기도 한다. 또한, 화산재로 인해 항공 운항에 차질이 발생하며, 화산 가스는 산성비를 내리게 하여 식생을 파괴한다. ④ 화산재가 대기권으로 올라가 햇빛을 가리게 되면서 지구의 기온을 낮추기도 한다.

07

제시된 그림은 지진 해일의 발생 과정이다. 지진 해일은 해저에서 지진과 화산 활동 등이 발생하여 나타난다.

오답풀이 ① 지진 해일은 발생 지점에서 수천 km 떨어진 곳까지도 영향을 미친다. ② 지진 해일은 매우 빠른 속도로 이동한다. ④ 해저 지진이나 화산 활동에 의해 발생한다. ⑤ 바다에서 발생한 지진 해일은 해안가로 다가올수록 파도가 높아진다.

08

홍수가 발생할 위험이 큰 곳은 큰 강의 하류에 위치한 저지대, 태풍과 같은 열대 저기압이 지나가는 경로에 위치하거나 계절풍이 불어 여름에 집중 호우가 내리는 지역이다. 또한, 겨울철 내렸던 눈이 봄철에 한꺼번에 녹아 하천의 유량이 증가하는 지역도 홍수 피해를 입을 가능성이 크다. ④ 삼림은 토양에 빗물을 모아 두었다가 비가 오지 않을 때 서서히 물을 흘려보내는 녹색 댐의 역할을 하기 때문에 홍수 피해를 줄여 주는 역할을 한다.

09

제시된 사진의 자연재해는 집중 호우 등에 의해 많은 비가 내려 하천이 범람하여 발생하는 홍수이다. 홍수가 발생하면 농경지, 가옥 등이 물에 잠기고, 많은 재산 피해와 인명 피해가 발생하기도 한다.

오답풀이 ①, ⑤는 가뭄, ③은 열대 저기압, ④는 지진이나 화산 활동과 관련된 내용이다.

10

제시된 지도의 A 지역은 세계적으로 빈번하게 홍수가 발생하는 곳이다. 홍수가 자주 발생하는 곳은 고온 다습한 계절풍의 영향을 받는 동남아시아와 동아시아의 큰 하천 주변 지역이다. 또한, 북극해 연안의 고산 지대에서도 쌓여 있던 눈이 녹아 강으로 흘러 들어가면서 홍수가 발생하기도 한다.

11

제시된 지도의 B 지역은 가뭄으로 인한 피해가 심각한 곳이다. ② 가뭄은 천천히 발생하고 장기간에 걸쳐 넓은 지역에 피해를 주는 특징이 있다.

오답풀이 ①, ⑤는 홍수, ③은 지진, 화산 활동, 지진 해일과 관련된 내용이다. ④ 지구 온난화로 자연재해의 발생 빈도가 높아지고 있다.

지구 온난화

- 지구 전체의 평균 온도가 높아지는 현상
- 석유, 석탄, 천연가스 등의 화석 연료의 사용 증가로 이산화탄소의 배출량이 증가하면서 지구의 온도가 상승

12

사헬 지대는 아프리카 사하라 사막의 남부에 위치한 지역이다. 이 지역은 오랜 가뭄과 목축·농경의 확대에 따른 삼림 훼손 등 인간의 인위적 행위로 인해 사막화가 빠르게 진행되고 있다.

오답풀이 ①은 화산 활동으로 분출된 화산재가 덮인 모습, ③은 지진으로 도로가 파괴된 모습, ④는 홍수 발생으로 침수 피해가 나타나 사람들이 피난하는 모습, ⑤는 폭설로 인한 피해 모습이다.

13

열대 저기압은 적도 부근의 저위도 지역에서 발생하여 중위도 지역으로 이동하는 기후 관련 자연재해이다. 강한 바람과 비를 동반하여 농경지와 시설물 등에 큰 피해를 입히며, 해안가의 항만 시설과 각종 양식장 등에도 큰 피해를 입힌다. 그러나 지구 온도의 균형을 유지하고, 적조 현상을 완화하는 등의 긍정적인 역할도 한다.

오답풀이 ① 가뭄으로 인해 나타날 수 있는 피해 내용이다. ② 열대 저기압이 발생하면 적조 현상을 완화하거나 지구의 열 균형을 유지하는 등 긍정적인 효과가 나타나기도 한다. ③ 폭설로 인한 피해 내용이다. ④ 가뭄에 대한 내용이다.

14

제시된 지도는 열대 저기압의 이동과 주요 피해 지역을 나타낸 것이다. 열대 저기압은 적도 주변의 열대 해상에서 발생하여 중위도 지역으로 이동한다. 열대 저기압은 많은 강수와 강한 바람을 동반하기 때문에 인명 및 재산 피해를 입히며, 발생 지역에 따라 다양한 이름으로 불린다.

문제자료 뜯어보기



지도를 보면 화살표가 적도 부근의 바다에서 시작되어 북반구와 남반구의 중위도 지역으로 각각 이동하는 것을 알 수 있어요. 이처럼 열대 저기압은 적도 부근의 저위도의 열대 해상에서 발생하여 중위도 지역으로 이동해요. 열대 저기압을 부르는 말은 지역에 따라 달라요. 지도에서 A와 같이 인도양과 아라비아해에서 발생하는 것을 사이클론이라고 부르며, B와 같이 북태평양의 필리핀 동부 해상에서 발생하는 것을 태풍이라고 불러요. 또한, 대서양에서 발생하는 것을 허리케인이라고 불러요.

오답풀이 ① 열대 저기압의 이동 경로이다. ② 열대 저기압은 고위도로 갈수록 세력이 점점 약해진다. ④ 열대 저기압은 저위도에서 발생하여 중위도로 이동한다. ⑤ A는 사이클론, B는 태풍으로 불린다.

사헬 지대의 사막화 원인

- 자연적 요인 : 지구 온난화로 인해 가뭄이 지속적으로 발생
- 인위적 요인 : 인구 증가에 따른 농경과 목축의 증가로 삼림과 초원이 파괴되면서 사막화가 더욱 확대

태풍의 이름

2000년부터 태풍의 영향을 받는 14개국(한국, 북한, 미국, 중국, 일본, 캄보디아, 홍콩, 필리핀, 타이, 말레이시아, 베트남, 라오스, 마카오, 미크로네시아 등)이 자국민의 고유 언어로 만든 명칭을 10개씩 제출하여 순번대로 사용하고 있음

15

제시된 글은 2004년에 발생한 지진 해일과 관련된 내용이다. 지진 해일은 바다 밑에서 발생한 지진이나 화산 활동 등으로 인해 바다에서 육지로 밀려오는 큰 파도이다. 지진 해일이 발생하면 그 충격이 바다에 전달되어 높은 파도가 해안으로 밀려와 큰 피해가 발생한다.

16

지도에 표시된 A는 환태평양 조산대이다. 지진과 화산 활동은 주로 판의 경계에서 발생하는데, 특히, 태평양을 둘러싸고 있는 환태평양 조산대는 지진과 화산 활동이 자주 발생하여 '불의 고리'라는 별명을 갖고 있다.

17

태풍은 열대 저기압의 하나로 주로 동아시아에 영향을 준다. 태풍이 발생하면 강한 비바람 때문에 풍수해가 일어나 재산과 인명 피해가 발생한다. 하지만 태풍은 더위와 가뭄을 해소하기도 하고, 적조 현상을 완화시키기도 하며, 지구 전체 온도의 균형을 맞추는 등 긍정적인 측면도 있다.

18

예시답안 지진과 화산 활동이다. 이는 지구 표면을 둘러싼 지각판의 경계에서 판과 판이 충돌하거나 분리될 때 주로 발생한다.

채점기준	등급	평가 기준
	상	지진과 화산 활동을 쓰고, 지각판의 경계에서 지진과 화산 활동이 발생한다는 내용을 서술한 경우
	하	지진과 화산 활동을 쓰고, 지각판의 경계에서 지진과 화산 활동이 발생한다는 내용을 서술하였으나 내용이 미흡한 경우

19

예시답안 사막화, 아프리카 사헬 지대의 사막화가 발생하는 자연적 요인은 지구 온난화로 인한 가뭄의 지속이며, 인위적 요인은 인구 증가에 따른 과도한 농경과 목축이다.

채점기준	등급	평가 기준
	상	사막화를 쓰고, 사막화 발생의 자연적 요인과 인위적 요인을 모두 서술한 경우
	하	사막화를 쓰고, 사막화 발생의 자연적 요인과 인위적 요인 중 한 가지만 서술한 경우

20

예시답안 A는 남부 아시아에 위치한 방글라데시이다. 방글라데시는 계절풍의 영향으로 여름철에 강수량이 집중되고, 이때 열대 저기압인 사이클론까지 통과하면서 큰 홍수가 발생한다. 또한, 국토 대부분이 해발 고도가 낮고 주민 대다수가 저지대에 살고 있어 홍수 피해가 크다.

채점기준	등급	평가 기준
	상	계절풍, 열대 저기압, 지형적 이유 중 두 가지를 옳게 서술한 경우
	하	세 가지 이유 중 한 가지만 옳게 서술한 경우

사이클론

- 인도양과 아라비아해 등에 많은 영향을 미치는 열대 저기압의 일종
- 특히 벵골만 일대의 방글라데시와 미얀마, 인도 북동부 등지에 많은 비를 뿌림

2 자연재해와 주민 생활

3 자연재해의 피해와 대응 방안

학교 시험 적용 문제

▶ 기본학습서 106~109쪽

01 ⑤ 02 ① 03 ② 04 ③ 05 ④ 06 ① 07 ④
08 ④ 09 ③ 10 ④ 11 ② 12 ① 13 ① 14 ⑤
15 ① 홍수, ② 가뭄 16 지열 발전 17 사막화 방지 협
약 18 해설 참조 19 해설 참조 20 해설 참조

01

지진과 화산 활동이 빈번하게 일어나는 지역에서는 많은 피해가 나타난다. 또한, 화산재로 인해 항공 교통 문제가 발생하기도 한다. 하지만 지열 발전을 활용할 수 있으며, 화산 지형을 관광 자원으로 활용하기도 한다. ⑤ 화산재가 태양의 빛을 가리게 되어 지구의 기온을 낮추기도 한다.

02

지열 에너지는 조산대 지역에서 많이 생산되는 에너지 자원이다. 지열 에너지는 환경 오염이 적고, 생산 비용이 저렴하여 경제성이 높다. 아이슬란드(A)는 난방열과 전력의 상당 부분을 지열 에너지에서 얻고 있다.

03

일본은 유라시아판과 태평양판이 만나는 곳에 위치하여 지진과 화산 활동이 자주 일어나는 나라이다. 이로 인해 많은 재산과 인명 피해가 발생하기도 하지만, 지형적인 특징을 잘 활용하여 관광 상품으로 이용하기도 한다. 특히, 일본은 온천을 잘 활용하여 많은 관광객이 방문한다.

04

제시된 사진은 홍수로 인해 도로가 물에 잠기고 사람들이 피난하는 모습이다. 홍수가 발생하면 많은 비로 인해 침수 피해가 발생하고, 산사태가 일어날 가능성이 높아진다.

오답풀이 < ㄱ, ㄴ, 가뭄에 대한 설명이다.

05

제시된 지도에 표시된 부분은 베트남의 메콩강 하류 지역이다. 이 지역은 계절풍의 영향으로 비가 많이 오기도 하지만, 비옥한 토양을 활용한 벼농사가 활발한 곳이다.

오답풀이 < ① 사막화가 진행되고 있는 지역의 주민 생활 모습이다. ②, ③, ⑤ 화산 활동이 활발한 지역의 주민 생활 모습이다.

06

지도의 A 지역은 나일강 하류이다. 나일강 하류 지역은 나일강의 주기적인 범람으로 인해 홍수가 자주 발생한다.

아스팔트로 포장된 도시 지역의 홍수

도시에서는 빗물이 땅속으로 잘 흡수되지 않음



대부분 땅위로 흘러 한꺼번에 하천으로 유입됨



이로 인해 도시의 홍수 발생 위험이 높아짐

지진 대비 내진 설계

- 지진으로 인해 발생하는 가장 많은 피해는 건물의 붕괴에 의한 인명 피해임
- 지진에 견딜 수 있도록 공학적으로 구조물의 내구성을 확보하는 설계인 내진 설계의 의무화가 필수적임

나일강과 고대 문명

나일강 하류는 주기적인 범람으로 인해 홍수가 자주 발생



반복적인 홍수의 주기를 파악하는 과정에서 달력, 토지 측량술, 수학 등이 발달



농경과 기술의 발달에 의해 이집트 문명이 발달할 수 있었음

07

지도의 B 지역은 사하라 사막 이남의 사헬 지대이다. 사헬 지대에서는 가뭄이 지속되는 상황에서 농경과 목축이 확대되어 산림이 훼손되었기 때문에 사막화가 더욱 빠르게 진행되고 있다.

오답풀이 < ㄱ, 사헬 지대는 원래 초원이었지만 최근 빠르게 사막으로 변하고 있다. ㄴ, 사헬 지대에서는 가뭄으로 인한 사막화로 기아와 난민이 증가하고 있다.

08

(ㄱ)의 도시화 이전에는 지표의 빗물 흡수율이 높아 하천으로 적은 양의 빗물이 유입되어 하천 수위가 상승하는 속도가 느리다. 그러나 (ㄴ)의 도시 지역은 지표가 아스팔트와 콘크리트 등으로 포장되어 있어 빗물이 지표로 흡수되지 못하고 대부분 하천으로 유입되기 때문에 하천 수위가 급상승하고 이로 인해 홍수 발생 위험도 높다.

오답풀이 < ①, ② 숲은 도시보다 녹지 면적이 넓어 지표의 빗물 흡수율이 높다. ③ 도시는 아스팔트나 콘크리트의 포장 면적이 넓어 숲에 비해 하천의 유량이 급속히 증가한다. ⑤ 도시는 빗물의 하천 유입 속도가 빠르다.

09

중앙아시아에 위치한 아랄해는 세계에서 네 번째로 큰 호수였다. 하지만 관개 농업의 증가와 관개용수 사용의 증가로 인해 아랄해로 유입되는 하천의 유량이 줄어들면서 사막화가 급격하게 이루어져 지금은 그 규모가 줄어들었다.

10

홍수와 가뭄에 대응하기 위해서는 단기적으로는 댐과 저수지를 만들어야 하지만, 장기적으로는 산림을 잘 보호하고 가꾸는 것이 중요하다. 또한, 기상 관련 자연재해를 잘 예측할 수 있는 시스템을 갖추어야 한다.

오답풀이 < ㄱ, 아스팔트, 콘크리트 등의 포장 면적은 줄여야 한다. ㄴ, 홍수와 가뭄을 예방하기 위한 가장 좋은 방법 중 하나는 산림과 같은 녹지 공간을 보호하는 것이다.

11

태풍은 강한 바람과 많은 비를 동반하기 때문에 많은 피해를 입힌다. ② 태풍의 피해를 줄이려면 가정의 하수구나 집 주변의 배수구를 미리 점검하여 막힌 곳을 뚫어야 한다.

12

그림은 지진에 대비하기 위해 건축물 바닥 면을 내진 설계한 모습이다. 지진이 자주 발생하는 지역에서는 지진 피해를 줄이기 위해서 내진 설계를 의무화하는 것이 필요하다.

13

지진이 발생하면 구조물이 무너져 발생하는 피해를 최소화하기 위해 신속한 대피가 필요하다. ① 댐과 저수지를 만들어 물을 저장하는 기능을 강화하는 것은 가뭄과 홍수를 예방하기 위한 방안이다.

14

옥상 공원과 투수성 아스팔트 등은 빗물을 토양으로 침투시켜 홍수가 나지 않도록 하기 위한 시설물이며, 이는 자연과 유사한 물의 순환이 이루어지도록 한다.

15

방글라데시는 매년 홍수로 인해 많은 피해를 입는 대표적인 지역이며, 소말리아는 가뭄이 오랫동안 지속되면서 사막화 현상이 발생하고 있는 지역이다.

16

지열 발전은 땅속에서 나오는 증기나 뜨거운 물을 이용하는 발전이므로, 조산대가 위치한 지역에 주로 건설된다.

17

지도의 A 지역은 사막화 위험 지역이다. 사막화로 인한 피해를 줄이기 위한 국제 협약은 사막화 방지 협약이다.

문제자료 뜯어보기



지도에 표시된 A지역은 모두 사막 인근에 위치한 지역이다. 이를 통해 이곳이 사막화 위험 지역임을 알 수 있다.

18

예시답안 화산 활동으로 분출된 용암과 화산쇄설물이 주거나 농경지를 파괴하고, 대기에 있는 화산재는 햇빛을 차단하거나 항공 교통에 장애를 일으킨다. 하지만 땅속의 열에너지를 이용하여 전기를 생산하고 독특한 화산 지형과 온천을 관광 산업에 활용할 수도 있다.

채점기준	등급	평가 기준
	상	화산 활동에 의한 불리한 점과 유리한 점을 모두 서술한 경우
	하	두 가지 특징 중 한 가지만 서술한 경우

19

예시답안 도시화로 인해 아스팔트, 콘크리트 등의 포장 면적이 증가하면 땅속으로 스며드는 물의 양이 줄어들면서 빗물이 하천으로 유입되는 속도가 빨라지고, 강물이 급격히 불어나 홍수 발생 가능성이 높아진다.

채점기준	등급	평가기준
	상	도시화로 인한 포장 면적, 토양으로 흡수되는 빗물의 양, 하천으로의 유입 속도 등의 변화를 언급하여 서술한 경우
	하	단순하게 도시화를 통한 포장 면적의 증가로 홍수 발생 가능성이 높아진다고만 서술한 경우

도시의 홍수를 줄이는 방법

- 인간의 활동으로 증가하는 홍수 피해를 줄이려면 녹색댐의 역할을 하는 숲을 가꾸어야 함
- 도시에서는 물을 많이 저장할 수 있는 녹지 면적을 늘리고, 배수 시설을 정비하는 노력이 필요

20

예시답안 저수지와 보를 설치하고 다목적 댐을 건설한다. 삼림을 조성하여 홍수와 가뭄의 피해를 줄인다.

채점기준	등급	평가 기준
	상	홍수와 가뭄에 대한 대응 방안을 두 가지 모두 서술한 경우
	하	대응 방안을 제시하였으나, 내용이 미흡한 경우

대단원 완성문제

▶ 기본학습서 113~116쪽

- 01 ① 02 ⑤ 03 ④ 04 ③ 05 ② 06 ⑤ 07 ④
08 ④ 09 ④ 10 ③ 11 ③ 12 ② 13 ② 14 ⑤
15 ② 16 ② 17 해설 참조 18 해설 참조
19 해설 참조 20 해설 참조

01

지진과 화산 활동은 지형과 관련된 자연재해로, 주로 지각의 판과 판이 충돌하거나 엇갈리면서 발생한다.

오답풀이 ㄷ. 호우나 열대 저기압과 관련되는 내용이다.
ㄹ. 화산 활동에만 해당되는 내용이다.

02

지진 해일이 발생하면 해안에서는 거품이 일고 바닷물이 일시적으로 멀리까지 빠져나갔다가 높은 파도와 함께 해안으로 밀려와 큰 피해를 입힌다.

03

열대 저기압은 적도 부근의 바다에서 발생하며, 그 위치에 따라 이름이 다르다. 필리핀 부근에서 발생하는 것은 태풍, 인도양에서 발생하는 것은 사이클론, 대서양에서 발생하는 것은 허리케인이라고 부른다.

04

지도에 표시된 A, B, C 모두 강한 바람과 많은 비를 동반하는 열대 저기압이다. A는 사이클론, B는 태풍, C는 허리케인이다.

05

열대 저기압은 적도 주변 저위도 지역의 바다에서 발생하여 중위도 지역으로 이동한다. 이때 많은 비와 강한 바람을 동반하기 때문에 풍수해를 입힌다.

06

제시된 사진의 (가)는 홍수, (나)는 가뭄을 나타낸다. ⑤ 사헬 지대는 아프리카의 사하라 사막의 남부 지역으로, 가뭄으로 인해 사막화가 빠르게 진행되고 있다.

07

AD 79년 이탈리아 폼페이 근처의 베수비오 화산이 폭발하면서 고대 로마 도시인 폼페이가 매몰되었다. 이후 이곳은 유적 발굴을 통해 세계적인 관광지로 알려지게 되었다.

지진 해일의 발생 과정

- 1단계 : 해저에서 지진이나 화산 활동에 의한 충격으로 파도가 발생
- 2단계 : 파도가 빠른 속도로 퍼져 나감
- 3단계 : 해안에 가까워지면 파도의 속도는 느려지지만 높이가 점점 높아져 해일이 발생

베수비오 화산

- 이탈리아의 나폴리 부근에 있는 화산
- 역사적으로 많은 화산이 폭발하였지만 79년 화산 폭발로 인해 폼페이가 파괴된 것이 가장 큰 피해를 줌
- 1994년 폭발한 이후 현재까지 화산 폭발이 없었음

08

제시된 사진은 온천의 모습이다. 지진이나 화산 활동이 잦은 지역에서는 몸에 좋은 광물 성분이 풍부한 온천이 발달하여 이를 관광 자원으로 활용하고 있다.

09

아이슬란드는 지각판과 지각판의 경계 지역에 위치해 있어 지진과 화산 활동이 많다. 이로 인해 지열 에너지가 풍부하여 전력과 난방열 생산에 이용하고 있다.

10

홍수가 발생하면 침수, 산사태, 전염병 발생 등의 피해를 입지만, 가뭄 해소, 용수 확보, 비옥한 토양 형성 등에 도움이 되기도 한다.

11

지진은 다른 자연재해에 비해 예측이 어렵고 짧은 기간 동안 막대한 피해를 유발하기 때문에 다른 자연재해에 비해 발생 건수는 적어도 사망자 수가 많다.

12

사막화는 오랜 가뭄 및 인간의 인위적인 활동 등에 의해 사막 주변의 초원이 사막처럼 농사를 지을 수 없는 척박한 땅으로 변화하는 현상이다. 따라서 자연재해의 이점에 해당하는 사례로 적절하지 않다.

13

나일강 하류는 강물의 범람으로 인해 하천 주변에 비옥한 토사가 쌓여 과거부터 농경이 발달할 수 있었다. 그러나 나일강 상류에 아스완 하이 댐이 건설되면서 홍수로 인한 하류의 침수 피해는 줄어들었지만, 하천의 범람으로 만들어지던 비옥한 평야가 줄어들는 문제가 발생하게 되었다.

14

도시의 홍수는 포장 면적의 증가로 인해 하천으로 빗물이 빠르게 유입되기 때문에 발생하는 경우가 많다. 이를 해결하기 위해서는 물을 많이 저장할 수 있는 시설과 녹지 면적을 늘리는 것이 중요하다. 이러한 도시 홍수를 막기 위해 빗물 저장 시설, 옥상 정원과 같은 시설을 설치하고 있다.

15

사막화 방지 협약은 사막화를 겪는 지역을 지원하기 위한 국제 사회의 노력이다. 사막화가 가장 심각한 지역은 아프리카 사하라 사막 남부의 사헬 지대(B)이다.

16

지진이 발생하였을 때 피해를 줄이기 위해서는 지진 정보 체계를 갖추고 비상 대피 훈련을 자주 실시해야 한다. 또한, 구조물에 의한 피해를 줄이기 위해 내진 설계를 갖추어야 한다. ② 녹지와 습지를 보전하고 녹색 댐을 만드는 것은 가뭄과 홍수에 대비하기 위한 방법이다.

해결의 실마리

대규모 홍수 발생



도시화에 따른 포장 면적의 증가가 주요 원인



해결 방안 : 자연적인 물의 순환이 될 수 있도록 대책 필요

우리나라의 지진

- 지진의 강도는 약하지만 꾸준히 지진이 발생하고 있음
- 점차 지진의 발생 빈도가 증가하고 강도도 강화되는 추세
- 이에 따른 대책이 절실히 필요하며, 특히 지진에 대한 예보 시스템과 발생 시 구조 시스템을 철저히 준비할 필요가 있음

17

예시답안 지진 해일(쓰나미), 해저에서 지진이나 화산 활동이 발생할 경우 높은 파도가 발생하여 해안 지역을 덮치는 지진 해일이 발생한다.

채점기준	등급	평가 기준
	상	지진 해일(쓰나미)을 쓰고, 지진 해일의 발생 원인을 지진, 화산 활동과 관련지어 서술한 경우
	하	지진 해일(쓰나미)을 쓰고, 지진 해일의 발생 원인을 서술하였으나 내용이 미흡한 경우

18

예시답안 열대 저기압은 저위도의 열에너지를 고위도 지역으로 이동시켜 지구 기온의 균형을 유지해주며, 부족한 강수량을 채워주기 때문에 가뭄을 해소하기도 한다. 또한, 대기를 정화시키고 바닷물 속에 산소를 공급하여 적조 현상을 완화시키기도 한다.

채점기준	등급	평가 기준
	상	열대 저기압의 긍정적 효과를 두 가지 이상 서술한 경우
	하	열대 저기압의 긍정적 효과를 한 가지만 서술한 경우

19

예시답안 도시화가 진행되면 콘크리트와 아스팔트 등의 포장 면적이 증가한다. 이로 인해 빗물이 땅속으로 스며드는 양이 감소하고 하천으로 바로 유출되는 양은 증가하면서 하천의 수위가 더 빠르게 높아진다.

채점기준	등급	평가 기준
	상	하천 수위의 변화 속도를 도시화에 따른 포장 면적의 증가와 연결시켜 바르게 서술한 경우
	하	단순하게 도시화가 되어 수위가 높아졌다고 서술한 경우

20

예시답안 사막화는 사막 주변의 초원 지역이 사막과 같은 상태로 변화하는 현상이다. 사막화는 오랜 가뭄과 지구 온난화 등의 자연적 요인에 의해서 발생하지만, 최근 인간에 의한 과도한 가축 방목과 농경지 개척 등의 이유로 삼림과 초원이 파괴되면서 그 현상이 더욱 심화되고 있다. 이를 해결하기 위해서 국제 사회는 사막화 방지 협약을 체결하고, 사막화 지역에 나무 심기, 사막화 지역의 난민 구호 활동 등 다양한 활동을 하고 있다. 하지만 근원적인 해결을 위해서는 화석 연료의 과도한 사용으로 인한 지구 온난화를 막기 위한 노력부터 시작해야 할 것이다. 그러기 위해서 개인들은 전기를 아끼고, 대중교통을 활용하며, 생활 속에서 자연을 아끼며 보호하려는 자세를 가져야 한다.

채점기준	등급	평가 기준
	상	사막화의 발생 원인과 해결 방안에 대한 내용을 조건에 맞게 모두 서술한 경우
	중	사막화의 발생 원인과 해결 방안에 대하여 각각 한 가지씩만 서술한 경우
	하	사막화의 발생 원인과 해결 방안 중 한 가지만 서술한 경우

VI

자원을 둘러싼 경쟁과 갈등

1 자원의 분포와 자원을 둘러싼 갈등

학교 내 평가 문제

▶ 기본학습서 120~123쪽

- 01 ⑤ 02 ④ 03 ② 04 ④ 05 ③ 06 ⑤ 07 ⑤
08 ① 09 ② 10 ① 11 ① 12 ② 13 ① 14 ②
15 편재성 16 자원 민족주의 17 쌀 18 해설 참조
19 해설 참조 20 해설 참조

01

자원은 에너지 자원, 식량 자원, 물 자원과 같은 천연자원과 노동력, 창의력, 기술력 등의 인적 자원, 사회 제도, 관습, 종교와 같은 문화 자원을 포함한다.

02

자원은 지역적으로 고르게 분포하지 않고 특정 지역에 집중적으로 분포하는데, 자원의 이러한 특성을 편재성이라고 한다. 이 때문에 자원의 이동이 발생하고, 세계 각국에서 자원을 둘러싼 경쟁과 갈등이 일어난다.

03

제시된 사례와 같이 자원의 가치는 시대와 장소, 과학 기술의 발달, 사회적·문화적 배경 등에 따라 변화한다. 자원의 이러한 특성을 가변성이라고 한다.

04

A자원은 석유이다. 석유는 대부분 서남아시아의 페르시아만 지역 등 특정 지역에 매장되어 있어 주요 생산지와 소비지가 달라 국제적 이동이 활발하다. ④ 석유의 주요 수출국은 사우디아라비아, 쿠웨이트 등이다. 오스트레일리아는 석탄, 철광석 수출국이다.

05

중국 남부, 인도 남서부, 동남아시아 등지에서 주로 재배되는 식량 자원 A는 쌀이다. 쌀은 생산지에서 주로 소비되기 때문에 국제적 이동량이 적다.

오답풀이 ① 우리나라는 쌀의 자급자족이 가능하다. ②, ④, ⑤는 밀에 대한 설명이다.

06

밀은 서늘하고 건조한 지역에서도 잘 자라는 작물로 쌀에 비해 더 넓은 지역에서 재배된다. 밀은 주로 미국, 아르헨티나, 오스트레일리아 등의 신대륙에서 대규모로 재배하여 인구가 많은 유럽, 아시아 등의 구대륙으로 수출한다.

오답풀이 ㄱ. 밀은 주요 생산지와 소비지가 달라 국제 이동량이 많다. ㄴ. 서늘하고 건조한 지역에서도 재배된다.

자원의 종류

- 좁은 의미의 자원 : 천연 자원
- 넓은 의미의 자원 : 천연 자원 + 인적 자원 + 문화 자원

해결의 실마리

자원의 편재성 + 유한성



자원 소비 증가



자원 확보를 위한 갈등 심화

쌀

- 재배 조건 : 고온 다습한 기후 → 아시아 계절풍 기후
- 주요 생산지 : 동남아시아, 중국, 인도 등
- 생산지와 소비지가 거의 일치함 → 국제적 이동량 적음

문제자료 뜯어보기

쌀은 자라는 동안 고온 다습한 기후가 필요하기 때문에 적도 주변의 동남아시아와 인도, 중국 등지에서 많이 재배돼요.



밀은 춥거나 건조한 기후에도 잘 견디는 작물이기 때문에 전 세계적으로 널리 재배되고 있어요. 주요 소비지는 인구가 많은 북반구 구대륙이기 때문에 신대륙의 넓은 초원에서 상업적으로 재배해 수출한답니다. 특히 남반구의 밀 재배 시기는 북반구와 달라 좋은 시장 가격이 형성되기 때문에 수출에 유리하지요.

07

자원은 지구상에 고르게 분포하지 않고 일부 지역에 집중되어 분포한다. 또한, 석유, 천연가스 등은 인구 증가와 산업 발달로 사용량이 증가하면서 자원을 확보하기 위한 국가 간의 경쟁과 갈등이 심화되고 있다.

08

카스피해는 러시아, 아제르바이잔, 카자흐스탄, 이란, 투르크메니스탄으로 둘러싸여 있는 곳으로, 대규모의 석유와 천연가스가 매장되어 있다. 카스피해를 호수로 보느냐, 바다로 보느냐에 따라 각국의 영유권 면적이 달라지기 때문에 유전 지대를 더 많이 차지하기 위해 5개국이 대립하고 있다.

09

석유 수출국 기구(OPEC)는 사우디아라비아, 이란, 이라크, 쿠웨이트 등 석유를 수출하는 국가들이 국제 석유 시장에서 영향력을 키우기 위해 결성하였다.

10

북극해는 러시아, 캐나다, 미국, 덴마크, 노르웨이로 둘러싸여 있다. 최근 지구 온난화로 새로운 어장의 형성 가능성이 높아지고 북극해를 이용한 신항로와 주변의 석유 개발 가능성이 높아지면서 이를 둘러싼 각국의 영유권 분쟁이 심화되고 있다.

11

지도에 표시된 지역들은 국제 하천을 둘러싼 물 분쟁이 발생하고 있는 곳이다. 특히 서남아시아의 건조 기후 지역은 상류 지역 국가의 댐 건설, 가뭄 등으로 인해 물 자원 이용과 관련한 분쟁이 심화되고 있다.

12

메콩강은 동남아시아의 대표적인 국제 하천이다. 상류에 위치한 중국이 댐을 건설하면서 하류에 위치한 베트남, 라오스, 캄보디아 등과 분쟁이 발생하였다.

13

유프라테스강은 터키에서 시작해 시리아와 이라크를 지나 페르시아만으로 흘러드는 국제 하천이다. 건조 기후 지역을 주로 지나기 때문에 상류에 위치한 터키가 물에 대한 권리를 독점하면, 하류에 위치한 국가들은 심각한 물 부족 문제를 겪게 된다.

오답풀이 < 다. 농업 용수가 부족해져 농산물 수확량이 감소하였다. > 서남아시아의 국가들은 전력 공급을 주로 화력 발전에 의존하고 있다.

14

A 지역은 아프리카 북부 사하라 사막이 위치한 건조 기후 지역이다. 북부 아프리카의 대부분은 자연 조건이 농업에 불리하기 때문에 식량 자원의 수입이 많다. 따라서 식량 자원의 공급이 원활하지 못하거나 시장 가격이 상승하면 식량 부족 문제가 나타날 수 있다.

15

자원은 지역마다 고르게 분포하지 않고 특정 지역에 집중되어 분포한다. 자원의 이러한 특성을 편재성이라고 한다.

16

자원 민족주의는 민족과 국가의 이익을 위해 자국이 가진 자원을 무기화하려는 태도를 말한다. 산유국들이 석유 수출국 기구(OPEC)를 결성하여 석유 생산량과 가격 조절로 이익을 얻는 것이 대표적인 사례이다.

17

쌀은 기온이 높고 강수량이 많은 지역에서 주로 재배되므로 인도, 동남아시아, 중국, 한국, 일본 등이 주산지이다. 이곳은 세계적인 인구 밀집 지역으로 많은 양의 쌀을 소비하기 때문에 국제적 이동량은 밀에 비해 적은 편이다.

18

예시답안 오스트레일리아는 남반구에 위치하고 있어 밀 수확 시기가 북반구와 반대이다. 따라서 북반구로의 수출에 유리하다.

채점기준	등급	평가 기준
	상	오스트레일리아가 남반구에 위치함을 밝히고 수확 시기가 북반구와 다를 것을 들어 서술한 경우
	하	남반구에 위치함 또는 다른 수확 시기 중 하나만 들어 서술한 경우

19

예시답안 석유는 국제적 이동량이 매우 많다. 그 이유는 많은 양이 서남아시아의 페르시아만 지역에 매장되어 있어 편재성이 크기 때문이다.

채점기준	등급	평가 기준
	상	국제적 이동량이 많음, 편재성을 모두 서술한 경우
	하	제시된 내용 중 한 가지만 서술한 경우

물 분쟁

- 발생 지역: 국제 하천
- 갈등 모습: 상류 지역 국가의 댐 건설로 하류 지역 국가의 물 부족 문제 발생 → 갈등

자원의 특성

- 유한성: 자원의 매장량은 한정되어 있음
- 편재성: 자원은 일부 지역에 편중되어 있음
- 가변성: 자원의 가치는 사회 조건에 따라 달라짐

자원 민족주의

- 자원의 무기화
- 산유국의 국제적 영향력 증대 → OPEC 결성

석유와 주민 생활

- 석유를 바탕으로 발전한 나라: 사우디아라비아, 카타르, 아랍 에미리트 등
- 석유는 풍부하지만 어려움을 겪는 나라: 나이지리아 등

20

예시답안 카스피해, 카스피해에는 많은 양의 석유와 천연가스가 매장되어 있어 자원 개발을 둘러싼 카스피해 주변 국가 간 영유권 분쟁이 심각하다.

채점기준	등급	평가 기준
	상	카스피해를 쓰고, 석유와 천연가스를 둘러싼 영유권 분쟁을 서술한 경우
	중	카스피해를 쓰지 않고 이유만 서술한 경우, 또는 카스피해를 썼지만 석유, 천연가스를 쓰지 않고 이유를 서술한 경우
	하	카스피해만 쓴 경우

2

자원과 주민 생활

3

지속 가능한 자원 개발

학교시험 적용 문제

▶ 기본학습서 128~131쪽

01 ① 02 ④ 03 ⑤ 04 ② 05 ① 06 ⑤ 07 ④
08 ③ 09 ② 10 ④ 11 ⑤ 12 ⑤ 13 ④ 14 ②
15 석유 16 노르웨이 17 조력 18 해설 참조 19 해설 참조 20 해설 참조

01

아랍 에미리트의 두바이는 과거 평범한 어촌이었다. 하지만 석유 자원 개발을 통해 얻은 자본으로 도로, 빌딩, 공항, 항만 건설과 같은 사회 기반 시설을 확충하는 등 도시 발전에 사용하여 세계적인 도시로 성장하였다.

02

서남아시아의 국가들은 과거에는 유목과 오아시스 농업에 주로 종사했지만, 석유 자원을 개발하면서 경제적인 부를 축적하였다. 이 과정에서 유목민 수가 감소하고, 사람들의 전통적인 사고방식도 변화하고 있다.

03

제시된 자료의 나라들은 모두 자원이 풍부하다. 하지만 자원에 대한 인식과 보유한 자본, 자원을 개발할 수 있는 기술 수준에 따라 국가의 경제 수준은 다르다. 콩고 민주 공화국, 나이지리아 등의 국가는 풍부한 자원을 가지고 있으나 기술과 자본이 부족하고 정치 상황이 불안정하여 경제 발전을 잘 이루지 못하고 있다.

04

사우디아라비아는 세계 1위의 석유 수출국으로, 석유로 얻은 경제적 이익을 국가 발전에 활용한 대표적인 국가이다. 반면, 나이지리아는 석유의 매장량은 많지만, 자원에 대한 인식과 자원 개발 기술 수준이 낮아 오히려 풍부한 자원 때문에 어려움을 겪었던 대표적인 국가이다.

05

시에라리온은 다이아몬드가 풍부하게 매장된 국가이다. 이를 바탕으로 경제 발전이 이루어질 것이라고 기대되었으나, 오히려 풍부하게 매장된 다이아몬드가 정부군과 비정부군의 내전에 필요한 무기를 구매하는 데 사용되어 '피의 다이아몬드'라고 불리게 되었다. 이와 같은 사례를 통해 자원이 풍부하게 매장되어도 반드시 경제적인 혜택을 안겨 주지만은 않음을 알 수 있다.

06

콩고 민주 공화국은 콜탄이 풍부한 국가이다. 하지만 콜탄을 개발하는 과정에서 빈부 격차가 심화되고, 내전이 발생하는 등의 사회 문제가 발생하여 오히려 국민의 삶이 더욱 어려워졌다.

07

현재 많이 사용되고 있는 에너지 자원은 석유, 석탄, 천연가스 등의 화석 연료이다. 화석 연료는 온실 가스를 배출하여 지구 온난화 등의 환경 문제를 유발하고 사용 기간이 짧아 고갈의 위험이 매우 높다. 또한 편재성이 커 자원의 소비량이 증가하면서 자원 확보를 위한 경쟁이 치열해지고, 자원을 사용할 수 있는 국가와 그렇지 못한 국가 간의 격차가 심해지게 된다.

08

제시된 지도에 표시된 지역은 풍력 발전이 이루어지고 있는 곳이다. 풍력 발전은 일정한 방향에서 강한 바람이 부는 산지 지역이나 해안 지역에서 개발하기 유리하다. 우리나라는 제주도과 태백 산지, 해안가 등을 중심으로 풍력 발전소가 건설되어 있다.

오답풀이 ① 지열 에너지에 대한 설명이다. ② 태양광 에너지에 대한 설명이다. ④ 풍력 에너지는 바람이 부는 날에만 전력을 생산할 수 있기 때문에 기후 조건의 영향을 많이 받는다. ⑤ 바이오 에너지에 대한 설명이다.

09

제시된 사진의 (가)는 뉴질랜드에서 지열 에너지를 이용하는 모습이다. 뉴질랜드나 아이슬란드 등과 같이 화산 활동이 활발한 지역에서는 지열 발전을 이용하여 많은 전력을 생산하고 있다.

오답풀이 나. 우리나라 서해안과 같이 조차가 큰 해안 지역에서는 조력 발전이 유리하다. 다. 연 강수량이 많아 유량이 풍부하고 낙차가 큰 지역에서는 수력 발전이 유리하다.

10

제시된 사진의 (나)는 태양광 발전 시설의 모습이다. 태양광 발전은 태양빛을 전기로 바꾸는 것으로, 사하라 사막이나 미국 서부의 건조 지역과 같이 일사량이 풍부하고 강수량이 적은 지역에서 주로 개발되고 있다.

해결의 실마리

땅에서 수증기가 올라오는 모습



조산대에 위치해 화산 활동, 지진 활발



지열 발전에 유리

신·재생 에너지를 둘러싼 갈등

- 풍력 에너지 : 발전기에서 소음 발생
- 태양광 에너지 : 집열판 주변의 일사량 증가로 농작물 피해 발생
- 조력 에너지 : 갯벌 생태계 파괴
- 수력 에너지 : 댐 건설로 인한 수몰 지구 형성, 수질 오염
- 바이오 에너지 : 곡물 가격 상승

국가별 신·재생 에너지

- 풍력 에너지 : 영국, 덴마크 등
- 지열 에너지 : 뉴질랜드, 아이슬란드 등
- 바이오 에너지 : 독일, 브라질 등
- 조력 에너지 : 우리나라(서해안)
- 태양광 에너지 : 미국 서부, 사하라 사막

문제자료 뜯어보기

노르웨이 : 산지가 많고 호수가 많이 분포하여 물 자원이 풍부한 조건을 이용해 수력 발전이 일찍부터 개발되었어요. 노르웨이는 전체 전력 중 98%를 수력 발전에 의존하고 있어요.



덴마크 : 덴마크의 삼소섬은 유럽 최초로 에너지 자립을 이룬 곳으로, 섬의 가센 바람을 이용한 풍력 발전으로 섬에서 필요한 전력을 얻어요.

뉴질랜드 : 화산 활동과 지진이 활발해 지열 에너지 개발이 활발해요.

브라질 : 브라질에는 세계에서 두 번째로 큰 수력 발전소가 있어 브라질의 일부 전력과 파라과이 전력의 절반 이상을 생산해요.

11

바이오 에너지는 사탕수수, 옥수수, 감자 등 곡물이나 당분을 발효시켜 만드는 바이오 에탄올, 콩기름, 팜유, 폐식용유 등에서 식물성 기름을 뽑아 만드는 바이오 디젤, 그리고 가축의 분뇨나 음식물 쓰레기 등에서 메탄가스를 추출해 사용하는 바이오 가스가 일반적이다. 바이오 에너지는 기존 연료에 섞어 사용할 수 있어 차량용 화석 연료를 대체할 새로운 에너지원으로 주목받고 있다.

12

신·재생 에너지는 고갈되지 않고, 오염 물질의 배출량이 적어 친환경적이며, 전 지구적으로 비교적 고르게 분포하고 있어 자원의 편재로 인한 문제가 적다는 장점이 있다. 하지만 초기 개발 비용이 많이 드는 데 비해 전력 생산량이 적고, 자연환경 변화에 따라 전력 생산량의 차이가 커 안정적인 전력 생산이 어렵다는 단점이 있다.

13

신·재생 에너지는 초기 개발 비용이 비싼 것에 비해 경제성이 낮다는 점, 개발 시 자연환경의 제약이 매우 크다는 점, 기술적 측면에서 대량 생산 체계가 갖추어져 있지 않다는 점 등의 한계점이 있다.

오답풀이 나, 다. 화석 연료의 한계점이다.

14

풍력 발전기가 돌아가는 소리나 태양광 발전을 위해 설치한 집열판, 댐으로 형성된 인공 호수 주변의 농작물 피해는 지역 주민의 불만이 되기도 한다. ② 갯벌 생태계 파괴와 관련된 신·재생 에너지는 조력 에너지이다.

15

아랍 에미리트는 석유 개발을 통해 얻은 이익으로 석유가 고갈된 이후의 국가 발전을 고려하여 페르시아만의 두바이를 해상·항공 교통의 요지로 발전시켰다.

16

노르웨이는 북서부 유럽의 스칸디나비아 반도에 위치한 나라로, 수산물 가공업과 목재 수출에 의존하여 산업 발달이 미약하였다. 하지만 1960년대에 인근 북해에서 유전이 개발되면서 이를 바탕으로 경제가 급성장하였다.

17

우리나라 서해안은 세계적으로 조차가 큰 해안으로 밀물과 썰물의 높이 차를 이용한 조력 에너지 개발에 유리하다. 이와 관련하여 현재 세계 최대의 조력 발전소인 시화호 발전소가 건설되어 전력을 생산하고 있다.

18

예시답안 자원을 개발할 기술과 자본 부족, 자원 개발로 얻은 이익의 불평등한 분배, 자원 개발 과정에서 발생하는 환경 오염, 자원을 서로 차지하기 위한 집단 간의 내전 발생 등으로 인해 자원이 풍부함에도 불구하고 경제적 어려움을 겪고 있다.

채점기준	등급	평가 기준
	상	주민 생활 수준이 악화된 이유를 두 가지 이상 서술한 경우
	하	주민 생활 수준이 악화된 이유를 한 가지만 서술한 경우

19

예시답안 석유 자원이 풍부한 쿠웨이트는 석유를 수출하여 벌어들인 수입으로 경제 발전을 이룩하였으며 교육 및 의료에 투자하여 국민의 생활 수준을 높였다.

채점기준	등급	평가 기준
	상	석유가 풍부함을 배경으로 들어 서술한 경우
	하	석유를 쓰지 않고 자원이 풍부하기 때문이라고만 서술한 경우

20

예시답안 재생이 가능하므로 고갈 우려가 적고, 친환경적이며, 비교적 고르게 분포하여 자원의 편재로 인한 문제가 적다.

채점기준	등급	평가 기준
	상	지속 가능한 자원의 장점을 두 가지 이상 서술한 경우
	하	지속 가능한 자원의 장점을 한 가지만 서술한 경우

대단원 완성문제

▶ 기본학습서 133~136쪽

01 ④ 02 ② 03 ④ 04 ④ 05 ④ 06 ④ 07 ②
08 ② 09 ⑤ 10 ④ 11 ③ 12 ② 13 ② 14 ②
15 ④ 16 ① 17 해설 참조 18 해설 참조 19 해설
참조 20 해설 참조

01

석유는 편재성이 큰 자원으로, 서남아시아 페르시아만 지역, 카스피해와 북극해 등에 대부분 매장되어 있다.

석유의 주요 수출 지역과 소비지

- 수출지 : 서남아시아 페르시아만
- 소비지 : 유럽, 미국, 동북아시아 등 → 많은 인구, 공업 발달

세계 3대 식량 작물

기후 적응력	옥수수
	>밀>쌀
바이오 연료의 원료	옥수수

02

석유는 오늘날 가장 많이 사용되는 에너지 자원으로, 서남아시아의 페르시아만에 집중 분포되어 있다.

03

제시된 지도를 보면 지역적 편재성이 크고, 많은 양이 서남아시아에서 이동해 나가는 것으로 보아 석유의 분포와 이동을 나타낸 것임을 알 수 있다. ④ 우리나라는 석유를 주로 서남아시아 지역에서 수입하고 있다.

04

메콩강과 같이 여러 국가의 영토를 거쳐 흐르는 하천을 국제 하천이라고 한다. 메콩강 상류에 위치한 중국이 댐을 건설하면서 하류에 위치한 국가들과 분쟁이 발생하였다.

05

A는 쌀, B는 밀이다. 쌀은 중국 남부, 인도 서남부, 동남아시아 등 아시아 계절풍 기후 지역에서 주로 재배된다. 반면 밀은 중국 북부, 인도 북부, 유럽, 오스트레일리아, 미국, 캐나다, 아르헨티나 등지에서 주로 재배된다.

오답풀이 ① 밀, ② 쌀이다. ③, ⑤ 밀은 기온이 낮고 건조한 환경에서도 잘 자라 전 세계적으로 널리 재배된다.

06

밀은 주로 미국, 아르헨티나, 오스트레일리아 등에서 수출하고, 아시아의 여러 나라에서 수입하고 있다. 타이, 베트남, 인도네시아는 세계적인 쌀 재배지이다.

07

(㉠)는 카스피해, (㉡)는 페르시아만 아부무사섬의 분쟁에 대한 것이다. 이들 지역은 석유와 천연가스가 많이 매장되어 있는 곳으로 유전 개발 및 송유관, 가스관의 통과 지역을 두고 여러 국가들의 갈등이 나타나고 있다.

08

터키와 시리아 간의 물 자원 분쟁이 나타나는 곳은 서남아시아에 위치한 국제 하천인 유프라테스강이다.

09

아프리카와 아시아는 식량 자원 수입량이 수출량보다 많다. 식량 자급률이 낮은 국가들은 국제 식량 대기업이 곡물 가격을 인상하면 경제적 타격을 받을 수 있으며, 식량 부족 문제가 발생할 수 있다.

오답풀이 ㄱ. 미국, 오스트레일리아, 캐나다 등에서 발달하였다. ㄴ. 식량 자원 부족 문제를 겪는 곳에서는 식량 자원의 확보를 위한 경쟁이 치열하다.

10

아랍 에미리트와 카타르는 모두 서남아시아에 위치한 국가로, 석유를 수출하여 사회 기반 시설을 확충하고 교육 및 의료에 투자하여 국민의 생활 수준이 높아졌다.

11

자원 개발로 인한 이익을 사회 기반 시설 확충에 투자하고 국민 복지를 위해 사용함으로써 주민 생활과 국가 경제 성장에 도움을 줄 수 있다. 대표적인 나라로 미국, 노르웨이, 오스트레일리아, 사우디아라비아 등이 있다.

12

제시된 사례는 자원을 풍부하게 보유하고 있지만 주민들의 삶의 질은 악화되는 경우이다. 아프리카 대륙에 있는 콩고 민주 공화국, 나이지리아, 시에라리온 등은 풍부한 자원을 가지고 있지만 기술·자본 부족, 불안정한 정치 상황 등의 이유로 경제 발전을 이루지 못하였다. ② 노르웨이는 석유 개발로 얻은 이익을 미래를 위해 저축하거나 국민 복지에 사용하고 있다.

13

노르웨이와 페르시아만 연안의 국가들은 석유를 수출하여 벌어들인 수입으로 사회 기반 시설을 확충하고 교육 및 의료에 투자하여 국민의 생활 수준을 높였다. 지도의 A는 노르웨이, B는 프랑스, C는 나이지리아, D는 페르시아만 연안, E는 아마존강 유역이다.

14

제시된 사진 (가)는 태양광 발전의 모습이다. 태양광 발전은 맑고 건조한 기후 지역에서 개발하기에 유리하다.

오답풀이 ❶ 조력 발전, ❷ 풍력 발전에 대한 설명이다. ❸ 지열 발전에 대한 설명으로, 사진 (나)와 관련있다. ❹ 수력 발전에 대한 설명이다.

15

(나)는 지열 발전의 모습이다. 지열 발전소는 지진과 화산 활동이 빈번하게 발생하는 조산대 주변에서 주로 개발된다. 뉴질랜드는 환태평양 조산대에 속하는 국가로, 지열 발전으로 국가 전체 전력의 약 10%를 공급하고 있다.

16

제시된 사진은 우리나라 시화호 조력 발전소의 모습이다. 조력 발전은 밀물과 썰물의 높이 차를 이용하여 전력을 생산하는 발전 방식으로, 조차가 큰 우리나라의 서해안에서 개발하기에 유리하다.

17

예시답안 식량 작물 중 국제적 이동이 더 많은 것은 밀이다. 밀은 소비 지역이 널리 분포하고, 생산자와 소비자가 달라 쌀에 비해 국제 이동량이 많다.

채점 기준	등급	평가 기준
	상	국제 이동량이 많은 작물이 밀이라고 옳게 쓰고, 그 이유를 서술한 경우
	하	국제 이동량이 많은 작물이 밀이라고만 쓴 경우

자원과 경제 수준

- 자원 ↑, 경제 ↑ : 미국, 노르웨이, 캐나다, 카타르, 아랍 에미리트, 사우디아라비아 등
- 자원 ↑, 경제 ↓ : 시에라리온, 나이지리아, 콩고 민주 공화국 등

신·재생 에너지 개발

- 풍력, 수력, 태양(열)광 → 기후 영향 큼
- 지열, 조력 → 기후 영향 거의 없음, 지형 영향 큼

해결의 실마리

지각이 불안정한 조산대 지역



화산, 지진 활동 활발



지열 에너지 개발에 유리

18

예시답안 A는 풍부한 자원을 바탕으로 경제 성장을 이룩한 국가이다. 대표적으로 노르웨이, 미국, 캐나다, 오스트레일리아, 카타르, 사우디아라비아, 아랍 에미리트, 쿠웨이트 등이 있다.

채점 기준	등급	평가 기준
	상	A 국가의 특징을 풍부한 자원을 바탕으로 한 경제 성장이라고 서술하고 사례 국가를 세 곳 이상 제시한 경우
	하	A 국가의 특징을 풍부한 자원을 바탕으로 한 경제 성장이라고 서술하였으나 사례 국가를 제시하지 못한 경우

19

예시답안 A 지역은 대서양으로부터 일정하게 불어오는 바람을 이용한 풍력 에너지 개발이 활발하고, B 지역은 사막으로 일조량이 풍부하여 태양광 에너지 개발에 유리하다.

채점 기준	등급	평가 기준
	상	A, B 지역의 자연환경을 들어 개발된 신·재생 에너지를 서술한 경우
	하	A, B 중 한 곳의 에너지 개발에 대해서만 서술한 경우

문제자료

뜯어보기



20

풍부한 자원은 경제 성장의 원동력이 된다. 석유 자원이 풍부한 아랍 에미리트, 카타르, 노르웨이, 미국, 오스트레일리아 등은 풍부한 자원을 바탕으로 경제를 발전시켜 주민들의 생활 수준이 매우 높은 선진국이다. 반면 나이지리아, 콩고 민주 공화국 등은 자원이 풍부하지만 자원을 차지하기 위한 경쟁과 갈등으로 경제적 어려움을 겪고 있다. 우리나라는 생활 수준이 높아 에너지 자원의 소비가 많고 산업이 발달하여 석유, 천연가스 등의 수입량이 많다. 우리나라의 자원 소비 증가는 자원 생산국의 경제를 발전시키기도 하지만, 아프리카 국가들의 내전을 심화시키거나 환경 오염을 발생시키는 원인이 될 수 있다. 그러므로 정당한 과정을 거쳐서 유통·판매되는 자원을 소비하고 자원 절약을 통해 매장량이 한정되어 있는 주요 자원에 대한 경쟁을 줄이려는 노력을 해야 한다.

채점 기준	등급	평가 기준
	상	제시된 조건 두 가지를 모두 포함하여 서술한 경우
	하	제시된 조건 중 한 가지만 옳게 서술한 경우



I 내가 사는 세계

필수 문제로 학교시험 대비하기

▶ 시험대비서 02~05쪽

01 ② 02 ④ 03 ① 04 ⑤ 05 ② 06 ③ 07 ①
08 ③ 09 ⑤ 10 ⑤ 11 ② 12 ① 13 ④ 14 ③
15 ④ 16 ③ 17 ⑤ 18 ② 19 ② 20 ③ 21 해
설 참조 22 해설 참조 23 해설 참조

01

지도에 표시된 A는 축척이다. 축척은 실제 거리를 지도상에 얼마나 줄여서 그렸는지를 나타내는 것으로, 축척을 활용하면 지도상 거리를 이용하여 실제 거리를 알 수 있다.

오답풀이 ①, ③은 방위, ④는 기호, ⑤는 등고선에 관한 내용이다.

02

지형도, 우리나라 전도, 세계 전도 등과 같이 지역의 지리 정보를 제공하는 가장 일반적인 형태의 지도를 일반도, 기후도, 인구분포도, 토지 이용도, 지하철 노선도 등과 같이 특정한 내용을 주제로 하여 만든 지도를 주제도라고 한다.

03

지도는 통계 자료를 점으로 표현하여 지리 정보의 분포나 밀도를 나타내고 있다. 이와 같이 지리 정보를 점으로 나타내는 지도는 인구 분포 등 자료의 밀도나 분포를 나타내는 데 적합하다.

04

(가)는 히말라야산맥, (나)는 아마존강에서 할 수 있는 체험이다. 지도의 A는 스칸디나비아반도, B는 사하라 사막, C는 히말라야산맥, D는 오대호, E는 아마존강 유역이다.

05

제시된 내용은 사하라 사막에 대한 것이다. 사하라 사막은 인구 증가와 경지 개간, 지구 온난화 등으로 인해 가뭄이 지속되면서 사막화가 빠르게 진행되고 있다.

06

랜드마크는 지역을 대표하는 장소나 건물에 해당하는 상징물이다.

07

(가) 지도는 화살표의 방향과 굵기를 다르게 하여 지리 정보의 이동 방향과 이동량을 나타낼 수 있다. (나) 지도는 지역별 차이를 단계별로 색을 다르게 하여 표현하였다.

오답풀이 ㄷ. 지리 현상의 분포는 지도상에 점 또는 지역별 색을 다르게 하여 표현할 수 있다. ㄹ. 지역의 지리 정보를 종합적으로 표현하는 지도는 일반도이다.

본초 자오선과 적도

- 본초 자오선 : '본초'는 근본 또는 기준을 의미하며, '자오선'은 경선의 다른 이름. 본초 자오선은 모든 경선의 근본이나 기준이 되는 경선을 의미
- 적도 : 남극과 북극으로부터 같은 거리에 있는 지점을 이은 선

지도 위의 표현 요소

- 축척 : 실제 거리를 지도상에 줄여 놓은 비율
- 방위 : 지도상의 동서남북 방향
- 기호 : 지리 현상을 간략히 표현한 약속
- 등고선 : 지도에서 해발고도가 같은 지점을 연결한 선

날짜 변경선

날짜 변경선은 태평양 한 가운데를 지나는데, 같은 나라 안에서 날짜가 달라지는 것을 막기 위해 육지나 섬을 피해 구불구불하게 설정되었다.

랜드마크

- 세계적인 랜드마크 : 프랑스 파리의 에펠탑, 이집트의 피라미드, 미국 뉴욕의 자유의 여신상 등
- 지역의 랜드마크 : 서울의 송례문, 구청, 지하철역, 도서관 등

08

(가)는 북위 40°, 서경 100°에 위치해 있다.

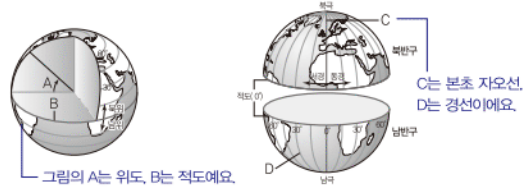
09

영국의 그리니치 천문대를 지나는 경도 0°선을 본초 자오선이라고 한다.

10

시간대에 영향을 주는 것은 경도이고, 기온과 계절에 영향을 주는 것은 위도이다.

문제자료 뜯어보기



11

저위도인 A에서 고위도인 B로 이동할수록 햇빛이 비스듬히 닿게 되어 기온이 점차 낮아진다. 따라서 추위를 견디기 유리한 폐쇄적인 가옥 구조가 나타날 것이다.

12

지구는 둥근 모양이므로 저위도에서 고위도로 갈수록 일사량이 점차 감소하여 평균 기온이 낮아진다.

13

뉴질랜드는 남반구에 위치하므로 (나) 시기에 여름이다.

14

남반구와 북반구는 계절이 서로 반대이기 때문에 농산물의 수확 시기가 달라 높은 가격에 수출할 수 있다.

15

모스크바는 본초 자오선이 지나가는 영국 런던의 그리니치 천문대보다 3시간이 빠르다. 케냐의 나이로비도 본초 자오선보다 3시간이 빠르다.

16

A는 날짜 변경선으로 본초 자오선의 정반대에 있는 경도 180°선 부근에 위치한다. ③ 날짜 변경선은 시차를 고려한 편의상의 선이지, 이를 기준으로 밤낮이 구분되지는 않는다.

17

시차는 지구의 자전 때문에 생겨나며, 시차는 여행 시 현지 시각으로 조정하기, 시차를 고려한 통화 등 일상생활에 영향을 준다.

오답풀이 ㄴ. 지구의 공전에 따른 계절 변화 때문에 의복의 변화가 나타난다. ㄷ. 남반구와 북반구의 계절 차이는 지구가 기울어진 채 공전하기 때문에 나타난다.

18

두 지역 사이의 시차는 14시간이고, 서울과 14시간 시차가 나는 곳은 뉴욕이다.

19

지리 정보 기술이 발달하면서 지역의 생활 지리 정보를 쉽게 얻고, 컴퓨터나 스마트폰을 이용해 버스의 실시간 위치 정보를 알 수 있게 되었다.

20

위성 영상은 넓은 지역의 정보를 주기적으로 수집하는데 용이하며, 지리 정보 체계는 수집된 지리 정보를 사용자의 요구에 따라 가공 및 분석하기 쉬워 활용도가 높다.

오답풀이 ㄱ. 지도의 확대 및 축소가 용이한 것은 인터넷을 통한 전자 지도이다. ㄴ. GIS는 개인도 일상생활에서 많이 활용하고 있다.

21

예시답안 온대 기후 지역은 인구 밀도가 높고, 건조 기후 지역은 인구 밀도가 낮다. 온대 기후 지역은 작물을 재배하기에 유리하지만, 건조 기후 지역은 작물을 재배하기 어렵기 때문이다.

채점 기준	등급	평가 기준
	상	온대 기후 지역에 인구 밀도가 높고 건조 기후 지역에 인구 밀도가 낮은 이유를 기후, 작물 재배 등과 관련지어 바르게 서술한 경우
	하	인구 밀도의 차이 여부는 서술했으나 그 이유를 서술하지 못한 경우

22

예시답안 우리나라의 겨울에 뉴질랜드로 여행을 갈 때는 반팔, 반바지와 같은 얇은 옷과 슬리퍼, 수영복, 선글라스 등 여름용품을 챙겨야 한다. 지구의 자전축이 기울어진 채로 공전하고 있어 북반구인 우리나라와 남반구인 뉴질랜드의 계절이 반대이기 때문이다.

채점 기준	등급	평가 기준
	상	챙겨야 할 준비물로 여름용품을 쓰고, 지구의 자전축이 기울어진 채로 공전하여 우리나라와 뉴질랜드의 계절이 반대이기 때문이라고 옳게 서술한 경우
	하	챙겨야 할 준비물로 여름용품을 썼으나, 뉴질랜드와 계절이 반대인 이유를 미흡하게 서술한 경우

23

예시답안 지구가 하루 한 바퀴 자전하기 때문에 지구에서 서로 반대편에 위치한 미국과 인도는 약 13시간의 시차가 발생하여 출퇴근 시간이 반대이다. 따라서 이를 이용해 업무를 끊임없이 주고받으며 일을 진행하는 것이 가능하다.

채점 기준	등급	평가 기준
	상	지구의 자전으로 인한 시차 발생으로 두 지역의 연계 업무가 가능하다고 바르게 서술한 경우
	하	두 지역 간에 시차가 있다고만 서술한 경우

우공비 Note

해결의 실마리

오후 9시(21시) - 오전 7시(07시)=14시간
→ 서울과 14시간 시차는 14시간

서울과 본초 자오선의 시차는 9시간

+
본초 자오선보다 5시간 더 늦은 곳은

뉴욕

지리 정보 체계(GIS)

- 의미 : 지리적인 모든 정보를 수집하여 데이터베이스화함
- 이용 : 토지 관련 분야, 시설물 관리, 교통 분야, 도시 계획, 환경 분야, 농업 분야, 재해 예방 분야 등에 활용

생활 속의 주제도

- 그림 지도 : 실제 모습을 알아 보기 쉽게 그림으로 나타낸 것으로 관광 지도에 많이 쓰임
- 지하철 노선도 : 지하철 역의 위치나 역 간의 거리를 실제와는 다르게 간략하게 나타낸 지도

실전 문제로 등급 올리기

▶ 시험대비서 06~09쪽

01 ④ 02 ④ 03 ① 04 ④ 05 ② 06 ② 07 ③
08 ③ 09 ④ 10 ⑤ 11 ② 12 ① 13 ① 14 ⑤
15 ③ 16 ④ 17 ④ 18 ② 19 ⑤ 20 ③ 21 해
설 참조 22 해설 참조 23 해설 참조

01

지도는 지표면의 다양한 사물과 현상을 실제보다 축소하여 나타낸 것이다. 축척, 기호 등 지도의 표현 방법을 활용하면 지도에 나타난 지역별 특징을 분석할 수 있다.

오답풀이 ㄴ. 방위는 지도상에 동서남북의 방향을 나타내는 역할을 한다.

02

1. 지형도와 세계 전도는 일반적으로 분류되므로 정답은 ×이다(1점). 2. 지도상에 방위 표시가 없을 때는 지도의 위쪽이 북쪽이므로 정답은 ○이다(1점). 3. 지하철 노선도와 같이 축척이나 방위가 없더라도 위치나 공간에 대한 정보가 있으면 지도라고 할 수 있으므로 정답은 ×이다(1점). 4. 그림지도는 실제 모습을 알아보기 쉬운 그림으로 나타낸 지도이므로 정답은 ×이다(0점). 5. 지도를 통해 우리는 다양한 지리적 현상을 한눈에 파악할 수 있으므로 정답은 ○이다(1점). 따라서 총점은 4점이다.

03

지도는 아프리카의 자연환경을 나타낸 것으로, ㉠은 세계에서 가장 넓은 사막으로 인구가 거의 없는 사하라 사막, ㉡은 남쪽에서 북쪽으로 흐르는 나일강, ㉢은 아프리카에서 가장 큰 호수인 빅토리아호이다.

04

지도에는 주요 국가의 위치와 대륙, 바다, 산맥 등의 자연 환경이 표현되어 있다.

오답풀이 ㄹ ① 유럽의 중남부에는 알프스산맥이 뻗어 있다. ② 유럽의 동쪽에 동서로 뻗어 있는 높은 산맥은 지도에 나타나 있지 않다. ③ 지도상에 방위가 없으면 지도의 위쪽이 북쪽이므로 아이슬란드는 유럽의 북서부에 위치한다. ⑤ 스웨덴과 핀란드 사이에는 바다가 있다.

05

지도상에 자원과 관련된 인문 환경을 화살표를 사용하여 나타내면, 자원의 흐름을 한눈에 파악할 수 있다.

06

좁은 범위의 지역을 표현할 때는 랜드마크나 주소, 주변의 지형지물을 이용하는 것이 적절하다.

07

A는 런던, B는 라고스, C는 싱가포르, D는 뉴욕, E는 리우데자네이루이다. ③ 날짜 변경선은 경도 180°선 부근이

며, 싱가포르의 동경 100° 부근이다.

08

우리나라와 계절이 반대인 도시는 남반구의 중위도에 위치한다.

09

두 지점 간의 시차가 크려면 경도 차이가 많이 나야 한다. D, 캔버라의 경도는 약 150°E, 시애틀은 약 120°W로 두 지역의 경도 차이는 270°, 즉 18시간의 시차가 난다.

10

A는 고위도이고, B는 저위도(적도 부근)이다. 고위도에서 저위도로 가면 일사량이 많아져 연평균 기온이 높아진다.

오답풀이 ◀ ㄱ. 시차는 경도와 관련이 있다. ㄴ. 연교차는 중위도 지역에서 가장 크게 나타난다.

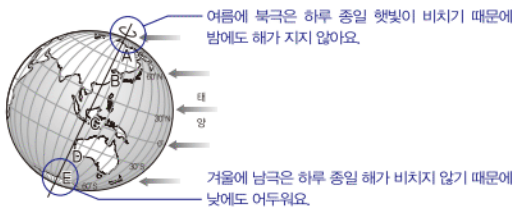
11

그림은 밤에도 해가 지지 않는 백야 현상을 나타낸 것이다. 북극에서 백야 현상이 나타나면 남극은 낮에도 어두컴컴한 날이 지속되는데, 이를 극야 현상이라고 한다.

12

태양이 북반구와 가까워 북반구가 여름인 시기이므로 백야 현상은 북극 주변에서 나타난다.

문제자료 뜯어보기



13

북반구에서는 11~2월에 기온이 낮아 밀 수확이 어렵다. A 국가는 북반구가 겨울인 11~2월에 밀을 수확하므로 남반구에 위치한 국가에 해당한다.

14

본초 자오선을 기준으로 한 표준 경선의 시각을 표준시라고 한다.

오답풀이 ◀ ㄱ. 중국은 국토가 동서로 길지만, 통치의 편의를 위해 하나의 시간대를 사용하고 있다.

15

그림의 A는 본초 자오선, B는 경도 180°선이다. 우리나라에서 본초 자오선 쪽으로 이동하면 시간이 경도 15°마다 1시간씩 늦어지고, 날짜 변경선 쪽으로 이동하면 15°마다 1시간씩 빨라진다. 우리나라가 3월 5일 오전 11시라면 서경 45° 지역의 시각은 오후 12시가 되기 때문에 C(45°W) 지역은 하루가 늦은 3월 4일이 된다.

우공비 Note

해결의 실마리

• 우리나라 오후 10시
• 출정지 오전 7~8시

↓

밤 10시(22시)
- 오전 7~8시(07~08시)
= 약 14~15시간의 시차

↓

14~15시간 × 15°
= 210°~225°

↓

우리나라와 210°~225° 차이가 나는 곳은 서경 75° 부근

↓

뉴욕 또는 산티아고

↓

계절이 반대이므로 뉴욕과 산티아고 중 남반구에 위치한 곳

↓

산티아고

16

출근 시간대를 7~8시라고 가정하면 아버지가 출장 가신 도시는 우리나라보다 14~15시간 늦은 지역이다. 즉, 우리나라와 210°~225°의 경도 차이가 나는 지역이다. 그리고 8월에 추운 날씨라면 우리나라와 계절이 반대인 곳이다. 이러한 조건에 맞는 도시는 산티아고이다.

17

미국 로스앤젤레스와 시차를 이용해 주·야간 업무 연계가 가능한 곳은 시차가 거의 12~13시간 정도(경도 180°~195°) 차이여야 출·퇴근 시간이 반대가 된다. 로스앤젤레스의 표준시는 서경 120°이므로 본초 자오선과 8시간 차이가 난다. 동경 75° 부근의 도시가 이 조건에 부합하며, 이와 가까운 도시는 뉴델리이다.

18

인공위성과 원격 탐사 기술을 통해 접근이 어려운 지역의 지리 현상에 대한 지리 정보도 주기적으로 얻을 수 있다.

19

제시된 지도는 남극 상공에서 촬영한 오존층 파괴의 진행 모습이다. 인공 위성 영상 자료를 통해 관측이 어려운 자료를 수집할 수 있다.

20

지리 정보 체계(GIS)의 중첩 기술은 여러 개의 지도를 중첩하여 조건에 맞는 최적 입지를 찾아내는 데 많이 활용된다.

21

예시답안 A는 축척이다. 축척은 실제 거리를 지도상에 얼마나 줄여서 그렸는지를 알려 주는 비율이다.

채점기준	등급	평가기준
	상	A를 축척이라고 쓰고, 그 역할을 옳게 서술한 경우
	하	A의 명칭과 그 역할 중 한 가지만 옳게 서술한 경우

22

예시답안 우리나라는 유라시아 대륙의 동안에 위치하며 태평양에 접한 반도국이다. 또한, 북위 33°~43°, 동경 124°~132° 사이에 위치한다.

채점기준	등급	평가기준
	상	두(조건) 모두 옳게 서술한 경우
	하	두(조건) 중 한 가지만 옳게 서술한 경우

23

예시답안 E(칠레)이다. E는 남반구에 위치하여 우리나라와 계절이 반대이기 때문에 우리나라가 겨울철일 때 과일과 같은 농작물을 재배하므로 수입하기에 적합하다.

채점기준	등급	평가기준
	상	E를 쓰고, E가 적합한 이유를 옳게 서술한 경우
	하	E는 썼으나, E가 적합한 이유를 서술하지 못한 경우

II

우리와 다른 기후, 다른 생활

필수 문제로 **학교시험 대비하기**

▶ 시험대비서 10~13쪽

01 ⑤ 02 ④ 03 ⑤ 04 ⑤ 05 ③ 06 ⑤ 07 ④
08 ① 09 ② 10 ④ 11 ④ 12 ④ 13 ③ 14 ④
15 ⑤ 16 ① 17 ④ 18 ④ 19 ⑤ 20 ② 21 해
설 참조 22 해설 참조 23 해설 참조

01

기후 그래프는 어느 지역의 기후 특징은 물론 식생, 농업, 주민 생활 등을 파악하는 데 매우 유용한 자료이다. ⑤ 기후 그래프를 통해 기온의 연교차는 알 수 있지만, 기온의 일교차는 파악할 수 없다.

02

기후 그래프를 통해 지역의 기후 특징은 물론 주민들의 생활 모습 등 다양한 측면을 알아볼 수 있다. ④ 기후 그래프를 통해 증발량과 강수량의 차이는 파악할 수 없다.

03

북극해 연안의 고위도 지역은 연중 기온이 낮은 한대 기후가 나타난다. 이 기후 지역의 짧은 여름 동안에는 풀과 이끼류만이 자란다.

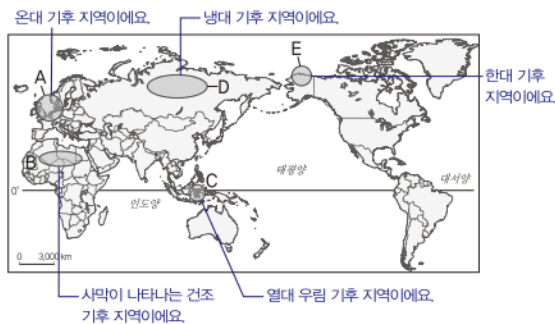
04

열대 기후 지역의 고산 지대에는 연중 봄철과 같이 기온이 온화한 고산 기후가 나타난다.

05

열대 우림 기후 지역은 연중 기온이 높고 강수량이 많은 지역으로, 주로 적도 주변에 나타난다.

문제자료 1. 뜯어보기



06

열대 우림 기후 지역에서는 선진국의 자본과 기술, 원주민의 노동력이 결합되어 열대 상품 작물을 재배하는 플랜테이션과, 삼림에 불을 놓아 카사바와 양 등을 자급적으로 재배하는 이동식 화전 농업이 주로 이루어진다.

기후 그래프

- 월평균 기온 : 꺾은선 그래프
- 월 강수량 : 막대 그래프
- 특징 : 기온의 연교차, 월별 · 계절별 기온과 강수량의 특징, 지역의 식생 농업 형태 및 주민 생활 등을 파악하는 데 유용한 자료

서안 해양성 기후 지역의 주민 생활

- 겨울철에 개최되는 축구 리그
- 연중 일정한 강수량에 따른 하천 수온 발달
- 흐리고 비오는 날씨가 잦아 우산이 필수품

고산 기후

- 위치 : 열대 기후 지역의 고산 지대
- 특징 : 해발 고도 2,000m 이상에서 나타나며, 연중 봄철과 같은 기온 분포
- 주민 생활 : 온화한 기후 조건으로 과거부터 문명 발생, 고산 도시의 형성으로 많은 사람들이 거주하는 지역

지중해 기후 지역의 관광 자원

- 고대 그리스, 로마 문화 유적
- 포도 및 오렌지 농장 체험 및 와인 저장고 체험
- 피자, 파스타 등 지역 음식 탐방
- 지중해, 알프스산맥 등 아름다운 자연 경관 체험

07

열대 우림 기후 지역은 덥고 습하여 음식이 빨리 상하기 때문에 조리시 기름에 튀기거나 향신료를 많이 사용한다.

오답풀이 ① 요거트 등 유제품은 서부 유럽 중 낙농업이 발달한 지역에서 나타난다. ② 혼합 농업이 발달한 서안 해양성 기후 지역에서 나타난다. ③ 우리나라 등 온대 계절풍 지역에서 젓갈 등의 발효 음식이 발달한다. ⑤ 기온이 낮은 툰드라 기후 지역에서는 주로 낚음식을 먹는다.

08

유럽 일대, 동부 아시아 및 북아메리카 등 중위도 지역에서는 온대 기후가 나타난다. 온대 기후는 기온이 온화하고 계절의 변화가 비교적 뚜렷하게 나타나는 특징이 있다.

09

북서 유럽은 편서풍과 난류의 영향을 받아 여름은 서늘하고 겨울은 온화하며, 연중 강수량이 고른 서안 해양성 기후가 나타난다.

10

혼합 농업은 여름이 서늘하고 겨울이 온화한 서안 해양성 기후 지역에서 주로 나타난다.

11

서안 해양성 기후 지역은 겨울철에도 기온이 온화하여 잔디에서 축구를 할 수 있다. 따라서 유럽 축구 리그는 여름에 시작하여 겨울을 거쳐 다음 해 봄에 시즌이 끝날 수 있다.

12

지중해성 기후는 여름은 덥고 겨울은 온화하며, 여름보다 겨울에 강수량이 더 많은 것이 특징이다.

오답풀이 ① 연교차가 작은 것은 열대 혹은 고산 기후 지역의 특징이다. ② 연교차가 매우 큰 것은 온대 계절풍 또는 냉대 기후 지역의 특징이다. ③ 지중해성 기후 지역은 여름보다 겨울 강수량이 더 많다. ⑤ 겨울이 매우 춥고 긴 것은 냉대 또는 한대 기후의 특징이다.

13

지중해성 기후의 여름은 매우 덥고 건조하여 이러한 기후에 잘 견디는 작물을 재배하는데, 이를 수목 농업이라고 한다.

14

지중해성 기후 지역에서는 수목 농업을 통해 포도, 오렌지 등이 재배되고 피자나 파스타 등의 음식이 발달하였다. 또, 여름 기온이 높아 도시에 분수대를 설치하기도 한다. ④ 얼음 호텔과 백야 현상은 한대 기후 지역에서 볼 수 있다.

15

우리나라는 계절풍의 영향을 받는 계절풍 기후 지역이다. 대청마루는 여름철 고온 다습한 기후, 김장은 겨울철 춥고 건조한 기후에 대비하기 위해 발달하였다.

16

건조 기후 지역은 일교차가 크고 강수량보다 증발량이 더 많아 식생이 잘 자라지 못하는 지역이다.

오답풀이 ②, ③은 각각 열대 우림 기후 지역의 수상 가옥과 고상 가옥, ④는 지중해성 기후 지역의 가옥, ⑤는 툰드라 기후 지역의 임시 가옥인 이글루이다.

17

툰드라 기후 지역은 북극해 주변의 고위도에 주로 나타난다.

18

북극해 연안의 고위도 지역은 연중 기온이 낮은 한대 기후가 나타난다. ④ 타이가 지대는 침엽수림이 많은 냉대 기후 지역에서 볼 수 있다.

19

툰드라 기후 지역에서는 주택의 난방열과 여름철 지면이 녹아 붕괴되는 것을 막기 위해 기둥을 깊게 박아 지면에서 일정 높이를 띄워 지은 고상 가옥이 나타난다.

20

툰드라 기후 지역은 자원 개발과 교통 발달로 지역이 개발되고, 관광객 등 많은 사람들이 방문하는 지역으로 발전하고 있다. 그러나 환경 오염과 전통적인 가치관이나 문화 훼손 등의 문제점이 나타나고 있다.

21

예시답안 지중해 연안은 지중해성 기후가 나타나 여름철 기온이 높고 건조하며 맑고 쾌청한 날씨가 계속되어 해수욕과 일광욕을 즐기기에 유리하기 때문이다.

채점기준	등급	평가 기준
	상	관광객이 몰려드는 이유를 기후 특징과 함께 서술한 경우
	하	여름 기후 특징을 구체적으로 서술하지 못한 경우

22

예시답안 이동식 화전 농업, 열대 우림 기후 지역은 토양이 비옥하지 못하고 농경지 확보가 어렵기 때문에 숲에 불을 놓아 농경지를 확보하고 그 재를 비료로 이용하기 때문이다.

채점기준	등급	평가 기준
	상	농업의 명칭을 쓰고, 원인을 옳게 서술한 경우
	하	농업의 명칭은 썼으나, 원인을 미흡하게 서술한 경우

23

예시답안 석유 개발로 인해 경제가 성장하고, 관개수로 개발을 통해 세계적인 도시가 건설되었다.

채점기준	등급	평가 기준
	상	석유 개발, 관개수로 건설 내용을 모두 옳게 서술한 경우
	하	석유 개발, 관개수로 건설 내용 중 한 가지만 옳게 서술한 경우

고산 도시

- 의미 : 해발 고도 2,000m 이상에 분포하는 도시
- 원인 : 연중 온화한 고산 기후 지역
- 대표적인 도시 : 멕시코 시티, 키토, 보고타 등

실전 문제로 등급 올리기

▶ 시험대비서 14~17쪽

01 ④ 02 ① 03 ③ 04 ④ 05 ② 06 ④ 07 ⑤
08 ① 09 ③ 10 ③ 11 ④ 12 ① 13 ① 14 ③
15 ⑤ 16 ⑤ 17 ② 18 ② 19 ⑤ 20 ③ 21 해
설 참조 22 해설 참조 23 해설 참조

01

기후 그래프는 어느 지역의 기후 특징을 종합적으로 관찰할 수 있는 자료로, 월평균 기온은 꺾은선 그래프, 월 강수량은 막대 그래프로 표현된다. ④ 막대 그래프는 월 강수량을 의미한다.

02

열대 기후 지역은 기온이 높고 강수량이 많은 지역으로, 우산, 우비, 모자, 모기퇴치제 등이 여행 필수품이다.

03

고산 기후 지역은 연중 온화한 기후가 나타나 인간 거주에 유리한 조건이 형성되는 지역이다.

04

제시된 자료는 연중 기온이 높고 강수량이 많은 열대 우림 기후 지역의 기후 그래프이다. 열대 우림 기후 지역에서는 고온 다습한 기후 조건으로 울창한 밀림이 형성된다.

오답풀이 ① 고위도 지역에서는 냉대 또는 한대 기후가 나타난다. ② 연 강수량 500mm 미만인 지역은 건조 기후 지역이다. ③ 침엽수림은 냉대 기후 지역에서 형성된다. ⑤ 열대 우림 기후 지역은 초원보다 밀림이 발달한다.

05

열대 우림 기후 지역은 연중 덥고 습한 기후이다. 이 때문에 지열과 습기를 피하고 해충을 방지하기 위해 고상 가옥이 발달하였으며, 통풍을 고려한 넓은 창문이 나타난다. 또한, 많은 강수량에 대비하기 위해 지붕의 경사가 급한 것이 특징이다.

06

싱가포르, 브라질 마나우스, 나이지리아 라고스, 말레이시아 쿠알라룸푸르 등은 열대 우림 기후 지역에서 성장한 세계적인 도시이다.

07

커피, 바나나, 사탕수수, 천연고무 등은 대표적인 플랜테이션 작물이며, 대규모의 상업적 농업 형태로 재배된다. ⑤ 대추야자는 오아시스 농업에서 재배되는 대표적인 작물이다.

08

영국은 편서풍과 난류의 영향을 받는 지역으로, 여름은 서늘하고 겨울은 온화한 서안 해양성 기후가 나타난다.

서안 해양성 기후

- 원인 : 편서풍과 난류
- 특징 : 서늘한 여름, 온화한 겨울, 연중 고른 강수
- 분포 : 북서 유럽 일대

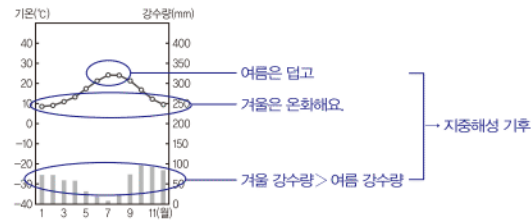
09

우리나라의 여름은 매우 덥고 습하기 때문에 물놀이를 즐기는 사람들을 많이 볼 수 있다.

10

지중해성 기후가 전형적으로 나타나는 지역은 지중해 연안의 남부 유럽이다.

문제자료 뜯어보기



11

지중해성 기후 지역에서는 기후적 특징으로 인해 수목 농업이 주로 이루어진다. 이로 인해 올리브, 피자, 파스타, 와인 등의 음식을 주로 먹는다.

12

서안 해양성 기후 지역에서는 목초 재배를 통해 우유나 치즈 등을 주로 생산하는 낙농업이 발달하였다.

13

우리나라의 겨울철은 춥고 길기 때문에 겨울철에 채소를 먹기 어렵다. 따라서 이에 대비한 김장 문화가 발달하였다.

14

우리나라는 계절풍의 영향으로 여름철에 강수가 집중된다. 이로 인해 여름철에는 홍수의 위험이 높고, 건조한 겨울철에는 물 부족 문제가 발생하고 있다. 이러한 이유로 다목적 댐 건설을 통해 홍수와 가뭄에 대비하고 있다.

오답풀이 ①, ②, ⑤는 서안 해양성 기후 지역에 대한 설명이다. ④는 건조 기후 지역에 대한 설명이다.

15

건조 기후 지역에서는 오아시스를 중심으로 대추야자 등을 재배하는 오아시스 농업이 이루어진다.

16

지도에 표시된 지역은 연 강수량이 500mm 미만인 건조 기후 지역이다. 이 지역은 관개 수로 건설을 통해 대규모로 가축을 사육하는 기업적 목축업이 발달해 있다.

17

중앙아시아 초원 지대의 주민들은 유목을 위해 이동에 편리하도록 이동식 가옥에서 거주한다.

오답풀이 ① 열대 우림 기후 또는 툰드라 기후 지역에서 발달하는 가옥이다. ③ 지중해성 기후 지역에서는 낮잠을

기후에 따른 음식 문화

- 열대 기후 지역 : 기름에 튀긴 음식 향신료 사용
- 서안 해양성 기후 지역 : 빵, 감자, 육류
- 지중해성 기후 지역 : 와인, 피자, 파스타
- 툰드라 기후 지역 : 날음식

오아시스 농업

- 지역 : 사막 지역의 오아시스 지역
- 재배 작물 : 밀, 대추야자 등

즐기는 시에스타 문화가 나타난다. ④ 열대 우림 기후 지역에서 나타나는 농업 방식이다. ⑤ 툰드라 기후 지역의 음식 문화이다.

18

툰드라 기후 지역에서는 여름철 지반이 녹아 건물이 붕괴되는 것을 막기 위해 기둥을 깊게 박고 구조물을 세우는 모습을 볼 수 있다.

19

툰드라 기후 지역의 주민들은 순록으로부터 고기와 젖, 가죽을 얻으며, 이동 수단으로도 활용하고 있다.

20

건조 기후 지역에서는 석유 자원 개발과 관개 수로 건설을 통해 농경지를 확대하고, 도시를 건설하고 있으며, 대규모 기업적 목축업이 나타나기도 한다.

21

예시답안 두 도시 모두 적도 부근에 위치하지만, 콘셉시온은 해발 고도가 낮은 곳에 위치하여 연중 무더운 열대 기후가 나타나 인구가 비교적 적다. 반면, 라파스는 해발 고도가 높은 고산 지대에 위치하여 연중 온화한 고산 기후가 나타나 인간이 거주하기에 유리한 기후 환경이 조성되어 인구가 비교적 많다.

채점 기준	등급	평가 기준
상	상	해발 고도와 기후와의 상관 관계를 요인으로 들어 인구 분포 차이를 율게 서술한 경우
	하	해발 고도와 기후와의 상관 관계를 연관지어 서술하지 못한 경우

22

예시답안 두 가옥 모두 지면에서 띄워서 지은 고상 가옥이다. 그러나 (가)는 열대 기후 지역에서 해충의 피해를 차단하고 지면의 열기와 습기를 막기 위한 형태이고, (나)는 툰드라 기후 지역에서 지면의 냉기를 차단하고 난방열 등으로 인해 지면이 녹아 가옥이 붕괴되는 것을 막기 위한 형태이다.

채점 기준	등급	평가 기준
상	상	(가)와 (나) 가옥의 공통점과 차이점을 기후 특징과 관련지어 율게 서술한 경우
	하	(가)와 (나)의 공통점 또는 차이점 중 한 가지만 서술한 경우

23

예시답안 석유를 비롯한 자원 개발로 인해 주변 환경이 오염 또는 파괴되고 있다. 또한, 외부 문화가 유입되어 툰드라 지역의 전통문화가 훼손되고 있다.

채점 기준	등급	평가 기준
상	상	지역 개발의 영향을 받은 툰드라 지역의 변화 모습 중 두 가지를 모두 율게 서술한 경우
	하	툰드라 지역의 변화 모습 중 한 가지만 서술한 경우

III

자연으로 떠나는 여행

필수 문제로 **학교시험 대비하기**

▶ 시험대비서 18~21쪽

01 ① 02 ③ 03 ② 04 ② 05 ② 06 ② 07 ①
08 ③ 09 ③ 10 ④ 11 ④ 12 ④ 13 ⑤ 14 ③
15 ② 16 ① 17 ④ 18 ② 19 ④ 20 ④ 21 해
설 참조 22 해설 참조 23 해설 참조

01

그레이트디바이딩산맥(A), 애플래치아산맥(B) 등은 형성된 지 오래된 고기 습곡 산지로, 오랫동안 풍화와 침식을 받아 해발 고도가 낮고 경사가 완만하다.

02

그레이트디바이딩산맥(A), 애플래치아산맥(B)과 같은 고기 습곡 산지는 오랜 기간 풍화와 침식을 받아 경사가 완만한 지형의 모습이 나타난다.

오답풀이 ①은 높은 지역에 위치한 평탄한 지형인 고원의 모습이다. ②는 신기 습곡 산지의 모습이다. ④는 화산 지형, ⑤는 빙하의 침식에 의해 형성된 마터호른의 모습이다.

03

습곡, 융기, 화산 활동 등은 지구 내부 에너지에 의한 지각 판의 이동과 관계있는 지형 형성 작용으로, 지표층을 크게 변화시켜 세계적으로 큰 산지를 형성한다.

04

알프스 산지(B)에서는 여름철에는 더위를 피해 산지 목장에서 가축을 사육하고, 겨울철에는 기온이 온화한 평지 목장으로 이동하여 가축을 사육하는 이목이 이루어진다.

오답풀이 A는 스칸디나비아산맥, C는 히말라야산맥, D는 로키산맥, E는 안데스산맥이다.

05

산지 지역은 평지가 적고 토양이 척박하여 농업에 적합하지 않다. 또한 교통과 주거 조건이 불편하여 인간 거주가 불리하다. ② 산지 지역은 임산 자원이 풍부한 지역으로 이를 활용한 주민 생활이 나타난다.

06

제시된 사진은 후지산으로, 화산 활동에 의해 형성된 지형이다. 이 지역 주변은 높은 지열에 의한 온천이 발달하여 이를 관광 자원으로 활용하기도 한다.

07

갯벌은 조류의 퇴적 작용으로 형성된 대표적인 해안 퇴적 지형이다.

오답풀이 ②, ③, ④는 파랑에 의한 해안 침식 지형에 해당하고, ⑤는 파랑에 의한 해안 퇴적 지형에 해당한다.

세계적인 산지

- 고기 습곡 산지 : 그레이트디바이딩산맥, 애플래치아산맥, 우랄산맥 등
- 신기 습곡 산지 : 알프스산맥, 히말라야산맥, 로키산맥, 안데스산맥 등

다양한 해안 지형

- 해안 퇴적 지형 : 모래사장(빈), 갯벌
- 해안 침식 지형 : 해안 절벽(해식애), 해식동굴, 시스택, 시아치 등

08

A는 파랑 에너지가 집중하는 곳으로 파랑의 침식 작용이 활발한 암석 해안 지형이 나타난다.

09

파도는 끊임없이 모래를 운반하고 퇴적시킨다. 파랑의 퇴적 작용이 활발한 만은 모래가 쌓이고 운반되어 매일 새로운 모래가 쌓이는 모래 해안이 형성된다.

10

해안 지형은 사람들에게 볼거리와 휴식처를 제공하고 다양한 생물이 서식하는 등 많은 가치를 가지고 있다.

11

해안 지역이 관광지로 개발될 경우 경제 발전 및 지역 개발을 추진할 수 있고, 일자리가 증가하는 등의 긍정적인 변화가 나타난다. 그러나 쓰레기 증가 및 생태계 파괴 등의 환경 문제는 더욱 심각하게 나타날 수 있다.

12

(가)는 북한산, (나)는 설악산이다. 이 산지들은 풍화를 받아 지하의 화강암이 드러난 우리나라의 대표적 돌산으로, 산 정상부에 기암괴석이 나타난다.

13

우리나라의 서해안과 남해안은 해수면이 상승하면서 골짜기는 만이 되고, 산봉우리는 섬이 되어 해안선이 복잡한 리아스 해안이 형성되었다.

14

우리나라의 서해안은 조류의 퇴적 작용이 활발하여 갯벌이 발달했기 때문에 이를 이용한 머드 축제가 열리기도 한다.

오답풀이 ① 서해안의 해안선은 복잡하다. ② 동해안은 모래사장이 발달하여 주로 해수욕장으로 이용된다. ④ 갯벌은 조류의 퇴적 작용이 활발한 곳에 발달한다. ⑤ 다도해 해상 국립 공원은 남해안에 조성되어 있다.

15

석회동굴과 같은 카르스트 지형은 영월·삼척 등의 강원도 남부 지역과 제천·단양 등의 충청북도 북동부 지역 등 석회암이 넓게 분포하는 곳에 발달해 있다.

16

우리나라는 동고서저의 지형적 특징이 나타난다. 즉, 동쪽에는 높은 산지가, 서쪽과 남쪽에는 낮은 평야가 주로 나타난다. ① 동해 쪽은 급경사의 산지가 분포하여 넓은 평야가 발달하지 않는다.

17

화산 지형 중 용암이 굳으면서 다각형 기둥 모양으로 쪼개져 굳어진 지형을 주상 절리라고 한다. 제주도에서는 서귀포 일대의 대포동 등에서 나타난다.

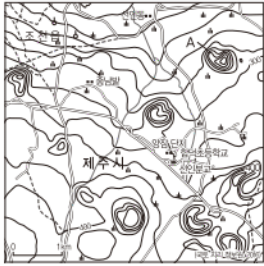
18

제시된 사진은 현무암으로 만들어진 돌하르방이다. 현무암은 용암이 굳는 과정에서 용암 안에 있던 가스가 분출하여 많은 구멍을 가진 형태가 되었다.

19

제주도에 360여 개 분포하는 오름은 큰 화산의 중턱에 형성된 작은 화산으로, 측화산 또는 기생 화산이라고도 한다.

문제자료 뜯어보기



여러 등고선이 모여 있는 형태가 작은 화산체인 오름이에요. 기생 화산이라고도 해요.

20

유네스코가 지정한 세계 자연 유산에는 한라산 일대, 성산 일출봉, 거문오름 용암동굴계 등이 있다.

21

예시답안 산 정상부에 눈이 쌓이면서 빙하가 되고, 무거워진 빙하가 아래로 흐르면서 산 정상부를 깎아 뾰족한 봉우리를 형성하게 된다.

채점기준	등급	평가 기준
	상	호른의 형성 원인과 과정을 빙하 침식과 관련하여 모두 옳게 서술한 경우
	하	호른 형성 원인과 과정 중 한 가지만 서술한 경우

22

예시답안 해안 지역의 합리적 개발과 보존 방법, 생태 관광 등을 통해 생태계 보호는 물론, 많은 관광객 유치를 통한 경제적 효과도 함께 이룰 수 있다.

채점기준	등급	평가 기준
	상	복원 사업을 통한 생태계 보호와 관광지의 경제적 효과에 대해 모두 옳게 서술한 경우
	하	두 가지 요소 중 한 가지만 서술한 경우

23

예시답안 제주도는 화산 활동으로 인해 독특한 지형이 형성된 지역으로, 학술적·생태적 가치가 높으며 특색 있는 생태 환경이 조성되었다.

채점기준	등급	평가 기준
	상	화산 지형, 학술적·생태적 가치, 특색 있는 생태 환경 중 두 가지 이상 옳게 서술한 경우
	하	화산 지형, 학술적·생태적 가치, 특색 있는 생태 환경 중 한 가지만 서술한 경우

지형 형성 작용

- 지구 내부 에너지에 의한 지형 : 판과 판의 충돌이나 분리로 인한 지형, 화산 활동 → 세계적인 규모의 산지 형성
- 지구 외부 에너지에 의한 지형 : 빙하, 하천, 바람, 강수 등에 의한 풍화와 침식 작용 → 소규모 지형 형성

세계 자연 유산

- 한라산 일대 : 백록담을 비롯해 다양한 화산 지형 분포
- 성산 일출봉 : 수중에서 화산이 폭발하여 형성된 지형으로, 세계적으로 인기 있는 관광지
- 거문오름 용암동굴계 : 오름과 용암 동굴의 학술적·보존적 가치가 매우 높은 지형

해결의 실마리

- 산지 지역
- ↓
- 험준한 지형, 적은 평지, 불편한 교통
- ↓
- 인간 거주 조건 불리
- ↓
- 자원 생산, 발농사, 관광 산업 종사

01

화산은 지구 내부 에너지에 의해 형성된 지형으로 지각의 약한 부분에서 마그마가 분출하여 형성되었다.

오답풀이 ❶ ① 호른 등에 대한 설명이다. ③ 고기 습곡 산지에 대한 설명이다. ④ 고원에 대한 설명이다. ⑤ 화산은 침식이나 퇴적과 같은 지구 외부의 힘이 아닌, 지구 내부의 힘에 의해 만들어진 지형이다.

02

A는 오랜 기간 풍화와 침식을 받아 고도가 낮고 경사가 완만한 고기 습곡 산지이다. B는 형성된 지 오래되지 않아 높고 험준한 신기 습곡 산지이다.

오답풀이 ❶ ① A가 먼저 형성되었다. ③ A가 오랜 기간 풍화와 침식 작용을 받았다. ④ A는 고기 습곡 산지, B는 신기 습곡 산지에 해당한다. ⑤ A와 B 모두 지각판의 충돌로 형성되었다.

03

지각이 이동하면서 인도판과 유라시아 대륙판이 충돌하고 한 때 바다였던 지형이 우뚝 솟아 현재의 히말라야 산맥이 형성되었다. 이러한 이유로 해발 고도가 높은 지역에서 과거 해양 생물의 화석이 발견되기도 한다.

04

남아메리카의 안데스 산지 주민들은 고산 기후가 나타나는 해발 고도가 높은 지역에 주로 거주한다. 이 지역은 과거 잉카 문명 등이 발생한 곳이며, 주민들은 감자, 옥수수 등을 재배하고 라마, 알파카를 사육하며 생활한다. ① 셰르파는 히말라야 산지 일대에서 등반가의 짐을 들어주거나 길을 안내하는 사람을 의미한다.

05

산지 지역은 인간 거주에 불리한 조건을 가지고 있다. 그러나 지하자원 생산, 발농사 중심, 소규모 가축 사육, 관광 산업 등을 하며 생활하고 있다.

06

제시된 사진은 각각 피오르 해안과 호른의 모습이며, 두 지형 모두 빙하의 침식 작용에 의해 형성되었다.

07

A와 같이 바다로 돌출된 곳에서는 파랑의 침식 작용이 우세하게 나타난다. 이로 인해 해안 절벽, 해식동굴, 시스택, 시아치 등 해안 침식 지형이 나타난다.

08

A는 곳, B는 만이다. A 지역에서는 파랑의 침식 작용이 활발하게 일어나 해안 절벽(해식애), 해식동굴, 시 스택, 시아치 등의 지형이 발달한다. B 지역에서는 파랑의 퇴적 작용이 활발하게 일어나며 모래사장(사빈), 사주, 석호 등의 지형이 발달한다.

09

파랑과 연안류의 퇴적 작용으로 모래사장이 형성되고, 조류의 퇴적 작용으로 갯벌이 형성된다.

10

도로 및 인공 구조물 등이 해안에 건설되면 모래가 공급되지 못하고 파랑의 침식 작용이 가속화된다. 이로 인해 해안 지형이 변화하고 침식이 심각하게 발생하는 문제가 나타날 수 있다.

11

최근 환경에 대한 관심이 높아지면서 생태 관광의 중요성이 강조되고 있다. 생태 관광이란 환경 파괴를 최소화하면서 자연을 관찰하고 즐기는 지속 가능한 여행 형태이다.

12

설악산, 북한산, 금강산 등은 화강암으로 이루어진 돌산이다. 돌산에서는 오랜 기간 풍화 과정을 거치면서 땅속의 화강암이 겉으로 드러나 형성된 산지로, 산봉우리의 기암괴석을 볼 수 있다.

13

제시된 사진을 갯벌에서 열리는 머드 축제의 모습이다. 갯벌은 밀물과 썰물의 흐름이 활발한 지역에서 발달하는 해안 지형으로, 우리나라는 조차가 큰 서해안에 주로 분포한다.

오답풀이 ❶ 갯벌은 우리나라 서해안에서 주로 볼 수 있는 지형이다. ❷ 파랑의 영향보다 조류의 퇴적 작용이 활발한 곳에서 발달한다. ❸ 수심이 얕고 해안선이 복잡한 곳에 발달한다. ❹ 바다가 육지 쪽으로 들어와 있는 만 부분에 발달한다.

14

우리나라는 국토의 70% 정도가 산지로 이루어져 있다. 또한 동고서저의 지형 특징이 나타나고 있어 대부분의 큰 하천은 황해나 남해로 유입된다. ❶ 리아스 해안이 나타나는 곳은 우리나라의 서·남해안이다.

15

제시된 자료는 한라산 정상 백록담으로, 용암이 분출한 분화구에 물이 고여 화구호가 형성된 것이다.

16

카르스트 지형이 발달하는 지역에서는 석회암이 물에 녹으면서 만들어지는 석회동굴, 종유석, 석순, 석주 등이 관광 자원으로 이용되기도 한다.

해결의 실마리

곳



파랑의 힘 집중- 침식 지형 발달

VS

만



파랑의 힘 분산- 퇴적 지형 발달

석회동굴

- 석순 : 물에 녹은 석회암의 침전물이 바닥에 쌓이면서 위로 올라오는 기둥 모양의 지형
- 종유석 : 물에 녹은 석회암의 침전물이 위에서부터 내려오면서 형성된 지형
- 석주 : 석순과 종유석이 만나 형성된 기둥 모양의 지형

17

수중에서 화산이 폭발하여 형성된 성산 일출봉은 화산 지형이 발달한 제주도에서 볼 수 있는 자연 경관이다. ❸ 석회동굴은 석회암 지대에서 석회암이 물에 녹아 만들어진 카르스트 지형 경관이다.

18

우리나라의 화산 지형은 백두산(A), 울릉도 및 독도(B), 제주도(E) 등에서 볼 수 있다. ❸ C는 카르스트 지형을 볼 수 있는 단양 일대, D는 다도해가 있는 남해안이다.


19

A는 기생 화산으로, 소규모 분출로 형성된 작은 화산체이다. 제주도 방언으로 '오름'이라고도 한다.

20

골짜기를 따라 용암이 흐르는 과정에서, 공기와 접하는 바깥 면이 빨리 식어 굳고 식지 않은 안쪽의 용암이 빠져나가 용암동굴을 형성한다.

문제자료 뜯어보기



1. 용암이 분출해 흘러요 2. 바깥쪽부터 굳어요 3. 빈 공간이 형성돼요

21

예시답안 판과 판이 충돌하며 형성된 신기 습곡 산지이며, 형성된 지 오래되지 않아 해발 고도가 높고 험준하다.

채점기준	등급	평가 기준
	상	형성 과정과 특징을 모두 옳게 서술한 경우
	하	형성 과정 또는 특징만 서술한 경우

22

예시답안 (가)는 빗물이나 지하수에 의해 석회암이 녹으면서 형성된 석회동굴이며, (나)는 파랑의 침식 작용에 의해 형성된 해식동굴이다.

채점기준	등급	평가 기준
	상	석회동굴과 해식동굴의 명칭과 형성 과정을 정확히 서술한 경우
	하	두 지형의 명칭 또는 형성 과정만 서술한 경우

23

예시답안 서·남해안, 해수면 상승으로 골짜기에 바닷물이 들어오면서 많은 섬과 복잡한 해안선을 이루는 리아스 해안이 형성된다.

채점기준	등급	평가 기준
	상	리아스 해안이 나타나는 지역과 해안선의 특징을 정확히 서술한 경우
	하	지역 또는 리아스 해안의 특징만 정확히 서술한 경우

IV

다양한 세계, 다양한 문화

필수 문제로 **학교시험 대비하기** ▶ 시험대비서 26~29쪽

- 01 ① 02 ⑤ 03 ③ 04 ③ 05 ⑤ 06 ① 07 ②
08 ① 09 ④ 10 ⑤ 11 ③ 12 ⑤ 13 ③ 14 ⑤
15 ④ 16 ④ 17 ③ 18 ③ 19 ④ 20 ②
21 해설 참조 22 해설 참조 23 해설 참조

01

지리적으로 가깝거나 오랜 기간 교류한 지역을 중심으로 비슷한 문화가 나타나는데, 이러한 지역을 문화 지역이라고 한다. 문화 지역은 기준에 따라 범위와 경계가 달라진다.

02

사진은 라틴 아메리카의 다양한 문화를 보여주고 있다. 안데스 산지에서는 아메리카 원주민의 전통 음악을 들을 수 있다. 또한, 브라질에서는 화려하고 정열적인 춤인 삼바를 볼 수 있다.

03

한국, 일본, 중국 등을 포함하는 동아시아 문화 지역은 유교, 불교, 한자 등의 공통점이 있다.

오답풀이 ① 주요 종교의 발상지에 해당하는 문화 지역은 인도 문화 지역, 건조 문화 지역 등이다. ④ 열대 기후 지역에서 나타나는 농업 방식이다. ⑤ 이슬람교 문화 지역과 관련된 내용이다.

04

제시된 지도에서 (가)는 크리스티교, (나)는 이슬람교, (다)는 힌두교이다.

05

제시된 지도는 식사 도구를 기준으로 문화 지역을 구분한 것이다. 유럽, 아메리카, 오세아니아 일대에서는 나이프·포크 등을 주로 사용하는 반면, 한국, 중국, 베트남 등에서는 젓가락을 사용한다.

06

제시된 그림의 모자는 케피예로, 유목 생활을 하면서 말을 묶을 때 쓰는 띠를 머리에 얹는 것에서 유래되었다. 또한, 건조 기후 지역에서는 강렬한 햇빛과 모래바람을 막기 위해 온몸을 감싸는 헐렁한 옷을 입는다.

07

제시된 그림의 모자는 삼카로, 동물의 털로 만든 것이다. 겨울이 길고 추운 러시아의 전통 모자이다.

오답풀이 ① 인도, ③ 베트남, ④ 멕시코는 더운 기후 지역, ⑤ 사우디아라비아는 건조한 기후 지역의 국가이다.

해결의 실마리

서남아시아에 위치한 국가
→ 건조 기후, 이슬람교

- 하잡: 이슬람교 여성들의 옷차림(이)
- 라마단: 이슬람교의 종교적 수행(금식) 기간(이)
- 양탄자: 밤낮의 기온차가 큰 건조 기후 지역 유목민이 사용하는 생활용품(이)

라틴 아메리카의 다양한 음악 문화

- 안데스 산지: 아메리카 원주민의 전통 음악
- 아르헨티나: 유럽계 이주민 사이에서 발전한 탱고
- 자메이카: 아프리카계 이주민들이 미국의 음악에 영향을 받아 만든 레게
- 브라질: 아프리카계 이주민들의 아픔을 달래주던 삼바

기후와 의복 문화

- 열대 기후: 가벼운 옷차림, 몸에 색칠을 하거나 장식을 함
- 건조 기후: 강한 햇빛과 모래바람을 차단하기 위해 온몸을 감싸는 옷차림
- 한대 기후: 사냥하여 잡은 동물의 털로 옷과 신발을 만들어 입을

08

연중 기온이 높고 강수량이 많은 열대 기후 지역에서는 고상 가옥을 볼 수 있다. 바닥이 지면보다 높고 사방이 트여 있어 해충과 무더위를 피할 수 있는 가옥 구조이다.

09

제시된 내용은 주로 이슬람교를 믿는 모로코와 크리스티교를 믿는 에스파냐 사람들 사이에 종교로 인한 음식 문화 차이가 발생한 사례이다.

10

서남아시아에 위치한 이란은 건조 기후가 넓게 나타나며, 주민의 대부분이 이슬람교를 믿는다. ⑤ 사회적 지위가 낮은 사람들이 일하는 넓은 빨래터는 '도비가트'로, 힌두교의 영향으로 신분이 나뉘었던 인도의 문화 경관이다.

11

제시된 사진은 불교 사찰로 탑과 불상이 있는 것이 특징이다.
오답풀이 ①, ④는 이슬람교, ②는 크리스티교, ⑤는 힌두교와 관련된 생활 모습이다.

12

문화는 무역, 여행, 전쟁, 대중 매체 등을 통해 서로 다른 문화를 가진 사람들이 접촉하면서 다른 지역으로 전파된다. 또한, 문화가 전파되면서 변형되는 현상을 문화 변용이라고 한다.

13

문화가 전파되면서 새로운 지역의 환경을 반영하여 변형되기도 하는데, 이를 문화 변용이라고 한다.

오답풀이 ② 문화 전파는 종교를 비롯하여 음악, 스포츠 등 다양한 분야에서 이루어진다. ④ 교통·통신의 발달로 문화 전파 속도는 빨라지고 있다. ⑤ 문화 변용은 문화가 정착하는 과정에서 기존의 문화를 변형하거나 새로운 문화를 만들어 내는 것이다.

14

성모상은 가톨릭교의 종교 경관인데, 멕시코의 과달루페 성모상은 유럽의 성모상과 달리 눈과 피부색이 갈색이다. 이는 유럽인이 라틴 아메리카로 이주하는 과정에서 가톨릭교가 전파되었고, 라틴 아메리카의 지역적 특성이 반영되어 성모상의 형태가 변형된 사례이다.

15

유럽 및 아메리카에 위치한 선진국들이 자국의 문화를 바탕으로 만든 상품을 전 세계에 판매하면서 세계 여러 지역 사람들의 생활 모습이 서구화되고 있다.

16

햄버거에 빵 대신 밥을 이용한 것으로, 주로 벼농사를 짓는 지역의 특성을 반영하여 새로운 음식 문화가 만들어진 사례이다.

17

제시된 글은 문화의 세계화 현상을 뜻한다. 문화의 세계화로 인해 전통문화가 사라지거나 약화되는 부작용을 최소화하고, 고유문화를 창조적으로 발전시켜 널리 알리려는 노력이 필요하다.

18

말레이시아의 항구 도시인 므라카는 동서 무역의 중심지로 발전하면서 다양한 문화적 배경을 가진 사람들이 함께 거주하게 되었다. 그 결과 다양한 종교 건축물이 공존하는 대표적인 지역이 되었다.

19

사진은 독일어, 프랑스어, 이탈리아어, 레토로망스어를 공용어로 사용하는 스위스의 여권이다. 스위스는 공공 기관이나 공공 문서에 네 개의 공용어를 모두 사용하도록 하고 있다.

20

특정 언어나 종교를 고집하고 강요할 경우 문화 갈등이 발생한다. 그러나 싱가포르의 다양한 종교 문화가 공존하는 대표적인 지역으로, 다양한 종교 경관을 볼 수 있다.

21

예시답안 진조 문화 지역이다. 진조 기후가 나타나 전통적으로 유목 생활을 해 왔으며, 주민의 대부분이 이슬람교를 믿는다.

채점 기준	등급	평가 기준
	상	진조 문화 지역의 이름을 쓰고, 특징 두 가지를 모두 옳게 서술한 경우
	하	진조 문화 지역의 이름 또는 특징만 쓴 경우

22

예시답안 (1) 기후, (2) (가)와 같은 진조 기후 지역에서는 농사가 어려워 주로 유목 생활을 하는 반면, (나)와 같은 고온 다습한 계절풍 기후 지역에서는 주로 벼농사를 한다.

채점 기준	등급	평가 기준
	상	문화 차이에 영향을 미친 요인으로 기후를 쓰고, 두 지역의 기후 조건을 비교하여 농목업을 서술한 경우
	하	문화 차이에 영향을 미친 요인은 바르게 썼으나, 두 지역에서 이루어지는 농목업은 미흡하게 서술한 경우

23

예시답안 서양의 침대 문화가 전해져 우리나라의 온돌 문화와 결합되어 돌침대가 만들어졌다. 또한 유럽의 피자가 전해져 우리나라의 불고기와 결합되어 불고기 피자가 만들어졌다.

채점 기준	등급	평가 기준
	상	문화 변용의 사례 두 가지를 모두 바르게 서술한 경우
	하	문화 변용의 사례를 한 가지만 바르게 서술한 경우

스위스의 언어 공존

- 공용어 : 독일어, 프랑스어, 이탈리아어, 레토로망스어
- 공존 노력 : 언어의 자유 법적 보장, 각 주에서 공식 언어 지정 및 소수 민족 배려 의무 부과, 공공 문서를 네 개의 공용어로 발행, 학교에서 다른 공용어 교육 지원

문화 변용

- 의미 : 이질적인 문화의 지속적인 접촉 또는 전파 → 서로의 문화 형태 변형
- 사례 : 재즈, 탕고, 갈색 피부의 성모상, 돌침대, 불고기 피자 등

해결의 실마리

갠지스강에서 목욕 의식



힌두교



인도 일대 → 지도의 D

사진 문제로 등급 올리기

▶ 시험대비서 30~33쪽

01 ③ 02 ② 03 ① 04 ⑤ 05 ④ 06 ④ 07 ④
08 ④ 09 ⑤ 10 ④ 11 ② 12 ⑤ 13 ④ 14 ②
15 ⑤ 16 ④ 17 ② 18 ② 19 ③ 20 ③
21 해설 참조 22 해설 참조 23 해설 참조

01

인도 북부의 상차림은 빵, 인도 남부는 밥을 중심으로 구성되어 있다. 이는 인도 북부의 경우 밀농사에 적합하고, 남부는 벼농사에 적합한 자연환경이 나타나기 때문이다.

02

제시된 사진은 열대 기후 지역, 건조 기후 지역, 한대 기후 지역의 가옥이다. 기후에 따라 자연환경에 적응하기 위한 가옥 구조가 다르게 나타나고 있다.

문제자료 뜯어보기



열대 기후 지역의 가옥 : 고온 다습한 기후에 적응하기 위한 급경사 지붕의 고상 가옥으로, 열대 기후 지역에서 볼 수 있어요.



건조 기후 지역의 가옥 : 평평한 지붕의 흙집으로, 사막 지역에서 볼 수 있어요.



한대 기후 지역의 가옥 : 지면의 냉기를 차단하고 여름철 가옥 붕괴를 막기 위한 고상 가옥으로, 한대 기후 지역에서 볼 수 있어요.

03

문화는 사람들이 환경에 적응하면서 만들어낸 공통의 생활 양식으로, 의식주, 언어, 종교, 음악, 문학, 스포츠 등 지역마다 다르게 나타난다. ① 기후는 사람들이 만들어낸 것이 아니라 자연적으로 주어진 환경으로 문화의 영역에 속하지 않는다.

04

(가)는 한대 기후 지역에서 이누이트가 발을 보호하기 위해 신는 신발, (나)는 몽골의 전통 신발이다.

05

D. 한국, 중국, 일본 등에서는 반찬을 집기 편한 젓가락을 사용하는 문화가 형성되어 있다.

06

제시된 연관 검색어는 모두 이슬람교의 영향을 받아 나타나는 문화 경관에 대한 것이다.

07

사진은 갠지스강에서 목욕을 하며 죄를 씻는 의식을 하는 모습으로 힌두교와 관련된 종교 경관이다.

08

동아시아 문화 지역은 한국, 일본, 중국 등을 포함하며, 유교적 생활 양식과 불교, 한자, 벼농사, 젓가락 사용 등의 공통점이 나타난다.

09

리오그란데강을 기준으로 구분되는 앵글로아메리카와 라틴 아메리카는 문화적으로 차이가 있다. 앵글로아메리카는 주로 영국의 앵글로·색슨족이 이주한 반면, 라틴 아메리카는 에스파냐와 포르투갈의 라틴족이 이주하여 서로 다른 지역의 문화가 전파되었기 때문이다.

10

(가) 사진은 히잡을 착용한 여성의 모습으로, 이슬람교와 관련 깊은 문화 경관이다.

11

(나) 사진은 바드기르(바람 탑)로, 사막 주변의 도시에서 볼 수 있다. 이는 탑 안으로 바람을 통하게 하여 집 안을 시원하게 만들어주는 기능을 한다.

12

인도의 뭄바이에는 경제 중심 도시답게 A와 같은 고층 건물이 많다. 그러나 도시 내에는 B와 같은 독특한 경관도 나타나는데, 이는 사회적 지위가 낮은 사람들이 일하는 거대한 빨래터인 도비가트이다.

13

문화 전파란 한 지역의 문화 요소가 다른 지역으로 전해져 정착하는 것을 말한다. 일반적으로 문화는 주변 지역으로 전파되지만, 식민지 개척, 이민 과정 등을 통해 멀리 떨어진 곳으로 전파되기도 한다.

오답풀이 ◀ ㄷ. 최근에는 인터넷, 누리소통망 서비스(SNS)의 발달로 인해 다양한 문화와 쉽게 접촉할 수 있게 되면서 문화 전파의 속도가 더욱 빨라지고 있다.

14

국수 문화가 세계 여러 지역으로 전파되는 과정에서 지역의 자연환경 및 경제·사회적 환경에 맞게 변형되었으므로 문화 변용에 해당한다.

15

발리우드는 인도 영화 산업을 상징한다. 인도의 발리우드는 할리우드 영화의 영향을 받았으나, 인도 특유의 춤과 음악을 장점으로 부각하여 정체성을 잃지 않고 세계적인 경쟁력을 가진 문화 산업으로 발전시킨 사례이다.

16

서로 다른 문화를 인정하지 않고 특정 문화를 강요할 때 문화 갈등이 발생한다. 문화 갈등은 공동체를 분열시킬 뿐만 아니라 정치·경제적 차별로 이어져 분쟁의 원인이 되기도 한다.

앵글로아메리카 vs 라틴 아메리카

- 구분: 리오그란데강
- 언어: 영어 사용 vs 에스파냐어, 포르투갈어 사용
- 종교: 개신교 vs 가톨릭교
- 역사: 앵글로·색슨족 이주 vs 라틴족 이주
- 인종: 아프리카계, 라틴 아메리카 및 아시아계 이주민 증가 vs 원주민, 유럽계, 아프리카계 혼혈 문화

종교 갈등 지역

- 이스라엘 - 팔레스타인 : 유대교 ↔ 이슬람교
- 카슈미르 지역 : 힌두교 ↔ 이슬람교
- 프랑스의 히잡 착용 금지 : 이슬람교도들과의 갈등

문화 전파와 문화 변용

- 문화 접촉 : 한 지역의 문화가 다른 지역의 문화와 만나는 현상
- 문화 전파 : 한 지역의 문화가 다른 지역으로 전해져 정착하는 현상
- 문화 변용 : 문화가 전파되면서 기존의 문화를 변형시키거나 새로운 문화를 만들어내는 현상

세계화와 문화 변용

- 부정적 측면 : 외국 문화 유입 → 서구화, 전통문화 해체
- 긍정적 측면 : 다양한 문화 교류 → 기존 문화와 융합되어 새로운 문화 창조

오답풀이 ◀ ㄱ. 세계화로 인해 서로 다른 문화를 가진 사람들의 교류와 접촉이 증가하면서 문화 갈등의 사례도 증가하고 있다. ㄷ. 문화 갈등은 주로 서로 다른 인종과 민족이 함께 거주하는 지역에서 발생한다.

17

스위스의 공공 기관에서는 네 개의 공용어를 모두 사용하여 문서를 발행하고, 학교에서는 학생들이 주로 사용하는 언어 외에 다른 언어를 하나 이상 배우도록 하고 있다.

18

A는 싱가포르이다. 싱가포르는 노동력 확보를 위해 적극적인 이민 정책을 펼친 결과, 다양한 이주민이 유입되면서 다양한 종교 문화가 공존하게 되었다.

19

이스라엘과 팔레스타인은 근대 국가 수립 과정에서 민족과 종교적 차이로 인해 표출된 갈등이 현재까지 지속되고 있다. 국제 사회가 여러 차례 중재에 나섰지만, 여전히 테러 위험이 있는 불안한 지역이다.

20

다양한 문화가 공존하기 위해서는 문화의 우열을 가리려는 태도를 버리고, 서로가 다름을 인정하고 존중해야 한다.

21

예시답안 (가) 지역은 일 년 내내 기온이 높은 열대 기후 지역으로, 더위를 피하기 위해 얇고 통풍이 잘되는 가벼운 옷차림을 한다. 반면, (나) 지역은 기온이 낮고 겨울이 긴 한대 기후 지역으로, 추위에 견디기 위해 보온이 잘되는 동물의 털로 만든 옷을 입는다.

채점기준	등급	평가 기준
	상	(가) 지역과 (나) 지역의 의복 특징을 기후와 관련지어 윗게 서술한 경우
	하	(가) 지역과 (나) 지역 중 한 지역만의 의복 특징을 기후와 관련지어 서술한 경우

22

예시답안 B 지역(라틴 아메리카)이 A 지역(남부 유럽)의 식민 지배를 받으면서 언어가 전파되었기 때문이다.

채점기준	등급	평가 기준
	상	식민 지배의 역사와 언어 전파를 관련지어 서술한 경우
	하	단순히 언어가 전파되었다고만 서술한 경우

23

예시답안 카슈미르 지역, 카슈미르 지역은 주민의 대다수가 이슬람교를 믿지만 힌두교를 믿는 인도에 속하게 되면서 갈등이 발생하게 되었다.

채점 기준	등급	평가 기준
	상	지역의 명칭을 쓰고, 갈등의 이유를 윗게 서술한 경우
	하	지역의 명칭만 썼거나, 갈등의 이유만 서술한 경우

V

지구 곳곳에서 일어나는 자연재해

필수 문제로 **학교시험 대비하기**

▶ 시험대비서 34~37쪽

01 ② 02 ⑤ 03 ④ 04 ③ 05 ④ 06 ③ 07 ②
08 ① 09 ① 10 ① 11 ① 12 ② 13 ① 14 ④
15 ③ 16 ② 17 ③ 18 ① 19 ④ 20 ④
21 해설 참조 22 해설 참조 23 해설 참조

01

자연재해는 인간과 인간 생활에 피해를 주는 자연 현상으로, 주로 특정 지역에서 반복적으로 나타난다.

오답풀이 ◀ 나. 자연재해를 완벽하게 예측하고 대비하기는 어렵다. 르. 지구 온난화로 인해 인간에게 영향을 미치는 자연재해가 증가하고 있다.

02

⑤ 화산 활동 사진으로 지형과 관련된 자연재해에 속한다.

오답풀이 ◀ ①은 가뭄, ②는 폭설, ③은 태풍, ④는 홍수와 관련된 사진으로, 모두 기후와 관련된 자연재해이다.

03

화산 활동이 일어나면 화재와 산사태의 위험이 높아지고, 각종 시설물과 농경지 등이 파괴되거나 매몰된다. 또한, 대기 중의 화산재 등이 햇빛을 가려 기후 변화를 일으키기도 한다.

04

지진 해일은 (나) 해저에서의 지진, 화산 활동으로 시작되어 (가) 빠른 속도로 파도가 퍼져나가다가 (다) 해안에 다다르면서 파도가 높아져 해안가를 덮치는 현상이다.

05

도시의 홍수는 자연적 요인과 인위적 요인이 결합되어 그 피해가 점점 커지고 있는 추세이다.

06

지도에 표시된 A 지역은 중국 북서부와 몽골 내륙으로, 오랜 가뭄과 각종 개발 및 농경의 확대 등에 의해 사막화가 빠르게 이루어지고 있는 곳이다.

07

② 알프스·히말라야 조산대는 지각의 판과 판이 만나는 경계로, 방글라데시의 홍수와 관계가 없다.

08

(가)는 홍수, (나)는 가뭄을 나타낸 것이다. 홍수는 짧은 시간 동안 많은 비가 내리거나 장기간 지속적으로 내리면서 발생한다. 또한, 겨울철에 내린 눈이 봄철에 한꺼번에 녹으면서 하천의 유량이 많아질 때 발생하기도 한다.

아이슬란드의 화산 활동

- 2014년 화산 폭발로 인해 발생한 화산재 때문에 대규모 항공기 결항으로 많은 피해를 받음
- 지열 에너지를 이용하여 온천과 전력 및 난방열 등을 사용하는 긍정적인 효과도 있음

화산재로 인한 피해

- 화산재가 햇빛을 가리면 서 기온이 내려감
- 항공 교통에 큰 문제를 일으켜 항공 대란이 발생함
- 화산재가 쌓이면 철도와 자동차 운행에도 문제가 발생하여 물류 대란이 발생하기도 함

지진 해일의 피해

- 2005년 12월 인도양에서 발생한 지진 해일로 타이의 해안 일대에 5천 명이 넘는 인명 피해와 많은 재산 피해를 입음
- 2011년 일본의 동북부 지역의 주변 바다에서 발생한 강력한 지진으로 해안 지역에 높이 6m 이상의 지진 해일이 발생하여 엄청난 재산과 인명 피해가 발생함

오답풀이 ◀ ② 가뭄에 대한 설명이다. ③ 산성비와 가뭄은 관련이 적다. ④ 홍수에 대한 설명이다. ⑤ (가)는 홍수, (나)는 가뭄과 관련 있다.

09

제시된 글은 화산 활동에 따른 피해에 대한 것이다. 지도의 아이슬란드(A)는 지각판과 지각판의 경계로 지진과 화산 활동이 자주 발생한다. 제시된 지도의 B는 사하라 사막, C는 몽골, D는 오스트레일리아 내륙, E는 미국 오대호 연안이다.

10

화산이 폭발하여 화산 가스와 화산재가 분출하면 햇빛을 차단하여 전 지구적으로 기온이 내려가는 현상이 나타나기도 한다. 또한, 화산재의 이동과 확산으로 인해 항공 교통의 문제가 발생하기도 한다.

11

화산 활동은 긍정적인 효과도 있다. 지열 발전을 이용하여 난방을 하고 전력을 얻으며, 화산재가 쌓인 비옥한 토지에서 농사를 짓는다. 또한, 화산 지형을 관광 자원으로 이용하며, 유황·구리 등을 채취하여 수입을 얻기도 한다. ① 홍수와 가뭄에 대한 대책이다.

12

일본에는 오래된 목탑이 잘 보존되어 있다. 그 이유는 나무 특유의 유연성과 탄력성 때문에 지진이 발생해도 쉽게 탑이 파손되지 않기 때문이다.

13

지진은 짧은 시간에 많은 재산과 인명 피해를 입히는 대표적인 자연재해이다. 특히, 지진으로 인해 건물이 붕괴하고 도로가 무너지는 피해가 크다.

오답풀이 ◀ 드은 폭설, 르은 화산 활동의 피해이다.

14

도시는 지표의 대부분이 콘크리트와 아스팔트 등으로 덮여 있어 빗물이 지표로 스며들지 않고 대부분이 하수의 형태로 하천으로 유출된다. 이로 인해 하천 수위의 급속한 상승이 이루어져 홍수 위험도가 높아진다.

15

사막화는 사막 주변의 초원 지역이 점차 사막과 같이 변하는 현상이다. 주로 오랜 가뭄과 인구 증가에 따른 과도한 목축, 농경지 개간 등에 의해 발생한다.

16

열대 저기압의 피해를 줄이기 위해서는 집중 호우에 대비해야 하며, 이에 따라 배수 시설 등을 잘 점검해야 한다. 또한, 신속하고 정확한 예보 체계를 갖추어야 한다.

오답풀이 ◀ 나. 선박은 항구에 잘 묶어 고정시켜야 한다. 르. 삼림 훼손을 막아야 한다.

지진·태풍·홍수

17

지진이 발생하면 건물 주변에서 멀리 떨어져 대피해야 한다. 실내에 있을 때에는 머리와 신체를 보호하기 위해 책상 등의 탁자 아래로 들어가야 하며, TV나 라디오 등을 통해 안내 방송을 참고하며 계단을 이용해 대피해야 한다.

18

사막화 문제를 해결하기 위해서는 나무 심기 등 산림녹화 사업을 실시해야 하며, 부족한 식수를 마련하기 위해 지하수를 개발해야 한다.

19

지진이 발생하였을 때 재산과 인명 피해가 발생하는 가장 큰 이유 중 하나는 건물 붕괴이다. 따라서 지진의 피해를 최소화하기 위해서는 건축물의 내진 설계를 의무화하고 규정을 더욱 강화해야 한다.

20

아스팔트와 시멘트로 이루어진 포장 도로가 많아지면 빗물이 하천으로 유입되는 속도가 빨라져 홍수 발생 위험이 증가한다.

21

예시답안 바다에서 지진이 일어나면 환태평양 조산대에 속한 일본과 같이 지진이 발생한 지점에서 가까운 지역의 해안에 지진 해일이 발생한다. 지진 해일이 발생하면 건물이 붕괴되고 교통·통신 등이 두절되는 등 많은 재산과 인명 피해가 발생한다.

채점기준	등급	평가 기준
	상	지진 해일의 발생 원인과 피해 상황을 모두 서술한 경우
	하	지진 해일 발생 원인과 피해 상황 중 한 가지만 서술한 경우

22

예시답안 화산재가 쌓여 형성된 비옥한 토양으로 인해 포도 등의 작물을 재배하기 좋은 조건을 갖추고 있으며, 폼페이 유적으로 인해 관광 산업이 발달하였다.

채점기준	등급	평가 기준
	상	비옥한 토양을 이용한 농사, 폼페이 유적을 통한 관광 산업 등을 모두 서술한 경우
	하	위 내용 중 한 가지만 서술한 경우

23

예시답안 포장 면적의 증가로 빗물이 토양으로 스며들지 않고 하천으로 바로 흘러가게 되면서 도시의 홍수 발생 빈도가 높아졌다. 이를 해결하기 위해 포장 도로에 떨어진 빗물이 토양으로 흡수될 수 있는 투수성 아스팔트를 설치한다.

채점기준	등급	평가 기준
	상	원인과 효과를 모두 서술한 경우
	하	원인과 효과 중 한 가지만 서술한 경우

해결의 실마리

지진 발생 시 실내에 있다면 몸을 보호하기 위해 책상 밑으로 들어감

지진의 흔들림이 없으면 신속하게 대피함

대피 시 엘리베이터 등을 이용하지 말고 계단을 통해 대피해야 함

사막화의 주요 원인

- 자연적 요인 : 지구 온난화 등으로 인해 이산화탄소 등의 온실가스 배출량이 증가하면서 가뭄 등의 자연재해가 증가함
- 인위적 요인 : 인구의 증가로 인한 농경지 및 목축 등이 활발해지면서 산림과 초원을 훼손하는 경우가 증가함

내진 설계의 필요성

- 7.0 규모 이상의 지진이 발생한 일본과 네pal의 비교
- 내진 설계가 거의 되어 있지 않은 네pal은 엄청난 규모의 인명과 재산 피해를 봄
- 내진 설계를 의무화한 일본의 피해는 상대적으로 적음
- ⇒ 내진 설계의 의무화가 반드시 필요함

화산재를 활용하는 지역

- 화산재는 농사를 하기에 비옥한 토양임
- 인도네시아 등에서는 화산재로 덮인 토양을 활용해 벼농사가 이루어짐
- 이탈리아, 에스파냐 등의 지중해성 기후 지역에서는 화산재 토양을 활용하여 포도 등을 재배하는 수목 농업이 발달함

실전 문제로 등급 올리기

▶ 시험대비서 38~41쪽

- 01 ③ 02 ③ 03 ③ 04 ① 05 ⑤ 06 ③ 07 ②
08 ① 09 ② 10 ③ 11 ④ 12 ⑤ 13 ⑤ 14 ②
15 ⑤ 16 ③ 17 ⑤ 18 ① 19 ① 20 ②
21 해설 참조 22 해설 참조 23 해설 참조

01

기후적 요인에 의해 발생하는 자연재해에는 홍수, 가뭄, 열대 저기압 등이 있으며, 지형적 요인에 의해 발생하는 자연재해에는 지진, 지진 해일, 화산 활동 등이 있다.

02

지도의 A 지역은 알프스·히말라야 조산대와 환태평양 조산대이다. 이 조산대들은 지구 내부 에너지에 의해 지각판과 지각판이 서로 충돌하는 판의 경계 부분이다.

오답풀이 ① 열대 저기압은 적도 부근의 열대 해상에서 발생하여 중위도 지역으로 이동하는 것이다. ② 조산대는 지구 내부의 힘이 강하게 작용하는 곳이다. ④ 가뭄으로 인한 피해는 건조 기후 지역 주변의 초원 지대에서 주로 발생한다. ⑤ 오랜 침식을 받아 평탄한 지형이 발달한 곳은 고기 습곡 산지이다.

03

지각판이 서로 충돌하거나 분리되는 조산대 지역에서는 지진과 화산 활동이 자주 일어난다.

04

제시된 그림은 지진 해일의 발생 과정을 나타낸 것이다. 지진 해일은 바다 속에서 일어난 지진이나 화산 활동이 원인이 되어 발생하여 해안에 큰 피해를 입힌다.

05

가뭄은 오랜 기간 동안 비가 내리지 않아 발생하는 자연재해이다. 가뭄은 다른 자연재해보다 피해 범위가 넓으며, 천천히 발생하고 오랜 시간에 걸쳐 피해를 준다.

오답풀이 ①, ② 지진, 화산 활동에 대한 내용이다. ③ 가뭄은 증발량이 강수량보다 많은 지역에서 발생한다. ④ 홍수에 대한 내용이다.

06

제시된 지역에서 공통적으로 발생 가능성이 높은 자연재해는 홍수이다.

07

제시된 내용은 홍수에 대한 것이다. 홍수가 발생하면 가뭄이 해소되고, 범람으로 토양이 비옥해진다.

08

가뭄은 오랫동안 비가 내리지 않아 땅이 메마르는 자연재해이다. 가뭄이 발생하면 주민들은 식수난에 시달리고, 건조한 날씨로 인해 산불과 같은 화재가 일어나기도 한다.

09

제시된 자료에 등장하는 사이클론은 인도양과 아라비아해 주변에 영향을 미치는 열대 저기압이다. 지도의 B는 방글라데시로, 사이클론의 영향을 받아 피해가 발생하는 지역이다.

10

열대 저기압이 발생할 경우, 부정적인 영향 뿐만 아니라 가뭄 해소, 적조 현상 완화, 지구 전체 기온의 균형 유지, 강한 바람으로 인한 대기 오염 물질의 분산 등 긍정적인 효과도 있다.

11

화산 활동으로 분출된 화산재와 화산 가스에 의해 일사량이 감소하면 지구의 기온이 내려가기도 한다.

12

이탈리아의 폼페이는 AD 79년에 발생한 화산 폭발로 매몰된 도시이다. 한편, 태평양에 위치한 하와이는 지금도 화산 폭발이 이루어지는 활화산이 있는 지역이다.

13

지도에 표시된 지역은 아프리카 사하라 사막 이남의 사헬 지대이다. 이 지역에서는 가뭄과 같은 자연적 요인과 인구 증가, 농경·목축의 증대에 따른 삼림과 초원 훼손 등의 인위적 요인으로 인해 사막화가 빠르게 진행되고 있다. ⑤ 하천의 댐 건설은 사헬 지대의 사막화 현상과 직접적인 관계가 없다.

14

제시된 글은 화산을 이용하여 살아가는 주민들의 생활 모습에 대한 것이다. ㉠은 화산재, ㉡은 지열이다.

15

인도네시아의 메라피 지역에 많은 사람들이 거주하는 이유는 화산 활동으로 쌓인 화산재가 토양을 비옥하게 하여 농업에 유리하기 때문이다.

오답풀이 ㉠ 메라피 지역은 지금도 화산 활동이 활발한 지역이다. ㉡ 제시된 글은 홍수와 관련이 없다. ㉢ 인도네시아는 아직 화산 활동에 대한 대비책이 미흡한 편이다. ㉣ 인도네시아의 메라피 지역은 공업이 발달한 지역이 아니다.

16

화산 활동은 인간에게 큰 피해를 주기도 하지만, 이를 생활에 활용하는 지역도 있다. 인도네시아는 화산 주변에서 품질 좋은 유황을 채굴하고 있으며, 지진과 화산 활동이 잦은 일본은 온천이 발달하여 관광 자원으로 활용한다.

17

아이오와주는 해수면보다 낮은 지역을 농경지로 바꾸었고, 이로 인해 홍수 피해가 더 커졌다.

해결의 실마리

라인강 주변은 봄철에 주로 홍수가 발생함



과거에는 하천에 제방을 쌓아 예방해 옴



강물의 양이 급격히 증가하면 큰 홍수가 발생함



이를 해결하기 위해 생태 하천 복원 사업이 추진되었음

내진 설계

- 지진으로 인한 가장 많은 인명 피해는 건물의 붕괴에 의해 발생
- 지진에 견딜 수 있도록 공학적으로 구조물의 내구성을 확보하는 설계인 내진 설계의 의무화가 필수적임

도시의 홍수

- 도시에서는 빗물이 땅속으로 잘 흡수되지 않음
- 대부분 땅위로 흘러 한꺼번에 하천으로 유입됨
- 이로 인해 도시 홍수의 발생 위험이 높아짐

18

독일은 라인강의 옛 물길 복원 사업을 통해 강이 원래 흘러 넘쳤던 공간을 되돌려 줄 수 있게 되면서 홍수 발생 가능성이 낮아졌다.

19

가뭄에 대비하기 위해서는 저수지와 다목적 댐 등을 건설하고, 산림녹화 사업을 통해 물을 저장할 수 있는 녹지 면적을 늘려야 한다.

오답풀이 ㉠ 지진, 화산 활동의 대응 방안이다. ㉡ 홍수, 열대 저기압의 대응 방안이다.

20

일본은 전 세계에서 지진과 화산 활동이 가장 많이 발생하는 지역 중 하나이다. 하지만 일본은 오랜 시간동안 이에 대한 대비책을 마련하여 내진 설계, 대피 시스템, 지진 예보 시스템 등 지진과 화산 활동에 대한 대비가 잘 갖춰져 있는 대표적인 나라이기도 하다.

21

예시답안 열대 저기압, 많은 비로 인해 홍수 피해가 발생하며, 강한 바람에 의해 시설물이 파괴된다.

채점기준	등급	평가 기준
	상	열대 저기압을 쓰고, 열대 저기압에 의한 피해 사례 두 가지를 서술한 경우
	중	열대 저기압을 쓰고, 쓰고, 열대 저기압에 의한 피해 사례를 한 가지만 서술한 경우
	하	열대 저기압만 쓰거나, 열대 저기압에 의한 피해 사례 한 가지만 서술한 경우

22

예시답안 (나), (나)와 같은 도시 지역은 아스팔트나 콘크리트를 이용한 포장 도로 때문에 빗물이 지하로 스며들지 못하고 바로 하천으로 유입되어 수위가 급상승하므로 홍수가 자주 일어난다.

채점기준	등급	평가 기준
	상	(나)를 쓰고, 빗물이 바로 하천으로 유입되는 원인을 도시화와 관련하여 서술한 경우
	하	(나)만 썼거나, 빗물이 바로 하천으로 유입되는 원인을 서술하였으나 미흡한 경우

23

예시답안 우리나라도 지진의 발생 빈도가 점점 증가하고 있기 때문에 지진에 대비한 예보 시스템을 잘 정비해야 한다. 또한, 건물의 붕괴를 막기 위해 내진 설계를 의무화해야 하며, 지속적인 지진 대피 훈련을 실시해야 한다.

채점기준	등급	평가 기준
	상	지진 예보 시스템, 내진 설계, 대피 훈련 등 지진에 대한 대응 방안을 두 가지 이상 서술한 경우
	하	지진 예보 시스템, 내진 설계, 대피 훈련 중 지진에 대한 대응 방안을 한 가지만 서술한 경우

VI

자원을 둘러싼 경쟁과 갈등

필수 문제로 **학교시험 대비하기**

▶ 시험대비서 42~45쪽

- 01 ② 02 ② 03 ④ 04 ③ 05 ④ 06 ① 07 ③
08 ④ 09 ③ 10 ③ 11 ③ 12 ④ 13 ④ 14 ⑤
15 ⑤ 16 ③ 17 ③ 18 ② 19 ② 20 ④
21 해설 참조 22 해설 참조 23 해설 참조

01

자원은 편재성, 유한성, 가변성의 특성을 가지며, 좁은 의미로는 천연자원을 말하지만 넓은 의미로는 인적 자원, 문화 자원도 포함한다.

오답풀이 ◀ 나. 노동력은 인적 자원이다. 다. 석유는 편재성이 매우 큰 자원이다.

02

자원이 고르게 분포하지 않고 일부 지역에 집중적으로 분포하는 자원의 특성을 편재성이라고 한다.

03

자원 민족주의는 자국에서 생산되는 자원에 대한 주권을 주장하여 경제적 이익을 극대화하려는 태도이다.

04

사우디아라비아, 아랍 에미리트, 이라크 등 서남아시아의 페르시아만 지역에서 주로 생산하여 수출하고 있는 것으로 보아 편재성이 큰 석유의 국제적 이동을 나타낸 지도임을 알 수 있다.

05

석유의 주요 생산국은 서남아시아의 국가들이며, 그 중 사우디아라비아는 세계에서 석유 수출량이 가장 많은 국가이다. 석유 수출국들은 자국의 이익을 추구하기 위한 자원 민족주의 움직임을 보이기도 한다.

오답풀이 ◀ 가. 석유와 관련된 국제 기구로는 석유 수출국 기구(OPEC)가 있다. 다. 아프리카의 국가들은 자원이 풍부하지만 낮은 기술 수준, 정치 불안정 등을 원인으로 경제적 어려움을 겪고 있다.

06

쌀(A)은 고온 다습한 아시아 계절풍 기후 지역이 주산지이고, 밀(B)은 서늘하고 건조한 지역에서도 잘 자라 세계 각지에서 생산된다.

07

지구 온난화로 인한 사막화 현상과 자연재해 증가로 실제 인간이 사용할 수 있는 물 자원이 점차 감소하여 세계 곳곳에서 물 부족 문제를 겪고 있다.

우공비 Note

북극해를 둘러싼 자원 분쟁(콜드러시)

- 해당 국가 : 러시아, 미국, 캐나다, 덴마크, 노르웨이
- 원인 : 석유, 천연가스 등이 풍부하게 매장되어 있음. 또한, 지구 온난화로 빙하가 녹으면서 새로 드러난 육지에 대한 영유권 분쟁이 심화됨

국제 하천을 둘러싼 물 분쟁

- 메콩강 : 중국, 미얀마, 베트남, 캄보디아, 라오스, 타이
- 나일강 : 이집트, 수단, 에티오피아, 수단, 탄자니아, 케냐
- 유프라테스강 : 터키, 시리아, 이라크
- 갠지스강 : 인도, 방글라데시, 네팔, 중국

해결의 실마리

- 서남아시아의 페르시아만 지역에서 큰 화산폭발
- 북아메리카, 서부 유럽, 우리나라, 중국, 일본 등으로 화산폭발 이동함

↓
자원의 편재성이 심함

↓
석유 자원

08

북극해는 미국, 러시아, 덴마크, 캐나다, 노르웨이로 둘러싸여 있는 바다로, 세계 석유의 약 13%, 천연가스의 약 30%가 매장되어 있다. 이에 따라 인접 국가들의 영유권 분쟁이 나타나고 있다.

09

지도에 표시된 지역은 석유, 천연가스 등 에너지 자원 확보를 둘러싼 분쟁이 발생하고 있는 곳이다.

10

물 자원은 강수량, 지형 등의 영향에 따라 지역적으로 불균등하게 분포하고 있다. 최근 인구가 증가하고 산업이 발달하면서 1인당 사용할 수 있는 물 자원의 양이 감소하고 있다. 이에 따라 세계 여러 국가는 물 자원의 확보를 위해 댐이나 저수지를 건설하고 해수를 담수로 바꾸는 설비 등을 갖추고 있다.

11

(가)는 나일강, (나)는 메콩강에 대한 설명이다. 대부분의 물 분쟁은 국제 하천에서 발생하며, 상류에 위치한 국가가 강의 영유권을 주장하며 댐을 건설하면서 하류의 국가와 갈등이 심화된다.

12

나일강, 메콩강, 요르단강, 유프라테스강은 물 분쟁이 발생하고 있는 국제 하천이다. ④ 오리노코강은 콜롬비아와 베네수엘라 볼리바르를 거쳐 남아메리카 북부로 흐르는 강으로, 이곳에서는 유전 국유화 문제를 두고 베네수엘라 볼리바르와 미국 간의 갈등이 발생하고 있다.

13

사우디아라비아는 국토의 대부분이 농업에 불리한 건조 기후이기 때문에 안정적인 식량 공급을 위해 해외에 농장을 임대하여 경영하는 '해외 농장 사업'을 아프리카 지역에서 추진하였다. 이로 인해 사우디아라비아는 식량 공급이 안정되었지만, 에티오피아는 농민들이 대자본의 농장에 땅을 빼앗기거나 생산량 증가를 위한 무분별한 농약과 비료의 사용으로 토양이 오염되는 등의 문제가 발생하였다.

14

(가)에 해당하는 국가는 풍부한 자원을 바탕으로 경제가 성장한 곳이다. 대표적으로 미국, 캐나다, 오스트레일리아, 노르웨이 등의 선진국과 카자흐스탄, 보츠와나, 아랍 에미리트, 카타르 등의 개발 도상국이 있다.

오답풀이 ◀ ① 풍부한 자원에도 불구하고 주민들의 삶이 어려운 국가들이다. ② (가) 국가는 대체로 기술 수준이 높아 자국의 자본으로 자원을 개발한다. ③ 자원 개발의 이익을 복지에 사용하여 주민 생활 수준이 높다. ④ 선진국은 개발 도상국에 비해 환경 문제에 민감하고 그에 대한 대응책이 정책적으로 마련되어 있다.

15

제시된 지도에서 A는 노르웨이, B는 카타르이다. 두 나라는 모두 풍부한 석유를 수출하여 벌어들인 수입으로 사회 기반 시설을 확충하고 교육 및 의료에 투자하여 국민의 생활 수준을 높인 국가들이다.

16

제시된 사례는 자원은 풍부하지만 미흡한 기술 수준과 불안한 정치 상황 등으로 경제가 어려운 나라에 대한 것이다. 나이지리아, 콩고 민주 공화국 등은 자원이 풍부하지만 불안한 국내 사정에 의해 경제 발전은 미흡하며 국민의 생활 수준이 낮다.

17

제시된 지도에 표시된 지역은 환태평양 조산대와 알프스·히말라야 조산대이다. 조산대 주변은 화산 활동이 활발하므로 이를 이용해 지열 에너지를 개발하기에 유리하다.

18

신·재생 에너지는 개발 시 자연 조건의 제약이 큰 편인데, 특히 풍력이나 수력, 태양광(열) 에너지는 기후의 영향이 매우 크다. 반면, 땅속의 열을 이용하는 지열 발전과 하루 두 번 나타나는 밀물과 썰물을 이용한 조력 발전은 기후의 영향을 거의 받지 않는다. 아이슬란드(A)는 지열 발전이 이루어지며, 우리나라(C)에서는 조력 발전이 이루어진다.

19

A~E는 모두 신·재생 에너지 개발이 활발한 지역이다. A는 아이슬란드로 지열 에너지, B는 덴마크로 풍력 에너지, C는 우리나라 서해안으로 조력 에너지, D는 미국 서부 지역으로 태양광 에너지, E는 브라질로 바이오 에너지가 대표적인 신·재생 에너지이다.

20

바이오 에너지는 옥수수나 콩과 같은 식물에서 직접 연료를 추출하거나, 음식물 쓰레기나 가축 분뇨 등에서 발생하는 가스를 이용하여 에너지를 생산하는 지속 가능한 자원이다. 그러나 바이오 에너지 개발을 위해 식량 자원을 소모하면 전 세계 식량 가격을 상승시켜 기아 문제의 원인이 되고, 바이오 연료인 팜유를 생산하기 위해 열대 우림을 파괴하는 등 문제점이 나타나기도 한다.

21

예시답안 미국, 미국은 세계적인 석유 생산국이지만 생활 수준이 높고 공업이 발달하여 석유 자원의 소비량이 많기 때문에 석유를 수입한다.

채점 기준	등급	평가 기준
	상	해당 국가를 쓰고 산업의 발달과 국민 생활 수준을 들어 석유 수입이 많은 이유를 서술한 경우
	하	해당 국가를 옳게 썼으나 석유 생산국이면서 수입이 많은 이유는 서술하지 못한 경우

신·재생 에너지의 장단점
 •장점 : 고갈 위험↓, 환경 오염↓
 •단점 : 개발 비용↑, 에너지 효율↓, 자연 조건의 제약↑

자원의 종류
 •천연자원 : 에너지 자원(석유, 석탄 등), 식량 자원, 물 자원 등
 •인적 자원 : 노동력, 창의력, 기술 수준 등
 •문화 자원 : 사회 제도, 전통 등

22

예시답안 나이지리아는 자원은 풍부하지만 자원을 개발할 기술과 자본 부족, 자원 개발로 얻은 이익의 불평등한 분배, 자원 개발 과정에서 배출된 유해 물질로 인한 환경 오염 등의 이유로 주민 생활 수준이 오히려 악화되었다.

채점 기준	등급	평가 기준
	상	기술과 자본 부족, 이익의 불평등한 분배, 환경 오염의 이유를 들어 주민 생활에 악영향을 미쳤음을 서술한 경우
	하	단순히 자원 개발이 주민 생활에 악영향을 미쳤기 때문이라고 서술한 경우

23

예시답안 (가)는 풍력 에너지로 강한 바람이 지속적으로 세게 부는 지역에서, (나)는 태양광 에너지로 사막과 같이 일사량이 풍부하고 강수량이 적은 지역에서 주로 개발되고 있다.

채점 기준	등급	평가 기준
	상	(가), (나) 발전소의 입지 조건을 모두 옳게 서술한 경우
	하	(가), (나) 발전소 중에 한 가지의 입지 조건만 서술한 경우

시전 문제로 등급 올리기

▶ 시험대비서 46~48쪽

01 ① 02 ⑤ 03 ④ 04 ① 05 ② 06 ① 07 ①
 08 ② 09 ④ 10 ④ 11 ⑤ 12 ⑤ 13 ② 14 ②
 15 해설 참조 16 해설 참조 17 해설 참조

01

천연자원은 자연적으로 존재하여 인간의 생활이나 생산 활동에 이용할 수 있는 물건이나 에너지를 말한다. 토지, 물, 광물 자원, 농수산물, 산림 자원 등이 이에 속한다.

오답풀이 < 다, B. 노동력, 기술 수준은 인적 자원에 해당한다. < 모, 사회 제도는 문화 자원에 해당한다.

02

넓은 의미의 자원은 식량 자원, 에너지 자원, 광물 자원과 같은 천연자원뿐만 아니라 인적 자원과 문화 자원을 포함한다. ㉠ 자원은 기술, 경제, 사회, 문화에 따라 가치가 달라지기도 하는데, 이를 자원의 가변성이라고 한다.

오답풀이 < ① 천연자원은 식량 자원, 에너지 자원, 광물 자원 등이다. ② 지속 가능한 자원은 고갈과 환경 오염의 위험이 적은 자원으로, 신·재생 에너지이다. ③ 문화 자원에 대한 내용이다. ④ 자원은 천연자원뿐만 아니라 인적 자원, 문화 자원을 포함한다.

03

석유는 세계에서 가장 많이 사용하는 에너지 자원으로, 자동차의 연료나 난방 연료로 쓰인다. 하지만 주로 서남아시아의 페르시아만 지역에 집중되어 매장되어 있기 때문에 국제적 이동량이 많다.

시험대비서

04

자원의 이동과 자원을 둘러싼 갈등이 발생하는 가장 큰 원인은 자원이 골고루 분포하지 않고 일부 지역에 편중되어 있기 때문이다. 이러한 특성을 자원의 편재성이라고 하는데, 특히 석유는 편재성이 커서 석유 자원의 확보를 위한 각국의 경쟁이 점점 치열해지고 있다.

05

제시된 지도의 A는 쌀, B는 밀이다. 밀은 서늘하고 건조한 기후 지역에서도 재배가 가능하여 쌀에 비해 더 넓은 지역에서 재배되며, 국제적 이동량도 더 많다.

오답풀이 ㄴ, ㄷ. 쌀에 대한 설명이다. 쌀은 주로 아시아 지역에서 생산되고 소비되므로, 밀에 비해 국제적 이동량이 적다.

06

카스피해는 세계에서 가장 큰 내해로 세계 7위의 석유 매장 지역이며, 많은 양의 천연가스가 매장되어 있다. 이러한 카스피해를 바다라고 할 경우 국제 해양법에 의해 각국이 연안에서 일정한 거리 내의 자원에 대한 소유권을 갖게 되기 때문에 해안선이 긴 나라가 유리하다. 그러나 카스피해를 호수라고 할 경우 연안국이 공동으로 자원을 관리하기 때문에 해안선이 짧은 나라가 유리하다. 이 때문에 카스피해를 둘러싼 5개국의 영유권 분쟁이 치열하다.

07

북극해는 지구 온난화로 빙하가 감소하면서 자원 개발 비용이 이전에 비해 줄어들었다. 이에 인접한 국가들 간의 영유권 경쟁이 더욱 심화되었다.

오답풀이 ㉔ 중국, 일본 간 자원 갈등이 나타난다. ㉓ 앙골라, 적도 기니, 나이지리아, 콩고 민주 공화국, 가봉 간 유전 지대 영유권 갈등이 나타난다. ㉒ 이란, 아랍 에미리트 간 석유 자원을 차지하기 위한 영유권 갈등이 나타난다. ㉑ 베네수엘라 볼리바르 정부와 미국 석유 기업 간 유전 국유화에 대한 갈등이 나타난다.

08

제시된 지도와 관련된 국제 하천은 메콩강이다. 메콩강의 물 사용을 두고 중국, 미얀마, 타이, 캄보디아, 라오스, 베트남 간의 물 자원 분쟁이 나타나고 있다.

09

오스트레일리아는 석탄, 철광석 등의 풍부한 자원과 뛰어난 기술을 바탕으로 선진국이 된 대표적인 국가이다.

10

자원이 풍부한 국가는 이를 바탕으로 경제가 성장할 가능성이 높지만, 자원의 이용 방식이나 개발 방식에 따라 부유해질 수도, 어려움을 겪을 수도 있다. 풍부한 자원을 보유한 국가라도 불안정한 정치 상황이나 미흡한 자원 개발 기술 수준 등의 요인에 의해 더 큰 갈등이 발생하기도 한다.

자원의 특성

- 편재성 : 자원이 일부 지역에 집중적으로 분포함
→ 국제 이동과 국가 간 경쟁과 갈등의 원인이 됨
- 유한성 : 자원의 매장량이 한정되어 있음
- 가변성 : 자원의 가치는 시대, 장소, 기술 및 경제 수준, 사회·문화적 배경에 따라 변화함

신·재생 에너지의 개발 조건

- 태양광(열) 에너지 : 일사량이 풍부한 건조 기후 지역
- 풍력 에너지 : 강한 바람이 지속해서 부는 해안 또는 산지 지역
- 조력 에너지 : 조석 간만의 차가 큰 해안 지역
- 지열 에너지 : 조산대의 화산 활동이 활발한 지역
- 수력 에너지 : 강수량이 풍부하고 지형의 낙차가 큰 곳
- 바이오 에너지 : 쓰레기를 이용한 에너지 획득에 유리한 곳

11

신·재생 에너지는 고갈의 위험이 없고, 환경 오염 물질 배출이 적어 화석 연료를 대체할 수 있으며, 지구상에 비교적 고르게 분포한다는 장점이 있다. 하지만 초기 개발 비용에 비해 발전량이 적고, 발전소를 건설할 때 기후나 지형 등 자연 조건의 제약이 크다는 단점이 있다.

12

제시된 지도에 표시된 곳은 북아프리카와 서남아시아의 사막 지대이다. 이곳은 강수량이 거의 없고 일조량이 풍부하여 태양광 에너지 개발에 유리하다.

13

(㉑)는 조력 발전소, (㉒)는 지열 발전소이다. 조력 발전은 바다의 밀물과 썰물의 수위 차를 이용하여 전기를 생산한다. 한편, 지열 발전은 화산 활동이 활발한 조산대 부근에서 땅속의 뜨거운 열기를 이용하여 전기를 생산한다.

오답풀이 ㄴ. 풍력 발전에 유리한 지역에 대한 설명이다. ㄷ. 수력 발전이 유리한 지역에 대한 설명이다.

14

덴마크는 강한 바람을 이용하여 풍력 에너지를 적극 개발하고 있다. 우리나라도 비교적 강한 바람이 부는 제주도와 대관령 일대에서 풍력 발전이 이루어지고 있다.

15

예시답안 석유는 전 세계 매장량의 상당 부분이 서남아시아의 페르시아만에 매장되어 있어 지역적 편재가 심하기 때문이다.

채점 기준	등급	평가 기준
	상	석유 자원이 서남아시아에 집중되어 있는 편재성을 특징으로 제시하여 서술한 경우
	하	석유 자원이 일부 지역에 집중적으로 매장되어 있기 때문이라고만 서술하고 '편재성'을 쓰지 않은 경우

16

예시답안 자원이 풍부하지만 발전하지 못한 나라는 대부분 자원을 둘러싼 분쟁이나 환경 오염에 시달리고 있다. 대표적으로 나이지리아, 시에라리온, 콩고 민주 공화국이 있다.

채점 기준	등급	평가 기준
	상	공통점과 사례 국가 세 곳을 모두 제시한 경우
	하	공통점 또는 사례 국가 중 한 가지만 서술한 경우

17

예시답안 풍력 발전은 강한 바람이 지속적으로 부는 산지나 해안 지역에서 주로 개발된다.

채점 기준	등급	평가 기준
	상	풍력 발전소 입지에 유리한 곳으로 바람이 많이 부는 산지나 해안 지역을 제시한 경우
	하	풍력 발전소의 입지 조건으로 바람이 많이 부는 곳이라고만 서술한 경우

풍부한 자원을 바탕으로 한 국가

- 풍부한 자원과 뛰어난 기술을 바탕으로 성장한 국가 : 미국, 캐나다, 오스트레일리아
- 석유 수출로 부유해진 국가 : 쿠웨이트, 카타르, 아랍 에미리트
- 자원 수출과 정치 안정으로 경제가 발전한 국가 : 카자흐스탄, 보츠와나
- 자원이 풍부하지만 어려움을 겪는 국가 : 나이지리아, 시에라리온, 콩고 민주 공화국

문제 풀이
능력을 향상시키는



채움 해설서



정답 한눈에 보기

02



기본 학습서편

04

VII. 개인과 사회생활 04

VIII. 문화의 이해 10

IX. 정치 생활과 민주주의 16

X. 정치 과정과 시민 참여 22

XI. 일상생활과 법 28

XII. 사회 변동과 사회 문제 34



시험 대비서편

39



정답

한눈에 보기

기본 학습서편

VII 개인과 사회생활

012~015쪽 ① 사회화와 청소년기 ~ ② 사회적 지위와 역할

01 ④ 02 ② 03 ⑤ 04 ④ 05 ① 06 ④ 07 ⑤ 08 ② 09 ⑤
10 ② 11 ③ 12 ③ 13 ⑤ 14 ④ 15 재사회화 16 청소년기
17 성취 지위 18 해설 참조 19 해설 참조 20 해설 참조

018~021쪽 ③ 사회 집단과 차별

01 ⑤ 02 ① 03 ③ 04 ② 05 ⑤ 06 ② 07 ④ 08 ③ 09 ④
10 ② 11 ② 12 ⑤ 13 ③ 14 ④ 15 ㉠ 내집단, ㉡ 외집단
16 2차 집단 17 ㉠ 차이, ㉡ 차별 18 해설 참조 19 해설 참조 20 해
설 참조

023~026쪽 대단원 완성 문제

01 ④ 02 ③ 03 ⑤ 04 ② 05 ③ 06 ① 07 ④ 08 ② 09 ④
10 ② 11 ⑤ 12 ③ 13 ④ 14 ③ 15 ② 16 ④ 17 해설 참조
18 해설 참조 19 해설 참조 20 해설 참조

VIII 문화의 이해

032~035쪽 ① 문화의 의미와 특징

01 ⑤ 02 ② 03 ① 04 ② 05 ③ 06 ④ 07 ③ 08 ⑤ 09 ②
10 ④ 11 ④ 12 ② 13 ① 14 ③ 15 문화 16 관념 문화 17 (가)
변동성, (나) 전체성 18 해설 참조 19 해설 참조 20 해설 참조

038~041쪽 ② 문화를 바라보는 태도 ~ ③ 대중 매체와 대중문화

01 ④ 02 ② 03 ④ 04 ① 05 ② 06 ④ 07 ⑤ 08 ③ 09 ③
10 ② 11 ① 12 ③ 13 ③ 14 ④ 15 문화 제국주의 16 문화 상대
주의 17 ㉠ 대중문화, ㉡ 대중 매체 18 해설 참조 19 해설 참조
20 해설 참조

043~046쪽 대단원 완성 문제

01 ⑤ 02 ① 03 ② 04 ③ 05 ① 06 ③ 07 ③ 08 ④ 09 ③
10 ④ 11 ④ 12 ③ 13 ⑤ 14 ⑤ 15 ② 16 ③ 17 해설 참조
18 해설 참조 19 해설 참조 20 해설 참조

IX 정치 생활과 민주주의

052~055쪽 ① 정치의 의미와 민주 정치의 발전 과정

01 ⑤ 02 ② 03 ④ 04 ④ 05 ④ 06 ③ 07 ⑤ 08 ④ 09 ③
10 ② 11 ⑤ 12 ⑤ 13 ③ 14 ② 15 정치 16 시민 17 민회
18 해설 참조 19 해설 참조 20 해설 참조

060~063쪽 ② 민주주의의 이념과 민주 정치의 기본 원리 ~ ③ 민주 정치와 정부 형태

01 ③ 02 ④ 03 ⑤ 04 ④ 05 ④ 06 ③ 07 ⑤ 08 ④ 09 ②
10 ② 11 ⑤ 12 ② 13 ④ 14 ③ 15 민주주의 16 ㉠ 자유, ㉡ 평
등 17 국민 주권의 원리 18 해설 참조 19 해설 참조 20 (1) 의원 내각
제 (2) 해설 참조

065~068쪽 대단원 완성 문제

01 ④ 02 ③ 03 ① 04 ⑤ 05 ③ 06 ④ 07 ② 08 ② 09 ⑤
10 ④ 11 ⑤ 12 ② 13 ② 14 ⑤ 15 ③ 16 ③ 17 해설 참조
18 해설 참조 19 해설 참조 20 해설 참조

X 정치 과정과 시민 참여

072~075쪽 ① 정치 과정과 정치 주제

01 ② 02 ④ 03 ④ 04 ⑤ 05 ④ 06 ① 07 ② 08 ① 09 ⑤
10 ③ 11 ④ 12 ④ 13 ③ 14 ② 15 정책 16 이익 집단 17 정당
18 해설 참조 19 해설 참조 20 (1) (가) 시민 단체, (나) 이익 집단 (2) 해설
참조

078~081쪽 ② 선거의 의미와 제도 ~ ③ 지방 자치와 주민 참여

01 ③ 02 ② 03 ③ 04 ① 05 ⑤ 06 ② 07 ④ 08 ② 09 ③
10 ④ 11 ② 12 ① 13 ② 14 ⑤ 15 선거 16 게리맨더링 17 주
민 참여 예산제 18 해설 참조 19 (1) (가) 지방 의회, (나) 지방 자치 단체장
(2) 해설 참조 20 해설 참조

085~088쪽 대단원 완성 문제

01 ⑤ 02 ③ 03 ③ 04 ② 05 ⑤ 06 ④ 07 ③ 08 ③ 09 ②
10 ⑤ 11 ① 12 ④ 13 ⑤ 14 ⑤ 15 ④ 16 ③ 17 해설 참조
18 해설 참조 19 해설 참조 20 해설 참조

XI 일상생활과 법

092~095쪽 ① 법의 의미와 목적 ~ ② 법의 유형과 특징

01 ④ 02 ① 03 ③ 04 ② 05 ① 06 ③ 07 ③ 08 ③ 09 ①
10 ③ 11 ⑤ 12 ④ 13 ④ 14 ① 15 정의 실현 16 헌법 17 사회
법 18 (1) (가) 도덕, (나) 법 (2) 해설 참조 19 해설 참조 20 해설 참조

100~103쪽 ③ 재판의 이해

01 ③ 02 ④ 03 ④ 04 ④ 05 ① 06 ⑤ 07 ③ 08 ③ 09 ②
10 ③ 11 ② 12 ③ 13 ⑤ 14 ① 15 형사 재판 16 (가) 원고, (나) 피
고인 17 심급 제도 18 해설 참조 19 해설 참조 20 해설 참조

105~108쪽 대단원 완성 문제

01 ⑤ 02 ① 03 ③ 04 ① 05 ④ 06 ① 07 ② 08 ⑤ 09 ⑤
10 ④ 11 ④ 12 ① 13 ④ 14 ⑤ 15 ③ 16 ② 17 해설 참조
18 해설 참조 19 해설 참조 20 해설 참조

XII 사회 변동과 사회 문제

112~115쪽 ① 현대 사회의 변동

01 ⑤ 02 ③ 03 ② 04 ⑤ 05 ① 06 ④ 07 ③ 08 ③ 09 ②
10 ⑤ 11 ④ 12 ① 13 ④ 14 ③ 15 사회 변동 16 ㉠ 정보화,
(나) 세계화 17 정보 격차 18 해설 참조 19 해설 참조 20 해설 참조

118~121쪽 ② 한국 사회 변동의 최근 경향 ~ ③ 현대 사회의 사회 문제

01 ⑤ 02 ① 03 ③ 04 ① 05 ② 06 ④ 07 ① 08 ② 09 ⑤
10 ④ 11 ② 12 ④ 13 ③ 14 ③ 15 다문화 사회 16 ㉠ 개발 도
상국, ㉡ 선진국 17 ㉠ 노사 갈등, ㉡ 실업 문제 18 해설 참조 19 해설
참조 20 해설 참조

125~128쪽 대단원 완성 문제

01 ③ 02 ③ 03 ⑤ 04 ② 05 ④ 06 ② 07 ④ 08 ① 09 ④
10 ③ 11 ① 12 ⑤ 13 ④ 14 ③ 15 ⑤ 16 ⑤ 17 해설 참조
18 해설 참조 19 해설 참조 20 해설 참조

시험 대비서편

VII 개인과 사회생활

02~05쪽 필수 문제로 학교시험 대비하기

01 ② 02 ④ 03 ① 04 ⑤ 05 ④ 06 ⑤ 07 ② 08 ⑤ 09 ④
10 ④ 11 ③ 12 ② 13 ④ 14 ⑤ 15 ③ 16 ④ 17 ③ 18 ⑤
19 ③ 20 ② 21 해설 참조 22 해설 참조 23 해설 참조

06~09쪽 실전 문제로 등급 올리기

01 ④ 02 ② 03 ③ 04 ④ 05 ③ 06 ④ 07 ① 08 ② 09 ⑤
10 ④ 11 ① 12 ③ 13 ④ 14 ② 15 ③ 16 ③ 17 ② 18 ③
19 ④ 20 ⑤ 21 해설 참조 22 해설 참조 23 해설 참조

VIII 문화의 이해

10~13쪽 필수 문제로 학교시험 대비하기

01 ⑤ 02 ④ 03 ④ 04 ② 05 ⑤ 06 ④ 07 ① 08 ③ 09 ④
10 ② 11 ③ 12 ② 13 ② 14 ③ 15 ① 16 ⑤ 17 ③ 18 ④
19 ⑤ 20 ⑤ 21 해설 참조 22 해설 참조 23 해설 참조

14~17쪽 실전 문제로 등급 올리기

01 ④ 02 ① 03 ② 04 ② 05 ③ 06 ③ 07 ② 08 ② 09 ①
10 ② 11 ③ 12 ⑤ 13 ② 14 ④ 15 ⑤ 16 ④ 17 ③ 18 ②
19 ② 20 ④ 21 해설 참조 22 해설 참조 23 해설 참조

IX 정치 생활과 민주주의

18~21쪽 필수 문제로 학교시험 대비하기

01 ④ 02 ④ 03 ③ 04 ② 05 ② 06 ① 07 ⑤ 08 ② 09 ③
10 ⑤ 11 ④ 12 ④ 13 ① 14 ④ 15 ⑤ 16 ② 17 ⑤ 18 ③
19 ③ 20 ② 21 해설 참조 22 해설 참조 23 (1) 대통령제 (2) 해설
참조

22~25쪽 실전 문제로 등급 올리기

01 ⑤ 02 ⑤ 03 ⑤ 04 ① 05 ① 06 ④ 07 ④ 08 ② 09 ③
10 ② 11 ③ 12 ⑤ 13 ② 14 ② 15 ⑤ 16 ④ 17 ⑤ 18 ④
19 ① 20 ② 21 해설 참조 22 해설 참조 23 해설 참조

X 정치 과정과 시민 참여

26~29쪽 필수 문제로 학교시험 대비하기

01 ③ 02 ③ 03 ② 04 ④ 05 ② 06 ② 07 ③ 08 ② 09 ②
10 ① 11 ③ 12 ③ 13 ④ 14 ⑤ 15 ⑤ 16 ① 17 ① 18 ②
19 ① 20 ③ 21 해설 참조 22 해설 참조 23 해설 참조

30~33쪽 실전 문제로 등급 올리기

01 ① 02 ③ 03 ① 04 ④ 05 ⑤ 06 ② 07 ② 08 ① 09 ③
10 ④ 11 ① 12 ③ 13 ③ 14 ④ 15 ② 16 ② 17 ⑤ 18 ②
19 ④ 20 ① 21 해설 참조 22 해설 참조 23 해설 참조

XI 일상생활과 법

34~37쪽 필수 문제로 학교시험 대비하기

01 ① 02 ④ 03 ③ 04 ② 05 ② 06 ② 07 ① 08 ④ 09 ②
10 ② 11 ② 12 ④ 13 ③ 14 ③ 15 ② 16 ③ 17 ④ 18 ②
19 ⑤ 20 ③ 21 해설 참조 22 해설 참조 23 해설 참조

38~41쪽 실전 문제로 등급 올리기

01 ④ 02 ③ 03 ① 04 ③ 05 ② 06 ① 07 ② 08 ② 09 ④
10 ① 11 ① 12 ④ 13 ② 14 ② 15 ③ 16 ① 17 ② 18 ④
19 ⑤ 20 ④ 21 해설 참조 22 해설 참조 23 해설 참조

XII 사회 변동과 사회 문제

42~45쪽 필수 문제로 학교시험 대비하기

01 ④ 02 ⑤ 03 ① 04 ① 05 ④ 06 ③ 07 ② 08 ② 09 ④
10 ④ 11 ③ 12 ③ 13 ⑤ 14 ② 15 ① 16 ④ 17 ① 18 ④
19 ② 20 ⑤ 21 해설 참조 22 해설 참조 23 해설 참조

46~48쪽 실전 문제로 등급 올리기

01 ③ 02 ④ 03 ⑤ 04 ⑤ 05 ② 06 ④ 07 ③ 08 ③ 09 ①
10 ③ 11 ③ 12 ④ 13 ② 14 ④ 15 해설 참조 16 해설 참조
17 해설 참조

VII 개인과 사회생활

1 사회화와 청소년기

2 사회적 지위와 역할

학교 시험 걱정 문제

▶ 기본학습서 012~015쪽

01 ④ 02 ② 03 ⑤ 04 ④ 05 ① 06 ④ 07 ⑤
08 ② 09 ⑤ 10 ② 11 ③ 12 ③ 13 ⑤ 14 ④
15 재사회화 16 청소년기 17 성취 지위 18 해설 참
조 19 해설 참조 20 해설 참조

01

사회화는 인간이 태어나 다른 사람들과 생활하면서 자신이 속한 사회에 필요한 언어, 규범, 가치관, 행동 양식, 지식 등을 배워 나가는 과정이다.

오답풀이 ① 자아는 개인이 갖는 자신만의 개성과 고유한 특성을 의미한다. ② 지위는 개인이 사회적 관계 속에서 차지하는 위치이다. ③ 역할은 개인이 차지하는 지위에 대해 기대되는 행동 양식이다. ⑤ 역할 갈등은 한 개인에게 기대되는 서로 다른 역할이 충돌하는 현상을 말한다.

02

㉠ 학교에서 정해진 복장인 교복을 입는 것, ㉡ 수업 중이 치면 교실에서 수업 들을 준비를 하는 것, ㉢ 어른을 보면 인사하는 것은 사회에서 요구하는 행동 양식에 맞게 행동한 것이므로 사회화된 행동에 해당한다.

오답풀이 ㉣ 배에서 꼬르륵 소리가 나는 것과 ㉤ 하품을 하는 것은 생리적인 현상으로, 사회화된 행동이 아니다. 만약 하품이 나서 손으로 입을 가리는 행동을 했다면, 그것은 사회화된 행동이다.

03

인간은 혼자서는 살아갈 수 없는 사회적 존재이며, 사회 속에서 다른 사람들과 관계를 맺으며 살아갈 때 인간다운 삶을 살 수 있다.

문제자료 뜯어보기

1991년 우크라이나에서 옥사나라는 소녀가 개들 사이에서 발견되었다. 옥사나는 3살 때부터 5년간 개 사육장에서 생활하였는데, 발견되었을 당시 개처럼 짖고 손과 발로 뛰어다니는 등의 행동을 보였다. 또한 사람들과 대화하는 방법을 몰랐고, 줄곧 으르렁거리며 사람을 물고 공격하였다. 옥사나는 어린 시절에 적절한 사회화를 거치지 못해 인간으로서 갖추어야 할 기본적인 행동 양식을 습득하지 못하였음을 알 수 있어요.

사회화의 기능

- 개인적 측면 : 개인의 개성과 자아 형성, 정체성 형성, 사회의 행동 양식 습득 및 사회에의 적응
- 사회적 측면 : 문화 공유 및 전수, 사회의 유지 및 발전

04

사회적 측면에서 사회화는 한 사회의 구성원들 사이에 문화가 공유되도록 하고 그 문화를 다음 세대에 전달함으로써 사회를 유지하고 발전시키는 기능을 한다.

오답풀이 ①, ②, ③, ⑤ 개인적 측면에서 사회화는 개인이 자신이 속한 사회에서 요구하는 규범이나 행동 양식 등을 습득하여 잘 적응하게 하고, 자신만의 독특한 개성과 자아 및 정체성을 형성하도록 한다.

05

가정은 인간의 초기 사회화를 담당하여 의식주와 관련한 기본적인 생활 습관, 의사소통 방식 등을 습득하게 하고 기본 인성과 가치관 형성에 중대한 영향을 미친다.

오답풀이 ② 직장은 주로 성인기 이후의 업무와 관련한 지식 및 기술 습득을 담당한다. ③ 학교는 사회에서 요구하는 지식, 기술, 규범의 습득을 담당하는 공식적 사회화 기관이다. ④ 또래 집단은 주로 아동기에 놀이를 통해 규칙과 질서를 습득하게 한다. ⑤ 대중 매체는 많은 사람에게 다양한 정보를 제공한다.

06

또래 집단은 비슷한 연령대의 친구 모임으로, 놀이를 통해 집단생활의 규칙과 질서 등을 배우며, 자신들만의 문화를 형성하여 소속감과 심리적 안정을 추구한다.

오답풀이 ① 주로 성인기의 사회화를 담당하는 것은 직장이다. ② 대중에게 오락과 정보를 제공하는 사회화 기관은 대중 매체이다. ③ 개인이 태어나서 최초로 경험하는 사회화 기관은 가정이다. ⑤는 학교에 관한 설명으로, 학교는 사회화를 목적으로 만들어진 공식적 사회화 기관이다.

07

인간의 사회화는 태어나는 순간부터 죽을 때까지 평생 계속되며, 인생의 시기별로 주로 영향을 미치는 사회화 기관과 주요 사회화의 내용이 달라진다. ⑤ 노년기에는 노인 대학, 대중 매체 등을 통해 변화된 사회 환경에 적응하기 위한 새로운 생활 양식이나 지식 등을 학습한다.

08

청소년기는 아동기에서 성인기로 넘어가는 과도기로서 청소년들은 부모에게 의존하던 모습에서 벗어나 정신적으로 독립하고자 하며, 또래 집단에 대해 강한 유대감과 소속감을 느낀다.

오답풀이 을 : 청소년들은 기존 사회 제도에 대해 비판적인 태도를 보인다. 정 : 청소년들은 정서적으로 불안정하고 충동적인 행동을 하는 경향이 높다.

09

자아 정체성은 다른 사람들과 구별되는 자신만의 고유한 특성을 깨닫고 자신이 누구인지 명확하게 인식하는 것

해결의 실마리

인간이 자신이 속한 사회의 생활 양식을 배운다



사회화

시기별 주요 사회화 내용

- 유아기 : 기본적인 생활 습관 습득
- 아동기 : 놀이를 통한 규칙 및 질서 습득
- 청소년기 : 지식, 기술, 규범, 사회성 등을 습득
- 성인기 : 직장 업무에 필요한 지식 및 기술 습득
- 노년기 : 급변하는 사회에 적응하기 위한 새로운 생활 양식 습득

로, 자신의 노력뿐만 아니라 외부의 다양한 요인과의 상호 작용을 통해 형성된다. 청소년기는 자아 정체성이 형성되는 중요한 시기이며, 청소년기에 형성된 자아 정체성은 성인기에까지 영향을 미친다.

10

지위는 한 개인이 집단 내에서 차지하고 있는 위치로, 귀속 지위와 성취 지위로 구분한다. ㉠ 학급 회장, ㉡ 아버지, ㉢ 아나운서, ㉣ 래퍼는 개인의 의지와 노력에 의해 후천적으로 획득하는 성취 지위이다. 반면 ㉤ 막내딸은 태어나면서부터 자연적으로 갖게 되는 귀속 지위이다.

11

경찰, 교사는 개인의 능력과 노력에 의해 후천적으로 얻게 되는 성취 지위이다. 아내, 남편과 같은 지위는 선천적으로 주어진 것이 아니므로 성취 지위에 해당한다.

오답풀이 ◀ ㄱ은 귀속 지위에 관한 설명이다. ㄴ. 귀속 지위는 전통 사회에서 중시되었고, 성취 지위는 현대 사회에서 중요해지고 있다.

12

㉠은 지위, ㉡은 역할이다. ㉢ 사회가 바라는 방식으로 역할을 잘 수행하면 사회적으로 보상을 받고, 그렇지 못할 경우 제재를 받는다.

오답풀이 ◀ ① ㉠은 지위이다. ② 개인은 여러 개의 지위를 가질 수 있다. ④ 역할을 수행하는 모습, 즉 역할을 수행하는 개인의 구체적인 행동(역할 행동)은 개인마다 다를 수 있다. ⑤ 지위에 따른 역할은 사회마다 다를 수 있다.

13

역할은 사회적 지위에 따라 기대되는 행동 양식이고, 역할 행동은 역할을 실제로 수행하는 개인의 구체적인 행동이다. ⑤ 역할이 동일하더라도 역할 행동은 개인마다 다르게 나타날 수 있다.

오답풀이 ◀ ① 지위에 따라 역할이 결정된다. ② 하나의 지위에는 다양한 역할이 기대될 수 있다. ③ 역할을 충실히 수행하면 칭찬과 보상이 주어진다. ④ 역할 행동은 개인이 실제로 역할을 수행하는 방식이다.

14

A 씨는 국가 대표 선수로서 결승전 시합에 나가야 하는 역할과 자식으로서 어머니의 장례식에 참석해야 하는 역할이 충돌하는 역할 갈등을 겪고 있다. ㄴ. 현대 사회가 복잡해지면서 개인의 지위가 많아지고, 이에 따라 수행해야 할 역할들이 늘어나면서 역할 갈등은 점점 증가하고 있다. ㄷ. A 씨는 더 중요한 역할이 무엇인지 판단하여 하나의 역할을 선택함으로써 이 상황을 해결할 수 있다.

오답풀이 ◀ ㄱ. ㉠과 ㉡은 둘 다 성취 지위이다. ㄷ. 두 개의 지위에 따른 각각의 역할이 동시에 요구되고 있다.

우공비 Note

재사회화의 사례

- 정보 사회로의 변화에 따라 새로운 정보 통신 기술을 배우는 것
- 다문화 사회에 필요한 가치와 태도를 습득하는 것
- 직장이 바뀌면서 새로운 업무 방식을 습득하는 것

해결의 실마리

경찰, 교사



개인의 능력이나 노력에 의해 획득



성취 지위



현대 사회에서 중시

역할 갈등

- 의미 : 개인이 가지는 여러 지위에 따른 각각의 역할들이 조화를 이루지 못하고 서로 충돌하는 현상
- 해결 방안 : 우선순위를 정해 중요한 것부터 수행하거나 역할 중 하나를 포기

15

할아버지가 인터넷과 스마트폰 사용법을 배우는 것은 변화된 사회 환경에 적응하기 위해 새로운 지식이나 기술을 배우는 것으로, 재사회화에 해당한다.

16

주변인, 심리적 이유기, 질풍노도의 시기와 같은 표현은 청소년기를 나타낸다.

문제자료 뜯어보기

• 주변인

아동과 성인 중 어느 쪽에도 속하지 못하고 주변을 맴도는 시기라는 뜻이에요.

• 심리적 이유기

부모의 보호 아래에 있지만 심리적으로 독립을 원하는 시기라는 뜻이에요.

• 질풍노도의 시기

빠르게 부는 바람과 거센 물결과 같이 격정적인 감정의 변화가 생기는 시기라는 뜻이에요.

17

성취 지위는 개인의 능력이나 노력에 의해 후천적으로 획득하는 지위로, 현대 사회에서 중요성이 커지고 있다.

18

예시답안 아기는 아직 사회화를 경험하지 못하여 식사 예절을 배우지 못했기 때문에 본능대로 손으로 먹지만, 성인은 사회화를 통해 자신이 속한 사회에서 음식을 먹는 방법을 배웠기 때문에 그에 따라 적절하게 먹는다.

채점 기준	등급	평가 기준
	상	사회화의 내용을 언급하면서 그 까닭을 바르게 서술한 경우
	하	사회화의 경험 여부만을 차이점으로 제시한 경우

19

예시답안 ㉠은 성취 지위로서 개인의 능력과 노력에 의해 후천적으로 획득하는 지위이고, ㉡은 귀속 지위로서 태어나면서부터 자연적으로 결정되는 지위이다.

채점 기준	등급	평가 기준
	상	㉠ 성취 지위, ㉡ 귀속 지위라고 쓰고, 각각의 결정 원리를 바르게 서술한 경우
	하	㉠ 성취 지위, ㉡ 귀속 지위라고만 쓴 경우

20

예시답안 역할 갈등 / 갑이 갖고 있는 변호사라는 지위에 기대되는 역할과 남편이라는 지위에 기대되는 역할이 서로 충돌하여 발생하였다.

채점 기준	등급	평가 기준
	상	역할 갈등이라고 쓰고, 변호사라는 지위와 남편이라는 지위에 기대되는 역할이 서로 충돌하여 발생하였다고 서술한 경우
	중	역할 갈등이라고 쓰고, 그 발생 원인을 단순히 여러 역할이 충돌하거나 조화를 이루지 못하였다고 서술한 경우
	하	역할 갈등이라고만 쓴 경우

3 사회 집단과 차별

학교 시험 걱정 문제

▶ 기본학습서 018~021쪽

01 ⑤ 02 ① 03 ③ 04 ② 05 ⑤ 06 ② 07 ④
08 ③ 09 ④ 10 ② 11 ② 12 ⑤ 13 ③ 14 ④
15 ⑦ 내집단, ① 외집단 16 2차 집단 17 ⑦ 차이, ①
차별 18 해설 참조 19 해설 참조 20 해설 참조

01

사회 집단은 둘 이상의 사람들이 소속감을 갖고 지속적인 상호 작용을 하는 집단을 의미한다. 야구 동호회의 회원들은 이러한 조건을 모두 충족하므로 사회 집단에 해당한다.
오답풀이 ①, ②, ③, ④는 그 모임에 대한 소속감이 없고 지속적인 상호 작용을 하지 않기 때문에 사회 집단이라고 할 수 없다.

02

⑦은 그림의 두 학생이 소속되어 있으면서 소속감을 갖고 있는 집단이므로 내집단에 해당하고, ①은 소속되어 있지 않으면서 농구 시합에서 이기기 위해 경쟁하며 적대감을 갖는 집단이므로 외집단에 해당한다.

03

1차 집단은 구성원 간에 친밀한 접촉이 이루어지고 인격적인 관계가 형성되는 집단이다.

오답풀이 ① 가족, 또래 집단은 1차 집단에 해당하지만 회사는 2차 집단에 해당한다. ②, ④는 2차 집단에 관한 설명이다. ⑤ 1차 집단은 개인의 인격과 자아 형성에 미치는 영향이 크다.

04

2차 집단은 특정한 목적을 달성하기 위해 구성원 간에 형식적이고 수단적인 상호 작용이 이루어진다. 회사, 정당, 노동조합은 2차 집단에 해당한다.

오답풀이 ㄷ, ㄹ. 가족과 또래 집단은 1차 집단에 해당한다. 1차 집단은 구성원 간에 접촉이 잦고 강한 친밀감을 느끼는 집단이다.

05

(가) 가족은 1차 집단, (나) 학교는 2차 집단에 해당한다. 1차 집단과 2차 집단은 구성원 간의 접촉 방식에 따라 구분한다. 1차 집단은 친밀한 대면 접촉이 이루어지고 인격적인 관계를 형성하는 집단으로, 개인의 정체성 형성에 중요한 역할을 한다. 2차 집단은 간접적 접촉이 이루어지고 특정 목적을 달성하기 위한 형식적이고 수단적인 만남을 바탕으로 한다. ⑤ 사회가 복잡하고 전문화될수록 2차 집단의 비중이 커진다.

06 총정답과 해설

문제자료 뜯어보기



(가) 가족은 구성원들이 친밀하게 접촉하면서 전인격적인 관계가 형성되는 1차 집단이에요.



(나) 학교는 구성원들이 목적 달성을 위해 수단적인 상호 작용을 하는 2차 집단이에요.

06

(가)는 2차 집단, (나)는 1차 집단에 대한 설명이다. 회사는 2차 집단, 가족은 1차 집단에 해당한다.

오답풀이 ㄱ, ㄴ. 우연히 같은 기차에 탄 승객들이나 우연히 같은 영화를 보게 된 관객들은 소속감이 없고 지속적인 상호 작용을 하지 않으므로 사회 집단이 아니다.

07

준거 집단이란 소속 여부와 관계없이 개인이 자신의 행동이나 판단의 기준으로 삼는 집단을 말한다. ④ 재우가 댄스 동아리에 불만이 생겨서 탈퇴하였다면 댄스 동아리는 재우의 준거 집단으로 보기 어렵다.

08

⑦은 지회의 준거 집단, ①은 지회의 소속 집단이다. ③ ⑦은 지회가 실제 소속되어 소속감을 느끼고 있는 집단이 아니므로 내집단이라고 할 수 없다. 지회는 현재 소속 집단과 준거 집단이 일치하지 않는 상태이다. 준거 집단과 소속 집단이 일치하는 상황에서는 소속 집단에 대해 만족감을 느끼지만, 준거 집단과 소속 집단이 불일치하는 상황에서는 소속 집단에 대해 불만을 갖게 된다.

09

개인 and 사회 집단은 밀접한 관계를 맺고 서로 영향을 주고 받는다. 사회 집단은 개인의 의지나 역할 수행 방법에 따라 변화하거나 발전하기도 한다.

오답풀이 ① 사회 집단은 구성원의 소속감에 따라 내집단과 외집단으로 구분할 수 있다. ② 개인의 소속 집단과 준거 집단은 일치하기도 하고 불일치하기도 한다. ③ 외집단의 존재는 내집단의 결속력을 강화하는 요인이 된다. ⑤ 내집단과 외집단의 구분은 상황에 따라 변화할 수 있다.

10

차이는 서로를 구분할 수 있는 특성으로, 성별, 인종, 나이, 종교 등이 서로 같지 않고 다른 것을 말한다. 차별은 이러한 차이를 근거로 합리적 이유 없이 부당하게 대우하는 것을 말한다. 차이는 존중해야 할 현상이고, 차별은 없애야 할 현상이다.

해결의 실마리

⑦ 우리 학교



소속되어 있고, 소속감을 느낌



내집단

① A 중학교



우리 학교와 시합을 통해 경쟁함



외집단

소속 집단과 준거 집단

- 소속 집단 : 개인이 실제 소속되어 있는 집단
- 준거 집단 : 개인이 어떤 행동이나 판단을 할 때 기준이 되는 집단

차이와 차별

- 차이 : 서로 같지 않고 다른 것 → 존중해야 함
- 차별 : 차이를 이유로 어떤 사람이나 집단을 부당하게 대우하는 것 → 해소해야 함

오답풀이 ㄴ. 다르다는 이유로 부당하게 대우하는 것은 차별이다. ㄷ. '서로 같지 않고 다른 것'은 차이이다.

11

다르게 대우해야 할 정당한 이유가 없는데도 다르게 대우하는 것이 차별이다. ②는 개인의 능력이 아닌 학력을 기준으로 승진의 기회를 제한하고 있으므로 부당한 차별에 해당한다.

오답풀이 ㄹ. ①, ③, ④, ⑤는 합리적 이유로 구별하여 다르게 대우하는 것으로, 차별에 해당하지 않는다.

12

제시문에 나타난 외국인 근로자의 사례에서는 인종과 국적을 이유로 차별이 이루어졌다.

13

성별, 장애를 근거로 취업을 제한하는 것은 합리적 이유 없이 부당한 대우를 하는 차별에 해당한다. 제시된 사례에서와 같이 차별이 발생할 경우 차별을 당한 개인의 인권이 침해될 뿐만 아니라 사회 구성원 간에 대립과 갈등이 발생하여 사회의 통합과 발전을 저해할 수 있다. 따라서 그림의 갑에게는 서로의 차이를 인정하고 존중하는 태도가 요구된다.

14

제시된 사례는 모두 차별에 해당한다. 이러한 차별 문제를 해결하기 위해서는 개인적 차원의 노력과 사회적 차원의 노력이 함께 이루어져야 한다. 개인적 차원에서는 개인들이 갖고 있는 편견이나 고정 관념을 타파하고 서로의 차이를 인정하는 태도를 가져야 한다. 사회적 차원에서는 차별을 예방하기 위한 법과 제도를 마련하여 시행해야 한다.

문제자료 1. 뜯어보기

- A사의 비정규직 직원들은 정규직 직원들과 동일한 업무를 담당하지만 더 적은 임금을 받는다.
→ 같은 업무를 하고 있는데도, 비정규직 근로자가 정규직 근로자와 다른 대우를 받고 있으므로 차별에 해당해요.
- 항공 승무원이 꿈인 지형 씨는 B 대학 항공 운항과에 지원하려고 했으나 남자는 지원할 수 없게 되어 있었다.
→ 성별을 이유로 대학 진학에 있어 차별을 당하고 있어요.

오답풀이 ㄹ. 연수 : 개인마다 서로 다른 특성을 갖고 있는 것은 자연스러운 일이므로 차이를 없애는 것은 옳지 않다. 민정 : 차별은 피해자 개인만의 문제가 아니라 사회 구성원 모두가 관심을 갖고 해결을 위해 노력해야 할 문제이다.

15

사회 집단은 구성원의 소속감을 기준으로 내집단과 외집단으로 구분할 수 있다. 소속감을 느끼는 집단은 내집단, 적대감이나 이질감을 느끼는 집단은 외집단이다.

차별의 유형

- 성차별
- 인종 차별
- 장애인 차별
- 연령 차별
- 지역 차별

사회 집단의 구성 요건

- 둘 이상의 사람
- 소속감
- 지속적인 상호 작용

해결의 실마리

동일한 업무를 하는데도
임금을 다르게 지급



비정규직 근로자 차별

남자는 특정 학과에 지원할 수 없게 함



성차별

16

특정한 목적 달성을 위한 구성원 간 형식적·수단적 만남을 특징으로 하는 것은 2차 집단이다.

17

차이는 성별, 나이, 외모, 종교, 성격, 취향 등이 서로 같지 않고 다른 것이고, 차별은 다르다는 이유로 부당하게 대우하는 것이다. 차이는 존중해야 할 현상이고, 차별은 없애야 할 현상이다.

18

예시답안 ㉠은 구성원 간에 소속감이 없고, 지속적인 상호 작용을 하지 않으므로 사회 집단으로 볼 수 없다.

채점기준	등급	평가 기준
	상	소속감과 지속적인 상호 작용 모두를 제시하여 바르게 서술한 경우
	중	소속감이나 지속적인 상호 작용 중 어느 하나만을 제시한 경우
	하	우연히 만난 사람들이기 때문이라고만 서술한 경우

19

예시답안 준거 집단 / 개인이 어떤 행동이나 판단을 할 때 기준으로 삼는 집단을 말한다.

채점기준	등급	평가 기준
	상	준거 집단이라고 쓰고, 그 의미를 바르게 서술한 경우
	하	준거 집단이라고만 쓴 경우

20

예시답안 성차별 해결을 위해 개인적 차원에서는 성에 대한 편견과 고정 관념을 버리고, 남녀의 차이를 인정하면서 서로의 장단점을 보완하고 공존하기 위해 노력해야 한다. 또한 사회적 차원에서는 차별을 금지하는 법과 제도를 마련하여 차별을 예방하고, 차별이 발생했을 때 적절한 제재를 가해야 한다.

채점 기준	등급	평가 기준
	상	성차별 문제에 관한 개인적 차원과 사회적 차원의 해결 방안을 모두 적절하게 서술한 경우
	하	성차별 문제에 관한 개인적 차원과 사회적 차원의 해결 방안 중 한 가지 측면에서만 서술한 경우

대단원 완성문제

▶ 기본학습서 023~026쪽

01 ④ 02 ③ 03 ⑤ 04 ② 05 ③ 06 ① 07 ④
08 ② 09 ④ 10 ② 11 ⑤ 12 ③ 13 ④ 14 ③
15 ② 16 ④ 17 해설 참조 18 해설 참조 19 해설 참조 20 해설 참조

01

제시문의 밑줄 친 부분은 사회화에 관한 설명이다. 수업 시간에 스마트폰을 끄는 행동과 기침을 할 때 손으로 입을 가리는 행동은 사회화로 형성된 행동이다.

오답풀이 ㄱ, ㄷ. 팔짱질을 하는 것, 졸려서 하품을 하는 것은 본능적인 행동이다.

02

제시문은 사회화를 목적으로 형성된 공식적 사회화 기관인 학교에 관한 설명이다. 학교는 사회가 요구하는 지식과 기술, 사회 규범, 가치 등을 체계적으로 학습하도록 한다.

03

㉞는 또래 집단, ㉝는 대중 매체이다. 또래 집단은 비슷한 연령대의 친구 모임으로, 놀이를 통해 집단생활의 규칙과 질서 의식을 익히도록 하며, 아동기와 청소년기의 사회화에 큰 영향을 끼친다. 신문, 라디오, 텔레비전, 인터넷과 같은 대중 매체는 많은 사람에게 대량으로 정보를 제공하며, 현대 사회에서 그 영향력이 점차 커지고 있다. ⑤ 사회화를 목적으로 만들어진 공식적 사회화 기관은 학교이다.

04

재사회화란 변화하는 사회에 적응하기 위해 새로운 생활 양식, 지식, 기술 등을 다시 배우는 과정을 말한다. ② 아이가 부모에게 식사 예절을 배우는 것은 유아기의 기초적인 사회화에 해당한다.

05

청소년기에는 부모나 기성세대의 질서나 가치에 저항하고 반발하는 성향이 강하다.

오답풀이 ① 청소년기에는 2차 성징이 나타나 신체적으로 급격한 변화가 일어나며 성인과 비슷한 모습을 보인다. ② 청소년들은 친구 관계를 중요시하여 또래 집단에 대한 유대감이나 친밀감이 강하다. ④ 청소년들은 감수성이 풍부하고 불안정한 감정 상태를 보인다. ⑤ 청소년들은 심리적으로 부모에게서 독립하려는 경향이 강해져 스스로 판단하고 행동하려고 한다.

06

①에 들어갈 개념은 자아 정체성이다. 자아 정체성은 다른 사람과 구별되는 자신만의 고유성을 깨닫고 자신이 누구인지 명확하게 인식하는 것을 말한다. ① 자아 정체성은 개인적 특성과 자신이 속한 문화적 환경, 주변 인물 등 외부 여러 요인의 상호 작용에 의해 형성되며, 청소년기는 자아 정체성이 형성되는 중요한 시기이다.

07

성취 지위는 개인의 능력과 노력에 의해 후천적으로 얻는 지위이다. ④ A 씨가 가진 지위 중 성취 지위에 해당하는

해결의 실마리

천민



태어나면서부터 갖게 되는 지위

과학자



개인의 노력에 의해 후천적으로 갖게 되는 지위

청소년기의 특징

- 급격한 신체적 성장
- 심한 감정 기복
- 충동적으로 행동하는 경향
- 또래 집단에 대한 강한 유대감
- 기성세대의 질서에 반항하는 성향
- 심리적으로 부모에게서 독립하려는 성향

접촉 방식에 따른 사회 집단의 구분

- 1차 집단 : 구성원 간 접촉이 잦고 강한 친밀감을 느끼는 집단
- 2차 집단 : 구성원 간에 특정 목적 달성을 위한 수단적 상호 작용이 이루어지는 집단

것은 어머니, 아내, 부녀회장, 의사로, 총 4개이다. 장녀는 개인의 의지와 관계없이 태어나면서 결정되는 귀속 지위이다.

08

㉠ 천민은 귀속 지위이고, ㉡ 과학자는 성취 지위이다. ② 딸, 노인은 자연적으로 주어질 수 없는 귀속 지위에 해당한다.

오답풀이 ① 후천적인 노력에 의해 획득하는 것은 ㉡과 같은 성취 지위이다. ③ 태어날 때부터 의지와 관계없이 결정되는 것은 ㉠과 같은 귀속 지위이다. ④ ㉡과 같은 성취 지위는 개인의 노력이나 능력에 의해 획득할 수 있다. ⑤ 현대 사회로 올수록 귀속 지위보다 성취 지위의 중요성이 커지고 있다.

09

제시된 사례에서 강민철 씨는 교통경찰이라는 지위에서 공정하게 업무를 수행해야 하는 역할과 친구라는 지위에서 친구가 어려울 때 도와야 하는 역할이 충돌하는 역할 갈등을 겪고 있다. 이러한 역할 갈등을 해결하기 위해서는 역할의 우선순위를 정하여 중요한 역할부터 순서대로 수행하거나 중요한 역할 한 가지만 선택하여 수행하고 나머지를 포기해야 한다. ④ 사회가 복잡해질수록 한 개인이 차지하는 지위가 다양해지고, 이에 따라 개인이 수행해야 할 역할이 많아져 역할 갈등이 점점 증가할 것이다.

10

ㄱ. 모범상은 홍길동이 학생으로서의 역할을 잘 수행한 것에 대한 보상이다. ㄷ. 학생이라는 지위에 기대되는 역할은 여러 개일 수 있다.

오답풀이 ㄴ. 학교에서 홍길동은 학생이라는 지위 외에도 선생님의 제자, 동아리 회원 등 여러 개의 지위를 가질 것이다. ㄹ. □□중학교는 홍길동의 소속 집단이며, 1차 집단이 아니라 2차 집단에 해당한다.

11

사회 집단은 둘 이상의 사람들이 소속감을 갖고 지속적인 상호 작용을 하는 집단을 의미한다. ㄴ의 동호회, ㄹ의 가족, ㄹ의 학급 학생들은 사회 집단에 해당한다.

오답풀이 ㄱ, ㄷ. 뮤지컬 관람객들, 같은 지하철을 타고 있는 승객들은 둘 이상의 사람이 모였으나 소속감이 없고 지속적인 상호 작용을 하지 않기 때문에 사회 집단이라고 할 수 없다.

12

전인적적인 인간관계, 친밀한 대면 접촉은 1차 집단의 특징이다. 가족, 또래 집단은 1차 집단에 해당하고, 학교, 군대, 회사는 2차 집단에 해당한다.

13

방송국은 2차 집단으로, 특정한 목적을 달성하기 위해 구성원 간에 수단적이고 형식적인 상호 작용이 이루어진다.

문제자료 1. 뜯어보기

- 이번 주 계획 -

월요일 : ㉠ 학교 봄 소풍 2차 집단, 이익 사회
수요일 : ㉡ 우리 반과 3반의 농구 시합 내집단
금요일 : 할아버지 생신 기념 ㉢ 가족 식사 1차 집단, 공동 사회
토요일 : 친구들과 삼촌이 근무하시는 ㉣ 방송국 견학 2차 집단, 이익 사회
일요일 : ㉤ 교회 주일 예배 참석 2차 집단, 이익 사회

오답풀이 ① ㉠ 학교는 학생 교육이라는 목적을 달성하기 위한 수단적 만남이 이루어지는 2차 집단이다. 친밀성과 인격적 접촉을 강조하는 것은 1차 집단이다. ② ㉡ 우리 반은 자신이 소속되어 있으면서 소속감과 공동체 의식을 느끼고 있는 내집단이다. 적대감이나 이질감을 느끼는 집단은 외집단이다. ③ ㉢ 가족은 1차 집단에 해당하며, 개인의 자아 형성에 미치는 영향이 크다. ④ ㉣ 교회는 구성원의 선택적인 의지에 의해 의도적으로 만들어진 집단으로, 이익 사회에 해당한다. 개인의 의지와 무관하게 자연적으로 형성된 집단은 공동 사회이다.

14

준거 집단이란 개인이 어떤 판단이나 행동을 결정하는 기준으로 삼고 있는 집단을 말한다. 준거 집단과 소속 집단이 일치하면 자신의 소속 집단에 만족감을 느끼고, 준거 집단과 소속 집단이 불일치하면 자신의 소속 집단에 불만이 쌓이고 상대적 박탈감을 느낄 수 있다.

15

(가)는 차이, (나)는 차별이다. ㄱ과 ㄴ은 합리적인 이유를 가지고 구별을 한 것으로, 차이에 해당한다. ㄴ과 ㄷ은 피부 색이나 외모, 결혼 여부 등의 차이를 이유로 부당하게 대우한 것으로, 차별에 해당한다.

16

제시된 자료는 장애인 차별 금지법의 일부 조항이다. 장애인 차별 금지법은 장애를 이유로 발생하는 부당한 차별을 예방하기 위해 만들어진 법률이다. ④ 장애인 차별 금지법과 같은 법을 제정하는 것은 사회적·제도적 차원에서 차별 문제를 해결하는 방법이다.

17

예시답안 자아 정체성 / 다른 사람과 구별되는 자기 자신의 고유성을 깨닫고 자신이 누구인지 명확하게 이해하는 것을 말한다.

우공비 Note

해결의 실마리

둘 이상의 지위에 대해 각각의 역할이 동시에 요구되고 있음

↓

역할 갈등

↓

해결을 위해서는 갈등을 일으키는 지위와 역할을 분석해야 함

해결의 실마리

(가) 가족

↓

1차 집단

↓

친밀한 대면 접촉

↓

(나) 회사

↓

2차 집단

↓

수단적 상호 작용

차별의 해결 방안

- 개인적 차원 : 서로의 차이를 인정하는 관용의 자세, 편견이나 고정 관념 타파
- 사회적 차원 : 차별 예방을 위한 법과 제도 마련

18

예시답안 제시된 상황은 회사원으로서 업무를 해야 하는 역할과 엄마로서 자식을 돌봐야 하는 역할이 충돌하여 발생하였다. 이를 해결하기 위해서는 역할의 우선순위를 정하여 순차적으로 수행하거나, 중요한 역할 한 가지만 선택하여 수행해야 한다.

채점기준	등급	평가 기준
상	상	역할 갈등의 발생 원인을 각각의 역할을 언급하여 구체적으로 쓰고, 그 해결 방안을 바르게 서술한 경우
중	중	역할 갈등의 발생 원인을 역할 간에 충돌이 발생했다고만 쓰고, 그 해결 방안을 바르게 서술한 경우
하	하	역할 갈등의 발생 원인과 해결 방안 중 한 가지만 바르게 서술한 경우

19

예시답안 (가) 1차 집단, (나) 2차 집단 / 1차 집단은 구성원 간에 친밀한 대면 접촉이 이루어지는 집단이고, 2차 집단은 구성원 간에 특정 목적 달성을 위한 수단적 만남이 이루어지는 집단이다.

채점기준	등급	평가 기준
상	상	(가) 1차 집단, (나) 2차 집단이라고 쓰고, 접촉 방식의 차이를 바르게 서술한 경우
하	하	(가) 1차 집단, (나) 2차 집단이라고만 쓴 경우

20

예시답안 아말라와 카말라가 사람들에게 발견되었을 당시 ㉠과 같이 늑대처럼 행동한 까닭은 어린 시절 적절한 사회화 과정을 경험하지 못하였기 때문이다. 인간이 처음 세상에 태어났을 때에는 다른 동물들과 다를 바 없이 자신의 욕구를 통제하지 못하고 본능대로 행동한다. 하지만 다른 사람들과 상호 작용하면서 자신이 속한 사회의 언어, 규범, 가치관, 행동 양식 등을 배우는 사회화를 통해 자신이 속한 사회에 적응하고 사회적 존재로서 성장하게 된다. 그리고 ㉡과 같은 기초적인 사회화는 유아기에 주로 가정에서 이루어진다. 사회화 기관 중 가정은 의식주와 관련한 기초적인 생활 습관과 언어, 예절 등을 익히고 기본적인 인성과 가치관을 형성하는 데 중요한 역할을 한다.

채점기준	등급	평가 기준
상	상	㉠ 현상이 나타난 까닭을 사회화의 의미와 관련지어 쓰고, ㉡과 같은 사회화를 담당하는 기관의 역할과 중요성을 인생의 시기를 언급하여 바르게 서술한 경우
중	중	㉠ 현상이 나타난 까닭을 썼으나 사회화의 의미와 관련짓지 않았거나, ㉡과 같은 사회화를 담당하는 기관의 역할과 중요성을 썼으나 인생의 시기를 언급하지 않고 서술한 경우
하	하	㉠ 현상이 나타난 까닭과 ㉡과 같은 사회화를 담당하는 기관에 대한 내용 중 한 가지만을 올바르게 서술한 경우

VIII 문화의 이해

1 문화의 의미와 특징

학교 시험 적용 문제

▶ 기본학습서 032~035쪽

- 01 ⑤ 02 ② 03 ① 04 ② 05 ③ 06 ④ 07 ③
08 ⑤ 09 ② 10 ④ 11 ④ 12 ② 13 ① 14 ③
15 문화 16 관념 문화 17 (가) 변동성, (나) 전체성
18 해설 참조 19 해설 참조 20 해설 참조

01

넓은 의미의 문화는 한 사회의 구성원들이 주어진 환경을 극복하고 적응하면서 만들어 낸 공통의 생활 양식이다.

오답풀이 ① 자연 현상, ③ 본능에 의한 행동, ④ 개인의 취향이나 습관은 문화에 해당하지 않는다. 문화는 사회 구성원의 공통된 생활 양식으로, 후천적으로 학습된 행동이다. ② 예술이나 세련되고 교양 있는 모습은 좁은 의미의 문화와 관련 있다.

02

②에서는 문화가 세련되고 교양 있는 것을 뜻하는 좁은 의미로 사용되었고, ①, ③, ④, ⑤에서는 문화가 한 사회 구성원들이 공통으로 가지고 있는 생활 양식이라는 넓은 의미로 사용되었다.

03

문화는 한 사회의 구성원들이 가지고 있는 공통적인 생활 양식으로, 후천적으로 학습된 행동이다. ① 흑인이 곱슬머리를 가진 것은 유전적인 요인에 따른 신체적 특징이므로 문화에 해당하지 않는다.

04

제시문은 물질문화에 관한 설명이다. 물질문화는 인간 생활에 필요한 도구와 기술로, 인간이 환경에 적응하는 데 중요한 수단이다.

오답풀이 ①, ④ 제도문화(규범 문화)는 사회의 질서 유지와 원활한 운영을 위한 각종 제도 및 사회 구성원들의 행동의 기준이다. ③ 관념 문화는 인간의 행동에 의미를 부여하거나 삶의 방향을 제시해 주는 정신적 창조물이다. ⑤ 비물질문화는 제도문화와 관념 문화로 구성된다.

05

제도문화는 법, 도덕, 예절, 관습 등과 같이 사회 질서 유지를 위해 필요한 각종 사회 제도나 행동의 기준이다.

오답풀이 ① 학교의 각종 시설물은 인간의 기본적인 욕구 충족과 생존에 필요한 도구나 기술인 물질문화에 해당한다. ㉠ 교가와 ㉡ 교훈은 인간의 행동에 의미를 부여하

우공비 Note

해결의 실마리

인간의 신체 구조나 심리 상태가 비슷함



어느 사회에서나 비슷한 문화가 나타남



문화의 보편성

좁은 의미와 넓은 의미의 문화

- 좁은 의미로 쓰인 사례 : 문화 시민, 문화생활, 문화 시설, 문화 상품권, 문화계 소식 등
- 넓은 의미로 쓰인 사례 : 한국 문화, 대중문화, 청소년 문화, 지역 문화, 주거 문화 등

문화의 구성 요소

- 물질문화 : 인간생활에 필요한 물건과 그것을 만들고 이용하는 기술 ㉠ 의복, 음식, 주택 등
- 비물질문화
 - 제도문화 : 사회 질서 유지를 위한 제도적 장치 ㉡ 법, 관습, 예절 등
 - 관념 문화 : 인간의 정신적 산물 ㉢ 학문, 종교, 예술 등

고 삶의 방향을 제시해 주는 정신적인 창조물인 관념 문화에 해당한다.

06

제시문은 문화의 보편성과 관련 있다. 문화의 보편성은 인간의 신체 구조와 사고 능력 등이 비슷하기 때문에 어느 사회에서나 공통적인 문화 현상이 나타나는 특성이다.

오답풀이 ① 문화의 학습성은 문화가 후천적인 학습을 통해 습득된다는 것이다. ② 문화의 다양성은 사회마다 문화의 구체적인 모습이 다르게 나타난다는 것이다. ③ 문화의 축적성은 문화가 언어, 문자 등을 통해 세대에 걸쳐 전승되어 쌓인다는 것이다. ⑤ 문화의 변동성은 문화가 고정되어 있지 않고 시간이 지나면서 변화한다는 것이다.

07

문화는 각 사회의 자연환경과 역사적 배경에 따라 독특하게 형성되기 때문에 각 사회의 음식 문화는 서로 다른 모습을 보일 수밖에 없다. 이는 문화의 다양성으로 설명할 수 있다.

문제자료 1. 뜯어보기



→ 각 사회마다 주식으로 먹는 음식의 종류가 다르고 음식을 먹을 때 사용하는 도구도 다를 수 있는데, 이는 문화의 다양성과 관련이 있어요. 문화의 다양성이 나타나는 까닭은 각 사회마다 환경에 적응하는 방식이 다르기 때문이에요.

08

세계 여러 나라 의복 문화의 보편성과 다양성을 보여 주는 자료이다. ㄷ, ㄹ 어느 사회에서나 공통적으로 의복 문화가 나타나므로 문화의 보편성을, 나라나 지역에 따라 옷의 형태가 다르게 나타나므로 문화의 다양성을 알 수 있다.

오답풀이 ㄴ 문화가 사회화를 통해 후천적으로 학습된다는 것은 문화의 학습성에 관한 설명이다. ㄴ 문화가 고정되어 있지 않고 끊임없이 변화한다는 것은 문화의 변동성에 관한 설명이다.

09

우리나라 사람들은 함이 결혼과 관련 있음을 알고 있는데, 이와 관련한 문화의 속성은 공유성이다. 문화의 공유성이란 한 사회의 구성원들은 공통된 생활 양식을 가진다는 것으로, 이러한 문화의 공유성으로 인해 특정한 상황에서 다른 사람의 사고와 행동을 예측할 수 있다.

오답풀이 ① 시대에 따라 문화의 모습이 변화한다는 것은 문화의 변동성에 관한 설명이다. ③ 어느 사회에서나 나타나는 공통된 문화 현상이 있다는 것은 문화의 보편성에 관한 설명이다. ④ 새로운 문화 요소가 쌓여가면서 문

화가 더욱 풍부해진다는 것은 문화의 축적성에 관한 설명이다. ⑤ 문화 요소들이 서로 밀접하게 연결되어 하나의 전체를 이루고 있다는 것은 문화의 전체성에 관한 설명이다.

10

문화의 학습성이란 문화는 선천적이 아니라 후천적으로 배워서 습득하는 것임을 의미한다.

오답풀이 ㄱ. 우리나라 사람들이 생일날 미역국을 먹는 것은 문화의 공유성을 보여 준다. ㄴ. 편지로 전하던 소식을 SNS로 전하는 것은 문화의 변동성을 보여 준다.

11

문화의 변동성은 문화가 고정된 것이 아니라 시간이 지나면서 새로운 요소가 추가되거나 소멸하는 등 끊임없이 변화한다는 문화의 속성이다.

오답풀이 ① 한 사회의 구성원들이 공통의 문화를 공유한다는 것은 문화의 공유성에 관한 설명이다. ② 문화가 말과 글을 통해 다음 세대로 전해지면서 쌓여간다는 것은 문화의 축적성에 관한 설명이다. ③ 문화의 각 영역이 유기적으로 연결되어 하나의 전체를 이룬다는 것은 문화의 전체성에 관한 설명이다. ⑤ 문화가 후천적으로 학습되는 것이라는 것은 문화의 학습성에 관한 설명이다.

12

제시된 사례는 문화의 축적성과 관련 있다. 문화의 축적성은 문화가 언어나 문자 등을 통해 한 세대에서 다음 세대로 전달되어 쌓인다는 속성이다. 문화가 전승되는 과정에서 새로운 것이 추가되어 문화의 내용이 보다 풍부하고 다양해진다.

오답풀이 ㄴ. 문화의 어느 한 부분이 변하면 다른 부분도 연쇄적으로 변화하는 것은 문화의 전체성에 관한 설명이다. ㄷ. 한 사회의 구성원들이 그 사회만의 고유한 생활양식을 갖는 것은 문화의 공유성에 관한 설명이다.

13

제시된 그림은 문화 요소들이 서로 밀접하게 연결되어 있어서 어느 한 부분이 변화하면 다른 부분에도 연쇄적인 영향을 주게 된다는 문화의 전체성을 보여 준다.

문제자료 1. 뜯어보기



— 인터넷의 발명, 즉 기술의 발달이 전자 투표(정치), 재택근무(산업), 인터넷 강의(교육), 인터넷 쇼핑(경제) 등의 변화를 가져왔어요.

14

아이의 칫물을 기념하는 방식이 변해가고 있는 것은 문화의 변동성과 관련 있다. 문화의 변동성은 문화가 고정된

우공비 Note

해결의 실마리

문화의 학습성

문화는 후천적인 학습으로 습득됨

- 수저 사용법을 배우는 것
- 김치 담그는 법을 배우는 것

문화인 것과 문화가 아닌 것

- 문화인 것 : 사회 구성원의 공통된 생활 양식으로, 후천적으로 학습된 행동
- 문화가 아닌 것 : 자연 현상, 본능에 의한 행동, 타고난 신체적 특징이나 체질, 개인적 취향이나 독특한 습관

문화의 보편성과 다양성

- 보편성 : 어느 사회에서나 나타나는 공통된 문화 현상이 있음
- 다양성 : 사회마다 문화의 구체적인 모습은 서로 다르게 나타남

것이 아니라 시간이 지나면서 끊임없이 변화한다는 문화의 속성이다.

15

문화는 좁은 의미로서 예술이나 문학, 교양 있고 세련된 것을 뜻하고, 넓은 의미로서 한 사회의 구성원들이 주어진 환경을 극복하고 적응하면서 만들어 낸 공통의 생활 양식을 뜻한다.

16

제시문은 비물질문화의 하나인 관념 문화에 관한 설명이다. 관념 문화는 종교, 학문, 예술 등과 같이 인간의 행동에 의미를 부여하고, 삶을 보다 풍요롭게 만들어 주는 정신적 창조물이다.

17

(가)는 문화 요소의 추가 또는 소멸로 문화가 끊임없이 변화한다는 문화의 변동성을 보여 준다. (나)는 문화 요소들 간에 밀접한 관련을 갖고 유기적으로 연결되어 하나의 전체를 이룬다는 문화의 전체성을 보여 준다.

18

예시답안 (나) / 졸릴 때 하품이 나는 것은 인간의 생물적 본능에 따른 행동이므로 문화가 아니지만, 동지 때 팔죽을 먹는 것은 사회 구성원들이 공유하는 생활 양식이므로 문화에 해당한다.

채점기준	등급	평가 기준
상	상	(나)라고 쓰고, (가)가 문화가 아닌 까닭과 (나)가 문화인 까닭을 비교하여 바르게 서술한 경우
	중	(나)라고 쓰고, (가)가 문화인 까닭만 서술한 경우
	하	(나)라고만 쓴 경우

19

예시답안 어느 사회에서나 인사 문화가 공통적으로 나타나는 것은 문화의 보편성을 보여 주고, 각 사회마다 인사하는 모습이 서로 다르게 나타나는 것은 문화의 다양성을 보여 준다.

채점기준	등급	평가 기준
상	상	인사 문화에 나타난 문화의 보편성과 문화의 다양성에 관한 내용을 적절하게 서술한 경우
	하	인사 문화에 나타난 문화의 보편성과 문화의 다양성 중 어느 한 가지에 관한 내용만 서술한 경우

20

예시답안 공유성 / 한 사회의 구성원들은 그 사회만의 공통적인 생활 양식을 공유한다.

채점기준	등급	평가 기준
상	상	문화의 공유성이라고 쓰고, 그 의미를 바르게 서술한 경우
	하	문화의 공유성이라고만 쓴 경우

2 문화를 바라보는 태도

3 대중 매체와 대중문화

학교시험적중문제

▶ 기본학습서 038~041쪽

- 01 ④ 02 ② 03 ④ 04 ① 05 ② 06 ④ 07 ⑤
08 ③ 09 ③ 10 ② 11 ① 12 ③ 13 ③ 14 ④
15 문화 제국주의 16 문화 상대주의 17 ㉠ 대중문화,
㉡ 대중 매체 18 해설 참조 19 해설 참조 20 해설
참조

01

자문화 중심주의는 자기 문화를 가장 우수하다고 여기고 다른 사회의 문화를 열등하다고 평가하는 태도이다. ④ 자기 문화의 문화적 정체성을 잃을 우려가 있는 것은 문화 상대주의이다.

02

문화 상대주의는 다른 사회의 문화를 자기 문화보다 우월하다고 생각하여 추종하는 태도이다.

오답풀이 ㄴ, ㄷ. 자기 문화가 다른 문화보다 우월하다고 여기는 것은 자문화 중심주의이며, 자문화 중심주의는 자기 집단에 대한 구성원의 결속력을 강화할 수 있다.

03

제시된 그림에서 유럽인은 자신이 속한 사회의 문화를 기준으로 다른 부족의 문화를 열등하다고 판단하고 있다. 이는 자문화 중심주의에 해당한다.

04

최만리는 중국의 문화를 우리 문화보다 우월하다고 보고 이를 추종하는 문화 상대주의적 태도를 갖고 있었다. 문화 상대주의는 선진 문물을 수용하는 데 용이한 반면, 자기 문화의 주체성과 고유성을 상실할 우려가 있다. ①은 자문화 중심주의의 문제점에 해당한다.

문제자료 1. 뜯어보기

세종대왕 : 우리나라 말이 중국과 달라 백성이 자유롭게 글을 쓸 수 없으니, 우리 글을 만들어 널리 쓰도록 하겠다!

최만리 : 옛날부터 중국을 섬겨 오며 우수한 한자를 사용하였는데, 왜 천하고 속된 말을 새로 만들어 쓰려고 하십니까? 이는 중국에 대한 예를 저버리는 것입니다.

최만리는 세종대왕이 한글을 창제할 당시 이에 반대한 학자예요. 중국의 문화인 한자를 우수하다고 여기고 숭상하면서 우리의 문화인 한글을 낮게 평가했던 그의 태도는 문화 상대주의에 해당해요.

우공비 Note

해결의 실마리

마링족의 풍습을 그들의 자연환경과 사회적 맥락에서 이해하는 태도를 보임



문화 상대주의



문화의 다양성 보존에 기여

문화 상대주의

- 장점 : 선진 문물 수용에 용이
- 문제점 : 자기 문화의 고유성과 주체성 상실 우려

해결의 실마리

정보 수용자가 소비자 또는 생산자의 역할을 동시에 함



뉴 미디어의 특징



인터넷 스마트폰, SNS

05

제시문에는 한 사회의 문화를 그 문화가 형성된 배경 속에서 이해하는 태도인 문화 상대주의가 나타나 있다.

오답풀이 ㄴ. 문화의 우열을 평가하는 기준이 있다고 보는 것은 자문화 중심주의와 문화 상대주의이다. ㄹ은 인류의 보편적 가치를 무시하는 현상마저도 그 나름의 가치가 있다고 보아 무조건적으로 이해하고 존중해야 한다고 보는 극단적 문화 상대주의에 관한 설명이다.

06

제시문의 화자는 생명 존중을 무시하는 경우에도 문화의 가치를 인정하는 극단적 문화 상대주의적 태도를 가지고 있다. 이러한 태도는 인류의 보편적 가치를 훼손할 우려가 있으므로 바람직한 문화 이해의 태도가 아니다.

오답풀이 ㄴ. 문화의 우열을 평가하는 기준은 없다. ②, ③ 문화가 형성된 사회적 환경을 고려하는 것은 중요하지만, 인류의 보편적 가치를 무시하면서까지 문화의 상대성을 무조건 존중하는 것은 바람직하지 않다. ⑤ 자기 문화의 우수성을 강조하여 다른 사회를 파괴하는 행위는 해서는 안 되지만, 극단적 문화 상대주의적 태도를 가진 사람에게 해줄 말로 적절하지 않다.

07

다른 사회의 문화를 이해할 때 문화 상대주의적 태도를 가져야 하지만, 인간의 존엄성 등과 같은 인류의 보편적 가치를 무시하는 관습까지도 문화로 인정해서는 안 된다.

08

제시된 것들은 전통적 대중 매체로, 정보를 소비자에게 일방적으로 전달한다는 공통점이 있다.

오답풀이 ㄴ. ①, ②, ⑤ 새로운 대중 매체인 뉴 미디어는 쌍방향 소통이 가능하고, 시간과 공간의 제약 없이 정보를 제공한다는 특징을 가진다. 또한 대중이 문화 소비자 역할 뿐만 아니라 문화 생산자로서의 역할까지 할 수 있게 만들었다. ④ 대중 매체는 소수의 특권 계층에게만 문화를 제공하는 것이 아니라 불특정 다수에게 문화를 제공한다.

09

제시된 자료는 정보 통신 기술이 발달하여 새롭게 등장한 인터넷, 스마트폰, SNS(누리 소통망)와 같은 뉴 미디어의 의사소통 방향을 보여 준다.

오답풀이 ㄴ. 신문, ㄷ. 라디오, ㄹ. 텔레비전은 전통적 대중 매체로, 정보 제공자가 일방적으로 정보 수용자에게 정보를 전달한다.

10

㉠은 전통적 대중 매체, ㉡는 뉴 미디어이다. ② 정보의 생산자와 소비자의 경계가 모호한 것은 ㉡ 뉴 미디어이다.

뉴 미디어는 정보의 소비자가 생산자의 역할을 하기도 하므로 생산자와 소비자가 뚜렷하게 구별되지 않는다.

11

대중문화는 주로 대중 매체에 의해 만들어지고 유통되며, 사람들에게 다양한 지식과 정보를 전달하고 휴식과 오락을 제공한다.

오답풀이 < ㄷ. 대중문화는 불특정 다수의 사람들, 즉 대중이 즐기고 누리는 문화이다. ㄹ. 대중문화에는 가요, 영화, 드라마와 같은 대중 예술뿐만 아니라 옷차림이나 머리 모양 등의 유행도 포함된다.

12

대중문화는 대중에게 새로운 소식과 다양한 정보를 전달하고, 즐거움과 휴식을 제공함으로써 삶을 풍요롭게 해준다. 또한 대중들이 사회 문제에 관심을 가질 수 있도록 유도하여 문제를 개선하는 데 도움을 주기도 한다. 그리고 과거 소수의 특권층만 누리던 예술이나 공연 등의 문화적 혜택을 대중들도 누릴 수 있게 하였다. ③ 대중문화가 사람들의 사고나 취향 등을 획일화하여 개인의 개성과 독창성이 상실되는 경향이 나타난다.

13

제시된 자료에는 드라마와 같은 대중문화가 이윤을 위한 수단이 되고, 지나친 상업성 추구로 문화의 질이 저하되는 모습이 나타나 있다.

오답풀이 < ①, ④, ⑤도 대중문화의 문제점이지만 제시 문과는 관련이 없다. ② 대중문화는 대량으로 소비되는 과정에서 문화가 획일화된다는 부정적인 측면이 있다.

14

대중 매체가 전달하는 정보나 대중문화를 비판적으로 평가하여 받아들이고, 문제가 있을 경우에는 적극적으로 시정을 요구하는 등 능동적이고 적극적인 참여자로서의 자세를 가져야 한다.

오답풀이 < ㄱ. 대중문화를 있는 그대로 수동적으로 받아들이기보다는 비판적으로 해석하고 검토하여 받아들이야 한다. ㄷ. 정보의 신속성보다 객관성이 중요하다.

15

문화 제국주의는 근대 유럽 국가들이 식민지 국가에 자국의 언어를 강요한 것, 일제 강점기에 일본이 우리 민족에게 일본식 이름을 강제 사용하도록 한 것 등과 같이 특정 문화가 경제력이나 군사력을 바탕으로 다른 문화를 파괴하거나 지배하려는 태도이다.

16

그림의 학생은 티베트의 조장 풍습을 그 지역의 기온이나

지형 등과 관련지어 이해하고 있다. 이는 한 사회의 문화를 그것이 형성된 배경에서 이해하려는 문화 상대주의적 태도이다.

문제자료 뜯어보기



→ 티베트의 '조장'은 사람이 죽으면 시신을 들판에 내려 놓아 새가 쪼아 먹게 하는 장례 풍습이에요. 그림의 학생은 이러한 풍습을 티베트의 특수한 환경을 고려하여 이해하는 문화 상대주의적 태도를 갖고 있어요.

17

제시문은 대중문화와 대중 매체에 관한 설명이다. 대중 매체의 등장은 대중문화의 발달에 결정적인 역할을 하였다.

18

예시답안 (가) 자문화 중심주의, (나) 문화 상대주의 / (ㄱ)는 다른 문화와의 갈등이 발생하거나 국제적으로 고립될 우려가 있다. (나)는 특정 사회의 문화를 무비판적으로 숭상하면서 자기 문화의 고유성과 주체성을 상실할 우려가 있다.

채점 기준	등급	평가 기준
상	가	(가) 자문화 중심주의, (나) 문화 상대주의라고 쓰고, 각각의 문제점을 바르게 서술한 경우
	중	(가) 자문화 중심주의, (나) 문화 상대주의라고 쓰고, 한 가지의 문제점만 바르게 서술한 경우
	하	(가) 자문화 중심주의, (나) 문화 상대주의라고만 쓴 경우

19

예시답안 뉴 미디어의 등장으로 쌍방향 의사소통이 가능해졌고, 그 결과 대중이 문화를 수동적으로 수용·소비하는 데 그치지 않고 문화를 적극적으로 생산·창조하는 역할까지 하게 되었다.

채점 기준	등급	평가 기준
상	가	뉴 미디어의 특징과 관련하여 변화한 대중의 역할을 서술한 경우
	하	뉴 미디어의 특징과 관련짓지 않고 대중문화에 나타난 변화만을 쓴 경우

20

예시답안 대중 매체가 전달하는 정보나 대중문화를 있는 그대로 받아들이기보다는 균형 있는 시각을 담고 있는지 비판적으로 해석하고 검토해야 한다.

채점 기준	등급	평가 기준
상	가	대중 매체가 균형 있는 시각을 담고 있는지 분석하는 등 비판적인 태도를 가져야 한다고 서술한 경우
	하	비판적으로 받아들이야 한다고만 쓴 경우

해결의 실마리

지나친 간접 광고 때문에 드라마 몰입에 방해가 됨



대중문화의 문제점



지나친 상업성 추구로 문화의 질 하락

해결의 실마리

- ○○ 신문 : 웹툰의 긍정적 측면 부각
- △△ 신문 : 웹툰의 부정적 측면 부각



두 매체가 서로 다른 시각으로 보도함



대중 매체가 전달하는 정보를 비판적으로 수용하는 자세 필요

문화 상대주의의 특징

- 세계의 다양한 문화가 공존하는 데 기여함
- 다른 문화를 편견 없이 객관적으로 이해하는 데 도움이 됨

대단원 완성문제

기본학습서 043~046쪽

01 ⑤ 02 ① 03 ② 04 ③ 05 ① 06 ③ 07 ③
08 ④ 09 ③ 10 ④ 11 ④ 12 ③ 13 ⑤ 14 ⑤
15 ② 16 ③ 17 해설 참조 18 해설 참조 19 해설
참조 20 해설 참조

01

(가)는 넓은 의미의 문화, (나)는 좁은 의미의 문화에 해당한다. 넓은 의미의 문화는 한 사회의 구성원들이 만들어 낸 공통된 생활 양식을 뜻한다. 좁은 의미의 문화는 공연, 전시 등의 예술, 교양 있고 세련된 모습 등을 뜻한다.

02

㉠, ㉡은 사회 구성원들의 생활 양식이며, 학습을 통해 후천적으로 익히는 것이므로 문화에 해당한다. ㉢, ㉣, ㉤은 개인의 습관이나 인간의 본능에 의한 행동이므로 문화에 해당하지 않는다.

03

(가)는 제도문화로, 사회 질서를 유지하기 위한 사회 제도나 행동 기준이다. (나)는 관념 문화로, 인간의 행동에 의미를 부여하거나 방향을 제시하여 삶을 풍요롭게 만들어 주는 정신적 창조물이다.

04

제시된 자료는 어느 사회에서나 공통적으로 음식 문화가 나타난다는 문화의 보편성을 보여 준다. 또한 각 나라마다 그 사회의 자연환경과 사회적 상황에 따라 서로 다른 음식 문화가 나타난다는 문화의 다양성을 보여 준다.

문제자료 뜯어보기



▲ 스위스의 풍두 ▲ 일본의 초밥 ▲ 아르헨티나의 스테이크

→ 세 나라 모두 음식 문화가 나타나고 있어요. 이는 어느 사회에나 공통으로 존재하는 문화 현상이 있다는 것으로, 문화의 보편성을 파악할 수 있지요. 또한 각 나라의 음식과 음식을 먹는 도구 등이 서로 달라요. 이는 사회마다 문화의 구체적인 모습이 각기 다르게 나타나는 것으로, 문화의 다양성을 파악할 수 있어요.

오답풀이 ◀ ㄱ. 문화가 후천적인 사회화 과정을 통해 습득된다는 것은 문화의 학습성과 관련 있다. ㄴ. 문화를 구성하는 요소들이 유기적으로 연결되어 있다는 것은 문화의 전체성과 관련 있다.

05

모국어를 배우는 것은 후천적으로 자신이 속해 있는 사회의 문화를 습득하는 것으로, 문화의 속성 중 학습성과 관련 있다.

우공비 Note

해결의 실마리

(가) 파괴된 비미안 석불



이슬람 탈레반의
자문화 중심주의



다른 문화 무시

해결의 실마리

(나) 천하도



조선의
문화 상대주의



다른 문화 숭상



자기 문화의 주체성 약화

문화의 상대성을 부정하는 태도

- 자문화 중심주의 : 자기 문화를 다른 문화보다 우수하다고 봄
- 문화 상대주의 : 다른 문화를 자기 문화보다 우수하다고 봄

06

문화의 축적성은 문화가 언어나 문자 등을 통해 한 세대에서 다음 세대로 전해지는 과정에서 기존의 문화에 새로운 지식과 경험이 더해져 쌓이면서 그 내용이 점차 풍부해지고 발전한다는 문화의 속성이다.

오답풀이 ◀ ①은 공유성, ②는 변동성, ④는 학습성, ⑤는 전체성에 해당하는 사례이다.

07

(가)는 이슬람 탈레반의 자문화 중심주의를 보여 준다. 자문화 중심주의는 자기 문화를 우월한 것으로 여기고 다른 문화를 무시하는 태도이다. 이러한 태도는 국제적 고립을 초래할 수 있으며, 지나칠 경우 다른 사회에 자신의 문화를 강요하는 문화 제국주의로 이어질 가능성이 있다.

오답풀이 ◀ ㄱ. 다른 사회의 문화를 우수하다고 여겨 숭상하는 태도는 문화 상대주의에 해당하며, 이는 (나)와 관련 있다. ㄴ. 그 사회가 처한 환경과 역사적 상황을 고려하여 문화를 이해하는 것은 문화 상대주의이다.

08

(나)는 조선이 중국 문화를 추종했던 문화 상대주의를 보여 준다. 문화 상대주의는 다른 사회의 문화를 우수한 것으로 믿고 동경하거나 추종하면서 자기 문화를 열등하다고 여기는 태도이다. ④ 문화 상대주의는 자기 문화의 주체성을 잃어버릴 위험이 있고, 지나치면 다른 사회에 문화적으로 종속될 우려가 있다.

오답풀이 ◀ ① 문화 상대주의는 선진 문물을 받아들이는 데 도움을 준다. ② 인류의 보편적 가치를 훼손하는 것은 극단적 문화 상대주의이다. ③, ⑤ 자기 문화만 고집하여 발전하기 어렵고, 국제적 갈등과 고립을 초래하는 것은 자문화 중심주의의 문제점이다.

09

(가)의 자문화 중심주의와 (나)의 문화 상대주의는 문화를 평가하는 절대적 기준이 있다고 보는 태도이다. 자문화 중심주의는 자기 문화를 우월한 것으로 보고, 자기 문화를 기준으로 다른 문화를 열등하다고 판단한다. 문화 상대주의는 다른 문화를 우월한 것으로 보고, 다른 문화를 기준으로 자기 문화를 열등하다고 판단한다.

오답풀이 ◀ ㄱ, ㄴ. 자문화 중심주의와 문화 상대주의는 문화 간에 우열이 있다고 보고 문화를 평가의 대상으로 이해하며, 문화의 다양성과 상대성을 인정하지 않는다.

10

그림의 갑은 이슬람 국가의 환경을 고려하여 돼지고기를 먹지 않는 그들의 문화를 이해하고 있다. 이는 문화 상대주의적 태도이다. 문화 상대주의는 서로 다른 문화의 차이를 인정하며 차이가 나타나는 배경과 의미를 이해하려고 하므로 다양한 문화가 공존할 수 있는 바탕이 된다.

오답풀이 ① 자기 문화를 약소국에 강요하는 것은 문화 제국주의이다. ② 인류의 보편적 가치를 무시하는 것은 극단적 문화 상대주의이다. ③ 문화권 내의 결속력을 강화할 수 있는 것은 자문화 중심주의이다. ⑤ 다른 문화를 무조건 우수한 것으로 여길 수 있는 것은 문화 사대주의이다.

11

정보 통신 기술의 발달에 따라 전자책, 인터넷 신문 등과 같이 다양한 대중 매체가 형태나 기능 면에서 서로 융합되면서 매체 간 경계가 모호해지고 있다.

12

누리 소통망(SNS)은 쌍방향 의사소통이 가능한 뉴 미디어에 속한다. SNS의 등장으로 개인은 손쉽게 문화를 창조하고 많은 사람들과 문화를 공유할 수 있게 되었다.

문제자료 뜯어보기



→ 뉴 미디어에 속하는 SNS예요. SNS는 자기 생각을 자유롭게 표현할 수 있고 이를 다른 사람과 공유하여 여론을 형성할 수 있어요. 그런데 SNS를 통한 잘못된 정보의 유통이나 사생활 침해, 개인 정보 유출과 같은 사회 문제가 나타나기도 해요.

오답풀이 ①, ②, ④는 전통적 대중 매체에 관한 설명이다. ⑤ SNS와 같은 뉴 미디어의 영향력은 점차 늘어나고 있다.

13

전통적 대중 매체만 존재했을 때에는 대중이 정보의 소비자에 머물렀으나 새로운 대중 매체(뉴 미디어)의 등장으로 대중이 정보의 생산자 역할까지 하게 되었다.

14

대중 매체가 발달하여 과거에는 소수의 특권층만이 누릴 수 있었던 공연이나 예술 등의 문화적 혜택이 대중화되어 누구나 쉽게 누릴 수 있게 되었다.

15

대중문화는 누구나 쉽게 누릴 수 있는 문화로서 계층 간 문화적 평등에 기여한다.

16

인터넷, 위성 방송, 스마트폰과 같은 뉴 미디어가 등장하면서 인터넷 강의를 듣거나 스마트폰으로 버스 도착 시간을 알 수 있는 등 우리 생활에 많은 변화가 나타났다.

오답풀이 ㄱ. 종이 신문은 전통적 대중 매체에 해당한다. ㄴ. 오늘날에는 새로운 대중 매체의 발달에 따라 텔레

극단적 문화 상대주의

- 의미 : 모든 문화를 나름대로 가치가 있다고 보고, 인간의 보편적 가치를 무시하는 현상까지도 문화로서 존중하려는 태도
- 사례 : 명예 살인, 전족, 식인 풍습 등도 문화로서 이해하고 존중하는 것

대중 매체의 유형

- 전통적 대중 매체 : 신문, 라디오, 텔레비전 등 → 일방적 정보 전달, 대중이 소비자 역할
- 새로운 대중 매체(뉴 미디어) : 인터넷, 스마트폰, SNS 등 → 쌍방향 의사소통, 대중이 소비자 및 생산자 역할

대중문화의 특징

- 긍정적 측면 : 고급문화의 대중화, 지식과 정보 전달, 오락과 휴식 제공 등
- 부정적 측면 : 문화의 획일화로 개성 상실, 지나친 상업성 추구로 문화의 질 저하, 왜곡된 정보로 여론 조작 등

비전의 프로그램도 시간과 공간의 제약을 받지 않고 시청할 수 있게 되었다.

17

예시답안 문화의 공유성 / 한 사회의 구성원들은 공통적인 생활 양식을 공유함으로써 특정한 상황에서 주위 사람들의 행동을 예측할 수 있다.

채점기준	등급	평가 기준
	상	문화의 공유성이라고 쓰고, 그 영향을 바르게 서술한 경우
	하	문화의 공유성이라고만 쓴 경우

18

예시답안 극단적 문화 상대주의 / 인간의 존엄성, 생명 존중, 자유, 평등 등과 같은 인류의 보편적 가치를 훼손할 우려가 있다.

채점기준	등급	평가 기준
	상	극단적 문화 상대주의라고 쓰고, 그 문제점을 바르게 서술한 경우
	하	극단적 문화 상대주의라고만 쓴 경우

19

예시답안 전통적 대중 매체인 (가)는 일방적으로 정보를 전달하기 때문에 대중은 수동적 소비자일 뿐이다. 뉴 미디어인 (나)는 쌍방향 의사소통이 가능하기 때문에 대중은 대중 문화를 생산하는 주체의 역할도 한다.

채점기준	등급	평가 기준
	상	(가)는 일방적 매체로 대중이 수동적 소비자에 머물지만, (나)는 쌍방향 매체로 대중이 문화 생산자의 역할도 한다는 내용을 서술한 경우
	하	(가)는 일방적 매체, (나)는 쌍방향 매체라는 내용만 쓴 경우

20

예시답안 기업의 상업적인 이윤을 추구하는 수단으로 활용되어 대중의 소비를 조장함으로써 과소비와 같은 사회 문제로 이어질 우려가 있다. 특히 대중 매체가 지나치게 상업성을 추구할 경우 많은 사람들의 흥미를 끌기 위해서 예술적 가치보다는 자극적인 내용에만 치우치는 등 문화의 질을 떨어뜨릴 위험이 있다. 이러한 문제점을 극복하기 위해서 대중은 대중 매체가 제공하는 문화나 정보를 있는 그대로 수동적으로 받아들이기보다는 다양한 매체의 정보를 비판적으로 해석하고 검토하여 선별적으로 수용하는 태도를 가져야 한다.

채점기준	등급	평가 기준
	상	상업화되어 과소비 문제 발생, 문화의 질 하락으로 이어질 수 있음을 지적하고, 문화를 비판적·선별적으로 수용하는 태도를 가져야 함을 서술한 경우
	중	상업화의 부정적인 측면과 대중의 올바른 태도에 관한 내용이 다소 미흡한 경우
	하	상업화의 부정적인 측면만을 서술한 경우

IX 정치 생활과 민주주의

1 정치의 의미와 민주 정치의 발전 과정

학교 시험 적용 문제

▶ 기본학습서 052~055쪽

01 ⑤ 02 ② 03 ④ 04 ④ 05 ④ 06 ③ 07 ⑤
08 ④ 09 ③ 10 ② 11 ⑤ 12 ⑤ 13 ③ 14 ②
15 정치 16 시민 17 민회 18 해설 참조 19 해설
참조 20 해설 참조

01

정치는 넓은 의미에서 일상생활에서 발생하는 사회 구성원 간 이해관계의 대립을 조정하고 해결하는 활동이다.

오답풀이 ① 정치는 사회적 희소가치를 권위적으로 배분하는 과정이다. ② 정치의 주체는 정치인에 국한되지 않는다. ③ 정치는 일상생활 속에서 나타나는 갈등과 대립을 조정하는 활동이다. ④ 정치가 공동체의 문제 해결을 위한 국가의 의사 결정 활동이라고 보는 것은 좁은 의미의 정치와 관련 있다.

02

좁은 의미의 정치는 정치권력의 획득이나 유지 및 행사와 관련된 활동을 가리킨다. ㄱ, ㄴ. 국가적 문제를 해결하는 정치인의 활동이나 시민의 대표자를 선출하는 선거와 같은 활동은 좁은 의미의 정치에 해당한다.

오답풀이 ㄴ, ㄷ. 학급의 일을 결정하는 학급 회의, 지역의 문제 해결을 위한 주민 회의 등과 같이 일상생활 속에서 의견을 조율하여 대립과 갈등을 해결하는 활동은 넓은 의미의 정치에 해당한다.

03

학급의 청소 당번 결정, 아파트의 가로등 설치 문제를 해결하는 활동은 넓은 의미의 정치에 해당한다. ④ 넓은 의미의 정치는 가정, 학교, 지역 사회 등 자신이 속한 집단에서 구성원들의 의견을 모아 문제를 해결하고 의사를 결정하는 모든 활동을 의미한다.

04

정치는 개인이나 집단 간에 발생하는 이해관계의 대립과 갈등을 조정하여 사회 질서 유지와 사회 통합에 기여한다.

오답풀이 ㄱ. 정치는 사회적 희소가치를 합리적 기준에 따라 권위적으로 배분한다. ㄷ. 정치는 모든 사람을 배려하여 정당하게 권력을 행사해야 한다.

05

제시된 자료는 조례를 제정하는 정치 활동을 통해 사회 구성원 간의 대립과 갈등이 합리적으로 해결된 사례이다.

정치의 의미

- 좁은 의미 : 정치권력을 획득하고 유지·행사하는 활동
- 넓은 의미 : 일상생활에서 사회 구성원 간 대립과 갈등을 조정하고 해결하는 활동

해결의 실마리

자신과 직접 관련이 없다고 하여 국가 권력의 횡포에 침묵함

↓
결국 자신의 권리도 침해함

↓
적극적인 정치 참여 필요

정치의 기능

- 사회 구성원 간에 나타나는 대립과 갈등 조정 → 사회 질서 유지 및 사회 통합
- 사회 문제의 해결책을 마련하고 사회의 발전 방향 제시

오답풀이 ① 정치는 다양한 사회 구성원의 요구를 충족하고 사회 구성원 간에 나타나는 이해관계의 대립과 갈등을 조정하는 기능을 한다. ②, ③, ⑤도 정치의 기능에 해당하나 제시된 자료와 관련이 없다.

06

국가는 시민의 동의와 지지를 기반으로 형성된 정치권력을 정당하게 행사해야 할 책임이 있다. 따라서 목적 달성을 위해 정치권력을 함부로 사용해서는 안 되며, 반드시 민주적 절차에 따라 정치권력을 행사해야 한다.

07

제시된 것들은 시민이 실질적으로 정치에 참여할 수 있도록 하는 다양한 제도적 장치이다. 이러한 제도가 실현되면 국가는 시민의 다양한 의견이나 요구를 반영하여 정책을 결정하고 집행할 수 있다.

문제자료 뜯어보기

• 민원 모니터제

지역 현안에 관심이 많고 인터넷 이용이 가능한 시민들을 모니터로 위촉해 지역 정치에 대한 시민의 의견을 지방 자치 단체 홈페이지를 통해 제보하도록 하는 제도

• 시민 옴부즈만제

식견과 노하우를 갖춘 전문가가 시민들의 고충을 상담 및 접수해 중립적인 입장에서 조사 후 필요한 경우 시정 조치 권고 등으로 불합리한 행정 제도를 개선하는 제도

• 시민 정책 공모제

다양한 지역의 현안에 대해 시민의 정책 아이디어를 모집하는 제도

• 주민 참여 예산제

지역의 예산 편성 과정에 주민이 직접 참여하도록 하는 제도

08

제시된 자료는 시민이 정치에 관심을 가지지 않아 시민의 뜻과는 무관하게 국가 권력의 횡포가 나타나고 결국에는 자신도 희생자가 되었음을 보여 준다. 이를 통해 정치 생활에서 시민은 주인 의식을 가지고 정치에 적극적으로 참여해야 함을 알 수 있다.

09

고대 아테네 민주 정치는 모든 시민이 정치에 직접 참여하는 직접 민주 정치가 실현되었으나 여성, 외국인, 노예 등의 정치 참여는 제한되었다.

오답풀이 ㄱ. 대표자를 선출하여 대표자가 나라의 중요한 일을 결정하도록 하는 간접 민주 정치가 실시된 것은 근대 민주 정치와 현대 민주 정치이다. ㄴ. 보통 선거 제도가 확립되어 일정 나이 이상이면 누구나 선거에 참여할 수 있게 된 것은 현대 민주 정치이다.

10

근대 시민 혁명 이후 시민들의 자유와 권리가 보장되었고, 시민의 대표로 구성된 의회를 중심으로 한 대의 민주 정치가 실현되었다.

문제자료 **뜯어보기**



▲ 영국 명예혁명(1688년) ▲ 미국 독립 혁명(1776년) ▲ 프랑스 혁명(1789년)

국왕의 전제 정치에 반발하여 나타났으며, 의회가 권리 장전을 왕으로부터 승인받아 입헌주의가 확립되었어요.

영국의 식민 지배를 받던 미국이 독립 선언을 통해 영국으로부터 독립하고 최초의 민주 공화국을 수립하였어요.

프랑스 시민들이 소수의 특권 계층에 대항하여 일으켰으며, 인간과 시민의 권리를 널리 알리는 인권 선언을 발표하였어요.

오답풀이 ①, ③, ④ 직접 민주 정치가 실현되었고, 시민들이 윤번제, 추천제를 통해 공직을 맡았으며, 여성, 노예, 외국인의 정치 참여가 제한된 것은 고대 아테네 민주 정치의 특징이다. ⑤ 일정 나이 이상의 모든 사회 구성원에게 선거권을 부여하는 보통 선거 제도가 실시되어 모든 사회 구성원이 정치에 참여하는 대중 민주주의가 확립된 것은 현대 민주 정치의 특징이다.

11

A는 참정권 확대 운동이다. B, 참정권 확대 운동은 정치에 참여할 권리를 획득하기 위한 노력이었다. C, 차티스트 운동과 같은 노동자의 참정권 확대 운동의 결과 19세기 중반 이후 노동자들에게도 선거권이 부여되었다.

오답풀이 ㄱ. 참정권 확대 운동은 시민 혁명 이후에도 참정권을 갖지 못했던 노동자, 흑인, 여성이 주도한 운동이다. ㄴ. 지속적인 참정권 확대 운동의 성과로서 일정한 나이 이상의 모든 사회 구성원에게 선거권을 부여하는 보통 선거 제도가 확립되었는데, 이는 현대의 간접 민주 정치 실시와 관련이 있다.

12

현대 민주 정치에서는 보통 선거 제도의 확립으로 성별, 신분, 재산 등에 관계없이 일정 나이 이상이면 선거권을 갖게 되었다. ① 현대 민주 정치는 국민이 선출한 대표자가 나라의 중요한 일을 결정하는 대의 민주 정치로 이루어지는데, 대표자가 국민의 의사를 정책에 제대로 반영하지 못하는 문제점을 보완하기 위해 국민 투표, 국민 소환 등의 제도를 마련하고 있다. ② 차티스트 운동을 통해 노동자들은 19세기 중반 이후 선거권을 부여받았다. ③ 여성 참정권 운동을 통해 여성들은 20세기 초부터 선거권을 획득하기 시작하였다. ④ 현대 민주 정치에서는 정보 통신 기술이 발달하여 국민이 다양한 매체를 활용하여 정치 과정에 참여할 수 있다.

13

A는 현대 민주 정치, B는 고대 아테네 민주 정치, C는 근대 민주 정치에 해당한다. ③ 여성의 참정권 운동은 근대 이후에 일어났다.

해결의 실마리

근대 민주 정치 시기에는 신분, 재산, 성별에 따라 정치 참여가 제한됨

노동자, 흑인, 여성 등이 참정권을 획득하기 위한 운동을 전개함

20세기 중반 보통 선거 제도 확립

현대 민주 정치의 특징

- 보통 선거 제도의 확립 : 일정 나이 이상의 모든 사회 구성원에게 선거권이 부여됨
- 대의 민주 정치 : 대표자가 나라의 중요한 일을 결정함
- 시민의 정치 참여 기회 확대 : 인터넷 등을 통해 시민이 정치 과정에 참여할 기회가 늘어남

해결의 실마리

(가) : 학급 회의

넓은 의미의 정치

(나) : 국회 본회의

좁은 의미의 정치

문제자료 **뜯어보기**

A 시기	남성과 동등하게 정치 참여의 기회를 갖게 되었다. 여성이 남성과 동등하게 참정권을 가질 수 있게 된 것은 20세기 중반으로, 현대 민주 정치 시기에 해당해요.
B 시기	남성이 아니라는 이유로 민회에 참석할 수 없었다. 민회는 고대 아테네의 최고 의결 기관이었어요. 당시 아테네에서는 시민권을 가진 성인 남성만이 정치에 참여할 수 있었지요.
C 시기	신분과 재산, 성별에 따라 정치 참여가 제한되어 정치에 참여할 수 없었다. 시민 혁명 직후 근대 민주 정치 시기에도 귀족, 상공업자 등의 남성만이 정치에 참여할 수 있었고, 여성은 정치 참여에서 배제되었어요.

오답풀이 ① 근대 시민 혁명은 C 시기 직전에 발생하였다. ② B 시기에는 직접 민주 정치가 실현되었다. ④ A와 C 시기는 간접(대의) 민주 정치를 특징으로 한다. ⑤ B → C → A 순으로 시민의 범위가 확대되었다.

14

(가)는 직접 민주 정치를 특징으로 하는 고대 아테네 민주 정치 시기이다. (나)의 보통 선거 제도가 확립된 것은 현대 민주 정치 시기이다. (다)는 귀족, 상공업자 등만이 정치에 참여할 수 있었던 근대 민주 정치 시기이다. (라)는 현대 민주 정치 시기로, 정보 통신 기술이 발달한 최근의 일이다. 따라서 (가) - (다) - (나) - (라)의 순이다.

15

좁은 의미의 정치는 정치권력을 획득하고 유지 및 행사하는 활동을 뜻하고, 넓은 의미의 정치는 일상생활에서 발생하는 사회 구성원 간 이해관계의 대립을 조정하고 해결하는 모든 활동을 뜻한다.

16

정치 생활에서 시민은 주인 의식을 가지고 정치에 적극적으로 참여하여 의견을 표현해야 한다. 또한 국가의 정책을 감시하고 비판하며, 이익과 공익의 조화를 꾀해야 한다.

17

제시문의 '이것'은 고대 아테네의 최고 의사 결정 기관인 민회이다. 고대 아테네 시민들은 민회에 참여하여 국가의 중요한 일들을 직접 결정하였다.

18

예시답안 (가)는 넓은 의미의 정치로, 일상생활에서 발생하는 사회 구성원 간의 대립과 갈등을 조정하고 해결하는 활동이다. (나)는 좁은 의미의 정치로, 정치권력을 획득하고 유지, 행사하기 위한 정치인의 활동이다.

채점 기준	등급	평가 기준
	상	(가) 넓은 의미의 정치, (나) 좁은 의미의 정치로 구분하고, 각각의 의미를 바르게 서술한 경우
	중	(가) 넓은 의미의 정치, (나) 좁은 의미의 정치로 구분하고, 그 의미 중 한 가지만 바르게 서술한 경우
	하	(가) 넓은 의미의 정치, (나) 좁은 의미의 정치로 구분만 한 경우

19

예시답안 정치는 구성원 간에 나타나는 이해관계의 대립이나 갈등을 조정한다.

채점기준	등급	평가 기준
	상	사회 구성원 간 이해관계의 대립이나 갈등을 조정하는 정치의 기능을 서술한 경우
	하	사회 구성원 간 이해관계의 대립이나 갈등을 조정하는 기능 이외의 정치의 기능 중 한 가지를 서술한 경우

20

예시답안 시민이라면 누구나 정치에 참여할 수 있는 직접 민주 정치가 실현되었다.

채점기준	등급	평가 기준
	상	시민에 의한 직접 민주 정치가 실현되었다고 서술한 경우
	하	시민이 정치에 참여하였다고만 서술한 경우

2 민주주의의 이념과 민주 정치의 기본 원리

3 민주 정치와 정부 형태

학교시험 적용 문제

▶ 기본학습서 060~063쪽

01 ③ 02 ④ 03 ⑤ 04 ④ 05 ④ 06 ③ 07 ⑤
08 ④ 09 ② 10 ② 11 ⑤ 12 ② 13 ④ 14 ③
15 민주주의 16 ㉠ 자유, ㉡ 평등 17 국민 주권의 원리
18 해설 참조 19 해설 참조 20 (1) 의원 내각제
(2) 해설 참조

01

민주주의의 의미는 정치 형태로서의 민주주의와 생활 양식으로서의 민주주의로 구분된다. ①, ②, ④, ⑤는 생활 양식으로서의 민주주의로, 공동체의 문제를 민주적으로 해결하는 것을 의미한다. ③은 정치 형태로서의 민주주의로, 다수의 국민이 나라를 다스리는 정치 형태를 의미한다.

02

민주주의의 이념은 인간의 존엄성과 이를 실현하기 위해 보장되어야 하는 자유와 평등이다. 인간의 존엄성은 민주주의의 근본이념이며 모든 인간은 그 자체만으로 존엄한 존재이므로 존중되어야 한다는 것으로, 인간을 수단이 아닌 목적으로 대해야 한다는 것을 의미한다. 자유는 국가나 다른 사람으로부터 구속당하지 않고 스스로 판단하여 행동할 수 있는 것을 뜻하고, 평등은 모든 사람이 동등하게 대우받는 것을 뜻한다.

오답풀이 ㄱ. 민주주의의 근본이념은 인간의 존엄성이다. ㄴ. 자유와 평등은 인간의 존엄성을 실현하기 위한 전제 조건이다.

고대 아테네 민주 정치의 특징

- 직접 민주 정치 실현 : 시민이 직접 국가의 중요한 일을 결정함
- 제한적 민주 정치 : 자유민인 성인 남성만이 참정권을 가짐 → 여성, 노예, 외국인의 정치 참여 제한

자유와 평등

- 자유 : 국가나 다른 사람의 구속을 받지 않고 자신이 원하는대로 판단하여 행동할 수 있는 것
- 평등 : 모든 사람이 성별, 종교, 재산 등에 의해 차별받지 않고 동등하게 대우받는 것

해결의 실마리

국민이 스스로 나라를 다스려야 한다.



국민 자치의 원리

헌법에 따라 국가를 운영해야 한다.



입헌주의의 원리

03

제시된 헌법 조항에서 국민이 인간으로서의 존엄과 가치를 가진다는 것은 민주주의의 이념 중 인간의 존엄성과 관련 있다. 인간의 존엄성은 인간은 인간이라는 그 자체만으로 존중받을 가치를 가진다는 것으로, 민주주의의 가장 근본이 되는 이념이다.

04

자유와 평등은 인간의 존엄성을 실현하기 위한 전제 조건으로, 어느 것이 우선한다고 할 수 없으며 조화와 균형을 유지해야 한다. ④ 개인의 자유는 타인의 권리를 침해하지 않는 범위 내에서 실현되어야 한다.

05

갑은 소극적 자유, 을은 적극적 자유를 이야기하고 있다. 소극적 자유는 외부로부터 부당한 억압이나 구속 등을 받지 않을 자유이고, 적극적 자유는 정치 과정에 참여할 자유, 국가에 인간다운 생활의 보장을 요구할 자유이다. 자유는 역사적으로 소극적 자유에서 적극적 자유로 그 의미가 확대되었다.

오답풀이 ㄱ. 사회 보장 제도는 을이 말하는 적극적 자유의 예이다. ㄴ. 갑은 을과 달리 소극적 자유를 주장하고 있다.

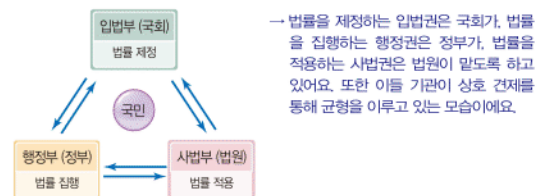
06

(가)는 국민 자치의 원리이며, 이를 실현하는 방법은 직접 민주 정치와 간접 민주 정치가 있다. (나)는 입헌주의의 원리이며, 이 원리를 통해 국가 권력의 남용을 방지하여 국민의 자유와 권리를 보장한다.

07

권력 분립의 원리는 국가 권력을 입법권, 행정권, 사법권으로 분리하고, 독립된 국가 기관이 나누어 맡도록 하는 민주 정치의 원리이다.

문제자료 1. 뜯어보기



오답풀이 ㄱ ① 국가의 모든 활동은 헌법에 따라야 한다는 것은 입헌주의의 원리이다. ② 국가의 최고 결정 권한은 국민에게 있다는 것은 국민 주권의 원리이다. ③ 국가는 국민이 자율적으로 다스려야 한다는 것은 국민 자치의 원리이다. ④ 다수결의 원리는 다수의 의견에 따라 집단의 의사 결정을 이루어 내는 것을 말한다.

우공비 Note

08

권력 분립의 원리는 국가 권력이 상호 견제하여 균형을 유지하도록 함으로써 국가 권력의 남용을 막고 국민의 자유와 권리를 보장하는 데 목적이 있다.

09

의원 내각제는 입법부와 행정부가 융합되어 상호 긴밀한 협력 관계를 맺고 있고, 대통령제는 입법부와 행정부가 엄격히 분리되어 서로 견제와 균형을 이루고 있다.

10

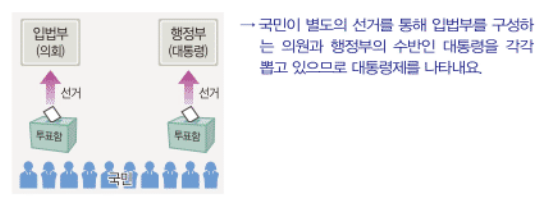
의원 내각제는 입법부를 중심으로 입법부와 행정부가 밀접한 관계를 맺고 협력하면서 국정을 운영하는 정부 형태이다. 의원 내각제에서는 의회를 통해 행정부가 구성되므로 의회 의원이 행정부 장관, 즉 내각의 각료를 겸직할 수 있고, 책임 정치를 실현하는 데 수월하다.

오답풀이 ㄴ. 의원 내각제는 입법부와 행정부가 융합되어 있다. ㄷ. 의회 의원과 행정부 수반을 별도의 선거로 선출하는 것은 대통령제이다. 의원 내각제의 행정부 수반은 총리(수상)이고, 대통령제의 행정부 수반은 대통령이다.

11

제시된 그림은 대통령제를 나타낸다. ⑤ 대통령제에서 정부 수반인 대통령은 입법부가 의결한 법률안의 승인을 거부하여 법률로서의 성립을 저지하는 법률안 거부권을 행사할 수 있다. 대통령제에서 대통령의 법률안 거부권은 다수당의 횡포를 견제하기 위한 장치의 하나이다.

문제자료 1. 뜯어보기



오답풀이 ㄹ. ①, ②, ③, ④는 의원 내각제의 특징이다.

12

의원 내각제는 입법부와 행정부의 권력이 융합된 정부 형태이고, 대통령제는 입법부와 행정부의 권력이 엄격히 분리된 정부 형태이다. ② 의원 내각제에서는 의회 의원이 행정부 장관을 겸직할 수 있으나, 대통령제에서는 의회 의원이 행정부 장관을 겸직할 수 없다.

13

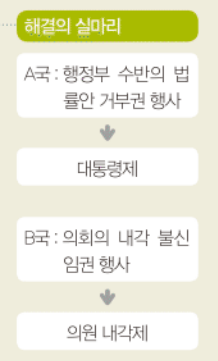
A국은 대통령제, B국은 의원 내각제를 채택하고 있다. ④ 강력하고 연속성 있는 정책 수행이 가능한 것은 대통령제를 채택하고 있는 A국이다.

우리나라에서 도입한 의원 내각제 요소

- 국무총리 제도 운영
- 행정부의 법률안 제출권 행사 가능
- 국회의원의 행정부 장관 겸직 가능

평등의 유형

- 형식적 평등: 모든 사람이 법 앞에 평등하며 기회를 균등하게 보장받는 것
- 실질적 평등: 개인의 선천적·후천적 차이를 고려하여 평등을 실현하는 것



14

대통령이 법률안 거부권을 행사할 수 있는 것은 대통령제의 특징이다.

15

민주주의는 고대 그리스어로 'demos(민중)'와 'kratos(지배)'의 합성어로, '민중에 의한 지배'라는 의미를 가지고 있다. 민주주의는 정치 형태로서의 의미와 생활 양식으로서의 의미를 갖는다.

16

자유와 평등은 민주주의의 근본이념인 인간의 존엄성을 실현하기 위한 전제 조건이며, 민주주의가 추구하는 핵심적인 가치이다.

17

제시된 헌법 조항은 국민 주권의 원리를 나타낸다. 국민 주권의 원리는 국가의 의사를 최종적으로 결정할 권력인 주권이 국민에게 있다는 것이다.

18

예시답안 개개인이 가진 선천적·후천적 차이를 고려함으로써 사회적 약자를 배려하는 실질적 평등을 보장하고자 한다.

채점기준	등급	평가기준
	상	실질적 평등의 내용을 포함하여 제시된 제도들이 추구하는 목적을 바르게 서술한 경우
	하	실질적 평등을 언급하지 않고 제도의 목적을 서술한 경우

19

예시답안 국민 자치의 원리 / 주권을 가진 국민이 스스로 나라를 다스려야 한다는 것이다.

채점기준	등급	평가기준
	상	국민 자치의 원리라고 쓰고, 그 의미를 바르게 서술한 경우
	하	국민 자치의 원리라고만 쓴 경우

20

- (1) 의원 내각제
- (2) **예시답안** 장점으로는 의회와 내각이 국민의 요구에 민감하게 반응하기 때문에 책임 있는 정치를 실현할 수 있다(의회와 내각이 협조 관계를 유지하여 신속하고 효율적인 정책 수행이 가능하다). 단점으로는 한 정당이 의회를 독점할 경우 다수당의 횡포가 나타날 수 있다(다수당 없이 소수 정당이 여러 개 존재할 경우 정국이 불안정해질 수 있다).

채점기준	등급	평가기준
	상	의원 내각제의 장점과 단점을 모두 바르게 서술한 경우
	하	의원 내각제의 장점과 단점 중 한 가지만 서술한 경우

대단원 완성문제

기분학습서 065~068쪽

01 ④ 02 ③ 03 ① 04 ⑤ 05 ③ 06 ④ 07 ②
08 ② 09 ⑤ 10 ④ 11 ⑤ 12 ② 13 ② 14 ⑤
15 ③ 16 ③ 17 해설 참조 18 해설 참조 19 해설
참조 20 해설 참조

01

좁은 의미의 정치는 정치권력을 획득하고 행사·유지하는 활동을 말하고, 넓은 의미의 정치는 일상생활에서 사회 구성원 간의 대립과 갈등을 조정하고 해결하는 활동을 말한다. ①, ②, ③, ⑤는 넓은 의미의 정치, ④는 좁은 의미의 정치에 해당한다.

02

공청회와 같은 정치 과정을 통해 사회 구성원 간에 나타나는 이해관계의 대립을 조정할 수 있고, 나아가 공동체의 문제를 민주적으로 해결할 수 있다.

문제자료 뜯어보기



→ 공청회의 모습이에요. 공청회는 국가나 지방자치단체 등이 정책 결정 등을 하기 전에 전문가와 시민들의 의견을 공개적으로 듣는 정치적 활동이에요.

오답풀이 ㄱ. 공청회 개최는 시민의 다양한 이해관계를 조정하는 것으로, 신속한 정책 수립과는 관련이 없다. ㄴ. 대의제의 한계를 극복하고 직접 민주 정치를 실현하기 위한 제도로 국민 투표, 국민 소환 등이 있다.

03

정치 생활에서 시민은 주인의 의식을 가지고 정치에 적극적으로 참여해야 한다. 또한 국가의 정책 결정 및 집행 과정을 감시하고 비판해야 한다.

오답풀이 ㄴ은 정치 생활에서 국가가 수행하는 역할이다. ㄷ. 시민은 개인의 이익만을 추구하기보다는 공동체의 이익도 고려해야 한다. 그러나 반드시 공익을 우선해야 하는 것은 아니다.

04

제시된 사례는 정치 생활에서 국가는 시민의 요구를 적극적으로 반영하여 정책을 결정해야 한다는 것을 보여 준다.

오답풀이 ①, ②, ③, ④도 정치 생활에서 국가가 수행하는 역할이지만, 제시된 자료와는 관련이 없다.

05

ㄱ는 현대 민주 정치, ㄴ는 근대 민주 정치, ㄷ는 고대 아테네 민주 정치이다. ㄴ. 현대 사회 대부분의 국가들은 대

해결의 실마리

미국 독립 선언: 천부 인권과 저항권 등을 명시



미국 독립 혁명 당시 발표됨



프랑스 인권 선언: 천부 인권, 인간의 자유와 평등, 국민 주권주의 등을 명시

프랑스 혁명 당시 발표됨

정치 생활에서 시민의 역할

- 주인의 의식을 갖고 정치에 적극적으로 참여해야 함
- 국가의 정책 집행 과정을 감시하고 비판해야 함
- 이익과 공익의 조화를 추구해야 함

시대별 민주 정치의 특징

- 고대 아테네 민주 정치: 직접 민주 정치 실현, 제한적 민주 정치
- 근대 민주 정치: 대의 민주 정치 확립, 제한적 민주 정치
- 현대 민주 정치: 대의 민주 정치 실시, 보통 선거 제도 확립

의 민주 정치를 실시하고 있는데, 이 과정에서 국민의 의견이 정책에 반영되지 못하는 문제점을 보완하기 위해 국민 투표, 국민 소환 등과 같은 직접 민주 정치의 요소를 도입하고 있다. ㄷ. 근대 민주 정치 시기에는 성별, 신분, 재산 등에 의해 참정권이 제한되어 귀족, 상공업자 등만이 정치에 참여할 수 있었다.

오답풀이 ㄱ. ㄱ는 현대, ㄴ는 근대, ㄷ는 고대 아테네 민주 정치이다. ㄴ. 모든 사회 구성원이 정치에 참여할 수 있게 된 것은 ㄱ 현대 민주 정치의 특징에 해당한다. 고대 아테네에서는 시민권을 가진 성인 남성만이 정치에 참여할 수 있었다.

06

제시된 자료는 근대 시민 혁명 당시 발표된 인권 문서의 일부 내용이다. ④ 근대 시민 혁명은 부유한 도시 상공업자들이 주도하였고, 이들의 노력으로 의회를 중심으로 한 간접 민주 정치(대의 민주 정치)가 실현되었다.

오답풀이 ①, ⑤ 모든 사회 구성원이 정치에 참여하는 보통 선거 제도가 확립되어 대중 민주주의가 이루어진 것은 현대 민주 정치의 특징이다. ② 고대 아테네의 직접 민주 정치와 달리 대의 민주 정치가 확립되었다. ③ 정치에 참여할 수 있는 시민의 범위가 왕족과 귀족에서 도시의 상공업자들로 확대되었다.

07

ㄱ는 현대이다. ② 오늘날에는 대부분의 국가에서 국민을 대신할 대표를 선출하여 국가를 운영하는 간접 민주 정치가 이루어지고 있다.

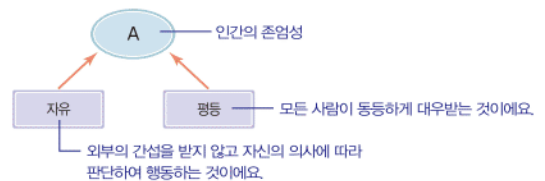
08

생활 양식으로서의 민주주의는 일상생활에서 발생하는 문제를 민주적으로 해결하려는 것으로, 대화와 타협, 타인에 대한 배려, 다수결의 원리, 비판과 토론, 공동체 의식, 관용 등이 민주적 생활 양식에 해당한다. ② 선거를 통해 국민의 대표자를 직접 선출하는 활동은 정치 형태로서의 민주주의와 관련 있다.

09

A는 민주주의의 근본이념인 인간의 존엄성이다. 인간의 존엄성을 실현하기 위해서는 자유와 평등을 보장해야 한다. ⑤ 인간의 존엄성이란 모든 인간은 인간이라는 그 자체만으로 존중받을 만한 가치가 있다는 것이다.

문제자료 뜯어보기



오답풀이 ①은 소극적 자유, ③은 적극적 자유에 관한 설명이다. ②는 형식적 평등, ④는 실질적 평등에 관한 설명이다.

10

국가에 인간다운 삶의 보장을 요구하거나 국가의 정책 결정에 참여할 수 있는 자유는 적극적 자유에 해당한다.

11

제시된 그림은 법률을 제정하는 입법권을 입법부, 법률을 집행하는 행정권을 행정부, 법률을 적용하는 사법권을 사법부가 행사하도록 하는 권력 분립의 원리를 나타낸다.

12

오늘날 지방 자치 제도가 활성화되어 지역 사회의 문제를 주민의 투표를 통해 결정하기도 하는데, 이는 국민이 스스로 국가를 다스려야 한다는 국민 자치의 원리와 관련 있다.

13

대통령제는 입법부와 행정부가 엄격하게 분리된 정부 형태로, 국민이 선거를 통해 의회의 의원과 행정부의 수반인 대통령을 각각 선출하여 입법부와 행정부를 독립적으로 구성한다. 대통령제에서는 대통령의 임기 동안 안정적으로 국정을 운영할 수 있다는 장점이 있다.

오답풀이 ㄴ. 대통령제에서 의회의 의원은 행정부의 장관을 겸직할 수 없다. ㄹ. 대통령제에서 행정부는 의회를 해산할 수 없다.

14

A국은 의원 내각제, B국은 대통령제를 채택하고 있다. ㄷ. 대통령제에서 대통령은 법률안 거부권을 행사할 수 있다. ㄹ. 의원 내각제는 대통령제에 비해 책임 있는 정치를 실현할 수 있다는 장점이 있다.

오답풀이 ㄱ. A국은 의원 내각제, B국은 대통령제이다. ㄴ. 의원 내각제에서 의회는 내각(행정부) 불신임권을 가지고, 내각은 의회 해산권을 가진다.

15

(가)에는 의원 내각제와 대통령제의 공통점을 묻는 질문이 들어가야 한다. ③ 의원 내각제와 대통령제 모두 의회의 의원을 국민이 선거를 통해 선출하여 입법부를 구성한다.

오답풀이 ①, ②, ④는 의원 내각제는 '예', 대통령제는 '아니요'의 대답을, ⑤는 의원 내각제는 '아니요', 대통령제는 '예'의 대답을 하는 질문이다.

16

행정부가 국회에 법률안을 제출할 수 있는 권한과 국무총리를 통해 행정 각부를 총괄하도록 하는 것은 우리나라에서 채택하고 있는 의원 내각제 요소이다.

오답풀이 ㄱ. ㄹ은 대통령제의 요소에 해당한다.

권력 분립의 원리

- 의미 : 국가 권력을 서로 독립된 기관이 나누어 맡도록 하는 것
- 목적 : 국가 기관 간 상호 견제와 균형을 통해 권력의 남용 방지 → 국민의 자유와 권리 보장

해결의 실마리

- 입법부와 행정부의 융합
- 의회 의원이 행정부 장관 겸직 가능

A국 : 의원 내각제

- 입법부와 행정부의 엄격한 분리
- 의회 의원이 행정부 장관 겸직 불가

B국 : 대통령제

우리나라의 정부 형태

- 대통령제를 기본으로 의원 내각제 요소를 부분적으로 도입함
- 대통령제 요소 : 국민이 별도의 선거로 국회의원 과 대통령을 각각 선출, 대통령의 법률안 거부권 행사
- 의원 내각제 요소 : 국무총리 제도, 행정부의 법률안 제출권, 국회의원의 행정부 장관 겸직 가능

17

예시답안 고대 아테네의 민주 정치는 시민들이 국가의 정책 결정에 직접 참여하는 직접 민주 정치였고, 여성과 노예, 외국인의 정치 참여가 배제된 제한적 민주 정치였다.

채점기준	등급	평가 기준
	상	직접 민주 정치와 제한적 민주 정치의 내용을 모두 서술한 경우
	하	제시된 내용 중 한 가지만 서술한 경우

18

예시답안 평등 / (가)는 형식적 평등으로, 성별이나 신분 등을 이유로 차별하지 않고 모든 사람에게 균등하게 기회를 제공하는 평등이다. (나)는 실질적 평등으로, 개인의 선천적·후천적 차이를 고려하는 평등이다.

채점기준	등급	평가 기준
	상	평등이라고 쓰고, (가)는 형식적 평등, (나)는 실질적 평등이라는 차이점을 의미를 설명하며 정확하게 서술한 경우
	중	평등이라고 쓰고, (가)는 형식적 평등, (나)는 실질적 평등이라고만 서술한 경우
	하	평등이라고 쓰고, (가)와 (나)의 차이점을 제시하지 못한 경우

19

예시답안 ㉠ 입헌주의의 원리, ㉡ 권력 분립의 원리 / 국가 권력의 남용을 방지하여 국민의 자유와 권리를 보장하는 것을 목적으로 한다.

채점기준	등급	평가 기준
	상	㉠ 입헌주의의 원리, ㉡ 권력 분립의 원리라고 쓰고, 공통된 목적을 바르게 서술한 경우
	중	국민의 자유와 권리를 보장하기 위함이라고만 서술한 경우
	하	㉠ 입헌주의의 원리, ㉡ 권력 분립의 원리라고만 쓴 경우

20

예시답안 A 대통령제는 대통령의 임기 동안 안정적인 정책을 수행할 수 있다는 장점이 있는 반면에 의회와 행정부가 대립하면 조정이 어렵다는 단점이 있다. B 의원 내각제는 의회와 내각이 긴밀하게 협조하여 효율적으로 국정을 운영할 수 있다는 장점이 있는 반면에 한 정당이 의회와 내각을 독점할 경우 다수당의 횡포가 나타날 수 있다는 단점이 있다. 우리나라는 입법부와 행정부가 엄격하게 분리된 대통령제를 기본으로 채택하고 있으나, 국정을 보다 효율적으로 운영하기 위해서 의원 내각제의 요소를 일부 도입하게 되었다.

채점기준	등급	평가 기준
	상	A, B에 해당하는 정부 형태와 각각의 장점과 단점을 쓰고, 우리나라에서 의원 내각제 요소를 도입한 배경을 의원 내각제의 장점과 관련지어 서술한 경우
	중	A, B에 해당하는 정부 형태를 쓰고, 각 정부 형태의 장점과 단점만 서술한 경우
	하	A, B에 해당하는 정부 형태를 쓰고, 우리나라에서 의원 내각제 요소를 도입한 배경을 서술하였으나 그 내용이 미흡한 경우

X 정치 과정과 시민 참여

1 정치 과정과 정치 주제

학교 시험 적중 문제

▶ 기본학습서 072~075쪽

- 01 ② 02 ④ 03 ④ 04 ⑤ 05 ④ 06 ① 07 ②
08 ① 09 ⑤ 10 ③ 11 ④ 12 ④ 13 ③ 14 ②
15 정책 16 이익 집단 17 정당 18 해설 참조
19 해설 참조 20 (1) (가) 시민 단체, (나) 이익 집단 (2) 해설 참조

01

제시문은 다양한 이익이 표출되는 모습을 나타낸다. 오늘날 다양한 이익이 표출되는 원인으로는 사회의 다원화·복잡화·전문화에 따른 다양한 이해관계와 가치관의 형성, 민주주의 발달로 인한 개인의 자유와 권리의 신장 등을 들 수 있다.

02

정치 과정이란 개인이나 집단이 표출하는 다양한 이해관계를 집약하여 정책으로 결정하고 집행하는 과정을 말한다. 정치 과정은 사회 구성원들의 요구와 지지를 바탕으로 정책이 결정되고 집행되면서 이루어진다.

오답풀이 ㄱ. 정치 과정을 통해 사회적으로 중요한 문제가 드러나고, 다양한 이익 간의 대립과 갈등이 조정되면서 사회가 통합된다. ㄷ. 과거에는 정치 과정이 국회, 행정부, 법원과 같은 국가 기관을 중심으로 이루어졌다. 하지만 오늘날에는 국가 기관 외에 다양한 정치 주체들이 정치 과정의 각 단계에서 중요한 역할을 담당하고 있다.

03

정치 과정은 이익 표출, 이익 집약, 정책 결정, 정책 집행, 정책 평가 및 환류(피드백)의 단계를 거쳐 이루어진다. (가)는 이익 표출, (나)는 이익 집약, (다)는 정책 결정, (라)는 정책 집행, (마)는 정책 평가 및 환류에 해당한다. ④ (라) 국민의 다양한 의견을 반영한 정책을 구체적으로 집행하는 정치 주체는 정부이다. 법원은 법률이나 정책과 관련한 분쟁이 발생하였을 때 재판을 통해 문제를 해결한다. 판결을 통한 법원의 판단은 현재의 정책을 점검하고 새로운 정책 방향을 제시하는 역할을 한다.

04

정치 과정은 사회 구성원들의 요구와 지지를 바탕으로 정책이 결정되고 집행되면서 이루어진다. ⑤ (마)는 정치 과정 중 '정책 평가' 단계이다. 국민이 정책을 평가하여 새로운 요구와 지지를 표현하면 정부는 한번 결정된 정책이라도 계속해서 수정·보완해나가야 한다.

정치 주제

- 공식적 주제 : 국회, 정부, 법원
- 비공식적 주제 : 시민 이익 집단, 시민 단체, 정당, 언론 등

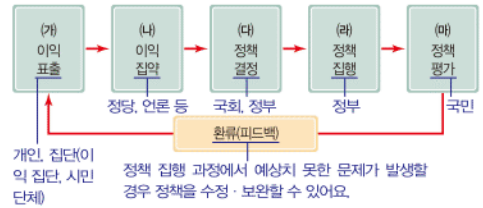
정치 과정

- 의미 : 다양한 이해관계가 표출·집약되어 정책으로 결정·집행되는 과정
- 단계 : 이익 표출 → 이익 집약 → 정책 결정 → 정책 집행 → 정책 평가

시민 단체

- 의미 : 공익 실현을 위해 시민들이 자발적으로 만든 단체
- 역할 : 시민의 정치 참여 유도, 여론 형성, 국가 기관의 정책 결정이나 집행 과정 감시 및 비판, 사회 문제의 해결책 제시 등

문제자료 뜯어보기



05

(가)는 어린이집 CCTV 설치 의무화 법안이 국회 본회의를 통과했다는 내용이므로 '정책 결정'에 해당한다. (나)는 시민 모임이 어린이집 CCTV 설치 의무화를 요구하는 내용으로 '이익 표출'에 해당한다.

06

정책을 결정할 공식적인 권한을 가진 정치 주체는 국회와 정부이다.

오답풀이 ㄷ. 정당은 '이익 집약' 단계에서, ㄹ. 시민은 '이익 표출'과 '정책 평가' 단계에서 역할이 크다. ㄴ. 이익 집단, ㅂ. 시민 단체는 '이익 표출' 단계에서 중요하다.

07

정치 과정은 이익 표출 → 이익 집약 → 정책 결정 → 정책 집행 → 정책 평가를 거치면서 이루어진다. (가)는 이익 표출, (나)는 정책 결정, (다)는 정책 집행, (라)는 정책 평가, (마)는 이익 집약에 해당한다.

08

사진에 나타난 정치 주체는 법률을 제정·개정함으로써 정치 과정에 참여하는 국회이다. 국회는 국민의 대표인 국회의원으로 구성된다.

오답풀이 ㄴ. ②는 정부, ③은 이익 집단, ④는 법원, ⑤는 언론에 관한 설명이다.

09

제시문은 시민 단체에 관한 설명이다. 시민 단체는 공익 실현을 추구한다는 점에서 이익 집단과 구별된다.

오답풀이 ㄴ. ① 국회는 국민의 대표 기관으로서 법률을 제정하고 개정한다. ② 언론은 정치 과정 전반에 관한 정보를 제공하고, 국민의 여론을 국회나 정부에 전달함으로써 정책 과정에 참여한다. ③ 정당은 정치권력을 획득하기 위해 정치적 의견을 같이 하는 사람들이 만든 집단이다. ④ 이익 집단은 이해관계를 같이 하는 사람들이 자신들의 특수한 이익을 실현하기 위해 만든 단체이다.

10

정부 기관 중 하나인 교육부는 공식적으로 정책을 결정할 수 있는 권한을 가지며, 정책을 구체적으로 집행하는 역할을 담당한다.

오답풀이 ① 교육부는 공식적인 정치 주체이다. ②는 국회에 관한 설명이다. ④는 법원에 관한 설명이다. ⑤ 정부는 정치 과정의 '정책 집행' 단계에서 주로 활동한다.

11

제시문에서 이해관계를 같이하며 목적 달성을 위해 국가 기관에 압력을 행사한다고 하였으므로 밑줄 친 '이 집단'은 이익 집단이다. 나. 이익 집단은 다양한 이익을 대변하여 정당의 기능을 보완한다. 르. 이익 집단은 자기 집단과 관련한 분야에 전문성을 갖추고 있기 때문에 정책 결정자에게 심층적이고 전문적인 정보를 제공한다.

오답풀이 ㄱ. 이익 집단은 자기 집단의 특수한 이익을 실현하기 위해 노력한다. 공익을 실현하기 위해 노력하는 것은 시민 단체, 정당이다. ㄷ. 선거에 후보자를 추천하여 당선시키기 위해 노력하는 것은 정당이다.

12

정치 주체로서 언론은 신문, 방송, 인터넷 등의 매체를 통해 정치 과정 전반에 관한 정보를 제공한다. 또한 공정하고 객관적인 보도를 함으로써 정부의 정책을 감시·비판하고 여론을 형성하는 데 주도적 역할을 한다. ④ 공식적으로 정책을 결정할 수 있는 정치 주체는 국회, 행정부, 법원 등의 국가 기관이다.

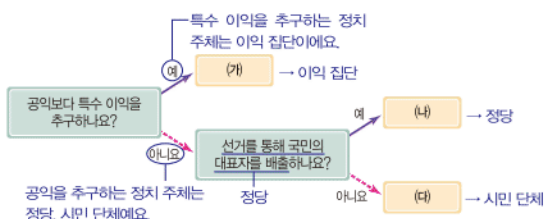
13

(가)는 정당, (나)는 이익 집단을 나타낸다. ③ 정책을 구체적으로 집행하는 정치 주체는 정부이다. ①, ② 정당은 정권 획득을 목적으로 하므로 선거에 후보자를 추천하여 이들을 당선시키기 위해 노력한다. ④ 이익 집단은 자기 집단의 특수한 이익을 실현하기 위해 노력한다. ⑤ 정당과 이익 집단은 모두 비공식적인 정치 주체로서 정치 과정에 영향력을 행사한다.

14

(가)는 이익 집단, (나)는 정당, (다)는 시민 단체이다. ㄱ. (가) 이익 집단은 자신들이 추구하는 목적을 달성하기 위해 정당, 국회, 정부 등에 압력을 행사한다. ㄷ. (다) 시민 단체는 정책이 올바르게 결정되고 집행되는지 감시하고 비판하는 역할을 하며, 사회 문제를 해결하기 위한 대안을 제시하기도 한다.

문제자료 1. 뜯어보기



해결의 실마리

이해관계를 같이하는 사람들로 구성된 집단

↓

이익 집단

↓

- 다양한 이익 대변
- 전문성을 바탕으로 정책 결정에 도움

정당과 이익 집단

- 정당 : 정권 획득, 대표자 배출 등
- 이익 집단 : 특수 이익 실현, 다양한 이익 대변 등

해결의 실마리

공익 추구

↓

정당, 시민 단체

↓

국민의 대표자 배출

↓

정당

오답풀이 나. 정책을 집행하는 역할을 하는 것은 정부이다. 르. 정책을 공식적으로 결정할 수 있는 권한은 공식적 정치 주체인 국가 기관에 있다. 정당, 이익 집단, 시민 단체는 모두 비공식적 정치 주체이다.

15

정치 과정은 이익 표출 → 이익 집약 → 정책 결정 → 정책 집행 → 정책 평가를 거치면서 이루어진다. 정책이란 공익을 실현하기 위하여 정부나 공공 기관이 수행하는 활동 방향이나 계획을 말한다.

16

이익 집단은 이해관계가 같은 사람들이 자기 집단의 특수 이익을 실현하기 위해 만든 집단이다. 목적 달성을 위해 국회, 행정부 등에 압력을 행사하여 압력 단체라고도 한다.

17

정치권력을 획득하기 위해서 정치적 의견을 같이하는 사람들이 만든 단체는 정당이다. 정당은 국민의 다양한 의견을 모아 국회나 정부에 전달하고 이를 정책에 반영시키고자 노력한다.

18

예시답안 정치 과정 / 정치 과정을 통해 다양한 가치와 이익이 조정되어 구성원 사이의 대립과 갈등이 해결되고 사회가 통합과 발전을 이루게 된다.

채점 기준	등급	평가 기준
	상	정치 과정이라고 쓰고, 그 의미를 바르게 서술한 경우
	하	정치 과정이라고만 쓴 경우

19

예시답안 법원은 법률이나 정책과 관련한 분쟁이 발생하였을 때 재판을 하여 문제를 해결한다. 판결로 드러나는 법원의 판단은 현재의 정책을 점검하고 새로운 정책 방향을 제시하는 역할을 한다.

채점 기준	등급	평가 기준
	상	법원의 역할을 정치 과정 측면에서 구체적으로 서술한 경우
	하	법원의 역할을 '법률이나 정책과 관련한 분쟁을 해결한다.'는 내용만으로 서술한 경우

20

(1) (가) 시민 단체, (나) 이익 집단

(2) **예시답안** (가) 시민 단체는 사회 전체의 공익을 실현하는 것을 목적으로 하는 반면, (나) 이익 집단은 자기 집단의 특수한 이익 실현을 목적으로 한다.

채점 기준	등급	평가 기준
	상	(가), (나)의 차이점을 목적 실현 측면에서 비교하여 바르게 서술한 경우
	하	(가), (나) 중 어느 하나의 목적만을 바르게 서술한 경우

2 선거의 의미와 제도

3 지방 자치와 주민 참여

학교 시험 적용 문제

▶ 기본 학습서 078~081쪽

01 ③ 02 ② 03 ③ 04 ① 05 ⑤ 06 ② 07 ④
08 ② 09 ③ 10 ④ 11 ② 12 ① 13 ② 14 ⑤
15 선거 16 게리맨더링 17 주민 참여 예산제 18 해
설 참조 19 (1) (가) 지방 의회, (나) 지방 자치 단체장 (2)
해설 참조 20 해설 참조

01

선거를 통해 누가 대표로 선출되느냐에 따라 정책이 달라지고 우리 사회의 발전 방향이 결정되기 때문에 선거를 ‘민주주의의 꽃’이라고 부른다.

오답풀이 ㄱ. 선거는 간접 민주주의, 즉 대의 민주주의를 실현하는 수단이다. ㄴ. 오늘날 시민은 선거 외에도 집회와 시위 참여, 언론 투고, 정당이나 이익 집단, 시민 단체 등에 가입함으로써 정치 과정에 참여할 수 있다.

02

대통령을 선출하는 선거는 5년, 국회의원을 선출하는 선거는 4년마다 실시한다. 또한 지방 의회 의원과 지방 자치 단체장을 뽑는 지방 선거는 4년마다 실시한다. ② 국무총리는 대통령을 보좌하여 행정 각부를 총괄하며, 대통령 자리가 공석일 경우 대통령의 권한을 대행한다. 국무총리는 국회의 동의를 얻어 대통령이 임명한다.

03

선거의 가장 기본적인 기능은 대표자를 선출하는 것이다. 또한 선거는 선출된 사람에게 시민의 대표로서 일할 수 있는 정당성을 부여하며, 시민에게 주권자로서의 의식을 갖게 하고 민주 시민으로서의 역할을 알게 한다. ③ 선거는 시민이 대표자를 통제하는 기능을 한다. 시민은 자신이 뽑은 대표자가 역할을 제대로 수행했는지 판단하여 다음 선거에서 대표자를 교체할 수 있다.

04

그림에서 일정한 나이가 되면 누구나 투표할 수 있다는 내용은 보통 선거의 원칙을 나타낸다.

오답풀이 ㄹ. 평등 선거는 모든 유권자가 동등한 가치의 투표권을 행사할 수 있다는 원칙이다. ③ 직접 선거는 선거권을 가진 사람이 직접 투표소에 나가 대표자를 선출해야 한다는 원칙이다. ④ 간접 선거는 유권자를 대신해 대리인이 투표하는 대리 선거를 의미하기도 하고, 유권자가 선거인단을 뽑고 선거인단이 대표를 선출하는 제도를 의미하기도 한다. ⑤ 비밀 선거는 유권자가 누구에게 투표했는지 다른 사람이 알지 못하도록 비밀을 보장하는 원칙이다.

우공비 Note

해결의 실마리

특정 정당에 유리하도록 선거구를 정함



게리맨더링



선거구 법정주의 실시

선거 공영제

• 국가에서 선거 관리
• 선거 운동 비용 일부 지원



• 선거 운동 과열 방지
• 후보자의 균등한 선거 운동 기회 보장

민주 선거의 원칙

- 보통 선거 : 일정 나이 이상의 모든 국민에게 선거권 부여
- 평등 선거 : 모든 유권자에게 동등한 가치의 투표권 부여
- 직접 선거 : 유권자가 직접 투표소에 나가 대표자를 선출
- 비밀 선거 : 유권자가 누구에게 투표했는지 비밀을 보장

지방 자치 단체의 종류

- 광역 자치 단체 : 특별시, 광역시, 도, 특별자치시, 특별자치도
- 기초 자치 단체 : 시, 군, 구

05

제시문에서 A당은 자기 당에 유리하도록 선거구를 획정하였다. 이러한 게리맨더링을 방지하기 위해 우리나라에서는 선거구 법정주의를 실시하고 있다.

문제자료 뜯어보기

A당은 대표를 선출하는 지역 단위를 자기 정당에 유리하게 특정 후보자나 정당에 유리하도록 선거구를 임의로 정하는 게리맨더링이에요. 도록 임의로 정하였다. 이에 따라 A당은 B당보다 적은 표

를 얻었는데도 더 많은 의석수를 차지하게 되었다.
국민의 의사가 제대로 반영되지 못한 선거 결과가 나타났어요.

06

선거 공영제는 선거 운동의 과열을 막고, 모든 후보자에게 선거 운동의 기회를 균등하게 보장하는 것이 목적이다.

오답풀이 ㄴ.은 평등 선거의 원칙을 실시하는 이유이다. ㄹ.은 선거구 법정주의를 실시하는 목적이다.

07

선거 관리 위원회는 선거를 공정하게 관리하는 독립된 국가 기관으로, 후보자 등록, 선거 운동 및 투표·개표 과정 관리, 유권자의 선거 참여를 위한 홍보 활동 등을 한다. ④는 후보자를 추천한 각 정당에서 공정한 선거에 기여하기 위해 하는 활동이다. 선거 관리 위원회는 중립성을 지켜야 하므로 특정 후보자의 선거 운동을 감시하지 않는다.

08

지방 자치 제도는 지역 주민들이 지역의 일을 자율적으로 처리하는 제도이다.

오답풀이 ㄴ.을 : 우리나라에서는 4년마다 지역별로 시장, 도지사, 구청장, 군수, 지방 의회의 의원 등을 선출한다. 정 : ‘민주주의의 꽃’은 선거를 표현하는 말이다. 지방 자치 제도는 지역 주민의 자발적 참여로 민주주의의 기초를 만들어 간다는 의미에서 ‘풀뿌리 민주주의’라고 불린다. 또한 지역 주민이 자치를 통해 민주주의를 배우고 실천할 수 있으므로 ‘민주주의의 학교’라고도 한다.

09

ㄴ. 주민은 지방 선거로 지방 의회 의원을 선출한다. ㄷ. 우리나라의 지방 자치 단체는 특별시, 광역시, 도, 특별자치시, 특별자치도와 같은 광역 자치 단체와 시, 군, 구에 해당하는 기초 자치 단체로 구분한다.

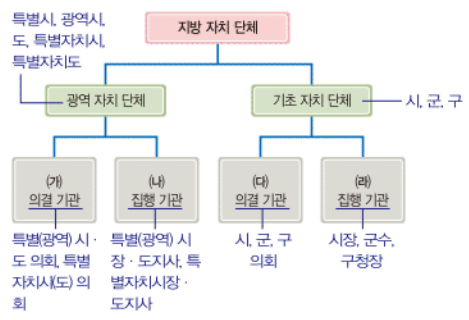
오답풀이 ㄱ. 지방 자치 단체장은 지방 선거로 선출된다. ㄴ. 우리나라의 지방 자치 단체는 의결 기관인 지방 의회와 집행 기관인 지방 자치 단체장으로 구성된다.

10

우리나라의 지방 자치 단체는 특별시, 광역시, 도, 특별자치시, 특별자치도에 해당하는 광역 자치 단체와 시, 군, 구에 해당하는 기초 자치 단체로 구분한다. 그리고 각 자치

단체는 의결 기관인 지방 의회와 집행 기관인 지방 자치 단체장으로 나뉜다.

문제자료 **뜯어보기**



오답풀이 ㄱ. 구 의회는 기초 자치 단체의 의회이므로 (다)에 해당한다. ㄷ. 특별시 의회는 광역 자치 단체의 의회이므로 (가)에 해당한다.

11

㉠은 기초 자치 단체의 의결 기관에 해당하고, ㉡은 기초 자치 단체의 집행 기관에 해당한다. ㉢은 조례를 제정하고, ㉣은 규칙을 제정한다.

오답풀이 ㉠ 지역 정책을 집행하는 기관은 지방 자치 단체장이다. ㉢ 지방 의회 의원은 지방 선거를 통해 선출된다. ㉣ 지방 자치 단체장은 집행 기관이다. ㉤ 지방 자치 체도를 통해 지방 정부가 중앙 정부와 권력을 나누어 맡음으로써 권력 분립의 원리를 실현할 수 있다.

12

지역 주민은 지역 사회의 정치 과정에 지방 선거, 주민 투표, 주민 발의, 주민 소환, 공청회 참석 등의 다양한 방법으로 참여할 수 있다. ㉠ 국회에 법률안을 직접 제출할 수 있는 주체는 국회의원과 행정부이다. 또한 국회에 법률안을 제출하는 것은 지방 자치로 볼 수 없다.

오답풀이 ㉡는 민원 제기, ㉢은 지방 선거 참여, ㉣는 주민 발의, ㉤는 주민 참여 예산제에 관한 설명이다.

13

제시문에서 면사무소 이전지를 ○○리와 △△리 중에서 한 곳을 선택하는 것에 대한 주민의 의견을 묻는 내용이 나타나 있으므로 ㉠에 들어갈 주민 참여 제도는 주민 투표이다. 주민 투표란 지역 사회의 주요 현안에 대하여 주민이 직접 투표로 결정하는 제도이다.

오답풀이 ㉠ 지방 선거는 지역 주민이 지역 대표를 선출하는 절차이다. ㉢ 주민 발의는 주민이 직접 조례안을 작성하여 지방 의회에 제출할 수 있는 제도이다. ㉣ 주민 소환은 직무를 잘 수행하지 못한 지역 대표를 임기 중에 주민 투표로 해임할 수 있는 제도이다. ㉤ 주민 청원은 지방 자치 단체에 지역 사회의 문제를 해결해달라고 서면으로 요구할 수 있는 제도이다.

해결의 실마리

- 대표자를 선출하는 과정
- 민주주의의 꽃

선거

해결의 실마리

㉠ ○○구 △△△의원

의결 기관

조례 제정 예산 심의·의결 등

㉡ ○○구 □□□구청장

집행 기관

규칙 제정 예산 집행 사무 관리 및 집행 등

주민 참여 제도

- 지방 선거: 지방 자치 단체장, 지방 의회 의원을 선거를 통해 선출
- 주민 투표: 지역 문제에 대해 주민이 직접 투표로 결정하는 제도
- 주민 발의: 주민이 조례안을 작성하여 지방 의회에 제출하는 제도
- 주민 소환: 직무를 잘 수행하지 못한 지역 대표를 주민 투표로 해임할 수 있는 제도

14

지방 자치 제도가 성공하기 위해서는 지방 정부가 중앙 정부로부터 자율성을 가져야 하며, 지역 주민들은 지역 사회의 문제를 해결하기 위해 주체적이고 자발적으로 참여해야 한다. ㉤ 정치 과정이 중앙 정부 중심으로 이루어지면 지역의 실정이나 지역 주민들의 요구를 제대로 반영하기 어렵다.

15

선거는 대통령, 국회의원, 지방 자치 단체장, 지방 의회 의원 등 국민을 대신할 대표자를 선출하는 절차이다.

16

게리맨더링을 방지하기 위해서 우리나라를 비롯한 대부분의 민주 국가에서는 선거구를 의회에서 법률로 정하는 선거구 법정주의를 채택하고 있다.

17

주민 참여 예산제란 지방 자치 단체의 예산 편성 과정에 주민이 직접 참여하는 제도이다.

18

예시답안 비밀 선거 원칙 / 비밀 선거 원칙을 보장해야 하는 까닭은 유권자가 외부의 압력을 받지 않고 자유롭게 후보를 선택할 수 있도록 하기 위해서이다.

채점 기준	등급	평가 기준
상	상	비밀 선거라고 쓰고, 유권자가 자유롭게 후보자를 선택하게 하기 위해서라는 내용으로 서술한 경우
	중	비밀 선거라고 쓰고, 선거를 공정하게 치르기 위해서라는 내용만으로 서술한 경우
	하	비밀 선거의 원칙이라고만 쓴 경우

19

- (1) (가) 지방 의회, (나) 지방 자치 단체장
 (2) **예시답안** (가) 지방 의회는 조례를 제정하며, 예산을 심의 및 의결한다. (나) 지방 자치 단체장은 규칙을 제정하며, 지역의 사무를 관리하고 예산을 집행한다.

채점 기준	등급	평가 기준
상	상	(가, 나)의 역할을 두 가지씩 바르게 서술한 경우
	중	(가, 나)의 역할을 한 가지씩만 바르게 서술한 경우
	하	(가, 나) 중 하나의 역할만 바르게 서술한 경우

20

예시답안 지역의 대표가 직무를 잘 수행하지 못했을 경우에 임기 중 주민 투표를 통해 해임할 수 있는 제도이다.

채점 기준	등급	평가 기준
상	상	주민이 직무를 제대로 수행하지 못한 지역 대표를 주민 투표를 통해 해임할 수 있다는 내용으로 바르게 서술한 경우
	하	단순히 주민이 지역 대표를 해임할 수 있다는 내용만으로 서술한 경우

대단원 완성문제

▶ 기본학습서 085~088쪽

01 ⑤ 02 ③ 03 ③ 04 ② 05 ⑤ 06 ④ 07 ③
08 ③ 09 ② 10 ⑤ 11 ① 12 ④ 13 ⑤ 14 ⑤
15 ④ 16 ③ 17 해설 참조 18 해설 참조 19 해설
참조 20 해설 참조

01

과거에는 정치 과정이 주로 국가 기관을 중심으로 이루어졌다. 하지만 오늘날에는 국가 기관뿐만 아니라 다양한 개인과 집단이 정치 과정에 활발히 참여하고 있다.

02

(가)는 정치 과정의 단계 중 '이익 집약'에 해당한다. 이익 집약이란 시민의 다양한 의견과 이익을 하나로 모아 수렴하는 것을 말하며, 주로 정당이나 언론이 담당한다.

오답풀이 ◀ ①은 정책 결정, ②, ④, ⑤는 이익 표출에 해당하는 사례이다.

03

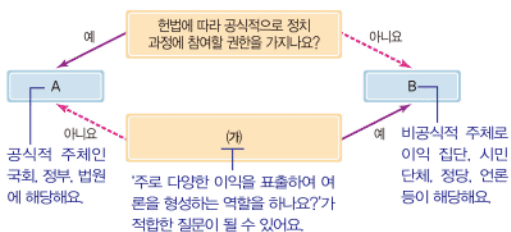
제시문에서는 시민 단체가 ○○도의 쓰레기 정책을 비판하면서 쓰레기 문제를 해결하기 위해 대규모의 쓰레기 선별장을 설치해야 한다는 대안을 제시하고 있다.

오답풀이 ◀ ①은 시민 단체의 역할에 해당하지만, 제시문과는 관련이 없다. ②는 정부의 역할, ④는 언론의 역할, ⑤는 이익 집단의 역할에 관한 설명이다.

04

A는 국회, 정부, 법원 등의 공식적 정치 주체이고, B는 정당, 이익 집단, 시민 단체 등의 비공식적 정치 주체이다.

문제자료 뜯어보기



오답풀이 ◀ 나. 비공식적 정치 주체의 활동을 자제시킨다면 시민들의 다양한 의견을 정책 결정에 반영할 수 없다. 르. 공식적 정치 주체인 국가 기관과 비공식적 정치 주체 중 정당과 시민 단체는 공익을 실현하기 위해 노력한다.

05

①은 시민 단체, ②은 이익 집단, ③은 정당이다. ⑤ 정당은 정치권력을 얻고자 하기 때문에 시민의 요구를 적극적으로 받아들이기 위해 노력하며, 정치적 책임을 진다.

공식적 정치 주체

- 국회: 법률 제정 및 개정
- 정부: 정책 수립 및 집행
- 법원: 정책과 관련한 분쟁 해결

해결의 실마리

공식적 정치 주체

A

국회, 정부, 법원

비공식적 정치 주체

B

이익 집단, 시민 단체, 정당, 언론 등

공정한 선거를 위한 제도 외 기관

- 선거 원칙: 보통, 평등, 직접, 비밀 선거
- 선거구 법정주의: 선거구를 법률로 정함
- 선거 공영제: 국가에서 선거 관리, 선거 운동 비용 일부 지원
- 선거 관리 위원회: 선거를 관리하는 독립 기관

오답풀이 ◀ ① ⑦, ②은 정부가 신중하게 정책을 결정하도록 한다. ② '정책 집행' 단계에서 주도적 역할을 하는 것은 정부이다. ③ ①은 공익을 실현하기 위해 활동한다. ④ ⑦, ②, ③ 모두 비공식적 정치 주체이다.

06

국회와 정부는 헌법에 따라 공식적으로 정책을 결정할 수 있는 권한을 가진 공식적 정치 주체로서, 정치 과정의 단계 중 '정책 결정'에 참여한다는 공통점이 있다.

오답풀이 ◀ ① 국민의 대표인 국회의원으로 구성되는 정치 주체는 국회이다. ②는 언론, ③은 법원, ⑤는 이익 집단에 관한 설명이다.

07

사진은 시민이 선거에 투표하는 모습이다. 선거란 시민의 대표자를 선출하는 절차로, 시민이 주권을 행사하는 가장 기본적인 정치 참여 방법이다.

오답풀이 ◀ ①은 지방 자치 제도에 관한 설명이다. ② 대통령을 선출하는 선거는 5년마다 실시한다. ④ 현재 우리나라에서는 만 19세 이상의 시민에게 선거권을 부여한다. ⑤ 적극적이면서 지속적인 정치 참여 방법은 시민 단체, 이익 집단 등에 참가하여 활동하는 것이다.

08

모든 유권자는 같은 개수의 투표용지를 받아 선거권을 행사하게 되는데, 이는 모든 유권자에게 투표의 가치를 동등하게 부여하는 평등 선거의 원칙을 보장하기 위함이다.

오답풀이 ◀ (가)는 보통 선거, (나)는 직접 선거, (다)와 (라)는 비밀 선거의 원칙을 지키기 위한 것이다.

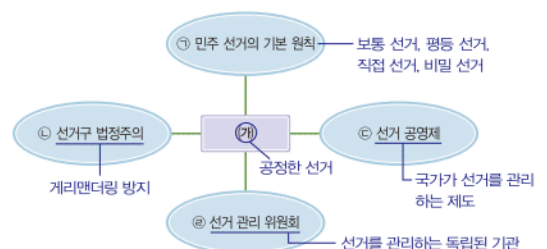
09

제시된 그림에서 학생들의 발표 내용은 모두 선거의 기능에 관한 것이다. 선거를 통해 시민을 대신하여 국가의 일을 담당할 대표자를 선출하고, 대표자는 권력의 정당성을 부여받게 된다. 또한 현재의 대표자가 국정을 잘못 운영하였다면 다음 선거에서 책임을 물어 교체함으로써 정치권력을 통제하고 책임 정치를 실현할 수 있다.

10

선거구는 국회에서 법률로 정한다.

문제자료 뜯어보기



오답풀이 ① ㉠, ㉡, ㉢, ㉣은 공정한 선거를 위한 제도이다. ② 공정한 선거를 위해서 보통, 평등, 직접, 비밀 선거 원칙을 규정하고 있다. ③ 선거구 법정주의는 선거구가 특정 정당이나 후보자에게 유리하게 정해지는 게리맨더링을 방지하기 위해 도입되었다. ④ 선거 공영제는 선거 관리 위원회가 선거 운동을 관리하고, 국가나 지방 자치 단체에서 선거 비용의 일부를 지원하도록 하는 제도이다.

11

제시된 사례에는 정치적으로 유능해도 경제력이 부족하다면 선거에 출마하지 못한다는 내용이 나타나 있다. 이러한 문제점을 해결하기 위해 우리나라에서는 국가나 지방 자치 단체가 선거 운동 비용의 일부를 지원하고 있다.

12

지방 자치가 제대로 이루어지려면 지역의 문제를 지방 정부와 주민 스스로 결정할 수 있는 권한이 있어야 한다. 즉 지방 정부가 중앙 정부로부터 자율성을 가져야 한다.

13

우리나라의 지방 자치 단체는 광역 자치 단체와 기초 자치 단체로 구분한다. 광역 자치 단체는 특별시, 광역시, 도, 특별자치시, 특별자치도가 있고, 기초 자치 단체는 시, 군, 구가 있다. ⑤ 대전광역시와 유성구의 집행 기관은 각각 대전광역시장과 유성구청장이며, 지방 자치 단체장은 규칙을 제정할 수 있는 권한이 있다.

14

(가)는 지방 의회, (나)는 지방 자치 단체장이다. ⑤ 지방 자치 단체장이 지방 의회에 예산안을 제출하면, 지방 의회가 예산안을 심의하고 의결한다.

오답풀이 ① 지방 의회 의원과 지방 자치 단체장의 임기는 4년이다. ② 지방 의회는 법률과 명령의 범위 안에서 조례를 제정한다. ③ (나)는 지방 자치 단체장이다. ④ 지방 의회는 지방 자치 단체의 행정 사무를 감사한다.

15

주민은 지방 선거, 주민 투표, 주민 소환, 주민 감사 청구제, 공청회 참석 등의 방법으로 정치 과정에 참여할 수 있다. ㄴ은 주민 감사 청구제, ㄹ은 주민 투표에 관한 설명이다.

오답풀이 ㄴ은 지방 자치 단체장, ㄹ은 지방 의회의 역할에 해당한다.

16

㉠에 들어갈 정치 참여 방법은 '지방 선거'이다. 지방 선거는 지역 주민이 지역 대표를 선출하는 절차이다.

오답풀이 ①, ④ 주민 투표는 지역 사회의 주요 현안을 주민이 직접 투표로 결정하는 제도이다. ② 의무 교육을 마친 시민에게만 선거권을 주는 것은 보통 선거의 원칙에 어긋난다. ⑤는 주민 소환에 관한 설명이다.

선거 공영제 목적

- 선거 운동의 과열과 부정 선거 방지
- 후보자의 균등한 선거 운동 기회 보장

해결의 실마리

㉠ 대전광역시



광역 자치 단체



광역시 의회 광역시장

㉡ 유성구



기초 자치 단체



구 의회 구청장

지방 자치 제도

- 의미 : 주민들이 지방 자치 단체를 구성하여 지역의 일을 자율적으로 처리하는 제도
- 의의 : 민주주의의 실현, 권력 분립의 원리 실현, 주민의 정치 참여 기회 확대 등

17

예시답안 정당의 기능을 보완하고, 전문성을 바탕으로 정책 결정에 도움을 주기도 한다. 그러나 자기 집단의 이익을 지나치게 강조하여 공익과 충돌하거나 정책 결정에 혼란을 줄 수 있다.

채점 기준	등급	평가 기준
	상	이익 집단의 긍정적 측면과 부정적 측면을 모두 바르게 서술한 경우
	하	이익 집단의 긍정적 측면과 부정적 측면 중 어느 한쪽의 내용만을 바르게 서술한 경우

18

예시답안 선거 / 국정을 담당할 대표자를 선출하고, 정치 권력에 정당성을 부여하며 대표자를 통제한다.

채점 기준	등급	평가 기준
	상	선거라고 쓰고, 그 기능을 두 가지 서술한 경우
	중	선거라고 쓰고, 그 기능을 한 가지만 서술한 경우
	하	선거라고만 쓴 경우

19

예시답안 중앙 정부와 지방 정부의 권한을 나누어 지방 정부의 자율성을 보장한다는 점에서 권력 분립의 원리를 실현할 수 있습니다.

채점 기준	등급	평가 기준
	상	중앙 정부로부터 권력의 자율성을 보장받겠다는 의미에서 권력 분립의 원리를 실현한다는 내용으로 서술한 경우
	하	단순히 권력 분립의 원리를 실현한다고만 쓴 경우

20

예시답안 (가)는 대학 졸업 이상의 학력을 가진 사람만 선거에 참여할 수 있도록 하여 합리적 이유 없이 선거권을 제한하고 있다. 이는 일정 연령 이상의 국민이라면 누구나 선거에 참여할 수 있다는 보통 선거의 원칙에 어긋난다. (나)는 재산 수준에 따라 투표용지의 개수를 다르게 부여하고 있으므로, 모든 유권자에게 동등한 표의 가치를 부여해야 한다는 평등 선거의 원칙에 어긋난다. (다)는 어떤 후보자에게 기표했는지 공개하게 하여 유권자가 누구에게 투표했는지 다른 사람이 알지 못하도록 비밀을 보장해야 한다는 비밀 선거의 원칙에 어긋난다. (라)는 유권자 본인을 대신하여 가족이 투표할 수 있도록 하여 유권자의 의사가 대리인에 의해 왜곡될 수 있다. 이는 선거권을 가진 사람이 직접 투표소에 나가 대표자를 선출해야 한다는 직접 선거의 원칙에 어긋난다.

채점 기준	등급	평가 기준
	상	(가)~(라)에 나타난 각각의 선거 원칙이 가진 문제점을 '민주 선거의 기본 원칙'과 관련지어 모두 바르게 서술한 경우
	중	(가)~(라) 중 2~3가지만의 문제점을 '민주 선거의 기본 원칙'과 관련지어 바르게 서술한 경우
	하	(가)~(라) 중 한 가지만의 문제점을 바르게 서술한 경우

XI 일상생활과 법

1 법의 의미와 목적

2 법의 유형과 특징

학교시험 적용 문제

▶ 기본학습서 092~095쪽

- 01 ④ 02 ① 03 ③ 04 ② 05 ① 06 ③ 07 ③
08 ③ 09 ① 10 ③ 11 ⑤ 12 ④ 13 ④ 14 ①
15 정의 실현 16 헌법 17 사회법 18 (1) (가) 도덕, (나) 법 (2) 해설 참조 19 해설 참조 20 해설 참조

01

제시된 내용은 사회 구성원들이 지켜야 할 규칙인 사회 규범을 나타낸다. 사회 규범은 사회에서 발생하는 다양한 갈등을 해결하고 사회 질서를 유지하기 위해 만들어졌다.

오답풀이 ㄱ. 내면적 양심과 행위의 동기를 규율하는 것은 도덕이다. 사회 규범 중 법은 행위의 결과를 규율한다. ㄴ. 위반할 경우 국가의 일정한 제재를 받는 것은 법이다. 사회 규범 중 관습, 도덕, 종교 규범을 지키지 않았을 경우에는 개인이 사회적 비난을 받거나 양심의 가책만을 느끼게 된다.

02

제시문은 관습에 관한 설명이다. 관습에는 관혼상제(관례, 혼례, 상례, 제례), 세배 등이 있다. ①은 관혼상제 중 하나인 제사를 지내는 의례를 지키는 사례이다.

오답풀이 ㄴ. ②는 법 규범을 준수하고 있는 사례이다. 우리나라의 도로 교통법 제5조 제②항에 따르면 도로를 통행하는 보행자와 모든 운전자는 교통 안전 시설이 표시하는 신호 또는 지시를 따라야 한다. ③은 이슬람교의 교리를 지키는 사례이다. ④는 어려운 이웃을 도와야 한다는 도덕을 따르는 사례이다. ⑤는 노약자에게 자리를 양보해야 한다는 도덕을 따르는 사례이다.

03

제시문에서 도배업자 A 씨는 B 씨의 집에서 수표와 현금을 훔친 것을 후회하며 돈을 돌려주었지만, 법을 위반하였으므로 기소되어 재판을 받았다. 이를 통해 법은 내면적 양심이나 동기보다는 겉으로 드러나는 행위의 결과를 중시한다는 사실을 알 수 있다.

오답풀이 ㄴ. ① 법은 다른 사회 규범보다 내용이 구체적이고 명확하다. 하지만 이는 제시문에 나타난 사례를 통해서 알 수 있는 법의 특성이 아니다. ②, ④ 개인이 자율적으로 지키도록 하는 규범으로, 위반할 경우 양심의 가책을 느끼는 것은 도덕이다. ⑤는 종교 규범에 관한 설명이다.

법의 기능과 목적

- 기능 : 분쟁의 예방 및 해결, 개인의 권리 보호
- 목적 : 정의 실현, 공공복리 증진

법의 유형

- 공법 : 공적인 생활 관계 규율(헌법, 형법, 행정법, 소송법 등)
- 사법 : 사적인 생활 관계 규율(민법, 상법 등)
- 사회법 : 사적 생활 영역에 국가가 개입(노동법, 경제법, 사회 보장법)

해결의 실마리

법을 위반한 후 양심에 따라 뉘우침

↓

처벌을 받음

↓

법은 행위의 결과를 중요시함

문제자료 뜯어보기

도배업자 A 씨는 B 씨의 집에서 도배 공사를 하던 중 에 어켄 위에 놓인 4억 원의 수표와 현금을 훔쳤다. 얼마 후 A 씨는 이미 절도 행위를 저질렀어요. 에 A 씨는 양심의 가책을 느껴 훔친 돈을 주인에게 돌려 법을 위반할 경우 양심의 가책을 느끼는 것으로 끝나지 않아요. 주었다. 그러나 A 씨는 절도 혐의로 기소되어 징역 6개월 정도 행위의 결과 형사 재판을 받게 되었어요. 에 형 집행을 2년간 유예하는 선고를 받았다. 법을 위반하여 국가에 의해 제재를 받았어요.

→ 법은 양심과 동기보다는 행위의 결과를 중시하며, 법을 어길 경우에는 국가에 의해 강제적으로 제재를 받는다는 것을 알 수 있어요.

04

법은 일상생활에서 발생하는 분쟁과 갈등을 해결하고, 이를 통해서 사회 질서를 유지한다. 또한 법은 권리의 내용을 명확히 하고 이를 침해하는 행위를 제재함으로써 개인의 권리를 지켜 준다. 그리고 공공복리를 증진하고 정의를 실현한다. ② (나) 법의 목적은 국민을 규제하거나 처벌하기 위한 것이 아니라 분쟁 해결과 권리 보호를 통해 정의를 실현하는 것이다.

05

제시문은 정의에 관한 설명이다. 법은 정의를 실현하기 위한 사회 규범이다. 법은 누구나 노력한 만큼의 대가를 정당하게 지급받고, 강한 힘을 앞세워 다른 사람의 몫을 빼앗는 행위를 제재함으로써 정의를 실현한다.

06

법은 규율하는 생활 영역에 따라 공법, 사법, 사회법으로 구분된다. ㄴ. 공법은 개인과 국가 또는 국가 기관 간의 공적인 생활 관계를 규율하는 법이다. ㄷ. 사회법은 개인 간의 생활 영역에 국가가 개입하여 사회·경제적 약자를 보호하기 위한 법으로 사법과 공법의 중간적 성격을 가진다.

오답풀이 ㄱ. 사법 영역에는 민법, 상법 등이 있다. 형법, 소송법은 공법 영역에 속한다. ㄴ. 오늘날과 같은 복지 국가에서는 사회법의 중요성이 강조되고 있다.

07

공법은 국가와 개인, 또는 국가 기관 간의 공적인 생활 관계를 규율한다. 공법에는 국민의 권리와 의무 및 국가의 통치 구조를 정해 놓은 헌법, 행정 기관의 조직과 작용 및 규제에 관한 행정법, 범죄의 종류와 형벌의 정도를 정해 놓은 형법, 재판이 이루어지는 절차를 정해 놓은 소송법 등이 있다.

오답풀이 ㄴ. ①, ⑤는 사법에 관한 설명이다. ②, ④는 사회법에 관한 설명이다.

08

제시된 그림은 국민의 의무 중 납세의 의무를 나타낸다. 납세의 의무는 헌법에 규정되어 있다.

오답풀이 ① 민법은 개인의 가족 관계 및 재산 관계를 규율하는 법이다. ② 상법은 상거래와 관련한 경제생활 관계를 규정한 법이다. ④ 형법은 범죄의 종류와 형벌을 규정한 법이다. ⑤ 행정법은 행정 기관의 조직과 작용 및 구제에 관한 법이다.

09

사적 생활 관계를 규율하는 법 영역은 사법이다. 사법에 속하는 법에는 민법, 상법 등이 있다.

오답풀이 ② 상법은 사법 영역, 헌법은 공법 영역에 속한다. ③ 형법, 소송법은 공법 영역에 속한다. ④ 행정법은 공법 영역, 노동법은 사회법 영역에 속한다. ⑤ 경제법과 사회 보장법은 사회법 영역에 속한다.

10

A가 공법, B가 사회법이므로 C는 사법이다. 사법은 개인과 개인 사이의 사적인 생활 관계를 규율하는 법이다. 사적인 생활 영역에는 다른 사람에게 돈을 빌리는 것, 결혼을 하여 가족을 이루는 것 등이 해당한다. ③ 무역 회사를 설립하여 운영하는 것은 사법 영역 중 상거래와 관련한 경제생활 관계를 규정한 상법과 관련 있다.

오답풀이 ①, ②, ④, ⑤는 공법이 규율하는 공적인 생활 영역과 관련 있다.

11

사회법은 근대 자본주의의 문제점을 해결하고, 사회·경제적 약자의 권리를 보호하여 모든 국민에게 최소한의 인간다운 삶을 보장하기 위하여 등장하였다. ⑤ 근대 시민 사회에서 국가가 개인의 자유와 권리를 최대한 보장한 결과 여러 문제점이 발생하였고, 그러한 문제를 해결하기 위해서 국가가 개인의 사적인 생활 영역에 적극적으로 개입하여 나타난 법 영역이 사회법이다.

12

사회법이란 개인 간의 생활 영역에 국가가 개입하여 사회·경제적 약자를 보호하기 위해 만들어진 법이다. ④ 근대 이후 자본주의의 발달에 따라 빈부 격차, 노동 문제, 환경 오염 등의 사회 문제를 해결하기 위해 등장한 것이 사회법이다. 이는 개인의 권리와 자유를 중시하는 사법만으로는 한계가 있었기 때문에 국가가 적극적으로 개입하여 사회적 약자를 보호해야 한다는 요구가 커졌기 때문이다.

13

사회법은 사적인 생활 영역에 국가가 개입하여 만들어진 새로운 유형의 법 영역이다. ㄴ은 사회법 영역 중 경제법, ㄹ은 사회법 영역 중 노동법의 적용을 받는 경우이다.

오답풀이 ㄱ은 공법 영역 중 형법의 적용을 받는 경우이다. ㄷ은 사법 영역 중 민법의 적용을 받는 경우이다.

해결의 실마리

법의 유형 : 공법, 사회법, 사법



A: 공법, B: 사회법



C: 사법



사적인 생활 관계 규율

법과 도덕

- 법 : 국가가 제정한 사회 규범 → 행위의 결과 중 시, 강제성 있음, 내용이 명확함
- 도덕 : 인간이 마땅히 지켜야 할 도리 → 양심과 동기 중시 강제성 없거나 약함 내용이 명확하지 않음

사회법의 종류

- 노동법 : 노동자의 권리 보호
- 경제법 : 공정한 경제 질서 유지, 소비자의 권리 보호
- 사회 보장법 : 최소한의 인간다운 삶 보장

14

(개)는 노동자를 보호하기 위한 노동법, (나)는 소비자의 권리를 보호하기 위한 경제법을 적용받을 수 있는 상황이다.

15

제시된 사진은 각각 정의의 여신상과 해태상을 나타낸 것으로, 모두 법의 목적인 정의의 실현을 상징한다. 정의란 모든 사람에게 각자의 정당한 몫을 주는 것을 의미한다.

16

헌법은 국가의 최고 법으로 국민의 권리와 의무, 국가의 통치 조직, 국가의 운영 원리 등을 규정하고 있다.

17

근대 이후 자본주의가 발달하면서 빈부 격차, 노사 갈등과 같은 여러 사회 문제가 발생하였다. 이러한 문제를 해결하기 위해 국가가 적극적으로 개입하여 사회적 약자를 보호해야 한다는 주장이 나오면서 사회법이 등장하였다.

18

(1) (가) 도덕, (나) 법

(2) **예시답안** 법은 (가) 도덕과 달리 강제성을 지니고 있어서, 사회 구성원이 법을 지키지 않으면 국가의 제재를 받게 된다. 또한 도덕에 비해 그 내용이 명확하여 할 일과 하지 말아야 할 일을 구체적이고 분명하게 규정하고 있다.

채점 기준	등급	평가 기준
	상	도덕과 구별되는 법의 특징으로 '강제성', '명확성'을 모두 바르게 서술한 경우
	하	도덕과 구별되는 법의 특징으로 '강제성', '명확성' 중 한 가지만을 서술한 경우

19

예시답안 법은 사람들이 사회생활에서 지켜야 할 행동의 기준을 명확히 제시하여 분쟁을 원만하게 해결합니다. 또한 국민이 가지는 권리의 내용과 권리가 침해되었을 때 어떻게 구제받을 수 있는지 명확히 규정하여 개인의 권리를 보호합니다.

채점 기준	등급	평가 기준
	상	'분쟁 해결', '권리 보호'를 모두 바르게 서술한 경우
	하	'분쟁 해결', '권리 보호' 중 하나만을 서술한 경우

20

예시답안 사법 / 개인과 개인 사이의 사적인 생활 관계를 규율하는 법이다.

채점 기준	등급	평가 기준
	상	사법이라고 쓰고, 그 의미를 바르게 서술한 경우
	중	사법의 의미만을 서술한 경우
	하	사법이라고만 쓴 경우

3 재판의 이해

학교시험적중문제

▶ 기본학습서 100~103쪽

01 ③ 02 ④ 03 ④ 04 ④ 05 ① 06 ⑤ 07 ③
08 ③ 09 ② 10 ③ 11 ② 12 ③ 13 ⑤ 14 ①
15 형사 재판 16 (가) 원고, (나) 피고인 17 심급 제도
18 해설 참조 19 해설 참조 20 해설 참조

01

분쟁이 발생했을 때 당사자들끼리 자율적으로 합의를 하여 해결하는 것이 가장 바람직하다. ① 우리나라에서는 원칙적으로 하나의 사건에 대해 세 번까지 재판을 받을 수 있다. ② 재판은 분쟁의 내용이나 성격에 따라 여러 종류로 나눌 수 있는데, 대표적으로 민사 재판과 형사 재판이 있다. ④ 재판은 타인이나 국가로부터 피해를 입은 개인의 권리를 구제하여 보호한다. 또한 범죄 사건이 발생하면 범죄자를 격리하고 범죄자에게 형벌을 부과함으로써 사회 질서를 유지하는 기능도 한다. ⑤ 재판은 구체적인 분쟁 사건에 대해 법원이 일정한 절차를 거쳐 최종적으로 내리는 공적인 판단이다.

02

(가)는 가족 및 친족 간 분쟁과 가정에 관한 일반적인 사건을 다루는 가사 재판에 관한 설명이다. (나)는 범죄 유무를 판단하고 형벌 정도를 결정하는 형사 재판에 관한 설명이다.

03

제시문에서 ○○ 마트는 해당 지역 구청의 행정 처분이 부당하다며 소송을 제기하였다. 이와 같이 행정 기관이 국민의 권리를 침해하였는지를 판단하기 위한 재판은 행정 재판이다.

04

ㄴ. 제시문에서 을은 돈을 빌렸음에도 갚지 않는 갑을 상대로 재판을 요구하고 있다. 이와 같이 돈을 빌려주고 빌리는 일, 즉 채권(돈을 받을 권리)과 채무(돈을 갚을 의무)에 관한 분쟁을 해결하기 위한 재판은 민사 재판이다. ㄷ. 증거 재판주의에 따라 법정에서 을은 갑에게 돈을 빌려준 사실, 액수, 돈을 돌려받기로 한 시기 등을 입증할 증거를 제출해야 한다.

오답풀이 ㄱ. 을이 재판을 법원에 제기하였으므로 원고는 을이 되고, 그 상대방인 갑은 피고가 된다. ㄷ. 밀출 친 재판은 민사 재판이다. 따라서 민사 재판에서 판사는 원고와 피고의 주장 및 증거, 법률 규정을 토대로 갑이 돈을 갚을 의무가 있는지, 있다면 얼마를 갚아야 하는지 등에 대해 판결한다. 범죄 유무 판단과 형벌 정도에 대한 판결은 형사 재판에서 이루어진다.

민사 재판의 절차

원고의 소장 제출 → 피고의 답변서 제출 → 양측의 증거 제출 → 변론 → 판사의 판결

05

민사 재판은 원고가 법원에 소장을 제출함으로써 시작된다. 법원은 이 사실을 상대방인 피고에게 알리고 그에 대한 답변서를 받는다. 원고와 피고는 법원에 증거를 제출하고 법정에서 각자의 주장을 말한다. 이 과정에서 필요한 경우 변호사의 도움을 받기도 한다. 판사는 양측의 주장 및 증거, 법률 규정을 토대로 판결을 내린다.

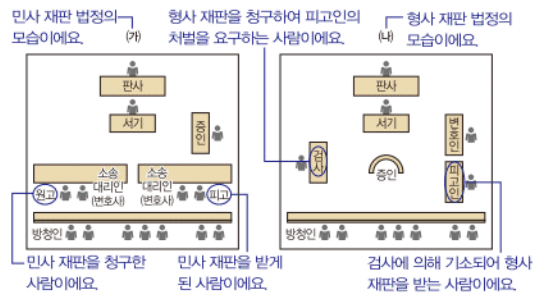
06

형사 재판은 강도, 절도, 폭행 등과 같은 범죄가 발생했을 때 범죄 사실을 밝히고 형벌을 정하는 재판이다. ⑤ 형사 재판에서 범죄 피해자는 재판의 당사자가 될 수 없지만, 증인으로서는 참석할 수 있다. 형사 재판은 검사의 공소 제기(기소)로 시작된다. ① 형사 소송법은 형사 재판의 절차를 규정하므로 형사 재판은 형사 소송법에 따라 이루어진다. ② 검사는 형사 재판을 제기하여 피고인의 처벌을 요구하는 사람이다. ③ 우리나라에서는 일반 국민이 배심원으로 형사 재판에 참여할 수 있는 국민 참여 재판 제도가 실시되고 있다. ④ 형사 재판의 판사는 관련된 법 조항을 적용하여 범죄의 유무와 형벌의 정도에 대한 판결을 내린다.

07

(가)는 민사 재판, (나)는 형사 재판이다. ㄴ. 우리나라에서는 일부 형사 재판에 한하여 피고인이 원할 경우 국민 참여 재판을 실시하고 있다. ㄷ. 민사 재판은 원고가, 형사 재판은 검사가 소송을 제기하여 이루어진다.

문제자료 뜯어보기



오답풀이 ㄱ. 판사가 피고인의 유·무죄와 형량 등을 결정하는 재판은 형사 재판이다. ㄷ. 살인 사건과 같은 범죄 사건은 형사 재판에서 다루고, 전세금 반환 청구 사건과 같은 개인 간 분쟁은 민사 재판에서 다룬다.

08

제시된 그림은 형사 재판의 절차를 나타낸다. 형사 재판은 '고소 또는 고발 → 피의자에 대한 경찰 수사 → 검사의 공소 제기(기소) → 검사의 신문, 변호인의 변론 → 판사의 판결'의 순으로 이루어진다. 따라서 (가)는 검사의 기소, (나)는 검사의 신문과 피고인의 변론이 해당한다. ③ 범죄 혐

의가 있어서 수사를 받는 사람을 피의자라고 하고, 검사의 기소에 의해 재판을 받게 되면 피고인 신분이 된다.

09

검사가 법원에 기소하였다는 내용이 있으므로 제시문에 나타난 재판은 형사 재판이다. 형사 재판은 범죄 유무를 판단하고 형벌 정도를 결정하는 재판이므로 ㉠에는 범죄 행위를 저지른 사람이 들어야 한다. ㉡ 백화점에서 명품 가방을 훔친 B는 절도죄를 저질렀다.

오답풀이 ㉠, ㉢은 가족이나 친족 간의 다툼을 해결하기 위한 재판인 가사 재판의 당사자에 해당한다. ㉣, ㉤는 개인 간에 일어난 분쟁을 해결하기 위한 재판인 민사 재판의 당사자에 해당한다.

10

제시문은 사법권의 독립에 관한 설명이다. 사법권의 독립을 실현하기 위해서는 법원의 독립과 법관의 신분 보장이 이루어져야 한다. ㉢ 우리나라는 헌법에 사법권의 독립을 보장하여 재판이 국가 기관이나 여론 등의 영향을 받지 않고 공정하게 이루어질 수 있도록 하고 있다.

11

(가)는 증거 재판주의, (나)는 공개 재판주의에 관한 설명이다. 가. 증거 재판주의와 공개 재판주의는 공정한 재판을 통해 국민의 자유와 권리를 보호하기 위해 마련되었다. 다. 우리나라에서는 일반 시민들이 재판 진행 과정을 볼 수 있도록 법원에 방청석을 마련하고 있다.

오답풀이 나. 재판에서 구체적인 증거 없이 단순한 정황만으로 판단할 경우 잘못된 판결이 이루어질 수 있기 때문에 증거 재판주의를 채택하고 있다. 라. 국가의 안전 보장이나 선량한 풍속을 해칠 우려가 있는 경우에는 심리를 비공개로 하여 재판을 진행할 수 있다.

12

우리나라에서는 증거 재판주의에 따라 구체적인 증거를 바탕으로 판결을 해야 하며, 형사 재판에서 다른 증거 없이 피고인의 자백만으로는 유죄 판결을 내릴 수 없다.

오답풀이 ㉠ 3심제는 한 사건에 대해 세 번 재판을 받을 수 있게 하는 제도이다. ㉡ 사법권의 독립은 법원을 다른 국가 기관으로부터 독립시켜 공정한 판결이 이루어지도록 하는 것이다. ㉣ 공개 재판주의는 재판의 과정과 결과를 일반인이 방청할 수 있도록 공개해야 한다는 원칙이다. ㉤ 국민 참여 재판 제도는 일반 국민이 배심원으로 형사 재판에 참여할 수 있게 하는 제도이다.

13

제시된 그림은 심급 제도를 나타낸다. ㉠은 2심 법원의 판결에 따르지 못할 경우 대법원에 3심 재판을 청구하는 상고이다. ㉡은 1심 법원의 판결에 따르지 못할 경우 상급 법원에 2심 재판을 청구하는 항소이다.

해결의 실마리

검사가 ㉠을 기소



판사가 ㉡의 유죄 인정



㉢: 범죄를 저지른 사람

심급 제도

- 의미: 한 사건에 대해 여러 번 재판을 받을 수 있게 하는 제도 → 3심제를 원칙으로 함
- 목적: 법관의 잘못된 판결로 발생할 수 있는 피해를 최소화하고, 공정한 재판을 통해 국민의 자유와 권리를 보호함

항소와 상고

- 항소: 1심 법원의 판결에 불복하여 2심 재판을 청구하는 것
- 상고: 2심 법원의 판결에 불복하여 3심 재판을 청구하는 것

14

우리나라는 공정한 재판을 위하여 법원에 급을 두어 여러 번 재판을 받을 수 있게 하는 심급 제도를 채택하고 있다. ㉠ 같은 사건을 세 번에 걸쳐 재판하게 되어 재판의 신속성과 효율성은 낮아지는 대신 재판의 공정성과 객관성을 높일 수 있다.

15

검사, 피고인 등이 제시되어 있으므로 제시된 그림에 나타난 법정은 형사 재판이다. 검사는 공소를 제기하여 피고인의 처벌을 요구하는 사람이고, 피고인은 형사 사건으로 기소되어 재판을 받는 사람이다.

16

분쟁이 발생했을 때 피해를 입었다고 주장하며 민사 재판을 청구하는 사람을 원고라고 한다. 한편, 형사 사건으로 검사에 의해 기소되어 재판을 받는 사람을 피고인이라고 한다.

17

관련 검색어에 공정한 재판을 위한 제도가 나타나 있고, 3심제, 항소, 상고, 불복 등의 단어가 제시된 것으로 보아 (가)에 들어갈 적절한 사법 제도는 심급 제도이다. 심급 제도란 법원에 급을 두어 한 사건에 대해 여러 번 재판을 받을 수 있게 하는 제도를 말한다.

18

예시답안 재판 / 법원이 공정하게 법을 적용하여 옳고 그름을 밝히는 과정을 말한다.

채점 기준	등급	평가 기준
	상	재판이라고 쓰고, 재판의 의미를 바르게 서술한 경우
	하	재판이라고만 쓴 경우

19

예시답안 민사 재판 / 갑은 을에게 돈을 빌려주었다고 말하고, 을은 갑에게 돈을 빌린 사실이 없다고 주장하고 있으므로 개인 간에 일어난 분쟁을 해결해야 하기 때문이다.

채점 기준	등급	평가 기준
	상	민사 재판이라고 쓰고, 그렇게 볼 수 있는 이유를 자료를 토대로 바르게 서술한 경우
	하	민사 재판이라고만 쓴 경우

20

예시답안 살인, 강도 등의 범죄 사건을 다루는 형사 재판에 일반 국민이 배심원으로 참여할 수 있는 제도이다.

채점 기준	등급	평가 기준
	상	국민이 '형사 재판'에 '배심원'으로 참여할 수 있다는 내용으로 바르게 서술한 경우
	하	국민이 재판에 '배심원'으로 참여할 수 있다는 내용만으로 서술한 경우

대단원 완성문제

▶ 기본학습서 105~108쪽

01 ⑤ 02 ① 03 ③ 04 ① 05 ④ 06 ① 07 ②
08 ⑤ 09 ⑤ 10 ④ 11 ④ 12 ① 13 ④ 14 ⑤
15 ③ 16 ② 17 해설 참조 18 해설 참조 19 해설
참조 20 해설 참조

01

제시문은 도덕에 관한 설명이다. 도덕은 인간이 마땅히 지켜야 할 도리로서, 인간의 내면을 규율한다.

오답풀이 ① 법은 관습, 종교 규범, 도덕과 달리 강제성을 가지고 있기 때문에 이를 지키지 않을 경우 국가에 의해 제재를 받을 수 있다. ② 도덕은 행위의 결과보다 동기를 중시한다. ③은 종교 규범에 관한 설명이다. ④ 법은 다른 사회 규범과 달리 해야 할 일과 하지 말아야 할 일을 명확하게 규정하고 있다.

02

법은 국가에 의해 강제적으로 지키도록 한 규범이고, 도덕은 양심에 따라 자발적으로 지켜야 하는 규범이다. ① 법은 정의 실현과 공공복리 증진을 목적으로 한다. 도덕은 선의 실현을 목적으로 한다.

03

제시된 그림은 법이 식당 손님과 식당 주인 사이에서 발생한 분쟁을 해결하기 위한 명확한 기준을 제시하는 모습이다. 이를 통해 법이 분쟁을 해결하는 객관적이고 공정한 기준이 된다는 것을 알 수 있다.

04

법은 개인의 권리 보호, 분쟁의 해결 등을 통해 궁극적으로 공공복리를 증진하고 정의를 실현하는 것을 목적으로 한다.

05

제시된 자료의 사진은 청년들이 군대에서 복무하고 있는 모습과 국민이 선거에 참여하는 모습이다. 이는 공적인 생활 관계를 나타내므로 ㉠에 들어갈 법 영역은 공법이다.

오답풀이 ① 공법에는 헌법, 형법, 행정법, 소송법 등이 있다. 민법과 상법은 사법에 속한다. ② 개인 간에 일어나는 일을 규율하는 것은 사법이다. ③, ⑤ 모든 국민의 인간다운 삶 보장을 목적으로 하고, 현대 복지 국가에서 그 중요성이 커지고 있는 것은 사회법이다.

06

제시된 대화의 괄호 안에 공통으로 들어갈 법은 헌법이다. 공법 영역에 속하는 헌법은 한 국가의 최고 법으로, 국민의 권리와 의무, 국가 기관의 구성과 운영 원리 등을 규정하고 있다.

해결의 실마리

사적 생활 영역에 국가가 개입한 법 영역



사회법



노동자의 권리 보호



노동법



최저 임금법, 근로 기준법, 남녀 고용 평등법, 노동조합 및 노동관계 조정법 등

법의 목적

- 정의 실현 : 모든 사람에게 각자가 받아야 할 정당한 몫을 주고자 함
- 공공복리 증진 : 사회 구성원 다수의 행복과 이익을 증진하고자 함

공법의 종류

- 헌법 : 국민의 권리와 의무, 국가의 통치 조직 및 운영 원리 규정
- 형법 : 범죄의 종류, 형벌 규정
- 행정법 : 행정 기관의 조직과 작용, 규제 규정
- 소송법 : 재판의 절차 규정

07

제시문은 사법 영역 중 민법에 관한 설명이다. 민법은 재산권과 계약, 손해 배상, 혼인, 친족, 유언, 상속 등에 관한 사항 등을 규정하면서 개인의 가족생활을 유지하고, 재산권을 보호하는 역할을 한다. ② 세금 납부는 공법 영역 중 세법과 관련이 있다.

08

사회법은 사적인 생활 영역에 국가가 개입하여 만들어진 법 영역이다. 근대 이후 자본주의가 발달하면서 빈부 격차, 노사 갈등, 노동 환경 악화 등의 여러 가지 사회 문제가 발생하였고, 이를 해결하기 위해 국가가 적극적으로 개입하면서 사회법이 등장하게 되었다.

오답풀이 ㄱ. 현대 복지 국가에서 사회법의 중요성이 강조되고 있다. ㄴ은 공법 영역 중 형법에 관한 설명이다.

09

제시된 자료의 빈칸에는 사회법 영역 중 노동법에 속하는 법이 들어가야 한다. ⑤ 독점 규제 및 공정 거래에 관한 법률은 공정한 경제 질서를 유지하고 소비자의 권익을 보호하는 법인 경제법에 속한다.

10

제시된 그림에는 원고, 피고 등이 등장하므로 민사 재판 법정이다. ㄴ. 민사 재판에서 원고는 재판을 청구한 사람이고, 피고는 재판을 받게 되는 사람이다. ㄷ. 민사 재판은 개인 간에 일어난 분쟁을 해결하는 것을 목적으로 한다.

오답풀이 ㄱ. 형사 재판에서는 검사와 피고인이 등장해야 한다. ㄴ. 제시된 그림에는 배심원이 나타나 있지 않다. 공개 재판주의에 따라 일반인들도 방청석에서 재판의 과정과 그 결과를 지켜볼 수 있다.

11

재판은 다양한 분쟁을 예방하고 해결하여 사회 질서를 유지한다. 또한 다른 사람이나 국가 기관에 의해 침해된 국민의 권리를 구제하고 사회 정의를 실현한다.

오답풀이 ㄱ. 재판은 법을 적용하여 옳고 그름을 판단하는 과정이며, 이를 통해서 사회 문제를 해결한다. ㄴ. 분쟁이 발생했을 때 당사자들이 자율적으로 합의하여 해결하는 것이 가장 바람직하다. 하지만 서로 합의하지 못한다면 재판을 통해 해결해야 한다.

12

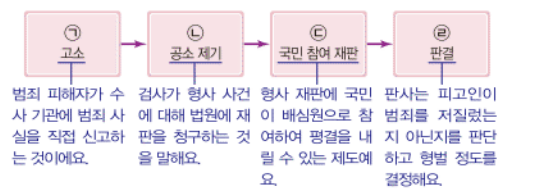
개인 간에 벌어진 돈을 빌려주고 받는 일에 관한 분쟁을 해결하기 위한 재판은 민사 재판이다.

오답풀이 ㄱ. 형사 재판은 범죄 유무와 형벌 정도를 판결하는 재판이다. ③ 선거 재판은 선거와 당선의 유·무효를 결정하는 재판이다. ④ 가사 재판은 가족이나 친족 간의 다툼을 해결하는 재판이다. ⑤ 행정 재판은 행정 기관이 국민의 권리를 침해하였는지를 판단하는 재판이다.

13

제시된 그림은 형사 재판의 절차이다. ㄴ. 공소 제기란 검사가 형사 사건에 대해 법원에 재판을 청구하는 것을 말한다. ㄷ. 형사 재판에서 판사는 관련 법 조항을 적용하여 범죄의 유무와 형벌의 정도에 대한 판결을 내린다.

문제자료 뜯어보기



오답풀이 ㄱ. 고소는 범죄 피해자가 수사 기관에 범죄 사실을 직접 신고하는 것이다. 이때, 범죄 피해자를 원고라고 부르지 않는다. 원고란 민사 재판에서 소송을 제기한 사람을 말한다. ㄷ. 국민 참여 재판에서 배심원은 만 20세 이상의 국민으로 구성되며, 법에 관한 전문 지식을 가지지 않아도 된다.

14

첫 번째 사례에서 A는 자동차 절도죄를 저질렀으므로 범죄 사실을 입증하고 그에 대한 형벌 정도를 판단하는 형사 재판이 이루어져야 한다. 두 번째 사례에서 B와 회사 동료 간에 분쟁을 해결해야 하므로 그에 대한 권리와 의무 관계를 밝히는 민사 재판이 이루어져야 한다. ⑤ A와 B는 모두 재판의 당사자이므로 법정에서 변호사의 법률적인 도움을 받을 수 있다.

오답풀이 ① ㉠은 형사 재판, ㉡은 민사 재판이다. ② ㉠에서 A는 형사 사건으로 기소되어 재판을 받고 있으므로 피고인이 된다. ③ 민사 및 형사 재판의 항소심은 일반적으로 고등 법원에서 이루어진다. 대법원은 상고심을 담당한다. ④ 국민이 배심원으로 참여할 수 있는 국민 참여 재판 제도는 일부 형사 재판에서 실시되고 있다.

15

우리나라에서는 공정한 재판을 위해 사법권의 독립 보장, 심급 제도, 공개 재판주의와 증거 재판주의 등을 채택하여 운영하고 있다.

오답풀이 ㄱ. 한 사건에 대하여 세 번까지 재판을 받게 하는 3심제를 채택하고 있다. ㄷ. 재판의 과정은 재판 당사자 이외의 일반 시민들도 방청할 수 있도록 공개하는 것을 원칙으로 한다.

16

심급 제도란 법원에 급을 두어 한 사건에 대해 여러 번 재판을 받을 수 있게 하는 제도를 말한다. ㄱ. 심급 제도는 하나의 사건에 대해 여러 번 재판을 함으로써 법원이 잘못된 판결을 내릴 가능성을 줄여 국민의 자유와 권리를 보호

형사 재판의 절차
고소, 고발 → 수사 → 검사의 공소 제기(기소) → 검사의 신문, 변호인의 변론 → 판사의 판결



공정한 재판을 위한 제도

- 사법권의 독립 : 법원이 외부의 영향을 받지 않도록 독립시킴
- 공개 재판주의 : 재판의 과정과 결과를 공개함
- 증거 재판주의 : 구체적인 증거를 바탕으로 판결함
- 심급 제도 : 한 사건에 대해 여러 번 재판을 받을 수 있게 함

형사 재판

- 내용 : 범죄 유무, 형벌 정도 판단
- 당사자 : 검사, 피고인

하기 위해 마련되었다. ㄷ. 우리나라에서는 일반적으로 한 사건에 대하여 세 번까지 재판을 받을 수 있는 3심제를 채택하고 있다.

오답풀이 ㄴ. 같은 사건을 세 번 재판하게 되면 재판의 신속성은 낮아지는 대신 재판의 공정성과 객관성을 높일 수 있다. ㄷ. 우리나라에서는 법원을 상급 법원과 하급 법원으로 나누어 하급 법원의 판결에 불만이 있을 경우 재판의 당사자는 상급 법원에 다시 재판을 청구할 수 있다.

17

예시답안 공공복리를 증진하고 사회 정의를 실현한다.

채점 기준	등급	평가 기준
	상	법의 목적으로 '공공복리 증진', '정의 실현'을 모두 서술한 경우
	하	법의 목적으로 '공공복리 증진', '정의 실현' 중 한 가지만 서술한 경우

18

예시답안 민법 / 혼인이나 출생과 같은 개인의 가족 관계 및 아파트 구입과 같은 재산 관계를 규율하기 때문이다.

채점 기준	등급	평가 기준
	상	민법이라고 쓰고, 그렇게 볼 수 있는 이유를 제시된 자료를 토대로 바르게 서술한 경우
	하	사법 영역 또는 민법이라고만 쓴 경우

19

예시답안 심급 제도 / 법원의 잘못된 판결로 발생할 수 있는 국민의 피해를 최소화하고 공정한 재판이 이루어지도록 하는 것을 목적으로 한다.

채점 기준	등급	평가 기준
	상	심급 제도라고 쓰고, 그 목적을 바르게 서술한 경우
	중	심급 제도의 목적만을 바르게 서술한 경우
	하	심급 제도라고만 쓴 경우

20

예시답안 학생들이 준비해야 하는 재판은 형사 재판이다. (가)에서 A는 명예 훼손죄로 B를 고소하였으므로 형사 재판을 통해서 B의 범죄 유무를 판단하고 형벌 정도를 결정해야 한다. (나)에서 법원에 형사 재판을 청구하여 피고인의 처벌을 요구하는 '검사'와 형사 사건으로 기소되어 재판을 받는 '피고인'이 등장한다. 또한 배심원이 등장하는 것으로 보아 국민 참여 재판 제도로 이루어진다는 것을 알 수 있는데, 우리나라에서는 형사 재판에서 국민 참여 재판 제도를 실시하고 있다.

채점 기준	등급	평가 기준
	상	형사 재판이라고 쓰고, 그 근거를 '사건의 내용', '재판의 참여자'를 포함하여 세 가지 이상 서술한 경우
	중	형사 재판이라고 쓰고, 그 근거를 '사건의 내용', '재판의 참여자'를 포함하여 두 가지 서술한 경우
	하	형사 재판이라고 쓰고, 그 근거를 한 가지만 서술한 경우

XII 사회 변동과 사회 문제

1 현대 사회의 변동

학교 시험 적용 문제

▶ 기본학습서 112~115쪽

- 01 ⑤ 02 ③ 03 ② 04 ⑤ 05 ① 06 ④ 07 ③
08 ③ 09 ② 10 ⑤ 11 ④ 12 ① 13 ④ 14 ③
15 사회 변동 16 (가) 정보화, (나) 세계화 17 정보 격차
18 해설 참조 19 해설 참조 20 해설 참조

01

제시문은 과학 기술의 발달로 스마트폰이 등장하면서 우리의 일상생활에 나타난 변화를 보여 준다.

02

(가)에서 양성평등 의식이 확산되어 여성의 사회 진출이 증가한 것은 가치관의 변화로 나타난 사회 변동이다. (나)에서 일본에 원자 폭탄이 투하되어 제2차 세계 대전이 종결되고 식민 지배가 끝난 것은 정치적 사건에 따른 사회 변동이다.

03

현대 사회의 변동은 과거에 비해 훨씬 빠른 속도로 일어나고 있고 변동이 미치는 범위는 과거보다 확대되고 있으며, 생활 전반에 걸쳐 다차원적인 변동이 나타나고 있다. ③ 사회 변동의 속도나 양상은 사회마다 다르다.

04

제시문에 따르면 인류의 역사를 하루로 생각했을 때 마지막 30초간 일어난 변화는 이전의 모든 변화와 맞먹을 정도로 크다. 이는 현대 사회로 올수록 사회 변동의 속도가 점차 빨라지고 있음을 보여 준다.

05

제시문의 괄호 안에 들어갈 사회 변동의 양상은 산업화이다. 산업화는 전체 산업에서 공업이 차지하는 비율이 높아지고 그에 따라 생활 양식이 변화하는 현상이다.

06

농업 사회가 산업 사회로 변한 것은 산업화 때문이다. ④ 산업 사회에서는 소품종 대량 생산 방식으로 획일화된 제품을 생산하였다. 제품 생산에 소비자의 다양한 의견이 반영되는 것은 정보화에 따른 영향이다.

07

제조업의 비중이 꾸준히 증가하였으므로 산업화가 진행되었음을 알 수 있다. 1975년에서 1985년 사이 산업화로 도시 지역에 일자리가 늘면서 농촌의 인구가 도시로 이동하여 도시화가 심화되었을 것이다.

사회 변동

- 의미 : 사회의 모습이나 질서에 일정한 규모 이상의 변화가 나타나는 현상
- 요인 : 과학 기술의 발달, 가치관과 제도의 변화, 정부 정책, 인구 변화, 자연 환경의 변화, 문화 전파 등

현대 사회 변동의 특징

- 가속성 : 변동 속도가 점점 빨라지고 있음
- 광범위성 : 변동이 미치는 범위가 넓어지고 있음

해결의 실마리

인터넷 이용률이 높아지고 있음

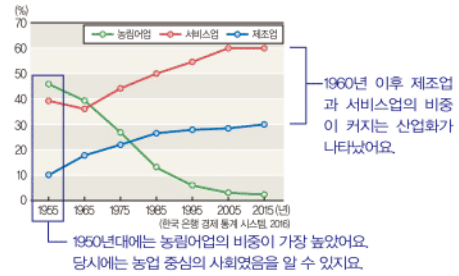


정보화



- 지식·정보 산업 발달
- 다품종 소량 생산
- 개인의 개성과 창의성 중시
- 가상 공간에서의 인간 관계 형성

문제자료 뜯어보기



해답풀이 ① 서비스업의 비중은 점차 증가하였다. ② 농림어업의 비중은 점차 감소하였다. ④ 지속적으로 농업의 비중이 감소하였고, 제조업과 서비스업의 비중이 높아졌으므로 공업 중심의 사회로 변화하였다고 볼 수 있다. ⑤ 1990년대에는 서비스업의 비중이 50%를 넘었다.

08

산업화 이후 빈부 격차, 노사 갈등, 도시로의 인구 집중과 도시와 농촌의 격차, 가치관의 혼란과 전통적 가족 제도 붕괴 등의 문제가 나타났다. ③ 사이버 범죄는 정보화로 나타날 수 있는 문제점이다.

09

정보화가 진행되면 SNS를 활용하여 정보를 공유하고, 시간과 공간의 제약 없이 자유롭게 의사소통할 수 있다. 또한 전자 상거래가 확산되어 인터넷 쇼핑이나 모바일 쇼핑이 가능해져 생활이 보다 편리해진다. ②는 산업화가 가져온 생활의 변화이다.

10

제시된 그래프는 정보화와 관련 있다. 정보화는 정보 통신 기술과 인터넷의 발달로 정보와 지식을 중심으로 인간 활동이 이루어지는 현상이다.

해답풀이 ㄱ. 정보화가 진행되면 지식·정보 산업이 경제를 주도한다. ㄴ. 정보 사회에서는 다품종 소량 생산 방식이 일반적이다.

11

정보화가 이루어지면 개인 정보가 쉽게 유출되어 사생활 침해 문제가 발생한다. 또한 정보 격차, 사이버 범죄, 인터넷 중독과 같은 문제가 나타난다.

해답풀이 ㄱ은 산업화에 따른 특징이다. ㄴ은 세계화로 발생할 수 있는 문제점이다.

12

전 세계가 하나의 공동체로 통합되는 세계화가 이루어지면 국가 간 상호 의존도가 높아지고 개인과 국가의 활동 영역이 전 세계로 확대된다. 또한 국가 간 문화 교류가 늘고 민주주의 이념이나 제도가 세계 곳곳으로 확산된다. ① 세계화가 진행되면 국경의 의미가 약해진다.

13

그림의 A에는 세계화의 부정적 영향이 들어가야 한다.

오답풀이 ㄱ. 세계화로 환경 문제 등과 같은 사회 문제를 해결하기 위한 국제적 협력이 늘고 있다. ㄴ은 세계화의 긍정적 측면에 해당한다.

14

(가) 정보화가 진행되면 정보 통신 기술을 활용하여 원하는 정보를 손쉽게 획득하는 등 생활이 편리해진다. (나) 세계화가 진행되면서 지구촌으로 교류 범위가 확장되어 전 세계를 무대로 기업 활동이 이루어지고, 다국적 기업의 제품이 세계 곳곳에서 생산, 소비된다.

15

시간이 흐르면서 사회의 모습이나 질서에 일정한 규모 이상의 변화가 나타나는 현상을 사회 변동이라고 한다.

16

(가)에서 스마트폰을 이용한 쇼핑이 늘어나는 것은 정보화와 관련이 있다. (나)에서 국가 간 교역의 규모가 커지는 것은 세계화와 관련이 있다.

17

정보에의 접근이나 정보 활용 등의 차이로 경제적·사회적 격차가 발생하는 것을 정보 격차라고 한다.

18

예시답안 산업화 / 빈부 격차가 심화되었다. 도시로 인구가 집중되고 도시와 농촌의 격차가 심화되었다 등

채점기준	등급	평가 기준
	상	산업화라고 쓰고, 그 문제점을 두 가지 서술한 경우
	중	산업화라고 쓰고, 그 문제점을 한 가지만 서술한 경우
	하	산업화라고만 쓴 경우

19

예시답안 정보화 / 정보 격차가 나타날 수 있다. 개인 정보가 유출되어 사생활 침해가 나타날 수 있다. 인터넷 중독이나 사이버 범죄의 우려가 있다 등

채점기준	등급	평가 기준
	상	정보화라고 쓰고, 그 문제점을 두 가지 서술한 경우
	중	정보화라고 쓰고, 그 문제점을 한 가지만 서술한 경우
	하	정보화라고만 쓴 경우

20

예시답안 세계화로 서구 문화가 확산되어 전 세계의 생활 양식이 비슷해지는 문화의 획일화가 나타난다.

채점기준	등급	평가 기준
	상	세계화로 서구 문화가 확산되어 문화의 획일화가 나타난다는 맥락으로 서술한 경우
	하	문화가 획일화된다고만 서술한 경우

세계화의 영향

- 긍정적 영향 : 소비자의 상품 선택의 폭 확대, 다양한 문화 접촉 기회 증가, 국제적 협력 증가 등
- 부정적 영향 : 약소국의 문화 약화 및 문화의 획일화, 국가 간 경제적 격차 심화 등

저출산 현상

- 원인 : 여성의 사회 진출 증가 및 맞벌이 부부의 증가, 자녀 양육의 경제적 부담 증가, 혼인과 자녀에 대한 가치관 변화 등
- 문제점 : 노동력 부족, 경제 성장 둔화, 국가 경쟁력 약화, 사회의 안정적 유지 곤란 등

정보화의 문제점

- 정보 격차
- 개인 정보 유출 및 사생활 침해
- 사이버 범죄
- 인터넷 중독

2

한국 사회 변동의 최근 경향

3

현대 사회의 사회 문제

학교시험격중 문제

▶ 기본학습서 118~121쪽

01 ⑤ 02 ① 03 ③ 04 ① 05 ② 06 ④ 07 ①
08 ② 09 ⑤ 10 ④ 11 ② 12 ④ 13 ③ 14 ③
15 다문화 사회 16 ㉠ 개발 도상국, ㉡ 선진국
17 ㉠ 노사 갈등, ㉡ 실업 문제 18 해설 참조 19 해설 참조 20 해설 참조

01

최근 우리 사회에서는 출산율이 낮아지고 전체 인구에서 노인 인구가 차지하는 비율이 증가하는 저출산·고령화 현상이 나타나고 있다.

02

저출산·고령화 현상은 여성의 사회 진출 증가, 자녀 양육의 경제적 부담 증가, 적은 수의 자녀를 선호하는 가치관 확산, 의료 기술의 발달과 생활 수준의 향상으로 인한 평균 수명 증가 등이 원인이 되어 나타났다.

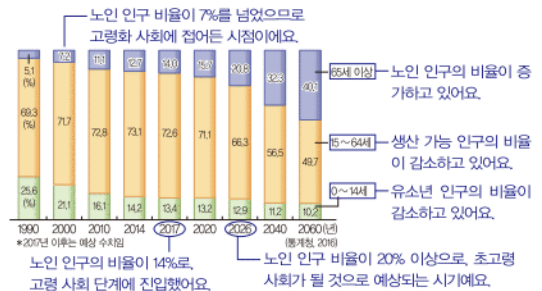
03

제시된 그래프는 합계 출산율이 지속적으로 떨어지고 있는 추세를 보여 주므로 저출산 현상을 나타낸다. 저출산은 자녀 양육의 경제적 부담 증가, 혼인과 자녀에 대한 인식 변화 등이 원인이 되어 나타났다. ③ 저출산 현상이 지속되면 장기적으로 인구 감소로 이어질 수 있다.

04

제시된 그래프는 유소년 인구 비율이 줄어들고 65세 이상 노인 인구 비율이 증가하는 추세를 보여 준다. 이를 통해 저출산·고령화 현상이 심화되고 있음을 알 수 있다.

문제자료 뜯어보기



오답풀이 ㄴ. 노인 인구가 증가하면 청년층의 노인 인구 부양에 대한 부담이 커지면서 세대 간 갈등이 늘어났다. ㄹ. 노인의 빈곤·질병·소외 문제 등이 증가한다.

05

제시된 신문 기사에는 육아 휴직 제도를 확대하여 여성들이 경력 단절에 대한 걱정 없이 출산할 수 있도록 지원하는 정부의 정책이 나타나 있다. 이는 저출산 문제를 해결하기 위한 정부의 대응 방안이다.

06

제시문의 밑줄 친 '정책'은 고령화에 따른 안정적인 노후 생활을 보장하기 위한 제도적 방안이다. ④ 육아 휴직 제도 확대는 저출산 문제를 해결하기 위한 방안이다.

07

제시된 그래프는 국내에 거주하는 외국인이 늘어나고 있음을 보여 주며, 이를 통해 우리 사회가 다문화 사회로 변화하고 있음을 알 수 있다. ① 외국인 노동자들의 국내 유입은 우리나라의 노동력 부족 문제를 해결하는 데 기여한다.

08

다문화 사회에의 대응 방안으로 이주 여성의 정착 생활 지원, 외국인 노동자의 근로 여건 개선 등을 들 수 있다.

오답풀이 ◀ 나. 이주민들의 문화를 인정하고 존중하며, 서로의 문화를 이해하는 데 도움이 되는 다문화 교육을 실시해야 한다. 라. 단일 민족주의를 지양하고, 이주민에 대해 개방적 태도를 가져야 한다.

09

사회 문제는 발생 원인이 사회에 있고 사회 구성원 대다수가 바람직하지 않다고 여겨 개선해야 한다고 인식하는 현상 중 인간의 노력으로 해결 가능한 문제이다.

오답풀이 ◀ 가. 사회 문제는 인간의 노력으로 해결 가능해야 한다. 나. 사회 문제는 상대적이어서 시대와 장소에 따라 달라질 수 있다.

10

사회 문제는 사회 구성원 다수가 개선해야 한다고 인식하는 사회 현상으로, 인간의 노력으로 해결 가능해야 한다. ④의 저출산 현상은 우리 사회가 직면한 사회 문제이다.

11

A국은 저출산·고령화 현상이 나타나는 선진국, B국은 인구의 폭발적 증가를 겪고 있는 개발 도상국이다.

오답풀이 ◀ 나. 생산 가능 인구가 감소하여 경제 성장이 둔화될 염려가 있는 나라는 A국이다. 다. 제시된 자료만으로는 전체 인구 규모를 알 수 없다.

12

현대 우리 사회에서는 남성과 여성의 임금 격차 문제, 외국인 노동자에 대한 임금 차별 문제, 청년 실업 문제, 노사 갈등 등의 문제가 나타나고 있다. ④ 고용 불안 문제는 비정규직 노동자의 비율이 높아지면서 심화되었다.

해결의 실마리

육아 휴직 제도 확대



출산 장려 정책



저출산 문제 해결을 위한 사회적·제도적 노력

다문화 사회의 형성 배경

- 외국인 노동자 유입
- 국제결혼 이민자 유입
- 외국인 유학생 증가
- 북한 이탈 주민 유입

사회 문제

- 의미 : 사회 구성원 대다수가 문제라고 여겨 개선해야 한다고 생각하는 사회 현상 중 인간의 노력으로 해결 가능한 것
- 특징 : 시대나 장소에 따라 달라지는 상대성을 지님

해결의 실마리

A국 : 인구 증가율이 계속 낮음



출산율이 낮은 선진국



B국 : 인구 증가율이 지속적으로 높아짐



출산율이 높은 개발 도상국

13

브라질 리우 회의와 교토 의정서는 지구 온난화와 같은 환경 문제를 해결하기 위한 국제적인 협력의 사례이다.

14

제시된 내용은 인구 문제, 환경 문제, 노동 문제와 같은 사회 문제를 해결하기 위한 사회적·제도적 차원의 노력들이다.

15

서로 다른 인종, 민족, 종교적 배경을 갖고 있는 사람들이 함께 살아가는 사회를 다문화 사회라고 한다.

16

개발 도상국에서는 폭발적인 인구 증가, 선진국에서는 인구 감소와 고령화에 따른 문제가 나타나고 있다.

17

현대 사회에서 나타나는 노동 문제로는 노사 갈등, 임금 문제, 실업 문제, 비정규직 노동자의 고용 불안 등이 있다.

18

예시답안 저출산 / 영유아 보육비 지원, 육아 휴직 제도 확대 등의 출산 장려 정책을 실시한다. 양성평등 문화를 확립하고 일과 가정을 양립할 수 있는 문화를 확산시킨다 등

채점 기준	등급	평가 기준
	상	저출산이라고 쓰고, 그 해결 방안을 두 가지 서술한 경우
	중	저출산이라고 쓰고, 그 해결 방안을 한 가지만 서술한 경우
	하	저출산이라고만 쓴 경우

19

예시답안 1980년대에는 인구 과잉 문제 해결을 위해 산아제한 정책을, 2000년대에는 저출산 문제 해결을 위해 출산 장려 정책을 실시한 것으로 보아 우리나라의 인구 문제가 시대에 따라 변화하였음을 알 수 있다. 이처럼 사회 문제는 시대에 따라 달라질 수 있는 상대성을 갖는다.

채점 기준	등급	평가 기준
	상	1980년대와 2000년대의 인구 문제 차이점을 언급하고, 사회 문제의 상대성에 대해 바르게 서술한 경우
	하	사회 문제는 상대적이라고만 쓴 경우

20

예시답안 지구 온난화 / 개인적 차원에서는 에너지 소비를 줄이는 습관을 가져야 하고, 제도적 차원에서는 온실가스 배출량을 규제하는 정책을 마련해야 한다.

채점 기준	등급	평가 기준
	상	지구 온난화라고 쓰고, 그 해결 방안을 개인적 차원과 제도적 차원으로 나누어 서술한 경우
	중	지구 온난화라고 쓰고, 그 해결 방안을 한 가지 측면에서만 서술한 경우
	하	지구 온난화라고만 쓴 경우

대단원 완성문제

▶ 기본학습서 125~128쪽

01 ③ 02 ③ 03 ⑤ 04 ② 05 ④ 06 ② 07 ④
08 ① 09 ④ 10 ③ 11 ① 12 ⑤ 13 ④ 14 ③
15 ⑤ 16 ⑤ 17 해설 참조 18 해설 참조 19 해설
참조 20 해설 참조

01

제시된 그림은 인류의 역사를 12시간으로 압축하여 각 시기의 주요 발명품을 나타낸 발명 시계이다. 발명 시계를 통해 현대 사회 변동의 가장 주된 요인은 과학 기술의 발달이며, 현대로 올수록 사회 변동의 속도가 점점 빨라지고 있다는 것을 알 수 있다.

02

제시된 그래프는 인터넷 이용자 수가 늘어나고 있음을 보여 주며, 이는 정보화와 관련 있다. ③ 정보화가 진행되면 지식·정보 산업이 발달하게 된다.

오답풀이 ①, ②, ④ 대량 생산과 대량 소비의 확산, 인구 증가와 도시화 촉진 등은 전체 산업에서 공업이 차지하는 비율이 증가하는 현상인 산업화와 관련 있다. ⑤ 정보화가 진행되면 직접 대면하지 않고 가상 공간에서의 비대면 접촉을 통한 인간관계가 늘어난다.

03

산업화는 도농 격차, 노사 갈등, 환경 오염, 빈부 격차, 인간 소외, 전통적 가치 약화 등의 문제를 유발하였다. ⑤는 정보화로 나타나는 사회 문제이다.

04

제시된 사례는 현대 사회에서 나타나는 세계화의 모습을 보여 준다. 세계화가 진행되면 노동력, 자원, 기술, 물자 등이 보다 자유롭게 이동하고 개인의 활동 영역이 전 세계로 확대된다. 따라서 외국에 있는 학교에서 공부하고 외국 기업에 취업하는 경우가 많아진다.

05

제시된 그래프는 출산율이 낮아지고 출생아 수가 줄어드는 추세를 보여 주므로 저출산 현상을 나타낸다. 저출산 현상은 결혼과 가족에 대한 가치관 변화, 여성의 경제 활동 증가, 자녀 양육의 경제적 부담 증가, 결혼 연령의 상승, 산업화를 거치면서 아이를 적게 낳으려는 경향이 늘어난 것 등이 원인이 되어 나타났다.

06

제시된 그래프는 노년 인구의 비율이 늘어나는 것을 나타내므로 고령화 현상을 보여 준다. 고령화 현상이 나타나면 노인의 빈곤 문제, 질병 문제, 소외 문제 등이 증가할 수 있고, 노인 부양에 대한 부담이 늘어 이와 관련한 정부의 재정 지출 또한 증가할 것이다.

정보화

- 의미 : 정보 통신 기술의 발달로 지식과 정보가 생활의 중심이 되는 사회로 변화하는 현상
- 특징 : 지식·정보 산업 발달, 다품종 소량 생산, 개인의 개성과 창의성 중시, 가상 공간에서의 인간 관계 형성 등

해결의 실마리

출산을 꺼리는 이유를 조사한 설문 조사

여성의 육아 부담 경향이 높기 때문이라는 응답이 가장 많음

육아를 남녀가 동등하게 해야 한다는 생각 필요

고령화 현상

- 원인 : 의료 기술 발달, 생활 수준의 향상 등으로 평균 수명 증가
- 문제점 : 노동력 부족, 노인 부양 비용 증가, 국가 재정 부담 증가, 각종 노인 문제, 세대 간 갈등 증가 등

문제자료 뜯어보기

경제 활동이 가능한 15~64세 인구를 말해요.



오답풀이 ㄴ. 생산 가능 인구의 감소와 인구의 고령화는 노동력 부족으로 이어져 경제 성장이 둔화될 수 있다. ㄹ. 전체 인구에서 유소년 인구가 차지하는 비율은 감소할 것이다.

07

제시된 대화의 갑은 육아를 여성의 역할로 여기는 경향이 높아서 여성들이 출산을 꺼리고 있음을 지적하고 있다. 따라서 을의 답변에는 부모가 동등하게 육아에 동참하도록 의식을 개선해야 한다는 ④의 방안이 들어가는 것이 적절하다.

오답풀이 ① 여성의 사회 진출을 제한하는 것은 저출산을 해결하는 적절한 방안으로 보기 어렵다. ②, ③, ⑤는 출산율을 높이는 방안이지만 ㄱ에 들어가기에는 적절하지 않다.

08

고령화 현상에 대처하기 위해서는 평생 교육 지원, 노년층의 일자리 확대, 노인 편의 시설 확대, 노인 연금 제도 개선, 의료 서비스를 통한 건강 보장 등 노년층을 위한 정책을 실시해야 한다. ① 안정적인 노후 생활을 위해서는 노동자의 정년이 단축되어서는 안 된다.

09

우리 사회는 외국인 노동자, 국제결혼 이주자, 외국인 유학생, 북한 이탈 주민 등의 국내 유입이 늘면서 다문화 사회로 변화하였다. ④ 세계화의 흐름 속에서 경제 개방이 빠르게 진행되어 외국 기업의 국내 진출이 활발하게 이루어지고 있는 점도 우리 사회가 다문화 사회로 변화하는 데 영향을 미쳤다.

10

제시된 그래프는 국내 거주 외국인의 수와 비율이 늘어나고 있음을 보여 준다. 이는 우리 사회가 다문화 사회로 변화하고 있음을 나타낸다. 다문화 사회가 되면 우리 사회의 문화적 환경이 다양해지는 반면, 이주민의 사회 적응 등에 필요한 사회적 비용이 증가한다.

오답풀이 ㄱ. 조기 유학을 떠나는 내국인이 늘어나는 것은 해외에 거주하는 우리 국민의 수가 증가하는 요인이 된다. ㄹ. 외국인 노동자의 유입은 국내 3D 업종의 노동력 부족 문제 해결에 기여한다.

11

사회 문제는 발생 원인이 사회에 있고 사회 구성원 다수가 개선해야 한다고 인식하는 현상으로, 인간의 노력으로 해결 가능해야 한다. ① 홍수와 같은 자연재해는 인간의 노력으로 해결하기 어렵기 때문에 사회 문제에 해당하지 않는다.

12

개발 도상국은 주로 인구의 폭발적 증가로 기아와 빈곤, 주택 부족 등의 문제를 겪는다. 따라서 한 자녀 갖기 운동과 같은 출산 억제 정책을 시행하고, 식량 증산과 주택 보급 확대와 같은 방안을 통해 인구 문제를 해결해야 한다.

오답풀이 ◀ ㄱ은 노동력 부족 문제, ㄴ은 선진국에서 발생하는 저출산 문제에 대한 해결 방안이다.

13

표에 제시된 독일과 프랑스의 저출산 대책은 경제적인 측면의 지원 정책들이다. 이를 통해 추론할 수 있는 저출산의 원인은 출산이나 양육에 대한 경제적 부담이다.

오답풀이 ◀ ①, ②, ③, ⑤는 모두 저출산을 초래하는 원인에 해당하지만 표에 제시된 내용과는 관련이 없다.

14

제시된 사례에 나타난 근로 형태별 임금 차별과 비정규직 노동자의 고용 불안과 같은 문제는 노동 문제에 해당한다.

오답풀이 ◀ ① 인구 문제는 선진국에서는 저출산·고령화로 인한 문제가 나타나고, 개발 도상국에서는 높은 출산율로 인한 문제가 나타난다. ② 환경 문제는 지구 온난화, 사막화, 황사, 이상 기후 등의 현상이 나타나는 문제이다. ④, ⑤ 도시 문제는 도시로 인구가 집중되어 나타나는 주택 부족, 교통 문제 등이다.

15

산업화가 진행되면서 무분별한 화석 연료의 사용으로 온실가스의 배출이 증가하여 지구의 표면 온도가 올라가는 지구 온난화 현상이 발생하였다.

16

제시문은 환경 문제를 지적하고 있다. 환경 문제의 해결을 위해 개인적 차원에서는 에너지 소비를 줄이는 습관을 갖거나 쓰레기 분리수거를 실천하는 등의 노력을 해야 하고, 사회적 차원에서는 폐수 처리 시설 확충, 온실가스 감축, 신·재생 에너지 개발 등의 방안을 마련해야 한다. ⑤는 농촌과 도시 간의 격차 문제를 해소하기 위한 방안이다.

17

예시답안 세계화 / 긍정적인 영향으로는 소비자가 상품을 선택할 수 있는 폭이 넓어지고, 세계의 다양한 문화를 접할 수 있다는 점을 들 수 있다. 부정적 영향으로는 국가 간 경제적 격차가 커지고, 지역의 고유문화가 약화되거나 문화의 획일화가 나타날 수 있다는 점을 들 수 있다.

세계의 인구 문제

- 선진국 : 저출산·고령화에 따른 인구 감소 문제
→ 경제 성장 둔화, 노동력 부족, 노인 부담 증가 등
- 개발 도상국 : 높은 출산율에 따른 폭발적 인구 증가 문제
→ 기아와 빈곤 문제, 일자리와 각종 시설 부족 등

노동 문제

- 노사 갈등 : 임금 인상 근로 조건 개선 등을 둘러싼 노동자와 사용자의 대립
- 임금 문제 : 여성·외국인·비정규직 노동자에 대한 임금 차별 문제, 저임금 문제
- 실업 문제 : 일할 의사와 능력을 가지고 있는 사람이 일자리를 얻지 못하는 문제

세계화

- 의미 : 전 세계가 하나의 생활 단위로 통합되어 국가 간 상호 의존성이 높아지는 현상
- 배경 : 교통과 정보 통신 기술의 발달

채점 기준	등급	평가 기준
	상	세계화라고 쓰고, 긍정적 영향과 부정적 영향을 각각 두 가지씩 바르게 서술한 경우
	중	세계화라고 쓰고, 긍정적 영향과 부정적 영향을 각각 한 가지만 바르게 서술한 경우
	하	세계화라고 쓰고, 그 영향을 한 측면에서만 서술한 경우

18

예시답안 여성의 사회 진출 증가, 자녀 양육의 경제적 부담 증가 등으로 출산율이 낮아졌고, 의료 기술의 발달, 생활 수준의 향상으로 평균 수명이 늘어나면서 유소년 인구의 비율은 감소하고, 노년 인구의 비율은 증가하게 되었다.

채점 기준	등급	평가 기준
	상	저출산·고령화 현상의 원인을 출산율 저하 원인과 노년 인구 비율 증가 원인을 모두 고려하여 서술한 경우
	하	저출산·고령화 현상의 원인을 저출산 혹은 고령화의 한 가지 측면에서만 서술한 경우

19

예시답안 노동 문제 / 노동 문제의 해결을 위해서는 노동자와 사용자 간 대화와 타협이 이루어져야 하고, 부당한 노동 행위를 규제해야 하며, 일자리를 창출해야 한다.

채점 기준	등급	평가 기준
	상	노동 문제라고 쓰고, 그 해결 방안을 바르게 서술한 경우
	하	노동 문제라고 쓴 경우

20

예시답안 (가)는 우리 주변에서 찾아볼 수 있는 다문화 사회의 모습이고, (나)는 취업, 결혼, 유학 등의 이유로 국내로 유입된 외국인이 늘었음을 보여 준다. 이를 통해 한국 사회가 인종, 민족, 종교, 문화적 배경이 다양한 사람들이 공존하는 다문화 사회로 변화하고 있음을 알 수 있다. 이러한 변화로 서로 다른 문화가 충돌하여 나타나는 갈등, 이주민에 대한 사회적 편견과 차별로 생기는 갈등, 이주민의 사회 적응 과정 상의 문제, 외국인 노동자에 대한 낮은 처우 문제 등의 문제가 나타날 수 있다. 이러한 문제를 해결하기 위해서는 이주민을 우리 사회의 구성원으로 인정하고, 문화적 차이를 존중하는 태도를 길러야 하며, 서로의 문화에 대한 이해를 도울 수 있는 다문화 교육을 체계적으로 실시해야 한다. 또한 이주 여성의 정착 생활 지원과 다문화 가정 자녀의 학교 교육 지원 등 이주민의 사회 적응을 위한 사회적 지원 서비스, 외국인 노동자의 근로 여건 개선을 위한 제도 등을 마련해야 한다.

채점 기준	등급	평가 기준
	상	(가)와 (나)를 분석하여 다문화 사회로의 변화를 지적하고, 그로 인한 문제점과 해결 방안을 구체적으로 서술한 경우
	중	(가)와 (나)를 분석하여 다문화 사회로의 변화를 지적했으나, 그로 인한 문제점과 해결 방안의 내용이 다소 미흡한 경우
	하	다문화 사회로의 변화를 지적했으나, 그로 인한 문제점과 해결 방안 중 한 가지 측면만을 서술한 경우



VII

개인과 사회생활

필수 문제로 **학교시험 대비하기**

▶ 시험대비서 02~05쪽

01 ② 02 ④ 03 ① 04 ⑤ 05 ④ 06 ⑤ 07 ②
08 ⑤ 09 ④ 10 ④ 11 ③ 12 ② 13 ④ 14 ⑤
15 ③ 16 ④ 17 ③ 18 ⑤ 19 ③ 20 ② 21 해
설 참조 22 해설 참조 23 해설 참조

01

사회화된 행동이란 한 사회의 구성원으로서 지식, 규범, 가치, 행동 양식 등을 습득하여 이루어지는 행동을 말한다. ② 재채기를 하는 것은 본능적인 행동이다.

02

사회화를 통해 개인은 개성과 자아를 형성하고, 자신이 속한 사회의 행동 양식을 습득하여 적응함으로써 그 사회의 구성원으로 성장해 나간다.

오답풀이 ㄱ, ㄴ은 사회적 측면에서의 사회화 기능에 해당하는 내용이다.

03

변화된 환경에 적응하기 위해 새로운 지식이나 기술, 생활 양식 등을 다시 배우는 과정을 재사회화라고 한다.

04

또래 집단은 비슷한 연령의 친구 모임으로, 놀이를 통해 집단생활의 규칙과 질서 의식 등을 학습하는 사회화 기관이다.

05

대중 매체는 대중에게 지식과 정보를 제공하는 사회화 기관으로서 현대 사회에서 그 영향력이 커지고 있다.

오답풀이 ㄹ ① 놀이를 통해 규칙을 학습하게 하는 사회화 기관은 또래 집단이다. ② 사회화를 목적으로 만들어진 공식적 사회화 기관은 학교이다. ③, ⑤ 유아기에 가장 중요한 역할을 하고, 기초적인 생활 습관 형성을 담당하는 사회화 기관은 가정이다.

06

㉞는 가정, ㉡는 직장을 나타낸다. ⑤ 가정과 직장은 모두 사회화를 담당하지만, 사회화를 목적으로 만들어진 기관이 아니므로 공식적 사회화 기관에 해당하지 않는다.

07

청소년기에는 신체적 변화가 크고 외모와 이성에 대한 관심이 증가한다. 또한 심리적으로 부모로부터 독립하려는 경향이 나타나 스스로 판단하고 행동하려고 한다.

오답풀이 ㄴ. 청소년기에는 또래 집단에 대해 강한 유대

지위의 종류

- 귀속 지위 : 태어나면서부터 자연적으로 갖게 되는 지위
- 성취 지위 : 개인의 의지나 능력, 노력을 통해 후천적으로 획득하는 지위

해결의 실마리

신문, 라디오, 텔레비전, 인터넷



사회화 기관 중
대중 매체



지식과 정보 제공

소속감에 따른 사회 집단의 구분

- 내집단 : 소속되어 있으면서 소속감을 느끼는 집단
- 외집단 : 소속되어 있지 않으면서 이질감이나 적대감을 느끼는 집단

감과 친밀감을 느낀다. ㄷ. 청소년들은 어른들과 다른 관점에서 세상을 바라보려 한다.

08

그림의 A에 해당하는 개념은 '자아 정체성'이다. ⑤ 자아 정체성을 형성하는 데에는 개인적 특성뿐만 아니라 사회적 관계, 문화적 환경 등 외부 요인의 영향도 받는다.

09

㉞는 성취 지위, ㉡는 귀속 지위이다. ④ '노인'은 선택할 수 없고, 자연적으로 얻게 되므로 귀속 지위에 해당한다.

10

④의 '남편'은 개인의 의지나 노력에 의해 후천적으로 획득하는 성취 지위이고, 나머지는 태어나면서부터 결정되는 귀속 지위이다.

11

주변이라는 지위에 기대되는 역할은 동일하지만 사람마다 실제로 그 역할을 수행하는 방식(역할 행동)은 다르게 나타날 수 있다.

오답풀이 ㄱ ① ㉞ 주변은 효재가 후천적으로 얻게 된 성취 지위이다. ② ㉡은 주변에게 기대되는 역할이다. ④ 역할을 충실히 수행하지 못했으므로 ㉡에는 '제재'가 적절하다. ⑤ ㉡은 개인이 지위에 기대되는 역할을 실제로 어떻게 수행했는지, 즉 ㉡과 같은 역할 행동에 따라 결정된다.

12

친구라는 지위에 따른 역할과 손녀라는 지위에 따른 역할이 서로 충돌하고 있는 역할 갈등 상황이다.

13

축제 관광객들이나 월드컵 경기 관광객들은 두 사람 이상이지만 그들 사이에 지속적인 상호 작용이 이루어지지 않고 소속감이 없기 때문에 사회 집단이라고 볼 수 없다.

14

가족은 구성원 간에 친밀한 대면 접촉이 이루어지고, 개인의 정체성 형성에 중요한 역할을 하는 1차 집단에 해당한다.

오답풀이 ㄱ. 가족은 공동 사회로 분류된다. ㄴ은 2차 집단에 관한 설명이다.

15

지수에게 있어 1반은 내집단에 해당하고, 2반은 외집단에 해당한다. 외집단의 존재는 내집단의 결속력을 높여 준다. ③ 학교는 목적 달성을 위해 구성원 간에 수단적 상호 작용이 이루어지는 2차 집단에 해당한다.

16

회사, 정당은 특정한 목적을 달성하기 위해 형식적이고 수단적인 만남이 이루어지는 2차 집단에 해당한다.

오답풀이 ㄱ ① 2차 집단은 현대 사회에서 그 비중이 확대되고 있다. ②, ③, ⑤는 1차 집단에 관한 설명이다.

17

ㄴ, ㄷ. 개인과 사회 집단은 밀접한 관계를 맺으며 서로에게 영향을 주고받는 상호 의존 관계를 형성하고 있다.

18

ㄷ, ㄹ. 인종에 따라 취업을 제한하는 것, 비정규직 근로자에게만 부당한 대우를 하는 것은 차별에 해당한다.

오답풀이 ㄱ과 ㄴ은 합리적 이유가 있으므로 차별에 해당하지 않는다.

19

차별은 차별받는 개인의 인권을 침해하고, 정신적·물질적인 피해를 입게 하며, 이들의 사회 적응을 어렵게 한다. 또한 사회 집단 간의 갈등을 초래하여 사회 통합을 저해한다.

20

외국인 근로자의 노동에 정당한 임금을 지불하지 않는 것은 국적에 따른 차별이다. 이러한 차별을 예방하기 위해서는 외국인 근로자에 대한 차별을 금지하는 법과 제도의 시행, 차이를 인정하고 외국인 근로자의 권리를 존중하는 노력 등이 필요하다. ② 외국인 근로자를 추방하는 것은 적절한 해결 방안으로 보기 어렵다.

21

예시답안 일란성 쌍둥이 형제는 유전적으로 비슷하지만 사회화의 내용과 방식이 서로 달라서 다른 성격과 행동 방식을 갖게 되었다.

채점기준	등급	평가 기준
	상	사회화의 내용과 방식이 달랐기 때문이라고 서술한 경우
	하	서로 다른 사회에서 자랐기 때문이라고 쓴 경우

22

예시답안 지위에 기대되는 역할을 잘 수행하면 그에 따른 보상을 받고, 역할을 제대로 수행하지 못하면 제재를 받을 수 있다.

채점기준	등급	평가 기준
	상	역할을 잘 수행하면(역할 행동을 잘하면) 보상을 받고 그렇지 않으면 제재를 받는다고 서술한 경우
	하	역할 수행에 따라 결과가 다르다고만 쓴 경우

23

예시답안 준거 집단 / 값은 소속 집단과 준거 집단이 일치하여 소속 집단에 만족을 느끼고 있고, 읍은 소속 집단과 준거 집단이 일치하지 않아서 소속 집단에 불만을 갖고 있다.

채점기준	등급	평가 기준
	상	준거 집단이라고 쓰고, 값과 읍의 상황을 정확하게 서술한 경우
	중	준거 집단이라고 쓰고, 값은 소속 집단과 준거 집단이 일치하고, 읍은 소속 집단과 준거 집단이 불일치한다고만 서술한 경우
	하	준거 집단이라고만 쓴 경우

차별의 문제점

- 개인적 차원 : 인권 침해, 차별받는 당사자의 고통과 소외감, 물질적 피해, 사회 부적응
- 사회적 차원 : 사회 구성원 간의 대립과 갈등 발생 → 사회 통합과 발전 저해

해결의 실마리

학교



공식적 사회화 기관



지식과 기술, 규범 등을 체계적으로 학습

자아 정체성

- 의미 : 자신만의 고유성을 깨닫고 자신이 누구인지 명확히 인식하는 것
- 형성 : 자신의 노력, 외부의 여러 요인과 상호 작용을 통해 형성됨 → 청소년기는 자아 정체성이 형성되는 중요한 시기

실전 문제로 등급 올리기

▶ 시험대비서 06~09쪽

01 ④ 02 ② 03 ③ 04 ④ 05 ③ 06 ④ 07 ①
08 ② 09 ⑤ 10 ④ 11 ① 12 ③ 13 ④ 14 ②
15 ③ 16 ③ 17 ② 18 ③ 19 ④ 20 ⑤ 21 해
설 참조 22 해설 참조 23 해설 참조

01

인간은 사회화를 통해 동물적인 본능을 통제하고 자신이 속한 사회에서 요구되는 행동 양식을 습득하여 사회적 존재로 성장하게 된다.

02

인간은 인생의 시기별로 습득해야 할 사회화의 주요 내용이 다르며, 사회화는 평생 동안 계속해서 이루어진다.

오답풀이 ㄴ. 한번 사회화된 내용이라도 개인이 처한 상황과 사회 환경의 변화에 따라 수정될 수 있다. ㄷ. 사회화의 내용이나 방식은 사회마다 다르게 나타날 수 있다.

03

제시된 사례에 나타나 있는 사회화 기관으로는 학교, 인터넷(대중 매체), 또래 집단이 있다.

04

학교는 사회가 요구하는 지식과 기술, 규범과 가치 등을 체계적으로 교육하는 공식적 사회화 기관이다.

오답풀이 ①은 직장, ②는 대중 매체, ③은 가정, ⑤는 또래 집단에 관한 설명이다.

05

ㄴ, ㄷ은 변화한 사회에 적응하기 위해 새로운 지식이나 기술, 생활 양식 등을 다시 배우는 재사회화의 사례이다.

오답풀이 ㄱ은 유아기의 기초적인 사회화, ㄴ은 청소년기의 사회화 사례이다.

06

청소년기에는 정서적으로 불안정하고, 부모로부터 정신적으로 독립하고 싶어 하는 특징을 보인다. 경제적 독립은 성인기에 이루어진다.

07

미연 씨는 청소년기에 자아 정체성을 올바르게 형성하지 못하여 대학생이 되고 나서 어려움을 겪고 있다.

08

딸, 노인, 남자, 막내아들은 자연적으로 결정되는 귀속 지위에 해당하고, 남편, 사위, 변호사, 어머니, 공무원, 영화 배우는 후천적으로 획득하는 성취 지위에 해당한다.

09

전통 사회에서는 귀속 지위가 중시되었지만, 현대 사회에서는 노력에 따라 획득하는 성취 지위가 중요해지고 있다.

오답풀이 ① 지위에는 태어날 때부터 결정되는 귀속 지위가 있고, 후천적으로 획득하는 성취 지위가 있다. ② 아버지, 어머니는 성취 지위에 해당한다. ③ 한 사람은 여러 개의 지위를 가질 수 있다. ④ 성취 지위는 귀속 지위와 달리 후천적으로 얻는다.

10

(가)는 승진이라는 사회적 보상을, (나)는 해고라는 사회적 제재를 받은 것으로, 보상과 제재는 개인의 역할 행동에 따라 결정된다. 역할을 충실히 수행하면 보상을, 잘못 수행하면 제재가 주어질 수 있다.

11

어떤 역할을 볼지 고민하는 상황은 서로 다른 역할이 충돌하여 발생하는 역할 갈등으로 볼 수 없다.

12

기획사 연습생과 조별 활동 팀원이라는 두 개의 지위에 기대되는 역할이 서로 충돌하여 발생한 역할 갈등 상황이다.

오답풀이 ① 연습생과 조원은 둘 다 성취 지위이다. ② 두 개의 지위에 따른 각각의 역할이 동시에 기대되고 있다. ④ 서로 다른 역할이 같은 시간에 요구되므로 우선순위를 정하여 중요한 역할을 먼저 수행해야 한다. ⑤ 제시된 사례는 개인적 선택을 통해 해결해야 할 사안이다.

13

두 사람 이상이 소속감을 가지고 지속적으로 상호 작용하는 사회 집단에 해당하는 것은 ④이다.

14

(가)는 내집단, (나)는 외집단에 해당한다. 가. 내집단은 개인이 소속되어 있으면서 공동체 의식이나 소속감을 강하게 느끼는 집단이다. 다. 외집단이 존재하게 되면 내집단 구성원 간에 결속력이 높아진다.

오답풀이 나. 내집단과 외집단의 구분은 상황에 따라 달라질 수 있다. 라. 내집단과 외집단을 구분하는 기준은 구성원의 소속감 여부이다.

15

제시문은 준거 집단에 관한 설명이다. ③ 개인이 어떤 집단을 준거 집단으로 삼고 있는지 알면 그 사람을 이해하는데 도움이 된다.

16

(가) 포레 집단은 1차 집단, (나) 신문사(회사)는 2차 집단에 해당한다. ③ 1차 집단은 개인이 자아를 형성하는 데 중요한 역할을 한다.

오답풀이 ① (가)는 1차 집단이다. ② 형식적인 인간관계를 맺는 것은 (나)이다. ④ 구성원 간의 친밀한 대면 접촉을 바탕으로 하는 것은 (가)이다. ⑤ 자신의 의지와 상관없이 자연적으로 속하게 되는 집단을 공동 사회라고 한다. 공동

역할과 역할 행동

- 역할 : 지위에 따라 기대되는 행동 양식
- 역할 행동 : 역할을 수행하는 개인의 구체적인 행동 → 역할 행동에 따라 보상 또는 제재가 주어짐

해결의 실마리

유리 천장 : 여성이 고위직으로 승진하지 못하는 현상



한국은 유리 천장 지수에서 OECD 국가들 중 최하위를 기록함



성차별 문제



양성평등을 보장하는 법 제정과 시행 필요

준거 집단

- 의미 : 자신이 소속되어 있는지와 상관없이 어떤 행동이나 판단을 할 때 기준으로 삼는 집단
- 의의 : 한 개인을 이해하는데 길잡이 역할을 함

사회에 해당하는 것은 (가)이다. (나)는 구성원의 선택 의지에 의해 의도적으로 형성되는 이익 사회에 해당한다.

17

⑦ 고등학교는 특정 목적 달성을 위한 수단적인 만남을 바탕으로 하는 2차 집단에 해당한다. ㉠ 경제학과는 목적 달성을 위한 수단적 접촉이 일반적으로 나타나는 2차 집단에 해당한다. ㉡ 역사교육과는 서현이가 소속되기를 희망한 준거 집단이다. ㉢ 가족은 서현이가 소속되어 공동체 의식을 느끼고 있는 내집단이다. ㉣ 교육 봉사 동아리는 서현이가 소속되어 있는 소속 집단이면서 서현이의 행동과 판단의 기준이 되는 준거 집단이다.

18

나. 사회 집단의 차별은 성차별, 인종 차별, 장애인 차별, 지역 차별 등의 여러 형태로 나타난다. 다. 차별은 사회 구성원 간에 갈등을 일으켜 사회 통합이나 발전을 저해한다.

오답풀이 가. 큰 차이에 관한 설명이다. 라. 차이를 근거로 차별하는 것은 바람직하지 않다.

19

자격증이 부족한 사람이 취업하지 못한 것은 합리적인 이유로 다르게 대우하는 것으로, 차별이 아니다.

20

제시된 자료는 성차별 문제를 보여 주므로 성차별을 예방할 수 있는 법을 제정하거나 제도를 실시해야 한다.

21

예시답안 재사회화 / 변화한 사회 환경에 적응하기 위해 새로운 지식이나 기술, 생활 양식 등을 다시 배우는 과정이다.

채점기준	등급	평가기준
	상	재사회화라고 쓰고, 그 의미를 바르게 서술한 경우
	하	재사회화라고만 쓴 경우

22

예시답안 역할 갈등 / 한 개인이 가지는 둘 이상의 지위에 대해 각각의 역할이 동시에 요구되어 역할 간 충돌이 발생하는 것을 의미한다.

채점기준	등급	평가기준
	상	역할 갈등이라고 쓰고, 그 의미를 바르게 서술한 경우
	하	역할 갈등이라고만 쓴 경우

23

예시답안 (가)는 장애라는 차이를 인정하여 적합한 대우(배려)를 하였지만, (나)는 나이와 성별을 이유로 부당한 대우를 하였으므로 차별에 해당한다.

채점기준	등급	평가기준
	상	(가)와 (나)의 차이점을 정확하게 서술한 경우
	하	(가)는 차이, (나)는 차별에 해당한다고만 쓴 경우

VIII

문화의 이해

필수 문제로 **학교시험 대비하기**

▶ 시험대비서 10~13 쪽

01 ⑤ 02 ④ 03 ④ 04 ② 05 ⑤ 06 ④ 07 ①
08 ③ 09 ④ 10 ② 11 ③ 12 ② 13 ② 14 ③
15 ① 16 ⑤ 17 ③ 18 ④ 19 ⑤ 20 ⑤ 21 해
설 참조 22 해설 참조 23 해설 참조

01

문화는 한 사회의 구성원들이 주어진 환경에 적응하면서 만들어 온 그 사회의 공통된 생활 양식이다.

오답풀이 ① 생물적인 본능, 개인의 습관에 따른 행동은 문화에 해당하지 않는다. ② 의식주는 문화에 해당한다. ③ 원시 부족 사회에도 문화가 존재한다. ④는 좁은 의미의 문화만을 나타낸다.

02

넓은 의미의 문화는 한 사회의 구성원들이 공유하는 생활 양식을 뜻한다.

오답풀이 ㄱ. 문화인, ㄴ. 문화생활, ㄹ. 문화계 소식에서의 문화는 예술, 세련되고 교양 있는 모습을 뜻하는 좁은 의미로 사용되었다.

03

문화는 한 사회에 속한 구성원들이 공통적으로 가지고 있는 생활 양식으로, 후천적 학습을 통해 익히는 것이다.

오답풀이 ①은 개인의 습관, ②는 자연 현상, ③은 생물적 본능에 의한 행동, ⑤는 타고난 신체적 특징으로서 문화에 해당하지 않는다.

04

의복, 음식, 주택, 기술은 인간의 기본적인 필요와 욕구를 충족해 주는 도구나 기술로, 물질문화에 속한다.

05

㉠ 문화의 보편성은 어느 사회에서나 공통적인 문화 현상이 나타나는 것이다. ㉡ 문화의 다양성은 사회마다 다양한 모습의 문화가 나타나는 것이다.

06

문화의 다양성이 나타나는 까닭은 각 사회가 처한 자연환경과 사회적 상황, 역사적 배경이 다르고, 이러한 환경에 적응하는 방식이 다르기 때문이다.

오답풀이 ㄱ은 문화의 보편성이 나타나는 까닭이다. ㄴ은 문화의 전체성과 관련 있다.

07

한 사회의 구성원들은 그들만의 고유한 문화를 공유한다는 문화의 공유성을 설명하고 있다.

우공비 Note

해결의 실마리

(가) : 돌진자의 방식 등을 경험을 통해 알게 됨

문화는 후천적으로 습득되는 것임

(나) : 떡볶이는 농경문화와 관련이 있고, 다른 산업에도 영향을 미침

한 문화 요소는 다른 문화 요소와 밀접한 관계가 있음

해결의 실마리

갑 : 다른 사회의 음식 문화를 그 사회의 환경을 고려하여 이해하고자 함

다른 문화를 그 사회의 맥락에서 이해하려는 태도

을 : 생명 존중을 무시하는 풍습도 문화로서 존중해야 한다고 함

인류의 보편적 가치를 무시하는 경우에도 문화로서 인정하는 태도

뉴 미디어

- 종류 : 스마트폰, 인터넷, SNS, 위성 방송 등
- 특징 : 쌍방향 의사소통, 다양한 정보를 복합적으로 제공

08

(가)는 문화가 후천적으로 습득되는 것이라는 문화의 학습성을, (나)는 문화 요소들이 서로 밀접하게 연결되어 하나의 전체를 이루고 있다는 문화의 전체성을 보여 준다.

09

제시된 그림은 문화가 고정된 것이 아니라 시간이 흐르면서 변화한다는 문화의 변동성을 보여 준다.

10

제시된 사례는 자기 문화를 우수하다고 여기고 다른 문화를 열등하다고 평가하는 자문화 중심주의를 보여 준다.

오답풀이 ①은 문화 상대주의, ③은 문화 상대주의, ④는 극단적 문화 상대주의에 관한 설명이다. ⑤ 자문화 중심주의는 자기 문화를 기준으로 다른 문화를 평가한다.

11

제시된 자료는 세종대왕이 한글을 창제할 당시 이에 반대한 최만리의 상소문 내용이다. 최만리는 중국 문화를 우월한 것으로 보고 이를 숭상하며, 우리 문화를 열등하다고 여기는 문화 상대주의적 태도를 갖고 있었다.

12

문화 상대주의는 특정 사회의 문화를 추종하는 과정에서 자기 문화의 고유성과 주체성을 상실할 우려가 있다.

오답풀이 ①, ③, ④는 자문화 중심주의, ⑤는 문화 상대주의에 관한 설명이다.

13

갑은 한 사회의 문화를 그 사회의 환경과 사회적 맥락 속에서 이해하고자 하는 문화 상대주의적 태도를, 을은 인류의 보편적 가치를 무시하는 풍습도 문화로서 무조건 수용하는 극단적 문화 상대주의적 태도를 갖고 있다.

14

인간의 존엄성, 생명 존중과 같은 인류 보편의 가치를 훼손하는 풍습은 문화로서 존중해서는 안 된다.

15

대중 매체는 불특정 다수의 사람들에게 대량의 정보를 동시에 전달하는 수단으로, 대중문화의 형성과 발달에 크게 기여하였다.

오답풀이 ㄴ. 인터넷은 새로운 대중 매체(뉴 미디어)이다. ㄹ. 새로운 대중 매체는 쌍방향으로 정보 전달이 이루어진다.

16

제시문은 뉴 미디어와 관련 있다. 뉴 미디어에는 스마트폰, 인터넷, SNS, 위성 방송 등이 해당한다. 뉴 미디어는 시간과 공간의 제약이 적고, 쌍방향 의사소통이 가능하다. 대중은 뉴 미디어를 통해 대중문화를 생산하고 전파할 수 있게 되어 문화 생산자로서의 역할도 하게 되었다.

17

(㉠)는 전통적 대중 매체, (㉡)는 뉴 미디어에 해당한다. ③ 뉴 미디어의 등장으로 대중이 문화의 소비자 역할에서 나아가 문화의 생산자 역할까지 수행하게 되었다.

18

대중문화는 소수의 특권 계층이 누리는 고급문화가 아니라 다수의 대중이 누리는 보편적인 문화이다.

19

대중문화는 대중에게 다양한 오락을 제공하여 여가 생활의 질을 높이고, 다양한 정보와 지식을 전달한다.

오답풀이 ㄱ. 대중문화는 정치에 대한 무관심을 증대시키는 부정적인 측면이 있다. ㄴ. 대중문화가 상품화되어 지나치게 상업성을 추구할 경우 문화의 질이 하락한다.

20

대중은 대중문화를 비판적으로 해석하고 검토하여 선별적으로 수용해야 한다.

21

예시답안 (㉠)에는 공연이나 전시 등의 예술 활동을 뜻하는 좁은 의미의 문화가 나타나 있다. (㉡)에는 한 사회의 구성원들이 만들어 낸 공통의 생활 양식을 뜻하는 넓은 의미의 문화가 나타나 있다.

채점기준	등급	평가 기준
	상	(가) 좁은 의미의 문화, (나) 넓은 의미의 문화 각각의 의미를 바르게 서술한 경우
	하	(가) 좁은 의미의 문화, (나) 넓은 의미의 문화라고만 쓴 경우

22

예시답안 자문화 중심주의 / 자기 문화에 대한 자부심을 높이고 자기 집단 구성원의 결속을 강화하는 데 도움이 되나, 다른 문화와 갈등을 일으키고 국제적 고립을 초래할 수 있다.

채점 기준	등급	평가 기준
	상	자문화 중심주의를 쓰고, 이 태도의 장점과 문제점을 모두 서술한 경우
	중	자문화 중심주의를 쓰고, 이 태도의 장점이나 문제점 중 한 가지 측면만을 서술한 경우
	하	자문화 중심주의라고만 쓴 경우

23

예시답안 동일한 정보를 동시에 전달하기 때문에 사람들의 사고나 취향이 획일화되어 개인의 독특한 개성과 독창성을 잃어버릴 수 있다.

채점 기준	등급	평가 기준
	상	대중문화의 특징과 관련지어 자료에 나타난 대중문화의 문제점을 바르게 서술한 경우
	하	대중문화의 특징을 관련짓지 않고 자료에 나타난 대중문화의 문제점을 서술한 경우

문화의 의미

- 좁은 의미: 예술, 문학 교양 있고 세련된 것
- 넓은 의미: 한 사회의 구성원들이 공통으로 가지고 있는 생활 양식

문화의 속성

- 공유성: 한 사회의 구성원들은 그 사회만의 고유한 문화를 공유함
- 학습성: 문화는 후천적으로 배워서 습득하는 것임
- 축적성: 문화는 말과 글 등을 통해 세대 간에 전승되면서 쌓임
- 변동성: 문화는 시간이 지나면서 변화함
- 전체성: 문화의 여러 영역은 서로 밀접한 관계를 맺으면서 전체를 이루고 있음

해결의 실마리

- 옛날: 우체통 이용
- 요즘: 이메일 이용

↓
소식을 전하는 방식이 변화함

↓
문화의 변동성

실전 문제로 등급 올리기

▶ 시험대비서 14~17 쪽

01 ④ 02 ① 03 ② 04 ② 05 ③ 06 ③ 07 ②
08 ② 09 ① 10 ② 11 ③ 12 ⑤ 13 ② 14 ④
15 ⑤ 16 ④ 17 ③ 18 ② 19 ② 20 ④ 21 해
설 참조 22 해설 참조 23 해설 참조

01

제시문은 좁은 의미의 문화를 설명하고 있다. ①, ②, ③, ⑤는 좁은 의미, ④는 넓은 의미의 문화이다.

02

문화는 한 사회의 구성원들이 만들어 낸 공통된 생활 양식이며, 학습에 의해 후천적으로 습득되는 것이다.

오답풀이 ㄷ. 법, 예절, 관습, 정치 등은 제도문화에 해당한다. ㄹ. 체질이나 본능에 따른 행동은 문화가 아니다.

03

제시문은 관념 문화를 설명하고 있다. 언어, 학문, 종교, 예술 등이 관념 문화에 해당한다.

오답풀이 ㄴ. 물질문화, ㄷ은 제도문화에 해당한다.

04

①은 사회마다 문화의 구체적인 모습이 서로 다르게 나타난다는 문화의 다양성과 관련 있다. ②는 어느 사회에서나 공통적인 문화 현상이 나타난다는 문화의 보편성과 관련 있다.

05

문화의 전체성은 문화의 각 요소들이 서로 밀접한 관련을 맺으면서 하나의 전체를 이루고 있는 속성이다.

06

(㉠) 한국인들이 김치를 즐겨 먹는 문화를 공유하고 있다는 것은 문화의 공유성과 관련 있다. (㉡) 김치 문화가 조상들의 숨씨와 발효 과학 기술이 전승되어 축적된 결과라는 것은 문화의 축적성과 관련 있다.

07

문화의 공유성을 통해 특정한 상황에서 다른 사람의 행동을 이해하거나 예측할 수 있어 원활한 사회생활을 하는 데 도움이 된다.

오답풀이 ㄴ은 문화의 전체성, ㄷ은 문화의 변동성에 관한 설명이다.

08

제시된 자료는 문화가 고정된 것이 아니라 끊임없이 변화한다는 문화의 변동성을 보여 준다.

09

제시된 사례는 자기 문화보다 다른 사회의 문화를 우수하다고 여겨 추종하는 태도인 문화 사대주의에 해당한다.

10

제시문은 자문화 중심주의에 관한 설명이다. 자문화 중심주의는 국제적 갈등과 고립을 초래할 수 있고, 지나칠 경우 문화 제국주의로 흐를 우려가 있다.

오답풀이 ①, ⑤는 문화 상대주의의 문제점이다. ③은 극단적 문화 상대주의의 문제점이다. ④ 자문화 중심주의는 집단 내의 결속력을 강화하는 장점이 있다.

11

자문화 중심주의와 문화 상대주의는 문화의 다양성과 상대성을 부정하고, 절대적인 기준으로 문화의 우열을 평가하는 태도이다.

12

문화 상대주의는 한 사회의 문화를 그 사회의 자연환경과 역사적 배경, 사회적 상황 등을 고려하여 이해하는 태도이다.

오답풀이 ①, ②, ③은 자문화 중심주의, ④는 문화 상대주의의 사례이다.

13

갑은 자문화 중심주의, 을은 문화 상대주의 태도를 가지고 있다. ② 자문화 중심주의는 자기 문화의 우수성만을 강조하면서 다른 문화를 무시하기 때문에 다른 사회와 갈등을 일으킬 수 있다.

오답풀이 ① 갑은 다른 문화를 무시하는 태도를 보이고 있다. ③ 문화 간에 우열을 가릴 수 있다고 보는 것은 갑이다. ④ 인류의 보편적 가치를 훼손할 수 있는 것은 극단적 문화 상대주의이다. ⑤ 문화를 평가하는 절대적 기준을 인정하는 것은 갑이다.

14

생명 존중과 같은 인류의 보편적 가치를 무시하는 순장 풍습을 존중하는 것은 극단적 문화 상대주의에 해당하며, 이러한 태도는 바람직하지 않다.

15

제시문은 스마트폰, 누리 소통망(SNS), 인터넷과 같은 뉴미디어의 특징이다.

16

신문은 인쇄 매체, 라디오는 음성 매체, 텔레비전은 영상 매체에 해당하며, 이들은 정보를 일방적으로 전달한다.

오답풀이 ① (가) 신문 → (나) 라디오 → (ㄹ) 텔레비전 → (ㄷ) 인터넷의 순으로 등장하였다. ② (가), (나), (ㄹ)는 일방향 매체, (ㄷ)는 쌍방향 매체이다. ③ 최근에는 신문, 라디오, 텔레비전에 비해 인터넷의 영향력이 점점 커지고 있다. ⑤ 대중이 문화 생산에 직접 참여하는 수단으로는 신문보다 인터넷이 더 편리하다.

17

인터넷, 스마트폰과 같은 뉴미디어의 등장으로 시간과 공

자문화 중심주의

- 의미 : 자기 문화를 다른 문화보다 우월하다고 여기는 태도
- 장점 : 자기 문화에 대한 자부심과 주체성 향상, 집단 내 결속 강화 및 사회 통합에 기여
- 문제점 : 다른 문화와의 갈등 및 국제적 고립 초래, 지나칠 경우 다른 사회에 자신의 문화를 강요하는 문화 제국주의로 이어질 우려

해결의 실마리

갑 : 몽골의 음식 문화를 부정적으로 평가함

↓

자기 문화를 기준으로 다른 문화를 열등하다고 보는 태도

을 : 몽골의 음식 문화가 나쁜 이유가 있다고 생각함

↓

문화의 상대성을 인정하는 태도

해결의 실마리

갑 : 할리우드 영화가 우리 영화보다 수준이 높다고 생각함

↓

다른 문화는 우수하고 자기 문화는 열등하다고 보는 태도

↓

문화 상대주의

간의 제약이 줄어들고 쌍방향 의사소통이 활성화되었으며, 대중이 문화의 생산자 역할까지 하게 되었다.

18

대중 매체가 전달하는 정보가 생산자의 의도대로 조작되는 경우가 발생하여 대중 조작의 우려가 있다.

19

제시된 자료는 대중문화가 일방적으로 대중에게 전달되면서 문화가 획일화되고, 개인의 개성과 독창성이 사라지는 것을 보여 주는 사례이다.

오답풀이 ㄴ, ㄹ도 대중문화의 부정적인 영향이지만, 제시된 자료와 관련이 없다.

20

여러 매체의 정보를 비판적으로 분석하고 비교·평가한 후 선별적으로 받아들여야 한다.

21

예시답안 문화의 보편성과 다양성 / 문화의 보편성이 나타나는 이유는 인간의 기본적인 욕구와 사고방식이 비슷하기 때문이다. 문화의 다양성이 나타나는 이유는 각 사회가 처한 자연환경이나 사회적 상황이 달라 이에 적응하기 위해 저마다의 생활 양식을 만들어왔기 때문이다.

채점기준	등급	평가 기준
	상	문화의 보편성과 다양성을 쓰고, 이러한 현상이 나타나는 이유를 모두 서술한 경우
	중	문화의 보편성과 다양성을 쓰고, 둘 중 하나에 대해서만 그 현상이 나타나는 이유를 서술한 경우
	하	문화의 보편성과 다양성이라고만 쓴 경우

22

예시답안 문화 상대주의 / 선진 문물을 받아들이는 데 도움을 주지만 자기 문화의 주체성을 잃게 될 수 있다.

채점기준	등급	평가 기준
	상	문화 상대주의를 쓰고, 장점과 문제점을 모두 서술한 경우
	중	문화 상대주의를 쓰고, 장점과 문제점 중 한 가지 측면만 서술한 경우
	하	문화 상대주의라고만 쓴 경우

23

예시답안 쌍방향 의사소통이 가능한 뉴미디어의 등장으로 개인은 인터넷상에서 보다 쉽게 의사소통하면서 문화를 생산하고 공유할 수 있게 되었다. 그 결과 사회적으로 폭넓은 인간관계가 형성되고, 대중문화가 다양하고 역동적으로 발전하였다.

채점기준	등급	평가 기준
	상	뉴미디어의 특징과 관련지어 우리 삶의 변화를 바르게 서술한 경우
	하	뉴미디어의 특징은 언급하지 않고 우리 삶의 변화를 서술한 경우

IX 정치 생활과 민주주의

필수 문제로 **학교시험 대비하기** ▶ 시험대비서 18~21쪽

01 ④ 02 ④ 03 ③ 04 ② 05 ② 06 ① 07 ⑤
08 ② 09 ③ 10 ⑤ 11 ④ 12 ④ 13 ① 14 ④
15 ⑤ 16 ② 17 ⑤ 18 ③ 19 ③ 20 ② 21 해
설 참조 22 해설 참조 23 (1) 대통령제 (2) 해설 참조

01

넓은 의미의 정치는 일상생활에서 발생하는 사회 구성원 간의 대립과 갈등을 조정하고 해결하는 활동을 말한다. ㄴ, ㄹ은 넓은 의미의 정치, ㄱ, ㄷ은 좁은 의미의 정치에 해당한다.

02

정치는 사회 구성원 간에 발생하는 대립과 갈등을 조정하여 사회 질서를 유지하고 사회를 통합한다. 또한 사회 문제를 합리적으로 해결하고 사회가 나아가야 할 방향을 제시하며, 개인의 삶의 질을 높이는 데 기여한다.

03

ㄱ. 시민은 자신의 이익을 추구하면서도 공동체의 이익을 함께 고려함으로써 이익과 공익의 조화를 꾀해야 한다. ㄴ. 국가는 정치권력을 민주적인 절차에 따라 정당하게 행사해야 한다.

04

고대 아테네에서는 시민이 국가의 중요한 정책을 직접 결정하는 직접 민주 정치가 이루어졌다. 그러나 시민의 자격이 자유민인 성인 남성으로 제한되어 있었다.

오답풀이 ①은 근대 민주 정치의 내용이다. ③, ⑤는 현대 민주 정치의 내용이다. ④는 근대와 현대에 행해진 대의 민주 정치이다.

05

시민 혁명 이후의 근대 민주 정치는 시민의 대표로 구성된 의회를 중심으로 한 대의 민주 정치가 실현되었다. 그러나 여성, 노동자, 농민, 빈민 등에게는 정치 참여가 제한되었다.

오답풀이 ㄴ은 고대 아테네 민주 정치, ㄷ은 현대 민주 정치에 관한 설명이다.

06

제시된 참정권 확대 운동이 지속적으로 전개된 결과 현대 사회에서는 일정한 나이 이상의 모든 사회 구성원에게 선거권을 부여하는 보통 선거 제도가 확립되었다.

07

제시된 제도는 국민 투표와 국민 소환이다. 국민의 의사가 정치에 제대로 반영되지 못하는 대의 민주 정치의 한계를 보완하기 위해 직접 민주 정치의 요소를 도입하고 있다.

민주주의의 의미

- 정치 형태로서의 민주주의 : 다수의 국민이 나라를 다스리는 정치 형태
- 생활 양식으로서의 민주주의 : 일상생활에서 발생하는 문제를 민주적으로 해결하려는 것

민주 정치의 기본 원리

- 국민 주권의 원리 : 주권이 국민에게 있다는 것
- 국민 자치의 원리 : 국민이 스스로 국가를 다스려야 한다는 것
- 입헌주의의 원리 : 헌법에 따라 국가를 운영해야 한다는 것
- 권력 분립의 원리 : 국가 권력을 나누어 서로 독립된 기관이 맡도록 하는 것

정치 생활에서 국가와 시민의 역할

- 국가 : 정치권력의 정당한 행사, 시민의 요구를 반영한 정책 결정 및 집행, 사회 질서 유지, 시민의 복리 증진 등
- 시민 : 적극적인 정치 참여, 국가의 정책 집행 과정 감시 및 비판, 이익과 공익의 조화 추구

08

제시문의 밑줄 친 '이것'은 민주주의이다. 오늘날 민주주의는 정치 형태를 넘어 생활 양식으로 그 의미가 확대되었다.

09

㉠은 생활 양식으로서의 민주주의이다. ㄴ, ㄷ은 생활 양식으로서의 민주주의, ㄱ, ㄹ은 정치 형태로서의 민주주의에 관한 설명이다.

10

제시된 내용은 민주주의의 근본이념인 인간의 존엄성에 관한 설명이다.

11

㉡는 평등, ㉢는 자유이다. ㉣ 현대 사회에서 ㉡는 기회의 균등을 중시하는 형식적 평등보다 개인의 선천적·후천적 차이를 고려하는 실질적 평등을 강조한다.

12

입헌주의의 원리에 따라 국민의 기본권 보장과 국가 기관의 운영 원리 등은 헌법에 규정한다.

13

㉤는 국가의 의사를 결정하는 최고 권력인 주권이 국민에게 있다는 국민 주권의 원리를 나타내는 헌법 조항이다. ㉥는 주권을 가진 국민이 스스로 나라를 다스려야 한다는 국민 자치의 원리를 나타내는 헌법 조항이다.

14

제시된 헌법 조항은 국가 권력을 입법권, 행정권, 사법권으로 분리하여 독립된 국가 기관이 나누어 맡도록 하는 권력 분립의 원리와 관련 있다. 권력 분립의 원리는 국가 기관 간 상호 견제와 균형을 이루게 하여 국가 권력의 남용을 방지하고 국민의 자유와 권리를 보장하고자 한다.

오답풀이 ㄱ은 국민 주권의 원리, ㄷ은 입헌주의의 원리에 관한 설명이다.

15

의원 내각제와 대통령제 모두 국민이 선거를 통해 의회의 의원을 선출하여 입법부를 구성한다.

16

제시된 그림은 의원 내각제를 나타낸다. 의원 내각제는 입법부와 행정부가 융합된 정부 형태로, 군소 정당이 난립할 경우 정국이 불안정해진다는 단점을 갖고 있다.

오답풀이 ㄴ, ㄷ. 대통령제는 입법부와 행정부가 엄격하게 분리된 정부 형태로, 입법부와 행정부가 대립할 경우 이를 해결하기 어렵다는 단점을 갖고 있다.

17

대통령제는 의회와 행정부가 엄격하게 분리된 정부 형태이다. ㉦ 의회의 의원과 행정부의 장관을 함께 맡을 수 있는 것은 의원 내각제의 특징이다.

18

갑국의 정부 형태는 의원 내각제이다. 의원 내각제에서 입법부(의회)는 행정부(내각)가 정치를 잘못하면 책임을 물어 내각 구성원 전원을 사퇴하게 할 수 있는 내각 불신임권을 갖고, 내각은 기존 의회를 해산하고 총선거를 다시 실시하여 의회를 구성할 수 있는 의회 해산권을 가진다.

19

의원 내각제는 의회와 내각이 국민의 요구에 민감하게 반응하여 책임 정치를 실현할 수 있고, 의회와 내각이 협조적인 관계를 유지함에 따라 신속하고 효율적으로 정책을 수행할 수 있다는 장점을 가진다.

오답풀이 ◀ ㄱ, ㄴ. 다수당의 횡포를 견제할 수 있고, 대통령의 임기 동안 안정적으로 국정을 운영할 수 있는 것은 대통령제의 장점이다.

20

우리나라는 기본적으로 대통령제를 채택하고 의원 내각제 요소를 일부 도입하여 운영하고 있다.

오답풀이 ◀ ㄴ, ㄷ. 우리나라에서 정부는 법률안을 제출할 수 있고, 국회의원은 행정부의 장관을 겸직할 수 있다.

21

예시답안 A : 정치에 참여할 수 있는 시민의 자격이 제한되었다. B : 국민이 대표자를 선출하여 간접적으로 정치에 참여하는 대의 민주 정치가 실시되었다.

채점기준	등급	평가 기준
	상	A와 B에 들어갈 정치적 특징을 모두 적절하게 서술한 경우
	하	A와 B의 정치적 특징 중 한 가지만을 바르게 서술한 경우

22

예시답안 권력 분립의 원리 / 국가 권력을 나누어 상호 견제와 균형을 이루도록 함으로써 권력의 남용을 방지하고 국민의 자유와 권리를 보장하기 위함이다.

채점기준	등급	평가 기준
	상	권력 분립의 원리라고 쓰고, '상호 견제와 균형', '국민의 자유와 권리 보장'의 내용을 포함하여 서술한 경우
	하	권력 분립의 원리라고만 쓴 경우

23

(1) 대통령제

(2) **예시답안** 대통령의 임기 동안 행정부가 안정되어 지속적으로 정책을 수행할 수 있고, 다수당의 횡포를 견제할 수 있다. 반면 의회와 행정부가 대립할 경우 국정운영이 어려워지고, 대통령의 권한이 커지면 독재가 나타날 우려가 있다.

채점기준	등급	평가 기준
	상	대통령제의 장점과 단점을 모두 바르게 서술한 경우
	하	대통령제의 장점과 단점 중 한 가지만 바르게 서술한 경우

해결의 실마리

입법부와 행정부가 융합된 정부 형태



의원 내각제



- 의회의 내각 불신임권
- 내각의 의회 해산권

시대별 시민의 범위

- 고대 아테네 : 자유민인 성인 남성
- 근대 : 부유한 도시 상공업자
- 현대 : 모든 국민

근대 민주 정치의 특징

- 대의 민주 정치 실현 : 시민의 대표로 구성된 의회를 중심으로 정치가 이루어짐
- 제한적 민주 정치 : 귀족, 도시 상공업자에게만 참정권 부여 → 노동자, 여성, 농민 등의 정치 참여가 제한됨

실전 문제로 등급 올리기

▶ 시험대비서 22~25 쪽

01 ⑤ 02 ⑤ 03 ⑤ 04 ① 05 ① 06 ④ 07 ④
08 ② 09 ③ 10 ② 11 ③ 12 ⑤ 13 ② 14 ②
15 ⑤ 16 ④ 17 ⑤ 18 ④ 19 ① 20 ② 21 해설 참조 22 해설 참조 23 해설 참조

01

좁은 의미의 정치는 정치인이 정치권력을 획득하고 유지·행사하는 활동이지만, 넓은 의미의 정치는 일상생활에서 발생하는 사회 구성원 간의 갈등을 해결하는 모든 활동이다.

02

모든 국가 기관은 시민의 동의와 지지를 기반으로 정치권력을 행사해야 하며, 시민의 의사를 존중해야 한다. ⑤ 대통령은 시민의 뜻을 반영한 정책을 시행해야 한다.

03

시민은 주인 의식을 가지고 적극적으로 정치에 참여해야 하며, 국가의 정책을 감시하고 비판해야 한다.

오답풀이 ◀ ㄱ은 국가의 역할이다. ㄴ, 시민은 자신의 이익을 추구하면서도 공익을 함께 고려해야 한다.

04

정치는 사회 구성원 개인이나 집단 간의 이해관계를 조정하여 대립과 갈등을 해결함으로써 사회 질서 유지 및 사회 통합에 기여한다.

05

고대 아테네는 시민의 범위가 자유민인 성인 남성에게 국한되어 여성, 외국인, 노예는 정치 참여에서 배제되었다.

06

제시된 역사적 사건은 근대 시민 혁명이다. 시민 혁명 이후 근대 시민 사회에서는 대의 민주 정치가 실시되었고, 성별, 신분, 재산 등에 따라 정치 참여가 제한되었다.

오답풀이 ◀ ㄱ은 고대 아테네 민주 정치에 관한 설명이다. ㄷ, 근대 민주 정치는 시민 혁명을 통해 왕권은 제한된 반면 시민이 정치에 참여할 권리는 확대되었다.

07

현대 시민 사회에서는 보통 선거 제도가 확립되어 대중이 정치의 주체로 등장하였다.

오답풀이 ◀ ① 대의 민주 정치는 (나)와 (다)에 해당한다. ② 보통 선거 제도가 확립된 것은 (다)이다. ③ 직접 민주 정치가 실현된 것은 (가)이다. ⑤ 현대 시민 사회에서는 국민이 정치 과정에 참여하는 통로가 확대되었다.

08

현대 민주 정치는 정보 통신 기술의 발달로 인터넷 등 매체를 활용한 다양한 정치 참여 방법이 등장하여 시민이 정치에 참여하는 기회가 과거에 비해 확대되었다.

오답풀이 ◀ 나. 인터넷 환경에서는 익명성이 보장되지만 개인의 사생활이 침해될 우려가 높다. 르. 전자 민주주의의 발달로 직접 민주 정치의 실현 가능성이 높아졌지만, 모든 국민의 의사가 반영되는 직접 민주 정치가 실현된다 고 보기는 어렵다.

09

밑줄 친 부분은 생활 양식으로서의 민주주의와 관련 있다.
③ 배타적 태도는 민주적인 생활 태도와 거리가 멀다.

10

인간의 존엄성은 민주주의의 근본이념으로, 모든 인간은 인간이라는 이유만으로 존중받을 가치가 있다는 것이다.

오답풀이 ◀ 나. 자유와 평등은 인간의 존엄성을 실현하기 위한 전제 조건이다. 드. 인간을 수단이 아닌 목적으로 대해야 한다는 의미이다.

11

제시된 내용은 자유 중에서도 현대 사회에서 강조되고 있는 적극적 자유를 가리킨다.

12

㉠은 모든 사람에게 균등한 기회를 보장하는 형식적 평등이고, ㉡은 개인의 차이를 고려하는 실질적 평등이다. 드. 1인 1표의 선거권을 부여하는 것은 형식적 평등에 해당한다. 르. 누진세 제도는 실질적 평등을 보장하려는 노력이다.

13

국민 자치의 원리는 주권을 가진 국민이 스스로 나라를 다스려야 한다는 것으로, 직접 민주 정치와 대의 민주 정치의 형태로 실현된다.

오답풀이 ◀ 나, 드. 국민 주권의 원리에 관한 설명이다.

14

제시문은 헌법에 따라 국가를 운영해야 한다는 입헌주의의 원리에 관한 설명이다.

15

제시된 그림은 권력 분립의 원리를 나타낸다. 권력 분립의 원리는 국가 권력을 입법권, 행정권, 사법권으로 분리하고, 독립된 국가 기관이 나누어 맡도록 하는 민주 정치의 원리이다. 이 원리는 상호 견제와 균형을 통해 국가 권력의 남용을 방지하고, 국민의 자유와 권리를 보장하는 데에 목적이 있다.

16

의원 내각제에서 내각(행정부)의 장관은 의회의 의원을 겸직할 수 있다.

오답풀이 ◀ ①, ③은 대통령제의 특징이다. ② 의원 내각제에서 의회는 내각 불신임권을 가진다. ⑤ 의원 내각제에서 행정부(내각)는 입법부(의회)를 해산할 수 있는 권한, 즉 의회 해산권을 가진다.

해결의 실마리

행정부 수반의 법률안 거부권 행사



대통령제



입법부와 행정부가 별도로 구성되어 독립을 유지함

자유 유형

- 소극적 자유 : 국가의 부당한 간섭을 받지 않을 자유
- 적극적 자유 : 국가의 정책 결정에 참여할 수 있는 자유, 국가에 인간다운 삶의 보장을 요구할 수 있는 자유

입헌주의의 원리

- 의미 : 헌법에 따라 국가 기관을 구성하고 국가를 운영해야 한다는 것
- 목적 : 국가 권력의 남용 방지 → 국민의 자유와 권리 보장

17

(개)는 대통령제, (나)는 의원 내각제를 나타낸다. 드, 르. 의원 내각제는 의회와 내각이 국민의 요구에 민감하게 반응하여 책임 정치를 실현할 수 있고, 능률적인 정책 수행이 가능하다.

오답풀이 ◀ 나, 드. 대통령제의 특징이다.

18

대통령제에서 의원 내각제로 변경했다면 그 이유는 대통령제의 문제점을 극복하기 위해서이다. ④ 대통령제는 입법부(의회)와 행정부가 엄격하게 분리되어 있어 의회와 행정부가 대립할 경우 조정이 어렵다.

19

A국에서는 행정부 수반이 법률안 거부권을 행사할 수 있으므로 A국의 정부 형태는 대통령제이다.

오답풀이 ◀ 드, 르. 의원 내각제에 관한 설명이다.

20

우리나라는 대통령제를 기본으로 하고, 의원 내각제 요소를 일부 도입하고 있다. 우리나라에서 도입한 의원 내각제 요소로는 행정부의 법률안 제출권, 국무총리 제도, 국회의원의 행정부 장관 겸직 가능 등이 있다.

21

예시답안 사회 구성원들이 공동체 내에서 발생하는 갈등과 대립을 조정하고 해결하는 것과 관련된 모든 활동이다.

채점 기준	등급	평가 기준
	상	넓은 의미의 정치의 의미를 정확하게 서술한 경우
	하	갈등을 해결하는 활동이라고만 쓴 경우

22

예시답안 인간의 존엄성 / 모든 인간은 인간이라는 이유만으로 존중받을 가치와 권리가 있다는 것이다.

채점 기준	등급	평가 기준
	상	인간의 존엄성이라고 쓰고, 그 의미를 바르게 서술한 경우
	하	인간의 존엄성만 쓴 경우

23

예시답안 A는 대통령제로, 국민이 별도의 선거를 통해 입법부를 구성하는 의회의 의원과 행정부의 수반인 대통령을 각각 선출하면 대통령이 행정부를 구성한다. B는 의원 내각제로, 국민이 선거를 통해 의회를 구성하고 의회 다수당의 대표가 총리(수상)가 되어 행정부인 내각을 구성한다.

채점 기준	등급	평가 기준
	상	A와 B의 정부 형태를 쓰고, 각각의 정부 구성 방식을 바르게 서술한 경우
	중	A와 B의 정부 형태를 쓰고, 둘 중 하나의 정부 구성 방식만 바르게 서술한 경우
	하	A와 B의 정부 형태만 쓴 경우

X 정치 과정과 시민 참여

필수 문제로 **학교시험 대비하기** ▶ 시험대비서 26~29쪽

01 ③ 02 ③ 03 ② 04 ④ 05 ② 06 ② 07 ③
08 ② 09 ② 10 ① 11 ③ 12 ③ 13 ④ 14 ⑤
15 ⑤ 16 ① 17 ① 18 ② 19 ① 20 ③ 21 해
설 참조 22 해설 참조 23 해설 참조

01

현대 사회가 다원화되면서 사회 구성원들은 다양한 이익과 요구를 갖게 되었고, 이러한 다원적 이익이 표출되어 개인이나 집단 간 대립과 갈등이 점차 늘어나고 있다.

02

국회가 '진로 교육법'을 제정하여 진로 교육 강화를 결정하는 것은, (㉠) 정책 결정 단계에서 이루어진다.

오답풀이 ㉠의 사례는 (㉠) 이익 집약 단계, ㉡의 사례는 (㉡) 정책 집행 단계, ㉢의 사례는 (㉢) 정책 평가 단계, ㉣의 사례는 (㉣) 이익 표출 단계에 해당한다.

03

직접적인 정책 결정권을 가진 공식적 정치 주체는 국가 기관인 국회, 정부(행정부), 법원 등이다. 한편, 정당, 언론, 이익 집단, 시민 단체는 비공식적 정치 주체이다.

04

제시된 자료에 나타난 특징을 가진 집단은 정당이다. 정당은 정치권력을 획득하고자 하므로 선거에 후보자를 추천하고, 후보자가 국민의 지지를 얻어 당선되도록 노력한다.

오답풀이 ㉠은 국회, ㉡는 정부, ㉢은 시민 단체, ㉣은 언론에 관한 설명이다.

05

(㉠)은 이익 집단이고, (㉡)는 시민 단체이다. ㉢. 이익 집단은 특수한 이익을, 시민 단체는 공익을 추구한다. ㉣. 이익 집단과 시민 단체는 정치 과정의 '이익 표출' 단계에서 시민의 다양한 요구와 주장을 드러낸다.

오답풀이 ㉠. 이익 집단과 시민 단체는 정치적 책임을 지지 않는다. ㉡. 이익 집단과 시민 단체 등 다양한 정치 주체들의 활동은 정책을 신중하게 결정하도록 한다.

06

정당과 이익 집단은 모두 비공식적 정치 주체로서 정책 결정 과정에 영향력을 행사한다는 공통점이 있다.

07

정치 과정의 비공식적 주체로서 여론 형성에 주도적인 역할을 하며, 공정하고 객관적인 보도 태도를 갖추어야 하는 정치 주체는 언론이다.

선거의 기능

- 대표자 선출
- 정치권력에 정당성 부여
- 대표자 통제
- 주권 행사 수단

08

국민은 선거를 통해 자신의 의사를 표현하고 주권을 행사하는 것이지 대표자에게 주권을 넘기는 것이 아니다.

09

㉠은 보통 선거, ㉡은 비밀 선거의 원칙이 지켜졌다.

오답풀이 ㉢은 직접 선거의 원칙, ㉣은 평등 선거의 원칙이 지켜지지 않은 사례이다.

10

을의 의견은 보통 선거의 원칙에 어긋난다. 보통 선거의 원칙이 보장되면 동아리 회원 모두에게 선거권을 부여해야 한다. 병의 의견은 비밀 선거의 원칙에 어긋난다. 비밀 선거의 원칙이 보장되면 투표자가 누구에게 투표했는지 다른 사람이 알지 못하도록 비밀을 보장해야 한다.

11

제시된 제도들은 각각 선거 공영제, 선거구 법정주의, 민주 선거의 기본 원칙으로서 모두 공정한 선거를 실시하기 위해 마련되었다.

12

특정 정당이나 후보에게 유리하도록 선거구를 임의로 정하는 게리맨더링은 선거의 공정성을 해친다.

13

선거 관리 위원회는 중립성을 지켜야 하므로 특정 정당에 가입하거나 정치 활동에 관여할 수 없다.

14

제시문은 지방 자치 제도에 관한 설명이다. ㉤ 지방 자치 제도는 지역 주민들이 그들을 대신할 지역 대표를 선출하여 지역의 일을 맡기는 형태로 이루어진다.

15

광역 자치 단체에는 특별시, 광역시, 도, 특별자치시, 특별자치도가 있고, 기초 자치 단체에는 시, 군, 구가 있다.

16

제시된 주소에서는 서울특별시장과 강서구청장이 집행기관인 지방 자치 단체장이다. 서울특별시 의회 의원과 강서구 의회 의원은 의결 기관인 지방 의회를 구성한다.

17

(㉠)은 광역 자치 단체이다. ㉡은 기초 자치 단체의 집행기관, ㉢, ㉣, ㉤은 광역 자치 단체의 의결 기관, ㉥은 광역 자치 단체의 집행 기관에 해당한다.

18

지방 자치 단체장은 지방 의회의 의결 사항을 실행하는 집행 기관으로, 지방의 각종 사무를 처리하며 그 지역의 재산을 관리하고 예산을 집행한다.

정치 과정과 정치 주체

- 이익 표출: 이익 집단, 시민 단체 등
- 이익 집약: 정당, 언론 등
- 정책 결정: 국회, 정부
- 정책 집행: 정부
- 정책 평가: 국민

해결의 실마리

첫 번째 질문: 정치 과정에 영향력 행사 → 정치 주체

두 번째 질문: 공익 추구 → 정당, 시민 단체

세 번째 질문: 정권 획득이 목적 → 정당

시민 단체와 이익 집단

- 시민 단체: 공익 실현, 정책 감시 및 비판, 사회 문제 대안 제시 등
- 이익 집단: 특수 이익 실현, 다양한 이익 대변, 정당 기능 보완 등

오답풀이 ◀ ㄴ은 지방 의회의 역할이다. ㄹ, 지방 자치 단체장은 법령과 조례의 범위 안에서 규칙을 제정한다.

19

(가)는 주민 발의, (나)는 주민 청원에 관한 설명이다. ② 주민 소환은 직무를 잘 수행하지 못한 지역 대표를 주민 투표로 해임할 수 있는 제도이다. ③ 주민 감사 청구제는 특정 행정 기관을 감사해달라고 청구하는 제도이다.

20

제시문은 주민 소환에 관한 설명이다.

오답풀이 ◀ ① 주민 발의는 주민이 직접 조례안을 작성하여 지방 의회에 제출할 수 있는 제도이다. ② 주민 청원은 지방 자치 단체에 지역 사회의 문제를 해결해달라고 서면으로 요구할 수 있는 제도이다. ④ 주민 감사 청구제는 주민이 특정 행정 기관을 감사해달라고 청구하는 제도이다. ⑤ 주민 참여 예산제는 지방 자치 단체의 예산 편성 과정에 주민이 직접 참여하는 제도이다.

21

예시답안 다양한 이해관계가 표출·집약되어 정책으로 결정되고 집행되는 과정

문제자료 1. 뜯어보기

			① 정		
		① 정	치	과	② 정
			주		책
ㄴ	시	민	단	체	

채점기준	등급	평가 기준
	상	다양한 이해관계가 표출·집약되어 정책으로 결정되고 집행되는 과정이라는 내용으로 바르게 서술한 경우
	하	단순히 '정책을 결정하는 과정', '다양한 이익을 조정하는 과정'이라는 내용만으로 서술한 경우

22

예시답안 유능하지만 경제력이 없는 사람도 입후보할 수 있게 하여 모든 후보자에게 선거 운동의 기회를 균등하게 제공하기 위해서입니다.

채점기준	등급	평가 기준
	상	모든 후보자에게 선거 운동의 기회를 균등하게 제공한다는 내용으로 바르게 서술한 경우
	하	선거를 공정하게 치르기 위해서라고만 서술한 경우

23

예시답안 지방 자치 제도 / 일정한 지역에 살고 있는 주민들이 지방 자치 단체를 구성하여 그 지역의 일들을 자율적으로 처리하는 제도이다.

채점기준	등급	평가 기준
	상	지방 자치 제도라고 쓰고, 그 의미를 바르게 서술한 경우
	하	지방 자치 제도라고만 쓴 경우

실전 문제로 등급 올리기

▶ 시험대비서 30~33쪽

01 ① 02 ③ 03 ① 04 ④ 05 ⑤ 06 ② 07 ②
08 ① 09 ③ 10 ④ 11 ① 12 ③ 13 ③ 14 ④
15 ② 16 ② 17 ⑤ 18 ② 19 ④ 20 ① 21 해
설 참조 22 해설 참조 23 해설 참조

01

제시된 사례는 정치 과정의 단계 중 '이익 표출'에 해당한다. 시민들은 정치 과정에 적극적으로 참여하여 자신들의 견해와 이익을 표출하고 그것을 실현하려고 노력한다.

02

㉠은 이익 집약, ㉡은 정책 평가이다. 이익 집약 단계에서는 정당이나 언론 등이 개인이나 집단에 의해 표출된 다양한 요구와 이익을 몇 개의 안으로 수렴한다. 정책 평가 단계에서는 집행된 정책에 관한 국민의 평가가 이루어진다.

오답풀이 ◀ ㄱ. 정책에 대한 새로운 요구나 지지는 정책 평가 단계에서 나타난다. ㄴ. 시민의 여론을 반영하여 국회나 정부가 그와 관련한 정책을 수립하는 것은 정책 결정 단계에서 이루어진다.

03

개인이나 이익 집단 등이 다양한 이익을 표출하면 언론, 정당 등이 여론을 수렴한다. 그리고 이러한 여론을 바탕으로 의회나 정부는 국가의 법이나 정책을 결정한다.

오답풀이 ◀ ②, ③, ④는 이익 표출, ⑤는 이익 집약 단계에 해당한다.

04

(가)는 정치에 공식적으로 참여하는 주체이고, (나)는 정치에 비공식적으로 참여하는 주체이다.

05

시민 단체는 공익 실현을 목적으로 시민들이 자발적으로 결성한 모임이며, 비공식적 정치 주체에 해당한다. ⑤ 시민 단체에는 녹색 소비자 연대, 환경 운동 연합 등이 있다. 노동조합, 변호사 협회 등은 이익 집단에 해당한다.

06

자료에서 정권 획득을 목적으로 하며 선거에 후보자를 추천한다는 내용은 맞고, 정책을 수립하고 집행한다는 내용은 틀린 것으로 처리하였다. 따라서 (가)에 들어갈 정치 주체는 정당이다. 구체적인 정책을 수립하고 집행하는 정치 주체는 행정부이다.

07

정당은 시민 단체나 이익 집단과 달리 정권 획득을 목적으로 하고 정치적 책임을 진다. 한편, 이익 집단은 공익 실현을 목적으로 하는 정당, 시민 단체와 달리 자기 집단의 특수한 이익 실현을 목적으로 한다.

해결의 실마리

이익 표출



이익 집약



정책 결정



정책 집행



정책 평가

정당의 특징

- 정권 획득이 목적임
- 여론 형성
- 선거에 후보자 추천
- 여론을 국가에 전달

해결의 실마리

시민 단체와 이익 집단의 공통점



(가) 정권 획득을 추구하지 않음

정당과 시민 단체의 공통점



(나) 특수 이익을 추구하지 않음

08

언론은 사회적으로 주목받는 정치적 쟁점이나 사회 문제에 대한 정보를 제공하고, 정책에 대한 해설과 의견을 제시함으로써 여론 형성에 중요한 역할을 한다. ① 대표자에게 권력의 정당성을 부여하는 것은 선거이다.

09

선거의 기능 중 (가)는 '정치권력을 통제하여 책임 정치 실현', (나)는 '정치권력에 정당성 부여'이다.

10

비밀 선거는 유권자가 누구에게 투표했는지 다른 사람이 알지 못하도록 비밀을 보장하는 원칙이다.

오답풀이 ①, ③은 보통 선거, ②는 평등 선거, ⑤는 직접 선거의 원칙에 어긋난다.

11

제시문은 선거구 법정주의에 관한 설명이다. 선거구 법정주의는 선거구가 특정 정당이나 후보자에게 유리하게 정해지는 게리맨더링을 방지하기 위해 도입하였다.

12

제시된 사례에서는 특정 대학교 출신에게 2표를 행사하게 하였는데, 이는 평등 선거의 원칙에 어긋난다.

13

공정한 선거를 실시하기 위해서 민주 선거의 기본 원칙인 보통, 평등, 직접, 비밀 선거의 원칙을 보장한다. 또한 선거 공영제와 선거구 법정주의를 채택하고, 선거를 공정하게 관리할 독립된 국가 기관인 선거 관리 위원회를 두고 있다. ③ 선거구는 국회에서 법률로 정한다.

14

선거 공영제는 국가 기관에서 선거의 진행을 관리하고 선거 운동 비용의 일부를 부담하는 제도이다.

15

지방 자치 제도는 지역 주민들이 지방 자치 단체를 구성하여 그 지역의 일을 자율적으로 처리하는 제도이다. 지방 의회는 의결 기관, 지방 자치 단체장은 집행 기관이다.

오답풀이 ① 지방 의회는 조례를 제정하거나 개정한다. ③ 광역 자치 단체에는 특별시, 광역시, 도, 특별자치시, 특별자치도가 있다. ④ 지방 자치 제도는 권력 분립의 원리를 실현한다. ⑤ 기초 자치 단체에는 시, 군, 구가 있다.

16

중앙 정부가 지방 곳곳에서 일어나는 모든 일을 파악하여 지역 주민의 요구를 수렴하기란 쉬운 일이 아니다.

오답풀이 나 은 정치 과정이 필요한 이유이다. 다, 지방 자치 제도는 아래로부터 위로의 의사 결정이 이루어진다.

언론
 • 신문, 방송, 인터넷 등
 • 정책 정보 전달
 • 여론 형성 주도
 • 정부 정책 감시·비판

해결의 실마리

광역 자치 단체



특별시, 광역시, 도, 특별자치시, 특별자치도



지방 의회



특별(광역시)·도 의회, 특별자치시(도) 의회

해결의 실마리

○○ 대학교의 졸업생들에게 2표를 행사할 수 있는 권한을 줌



유권자가 갖는 표의 가치가 같지 않음



평등 선거의 원칙을 위배함

지방 자치 단체

• 지방 의회 : 의결 기관, 조례 제정, 예산 심의·의결 등
 • 지방 자치 단체장 : 집행 기관, 규칙 제정, 예산 집행 등

17

(가)에 들어갈 자치 단체는 특별시 의회, 광역시 의회, 도 의회, 특별자치시 의회, 특별자치도 의회가 있다.

18

(가)는 지방 자치 단체의 의결 기관인 지방 의회이다.

오답풀이 나, 다, 큰 지방 자치 단체의 집행 기관인 지방 자치 단체장의 역할이다.

19

주민은 다양한 방법으로 지역의 정치 과정에 참여한다.

오답풀이 ① 주민 발의는 주민이 직접 조례안을 작성하여 지방 의회에 제출할 수 있는 제도이다. ② 주민 투표는 지역 사회의 주요 현안을 주민이 직접 투표로 결정하는 제도이다. ③ 주민 참여 예산제는 지방 자치 단체의 예산 편성 과정에 주민이 직접 참여하는 제도이다. ⑤ 주민 소환은 직무를 잘 수행하지 못한 지역 대표를 임기 중에 주민 투표로 해임할 수 있는 제도이다.

20

신문 기사 내용에 나타난 지역 사회의 정치 참여 방법은 주민 발의이다. 주민 발의는 주민이 직접 조례안을 작성하여 지방 의회에 제출할 수 있는 제도이다.

오답풀이 다, 지역 대표는 주민 소환을 통해 해임될 수 있다. 라, 지방 자치 단체장은 법령과 조례의 범위 안에서 규칙을 제정한다.

21

예시답안 이익 집약 / 개인이나 집단의 다양한 이익을 정당, 언론 등이 몇 개의 안으로 수렴하여 여론을 형성한다.

채점 기준	등급	평가 기준
	상	이익 집약이라고 쓰고, 그 의미를 정치 주체와 관련지어 구체적으로 서술한 경우
	하	이익 집약이라고만 쓴 경우

22

예시답안 특정 정당이나 후보자에게 유리하도록 선거구를 임의로 정하는 것을 말한다.

채점 기준	등급	평가 기준
	상	특정 정당이나 후보자에게 유리하도록 선거구를 임의로 정한다는 내용을 바르게 서술한 경우
	하	선거구를 조작한다는 내용만으로 서술한 경우

23

예시답안 지방 정부가 중앙 정부로부터 자율성을 가져야 하며, 지역 주민들은 지역 사회의 문제를 해결하기 위해 주체적이고 자발적으로 참여해야 한다.

채점 기준	등급	평가 기준
	상	지방 자치 제도의 성공적 실현 조건을 두 가지 모두 바르게 서술한 경우
	하	지방 자치 제도의 성공적 실현 조건을 한 가지만 서술한 경우

XI 일상생활과 법

필수 문제로 **학교시험 대비하기** ▶ 시험대비서 34~37쪽

01 ① 02 ④ 03 ③ 04 ② 05 ② 06 ② 07 ①
08 ④ 09 ② 10 ② 11 ② 12 ④ 13 ③ 14 ③
15 ② 16 ③ 17 ④ 18 ② 19 ⑤ 20 ③ 21 해
설 참조 22 해설 참조 23 해설 참조

01

법은 다른 사회 규범과 달리 강제성을 가지고 있어서 이를 지키지 않을 경우 국가에 의해 제재를 받는다.

오답풀이 ◀ ②는 관습의 특징이다. ③은 사회 규범의 정의이다. ④는 종교 규범, ⑤는 도덕의 특징이다.

02

(가)는 도덕, (나)는 법(도로 교통법 제85조 제①항)에 해당한다. 법은 사회 구성원의 합의에 따라 국가가 제정한 사회 규범이며, 도덕과 달리 강제성을 가진다.

오답풀이 ◀ ㄱ. 종교를 믿는 사람들이 지켜야 하는 계율은 종교 규범이다. ㄴ. 도덕은 법에 비해 그 내용이 명확하지 않은 경우가 많다.

03

법은 국민을 규제하거나 처벌하기 위한 것이 아니라 분쟁 해결과 권리 보호를 통한 정의 실현을 목적으로 한다.

04

제시된 자료는 정의의 여신상이다. 이는 재판에서 법에 따라 공정하게 판결을 내려야 한다는 것을 상징한다.

오답풀이 ◀ ㄴ. 해태는 동양에서 옳고 그름, 선악을 판단한다고 알려진 상상의 동물이다. ㄷ. 정의의 여신상은 법의 목적인 정의 실현을 상징한다.

05

제시된 법들은 모두 공법에 속한다. 공법은 국가와 개인 간, 국가 기관 간의 공적인 생활 관계를 규율하는 법이다.

오답풀이 ◀ ① 모두 공법 영역에 속한다. ③은 행정법, ④는 소송법, ⑤는 형법에 관한 설명이다.

06

결혼을 하여 가족을 이루는 일은 사법 영역 중 민법의 규율을 받는다.

07

제시문이 설명하는 법 영역은 공법이다. ㄱ은 공법 영역 중 병역법에 적용되는 사례이다. ㄴ은 공법 영역 중 선거법에 적용되는 사례이다.

오답풀이 ◀ ㄷ, ㄹ은 모두 사적 생활 관계이므로 민법에 적용되는 사례이다.

법의 특성

- 강제성 : 법을 지키지 않을 경우 국가에 의해 제재를 받음
- 명확성 : 내용을 구체적으로 명확하게 규정함

해결의 실마리

산업화 이후 빈부 격차, 실업 등 사회 문제 발생



최소한의 인간다운 생활을 누리지 못하는 사람들이 생겨남



국가가 개입하여 사회적 약자를 보호해야 할 필요성



사회법 등장

해결의 실마리

A와 B 사이에 채권 채무 관계 분쟁이 발생함



A가 민사 재판을 청구함



원고인 A가 자신의 입장을 주장함



법원에서 B가 돈을 갚을 의무가 있다고 판결함

08

사법 영역은 개인과 개인 사이의 사적인 생활 관계이다. ④는 개인 간의 거래 관계이므로 사법 영역에 해당한다.

오답풀이 ◀ ①, ⑤는 사회법, ②, ③은 공법과 관련 있다.

09

제시문은 사회법의 등장 배경에 관한 설명이다.

오답풀이 ◀ ㄴ. 헌법, 형법, 행정법, 소송법 등은 공법에 속한다. ㄹ은 사법에 관한 설명이다.

10

제시문은 사회법 중 사회 보장법에 관한 설명이다. 사회 보장법에는 국민 기초 생활 보장법, 국민연금법, 국민 건강 보험법, 장애인 복지법 등이 있다.

오답풀이 ◀ ㄴ은 노동법, ㄷ은 경제법에 속한다.

11

자료의 괄호에 들어갈 법은 최저 임금법이다. 최저 임금법은 저임금 근로자를 보호하고자 국가가 임금의 최저액을 정해 이를 사용자에게 강제하기 위해 제정하였다.

12

B가 절도죄로 기소되어 재판을 받고 있기 때문에 제시문에 나타난 재판은 형사 재판이다. ④ 피고인은 판결에 불복할 경우 상급 법원에 상소할 수 있다.

오답풀이 ◀ ① 재판을 청구한 사람은 검사이다. ② 형사 재판을 받고 있는 B를 피고인이라고 한다. ③ A는 재판의 당사자가 아니며, 재판의 증인으로 참여한다. ⑤ 범죄 유무와 형벌을 결정하기 위한 재판이다.

13

(가)~(라)는 민사 재판의 절차이다. ㄴ. 개인 간의 분쟁은 민사 재판을 통해 해결할 수 있다. ㄷ. A는 B에게 5천만 원을 빌려 준 사실을 증거로 제출해야 한다.

오답풀이 ◀ ㄱ. B가 범죄를 저지른 것이 아니므로 A는 B를 수사 기관에 고소할 수 없다. ㄷ. 법원에 민사 재판을 제기한 A가 원고, 민사 재판을 받게 된 B가 피고이다.

14

(가)는 검사인 을이 범죄 혐의가 있는 갑을 조사하는 장면이다. (나)는 판사인 병이 형사 재판이 시작된다는 것을 알리는 장면이다. ㄴ. 형사 재판은 검사가 사건에 대해 수사한 후 피의자를 법원에 기소함으로써 시작된다. ㄷ. (가)에서 갑은 피의자로서 검사인 을에게 조사를 받고 있다.

오답풀이 ◀ ㄱ. (가), (나)는 형사 재판의 절차이다. ㄷ. (나)에서 병은 판사이다. 형사 재판에서 판사는 관련 법 조항을 적용하여 범죄의 유무와 형벌의 정도를 판결한다.

15

그림은 형사 재판을 나타낸다. 형사 재판에서는 검사가 소송을 제기하며, 소송을 당한 사람을 피고인이라고 부른다.

16

민사 재판에서 소송을 당한 사람은 피고, 형사 재판에서 범죄 혐의가 있어 재판을 받는 사람은 피고인이라 한다.

17

(가)~(라)는 모두 공정한 재판을 위한 제도이다.

오답풀이 ㄱ. 3심제를 원칙으로 하지만 선거 재판의 경우 단심제나 2심제로 진행되고, 특허 재판의 경우에는 2심제로 진행된다. ㄴ. 형사 재판에서 국민을 배심원으로 참석하게 하는 제도는 국민 참여 재판 제도이다.

18

제시된 헌법 조항은 법원의 조직이나 운영을 다른 국가 기관으로부터 독립하여 외부의 간섭이나 압력을 받지 않도록 하는 사법권의 독립, 즉 재판의 독립을 보장하기 위한 것이다.

19

우리나라는 재판의 과정과 결과를 일반 시민에게 공개하도록 하는 공개 재판주의를 채택하고 있다.

20

그림은 심급 제도를 나타낸다. ③ (가)는 우리나라의 최고 법원인 대법원이다.

오답풀이 ㄱ. ㉠은 상고, ㉡은 항소이다. ㉢ (나)는 고등 법원으로 (가) 대법원의 하급 법원이다. ㉣ 재판의 신속성과 효율성은 낮아진다. ㉤ 재판의 결과에 불만이 있는 원고나 피고, 검사나 피고인 누구나 청구할 수 있다.

21

예시답안 형법 / 범죄의 종류와 형벌을 규정하고 있기 때문이다.

채점 기준	등급	평가 기준
	상	형법이라고 쓰고, 그 이유를 바르게 서술한 경우
	하	형법이라고만 쓴 경우

22

예시답안 민사 재판 / 재판을 청구한 원고는 A이고, 재판을 받게 된 피고는 B이다.

채점 기준	등급	평가 기준
	상	민사 재판이라고 쓰고, 재판 당사자를 '원고'와 '피고'로 구분하여 바르게 서술한 경우
	하	민사 재판이라고만 쓴 경우

23

예시답안 공개 재판주의 / 재판의 과정과 결과를 일반 시민들에게 공개해야 한다는 원칙이다.

채점 기준	등급	평가 기준
	상	공개 재판주의라고 쓰고, 그 의미를 바르게 서술한 경우
	하	공개 재판주의라고만 쓴 경우

사법권의 독립을 실현하는 방법

- 재판의 독립 : 법관이 헌법과 법률에 의하여 그 양심에 따라 독립하여 심판하도록 함
- 법원의 독립 : 법원이 입법부, 행정부로부터 독립되어 있음
- 법관의 신분 보장 : 법관의 임기를 헌법으로 규정함

해결의 실마리

학교장이 전염병 환자 및 전염병 병원체 보유자의 등교 중지를 조치함

학교 보건법에 따른 조치

법은 공공복리 증진을 목적으로 함

재판의 기본 원칙

- 공개 재판주의 : 재판의 심리와 판결을 일반인에게 공개해야 한다는 것
- 증거 재판주의 : 구체적인 증거에 의해 사실을 인정하고 그에 따라 판결을 내려야 한다는 것

실전 문제로 등급 올리기

▶ 시험대비서 38~41 쪽

01 ㉣ 02 ㉢ 03 ㉠ 04 ㉢ 05 ㉡ 06 ㉠ 07 ㉡
08 ㉡ 09 ㉣ 10 ㉠ 11 ㉠ 12 ㉣ 13 ㉡ 14 ㉡
15 ㉢ 16 ㉠ 17 ㉡ 18 ㉣ 19 ㉤ 20 ㉣ 21 해
설 참조 22 해설 참조 23 해설 참조

01

법은 국가가 제정한 사회 규범으로, 강제성을 갖고 있으며 그 내용이 명확하다.

오답풀이 ㄱ. 모든 사회 규범은 사회 질서를 유지하는 기능을 한다. ㄴ. 법은 우리의 일상생활과 밀접하게 연결되어 있다.

02

(가)는 도덕을 지키고 있는 모습, (나)는 법을 지키고 있는 모습이다. ㉢ 법은 강제성이 있어 이를 어길 경우 국가의 제재를 받는다.

오답풀이 ㉠ (나)는 정의의 실현을 목적으로 한다. ㉡ (가)는 내면의 동기를 규율한다. ㉣ (가)는 양심에 비추어 옳다고 여기는 행동의 기준이다. ㉤ (나)는 (가)에 비해 구체적인 내용을 분명하게 규정한다.

03

ㄴ. 법은 분쟁을 강제적으로 해결한다. ㄷ. 사회 구성원 다수의 행복과 이익을 증진한다.

04

학교 보건법에서 법정 전염병을 지정하고 그에 따른 등교 중지 등의 예방 조치를 규정해 놓은 것은 여러 사람의 행복과 이익을 추구하기 위해서이다.

05

공법은 개인과 국가 또는 국가 기관 간의 공적인 생활 관계를 규율하는 법이다.

오답풀이 ㉠ 혼인 신고, ㉢ 출생 신고, ㉣ 회사 설립, ㉤ 소유권 이전 등기 등은 모두 개인의 삶에 관련된 것이므로 사법에 적용된다.

06

(가)는 사법이다. 사법은 개인과 개인 사이의 사적인 생활 관계를 규율하는 법 영역으로 민법, 상법 등이 속한다.

오답풀이 ㄴ은 사회법, ㄷ은 공법에 관한 설명이다.

07

제시문은 상해 범죄에 관한 형벌의 내용을 규정하고 있다. 범죄의 종류와 형벌의 정도를 정해 놓은 법은 형법이다.

08

사법 중 민법은 주로 개인의 가족 및 친족 관계, 재산 및 거래 관계, 손해 배상 등을 다룬다.

오답풀이 ①은 공법 중 민사 소송법, ③은 공법 중 형법, ④는 공법 중 헌법, ⑤는 공법 중 행정법과 관련 있다.

09

근대 시민 사회에서 개인의 자유와 권리를 최대한 보장한 결과 빈부 격차, 노사 갈등 등의 여러 문제가 발생하였고, 이의 해결을 위해 국가가 개인의 사적인 생활 영역에 적극적으로 개입함으로써 나타난 법 영역이 사회법이다.

10

사회 보장법은 모든 국민의 최소한의 인간다운 삶을 보장하기 위한 법이다.

오답풀이 ②는 사법 중 민법, ③은 공법 중 형법, ④는 사회법 중 노동법, ⑤는 사회법 중 경제법을 적용받는다.

11

선거 재판은 선거와 당선의 유효 또는 무효 여부를 다룬다.

오답풀이 ②는 민사 재판, ③은 가사 재판, ④는 형사 재판, ⑤는 행정 재판에 관한 설명이다.

12

밀줄 친 재판은 B가 A에게 손해 배상을 요구하는 재판이므로 민사 재판이다. ④ 검사는 공소를 제기하여 피고인의 처벌을 요구하는 사람으로, 형사 재판에 참여한다.

13

재판의 당사자로 피고인과 검사가 등장하고 있으므로 형사 재판이다. ② 증거 재판주의에 따라 형사 재판에서 피고인의 자백만으로는 유죄 판결을 내릴 수 없다.

오답풀이 ① ㉠ 피고인은 형사 사건으로 기소되어 재판을 받는 사람이다. ③ 형사 재판에서 판사는 형법 및 형사 소송법에 따라 판결을 내린다. ④ 검사는 피고인의 처벌을 요구하는 사람이다. ⑤ 항소심은 일반적으로 고등 법원에서 담당한다.

14

제시된 내용과 같은 개인과 개인 사이의 분쟁은 민사 재판을 통해 해결할 수 있다. ② 민사 재판은 원고가 법원에 소장을 제출함으로써 시작된다.

오답풀이 ① 검사, ③ 국민 참여 재판 제도, ④ 고소는 형사 재판과 관련 있다. ⑤ 전세금을 줄 때까지 무작정 기다리는 것은 적절한 해결 방법이 아니다.

15

(가)에는 '검사의 공소 제기(기소)'가 들어가야 한다.

오답풀이 ① 소장은 검사가 제출한다. ② 고소는 '경찰의 수사' 전에 이루어진다. ④ 상소는 판결 이후에 이루어진다. ⑤ 판사의 판결은 재판의 마지막 단계에서 이루어진다.

16

ㄱ, (가)는 민사 재판, (나)는 형사 재판이다. ㄴ, 민사 재판은 원고가 법원에 소장을 제기함으로써 시작된다.

사회법

- 의미 : 사적 생활 영역에 국가가 개입하여 만들어진 법
- 성격 : 사법과 공법의 중간적 성격
- 목적 : 사회적 약자의 권리 보호, 모든 국민의 인간다운 삶 보장
- 종류 : 노동법, 경제법, 사회 보장법

민사 재판의 참여자

- 원고 : 소송을 제기한 사람
- 피고 : 소송을 제기당한 사람
- 판사 : 판결을 내리는 사람
- 변호사(소송 대리인) : 원고나 피고의 편에 서서 법률적인 도움을 주는 사람

해결의 실마리

경찰이 절도 혐의로 B를 체포하여 수사함



검사가 B를 기소하여 형사 재판이 열림



법정에서 검사는 피고인을 신문하고 변호인은 변론함

오답풀이 ㄷ, (나)는 검사가 공소를 제기하여 시작된다. ㄴ, (가)의 판사는 민법을, (나)의 판사는 형법을 적용하였다.

17

우리나라는 공정한 재판을 위하여 사법권의 독립 보장, 심급 제도, 증거 재판주의, 공개 재판주의 등과 같은 다양한 제도를 채택하고 있다. ② 법원은 일반적으로 로스쿨을 졸업하고 자격시험에 합격한 사람이나 사법 시험에 합격하여 사법 연수원 과정을 마친 사람 중에서 임명한다.

18

사법권의 독립은 법원의 독립과 법관의 신분 보장 등을 통해 실현할 수 있다.

오답풀이 ㄱ, 우리나라에서는 공개 재판주의를 채택하고 있다. ㄷ, 국민 참여 재판 제도는 사법의 민주적 정당성과 신뢰를 확보하기 위한 것이다.

19

제시된 자료는 증거 재판주의를 나타낸다. 증거 재판주의란 명확한 증거에 의해 재판이 진행되어야 한다는 원칙이다.

20

제시된 그림은 심급 제도를 나타내고 있다. ④ 심급 제도는 신중하고 공정한 재판을 통해 국민의 자유와 권리를 보호하기 위해 마련되었다.

21

예시답안 사회적 약자의 권리를 보호하고, 모든 국민의 인간다운 삶을 보장하는 것이요.

채점 기준	등급	평가 기준
	상	사회법의 목적인 '사회적 약자의 권리 보호', '모든 국민의 인간다운 삶 보장'을 모두 바르게 서술한 경우
	하	'사회적 약자의 권리 보호', '모든 국민의 인간다운 삶 보장' 중 하나만을 서술한 경우

22

예시답안 (가) 민사 재판, (나) 형사 재판 / 민사 재판은 개인들 간의 권리와 의무에 관한 다툼을 해결하기 위한 재판이고, 형사 재판은 범죄의 종류와 형벌의 양을 결정하기 위한 재판이다.

채점 기준	등급	평가 기준
	상	(가) 민사 재판, (나) 형사 재판이라고 쓰고, 그 차이점을 바르게 서술한 경우
	하	(가) 민사 재판, (나) 형사 재판이라고만 쓴 경우

23

예시답안 ㉠ 상고, ㉡ 항소 / 상고는 2심 법원의 판결에 불복하여 3심을 청구하는 것이고, 항소는 1심 법원의 판결에 불복하여 2심을 청구하는 것이다.

채점 기준	등급	평가 기준
	상	㉠ 상고, ㉡ 항소라고 쓰고, 그 의미를 바르게 서술한 경우
	하	㉠ 상고, ㉡ 항소라고만 쓴 경우

XII

사회 변동과 사회 문제

필수 문제로 **학교시험 대비하기** ▶ 시험대비서 42~45쪽

01 ④ 02 ⑤ 03 ① 04 ① 05 ④ 06 ③ 07 ②
08 ② 09 ④ 10 ④ 11 ③ 12 ③ 13 ⑤ 14 ②
15 ① 16 ④ 17 ① 18 ④ 19 ② 20 ⑤ 21 해
설 참조 22 해설 참조 23 해설 참조

01

산업 혁명은 18~19세기에 새로운 기계의 발명으로 이루어진 기술상의 혁신과 이에 수반하여 일어난 사회·경제 구조상의 변혁이다. 이는 사회 변동 요인 중 과학 기술의 발달과 관련 있다.

02

과거에는 주로 자연환경의 변화, 전쟁이나 교역과 같은 정치적·경제적 상황 등에 따라 사회 변동이 이루어졌고, 최근에는 과학 기술의 발달이 사회 변동을 주도하고 있다.

오답풀이 ① 사회 변동의 양상은 사회마다 다르다. ② 사회 변동이 일어나는 속도는 점점 빨라지고 있다. ③ 현대 사회의 변동은 전 세계에서 나타나고 있다. ④ 현대 사회로 올수록 변동이 미치는 범위가 넓어지고 있다.

03

제시문의 밑줄 친 '이것'은 산업화이다. 산업화는 전체 산업에서 공업이 차지하는 비율이 높아지는 현상이다.

04

인류 사회는 농업 사회에서 산업 혁명을 거쳐 산업 사회로 변동하였고, 다시 정보 혁명을 거치면서 정보 사회로 변동하였다. 산업화로 공장제 기계 공업이 발달하면서 생산성이 향상되어 대량 생산과 대량 소비가 가능해졌다.

오답풀이 ㄷ. 정보 사회에서는 지식·정보 산업이 경제를 주도한다. ㄹ. 도시로의 인구 집중은 산업화가 진행되면서 도시에 공장이 들어서고 많은 일자리가 생겨났기 때문에 나타났다.

05

제시된 사진은 인터넷과 스마트폰을 활용하는 모습으로, 정보화와 관련 있다. ④ 정보 사회에서는 개인의 개성과 창의성이 중시되고, 생산 과정에 소비자의 의견이 반영되어 생산이 이루어진다.

오답풀이 ①, ②는 산업화와 관련 있다. ③ 정보화가 진행되면 시간과 공간의 제약이 작아진다. ⑤ 정보 사회에서는 개인이 사회에 미치는 영향력이 커진다.

06

정보화가 진행되면서 나타난 부작용으로는 정보의 소유나 접근, 활용의 차이에 따라 경제적 격차가 발생하는 정보

해결의 실마리

교통·통신 기술의 발달



전 세계가 하나의 생활 단위가 됨



세계화

07

제시문의 밑줄 친 '이것'은 세계화이다. 세계화는 교통·통신 기술의 발달로 세계가 하나의 사회로 통합되어 가는 현상이다.

08

세계화가 진행되면 국경을 초월하는 교류와 거래가 증가하고, 국가 간 상호 의존성이 높아진다. 또한 세계의 다양한 문화를 쉽게 접할 수 있으며, 소비자가 상품이나 일자리 등에 있어서 선택할 수 있는 폭이 넓어진다. ② 세계화로 국가 간 상호 작용이 늘어나고 서로에게 미치는 영향력이 확대되면서 국가 간 협력뿐만 아니라 경쟁도 증가한다.

09

세계화가 진행되면 강대국이 다른 국가의 주권을 침해하는 문제가 나타날 수 있고, 국가 간 경제적 격차가 심화될 수 있다.

오답풀이 ㄱ. 약소국이나 소수 민족의 문화가 약화될 수 있고, 서구 문화로의 획일화 현상이 나타날 수 있다. ㄷ. 세계화는 민주주의의 이념 확산에 기여한다.

10

제시된 그래프는 출산율이 하락하고 있는 추세를 보여 주므로 저출산 현상을 나타낸다. 저출산 현상은 여성의 경제 활동 증가, 자녀 양육의 경제적 부담 등이 원인이 되어 나타난다. 이러한 현상이 지속될 경우 우리나라의 인구가 감소하고 사회가 안정적으로 유지되기 어렵다.

오답풀이 ㄱ. 1970년대에는 높은 출산율에 따른 인구 증가를 예방하기 위해 출산 억제 정책이 실시되었다. ㄷ. 저출산 현상이 계속되면 생산 가능 인구가 감소하여 경제 성장이 둔화하는 결과가 나타난다.

11

고령화가 지속되면 노동력 부족 문제가 나타나 경제 성장이 둔화된다. 또한 노인 질병이나 노인 빈곤과 같은 문제가 증가하고 노인 부양 부담이 커지게 된다. 그리고 이러한 문제를 해결하기 위해 노인 복지와 관련한 각종 제도가 확대될 수 있다. ③ 노인 인구의 비율이 늘면 노인 복지에 소요되는 정부의 재정 지출 규모도 증가할 것이다.

12

제시문의 상황과 관련하여 저출산 문제를 해결하기 위해서는 일과 육아를 함께 할 수 있는 여건을 마련해야 한다. ③ 여성의 사회 진출 제한은 적절한 방안으로 볼 수 없다.

13

다양한 인종, 종교, 문화를 가진 사람들이 공존하는 사회

산업화

- 의미 : 농업 중심의 사회에서 공업 중심의 사회로 변화하는 현상
- 특징 : 대량 생산, 생활 수준 향상, 인구 증가, 도시에 인구 집중 등

저출산의 대응 방안

- 영유아 보육비 지원, 육아 휴직 제도 확대 등 출산 장려 정책 마련
- 양성평등 문화 확립
- 일과 가정을 함께 돌볼 수 있는 문화 확산

를 다문화 사회라고 한다. 외국인 노동자, 외국인 유학생, 국제결혼 이주자 등의 국내 유입이 증가하면서 우리 사회는 다문화 사회로 변화하고 있다.

14

제시된 내용은 다문화 사회에 관한 설명이다. ② 다문화 사회로의 변화는 총인구의 감소 시기를 늦추고 인구 고령화를 완화하는 데 기여한다.

15

문화 차이에 따른 갈등을 예방하기 위해서는 서로 다른 문화를 편견 없이 이해하고 존중하는 개방적 태도를 가져야 한다.

16

사회 문제는 발생 원인이 사회에 있고 사회 구성원 대다수가 문제라고 인식하여 개선이 필요한 현상으로, 인간의 노력으로 해결 가능해야 한다.

오답풀이 ㄱ은 개인적인 문제로 사회 문제가 아니다. ㄷ. 지진과 같은 자연재해는 인간의 의지로 해결하기 어렵기 때문에 사회 문제로 보지 않는다.

17

과거에는 사회 문제가 아니었던 현상이 오늘날에는 사회 문제로 인식될 수 있고, 그 반대로 가능하다. 이처럼 사회 문제는 시대나 장소에 따라 달라질 수 있다.

18

A국은 저출산, B국은 높은 출산율이 문제가 된다. 따라서 A국은 출산 보조금 지급, 육아 휴직 제도 확대, 영유아 보육 시설 확대 등과 같은 출산 장려 정책을, B국은 한 자녀 갖기 운동 등과 같은 산아 제한 정책을 실시해야 한다.

19

우리 사회에서 나타나는 노동 문제로는 임금이나 근로 조건 등을 둘러싼 노사 갈등, 일하고자 하는 능력이나 의지가 있으나 일자리를 구하지 못하는 실업 문제, 저임금이나 성별·고용 형태별 임금 차별과 같은 임금 문제 등이 있다.

오답풀이 ㄴ. 업무 성과에 따른 임금 차등 지급은 합리적인 것이다. ㄷ. 전체 노동자 중 정규직 비율의 증가는 문제로 볼 수 없고, 비정규직 비율이 증가하고 비정규직 노동자가 고용 불안을 느끼는 것이 문제이다.

20

제시문을 통해 환경 문제는 개별 국가의 노력만으로 해결하기 어려우며, 전 지구적 협력이 필요함을 알 수 있다.

21

예시답안 산업화에 따른 긍정적 영향으로는 생산성이 증가하여 생활 수준이 크게 향상되었다. 반면 부정적 영향으로는 도시로의 인구 집중과 도시와 농촌 간의 격차, 빈부 격차 심화, 노동자와 사용자 간 갈등 등의 문제가 발생하였다.

고령화의 대응 방안

- 연금 제도 개선
- 노인 편의 시설 확대
- 노인 일자리 제공
- 평생 교육 지원

해결의 실마리

A국 : 함께 출산율이 지속적으로 감소하여 12명까지 떨어짐



출산 장려 정책 필요

B국 : 함께 출산율이 44명에서 지속적으로 증가하는 추세를 보임



산아 제한 정책 필요

현대 사회의 변동 양상

- 산업화 : 농업 위주의 사회가 공업(제조업) 위주의 사회로 변화하는 과정
- 정보화 : 지식과 정보가 사회의 중심이 되어 사회를 이끌어 가는 현상
- 세계화 : 전 세계가 하나로 연결되어 국가 간 상호 의존성이 높아지는 현상

채점기준	등급	평가 기준
	상	산업화의 긍정적 영향과 부정적 영향을 모두 서술한 경우
	하	산업화의 긍정적 영향과 부정적 영향 중 한 가지 측면만 서술한 경우

22

예시답안 고령화 / 노후 보장에 필요한 연금 제도 및 노인 복지 제도를 마련한다, 평생 교육 지원 및 재취업 기회 제공 등을 통해 노년층의 경제 활동을 장려한다 등

채점기준	등급	평가 기준
	상	고령화라고 쓰고, 그 대응 방안을 두 가지 서술한 경우
	중	고령화라고 쓰고, 그 대응 방안을 한 가지 서술한 경우
	하	고령화라고만 쓴 경우

23

예시답안 이주 외국인을 대상으로 한국어와 한국 문화에 대한 교육 서비스를 제공한다. 다문화 가족에 대한 복지 서비스를 확대한다. 이주민과 내국인 모두를 대상으로 서로의 문화에 대한 이해를 도울 수 있는 다문화 교육을 실시한다 등

채점기준	등급	평가 기준
	상	다문화 가족 문제의 해결 방안을 두 가지 서술한 경우
	하	다문화 가족 문제의 해결 방안을 한 가지만 서술한 경우

실전 문제로 등급 올리기

▶ 시험대비서 46~48쪽

01 ③ 02 ④ 03 ⑤ 04 ⑤ 05 ② 06 ④ 07 ③
08 ③ 09 ① 10 ③ 11 ③ 12 ④ 13 ② 14 ④
15 해설 참조 16 해설 참조 17 해설 참조

01

사회 변동은 자연환경의 변화, 인구의 변화, 가치관의 변화, 정치적 사건, 정부 정책, 과학 기술의 발달 등으로 나타난다. ③은 가치관의 변화, 나머지는 과학 기술의 발달로 인한 사회 변동의 사례이다.

02

(㉠)의 대량 생산 모습은 산업화, (㉡)의 스마트폰을 활용한 사회 참여 확대는 정보화, (㉢)에 제시된 세계의 다양한 상품 및 문화 접촉의 기회 확대는 세계화와 관련 있다.

03

농업 사회에서 산업 사회로의 변화는 산업화를 통해 이루어졌다. ㄱ, ㄴ은 정보화에 따른 사회 변동 모습이다.

04

산업화로 빈부 격차, 노사 갈등, 전통적 가족 제도의 붕괴, 환경 오염 등의 문제가 발생하였다. ⑤ 산업화로 도시에

공장이 들어서고 많은 일자리가 생겨나면서 도시로 인구가 집중하였다.

05

제시된 그래프는 국내 인터넷 이용률이 점차 증가하는 모습을 보여 주며, 이는 정보화와 관련 있다. 정보 사회가 되면 지식·정보 산업이 경제를 주도하게 되고, 개인의 개성과 창의성이 강조되며, 생산 과정에 소비자의 의견이 적극 반영된다. 또한 전자 상거래, 인터넷 뱅킹 등이 가능해져 생활이 보다 편리해지고, 새로운 매체가 등장하여 대중의 문화적 공간이 다양해진다. ② 소품종 대량 생산 체제가 일반화된 것은 산업화 이후이고, 정보 사회에서는 다품종 소량 생산 체제가 확산된다.

06

인터넷의 발달로 생겨난 사이버 공간에서는 현실 공간과 달리 익명성이 보장되지만, 개인 정보 유출로 사생활 침해 문제가 발생한다.

07

제시문은 문화의 확립화가 이루어지고 있는 모습을 보여 준다. 이러한 상황은 지역의 고유문화 약화로 이어질 수 있다.

08

제시된 그래프는 유소년 인구 비율이 줄어들고 노인 인구 비율이 늘어나는 것을 보여 주며, 이는 저출산·고령화 현상을 나타낸다. 저출산·고령화 현상이 나타나면 노동력 부족으로 경제 성장이 둔화될 수 있고, 노인 인구 부양에 필요한 비용이 증가한다. 또한 노인 빈곤이나 노인 질병 등의 노인 문제, 세대 간 갈등 문제가 증가하게 된다. ③ 노인 인구가 전체 인구에서 차지하는 비중이 커짐에 따라 노년층의 사회적·정치적 영향력이 커질 것이다.

09

㉔ 의무 고용 기간을 연장하고 노년층의 경제 활동을 장려하여 안정적인 노후 생활을 할 수 있도록 해야 한다. ㉕ 남녀가 동등하게 부모 역할을 할 수 있도록 해야 한다.

10

육아 휴직 제도의 의무화 및 확대, 아이 돌봄 서비스 시행은 여성의 육아 부담을 줄이고 일과 육아를 병행할 수 있도록 지원하는 출산 장려 정책이다.

오답풀이 ①, ⑤는 고령화에 대한 대응 방안이다. ② 제시문의 내용은 육아 부담에 대한 개인의 책임을 줄이고, 사회의 책임을 강화하는 내용이 담겨 있다. ④ 여성의 사회 진출 제한은 적절한 방안이라 할 수 없으며, 제시문의 내용과도 관련이 없다.

11

①, ②, ④, ⑤는 환경 문제 해결을 위한 개인적 측면의 방안이고, ③은 사회적·제도적 측면의 방안이다.

다문화 사회

- 의미 : 서로 다른 인종과 다양한 문화가 공존하는 사회
- 형성 배경 : 외국인 노동자, 국제결혼 이민자, 외국인 유학생, 북한 이탈 주민 등의 국내 유입

해결의 실마리

세계화로 어디에서나 햄버거와 할리우드 영화를 접할 수 있음

전 세계의 생활 양식이 비슷해짐

서구 문화의 확산과 문화의 확립화

저출산·고령화의 문제점

- 노동력 부족
- 경제 성장 둔화
- 노인 부양에 필요한 비용 증가
- 국가 재정 부담 증가
- 노인의 빈곤·질병·소외 문제
- 세대 간 갈등

12

다문화 사회는 한 사회 내에서 다양한 인종과 문화가 공존하는 사회를 말한다. ④ 국내로 들어오는 외국인의 수가 증가하면 그만큼 인구수가 늘어나므로, 총인구가 감소하는 시기를 늦출 수 있다.

13

갑은 이주민이 그들의 문화를 버리고 우리 문화를 따라야 한다고 주장하고 있고, 을은 이주민들의 문화를 존중해야 한다고 주장하고 있다. 갑과 같은 태도는 이주민과 내국인 간의 문화 갈등을 초래할 수 있고, 을과 같은 태도는 다양한 문화가 공존하는 데 도움이 된다.

오답풀이 ㄴ. 타문화에 대한 개방적 태도를 보이는 것은 을이다. ㄷ. 을은 다양한 문화의 공존을 주장하므로 문화 상대주의적 태도에 가깝다.

14

제시된 그래프는 정규직 노동자와 비정규직 노동자의 임금 격차가 나타남을 보여 준다. 또한 두 근로 형태의 임금 격차가 커지고 있음을 알 수 있다.

오답풀이 ㄴ. 정규직에 비해 비정규직의 임금 수준이 낮다. ㄷ. 정규직에 비해 비정규직의 임금 상승 폭이 작다.

15

예시답안 다양한 문화를 접하는 과정에서 문화 발전이 나타날 수 있다. 국가 간 교역이 증가하여 소비자의 선택 폭이 넓어진다 등

채점기준	등급	평가기준
	상	세계화의 긍정적 측면을 두 가지 서술한 경우
	하	세계화의 긍정적 측면을 한 가지만 서술한 경우

16

예시답안 태어나는 아이의 수가 줄어들고 전체 인구에서 노인 인구가 차지하는 비율이 늘어나는 저출산·고령화 현상이 나타나고 있다. 이로 인해 노동력 부족 및 경제 성장 둔화, 노인 인구 부양에 필요한 비용 증가 등의 문제가 발생할 수 있다.

채점기준	등급	평가기준
	상	저출산·고령화 현상의 내용을 쓰고, 그로 인한 문제점을 바르게 서술한 경우
	하	저출산·고령화 현상이 나타난다고만 서술한 경우

17

예시답안 현대 사회에서 나타나는 노동 문제에는 임금 인상과 노동 환경의 개선 등을 둘러싼 노사 갈등, 임금 차별이나 저임금과 관련한 임금 문제, 일하고자 하는 사람이 일자리를 얻지 못하는 실업 문제 등이 있다.

채점기준	등급	평가기준
	상	노동 문제의 유형을 두 가지 이상 서술한 경우
	하	노동 문제의 유형을 한 가지만 서술한 경우