

문제 풀이 
 능력을 향상시키는

채움 해설서



정답 한눈에 보기

02



기본 학습서편

04

I. 인권과 헌법

04

II. 헌법과 국가 기관

10

III. 경제생활과 선택

16

IV. 시장 경제와 가격

22

V. 국민 경제와 국제 거래

28

VI. 국제 사회와 국제 정치

34



시험 대비서편

39



기본 학습서편

I 인권과 헌법

1 인권과 기본권

012~015쪽 01 ③ 02 ④ 03 ⑤ 04 ③ 05 ① 06 ② 07 ① 08 ③ 09 ⑤ 10 ① 11 ① 12 ② 13 ④ 14 ④ 15 세계 인권 선언 16 인간의 존엄과 가치 및 행복 추구권 17 사회권 18 해설 참조 19 해설 참조 20 해설 참조

2 인권 침해와 구제 방법 ~ 3 근로자의 권리 보호

018~021쪽 01 ① 02 ③ 03 ② 04 ③ 05 ⑤ 06 ① 07 ② 08 ④ 09 ① 10 ⑤ 11 ④ 12 ④ 13 ② 14 ② 15 재판 16 국가 인권 위원회 17 ㉠ 단결권, ㉡ 단체 교섭권 18 해설 참조 19 해설 참조 20 해설 참조

● 대단원 완성 문제

023~026쪽 01 ② 02 ⑤ 03 ④ 04 ② 05 ③ 06 ⑤ 07 ② 08 ③ 09 ③ 10 ① 11 ④ 12 ⑤ 13 ① 14 ④ 15 ④ 16 ② 17 해설 참조 18 해설 참조 19 해설 참조 20 해설 참조

II 헌법과 국가 기관

1 국회

030~033쪽 01 ⑤ 02 ② 03 ④ 04 ⑤ 05 ③ 06 ④ 07 ① 08 ② 09 ⑤ 10 ⑤ 11 ① 12 ③ 13 ③ 14 ⑤ 15 ㉠ 대표, ㉡ 입법 16 ㉠ 지역구 국회의원, ㉡ 비례 대표 국회의원 17 본회의 18 해설 참조 19 해설 참조 20 해설 참조

2 행정부와 대통령 ~ 3 법원과 헌법 재판소

036~039쪽 01 ② 02 ② 03 ③ 04 ⑤ 05 ② 06 ① 07 ③ 08 ④ 09 ③ 10 ④ 11 ⑤ 12 ⑤ 13 ② 14 ① 15 행정부 16 행정 각부 17 헌법 소원 심판 18 해설 참조 19 해설 참조 20 해설 참조

● 대단원 완성 문제

043~046쪽 01 ① 02 ⑤ 03 ① 04 ② 05 ③ 06 ⑤ 07 ⑤ 08 ③ 09 ② 10 ⑤ 11 ③ 12 ② 13 ② 14 ③ 15 ① 16 ⑤ 17 해설 참조 18 해설 참조 19 해설 참조 20 해설 참조

III 경제생활과 선택

1 합리적 선택과 경제 체제

052~055쪽 01 ③ 02 ② 03 ④ 04 ③ 05 ③ 06 ④ 07 ④ 08 ② 09 ④ 10 ③ 11 ② 12 ② 13 ⑤ 14 ⑤ 15 ㉠ 분배, ㉡ 생산 16 기회 비용 17 ㉠ 계획 경제 체제, ㉡ 시장 경제 체제 18 해설 참조 19 해설 참조 20 해설 참조

2 기업의 역할과 사회적 책임 ~ 3 금융 생활의 중요성

058~061쪽 01 ⑤ 02 ⑤ 03 ② 04 ① 05 ⑤ 06 ② 07 ③ 08 ① 09 ② 10 ① 11 ④ 12 ③ 13 ③ 14 ⑤ 15 기업 16 기업가 정신 17 ㉠ 안전성, ㉡ 수익성, ㉢ 유동성 18 해설 참조 19 해설 참조 20 해설 참조

● 대단원 완성 문제

063~066쪽 01 ① 02 ④ 03 ② 04 ② 05 ③ 06 ④ 07 ③ 08 ⑤ 09 ⑤ 10 ② 11 ④ 12 ④ 13 ② 14 ③ 15 ① 16 ⑤ 17 해설 참조 18 해설 참조 19 해설 참조 20 해설 참조

IV 시장 경제와 가격

1 시장의 의미와 종류 ~ 2 시장 가격의 결정

072~075쪽 01 ② 02 ③ 03 ⑤ 04 ④ 05 ③ 06 ⑤ 07 ② 08 ⑤ 09 ⑤ 10 ③ 11 ④ 12 ⑤ 13 ③ 14 ① 15 시장 16 ㉠ 수요 법칙, ㉡ 공급 법칙 17 균형 가격: 1,000원, 균형 거래량: 30만 포기 18 해설 참조 19 해설 참조 20 해설 참조

3 시장 가격의 변동

080~083쪽 01 ② 02 ② 03 ③ 04 ② 05 ③ 06 ③ 07 ② 08 ③ 09 ⑤ 10 ④ 11 ④ 12 ④ 13 ③ 14 ③ 15 ㉠ 수요량의 변화, ㉡ 수요의 변화 16 대체재 17 생산 요소의 가격(생산비) 18 해설 참조 19 해설 참조 20 해설 참조

● 대단원 완성 문제

085~088쪽 01 ⑤ 02 ⑤ 03 ② 04 ④ 05 ⑤ 06 ③ 07 ④ 08 ② 09 ② 10 ④ 11 ④ 12 ② 13 ④ 14 ① 15 ③ 16 ④ 17 해설 참조 18 해설 참조 19 해설 참조 20 해설 참조

V 국민 경제와 국제 거래

1 국내 총생산과 경제 성장 ~ 2 물가와 실업

092~095쪽 01 ④ 02 ⑤ 03 ② 04 ⑤ 05 ③ 06 ④ 07 ③ 08 ① 09 ④ 10 ② 11 ③ 12 ④ 13 ③ 14 ① 15 국내 총생산(GDP) 16 인플레이션 17 실업 18 해설 참조 19 해설 참조 20 해설 참조

3 국제 거래와 환율

100~103쪽 01 ① 02 ③ 03 ③ 04 ④ 05 ② 06 ④ 07 ⑤ 08 ② 09 ① 10 ③ 11 ① 12 ④ 13 ② 14 ④ 15 ㉠ 국제 거래, ㉡ 관세 16 자유 무역 협정(FTA) 17 A 상승, B 하락 18 해설 참조 19 해설 참조 20 해설 참조

● 대단원 완성 문제

105~108쪽 01 ④ 02 ③ 03 ④ 04 ⑤ 05 ② 06 ③ 07 ③ 08 ② 09 ④ 10 ③ 11 ④ 12 ④ 13 ④ 14 ② 15 ① 16 ⑤ 17 해설 참조 18 해설 참조 19 해설 참조 20 해설 참조

VI 국제 사회와 국제 정치

1 국제 사회의 특성과 행의 주체 ~ 2 국제 사회의 갈등과 협력

114~117쪽 01 ① 02 ② 03 ② 04 ③ 05 ② 06 ④ 07 ② 08 ⑤ 09 ④ 10 ② 11 ② 12 ② 13 ③ 14 ① 15 ㉠ 정부 간 국제기구, ㉡ 국제 비정부 기구 16 협력 17 외교 18 해설 참조 19 해설 참조 20 해설 참조

3 우리나라의 국가 간 갈등과 해결

120~123쪽 01 ③ 02 ② 03 ⑤ 04 ④ 05 ① 06 ② 07 ② 08 ① 09 ④ 10 ③ 11 ③ 12 ② 13 ④ 14 ④ 15 독도 16 동북공정 17 반크(VANK) 18 해설 참조 19 해설 참조 20 해설 참조

● 대단원 완성 문제

125~128쪽 01 ⑤ 02 ④ 03 ④ 04 ③ 05 ② 06 ③ 07 ① 08 ④ 09 ⑤ 10 ② 11 ① 12 ① 13 ⑤ 14 ② 15 ⑤ 16 ⑤ 17 해설 참조 18 해설 참조 19 해설 참조 20 해설 참조

시험 대비서편

I 인권과 헌법

02~05쪽 ① 인권 ② 세계 인권 선언 ③ 헌법 ④ 기본권 ⑤ 참정권 ⑥ 청구권 ⑦ 헌법 소원 심판 ⑧ 국가 인권 위원회 ⑨ 단결권 ⑩ 부당 노동 행위

01 ⑤ 02 ① 03 ② 04 ③ 05 ⑤ 06 ⑤ 07 ④ 08 ① 09 ③ 10 ⑤
11 ② 12 ④ 13 ⑤ 14 ④ 15 ③ 16 ④ 17 ⑤ 18 ⑤ 19 ④ 20 ⑤

06~09쪽 01 ② 02 ① 03 ③ 04 ③ 05 ② 06 ③ 07 ① 08 ①
09 ③ 10 ④ 11 ④ 12 ⑤ 13 ③ 14 ② 15 ② 16 ⑤ 17 ② 18 ③
19 ① 20 ④ 21 해설 참조 22 해설 참조 23 해설 참조

II 헌법과 국가 기관

10~13쪽 ① 국회 ② 비례 대표 국회의원 ③ 위원회 ④ 국정 감사권 ⑤ 행정부 ⑥ 대통령 ⑦ 국무 회의 ⑧ 법원(사법부) ⑨ 대법원 ⑩ 헌법 소원 심판

01 ② 02 ④ 03 ③ 04 ④ 05 ② 06 ① 07 ③ 08 ④ 09 ③ 10 ④
11 ⑤ 12 ④ 13 ② 14 ③ 15 ⑤ 16 ④ 17 ③ 18 ④ 19 ⑤ 20 ⑤

14~17쪽 01 ② 02 ⑤ 03 ① 04 ⑤ 05 ⑤ 06 ④ 07 ② 08 ⑤
09 ④ 10 ② 11 ④ 12 ⑤ 13 ③ 14 ④ 15 ③ 16 ③ 17 ⑤ 18 ④
19 ③ 20 ① 21 해설 참조 22 해설 참조 23 해설 참조

III 경제생활과 선택

18~21쪽 ① 재화 ② 생산 ③ 자원의 희소성 ④ 기회비용 ⑤ 시장 경제 체제 ⑥ 기업 ⑦ 기업가 정신 ⑧ 유동성 ⑨ 채권 ⑩ 신용

01 ⑤ 02 ④ 03 ③ 04 ③ 05 ③ 06 ② 07 ④ 08 ③ 09 ③ 10 ①
11 ⑤ 12 ⑤ 13 ④ 14 ④ 15 ④ 16 ① 17 ⑤ 18 ② 19 ③ 20 ①

22~25쪽 01 ⑤ 02 ③ 03 ① 04 ④ 05 ⑤ 06 ⑤ 07 ① 08 ③
09 ④ 10 ① 11 ③ 12 ② 13 ③ 14 ③ 15 ② 16 ④ 17 ② 18 ①
19 ④ 20 ③ 21 해설 참조 22 해설 참조 23 해설 참조

IV 시장 경제와 가격

26~29쪽 ① 시장 ② 보이지 않는 시장 ③ 생산 요소 시장 ④ 수요 법칙 ⑤ 공급 ⑥ 초과 수요 ⑦ 시장 가격 ⑧ 대체재 ⑨ 상승한다. ⑩ 상승한다.

01 ① 02 ② 03 ① 04 ③ 05 ③ 06 ④ 07 ③ 08 ⑤ 09 ④ 10 ②
11 ② 12 ① 13 ⑤ 14 ② 15 ⑤ 16 ⑤ 17 ③ 18 ③ 19 ③ 20 ①

30~33쪽 01 ④ 02 ① 03 ① 04 ⑤ 05 ③ 06 ④ 07 ③ 08 ③
09 ⑤ 10 ④ 11 ④ 12 ② 13 ② 14 ④ 15 ② 16 ② 17 ④ 18 ①
19 ④ 20 ⑤ 21 해설 참조 22 해설 참조 23 해설 참조

V 국민 경제와 국제 거래

34~37쪽 ① 국내 총생산(GDP) ② 경제 성장 ③ 물가 ④ 인플레이션 ⑤ 실업 ⑥ 국제 거래 ⑦ 관세 ⑧ 세계 무역 기구(WTO) ⑨ 환율 ⑩ 증가한다.

01 ③ 02 ⑤ 03 ① 04 ④ 05 ④ 06 ③ 07 ② 08 ④ 09 ⑤ 10 ③
11 ④ 12 ② 13 ① 14 ④ 15 ② 16 ① 17 ② 18 ④ 19 ⑤ 20 ④

38~41쪽 01 ③ 02 ④ 03 ④ 04 ⑤ 05 ② 06 ④ 07 ④ 08 ⑤
09 ② 10 ③ 11 ④ 12 ⑤ 13 ④ 14 ① 15 ④ 16 ⑤ 17 ③ 18 ④
19 ① 20 ④ 21 해설 참조 22 해설 참조 23 해설 참조

VI 국제 사회와 국제 정치

42~45쪽 ① 국제 사회 ② 중앙 정부 ③ 국가 ④ 국제 비정부 기구 ⑤ 다국적 기업 ⑥ 외교 ⑦ 독도 ⑧ 동북공정 ⑨ 프랑스 ⑩ 반크(VANK)

01 ⑤ 02 ① 03 ② 04 ④ 05 ⑤ 06 ④ 07 ⑤ 08 ⑤ 09 ④ 10 ③
11 ② 12 ① 13 ⑤ 14 ① 15 ③ 16 ⑤ 17 ① 18 ④ 19 ④ 20 ②

46~48쪽 01 ③ 02 ① 03 ⑤ 04 ② 05 ⑤ 06 ② 07 ③ 08 ④
09 ② 10 ③ 11 ④ 12 ② 13 ④ 14 ③ 15 해설 참조 16 해설 참조
17 해설 참조

I 인권과 헌법

1 인권과 기본권

학교 시험 적용 문제

▶ 기본학습서 012~015쪽

01 ③ 02 ④ 03 ⑤ 04 ③ 05 ① 06 ② 07 ①
08 ③ 09 ⑤ 10 ① 11 ① 12 ② 13 ④ 14 ④
15 세계 인권 선언 16 인간의 존엄과 가치 및 행복 추구
권 17 사회권 18 해설 참조 19 해설 참조 20 해설
참조

01

인권은 인간이 인간답게 살기 위해 마땅히 누려야 할 기본적인 권리이다. ③ 인권은 국가에서 법으로 보장하기 이전에 자연적으로 주어지는 권리이다.

02

인권은 인종, 성별, 신분 등을 초월하여 모든 사람이 동등하게 누리는 보편적 권리이다.

03

ㄴ. 인권은 인간이라면 누구나 마땅히 누리는 기본적인 권리가기 때문에 인권을 제대로 보장받지 못하면 인간다운 삶을 살 수 없다. ㄷ. 인간의 존엄성을 유지하기 위해서는 생명, 자유, 재산 등과 같은 인권이 보장되어야 한다. 인권을 보장하는 것은 인간의 존엄성을 지키는 기반이 된다. ㄹ. 오늘날 대부분의 민주주의 국가에서는 국가의 최고 법인 헌법에 국민의 기본적인 인권을 규정하고 있다.

오답풀이 ㄱ. 인권이 보장되어야 인간으로서의 존엄을 지키며 행복하게 살 수 있다.

04

제시된 문서는 프랑스 혁명 과정에서 발표된 것이다. 절대 군주의 억압에 맞선 시민 혁명의 결과 시민의 자유와 평등이 제도적으로 보장되기 시작하였다.

문제자료 뜯어보기

- 제1조 인간은 자유롭고 평등하게 태어나 생활할 권리를 가진다. 천부 인권 사상에 기초하여 인간이 가지는 자유와 평등을 명시하고 있어요.
- 제2조 모든 정치적 결사의 목적은 인간의 자연적이고 소멸될 수 없는 권리를 보전하는 것이다.
- 제3조 모든 주권은 국민에게 있다.
국가의 의사를 최종적으로 결정할 수 있는 최고 권력인 주권이 국민에게 있다는 국민 주권주의를 명시하고 있어요.

인권의 특성

- 천부 인권: 하늘이 부여한 권리
- 자연권: 국가에서 법이나 제도로 보장하기 이전에 자연적으로 주어진 권리
- 보편적 권리: 누구나 동등하게 누릴 수 있는 권리
- 불가침의 권리: 다른 사람이나 국가 기관이 함부로 침해할 수 없는 권리

해결의 실마리

인간과 시민의 권리 선언(1789): 프랑스 혁명 당시 발표됨

시민 혁명

시민의 자유와 평등이 제도적으로 보장되기 시작함

오답풀이 ① 인권 보장의 국제 기준이 정립된 것은 1948년 국제 연합(UN)에서 세계 인권 선언을 발표하면서이다. ② 시민 혁명 이후 경제적 자유가 어느 정도 보장되긴 하였으나 경제적으로 평등한 사회가 실현된 것은 아니다. ④ 사회권은 산업 혁명 이후에 등장하였다. ⑤ 인권 문제 해결을 위한 국제적인 연대와 협력이 이루어진 것은 20세기 중반이다.

05

헌법은 국가의 최고 법이므로 다른 모든 법률이나 정책은 헌법에 따라 제정되고 시행된다. 또한 모든 국가 기관은 헌법이 정하는 내용과 절차에 따라 권한을 행사해야 한다. 따라서 우리나라는 국가의 모든 법과 제도의 기초가 되는 헌법에 국민의 기본적 인권을 규정함으로써 국가 권력으로부터 국민의 인권이 침해되지 않도록 보장하고 있다.

06

제시된 그림은 직업 선택의 자유, 즉 자유권과 관련 있다. 자유권은 국가 권력의 간섭을 받지 않고 자유롭게 생활할 수 있는 권리이다.

오답풀이 ① 평등권은 모든 국민이 부당하게 차별받지 않고 동등하게 대우받을 권리를 말한다. ③ 참정권은 국가의 의사 결정에 참여할 수 있는 권리를 말한다. ④ 사회권은 국가에 대하여 인간다운 생활의 보장을 요구할 수 있는 권리를 말한다. ⑤ 청구권은 국가에 대하여 일정한 행위를 요구할 수 있는 권리를 말한다.

07

제시문은 평등권에 대한 설명이다. 평등권은 모든 국민이 생활의 모든 영역에서 성별, 종교, 사회적 신분 등에 의해 부당한 차별을 받지 않고 동등하게 대우받을 권리이다.

오답풀이 ②, ③은 자유권, ④는 사회권, ⑤는 참정권을 보장하는 헌법 조항이다.

08

국민이 국가의 의사 결정에 참여할 수 있는 권리는 참정권이다. 참정권에는 국민의 대표를 뽑을 수 있는 선거권, 공직을 맡을 수 있는 공무 부담권, 국가의 중요 정책을 결정할 수 있는 국민 투표권 등이 있다.

오답풀이 ㄱ. 재산권은 자유권에 속한다. ㄷ. 청원권은 청구권에 속한다. ㄹ. 근로권은 사회권에 속한다.

09

근로의 권리, 교육을 받을 권리, 쾌적한 환경에서 살 권리는 사회권에 포함된다. 사회권은 국가에 대하여 인간다운 생활의 보장을 요구할 수 있는 적극적 권리이다. 이외에 사회 보장을 받을 권리, 인간다운 생활을 할 권리 등도 사회권에 속한다.

10

청구권은 기본권이 침해되었을 때 국민이 국가에 일정한 행위를 요구하거나 침해당한 기본권의 구제를 청구할 수 있는 권리로, 다른 기본권 보장을 위한 수단적 성격을 가진다. 청구권에는 청원권, 재판 청구권, 국가 배상 청구권 등이 있다.

오답풀이 < ㄷ은 평등권, ㄹ은 참정권에 대한 설명이다.

11

평등권은 합리적 이유 없이 차별받지 않을 권리이며, 합리적 이유가 있는 경우에 다르게 대우하는 것은 차별에 해당하지 않는다. ① 시각 장애 학생의 신체적 특성을 이유로 수능 시험 시간을 더 주는 것은 합리적 근거가 있으므로 평등권 실현에 부합한다.

문제자료 뜯어보기

헌법에서의 평등은 일체의 차별적 대우를 부정하는 절대적 평등을 의미하는 것이 아니라 합리적 이유가 없는 차별을 해서는 안 된다는 상대적 평등을 뜻한다.

합리적 차별을 허용한다는 것으로, 합리적 이유가 있는 경우에 다르게 대우하는 것은 차별에 해당하지 않아요.

오답풀이 < ②, ③, ④, ⑤는 합리적 이유가 있는 차별로 볼 수 없으므로 평등권이 침해된 사례이다.

12

우리나라에서는 국회에서 제정된 법률로써만 기본권을 제한할 수 있도록 규정하고 있다. 또한 기본권 제한의 요건을 모두 충족하더라도 기본권의 본질적인 내용은 침해할 수 없도록 명시하고 있다. 이처럼 기본권 제한의 한계를 엄격히 정해 둔 것은 국가 권력의 남용을 막아 국민의 기본권을 최대한 보장하기 위해서이다.

13

국민이 정치에 참여할 수 있는 권리는 참정권으로, 참정권에는 선거권, 국민 투표권, 공무 부담권 등이 있다. ④ 선거일이 휴일로 지정되어 직장인들도 선거권을 행사할 수 있는 것은 참정권이 보장된 사례이다.

오답풀이 < ① 종교의 자유를 누릴 수 있는 것은 자유권의 보장과 관련 있다. ② 학력에 의해 차별받지 않는 것은 평등권의 보장과 관련 있다. ③ 재판을 받을 수 있는 권리를 가지는 것은 청구권의 보장과 관련 있다. ⑤ 최소한의 인간다운 생활을 누릴 수 있는 것은 사회권의 보장과 관련 있다.

14

범죄 예방이 목적이라고 하더라도 밤 10시 이후의 통행을 금지하는 것은 자유권의 본질적인 내용을 침해할 우려가 있다.

사회권의 종류

- 교육을 받을 권리
- 근로의 권리
- 인간다운 생활을 할 권리
- 쾌적한 환경에서 생활할 권리

기본권의 제한

- 사유: 국가 안전 보장, 질서 유지, 공공복리
- 한계
 - 법률을 통해서만 제한 가능함
 - 자유와 권리의 본질적인 내용은 침해할 수 없음

해결의 실마리

- 헌법 제26조 ①항: 청원권
- 헌법 제27조 ①항: 재판 청구권



청구권



수단적 성격

문제자료 뜯어보기

국가는 국가 안전 보장, 질서 유지, 공공복리를 위해 불가피한 경우에 한하여 국민의 기본권을 제한할 수 있지만 자유와 권리의 본질적인 내용까지 침해해서는 안 된다.

→ 국가가 이와 같은 기본권 제한의 한계를 둔 이유는 국가 권력의 남용을 방지함으로써 국민의 자유와 권리를 최대한 보장하기 위해서예요.

15

세계 인권 선언은 인권 보장의 국제 기준을 제시하였고, 인권 문제를 세계 차원에서 보편적 원칙으로 확장시켰다는 의의가 있다.

16

우리나라 헌법 제10조에는 모든 기본권이 추구해야 할 최고의 가치로서 인간의 존엄과 가치 및 행복 추구권을 명시하고 있다.

17

(가)는 교육을 받을 권리, (나)는 인간다운 생활을 할 권리를 나타낸다. 이러한 권리는 국가에 대하여 인간다운 생활의 보장을 요구할 수 있는 권리인 사회권과 관련 있다.

18

예시답안 인간은 누구나 인간이라는 이유만으로 나이, 성별, 장애의 유무, 사회적 지위 등에 관계없이 존중받으며 인간답고 평등하게 살아갈 권리인 인권을 가지고 있기 때문이다.

채점 기준	등급	평가 기준
	상	모든 사람이 동등하게 누리는 보편적 권리인 인권을 가지고 있기 때문이라는 맥락으로 서술한 경우
	하	인권을 가지고 있기 때문이라고 간략히 서술한 경우

19

예시답안 개발 제한 구역은 환경 보호라는 공공복리를 위해 개인의 자유권(재산권)을 제한한 경우이다.

채점 기준	등급	평가 기준
	상	공공복리를 위해 자유권(재산권)을 제한하였다고 서술한 경우
	하	공공복리를 위해 기본권을 제한하였다고만 서술한 경우

20

예시답안 청구권 / 국가에 대해 일정한 행위를 요구하거나 침해당한 기본권의 구제를 청구할 수 있는 권리로, 다른 기본권 보장을 위한 수단적 성격을 갖는다.

채점 기준	등급	평가 기준
	상	청구권이라고 쓰고, 그 의미와 성격을 옳게 서술한 경우
	중	청구권은 쓰지 않고, 청구권의 의미와 성격을 옳게 서술한 경우
	하	청구권이라고만 쓴 경우

2 인권 침해와 구제 방법

3 근로자의 권리 보호

학교 시험 걱정 문제

▶ 기본학습서 018~021 쪽

01 ① 02 ③ 03 ② 04 ③ 05 ⑤ 06 ① 07 ②
08 ④ 09 ① 10 ⑤ 11 ④ 12 ④ 13 ② 14 ②
15 재판 16 국가 인권 위원회 17 (가) 단결권, (나) 단체
교섭권 18 해설 참조 19 해설 참조 20 해설 참조

01

인권 침해는 개인이나 단체 또는 국가 기관이 다른 사람의 인권을 침해하여 해를 입히는 행위를 말한다. ① 인권 침해는 일상생활 속에서 누구에게나 일어날 수 있다.

02

인권 침해는 국가의 불합리한 법과 제도, 사회의 잘못된 관습, 사람들의 고정 관념과 편견 등에 의해 발생한다.

오답풀이 < ㄷ. 인권 감수성이 높으면 다른 사람이 가지는 권리의 소중함을 인식하고 인권 침해에 민감하게 반응한다. 이는 인권 침해를 예방하고 인권이 보장되는 사회를 만들기 위해 필요한 태도이다.

03

인권 침해는 부당한 이유로 개개인이 가지는 권리를 침해받는 경우를 의미하며, 합당한 이유에 따라 다르게 대우하는 것은 인권 침해라고 할 수 없다. ② 놀이 기구 이용에 키 제한을 둔 것은 안전을 위한 조치이므로 인권 침해라고 볼 수 없다.

오답풀이 < ① 휴대 전화 문자를 허락 없이 보는 행위는 사생활 침해에 해당한다. ③ 장애인인 상대방으로 일반인이라는 표현을 쓰는 것은 장애인을 일반적인 사람이 아니라는 의미를 갖게 하므로 적절하지 않다. ④ 개인 정보를 본인이 원하지 않음에도 불구하고 공개하는 것은 사생활 침해에 해당한다. ⑤ 성별에 따라 채용에 제한을 두는 것은 평등권과 직업 선택의 자유에 대한 침해이다.

04

(가) 입학시험을 두어 학생을 선발하는 것은 능력 차이에 따른 정당한 대우이다. (나) 장애인을 위한 시설을 갖추지 않고 장애 학생의 입학에 거부하는 것은 부당한 차별이며, 장애 학생의 학습권을 침해하는 것이다.

05

법원은 국가 기관 또는 개인이나 단체에 의해 권리를 침해당한 사람이 소를 제기하면 재판을 통해 침해된 인권을 구제한다. ⑤ 법률이 인권을 침해한다고 생각되는 경우는 헌법 재판소를 통해 인권을 구제받을 수 있다.

인권 구제 기관

- 법원: 재판을 통해 침해된 권리 구제
- 헌법 재판소: 헌법 소원 심판, 위헌 법률 심판을 통해 기본권 보호
- 국가 인권 위원회: 인권 침해나 차별 행위를 조사하여 법령이나 제도의 개선 권고
- 국민 권익 위원회: 잘못된 행정으로 피해를 입은 국민이 고충 민원이나 행정 심판을 제기하면 침해된 권리 구제
- 언론 중재 위원회: 잘못된 언론 보도로 인한 피해 구제
- 대한 법률 구조 공단: 무료 법률 상담, 소송 절차 지원
- 한국 소비자원: 소비자의 피해 구제

해결의 실마리

(가) 입학시험 결과에 따른 입학 불가



정당한 대우

(나) 장애 학생 입학 거부



차별

06

제시된 사례에서 나이를 이유로 차별을 하였으므로 A 씨는 평등권을 침해당한 것이다. 평등권은 모든 국민이 생활의 모든 영역에서 부당한 차별을 받지 않고 동등하게 대우받을 권리이다.

07

국가 기관이 국민의 인권(주민 등록 번호를 변경할 권리)을 침해한 사례로, 헌법 재판소의 헌법 소원 심판을 통해 침해된 인권을 구제받을 수 있다. 헌법 소원 심판은 공권력의 행사 또는 불행사에 의해 기본권이 침해된 국민이 권리 구제를 요청하면 헌법 재판소가 이를 심판하는 제도이다.

문제자료 뜯어보기

같은 주민 등록 번호가 불법 유출되어 관할 지방 자치 단체장에게 주민 등록 번호를 변경해 줄 것을 신청하였다. 하지만 지방 자치 단체장은 주민 등록법에 따라 주민 등록 번호의 변경이 불가능하다며 이를 거부하였다. 이에 같은 주민 등록 번호 변경 절차를 두고 있지 않은 것은 개인의 기본권을 과도하게 침해한다고 보았다.

공권력에 의해 기본권을 침해당한 경우 헌법 재판소에 헌법 소원 심판을 제기할 수 있어요. 헌법 재판소는 공권력에 의해 기본권을 침해당한 사람이 헌법 소원을 제기하면 해당 사건이 헌법에 위배되는지를 판단하여 권리를 구제해 주어요.

08

국가 인권 위원회는 인권과 관련된 전반적인 문제를 다루는 국가 기관으로서 인권 침해나 차별 행위를 조사하고, 시정해야 할 사항을 권고함으로써 침해된 인권을 구제한다.

오답풀이 < ㄱ. 국가 인권 위원회는 독립적인 국가 기관이다. ㄷ. 국가 인권 위원회는 인권을 침해한 행위를 처벌할 수 있는 강제력은 없다.

09

근로자는 임금을 목적으로 사용자에게 노동을 제공하는 사람을 말한다. ① A 분식 사장은 근로자를 채용하는 입장에 있는 사용자에 해당한다.

10

근로의 권리는 일할 의사와 능력을 가진 사람이 국가에 대해 일할 기회를 요구할 수 있는 권리로, 우리 헌법에서는 모든 국민이 근로의 권리를 가진다고 명시하고 있다.

오답풀이 < ① 법률이 정하는 바에 따라 최저 임금제를 시행하고 있다. 따라서 사용자는 근로자에게 최저 임금 이상의 금액을 지급해야 한다. ② 근로자는 단체 행동권을 갖고 있으므로, 근로 조건과 관련하여 단체 교섭이 원만하게 이루어지지 않을 경우 단체 행동을 할 수 있다. ③ 헌법에 따르면 모든 국민이 근로의 권리를 가진다. ④ 근로자는 사용자와 비교하여 경제적 약자의 위치에 있기 때문에 법으로 보호한다.

11

헌법 제33조 ①항은 노동 3권에 해당하는 단결권, 단체 교섭권, 단체 행동권을 보장하고 있다. ④는 헌법 제32조 ①항에 명시된 최저 임금제 시행과 관련 있는 내용이다.

문제자료 뜯어보기

헌법 제33조

① 근로자는 근로 조건의 향상을 위하여 자주적인 단결권·단체 교섭권 및 단체 행동권을 가진다.

단결권은 근로자들이 노동조합을 결성 또는 가입하여 활동할 수 있는 권리이고, 단체 교섭권은 노동조합이 사용자와 근로 조건의 향상을 위하여 협상할 수 있는 권리이며, 단체 행동권은 단체 교섭이 잘 이루어지지 않았을 때 파업이나 태업 등과 같은 쟁의 행위를 할 수 있는 권리에요.

12

노동권 침해에는 부당 해고, 부당 노동 행위, 임금 체불이나 미지급, 근로 계약서 작성 거부, 근로자에 대한 폭언이나 폭행 등 다양한 사례들이 포함된다. ④ 정당한 이유 없이 근로자를 해고하는 것은 부당 해고이다. 다만, 해고가 불가피한 경우 해고하기 30일 전에 문서를 통해 해고 사유와 시기를 알려 해고하는 것은 부당 해고에 해당하지 않으므로 노동권 침해로 볼 수 없다.

노동권 침해의 유형

- 부당 해고
- 부당 노동 행위
- 임금 체불·미지급
- 근로 계약서 미작성
- 근로 조건 미준수

13

부당 노동 행위는 노동 3권인 단결권, 단체 교섭권, 단체 행동권의 행사를 방해하는 사용자의 행위를 말한다. ② 노동조합의 결성이나 가입, 활동 등을 이유로 근로자에게 불이익을 주는 것은 부당 노동 행위에 해당한다.

14

노동조합에 가입하여 활동하는 근로자에게 탈퇴를 종용하거나 불이익을 주는 사용자 측의 행동은 부당 노동 행위에 해당한다. 부당 노동 행위로 노동권을 침해당한 근로자는 노동 위원회에 구제 신청을 하거나 법원에 소를 제기하여 노동 3권을 보장받을 수 있다.

15

개인이나 단체 또는 국가 기관에 의해 인권을 침해당했을 때, 법원에 소를 제기하면 재판을 통해 권리를 구제받을 수 있다.

16

국가 인권 위원회는 인권 침해를 당한 사람이 진정을 제기하면, 이를 조사하여 인권 침해를 한 개인이나 해당 기관에 시정, 개선, 구제 조치 등을 권고한다.

17

노동 3권에는 단결권, 단체 교섭권, 단체 행동권이 있다. (가)에는 근로자가 노동조합을 결성하거나 가입하여 활동할 수 있는 권리인 단결권이 나타나 있다. (나)에는 근로자가

노동 3권

- 단결권: 노동조합을 만들거나 가입하여 활동할 수 있는 권리
- 단체 교섭권: 노동조합을 통해 사용자와 근로 조건을 협의할 수 있는 권리
- 단체 행동권: 단체 교섭이 원만하게 이루어지지 않았을 때 쟁의 행위를 할 수 있는 권리

근로 조건에 관하여 사용자와 협의할 수 있는 권리인 단체 교섭권이 나타나 있다.

18

예시답안 자유권 / A 씨는 헌법 재판소에 헌법 소원 심판을 제기하여 침해당한 권리를 구제받을 수 있다.

채점 기준	등급	평가 기준
	상	자유권이라고 쓰고, 헌법 재판소에 헌법 소원 심판을 제기하여 구제받을 수 있다고 서술한 경우
	중	자유권을 쓰지 않고, 헌법 소원 심판을 통해 구제받을 수 있다고 서술한 경우
	하	자유권이라고만 쓴 경우

19

예시답안 근로자는 사용자에 비해 상대적으로 경제적 약자이기 때문에 근로자의 최소한의 인간다운 생활을 보장하기 위해 법을 통한 보호가 필요하다.

채점 기준	등급	평가 기준
	상	근로자가 사용자에 비해 상대적으로 경제적 약자의 위치에 있기 때문에 근로자의 인간다운 생활을 보장하기 위해 보호가 필요하다는 맥락으로 서술한 경우
	하	근로자의 인간다운 생활을 보장하기 위해서라고만 간략히 서술한 경우

20

예시답안 부당 해고 / 을은 노동 위원회에 구제를 신청하거나 법원에 소를 제기하여 침해된 노동권을 구제받을 수 있다.

채점 기준	등급	평가 기준
	상	부당 해고라고 쓰고, 노동 위원회와 법원을 통해 노동권을 구제받을 수 있다고 서술한 경우
	중	부당 해고라고 쓰고, 노동권 구제 방법을 한 가지만 서술한 경우
	하	부당 해고라고만 쓴 경우

대안형 완성문제

▶ 기본학습서 023~026쪽

01 ② 02 ⑤ 03 ④ 04 ② 05 ③ 06 ⑤ 07 ②
08 ③ 09 ③ 10 ① 11 ④ 12 ⑤ 13 ① 14 ④
15 ④ 16 ② 17 해설 참조 18 해설 참조 19 해설 참조 20 해설 참조

01

인권은 모든 인간이 태어나면서부터 가지는 기본적인 권리이다.

오답풀이 ◀ 나. 인권은 국가의 법으로 정하기 이전에 자연적으로 주어진 권리이다. 다. 인권은 국가나 다른 사람이 함부로 침해할 수 없는 권리이다.

02

세계 인권 선언은 제2차 세계 대전이 끝난 이후인 1948년 국제 연합(UN)에서 채택한 인권 문서로, 인권 보장이 인류가 보편적으로 추구해야 할 가치임을 선포하였다. 세계 인권 선언은 국제 인권법의 토대로서 그 이념과 내용이 오늘날 세계 여러 나라의 헌법과 법률에 반영되어 있다.

03

오늘날 대부분의 민주주의 국가는 헌법에 인권을 국민의 기본권으로 규정함으로써 국가 권력이 함부로 국민의 인권을 침해하지 못하도록 하고 있다.

오답풀이 ①, ③ 헌법은 인권 보장을 위한 장치로서의 역할을 한다. ② 인권은 헌법에 명시되지 않아도 보장받을 수 있는 자연권이다. ⑤ 우리 헌법은 헌법 제10조에서 국가가 인권 보장을 위하여 노력해야 할 의무가 있음을 규정하고 있다.

04

자유권은 국가의 간섭을 받지 않고 개인의 의사에 따라 자유롭게 생활할 수 있는 권리이다. ①, ③, ④, ⑤는 자유권과 관련 있다. ② 근로의 권리는 국가에 대하여 인간다운 생활의 보장을 요구할 수 있는 권리인 사회권에 속한다.

05

청구권은 다른 기본권이 침해되었을 때 이의 구제를 요구할 수 있는 수단적 성격의 기본권이다. 청구권에는 청원권, 재판 청구권, 국가 배상 청구권 등이 있다.

06

교육을 받을 권리, 건강하고 쾌적한 환경에서 생활할 권리는 사회권에 속한다. 사회권은 국가에 대하여 인간다운 생활의 보장을 요구할 수 있는 권리이다.

오답풀이 ① 수단적 성격을 갖는 기본권은 청구권이다. ② 다른 기본권 실현의 전제가 되는 권리는 평등권이다. ③ 국가 권력으로부터 개인의 자유를 보호하는 것은 자유권이다. ④ 국가의 의사 결정에 참여할 수 있는 권리는 참정권이다.

07

군사 시설 보호 구역에서는 국가 안전 보장을 위해 국민의 자유권을 부분적으로 제한할 수 있다. 이는 헌법의 기본권 제한 규정에 따라 기본권 제한이 가능한 경우로, 자유와 권리의 본질적인 내용을 침해한다고 볼 수 없다.

08

인권 침해는 타인이나 국가 기관이 다른 사람의 인권을 침해하여 해를 입히는 행위이다. ㄱ은 장애인에 평등권을 침해한 사례이고, ㄴ은 나이를 이유로 차별을 하였으므로 이는 평등권 침해에 해당한다. ㄹ은 사생활의 비밀과 자유를 침해한 사례이다.

자유권의 종류

- 신체의 자유
- 사생활의 비밀과 자유
- 양심의 자유
- 종교의 자유
- 언론·출판의 자유
- 집회·결사의 자유
- 재산권
- 거주·이전의 자유
- 직업 선택의 자유

헌법 재판소를 통한 인권 구제

- 헌법 소원 심판: 공권력에 의해 기본권을 침해당한 국민이 권리 구제를 청구하면 헌법 재판소가 이를 심판함
- 위헌 법률 심판: 법원이 재판에 적용되는 법률의 헌법 위반 여부를 심사해 달라고 제청하면 헌법 재판소가 이를 심판함

헌법의 기본권 제한 규정

- 헌법 제37조 ②
- 국민의 모든 자유와 권리는 국가 안전 보장·질서 유지 또는 공공복리를 위하여 필요한 경우에 한하여 법률로써 제한할 수 있으며, 제한하는 경우에도 자유와 권리의 본질적인 내용을 침해할 수 없다.

오답풀이 ㄴ. 영업 실적에 따라 성과급을 다르게 지급하는 것은 합리적 이유가 있으므로 인권 침해에 해당하지 않는다. ㄹ. 야간에 청소년이 노래방, PC방에 출입할 수 없도록 하는 것은 청소년 보호를 위한 조치이므로 인권 침해에 해당하지 않는다.

09

(가)에서는 직원들의 참정권(국가의 의사 결정에 참여할 수 있는 권리) 중 선거권이 침해되었다. (나)에서는 남학생의 평등권(생활의 모든 영역에서 합리적인 이유 없이 차별을 받지 않을 권리)이 침해되었다.

10

다른 사람에 의해 인권이 침해되어 물질적 손해나 정신적 피해를 입은 경우 법원의 민사 재판을 통해 권리를 구제받을 수 있다.

오답풀이 ② 행정 기관의 잘못으로 권리가 침해된 경우 법원의 행정 재판이나 국민 권익 위원회의 행정 심판 등을 통해 권리를 구제받을 수 있다. ③ 헌법 재판소는 헌법 질서를 수호하고 국민의 기본권을 보장하는 국가 기관으로, 헌법 소원 심판, 위헌 법률 심판 등을 통해 침해된 기본권을 구제해 준다. 인권 침해나 차별 행위를 조사하여 구제하는 역할을 하는 기관은 국가 인권 위원회이다. ④ 구입한 물건 때문에 소비자의 권리가 침해되었을 경우에는 한국 소비자원을 통해 문제를 해결할 수 있다. ⑤ 공권력의 행사나 불행사에 의해 기본권이 침해됐을 때에는 헌법 소원 심판을 통해 인권을 구제받을 수 있다. 언론 중재 위원회는 잘못된 언론 보도로 명예 훼손이나 초상권 침해 등의 피해를 입은 경우 이를 구제하는 기관이다.

11

공권력의 행사나 불행사에 의하여 헌법상 기본권을 침해당한 국민이 헌법 소원 심판을 청구하면, 헌법 재판소는 해당 사건이 헌법에 위배되는지 여부를 판단하여 권리를 구제해 준다.

오답풀이 ① 국가 기관이나 개인 또는 단체에 의해 인권 침해를 당하거나 부당하게 차별을 당한 경우 국가 인권 위원회에 진정을 제기하여 침해된 인권을 구제받을 수 있다. ② 행정 기관의 잘못으로 권리를 침해당한 경우 법원의 행정 재판으로 도움을 받을 수 있다. ③ 범죄 행위로 권리를 침해당한 경우 법원의 형사 재판으로 도움을 받을 수 있다. ⑤ 위헌 법률 심판은 재판 과정에서 적용된 법률이 기본권을 침해했을 때 법원이 헌법 재판소에 제청하면, 헌법 재판소가 법률의 헌법 위배 여부를 판단하는 것이다.

12

근로 기준법이나 최저 임금제를 시행하여 최소한의 근로 조건을 보장하는 이유는 근로자가 최소한의 인간다운 생활을 할 수 있도록 하기 위해서이다.

13

제시된 사례에서 ○○ 회사의 근로자들은 노동 3권 중 단결권을 행사하려고 한다. 단결권은 근로자가 노동조합을 결성하거나 가입하여 활동할 수 있는 권리이다.

오답풀이 ㉔ 근로의 권리란 일할 의사와 능력을 가진 사람이 일할 기회와 인간다운 생활의 보장을 요구할 권리이다. ㉕ 단체 교섭권은 근로자가 노동조합을 통해 사용자와 근로 조건을 협의할 수 있는 권리이다. ㉖ 단체 행동권은 단체 교섭권을 행사하여 사용자와 협의를 진행하였으나 협의가 원만하게 이루어지지 않았을 때 쟁의 행위를 할 수 있는 권리이다. ㉗ 부당 노동 행위는 노동 3권 행사를 사용자가 방해하는 행위로, 근로자의 권리가 아니다.

14

청소년에게 야간 근무를 하지 못하도록 한 것은 노동권의 침해가 아니라 청소년을 보호하려는 조치이다.

15

(가)에는 단체 교섭권, (나)에는 단체 행동권이 나타나 있다. 노동 3권은 근로자가 사용자와 대등한 위치에서 근로 조건을 협의하고 결정할 수 있도록 하기 위해 헌법으로 보장하고 있는 권리이다.

오답풀이 ㄱ. (가)에는 노동조합을 통해 사용자와 근로 조건에 관해 협의할 수 있는 권리인 단체 교섭권이 나타나 있다. 단결권은 노동조합을 결성할 수 있는 권리이다. ㄴ. 근로의 권리는 일할 의사와 능력을 가진 사람이 일할 기회와 인간다운 생활의 보장을 요구할 수 있는 권리로, (가)와 (나)에서 근로의 권리가 보장되지 않았다고 볼 수 없다.

16

정당한 이유 없이 행해지는 부당 해고나 노동 3권을 침해당하는 부당 노동 행위가 발생하면 노동 위원회에 구제를 신청할 수 있고, 만약 그 결정에 불복할 경우 법원의 재판을 통해 권리를 구제받을 수 있다.

17

예시답안 참정권 / 국민이 국가 기관의 형성과 국가의 정치적 의사 형성 과정에 참여할 수 있는 권리이다.

문제자료 뜯어보기

제24조 모든 국민은 법률이 정하는 바에 의하여 선거권을 가진다.
국민의 대표를 뽑을 수 있는 권리에요.

제25조 모든 국민은 법률이 정하는 바에 의하여 공무담임권을 가진다.
공직을 맡을 수 있는 권리에요.

제72조 대통령은 필요하다고 인정할 때에는 외교·국방·통일 기타 국가 안위에 관한 중요 정책을 국민 투표에 붙일 수 있다.
국가의 중요 정책을 결정할 때 국민이 직접 찬성과 반대의 의견을 투표로 나타낼 수 있어요.

청소년 근로자의 권리를 보호하기 위한 규정

- 성인과 같은 최저 임금을 적용받는다.
- 원칙적으로 하루 7시간, 일주일에 40시간을 초과하여 일할 수 없다.
- 위험한 일이나 유해 업종의 일을 할 수 없다.
- 일하다 다치면 산업 재해 보상 보험으로 치료와 보상을 받을 수 있다.

해결의 실마리

(가) 노동조합을 통해 사용자 측과 근로 조건을 협의함

↓

단체 교섭권

(나) 임금 협상이 결렬되어 파업을 함

↓

단체 행동권

해결의 실마리

(가) 성별에 따른 차별

(나) 장애에 따른 차별

↓

평등권 침해

↓

국가 인권 위원회에 진정을 제기하여 침해된 인권 구제 가능

채점기준	등급	평가 기준
	상	참정권이라고 쓰고, 그 의미를 옳게 서술한 경우
	중	참정권의 의미만을 옳게 서술한 경우
	하	참정권이라고만 쓴 경우

18

예시답안 국가 안전 보장, 질서 유지, 공공복리를 위하여 필요한 경우에 한해 국회에서 제정한 법률을 통해서만 제한할 수 있으며, 어떠한 경우에도 기본권의 본질적인 내용을 침해할 수 없다.

채점기준	등급	평가 기준
	상	기본권 제한의 사유와 한계를 모두 서술한 경우
	하	기본권 제한의 사유와 한계 중 한 가지만을 서술한 경우

19

예시답안 단체 행동권 / 단체 교섭이 원만하게 이루어지지 않을 경우 파업, 태업 등의 쟁의 행위를 할 수 있는 권리이다.

채점기준	등급	평가 기준
	상	단체 행동권이라고 쓰고, 그 의미를 옳게 서술한 경우
	중	단체 행동권을 쓰지 않고, 그 의미만을 옳게 서술한 경우
	하	단체 행동권이라고만 쓴 경우

20

예시답안 (가)는 성별에 따른 차별, (나)는 장애에 따른 차별에 해당한다. (가)의 A 씨와 (나)의 B 씨는 공통으로 모든 국민이 생활의 모든 영역에서 성별이나 장애 등에 의해 부당한 차별을 받지 않고 동등한 대우를 받아야 한다는 평등권을 침해당하였다. 이러한 기본권의 침해를 예방하기 위해 우리가 어떠한 기본권을 가지고 있는지 잘 이해하고, 나와 나의 주변에서 어떠한 인권 침해가 발생하는지 주의 깊게 살피는 노력이 필요하다. 이를 위해 나와 다른 사람이 가지는 권리의 소중함을 인식하고 인권 침해에 민감하게 반응할 수 있는 인권 감수성을 키워야 한다. 또한, 인권 침해가 발생하면 침해된 인권을 구제받기 위한 행동을 적극적으로 취해야 한다. (가)와 (나)의 인권 침해를 구제받기 위해 국가 인권 위원회에 진정을 제기하는 방법을 활용할 수 있다. 국가 인권 위원회는 인권을 침해할 우려가 있는 법이나 제도의 문제점을 찾아 개선을 권고하고, 인권 침해나 차별 행위를 조사하여 구제하는 역할을 한다.

채점기준	등급	평가 기준
	상	(가)와 (나)에서 침해된 기본권이 '평등권'임을 그 의미와 함께 서술하고, 인권 침해를 예방할 수 있는 방법을 논리적으로 제시하며, (가)와 (나)의 인권 침해를 구제할 수 있는 국가 기관인 '국가 인권 위원회'의 역할을 구체적으로 서술한 경우
	중	평등권 침해와 평등권의 의미를 옳게 서술했으나, 인권 침해의 예방 방법이나 (가)와 (나)의 인권 침해를 구제할 수 있는 국가 기관과 그 역할에 대한 서술이 다소 미흡한 경우
	하	평등권 침해와 평등권의 의미를 쓰지 않고, 인권 침해의 예방 방법이나 (가)와 (나)의 인권 침해를 구제할 수 있는 국가 기관과 그 역할에 대해서만 서술한 경우

II 헌법과 국가 기관

1 국회

학교 시험 적응 문제

▶ 기본학습서 030~033쪽

- 01 ⑤ 02 ② 03 ④ 04 ⑤ 05 ③ 06 ④ 07 ①
08 ② 09 ⑤ 10 ⑤ 11 ① 12 ③ 13 ③ 14 ⑤
15 ⑦ 대표, ① 입법 16 ⑦ 지역구 국회의원, ① 비례
대표 국회의원 17 본회의 18 해설 참조 19 해설 참조
20 해설 참조

01

국회는 국민이 직접 뽑은 대표들로 구성되며, 입법부로서 국가의 조직과 통치의 기초가 되는 법률을 만드는 역할을 한다. 한편으로는 다른 국가 기관들을 감시하고 견제하기도 한다. ⑤ 법률을 토대로 재판을 진행하여 잘못을 가리는 기관은 법원(사법부)이다.

02

국회는 국민이 뽑은 대표들로 구성되어 국민의 의사를 대변하는 국민의 대표 기관으로서의 위상을 갖는다.

▶ **해답** ① 국회의 입법 기관으로서의 위상은 국회가 법률을 만들거나 고치는 것과 관련 있다. ③ 국회의 국가 권력 견제 기관으로서의 위상은 행정부와 법원을 비롯한 다른 국가 기관을 감시하고 견제하는 것과 관련 있다. ④, ⑤는 국회의 위상과 관련이 없는 내용이다.

03

우리나라의 국가 권력은 크게 입법부(국회), 행정부(정부), 사법부(법원)가 나누어 맡고 있으며, 이들은 서로를 견제하고 감시하는 권한을 갖고 있다. 국회가 다른 국가 기관을 감시하고 견제하는 이유는 국가 권력의 남용을 방지하고 국민의 기본권을 보장하기 위해서이다.

▶ **해답** ① 행정부와 법원은 국회의 하위 조직이 아니라 대등한 국가 기관이다. ②는 국회가 다른 국가 기관을 견제하는 것과 관련이 없는 내용이다. ③ 경찰과 검찰은 행정부 소속이다. ⑤ 행정부, 법원, 국회는 대등한 위치에서 각기 다른 권한을 가지고 서로 견제하며 국가 권력의 균형을 유지한다.

04

(가)는 지역구 국회의원 투표용지, (나)는 비례 대표 국회의원 투표용지이다. ⑤ (가)에서 뽑은 후보의 정당과 (나)에서 뽑은 정당이 같지 않아도 된다. (가)에서는 자신이 지지하는 지역구 후보를, (나)에서는 자신이 지지하는 정당을 뽑으면 된다.

● **국가 기관의 권력 분립**
• 입법부(국회): 법률 제정
• 행정부(정부): 정책 집행
• 사법부(법원): 법률 적용

● **국회의 위상**
• 국민의 대표 기관
• 입법 기관
• 국가 권력의 견제 기관

해결의 실마리

국회의원 10인 이상 또는
대통령이 법률안 제안



국회 의장이 상임 위원
회에 법률안 회부



상임 위원회에서 법률안
심의



본회의에서 법률안 의결



법률안에 이의가 없을
시 대통령이 15일 이내
에 법률안 공포

문제자료 뜯어보기

(가)



지역구 국회의원을 뽑는 투표용지에는 후보들이 속한 정당과 후보의 이름이 나와 있어요. 유권자는 후보 중 한 명에게 표를 행사하고, 가장 많은 표를 얻은 후보가 지역구 국회의원으로 당선돼요.

(나)



비례 대표 국회의원을 뽑는 투표용지에는 정당명이 나열되어 있어요. 유권자가 표를 행사하면 각 정당은 얻은 득표수에 비례하여 국회의원을 배출할 수 있어요. 각 정당에서는 선거 전에 1번부터 순위를 매겨 비례 대표 국회의원 후보들을 정해 놓아요.

05

국회 본회의에서는 국회에서 다루는 법률안, 예산안, 청원 등의 최종적인 의사 결정이 이루어진다.

▶ **해답** ① 회의는 공개를 원칙으로 한다. ② 회의에는 정기회와 임시회가 있는데, 필요에 따라 수시로 열리는 것은 임시회이다. 정기회는 매년 한 번 정기적으로 열린다. ④ 본회의에서의 일반적인 의사 결정은 재적 의원 과반수의 출석과 출석 의원 과반수의 찬성으로 이루어진다. ⑤ 국회의 효율적 운영을 위해 각 분야의 전문성을 갖춘 의원들이 모이는 것은 위원회이다.

06

국회에서는 효율적인 의사 진행을 위해 본회의에 앞서 여러 가지 안건을 미리 검토하고 논의하는 상임 위원회를 운영하고 있다.

▶ **해답** ① 국회에는 국회 의장 1인, 부의장 2인이 있고, 국회 의장은 국회 안에서 의사 정리, 국회 질서 유지 등의 역할을 한다. ② 교섭 단체는 20명 이상의 국회의원이 속한 단체로, 효율적인 국회 운영을 위해 국회의원들의 의사를 사전에 조정하는 역할을 한다. ③ 국무 회의는 행정부의 최고 심의 기관으로, 정부의 중요한 정책을 논의한다. ⑤ 국회 임시회는 필요에 따라 수시로 열리는 회의로, 국회의 의사 결정이 이루어진다.

07

제시문에는 국회에서 「주민 등록법」과 관련한 법률 내용을 개정할 활동이 나타나 있다. 이는 국회가 가진 입법에 관한 권한을 행사한 사례이다.

08

국회의원 10인 이상 또는 정부에 의해 제출된 법률안은 국회 의장에 의해 상임 위원회로 회부된다. 상임 위원회의 심의를 거친 법률안은 본회의에 상정되어 국회 재적 의원 과반수의 출석과 출석 의원 과반수의 찬성으로 의결되면 정부로 보내진다. 의결된 법률안에 이의가 없을 경우 대통령은 15일 이내에 법률안을 공포한다.

기본 학습서편 ■ 11

2 행정부와 대통령

3 법원과 헌법 재판소

학교 시험 격중 문제

▶ 기본학습서 036~039쪽

01 ② 02 ② 03 ③ 04 ⑤ 05 ② 06 ① 07 ③
08 ④ 09 ③ 10 ④ 11 ⑤ 12 ⑤ 13 ② 14 ①
15 행정부 16 행정 각부 17 헌법 소원 심판 18 해설
참조 19 해설 참조 20 해설 참조

01

행정부의 국민 복리 증진을 위해 국회가 제정한 법률을 집행하고, 각종 정책을 만들어 실행한다. ② 법률을 개정하는 것은 국회(입법부)의 역할이다.

02

국무총리는 행정부의 2인자로서 대통령을 보좌하고, 행정 각부를 관리·감독한다. 또한 대통령 자리가 공석일 경우 대통령의 권한을 대행한다.

03

국무 회의는 행정부의 최고 심의 기관으로, 대통령, 국무총리, 국무 위원으로 구성되며, 정부의 중요한 정책을 심의한다.

오답풀이 ㄱ. 행정부의 최고 감사 기관은 감사원이다. ㄴ. 국무 회의의 의장은 대통령이 맡는 것이 일반적이다.

04

제시문과 같이 공무원의 직무를 감찰하고, 정부 세입·세출의 결산을 검사하는 역할을 수행하는 국가 기관은 감사원이다. 감사원은 대통령 직속 기관이며, 행정 전반을 감독하는 행정부의 최고 감사 기관이다. ⑤ 법을 적용하여 분쟁을 해결하는 기관은 사법부이다.

문제자료 뜯어보기

- 새해를 맞아 공무원의 근무 상태를 점검하였다.
공무원의 직무 수행을 감독하여 살피는 권한은 감사원에 있어요.
- 20◇◇년도 정부 세입·세출의 결산을 검사하였다.
정부는 국민의 세금을 가지고 예산을 짜서 나라 살림을 운영하는데, 정부가 집행한 예산의 결산(수입과 지출을 계산하는 것)을 검사하는 권한은 감사원에 있어요.

05

우리나라 대통령은 국민의 직접 선거를 통해 선출되며, 중임을 할 수 없어 한 번의 임기 동안만 직무를 수행할 수 있다. 또한 국가 원수로서의 지위와 행정부 수반으로서의 지위를 동시에 가지며, 행정부 수반으로서 국회의 권한을 견

우공비 Note

해결의 실마리

장관(행정 각부의 장) 임명



공무원 임면권(공무원을 임명하거나 해임하는 권한) 행사



대통령의 행정부 수반으로서의 권한

행정부의 조직과 기능

- 대통령: 행정부의 최고 책임자
- 국무총리: 대통령 보좌, 행정 각부 총괄
- 행정 각부: 구체적 행정 사무 처리
- 국무 회의: 행정부의 최고 심의 기관
- 감사원: 세입과 세출 검사, 행정 기관과 공무원의 직무 감찰

국가 작용

- 입법: 국회에서 법률을 제정하는 것
- 행정: 행정부에서 법률이나 정책을 집행하는 것
- 사법: 법원에서 법률을 적용하는 것

제하기 위하여 국회가 의결한 법률안을 거부할 수 있는 권한을 갖는다. ② 우리나라 대통령의 임기는 5년이다.

06

제시된 그림에는 대통령이 장관(행정 각부의 장)을 임명하는 모습이 나타나 있다. 대통령은 행정부 수반으로서 행정 각부의 장, 국무 위원 등 행정부의 고위 공무원을 임명하거나 해임한다.

오답풀이 ㄹ. 대통령은 행정부 수반으로서 국회가 만든 법률안을 국회로 돌려보내 다시 의결할 것을 요청할 수 있는 법률안 거부권을 행사할 수 있다. ㄱ. 대통령은 국가 원수로서 국가가 위태로운 상황에 처했을 때 국가 안전 보장과 헌법 수호를 위하여 계엄을 선포할 수 있다. ㄴ. 대통령은 국가 원수로서 국회의 동의를 얻어 대법원장, 헌법 재판소장, 감사원장 등을 임명하여 헌법 기관을 구성한다. ㄷ. 대통령은 행정부 수반으로서 국무 회의의 의장이 되어 국가의 중요한 정책을 심의하고 최종적으로 결정한다.

07

국가 원수로서 대통령은 대외적으로 국가를 대표할 자격을 지닌다. 헌법을 개정하거나 외교, 국방 등 국가의 중요한 정책을 결정할 때 국민 투표를 시행할 수 있는 권한, 나라가 위태로울 때 긴급 명령권이나 계엄 선포권을 행사할 수 있는 권한, 외교 사절을 보내거나 맞이하는 권한, 다른 나라와 조약을 체결할 권한, 대법원장, 헌법 재판소장, 감사원장 등 헌법 기관 구성원을 임명할 권한 등은 국가 원수로서 대통령이 가지는 권한이다.

오답풀이 ㄱ. 행정부를 지휘하고 감독할 권한, ㄴ. 국무 회의의 의장으로서 국가의 주요 정책을 심의할 권한은 행정부 수반으로서 대통령의 권한에 해당한다.

08

사법(司法)이란 범죄가 발생하거나 사람들 사이에 다툼이 생겼을 때 분쟁을 해결하고 사회 질서를 유지하기 위해 법을 해석하고 적용하여 판단하는 국가 작용이다.

오답풀이 ㄱ. 분쟁 당사자들이 서로 합의하는 것은 분쟁을 해결하는 가장 좋은 방법이다. ㄴ. 입법에 대한 설명이다. ㄷ. ㄹ.는 행정에 대한 설명이다.

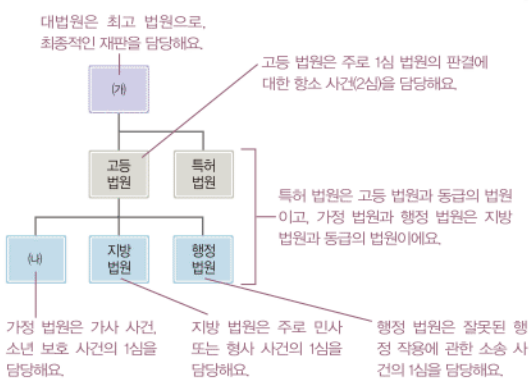
09

제시된 헌법 조항은 사법권의 독립을 보장하고 있다. ③ 사법권의 독립이 이루어져야 법관은 외부의 간섭을 받지 않고 공정한 재판을 할 수 있으며, 이를 통해 궁극적으로 국민의 기본권을 보호할 수 있다.

10

(가)는 대법원이다. ④ 사법부의 최고 기관인 대법원은 고등 법원의 판결에 불복하여 상고한 사건을 재판하고, 특허 법원의 판결에 불복하여 상고한 사건을 재판한다. 즉 대법원은 모든 사건의 최종적인 재판을 담당한다.

문제자료 **뜯어보기**



오답풀이 ①은 헌법 재판소에 대한 설명이다. ②는 특허 법원에 대한 설명이다. ③ 1심, 2심 재판의 결과에 불복하는 경우에만 대법원에서 최종심을 받게 된다. ⑤ 지방 법원 합의부에서 1심 재판을 받거나 가정 법원, 행정 법원에서 1심 재판을 받고 그 판결에 불복하여 항소할 경우 고등 법원에서 2심 재판을 받게 된다. 또한 지방 법원 단독 판사에 의한 1심 재판을 받고 그 판결에 불복하여 항소할 경우, 지방 법원 합의부에서 2심 재판을 받게 된다.

11

(나)는 가정 법원으로, 이혼, 양자, 상속 같은 가사 사건과 소년 보호 사건을 담당한다. 만약 가정 법원에서의 1심 판결에 불복하여 항소할 경우 고등 법원에서 2심 재판을 받게 된다.

오답풀이 ㄱ. 가정 법원은 지방 법원과 동급의 법원이다. ㄴ. 주로 민사 또는 형사 사건의 1심을 재판하는 곳은 지방 법원이다.

12

헌법 재판소는 법원(사법부)과 별도로 독립된 국가 기관으로, 헌법 재판을 통해 헌법을 수호하고 국민의 기본권을 보장하고 있다.

오답풀이 ① 헌법 재판소는 독립된 국가 기관으로, 사법부에 소속되어 있지 않다. ② 재판의 전제가 된 법률이 헌법에 위반되는지 여부에 대해 위헌 법률 심판을 제청할 수 있는 권한은 법원이 가지고 있다. 헌법 재판소는 위헌 법률 심판을 담당한다. ③ 최고 법원으로, 최종적인 재판을 담당하는 기관은 대법원이다. ④ 헌법 재판소는 법률이 헌법에 어긋나는지 여부를 판단한다.

13

헌법 재판소는 법원의 제청에 의해 법률이 헌법에 위반되는지의 여부를 심판하는 위헌 법률 심판을 한다.

오답풀이 ①은 권한 쟁의 심판에 대한 설명이다. ③은 정당 해산 심판에 대한 설명이다. ④는 헌법 소원 심판에 대한 설명이다. ⑤는 탄핵 심판과 관련 있다.

해결의 실마리

셋다른제로 인해 게임할 권리를 침해당함
↓
기본권을 침해당한 국민이 직접 헌법 재판소에 청구함
↓
헌법 소원 심판

해결의 실마리

(가) 외교 사절 접견
↓
국가 원수로서의 권한
↓
(나) 국무 회의의 의장으로서 주요 정책 심의
↓
행정부 수반으로서의 권한

헌법 재판소의 역할

- 위헌 법률 심판: 재판의 전제가 된 법률의 위헌 여부 심판
- 헌법 소원 심판: 공권력이 국민의 기본권을 침해했는지 여부 심판
- 탄핵 심판: 고위 공무원이 직무상 헌법이나 법률을 위반한 경우 파면 여부 심판
- 정당 해산 심판: 정당의 목적이나 활동이 민주적 기본 질서에 어긋날 때 정당의 해산 여부 심판
- 권한 쟁의 심판: 국가 기관 간 권한에 대한 다툼 심판

14

탄핵 심판은 대통령, 장관, 법관 등 법률이 정한 고위 공무원이 직무상 헌법이나 법률을 위반하여 국회가 해당 공무원의 탄핵 소추를 의결하였을 경우 헌법 재판소가 파면 여부를 심판하는 것이다. 공무원의 직무 감찰은 감사원의 역할이다.

15

행정부는 법률 집행, 정책의 수립·집행과 같은 행정 작용을 담당하는 국가 기관이다. 행정부에서는 법률에 따라 사회 질서를 유지하고 국민을 보호하는 일, 공공시설을 만들고 관리하는 일, 일자리 안정이나 국민 건강 보장 등 복지와 관련된 다양한 일을 담당하고 있다.

16

국무총리 아래에는 국무총리가 관리하고 감독하는 행정 각부가 위치한다. 행정 각부는 국가 행정을 나누어 맡아 교육, 경제, 외교, 국방, 통일 등의 구체적인 행정 사무를 처리한다.

17

헌법 소원 심판은 법률이나 국가 권력이 국민의 기본권을 침해하고 있는지를 심판하는 제도로, 기본권이 침해된 국민이 직접 헌법 재판소에 요청할 수 있다.

18

예시답안 행정 기관과 공무원이 직무를 바르게 수행하는지 등을 감찰하는 역할을 한다.

채점 기준	등급	평가 기준
	상	행정 기관과 공무원의 직무를 감찰한다고 서술한 경우
	하	공무원의 부정을 잡아낸다는 식으로 간단히 서술한 경우

19

예시답안 (가)는 외교 사절을 맞이하는 권한으로, 이는 외국에 대하여 국가를 대표하는 국가 원수로서 대통령의 지위와 관련 있다. (나)는 국무 회의의 의장으로서 국가의 주요 정책을 심의하고 결정하는 권한으로, 이는 행정부를 지휘하고 감독하는 행정부 수반으로서 대통령의 지위와 관련 있다.

채점 기준	등급	평가 기준
	상	(가)의 권한은 국가 원수로서의 지위, (나)의 권한은 행정부 수반으로서의 지위와 관련 있다고 서술한 경우
	하	(가)의 국가 원수로서의 지위와 (나)의 행정부 수반으로서의 지위 중 한 가지만 옳게 서술한 경우

20

예시답안 대법원 / 대법원은 사법부의 최고 기관으로, 모든 사건의 최종적인 재판을 담당한다.

등급	평가 기준
상	대법원이라고 쓰고, 사법부의 최고 기관으로 최종심을 담당한다는 내용을 서술한 경우
중	대법원이라고 쓰고, 그 위상과 역할 중 한 가지만 옳게 서술한 경우
하	대법원이라고만 쓴 경우

대단원 완성문제

▶ 기본학습서 043~046쪽

01 ① 02 ⑤ 03 ① 04 ② 05 ③ 06 ⑤ 07 ⑤
08 ③ 09 ② 10 ⑤ 11 ③ 12 ② 13 ② 14 ③
15 ① 16 ⑤ 17 해설 참조 18 해설 참조 19 해설
참조 20 해설 참조

01

국회는 국민이 직접 선거로 선출한 국회의원들로 구성된 국민의 대표 기관이다. 국회는 법률을 만드는 입법 기관이며, 행정부와 법원을 비롯한 다른 국가 기관을 견제하고 감시하는 국가 권력의 견제 기관이기도 하다.

02

ㄷ. 국회는 각 지역에서 선거를 통해 선출된 지역구 국회의원들과 각 정당의 득표율에 비례하여 선출된 비례 대표 국회의원으로 구성된다. ㄹ. 국회의 모든 결정은 최종적으로 본회의에서 이루어진다.

▶ **해설** ㄱ. 국회 의장 1인과 부의장 2인이 있다. ㄴ. 효율적인 의사 진행을 위해 위원회와 교섭 단체를 두고 있다.

03

국회는 입법 기관으로서 국민의 다양한 의견을 반영하여 법률을 제정 또는 개정한다. ① 우리나라에서 법률안 제안은 10인 이상의 국회의원이나 정부가 할 수 있다.

04

국회의 일반 국정에 관한 권한에는 국정 감사 및 국정 조사권, 헌법 기관 구성원(헌법 재판소장, 대법원장, 대법관 등)의 임명 동의권, 탄핵 소추 의결권 등이 있다.

문제자료 1. 뜯어보기

- 8월 15일~30일: ㉠ 20xx년 회계 연도 결산 심사
국회는 정부가 예산을 제대로 집행했는지 결산 심사를 할 수 있어요. 이는 재정에 관한 권한이에요.
- 9월 12일: ㉡ ○○○ 헌법 재판소장 임명을 위한 청문회 실시
국회는 대통령이 헌법 기관의 구성원을 임명할 때 인사 청문회를 실시하고, 임명에 대한 동의권을 행사할 수 있어요. 이는 일반 국정에 관한 권한이에요.
- 9월 19일~10월 6일: ㉢ 정부의 국정 수행과 예산 집행에 관한 국정 감사 실시
국회는 국정의 잘못된 부분을 찾아내어 바로잡도록 하기 위해 국정 감사를 할 수 있어요. 이는 일반 국정에 관한 권한이에요.
- 11월 4일: ㉣ 본회의에서 「개인 정보 보호법」 의결
국회는 법률을 제정할 수 있어요. 이는 입법에 관한 권한이에요.

우공비 Note

해결의 실마리

(가) 정부가 제출한 예산안이 국회를 통과함



예산안 심의·확정권



재정에 관한 권한



(나) 법률 개정안이 국회에서 의결됨



법률 개정권



입법에 관한 권한

05

(가)는 국회의 재정에 관한 권한 중 예산안 심의·확정과 관련된 활동이다. (나)는 국회의 입법에 관한 권한 중 법률안 개정과 관련된 활동이다. ㄱ은 국회의 입법 권한에 관한 헌법 조항이고, ㄴ은 국회의 예산안 심의·확정에 관한 헌법 조항이다. ㄷ은 대법관 임명에 대한 국회의 동의권 행사에 관한 헌법 조항이고, ㄹ은 국회의 국정 감사권 및 국정 조사권 행사에 관한 헌법 조항이다.

06

제시된 자료에는 지역구 국회의원 선거에 출마한 후보자가 나타나 있다. 지역구 국회의원은 각 지역구에서 최다 득표자 한 명만을 선출한다.

▶ **해설** ㄱ은 비례 대표 국회의원에 대한 설명이다.

07

행정부의 국민에 대한 안정적인 생활, 공익 실현, 국민의 권리 보호 등을 위하여 다양한 정책을 세우고 실행한다. ⑤ 오늘날 현대 국가에서 행정부가 하는 일이 광범위해지고 행정부의 역할이 커지고 있다. 그러나 행정부가 다양한 정책을 시행하는 목적이 행정부의 권한을 강화하기 위한 것은 아니다.

08

행정 각부는 교육, 경제, 외교, 국방, 통일 등으로 국가 행정을 나누어 맡아서 실제 행정 업무를 한다.

▶ **해설** ① 행정부의 최고 책임자는 대통령이다. ② 행정부의 최고 심의 기관은 국무 회의이다. 감사원은 행정부의 최고 감사 기관이다. ④ 행정 기관과 공무원의 직무를 감찰하는 역할을 하는 것은 감사원이다. 국무 회의는 국가의 중요한 정책을 심의한다. ⑤ 대통령을 보좌하고 행정 각부를 총괄하는 것은 국무총리이다. 행정 각부의 장(장관)은 자신이 맡은 부서의 업무를 지휘한다.

09

A에 해당하는 국가 기관은 감사원이다. 감사원은 행정부의 최고 감사 기관으로, 국가의 세입과 세출의 결산을 검사와, 행정 기관 및 공무원의 직무를 감찰한다.

10

(가)는 대통령이 법률안 거부권을 행사하는 것으로, 이는 행정부 수반으로서의 지위를 보여 준다. (나)는 대통령이 우리나라를 대표하여 외국과의 정상 회담에 참석하는 것으로, 이는 국가 원수로서의 지위를 보여 준다.

11

팔호 안에 들어갈 대통령의 지위는 국가 원수이다. 대통령은 국가 원수로서 다른 나라와 조약을 체결할 수 있고, 헌법 재판소장, 대법원장, 대법관 등과 같은 헌법 기관의 구

대통령의 지위

- 국가 원수로서의 지위: 국가의 최고 지도자로서 외국에 대하여 국가를 대표할 자격을 지님
- 행정부 수반으로서의 지위: 행정부의 최고 책임자로서 행정 작용에 대한 최종적인 권한과 책임을 지님

성원을 임명할 수 있다. 또한 긴급 명령권이나 계엄 선포권을 행사할 수 있으며, 국가의 중요 정책을 국민 투표에 부칠 수 있다. ③ 행정부의 고위 공무원을 임명하거나 해임할 수 있는 공무원 임면권은 대통령의 행정부 수반으로서의 권한에 해당한다.

12

사법은 법을 해석하여 적용하는 국가 작용이고, 법원은 사법을 담당하는 국가 기관이다.

오답풀이 ◀ 나. 국가에서 세금을 걷는 것은 행정 작용에 해당한다. 다. 법률을 제정하거나 개정하는 역할을 하는 것은 국회(입법부)이다.

13

사법권의 독립을 위해서는 법원과 법관의 독립이 이루어져야 한다. 이를 위해 우리 헌법에서는 법관이 외부의 간섭을 받지 않고 오직 헌법과 법률에 의하여 그 양심에 따라 심판하도록 하고 있다.

14

고등 법원은 1심 법원의 판결에 대한 항소 사건, 즉 2심을 담당한다. 이때 지방 법원을 거친 2심 사건 외에 가정 법원, 행정 법원의 1심을 거친 2심 사건도 재판한다.

15

헌법 재판소는 국회에서 만든 법률이나 공권력의 행사가 국민의 기본권을 침해하는지 등을 판단하는 국가 기관이다. ① 헌법 재판소는 독립된 국가 기관으로, 사법부 소속이 아니다. 사법부의 최고 기관은 대법원이다.

사법권의 독립

- 법원의 독립: 법원의 조직이나 운영이 외부의 간섭과 영향을 받지 않도록 함
- 법관의 독립: 법관이 다른 국가 권력의 간섭을 받지 않고 오직 헌법과 법률에 의해 양심에 따라 독립하여 판결하도록 함



공정한 재판



국민의 권리 보호

문제자료 뜯어보기

헌법 재판소는 ㉠ 사법부의 최고 기관으로서 헌법의 침해 사법부의 최고 기관은 대법원에요.를 방지하는 ㉡ 헌법 수호 기관이자, 국민의 기본권을 보호하는 ㉢ 기본권 보장 기관이다. 법률이나 국가 권력이 헌법 재판소는 헌법 수호 기관이자, 기본권 보장 기관으로서의 위상을 가져요.국민의 기본권을 침해한 경우 ㉣ 해당 국민이 직접 헌법 헌법 소원 심판은 기본권을 침해당한 국민이 직접 헌법 재판소에 청구해요.소원 심판을 청구할 수 있다. 또한 헌법 재판소는 ㉤ 정당 헌법 재판소는 정당의 해산 여부를 결정할 수 있는 정당 해산 심판을 담당해요.의 해산 여부를 결정할 수 있는 권한이 있다.

16

재판의 전제가 된 법률이 헌법에 위반된다고 판단되는 경우 법원의 제청에 의해 헌법 재판소가 법률의 헌법 위반 여부를 심사하는 것을 위한 법률 심판이라고 한다.

17

예시답안 (가) 위원회, (나) 교섭 단체 / 국회의 효율적인 의사 진행을 돕는 역할을 한다.

해결의 실마리

- (가) 본회의에서 결정할 안건을 미리 심사함: 위원회
- (나) 국회의원의 다양한 의사를 사전에 조정함: 교섭 단체



국회의 효율적인 의사 진행

채점기준	등급	평가 기준
	상	(가) 위원회, (나) 교섭 단체라고 쓰고, 국회의 효율적인 의사 진행을 돕는 역할을 한다고 서술한 경우
	중	(가와 나)에 해당하는 기관의 명칭을 쓰지 않고, 국회의 효율적인 의사 진행을 돕는 역할을 한다고만 서술한 경우
	하	(가) 위원회, (나) 교섭 단체라고만 쓴 경우

18

예시답안 국무 회의 / 행정부의 최고 심의 기관이며, 정부의 주요 정책을 심의하고 결정한다.

채점기준	등급	평가 기준
	상	국무 회의라고 쓰고, 행정부 내 '최고 심의 기관'이라는 것과 '주요 정책을 심의'한다는 내용을 모두 포함하여 적절하게 서술한 경우
	하	국무 회의라고 쓰고, 단순히 회의 기구라고만 표현하여 서술한 경우

19

예시답안 A 고등 법원, B 특허 법원 / 고등 법원은 주로 1심 법원의 판결에 불복하여 항소한 사건, 즉 2심 사건을 재판한다. 특허 법원은 특허권과 관련된 사건을 담당한다.

채점기준	등급	평가 기준
	상	A 고등 법원, B 특허 법원이라고 쓰고, 고등 법원과 특허 법원이 담당하는 사건을 옮겨 서술한 경우
	중	A와 B에 해당하는 법원의 명칭을 쓰지 않고, 각 법원이 담당하는 사건만을 옮겨 서술한 경우
	하	A 고등 법원, B 특허 법원이라고만 쓴 경우

20

예시답안 제시된 그림에는 헌법 소원 심판이 나타나 있다. 헌법 소원 심판은 법률이나 국가 권력에 의해 헌법에서 보장하는 기본권을 침해받은 국민이 헌법 재판소에 기본권의 구제를 신청한 경우 헌법 재판소가 이를 심판하는 것이다. 사례에서 헌법 재판소가 재외 국민의 선거권을 제한하는 법률 조항이 헌법에 어긋난다는 결정을 내렸으므로 국회는 법률 개정을 통해 재외 국민에게 선거권을 부여하는 내용으로 「공직 선거법」의 해당 조항을 바꿔야 한다. 또한 재외 국민이 거주하는 외국에 투표소를 마련하거나 투표 기간을 늘려 주는 등 재외 국민의 참정권을 보장할 수 있는 법률안을 만들어야 한다.

채점기준	등급	평가 기준
	상	그림에 나타난 헌법 재판이 헌법 소원 심판이라는 것을 그 의미와 함께 정확히 제시하고, 국회에서 재외 국민의 선거권을 인정하는 법률 개정이 이루어져야 한다는 것과 재외 국민의 선거권 행사를 위한 현실적 방안을 담은 관련 법률의 제정이 이루어져야 한다는 것을 모두 서술한 경우
	중	그림에 나타난 헌법 재판이 헌법 소원 심판이라는 것을 그 의미와 함께 제시했으나, 국회에서 이루어져야 할 재외 국민의 선거권 보장을 위한 법률의 개정이나 제정에 대한 서술이 다소 미흡한 경우
	하	그림에 나타난 헌법 재판이 헌법 소원 심판이라는 것만 서술한 경우

III 경제생활과 선택

1 합리적 선택과 경제 체제

학교시험적중문제

▶ 기본학습서 052~055쪽

01 ③ 02 ② 03 ④ 04 ③ 05 ③ 06 ④ 07 ④
08 ② 09 ④ 10 ③ 11 ② 12 ② 13 ⑤ 14 ⑤
15 (가) 분배, (나) 생산 16 기회비용 17 (가) 계획 경제 체제, (나) 시장 경제 체제 18 해설 참조 19 해설 참조 20 해설 참조

01

제시문은 재화에 대한 설명이다. ③ 학생의 교복은 눈에 보이는 형태가 있는 물건이므로 재화에 해당한다.

오답풀이 ①, ②, ④, ⑤는 인간의 행위이므로 서비스에 해당한다.

02

생산 활동은 재화와 서비스를 새롭게 만들어 내거나 그 가치를 증대시키는 활동이다.

오답풀이 ㄷ. 월급을 받는 것은 생산 활동에 참여하여 노동을 제공하고 그 대가를 받는 것이므로 분배 활동에 해당한다. ㄹ. 공연을 관람하는 것은 서비스를 구입하여 사용하는 것이므로 소비 활동에 해당한다.

03

(가)는 분배 활동, (나)는 소비 활동에 대한 설명이다. ㄹ. 자본을 제공하고 이자를 받는 것은 분배 활동에 해당한다. ㄴ. 학용품을 구입하는 것은 재화에 대한 소비 활동에 해당한다.

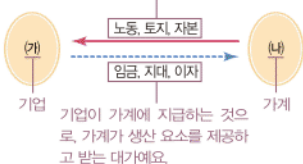
오답풀이 ㄱ은 재화에 대한 생산 활동, ㄷ은 서비스에 대한 생산 활동에 해당한다.

04

(가)는 기업, (나)는 가게이다. ③ 기업은 생산 활동의 주체로, 재화와 서비스를 생산하여 공급한다.

문제자료 뜯어보기

가게가 기업에 제공하는 생산 요소예요.



오답풀이 ① 공공재를 시장에 공급하는 경제 주체는 정부이다. ② 생산에 필요한 요소는 노동, 토지, 자본이며,

재화와 서비스

- 재화: 구체적인 형태가 있는 물건 ㉠ 책상, 텔레비전, 자동차 등
- 서비스: 인간의 가치 있는 활동 ㉡ 강의, 운송, 보관, 진료 등

자원의 희소성

- 의미: 인간의 욕구는 무한한 데 비해 이를 충족해 줄 자원의 양이 상대적으로 부족한 현상
- 특징
 - 자원의 절대적인 양보다는 인간의 욕구에 따라 결정됨
 - 같은 재화라도 시대와 장소에 따라 달라질 수 있음

경제 활동의 주체

- 가게: 소비 활동의 주체, 기업에 생산 요소를 제공하고 얻은 소득으로 재화와 서비스를 소비함
- 기업: 생산 활동의 주체, 재화나 서비스를 생산하고 이윤을 창출함
- 정부: 생산과 소비 활동의 주체, 세금을 걷어 공공재를 생산하여 공급함

가게는 이러한 생산 요소를 기업에 제공한다. ④ 최소 비용으로 최대 이윤을 추구하는 경제 주체는 기업이다. ⑤ 경제 전체를 관리하는 경제 주체는 정부이다.

05

ㄴ. 가게는 기업으로부터 상품(재화, 서비스)을 구입하여 사용함으로써 소비 활동을 하는 주체이다. ㄷ. 정부는 가게와 기업으로부터 세금을 걷고, 경제 활동에 관련된 규칙이나 법을 만들어 시장 경제 질서를 유지한다.

오답풀이 ㄱ. 가게는 기업에 생산 요소를 제공하고 그 대가로 소득을 얻는다. ㄹ. 이윤 획득을 목적으로 생산 활동을 하는 경제 주체는 기업이다.

06

자원의 희소성은 인간의 필요와 욕구, 장소 등에 따라 달라질 수 있는 상대성을 띤다. ④ 어떤 자원의 절대적인 양이 적게 존재한다고 하더라도 그것을 원하는 사람이 없다면 그 자원은 희소하지 않은 것이다.

07

㉢ 편익은 선택을 통해 얻게 되는 이익이나 만족감을 뜻한다. 선택으로 인해 포기한 대안 중 가장 가치가 큰 것을 기회비용이라고 한다.

08

합리적 의사 결정 과정은 (나) 문제 인식 → (마) 대안 탐색 → (대) 대안 평가 → (가) 대안 선택 → (라) 평가 및 반성의 순서로 이루어진다. 먼저 왜 구입해야 하는지부터 확인하고, 다양한 정보를 수집하여 대안을 탐색한다. 그리고 여러 기준에 따라 대안을 평가하고, 그중에서 비용 대비 편익이 가장 큰 것을 선택한다. 선택한 후에는 자신의 선택이 합리적이었는지를 평가하고 반성하는 기회를 갖는다.

문제자료 뜯어보기

- (가) 분석 내용을 바탕으로 어느 스마트폰을 살 것인지 결정한다. ④
→ 대안 선택 단계로, 여러 대안 중 평가 결과가 가장 나은 최적의 대안을 선택해요.
- (나) 갖고 있는 스마트폰이 고장 나서 새 것을 구입하기로 마음먹었다. ㉠
→ 문제 인식 단계로, 현재 해결해야 할 문제를 인식하여 무엇을 사야 하는지를 파악해요.
- (다) 비용과 편익을 고려한 평가 기준을 세워 각 대안을 비교·분석한다. ③
→ 대안 평가 단계로, 비용과 편익을 포함한 평가 기준을 설정하여 대안을 평가해요.
- (라) 선택에 따른 문제점은 없는지, 합리적 선택이었는지에 대하여 평가한다. ⑤
→ 평가 및 반성 단계로, 선택이 올바르게 이루어졌는지 평가하고 반성해요.
- (마) 인터넷을 통해 정보를 수집하고 판매점을 방문하여 선택할 수 있는 다양한 대안을 찾아본다. ㉡
→ 대안 탐색 단계로, 여러 가지 방법으로 대안을 찾아보아요.

09

제시문에는 자동차 부품을 어떻게 조립할 것인지 고민하는 내용이 나타나 있는데, 이는 생산 방법과 관련된 경제 문제이다.

오답풀이 ① '언제 생산할 것인가'는 생산 시기와 관련된 경제 문제이다. ②, ③ '무엇을 얼마나 생산할 것인가'는 생산물의 종류, 수량과 관련된 경제 문제이다. ⑤ '누구를 위하여 생산할 것인가'는 생산물의 분배와 관련된 경제 문제이다.

10

ㄴ. (가)는 '무엇을 생산할 것인가', 즉 생산물의 종류와 관련된 경제 문제이다. ㄷ. (나)는 분배와 관련된 문제로, '누구를 위하여 생산할 것인가'에 해당한다.

오답풀이 ㄴ. 생산 방법을 결정하는 문제는 '어떻게 생산할 것인가'의 문제로, (가)는 이에 해당하지 않는다. ㄷ. (가)와 (나)를 포함한 모든 경제 문제는 자원의 희소성으로 인해 발생한다.

11

시장 경제 체제는 시장 가격을 통해 경제 문제가 해결되는 경제 체제이다. 시장 경제 체제에서는 사유 재산과 경제 활동의 자유를 인정하기 때문에 개인과 기업은 자신의 이익을 추구하고 자유롭게 경제 활동을 할 수 있다. ② 생산 수단은 재화나 서비스를 생산하는 데 사용되는 토지, 자원, 기계 등을 말한다. 생산 수단을 국가가 소유하고 있는 것은 계획 경제 체제이다. 시장 경제 체제에서는 개인이 생산 수단을 소유할 수 있다.

12

제시문은 계획 경제 체제에 대한 설명이다. 계획 경제 체제는 생산 수단을 공유하는 사회주의와 결합하여 부와 소득의 불평등 완화를 목표로 하며, 개인의 재산 소유가 제한된다.

오답풀이 ㄴ, ㄷ. 시장 가격을 통해 경제 문제가 해결되는 것은 시장 경제 체제이다. 시장 경제 체제에서는 개인의 이익 추구를 인정하고, 각자의 노력에 따라 소득을 얻기 때문에 개인의 근로 의욕이 높다.

13

시장 경제 체제에서는 개별 경제 주체인 가계와 기업이 경제적 의사 결정을 한다. 반면, 계획 경제 체제에서는 중앙 정부가 경제 문제와 관련된 모든 의사 결정을 내린다.

14

제시문을 통해 계획 경제 체제에서 나타나는 경제적 비효율성을 파악할 수 있다. 계획 경제 체제에서는 일한 만큼 분배받는 것이 아니기 때문에 각 경제 주체가 경제 활동에 열심히 참여할 동기가 부족하여 생산성이 저하된다는 문제점이 있다.

경제 활동의 종류

- 생산: 재화와 서비스를 만들어 내거나 그 가치를 높이는 활동
- 분배: 생산 과정에 참여한 대가로 임금, 이자, 지대 등을 받는 것
- 소비: 재화나 서비스를 구입하여 사용하는 것

해결의 실마리

(가) 국가의 계획과 명령을 통해 경제 문제 해결



계획 경제 체제



(나) 시장 가격을 통해 경제 문제 해결



시장 경제 체제

계획 경제 체제

- 의미: 국가가 각 경제 주체의 경제 활동에 대해 계획하고 명령함으로써 경제 문제를 해결하는 경제 체제
- 목표: 부와 소득의 불평등 완화
- 특징: 생산 수단의 국유화, 경제 활동의 자유 제한, 정부에 의한 자원 배분 등

오답풀이 ① 빈부 격차 심화와 ④ 지나친 사익 추구로 인한 공익 침해는 시장 경제 체제의 문제점에 해당한다. ②는 계획 경제 체제의 특징이지만 제시문의 내용과 거리가 멀다. ③은 시장 경제 체제의 특징에 해당한다.

15

(가)는 생산 활동에 참여하여 노동을 제공한 대가로 임금을 받는 것으로, 분배에 해당한다. (나)는 재화를 만드는 활동으로, 생산에 해당한다.

16

어떤 것을 선택함으로써 포기하는 대안 중에서 가장 가치가 큰 것을 기회비용이라고 한다.

문제자료 뜯어보기

의진: 우아! 너 운동화 새로 샀구나! 멋지다.

효진: 응. 디자인이 세련되고 가격도 저렴해서 하나 장만했어.

의진: 그런데 모자랑 운동복도 산다고 하지 않았어?

효진: 용돈이 부족해서 운동화만 샀어. 하지만 모자를 포기한 것이 가장 아쉽기는 했어.

효진은 운동화 구입을 선택하였고, 모자와 운동복 구입은 포기하였어요. 그리고 모자를 포기한 것이 가장 아쉽다고 했으므로 운동화를 선택함으로써 포기한 대안 중 가장 가치가 큰 것, 즉 기회비용은 모자 구입에 따른 만족감이지요.

17

(가)는 국가가 주도하여 배추 수확량 감소 문제를 해결하고자 하므로 계획 경제 체제이다. (나)는 국가의 개입 없이 시장의 가격 기능을 통해 배추 수확량 감소 문제를 해결하고자 하므로 시장 경제 체제이다.

18

예시답안 희소성은 자원의 절대적인 양보다는 이를 사용하고자 하는 인간의 욕구 정도에 따라 결정되는 것이기 때문이다.

채점기준	등급	평가 기준
	상	희소성이 자원의 절대적인 양이 아니라 인간의 욕구에 따라 결정된다는 내용을 서술한 경우
	하	'절대적인 양'이라는 용어를 쓰지 않고, 희소성이 인간의 욕구에 따라 결정된다고만 서술한 경우

19

(1) 비용 - 20만 원, 편익 - 15만 원

(2) **예시답안** 편익보다 비용이 큰 선택을 하였기 때문에 합리적 선택을 하지 못하였다.

채점기준	등급	평가 기준
	상	편익보다 비용이 크므로 합리적 선택을 하지 못하였다고 서술한 경우
	하	합리적 선택을 하지 못하였다고만 쓴 경우

20

해설답안 우리나라의 경제 체제는 시장 경제 체제를 기본으로 하면서, 정부가 경제에 일정 부분 개입하는 혼합 경제 체제이다.

채점 기준	등급	평가 기준
	상	시장 경제 체제를 기본으로 하면서 계획 경제 체제의 특성이 개입된 혼합 경제 체제라고 서술한 경우
	하	계획 경제 체제의 특성을 일부 갖고 있다고만 서술한 경우

2 기업의 역할과 사회적 책임

3 금융 생활의 중요성

학교 시험 적중 문제

▶ 기본학습서 058~061쪽

01 ⑤ 02 ⑤ 03 ② 04 ① 05 ⑤ 06 ② 07 ③
08 ① 09 ② 10 ① 11 ④ 12 ③ 13 ③ 14 ⑤
15 기업 16 기업가 정신 17 ㉠ 안전성, ㉡ 수익성, ㉢
유동성 18 해설 참조 19 해설 참조 20 해설 참조

01

기업은 이윤을 목적으로 생산 활동을 하는 주체로서 상품 생산, 고용과 소득 창출, 세금 납부 등의 역할을 한다.

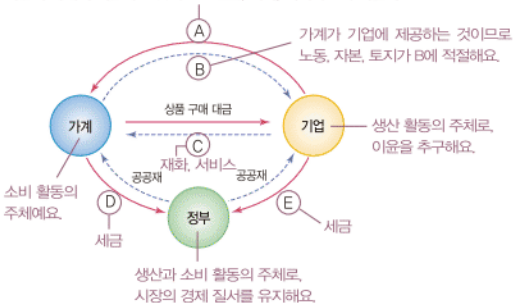
해답풀이 ㄱ. 기업은 가격으로부터 생산 요소를 구입하여 사용하고 그 대가를 지급한다. ㄴ. 경제 활동에 필요한 규칙을 제정하는 것은 정부의 역할에 해당한다.

02

기업은 생산 활동을 통해 이윤의 극대화를 추구하는 경제 주체이다. E는 기업이 정부에 납부하는 세금이다.

문제자료 뜯어보기

기업이 가격에 지급하는 것이므로 임금, 이자, 지대가 A에 적절해요.



03

제3 세계 어린이에게 신발을 기부하는 것은 사회에 구성원의 역할을 다하는 것으로서 기업의 사회적 책임을 실현하는 모습이다.

기업가 정신의 실천 방안

- 새로운 상품 개발
- 새로운 기술 개발
- 새로운 생산 방법 도입
- 새로운 시장 개척
- 새로운 경영 조직 도입

해답풀이 ①과 ③은 정부의 역할이다. ④는 기업가 정신과 관련 있다. ⑤는 소비자 단체, 한국 소비자원 등을 통해 이루어진다.

04

기업가 정신은 혁신과 창의성을 바탕으로 한 생산 활동을 통해 기업을 성장시키려는 도전 정신이나 의지를 말한다. ①의 사례는 혁신과 창의성을 바탕으로 한 것이 아니므로 기업가 정신을 발휘한 사례로 보기 어렵다.

05

제시된 내용은 생애 주기 중 노년기와 관련 있다. 노년기에는 소득이 감소하거나 없어지지만 소비는 지속되므로 그 이전에 노후 준비를 해야 할 필요가 있다. 평균 수명이 연장되어 고령 사회로 변화하면서 노년기의 중요성이 커지고 있다.

06

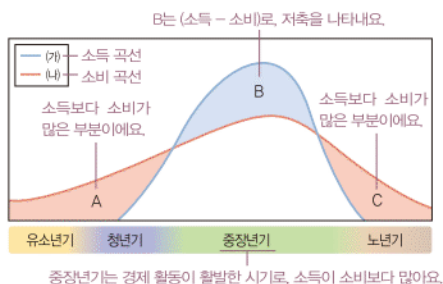
ㄱ. 유소년기는 부모의 소득에 의존하여 소비 생활을 하는 시기로, 바람직한 경제생활 태도를 형성하는 것이 중요하다. ㄴ. 중장년기에는 소득이 많이 증가하지만, 주택 마련, 자녀 교육 등으로 소비도 많이 증가한다.

해답풀이 ㄴ. 소득이 가장 많이 발생하는 시기는 중장년기로, 중장년기는 소득이 소비보다 많은 시기이다. 청년기에는 취업하여 경제 활동을 시작하지만 소득은 적은 편이다. ㄷ. 소득이 늘고 은퇴 계획 수립에 따른 소비도 늘어나는 시기는 중장년기이다. 노년기에는 소득이 크게 줄지만 소비 생활을 지속한다.

07

B는 소비보다 소득이 많은 부분으로 저축을 나타낸다. 저축은 소득 가운데 소비하지 않고 남겨 둔 몫을 말하며, 중장년기에는 저축을 통해 노후를 준비해야 한다.

문제자료 뜯어보기



중장년기는 경제 활동이 활발한 시기로, 소득이 소비보다 많아요.

기업의 사회적 책임

- 의미: 기업이 이윤 추구 외에 사회에 구성원의 역할을 다하는 것
- 실천 방안: 법률 준수, 소비자의 권리 보호, 노동자의 권리 보호, 환경 보호, 사회적 목적 추구 등

해답풀이 ① ㄱ는 소득 곡선, ㄴ는 소비 곡선이다. ② A는 소득보다 소비가 많은 부분이다. ④ 평균 수명의 연장으로 노년기가 길어지고 있어 C 부분은 늘어나고 있다. ⑤ 인간의 생애 주기를 보면 생산 활동을 통해 소득을 얻을 수 있는 기간은 한정되어 있지만, 소비 생활은 평생 동안 지속된다는 것을 알 수 있다.

08

소득을 얻을 수 있는 기간은 한정되어 있으므로 지속 가능한 소비 생활을 하기 위해서는 자산 관리가 필요하다. 또한 결혼, 주택 마련, 자녀 교육뿐만 아니라 뜻밖의 사고나 질병, 자연재해 등에 따른 지출에도 대비해야 한다. 특히 인간의 평균 수명이 늘면서 노년기 생활에 대한 대비가 필요해지고, 생애 주기를 고려한 합리적인 자산 관리의 중요성이 더욱 커지고 있다. ① 중장년기는 소득이 소비보다 많은 시기이다.

09

주식은 예금에 비해 높은 이익을 기대할 수 있기 때문에 수익성이 높다.

오답풀이 ① 채권은 주식보다 비교적 안전성이 높은 편이다. ③ 예금은 안전성이 높은 자산 관리 방법이다. ④ 예금, 채권은 금융 자산이고, 부동산은 실물 자산이다. 금융 자산은 실물 자산보다 유동성이 높다. ⑤ 자산의 가격 상승이나 이자 수익을 기대할 수 있는 정도는 수익성을 나타낸다.

10

(가)는 주식으로, 배당금을 받거나 사고파는 과정에서 이익을 얻을 수 있지만 투자한 원금을 잃을 위험이 크다. (나)는 채권으로, 주식에 비해 안전성이 높은 편이지만 주식과 마찬가지로 원금을 잃을 위험이 있다.

11

제시된 내용은 예기치 못한 위험에 대비하기 위한 보험에 대한 설명이다.

오답풀이 ① 연금은 노후를 대비하여 저축하는 금융 상품이다. ② 예금은 금융 기관에 돈을 맡겨 이자를 받는 금융 상품이다. ③ 채권은 정부, 기업 등이 자금을 빌리면서 원금과 이자를 언제까지 갚겠다는 것을 표시하여 발행하는 증서이다. ⑤ 펀드는 금융 기관이 투자자에게서 모은 자금을 주식, 채권 등에 투자한 후 그 수익을 투자자에게 나누어 주는 금융 상품으로, 전문가를 통해 간접적으로 이루어진다.

12

“달걀을 한 바구니에 담지 마라.”라는 표현은 달걀을 한 바구니에 담으면, 바구니를 떨어뜨렸을 때 모두 깨질 수 있기 때문에 나누어 담아 위험을 줄이라는 의미로, 분산 투자의 중요성을 강조한 것이다.

13

신용을 활용하여 거래를 하면 현재의 소득보다 더 많은 소비를 할 수 있고, 현금 소지의 불편함을 해소할 수 있다.

오답풀이 ㄱ. 신용을 활용한 소비는 언젠가는 갚아야 할 빚이 늘어나는 것이므로 미래의 경제생활에 부담이 될 수

기업의 역할

- 이윤을 얻기 위해 상품 생산
- 고용과 소득 창출
- 세금 납부

자산별 특성

- 예금, 적금: 안전성은 높고 수익성은 낮음
- 주식: 안전성은 낮고 수익성은 높음
- 채권: 주식보다 안전성이 높으나 예금보다 안전성이 낮고 수익성이 높은 편임
- 부동산: 유동성이 낮음

해결의 실마리

개인의 전 생애 중 소득이 소비보다 많은 시기



중장년기



- 소득이 가장 많은 시기임
- 자녀 교육, 주택 마련, 은퇴 계획 수립 등으로 소비도 증가함
- 노후 준비를 위해 저축을 해야 함

신용

- 의미: 나중에 대가를 지불할 것을 약속하고 현재 상품을 이용하거나 돈을 빌릴 수 있는 능력
- 활용: 신용 카드로 물건 구입, 할부 서비스 이용, 금융 기관에서의 대출, 통신회비 지불 등

있다. ㄴ. 신용 거래는 현금이 직접 지불되지 않기 때문에 충동구매나 과소비를 할 우려가 있다.

14

빌줄 친 '이것'은 신용이다. ⑤ 대출은 갚을 능력을 고려하여 신중히 해야 한다. 당장 경제적으로 필요하다고 해서 무작정 대출했을 경우 대출금을 제때 갚지 못해 낭패를 당할 수 있다.

15

기업은 이윤을 얻기 위해 재화와 서비스를 만들어 판매하는 생산 활동의 주체이다. 기업은 생산 활동을 하기 위해 가계의 노동과 자본을 사용하여 고용과 소득을 창출한다. 또한 정부에 세금을 납부하여 국가의 재정에 도움을 주기도 한다.

16

기업이 시장에서 경쟁력을 확보하고 기업을 유지·발전시키기 위해서는 기업이 정신이 필요하다. 기업이 정신은 미래의 불확실성과 높은 위험을 무릅쓰고 혁신과 창의성을 바탕으로 한 생산 활동을 통해 기업을 성장시키려는 도전 정신을 의미한다. 기업이 정신을 발휘하는 기업은 신상품이나 기술 개발, 새로운 생산 방식 도입, 새로운 시장 개척 등의 혁신을 통해 새로운 수익을 창출한다.

17

자산을 합리적으로 관리하기 위해서는 안전성, 수익성, 유동성을 고려해야 한다. 안전성은 원금에 대한 보장 정도, 수익성은 투자 대비 이익 정도, 유동성은 현금화할 수 있는 정도를 뜻한다.

18

예시답안 기업의 사회적 책임 / 기업이 이윤 추구 활동 이외에 법과 윤리를 준수하고, 소비자와 노동자, 지역 사회 등 사회에 긍정적인 영향을 미치는 활동을 수행하는 것을 말한다.

채점 기준	등급	평가 기준
	상	기업의 사회적 책임이라고 쓰고, 그 의미를 옳게 서술한 경우
	중	기업의 사회적 책임의 의미만을 옳게 서술한 경우
	하	기업의 사회적 책임이라고만 쓴 경우

19

예시답안 중장년기 / 중장년기에는 소득이 크게 증가하지 않으나 자녀 교육, 주택 마련 등으로 소비도 늘어난다. 이 시기에는 저축을 통해 소득이 발생하지 않는 노후를 준비해야 한다.

채점 기준	등급	평가 기준
	상	중장년기라고 쓰고, 경제생활의 특징을 옳게 서술한 경우
	하	중장년기라고만 쓴 경우

20

예시답안 신용도가 하락하여 앞으로 신용을 이용하지 못하거나 이용하더라도 다른 사람들보다 더 높은 이자를 지불해야 한다. 또한 신용 카드 발급 제한, 대출 거절, 취업 제한 등과 같은 불이익을 받을 수 있다.

채점 기준	등급	평가 기준
	상	신용도가 하락할 경우의 문제점을 두 가지 서술한 경우
	하	신용도가 하락할 경우의 문제점을 한 가지만 서술한 경우

대안원 완성문제

▶ 기본학습서 063~066쪽

01 ① 02 ④ 03 ② 04 ② 05 ③ 06 ④ 07 ③
08 ⑤ 09 ⑤ 10 ② 11 ④ 12 ④ 13 ② 14 ③
15 ① 16 ⑤ 17 해설 참조 18 해설 참조 19 해설
참조 20 해설 참조

01

생산 활동은 사람들에게 필요한 재화와 서비스를 만들거나 그 가치를 높이는 활동이다. 교사의 수업, 의사의 진료, 제품 출시, 이삿짐 업체의 이삿짐 운반은 생산 활동에 해당한다. ① 상여금을 받는 것은 생산 활동에 참여하여 노동을 제공하고 그 대가를 나누어 받는 것으로, 분배 활동에 해당한다.

02

(가)는 가게, (나)는 기업, (다)는 정부이다. ㄴ. A는 노동, 토지, 자본이다. 기업은 생산 요소인 A를 가게로부터 구입하고, 그 대가로 임금, 지대, 이자를 지급한다. ㄹ. 정부는 가게와 기업으로부터 세금을 걷고, 국방, 치안 등의 공공재를 생산하여 공급한다.

오답풀이 ㄱ. 가게는 소비 활동의 주체이다. 생산 활동의 주체는 기업이다. ㄷ. 이윤 획득을 목적으로 하는 경제 주체는 기업이다. 정부는 경제 전체를 관리하는 경제 주체이다.

03

사람들의 욕구는 무한한 데 비해 이를 충족해 줄 수 있는 자원의 양은 한정되어 있다. 이러한 자원의 희소성 때문에 인간은 다양한 경제 활동에서 늘 선택을 해야 하는 상황에 놓이게 된다.

04

기회비용은 어떤 것을 선택함으로써 포기하는 대안 중 가장 가치가 큰 것을 말한다. 갑이 우수 상품으로 도서 상품권을 선택함으로써 포기한 것 중 가장 가치가 큰 것은 휴대 전화 보조 배터리이므로 4만 원이 갑의 선택에 따른 기회비용이다.

우공비 Note

해결의 실마리

문제 인식



대안 탐색



대안 평가



대안 선택



평가 및 반성

기본적인 경제 문제

- 무엇을 얼마나 생산할 것인가: 생산물의 종류와 수량을 결정하는 문제
- 어떻게 생산할 것인가: 생산 방법을 결정하는 문제
- 누구를 위하여 생산할 것인가: 분배를 결정하는 문제

해결의 실마리

자원의 희소성
=인간의 욕구>자원의 양



선택의 문제 발생

해결의 실마리

기업은 단순한 이윤 추구를 넘어 사회가 요구하는 구성원의 역할을 다해야 함



기업의 사회적 책임 강조

05

합리적 선택은 가장 적은 비용으로 가장 큰 편익을 얻을 수 있도록 선택하는 것이다. 편익이 비용보다 큰 것을 선택하는 것, 비용이 같을 경우 편익이 큰 것을 선택하는 것이 합리적이다.

오답풀이 ㄱ. 편익이 비용보다 큰 것을 선택하는 것이 합리적이다. ㄹ. 편익이 같을 경우 비용이 적은 것을 선택하는 것이 합리적이다.

06

(가)는 대안 평가 단계이다. 대안 평가 단계에서는 가격, 성능, 디자인, AS 등 평가 기준을 정하여 대안별로 이를 비교·분석하는 활동이 적절하다.

오답풀이 ㄴ. ①은 문제 인식, ②는 평가 및 반성, ③은 대안 선택, ⑤는 대안 탐색 단계에 적절하다.

07

③ (다)는 생산 방법을 결정하는 문제이다. 생산에 참여한 대가를 지급하는 문제는 분배의 문제로, 누구를 위하여 생산할 것인가와 관련 있다.

08

시장 경제 체제는 시장 가격에 의해 경제 문제를 해결하는 경제 체제로, 개인의 경제 활동의 자유를 보장하고, 개인의 이윤 추구를 인정한다.

오답풀이 ㄱ. 계획 경제 체제에서는 개인이 노력한 만큼 소득을 얻지 못하기 때문에 생산성이 떨어진다. ㄴ. 생산 수단을 국가가 소유하는 것은 계획 경제 체제이다.

09

계획 경제 체제에서는 정부가 경제 문제와 관련된 모든 일을 결정하며, 개별 경제 주체의 경제 활동을 통제한다.

오답풀이 ㄴ. ①, ②, ③, ④는 시장 경제 체제의 특징이다.

10

중국은 계획 경제 체제를 기본으로 하면서 경제 성장을 위해 시장 경제 체제의 요소를 도입하고 있다. 미국, 독일, 프랑스, 대한민국은 시장 경제 체제를 기본으로 하면서 정부가 경제에 일정 부분 개입하고 있다. 이처럼 대부분 국가는 혼합 경제 체제를 채택하고 있다.

11

기업은 이윤을 얻기 위해 소비자에게 필요한 상품을 생산하여 시장에 공급한다.

오답풀이 ㄴ. ①, ③, ⑤는 정부의 역할이다. ② 생산 요소는 가게가 기업에 제공하는 것이다. 기업은 제공받은 생산 요소에 대한 대가를 지급한다.

12

제시문은 기업이 사회적 책임을 다해야 함을 강조하고 있다. ④ 상품의 생산 주문이 늘어 생산 공장을 늘리는 것은

기업의 이윤 추구를 위한 활동이며, 기업이 사회적 책임을 실천한 사례라고 보기 어렵다.

13

ㄱ. (가)는 소득, (나)는 소비를 나타낸다. ㄴ. 생애 주기에서 소득이 가장 많은 때는 B로, 중장년기이다.

오답풀이 < ㄴ. 제시된 그래프에 따르면 소비는 증가하다가 감소하고 있다. ㄷ. 노년기에는 소득보다 소비가 많으므로 A 이후에 소득-소비, 즉 저축이 계속 늘어난다고 볼 수 없다.

14

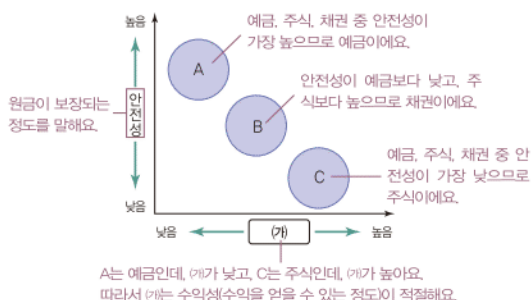
채권과 정기 예금은 이자 수익을 기대할 수 있고, 만기가 있다는 공통점이 있다.

오답풀이 < ① 정부나 기업 등이 발행하는 일종의 차용 증서는 채권이다. 주식은 주식회사가 자금 마련을 위해 투자자에게서 돈을 받고 발행하는 증서이다. ② 매달 일정 금액을 내고 사고가 났을 때 경제적 도움을 받는 금융 상품은 보험이다. ④ 값이 5개 종목의 주식에 투자했다라도 수익성은 높지만 안전성은 낮은 주식에만 투자한 것이므로 분산 투자라고 볼 수 없다. 병은 주식, 채권, 정기 예금 등 성격이 다른 금융 상품에 나누어 투자했으므로 분산 투자 성향이 강하다. ⑤ 을은 주식에 비해 안전성이 높은 채권과 정기 예금에만 투자했지만, 병은 안전성이 낮은 주식에도 투자하였다.

15

A는 예금, B는 채권, C는 주식이다. ㄱ. 예금은 안전성이 높아 원금 상실의 위험이 적다. ㄴ. 채권과 달리 주식은 이익금의 일정 비율을 주주에게 돌려주는 배당 수익이 있다.

문제자료 뜯어보기



오답풀이 < ㄷ. (가)에는 수익성이 적절하다. ㄴ. '달걀을 한 바구니에 담지 마라.'라는 격언은 분산 투자하여 위험에 대비하라는 의미를 담고 있다. 따라서 예금, 주식, 채권에 나누어 투자해야 한다.

16

①은 신용이다. 신용은 개인의 지불 능력에 대한 사회적 평가이다. ⑤ 신용 카드를 많이 만들어 사용하면 충동구매, 과소비로 이어져 신용도가 낮아질 수 있다.

생애 주기에 따른 소득과 소비

- 소득을 얻을 수 있는 기간은 한정되어 있으나 소비 생활은 평생 지속됨
- 중장년기에는 소득이 소비보다 많아 저축을 할 수 있음

해결의 실마리

월급을 모두 지출하고 있음



미래의 소비를 위한 저축을 해야 함



여유 자금을 수익성이 높고 안전성이 낮은 자산에 모두 투자하였음



수익성 외에 안전성도 고려하여 여유 자금을 분산 투자해야 함

신용의 장단점

- 장점: 현재의 소득보다 더 많은 소비 가능, 현금 소지의 불편함 해소, 자금 마련 용이 등
- 단점: 과소비와 충동구매 우려, 미래의 원금과 이자 상환 부담 등

17

예시답안 소비 활동 / 사람들이 만족을 얻기 위해 생활에 필요한 재화나 서비스를 구입하여 사용하는 활동이다.

채점 기준	등급	평가 기준
	상	소비 활동이라고 쓰고, 그 의미를 옳게 서술한 경우
	하	소비 활동이라고만 쓴 경우

18

예시답안 (가) 시장 경제 체제, (나) 계획 경제 체제 / 시장 경제 체제에서는 시장 가격에 의해 자원이 배분되고, 계획 경제 체제에서는 국가의 계획과 명령에 의해 자원이 배분된다.

채점 기준	등급	평가 기준
	상	(가) 시장 경제 체제, (나) 계획 경제 체제라고 쓰고, 각각의 자원 배분 방식을 옳게 서술한 경우
	중	(가), (나)의 자원 배분 방식만을 옳게 서술한 경우
	하	(가) 시장 경제 체제, (나) 계획 경제 체제라고만 쓴 경우

19

예시답안 A사는 외부 환경의 변화에 혁신과 창의성을 바탕으로 발빠르게 대처하는 기업이 정신을 제대로 발휘하지 못하였기 때문에 몰락하였다.

채점 기준	등급	평가 기준
	상	A사의 몰락 원인을 기업이 정신과 연결 지어 옳게 서술한 경우
	하	A사의 몰락 원인을 기업이 정신과 연결 짓지 않고 외부 환경 변화에 대처하지 못했기 때문이라고만 서술한 경우

20

예시답안 갑은 월수입 500만 원을 모두 지출하고, 미래의 소비를 위한 저축을 하지 않고 있다. 저축을 해 놓지 않으면 주택 구입이나 자녀 결혼 등으로 목돈이 필요할 때나 사고, 질병 등의 예기치 않은 위험이 발생했을 때 대처할 수 없으며, 노후를 준비할 수도 없다. 따라서 월수입에서 지출의 비중을 줄일 필요가 있다. 초등학교 자녀들의 교육비가 월 300만 원인 것은 월수입의 절반을 넘어 과도하다고 볼 수 있으므로 100만 원을 넘지 않도록 하고, 여기서 남은 금액을 은행에 예금하거나 연금을 드는 등 저축을 하는 것이 적절하다. 또한 갑은 여유 자금 5,000만 원을 모두 주식과 펀드에 투자하였다. 주식과 펀드는 둘 다 수익성이 높고 안전성이 낮은 자산으로, 원금이 손실될 위험이 높다. 따라서 안전성이 높은 자산에도 일정 부분 투자할 필요가 있다. 즉 여유 자금 5,000만 원을 예금, 주식, 채권, 보험, 연금 등에 분산 투자하는 것이 바람직하다.

채점 기준	등급	평가 기준
	상	갑의 자산 관리에서의 문제점을 정확히 제시하고, 이를 개선하기 위한 방법을 현실성 있게 서술한 경우
	중	갑의 자산 관리에서의 문제점을 정확히 제시했으나, 이를 개선하기 위한 방법을 미흡하게 서술한 경우
	하	갑의 자산 관리에서의 문제점을 정확히 제시하지 못하고, 이를 개선하기 위한 방법도 모호하게 서술한 경우

IV 시장 경제와 가격

1 시장의 의미와 종류

2 시장 가격의 결정

학교시험 적중 문제

▶ 기본학습서 072~075쪽

01 ② 02 ③ 03 ⑤ 04 ④ 05 ③ 06 ⑤ 07 ②
08 ⑤ 09 ⑤ 10 ③ 11 ④ 12 ⑤ 13 ③ 14 ①
15 시장 16 (가) 수요 법칙, (나) 공급 법칙 17 균형 가격: 1,000원, 균형 거래량: 30만 포기 18 해설 참조 19 해설 참조 20 해설 참조

01

시장은 상품을 사려는 사람과 팔려는 사람이 만나 거래하는 곳이다. ② 시장에는 거래되는 구체적인 장소 없이 거래하는 모습이 드러나지 않는 '보이지 않는 시장'도 있다.

02

과거 원시 사회는 자급자족 경제였으나 농업이 발달하면서 잉여 생산물의 발생으로 교환이 이루어지기 시작하였고, 보다 손쉽고 원활한 교환을 위해 시장이 형성되었다.

03

시장은 거래 비용을 줄여 주고, 분업을 촉진하여 사회 전체의 생산량을 증대시킨다.

오답풀이 ◀ ㄱ. 시장이 자원을 효율적으로 배분하는 데 기여하지만 빈부 격차 문제를 해결해 주지는 못한다. ㄴ. 시장에서 거래가 이루어지면서 자신이 필요로 하는 물건을 직접 생산할 필요가 없어졌다.

04

제시된 사진에는 보이지 않는 시장인 인터넷 쇼핑물이 나타나 있다. ㄴ. 전자 상거래는 거래 형태를 기준으로 구분할 때 거래 장소나 모습이 구체적으로 드러나지 않으므로 보이지 않는 시장에 속한다. ㄷ. 오늘날에는 정보 통신 기술의 발달에 따라 전자 상거래가 활발해지고 있다.

오답풀이 ◀ ㄱ. 재화가 거래되고 있으므로 생산물 시장에 해당한다. ㄷ. 눈에 보이지 않는 시장이라고 해서 수요자와 공급자의 구분이 모호한 것은 아니다.

05

(가)는 재화, 서비스를 거래하므로 생산물 시장이고, (나)는 노동, 자본, 토지를 거래하므로 생산 요소 시장이다. A는 (가) 생산물 시장에서 재화와 서비스를 소비하지만, (나) 생산 요소 시장에서 노동, 자본, 토지 등을 공급하므로 가계

시장의 유형

- 거래 형태에 따른 구분: 보이는 시장, 보이지 않는 시장
- 상품의 종류에 따른 구분: 생산물 시장, 생산 요소 시장

시장의 형성 과정

자급자족 경제 → 물물 교환 → 분업의 발생 → 시장의 형성 → 화폐 출현 → 시장의 활성화

해결의 실마리

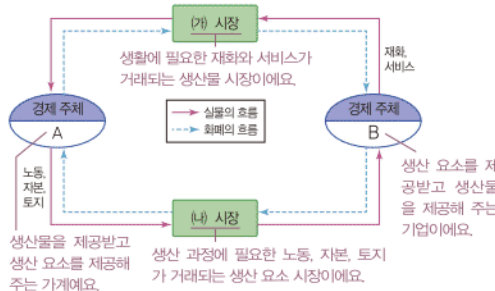
거래되는 상품의 종류에 따른 시장 구분

- (가): 재화와 서비스 거래 → 생산물 시장
- (나): 노동, 자본, 토지 거래 → 생산 요소 시장

- A: 생산 요소 제공 → 가계
- B: 생산물 제공 → 기업

이다. B는 (가) 생산물 시장에서 재화와 서비스를 생산하지만, (나) 생산 요소 시장에서 노동, 자본, 토지 등을 소비하므로 기업이다. ③ (나) 생산 요소 시장에서 경제 주체 A(가계)는 공급자이고, 경제 주체 B(기업)는 수요자이다.

문제자료 뜯어보기



06

(가)는 음식, 옷 등과 같은 형태가 있는 재화가 거래되는 시장, (나)는 가수의 공연, 미용사의 머리 손질 등과 같은 서비스가 거래되는 시장에 해당한다. (다)는 토지가 거래되는 시장, (라)는 노동이 거래되는 시장, (마)는 자본이 거래되는 시장에 해당한다. ⑤ (마)에 해당하는 자본 시장은 자본 조달을 위해 주식과 채권 등이 거래되는 시장으로서, 증권 회사에서 주식을 사고파는 장면이나 은행에서 예금이나 대출을 하는 장면 등이 이에 해당한다.

07

그래프는 가격 변화에 따른 수요량의 변동을 나타낸다. 가격이 100원일 때 수요량은 40개, 가격이 200원일 때 수요량은 20개이다. 따라서 가격이 100원에서 200원으로 상승하면 수요량은 20개 감소한다.

08

수요 법칙이란 어떤 상품의 가격이 오르면 그 상품의 수요량이 감소하고, 가격이 내리면 수요량이 증가하는 것이다. ① 사과 가격 상승에 따라 사과의 수요량이 감소한 것, ② 담배 가격 상승에 따라 담배의 수요량이 감소한 것, ③ 금의 가격 하락에 따라 금의 수요량이 증가한 것, ④ 스마트폰의 기기 가격 하락에 따라 스마트폰의 수요량이 증가한 것은 수요 법칙이 적용되는 사례이다. 반면, ⑤ 식빵의 가격 상승에 따라 제빵업자가 식빵의 공급량을 늘린 것은 공급 법칙이 적용되는 사례에 해당한다.

09

공급량은 어떤 가격에서 생산자(공급자)가 판매하고자 하는 상품의 구체적인 양을 말한다. 그리고 어떤 상품의 가격이 오르면 공급량은 증가하고, 가격이 내리면 공급량은 감소하는데, 이처럼 가격과 공급량이 같은 방향으로 움직이는 현상을 공급 법칙이라고 한다.

오답풀이 ◀ ㄱ. 공급량은 일반적으로 가격과 같은 방향으로 움직여 가격과는 양(+) 또는 정의 관계를 가진다. ㄴ. 어떤 상품을 사고자 하는 욕구는 수요이다.

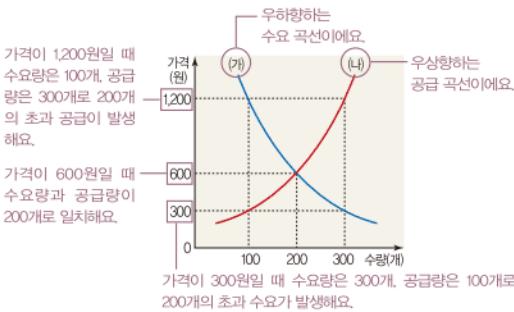
10

시장 가격은 수요량과 공급량이 일치하는 지점에서 결정된다. 제시된 표에서는 가격이 700원일 때 수요량과 공급량이 50개로 일치하므로 토마토의 시장 가격은 700원이다.

11

시장 가격은 수요 곡선 (㉠)과 공급 곡선 (㉡)이 만나는 점인 600원에서 결정된다. ④ 가격이 300원일 때 수요량이 공급량보다 많은 초과 수요가 발생한다.

문제자료 뜯어보기



오답풀이 ◀ ① (㉠)은 수요 곡선이다. ② (㉡)은 공급 곡선이다. ③ 시장 가격은 600원이다. ⑤ 공급량이 수요량보다 많은 초과 공급일 때에는 공급자 간의 경쟁으로 가격이 하락한다.

12

어떤 재화의 공급량이 수요량보다 많은 상태를 초과 공급이라고 한다. 초과 공급이 발생하는 경우 시장에 상품이 남기 때문에 공급자들은 가격을 낮춰서라도 상품을 판매하려고 한다. ⑤ 시장에 상품이 남기 때문에 공급자가 원하는 양만큼 상품을 팔 수 없다.

13

가격이 300원일 때 수요량은 1,500개, 공급량은 700개로 초과 수요량이 800개 발생한다. ③ 상품의 가격이 균형 가격보다 낮으면 초과 수요가 발생하여 시장에 물건이 모자란다.

오답풀이 ◀ ① 초과 수요 상태에서는 상품의 희소성이 커져 가격이 상승하게 된다. ② 800개의 초과 수요가 발생한다. ④ 시장에 상품이 모자란 상태이므로 수요자는 원하는 양만큼 상품을 살 수 없다. ⑤ 초과 수요 상태에서는 수요자 간에 물건을 구입하기 위한 경쟁이 나타난다.

14

시장 가격은 수요량과 공급량을 조절하고, 자원을 효율적

수요 곡선과 공급 곡선

- 수요 곡선: 가격과 수요량이 음(-)의 관계에 있음을 나타낸 그래프 → 우하향 곡선
- 공급 곡선: 가격과 공급량이 양(+)의 관계에 있음을 나타낸 그래프 → 우상향 곡선

균형 가격을 찾는 방법

- 수요·공급 곡선: 수요 곡선과 공급 곡선이 만나는 지점의 가격
- 수요·공급표: 수요량과 공급량이 일치할 때의 가격

해결의 실마리

가격: 300원 → 균형 가격보다 낮은 수준

↓
수요량: 1,500개
공급량: 700개

↓
초과 수요 상태

↓
수요자 간 경쟁 발생

↓
가격 상승 압력 발생

으로 배분하며, 경제 활동의 안내자 역할을 한다. ① 시장 가격은 빈부 격차를 해소하지 못한다.

15

제시문은 시장의 형성 과정을 나타낸다. 시장은 상품을 사려는 사람과 팔려는 사람이 모여 거래를 하는 곳으로, 수요자와 공급자를 연결해 주고, 상품을 거래하는 데 드는 시간과 비용을 줄여 준다.

16

가격과 수요량의 반비례 관계를 수요 법칙, 가격과 공급량의 비례 관계를 공급 법칙이라고 한다.

17

균형 가격은 수요량과 공급량이 30만 포기로 일치하는 1,000원에서 결정되며, 이때의 거래량인 30만 포기가 균형 거래량이 된다.

18

예시답안 (㉠)은 생활에 필요한 재화가 거래되는 생산물 시장에 해당하고, (㉡)은 상품을 생산하는 과정에서 필요한 노동이 거래되는 생산 요소 시장에 해당한다.

채점 기준	등급	평가 기준
	상	(㉠)과 (㉡) 시장의 차이점을 거래 상품의 종류에 따라 명확하게 구분하여 서술한 경우
	중	(㉠)과 (㉡)을 각각 생산물 시장, 생산 요소 시장이라고만 서술한 경우
	하	(㉠)은 농산물 시장이고, (㉡)은 노동 시장이라고만 쓴 경우

19

예시답안 가격이 5,000원일 경우 수요량은 10개, 공급량은 50개로 40개의 초과 공급이 발생하여 공급자 간에 상품을 팔기 위한 경쟁이 나타나 가격이 하락한다.

채점 기준	등급	평가 기준
	상	'초과 공급', '공급자 간 경쟁', '가격 하락'의 내용을 모두 포함하여 서술한 경우
	중	초과 공급일 때 나타날 현상을 가격 하락을 중심으로 서술하였으나, '초과 공급', '공급자 간 경쟁' 중 어느 하나의 내용을 포함하지 않은 경우
	하	가격이 하락한다고만 쓴 경우

20

예시답안 시장 가격 / 시장 가격은 경제 주체에게 경제 활동을 안내하는 신호등 역할을 하며, 희소한 자원을 효율적으로 배분하는 기능을 한다.

채점 기준	등급	평가 기준
	상	시장 가격이라고 쓰고, 그 기능을 두 가지 서술한 경우
	중	시장 가격이라고 쓰고, 그 기능을 한 가지만 서술한 경우
	하	시장 가격이라고만 쓴 경우

3 시장 가격의 변동

학교 시험 적중 문제

▶ 기본학습서 080~083쪽

- 01 ② 02 ② 03 ③ 04 ② 05 ③ 06 ③ 07 ②
08 ③ 09 ⑤ 10 ④ 11 ④ 12 ④ 13 ③ 14 ③
15 ㉠ 수요량의 변화, ㉡ 수요의 변화 16 대체재 17
생산 요소의 가격(생산비) 18 해설 참조 19 해설 참조
20 해설 참조

01

수요의 변화 요인에는 가계의 소득 변화, 소비자의 기호 변화, 대체재와 보완재의 가격 변화, 전체 인구나 특정 상품에 대한 소비자 수의 변화 등이 있다. ② 생산 비용의 변화는 공급의 변화 요인에 해당한다.

02

제시된 그래프는 수요 곡선이 오른쪽으로 이동한 것으로 수요의 증가를 나타낸다. 수요를 증가시키는 요인에는 소득·기호·인구 증가, 대체재의 가격 상승, 보완재의 가격 하락 등이 있다.

오답풀이 ㉠ 소비자의 기호 감소, ㉢ 보완재의 가격 상승은 수요 감소의 요인에 해당한다. ㉣ 해당 상품의 가격 하락은 수요량의 증가에 영향을 주는 것으로, 수요 곡선 자체가 이동하는 것이 아니라 수요 곡선상의 점의 이동으로 나타난다. ㉤ 생산 요소 비용의 하락은 공급 증가의 요인에 해당한다.

03

국산 호두의 수요 감소에 영향을 주는 요인으로서는 가계의 소득 감소, 소비자의 기호 감소, 대체재의 가격 하락, 보완재의 가격 상승, 인구수 감소 등이 있다. ㉡, 중국산 수입 호두의 가격이 하락하면 국산 호두 대신 중국산 수입 호두를 구입하는 사람들이 많아지므로 국산 호두의 수요는 감소한다. ㉢, 가계의 소득이 줄어들면 국산 호두의 수요는 감소한다.

오답풀이 ㉠, 국산 호두의 가격 하락은 국산 호두의 수요량 증가에 영향을 준다. ㉢, 호두가 두뇌 건강에 좋다는 연구 발표는 호두에 대한 소비자의 기호를 상승시켜 호두의 수요가 증가하는 데 영향을 준다.

04

제시문은 보완재에 대한 설명이다. 치약과 칫솔은 보완재 관계이며, 이 외에도 연필과 지우개, 자동차와 휘발유, 커피와 설탕, 삼겹살과 상추, 피자과 콜라 등이 보완재의 관계에 있다.

오답풀이 ㉠, ㉢, ㉣, ㉤는 용도가 비슷하여 서로 대신하여 사용할 수 있는 대체재의 관계에 있는 재화이다.

우공비 Note

대체재와 보완재 가격 변화에 따른 수요 변화

- 대체재 가격 상승, 보완재 가격 하락 → 수요 증가
- 대체재 가격 하락, 보완재 가격 상승 → 수요 감소

수요의 변화 요인

- 수요 증가의 요인: 소득·기호·인구 증가, 대체재 가격 상승, 보완재 가격 하락
- 수요 감소의 요인: 소득·기호·인구 감소, 대체재 가격 하락, 보완재 가격 상승

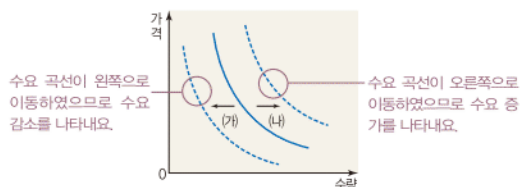
05

버터와 마가린은 서로 대신해서 사용할 수 있는 대체재 관계에 있는 재화이다. 마가린 가격이 상승하면, 대체재인 버터를 더 구입하게 되므로 버터의 수요가 증가한다.

06

제시된 그래프에서 (가) 방향은 수요 감소, (나) 방향은 수요 증가를 나타낸다. ㉡의 경우 공기 청정기에 대한 소비자의 기호가 감소하므로 공기 청정기의 수요 감소에 영향을 미친다. ㉢의 경우 공기 청정기에 대한 소비자의 기호가 증가하므로 공기 청정기의 수요 증가에 영향을 미친다.

문제자료 뜯어보기



오답풀이 ㉠, 공기 청정기의 부품 가격이 인상되는 것은 공기 청정기의 공급을 감소시키는 요인이다. ㉢, 공기 청정기의 최첨단 생산 기술 도입은 공기 청정기의 공급을 증가시키는 요인이다.

07

제시된 그래프는 수요 곡선의 변동 없이 공급 곡선만 왼쪽으로 이동한 것이므로, 공급의 감소를 나타낸다.

오답풀이 ㉠ 제시된 그래프는 공급의 감소로 가격이 상승한 경우이다. 공급이 증가하면 공급 곡선이 오른쪽으로 이동하므로 가격은 하락한다. ㉢, ㉣ 수요의 변화는 수요 곡선의 이동으로 나타난다. ㉤ 가격이 상승하여 공급량이 증가한 경우는 공급량의 변화에 해당한다. 공급량의 변화는 공급 곡선 자체가 이동하는 것이 아니라 공급 곡선상의 점의 이동으로 나타난다.

08

뉴스에 따르면 집중 호우로 배추의 공급이 감소한 상황이다. 배추의 수요에 변화가 없는 상태에서 배추의 공급이 감소하면 공급 곡선만 왼쪽으로 이동하게 되고, 그 결과 배추의 가격이 상승하게 된다.

오답풀이 ㉠은 공급 증가, ㉡는 수요 감소, ㉣는 수요 증가, ㉤는 수요 감소와 공급 증가를 나타낸다.

09

제시된 그래프는 수요 곡선의 변동 없이 공급 곡선만 오른쪽으로 이동하였으므로, 에어컨의 공급 증가를 나타낸다. ㉤ 새로운 생산 기술이 개발되면 공급이 증가한다.

오답풀이 ㉠, ㉡는 공급 감소, ㉢은 수요 감소, ㉣는 수요 증가의 요인에 해당한다.

해결의 실마리

집중 호우로 농작물 피해



배추의 공급 감소



배추의 공급 곡선이
왼쪽으로 이동

공급의 변화 요인

- 공급 증가의 요인: 생산 요소 가격 하락, 생산 기술의 발달, 공급자 수 증가 등
- 공급 감소의 요인: 생산 요소 가격 상승, 공급자 수 감소 등

10

☆☆ 과자에 대한 소비자의 기호가 증가하여 ☆☆ 과자의 수요가 증가하였다. 수요가 증가하면 수요 곡선은 오른쪽으로 이동하며, 균형 가격은 상승하고 균형 거래량은 증가한다. ④ ☆☆ 과자의 가격이 하락하여 나타난 현상은 아니다.

11

(가)에서 휘발유는 자가용 승용차와 보완재 관계에 있는 재화이다. 휘발유의 가격이 상승하면 자가용 승용차의 수요는 감소한다. (나)에서 사람들의 평균 소득이 증가하면 자가용 승용차의 수요는 증가한다. (다)에서 부품 조립의 기술 혁신으로 자가용 승용차의 생산비가 감소하면 자가용 승용차의 공급이 증가한다. (라)에서 자가용 승용차의 부품 가격이 상승하면 자가용 승용차의 공급이 감소한다.

오답풀이 ◀ 가. (가)는 자가용 승용차의 수요 감소 요인에 해당한다. 다. (다)에 따라 자가용 승용차의 공급이 증가하므로, 공급 곡선이 오른쪽으로 이동한다.

12

우유가 성장에 도움을 준다는 연구 결과 발표는 우유의 수요가 증가하는 요인이고, 원유 가격 인상은 우유의 공급이 감소하는 요인이다. 나. 수요가 증가하고, 공급이 감소하면 균형 가격은 상승하게 된다. 라. 수요가 증가한다는 것은 수요 곡선이 오른쪽으로 이동한다는 의미이다.

오답풀이 ◀ 가. 우유의 생산비가 증가하였으므로 우유의 공급은 감소한다. 다. 우유의 균형 가격은 상승하지만 균형 거래량이 증가하는지 감소하는지는 알 수 없다.

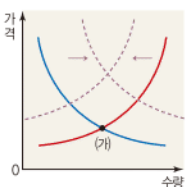
13

팥빙수의 원료인 단팥의 가격이 하락하면 팥빙수의 공급이 증가하여 공급 곡선은 오른쪽으로 이동한다. 팥빙수의 대체재인 아이스크림의 가격이 하락하면 팥빙수의 수요는 감소하여 수요 곡선은 왼쪽으로 이동한다. 이에 따라 새로운 균형 가격은 하락하게 된다.

14

그래프에서 균형 가격이 (가)보다 상승하려면 수요가 증가하거나 공급이 감소하여야 한다. 나. 김치의 함암 효과에 대한 보도는 배추김치의 수요를 증가시키는 요인이다. 다. 배추김치의 재료인 배추의 가격 인상은 김치의 공급을 감소시키는 요인이다.

문제자료 뜯어보기



(가)보다 균형 가격이 상승하기 위해서는 수요 곡선이 오른쪽으로 이동하거나 공급 곡선이 왼쪽으로 이동해야 해요.

해결의 실마리

- 우유가 성장에 도움을 준다는 연구 결과 발표: 우유에 대한 소비자의 기호 증가
- 원유 가격 인상: 우유의 생산비 증가

- 우유 수요 증가
- 우유 공급 감소

- 수요 곡선이 오른쪽으로 이동
- 공급 곡선이 왼쪽으로 이동

우유의 균형 가격 상승, 균형 거래량 불분명

해결의 실마리

균형 가격이 상승하기 위한 조건

- 수요 곡선의 오른쪽 이동
- 공급 곡선의 왼쪽 이동

- 수요 증가
- 공급 감소

- 수요 증가 요인: 선호도 증가, 대체재 가격 인상
- 공급 감소 요인: 생산비 인상, 미래 가격 상승 예상

오답풀이 ◀ 가. 국산 배추김치의 수요 감소에 영향을 주는 요인이다. 라. 국산 배추김치의 수요 감소 또는 공급 증가에 영향을 주는 요인이다.

15

상품의 수요량을 변화시키는 것은 그 상품의 가격이지만, 상품의 수요는 상품 가격 이외의 요인에 의해 변화한다.

16

제시문은 대체재에 대한 설명이다. 두 상품이 대체재 관계에 있는 경우 한 재화의 가격이 상승하면 다른 재화의 수요는 증가한다.

17

생산 요소의 가격이 하락하면 공급이 증가하고, 생산 요소의 가격이 상승하면 공급이 감소한다.

18

예시답안 돼지고기의 소비가 줄면서 돼지고기의 보완재인 상추를 찾는 사람도 줄어들기 때문에 상추의 수요는 감소한다.

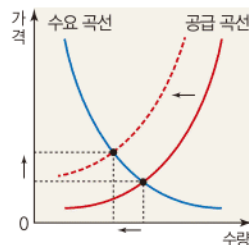
채점 기준	등급	평가 기준
	상	돼지고기의 가격에 따른 보완재의 수요 변화를 옳게 서술한 경우
	하	보완재의 수요가 감소한다는 내용만을 서술한 경우

19

예시답안 소비자의 기호 증가 / 사람들의 건강에 대한 관심이 높아지면서 '건강 빵'에 대한 소비자의 기호가 증가하여 수요가 늘어난다. '건강 빵'의 수요가 증가하면 수요 곡선이 오른쪽으로 이동하여 균형 가격은 상승한다.

채점기준	등급	평가 기준
	상	소비자 기호 증가로 건강 빵의 수요가 증가하여 균형 가격이 상승한다는 내용을 옳게 서술한 경우
	중	소비자의 기호 증가로 수요가 증가한다고만 서술한 경우
	하	소비자의 기호 증가만을 쓴 경우

20



예시답안 초콜릿의 원료인 카카오 가격이 급등하면 초콜릿의 공급이 감소하여 공급 곡선이 왼쪽으로 이동한다. 이때 균형 가격이 상승하고 균형 거래량이 감소하는 지점에서 새로운 균형점이 형성된다.

채점 기준	등급	평가 기준
	상	초콜릿 시장의 변화를 그래프에 표시하고, 새로운 균형점의 형성 과정을 옳게 서술한 경우
	중	초콜릿 시장의 변화를 그래프에 표시하고, 새로운 균형점의 형성 과정을 서술하였으나 내용이 미흡한 경우
	하	초콜릿 시장의 변화를 그래프에 표시한 한 경우

대단원 완성문제

▶ 기본학습서 085~088쪽

- 01 ⑤ 02 ⑤ 03 ② 04 ④ 05 ⑤ 06 ③ 07 ④
08 ② 09 ② 10 ④ 11 ④ 12 ② 13 ④ 14 ①
15 ③ 16 ④ 17 해설 참조 18 해설 참조 19 해설
참조 20 해설 참조

01

시장은 구체적인 장소뿐만 아니라 상품에 대한 정보를 교환하고 거래가 이루어지는 모든 곳을 포함한다.

오답풀이 ㄱ. 생산 과정에 필요한 노동, 토지, 자본 등이 거래되는 시장을 생산 요소 시장이라고 한다. ㄴ. 눈에 보이는 구체적인 장소에서 형성되는 '보이는 시장' 외에 눈에 보이지 않는 구체적인 장소 없이 상품이 거래되는 '보이지 않는 시장'도 있다.

02

보이는 시장에는 편의점, 대형 마트, 재래시장, 문구점, 백화점, 농산물 직거래 장터 등이 해당한다. 보이지 않는 시장에는 주식 시장, 노동 시장, 인터넷 쇼핑몰, 외환 시장 등이 해당한다.

03

ㄱ과 ㄴ은 생활에 필요한 재화가 거래되는 생산물 시장이고, ㄴ과 ㄹ은 생산 과정에서 필요한 요소가 거래되는 생산 요소 시장이다.

04

수요 법칙은 가격과 수요량이 반대 방향으로 움직이는 현상으로, 우하향하는 수요 곡선으로 나타낸다.

오답풀이 ① 가격과 수요량은 반비례 관계이다. ② 수요란 어떤 상품을 사고자 하는 욕구이다. 어떤 상품을 팔고자 하는 욕구를 공급이라고 한다. ③ 시장에서는 수요뿐만 아니라 공급도 함께 존재해야 거래가 이루어질 수 있다. ⑤ 가격 이외의 다른 조건이 변화하면 수요가 변화하게 된다. 수요량의 변화는 상품의 가격이 변화할 때 나타난다.

05

제시된 그래프는 가격과 공급량이 양(+)의 관계에 있음을 나타낸 공급 곡선이다. 가격이 상승하면 공급량은 증가하고, 가격이 하락하면 공급량은 감소함을 알 수 있다.

오답풀이 ㄱ. 가격과 공급량은 양(+)의 관계에 있다. ㄴ. 제시된 그래프는 가격과 공급량이 같은 방향으로 움직임을 나타낸다.

06

균형 가격은 수요량과 공급량이 일치하는 지점에서 결정된다. 따라서 수요량과 공급량이 300인분으로 일치하는 3,000원에서 균형 가격이 결정된다.

우공비 Note

초과 수요와 초과 공급

- 초과 수요: 수요량 > 공급량 → 수요자 간 경쟁 → 가격 상승
- 초과 공급: 수요량 < 공급량 → 공급자 간 경쟁 → 가격 하락

거래 형태에 따른 시장 구분

- 보이는 시장: 거래하는 모습이 구체적으로 드러나는 시장
- 보이지 않는 시장: 거래하는 모습이 구체적으로 드러나지 않는 시장

거래 상품의 종류에 따른 시장 구분

- 생산물 시장: 생활에 필요한 재화나 서비스가 거래되는 시장
- 생산 요소 시장: 생산 과정에 필요한 노동, 자본, 토지 등이 거래되는 시장

해결의 실마리

(가) 수요 곡선상의 점의 이동

↓
수요량의 변화

↓
상품 가격의 변동에 의한 것

(나) 수요 곡선 자체의 이동

↓
수요의 변화

↓
상품 가격 이외 요인의 변동에 의한 것

해결의 실마리

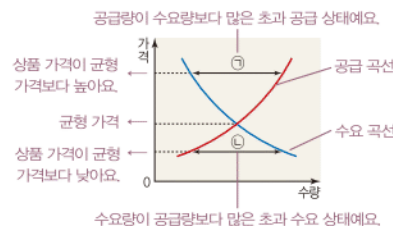
A 상품의 가격 상승 → B 상품의 수요 증가

↓
A와 B: 대체재 관계에 있는 상품

07

그래프에서 ㉠은 상품의 가격이 균형 가격보다 높아 공급량이 수요량보다 많은 초과 공급 상태를 나타낸다. ㉡은 상품의 가격이 균형 가격보다 낮아 수요량이 공급량보다 많은 초과 수요 상태를 나타낸다. ㉢ 초과 수요 상태에서는 시장에 상품이 모자라기 때문에 수요자가 원하는 만큼의 상품을 구입할 수 없다.

문제자료 뜯어보기



오답풀이 ㉠ ㉡은 초과 공급을 나타낸다. ㉢ 초과 공급 상태에서는 상품을 팔기 위한 공급자 간의 경쟁이 나타나 가격이 하락한다. ㉣ ㉤은 판매 가격이 균형 가격보다 낮은 상태이다. ㉥ 초과 수요나 초과 공급 상태에서는 수요자나 공급자 모두 원하는 만큼의 상품을 구입하거나 판매할 수 없으므로 만족스럽지 않다.

08

오렌지의 가격이 400원일 때 수요량은 400개, 공급량은 200개로 200개의 초과 수요가 발생한다.

오답풀이 ① 초과 수요가 발생한다. ③ 수요자 간의 경쟁으로 오렌지의 가격이 상승하게 된다. ④ 오렌지의 가격이 균형 가격보다 낮으므로 공급자가 오렌지를 팔아 얻는 이윤이 낮아진다. 따라서 기존의 오렌지 공급자라도 오렌지 대신 다른 상품을 파는 것으로 전환할 가능성이 높다. ⑤ 오렌지를 사기 위한 경쟁이 나타난다.

09

제시된 신문 기사는 시장 가격이 경제 주체들의 경제적 의사 결정의 방향을 알려 주는 신호등 역할을 함을 보여 준다.

10

(가)는 수요량의 감소, (나)는 수요의 감소를 나타낸다. 수요량의 변화는 해당 상품의 가격 변동에 따라 나타나며, 수요의 변화는 인구, 소득, 기호, 대체재와 보완재의 가격 변동에 의해 나타난다.

오답풀이 ㄱ. (가)는 수요량의 변화, (나)는 수요의 변화를 나타낸다. ㄴ. (나)는 수요가 감소하는 것이므로, 가계 소득이 감소하거나 인구가 감소할 때 나타나는 현상이다.

11

A와 B는 서로 대신해서 쓸 수 있는 대체재의 관계에 있다. 대체재의 관계에 있는 재화는 한 재화의 소비가 늘어나면 다른 쪽은 그만큼 소비가 줄어들게 된다.

오답풀이 ㄱ. A와 B는 대체재의 관계에 있는 재화이다. ㄷ. 커피와 설탕, 자동차와 휘발유는 함께 소비될 때 더 큰 만족감을 얻을 수 있는 보완재의 관계에 있는 재화이다. 대체재의 관계에 있는 재화에는 돼지고기와 쇠고기, 콜라와 사이다 등이 있다.

12

제시된 그래프에서 (가)가 (나)로 이동한 것은 수요의 감소를 나타낸다. ② 김밥에서 대장균이 검출되었다는 보도는 김밥에 대한 소비자의 기호를 감소시켜 김밥의 수요가 줄어드는 데 영향을 줄 수 있다.

오답풀이 ① 김밥에 대한 소비자의 선호가 증가하면 김밥의 수요는 증가한다. ③ 주먹밥의 가격이 상승하면 대체재 관계에 있는 김밥의 수요는 증가한다. ④ 김밥 재료비가 상승하면 김밥의 공급이 감소한다. ⑤ 김밥의 주요 재료인 김의 가격이 상승하면 김밥의 공급이 감소한다.

13

대체재의 가격이 상승하면 대체재 관계에 있는 재화의 수요가 증가한다. 수요가 증가하면 수요 곡선이 오른쪽으로 이동하게 되므로 균형 가격이 상승한다.

오답풀이 ①, ③, ⑤ 소득 증가, 선호도 증가, 보완재의 가격 하락은 수요 증가의 요인으로 수요 곡선이 오른쪽으로 이동하여 균형 가격은 상승한다. ② 인구 감소는 수요 감소의 요인으로 수요 곡선이 왼쪽으로 이동하여 균형 가격은 하락한다.

14

공급 곡선이 오른쪽으로 이동하였으므로 치킨의 공급 증가를 나타낸다. ㄱ. 치킨의 공급자 수가 늘어나면 치킨의 공급이 증가한다. ㄴ. 닭의 가격이 하락하여 치킨의 생산비가 인하되면 치킨의 공급이 증가한다.

오답풀이 ㄷ. ㄹ은 치킨의 수요가 증가하는 데 영향을 미치는 요인이다.

15

자전거 타이어의 원료인 고무 가격이 상승하면 자전거의 공급이 감소한다. 자전거를 교통수단으로 이용하는 직장인들이 늘어나면 자전거의 수요가 증가한다. 공급이 감소하면 공급 곡선(S)이 왼쪽으로 이동하고, 수요가 증가하면 수요 곡선(D)이 오른쪽으로 이동하여 균형 가격은 상승한다.

오답풀이 ①은 공급 감소, ②는 수요 증가, ④는 수요 감소와 공급 감소, ⑤는 수요 감소와 공급 증가를 나타낸다.

16

토마토 재배 농가가 증가하여 토마토 공급이 증가하였고, 토마토의 효능에 대한 연구 보고서의 발표로 토마토 수요도 증가하였다. 공급과 수요가 증가하면 공급 곡선과 수요 곡선이 모두 오른쪽으로 이동한다. 이에 따라 균형 거래량은 증가하지만, 균형 가격의 변화는 알 수 없다.

시장의 기능

- 상품의 거래 비용 감소
- 상품의 정보 제공
- 분업과 특화 촉진으로 사회 전체의 생산성 증대

17

예시답안 시장은 상품의 거래 비용을 줄여 주고, 상품에 대한 다양한 정보를 제공합니다.

채점 기준	등급	평가 기준
	상	시장의 기능을 두 가지 윗게 서술한 경우
	하	시장의 기능을 한 가지만 윗게 서술한 경우

18

예시답안 가격이 700원에서 400원으로 하락하여 수요량이 20개에서 50개로 늘어났다.

채점 기준	등급	평가 기준
	상	가격과 수요량을 수치로 정확하게 나타내어 서술한 경우
	하	가격이 하락하여 수요량이 늘었다고만 서술한 경우

19

예시답안 ㉠ / 쌀농사 풍년으로 쌀 공급이 증가하면 공급 곡선이 오른쪽으로 이동한다. 밥을 주식으로 먹는 사람들이 줄어 쌀 수요가 감소하면 수요 곡선이 왼쪽으로 이동한다. 이에 따라 쌀 시장의 새로운 균형점은 ㉡으로 이동하게 된다.

채점 기준	등급	평가 기준
	상	㉠이라고 쓰고, 그 원인을 쌀의 공급 곡선과 수요 곡선의 이동 방향을 포함하여 윗게 서술한 경우
	중	㉠이라고 쓰고, 그 원인을 쌀의 공급 곡선과 수요 곡선의 이동 방향에 관한 언급 없이 쌀의 공급 증가, 수요 감소만을 내용으로 서술한 경우
	하	㉠이라고만 쓴 경우

20

예시답안 닭고치의 가격이 1,000원일 경우 수요량은 600개인데 공급량은 200개밖에 되지 않아 수요량이 공급량보다 많은 상태인 초과 수요가 발생한다. 초과 수요 상태에서는 닭고치가 모자라기 때문에 닭고치를 서로 구입하기 위해 수요자 간에 경쟁이 나타난다. 따라서 닭고치 가격은 초과 수요가 없어질 때까지 상승한다. 반면에 닭고치 가격이 2,000원일 경우 수요량은 200개인데 공급량은 600개나 되어 공급량이 수요량보다 많은 상태인 초과 공급이 발생한다. 초과 공급 상태에서는 남은 닭고치를 팔기 위해 공급자 간에 경쟁이 나타난다. 따라서 닭고치 가격은 초과 공급이 없어질 때까지 하락한다. 이러한 과정을 반복하다 보면, 결국 수요량과 공급량이 400개로 일치하는 지점인 1,500원에서 시장은 균형을 이루게 된다. 즉 균형 가격은 1,500원에서 형성되고, 이때의 균형 거래량은 400개이다.

채점 기준	등급	평가 기준
	상	초과 공급과 초과 수요 상태에서 발생하는 상황, 균형 가격이 결정되는 과정을 구체적으로 서술한 경우
	중	균형 가격이 초과 공급보다 낮은 수준, 초과 수요보다 높은 수준에서 결정된다는 내용만을 중심으로 서술한 경우
	하	균형 가격과 균형 거래량만 제시한 경우

수요 변화에 따른 균형 가격의 변동

- 소득·기호·인구 증가, 대체재 가격 상승, 보완재 가격 하락 → 수요 증가 → 수요 곡선 오른쪽 이동 → 균형 가격 상승
- 소득·기호·인구 감소, 대체재 가격 하락, 보완재 가격 상승 → 수요 감소 → 수요 곡선 왼쪽 이동 → 균형 가격 하락

해결의 실마리

㉠ 쌀농사 풍년, 밥 대신 밀가루 음식 소비 증가



쌀의 공급 증가, 쌀의 수요 감소



쌀의 공급 곡선 오른쪽 이동, 쌀의 수요 곡선 왼쪽 이동



㉡ ㉠으로 새로운 균형점 이동

V 국민 경제와 국제 거래

1 국내 총생산과 경제 성장

2 물가와 실업

학교 시험 걱정 문제

▶ 기본학습서 092~095쪽

01 ④ 02 ⑤ 03 ② 04 ⑤ 05 ③ 06 ④ 07 ③
08 ① 09 ④ 10 ② 11 ③ 12 ④ 13 ③ 14 ①
15 국내 총생산(GDP) 16 인플레이션 17 실업 18 해
설 참조 19 해설 참조 20 해설 참조

01

국내 총생산은 일정 기간 동안 한 나라 안에서 새롭게 생산된 최종 생산물의 시장 가치를 합한 것이다.

오답풀이 ㄱ. 생산자나 생산 기업의 국적이 아니라 국경을 기준으로 한다. ㄴ. 중간재의 가치는 최종 생산물의 가치에 포함되어 있기 때문에 중간재를 제외하고 최종 생산물의 가치만 포함한다.

02

우리나라 국내 총생산은 생산자의 국적과 상관없이 우리나라에서 생산된 가치를 모두 포함한다. 따라서 우리나라에서 외국인이나 외국 기업이 생산한 것도 반영된다. 반면 우리나라 국민이나 우리나라 기업이 외국에서 생산한 것은 포함되지 않는다. ⑤는 중국의 국내 총생산에 포함된다.

03

한 나라의 경제 규모를 파악하는 지표로 활용되는 것은 국내 총생산이다. 국내 총생산은 그 나라의 인구수로 나눈 것이 1인당 국내 총생산이며, 이것을 통해 그 나라 국민의 평균적인 소득 수준을 파악할 수 있다.

04

국내 총생산은 주부의 가사 노동, 봉사 활동 등과 같이 시장에서 거래되지 않는 것은 포함하지 않는다. 그리고 교통 사고나 환경 오염으로 인한 피해는 포함하지 않고 이를 처리하는 데 들어가는 비용은 포함함으로써 국민의 삶의 질 수준을 파악하기 어렵다. 또한 생산의 결과가 공정하게 분배되었는지를 나타내는 소득 분배 상태나 빈부 격차의 정도를 알 수 없다. ⑤ 국내 총생산은 한 나라의 전체적인 경제 규모만을 보여 줄 뿐, 그 크기를 통해 그 나라 국민들의 소득 분배 상태를 파악하기는 어렵다.

05

경제 성장은 한 나라의 생산 능력이 향상되고 경제 규모가

국내 총생산

- 보통 1년 동안 생산된 것만 포함함
- 생산자의 국적이 아니라 국경이 기준임
- 그해에 새롭게 생산된 것만 포함함
- 중간 생산물의 가치는 제외함
- 시장에서 거래되는 것만 포함함

국내 총생산의 한계

- 시장에서 거래되지 않는 것은 포함하지 않음
- 국민의 삶의 질이나 복지 수준을 정확히 나타내지 못함
- 소득 분배 상태나 빈부 격차의 정도를 파악하기 어려움

커지는 것으로, 국내 총생산의 증가를 의미한다. 경제가 성장하면 일자리가 늘고 국민의 소득도 증가한다.

오답풀이 ㄱ. 경제 성장이 언제나 삶의 질 향상으로 이어지는 것은 아니다. 경제 성장 과정에서 환경 오염이 심해지거나 빈부 격차가 커져 사회 갈등이 발생하는 등의 부작용이 나타나기도 한다. ㄴ. 경제 성장 정도는 국내 총생산을 통해 파악할 수 있다.

06

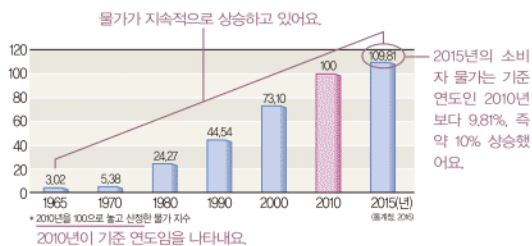
경제가 성장하면 일자리가 늘어 국민의 소득이 증가한다. 이로써 사람들은 더 많은 재화와 서비스를 소비할 수 있게 되어 물질적으로 풍요로운 생활을 누릴 수 있다.

오답풀이 ㄱ. 경제가 성장하면 교육 기회가 확대된다. ② 경제 성장은 문화와 여가 생활에 대한 요구를 증가시킨다. ③ 경제 성장으로 경제 활동이 급격히 증가하면 환경 오염이 나타날 수 있고, 경제 성장의 혜택이 적절하게 분배되지 않으면 빈부 격차 문제도 발생할 수 있다. ⑤ 경제가 성장하면 경제 활동 시간의 증가로 여가가 부족해져 삶의 균형이 깨질 수 있다.

07

물가 지수는 기준 연도의 물가를 100으로 했을 때, 비교 연도의 물가 수준을 나타낸 것이다. 비교 연도의 물가 지수가 100보다 크면 기준 연도보다 물가가 높은 것이고, 비교 연도의 물가 지수가 100보다 작으면 기준 연도보다 물가가 낮은 것이다. 제시된 그래프를 통해 물가가 지속적으로 상승하고 있음을 알 수 있다. ③ 물가가 상승하면 화폐의 가치가 하락하여 일정한 금액으로 살 수 있는 재화와 서비스의 양이 감소한다.

문제자료 뜯어보기



08

물가 상승은 경제 전체의 수요가 경제 전체의 공급보다 많을 때, 생산비가 상승할 때, 통화량이 증가할 때 발생할 수 있다. ㄱ. 기업의 투자가 급격하게 증가하면 경제 전체의 수요가 증가하여 물가가 상승할 수 있다. ㄴ. 통화량이 증가하면 소비자 투자가 활발해지고, 화폐 가치가 하락하며 물가가 상승할 수 있다.

오답풀이 ㄴ. 세금 인상으로 가계의 소비가 위축되면 경제 전체의 수요가 감소하여 물가가 하락할 수 있다. ㄹ. 국제 유가의 하락으로 생산비가 절감되면 물가가 안정된다.

09

물가가 상승하면 화폐의 가치가 하락하고 토지나 건물과 같은 실물 자산의 가치가 높아져 부동산 투기를 하려는 사람이 많아진다.

오답풀이 ❶ 물가가 상승하면 화폐 가치가 떨어지기 때문에 개인들은 저축을 꺼리게 된다. ❷ 물가가 상승하면 일정한 연금을 받아 생활하는 사람은 그 돈의 가치가 떨어지기 때문에 불리해진다. ❸ 물가가 상승하면 실물 자산의 가치가 높아지기 때문에 토지, 건물을 소유한 사람은 유리해진다. ❹ 물가가 상승하면 돈을 빌린 사람은 빌린 돈의 가치가 떨어져 돈을 갚는 부담이 줄어들기 때문에 돈을 빌려준 사람보다 유리해진다.

10

물가 안정을 위해 정부는 재정 지출을 줄이고 세금을 늘린다. 중앙은행은 이자율을 높여 저축을 장려하고 민간의 소비가 줄어들도록 유도한다.

11

실업률은 경제 활동 인구 중에서 실업자가 차지하는 비중이다. 갑국의 경제 활동 인구는 500만 명, 실업자는 100만 명이므로 갑국의 실업률은 $(100만 \text{ 명} / 500만 \text{ 명}) \times 100 = 20\%$ 이다.

12

실업은 일할 능력과 일할 의사가 있는데도 일자리를 갖지 못한 상태이다. ❶ 가정주부는 일할 의사를 갖고 있지 않은 비경제 활동 인구에 해당하기 때문에 실업자에 포함되지 않는다. ❷은 구조적 실업, ❸은 경기적 실업, ❹은 계절적 실업, ❺는 마찰적 실업의 사례이다.

13

실업은 개인적 측면과 사회적 측면에서 부정적 영향을 미친다. 개인적 측면에서 일자리가 없어진 사람은 소득이 감소하여 생계유지가 어려워지고, 직업 생활을 통한 자아실현의 기회를 잃게 되며, 심리적 불안 등을 겪게 된다. 또한 사회적 측면에서 생산 능력이 있는 인적 자원이 낭비되고, 경기 침체와 사회 불안을 초래할 수 있다.

오답풀이 ㄴ. 소득 분배가 악화되고 생계형 범죄 증가, 빈곤 확산 등으로 사회 불안이 초래될 수 있다. ㄷ. 일할 능력이 있는 사람이 생산 활동에 참여하지 못하므로 인적 자원이 낭비된다.

14

실업을 줄이고 고용을 안정시키기 위해 정부는 재정 지출을 확대하여 일자리를 창출하고, 직업 훈련 프로그램이나 고용 보험 제도 등을 운영해야 한다. 또한 기업은 새로운 시장 개척이나 연구 개발 등으로 고용을 창출해야 하고, 근로자는 자기 계발을 통해 생산성을 높여야 한다.

우공비 Note

해결의 실마리

물가 상승



화폐 가치 하락



- 금융 자산 보유자, 돈을 빌려준 사람 불리
- 실물 자산 보유자, 돈을 빌린 사람 유리
- 저축 감소, 부동산 투기 성행

실업률(%)

$$= \frac{\text{실업자 수}}{\text{경제 활동 인구}} \times 100$$

해결의 실마리

㉠ 여가의 가치: 국내 총생산에 포함되지 않음



㉡ 환경 오염 처리 비용: 국내 총생산에 포함됨



국내 총생산을 통해 국민의 삶의 질 수준을 파악하기 어려움

해결의 실마리

㉠ 경기 침체로 해고됨



경기적 실업

㉡ 다른 직장을 알아보려고 현재 직장을 그만둠



마찰적 실업

15

국내 총생산은 한 나라의 국경 안에서 일정 기간 동안 새롭게 생산된 최종 생산물의 가치를 시장 가격으로 환산하여 모두 합한 것으로, 이를 통해 한 나라의 경제 규모와 생산 능력을 파악할 수 있다.

16

물가가 지속적으로 오르는 현상을 인플레이션이라고 한다. 인플레이션이 발생하면 화폐 가치가 하락하여 살 수 있는 재화와 서비스의 양과 질이 감소하게 된다.

17

일할 능력과 의사가 있지만 일자리를 갖지 못한 상태를 실업이라고 한다. 실업이 발생하면 실업자인 개인은 생계유지에 어려움을 겪고, 사회적으로 인적 자원이 낭비된다.

18

예시답안 (가)와 같이 여가 생활을 하면 삶의 질은 향상되지만 생산 활동이 줄어 국내 총생산은 감소할 수 있다. 반면, (나)와 같이 환경 오염이 발생하면 삶의 질이 하락하지만 환경 오염을 해결하는 과정에서 국내 총생산은 오히려 증가할 수 있다. 이처럼 국내 총생산은 국민의 삶의 질 수준을 정확하게 반영하지 못한다는 한계를 갖고 있다.

채점 기준	등급	평가 기준
상	가, 나	가, 나 각각 삶의 질에 어떤 영향을 주고 국내 총생산을 증가 또는 감소시키는지 설명한 후, 국내 총생산의 한계로서 삶의 질을 반영하지 못한다는 점을 서술한 경우
	중	가, 나 중 한 가지에 대해서만 그것이 삶의 질에 미치는 영향과 국내 총생산을 증가 또는 감소시키는지 서술한 경우
	하	국내 총생산이 삶의 질을 반영하지 못한다고만 서술한 경우

19

예시답안 물가가 지속적으로 오르면 화폐 가치가 하락하여 상대적으로 부동산(실물 자산)을 보유하는 것이 유리해진다. 따라서 토지를 소유한 갑은 유리해지고, 연금을 받아 생활하는 을은 불리해진다.

채점 기준	등급	평가 기준
상	가	물가 상승으로 화폐 가치가 하락하여 토지 소유자인 갑은 유리해지고 연금 생활자인 을은 불리해진다고 서술한 경우
	중	갑은 유리해지고 을은 불리해진다고만 서술한 경우
	하	화폐 가치가 하락한다고만 서술한 경우

20

(1) 가 경기적 실업, 나 마찰적 실업

(2) **예시답안** 가는 경기 침체로 기업이 신규 채용을 줄이거나 고용을 감소하여 발생하였다. 나 새로운 일자리를 찾기 위해 일시적으로 직장을 그만두어 발생하였다.

채점 기준	등급	평가 기준
상	가, 나	가, 나 각각 실업이 발생한 원인을 각각 옳게 서술한 경우
	중	가, 나 중 한 가지의 실업 발생 원인을 옳게 서술한 경우
	하	가, 나 중 한 가지의 실업 발생 원인을 옳게 서술한 경우

3 국제 거래와 환율

학교 시험 걱정 문제

▶ 기본학습서 100~103쪽

01 ① 02 ③ 03 ③ 04 ④ 05 ② 06 ④ 07 ⑤
08 ② 09 ① 10 ③ 11 ① 12 ④ 13 ② 14 ④
15 ⑦ 국제 거래, ① 관세 16 자유 무역 협정(FTA)
17 A 상승, B 하락 18 해설 참조 19 해설 참조 20 해
설 참조

01

국제 거래는 국가 간에 이루어지는 상업적 거래로, 상품이나 생산 요소 등이 국경을 넘어 거래되는 것을 말한다.

오답풀이 ② 국제 거래는 국내 거래에 비해 상품을 사고 파는 데 제약이 많다. ③ 각 국가는 국제 거래를 통해 자국에 없거나 부족한 재화나 서비스 외에도 노동, 자본 등과 같은 생산 요소를 얻고 있다. ④ 국가마다 상품을 생산하는 데 드는 비용이 다르고, 운송비 등도 다르기 때문에 동일한 상품이라도 국가마다 가격 차이가 발생한다. ⑤ 국제 거래가 활발해지면 국가 간 상호 의존성이 강화된다.

02

국제 거래가 발생하는 이유는 각 나라마다 자연환경, 천연 자원, 생산 요소 등이 달라 동일한 재화라도 생산비에 차이가 있기 때문이다.

오답풀이 ㄴ. 국제 거래를 통해 거래 상대국은 서로 이익을 얻을 수 있지만 동일한 이익을 얻는 것은 아니다. ㄷ. 다른 나라보다 생산 비용이 상대적으로 적게 드는 상품(비교 우위 상품)을 특화하여 수출하는 것이 유리하고, 생산에 불리한 품목을 수입해야 한다.

03

국제 거래는 상품이 국경을 넘을 때 통관 절차를 거쳐야 하고, 관세가 부과되기도 한다. 그리고 거래하는 두 나라의 화폐가 서로 다른 경우 화폐의 교환이 필요하므로 환율을 적용하여 거래해야 한다. 또한 ③ 나라마다 법과 제도가 다르기 때문에 특정 상품의 수입이 금지 또는 제한되는 경우가 있다.

04

우리나라의 비교 우위 상품이 섬유, 의류 등의 노동 집약적 경공업 제품에서 반도체, 자동차 등의 자본·기술 집약적 첨단 산업 제품으로 변화하였다. ④ 2015년 우리나라의 수출 상품에서 1위를 차지한 것은 반도체이다. 이는 우리나라가 반도체 생산에 비교 우위가 있음을 의미한다.

오답풀이 ① 비교 우위 상품이 변화하였기 때문에 각 시대에 가장 주력으로 수출하는 상품이 변화한 것이다. ② 1990년과 2015년에 반도체가 수출 상품의 2위와 1위를 각

우공비 Note

해결의 실마리

세계 무역 규모의 증가



국제 거래 확대 양상을 보여줌



교통 및 통신 수단 발달에 따른 세계화, 세계 무역 기구(WTO) 출범, 자유 무역 협정(FTA) 체결 증가 등의 영향을 받음

국제 거래의 영향

- 긍정적 영향: 국내에서 얻기 힘든 상품·자원·기술 획득, 경쟁을 통해 국내 기업의 생산성 향상, 넓은 해외 시장 확보, 소비자의 상품 선택의 기회 확대
- 부정적 영향: 경쟁력이 약한 국내 기업의 피해 초래, 무역 의존도 증가, 무역 마찰 발생 가능성 증가

환율 변동 요인

- 외화의 수요 변동 요인: 외국 상품 수입, 자국민의 해외여행·해외 투자·유학, 외채 상환 등
- 외화의 공급 변동 요인: 우리나라 상품 수출, 외국인의 국내 관광·국내 투자·유학, 차관 도입 등

해결의 실마리

수출 주력 상품



다른 나라보다 상대적으로 더 효율적으로 생산할 수 있는 비교 우위 상품

각 차지한 것으로 보아 첨단 산업 제품의 경쟁력이 강해지고 있음을 알 수 있다. ③ 1970년에는 섬유, 합판, 가발 같은 노동 집약적 산업에 비교 우위가 있었다. ⑤ 섬유, 합판, 가발, 의류, 신발 등 노동 집약적 산업의 수출 비중은 점차 낮아진 것을 알 수 있다.

05

제시된 그래프는 세계 무역 규모가 커지고 있음을 보여 준다. 이처럼 국제 거래의 규모가 확대된 것은 교통 및 통신 수단의 발달과 함께 세계화·개방화 추세, 세계 무역 기구(WTO)의 출범, 자유 무역 협정(FTA)의 체결 증가 등으로 국가 간 경제적 협력이 활발해진 데 따른 결과이다. ② 무역에 대한 규제가 완화되면서 외국과 거래하는 것이 용이해졌다.

06

오늘날 세계화가 가속화되면서 국제 거래의 규모가 커지고, 국제 거래의 대상이 다양해지는 등 국제 거래가 확대되고 있다. 특히 세계 무역 기구(WTO)의 출범으로 자유 무역이 확대되고 국가 간 상호 의존 관계가 더욱 긴밀해지고 있다. 또한 지역 경제 협력체의 구성과 자유 무역 협정(FTA)의 체결도 증가하고 있다. ④ 과거에는 재화가 주된 거래의 대상이었으나, 오늘날에는 서비스, 노동, 자본, 기술의 거래도 활발하게 이루어지고 있다.

07

국제 거래가 활발해지면 국내 소비자는 상품을 선택할 수 있는 폭이 넓어져 더 풍요로운 소비 생활을 할 수 있다. 그리고 기업은 상품을 팔 수 있는 더 넓은 해외 시장을 확보하여 더 많은 이윤을 얻을 수 있으며, 외국 기업과의 경쟁을 통해 생산성을 향상할 수 있다.

오답풀이 ㄱ. 수출을 증대하는 과정에서 다른 국가와의 무역 마찰이 증가할 가능성이 높다. ㄴ. 국제 거래를 통해 품질이 우수한 외국 상품이 수입되면 경쟁력이 약한 국내 기업에 피해를 줄 수 있다.

08

환율은 국가 간 화폐의 교환 비율을 뜻하는 것으로, 외화의 가격을 자국 화폐의 단위로 나타낸 것을 말한다. 환율은 외환 시장에서 외화의 수요와 공급에 의해 결정되고, 나라마다 화폐가 다르기 때문에 국제 거래 과정에서 필수적으로 고려해야 한다. ② 외화의 공급이 감소하면 환율은 상승한다.

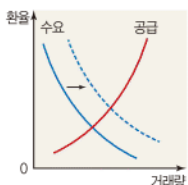
09

외국 상품의 수입, 자국민의 해외여행 시 외화가 외국으로 나가게 되므로 외화의 수요가 변동한다. 외국인의 국내 유학, 외국 기업의 국내 투자 시 외화가 국내로 들어오게 되므로 외화의 공급이 변동한다.

10

그래프에서 외화의 수요 곡선이 오른쪽으로 이동한 것은 외화의 수요가 증가한 것을 의미한다. 외채 상환, 우리나라 기업의 해외 투자 증가, 해외여행이나 유학을 가려는 내국인 증가 등은 외화의 수요 증가로 이어진다. ③ 외국 상품의 수입이 감소하면 외화의 수요가 감소하여 수요 곡선이 왼쪽으로 이동한다.

문제자료 뜯어보기



→ 수요 곡선만 오른쪽으로 이동했어요. 이는 외화의 공급은 일정하고, 외화의 수요가 증가한 것을 나타내요. 외화의 수요 증가 요인으로는 외국 상품의 수입, 자국민의 해외여행, 해외 투자와 유학 증가, 외채 상환 등을 들 수 있어요.

11

외화의 공급은 외화가 국내로 들어오는 것을 의미한다. 차관 도입, 외국인 관광객 유치는 외화의 공급이 증가하는 요인이다.

오답풀이 < ㄷ은 외화의 수요가 감소하는 요인이다. ㄹ은 외화의 공급이 감소하는 요인이다.

12

외국 상품의 수입은 외화의 수요 변동 요인이고, 우리나라 상품의 수출은 외화의 공급 변동 요인이다. 제시된 신문 기사에서 수입은 변동 없고, 수출이 늘었다고 하였으므로 외화의 공급만 증가하였다. 외화의 공급이 증가하면 외화의 공급 곡선이 오른쪽으로 이동하여 환율은 하락한다. 환율이 하락하면 외화 가치는 하락하고 원화 가치는 상승한다.

13

환율이 상승하면 외화 가치가 상승하고 원화 가치가 하락한다. 이에 따라 외채 상환 부담과 해외 유학 자녀에 대한 교육비 부담이 증가한다.

오답풀이 < ㄴ. 환율이 상승하면 외화로 표시되는 우리나라 상품의 가격이 하락하여 수출이 증가한다. ㄷ. 환율이 상승하면 외화 가치가 올라 우리나라 재화와 서비스의 가격이 상대적으로 저렴해지므로 우리나라에 방문하는 외국인 관광객이 늘어난다.

14

환율이 하락하면 외화 가치는 하락하고, 원화 가치는 상승한다. 따라서 외국 상품의 수입, 해외여행, 해외 유학, 해외 투자, 외채 상환처럼 달러를 사용해야 하는 사람들은 유리하다. ④ 환율이 하락하면 외국 상품의 원화 표시 가격이 하락하므로 수입에 유리하다.

오답풀이 < ①, ②, ⑤ 미국인 관광객이나 미국인 유학생의 부모, 연봉을 외화로 받는 선수는 일정한 금액의 달러

해결의 실마리

국가 간
생산 여건의 차이



생산비 차이



비교 우위 상품에
특화하여 교역



무역의 이익 발생

해결의 실마리

수출 증가



외화 공급 증가



환율 하락



• 외화 가치 하락
• 원화 가치 상승

환율 하락의 영향

- 수출 감소, 수입 증가
- 자국민의 해외여행 증가
- 외국인 관광객 감소
- 국내 물가 안정
- 외채 상환 부담 감소

로 환전할 수 있는 원화가 감소하므로 불리해진다. ③ 환율이 하락하면 수출품의 외화 표시 가격이 상승하므로 수출에 불리하다.

15

국가 간에 이루어지는 거래를 국제 거래라고 하며, 재화와 서비스의 수출과 수입 과정에서 관세가 부과될 수 있다.

16

자유 무역 협정(FTA)은 두 국가 혹은 여러 국가 간에 무역 장벽을 없애거나 완화하여 상호 교역을 증진시키기 위한 국가 간 협정이다.

17

1달러가 비싸졌다는 것은 원/달러 환율의 상승을 의미한다. 이는 달러화 가치는 상승하였고, 원화 가치는 하락하였음을 뜻한다.

18

예시답안 국가마다 자연환경, 기술 수준, 노동 등의 생산 여건이 다르므로 한 국가에서 생산되지 않는 상품이나 생산할 수 있더라도 다른 나라에 비해 생산비가 많이 드는 상품은 국제 거래를 통해 확보한다. 각국이 다른 나라보다 상대적으로 잘 생산할 수 있는 비교 우위 상품을 특화하여 교역하면 서로 이익을 얻을 수 있기 때문이다.

채점기준	등급	평가 기준
	상	생산 여건이 다르고, 비교 우위 상품 특화를 통해 각국이 서로 이익을 얻을 수 있다는 내용을 넣어 서술한 경우
	중	생산 여건이 달라 국제 거래가 필요하다고 서술한 경우
	하	각국이 이익을 얻을 수 있다고만 서술한 경우

19

예시답안 국제 거래는 상대 국가의 법과 제도, 문화에 따라 특정 재화나 서비스의 수입이 금지되거나 제한될 수 있으므로 상품의 이동이 국내 거래보다 자유롭지 못하다.

채점기준	등급	평가 기준
	상	국가 간 법과 제도, 문화가 달라 상품의 이동이 자유롭지 못하다는 맥락으로 서술한 경우
	하	특정 상품의 거래가 나라에 따라 제한된다고만 서술한 경우

20

예시답안 자국민이 해외여행을 할 때에는 원화를 외국 화폐로 교환해야 하므로 외화의 수요가 증가한다. 외화의 수요가 증가하면 환율은 상승하게 된다.

채점기준	등급	평가 기준
	상	자국민의 해외여행 증가는 외화의 수요 증가로 이어져 환율이 상승하게 된다고 서술한 경우
	하	외화의 수요 증가에 대한 언급 없이 자국민의 해외여행 증가로 환율이 상승한다고만 서술한 경우

대단원 완성문제

▶ 기본학습서 105~108쪽

01 ④ 02 ③ 03 ④ 04 ⑤ 05 ② 06 ③ 07 ③
08 ② 09 ④ 10 ③ 11 ④ 12 ④ 13 ④ 14 ②
15 ① 16 ⑤ 17 해설 참조 18 해설 참조 19 해설
참조 20 해설 참조

01

국내 총생산은 일정 기간 동안 한 나라 안에서 새롭게 생산된 최종 생산물의 시장 가치를 합한 것이다. ㄴ, ㄷ. 생산자의 국적과 상관없이 우리나라 국경 안에서 생산된 재화와 서비스의 가치는 우리나라의 국내 총생산에 포함된다.

오답풀이 ◀ ㄱ. 베트남에서 생산된 상품의 가치는 베트남의 국내 총생산에 포함된다. ㄷ. 국내 총생산은 최종 생산물의 가치만을 포함하고 생산 과정에서 사용된 중간 생산물의 가치는 포함하지 않는다.

02

국내 총생산은 한 나라의 생산 규모나 국민 전체의 소득 규모를 파악하기에 유용한 지표이다. 1인당 국내 총생산은 국내 총생산을 그 나라의 인구수로 나눈 것으로, 한 나라 국민의 평균적인 소득 수준을 파악하기에 용이하다. 제시된 자료에서 국내 총생산은 중국이 가장 크지만, 1인당 국내 총생산은 일본이 가장 크다. ③ 국내 총생산이나 1인당 국내 총생산을 통해 소득이 얼마나 고르게 나누어졌는지에 대한 소득 분배 상태를 알 수 없다.

오답풀이 ◀ ① 중국은 세 국가 중 국내 총생산이 가장 크지만, 1인당 국내 총생산은 가장 작다. 이는 인구가 가장 많기 때문이다. ② 생산 규모는 국내 총생산을 통해 파악할 수 있는데, 중국의 국내 총생산이 가장 크다. ④ 1인당 평균 소득은 1인당 국내 총생산을 통해 파악할 수 있는데, 일본의 1인당 국내 총생산이 가장 크다. ⑤ 국내 총생산의 순위는 중국 > 일본 > 대한민국의 순이고, 1인당 국내 총생산의 순위는 일본 > 대한민국 > 중국의 순이다.

03

국내 총생산은 시장에서 거래된 재화와 서비스의 가치만 반영된다. 따라서 대가를 받지 않는 주부의 가사 노동, 봉사 활동 등은 국내 총생산에 포함되지 않는다.

04

그래프는 국내 총생산과 1인당 국내 총생산이 지속적으로 증가하고 있음을 보여 준다. 국내 총생산의 증가는 경제 성장을 나타낸다. ⑤ 경제 성장 과정에서 그 혜택이 적절하게 분배되지 않으면 빈부 격차가 심해질 수 있다.

05

물가 상승은 경제 전체의 수요가 경제 전체의 공급보다 많을 때, 생산비가 오를 때, 통화량이 많아질 때 발생한다.

물가 안정 노력

- 정부: 재정 지출 축소, 조세 확대, 공공요금 인상 억제
- 중앙은행: 통화량 감축, 이자율 인상
- 기업: 기술 혁신을 통한 생산 비용 절감
- 개인: 과소비와 충동 구매 자제, 건전하고 합리적인 소비 생활

경제 성장의 영향

- 긍정적 영향: 물질적 풍요, 삶의 질 향상 등
- 부정적 영향: 자원 고갈, 환경 오염 심화, 빈부 격차 심화 등

실업의 유형

- 경기적 실업: 경기 침체로 일자리가 줄어 발생하는 실업
- 구조적 실업: 산업 구조 변화로 관련 직업이 사라지면서 발생하는 실업
- 계절적 실업: 계절의 영향을 받는 일자리가 줄어 발생하는 실업
- 마찰적 실업: 더 나은 직장을 구하기 위해 일시적으로 발생하는 실업

정부의 재정 지출, 기업 투자, 가계 소비의 증가는 경제 전체의 수요가 증가하는 요인이다. ② 기업이 투자를 축소하면 경제 전체의 수요가 감소한다.

06

그림을 통해 물가 상승이 나타났음을 파악할 수 있다. ③ 물가가 상승하면 화폐 가치가 하락하여 일정한 금액으로 생활해야 하는 연금 생활자는 이전보다 생활하기가 힘들어진다.

오답풀이 ◀ ①, ② 물가가 상승하면 토지나 건물 등과 같은 실물 자산의 가치는 높아지고, 예금과 같은 금융 자산의 가치는 낮아진다. ④ 물가가 상승하면 화폐 가치가 하락하여 일정한 금액으로 살 수 있는 재화와 서비스의 양이 줄어든다. ⑤ 물가가 상승하면 돈을 빌린 사람은 빌린 돈의 가치가 떨어져 돈을 갚는 부담이 줄어든다.

07

③ 이자율을 높여 저축이 증가하면 통화량이 감소하여 물가 상승이 억제된다.

오답풀이 ◀ ① 물가를 안정시키기 위해 정부는 공공요금 인상을 억제해야 한다. ② 정부의 재정 지출을 축소해야 경제 전체의 수요가 감소하여 물가 상승이 억제된다. ④ 개인의 소비를 줄여야 경제 전체의 수요가 감소하여 물가 상승이 억제된다. ⑤ 세금을 덜 거두면 소비가 증가하여 물가 상승으로 이어질 수 있다.

08

실업률은 경제 활동 인구 중 실업자가 차지하는 비율이다. 경제 활동 인구는 [15세 이상 인구(노동 가능 인구) - 비경제 활동 인구]이므로, 갑국의 경제 활동 인구는 120만 명이다. 그리고 경제 활동 인구는 취업자와 실업자의 수를 합한 인구이므로 실업자의 수는 [경제 활동 인구 - 취업자의 수]이다. 즉, 갑국의 실업자의 수는 30만 명이다. 따라서 실업률은 25%[30만 명/120만 명×100]이다.

문제자료 뜯어보기

- 15세 이상 인구: 200만 명
노동 가능 인구예요.
- 비경제 활동 인구: 80만 명
노동 가능 인구 중에서 일할 능력이냐 의사가 없는 인구로, 노약자, 학생, 전업주부, 구직 단념자 등이 해당돼요.
- 취업자: 90만 명
일할 능력과 의사가 있는 경제 활동 인구 중에서 일자리를 구한 사람이에요.

09

제시된 그림에는 산업 구조의 변화나 기술 발달로 관련 부문의 일자리가 사라져 발생하는 구조적 실업이 나타나 있다.

10

실업 문제가 발생하면 개인적으로는 생계유지가 어려워지

고 자신감과 자아실현의 기회가 상실되며, 사회적으로는 인적 자원이 낭비되고 사회 불안이 심해진다. ③ 인플레이션은 물가가 지속적으로 오르는 현상이다. 경기 침체로 인한 실업의 발생이 물가 상승으로 이어진다고 보기 어렵다.

11

ㄴ. 국제 거래는 거래 과정에서 관세가 부과되거나 통관 절차를 거쳐야 하는 등 국내 거래보다는 제약 조건이 많다. ㄹ. 오늘날 국제 거래에서는 재화뿐만 아니라 서비스와 노동, 자본, 기술 등의 생산 요소도 활발히 거래되고 있다.

오답풀이 < ㄱ. 나라마다 서로 다른 화폐를 사용하므로 국제 거래를 할 때에는 화폐의 교환이 필요하다. ㄷ. 자유 무역이 확대되었지만 각국의 법과 제도가 달라 특정 상품의 수입이 금지되거나 제한되는 등 상품의 이동이 국내 거래보다 자유롭지 못하다.

12

국제 거래를 통해 다른 나라보다 상대적으로 경쟁력이 높은 비교 우위 상품을 특화하여 수출하고, 반대로 경쟁력이 낮은 상품은 수입하여 이익을 얻을 수 있다.

13

지역 경제 협력체는 지리적으로 인접한 국가 간의 무역 증진과 상호 이익을 목적으로 결성되었다. 지역 경제 협력체는 회원국 간 자유 무역을 촉진하지만, 비회원국에 대한 차별로 무역 갈등이 발생하기도 한다. ④ 지역 경제 협력체의 구성으로 회원국 간의 경제적 상호 의존도가 증가하였다.

14

환율 상승은 외화의 수요가 증가하거나 외화의 공급이 감소할 때 나타난다. ㄱ. 국산품의 수출이 줄면 외화 공급이 감소하여 환율이 상승한다. ㄷ. 외국 상품의 수입이 증가하면 외화 수요가 증가하여 환율이 상승한다.

오답풀이 < ㄴ. 외화 공급의 증가로 환율은 하락한다. ㄹ. 외화 수요의 감소로 환율은 하락한다.

15

외국인 관광객의 국내 방문이 늘면 외화의 공급이 증가하여 외화의 공급 곡선이 오른쪽으로 이동한다. 이에 따라 환율은 하락하게 된다.

16

환율이 하락하면 원화 가치가 상승하게 된다. 따라서 환율 하락이 예상되면 외국 상품 구입, 수입품의 결제 대금 지급, 유학비 송금 등을 늦추는 것이 유리하다.

오답풀이 < ㄱ - 환율 하락은 수출 감소로 이어진다. 을 - 환율이 하락할수록 외국 상품의 원화 표시 가격이 하락하므로 구입을 미루는 것이 낫다.

국제 거래의 특징

- 관세, 통관 절차 등 거래의 제약 존재
- 화폐의 교환(환율) 필요
- 법과 제도의 차이로 특정 상품의 거래 제한 발생

해결의 실마리

해외 투자 증가



외화 수요 증가: 수요 곡선이 오른쪽으로 이동



환율 상승



원화 가치 하락

해결의 실마리

환율 하락



외화 가치 하락, 원화 가치 상승



수출 감소, 수입 증가

17

(1) 인플레이션

(2) **예시답안** 정부는 재정 지출을 줄이고 조세를 늘린다. 중앙은행은 이자율을 높여 통화량을 줄인다.

채점 기준	등급	평가 기준
	상	인플레이션 해결을 위해 정부와 중앙은행이 취해야 할 방안을 모두 옳게 서술한 경우
	하	인플레이션 해결을 위해 정부와 중앙은행이 취해야 할 방안 중 한 가지만 옳게 서술한 경우

18

예시답안 기업은 연구 개발과 새로운 시장 개척을 통해 고용을 창출해야 한다. 근로자는 자기 계발을 통해 생산성과 업무 처리 능력을 높여야 한다.

채점 기준	등급	평가 기준
	상	실업 문제 해결을 위한 기업과 근로자의 노력을 모두 옳게 서술한 경우
	하	실업 문제 해결을 위한 기업과 근로자의 노력 중 한 가지만 옳게 서술한 경우

19

예시답안 긍정적 영향으로는 우리 기업이 더 넓은 해외 시장을 확보할 수 있다. 부정적 영향으로는 경쟁력이 약한 국내 기업에 피해가 발생할 수 있다.

채점 기준	등급	평가 기준
	상	국제 거래의 증가가 우리 기업에 미칠 긍정적 영향과 부정적 영향을 모두 옳게 서술한 경우
	하	국제 거래의 증가가 우리 기업에 미칠 긍정적 영향과 부정적 영향 중 한 가지 측면만 옳게 서술한 경우

20

예시답안 해외 투자가 증가하면서 외환 시장에서 외화의 수요가 증가하였고, 외화의 수요 곡선이 오른쪽으로 이동하여 환율이 상승하였다. 이에 따라 원화 가치가 하락하여 외화로 표시된 우리나라 상품의 가격이 상대적으로 저렴해져 수출은 증가하는 반면, 수입품의 국내 가격이 상대적으로 상승하여 수입은 감소한다. 따라서 국내 수출업체들은 유리해지지만, 수입업체들은 불리해진다. 또한 해외에 외화를 송금하기 위해서 더 많은 원화를 지불해야 하므로 해외에 외화를 송금하는 사람들의 부담은 커지게 된다.

채점 기준	등급	평가 기준
	상	'외화의 수요 증가', '외화의 수요 곡선 오른쪽 이동'으로 환율이 상승하였다는 내용과 수출업체가 유리해지고 수입업체 해외에 외화를 송금해야 하는 사람들의 부담이 커지는 이유를 '원화 가치 하락'과 연결 지어 구체적으로 서술한 경우
	중	'외화의 수요 증가', '외화의 수요 곡선 오른쪽 이동'으로 환율이 상승하였다는 내용을 썼으나 수출업체가 유리해지고 수입업체 해외에 외화를 송금해야 하는 사람들의 부담이 커지는 이유에 대한 서술이 다소 미흡한 경우
	하	'외화의 수요 증가', '외화의 수요 곡선 오른쪽 이동'으로 환율이 상승하였다는 내용만 쓰거나 '원화 가치 하락' 때문이라고만 서술한 경우

VI 국제 사회와 국제 정치

1 국제 사회의 특성과 행위 주체

2 국제 사회의 갈등과 협력

학교 시험 적중 문제

▶ 기본학습서 114~117쪽

- 01 ① 02 ② 03 ② 04 ③ 05 ② 06 ④ 07 ②
08 ⑤ 09 ④ 10 ② 11 ② 12 ② 13 ③ 14 ①
15 ㉠ 정부 간 국제기구, ㉡ 국제 비정부 기구 16 협력
17 외교 18 해설 참조 19 해설 참조 20 해설 참조

01

국제 사회에서 각국은 원칙적으로 평등한 주권을 지니지만, 실제로는 힘의 논리가 작용하여 국력에 따라 주권을 행사하는 정도에 차이가 있다.

오답풀이 ② 국제 사회의 각국은 자국의 이익을 최우선적으로 추구한다. ③ 국제 사회에는 강제력을 가진 중앙 정부가 없기 때문에 개별 국가가 국제법을 어기더라도 강력한 제재가 이루어지기 어렵다. ④ 국제법은 국가 간 합의에 의한 것으로, 국가들의 행위에 영향을 미친다. ⑤ 국제 문제의 해결을 위해 국제 사회의 협력이 이루어진다.

02

제시된 자료에는 기후 변화와 관련된 국제 문제를 세계 각국이 협력하여 해결하는 과정에서 개별 국가들이 자국의 이익을 우선적으로 추구하는 모습이 나타나 있다.

03

국제 사회를 구성하는 가장 기본적인 행위 주체는 국가이다. 국가는 국제 사회에서 독립적인 주권을 행사하고, 자국의 안전과 이익을 위해 여러 가지 공식적인 활동을 한다.

04

유럽 연합(EU), 국제 통화 기금(IMF), 경제 협력 개발 기구(OECD)는 각국 정부를 회원으로 하는 정부 간 국제기구로 해당한다.

문제자료 뜯어보기

- **유럽 연합(EU)**
유럽의 정치·경제 공동체로, 유럽 단일 화폐, 공동 외교·안보 정책, 공동 시민권 제도를 도입하고 이민·난민·사법 분야의 협력을 증진하였어요.
- **국제 통화 기금(IMF)**
세계 무역의 안정과 확대를 위해 설립되었고, 회원국들의 금융 안정과 국제적인 통화 협력 촉진, 국가 간 자유 무역의 확대 등을 도모해요.
- **경제 협력 개발 기구(OECD)**
경제 발전과 세계 무역 촉진을 위해 설립되었고, 회원국의 경제 성장과 개발도상국 원조 등을 도모해요. 우리나라도 회원국이에요.

국제 비정부 기구의 사례

- 그린피스: 국제 환경 보호 단체로, 핵무기 반대와 자연 보호 등을 위해 활동함
- 국경 없는 의사사회: 국제 민간 의료 구호 단체로, 전쟁, 기아, 질병 등으로 고통받는 사람들의 구호를 위해 활동함

국제 사회의 특성

- 자국의 이익 우선성
- 힘의 논리 작용
- 중앙 정부의 부재
- 국가 간 상호 의존과 협력 강화

국제 사회의 행위 주체

- 국가: 가장 기본적인 행위 주체
- 정부 간 국제기구: 각국 정부를 회원으로 하는 국제기구
- 국제 비정부 기구: 개인이나 민간단체를 회원으로 하는 국제기구
- 다국적 기업: 세계적인 규모로 경제 활동을 하는 기업
- 기타: 국제적으로 영향력 있는 개인, 한 국가 내의 소수 민족 등

해결의 실마리

(가) 이스라엘과 팔레스타인인의 분쟁: 영토, 민족, 종교와 관련된 분쟁

(나) 무역 분쟁: 경쟁이 과열되어 갈등으로 확대된 것

국제 사회의 분쟁은 평화적으로 해결해야 함

05

제시문에서 국제 사면 위원회, 베트남이 국제 사회의 행위 주체에 해당한다. 국제 사면 위원회는 인권 실현을 목적으로 활동하는 국제 비정부 기구이고, 베트남은 국제 사회의 대표적인 행위 주체인 국가에 해당한다.

06

국제 연합(UN)은 정부 간 국제기구로, 평화 유지와 국제 협력 증진을 위해 활동한다.

07

국제 비정부 기구는 개인이나 민간단체를 회원으로 하며, 그린피스와 국경 없는 의사회가 이에 해당한다.

오답풀이 ㄴ. 중국으로부터의 독립을 요구하는 티베트 주민들은 한 국가 내의 소수 민족이다. ㄷ. 세계 무역 기구(WTO)는 정부를 회원으로 하는 정부 간 국제기구이다.

08

A는 다국적 기업이다. ⑤ 세계화가 진전되면서 국제 사회에서 다국적 기업의 영향력이 확대되고 있으며, 개별 국가의 경제 정책 등에 영향력을 행사하기도 한다.

오답풀이 ㄹ. ① 기업은 이윤 창출, 즉 사의 실현을 목적으로 한다. ② 다국적 기업은 국제 비정부 기구가 아니다. ③ 다국적 기업의 본사는 주로 선진국에 있다. 개발도상국에는 저임금 노동자를 확보하기 위해 생산 공장이 위치한다. ④ 다국적 기업은 개별적인 이윤 추구를 위해 활동하므로 국가 간 분쟁 해결에 큰 역할을 한다고 보기 어렵다.

09

오늘날 국제 사회에서는 시장 개척, 자원 확보, 기술 개발 등을 둘러싼 국가 간의 경쟁이나 영토나 자원을 둘러싼 갈등, 민족과 종교를 둘러싼 갈등, 환경 문제를 둘러싼 갈등, 문화 차이로 인한 갈등 등이 나타나고 있다. ④ 자본주의와 공산주의의 이념 갈등은 제2차 세계 대전 이후 약 40여년간 지속되었으나 1990년대 초 냉전 체제가 붕괴되면서 이념을 둘러싼 경쟁과 갈등에서 벗어났다.

10

(가) 이스라엘과 팔레스타인의 분쟁은 제2차 세계 대전 이후 유대인들이 팔레스타인 지역에 이스라엘을 건국하면서 시작된 유대인과 아랍인 간의 갈등으로, 영토, 민족, 종교 등 다양한 요인이 얽혀 있다. (나) 유럽 연합(EU)이 중국산 철강 제품에 높은 관세를 부과하여 발생한 무역 분쟁은 자국의 경제적 이익을 추구하려는 경쟁이 과열되어 갈등으로 확산한 것이다. ② 국제 사회의 분쟁은 외교 활동을 통해 평화적으로 해결하는 것이 가장 바람직하다.

11

제시된 사례에는 난민 문제가 나타나 있다. 난민 문제는 어느 한 국가의 노력만으로는 해결하기 어려운 문제로, 국제 사회의 협력을 통해 해결해야 한다.

12

외교란 한 국가가 국제 사회에서 자국의 이익을 달성하기 위하여 평화적 방법으로 수행하는 대외적인 활동이다.

13

(가)에는 인공 지능 산업에서 중국과 미국의 경쟁이 나타나 있다. (나)에는 환경 문제 해결을 위한 국제 협력이 성과를 거둔 모습이 나타나 있다.

14

오랫동안 적대 관계였던 미국과 쿠바가 국교를 재개한 것과 국제 연합(UN)이 분쟁 지역에 평화 유지군을 파견한 것은 국제 사회의 공존을 위한 활동이다.

15

㉠은 각국 정부를 회원으로 하는 정부 간 국제기구이고, ㉡은 개인이나 민간단체가 조직한 국제 비정부 기구이다.

16

제시된 사례에는 국제 문제의 해결을 위해 국제 사회가 협력하는 모습이 나타나 있다.

17

한 국가가 국제 사회에서 자국의 이익을 평화적으로 달성하려는 활동을 외교라고 한다.

18

예시답안 국제 사회에서 각국은 원칙적으로 평등한 주권을 지니지만, 실제로는 힘의 논리가 작용하기 때문에 국력에 따라 주권을 행사하는 정도에 차이가 있다.

채점 기준	등급	평가 기준
	상	국제 사회에서 힘의 논리가 작용하여 주권 행사 정도에 차이가 있다고 서술한 경우
	하	강대국의 영향력이 크다는 식으로 서술한 경우

19

예시답안 국제 사회에서 각국이 자국의 이익을 최우선으로 추구하기 때문에 경쟁과 갈등이 끊이지 않는다.

채점 기준	등급	평가 기준
	상	각국이 자국의 이익을 우선시하기 때문이라고 서술한 경우
	하	각국의 이해관계가 다르기 때문이라고 서술한 경우

20

예시답안 외교는 국제 문제를 해결하여 세계 평화 유지에 기여하는 등 국제 사회의 공존에 이바지한다.

채점 기준	등급	평가 기준
	상	외교가 국제 문제를 해결하여 국제 사회의 공존에 이바지한다고 서술한 경우
	하	외교가 국제 문제를 해결한다고만 서술한 경우

해결의 실마리

국제 연합 안전 보장 이사회 상임 이사국의 거부권 행사가 인정됨



힘의 논리 작용

우리나라와 일본의 갈등

- 동해 표기 문제: 일본이 동해를 '일본해'로 단독 표기할 것을 주장함
- 독도 영유권 주장 문제: 일본이 독도가 일본의 땅이라고 주장함
- 일본군 '위안부' 문제: 일본은 일본군 '위안부'를 정부 차원에서 강제 동원한 사실을 인정하지 않음
- 역사 교과서 왜곡 문제: 교과서에 독도 영유권 주장을 강화하고 일본군 '위안부' 관련 사실을 왜곡함

외교 정책을 통한 공존 노력 사례

- 주요 6개국과 이란의 핵 협상 타결(2015)
- 미국과 쿠바의 국교 정상화(2014)
- 미국과 중국의 국교 정상화(1972)
- 쿠바 미사일 위기 해결(1962)

3 우리나라의 국가 간 갈등과 해결

학교 시험 적용 문제

▶ 기본학습서 120~123쪽

- 01 ③ 02 ② 03 ⑤ 04 ④ 05 ① 06 ② 07 ②
08 ① 09 ④ 10 ③ 11 ③ 12 ② 13 ④ 14 ④
15 독도 16 동북공정 17 반크(VANK) 18 해설 참조
19 해설 참조 20 해설 참조

01

제시된 사진은 독도의 모습이다. ③ 일본이 독도를 자기 땅이라고 주장하는 이유는 독도의 해양 자원을 차지하고, 독도와 주변 지역을 군사적 거점으로 활용하기 위해서이다.

02

② 독도 영유권 문제에 대해 국제 사법 재판소가 판결을 내린 일은 없다.

문제자료 뜯어보기

교사: 독도가 우리 땅이라는 근거를 발표해 보세요.

갑: 우리나라가 현재 실질적으로 지배하고 있습니다.

독도에는 우리 국민이 살고 있고, 우리 경찰이 주둔하고 있어요.

을: 국제 사법 재판소가 우리의 영토라고 판결했습니다.

병: 『삼국사기』에 신라의 이사부가 우산국을 점령했다는 기록이 있습니다. 우산국에 속해 있던 독도가 512년에 신라의 이사부에 의해 정복된 이래 신라의 지배를 받았어요.

정: 『세종실록지리지』에 독도가 강원도에 속한 섬이라고 기록되어 있습니다.

무: 일본의 옛 문헌에도 독도가 일본 땅에 포함되지 않는다고 기록된 것이 있습니다.

일본의 역사서 『은주시정합기』에 일본의 북쪽 한계를 오키섬으로 한다고 하여 독도를 일본 땅으로 보지 않았어요.

03

우리나라가 일본과 겪고 있는 갈등으로는 동해 표기 문제, 독도 영유권 주장 문제, 일본군 '위안부' 문제, 일본의 역사 교과서 왜곡 문제, 일본 정치인의 야스쿠니 신사 참배 문제 등이 있다. ⑤ 고구려 역사 왜곡 문제는 동북공정과 관련되며, 우리나라와 일본과의 갈등이 아니라 우리나라와 중국과의 갈등에 해당한다.

04

일본군 '위안부' 문제와 관련하여 우리나라가 일본에 요구해야 할 사항으로는 일본의 진심이 담긴 사죄, '위안부' 피해자에 대한 합당한 보상, '위안부' 문제와 관련된 책임자 처벌, '위안부' 운영과 관련된 모든 사실의 공개 등이 있다. ④ 우리나라 경제 개발을 위한 자금 지원은 일본군 '위안부' 문제와 관련하여 우리나라가 일본에 요구해야 할 사항으로 적절하지 않다.

05

일본 정치인들이 제2차 세계 대전의 전범들이 묻힌 야스쿠니 신사를 참배하는 것은 과거 침략의 역사를 반성하는 것이 아니라 오히려 침략 전쟁을 미화하는 행위로 비춰지기 때문에 비판을 받고 있다.

오답풀이 ② 야스쿠니 신사 참배는 일본 헌법에 위반된 행동이 아니다. ③ 국민의 대표인 국회의원으로서 해야 할 역할과 야스쿠니 신사 참배는 관련이 없다. ④ 야스쿠니 신사 참배가 일본 국민의 기본권을 침해하는 것은 아니다. ⑤ 야스쿠니 신사는 침략을 계획한 곳이 아니다.

06

동북공정을 추진하는 중국의 학자들은 고구려가 중국의 영토 안에서 건국되었고, 중국에 조공을 바친 중국 소수 민족의 지방 정권이라고 주장한다.

07

제시문에는 중국 어선의 불법 조업과 이에 대응하는 우리 경찰의 모습이 나타나 있다. 이는 중국 어민들이 우리나라 해역의 수산 자원을 획득하기 위해 불법적으로 어업 활동을 하면서 발생하였다. 이러한 문제를 해결하기 위해서 우리 정부는 정당한 주권 행사를 통해 우리 국민의 권익을 보호하고, 대화와 협상을 통해 중국 정부와 협력하여 불필요한 갈등이 발생하지 않도록 해야 한다.

08

랴오허 문명을 중국의 역사로 흡수하려는 프로젝트는 한반도 상고사를 축소 또는 왜곡할 우려가 있다.

오답풀이 ②, ③, ④ 고려, 조선, 임시 정부는 랴오허 문명의 시기와는 관련이 없다. ⑤ 상고사를 중국사에 편입한다고 해서 중국과 한국의 문화적 차이가 부정되지 않는다.

09

『직지심체요절』은 고려 시대에 만든 우리 문화재로, 프랑스 파리의 국립 도서관에 보관되어 있다. 우리 정부가 이것의 반환을 요구하고 있지만 프랑스 정부는 합법적으로 입수한 것이라며 돌려주지 않고 있다.

10

일본이 제기한 역사 왜곡의 허구성을 역사적 자료를 근거로 들어 밝히고, 이에 대한 시정을 요구하는 한편, 정확한 내용을 국내외에 적극적으로 홍보하는 것이 적절하다.

오답풀이 ① 해당 출판사 제품에 대한 불매 운동은 감정적인 대응이며, 적절하지 않다. ② 교과서 집필자의 형사 처벌을 요구하는 것은 현실적인 대응 방안으로 볼 수 없다. ④ 우리 국민에 대한 정신적 피해 보상으로 교과서 왜곡 문제가 해결되는 것은 아니다. ⑤ 일본의 교과서 집필에 있어 우리 정부의 동의를 얻도록 하는 것은 우리 정부의 권한을 벗어나는 조치이므로 적절하지 않다.

우공비 Note

해결의 실마리

야스쿠니 신사: 제2차 세계 대전의 전범들이 묻힌 곳

일본 정치인들의 야스쿠니 신사 참배

전쟁 범죄자를 영웅으로 추앙하는 것

동아시아 역사 갈등에 대한 대응

- 정부: 정확한 사실 관계를 규명하여 당사국에 문제 제기, 다양한 외교 활동으로 역사 바로 알리기 등
- 시민 사회: 공동 역사 연구, 다양한 민간 교류를 통해 역사 인식 차이 해소 등

해결의 실마리

미국 교과서에 동해가 '일본해'로만 표기되어 있었음

미국 한인 단체의 서명 운동 전개

버지니아주 의회에서 '동해 병기' 법안 통과

버지니아주 교과서에 '동해, '일본해' 함께 표기

중국의 동북공정 내용

- 고조선은 기차 조선 - 위만 조선 - 한사군으로 이어지는 중국의 역사임
- 고구려는 중국에 조공을 바친 중국 소수 민족의 지방 정권임
- 발해는 말갈족이 건국한 국가로, 당나라의 책봉을 받았던 중국의 지방 정권임

11

일본의 독도 영유권 주장과 역사 교과서 왜곡 문제와 같은 국제 갈등을 해결하기 위해 정부와 시민 사회 모두의 노력이 필요하다. 학자들이 주변국 학자들과 공동 연구를 하여 역사 인식의 차이를 줄이는 데 힘쓰는 것, 시민 단체가 홍보 동영상이나 서명 운동 등을 통해 국제 사회에 우리의 정당성을 알리는 활동 등은 시민 사회의 노력에 해당한다.

오답풀이 ㄱ. 교육부의 활동, ㄴ. 지방 자치 단체의 활동은 정부 측면의 노력에 해당한다.

12

제시문은 중국의 동북공정에 대한 내용이다. 이러한 문제에 대응하기 위해서는 우리의 역사에 관심을 갖고, 우리의 주장을 뒷받침할 객관적 근거와 정당성을 제시할 수 있어야 한다. ② 국제 사회의 협력을 구할 수는 있으나 강대국의 힘을 빌려 대처하는 것은 적절한 방안이 아니다. 주체적 위치에서 역사 왜곡에 대응해야 한다.

13

제시된 사진과 같은 독도 홍보 활동은 독도에 대한 우리의 영토 주권을 강화하고, 세계 여러 나라 사람에게 독도가 한국의 영토임을 알리는 데 기여한다.

오답풀이 ㄱ, ㄴ. 일본은 독도 문제를 국제 사법 재판소를 통해 해결하고자 하는데, 이는 국제 사회에서 독도를 분쟁 지역으로 인식시켜 일본이 유리한 입장을 확보하기 위해서이다. 우리나라는 독도가 분쟁 지역으로 인식되는 것을 원하지 않으며, 독도 문제는 사법적 해결의 대상이 될 수 없다는 입장이다.

14

‘미주 한인의 목소리’는 동해 병기를 위한 활동을 하고 있는 민간단체이다. 이들은 일본해로만 표기되어 있는 미국의 교과서에 동해와 일본해를 함께 표기하도록 하기 위해 노력하고 있다.

오답풀이 ① ‘미주 한인의 목소리’는 민간단체로, 주변국과의 갈등을 중재할 권한이 없다. ② 한국의 어려움을 일본에 호소한 것이 아니라 서명 운동을 통해 잘못 알려진 내용을 바로잡으려고 노력하였다. ③ 우리 정부에 외교적 노력을 촉구한 내용은 나타나 있지 않다. ⑤ 미국의 교과서에 동해와 일본해를 함께 표기하도록 힘쓴 것이지 교과서를 직접 출간한 것은 아니다.

15

역사적, 지리적, 국제법적으로 명백한 우리의 고유 영토인 독도에 대해 일본이 영유권을 주장하여 우리나라와 갈등을 빚고 있다.

16

동북공정은 중국 동북 지방에서 이루어졌던 역사를 중국의 역사로 만들기 위해 중국이 추진했던 연구 사업으로, 소수 민족의 독립이나 영토 분쟁을 막고자 하는 의도를 갖고 있다.

17

반크(VANK)는 외국을 상대로 국가 홍보와 사이버 민간 외교관의 역할을 하고 있다. 특히 우리나라에 관한 잘못된 정보를 찾아서 이를 바로잡는 활동을 하고 있다.

18

예시답안 독도를 영토 분쟁 지역으로 확대한 후 국제 사회에서의 유리한 입장을 이용하여 국제 사법 재판소에서 독도를 일본의 영토로 판결받고자 한다.

채점기준	등급	평가 기준
	상	독도를 영토 분쟁 지역으로 만들어 국제 사회에서의 유리한 입장을 이용하여 독도의 영유권을 얻으려고 한다는 내용을 서술한 경우
	하	독도의 영토 분쟁 지역화, 국제 사회의 유리한 입장 이용 중 한 가지에 대한 내용을 넣어 서술한 경우

19

예시답안 중국 내 소수 민족의 독립을 막고, 한반도 통일 이후 발생할 수 있는 한국과 중국 간 영토 분쟁을 방지하기 위해서이다.

채점기준	등급	평가 기준
	상	소수 민족 독립과 영토 분쟁을 막기 위해서라고 서술한 경우
	하	소수 민족을 통제하기 위해서라고 간단히 서술한 경우

20

예시답안 역사에 대한 공동 연구를 통해 국가 간 역사 인식의 차이를 줄이고 역사 왜곡을 막을 수 있다.

채점기준	등급	평가 기준
	상	역사 인식의 차이를 줄이고 역사 왜곡을 막을 수 있다고 서술한 경우
	하	역사 왜곡을 막는다고만 서술한 경우

대단원 완성문제

▶ 기본학습서 125~128쪽

01 ⑤ 02 ④ 03 ④ 04 ③ 05 ② 06 ③ 07 ①
08 ④ 09 ⑤ 10 ② 11 ① 12 ① 13 ⑤ 14 ②
15 ⑤ 16 ⑤ 17 해설 참조 18 해설 참조 19 해설
참조 20 해설 참조

01

국제 사회에는 강제력을 가진 중앙 정부가 존재하지 않아서 국가 간 갈등 상황이 발생했을 때 해결하기 어렵다.

02

국제 사회에서는 힘의 논리가 작용하여 경제력이나 군사력이 큰 강대국이 약소국보다 더 많은 영향력을 행사한다.

오답풀이 ㄱ. 유럽 난민 문제 해결을 위한 회의와 ㄴ. 주변 국가의 어려움을 도와주는 것은 국제 협력의 모습이다.

우공비 Note

해결의 실마리

ㄱ) 국제 사면 위원회 국경 없는 의사회



국제 비정부 기구

ㄴ) 국제 연합, 경제 협력 개발 기구



정부 간 국제기구

03

ㄱ)는 개인과 민간단체를 회원으로 하는 국제 비정부 기구이고, ㄴ)는 각국 정부를 회원으로 하는 정부 간 국제기구이다. ㄱ)와 ㄴ)는 회원 자격에 차이가 있다.

04

밀줄 친 '이 단체'는 그린피스이다. 그린피스는 개인이 주도하여 조직한 국제 비정부 기구이며, 환경 보호를 목표로 해무기 반대, 고래 포획 금지 등의 활동을 벌이고 있다.

오답풀이 ① 정부를 회원으로 하는 것은 정부 간 국제기구이다. ② 국제 연합의 부속 기구에는 국제 사법 재판소, 국제 연합 교육 과학 문화 기구(UNESCO), 국제 연합 아동 기금(UNICEF) 등이 있다. 그린피스는 국제 연합의 부속 기구가 아니다. ④ 그린피스는 개별 국가에 강제력을 행사할 권한이 없다. ⑤ 난민 보호, 정치범 석방 등을 촉구하는 것은 국제 비정부 기구 중 국제 사면 위원회이다.

05

제시문은 다국적 기업에 대해 설명하고 있다. 다국적 기업은 세계 각지에 자회사, 지사, 생산 공장을 보유하고 국제적으로 생산과 판매 활동을 하는 기업을 말한다.

06

남중국해 분쟁은 석유와 천연가스 확보를 위한 영유권 분쟁으로, 영토·자원 갈등의 성격을 띤다.

07

②, ③, ④, ⑤의 사례는 서로의 이익과 국제 사회의 공존을 위해 각 국가들이 협력하는 모습이다. ① 미국이 중국에 고율의 관세를 부과하겠다고 통보한 것은 무역과 관련된 갈등 모습이다.

08

외교 활동은 자국의 정치적·경제적 이익을 실현하고, 국제적 위상을 높일 수 있으며, 국제 평화에도 기여할 수 있다. ④ 외교는 자국의 이익을 평화적으로 실현하기 위한 행위이고, 영토 분쟁은 분쟁 당사국 간 이익이 첨예하게 대립하여 외교 활동을 통한 해결이 쉽지 않다. 따라서 외교 활동을 통해 영토 확장을 기대하기는 어렵다.

09

일본은 독도의 해양 자원을 선점하고 그 주변 지역을 군사적 거점으로 활용할 목적으로 독도에 대한 영유권을 주장하고 있다.

오답풀이 ㄱ. 독도 영유권 문제는 남북한 평화 통일과 관련이 없다. ㄴ. 일본이 독도를 차지한다고 해서 국제 사회에서 경제 강국의 위상이 높아진다고 보기는 어렵다.

10

1905년에 공포된 일본 시마네현 고시는 독도를 불법적으

외교

- 의미: 한 국가가 국제 사회에서 자국의 이익을 평화적으로 달성하려는 활동
- 중요성: 국가의 정치적·경제적 이익 실현, 자국의 대외적 위상 향상, 국가 간 우호 증진, 세계 평화에 기여

로 일본의 영토로 편입시키는 내용을 담고 있다. 일본은 이 고시를 근거로 지속적으로 독도가 일본의 땅이라는 억지 주장을 하고 있다.

11

우리나라는 동북공정 문제, 중국 어선의 불법 조업 문제로 중국과 갈등을 겪고 있다.

오답풀이 < ㄷ, ㄴ은 일본, ㄹ은 프랑스와 관련 있다.

12

일본은 침략 전쟁을 일으키고, 그 과정에서 일본군 '위안부'라는 인권 침해적 행위를 저질렀다는 사실을 숨기기 위해 역사 교과서를 왜곡하고 있다.

13

(가)와 (나)는 모두 법적 분쟁이 아니라 역사적 근거에 따라 판단해야 할 문제이다. 따라서 사법적 절차에 따라 해결하는 것은 바람직하지 않다.

문제자료 1. 뜯어보기

- (가) 일본의 도쿄도 교육 위원회는 독도의 영유권을 주장하는 내용을 담은 역사 교과서를 제작하여 배포하였다.
→ 일본은 독도가 가진 경제적·군사적 이점 때문에 독도에 대한 영유권 주장을 지속적으로 하고 있고, 이를 교과서에도 담고 있어요. 일본은 독도를 영토 분쟁 지역으로 삼아 국제 사회에 알리고, 국제 사법 재판을 통해 해결하고자 해요.
- (나) 중국 정부가 고구려 성산산성 표지석에 “고구려는 중국의 소수 민족 지방 정권이다.”라는 문구를 새긴 사실이 확인되었다.
→ 중국 영토 내에 있었던 모든 역사를 중국의 역사로 포함하는 역사 연구의 일환으로 고조선, 고구려, 발해를 중국사로 편입하려는 동북공정과 관련된 내용이에요.

국가

- 국제 사회의 가장 기본적인 행위 주체
- 일정한 영토와 국민을 바탕으로 주권을 가지는 행위 주체

해결의 실마리

- (가) 일본의 역사 교과서 왜곡
(나) 중국의 동북공정



역사 왜곡 문제

동북공정

- 중국의 역사 왜곡 문제
- 고조선, 고구려, 발해의 역사를 중국사로 편입하려는 시도
- 소수 민족의 독립, 영토 분쟁을 방지하려는 의도

14

동북공정은 중국의 동북 3성 지역의 역사 연구로, 고조선, 고구려, 발해 등 만주 지역에 있었던 우리나라의 역사를 중국사 속에 편입시켜 역사를 왜곡하고 있다. ② 동북공정은 역사 왜곡 문제로, 영유권 분쟁이 아니다.

15

일본의 역사 교과서 왜곡 문제와 중국의 동북공정에 대응하기 위해서는 우리의 정당성을 국제 사회에 널리 알리는 한편, 정부와 시민의 다양한 외교적 노력이 필요하다.

오답풀이 < ① 물리적 강제력으로 문제를 해결하는 것은 바람직하지 않다. ② 정부뿐만 아니라 국민 개개인의 노력도 필요하다. ③ 우리나라가 양보하여 해결할 성격의 문제가 아니다. ④ 우리나라가 주체적 위치에서 평화적이고 합리적으로 대화를 이끌어 가기 위해 노력해야 한다.

16

각국 시민 사회의 공동 역사 연구나 역사 문제 협의와 같은 활동을 통해 역사적 사실의 실체를 밝혀 왜곡된 역사를

바로잡을 수 있다. 또한 역사 인식의 차이를 줄여 국가 간 역사 갈등을 해소하는 데 기여할 수 있다.

17

예시답안 국가 간 상호 의존성이 커지고, 국제 사회의 문제에 공동으로 대응해야 할 필요성이 커지면서 국제 사회의 협력이 강화되고 있다.

채점 기준	등급	평가 기준
상	상	국제 사회 문제에 공동으로 대응하기 위한 국제 사회의 협력이 강화되고 있다고 서술한 경우
	하	국제 사회의 협력이 늘고 있다고 간단히 서술한 경우

18

예시답안 국가 / 자국의 이익과 자국민의 보호를 위해 외교 활동을 하고, 여러 국제기구에 가입하여 회원국으로서 활동하기도 한다.

채점 기준	등급	평가 기준
상	상	국가라고 쓰고, 국제 사회에서 국가가 하는 활동을 옳게 서술한 경우
	중	국제 사회에서 국가가 하는 활동에 대해 서술한 경우
하	하	국가라고만 쓴 경우

19

예시답안 외교 / 국가 간 갈등을 사전에 조정하고 상호 협력을 통해 함께 발전할 수 있는 길을 마련할 수 있다.

채점 기준	등급	평가 기준
상	상	외교라고 쓰고, 그 의미를 '갈등', '협력'을 넣어 옳게 서술한 경우
	하	외교라고만 쓴 경우

20

예시답안 (가)에 나타난 테러 문제, (나)에 나타난 난민 문제와 같은 국제 사회의 문제들은 국경을 초월하여 발생하며, 특정 지역에만 영향을 주는 것이 아니라 전 세계에 걸쳐 영향을 준다. 이 때문에 국제 사회의 문제는 개별 국가의 노력만으로 해결할 수 없다. 따라서 이러한 문제를 해결하고 국제 사회가 공존하기 위해서는 국제적인 협력이 이루어져야 하고, 지구촌의 각 국가가 국제 평화나 긴급 구호 등을 위한 외교 정책을 적극적으로 실시해야 한다. 또한 세계 시민으로서 공동체 의식을 바탕으로 국제 사회 문제에 관심을 갖고, 그 해결을 위해 적극적으로 행동할 필요가 있다. 예를 들어, 자원봉사, 후원, 기부 등을 통해 국제 사회 문제의 해결에 기여할 수 있다.

채점 기준	등급	평가 기준
상	상	국제 사회 문제의 특징을 쓰고, 국제 문제의 해결과 국제 사회의 공존을 위한 방안을 외교 정책의 측면과 세계 시민의 측면에서 논리적으로 서술한 경우
	중	국제 사회 문제의 특징, 외교 정책 측면의 공존 방안, 세계 시민 측면의 공존 방안 중 두 가지만 서술한 경우
하	하	국제 사회 문제의 특징, 외교 정책 측면의 공존 방안, 세계 시민 측면의 공존 방안 중 한 가지만 서술한 경우

I 인권과 헌법

필수 문제로 학교 시험 대비하기

▶ 시험대비서 02~05쪽

- ① 인권 ② 세계 인권 선언 ③ 헌법 ④ 기본권 ⑤ 참정권
⑥ 청구권 ⑦ 헌법 소원 심판 ⑧ 국가 인권 위원회
⑨ 단결권 ⑩ 부당 노동 행위

01 ⑤ 02 ① 03 ② 04 ③ 05 ⑤ 06 ⑤ 07 ④
08 ① 09 ③ 10 ⑤ 11 ② 12 ④ 13 ⑤ 14 ④
15 ③ 16 ④ 17 ⑤ 18 ⑤ 19 ④ 20 ⑤

01

인권은 인간이라는 이유만으로 가질 수 있는 권리이며, 나이, 피부색, 성별, 장애의 유무 등에 관계없이 동등하게 누릴 수 있는 보편적 권리이다.

02

시민 혁명은 17~18세기 시민 계급이 주도하여 절대 군주의 억압에 맞서 자유와 권리의 보장을 위해 투쟁한 사건으로, 영국 명예혁명, 미국 독립 혁명, 프랑스 혁명이 대표적이다. 근대 시민 혁명 이후 시민의 자유와 평등이 제도적으로 보장되기 시작하였다.

03

ㄱ. 인간의 존엄과 가치 및 행복 추구권은 우리나라 헌법의 최고 가치로서, 모든 기본권이 궁극적으로 지향하는 근본이념이다. ㄴ. '불가침의 기본적 인권을 확인하고'라는 표현을 통해 기본권은 하늘이 부여한 천부 인권이며, 국가나 다른 사람이 함부로 침해할 수 없는 불가침의 권리임을 명시하고 있다.

오답풀이 ㄴ. 인권 보장을 위한 국가의 의무를 강조하고 있다. ㄷ. 인권은 헌법으로 보장되기 이전에 자연적으로 주어지는 권리임을 확인하고 있다.

04

평등권은 모든 국민이 생활의 모든 영역에서 합리적인 이유 없이 불평등한 대우를 받지 않을 권리로, 다른 기본권 보장의 전제가 된다.

05

(가) 법 앞의 평등은 평등권에 해당한다. (나) 재산권은 자유권에 속한다. (다) 인간다운 생활을 할 권리는 사회권에 속한다. (라) 공무 부담권은 참정권에 속한다. (레) 청원권은 청구권에 속한다.

06

기본권은 국가 안전 보장, 질서 유지, 공공복리를 위해 필요한 경우에 한하여 국회가 제정한 법률로써 제한할 수 있

사회권과 자유권

- 사회권: 국가에 인간다운 생활의 보장을 요구할 수 있는 권리
- 자유권: 국가의 간섭을 받지 않고 자유롭게 생활할 수 있는 권리

해결의 실마리

공권력에 의해 기본권 침해를 당한 국민이 직접 헌법 재판소에 청구함



헌법 소원 심판

평등권

- 법 앞의 평등
- 성별·종교·사회적 신분 등에 의하여 차별받지 않을 권리

다. 그러나 어떠한 경우에도 기본권의 본질적인 내용은 침해할 수 없다.

07

(가)에서 ○○ 씨는 신체적, 경제적 어려움으로 최소한의 인간다운 생활을 누리지 못하고 있으므로 사회권이 실현되어야 한다. (나)에서는 종교의 자유가 침해되고 있으므로 자유권이 실현되어야 한다.

08

재판은 법원에서 이루어지는 가장 보편적인 인권 구제 방법이다. 개인에 의한 인권 침해는 민사 재판, 범죄 행위에 의한 인권 침해는 형사 재판, 행정 기관에 의한 인권 침해는 행정 재판으로 해결할 수 있다.

09

헌법 재판소는 법률이나 국가 기관의 권력 행사가 헌법에 위반되는지를 판단하여 국민의 인권 침해를 구제하는 역할을 한다.

10

제시문의 밑줄 친 '이것'은 헌법 소원 심판이다. ⑤ 법률에 의해 기본권(참정권)을 침해당했다고 생각되면 헌법 소원 심판을 청구할 수 있다.

11

국가 인권 위원회는 인권 침해 행위를 조사하여 시정해야 할 사항을 권고함으로써 침해된 권리를 구제한다.

오답풀이 ㄹ ① 국가 인권 위원회는 독립적인 국가 기관이다. ③은 국민 권익 위원회에 대한 설명이다. ④ 국가 인권 위원회는 인권 침해나 차별 행위를 독자적으로 조사할 수 있다. ⑤ 국가 기관뿐만 아니라 회사 또는 단체, 개인 등에 의해 인권 침해를 당한 경우에도 국가 인권 위원회에 인권 구제를 요청할 수 있다.

12

ㄱ. 소비자 보호와 소비자의 권익 향상을 목적으로 설립된 기관은 한국 소비자원이다. ㄷ. 국민의 고충 민원 처리와 불합리한 행정을 개선하는 역할을 하는 것은 국민 권익 위원회이다.

13

근로자는 사용자에게 노동을 제공하고 임금을 받는 사람이다. 아르바이트를 하는 학생은 근로자에 해당한다.

오답풀이 ㄹ ①, ②, ③, ④는 근로자를 채용하거나 해고하고, 근로에 대해 지휘·감독할 책임을 지는 사용자이다.

14

근로 계약서에는 근로 시간, 근로 장소, 업무의 내용, 임금 액수 및 지급일과 지급 방법, 근로 계약 기간 등의 근로 조건이 포함되어야 한다.

오답풀이 ◀ 나. 연소 근로자의 경우에 가족 관계 증명서를 제출하는 경우가 있으나, 가족 관계는 근로 계약서에 들어 가야 할 사항은 아니다.

15

근로자는 단결권을 보장받으므로 근로 조건의 향상을 위해 노동조합을 결성할 수 있다.

16

제시문은 노동조합과 사용자 간에 단체 협약이 이루어지는 모습을 보여 준다. 이는 근로자의 노동 3권 중 단체 교섭권 행사와 관련 있다.

17

미성년자인 청소년은 근로관계에서 가장 약자의 위치에 있기 때문에 제시된 근로 기준법의 내용과 같이 이들을 위한 보호 조항을 마련해 두고 있다.

18

사용자가 노동조합의 가입을 방해하거나 노동조합 활동을 이유로 불이익을 주는 등 근로자의 노동 3권을 침해하는 것을 부당 노동 행위라고 한다.

19

노동 위원회는 노사 문제를 공정하고 신속하게 처리하기 위해 만들어진 기관으로, 부당 해고나 노동 3권을 침해하는 부당 노동 행위가 발생한 경우 관련 사실을 조사하여 근로자의 권리를 구제해 준다.

20

제시된 사례에 나타난 근로 계약은 법률에 어긋난 것이다. A 씨는 일한 날짜에 따른 임금을 지급받아야 하며, 이를 위해 고용 노동부나 법원의 도움을 받을 수 있다.

세계 인권 선언

- 1948년 국제 연합(UN) 총회에서 채택됨
- 모든 사람이 보편적으로 누려야 할 인권의 기준을 제시함

노동권 침해의 구제

부당 해고
부당 노동 행위



- 노동 위원회에 진정 제기
- 법원에 소 제기

청구권

- 의미: 국가에 일정한 행위를 요구하거나 침해당한 기본권의 구제를 청구할 수 있는 권리
- 성격: 수단적 권리
- 종류: 청원권, 재판 청구권, 국가배상 청구권 등

참정권

- 의미: 국가의 의사 결정에 참여할 수 있는 권리
- 종류: 선거권, 공무 부담권, 국민 투표권

02

제시문은 16세기 중반 서양의 노예 무역이 성행했을 당시 아프리카 사람들이 인간 이하의 취급을 당했던 상황을 보여 준다. ① 인권이 보장되어야만 인간의 존엄성을 실현하고 인간다운 삶을 살 수 있다.

03

세계 인권 선언은 제2차 세계 대전 이후 국제 연합(UN)에서 채택한 인권 문서로, 인권이 인류 모두가 함께 지켜 나가야 할 보편적 가치라는 인권 의식을 확립하는 데 기여하였다.

04

인권을 국가의 모든 법과 제도의 기초가 되는 헌법에 규정하는 것은 국민의 인권을 보장하고, 국가 권력이 개인의 기본적 인권을 침해할 수 없도록 법적 장치를 마련한 것이다. ③ 국가는 인권 중에서 반드시 보장해야 할 내용을 헌법에 규정하고, 헌법에서 규정되지 않은 인권도 보장하도록 노력하고 있다.

05

제시된 헌법 조항은 신체의 자유(자유권)를 보장하고 있다. 자유권은 국가 권력의 간섭 없이 자유롭게 생활할 권리이다.

06

(가)의 교육을 받을 권리는 사회권에 속하고, (나)의 국가 배상 청구권은 청구권에 속한다. ③ 청구권은 사회권과 달리 다른 기본권을 보장하기 위한 수단적 성격을 갖는다.

오답풀이 ◀ ① 소극적 권리는 자유권이다. ② 사회권과 청구권은 국가 안전 보장, 질서 유지, 공공복리를 위해 필요한 경우 법률로써 제한할 수 있다. ④ 사회권과 청구권은 둘 다 국가의 성립을 전제로 보장되는 권리이다. ⑤ 국가의 의사 결정에 참여함으로써 보장되는 권리는 참정권이다.

07

선거에 참여하여 투표하는 것은 참정권을 행사하는 것이다. 참정권은 국가의 의사를 결정하는 최고 권력인 주권이 국민에게 있다는 국민 주권주의를 실현하는 기본권이다.

오답풀이 ◀ ②는 자유권, ③은 청구권, ④는 평등권, ⑤는 사회권에 대한 설명이다.

08

개발 제한 구역의 지정은 환경 보호, 쾌적한 환경의 유지와 같은 공공복리를 위해 개인의 재산권 행사를 부분적으로 제한한 것이다. 기본권의 제한은 법률로써만 가능하다.

09

과제를 제출하지 않아 수행 평가 점수가 감점되는 것은 능력이나 노력에 따른 정당한 대우이므로 인권 침해에 해당하지 않는다.

시전 문제로 등급 올리기

▶ 시험대비서 06~09쪽

01 ② 02 ① 03 ③ 04 ③ 05 ② 06 ③ 07 ①
08 ① 09 ③ 10 ④ 11 ④ 12 ⑤ 13 ③ 14 ②
15 ② 16 ⑤ 17 ② 18 ③ 19 ① 20 ④ 21 해설
참조 22 해설 참조 23 해설 참조

01

인권은 인간이 인간답게 살 수 있도록 모든 인간에게 기본적으로 인정되는 권리이다. 인권은 태어날 때부터 가지는 권리이며, 국적, 종교, 성별 등에 관계없이 주어지는 보편적 권리이다.

오답풀이 ◀ 나. 인권은 국가의 법으로 보장되기 이전에 자연적으로 주어지는 권리이다. 다. 인권은 누구나 동등하게 누릴 수 있는 권리이다.

10

(가)에서는 부당한 차별을 받지 않을 권리인 평등권이 침해되었다. (나)에서는 인간다운 생활의 보장을 국가에 요구할 수 있는 권리인 사회권이 침해되었다.

11

출신 지역에 따라 면접에서 불이익을 주는 것은 차별이며, 평등권 침해에 해당한다.

오답풀이 ① 선거권을 침해한 것으로, 참정권 침해에 해당한다. ② 거주·이전의 자유를 침해한 것으로, 자유권 침해에 해당한다. ③ 교육을 받을 권리를 침해한 것으로, 사회권 침해에 해당한다. ⑤ 청원권을 침해한 것으로, 청구권 침해에 해당한다.

12

공권력에 의해 헌법상 기본권을 침해당한 국민은 헌법 재판소에 헌법 소원 심판을 제기하여 침해된 인권을 구제받을 수 있다.

13

①에 들어갈 국가 기관으로는 국가 인권 위원회가 적절하다. 국가 인권 위원회는 어떤 국가 기관에도 소속되지 않는 독립 기구로, 인권 침해와 관련된 진정이 제기되면, 그와 관련한 문제를 조사하고 인권 침해라고 판단될 경우 이에 대한 시정, 개선, 구제 조치 등을 권고한다.

14

국가 인권 위원회는 인권 침해나 차별 행위를 조사하여 구제하고, 인권을 침해할 우려가 있는 법이나 제도의 문제점을 찾아 개선을 권고한다.

오답풀이 ① 헌법 재판소의 역할이다. ③ 대한 법률 구조 공단의 역할이다. ④ 국민 권익 위원회의 역할이다. ⑤ 한국 소비자원의 역할이다.

15

일상생활에서 인권이 보장되도록 하기 위해서는 나와 다른 사람이 가지는 권리의 소중함을 인식하고, 주변에서 인권이 침해되는 상황은 없는지 관심을 가져야 한다. 인권 침해를 당한 경우 정당한 권리 회복을 위해 노력해야 한다.

16

제시된 노동법은 헌법에 의거하여 경제적 약자의 위치에 있는 근로자의 권리를 보호하는 데 목적이 있다.

17

(가) 근로자가 노동조합을 통해 사용자와 근로 조건을 협의할 수 있는 권리는 단체 교섭권이다. (나) 근로자가 노동조합을 결성할 수 있는 권리는 단결권이다.

18

ㄱ. 근로 계약서를 작성하지 않는 것은 노동권 침해에 해당한다. ㄷ, ㄹ. 노동조합 가입이나 파업을 이유로 불이익

우공비 Note

해결의 실마리

(가) 인종에 따른 차별



평등권 침해

(나) 쾌적한 환경에서 생활할 권리 침해



사회권 침해

해결의 실마리

- 근로의 권리
- 사회 보장을 받을 권리



사회권

노동법

- 근로 기준법: 근로 조건의 최저 기준 제시
- 최저 임금법: 임금의 최저 수준을 보장할 것을 규정
- 노동조합 및 노동관계 조정법: 노동 3권을 구체적으로 보장할 목적으로 노동조합과 사용자의 노사 관계를 규율

을 주는 것은 노동 3권을 침해하는 부당 노동 행위이다.

오답풀이 ㄴ. 휴일에 업무를 쉬도록 하는 것은 근로자의 인간다운 생활을 위한 조치로, 노동권 침해에 해당하지 않는다. ㄷ. 최저 임금은 법으로 정한 것으로, 청소년도 성인과 마찬가지로 동일하게 적용받도록 하고 있으며, 이는 노동권 침해에 해당하지 않는다.

19

헌법과 법률에 보장된 근로자의 권리를 부정하는 근로 계약은 효력이 없다. ㄱ. 근로 장소와 근로 시간이 명시된 것으로, 8시간의 근무 시간과 1시간의 휴게 시간은 법적으로 문제가 없다. ㄴ. 법으로 정해진 최저 임금액 미만의 임금을 지급하는 것은 노동권을 침해하는 것이다.

오답풀이 ㄷ. 육아 휴직을 이유로 해고하는 것은 부당 해고에 해당한다. ㄹ. 노동조합 가입을 이유로 불이익을 주는 것은 사용자가 근로자의 노동 3권을 침해하는 것으로 부당 노동 행위에 해당하며, 법에 어긋난다.

20

갑은 부당 해고를 당하였다. 부당 해고는 노동 위원회에 구제를 신청하거나 법원의 재판을 통해 구제받을 수 있다. 만약 불가피한 사유로 해고를 하는 경우라도 사용자는 적어도 30일 이전에 해고 계획을 알려야 하고, 문서를 통해 해고 사유와 시기를 알려야 한다.

21

예시답안 사회권 / 국가에 대하여 인간다운 생활의 보장을 요구할 수 있는 권리이다.

채점 기준	등급	평가 기준
	상	사회권이라고 쓰고, 그 의미를 옳게 서술한 경우
	하	사회권이라고만 쓴 경우

22

예시답안 법원의 민사 재판을 통해 피해를 보상받을 수 있다. 또 소설을 저작권자의 허락 없이 무단 공유하는 행위는 범죄에 해당하므로 형사 재판을 통해 처벌받도록 할 수도 있다.

채점 기준	등급	평가 기준
	상	‘민사 재판’, ‘형사 재판’이라는 용어를 사용하여 법원을 통해 구제받을 수 있다는 내용을 서술한 경우
	하	법원의 재판을 통해 구제받을 수 있다고만 서술한 경우

23

예시답안 단체 교섭권에 따른 협의가 원만하게 이루어지지 않았으므로 노동조합은 단체 행동권에 따라 파업과 같은 쟁의 행위를 할 수 있다.

채점 기준	등급	평가 기준
	상	‘단체 행동권’에 따라 ‘쟁의 행위’를 할 수 있다는 내용을 서술한 경우
	하	단체 행동권을 행사할 수 있다고만 서술한 경우

II 헌법과 국가 기관

필수 문제로 학교 시험 대비하기

▶ 시험대비서 10~13쪽

- ① 국회 ② 비례 대표 국회의원 ③ 위원회 ④ 국정 감사권
⑤ 행정부 ⑥ 대통령 ⑦ 국무 회의 ⑧ 법원(사법부)
⑨ 대법원 ⑩ 헌법 소원 심판

- 01 ② 02 ④ 03 ③ 04 ④ 05 ② 06 ① 07 ③
08 ④ 09 ③ 10 ④ 11 ⑤ 12 ④ 13 ② 14 ③
15 ⑤ 16 ④ 17 ③ 18 ④ 19 ⑤ 20 ⑤

01

입법은 국회에서 법률을 제정하는 것, 행정은 행정부에서 법률을 집행하는 것, 사법은 법원에서 법률을 적용하는 것을 말한다.

02

제시된 사진은 국회 의사당의 모습이다. 국회는 국민의 대표 기관이며, 법률을 제정하거나 개정하는 입법 기능을 한다. 또한 정부가 마련한 예산안을 심의하고 확정하는 권한을 갖고 있으며, 행정부와 사법부를 견제하기도 한다. ④ 국가의 주요 정책을 실행하는 것은 행정부의 역할이다.

03

국회의원에는 각 지역의 최다 득표자를 선출하는 지역구 의원과 정당별 득표율에 비례하여 선출하는 비례 대표 의원이 있다. ③ 지역구 의원은 과반수의 지지를 얻어야 당선되는 것이 아니라, 후보자 중 가장 많은 득표를 한 사람이 선출된다.

04

상임 위원회를 두어 본회의에 앞서 법률안이나 예산안 등을 미리 심사하도록 하고, 교섭 단체를 두어 국회의원들의 의사를 사전에 조정하도록 하는 이유는 국회의 효율적인 운영을 위해서이다.

05

국민의 직접 선거를 통해 선출되는 국회의원의 임기는 4년이다.

오답풀이 ① 국회가 구성되면 국회의원 중에서 국회 의장 1명과 부의장 2명을 선출한다. ③ 국회의 회의는 공개하는 것이 원칙이다. ④ 매년 1회 정기적으로 열리는 것은 정기회이다. 임시회는 필요에 따라 수시로 열린다. ⑤ 국회에서 안건을 최종적으로 결정하는 곳은 본회의이다. 국무 회의는 행정부의 최고 심의 기관이다.

06

국회는 법률을 제정하거나 개정하고, 헌법 개정안을 제안하고 의결하는 입법 권한을 가진다.

국회의 일반 국정에 관한 권한

- 국정 감사 및 국정 조사권
- 헌법 기관 구성원의 임명에 대한 동의권
- 탄핵 소추 의결권

국회

- 의미: 국회의원들이 모여 법률 만들고 국가의 주요 의사를 결정하는 국가 기관
- 위상: 국민의 대표 기관, 입법 기관, 국가 권력의 견제 기관

대통령의 헌법 기관 구성권과 공무원 임면권

- 헌법 기관 구성권: 국가 원수로서의 지위에서 헌법 재판소장, 대법원장, 대법관 등을 임명할 수 있는 권한
- 공무원 임면권: 행정부 수반으로서의 지위에서 국무총리, 행정 각부의 장 등을 임명하고 해임할 수 있는 권한

국회의 입법에 관한 권한

- 법률 제정 및 개정권
- 헌법 개정안 제안 및 의결권
- 조약 체결에 대한 동의권

오답풀이 ㄷ. 정부가 편성한 예산안을 심의하고 확정하는 것은 국회의 재정에 관한 권한에 해당한다. ㄹ. 국정을 제대로 운영하고 있는지 국정 감사를 실시하는 것은 국회의 일반 국정에 관한 권한에 해당한다.

07

상임 위원회의 심의를 거친 법률안은 본회의에서 질의와 토론을 거쳐, 재적 의원 과반수의 출석과 출석 의원 과반수의 찬성으로 의결된다.

08

정부가 체결한 조약에 대한 동의권을 행사하는 것은 국회의 입법에 관한 권한에 해당한다.

09

행정부에서는 국민의 복리 증진을 위해 국회가 제정한 법률을 집행하고 각종 정책을 만들어 실행한다.

10

(가)는 대통령, 국무총리, 국무 위원으로 구성되는 국무 회의로, 행정부의 중요한 안건을 심의한다. (나)는 행정부의 최고 감사 기관인 감사원으로, 공무원이나 행정 기관이 직무를 바르게 수행하는지 감찰하고, 국민이 낸 세금이 제대로 쓰이는지 검사한다.

11

장관은 행정 각부의 장으로, 자신이 맡은 부서의 업무를 지휘하는 역할을 하며, 국무 위원으로 국무 회의에 참석하여 국정에 관한 의견을 제시하기도 한다.

오답풀이 ①은 국무총리, ②는 감사원, ③은 헌법 재판소, ④는 대통령의 역할이다.

12

국가 원수로서 대통령은 외국에 대하여 국가를 대표할 자격을 지닌다. 이러한 지위에서 긴급 명령을 내릴 수 있고, 대법원장 임명, 국민 투표 시행, 헌법 개정안 발의 등을 할 수 있다. ④ 공무원을 임명하거나 해임할 수 있는 권한은 행정부 수반으로서의 권한에 해당한다.

13

행정부 최고 책임자로서의 자격을 갖는 것은 대통령의 행정부 수반으로서의 지위를 나타낸다. 법률안 거부권을 행사하는 것, 국무 회의에서 의장이 되어 국가의 주요 정책을 최종적으로 결정하는 것은 대통령의 행정부 수반으로서의 권한에 해당한다.

오답풀이 ㄴ, ㄹ은 대외적으로 국가를 대표하는 국가 원수로서 대통령이 갖는 권한에 해당한다.

14

대통령은 국회의 동의를 얻어 헌법 재판소장, 대법원장, 대법관, 감사원장 등을 임명하여 헌법 기관을 구성할 수

있다. 또한 국무총리, 국무 위원, 행정 각부의 장(장관) 등을 임명하여 행정부를 구성할 수 있다. ③ 국회 의장은 국회의원 중에서 재적 의원 과반수의 득표를 얻어 선출한다.

15

제시문에는 소년 보호 사건의 1심 재판이 나타나 있다. ⑤ 가정 법원에서는 소년 보호 사건과 이혼, 양자, 상속 등의 가사 사건을 담당한다.

16

행정 기관이 내린 영업 정지 처분의 취소와 같이 행정 관련 사건을 담당하는 법원은 행정 법원이다.

오답풀이 ㄹ ①의 사례는 대법원, ②의 사례는 가정 법원, ③의 사례는 고등 법원, ⑤의 사례는 특허 법원이 담당한다.

17

법원은 재판을 담당하고, 재판을 진행하는 과정에서 관련 법률이 헌법에 위반되는지가 문제가 된 경우 헌법 재판소에 위헌 법률 심판을 제청한다. 또한 부동산에 대한 권리 관계를 기록한 공적 문서인 등기에 관한 업무, 국민의 가족 관계를 기록한 공적 문서인 가족 관계 등록부에 관한 업무 등도 한다. ③ 출생 신고 접수는 동 주민 센터, 구청 등의 행정 기관에서 처리한다.

18

헌법 재판소는 사법부와는 별도로 독립된 국가 기관이며, 헌법을 수호하고 국민의 기본권을 보장한다.

오답풀이 ㄱ. 헌법을 제정하는 주체는 국민이다. 헌법 재판소는 법률이 헌법에 위반되는지 여부를 심판하는 역할을 한다. ㄴ은 법원의 역할이다.

19

법률이나 국가 권력에 의해 기본권을 침해당한 국민이 직접 요청할 경우 헌법 재판소가 그 위헌 여부를 심판하는 것을 헌법 소원 심판이라고 한다.

문제자료 뜯어보기

친일 반민족 행위자의 후손들이 친일파가 취득한 재산을 국가가 환수하도록 한 특별법에 관해 (㉠)을 청구하였다. 헌법 재판소는 이 특별법은 3·1 운동의 헌법 이념을 구현하기 위한 법이라고 판단하여 국가가 친일 반민족 행위자의 재산을 환수하는 것은 헌법에 위반되지 않는다는 결정을 내렸다.

→ 친일 반민족 행위자의 후손들은 헌법 소원 심판을 통해 국가가 환수한 친일 재산을 돌려받으려고 했지만 헌법 재판소가 친일 재산 몰수 규정이 헌법에 위반되지 않는다는 합헌 결정을 내림으로써 그들은 목적을 달성하지 못했어요.

20

(가)는 재판에 적용되는 법률이 헌법에 위반되는지 여부를 판단하는 위헌 법률 심판이다. (나)는 국가 기관 사이의 권한과 관련한 분쟁을 해결하는 권한 쟁의 심판이다.

법원의 조직과 기능

- 대법원: 최종심 담당
- 고등 법원: 1심 판결에 불복하여 항소한 사건(2심) 담당
- 지방 법원: 주로 민사 또는 형사 사건의 1심 담당
- 특허 법원: 특허권 관련 사건 담당
- 가정 법원: 가사 사건, 소년 보호 사건 담당
- 행정 법원: 행정 사건 담당

국회의원

- 지역구 국회의원: 각 지역구의 최고 득표자 선출
- 비례 대표 국회의원: 각 정당의 득표율에 비례하여 선출

국회의 재정에 관한 권한

- 예산안 심의 및 확정권: 행정부에서 편성한 예산안을 심의하여 우선순위와 내용을 확정함
- 결산 심사권: 행정부가 예산을 합리적으로 집행했는지 심사함

실전 문제로 등급 올리기

▶ 시험대비서 14~17쪽

01 ② 02 ⑤ 03 ① 04 ⑤ 05 ⑤ 06 ④ 07 ②
08 ⑤ 09 ④ 10 ② 11 ④ 12 ⑤ 13 ③ 14 ④
15 ③ 16 ③ 17 ⑤ 18 ④ 19 ③ 20 ① 21 해설
참조 22 해설 참조 23 해설 참조

01

국민이 선거를 통해 선출한 대표로 구성된 국가 기관은 국회이다. 국회는 법률을 만드는 입법 기관이자 다른 국가 기관을 견제하는 국가 권력의 견제 기관이다.

오답풀이 ㄴ은 행정부, ㄷ은 법원의 역할이다.

02

입법권은 국회에 속하며, 국회는 민주 선거의 4대 원칙에 따라 선출된 국회의원으로 구성된다.

03

법률을 제정하거나 개정하는 것은 국회가 가진 입법에 관한 권한이다.

04

밀줄 친 부분의 과정에 따라 뽑는 국회의원은 비례 대표로, 정당별 득표율에 비례하여 당선자가 결정된다. 비례 대표 국회의원을 뽑는 이유는 지역구 국회의원을 뽑을 때 최고 득표자만이 당선되어 사표가 발생하는 한계를 극복하고 국민의 다양한 의견을 반영하기 위함이다.

오답풀이 ㄱ. 비례 대표 국회의원을 뽑기 위한 투표이다. ㄴ. 정당별 득표율에 따라 당선자가 결정되므로 무소속 후보자에게 유리한 선출 방법이 아니다.

05

위원회는 국회의 효율적인 의사 진행을 위해 본회의에 앞서 법률안, 예산안 등을 미리 심사하는 조직이다.

06

국회의원 10인 이상 또는 정부가 법률안을 국회에 제출하면, 그 법률안과 관련된 상임 위원회에서 법률안을 전문적으로 심사한 후 본회의에 상정한다. 본회의에서는 재적 의원의 과반수가 출석하고 출석 의원 과반수가 찬성할 경우 법률안이 의결된다. 의결된 법률안은 정부로 보내져 대통령이 공포함으로써 확정된다. 만약 법률안에 이의가 있을 경우 대통령은 법률안 거부권을 행사할 수도 있다.

07

예산안을 심의하고 확정하는 것은 국회의 재정에 관한 권한이다. ①, ③, ④, ⑤는 국회의 일반 국정에 관한 권한이다.

08

제시문이 설명하는 국가 기관은 행정부이다. 행정부는 국

방, 치안, 복지 등 다양한 분야별로 정책을 수립하고 실행하는 역할을 담당한다. ⑤는 법원이 하는 활동이다.

09

㉠은 감사원이다. 감사원은 대통령 직속 기관이지만 업무 상으로는 독립된 행정부의 최고 감사 기관으로, 공무원의 직무를 감찰하고 국가의 세입·세출의 결산을 검사한다.

10

국무총리는 대통령을 도와 행정 각부를 총괄한다. 구체적인 행정 사무를 처리하는 것은 행정 각부이다.

11

행정 각부 중 보건 복지부는 국민의 건강과 보건, 복지, 사회 보장 등 삶의 질 향상을 위한 일을 한다.

12

그림의 A는 대통령이다. ⑤ 대통령은 외국에 대하여 우리나라를 대표하는 국가 원수로서의 지위를 갖고, 외국과 조약을 체결할 수 있는 권한이 있다.

오답풀이 ① 대통령은 국민의 직접 선거를 통해 선출된다. ② 우리나라 대통령의 임기는 5년이며, 중임할 수 없다. ③ 대통령은 국가가 의결한 법률안에 이의가 있을 경우 재의결을 하도록 요구하는 법률안 거부권을 통해 국회를 견제할 수 있다. ④ 대통령은 헌법 재판소장을 임명할 수 있다. 헌법 재판소장의 임명에 대한 동의권은 국회의 권한이다.

13

대통령은 행정부 수반으로서 국무 회의의 의장이 되어 주요 정책을 심의하고, 대통령령 제정, 공무원 임면, 법률안 거부 등을 할 수 있다. 또한 대통령은 국가 원수로서 긴급 명령과 계엄 선포, 국민 투표 시행, 헌법 기관 구성, 조약 체결, 외교 사절 신임·접수·파견 등을 할 수 있다.

14

제시문에는 대통령이 국회에서 통과된 법률안에 대해 거부권을 행사한 사례가 나타나 있다.

15

재판은 외부의 영향을 받지 않고 법관이 헌법과 법률에 의해 양심에 따라 독립하여 판결할 수 있어야 한다.

16

ㄴ, 고등 법원은 1심 판결에 대한 항소 사건을 재판한다. 즉, 2심을 담당한다. ㄷ, 시장의 처분에 대한 취소는 행정 사건이고, 그 1심은 행정 법원에서 담당한다.

오답풀이 ㄱ, 법률이 헌법에 위반되는지 여부를 심판하는 위헌 법률 심판은 법원의 제청에 의해 헌법 재판소에서 이루어진다. 대법원은 최종심, 즉 고등 법원과 특허 법원의 판결에 불복하여 상고한 사건을 담당한다. ㄴ, 특허 법원은 고등 법원과 동급이다. 특허 법원의 재판 결과에 불복할 경우 대법원에 재판을 요구한다.

해결의 실마리

행정부의 최고 책임자



대통령



- 국가 원수로서의 지위
- 행정부 수반으로서의 지위

법률안 거부권

- 대통령이 국회에서 의결하여 정부로 이송된 법률안에 이의가 있을 경우, 국회로 되돌려 보내 재의결을 하도록 요구하는 것
- 행정부가 입법부를 견제하는 권한

해결의 실마리

㉠ 기본권을 침해당한 국민이 청구함



헌법 소원 심판

㉡ 법원에 제청함



위헌 법률 심판

17

제시문에는 특허권과 관련한 사건이 나타나 있고, 이와 관련한 1심 재판은 특허 법원에서 담당한다.

18

정당 해산 심판을 담당하는 A는 헌법 재판소이다. 헌법 재판소는 헌법 재판을 통해 헌법 질서를 보호한다.

오답풀이 ① 헌법 재판소는 독립된 국가 기관이다. ②, ⑤는 대법원에 대한 설명이다. ③ 헌법 재판소는 9명의 재판관으로 구성된다. 이들은 대통령이 임명하는데, 이 중 3명은 국회에서 선출한 사람을, 3명은 대법원장이 지명한 사람을 임명한다.

19

헌법 재판소는 국가 기관 사이에 권한 다툼이 발생했을 때, 이를 해결하는 권한 쟁의 심판을 담당한다.

20

제시된 그림은 고위 공무원이 직무상 헌법이나 법률을 위반하여 국회가 탄핵 소추를 의결하였을 때 헌법 재판소가 파면 여부를 결정하는 탄핵 심판과 관련 있다.

21

예시답안 국회는 국가 권력의 견제 기관으로, 행정부를 비롯한 다른 국가 기관을 감시하고 비판함으로써 국가 권력의 남용을 방지한다.

채점 기준	등급	평가 기준
	상	국가 권력의 견제 기관이라고 쓰고, 다른 국가 기관을 견제하여 국가 권력의 남용을 방지한다고 서술한 경우
	하	국가 권력의 견제 기관이라고만 쓴 경우

22

예시답안 (가) 공무원 임면권, (나) 계엄 선포권 / (가)는 대통령의 행정부 수반으로서의 지위와 관련된 권한이며, (나)는 대통령의 국가 원수로서의 지위와 관련된 권한이다.

채점 기준	등급	평가 기준
	상	(가와 나)에 해당하는 권한을 쓰고, 각 권한과 관련 있는 대통령의 지위를 옳게 서술한 경우
	하	(가와 나)에 해당하는 권한과 각 권한과 관련 있는 대통령의 지위 중 한 가지만 옳게 서술한 경우

23

- (1) ㉠ 헌법 소원 심판, ㉡ 위헌 법률 심판
(2) **예시답안** ㉠은 국민이 공권력에 의해 침해당한 기본권의 구제를 청구하면, 헌법 재판소가 공권력의 위헌 여부를 심판하는 것이다. ㉡은 법원이 재판의 전제가 된 법률이 헌법에 어긋나지를 심사해 달라고 제청하면, 헌법 재판소가 그 법률의 위헌 여부를 심판하는 것이다.

채점 기준	등급	평가 기준
	상	㉠과 ㉡의 의미를 모두 옳게 서술한 경우
	하	㉠과 ㉡의 의미 중 한 가지만 옳게 서술한 경우

III

경제생활과 선택

필수 문제로 학교 시험 대비하기

▶ 시험대비서 18~21쪽

- ① 재화 ② 생산 ③ 자원의 희소성 ④ 기회비용
⑤ 시장 경제 체제 ⑥ 기업 ⑦ 기업가 정신 ⑧ 유동성
⑨ 채권 ⑩ 신용

01 ⑤ 02 ④ 03 ③ 04 ③ 05 ③ 06 ② 07 ④
08 ③ 09 ③ 10 ① 11 ⑤ 12 ⑤ 13 ④ 14 ④
15 ④ 16 ① 17 ⑤ 18 ② 19 ③ 20 ①

01

제시문의 밑줄 친 ‘이것’은 서비스이다. ⑤ 택배 기사 물건의 배달은 인간의 필요와 욕구를 충족해 주는 인간의 가치 있는 행위이므로 서비스에 해당한다.

오답풀이 ①, ②, ③, ④는 형태가 있는 물건이므로 재화에 해당한다.

02

분배 활동은 생산 활동에 참여한 대가를 받는 것으로, 은행에서 이자를 받는 것은 분배에 해당한다.

오답풀이 ①, ②는 생산 활동, ③, ⑤는 소비 활동에 해당한다.

03

A에는 기업이 가게에 지급하는 임금, 지대, 이자가 들어간다. 이것들은 가게가 기업에 제공한 노동, 토지, 자본의 대가이다. B에는 기업이 가게에 제공하는 상품, 즉 재화와 서비스가 들어가야 한다. ③ 임금은 가게가 기업에 노동을 제공하면 그 대가로 기업이 가게에 지급하는 것이므로 A에 해당한다.

04

㉠은 자원의 희소성이다. ㉡, 인간의 욕구에 비해 자원의 양이 상대적으로 부족하기 때문에 경제 문제가 발생하게 된다. ㉢, 희소성에 따라 가격이 결정된다. 어떤 재화의 희소성이 크다는 것은 상대적으로 그것을 원하는 사람이 많음을 의미하므로, 희소성이 큰 재화는 높은 가격에 거래될 것이다.

오답풀이 ㉠, 희귀한 재화라도 사람들의 욕구가 없다면 희소성이 없다. ㉢, 같은 재화라도 희소성은 시대와 장소 등에 따라 달라질 수 있다.

05

기회비용은 어떤 것을 선택함으로써 포기한 대안 중 가장 가치가 큰 것을 말한다. ③ 운동을 선택함으로써 독서와 사진 촬영을 포기하였는데, 포기한 두 대안 중 만족감이 큰 것은 사진 촬영이므로 기회비용은 사진 촬영의 만족감인 8,000원이다.

합리적 선택

- 비용(기회비용) 최소화, 편익 최대화
- 동일한 비용일 때 편익이 가장 큰 것 선택
- 동일한 편익일 때 비용이 가장 적은 것 선택

06

합리적 선택은 최소의 비용으로 최대의 편익을 얻을 수 있도록 선택하는 것이다. ② 편익이 기회비용보다 커야 하고, 기회비용이 최소화되게 선택해야 합리적 선택이다.

07

소비에서의 합리적 의사 결정 과정은 문제 인식 → 대안 탐색 → 대안 평가 → 대안 선택 → 평가 및 반성의 순서로 이루어진다.

08

A에는 경제 문제가 발생하는 원인인 자원의 희소성이 들어가야 한다. ㉠은 생산물의 종류와 수량을 결정하는 문제이고, ㉡은 생산 방법을 결정하는 문제, ㉢은 분배를 결정하는 문제이다. ③ 생산 설비의 도입을 결정하는 것은 ㉠과 관련 있다.

09

계획 경제 체제는 국가의 계획과 명령에 의해 경제 문제를 해결하는 경제 체제이다. ③ 자원의 효율적 배분이 가능한 것은 시장 경제 체제이다.

10

제시문은 시장 경제 체제에 대한 설명이다. 시장 경제 체제는 개인의 자유로운 경제 활동을 보장하므로 개인의 능력 차이에 따라 빈부 격차가 심해질 수 있고, 개별 경제 주체가 지나치게 이익을 추구하는 과정에서 환경 오염이 심해질 수 있다.

오답풀이 ㉡, ㉢은 계획 경제 체제의 문제점에 해당한다.

11

기업은 이윤 획득을 목적으로 재화와 서비스를 생산하는 경제 주체로, 가게가 제공하는 노동, 자본 등을 사용하고 그 대가를 지급함으로써 가게에 일자리와 소득을 제공한다. 또한 정부에 세금을 납부하여 정부의 재정에 기여하며, 기술 혁신을 위한 연구 개발 투자 등으로 경제 성장을 촉진하기도 한다. ⑤ 생산 활동에 참여한 대가로 임금, 이자 등을 받는 경제 주체는 가게이다.

12

자연 친화적 방식으로 인체에 무해한 신발을 생산함으로써 자연 보호와 소비자의 권익 보호에 힘쓰고, 아프리카 지역에서의 기부를 통해 사회 공헌 활동을 하는 것은 기업이 사회적 책임을 실천한 사례이다.

13

A 전자 회사는 새로운 제품 개발, B 화장품 회사는 새로운 시장 개척을 통해 경제적 성공을 거두었다. 두 기업의 성공 요인은 기업이 정신에서 찾을 수 있다. 기업이 정신이란 혁신과 창의성을 바탕으로 한 생산 활동을 통해 기업을 성장시키려는 도전 정신을 말한다.

분배 활동의 사례

- 노동을 제공한 대가로 임금(월급, 상여금, 성과급) 등을 받는 것
- 자본을 제공한 대가로 이자를 받는 것
- 토지를 제공한 대가로 지대를 받는 것

해결의 실마리

- 자연은 물론 소비자에게도 무해한 상품을 생산함
- 기부 활동을 함

기업이 이윤 극대화에 치중하는 것이 아니라 사회적 의무를 충족하는 방향으로 활동하고 있음

기업의 사회적 책임 실천

14

제시된 내용은 중장년기와 관련 있다. 중장년기는 경제 활동을 왕성하게 하는 시기로, 일생 중 소득이 가장 많다.

15

주식에 투자한 주주는 보유한 주식만큼 회사의 지분을 소유하고, 기업의 경영 실적에 따라 배당금을 받게 된다. 하지만 투자한 기업의 경영 실적이 나쁘거나 기업이 파산하면 투자한 원금을 잃을 위험이 있다.

16

안전성은 투자한 원금과 이자가 손실되지 않는 정도이고, 유동성은 보유한 자산을 쉽게 현금으로 바꿀 수 있는 정도이며, 수익성은 투자를 통해 이익을 얻을 수 있는 정도이다. 따라서 (㉠)은 안전성, (㉡)은 유동성, (㉢)은 수익성이 적절하다. 입출금이 자유로운 예금은 안전성과 유동성이 높고, 수익성은 낮은 자산이다.

17

(㉠)은 저수익·저위험 자산이고, (㉡)은 고수익·고위험 자산이다. ⑤ 수익성이 높은 자산은 위험도 높아 안전성이 낮다.

오답풀이 ① (㉠)에는 예금, 적금 등이 들어가야 한다. ② (㉡)에는 주식, 펀드 등이 들어가야 한다. ③ 투자를 할 때에는 안전성, 수익성 등을 모두 고려하여 (㉠)과 (㉡)에 적절히 분산 투자하는 것이 합리적이다. ④ 노년기에 위험성이 높은 자산의 비중을 늘리는 것은 적절하지 않다.

18

합리적 자산 관리를 위해서는 저축이나 투자의 목적과 기간을 명확하게 설정하고, 안전성, 수익성, 유동성 등을 모두 고려해야 한다.

오답풀이 ㄴ. 다양한 자산에 분산 투자해야 투자금 손실의 위험을 줄일 수 있다. ㄹ. 수익성이 높은 상품은 대부분 위험성이 높은 편이다.

19

신용은 사람의 경제적 지불 능력이나 지불 능력에 대한 사회적 평가를 말한다. ③ 미래의 소득이나 지불 능력을 고려하여 신용을 이용해야 한다.

20

원활한 경제생활을 하고 신용도가 떨어지지 않도록 하기 위해서는 자신의 소득 수준이나 지불 능력 등을 고려하여 지출하고, 공과금, 결제 대금, 휴대 전화 요금 등을 연체하지 않도록 해야 한다.

오답풀이 ㄴ. 당장 필요하지 않은데 저렴하다고 해서 대량으로 구매하다 보면 자신의 소득을 넘어선 소비로 이어질 수 있고, 이를 갚을 여력이 없으면 문제가 된다. ㄹ. 신용 카드 할부 서비스의 경우 이자가 발생할 수 있고, 할부 서비스로만 구매하다 보면 갚아야 할 결제 대금이 늘어 경제적 부담이 커질 수 있다.

주식

- 주식회사가 자금을 마련하기 위해 투자자로부터 돈을 받고 발행한 증서
- 수익성은 높고 안전성은 낮음
- 배당금, 시세 차익을 얻을 수 있음

해결의 실마리

(㉠): 기대 수익률이 낮고 위험도 낮음



수익성이 낮고 안전성이 높음



예금, 적금 등

(㉡): 기대 수익률이 높고 위험도 높음



수익성이 높고 안전성이 낮음



주식, 펀드 등

해결의 실마리

편익(예상 수입)

- 골: 500만 원
- 딸기: 700만 원
- 사과: 1,000만 원



기회비용(선택으로 포기하는 대안 중 가장 가치 가 큰 것)

- 골: 1,000만 원
- 딸기: 1,000만 원
- 사과: 700만 원



편익이 가장 크고, 기회비용이 가장 적은 사과를 재배하는 것이 합리적 선택임

실전 문제로 등급 올리기

▶ 시험대비서 22~25쪽

01 ⑤ 02 ③ 03 ① 04 ④ 05 ⑤ 06 ⑤ 07 ①
08 ③ 09 ④ 10 ① 11 ③ 12 ② 13 ③ 14 ③
15 ② 16 ④ 17 ② 18 ① 19 ④ 20 ③ 21 해설
참조 22 해설 참조 23 해설 참조

01

⑤ ⑩은 재화로, 인간의 욕구를 충족해 주는 구체적인 형태가 있는 물건이다.

02

(㉠)은 생산 활동에 참여한 대가를 받은 것이므로 분배에 해당한다. (㉡)은 서비스를 구입하여 사용하는 것이므로 소비에 해당한다.

03

가계는 생산 요소인 노동, 토지, 자본을 기업에 제공하고 소득을 얻는다.

04

자원의 희소성은 인간의 필요와 욕구에 따라 달라질 수 있는 상대적인 개념이다.

오답풀이 ① 냉장고의 수가 적어도 그것을 필요로 하는 사람이 없다면 냉장고의 희소성은 없다. ② 자원의 희소성은 지역에 따라 달라질 수 있다. ③ 자원의 희소성은 자원의 절대적인 양이 아니라 인간의 필요와 욕구에 따라 결정된다. ⑤ 더운 지역의 냉장고가 추운 지역의 냉장고보다 더 희소한 자원이다.

05

A 씨가 여행을 갈 경우 여행 경비 200만 원과 5일간의 분식점 영업을 통해 벌 수 있는 돈 100만 원을 포기해야 한다. 따라서 A 씨가 여행을 가는 것에 대한 기회비용은 이 둘을 합한 300만 원이다.

06

⑤ 골을 재배하는 것에 대한 기회비용은 사과를 재배했을 때의 예상 수입인 1,000만 원이다.

오답풀이 ① 각 과일의 재배 비용은 모두 동일하므로 예상 수입(편익)이 가장 큰 사과를 재배하는 것이 가장 합리적이다. ② 딸기를 재배할 때의 기회비용은 사과를 재배할 때의 예상 수입인 1,000만 원이다. ③ 편익이 큰 순서대로 나열하면 사과>딸기>골이다. ④ 사과를 재배하는 것에 대한 기회비용은 딸기를 재배할 때의 예상 수입인 700만 원이고, 골을 재배하는 것에 대한 기회비용과 딸기를 재배하는 것에 대한 기회비용은 각각 1,000만 원이다.

07

(㉠)은 대안 탐색 단계로, 이 단계에서는 인터넷이나 주변

사람들 등을 통해 선택할 수 있는 다양한 대안을 찾아본다.
오답풀이 < ②는 대안 선택 단계, ③은 문제 인식 단계, ④는 평가 및 반성 단계, ⑤는 대안 평가 단계에 해당한다.

08

제시문에는 어떤 음식을 판매할 것인지를 고민하는 내용이 나타나 있는데, 이는 '무엇을 생산할 것인가', 즉 생산물의 종류와 관련된 경제 문제이다.

09

기계를 들일지 직원을 늘릴지 고민하는 것은 생산 방법의 문제로, '어떻게 생산할 것인가'와 관련 있다.

오답풀이 < ① (가)는 분배의 문제이다. ② (나)는 생산 방법의 문제이다. ③ 갑은 '누구를 위하여 생산할 것인가'를 고민하고 있다. ⑤ 갑과 을 모두 이윤 획득을 목적으로 한다.

10

제시된 그림은 시장 경제 체제를 나타낸다. 시장 경제 체제에서는 개인의 자유로운 경제 활동이 보장되고, 시장 가격에 기초하여 경제 문제가 해결된다.

오답풀이 < 다, 큰 계획 경제 체제에 대한 설명이다.

11

제시문은 계획 경제 체제에서 나타나는 자원 배분의 비효율성을 보여 준다. 국가가 사람들의 다양한 욕구를 모두 파악하여 생산량과 소비량을 결정하는 것은 현실적으로 불가능하다.

12

우리나라는 시장 경제 체제를 기본으로 하면서 정부가 경제에 일정 부분 개입하는 혼합 경제 체제를 채택하고 있다. 따라서 경제 문제는 시장 가격에 의해 해결된다.

13

환경 보호 활동, 사회적 취약 계층을 돕는 활동 등은 공통적으로 기업의 사회적 책임과 관련 있다.

14

기업가 정신은 혁신과 창의성을 바탕으로 기업을 성장시키려는 것으로, 새로운 상품이나 기술 개발, 새로운 시장 개척, 새로운 경영 조직의 도입 등이 이에 부합한다.

오답풀이 < 나, 제품의 수요가 늘어 생산량을 늘리는 것은 기업의 일반적인 경제 활동이다. 큰 새로운 상황에 진취적으로 대응하는 기업가 정신과 거리가 멀다.

15

밑줄 친 '이것'은 채권이다. 채권은 이자 수익과 시세 차익을 얻을 수 있다.

16

수익성은 주식>채권>예금이고, 안전성은 예금>채권>주식이다. 예금은 부동산에 비해 유동성이 높다.

계획 경제 체제의 특징과 문제점

- 특징: 정부에 의한 자원 배분, 생산 수단의 국유화, 경제 활동의 자유 제한 등
- 문제점: 비효율적인 자원 배분, 개인의 근로 의욕 저하, 생산성 하락 등

편익과 비용

- 편익: 어떤 것을 선택함으로써 얻게 되는 이익이나 만족감
- 비용: 어떤 것을 선택함으로써 들어가는 돈이나 노력 시간 등

자산 관리의 기본 원칙

- 안전성: 원금이 보장되는 정도
- 수익성: 수익을 얻을 수 있는 정도
- 유동성: 현금화할 수 있는 정도

17

소득을 얻는 기간과 양은 한정되어 있기 때문에 노후 생활이나 미래에 발생할 위험 등에 대비하고 경제적으로 지속 가능한 생활을 유지하기 위해서는 자산 관리가 필요하다.

오답풀이 < 나, 일생 동안 소득과 소비의 규모는 일치하지 않는다. 다, 수익성이 높으면 안전성이 낮으므로 수익성 외에도 안전성, 유동성 등을 고려해야 한다.

18

신용을 사용하면 미래에 갚아야 할 빚이 늘어나 미래의 경제생활에 큰 부담이 될 수 있다.

오답풀이 < ②, ④ 신용을 사용하면 충동구매나 소득 수준을 넘어서는 과소비를 할 우려가 있다. ③ 계획적인 소비는 신용 사용의 문제점으로 볼 수 없다. ⑤ 신용은 현금 없이 상품을 구입할 수 있는 장점이 있다.

19

표에서 체크한 항목이 많을수록 신용도가 낮은 것이다. ㉔은 올바른 신용 관리의 자세이다.

20

(다) 시기는 주택 구입이나 자녀 교육비로 지출이 많지만 수입이 그보다 더 많기 때문에 수입이 지출보다 많다.

21

예시답안 합리적 선택이란 비용과 편익의 크기를 비교하여 최소의 비용으로 최대의 편익을 얻을 수 있도록 선택하는 것을 말한다.

채점기준	등급	평가 기준
	상	합리적 선택이 최소의 비용으로 최대의 편익을 얻는 것이라고 정확하게 서술한 경우
	하	비용보다 편익이 큰 선택이라고만 서술한 경우

22

(1) (가) 가게, (나) 기업, (다) 정부

(2) **예시답안** 이윤 획득을 목적으로 재화와 서비스를 생산한다. 생산 활동을 하면서 가게가 제공하는 노동과 자본을 사용하고, 이 과정에서 고용과 소득을 창출한다. 정부에 세금을 납부하여 정부의 재정에 기여한다.

채점기준	등급	평가 기준
	상	기업의 역할을 세 가지 윗게 서술한 경우
	중	기업의 역할을 두 가지 윗게 서술한 경우
	하	기업의 역할을 한 가지만 윗게 서술한 경우

23

예시답안 분산 투자를 할 경우 어느 한 곳에서 손해를 보더라도 다른 곳에서 그 손해를 보충할 수 있어 좀 더 안정적으로 자산을 운용할 수 있다.

채점기준	등급	평가 기준
	상	분산 투자의 장점을 윗게 서술한 경우
	하	분산 투자의 장점을 썼으나 그 내용이 미흡한 경우

IV 시장 경제와 가격

필수 문제로 학교 시험 대비하기

▶ 시험대비서 26~29쪽

- ① 시장 ② 보이지 않는 시장 ③ 생산 요소 시장
④ 수요 법칙 ⑤ 공급 ⑥ 초과 수요 ⑦ 시장 가격 ⑧ 대체재
⑨ 상승한다. ⑩ 상승한다.

- 01 ① 02 ② 03 ① 04 ③ 05 ③ 06 ④ 07 ③
08 ⑤ 09 ④ 10 ② 11 ② 12 ① 13 ⑤ 14 ②
15 ⑤ 16 ⑤ 17 ③ 18 ③ 19 ③ 20 ①

01

그림의 상황은 물물 교환이 이루어지던 사회의 모습이다.
① 생선은 쉽게 상하기 때문에 물품 화폐로서 사용되기 어렵다. 물품 화폐가 되려면 어느 정도 저장이 가능해야 하며, 운반하기 쉬워야 한다.

02

시장을 통한 교환은 생산자와 소비자 모두에게 이익을 가져다주고, 잉여 생산물을 교환함으로써 자원의 희소성을 감소시킨다.

03

ㄷ. 꽃 직거래 시장은 눈에 보이는 시장이면서 생산물 시장에 속한다. ㄹ. 판매 대상에 따라 도매 시장, 소매 시장으로 구분된다.

04

의류 시장, 곡물 시장, 가구 시장, 농수산물 시장, 청과물 시장은 생산물 시장에 속하고, 외환 시장, 주식 시장, 노동 시장, 부동산 시장, 자본 시장은 생산 요소 시장에 속한다.

05

어떤 상품의 가격이 상승하면 수요량은 감소하고, 가격이 하락하면 수요량은 증가한다. 이를 그래프로 나타내면 우하향하는 모습을 보인다.

오답풀이 ㄱ. 가격과 수요량은 반비례 관계이다. ㄹ. 상품의 가격에 따라 판매량이 변화하는 것은 공급량의 변화이다.

06

공급 법칙은 가격이 오르면 공급량은 증가하고, 가격이 내리면 공급량은 감소하는 것을 말한다. 공급 곡선은 가격과 공급량의 비례 관계를 나타낸 그래프로, 우상향하는 형태를 띤다.

07

수요 곡선상의 점 A에서 점 B로의 이동은 가격 하락으로 인한 수요량의 증가를 나타낸다.

시장 가격의 기능

- 경제 활동의 신호등: 경제 주체에게 경제 활동의 조절 방향을 안내함
- 자원의 효율적 배분: 합리적인 경제 활동을 유도하여 희소한 자원을 효율적으로 배분함

시장의 종류

- 거래 형태에 따른 구분: 보이는 시장, 보이지 않는 시장
- 상품 종류에 따른 구분: 생산물 시장, 생산 요소 시장
- 판매 대상에 따른 구분: 도매 시장, 소매 시장
- 개설 주기에 따른 구분: 상설 시장, 정기 시장

대체재와 보완재

- 대체재: 용도가 비슷하여 서로 대신하여 사용할 수 있는 재화
- 보완재: 함께 사용할 때 만족감이 더욱 커지는 재화

수요 법칙과 공급 법칙

- 수요 법칙: 가격과 수요량은 반비례 관계 → 우하향하는 수요 곡선
- 공급 법칙: 가격과 공급량은 비례 관계 → 우상향하는 공급 곡선

오답풀이 ①은 수요 증가, ②는 가격 상승에 따른 수요량 감소, ④는 가격 하락에 따른 공급량 감소, ⑤는 가격 상승에 따른 공급량 증가에 해당하는 사례이다.

08

시장에서의 균형 가격과 균형 거래량은 수요 곡선과 공급 곡선이 만나는 지점에서 결정된다. ⑤ 다른 변화가 발생하지 않는다면, 15,000원은 계속해서 유지되는 균형 가격이다.

09

균형 가격은 시장에서 수요자와 공급자 간의 자유로운 경쟁을 통해 형성된 가격이며, 시장의 수요량과 공급량이 일치하는 점에서 결정된다. ④ 균형 가격은 수요와 공급이 모두 변동할 때뿐만 아니라 수요와 공급 중 어느 한 가지만 변동하더라도 변할 수 있다.

10

제시문은 시장 가격의 기능 중 생산자와 소비자에게 경제적 의사 결정의 방향을 알려 주는 신호등 역할을 나타낸다.

11

제시문에서 휘발유와 승용차는 함께 쓸 때 만족감이 커지는 보완재 관계이고, 승용차와 자전거는 대신해서 쓸 수 있는 대체재 관계이다. ㄷ. 승용차의 수요가 감소하면 승용차와 대체재 관계인 자전거의 수요가 증가할 수 있다.

오답풀이 ㄴ. ㉠의 가격이 상승하면 ㉡의 수요는 감소한다. ㄹ. ㉡과 ㉢은 대체재 관계이고, 샴푸와 린스는 보완재 관계이다.

12

노트북과 태블릿 PC는 대체재 관계에 있으므로 노트북의 가격이 하락하면 태블릿 PC의 수요는 감소하고, 노트북의 가격이 상승하면 태블릿 PC의 수요는 증가한다. 노트북과 마우스는 보완재 관계에 있으므로 노트북의 가격이 상승하면 마우스의 수요는 감소하고 노트북의 가격이 하락하면 마우스의 수요는 증가한다.

13

제시된 그래프는 설탕의 수요 곡선 자체가 오른쪽으로 이동한 것으로 설탕의 수요 증가를 나타낸다. ⑤ 설탕이 스트레스 해소에 좋다는 연구 결과가 발표되면 설탕의 선호도가 커져 설탕의 수요가 증가하게 된다.

오답풀이 ①, ④는 설탕 공급 증가의 원인이 된다. 설탕의 공급이 증가하면 설탕의 공급 곡선이 오른쪽으로 이동한다. ②, ③은 설탕 수요 감소의 원인이 된다. 설탕의 수요가 감소하면 설탕의 수요 곡선이 왼쪽으로 이동한다.

14

자료에는 ○○전자가 휴대 전화 시장에 새롭게 진출하였다는 내용이 나타나 있다. 이는 휴대 전화의 공급 변동 요인 중 공급자 수가 증가한 사례이다.

15

제시된 상황은 블루베리에 대한 소비자의 기호가 증가하게 하여 수요가 늘어나는 데 영향을 미친다. 수요가 증가하면 수요 곡선이 오른쪽으로 이동하여 블루베리의 균형 가격은 상승한다.

16

어버이날을 앞두고 카네이션의 수요가 증가하면 균형 가격이 상승한다.

오답풀이 ① 카네이션 재배 농가의 수가 늘어나면 공급이 증가하여 균형 가격이 하락한다. ② 중국산 카네이션의 가격이 하락하면 대체재인 국내산 카네이션의 수요가 감소하고, 그에 따라 균형 가격이 하락한다. ③ 카네이션의 생산비가 하락하면 공급이 증가하여 균형 가격은 하락한다. ④ 미래에 카네이션의 가격이 내릴 것으로 예상되면 현재 카네이션의 수요가 감소하여 균형 가격이 하락한다.

17

돼지 사육 기술의 발달, 돼지 사료 가격의 하락은 모두 공급 증가의 요인이다. 공급이 증가하면 균형 가격은 하락하고, 균형 거래량은 증가한다.

18

명절이 다가와 시금치를 구입하는 소비자가 늘면 시금치의 수요가 증가한다. 폭염과 가뭄으로 시금치의 수확량이 줄면 시금치의 공급이 감소한다. 이에 따라 수요 곡선은 오른쪽으로, 공급 곡선은 왼쪽으로 이동하여 균형 가격은 상승하게 된다.

19

살충제 파동으로 달걀 구입을 기피하면 달걀의 수요가 감소하게 된다. 조류 독감이 확산되어 닭, 오리 등이 집단 폐사되면 닭고기와 달걀의 공급이 감소하게 된다. ③ 달걀의 수요와 공급이 모두 감소하므로 달걀의 균형 거래량은 줄어든 것이다.

오답풀이 ① 달걀의 공급이 줄어든 것이다. ② 달걀의 수요가 감소할 것이다. ④ 제시된 현상에 따르면 닭고기의 공급이 감소하므로 공급 곡선이 왼쪽으로 이동하여 균형 가격은 상승할 것이다. ⑤ 달걀 구입을 기피하고 있으므로 달걀을 대체할 다른 상품을 찾는 소비자들이 증가할 것이다.

20

참쌀떡의 재료인 찹쌀가루의 가격이 내리면 찹쌀떡의 공급이 증가하여 공급 곡선(S)은 오른쪽으로 이동한다. 또한 수능 대목으로 찹쌀떡의 수요가 증가하면 수요 곡선(D)은 오른쪽으로 이동한다.

오답풀이 ②는 수요 증가, 공급 감소를 나타낸다. ③은 수요 감소, 공급 증가를 나타낸다. ④는 수요 감소, 공급 감소를 나타낸다. ⑤는 공급은 일정한 상태에서 수요만 증가한 것을 나타낸다.

해결의 실마리

블루베리가 노화 방지와 눈 건강에 도움이 된다는 연구 결과 발표

↓

소비자 기호 증가

↓

수요 증가 요인

↓

수요 곡선의 오른쪽 이동

↓

균형 가격 상승, 균형 거래량 증가

화폐의 발달 과정

물품 화폐 → 금속 화폐 → 지폐 → 신용 화폐 → 전자 화폐

해결의 실마리

참쌀떡의 재료 가격이 하락함

↓

생산비 하락으로 공급 증가

↓

공급 곡선의 오른쪽 이동

↓

수능 대목으로 찹쌀떡의 수요가 증가함

↓

수요 곡선의 오른쪽 이동

실전 문제로 등급 올리기

▶ 시험대비서 30~33쪽

01 ④ 02 ① 03 ① 04 ⑤ 05 ③ 06 ④ 07 ③
08 ③ 09 ⑤ 10 ④ 11 ④ 12 ② 13 ② 14 ④
15 ② 16 ② 17 ④ 18 ① 19 ④ 20 ⑤ 21 해설
참조 22 해설 참조 23 해설 참조

01

수요자와 공급자 사이의 상호 작용을 통해 가격이 형성되고 교환이 이루어지면 시장에 해당한다.

02

ㄷ. 금속 화폐는 대규모의 거래를 하거나 운반하는 데 불편하였기 때문에 지폐를 사용하게 되었다. ㄹ. 오늘날에는 신용 카드의 사용이 보편화되었고, 스마트폰을 사용한 전자 결제도 이루어지고 있다.

03

물물 교환의 불편함을 해결하기 위해 화폐가 등장하였고, 이후 시장이 더욱 활성화되었다.

04

전자 상거래는 거래 장소나 모습이 드러나지 않는 '보이지 않는 시장'에 속한다.

오답풀이 ①, ②, ③, ④는 보이는 시장에 속한다.

05

(가)는 거래 장소나 상품이 눈에 보이는 시장이면서, 생활에 필요한 재화인 쌀이 거래되는 생산물 시장이다. (나)는 거래 모습이 눈에 보이지 않는 시장이면서, 생산 과정에 필요한 자본이 거래되는 생산 요소 시장이다.

06

초과 수요는 수요량이 공급량보다 많은 상태로 소비자가 원하는 양보다 상품이 부족하다. 따라서 초과 수요가 발생하면 수요자들은 상품을 구입하기 위해 경쟁하게 된다.

07

(가)는 가격과 공급량의 비례 관계를 나타낸 공급 곡선이고, (나)는 가격과 수요량의 반비례 관계를 나타낸 수요 곡선이다.

08

식빵의 균형 가격은 4,000원이고 이때의 균형 거래량은 100개이다. 총판매액은 균형 가격과 균형 거래량을 곱한 값으로 400,000원이다.

09

식빵의 가격이 6,000원일 때 수요량은 50개, 공급량은 150개로 100개의 초과 공급이 발생한다.

오답풀이 ①, ④ 초과 공급이 발생하면 공급자들이 상품을 더 많이 팔기 위해 경쟁을 하게 되고 가격은 하락할 것이다. ③ 공급량이 수요량보다 많은 초과 공급 상태이다.

10

가격이 500원일 때 수요량과 공급량은 1,000개로 일치한다. 표시된 면적은 균형 가격과 균형 거래량을 곱한 것이므로, 소비자의 총지출액이자 생산자의 총판매 수입이다.

오답풀이 < ㄱ. 가격이 300원일 때 수요량은 1,500개이고 공급량은 700개로 800개의 초과 수요가 발생한다. ㄴ. 가격이 1,000원일 때는 시장에 물건이 남으므로 공급자 간에 상품을 팔기 위한 경쟁이 이루어진다.

11

가격이 하락하면 소비자들은 소비량을 늘리지만, 생산자들은 생산량을 줄인다. 반면 가격이 상승하면 소비자들은 소비량을 줄이지만, 생산자들은 생산량을 늘린다.

12

수요 곡선이 왼쪽으로 이동한다는 것은 수요가 감소한다는 의미이다. ② 콜라의 가격이 오르면 보완재인 팝콘의 수요는 감소한다.

오답풀이 < ① 팝콘의 가격이 하락하면 수요량이 증가하는데, 이는 수요 곡선상의 점의 이동으로 나타난다. ③, ④는 팝콘의 공급 감소 요인에 해당한다. ⑤는 팝콘의 수요 증가 요인에 해당한다.

13

제시된 내용에서 감자와 버터, 감자와 치즈는 함께 소비될 때 더 큰 만족감을 얻을 수 있는 보완재 관계에 있다. 한편, 버터와 치즈는 용도가 비슷하여 서로 대신하여 사용될 수 있는 대체재 관계에 있다. 버터의 가격이 하락하면 대체재인 치즈의 수요는 감소할 것이고, 감자의 가격이 상승하면 보완재인 버터의 수요는 감소할 것이다.

14

샐러드에 대한 소비자의 선호도가 커지면 샐러드의 수요가 증가한다. 이는 우하향하는 수요 곡선이 오른쪽으로 이동하는 것으로 나타난다.

15

공급은 생산 기술, 생산 요소의 가격, 공급자의 수 등에 따라 변화한다.

오답풀이 < ①, ③, ④, ⑤는 수요 변화 요인에 해당한다.

16

휴대 전화의 원료인 콜탄의 가격이 상승하면 휴대 전화의 생산비가 증가하여 휴대 전화의 공급이 감소하게 된다.

17

제시된 상황에서는 배추의 수요가 증가한다. 공급이 일정한 상태에서 배추의 수요가 증가하면 배추의 수요 곡선이 오른쪽으로 이동하고, 그에 따라 균형 가격은 상승하고 균형 거래량은 증가하게 된다.

해결의 실마리

새로운 균형점의
형성 조건



수요 곡선은 왼쪽 이동,
공급 곡선은 오른쪽 이동



수요 감소 요인과 공급
증가 요인을 찾아야 함

공급의 변화 요인과 수요의 변화 요인

- 공급의 변화 요인
 - 생산 요소 가격 변화
 - 생산 기술의 발달
 - 공급자 수의 변화
 - 공급자의 미래 가격에 대한 예상
- 수요의 변화 요인
 - 가계 소득 변화
 - 소비자의 기호 변화
 - 대체재 및 보완재 가격 변화
 - 인구수 변화
 - 수요자의 미래 가격에 대한 예상

18

국내 커피 시장에서 균형 거래량이 증가하려면 커피의 수요나 공급이 증가해야 한다. ① 커피의 생산 기술이 향상되면 커피의 공급이 증가하여 균형 거래량이 증가하게 된다.

19

제시된 그래프에서 균형점이 E에서 E₁으로 이동하려면 수요 곡선이 왼쪽으로, 공급 곡선이 오른쪽으로 이동해야 한다. ④ 보완재의 가격이 상승하면 수요가 감소하고, 생산 기술이 향상하면 공급이 증가한다.

20

고구마의 공급이 증가하면 공급 곡선이 오른쪽으로 이동하여 고구마의 가격이 하락할 수 있다. 그런데 이때 고구마의 수요가 증가하여 수요 곡선이 오른쪽으로 크게 이동하게 되면 고구마의 가격은 오히려 상승할 수도 있다. ⑤ 소비자의 기호 증가는 수요 증가 요인에 해당한다.

21

예시답안 편의점은 거래 형태에 따라 구분할 때 거래 모습이 구체적으로 드러나므로 보이는 시장에 속한다. 또한 거래 상품의 종류에 따라 구분할 때 생활에 필요한 재화가 거래되므로 생산물 시장에 해당한다.

채점 기준	등급	평가 기준
	상	'보이는 시장', '생산물 시장', '상설 시장', '소매 시장' 중 두 가지 시장의 유형을 그 의미와 함께 구체적으로 서술한 경우
	중	'보이는 시장', '생산물 시장', '상설 시장', '소매 시장' 중 한 가지 시장의 유형을 그 의미와 함께 구체적으로 서술한 경우
	하	'보이는 시장', '생산물 시장', '상설 시장', '소매 시장' 중 한 가지만을 쓴 경우

22

예시답안 2,000원 / 균형 가격은 수요량과 공급량이 일치할 때 형성되므로 두부의 수요량과 공급량이 500모로 일치하는 2,000원이 균형 가격이 된다.

채점 기준	등급	평가 기준
	상	균형 가격을 쓰고, 수요량과 공급량의 정확한 수치를 제시하여 균형 가격이 결정되는 이유를 구체적으로 서술한 경우
	중	균형 가격을 쓰고, 수요량과 공급량이 일치한다는 내용만을 서술한 경우
	하	균형 가격만을 쓴 경우

23

예시답안 마늘에 대한 소비자의 기호가 증가하여 마늘의 수요가 증가한다. 이에 따라 마늘의 균형 가격은 상승하고, 균형 거래량도 증가한다.

채점 기준	등급	평가 기준
	상	마늘의 수요가 증가하여 균형 가격이 상승하고, 균형 거래량이 증가하게 된다고 서술한 경우
	하	균형 가격이 상승하고, 균형 거래량이 증가한다는 내용만을 쓴 경우

V 국민 경제와 국제 거래

필수 문제로 학교 시험 대비하기

▶ 시험대비서 34~37쪽

- ① 국내 총생산(GDP) ② 경제 성장 ③ 물가 ④ 인플레이션
⑤ 실업 ⑥ 국제 거래 ⑦ 관세 ⑧ 세계 무역 기구(WTO)
⑨ 환율 ⑩ 증가한다.

- 01 ③ 02 ⑤ 03 ① 04 ④ 05 ④ 06 ③ 07 ②
08 ④ 09 ⑤ 10 ③ 11 ④ 12 ② 13 ① 14 ④
15 ② 16 ① 17 ② 18 ④ 19 ⑤ 20 ④

01

국내 총생산은 일정 기간 동안 새롭게 생산된 것의 가치만 포함한다. 중고품은 그 상품이 생산된 해의 국내 총생산에 포함되었기 때문에 올해 판매되었더라도 올해 국내 총생산에 포함되지 않는다.

02

국내 총생산은 국민 전체의 소득을 파악하기에 유용하지만, 국민 개개인의 소득이나 생활 수준은 파악하기 어렵다. 따라서 한 나라 국민의 평균적인 소득 수준을 파악하고자 할 때는 1인당 국내 총생산을 활용한다.

03

ㄱ. 국내 총생산으로는 국민 전체의 소득을 파악할 수 있지만 소득 분배 상태는 파악하기 어렵다. ㄴ. 국내 총생산은 시장에서 거래되는 것의 가치만 포함하기 때문에 대가를 받지 않는 봉사 활동의 가치는 포함되지 않는다.

오답풀이 < ㄷ. 국내 총생산은 한 나라의 경제 규모를 파악하는 데 유용한 지표이다. ㄹ. 환경 오염이 발생하면 이를 해결하는 과정에서 국내 총생산이 오히려 증가할 수 있다.

04

더 나은 삶 지수는 각국의 삶의 질을 알 수 있는 지표이고, 국내 총생산은 각국의 경제 규모를 알 수 있는 지표이다. 제시된 자료를 통해 국내 총생산의 순위가 높아도 더 나은 삶 지수의 순위가 낮을 수 있음을 알 수 있다.

오답풀이 < ① 더 나은 삶 지수 순위와 국내 총생산 순위는 같지 않다. ② 더 나은 삶 지수 순위는 아이슬란드가 대한민국보다 더 높다. ③ 더 나은 삶 지수 순위가 높은 나라 중에는 국내 총생산 순위가 낮은 나라도 있다. ⑤ 국내 총생산으로는 삶의 질을 파악할 수 없기 때문에 그 한계를 보완하기 위해 만들어진 것이 더 나은 삶 지수이다.

05

경제 성장은 한 나라의 생산 능력이나 경제 규모가 커지는 것으로, 국내 총생산이 증가하였음을 의미한다. 경제가 성장하면 국민의 소득이 늘어나 물질적으로 풍요로워진다.

④ 경제 성장으로 소득 격차가 심화될 수 있다.

물가 상승의 영향

- 유리한 사람: 실물 자산 보유자, 돈을 빌린 사람, 수입업자
- 불리한 사람: 봉급생활자, 연금 생활자, 현금 및 금융 자산 보유자, 돈을 빌려준 사람, 수출업자

해결의 실마리

- 더 나은 삶 지수: 삶의 질 파악
- 국내 총생산: 경제 규모 파악



- 아이슬란드는 더 나은 삶 지수 순위는 높지만 국내 총생산 순위는 낮음
- 대한민국은 더 나은 삶 지수 순위는 낮지만 국내 총생산 순위는 높음



삶의 질이 반드시 경제 규모에 비례하지 않음

국제 거래의 의미와 특징

- 의미: 재화나 서비스, 생산 요소가 국경을 넘어 거래되는 것
- 특징: 거래의 제약 존재, 화폐의 교환 필요, 특정 상품의 거래 제한 발생

06

인플레이션이란 물가가 지속적으로 오르는 현상이다. 물가 상승은 경제 전체의 수요가 공급보다 많은 경우, 생산비가 상승하는 경우, 통화량이 증가하는 경우에 발생한다. ③ 가계의 소비가 감소하면 경제 전체의 수요가 줄어든다.

07

(가)는 여러 상품의 전반적인 가격 수준을 나타내는 물가이다. (나)는 물가의 움직임을 한눈에 알아볼 수 있도록 수치로 표현한 물가 지수이다.

08

국내 물가가 상승하면 국내 상품과 비교하여 외국 상품의 가격이 상대적으로 낮아지므로 수입업자에게 유리하다.

09

물가 안정을 위해 정부는 재정 지출 축소와 조세 확대, 중앙은행은 통화량 감축과 이자율 인상을 해야 하고, 기업은 생산 비용 절감, 소비자는 과소비 자제 등의 노력을 해야 한다.

10

새로운 기술의 도입이나 산업 구조의 변화로 관련 부문의 일자리가 사라져 발생하는 실업을 구조적 실업이라고 한다.

11

실업이 발생하면 개인은 소득 감소로 생계유지가 어려워지고, 자아실현의 기회가 상실되어 직업을 통한 성취감을 느낄 수 없다. 또한 삶에 대한 자신감이 낮아져 심리적 불안을 느낄 수 있다. ④는 실업이 사회에 미치는 영향이다.

12

ㄱ. 마찰적 실업은 새로운 일자리를 구하기 위해 현재의 직장을 그만두어 발생하므로 적절한 취업 정보를 제공하여 일자리 탐색에 드는 시간과 비용을 줄일 수 있도록 해야 한다. ㄷ. 계절적 실업은 계절의 영향을 받는 특정 업종에서 계절의 변화에 따라 발생하므로 농촌에 농공 단지를 조성하는 것처럼 다른 수입원을 찾을 수 있도록 해야 한다.

오답풀이 < ㄴ. 정부의 공공사업을 늘려 재정 지출을 확대하는 것은 경기적 실업을 해결하기 위한 방안이다. ㄹ. 기술 교육으로 사양 산업 종사자의 재취업을 돕는 것은 구조적 실업을 해결하기 위한 방안이다.

13

국제 거래는 국가 간에 이루어지는 상업적 거래로, 국내 거래보다 그 규모가 크다.

오답풀이 < ㄷ. 오늘날 생산 요소의 거래도 활발하다. ㄹ. 국제 거래가 활발해지면 국가 간 상호 의존이 심화된다.

14

제시된 사례는 국제 거래에 해당한다. ④ 나라마다 화폐가 서로 다르기 때문에 환율에 따른 화폐의 교환이 필요하다.

15

국제 거래가 과거에는 재화 위주로 이루어졌다면, 오늘날에는 재화 외에 서비스, 노동, 자본, 기술 등도 활발히 거래되고 있다. 또한 세계화의 가속화와 함께 자유 무역 협정(FTA)의 체결이나 지역 경제 협력체의 결성이 증가하면서 국가 간 경제 협력이 늘었다.

오답풀이 < ㄴ. 세계화·개방화 추세에 따라 세계 무역 기구(WTO)가 출범하고 자유 무역이 촉진되었다. ㄷ. 지역 경제 협력체는 회원국 간의 무역을 증진하지만 비회원국에 대해서는 차별을 하여 무역 갈등을 일으키기도 한다.

16

국제 거래가 확대되면 국민 경제의 무역 의존도가 증가하게 된다.

17

환율은 자국 화폐와 외국 화폐의 교환 비율이다. ㄷ. 환율 하락은 외국 화폐의 가치가 하락하고, 자국 화폐의 가치가 상승한 것을 의미한다.

18

환율 상승은 외화의 수요 증가 또는 외화의 공급 감소로 인해 발생한다. ④ 국내 기업의 해외 수출이 증가하면 외화의 공급이 증가하여 환율이 하락하게 된다.

19

외국인 관광객 감소는 외화의 공급 감소 요인이고, 외국 상품의 수입 증가는 외화의 수요 증가 요인이다. 외화의 공급이 감소하면 외화의 공급 곡선이 왼쪽으로 이동하고, 외화의 수요가 증가하면 외화의 수요 곡선이 오른쪽으로 이동한다.

20

환율이 하락하면 외국 상품의 가격이 하락하여 수입이 증가하고, 수입 원자재의 가격이 하락한다.

오답풀이 < ㄴ. ㄷ. 환율이 하락하면 외화로 표시되는 우리나라 상품의 가격이 상승하여 수출은 감소하고, 외화 구입의 부담이 낮아져 자국민의 해외여행은 증가한다.

국내 총생산과 1인당 국내 총생산의 활용

- 국내 총생산: 한 나라의 경제 규모를 파악할 수 있음
- 1인당 국내 총생산: 한 나라 국민의 평균적인 소득 수준을 파악할 수 있음

환율 상승 요인

- 외화의 수요 증가: 외국 상품의 수입 증가, 자국민의 해외여행 증가, 해외 투자 증가, 외채 상환
- 외화의 공급 감소: 자국 상품의 수출 감소, 외국인 관광객 감소, 외국인의 국내 투자 감소

합한 것이다. ③ 국내 총생산은 국적이 아니라 국경을 기준으로 한다.

02

국내 총생산은 중간 생산물의 가치는 포함하지 않고 최종 생산물의 가치를 합하여 계산한다. 최종 생산물의 시장 가치는 C, D의 판매 수입이므로, 이 둘을 합한 값인 1,700만원이 갑국의 국내 총생산이다.

03

각국의 경제 규모는 국내 총생산을 통해 파악하고, 국민 평균 소득은 1인당 국내 총생산을 통해 파악할 수 있다. 경제 규모와 평균 소득의 증가는 생활 수준 향상에 영향을 준다.

04

환경 오염이나 교통사고 등이 발생하면 삶의 질이 떨어지지만 이러한 문제를 해결하는 과정에서 들어가는 비용은 국내 총생산에 포함된다. 그러므로 국내 총생산으로는 국민의 삶의 질 수준을 정확히 파악하기 어렵다.

05

물가 지수란 기준 연도의 물가를 100으로 했을 때, 비교 연도의 물가 수준을 나타낸 것이다. 물가 지수가 120이라는 것은 기준 연도에 비해 물가가 20% 상승하였다는 의미이다.

06

제시된 상황에서는 물가가 상승하여 화폐 가치가 하락한다. 그 결과 토지나 건물 등을 가진 실물 자산 보유자는 유리해진다.

07

제시문에는 기업이 신기술 개발을 통해 생산 비용을 줄임으로써 물가 안정에 기여한 사례가 나타나 있다.

08

실업자는 15세 이상의 노동 가능 인구 가운데 일할 의사와 능력이 있는 경제 활동 인구 중에서 일자리를 구하지 못한 사람으로, ⑤는 실업자에 해당한다.

오답풀이 < ①, ②, ④는 일할 의사가 없으므로 비경제 활동 인구에 해당한다. ③은 15세 미만이므로, 노동 가능 인구에 포함되지 않는다.

09

실업률은 경제 활동 인구 중 실업자가 차지하는 비중이다. 제시된 자료에서 경제 활동 인구는 실업자와 취업자를 합한 2,000만 명이다. 따라서 실업률은 10%[(200만/2,000만)×100]이다.

10

(ㄱ)은 계절적 실업, (ㄴ)은 마찰적 실업이다. ③ 마찰적 실업은 근로자의 선택으로 일시적으로 실업 상태가 된 것이다.

실전 문제로 등급 올리기

▶ 시험대비서 38~41쪽

01 ③ 02 ④ 03 ④ 04 ⑤ 05 ② 06 ④ 07 ④
08 ⑤ 09 ② 10 ③ 11 ④ 12 ⑤ 13 ④ 14 ①
15 ④ 16 ⑤ 17 ③ 18 ④ 19 ① 20 ④ 21 해설
참조 22 해설 참조 23 해설 참조

해결의 실마리

(ㄱ) 계절의 영향을 받는 일자리의 고용이 줄어서 발생



계절적 실업

(ㄴ) 새로운 직장을 구하기 위해 일시적으로 발생



마찰적 실업

01

국내 총생산은 한 나라의 국경 안에서 일정 기간 동안 생산된 최종 생산물의 가치를 시장 가격으로 환산하여 모두

11

마찰적 실업을 해결하기 위해서는 적절한 구직 정보를 제공하여 근로자가 일자리를 탐색할 시간과 비용을 줄일 수 있게 도와야 한다.

오답풀이 ①, ②, ③은 경기적 실업을 해결하기 위한 방안이다. ⑤는 구조적 실업을 해결하기 위한 방안이다.

12

국제 거래로 기업은 상품을 팔 수 있는 더 넓은 해외 시장을 확보하여 더 많은 이윤을 얻을 가능성이 커진다.

오답풀이 ① 소비자들은 다양한 상품을 저렴한 가격에 구입할 수 있게 된다. ② 경쟁력이 없는 국내 산업은 피해를 보게 된다. ③ 국제 거래가 확대되면 해외 경제 상황이 국내 경제에 미치는 영향은 커진다. ④ 국제 거래로 각국이 수출을 증대하려고 하면 무역 마찰이 발생할 수 있다.

13

제시된 상황을 통해 각 나라의 천연자원, 기술 수준, 노동력의 양 등이 다르다는 것을 알 수 있다. 이에 따라 같은 상품을 생산하더라도 나라마다 생산비가 달라진다. 그러므로 각 나라가 비교 우위를 갖고 있는 상품을 특화하여 거래하면 서로 경제적 이익을 얻을 수 있다.

14

제시된 그래프를 통해 국제 거래의 규모가 확대되고 있으며, 국가 간 경제 활동이 긴밀해져 상호 의존성이 심화되고 있음을 알 수 있다.

15

ㄱ. 관세가 면제되었으므로 A국 정부의 관세 수입은 감소한다. ㄴ. B국 상품의 관세가 면제되면 B국 상품이 A국에서 판매되는 가격이 낮아지므로 A국에서 소비되는 B국 상품의 소비량은 늘어난다.

16

환율이 하락하면 외화의 가치가 하락하고, 원화의 가치가 상승한다. 따라서 원/달러 환율이 하락하면 달러화의 가치가 하락한다.

17

외환 시장에서 외화의 수요가 감소하거나 외화의 공급이 증가하면 환율은 하락한다. ㄴ은 외화의 공급 증가, ㄷ은 외화의 수요 감소 요인으로 이 경우 환율은 하락한다.

오답풀이 ㄱ. 외국 기업의 국내 투자가 줄면 외화의 공급이 감소하여 환율이 상승한다. ㄴ. 자국민의 해외 유학이 늘면 외화의 수요가 증가하여 환율이 상승한다.

18

우리 기업의 해외 투자가 증가하면 외화의 수요가 증가하여 수요 곡선이 오른쪽으로 이동한다. 우리나라로 오는 외국인 유학생이 증가하면 외화의 공급이 증가하여 공급 곡

국내 총생산의 의미와 활용

- 의미: 일정 기간 한 나라 안에서 새롭게 생산된 최종 생산물의 시장 가치를 합한 것
- 활용: 한 나라의 경제 규모와 생산 능력을 파악하는 데 유용한 경제 지표

해결의 실마리

B국 상품의 관세 면제



B국 상품의 가격이 낮아지는 효과



B국 상품의 수입 증가



- A국에서 B국 상품의 소비량 증가
- B국 상품과 경쟁하는 A국 기업 상품의 판매량 감소

해결의 실마리

- ㄱ: 국내 거래
- ㄴ: 국제 거래



국제 거래의 특징



- 거래의 제약 존재
- 화폐의 교환 필요
- 특정 상품의 거래 제한

선이 오른쪽으로 이동한다. 따라서 새롭게 결정되는 환율은 D 영역에서 나타난다.

19

제시된 대화에는 환율이 상승하는 상황이 나타나 있다. ① 환율이 상승하면 원화 가치가 하락하므로 외채 상환에 필요한 원화가 늘어나 외채 상환 부담이 증가한다.

20

환율이 하락하는 상황에서는 외화를 최대한 늦게 구입하는 것이 유리하다. 그러므로 외채 상환, 수입품의 대금 결제, 외화 환전 등을 늦추는 것이 합리적이다. 또한 환율이 하락하면 수출이 감소하므로 제품 생산량을 줄이는 것이 적절하다.

21

(1) (나), (마)

(2) **예시답안** (가)는 시장에서 거래되는 것이 아니므로 국내 총생산에 포함되지 않는다. (나)는 갑국 국민이 을국에서 벌어들인 소득이므로 갑국이 아닌 을국의 국내 총생산에 포함된다. (라)는 새롭게 생산된 것이 아니라 그전에 생산된 중고품의 가치이므로 올해 국내 총생산에 포함되지 않는다.

채점 기준	등급	평가 기준
	상	(가), (나), (라)가 갑국의 올해 국내 총생산에 포함되지 않는 이유를 모두 옳게 서술한 경우
	중	(가), (나), (라) 중 두 가지에 대해 갑국의 올해 국내 총생산에 포함되지 않는 이유를 옳게 서술한 경우
	하	(가), (나), (라) 중 한 가지에 대해서만 갑국의 올해 국내 총생산에 포함되지 않는 이유를 옳게 서술한 경우

22

예시답안 실업 문제가 심화될 경우 개인적 측면에서는 생계유지가 곤란해지고, 자아실현의 기회가 상실된다. 사회적 측면에서는 인적 자원이 낭비되고, 생계형 범죄나 빈곤층 확산 등으로 사회 불안이 초래될 수 있다.

채점 기준	등급	평가 기준
	상	실업 문제의 영향을 개인적 측면과 사회적 측면으로 나누어 각각 옳게 서술한 경우
	하	실업 문제의 영향을 개인적 측면과 사회적 측면 중 한 가지 측면만 옳게 서술한 경우

23

예시답안 첫째, 상품이 국경을 통과할 때 관세가 부과되거나 통관 절차를 거치는 등 거래의 제약이 존재한다. 둘째, 나라마다 서로 다른 화폐를 사용하므로 거래를 할 때 환율을 고려해야 한다. 셋째, 나라마다 법과 제도가 달라 특정 상품의 수입이 금지되거나 제한될 수 있다.

채점 기준	등급	평가 기준
	상	국제 거래만의 특징을 세 가지 옳게 서술한 경우
	중	국제 거래만의 특징을 두 가지 옳게 서술한 경우
	하	국제 거래만의 특징을 한 가지만 옳게 서술한 경우

V 국제 사회와 국제 정치

필수 문제로 학교 시험 대비하기

▶ 시험대비서 42~45쪽

- ① 국제 사회 ② 중앙 정부 ③ 국가 ④ 국제 비정부 기구
⑤ 다국적 기업 ⑥ 외교 ⑦ 독도 ⑧ 동북공정 ⑨ 프랑스
⑩ 반크(VANK)

- 01 ⑤ 02 ① 03 ② 04 ④ 05 ⑤ 06 ④ 07 ⑤
08 ⑤ 09 ④ 10 ③ 11 ② 12 ① 13 ⑤ 14 ①
15 ③ 16 ⑤ 17 ① 18 ④ 19 ④ 20 ②

01

국제 사회는 평등한 주권을 가진 주권 국가를 기본 단위로 하여 구성되고, 각국은 자국의 이익을 최우선적으로 추구한다.

오답풀이 ㄱ. 국제 사회에는 강제력을 가진 중앙 정부가 존재하지 않는다. ㄴ. 국제 사회에서는 힘의 논리가 작용하지만, 국제법이 국가들의 행위에 일정한 제약을 준다. 즉, 힘의 논리가 국제법에 항상 앞서는 것은 아니다.

02

센카쿠 열도의 영유권을 둘러싸고 나타나는 일본과 중국의 분쟁은 협력이 아니라 갈등의 모습이다.

03

국가는 일정한 영토와 국민을 바탕으로 주권을 가진 국제 사회의 가장 기본적인 행위 주체이다.

오답풀이 ㉠ 주권을 가진 행위 주체는 국가이다. ㉢ 다국적 기업은 세계화로 그 영향력이 커지고 있다. ㉣ 국제 비정부 기구는 개인이나 민간단체가 모여 조직한 것으로, 공익 추구를 위해 활동한다. ㉤ 교황, 강대국의 국가 원수는 국제 사회에서 영향력 있는 개인으로, 국제 사회의 행위 주체에 해당한다.

04

국제 연합(UN), 유럽 연합(EU), 국제 통화 기금(IMF), 아시아·태평양 경제 협력체(APEC)는 각국 정부를 회원으로 하는 정부 간 국제기구이다. ㉣ 그린피스는 국제 비정부 기구로, 환경 보호를 위해 활동한다.

05

국제 사면 위원회는 개인과 민간단체로 구성된 국제 비정부 기구로서 고문 근절, 양심수 석방, 사형제 폐지 등 인권 보호를 위한 활동을 하고 있다.

06

ㄴ. 다국적 기업은 이윤 추구 과정에서 관련 국가 간 문화 교류 및 상호 이해 증진에 기여하기도 한다. ㄷ. 다국적 기

자원을 둘러싼 분쟁

- 포클랜드 분쟁 시사 군도 분쟁 난사 군도 분쟁: 석유나 천연가스 확보와 관련 있음
- 나일강 연안국 분쟁: 물 자원 이용과 관련 있음

국제기구

- 정부 간 국제기구: 각국 정부를 회원으로 함 ㉠ 국제 연합(UN), 유럽 연합(EU), 경제 협력 개발 기구(OECD), 국제 통화 기금(IMF) 등
- 국제 비정부 기구: 개인이나 민간단체를 회원으로 함 ㉢ 국제 사면 위원회, 국경 없는 의사회, 그린피스 등

다국적 기업

- 여러 국가에 자회사, 지사, 생산 공장을 두고 생산과 판매 활동을 하는 기업
- 세계화로 국제 사회에서 그 영향력이 확대되고 있음
- 개별 국가의 정책에 영향력을 행사하기도 함

업은 자본과 기술 이전을 통해 관련 국가의 경제 발전에 기여하는 경우가 많다.

오답풀이 ㄱ. 오늘날 여러 국가에 걸쳐 생산과 판매 활동을 하는 다국적 기업의 영향력이 확대되면서 다국적 기업이 개별 국가의 주권에 개입하기도 한다. ㄷ. 다국적 기업의 영향으로 여러 문화가 교류하면서 관련 국가의 고유한 전통과 민족적 동질성이 약화되는 경향이 있다.

07

국제 사회에서 국가 간 경쟁이나 갈등이 발생하는 근본 원인은 각 국가가 자국의 이익을 최우선으로 추구하기 때문이다.

08

카슈미르 지역은 종교와 인종을 둘러싼 갈등이 나타나고 있다. 이 지역은 주민의 대다수가 이슬람교도인데, 영국에서 독립할 때 힌두교도였던 지도자가 이 지역을 인도로 편입하면서 인도와 파키스탄 간에 분쟁이 시작되었다.

09

제시된 사례는 사이버 분야와 관련된 문제를 해결하기 위해 국제 사회가 협력하는 모습이다.

10

한 국가가 국제 사회에서 자국의 이익을 평화적인 방법으로 달성하려는 활동을 외교라고 한다.

11

미국과 소련의 전쟁 가능성을 해결한 것은 양국 정상외교적 노력이다.

오답풀이 ㉠ 국제 비정부 기구가 개입한 내용은 나타나 있지 않다. ㉢ 미국과 소련의 분쟁은 냉전 시대의 이념 대립으로 인한 것이다. ㉣ 국제기구가 어떤 중재를 했는지는 나타나 있지 않다. ㉤ 국가 안보와 기본권 제한의 상충 문제에 대해서는 언급하고 있지 않다.

12

제시문의 밑줄 친 '이곳'은 독도이다. 독도가 우리나라의 영토라는 기록은 우리나라와 일본의 지도, 역사책, 외국의 지도 등에서 찾아볼 수 있다.

13

일본의 역사 교과서에는 일본의 식민지 수탈 과정에서 조선인의 삶이 피해를 입었다는 개선되었다며 왜곡하여 서술하고 있다.

14

일본이 역사 교과서를 왜곡하는 이유는 과거의 침략 행위를 감추고, 제2차 세계 대전 중 다른 나라에 저질렀던 만행이 드러날 경우 인권 침해 국가로서의 낙인이 찍힐 것을 우려하기 때문이다.

오답풀이 < ㄷ. 식민 지배에 대해 반성하고 피해 국가를 돕기 위해서라면 역사적 사실을 그대로 인정했을 것이다. ㄹ. 동아시아에서의 교류와 협력의 지위를 확보하기 위해서라면 교과서 왜곡 문제를 일으키지 않았을 것이다.

15

제시된 내용은 중국의 동북공정과 관련 있다. 중국은 고조선, 고구려, 발해를 고대 중국의 지방 정권이라고 하며, 이를 중국의 역사로 통합하려는 역사 왜곡을 시도하였다.

16

우리나라는 중국 어선의 불법 조업 문제, 중국의 동북공정 등으로 중국과의 갈등을 겪고 있고, 일본의 역사 교과서 왜곡 문제, 독도 영유권 주장 문제 등으로 일본과의 갈등을 겪고 있다. 또한 「직지심체요절」의 반환 문제를 두고 프랑스와 갈등하고 있다. ⑤ 비정규직 노동자 문제는 우리나라 내부의 문제로, 국가 간 갈등으로 보기 어렵다.

17

일본의 정치인들이 야스쿠니 신사를 참배하는 것은 일본이 저지른 침략 전쟁을 정당화하거나 미화하는 행위로 보일 수 있다. 또한 야스쿠니 신사에 묻혀 있는 전범들을 존중한다는 의미를 갖기 때문에 피해국에 대한 죄의식을 느끼지 않는 것으로 보일 수 있다.

오답풀이 < ㄷ. 일본 정치인들이 야스쿠니 신사에 참배한다고 해서 국제 사회에서 일본의 위상이 높아지는 것은 아니다. ㄹ. 야스쿠니 신사 참배 행위는 과거 식민 지배의 역사를 반성하지 않는 모습이다.

18

중국은 고조선, 고구려, 발해의 역사를 중국의 역사로 편입하려는 동북공정을 진행하였다. 중국이 동북공정을 펼친 목적은 중국 내 소수 민족의 독립을 막고, 한반도 통일 시 발생할 수 있는 영토 분쟁을 방지하기 위함이다.

19

독도 체험관 운영과 동해 표기를 요구하는 시민 단체의 활동은 우리나라와 관련하여 잘못 알려진 사실을 바로잡는 데 기여할 수 있다.

20

일본과 중국의 역사 왜곡 문제에 제대로 대응하기 위해서는 치밀한 연구를 통해 역사적 사실 관계를 규명해야 하고, 우리의 정당성을 입증할 객관적 근거를 제시할 수 있어야 한다. 또한 한국, 중국, 일본의 공동 역사 연구를 통해 역사 인식의 차이를 줄여야 한다.

오답풀이 < ㄴ. 역사 왜곡 문제에 대해서는 감정적으로 대응하기보다 사실 관계를 정확히 제시하면서 시정을 요구하는 자세가 필요하다. ㄹ. 역사 왜곡 문제에 대해 정부 간 논의도 필요하지만 이와 별개로 국가 간 민간 교류도 활발히 이루어져야 한다.

해결의 실마리

고구려와 발해가 중국의 지방 정권이라는 주장



중국의 동북공정

국제 사회의 행위 주체

- 국가
- 정부 간 국제기구
- 국제 비정부 기구
- 다국적 기업
- 영향력 있는 개인
- 한 국가 내의 소수 민족

우리나라의 국가 간 갈등에 대응하는 시민 사회의 활동

- 학자들의 국가 간 공동 연구 진행: 우리나라와 주변국 간의 이해를 넓히고 사실 관계를 밝히는 데 노력함
- 시민 단체의 활동: 서명 운동, 홍보 동영상 제작 등으로 관심을 유도하고 국제 사회에 우리의 정당성을 알림
- 시민의 자발적 참여: 국가 간 갈등 문제에 관심을 가지고 해결을 위한 활동에 적극적으로 참여함

실전 문제로 등급 올리기

▶ 시험대비서 46~48쪽

01 ③ 02 ① 03 ⑤ 04 ② 05 ⑤ 06 ② 07 ③
08 ④ 09 ② 10 ③ 11 ④ 12 ② 13 ④ 14 ③
15 해설 참조 16 해설 참조 17 해설 참조

01

미국은 자국에 불이익을 가져다준다는 이유로 파리 협정에서 탈퇴하겠다고 선언하였다. 이를 통해 국제 사회에서 각국이 자국의 이익을 우선적으로 추구한다는 사실을 알 수 있다.

02

국가 간 합의 과정에서 개별 국가들의 권력관계가 반영된다는 것은 국제 사회에서 힘의 논리가 작용한다는 것을 나타낸다. ㄱ. 국제 연합 안전 보장 이사회의 상임 이사국이 거부권을 행사할 수 있는 것, ㄴ. 핵비보유국에 대해서만 핵 개발을 막고 이미 핵을 보유한 강대국의 핵 보유는 인정하는 것은 힘의 논리가 작용한 사례이다.

오답풀이 < ㄷ. 세계 인권 선언은 국가 간 권력관계에 따른 차별을 부정한다. ㄹ. 자유 무역 협정에서 대상 품목의 관세를 폐지하기로 한 것은 평등한 관계에서의 약속이다.

03

○○ 중학교 전교 회장은 국제 사회에서 커다란 영향력을 행사한다고 보기 어려우므로 국제 사회의 행위 주체에 해당하지 않는다.

04

그린피스와 국경 없는 의사회는 개인과 민간단체를 회원으로 하는 국제 비정부 기구이다.

오답풀이 < ① 그린피스는 환경 보호, 국경 없는 의사회는 의료 봉사라는 한정된 내용의 업무를 수행한다. ③ 그린피스와 국경 없는 의사회는 국제 연합(UN)에 소속된 기구가 아니다. ④ 그린피스와 국경 없는 의사회는 특정 지역에 국한하지 않고 전 세계 모든 지역을 대상으로 활동한다. ⑤ 전쟁 방지와 평화 유지를 목적으로 하는 것은 국제 연합(UN)이다.

05

ㄷ. 다국적 기업은 국제적 규모로 상품을 생산하고 판매하는데, 세계화로 그 규모가 커지면서 영향력이 확대되고 있다. ㄹ. 브라질은 주권을 가진 국가로서 국제 사회를 구성하는 가장 기본적인 행위 주체이다.

오답풀이 < ㄱ. ①은 정부 간 국제기구로, ①의 가입 주체는 각국 정부이다. ㄴ. ②은 국제 비정부 기구로, 국경을 넘어 전 세계적으로 활동한다.

06

쿠릴 열도는 일본과 러시아가 영유권 분쟁을 벌이고 있는

지역이다. 센카쿠 열도(다오위다오)는 일본과 중국이 영유권 분쟁을 벌이고 있는 지역이다.

07

제시문에는 테러 문제나 환경 문제 해결을 위해 국제 사회가 협력하는 모습이 나타나 있다.

08

외교는 한 국가가 국제 사회에서 자국의 이익을 달성하기 위해 펼치는 평화적 방법의 대외 활동으로, 국가 간 분쟁을 해결하거나 예방하는 데 기여한다.

오답풀이 ◀ ㄱ. 각국 정상, 외교관에 의한 공식적 외교 활동도 이루어지고, 시민에 의한 민간 외교 활동도 이루어진다. ㄴ. 자국의 이익을 위해 외교 활동을 수행하는 것이지만 일방적으로 자국의 이익 실현에만 치중하기보다는 상호 협력을 통해 함께 발전할 수 있는 길을 모색하는 것이 바람직하다.

09

미국과 소련이 '전략 무기 감축 협정'을 체결한 것은 무기 감축을 통해 국제 평화를 정착시켜야 한다는 점에 공감하고 국제 사회의 공존을 위해 양국이 외교적 노력을 기울인 성과라고 볼 수 있다.

오답풀이 ◀ ① 자국의 실리를 우선시했다면 군사비 경쟁은 지속적으로 이루어졌을 것이다. ③ '전략 무기 감축 협정'의 체결로 군사비 경쟁을 줄임으로써 이념 대립의 약화를 가져왔다. ④ 미국과 소련의 대통령이 협정을 체결하였으므로 국가 정상 간 외교에 의한 성과로 볼 수 있다. 민간 외교는 일반 시민에 의한 외교로, 제시문에는 나타나 있지 않다. ⑤ 제시문에서 국제기구가 양국 간 협정 체결을 중재했다는 내용은 나타나 있지 않다.

10

ㄴ. 일본의 역사서 『은주시청합기』에는 일본의 북쪽 한계를 오키섬으로 한다고 하여 독도가 일본의 영토가 아님을 확인하였다. ㄷ. 1946년 『연합국 최고 사령관 각서』에는 일본의 통치 영역에서 울릉도와 독도가 제외된다고 기록하고 있다.

오답풀이 ◀ ㄱ. 국제 사법 재판소에서 독도 문제를 다루어 독도에 관한 판결을 내린 일은 없다. ㄴ. 1905년의 시마네 현 고시는 일본이 독도를 일본의 영토로 편입한다는 내용을 담고 있다.

11

동북공정은 중국의 역사 왜곡 작업으로, 과거 만주 지역에서 활동하였던 고조선, 고구려, 발해의 역사를 중국의 역사로 편입하려는 것이다. 이는 중국 내 소수 민족의 독립을 막고, 한반도 통일 이후 발생할 수 있는 영토 분쟁을 방지하려는 목적을 갖고 있다.

주변국의 역사 왜곡에 대한 대응 방안

- 국가 차원에서 공식적으로 항의 역사 왜곡에 대한 시정 요구
- 연구 기관 운영 등을 통해 상대국 주장에 반박할 정확한 근거 획득
- 국제 사회에 객관적 근거나 정확한 역사적 사실 홍보
- 각국 학자들의 공동 연구를 통해 사실 관계 규명, 역사 인식 차이 해소

해결의 실마리

미국과 소련 양국 정상이 '전략 무기 감축 협정'을 체결함



국제 사회의 위험 요인이 줄어듦

세계 시민 의식

- 공동체 의식을 바탕으로 국제 사회 문제에 관심을 두고, 그 해결을 위해 적극적으로 행동하는 세계 시민으로서의 참여 의식과 책임 의식
- 국제 사회의 공존을 위해 국제 사회의 행위 주체들은 세계 시민 의식을 공유해야 함

12

제시된 자료는 일본군 '위안부' 문제와 관련 있다. 일본군 '위안부'는 일제 강점기 때 일본에 의해 군 위안소로 끌려가 성 노예 생활을 강요당한 여성들을 말한다.

13

중국의 동북공정 사업에 대해 우리 정부는 정확한 사실 관계를 조사하여 명확한 근거를 갖고 중국 정부에 공식 문서로 항의해야 한다. 또한 다양한 외교적 방법으로 국제 사회에 정확한 사실을 적극 홍보할 필요가 있다. ④ 중국의 역사 왜곡에 대해 감정적으로 대응하는 것은 적절하지 않다. 특히 중국 내 소수 민족에게 감정적으로 호소할 경우 중국 정부의 강한 반발을 불러올 우려가 있다.

14

(가)는 한국, 중국, 일본의 역사학자들이 공동으로 동아시아 역사를 연구하는 모임을 하고 있다는 내용이다. (나)는 한국과 일본의 고등학교가 자매 결연을 맺고 서로 스포츠·문화 교류와 협력을 한다는 내용이다. (가)와 (나)를 통해 민간 차원에서 국가 간 갈등을 해결하려는 노력을 엿볼 수 있다.

15

예시답안 국제 사회에는 특정 국가를 처벌하거나 국가 간 갈등을 해결해 줄 수 있는 강제성을 가진 중앙 정부가 존재하지 않는다.

채점 기준	등급	평가 기준
	상	국제 사회에는 특정 국가를 처벌하거나 국가 간 갈등을 해결해 줄 수 있는 강제성을 가진 중앙 정부가 존재하지 않고 서술한 경우
	하	중앙 정부가 없다고만 서술한 경우

16

예시답안 외교가 필요한 이유는 국가 간의 적대 관계를 해소하고 국가 간 우호를 증진하여 국제 사회의 공존을 가능하게 하기 때문이다.

채점 기준	등급	평가 기준
	상	적대 관계 해소, 국가 간 우호 증진으로 국제 사회의 공존에 기여한다고 서술한 경우
	하	국제 사회의 공존에 기여한다고만 서술한 경우

17

예시답안 기아와 빈곤, 난민, 인권 침해 등과 같은 국제 사회 문제에 관심을 갖고 이로 인해 고통받는 사람들의 아픔을 이해할 수 있어야 하며, 사회 정의와 같은 보편적 가치를 존중해야 한다.

채점 기준	등급	평가 기준
	상	국제 사회 문제에 관심을 갖고 아픔을 이해하며, 보편적 가치를 존중해야 한다고 서술한 경우
	하	국제 사회 문제에 관심을 가져야 한다고만 서술한 경우

문제 풀이 
 능력을 향상시키는

채움 해설서



정답

한눈에 보기

02



기본

학습서편

04

VII. 인구 변화와 인구 문제 04

VIII. 사람이 만든 삶터, 도시 10

IX. 글로벌 경제 활동과 지역 변화 16

X. 환경 문제와 지속 가능한 환경 22

XI. 세계 속의 우리나라 28

XII. 더불어 사는 세계 34



시험

대비서편

39



기본 학습서편

VII 인구 변화와 인구 문제

1 인구 분포 ~ 2 인구 이동

012~015쪽 01 ② 02 ③ 03 ② 04 ⑤ 05 ③ 06 ② 07 ① 08 ①
09 ⑤ 10 ① 11 ① 12 ① 13 ④ 14 ② 15 B, D, F 16 ㉠ 배출, ㉡ 흡
인 17 ㉠ 역도시화, ㉡ 이촌 향도 18 해설 참조 19 해설 참조 20 해설 참조

3 인구 문제

018~021쪽 01 ⑤ 02 ① 03 ② 04 ⑤ 05 ④ 06 ④ 07 ③ 08 ②
09 ② 10 ① 11 ① 12 ③ 13 ② 14 ① 15 ㉠ 선진국, ㉡ 개발 도상국
16 남아 선화 사상 17 ㉠ 억제, ㉡ 출산 장려 18 해설 참조 19 해설 참조
20 해설 참조

● 대단원 완성 문제

023~026쪽 01 ② 02 ① 03 ⑤ 04 ⑤ 05 ② 06 ① 07 ⑤ 08 ⑤
09 ⑤ 10 ④ 11 ③ 12 ③ 13 ② 14 ① 15 ③ 16 ① 17 해설 참조
18 해설 참조 19 해설 참조 20 해설 참조

VIII 사람이 만든 삶터, 도시

1 생활 공간으로서의 도시 ~ 2 도시 내부의 다양한 경관

032~035쪽 01 ③ 02 ⑤ 03 ① 04 ⑤ 05 ③ 06 ⑤ 07 ③ 08 ⑤
09 ④ 10 ⑤ 11 ④ 12 ① 13 ③ 14 ① 15 뉴욕 16 인구 공동화
17 개발 제한 구역 18 해설 참조 19 해설 참조 20 해설 참조

3 도시화와 도시 문제 ~ 4 살기 좋은 도시

040~043쪽 01 ② 02 ② 03 ② 04 ③ 05 ③ 06 ③ 07 ④ 08 ②
09 ⑤ 10 ② 11 ① 12 ② 13 ② 14 ④ 15 이촌 향도 16 슬럼 17 주
택 부족 18 해설 참조 19 해설 참조 20 해설 참조

● 대단원 완성 문제

045~048쪽 01 ⑤ 02 ① 03 ④ 04 ④ 05 ③ 06 ② 07 ③ 08 ②
09 ② 10 ④ 11 ③ 12 ② 13 ⑤ 14 ④ 15 ③ 16 ③ 17 해설 참조
18 해설 참조 19 해설 참조 20 해설 참조

IX 글로벌 경제 활동과 지역 변화

1 농업의 세계화와 지역 변화

052~055쪽 01 ④ 02 ⑤ 03 ② 04 ① 05 ⑤ 06 ③ 07 ③ 08 ③
09 ① 10 ④ 11 ① 12 ④ 13 ④ 14 ④ 15 기업적 16 플랜테이션
17 로컬 푸드 18 해설 참조 19 해설 참조 20 해설 참조

2 다국적 기업과 생산 공간의 변화 ~ 3 서비스업의 세계화와 지역 변화

058~061쪽 01 ④ 02 ③ 03 ③ 04 ② 05 ② 06 ⑤ 07 ② 08 ④
09 ⑤ 10 ① 11 ⑤ 12 ② 13 ① 14 ③ 15 다국적 기업 16 산업 공동
화 17 전자 상거래 18 해설 참조 19 해설 참조 20 해설 참조

● 대단원 완성 문제

065~068쪽 01 ④ 02 ③ 03 ② 04 ③ 05 ② 06 ③ 07 ② 08 ④
09 ③ 10 ① 11 ⑤ 12 ② 13 ① 14 ④ 15 ① 16 ③ 17 해설 참조
18 해설 참조 19 해설 참조 20 해설 참조

X 환경 문제와 지속 가능한 환경

1 전 지구적 자원의 기후 변화

074~077쪽 01 ③ 02 ⑤ 03 ① 04 ③ 05 ④ 06 ② 07 ① 08 ③
09 ④ 10 ⑤ 11 ① 12 ② 13 ① 14 ① 15 지구 온난화 16 이산화 탄
소(CO₂) 17 파리 협정 18 해설 참조 19 해설 참조 20 해설 참조

2 환경 문제를 유발하는 산업의 이동 ~ 3 생활 속의 환경 이슈

080~083쪽 01 ⑤ 02 ③ 03 ③ 04 ② 05 ① 06 ① 07 ② 08 ③
09 ⑤ 10 ④ 11 ⑤ 12 ② 13 ⑤ 14 ④ 15 ㉠ 선진국, ㉡ 개발 도상국
16 환경 이슈 17 미세 먼지 18 해설 참조 19 해설 참조 20 해설 참조

● 대단원 완성 문제

085~088쪽 01 ② 02 ② 03 ④ 04 ② 05 ② 06 ③ 07 ④ 08 ③
09 ④ 10 ③ 11 ② 12 ③ 13 ② 14 ③ 15 ① 16 ② 17 해설 참조
18 해설 참조 19 해설 참조 20 해설 참조

XI 세계 속의 우리나라

1 우리나라의 영역과 독도

092~095쪽 01 ④ 02 ① 03 ③ 04 ⑤ 05 ③ 06 ③ 07 ② 08 ①
09 ③ 10 ③ 11 ⑤ 12 ① 13 ⑤ 14 ③ 15 영역 16 ㉠ 직선, ㉡ 통상
17 A 해양 심층수, B 메탄 하이드레이트 18 해설 참조 19 해설 참조 20 해설
참조

2 세계화 시대의 지역화 전략 ~ 3 통일 이후의 국토 공간

100~103쪽 01 ⑤ 02 ① 03 ① 04 ⑤ 05 ② 06 ③ 07 ④ 08
① 09 ⑤ 10 ① 11 ③ 12 ③ 13 ① 14 ① 15 지역화 16 지역 브랜드
17 비무장 지대 18 해설 참조 19 해설 참조 20 해설 참조

● 대단원 완성 문제

105~108쪽 01 ① 02 ② 03 ⑤ 04 ② 05 ② 06 ③ 07 ② 08 ③
09 ② 10 ④ 11 ③ 12 ⑤ 13 ③ 14 ① 15 ④ 16 ② 17 해설 참조
18 해설 참조 19 해설 참조 20 해설 참조

XII 더불어 사는 세계

1 지구상의 다양한 지리적 문제

112~115쪽 01 ① 02 ① 03 ① 04 ③ 05 ④ 06 ④ 07 ③ 08 ②
09 ③ 10 ① 11 ④ 12 ③ 13 ② 14 ⑤ 15 기아 16 ㉠ 이슬람교, ㉡ 힌
두교 17 생물 다양성 감소 18 해설 참조 19 해설 참조 20 해설 참조

2 저개발 지역의 발전을 위한 노력 ~ 3 지역 간 불평등 완화를 위한 노력

118~121쪽 01 ⑤ 02 ⑤ 03 ① 04 ④ 05 ③ 06 ① 07 ⑤ 08 ①
09 ④ 10 ② 11 ② 12 ⑤ 13 ⑤ 14 ⑤ 15 ㉠ 선진국, ㉡ 개발 도상국
16 빈곤 17 국제 비정부 기구(NGO) 18 해설 참조 19 해설 참조 20 해설 참조

● 대단원 완성 문제

125~128쪽 01 ② 02 ⑤ 03 ④ 04 ② 05 ④ 06 ① 07 ③ 08 ③
09 ③ 10 ② 11 ④ 12 ④ 13 ② 14 ① 15 ④ 16 ⑤ 17 해설 참조
18 해설 참조 19 해설 참조 20 해설 참조

VII 인구 변화와 인구 문제

02~05쪽 ① 인구 밀도 ② 아시아 ③ 자연적 요인 ④ 인구 이동 ⑤ 흡인 요인 ⑥ 경제적 이동 ⑦ 고령화 ⑧ 생산 가능 인구 ⑨ 인구 부양력 ⑩ 산아 제한 정책

01 ① 02 ③ 03 ④ 04 ① 05 ② 06 ② 07 ⑤ 08 ③ 09 ③ 10 ③
11 ④ 12 ③ 13 ③ 14 ⑤ 15 ④ 16 ⑤ 17 ⑤ 18 ③ 19 ③ 20 ③

06~09쪽 01 ③ 02 ② 03 ③ 04 ① 05 ③ 06 ⑤ 07 ④ 08 ②
09 ⑤ 10 ③ 11 ③ 12 ④ 13 ② 14 ② 15 ① 16 ① 17 ② 18 ③
19 ② 20 ④ 21 해설 참조 22 해설 참조 23 해설 참조

VIII 사람이 만든 삶터, 도시

10~13쪽 ① 도시 ② 세계 도시 ③ 지역 분화 ④ 인구 공동화 ⑤ 부도심 ⑥ 위성 도시 ⑦ 도시화 ⑧ 가속화 단계 ⑨ 슬럼 ⑩ 살기 좋은 도시

01 ③ 02 ③ 03 ⑤ 04 ② 05 ④ 06 ② 07 ③ 08 ① 09 ⑤ 10 ②
11 ② 12 ④ 13 ③ 14 ③ 15 ④ 16 ④ 17 ③ 18 ① 19 ⑤ 20 ③

14~17쪽 01 ⑤ 02 ③ 03 ④ 04 ③ 05 ⑤ 06 ③ 07 ① 08 ②
09 ② 10 ⑤ 11 ⑤ 12 ④ 13 ⑤ 14 ③ 15 ② 16 ⑤ 17 ④ 18 ④
19 ③ 20 ③ 21 해설 참조 22 해설 참조 23 해설 참조

IX 글로벌 경제 활동과 지역 변화

18~21쪽 ① 농업의 세계화 ② 곡물 메이저 ③ 플랜테이션 ④ 로컬 푸드 운동 ⑤ 다국적 기업 ⑥ 생산 공장 ⑦ 산업 공동화 ⑧ 서비스 산업 ⑨ 탈공업화 ⑩ 공정 여행

01 ① 02 ② 03 ④ 04 ④ 05 ① 06 ④ 07 ③ 08 ⑤ 09 ② 10 ⑤
11 ④ 12 ② 13 ② 14 ⑤ 15 ① 16 ③ 17 ② 18 ⑤ 19 ① 20 ②

22~25쪽 01 ③ 02 ② 03 ④ 04 ② 05 ④ 06 ⑤ 07 ② 08 ④
09 ⑤ 10 ⑤ 11 ② 12 ⑤ 13 ④ 14 ⑤ 15 ③ 16 ② 17 ③ 18 ④
19 ③ 20 ② 21 해설 참조 22 해설 참조 23 해설 참조

X 환경 문제와 지속 가능한 환경

26~29쪽 ① 기후 변화 ② 지구 온난화 ③ 물디브 ④ 파리 협정 ⑤ 공해 유발 산업 ⑥ 전자 쓰레기 ⑦ 바젤 협약 ⑧ 미세 먼지 ⑨ 유전자 재조합 식품(GMO) ⑩ 로컬 푸드 운동

01 ④ 02 ③ 03 ③ 04 ④ 05 ② 06 ③ 07 ② 08 ③ 09 ③ 10 ②
11 ① 12 ③ 13 ① 14 ③ 15 ① 16 ① 17 ③ 18 ⑤ 19 ④ 20 ⑤

30~33쪽 01 ② 02 ③ 03 ③ 04 ③ 05 ④ 06 ⑤ 07 ① 08 ⑤
09 ⑤ 10 ③ 11 ① 12 ③ 13 ④ 14 ① 15 ① 16 ③ 17 ④ 18 ④
19 ④ 20 ④ 21 해설 참조 22 해설 참조 23 해설 참조

XI 세계 속의 우리나라

34~37쪽 ① 영역 ② 영공 ③ 직선 기선 ④ 배타적 경제 수역(EEZ) ⑤ 독도 ⑥ 조경 수역 ⑦ 지역 브랜드 ⑧ 지리적 표시제 ⑨ 장소 마케팅 ⑩ 통일

01 ④ 02 ⑤ 03 ③ 04 ③ 05 ② 06 ⑤ 07 ② 08 ② 09 ④ 10 ①
11 ③ 12 ④ 13 ④ 14 ① 15 ④ 16 ④ 17 ⑤ 18 ① 19 ⑤ 20 ③

38~41쪽 01 ④ 02 ① 03 ① 04 ③ 05 ② 06 ⑤ 07 ⑤ 08 ④
09 ③ 10 ① 11 ⑤ 12 ③ 13 ⑤ 14 ③ 15 ③ 16 ④ 17 ① 18 ②
19 ⑤ 20 ⑤ 21 해설 참조 22 해설 참조 23 해설 참조

XII 더불어 사는 세계

42~45쪽 ① 기아 ② 카스피해 ③ 이슬람교, 힌두교 ④ 생물 다양성 협약 ⑤ 인간 개발 지수 ⑥ 빈곤 ⑦ 적정 기술 ⑧ 공적 개발 원조 ⑨ 국제 비정부 기구(NGO) ⑩ 공정 무역

01 ④ 02 ② 03 ② 04 ④ 05 ④ 06 ② 07 ④ 08 ② 09 ① 10 ①
11 ⑤ 12 ⑤ 13 ④ 14 ① 15 ③ 16 ⑤ 17 ① 18 ⑤ 19 ④ 20 ③

46~48쪽 01 ③ 02 ① 03 ④ 04 ② 05 ③ 06 ④ 07 ③ 08 ②
09 ④ 10 ④ 11 ③ 12 ② 13 ④ 14 ④ 15 해설 참조 16 해설 참조
17 해설 참조

VII 인구 변화와 인구 문제

1 인구 분포

2 인구 이동

학교시험경중 문제

▶ 기본학습서 012~015쪽

- 01 ② 02 ③ 03 ② 04 ⑤ 05 ③ 06 ② 07 ①
08 ① 09 ⑤ 10 ① 11 ① 12 ① 13 ④ 14 ②
15 B, D, F 16 ㉠ 배출, ㉡ 흡인 17 ㉠ 역도시화, ㉡
이촌 향도 18 해설 참조 19 해설 참조 20 해설 참조

01

제시된 지도는 세계의 인구가 지구상에 불균등하게 분포하고 있음을 보여준다. 세계 인구는 지역의 자연적, 인문·사회적 요인에 따라 특정 지역에 집중하여 분포한다.

오답풀이 ① 세계 인구 분포는 위도의 영향을 받는다. ③ 고위도 지역은 인구 밀도가 낮은 편이다. ④ 세계 인구는 지구상에 불균등하게 분포한다. ⑤ 적도 지역은 연중 기온이 높아 인구 밀도가 낮은 편이다.

02

지도의 A 지역은 유럽, B 지역은 아시아이며 공통적으로 인구가 밀집하여 분포한다. 이들 지역은 북반구, 중위도에 위치하여 기후가 온화하며, 강수량이 적당한 곳으로 다양한 인간 활동과 농업 활동이 가능한 지역이다. ③ 강수량이 매우 적은 지역은 인간 거주에 불리하여 인구 밀도가 낮은 편이다.

03

최근 과학 기술의 발달로 불리한 자연환경을 극복할 수 있게 되었고, 이에 따라 교통·산업·경제·교육·문화 등 인문적 요인이 발달한 지역에 인구가 집중하고 있다.

오답풀이 ㄴ. 지형이 험한 산지 지역은 인구가 희박한 편이다. ㄹ. 잘 갖추어진 문화 시설은 인구가 밀집하는 요인이 된다.

04

제시된 (가) 지도는 산업화 이전 시기의 인구 분포 모습이다. 산업화 이전의 우리나라는 농업 중심 사회였으므로 평야가 발달하고 기후가 온화하여 벼농사가 발달한 지역에 인구가 집중하여 분포하였다. 이는 기후, 지형 등 자연적 요인의 영향을 받아 형성된 인구 분포이다.

인구 분포에 영향을 주는 요인

- 자연적 요인: 기후, 지형, 식생 등
- 인문·사회적 요인: 경제, 교통, 산업, 교육, 문화 등

우리나라의 인구 분포

- 산업화 이전: 자연적 요인의 영향을 크게 받음 → 벼농사 지역에 인구 집중
- 산업화 이후: 인문·사회적 요인의 영향을 크게 받음 → 수도권 및 대도시에 인구 집중

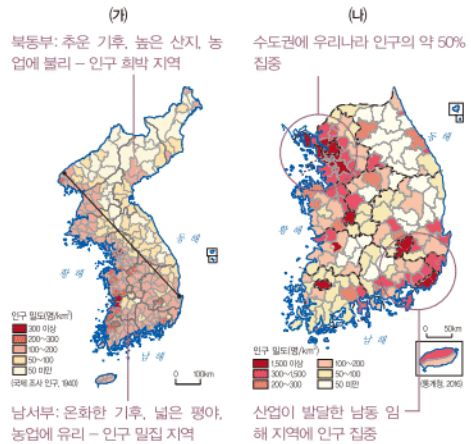
해결의 실마리

과거: 자연환경이 유리한 곳 → 다양한 농업 활동 가능

↓ 과학 기술의 발달

↓ 인문·사회적 요인 중시

문제자료 뜯어보기



05

제시된 (나) 지도는 산업화 이후의 인구 분포 모습이다. 교통 조건과 산업이 발달하면서 수도권과 대도시를 중심으로 많은 인구가 분포하게 되었다.

06

1960년대 이후 산업화의 영향으로 이촌 향도 현상이 급속히 나타나면서 오늘날 수도권과 남동 임해 지역을 중심으로 인구가 집중하여 분포하게 되었다. 한편 자연환경이 불리하고 산업 발달이 늦은 농어촌과 산지 지역은 인구가 희박하게 분포한다. ② 농업 지역은 대체로 인구 밀도가 낮은 편이다.

07

제시된 문제는 배출 요인에 관한 내용이다. 인구를 다른 지역으로 밀어내는 배출 요인으로서는 전쟁, 낮은 임금, 일자리 부족, 열악한 주거 환경, 빈곤 등을 들 수 있다. 반면, 다른 지역의 인구를 끌어들이는 흡인 요인으로서는 높은 임금, 풍부한 일자리, 쾌적한 주거 환경 등이 있다.

08

지도의 A 지역은 주요 인구 유출 지역, B 지역은 주요 인구 유입 지역이다. 인구 유출 지역은 해당 지역의 인구가 다른 지역에서 일자리를 구하면서 청장년층 인구가 감소하여 노동력 부족 문제가 나타날 수 있다. 한편, 인구 유입 지역은 다른 지역으로부터 인구가 유입되기 때문에 노동력 부족 문제가 완화되고 다양한 문화가 공존할 수 있다.

09

지도의 (가) 지역은 유럽으로, 인구 유입 지역이다. ⑤ 유럽은 이주민과 기존 주민 간 갈등이 나타나고 있다.

오답풀이 ① 유럽은 인구 유입 지역이다. ② 유럽은 흡인 요인이 풍부한 지역이다. ③ 인구 유입으로 유럽의 노동력 부족 문제가 일부분 해결되었다. ④ 인구 이동으로 문화적 다양성이 증대되었다.

10

제시된 자료는 필리핀의 인구가 해외로 유출되는 현상에 관한 것이다. 이렇게 인구 유출이 지속될 경우, 청장년층 인구나 고급 기술을 가진 인력이 유출되어 경제 성장이 둔화되는 문제점이 발생할 수 있다. 반면, 실업률이 감소하고 외부 자본이 유입되는 장점도 있다.

11

제시된 지도는 세계에서 인구 유입이 가장 활발한 미국이다. 이 지역에는 라틴 아메리카 출신의 이주민이 가장 많으며 아시아계 이주민도 증가하고 있다. 이렇게 미국으로 유입되는 인구 이동은 대부분 경제적 이동에 해당한다.

② 환경적 이동에 관한 설명이다. ③ 종교적 이동에 관한 설명이다. ④ 미국으로 유입되는 인구 중에는 라틴 아메리카 출신의 이주민이 가장 많다. ⑤ 교통·통신의 발달로 경제적 이동은 계속해서 증가하는 추세이다.

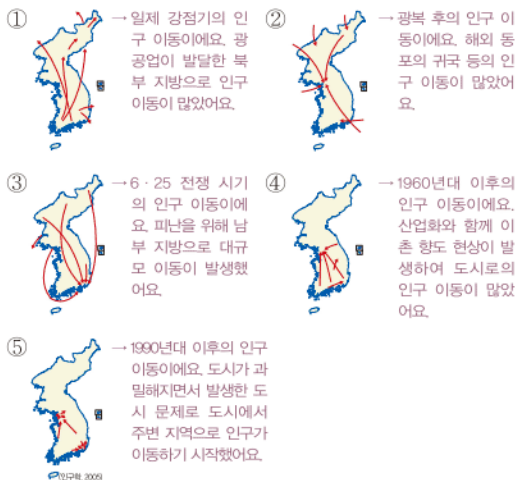
12

오늘날 인구의 국제 이동은 경제적 목적에 의한 이동이 가장 많다. 아프리카, 서남아시아 지역에서는 내전과 분쟁으로 정치적 이동이 발생하고 있으며, 지구 곳곳에서 지구 온난화와 사막화 등으로 인한 환경 난민도 증가하고 있다.

13

우리나라는 1960년대 이후 산업화 추진으로 농촌에 거주하던 사람들이 일자리를 찾아 도시로 이동하는 이촌 향도 현상이 활발하게 나타났다. 이에 따라 수도권과 남동 임해공업 지역에 인구가 밀집하게 되었다.

문제자료 뜯어보기



14

제시된 자료에서 우리나라에 체류하는 외국인의 수는 1990년대부터 급속히 증가하고 있다. 이는 중국이나 동남아시아 등지에서 취업과 결혼 등의 이유로 우리나라에 유입된 외국인이 많아졌기 때문이다.

인구 이동에 영향을 주는 요인

- 흡인 요인: 인구를 지역으로 끌어들이는 요인 → 인구 유입 지역 형성
- 배출 요인: 인구를 다른 지역으로 밀어내는 요인 → 인구 유출 지역 형성

인구 이동에 따른 지역 변화

인구 유입 지역	• 노동력 부족 완화, 경제 활성화, 다양한 문화 공존
인구 유출 지역	• 실업률 감소, 외부 자본 유입, 청장년층 인구 및 고급 인력 유출, 산업 성장 둔화

15

제시된 지도의 A는 유럽, B는 아프리카 사하라 사막, C는 중국 동남부, D는 알래스카, E는 미국 북동부, F는 아마존강 유역이다. 이 중 강수량이 매우 적은 사하라 사막(B), 기온이 너무 낮은 알래스카(D), 기온이 너무 높고 습한 아마존강 유역(F)은 인간 거주에 불리한 조건이 형성되어 인구가 희박하다.

16

일자리 부족, 내전과 분쟁 등은 인구를 밀어내는 배출 요인에 해당한다. 반면, 풍부한 고용 기회, 안전한 생활 환경 등은 인구를 끌어들이는 흡인 요인에 해당한다. 따라서 ㉠은 배출, ㉡은 흡인이다.

17

선진국 내에서는 복잡한 도시를 떠나 쾌적한 환경이 나타나는 도시 주변 지역이나 농촌으로 인구가 이동하는 모습을 볼 수 있는데, 이를 역도시화 현상이라고 한다. 한편 개발 도상국 내에서는 일자리가 풍부한 지역을 찾아 도시 지역으로 인구가 이동하는 이촌 향도 현상이 주로 나타나고 있다.

18

예시답안 계절풍 기후가 나타나는 아시아 지역은 기후가 온화하고 평야가 넓게 형성되어 벼농사에 유리하므로 세계적인 인구 밀집 지역이 형성되었다.

채점 기준	등급	평가 기준
	상	아시아 지역의 자연환경 조건과 벼농사 내용을 모두 서술한 경우
	하	아시아 지역의 자연환경 조건 또는 벼농사 내용 중 한 가지만 서술한 경우

19

예시답안 A 국가는 흡인 요인을 갖춘 인구 유입 지역으로, B 국가에 비해 경제가 발달하고 일자리가 풍부하며, 잘 갖추어진 교육 및 문화 시설, 쾌적한 주거 환경, 정치적 자유를 누릴 수 있는 선진국이다.

채점 기준	등급	평가 기준
	상	인구 유입이 많은 A 국가의 흡인 요인을 두 가지 이상 서술한 경우
	하	인구 유입이 많은 A 국가의 흡인 요인을 한 가지만 서술한 경우

20

예시답안 지도에 나타난 인구 이동은 난민의 정치적 이동으로, 내전 및 분쟁으로 인한 배출 요인에 의해 발생한다.

채점 기준	등급	평가 기준
	상	인구 이동의 유형을 쓰고, 그 요인을 옳게 서술한 경우
	하	인구 이동의 유형은 썼으나 그 요인을 미흡하게 서술한 경우

3 인구 문제

학교 시험 걱정 문제

▶ 기본학습서 018~021쪽

- 01 ⑤ 02 ① 03 ② 04 ⑤ 05 ④ 06 ④ 07 ③
08 ② 09 ② 10 ① 11 ① 12 ③ 13 ② 14 ①
15 ㉠ 선진국, ㉡ 개발 도상국 16 남아 선호 사상
17 ㉠ 억제, ㉡ 출산 장려 18 해설 참조 19 해설 참조
20 해설 참조

01

제시된 그래프에서 세계 인구는 산업 혁명 이후 증가하기 시작하였으며, 제2차 세계 대전 이후에 더욱 급속히 증가하고 있다.

02

제시된 그래프의 A는 개발 도상국, B는 선진국이다. 개발 도상국(A)은 제2차 세계 대전 이후 사망률이 감소하면서 급속한 인구 성장이 나타나고 있는 반면, 선진국(B)은 산업 혁명 이후 인구가 성장하면서 현재는 인구 증가 속도가 완만하거나 정체되고 있다.

03

중국, 인도, 페루 등 아시아 및 라틴 아메리카의 개발 도상국들은 높은 출생률과 낮은 사망률로 인해 인구가 급속하게 증가하고 있다.

04

선진국에서는 여성의 사회 참여 증가, 결혼 및 출산에 대한 가치관 변화 등으로 인해 저출산 문제가 발생하였다.

오답풀이 ㄱ. 선진국의 인구 부양력은 높은 편이며, 낮은 인구 부양력으로 인해 인구 문제가 나타나는 곳은 개발 도상국이다. ㄴ. 종교·문화적인 전통과 저출산 현상은 큰 관련이 없다.

05

제시된 그래프는 일본의 인구 구조 변화이다. 일본은 노인 인구 비율이 증가하면서 고령화 문제가 발생하고 있는 대표적인 국가이다. 고령화 현상이 지속되면 생산 가능 인구가 감소하면서 경제 성장이 둔화되고, 노동력이 부족해지며 노인 인구 부양의 부담이 증가하게 된다. 또, 노동력 부족 문제를 해결하기 위해 유입된 외국인 노동자와 문화적 갈등이 발생하는 등의 문제가 나타날 수 있다.

오답풀이 ㄱ. ①, ③ 고령화 현상이 발생하면 생산 가능 인구가 줄어들고 노동력이 부족해지기 때문에 경제 성장이 둔화될 수 있다. ② 고령화 현상이 지속되면 세대 간 갈등이 심화될 수 있다. ⑤ 고령화 현상이 지속되는 국가에서는 인구의 정체 및 감소가 문제가 되고 있다.

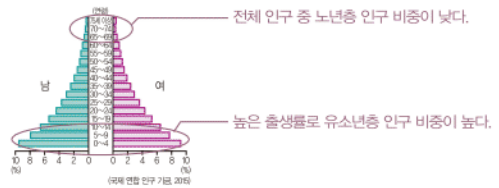
개발 도상국의 인구 문제

- 급격한 인구 증가: 인구 증가 속도 > 경제 성장 속도 → 낮은 인구 부양력으로 기아, 빈곤, 실업 문제 발생
- 출생 성비 불균형: 남아 선호 사상으로 남초 현상

06

제시된 인구 피라미드와 같이 노년층의 인구 비중은 낮고 유소년층의 인구 비중이 높은 지역은 개발 도상국이다. 개발 도상국은 높은 출생률로 인해 인구가 폭발적으로 증가하는 현상이 나타나고 있다.

문제자료 뜯어보기



오답풀이 ㄱ. 개발 도상국에서는 인구 증가 현상이 나타나고 있다. ㉠, ㉡, ㉢ 선진국에 관한 설명이다.

07

개발 도상국은 출생률이 높아 인구가 급속히 성장하고 있다. 그러나 낮은 경제 수준 때문에 인구 부양력이 낮고, 이혼 현상으로 인구의 도시 집중이 나타난다.

오답풀이 ㄱ. 역도시화 현상이란 대도시의 주거 환경이 열악해지고 교통과 통신이 발달하면서 대도시의 인구가 농촌이나 주변 지역으로 이동하는 현상을 일컫는 말이다. 이러한 현상은 주로 선진국에서 쾌적한 환경을 찾아 떠나는 인구 이동이 일어나면서 발생한다. ㄴ. 노인 부양 비용이 증가하는 것은 선진국의 인구 문제이다.

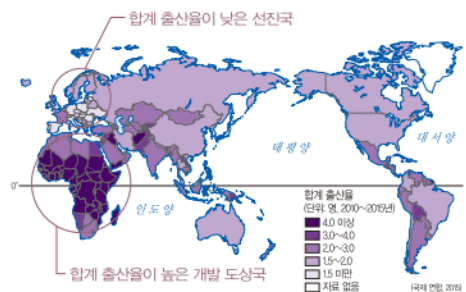
08

제시문의 A국은 낮은 인구 부양력으로 빈곤과 실업 등의 인구 문제를 겪고 있는 개발 도상국이다. 개발 도상국에서는 당면한 인구 문제를 해결하기 위해 식량 증산 정책, 경제 개발 정책 추진 등의 노력이 요구된다.

09

유럽을 비롯한 선진국은 합계 출산율이 낮은 곳으로, 저출산 현상으로 인한 문제가 나타날 것으로 예상된다. 한편 아시아, 아프리카, 라틴 아메리카 등의 개발 도상국은 합계 출산율이 매우 높아 급속한 인구 성장이 예상된다.

문제자료 뜯어보기



10

제시된 자료는 1960년대, 1970년대, 1980년대의 인구 정책과 관련된 포스터이다. 우리나라는 1960년대 이후 높은 출생률로 인구가 급증하였고, 정부에서는 이를 해결하기 위한 가족 계획 사업으로 인구 억제 정책을 추진하였다.

문제자료 뜯어보기



▲ 1960년대 ▲ 1970년대 ▲ 1980년대

공통적으로 높은 출생률을 낮추기 위한 슬로건을 내걸고 있어요.

11

제시된 기사는 인구 중 고령 인구가 절반 이상을 차지하는 한계 마을에 관한 내용으로, 심화되는 고령화 현상을 다루고 있다. 농촌의 경우 고령화 문제가 심각하여 노동력 부족 문제가 발생하고 있다.

오답풀이 ② 한계 마을이 증가하는 것으로 보아, 노년층의 인구 비중이 증가하고 있음을 알 수 있다. ③ 고령화 현상이 심화되면서 인구 증가 속도는 완만하거나 정체될 것이다. ④ 노년층 인구 비중이 늘어나면 인구의 평균 연령은 높아진다. ⑤ 고령화 현상으로 생산 가능 인구의 비중이 줄어 노인 인구의 부양 부담은 증가할 것이다.

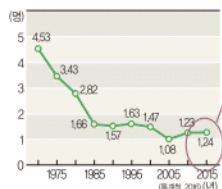
12

제시된 그림에서 학생들은 공통적으로 저출산 문제의 해결 방안을 말하고 있다. 저출산 문제를 해결하려면 임신과 출산 관련 의료비 및 양육비 지원, 공공 교육 서비스 제공, 청년층 고용 안정 등의 출산 장려 정책이 이루어져야 한다.

13

제시된 그래프는 우리나라의 저출산 현상이 심화되고 있음을 보여 준다. 이는 결혼 연령 상승, 주택 마련 비용 증가, 여성의 사회 진출 확대, 육아 및 가사 노동 부담, 자녀에 대한 가치관 변화 등으로 발생한 현상이다. ② 의료 수준의 향상은 평균 기대 수명이 상승하는 것과 관련이 깊으므로 고령화 현상의 원인으로 보는 것이 적절하다.

문제자료 뜯어보기



우리나라의 합계 출산율은 2015년 기준 1.24명으로 저출산 현상이 매우 심각하게 나타나고 있음을 알 수 있어요.

▲ 우리나라 합계 출산율의 변화

남아 선호 사상

중국, 인도 등 아시아 일부 국가에서 남아 아이를 선호하는 사상 → 인공적인 성비 조절로 출생 성비가 불균형해짐

우리나라의 저출산

1960년대 인구 급증



인구 억제 정책 실시



출생률의 급속한 저하



저출산 문제 발생

지역에 따른 인구 문제

- 선진국: 저출산, 고령화
- 개발 도상국: 인구 급증, 낮은 인구 부양력 등

14

고령화 문제를 해결하기 위해 노인 직업 훈련 확대 및 일자리 제공, 정년 연장, 연금 확대, 노인 복지 시설 확충 등 다양한 사회 보장 제도의 확충과 보완이 필요하다.

15

선진국은 산업 혁명 이후부터 인구가 성장한 지역으로 현재 인구 증가 속도가 완만하거나 정체되고 있다. 반면, 개발 도상국은 제2차 세계 대전 이후 인구가 급증하고 있는 지역으로 세계 인구 성장을 주도하고 있다.

16

인도, 중국 등 일부 국가에서는 남아 선호 사상의 영향으로 성비 불균형 문제가 심각하게 발생하고 있다.

17

1960년대 우리나라는 급속한 인구 증가로 인해 인구 억제 정책과 같은 가족 계획 사업을 추진하였다. 그러나 최근에는 저출산 현상이 뚜렷하게 나타나고 있어 이를 해결하기 위해 출산 장려 정책을 추진하고 있다.

18

예시답안 선진국은 인구가 완만하게 증가하는 반면, 개발 도상국은 1950년대 이후 인구가 급속하게 증가하고 있다.

채점기준	등급	평가 기준
	상	선진국의 인구 증가 속도와 개발 도상국의 인구 증가 속도를 모두 옳게 서술한 경우
	하	선진국 또는 개발 도상국 중 한 지역의 인구 변화에 대해서만 서술한 경우

19

예시답안 선진국은 노년층 인구 비중이 매우 높아 고령화 문제가 나타나며, 개발 도상국은 높은 출생률로 인해 급속한 인구 증가 문제가 나타난다.

채점기준	등급	평가 기준
	상	선진국과 개발 도상국의 인구 문제를 각각 한 가지씩 서술한 경우
	하	선진국 또는 개발 도상국 중 한 지역의 인구 문제에 대해서만 서술한 경우

20

예시답안 우리나라는 다른 선진국에 비해 고령화 현상의 진행 속도가 빠르다. 고령화 현상이 나타나면 경기 침체, 노동력 부족 등의 문제가 발생한다.

채점기준	등급	평가 기준
	상	우리나라 고령화 현상의 진행 속도가 빠르다는 내용과 고령화의 문제점을 옳게 서술한 경우
	하	우리나라의 고령화 현상이 빠르게 진행되고 있다고만 서술한 경우

대단원 완성문제

기분학습서 023~026쪽

01 ② 02 ① 03 ⑤ 04 ⑤ 05 ② 06 ① 07 ⑤
08 ⑤ 09 ⑤ 10 ④ 11 ③ 12 ③ 13 ② 14 ①
15 ③ 16 ① 17 해설 참조 18 해설 참조 19 해
설 참조 20 해설 참조

01

제시된 지도의 A는 유럽의 온화한 기후가 나타나는 지역, B는 서남아시아에서 건조한 기후가 나타나는 지역, C는 온화한 기후가 나타나 벼농사에 유리한 중국 동남부, D는 오스트레일리아의 건조한 기후 지역, E는 몹시 추운 기후가 나타나는 알래스카, F는 덥고 습한 기후가 나타나는 아마존강 유역이다. 이 중 중위도 지역으로 인간 거주에 유리한 곳은 유럽 일부(A)와 중국 동남부(C) 지역이다.

02

제시된 사진은 도시의 경관이다. 도시는 경제, 교통, 산업 등 인문·사회적 요인에 의해 인구가 밀집하여 분포한다.

오답풀이 ② 지형, ③ 지형과 식생, ④ 기후와 지형, ⑤ 기온과 강수량은 모두 자연적 요인이다.

03

지구상의 여러 지역 중 기후 조건이 불리한 지역, 즉 너무 덥거나 추운 지역, 강수량이 적은 지역 등은 인간이 거주하기에 불리하여 인구 밀도가 매우 낮다.

문제자료 뜯어보기



04

1960년대 산업화의 영향으로 농촌의 인구가 일자리를 찾아 도시로 이동하는 이촌 향도 현상이 발생하였고, 이로 인해 수도권과 대도시 지역에 인구가 집중하였다.

05

흡인 요인이라 인구를 지역으로 끌어들이는 요인으로 높은 임금, 풍부한 일자리, 쾌적한 생활 환경, 다양한 교육 및 문화 시설 등이 있다. ② 내전과 분쟁은 인구를 다른 지역으로 밀어내는 배출 요인이며, 배출 요인으로는 실업, 경제적 낙후, 열악한 생활 환경 등이 있다.

08 정답과 해설

06

오늘날 세계의 인구 이동은 대부분 경제적 목적의 이동이며, 개발 도상국에서 선진국으로 이동하는 경우가 많다.

문제자료 뜯어보기



오답풀이 ② 환경적 이동에 관한 설명이다. ③, ⑤ 정치적 이동에 관한 설명이다. ④ 종교적 이동에 관한 설명이다.

07

최근 나타나는 국제 이동은 경제적 목적이 대부분이며, 개발 도상국에서 선진국으로 이동하는 것이 주된 특징이다. 한편, 지구 온난화와 사막화 등으로 인해 오랜 삶의 터전을 떠나는 환경 난민도 발생하고 있다.

08

투발루는 지구 온난화로 인한 해수면 상승으로 국토가 바닷물에 잠기고 있다. 이러한 영향으로 환경적 이동이 발생하고 있다.

09

서울, 부산 등 대도시는 인구가 밀집하여 교통 혼잡, 주택 가격 상승, 환경 오염 등과 같은 생활 환경이 악화되었다. 이로 인해 1990년대 이후에는 도시 인구가 주변 지역으로 이동하는 역도시화 현상이 나타나고 있다.

10

세계의 인구는 산업 혁명 이후 급속히 증가하였고, 제2차 세계 대전 이후에 더욱 급속도로 증가하고 있다. ④ 선진국에서는 합계 출산율이 감소하고 있으나, 개발 도상국의 폭발적인 인구 증가로 전 세계의 인구는 여전히 증가하는 추세이다.

11

우리나라를 비롯한 선진국에서는 고령화 현상이 나타나 노동력 부족, 경제 성장 둔화 등의 문제가 발생하고 있다.

오답풀이 ①, ②, ④, ⑤ 경제가 성장하는 속도보다 인구가 증가하는 속도가 빨라 낮은 인구 부양력으로 인구 문제를 겪고 있는 개발 도상국에 관한 내용이다. 일부 개발 도상국에서는 폭발적인 인구 증가로 양질의 일자리가 부족하고, 급속한 도시화로 도시 과밀화 문제가 발생하고 있다.

역도시화 현상

대도시의 주거 환경이 열악해지고, 교통과 통신이 발달하면서 대도시의 인구가 농촌이나 주변 지역으로 이동하는 현상

이촌 향도 현상

산업화 등의 영향으로 주로 일자리 등을 찾아 촌락의 인구가 도시로 이주하는 현상

12

제시문은 프랑스(A국)에서 저출산 문제를 해결하기 위해 출산 및 육아를 지원하는 정책을 실시한다는 내용이다. 이와 같이 저출산 문제가 심각하게 나타나는 국가에서는 다양한 출산 장려 정책을 시행하고 있다.

13

제시된 인구 피라미드에서는 노년층의 인구 비중은 낮고, 유소년층의 인구 비중은 높게 나타나고 있다. 해당 국가는 높은 출생률의 영향으로 유소년층의 인구 비중이 매우 높은 국가이다. 이러한 형태는 인도, 필리핀, 방글라데시, 나이지리아 등 개발 도상국에서 주로 나타나는 모습이다. ② 일본은 노년층의 인구 비중이 높게 나타나는 국가로, 고령화 현상이 심각하게 나타난다.

14

개발 도상국에서는 급격한 인구 증가로 인해 인구 부양력이 낮은 문제가 나타난다. 이를 해결하기 위해 가족 계획 사업을 추진하고, 경제 성장을 통한 일자리 창출과 식량 생산 증대를 위한 농업 활성화 등의 방안이 필요하다.

오답풀이 ㄷ, ㄹ. 출산 장려 정책이나 노인 복지 제도 확충은 저출산·고령화 현상으로 인구 문제가 나타나는 선진국에서 필요한 방안이다.

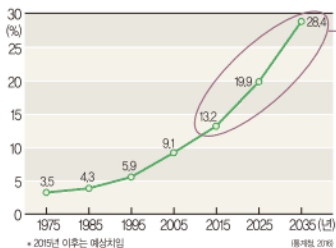
15

제시된 자료는 1970년대 인구 정책의 일환으로 만들어진 포스터이다. 당시 우리나라는 낮은 사망률과 높은 출생률로 인구가 급속도로 증가하였다. 따라서 과도한 인구 증가를 막기 위한 인구 억제 정책을 실시하였다.

16

우리나라의 고령화 문제는 빠른 속도로 심화되고 있다. 이러한 현상이 지속될 경우, 노동력이 부족해지고 노인 부양 부담이 늘어나 경제가 침체될 수 있다. 따라서 이를 해결하기 위해서는 정년을 연장하거나 연금 제도를 확충하는 등 다양한 노인 복지 정책과 사회 보장 제도를 시행해야 한다.

문제자료 뜯어보기



▲ 우리나라 65세 이상 인구 비율의 변화

오답풀이 ㄷ, ㄹ. 청년 일자리 창출, 양육비와 보육비 지원 등은 저출산 현상을 완화하기 위한 출산 장려 정책으로 적절하다.

우공비 Note

해결의 실마리

낮은 출생률



정부의 적극적인 출산, 육아 지원



출생률 향상 기대

우리나라 인구 정책의 변화

1960년대 이후

인구 증가 억제를 위한 가족 계획 실시



2000년대 이후

뚜렷한 저출산 현상을 완화하기 위한 출산 장려 정책 실시

17

예시답안 세계의 인구는 지구상에 불균등하게 분포한다. 대부분 북반구 중위도 지역, 평야와 해안 지역에 집중하고 있으며, 적도 및 사막, 극지방 등에는 인구가 희박하게 분포하고 있다.

채점기준	등급	평가 기준
상	상	인구 밀집 지역과 인구 희박 지역의 특징을 정확히 서술한 경우
	하	인구 밀집 지역 또는 인구 희박 지역 중 한 곳에 대해서만 정확히 서술한 경우

18

예시답안 (가)는 인구 유출 지역으로, 청장년층의 인구 비중이 감소하거나 산업 및 경제 성장이 둔화되는 등의 문제점이 발생할 수 있다.

채점기준	등급	평가 기준
상	상	인구 유출 지역의 특징을 명확하게 서술한 경우
	하	인구 유출 지역의 특징을 서술했으나 미흡한 경우

19

예시답안 1990년대부터 우리나라의 임금 상승으로 인해 저렴한 노동력이 필요하게 되면서 취업을 목적으로 경제적 이동을 하는 외국인 근로자가 많아졌고, 외국인 여성들의 결혼을 목적으로 한 이주가 증가하였기 때문이다.

채점기준	등급	평가 기준
상	상	우리나라의 외국인 체류 증가 이유가 취업과 결혼 목적이라는 것을 모두 제시한 경우
	하	우리나라의 외국인 체류 증가 이유를 취업 또는 결혼 중 한 가지 내용만 제시한 경우

20

예시답안 선진국은 출생률과 사망률이 모두 낮아 유소년층의 인구 비중은 낮지만, 노년층의 인구 비중이 매우 높다. 반면 개발 도상국은 출생률은 높지만 사망률이 낮아 노년층에 비해 유소년층의 인구 비중이 높게 나타난다. 특히 선진국은 출생률이 낮고 상대적으로 노년층 인구 비중이 매우 높아 저출산·고령화 문제가 심각하게 나타나고 있다. 이러한 문제를 해결하기 위해 선진국에서는 양육비 및 보육료를 지원하거나, 국가에서 아이들의 교육을 책임지는 등 출산 장려를 위한 정책 마련이 필요하다. 또한 늘어나는 노인 문제를 해결하기 위해 노인 일자리 확충, 연금 제도 개선, 노인 복지 제도 확대 등 다양한 사회 보장 제도의 개선이 요구된다.

채점기준	등급	평가 기준
상	상	선진국과 개발 도상국의 인구 구조의 특징과 선진국의 인구 문제 및 대책을 모두 정확히 서술한 경우
	중	제시된 두 가지 조건에 맞추어 서술했으나, 그 내용이 미흡한 경우
	하	제시된 두 가지 조건 중 한 가지만 서술한 경우

VIII 사람이 만든 삶터, 도시

1 생활 공간으로서의 도시

2 도시 내부의 다양한 경관

학교시험격중 문제

▶ 기본학습서 032~035쪽

01 ③ 02 ⑤ 03 ① 04 ⑤ 05 ③ 06 ⑤ 07 ③
08 ⑤ 09 ④ 10 ⑤ 11 ④ 12 ① 13 ③ 14 ①
15 뉴욕 16 인구 공동화 17 개발 제한 구역 18 해설
참조 19 해설 참조 20 해설 참조

01

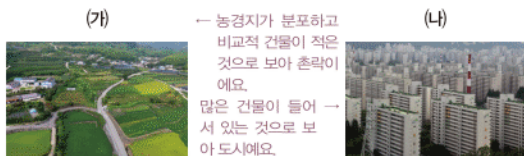
제시문의 ㉠은 도시이다. 도시는 많은 인구가 거주하면서 각종 산업 활동이 활발히 이루어지기 때문에 지가가 높다. 따라서 한정된 토지를 효율적으로 활용하기 위해 토지 이용이 집약적이다.

▶ **오답풀이** 도시는 ① 인구 밀도가 높고, ② 인문 경관이 발달하며, ④ 1차 산업보다는 2·3차 산업 종사자 비율이 높다. ⑤ 도시는 주변 지역에 재화와 서비스를 제공하는 중심지 역할을 한다.

02

사진의 (가)는 촌락, (나)는 도시이다. 도시는 촌락보다 건물의 평균 높이가 높고, 인구 밀도가 높으며, 토지 이용이 집약적이다. 반면 농업 생산액 비중은 낮다. ⑤ 도시는 2·3차 산업이 발달하여, 각종 제조업과 서비스업 등 주민의 직종이 매우 다양하다.

문제자료 1. 뜯어보기



03

(가)는 최초의 도시가 형성된 지역이다. 최초의 도시는 기원전 3,500년 무렵 이라크의 티그리스강과 유프라테스강 유역의 문명 발상지에서 형성되었다. 농업 생산량이 많은 하천 주변의 농경지를 중심으로 인구가 집중하면서 도시가 형성되었다.

04

제시문은 각 시대마다 도시가 발달한 과정에 관한 내용이다. 중세에는 상업이 발달하면서 상거래가 이루어지는 시장을 중심으로 상업 도시가 발달하였다. 근대에는 산업 혁

명을 거치면서 석탄, 철광석 등 지하자원 산지를 중심으로 공업 도시가 발달하였다.

05

제시문에 해당하는 도시는 싱가포르(C)이다. 싱가포르는 중국 출신의 화교가 경제적 목적으로 다수 이주해 왔으며, 전체 인구 구성에서 화교가 차지하는 비중이 높다. 또한 태평양과 인도양을 잇는 국제 교통의 중심지로, 많은 문화와 민족의 교류가 이루어지는 곳이다.

▶ **오답풀이** 지도의 A는 이탈리아의 로마, B는 남아프리카 공화국의 케이프타운, D는 미국의 뉴욕, E는 브라질의 리우데자네이루이다.

06

쿠리치바는 생태 도시로, 자연과 인간이 공존하는 방법을 찾기 위해 다양한 노력을 하고 있다. 쿠리치바는 남반구에 위치한 브라질의 도시이며, 수도에 해당하지 않는다. 인구가 밀집한 세계 도시는 뉴욕, 런던, 도쿄 등이 있다.

07

제시된 미국 뉴욕, 영국 런던, 일본 도쿄는 모두 대표적인 세계 도시이다. 세계 도시는 세계적 영향력을 가진 금융 기관, 다국적 기업의 본사, 각종 국제기구 사무소 등이 다수 입지하고 있으며, 자본과 정보의 집중이 이루어져 세계 경제의 중심지 역할을 한다.

08

자료는 독일의 프라이부르크에 관한 내용이다. 프라이부르크는 브라질의 쿠리치바와 함께 '세계의 환경 수도'로 불릴 정도로, 친환경 에너지·교통·주거 정책 등에 있어서 대표적인 생태 도시이다.

09

제시된 도시 카드는 오스트레일리아 시드니에 관한 것이다. 시드니는 아름다운 항구와 랜드마크인 오페라하우스로 유명한 도시이다.

▶ **오답풀이** ① 콜로세움은 역사·문화 도시인 이탈리아 로마의 랜드마크이다. 로마는 역사적 가치가 큰 유적이 많아 이를 보기 위해 해마다 많은 관광객이 찾아온다. ② 자유의 여신상은 세계 도시인 미국 뉴욕의 랜드마크이다. ③ 에펠탑은 세계 도시인 프랑스 파리의 랜드마크이다. 뉴욕, 파리는 도쿄와 함께 세계 경제와 정치의 중심지 역할을 수행하는 세계 도시이다. ⑤ 타지마할은 인도 아그라에 위치한 랜드마크이다.

10

제시된 사진은 서울의 도심인 중구의 경관으로, 고층 빌딩이 밀집해 있는 모습이 나타나 있다. 높은 건물이 한 데 모여 있는 것으로 보아 접근성과 지가가 높은 도시 중심부임을 알 수 있다.

세계 도시

- 의미: 다국적 기업의 본사가 많이 위치하고, 자본과 정보가 집중하여 세계 경제와 정치의 중심지 역할을 수행하는 도시
- 사례: 미국 뉴욕, 영국 런던, 일본 도쿄

랜드마크

- 의미: 국가나 도시, 특정 지역을 대표하는 시설, 건축물, 지형 지물
- 건축물: 콜로세움, 에펠탑, 자유의 여신상 등
- 지형 지물: 런던 템스강, 서울 남산 등

오답풀이 ① 1차 산업이 발달한 농촌의 모습이다. ② 주거 기능이 발달한 도시의 주변 지역에서 볼 수 있다. ③ 공업 기능이 발달한 도시의 주변 지역에서 볼 수 있다. ④ 산지, 하천과 같이 자연 경관이 펼쳐진 곳은 촌락의 모습이다. 도심은 인문 경관이 주를 이룬다.

11

제시된 대화창에서 두 학생은 도시 내부의 서로 다른 경관에 관하여 대화하고 있다. 도시는 규모가 커짐에 따라 특정 지역에 같은 종류의 기능은 모이고 다른 기능들은 서로 분리되는 현상이 발생하며, 이를 도시 내부의 지역 분화라고 한다. 도시는 지역마다 서로 다른 기능이 자리를 잡아가면서 경관의 차이가 나타나게 된다.

12

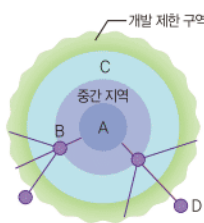
토지의 거래 가격인 지가는 접근성이 높은 곳일수록 대체로 높게 나타난다. 도시 내에서는 도심이 가장 높으며, 주변 지역으로 가면서 대체로 낮아진다. 도심의 기능을 일부 분담하는 부도심은 교통이 편리한 곳에 형성되므로 지가가 비교적 높은 편이다.

오답풀이 ②, ③, ④, ⑤ 모두 도심보다는 주변 지역에서 높은 수치를 보이는 지표들이다.

13

제시된 그림은 도시의 내부 구조 및 위성 도시를 나타낸 것으로, A는 도심, B는 부도심, C는 주변 지역, D는 위성 도시이다. 제시문의 (가)는 도심의 기능을 일부 분담하는 부도심(B), (나)는 대도시의 기능을 분담하는 위성 도시(D)에 관한 설명이다.

문제자료 | 뜯어보기



- A - 도시의 중심적인 기능이 모여 있는 도심으로, 중심 업무 자구가 형성돼요.
- B - 도시의 기능을 분담하는 부도심으로, 도시와 주변 지역을 연결하는 교통의 요지에 형성돼요.
- C - 주거 기능, 공업 기능 등이 발달하는 주변 지역으로, 상주인구가 많아요.
- D - 대도시의 인구와 기능을 분담하는 위성 도시로, 대도시의 상권이나 통학·통근권에 속해요.

14

그림의 (가) 지역은 고층 건물이 많은 것으로 보아 도심이고, (나) 지역은 (가)에서 멀리 떨어져 있고, 아파트 단지가 있는 것으로 보아 주변 지역이다. 주변 지역은 도심보다 접근성이 낮고, 주거 단지, 학교, 공장 등이 분포한다.

오답풀이 ㄷ. 단위 면적당 지가는 주변 지역보다 도심에서 더 높게 나타난다. ㄹ. 인구 공동화 현상은 업무 기능이 집중되어 주거 기능이 약한 도심에서 뚜렷하게 나타난다.

15

제시문은 대표적인 세계 도시인 미국의 뉴욕에 관한 내용

인구 공동화 현상

- 의미: 낮에 도심에서 활동하던 사람들이 야간에 외곽의 주거 지역으로 귀가하면서 도심의 사람들이 급속히 줄어드는 현상
- 발생 지역: 상업 및 업무 기능이 강한 도시의 중심 부(도심)
- 영향: 통학 및 통근 시간 대의 교통 혼잡 등

도심과 주변 지역

- 기능적 차이: 도심은 업무·상업 기능, 주변 지역은 주거 기능이 발달함
- 경관적 차이: 도심은 건물의 높이가 높고, 주변 지역은 낮음
- 지가 차이: 도심은 높고, 주변 지역은 낮음

해결의 실마리

회사·고층 빌딩 → 토지 이용이 집약적이고 업무 기능이 위치함



(가)는 도심

아파트 단지 → 주거 기능이 위치



(나)는 주변 지역

이다. 뉴욕은 월스트리트로 알려진 국제 금융·증권가가 있고, 국제 연합 본부, 다국적 기업의 본사가 다수 입지해 있다. 세계 경제의 중심 도시인 만큼 여러 지역에서 유입된 이민자들이 함께 살아가며 다양한 도시 경관이 나타난다.

16

제시된 자료는 도심의 인구 공동화 현상에 관한 내용이다. 도심은 낮에 업무나 쇼핑 등으로 인구가 많이 모이지만, 밤에는 주변 지역이나 위성 도시로 인구가 빠져나가면서 한산해진다. 이는 도심의 지가가 오르자 도심의 주거 기능이 주변 지역으로 빠져나가면서 발생한 현상이다.

17

제시된 자료에서 검색된 내용은 개발 제한 구역에 관한 것이다. 개발 제한 구역은 도시의 무질서한 팽창을 막고, 자연 환경을 보전하기 위해 대도시의 주변 지역에 설정된다. 또한 토지를 소유하고 있는 개인의 재산권 행사가 제한된다.

18

예시답안 (가) 지역은 상대적으로 좁은 지역에 많은 사람이 모여 있어, 인구 밀도가 높고, 토지 이용이 집약적이며, 1차 산업 종사자 비율이 낮은 반면 2·3차 산업 종사자의 비율이 높다.

채점 기준	등급	평가 기준
	상	지역의 특성을 인구 밀도, 토지 이용, 산업별 종사자 비율 측면에서 모두 옳게 서술한 경우
	하	지역 특성의 서술 내용에서 인구 밀도, 토지 이용, 산업별 종사자 비율 측면 중 일부만 옳게 서술한 경우

19

예시답안 비슷한 종류의 기능은 지역적으로 모이고 다른 종류의 기능은 분리되면서, 도시 내부가 중심 업무 지역, 상업 지역, 공업 지역, 주거 지역 등과 같이 기능별로 나뉘어진다.

채점 기준	등급	평가 기준
	상	도시 내부의 지역이 기능적 측면에서 나뉘어진다는 내용을 포함하여 서술한 경우
	하	도시 내부의 지역이 다른 경관이나 특징을 보인다는 내용으로 서술한 경우

20

예시답안 (가)는 도심, (나)는 주변 지역이다. (가)의 도심은 (나)의 주변 지역보다 접근성과 지가가 높다. 또한 (가)의 도심은 업무 기능이 강한 반면, (나)의 주변 지역은 주거 기능이 강하다.

채점 기준	등급	평가 기준
	상	제시어를 모두 사용하여 옳게 서술한 경우
	중	비교 내용은 옳지만 제시어의 일부 또는 전체가 누락된 경우
	하	비교 내용 및 제시어의 사용이 모두 미흡한 경우

3 도시화와 도시 문제

4 살기 좋은 도시

학교 시험 걱정 문제

▶ 기본학습서 040~043쪽

01 ② 02 ② 03 ② 04 ③ 05 ③ 06 ③ 07 ④
08 ② 09 ⑤ 10 ② 11 ① 12 ② 13 ② 14 ④
15 이촌 향도 16 슬럼 17 주택 부족 18 해설 참조
19 해설 참조 20 해설 참조

01

밀집된 '이것'은 도시화이다. 도시화는 일반적으로 산업화와 함께 진행되며, 이 과정에서 1차 산업 종사자 비율이 감소한다. 선진국의 도시화는 18세기 후반 산업 혁명 이후 서서히 진행되었고 최근에는 아프리카가 유럽보다 도시화의 진행 속도가 빠른 편이다. 도시화가 급속하게 진행되는 국가일수록 도시 문제가 심각하게 나타난다.

02

사진은 중국의 상하이의 경관 변화를 보여준다. 도시 인구 규모가 커지면서 토지 이용이 더욱 집약적으로 바뀌고 이로 인해 도심의 단위 면적당 지가가 상승하였을 것이다.

▶ **오답풀이** ① 도시가 성장하면서 인구 밀도가 증가하고, ③ 업무용 건물의 분포 비율도 증가하였을 것이다. ④ 2·3차 산업이 발달하고 고층 건물의 수가 많아지면서 집약적인 토지 이용 추세가 강화되었을 것이다. ⑤ 1차 산업의 종사자 수 비율은 감소하였을 것이다.

03

제시된 도시화 곡선의 (가)는 초기 단계, (나)는 가속화 단계, (다)는 종착 단계이다. 가. (가)에서는 인구의 대부분이 촌락에 거주하며, 도시화 곡선이 완만하게 상승한다. 나. (나)에서 (다)로 가면서 2차 산업 대신 3차 산업이 크게 발달하므로, 3차 산업 종사자 비중은 증가한다.

▶ **오답풀이** 나. 역도시화 현상은 도시화율이 정체 또는 감소하는 (다)에서 발생한다. 다. 이촌 향도 현상은 도시화 곡선이 가파르게 상승하는 (나)에서 가장 활발하다.

04

그래프의 A는 선진국, B는 개발 도상국의 도시화율 변화를 나타낸 것이다. ③ 개발 도상국은 20세기 중반 이후 짧은 기간에 급속한 산업화와 도시화 과정을 겪었다.

05

빈칸에 들어갈 용어는 역도시화이다. 역도시화는 도시 인구가 도시 주변이나 촌락으로 분산되면서 도시 인구가 감소하는 현상으로, 도시화의 종착 단계에서 나타난다.

대륙별 도시화율

- 도시화율이 높은 대륙: 앵글로아메리카, 라틴 아메리카, 유럽, 오세아니아 → 도시화율의 증가 속도가 느림
- 도시화율이 낮은 대륙: 아시아, 아프리카 → 도시화율의 증가 속도가 빠름

06

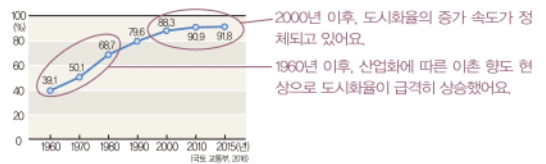
지도의 A는 유럽, B는 아프리카, C는 앵글로아메리카, D는 라틴 아메리카이다. ③ 아프리카는 라틴 아메리카보다 도시화율이 20~80%인 국가의 비율이 높으므로, 도시화의 가속화 단계에 속하는 국가 비율이 높다.

▶ **오답풀이** ① 유럽은 산업 혁명 시기부터 도시화가 본격적으로 진행되었다. 따라서 아프리카보다 도시화의 역사가 길다. ② 아프리카는 도시화율이 낮은 국가와 높은 국가가 다양하게 분포하는 편이다. 따라서 국가 간 도시화율의 차이는 유럽이 더 작다. ④ 도시화율의 분포로 보아 라틴 아메리카에서 이촌 향도 현상이 더 활발하다. ⑤ 앵글로아메리카의 국가들은 모두 도시화율이 80% 이상이다. 반면에 라틴 아메리카는 도시화율이 80% 미만인 국가들도 있다. 따라서 도시화율은 앵글로아메리카가 더 높다.

07

그래프는 우리나라 도시화율의 변화를 나타낸 것이다. 1970년의 도시화율이 50.1%이므로, 1970년에는 도시 인구가 촌락 인구보다 많았다.

문제자료 뜯어보기



▶ **오답풀이** ① 1990년대에도 도시화율은 증가하였으므로 역도시화 현상이 나타났다고 할 수 없다. ② 1960년대는 산업화와 함께 도시화율이 가파르게 상승하는 가속화 단계이다. ③ 2015년의 도시화율은 91.8%로, 도시에 거주하는 인구가 대부분이므로 2·3차 산업 종사자 비중이 더 높았을 것이다. ⑤ 그래프의 수치와 기울기로 보아 2000년대보다 1980년대에 이촌 향도 현상이 더 활발하였다.

도시화 단계

- 초기 단계: 인구의 대부분이 촌락에 거주하고, 도시화율은 완만하게 증가함
- 가속화 단계: 이촌 향도 현상이 극심하여 도시화율이 급격히 증가함
- 종착 단계: 도시화율이 가장 높은 단계이며, 도시화율의 증가 추세가 둔화됨

해결의 실마리

최근의 도시화율 수치 비교

+

도시화율의 증가 추세 비교

↓

도시화율이 가장 높으면 선진국, 도시화율이 가장 낮으면 경제 수준이 낮은 개발 도상국, 증가 속도가 빠르면 산업화가 활발한 개발 도상국임

08

그래프의 (가)는 도시화율이 가장 높은 것으로 보아 선진국이며, (나)는 1970년 이후 도시화율의 상승 추세가 가장 빠른 것으로 보아 도시화가 한창 진행 중인 개발 도상국이다. (다)는 세 국가 중 도시화율이 가장 낮으며, 2010년 이후 도시화가 진행될 것으로 예상되는 개발 도상국이다. 제시된 지도의 A는 영국, B는 니제르, C는 중국이다. 세 국가 중 선진국인 (가)는 영국(A), 도시화율의 증가 속도가 빠른 (나)는 중국(C), 도시화율이 가장 낮은 (다)는 니제르(B)이다.

09

지도의 A는 영국, B는 싱가포르, C는 오스트레일리아, D는 미국, E는 브라질이다. 제시문의 '파벨라'는 브라질의 빈민층 집단 거주지를 일컫는 말로, 20세기 중반 이후 급

격한 도시화에 따라 도시 곳곳에 형성되었으며 무허가 불량 주택 문제, 도시 내 빈부 격차 문제 등이 나타난다.

10

과도시화는 짧은 시간 동안 도시의 수용 능력에 비해 지나치게 많은 인구가 도시로 몰리는 현상으로, 개발 도상국에서 주로 나타난다. 개발 도상국의 주택 부족, 일자리 부족, 환경 오염, 교통 혼잡 등과 같은 각종 도시 문제는 과도시화가 원인이라 할 수 있다.

오답풀이 을. 도시에서 농촌으로 이주하는 현상은 역도시화이다. 정. 과도시화는 선진국보다 개발 도상국에서 잘 나타나는 현상이다.

11

사진은 출근 시간대 개발 도상국 도시의 도로 모습이다. 충분한 교통 여건과 서비스가 제공되지 않은 상태에서 많은 사람들이 몰려들어 큰 불편을 겪고 있다. 따라서 이는 교통 혼잡과 관련한 도시 문제에 해당한다.

12

선진국의 오래된 도시에서는 일부 지역이 노후화되거나 쇠퇴하였다. 도시 재생은 낡고 오래된 도시의 여러 건물과 시설을 정비하여 활력 있는 도시의 모습을 갖추기 위해 실시된다.

13

(가), (나) 도시는 도시 문제를 해결하여 살기 좋은 도시가 된 사례이다. 가. 브라질의库里치바는 버스 접근이 용이한 원통형 승강장을 도입하여 버스 중심의 대중교통 시스템을 도입하였다. 나. 에스파냐의 빌바오는 과거 철강 도시였지만, 구겐하임 미술관을 유치하면서 문화·예술 도시로 변모하였다.

오답풀이 나. '생태 수도'를 목표로 도시민의 삶의 질을 높인 도시는 우리나라의 순천이다.

14

제시된 자료는 살기 좋은 도시에 관한 것이다. 살기 좋은 도시는 그 도시 내에 거주하는 사람들의 삶의 질이 높은 도시라 할 수 있다. 물리적인 환경 측면에서는 각종 도시 기반 시설이 잘 갖추어져야 삶의 질이 높아질 수 있다.

15

이촌 향도란 촌락의 인구가 도시로 이주하는 현상으로, 이로 인해 도시화율이 급격히 높아진다. 이는 도시화 과정 중 가속화 단계에서 가장 활발하게 나타난다.

16

제시문은 빈민층이 집단적으로 거주하는 불량 주택 지역인 슬럼에 관한 내용이다. 즉, 슬럼은 빈민층이 주로 거주하는 열악한 불량 주택이 밀집한 지역으로, 개발 도상국의 여러 도시에서 나타난다. 선진국에서도 낙후된 도시의 불량 노후 건물 주변에 슬럼이 나타나기도 한다.

과도시화

- 특징: 도시화의 가속화 단계를 지나는 개발 도상국에서 주로 나타남
- 영향: 도시 과밀화로 주택 부족, 기반 시설 부족, 환경 오염 등의 도시 문제 유발

살기 좋은 도시의 조건

- 과거에는 일자리, 소득 수준 등이 중요한 조건으로 작용함
- 최근에는 삶의 질을 높이는 다양한 조건이 복합적으로 작용

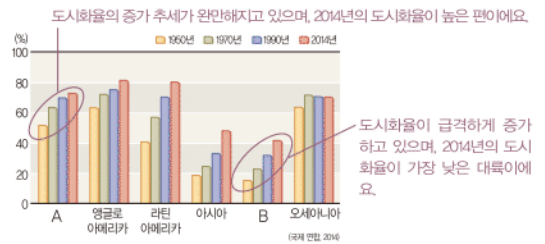
17

제시된 왼쪽 사진은 인도 뭄바이의 빈민촌으로, 빈민층을 수용할 수 있는 주택 공급이 원활히 이루어지지 않아 형성된 슬럼의 모습이다. 오른쪽 사진은 영국 런던의 주택 가격이 너무 비싸 주택을 구입할 수 없는 사람들이 템스강의 배에서 생활하는 모습이다. 따라서 두 사진이 공통적으로 보여 주는 도시 문제는 주택 부족이다.

18

예시답안 A는 유럽, B는 아프리카이다. 유럽의 도시화율은 완만하게 증가하는 반면, 아프리카의 도시화율은 급격하게 증가하고 있다.

문제자료 뜯어보기



채점기준	등급	평가 기준
상	상	A, B 대륙의 명칭과 도시화율 증가 추세를 모두 옳게 서술한 경우
	중	A, B 대륙의 명칭을 쓰지 않고 도시화율 증가 추세에 대해서만 서술한 경우
	하	A, B 대륙의 명칭을 쓰고, 도시화율 증가 추세를 서술하였으나 그 내용이 미흡한 경우

19

예시답안 도시의 낮 시간에 많은 차량이 몰리면서 환경 오염, 교통 체증, 주차 공간 부족 등의 문제가 발생하여 도시 내 교통량을 줄이기 위해 시행되었다.

채점기준	등급	평가 기준
상	상	교통량 증가로 인한 각종 도시 문제를 해결하기 위한 방안임을 옳게 서술한 경우
	하	도시 문제와 관련되지 않고 단순히 교통량 감소를 위한 정책임을 서술한 경우

20

예시답안 개발 도상국은 짧은 시간에 급속하게 도시화가 이루어지면서 도시 내 빈부 격차가 심각하게 나타났다. 부유층은 고급 주택지에서 거주하고, 빈곤층은 불량 주택지에서 거주하면서 사회적 갈등을 겪고 있다.

채점기준	등급	평가 기준
상	상	급속한 도시화에 따른 빈부 격차의 현상을 보여주는 것임을 옳게 서술한 경우
	중	빈부 격차 문제를 언급하였으나 개발 도상국의 도시화 관련 내용을 제대로 서술하지 못한 경우
	하	빈부 격차 문제를 언급하지 않고 급속한 도시화에 대해서만 서술한 경우

대단원 완성문제

▶ 기본학습서 045~048쪽

01 ⑤ 02 ① 03 ④ 04 ④ 05 ③ 06 ② 07 ③
08 ② 09 ② 10 ④ 11 ③ 12 ② 13 ⑤ 14 ④
15 ③ 16 ③ 17 해설 참조 18 해설 참조 19 해설
참조 20 해설 참조

01

제시문의 빈칸은 인간의 대표적인 거주 공간으로, ㉠은 도시, ㉡은 촌락이다. ㉢ 재화와 서비스를 공급하는 중심지 역할을 하는 것은 도시이다.

02

(가)는 고산 기후가 나타나는 남아메리카의 도시를 설명한 것으로, 에콰도르 키토, 콜롬비아 보고타, 볼리비아 라파스, 페루 쿠스코 등이 있다. (나)는 국제 물류의 중심지이자 항만에 발달한 도시로, 중국 상하이, 홍콩, 싱가포르, 우리나라 부산 등이 있다.

03

제시된 그림의 (가)는 타지마할, (나)는 콜로세움, (다)는 피라미드와 �핑크스이다. 타지마할은 인도 아그라(C)에 위치한 대표적인 이슬람 건축물로, 국왕이 아내를 추모하기 위해 건립한 묘당이다. 콜로세움은 이탈리아 로마(A)에 위치한 고대 로마 제국 시대의 원형 경기장이다. 피라미드는 이집트 카이로(B)에 위치한 왕의 무덤으로, �핑크스는 피라미드를 수호하기 위해 제작된 건축물이다.

04

도시 중심부와 주변부는 서로 다른 경관이 나타난다. 도시 중심부에서 주변부로 갈수록 대체로 건물의 평균 높이가 낮아지고, 주택 분포 비중이 높아지며, 백화점과 같은 고급 서비스 시설의 분포 수가 적어진다.

05

제시된 사진의 (가)는 대규모 아파트 단지가 많은 주변 지역이고, (나)는 대기업의 본사, 금융 기관, 백화점 등이 밀집한 도심이다. 도시는 통근 시 유입 인구가 많고 고급 서비스 시설을 찾는 유입 인구가 많아 주간 유동 인구가 많다. 또한 단위 면적당 지가가 높다.

오답풀이 ㄱ. 상주인구와 ㄴ. 퇴근 시간대 버스 하차 인원은 주거 기능이 발달한 주변 지역이 도심보다 많다.

06

제시된 서울의 통계 지도를 보면 중구, 종로구 등 도시 중심부(도심)는 낮게, 노원구, 강서구, 관악구 등 도시 주변부(주변 지역)는 높게 나타나고 있다. 이러한 분포를 보이는 항목은 상주인구이다.

촌락

- 1차 산업의 비중이 높음
- 자연 경관이 뚜렷하며 인구 밀도가 낮음
- 기능에 따라 농촌, 어촌, 산지촌, 광산촌 등으로 구분함

부도심

- 위치: 도심과 주변 지역을 연결하는 교통의 요지
- 발달 기능: 업무·상업 기능 중심이면서 주거 기능도 부분적으로 나타남

해결의 실마리

유럽의 도시화율을 기준으로 하여 비교

아시아는 도시화율이 비교 대상 대륙 중 가장 낮음

앵글로아메리카가 유럽보다 도시화율이 높음을 감안하여 판단

07

그래프의 A는 도심에서 발생하는 인구 공동화 현상을 나타낸 것이다. A의 간격이 커진다는 것은 도심의 상주인구 감소로 인해 인구 공동화 현상이 더욱 심화된다는 것을 의미한다. 따라서 도심의 학생 수가 감소하면서 도심의 학교는 다른 지역으로 이전하거나 폐교하는 경우도 나타난다.

오답풀이 ㉠ 도심의 지가는 더욱 높아질 것이다. ㉡ 주변 지역의 주거 인구 유입이 많아질 것이다. ㉣ 도시는 점심시간을 포함한 낮 시간에 직장인과 쇼핑 목적의 유동 인구가 많아질 것이다. ㉤ 주변 지역과 도심 간의 통근 시 교통 혼잡이 심화될 것이다.

08

제시문의 ㉠은 부도심이다. 부도심은 도시가 성장하고 도심 기능의 과밀화가 심해지면 도심의 기능을 분담하기 위해 도시 곳곳에 형성되므로, 그 수가 증가한다. 또한 접근성이 좋은 교통의 요지에 대부분 형성된다.

오답풀이 ㄴ, ㄷ. 개발 제한 구역에 대한 설명이다.

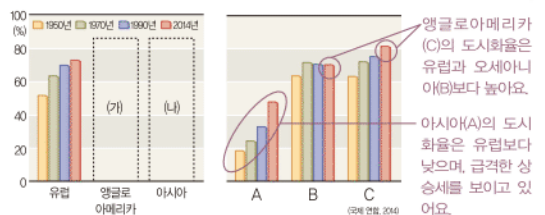
09

자료에서 설명하는 국가는 영국이다. 영국의 수도는 런던으로, 표준시의 기준이 되는 경선인 본초 자오선(0°선)이 지난다. 또한 런던은 미국 뉴욕, 일본 도쿄와 더불어 세계 금융의 중심지로 큰 영향력을 행사하는 세계 도시이다.

10

2014년 기준 대륙별 도시화율은 앵글로아메리카>라틴 아메리카>유럽>오세아니아>아시아>아프리카 순으로 높다. 그래프의 A는 아시아, B는 오세아니아, C는 앵글로아메리카이다.

문제자료 뜯어보기



11

자료의 (가)는 도시화의 가속화 단계이다. 초기 단계에는 1차 산업이 중심을 이루지만, 가속화 단계가 되면 2·3차 산업이 발달하고, 도시 인구 비율이 급증한다.

오답풀이 ㉠ 역도시화는 도시화의 종착 단계에서 나타난다. ㉡ 우리나라는 1960년대 이후 산업화가 본격적으로 진행되면서 도시화의 가속화 단계를 거쳤다. ㉣, ㉤ 가속화 단계에서는 급속한 이촌 향토 현상의 진행으로 촌락의 인구 비율이 50% 이하로 감소한다.

12

그래프는 경제 발달 수준과 도시화 과정이 상이한 세 국가의 도시화를 변화를 보여 준다. (㉠)은 도시화율이 높고 도시화율의 증가 추세가 둔화된 선진국이다. (㉡)는 1970년 이후 급속한 도시화 과정을 겪고 있는 개발 도상국이다. (㉢)는 (㉡)보다 도시화율이 낮지만 점차 도시화율이 높아지고 있는 개발 도상국이다.

오답풀이 을, 병. 도시화의 종착 단계에 진입한 (㉠)의 선진국은 산업화를 겪은 시기가 비교적 오래되었다. 따라서 노후화된 도시를 재활성화하는 사업이 추진되고 있다.

13

제시된 자료의 도시는 브라질에 위치한 리우데자네이루(E)이다. 개발 도상국의 도시는 급속한 도시화로 기반 시설이 부족하여 도시 곳곳에 '파벨라'와 같은 불량 주택 지역이 형성되기도 한다.

오답풀이 ① A는 프랑스 파리이다. ② B는 중국 베이징이다. ③ C는 오스트레일리아 시드니이다. ④ D는 미국 로스앤젤레스이다.

14

제시문의 ○○시는 각종 국제 금융 기관과 다국적 기업의 본사가 있으며, 200년이 넘는 도시 개발 역사를 갖고 있으므로 선진국의 도시임을 알 수 있다. 또한, 도심의 일부 지역이 노후화되고 성장이 정체되어 재개발을 필요로 하고 있다. 도시 재생 사업은 ○○시와 같이 낙후된 도시 내 지역의 건물, 도로 등을 정비함으로써 도시의 경제를 활성화하기 위한 정책이다.

15

제시문의 도시는 에스파냐의 빌바오이다. 이 도시는 철강 산업이 쇠퇴하면서 경제가 침체되었으나, 문화와 예술의 도시로 탈바꿈하면서 살기 좋은 도시의 성공적인 사례가 되었다.

16

제시된 자료는 살기 좋은 도시의 조건에 관한 내용이다. 살기 좋은 도시는 녹지 공간의 확보, 환경 오염의 완화 등을 통해 쾌적한 환경을 조성해야 하며, 도시의 수용 능력을 넘지 않는 적절한 수준의 인구 규모를 갖추어야 한다. 한편 교육, 의료 등의 복지 서비스 공급이 충분해야 하며, 일자리와 주민 소득 확충 등을 통해 경제적 안정을 도모해야 한다. ③ '사회적 안정성'은 치안이 우수하고 범죄율이 낮으며, 여러 불안 요소가 최소화된 상태를 의미한다.

17

예시답안 이스탄불과 싱가포르 두 도시 모두 지역 간의 교류에 유리한 위치적 조건을 갖추고 있다. 따라서 다양한

개발 도상국의 도시화율

- 선진국보다 도시화율이 낮음
- 도시화율의 증가 속도가 빠른 경우 산업화가 활발히 진행되는 국가임
- 도시화율이 낮은 상태에서 원만하게 증가하는 경우 1차 산업 중심의 국가임

해결의 실마리

- 도시 역사 200년
- 국제 금융 기관, 다국적 기업 본사 입지

↓

선진국의 도시

↓

낙후된 도심 정비를 위한 도시 재생 사업 필요

문화와 민족이 교류해왔고, 국제 무역의 중심지 역할을 하였다.

채점 기준	등급	평가 기준
	상	위치적 조건을 고려하여 지역 간 교류와 무역의 중심지 역할에 대해 율게 서술한 경우
	하	위치적 조건과 무관하게 서술한 경우

18

예시답안 A는 도심, B는 주변 지역이다. 도심은 업무·상업 기능이 발달하여 도시의 핵심적인 역할을 하고 있고, 주변 지역은 주거 기능이 발달하여 많은 주민이 거주하고 있다.

채점 기준	등급	평가 기준
	상	도시 내부 구조의 명칭과 보유 기능 측면에서 비교하여 율게 서술한 경우
	중	도시 내부 구조의 명칭은 틀렸으나 보유 기능 측면 비교를 율게 서술한 경우
	하	도시 내부 구조의 명칭만 쓴 경우

19

예시답안 서울의 도심은 업무·상업 기능이 발달하고 주거 기능이 쇠퇴하면서 도심에 거주하는 인구가 크게 감소하였다. 따라서 도심의 주민 센터는 주민의 행정 수요가 적기 때문에 통합되기도 한다.

채점 기준	등급	평가 기준
	상	도심에 주로 발달한 기능을 명확히 밝혀 서술한 경우
	하	제시된 사례를 도심의 기능과 미흡하게 관련짓은 경우

20

예시답안 그래프에서 보듯이 도시화율의 증가가 둔화되고 있는 선진국과 달리, 개발 도상국의 도시화율은 빠른 속도로 증가하고 있다. 이러한 차이는 선진국과 개발 도상국의 도시 문제 차이에도 영향을 미치고 있다. ㉠ 도시는 선진국, ㉡ 도시는 개발 도상국에서 흔히 나타나는 도시 문제를 보여 주고 있다. 선진국은 오랜 기간의 도시화 과정을 거치면서 도시 성장이 이루어져 왔다. 따라서 최근에는 각종 건물과 기반 시설이 노후화된 것은 물론 도시 성장을 이끌었던 산업의 쇠퇴 현상이 나타나고 있다. 반면에 개발 도상국은 도시의 기반 시설이 충분히 갖춰지지 않은 상태에서 단기간에 급속한 도시화 과정을 겪고 있으므로, 과도시화에 따른 주택 부족과 슬럼 형성, 환경 오염 등의 각종 도시 문제가 나타나고 있다.

채점 기준	등급	평가 기준
	상	주어진 두 가지 조건을 모두 포함하여 선진국과 개발 도상국의 도시 문제가 다르게 나타나는 이유를 율게 서술한 경우
	중	주어진 두 가지 조건 중 하나만 포함하여 선진국과 개발 도상국의 도시 문제가 다르게 나타나는 이유를 율게 서술한 경우
	하	주어진 두 가지 조건을 모두 갖추지 못하고 서술이 미흡한 경우

IX 글로벌 경제 활동과 지역 변화

1 농업의 세계화와 지역 변화

학교시험적용문제

▶ 기본학습서 052~055쪽

01 ④ 02 ⑤ 03 ② 04 ① 05 ⑤ 06 ③ 07 ③
08 ③ 09 ① 10 ④ 11 ① 12 ④ 13 ④ 14 ④
15 기업적 16 플랜테이션 17 로컬 푸드 18 해설 참
조 19 해설 참조 20 해설 참조

01

제시된 글은 상업적 농업의 발달에 관한 내용이다. 산업화와 도시화, 경제 성장으로 인한 생활 수준의 향상, 농업 기술의 발달 등으로 인해 상업적 농목업이 발달하게 되었다.

오답풀이 < 나. 쌀은 식량으로 사용하기 위한 자급적 목적으로 많이 이루어지는 대표적인 작물이다.

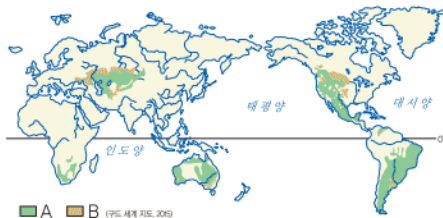
02

상업적 농업의 대표적인 유형은 낙농업, 원예 농업, 기업적 목축업, 기업적 곡물 농업 등이다. 그 중 낙농업은 젖소를 키워 우유와 유제품을 생산하는 농업 방식이고, 원예 농업은 꽃이나 관상용 식물을 기르는 농업 방식이다. ⑤ 이동식 화전 농업은 숲에 불을 질러 그 재를 이용해 농사를 짓는 방식으로 자급적 농업에 해당한다.

03

지도에 표시된 A는 기업적 목축, B는 기업적 곡물 농업이 이루어지는 지역이다.

문제자료 뜯어보기



■ A ■ B (2019 세계 지도, 2019)

A - 기업적 목축: 초원이 발달한 건조 지역

B - 기업적 곡물 농업: 러시아 남부, 우크라이나, 미국~캐나다의 중앙부, 오스트레일리아 남동부, 아르헨티나 등

오답풀이 < 나. 커피, 카카오는 대표적인 플랜테이션 작물이다. 다. 기업적 농업으로 생산된 육류와 밀은 생산 지역에서 소비되기보다는 다른 지역으로 수출된다.

04

제시된 지도는 커피의 생산국과 수입국을 나타낸 것이다.

오답풀이 < ②, ③, ④ 개발 도상국에서 주로 생산하고 선진국으로 수출되고 있으므로, 상업적으로 재배되는 상품

상업적 농업

- 시장에 판매할 것을 목적으로 작물 재배
- 낙농업, 기업적 농목업, 플랜테이션 등

해결의 실마리

아르헨티나, 오스트레일리아 남동부



세계적인 밀 재배지



기업적 곡물 농업

해결의 실마리

생산국: 브라질, 베트남



개발 도상국에서 선진국으로 수출



커피

작물임을 알 수 있다. ⑤ 소비지 근처에서 이루어지는 낙농업, 원예 농업으로 생산되는 유제품, 꽃 등이다.

05

제시된 D 기업은 전 세계에 농장과 유통망을 가지고 있는 다국적 농업 기업이다. 다국적 농업 기업의 본사는 대체로 자본과 기술력을 갖춘 선진국에 위치하며, 기업적 농업을 통해 농작물을 대량으로 생산하여 전 세계 시장에 판매한다. ⑤ 다국적 농업 기업은 주로 개발 도상국에서 대규모의 농장을 운영한다.

06

제시문은 베트남에 관한 내용이다. 베트남은 세계적인 쌀 수출국이었으나, 세계 곡물 시장에서 쌀의 가격 변동이 커지자 쌀 대신 수익성이 높은 커피를 생산하기 시작하였다. 그 결과 브라질에 이어 세계 2위의 커피 수출국이 되었다.

07

소규모 생산으로 경쟁력이 낮아진 국가들은 국제 시장에서 농업 경쟁력을 높이기 위해 원예 작물이나 기호 작물 등 상품 작물을 재배하거나 육류 소비 증가에 맞추어 가축의 사료 작물을 재배하기 시작하였다.

오답풀이 < 나. 농업의 기업화로 대규모 재배가 이루어지게 되었다. 다. 화전 농업은 전통적인 농업 방식으로, 그 수가 감소하였다.

08

제시문의 '이 지역'에 해당하는 것은 인도네시아이다. 인도네시아는 세계 최대의 팜유 생산국으로 전 세계 팜유 생산량 중 약 85%를 생산한다. 팜유 생산을 위한 기름야자 농장이 지속적으로 증가하면서 기름야자 농장을 만들기 위해 열대 우림이 파괴되어 오랑우탄의 서식지가 감소하고 생태계가 교란되는 등의 문제가 나타나고 있다.

오답풀이 < A는 프랑스, B는 인도-데칸고원 일대, C는 인도네시아, D는 일본, E는 아마존강 일대이다.

09

(가) 지역은 미국 중앙 평원으로 전통적인 밀 재배 지역이었다. 그러나 최근 식생활의 서구화와 패스트푸드의 보편화로 육류 소비가 증가하자, 가축의 사료인 옥수수를 재배하는 면적이 증가하면서 기업적 곡물 농업이 이루어지고 있다.

10

농업 생산이 세계화·기업화되면서 소비자들은 세계 각지에서 생산되는 다양한 농산물을 쉽고 저렴하게 접할 수 있게 되었으며, 상품 작물의 재배와 상업적 플랜테이션이 확대되었다. 또한 육류의 소비 증가로 가축 사료 작물의 소비가 늘면서 곡물의 국제 가격이 상승하여 개발 도상국은 식량 부족 문제를 겪기도 하였다.

11

아프리카는 경작되지 않은 땅이 많고 물자원이 풍부하며 인건비가 저렴하다. 이 때문에 최근 다국적 농업 기업들은 아프리카의 농경지를 사거나 빌리기 위해 앞다투어 진출하고 있다. 이들 기업은 싸게 빌린 땅에서 각종 농작물을 재배하여 많은 이윤을 얻고 있다. 하지만, 더 많은 양의 농산물을 생산하기 위해 대량의 화학 비료와 농약 등을 사용하여 토양 오염 등의 환경 문제를 일으키기도 한다.

12

농업의 세계화로 상품 작물의 재배 면적이 증가하고, 식량 작물의 재배 면적은 감소하였다. 이러한 현상이 계속되면 외국산 농산물에 대한 의존도가 높아질 가능성이 높으며, 국제 농산물 가격이 급등할 경우 안정적인 식량 확보에 어려움을 겪을 수 있다.

13

우리나라는 쌀을 제외한 곡물의 자급률이 매우 낮은 편이다. 그 이유는 식생활의 변화로 쌀의 소비가 감소하는 대신 밀, 과일, 육류 등의 소비가 증가하여 외국 농산물의 수입량이 증가하고 있기 때문이다. 특히 육류 소비 증가로 콩, 옥수수 등의 사료 작물 수입이 급증하면서 곡물 자급률은 더욱 하락하고 있다.

식량 자급률

한 나라의 식량 소비량 중 국내에서 생산 및 공급하는 식량의 비율

문제자료 뜯어보기



식량 자급률은 계속해서 감소하고 있어요.
밀·과일·육류 소비가 증가하면서 외국 농산물의 수입이 증가했기 때문이에요.

오답풀이 ① 쌀 소비의 감소로 쌀의 재배 면적은 감소하고 있다. ② 수입되는 밀과 옥수수의 가격이 국내산보다 훨씬 저렴하기 때문에 국내에서 생산되는 밀, 옥수수의 재배 면적은 매우 좁다. ③ 우리나라는 식생활의 변화로 쌀의 소비량이 감소하고 있다. ④ 농작물의 수입이 늘었기 때문에 국내 작물 시장에 미치는 국제적 영향력은 더욱 증대되었다.

14

교통·통신의 발달로 지역 간 교류가 증가하고 자유 무역이 확대되면서 농산물의 국제 교역량이 증가하였다. 이에 따라 전 세계를 대상으로 농산물을 생산하는 농업의 세계화가 진행되었다. 그리고 농업 생산의 기업화로 농산물의 생산부터 유통, 판매 과정은 이전보다 전문적이고 대규모로 이루어지고 있다. 4. 외국산 농산물에 대한 해외 의존도가 높으면, 농산물의 국제 가격이 급격히 오를 때 식량 확보가 어려워질 수 있다.

15

상업적 농업이 발달하면서 인간의 노동력에 의존하여 소규모로 이루어지던 농업은 대형 농기계와 화학 비료를 사용하는 대규모 기업적 농업으로 변화하였다.

16

열대 기후 지역에서 선진국의 자본과 원주민의 노동력을 이용하여 커피, 카카오, 차 등의 상품 작물을 재배하는 농업 방식을 플랜테이션이라고 한다.

17

특정 지역에서 생산된 먹거리를 그 지역 안에서 소비하는 운동은 로컬 푸드 운동이다. 이는 먼 거리를 이동해 수입되는 농축산물의 안전성에 대한 우려에서 출발하여, 식품의 신선함과 안전성을 가장 중요시한다.

18

예시답안 농업 생산의 세계화로 나타난 현상이다. 교통과 통신이 발달하면서 세계 여러 곳에서 생산되는 다양한 농산물의 수요가 증가하였다. 그 결과, 전 세계 시장을 대상으로 하는 농업 생산의 세계화가 진행되었으며, 일상생활에서 소비하는 먹거리 또한 변화하였다.

채점기준	등급	평가 기준
	상	농업의 세계화가 일어나게 된 배경을 옳게 서술한 경우
	하	농업의 세계화가 일어나게 된 배경을 미흡하게 서술한 경우

19

예시답안 바나나, 파인애플 등을 재배하는 플랜테이션 농장은 연중 덥고 습한 열대 기후 지역의 경제 수준이 낮은 개발 도상국에 주로 입지한다.

채점기준	등급	평가 기준
	상	플랜테이션 농장의 특징을 기후와 경제 수준 측면에서 모두 옳게 서술한 경우
	중	플랜테이션 농장의 특징을 기후, 경제 수준 측면 중 한 가지만 옳게 서술한 경우
	하	플랜테이션 농장의 특징을 미흡하게 서술한 경우

동남아시아 국가들의 주요 플랜테이션 작물

- 베트남: 커피
- 필리핀: 바나나
- 인도네시아: 팜유(기름 아자)

20

예시답안 필리핀은 다국적 농업 기업이 쌀을 재배하던 곳에 바나나 농장을 경영하면서 바나나 수출량이 증가하였다. 그런데 인구가 급격히 증가함에 따라 쌀 소비량이 늘어나면서 쌀이 부족해져 쌀 수입량도 증가하게 되었다.

채점기준	등급	평가 기준
	상	제시된 자료를 명확히 해석하고, 자료에 나타난 현상의 원인을 적절히 서술한 경우
	중	제시된 자료는 명확히 해석하였으나, 자료에 나타난 현상의 원인은 서술하지 못한 경우
	하	자료 해석이 미흡하지만, 현상의 원인을 서술한 경우

2 다국적 기업과 생산 공간의 변화

3 서비스업의 세계화와 지역 변화

학교 시험 걱정 문제

기본학습서 058~061쪽

- 01 ④ 02 ③ 03 ③ 04 ② 05 ② 06 ⑤ 07 ②
08 ④ 09 ⑤ 10 ① 11 ⑤ 12 ② 13 ① 14 ③
15 다국적 기업 16 산업 공동화 17 전자 상거래
18 해설 참조 19 해설 참조 20 해설 참조

01

세계화의 영향으로 사람, 자본, 상품 등의 국가 간 이동이 자유로워지면서 전 세계가 하나의 시장으로 통합되었다. 또한, 세계 무역 기구(WTO) 체제 출범과 자유 무역 협정(FTA) 체결로 경제의 세계화는 더욱 빠르게 진행되고 있다. ④ WTO 체제는 자유 무역을 원칙으로 하고 있기 때문에 보호 무역주의를 약화시킨다.

02

그림에 표시된 상품들은 다국적 기업에서 생산된 것들이다. 다국적 기업은 본사가 있는 국가를 포함하여, 각 기능의 특성에 따라 해외 여러 국가에 판매 지사나 생산 공장 등을 운영하는 기업이다. 코카콜라, 삼성, 나이키, LG, 맥도날드 등이 그 대표적인 사례이다.

오답풀이 ① 교통과 통신이 발달하고, 세계적으로 다국적 기업이 증가하면서 다국적 기업의 거래 규모 또한 증가하고 있다. ② 세계 시장에서 경쟁이 심화되는 것은 옳은 설명이지만, 제시된 그림으로 알 수 있는 내용은 아니다. ④ 다국적 기업의 의사 결정은 대부분 본사가 있는 국가에서 이루어진다. ⑤ 다국적 기업의 경제 활동은 여러 국가에 걸쳐 이루어진다.

03

다국적 기업은 생산비 절감과 시장 개척을 위해 생산 공장과 영업 지점 등을 세계 여러 지역에 분산하는 과정에서 발달하였다.

오답풀이 ㄱ. 기업 발달 초기에는 다국적 기업 중 선진국의 기업이 많았으나, 최근에는 중국, 인도 등 개발 도상국의 기업도 다국적 기업으로 발전하고 있다. ㄴ. 다국적 기업은 제조업뿐만 아니라 서비스업, 농업 등 다양한 분야에 진출하고 있다.

04

다국적 기업은 대부분 정보 수집과 자본 확보에 유리하고, 전문 기술을 갖춘 고급 인력이 풍부한 선진국에 본사와 연구소를 두고, 저가와 노동력이 저렴한 개발 도상국에 생산 공장을 세운다.

우공비 Note

해결의 실마리

개발 도상국의 생산 공장 입지



낮은 임금, 저렴한 지가



다국적 기업의 이익 증가

다국적 기업

해외 여러 국가에 판매 지사와 생산 공장 등을 운영하며 국경을 넘어 제품 기획과 생산·판매 활동을 하는 기업

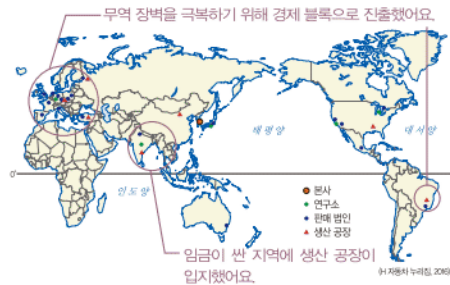
05

지도에 표시된 국가들은 다국적 기업의 생산 공장이 위치한 곳이다. 각 국가에 표시된 자료는 생산 공장에 근무하는 근로자의 수를 의미한다. 다국적 기업의 생산 공장이 들어서면, 선진국의 기술과 자본이 유입되고 일자리가 창출되어 지역 경제가 활성화된다. 반면, 경쟁력이 약한 자국 기업은 경쟁력을 상실하여 어려움을 겪기도 한다.

06

제시된 지도는 어느 다국적 기업의 공간적 분업을 나타낸 것이다. 그 중, 다국적 기업은 생산 비용을 줄이기 위해 생산 공장을 저가와 임금이 싼 개발 도상국에 둔다. 또한 판매 시장을 확보하기 위해 수요가 많은 국가로 생산 공장을 이전하거나 무역 장벽을 극복하기 위해 기업이 속한 국가 밖의 경제 블록으로 진출하기도 한다.

문제자료 뜯어보기



오답풀이 ① 선진국에도 시장 개척 목적이나 무역 장벽 극복, 또는 산업의 종류에 따라 생산 공장이 입지할 수 있다. ② 연구소는 고급 인력 공급이 용이한 곳에, 판매 법인은 시장과 접근성이 용이한 곳에 입지하므로 같은 국가에 위치하지 않을 수 있다. ③ 연구소는 대체로 고급 인력 확보를 위하여 선진국에 입지한다. ④ 제시된 지도의 기업은 무역 장벽을 극복하기 위하여 유럽이나 남아메리카 등지에 판매 법인 및 생산 공장을 입지하였다.

07

서비스 산업은 인간의 욕구를 충족시키기 위해 재화와 용역을 공급하는 산업이다. 따라서 사람마다 요구하는 서비스가 다르기 때문에 표준화, 기계화하기 어렵고, 서비스를 찾는 사람들이 많아질수록 많은 노동력이 필요하기 때문에 고용 창출 효과가 크다.

08

교통·통신의 발달과 세계화는 경제 활동의 시·공간적 제약을 완화시켜 서비스 산업을 전 세계로 확대시켰다. 또한 경제가 발달할수록 제조업보다 서비스 산업이 경제 성장을 이끄는 탈공업화 현상이 나타난다.

오답풀이 ㄴ. 경제 공간이 세계화되면서 서비스 산업의 비중은 더욱 증가하였다.

09

소비자 서비스업은 소비자에게 직접 제공하는 서비스로 동네 편의점, 음식점, 숙박업 등이 해당된다. 생산자 서비스업은 생산을 주로 하는 경제 주체인 기업의 설립과 유지 등과 관련한 서비스로 법률, 금융, 광고, 부동산 등이 이에 해당되며, 소비자 서비스업에 비해 전문적이기 때문에 기업과 가까운 곳에 입지하는 경향이 있다. ⑤ 탈공업화 현상이 심화될수록 서비스업에 대한 수요는 증가한다.

10

지도는 특정 국가에서 서비스 산업이 차지하는 비중을 나타낸 것이다. 아시아와 아프리카의 개발 도상국은 서비스업의 비중이 상대적으로 낮는데 비해, 경제가 발전한 유럽과 아메리카의 선진국은 서비스업의 비중이 높다.

오답풀이 ㄷ. 중국은 우리나라보다 서비스업 종사자 비중이 낮게 나타난 국가이다. ㄹ. 개발 도상국은 선진국에 비하여 국내 총생산에서 서비스 산업이 차지하는 비중이 낮다.

11

정보 통신의 발달로 전자 상거래가 증가하면서 유통의 세계화가 가속화되었다. 인터넷을 이용한 국내 상품 구매는 물론 해외 직접 구매도 급증하였는데, 이로 인해 택배업, 물류업 등의 유통 산업이 급성장하고 있다.

12

전자 상거래가 발달하면 소비자가 매장을 방문하지 않고 제품을 구입할 수 있으며, 이를 배송하기 위한 유통업이 성장하게 된다.

오답풀이 ㄴ. 전자 상거래는 매장에 방문하지 않아도 물건을 구입할 수 있는 형태이다. ㄹ. 대형 마트는 대부분 오프라인 매장에서 거래가 이루어진다.

13

인도와 필리핀은 다국적 기업의 콜센터가 주로 입지하는 국가로, 인건비가 저렴하고 두 나라 모두 영어를 사용하기 때문에 전 세계 소비자들과 영어 의사소통이 가능하다.

문제자료 뜯어보기



최근에는 영국식 영어를 사용하는 인도에서, 미국식 영어를 사용하고 인건비가 상대적으로 저렴한 필리핀으로 콜센터가 이전하고 있는 추세예요. 인도와 필리핀은 영어를 사용하는 국가이기 때문에 다국적 기업이 콜센터를 운영하기에 적합해요.

소비자 서비스업과 생산자 서비스업

- 소비자 서비스업: 개인에게 직접 서비스 제공
- 생산자 서비스업: 기업에게 서비스 제공

해결의 실마리

인도와 필리핀



영어를 사용하는 개발도상국



다국적 기업의 콜센터 입지

14

교통과 통신의 발달로 관광의 세계화가 가속화되고 있다. 이에 따라 지역 경제가 활성화되고, 지역에 일자리가 창출되는 긍정적인 영향이 나타난다. 반면, 지나친 상업화로 고유문화가 훼손되거나 관광 시설 건설로 자연환경이 파괴되는 부정적인 영향이 나타나기도 한다. ③ 관광의 세계화로 지역의 일자리가 창출되면 관광업에 종사하는 사람이 늘어 서비스업 종사자 수는 증가할 것이다.

15

다국적 기업은 세계 각지에 자회사, 판매 지사, 생산 공장 등을 확보해 생산·판매 활동을 국제적 규모로 수행하는 기업이다.

16

지역의 기반을 이루는 산업이 국제 경쟁력을 상실하여 없어지거나 이전됨으로써 지역 경제가 침체되어 산업 구조에 공백이 생기는 현상을 산업 공동화라고 한다.

17

전자 상거래란 인터넷, 스마트폰 등을 이용해 제품이나 서비스를 구매하는 것을 말한다.

18

예시답안 C-A-B-D / 본사와 연구소는 기술 수준이 높고 고급 인력이 많으며 자본이 풍부한 선진국에 주로 위치하는데 반해, 생산 공장은 지가와 임금이 저렴한 개발도상국에 입지한다.

채점기준	등급	평가 기준
	상	그림의 순서를 옳게 쓰고, 다국적 기업의 기능별 입지 특성을 명확히 서술한 경우
	하	그림의 순서만 썼거나, 기능별 입지 특성만 서술한 경우

19

예시답안 중국의 임금이 동남아시아에 비해 높아져 중국의 제조업 경쟁력이 낮아졌기 때문에 임금이 더 저렴한 동남아시아로 공장이 이전하게 된 것이다. 중국의 광둥성은 공장이 빠져나가 일자리가 감소하고 지역 경제가 침체될 것으로 예상된다.

채점기준	등급	평가 기준
	상	다국적 기업이 생산 공장을 이전한 원인과 그로 인한 문제점을 모두 옳게 서술한 경우
	하	다국적 기업이 생산 공장을 이전한 원인과 그로 인한 문제점 중 한 가지만 서술한 경우

20

예시답안 택배업과 물류 산업이 성장하게 되고, 이와 관련한 새로운 일자리가 창출된다.

채점기준	등급	평가 기준
	상	해외 직접 구매 증가로 인한 영향을 두 가지 서술한 경우
	하	해외 직접 구매 증가로 인한 영향을 한 가지만 옳게 서술한 경우

대단원 완성문제

▶ 기본학습서 065~068쪽

01 ④ 02 ③ 03 ② 04 ③ 05 ② 06 ③ 07 ②
08 ④ 09 ③ 10 ① 11 ⑤ 12 ② 13 ① 14 ④
15 ① 16 ③ 17 해설 참조 18 해설 참조 19 해설
참조 20 해설 참조

01

과거의 전통 농업은 개인이 직접 생산하고 소비하는 자급적 농업의 비중이 높았다. 그러나 최근에는 농산물을 생산하여 판매하는 상업적 농업이 대중화되었고, 기업의 이윤 추구 목적에 따라 농업 생산의 기업화가 확대되고 있다.

02

해외에서 수입한 다양한 식재료를 이용할 수 있는 것은 교통과 통신의 발달로 경제 활동의 시·공간적 제약이 줄어든 결과이다. 이러한 현상을 경제 활동의 세계화라고 한다.

03

제시문은 농업의 세계화에 대한 설명이다. 농업의 세계화와 함께 전 세계 시장을 대상으로 농산물을 전문적으로 생산해 판매하는 기업이 등장하였다. 그 결과 지가와 노동력이 저렴한 개발 도상국은 다국적 농업 기업의 생산 농장이 진출하면서 식량 작물 대신 상품 작물을 재배하게 되어 식량 부족 문제가 발생하기도 한다.

04

상업적 농업은 낙농업, 원예 농업, 기업적 곡물 재배, 기업적 목축 등이 대표적이다. 기업적 곡물 재배와 기업적 목축은 미국, 캐나다, 오스트레일리아, 아르헨티나 등의 광활한 평원이 있는 국가에서 대규모로 이루어진다. ③ 이동식 화전 농업은 대표적인 전통 농업 방식으로, 자급적 농업에 해당한다.

05

제시된 사진은 기업적으로 이루어지는 밀 재배와 기업적 목축의 경관이다. 자본과 기술력을 갖춘 대규모 농업 기업은 농기계와 화학 비료를 사용해 농장을 기업적으로 운영하여 곡물을 재배하고 있다.

문제자료 뜯어보기



기업적 밀 재배 - 대규모 농장에서 대량의 밀을 생산하여 전 세계로 수출해요.



기업적 목축 - 세계적으로 육류 소비가 증가하여 가축 사육이 확대되고 있어요.

농업의 변화

- 자급적 농업 → 상업적 농업
- 곡물 중심 농업 → 다양한 원예 작물, 상품 작물 재배
- 육류 소비 증가로 사료 작물의 재배 면적 증가

농업의 세계화로 인한 영향

- 선진국: 대규모 농업 기업 등장
- 개발 도상국: 대규모 농업 기업의 진출로 기호 작물을 재배하는 상업적 농업 확대

06

세계적인 쌀 생산국이자 수출국이었던 필리핀은 농산물의 수입 개방으로 외국산 쌀이 값싸게 수입되자, 쌀을 생산하던 농경지에 쌀 대신 바나나를 생산하도록 땅을 빌려주거나 팔았다. 이로써 쌀 재배 면적이 줄었다. 이후 농업 기술의 발달로 쌀의 생산이 늘기는 하였으나, 급격한 인구 성장으로 쌀이 부족해져 어려움을 겪었다.

07

제시된 그래프를 보면, 우리나라의 농축산물 소비는 곡물의 소비량이 감소하고 있고 육류의 소비가 증가하고 있음을 알 수 있다. 이는 서구 문화의 영향으로 식생활이 변화하였기 때문이다.

▶ 답풀이 ① 농업의 세계화의 영향으로 식생활은 다양화될 것이다. ③, ④ 농업의 상업화가 진행되면서 자급적 농업은 감소하고, 상업적 농업의 자영농이 증가할 것이다. ⑤ 농업이 세계화되면 수입 식재료의 사용 비율이 높아질 것이다.

08

경제 활동의 세계화를 촉진하는 것은 교통·통신의 발달과 WTO 출범, FTA 체결로 인한 자유 무역의 확대이다. 이에 따라 전 세계가 하나의 거대한 시장을 이루면서 경제 활동 또한 광범위하게 이루어지게 되었다. ④ 보호 무역은 자국의 산업을 보호하기 위해 외국 상품에 관세 등을 많이 부과하여 국내 진입을 제한하는 방식이므로 자유 무역과는 거리가 먼 개념이다.

09

제시된 기업들은 다국적 기업에 해당한다. 주로 대규모의 자본을 갖춘 선진국에서 등장하였으며, 기업의 이윤을 극대화하기 위해 생산 공장과 판매 지사 등을 여러 국가에 분산하여 운영하면서 형성되었다. ③ 다국적 기업의 생산 공장은 판매 시장을 개척하기 위해 선진국에 입지하는 경우도 있으나, 대체로 지가와 노동비 등이 저렴하여 운영비가 적게 드는 개발 도상국에 입지한다.

10

한 지역에서 기업 활동을 시작한 회사가 다국적 기업이 되기 위해서는 생산 시설의 확충과 판매 지점의 해외 진출이라는 순서를 밟는다.

11

제시된 대화는 다국적 기업의 공간적 분업에 관한 과제를 하기 위한 내용의 일부이다. 다국적 기업의 생산비를 절감하기 위해 생산 공장을 운영비가 저렴한 개발 도상국으로 이전하면, 생산 공장이 들어선 지역은 새로운 일자리가 창출되고 이와 관련한 산업이 발달하여 지역 경제가 활성화된다.

생산 공장의 이전으로 인한 영향

- 공장이 빠져나간 지역: 산업 공동화 현상 발생
- 공장이 들어선 지역: 고용 창출, 기술 이전 등으로 경제 활성화

X 환경 문제와 지속 가능한 환경

1 전 지구적 차원의 기후 변화

학교시험격중문제

▶ 기본학습서 074~077쪽

- 01 ③ 02 ⑤ 03 ① 04 ③ 05 ④ 06 ② 07 ①
08 ③ 09 ④ 10 ⑤ 11 ① 12 ② 13 ① 14 ①
15 지구 온난화 16 이산화 탄소(CO₂) 17 파리 협정
18 해설 참조 19 해설 참조 20 해설 참조

01

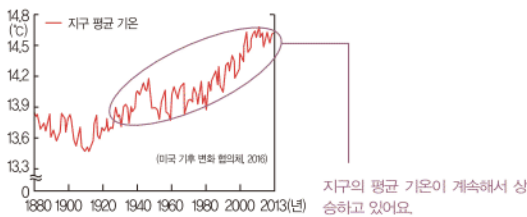
기후 변화는 크게 자연적 요인과 인위적 요인에 의해 나타난다. 기후 변화에 영향을 미치는 자연적 요인은 화산 활동에 따른 화산재 분출, 태양과 지구의 상대적 위치 변화, 태양 활동의 변화 등이다. 인위적 요인은 화석 연료 사용에 따른 온실가스 배출, 무분별한 개발과 삼림 파괴, 도시화 등이다.

오답풀이 ㄱ. 화산재의 분출, ㄴ. 태양과 지구의 상대적 위치 변화는 자연적 요인에 해당한다.

02

제시된 그래프와 같이 지구의 평균 기온이 점차 높아지는 현상을 지구 온난화라고 한다. 지구 온난화의 가장 큰 원인은 화석 연료의 연소 시 발생하는 이산화 탄소, 메탄가스와 같은 온실가스의 증가이다. 온실가스는 지구에서 복사되는 열이 지구 밖으로 나가지 못하게 하기 때문에 대기 중의 온실가스 농도가 높아지면 지구의 기온이 상승하게 된다.

문제자료 1 뜯어보기



03

지구 온난화는 대기 중의 온실가스가 증가하면서 지구의 평균 기온이 상승하는 현상이다. 지구 온난화가 계속될 경우 ㄱ. 해수면 상승으로 투발루, 몰디브와 같은 섬나라와 방글라데시 등의 해안 저지대가 침수되는 피해가 발생한다. 또한, ㄴ. 태풍, 가뭄, 홍수 등 자연재해가 빈번해지고, 그 피해 규모도 커지는 경향을 보인다.

오답풀이 ㄴ. 빙하의 면적은 줄어들 것이다. ㄷ. 극지방의 영구 동토층 두께는 얇아질 것이다.

기후 변화의 원인

- 자연적 요인: 화산재 분출, 태양 활동의 변화 등
- 인위적 요인: 화석 연료의 사용 증가, 도시화, 무분별한 토지 및 삼림 개발 등

해결의 실마리

지구 온난화



빙하 감소



해수면 상승

04

제시된 사진은 미국 몬태나 빙하 국립 공원의 모습으로, 지구 온난화의 영향으로 빙하가 축소된 경관을 나타낸 것이다. 이 지역은 과거 빙하가 1,500km² 정도 분포하고 있었지만, 현재는 빙하가 녹고 그 일부인 30km² 정도만 남아 있다.

오답풀이 ① 사막화는 초원 지대가 황폐하게 변하는 현상으로, 주로 건조 지역에서 나타난다. ② 오존층 파괴는 대기권의 오존이 파괴되어 나타나는 현상으로, 남극 대륙 등에서 심각하다. ④ 열대 우림 파괴는 열대 기후 지역의 삼림을 무분별하게 훼손하는 것을 의미하며, 기후 변화를 일으키는 인위적 요인 중 하나이다. ⑤ 해수면 상승은 주로 저위도 지역의 해안 저지대에서 그 피해가 심각하다.

05

기후 변화는 일정한 지역에서 장기간에 걸쳐 나타나는 기후의 평균적인 상태가 변하는 현상이다. 이로 인한 지역 변화는 그 피해 규모와 범위가 넓고, 일상생활에도 큰 영향을 미치기 때문에 이를 해결하기 위해 국제 사회의 협력과 노력이 필요하다. ④ 기후 변화로 인한 지역 변화는 전 지구적으로 다양한 환경 문제에 영향을 주므로, 온실가스 배출량과 관계없이 모든 국가가 영향을 받는다.

06

지구 온난화와 같은 기후 변화로 빙하 감소, 자연재해 증가 등의 현상이 나타났다. 지구의 기온이 높아진 직접적 원인은 화석 연료의 사용 증가에 따른 온실가스 농도의 상승이다.

07

그림의 A에는 지구 평균 기온의 상승 현상이 들어간다. 이로 인해 전 지구적 차원의 환경 문제가 발생하고 있다. ① 고랭지 농업은 여름철의 서늘한 기후를 이용하여 채소를 재배하는 방식이므로 지구 온난화의 영향을 받으면 고랭지 농업 지역의 면적은 축소될 것이다.

08

제시된 사진은 알래스카 해안에 있는 집이 무너진 모습이다. 이 지역은 지구 온난화의 영향으로 평년보다 여름이 길어지면서 언 땅이 녹고 파도에 의해 모래가 깎여 나가면서 집이 무너지는 현상이 발생하고 있다. 제시된 지도의 A는 알프스산맥, B는 방글라데시, C는 알래스카, D는 투발루, E는 안데스산맥이다.

09

제시문의 '이 나라'는 국토의 평균 해발 고도가 4m 미만인 남태평양의 투발루이다. 투발루는 현재와 같은 수준으로 해수면이 상승할 경우, 2060년 쯤 전체 국토가 물에 잠겨 나라가 없어지는 최초의 국가가 될 것으로 전망된다.

10

제시된 자료는 기후 변화로 예상되는 현상에 관한 보고서이다. 지구의 기온이 상승하면서 우리나라에서는 봄꽃의 개화 시기가 빨라지고, 단풍 시기는 늦어지고 있다. 또, 여름이 길어지고 폭염이나 열대야와 같은 여름철 고온 현상이 증가하며 강수의 강도도 강해지고 있다.

오답풀이 ㄱ. 알래스카와 같은 고위도 지역에서 발생하는 현상이다. ㄴ. 지구의 기온이 상승하면 농작물을 재배할 수 있는 기간은 길어진다.

11

제시된 그래프는 파리 협정에서 만들어진 온실가스 배출량 감축 목표에 관한 것이다. 이는 2020년 이후의 기후 변화 대응을 담고 있다.

오답풀이 ㄷ. 온실 가스 감축을 위한 최초의 국제 협약은 1992년 국제 연합 환경 개발 회의에서 합의된 기후 변화 협약이다. ㄹ. 선진국만의 의무적인 온실가스 감축을 목표로 한 것은 교토 의정서이며, 파리 협정에서는 선진국은 물론 개발 도상국의 온실가스 감축을 목표로 하고 있다.

12

기후 변화 협약은 지구 온난화를 방지하기 위해 체결된 최초의 국제 협약으로, 1992년 국제 연합 환경 개발 회의에서 합의되었다. 이 협약의 구체적 이행 방안이 교토 의정서이다.

13

기후 변화 협약의 구체적 이행 방안으로 1997년에 채택된 것이 교토 의정서이고, 2015년에 모든 국가가 자국이 스스로 정한 방식에 따라 의무적으로 온실가스 감축에 나서기로 합의한 것은 파리 협정이다.

14

기후 변화의 가장 큰 원인은 에너지 소비 증가로 인한 화석 연료의 사용 증가이기 때문에 에너지를 아끼는 습관은 화석 연료의 사용을 감소시킬 수 있다.

15

지구 온난화의 영향으로 지표면의 온도가 상승하면서 빙하의 면적이 줄어들고 있다. 북극과 남극에 있는 빙하뿐만 아니라 로키산맥, 히말라야산맥, 알프스산맥, 안데스산맥 등 내륙의 고산 지역에 있는 빙하들도 급격히 녹고 있다.

16

온실가스는 이산화 탄소, 메탄, 아산화 질소 등이 대표적이며, 전체 배출량의 약 89%가 이산화 탄소이다. 화석 연료의 사용 증가 등으로 대기 중의 이산화 탄소 농도가 높아지면 지구 온난화는 가속화된다.

기후 변화에 대응한 국제 협약

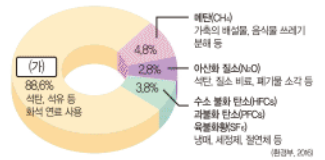
- 기후 변화 협약
- 교토 의정서: 선진국의 온실가스 감축 목표 규정
- 파리 협정: 선진국과 개발 도상국 모두의 온실가스 감축 의무화

기후 변화 해결을 위한 국제적 협력의 입장 차

선진국의 입장	개발 도상국의 입장
<ul style="list-style-type: none"> • 온실가스 감축 방안 제시 • 개발 도상국도 온실가스 감축에 적극 참여해야 한다고 주장 	<ul style="list-style-type: none"> • 기후 변화는 선진국의 영향이 크다고 주장 • 산업화를 해야 하므로 온실가스의 의무 감축에 회의적

문제자료 뜯어보기

석탄, 석유 등 화석 연료를 사용하여 배출되는 온실가스는 이산화 탄소요. 온실가스 중 가장 비중이 높은 이산화 탄소 배출량을 줄인다면 기후 변화를 완화시킬 수 있어 요.



17

2015년 프랑스 파리에서 개최된 제21차 국제 연합 기후 변화 협약 당사국 총회에서는 산업 혁명 이전과 비교해 지구 평균 온도의 상승 폭을 2℃보다 '훨씬 작게' 제한하며, 되도록 1.5℃까지 낮추도록 노력을 기울이자는 데 합의하였다. 이 협약은 2020년 이후의 기후 변화에 대응하기 위해 선진국과 개발 도상국 구분 없이 모든 국가가 자국이 스스로 정한 방식에 따라 의무적으로 온실가스 감축에 나서기로 합의한 국제 협약이다.

18

예시답안 기후 변화의 자연적 요인은 화산재 분출, 태양 활동의 변화, 태양과 지구의 상대적 위치 변화 등이며, 인위적 요인은 화석 연료의 사용 증가, 무분별한 토지 및 삼림 개발 등이다.

채점 기준	등급	평가 기준
	상	기후 변화의 자연적 요인과 인위적 요인의 예를 각각 옳게 서술한 경우
	하	기후 변화의 자연적 요인과 인위적 요인의 예 중 한 측면에만 서술한 경우

19

예시답안 지구 온난화 / 봄꽃의 개화 시기가 빨라지고, 여름이 길어지며, 열대야가 나타나는 일수가 증가하였다.

채점 기준	등급	평가 기준
	상	지구 온난화를 옳게 쓰고, 지구 온난화가 우리나라에 미치는 영향 둘 가지 서술한 경우
	중	지구 온난화를 쓰지 않고, 지구 온난화가 우리나라에 미치는 영향 두 가지를 서술한 경우
	하	지구 온난화만 쓰거나, 지구 온난화가 우리나라에 미치는 영향을 한 가지만 서술한 경우

20

예시답안 선진국은 이미 산업화를 이루었으므로, 온실가스 감축 방안에 대해 온실가스 배출량이 급증하는 개발 도상국의 참여를 요구하고 있다. 반면, 개발 도상국은 산업화를 통한 경제 성장을 우선해야 하는 상황에 놓여 있으므로 온실가스의 배출량 감축에 회의적인 입장을 취하고 있다.

채점 기준	등급	평가 기준
	상	선진국과 개발 도상국의 입장을 모두 적절하게 서술한 경우
	하	선진국 또는 개발 도상국 중 하나의 입장만 서술한 경우

2 환경 문제를 유발하는 산업의 이동

3 생활 속의 환경 이슈

학교 시험 걱정 문제

▶ 기본학습서 080~083쪽

01 ⑤ 02 ③ 03 ③ 04 ② 05 ① 06 ① 07 ②
08 ③ 09 ⑤ 10 ④ 11 ⑤ 12 ② 13 ⑤ 14 ④
15 ① 선진국, ② 개발 도상국 16 환경 이슈 17 미세 먼지 18 해설 참조 19 해설 참조 20 해설 참조

01

산업 혁명과 기술 혁신으로 인간이 자연의 제약을 극복하면서 인구가 폭발적으로 증가하였고, 생활 수준 향상에 따른 소비의 증가는 폐기물 양을 증가시키는 원인이 되었다. 또, 도시화의 영향으로 교통량이 급증하고 오염 물질이 대량 방출되기 시작하였다. 그 결과, 생태계의 수용 능력을 넘어서는 각종 환경 문제가 발생하였다.

02

일찍이 산업화를 이룬 선진국은 개발보다 환경에 더 많은 관심을 가지고 있어 환경 관련 규제가 매우 엄격하다. 이로 인해 유해 산업 폐기물을 완벽하게 처리하기에 어려움을 겪게 되자 공해 유발 산업에 대한 규제가 약한 개발 도상국으로 공장을 이전하였다.

오답풀이 ㄱ, ㄴ, ㄷ. 개발 도상국과 같이 환경 문제를 유발하는 산업이 유입되는 지역의 특징이다.

03

제시된 지도는 석면 공장이 국제적으로 이동하는 모습을 보여 주고 있다. 석면의 유해성이 알려지면서 선진국에서는 석면 사용을 전면 금지하여 석면 공장을 외국으로 유출하고 있다. 반면, 개발 도상국은 경제 성장을 우선시하는 정책으로 이를 유치하고 있다. A는 석면 공장이 유입되는 국가들인 선진국이며, B는 석면 공장이 유출되는 국가들인 개발 도상국이다.

오답풀이 ㄹ. ①, ②, ④, ⑤ 환경에 유해한 산업에 대한 규제가 엄격한 선진국에서 나타나는 현상이다.

04

환경 문제를 일으키는 ㉠ 공해 산업에는 제철, 석유 화학, 금속 등이 해당한다. 이들 산업의 ㉡ 유출 지역은 선진국이고, ㉢ 유입 지역은 개발 도상국이다. 개발 도상국은 환경 관련 규제가 느슨한 편이지만, 선진국은 환경 관련 규제가 엄격한 편이다. 이에 따라 일부 선진국은 최신 설비는 자국 내에 유지하고, 환경 오염을 유발하는 노후된 제조 설비를 개발 도상국으로 이전하고 있다.

공해 유발 산업의 이동
환경 규제가 강한 선진국
→ 환경 규제가 느슨한 개발 도상국

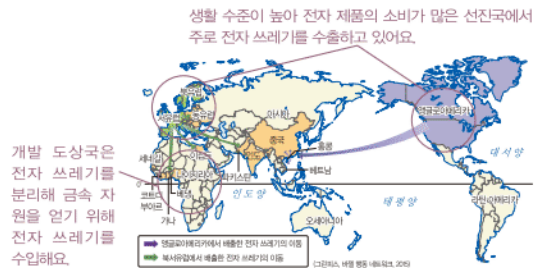
바젤 협약

- 의미: 유해 폐기물의 국가 간 이동과 처리에 관한 협약
- 특징: 기존의 선진국이 주도했던 국제 협약과 달리, 유해 폐기물로 인한 피해가 극심한 개발 도상국이 주도하여 체결

05

전자 쓰레기는 사용하고 난 전자 제품에서 발생하는 폐기물이다. 전자 쓰레기는 주로 전자 제품을 많이 사용하는 유럽, 앵글로아메리카의 선진국에서 아시아 및 아프리카의 개발 도상국으로 이동한다.

문제자료 뜯어보기



오답풀이 ㄴ. 전자 쓰레기는 주로 정부의 환경 규제가 강한 지역에서 느슨한 지역으로 이동한다. 정, 선진국에는 전자 쓰레기를 안전하게 처리할 수 있는 기술이 있지만, 이에 드는 비용을 절감하기 위해서 개발 도상국으로 전자 쓰레기를 수출하고 있다.

06

제시문은 유해 폐기물의 국제적 이동을 규제하기 위한 협약에 관한 내용이다. 공해 산업의 이동으로 개발 도상국에서 유해 물질 누출 사고가 잇따르자, 국제 사회는 1989년에 유해 화학 물질과 산업 폐기물의 유통을 규제하기 위해 바젤 협약을 체결하였다.

07

과거 세계 화훼 시장의 중심지는 네덜란드였다. 그러나 최근 네덜란드의 많은 화훼 농가가 탄소 배출 비용 절감, 값싼 노동력 확보 등의 이유로 기후가 온화하고 인건비가 저렴한 아프리카의 케냐로 이전하였다.

오답풀이 ㄴ. 기호 작물의 재배는 대부분 플랜테이션 방식으로 이루어진다. 플랜테이션은 열대 기후 지역에서 선진국의 농업 기술을 이용해 주로 한 가지 상품 작물을 재배하는 농업 방식으로, 바나나, 팜유, 카카오 등의 재배가 대표적이다. ㄷ. 첨단 농업 기술의 개발을 위해 화훼 농장을 케냐로 이전한 것은 아니다.

08

네덜란드의 화훼 농장 이전으로 아프리카의 케냐에서는 일자리가 증가하여 지역 경제가 활성화되고, 외화 수입이 늘어나는 효과가 나타났다. 하지만 토양의 황폐화, 관개용수 남용에 따른 물 부족 문제, 화학 비료와 농약 사용에 따른 토양 오염 및 식수 오염 문제 등이 유발되었다. ③ 케냐의 화훼 농장은 대부분 유럽에서 이전된 것이므로 지역의 자영농이 증가하였다고 볼 수 없다.

해결의 실마리

열대 우림 파괴



적도 주변



가족 사육을 위한 경지 개발

09

제시문은 열대 우림 파괴에 관한 내용이다. 세계적으로 육류 소비가 증가하면서 아마존강 유역(E)의 열대 우림 파괴가 심각하다. 가족을 사육하기 위해 목초지를 조성하거나 사료를 재배하기 위해 농경지를 개발하면서 울창한 숲과 다양한 생물 종이 사라질 위기에 놓여 있다. 제시된 지도의 A는 프랑스, B는 네덜란드의 화훼 농장이 이전한 케냐, C는 영토가 바닷물에 잠길 위험에 처한 나라인 투발루, D는 미국 중앙 평원의 밀 재배 지역, E는 열대 우림 파괴가 심각하게 일어나고 있는 아마존강 유역이다.

10

환경 문제 중 원인과 해결 방안이 입장에 따라 달라지는 것을 환경 이슈라고 한다. 환경 이슈는 시대별로 다르고, 지역적인 것부터 세계적인 것까지 범위도 다양하다.

오답풀이 ◀ 나. 환경 문제는 좁은 지역에서 나타나는 일상 생활 속의 문제부터 전 지구적 차원에서 일어나는 문제까지 다양한 공간적 규모에서 발생한다.

11

미세 먼지는 지름이 10μm보다 작은 먼지로 호흡기 질환, 폐와 심장 질환, 치매와 같은 뇌 질환의 원인이 된다. 따라서 미세 먼지가 심한 날에는 어린이나 노약자는 외출을 삼가고, 외출할 때에는 마스크를 써야 한다.

12

미세 먼지는 입자가 작아 호흡기에서 걸러지지 않고 우리 몸속까지 스며들어 각종 호흡기 질환을 일으킨다. 또한, 반도체와 같이 정밀한 작업이 요구되는 산업의 불량률을 높이며, 가시거리를 떨어뜨리기 때문에 비행기나 여객선 운항에 차질을 준다. 또한, 대기가 안정되어 확산이 잘 일어나지 않을 때엔 그 농도가 높아진다. ② 봄철에 우리나라에 영향을 미치는 것은 황사이다. 미세 먼지는 계절에 상관없이 발생하고 있다.

13

제시된 수업 장면은 유전자 재조합 식품(GMO)에 관한 내용이다. 유전자 재조합 식품은 추위나 병충해에 강해 생산비를 낮추고 생산량을 늘려 세계 식량 부족 문제 해소에 기여할 수 있다는 긍정적인 견해가 있다. 하지만 유전자 재조합 식품이 인간에게 어떤 영향을 미치는지 알 수 없기 때문에 위험하다는 부정적인 견해도 있다.

14

최근 환경에 대한 관심이 커지고 안전하고 건강한 먹거리를 찾는 소비자들이 증가하면서 가까운 지역에서 생산된 농산물을 소비하자는 로컬 푸드 운동이 확산되고 있다. 로컬 푸드를 소비하면 식품의 운송에서 발생하는 온실가스를 줄이고, 지역 경제 활성화에도 도움이 된다.

미세 먼지

- 의미: 공장의 매연, 자동차 배기가스 등에서 발생하는 눈에 보이지 않을 정도의 작은 먼지
- 영향: 각종 질환 유발, 정밀 기계의 불량률 증가, 운송업에 지장 등

유전자 재조합 식품(GMO)

- 의미: 유전자 재조합을 통해 원하는 특성을 갖도록 한 식품
- 갈등: 유전자 재조합 식품을 둘러싼 효율성과 유해성 갈등

15

공해 산업은 선진국에서 개발 도상국으로 이전된다. 이는 개발 도상국이 인건비와 생산비가 저렴하며 환경 규제가 덜 엄격하고 환경 문제에 대한 저항이 상대적으로 약하기 때문에 벌어지는 일이다.

16

환경 문제 중에서 개인, 기업, 국가, 환경 단체 등의 이해관계에 따라 서로 다른 견해가 나타날 경우, 대립이나 갈등이 발생하는 것을 환경 이슈라고 한다.

17

미세 먼지는 다양한 국내의 요인이 복합적으로 작용하여 나타나기 때문에 주요 오염원을 포괄적으로 고려한 종합 대책 마련이 매우 어렵다. 예를 들어, 주요 발생 원인으로 노후 경유차가 지적되면서 노후 경유차의 운행 정지나 경유의 세금 인상 등이 방안으로 구상되었는데, 이를 둘러싼 사회적 합의가 잘 이루어지지 않고 있다.

18

예시답안 선진국은 환경 문제에 대한 관심이 높고 정부의 환경 규제도 엄격하다. 반면, 개발 도상국은 선진국에 비해 환경 규제가 덜 엄격한데다 환경보다 경제 성장을 우선하는 정책을 추진하고 있어 공해 유발 산업의 이전을 받아들이고 있다.

채점기준	등급	평가 기준
	상	공해 유발 산업 이전과 관련하여 선진국과 개발 도상국의 정책 차이를 비교하여 서술한 경우
	하	공해 유발 산업 이전과 관련하여 선진국과 개발 도상국 중 한 지역의 입장에 대해서만 서술한 경우

19

예시답안 플랜테이션의 확대로 열대 우림이 파괴되어 멸종 위기의 동식물이 증가하고, 토양이 황폐화되는 등의 문제가 발생하였다.

채점기준	등급	평가 기준
	상	플랜테이션의 부정적 영향을 두 가지 모두 서술한 경우
	하	플랜테이션의 부정적 영향을 한 가지만 서술한 경우

20

예시답안 유전자 재조합 식품(GMO)은 병충해에 강하고 생산량이 많아 세계 여러 지역의 식량난 해소에 기여할 수 있다는 긍정적 견해가 있다. 그러나 인체에 대한 유해성 검증이 되지 않은데다, 재배 과정에서 생태계를 교란시킬 수 있으므로 재배해서는 안 된다는 부정적 견해도 있다.

채점기준	등급	평가 기준
	상	유전자 재조합 식품에 대한 긍정적 견해와 부정적 견해를 모두 옳게 서술한 경우
	하	유전자 재조합 식품에 대한 긍정적 견해와 부정적 견해 중 한 측면만 옳게 서술한 경우

대단원 완성문제

▶ 기본학습서 085~088쪽

01 ② 02 ② 03 ④ 04 ② 05 ② 06 ③ 07 ④
08 ③ 09 ④ 10 ③ 11 ② 12 ③ 13 ② 14 ③
15 ① 16 ② 17 해설 참조 18 해설 참조 19 해설
참조 20 해설 참조

01

기후 변화는 자연적 요인에 따라 계속해서 변화하고 있으며, 오늘날에는 화석 연료 사용 증가와 같은 인위적 요인의 영향을 더 많이 받는다. 특히 산업 혁명 이후 급속한 인구 증가 및 무분별한 자원 개발과 함께 자원의 소비가 증가하면서 기후 변화가 가속화되었다.

오답풀이 ◀ 나. 에너지 사용이 증가하면 기후 변화는 더욱 가속화된다는 것은 맞지만, 오늘날 기후 변화는 인위적 요인의 영향을 더 많이 받는다.

02

제시된 그래프는 점차 심화되는 지구 온난화 현상을 보여 준다. 산업 혁명 이후 인구가 증가하고 산업화가 진행되었다. 이에 따라 석탄, 석유 등의 화석 연료 사용이 증가하고, 온실가스의 배출량이 늘어나면서 온실 효과를 강화하여 지구의 기온이 급격하게 상승하는 지구 온난화가 나타나고 있다.

오답풀이 ◀ 나. 신·재생 에너지의 사용, 르. 탄소 배출권 거래제 도입 등은 지구 온난화 현상을 완화하기 위한 대책에 해당한다.

03

지구의 평균 기온이 상승하면 빙하의 양이 감소하고 해수면이 높아진다. 또한 대기와 해수 순환에 변화가 생겨 기상 이변의 강도와 발생 빈도가 증가한다.

04

제시된 자료는 지구 온난화로 인한 변화에 관한 내용이다. 산업 혁명 이후 화석 연료의 사용이 늘어나고, 무분별한 삼림 벌채가 이루어지면서 이산화 탄소를 비롯한 온실가스의 배출이 많아졌다. 이로 인해 지구의 평균 기온이 상승하여 북극의 빙하가 줄어들고 있다.

05

제시된 그림은 온실가스 증가로 인한 온실 효과로 발생하는 지구 온난화의 과정을 나타낸 것이다. 지구 온난화가 심화되면 지구의 평균 기온이 높아져 열대 질병의 발병률이 증가할 것이다. 또한 북극의 빙하가 녹아 새로운 항로가 열리게 되어 북극해의 항해 가능 일수가 늘어날 것이며, 홍수, 태풍 등의 발생 빈도와 강도가 증가할 것이다. ② 지구 온난화가 지속되면 고산 식물의 분포 범위는 축소될 것이다.

기후 변화에 영향을 미치는 요인

- 과거: 자연적 요인의 영향이 큼
- 오늘날: 인위적 요인의 영향이 큼

해결의 실마리

지구 온난화

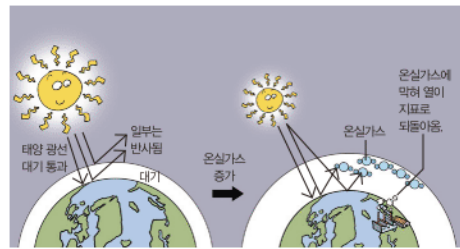


빙하 감소 해수면 상승



북극곰의 멸종 위기

문제자료 뜯어보기



햇빛이 지표에 닿으면 열로 다시 방출되는데, 온실가스에 부딪혀 지구 밖으로 나가지 못하고 대기에 흡수되면 지구의 기온이 높아진다.

06

지구 온난화로 빙하가 녹은 물이 바다로 흘러들어 해수면이 상승하면 해발 고도가 낮은 해안 저지대의 침수 피해가 증가한다. 남태평양의 키리바시와 투발루, 나우루, 인도의 몰디브 등 많은 섬나라는 국토가 점차 바닷물에 잠겨 지구상에서 사라질 위기에 놓여 있다.

07

제시된 자료는 지구 온난화로 인한 피해가 발생하는 과정을 나타낸 것이다.

오답풀이 ◀ 나. 사하라 사막 이남의 사헬 지대 등에서 뚜렷하게 나타나는 대표적인 환경 문제는 사막화이다.

08

제시된 내용은 기후 변화 완화를 위하여 온실가스 배출량을 감축하기 위한 노력에 관한 것이다. ③ 일회용품의 사용은 자원의 소비 및 쓰레기 발생량 증가를 유발하여 지구 온난화를 심화할 수 있다.

09

기후 변화는 세계 곳곳의 여러 지역에 영향을 준다. ④ 미국의 알래스카는 지구 온난화로 여름이 길어지면서 영구 동토층이 녹아 건물이 기울어지거나 무너지는 일이 빈번해졌다.

10

오랑우탄은 주로 열대 우림에서 서식하는데, 인도네시아(C)의 플랜테이션 확대로 경지 개간이 활발해지자 서식지를 잃고 멸종 위기에 처하게 되었다.

11

제시된 지도의 A는 전자 쓰레기 유출 지역인 선진국, B는 유입 지역인 개발 도상국이다. 공해 유발 산업은 주로 환경 문제에 대한 관심이 크고 환경 관련 규제가 강한 선진국에서 경제 성장 우선 정책을 펴고 있는 개발 도상국으로 이전된다. 이로 인해 개발 도상국에는 폐기물 및 유해 물질 배출로 인한 환경 문제가 심화되었다.

우공비 Note

해결의 실마리

네덜란드의 농업 생산 비용 증가

개발 도상국으로 농장 이전

이전 지역인 개발 도상국의 환경 오염 심화

12

제시된 대화는 네덜란드에서 케냐로 화훼 농가가 이전한 내용에 관한 것이다. 최근 네덜란드의 많은 화훼 농가가 탄소 배출 비용 절감과 값싼 노동력 확보를 위해 케냐로 이전하였다. 그중에서도 케냐는 온실 설비 없이도 연중 꽃이 만개하는 기후 조건을 갖추고 있어, 대표적인 화훼 생산국이 되었다. 이로 인해 케냐에서는 새로운 일자리가 증가하고 외화 수입이 증가하는 경제적 효과가 나타났다. 그러나 수확량을 늘리기 위해 농약과 화학 비료를 많이 사용하면서 토양 오염과 수질 오염이 발생하고 장미 농장에서 물을 많이 사용하여 농장 인근 지역의 물 부족 문제가 심해졌다.

오답풀이 정. 장미 산업은 고도의 자본과 기술보다는 기후와 노동력이 중요하며, 케냐는 온실 설비 없이도 연중 꽃이 만개하는 기후 조건과 값싼 노동력을 갖추고 있다.

13

GMO(유전자 재조합 식품)이란 유전자 변형을 통해 생명체의 유용한 유전자를 다른 생명체의 유전자와 결합하여 원하는 특성을 갖도록 한 것이다. 크기나 열매의 양을 조절하여 생산량을 늘리는 등의 목적으로 쓰인다.

14

오늘날 기후 변화로 인해 지역 변화 및 환경 문제가 증가하고 있다.

오답풀이 르. 세계화로 인한 농산물의 국제 이동이 증가할수록 농산물의 이동 과정에서 발생하는 이산화 탄소 배출량이 증가하여 지구 온난화가 가속화된다.

15

푸드 마일리지는 먹을거리가 생산지에서 소비지까지 이동한 총 거리를 나타내며, 그 수치를 통해 식품의 수입 의존도나 방부제 사용 정도, 온실가스 배출량 등을 알 수 있다. ① 푸드 마일리지는 식품 수송량과 이동 거리의 곱으로 나타낸다. 푸드 마일리가 클수록 배출되는 온실가스의 양은 많아지고 운송 기간이 길어져 식품의 안전성이 낮아진다.

16

로컬 푸드는 소비지 인근에서 생산되는 농산물이다. 로컬 푸드를 구매함으로써 소비자는 먹을거리의 안전성을 확보할 수 있고, 지역 생산자는 소득이 증가하므로 지역 경제 활성화에도 도움이 된다.

오답풀이 을. 로컬 푸드는 소비지 인근에서 생산되는 농산물을 소비하는 것으로, 다른 나라에서 생산된 농산물을 수입하여 소비하는 것과는 대비되는 개념이다. 정. 유전자를 재조합하여 병충해에 강한 농산물을 생산하는 것은 유전자 재조합 식품(GMO)에 관한 설명이다.

17

예시답안 이산화 탄소 / 지구 온난화가 지속되면 빙하의

로컬 푸드 운동

- 먹을거리의 안전성 확보
- 농민의 실질 소득 증가
- 이동 거리 감소 → 화석 연료 사용 감소 → 푸드 마일리지 감소

양이 감소하여 해수면이 상승하고, 홍수나 가뭄 등 자연재해의 빈도와 강도가 증가한다.

채점기준	등급	평가기준
	상	기체의 이름을 옳게 쓰고, 지구 온난화에 따른 변화 두 가지를 모두 옳게 서술한 경우
	하	기체의 이름만 썼거나, 지구 온난화에 따른 변화만 쓴 경우

18

예시답안 선진국은 환경 규제가 엄격한 반면, 개발 도상국은 경제 성장이 우선인데다 환경 규제가 느슨하므로 유해공장이 선진국에서 개발 도상국으로 이전하고 있다.

채점기준	등급	평가기준
	상	공해 유발 산업의 이동 방향과 원인을 모두 서술한 경우
	하	공해 유발 산업의 이동 방향과 원인 중 한 측면만 서술한 경우

19

예시답안 미세 먼지 문제와 관련하여 노후 화력 발전 시설 폐쇄, 노후 경유차 운행 금지 등을 둘러싼 논쟁이 발생하였다.

채점기준	등급	평가기준
	상	미세 먼지 해결을 위한 노력을 두 가지 모두 서술한 경우
	하	미세 먼지 해결을 위한 노력을 한 가지만 서술한 경우

20

예시답안 유전자 재조합 식품(GMO) 생산에 찬성한다. 유전자 재조합 식품은 유전자를 변형하여 병충해에 강하고 열매를 많이 맺도록 만든 농산물이다. 노동력과 비용을 적게 들이고도 많은 양을 수확할 수 있기 때문에 세계 식량 가격을 낮출 수 있고, 기아 문제에 시달리는 아프리카와 아시아 등 개발 도상국의 식량 부족 문제 해결에 도움을 줄 수 있다. 또한, 유전자 재조합 식품이 인체에 유해하다는 연구 결과가 보고된 적이 없으며, 농약 사용 감소로 생물 보호 효과를 높일 수 있다는 장점이 있다. 식품 안전성이 보장되고 미래의 식량 문제를 해결하기 위해 유전자 재조합 식품 생산은 좋은 대안이 될 수 있다고 생각한다.

/ 유전자 재조합 식품(GMO) 생산에 반대한다. 유전자 재조합 식품이 인체에 미치는 영향과 안전성 여부가 아직 밝혀지지 않았기 때문이다. 변형된 유전자를 가진 새로운 생명체가 생태계를 교란할 위험이 있는데다, 재배 과정에서 국내 고유종을 파괴하고 환경과 생물 다양성을 위협한다는 문제점이 있다. 또한, 유전자 재조합 식품을 생산하는 업계의 주장과는 달리 다국적 농업 기업의 이윤 창출을 위한 수단으로 작용하여 식량난 해소에 크게 이바지하지 못하고 있다. 이러한 위험성과 우려가 있는 한 유전자 재조합 식품의 생산은 금지되어야 한다.

채점기준	등급	평가기준
	상	자신의 입장을 밝히고, 그 근거를 두 가지 이상 쓴 경우
	중	자신의 입장을 밝히고, 그 근거를 한 가지만 쓴 경우
	하	자신의 입장은 밝혔으나, 그 근거를 밝히지 않은 경우

XI 세계 속의 우리나라

1 우리나라의 영역과 독도

학교시험격중문제

▶ 기본학습서 092~095쪽

- 01 ④ 02 ① 03 ③ 04 ⑤ 05 ③ 06 ③ 07 ②
08 ① 09 ③ 10 ③ 11 ⑤ 12 ① 13 ⑤ 14 ③
15 영역 16 ㉠ 직선, ㉡ 통상 17 A 해양 심층수, B 메
탄 하이드레이트 18 해설 참조 19 해설 참조
20 해설 참조

01

영역이란 한 국가의 주권이 미치는 범위를 말한다. 국가의 영역은 국민이 생활하는 터전이자 국가가 존재하기 위한 기본 조건으로, 다른 국가의 간섭을 받지 않고 외부의 침략으로부터 보호해야 하는 공간이다. ④ 영역은 해당 국가의 주권이 미치는 범위이므로 다른 국가에서 통행을 하려면 허가를 받아야 한다.

02

제시된 그림은 국가의 영역을 나타낸 것이다. 그림의 A는 영공, B는 영토, C는 영해, D는 배타적 경제 수역, E는 공해이다. 영역이란 다른 국가의 간섭을 받지 않고 한 국가의 주권을 행사할 수 있는 공간으로, 영토(B), 영해(C), 영공(A)으로 구성되어 있다.

03

제시된 그림은 국가의 영역을 나타낸 것으로, A는 영공, B는 영토, C는 영해, D는 배타적 경제 수역, E는 공해이다. 영해(C)는 기선으로부터 12해리에 이르는 지역이며 정치적 주권 행사가 가능한 곳이다. 특정 국가의 영역에 속하므로 다른 국가 선박의 운항이 제한된다. 한편 배타적 경제 수역(D)은 다른 국가의 통행은 가능하며 연안국의 해양 탐사, 자원 개발과 이용 등의 경제적 주권 행사가 가능한 지역이다.

오답풀이 ① 영공(A)에서는 다른 국가의 비행기 통행이 제한된다. ② B는 영토이다. 항공 교통의 발달로 중요성이 커지고 있는 것은 영공(A)이다. ④ 배타적 경제 수역(D)에서는 연안국의 경제적 주권 행사가 가능하다. ⑤ 배타적 경제 수역(D)에 대한 설명이다.

04

제시문은 배타적 경제 수역에 관한 내용이다. 배타적 경제 수역이란 바다에 대한 경제적 주권이 보장되는 지역으로 연안국의 자원 탐사, 이용 등의 권리가 인정된다. 배타적 경제 수역은 경제적 주권만 행사할 수 있으며, 정치적 주권은 행사할 수 없어 다른 국가의 선박 운항은 자유로운 지역이다.

우리나라의 영해

- 동해안, 제주도, 울릉도, 독도: 통상 기선으로부터 12해리까지
- 서·남해안: 직선 기선으로부터 12해리까지
- 대한 해협: 3해리로 설정

05

제시된 지도는 우리나라의 영해 설정과 관련된 것이다. 우리나라 영해는 지역의 해안선 특징에 따라 다른 기준으로 설정되어 있다. 해안선이 복잡한 서해안과 남해안은 직선 기선, 해안선이 비교적 단조로운 동해안은 통상 기선을 적용하여 설정되어 있고 그 범위는 12해리에 이른다. 그러나 일본과 인접한 대한 해협에서는 직선 기선으로부터 3해리까지를 영해로 인정하고 있다.

문제자료 뜯어보기



- 우리나라의 서해안과 남해안은 해안선이 매우 복잡하고 섬이 많아서 직선 기선을 영해의 기선으로 적용하고 있어요.
- 우리나라의 동해안과 울릉도, 독도, 제주도는 비교적 해안선이 단조로운 편이어서 통상 기선을 영해의 기선으로 적용하고 있어요.
- 대한 해협은 일본과 거리가 인접하여 직선 기선에서 3해리까지를 영해로 설정하고 있어요.

오답풀이 ① 해안선과 영해 기선은 일치하지 않는다. ② 일본과 인접한 대한 해협의 경우 3해리로 설정되어 있다. ④ 영해는 12해리로 제한된다. ⑤ 동해안의 경우 썰물 때의 해안선인 최저 조위선을 기준으로 영해를 설정한다.

06

지도에 표시된 B 지역은 대한 해협이다. 대한 해협은 일본과 인접하여 12해리의 영해를 확보하기 어렵기 때문에 3해리만을 영해로 설정하고 있다.

07

우리나라의 영토는 한반도와 그 부속 도서로 구성되어 있으며, 면적은 약 22.3만 km^2 로, 이 중 남한이 약 10만 km^2 에 해당하여 남한보다 북한의 면적이 더 넓다. ② 세계적으로 영토가 큰 국가는 러시아, 캐나다, 미국, 중국 등이 해당한다.

08

제시된 지도의 A는 해안선이 복잡한 서해안, B는 해안선이 비교적 단조로운 동해안, C는 제주도, D는 울릉도, E는 독도이다. 서해안과 남해안은 해안선이 복잡하여 가장 외곽의 섬을 연결한 직선 기선을 기준으로 영해를 설정하고 있다. 반면, 해안선이 단조로운 동해안, 제주도, 울릉도, 독도는 통상 기선을 기준으로 영해를 설정하고 있다.

09

제시된 지도는 우리나라의 가장 동쪽에 위치한 독도의 위치적 특성을 나타낸 것이다. 독도는 울릉도에서 약 87.4km에 위치하고 일본 오키섬과는 약 157.5km에 위치하고 있어 일본보다 우리나라에 더 인접하며, 동해의 한가

운데에 위치하고 있어 영역적 측면은 물론 다양한 해상 활동에 유리한 조건을 가지고 있다.

10

제시된 그림은 우리나라에서 해가 가장 빨리 뜨는 지역으로 독도를 이야기하고 있다. 독도는 우리나라의 가장 동쪽에 위치하므로 해가 가장 빨리 뜬다.

오답풀이 ① 독도는 동해의 한가운데에 있는 섬이다. ② 독도에는 우리나라 주민이 거주하고 있다. ④ 독도에는 군대가 아닌 경찰이 주둔하고 있다. ⑤ 독도는 울릉도에서 동쪽으로 약 87.4km 떨어져 위치한 섬이다.

11

독도는 우리나라 영토의 동쪽 끝에 위치하며, 울릉도에서 약 87.4km 거리의 동해 상에 있다. 독도는 해저의 화산 활동으로 분출한 용암이 굳어 형성되었으며, 오랜 시간을 거쳐 동도와 서도, 89개의 작은 바위섬들로 이루어지게 되었다. 독도 인근은 난류의 영향을 받는 해양성 기후가 형성되어 온화한 편이다. ⑤ 독도는 512년 신라 장군 이사부가 우산국을 편입하면서 우리 영토가 되었다.

12

독도는 우리나라 영역의 동쪽 끝이 어디인지 확정한다는 의미와 함께 배타적 경제 수역 설정에도 매우 중요한 역할을 한다. 또한, 항공 교통의 발달로 중요성이 증대되었으며, 동북아시아의 군사 요충지로서 가치가 높은 곳이다.

오답풀이 ②, ③, ④, ⑤ 모두 독도에 관한 옳은 설명이지만, 제시문과는 관련이 적다.

13

독도는 우리나라의 가장 동쪽에 위치한 섬이며, 다양한 동식물이 서식하는 등 생태적 가치가 매우 높은 지역이다.

오답풀이 ① 독도가 우리나라 국토임을 의미하는 한국령 바위이다. ② 독도에 서식하는 꿩이 갈매기이다. ③ 독도에서 볼 수 있는 해안 지형이다. ④ 독도의 해저에는 '불타는 얼음'인 메탄 하이드레이트가 풍부하여 경제적으로도 매우 높은 가치를 지닌다.

14

제시된 사진은 독도 탐방 캠프와 독도가 우리나라의 영토라는 것을 알리는 해외 광고판의 모습이다. 이러한 활동은 독도를 지키기 위한 노력의 일환으로 이루어진다.

15

영역은 국민이 생활하는 터전이자 국가가 존재하기 위한 기본 조건으로, 한 국가가 다른 국가의 간섭을 받지 않고 주권을 행사하는 곳이다. 이러한 영역은 영토, 영해, 영공으로 이루어져 있다.

해결의 실마리

해가 가장 빨리 뜨는 곳



독도



가장 동쪽에 위치

독도의 영역적 가치

- 영해 및 배타적 경제 수역 설정의 기준
- 태평양을 향한 진진 기지
- 항공 교통, 군사적 방어에 중요한 위치

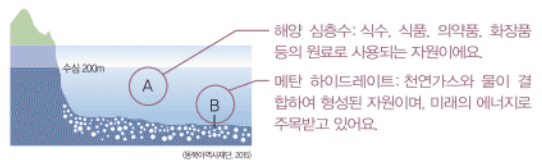
16

우리나라의 서해안과 남해안은 해안선이 복잡하여 해안선을 기준으로 영해를 설정하기에 어려움이 있기 때문에 가장 외곽의 섬을 직선으로 연결한 후 영해를 설정하는 직선 기선을 적용하고 있다. 동해안, 제주도, 울릉도, 독도 등은 해수면이 가장 낮은 썰물 때의 해안선인 최저 조위선을 기준으로 설정한 통상 기선을 적용하여 영해를 설정하고 있다.

17

제시된 자료는 독도 주변의 자원과 관련된 것이다. 독도 주변 바다에는 경제적으로 활용도가 높은 자원이 풍부하다. 수심 200m 이하 지대에는 해양 심층수가 풍부하며, 수심 300m 이하 지대에는 천연가스를 주성분으로 하는 메탄 하이드레이트가 풍부하게 매장되어 있다.

문제자료 뜯어보기



18

예시답안 대한 해협에서는 우리나라와 일본 간의 거리가 가까워 12해리의 영해를 확보하기 어렵다. 따라서 3해리를 영해로 설정하고 있다.

채점기준	등급	평가 기준
	상	대한 해협이 일본과 근접하여 12해리의 영해를 확보하기 어렵기 때문임을 명확히 서술한 경우
	하	대한 해협이 일본과 근접하기 때문이라고만 서술한 경우

19

예시답안 항공 교통이 발달하고, 인공위성을 이용한 통신과 관측 활동이 발달하면서 영공의 중요성이 증대되었다.

채점기준	등급	평가 기준
	상	항공 교통, 인공위성에 대한 내용 두 가지를 모두 서술한 경우
	하	항공 교통 또는 인공위성 내용 중 한 가지만 서술한 경우

20

예시답안 독도는 오래전부터 우리 영토로 우리 조상들에게도 인식되어져 왔고, 과거 일본에서 제작된 지도에서도 독도는 우리 영토로 표현되어 있다.

채점기준	등급	평가 기준
	상	독도가 과거부터 우리 영토였으며, 일본의 고지도에도 같은 내용이 표현되어 있다고 서술한 경우
	하	독도가 우리 영토라고만 서술하였거나 결론 없이 자료만 분석한 경우

2 세계화 시대의 지역화 전략

3 통일 이후의 국토 공간

학교시험적중문제

▶ 기본학습서 100~103쪽

01 ⑤ 02 ① 03 ① 04 ⑤ 05 ② 06 ③ 07 ④
08 ① 09 ⑤ 10 ① 11 ③ 12 ③ 13 ① 14 ①
15 지역화 16 지역 브랜드 17 비무장 지대 18 해설
참조 19 해설 참조 20 해설 참조

01

교통과 통신의 발달로 세계화가 진행되고 물자와 사람 등 지역 간 교류가 활발해졌다. 이와 함께 지역 간 경쟁이 심화되고, 지역 고유의 지역성을 발굴하여 경쟁력을 갖추는 것이 중요한 과제가 되었다.

오답풀이 ①, ② 세계화의 흐름에 따라 지역 간의 경쟁이 심화되었고, 이에 따라 각 지역은 다른 지역과 차별화된 지역성을 갖추는 것이 중요해졌다. ③ 세계화가 진행되면서 국가 간 무역 장벽이 완화되고 교류가 더 활발해졌다. ④ 문화의 획일화 현상은 세계화의 부정적 영향 중 하나이다.

02

지역화 전략이란 지역의 경쟁력을 높이기 위하여 지역이 가지고 있는 고유의 지역성을 발굴함으로써 다른 지역과 차별화할 수 있는 계획을 마련하는 것이다. 따라서 지역은 독특한 자연 및 인문 환경을 활용하여 지역의 개성을 살리고, 긍정적인 이미지를 증대하여 가치를 향상하며, 슬로진과 캐릭터 등을 개발할 필요가 있다. ① 다른 지역과 같은 특성을 도입하는 것은 지역화 전략으로 적절하지 않다.

03

제시된 사진은 유네스코에 등재된 자연 유산과 문화유산들이다. 유네스코에서는 제주도의 한라산과 성산 일출봉, 거문오름 용암동굴계를 세계 자연 유산으로, 서울 종묘, 수원 화성, 경주 문화 유적 지구 등을 세계 문화유산으로 등재하였다. 세계 유산을 통해 지역만이 가지는 가치와 경쟁력이 향상된다.

04

제시된 그림은 지역 브랜드의 대표적인 사례이다. 지역 브랜드는 지역 자체 또는 지역에서 생산되는 상품과 서비스에 부여한 고유의 상표를 의미하는 것으로, 지역 특성을 잘 반영하고 있다.

오답풀이 ① 지역 브랜드는 지역의 자연·인문 환경의 여러 특성을 살려 만든다. ② 지역 특산물, 서비스 등 다양한 분야에 사용된다. ③ 랜드마크는 장소 마케팅의 방법 중 하나이다. ④ 지역 브랜드는 지역 경제 활성화에 도움이 된다.

해결의 실마리

세계화



지역 간의 경쟁 심화



지역의 경쟁력 향상을 위한 노력 필요

지리적 표시제

의미	상품의 품질, 명성, 특성 등이 근본적으로 해당 지역에서 비롯된 경우, 지역 생산품임을 증명하고 표시하는 제도
	상표권의 법적 권리 획득 → 안정적인 생산 활동이 가능하여 지역 경제 활성화
효과	

장소 마케팅

의미	특정 장소의 지리적 특성, 랜드마크 등을 이용하여 장소를 매력적인 상품으로 만들어 판매하는 활동
	장소를 효율적으로 알리고 지역을 차별화하여 매력적인 이미지 구축 → 지역 경제 활성화
효과	

문제자료 | 풀어보기



해발 고도 700m에 동식물과 사람이 가장 건강하게 자랄 수 있다는 지형적 특색을 표현했어요.

울산광역시의 캐릭터인 해물이에요. 울산 앞바다에 많이 서식하는 고래를 형상화했어요.

05

지역 브랜드를 통해 지역 홍보와 지역의 경쟁력을 향상시키고, 지역 상품과 서비스에 대한 신뢰도 향상, 지역 경제 활성화에 기여할 수 있다.

오답풀이 ㄴ. 지역화 전략과 지역의 자연재해 발생은 무관하다. ㄷ. 지역화 전략을 통해 외부 인구를 적극 유입하여 지역 경제를 활성화할 수 있다.

06

제시된 사진은 서해안에 위치한 보령(C)의 갯벌을 활용한 축제를 즐기는 모습이다. 서해안에 위치한 보령은 조석 간만의 차이가 커서 넓은 갯벌이 형성되어 머드(진흙) 생산이 많은 곳이다. 이러한 머드를 이용하여 보령의 대천 해수욕장에서는 매년 여름에 머드 축제가 개최되고 있다. 제시된 지도의 A는 인천, B는 대관령 일대, C는 보령, D는 순천만, E는 부산이다.

07

제시된 사진은 지리적 표시제의 대표적인 사례인 보성 녹차와 이천 쌀이다. 지리적 표시제란 특정 지역에서 생산되는 농산물이나 가공품에 대해 원산지의 지명을 상표권에 인정하는 제도를 의미한다.

08

지리적 표시제는 다른 지역에서 임의로 상표권을 사용하는 것을 제한하는 법적 권리를 갖게 하여 우수한 지리적 농산물이나 가공품을 보호하는 제도이다. 따라서 지리적 특산물의 품질 향상, 특화 산업 육성, 생산자의 안정적인 생산 활동 가능, 소비자의 알 권리 충족, 경제 활성화 등에 기여할 수 있다. ① 지리적 표시제는 다른 지역에서 임의로 상표권 사용을 제한하는 제도이므로 유사한 상품이 만들어지는 것을 방지할 수 있다.

09

제시된 지도는 우리나라의 주요 지역 축제를 나타낸 것이다. 다른 지역과 구별되는 지역성을 살린 축제는 장소 마케팅을 활용한 것이다. 장소 마케팅은 특정 장소가 가지고 있는 자연환경이나 역사, 문화적 특성, 랜드마크 등을 이용하여 장소를 매력적인 상품으로 만들어 판매하는 활동이다.

10

우리나라는 반도국으로서 대륙과 해양 진출에 유리한 조건을 가지고 있다. 이러한 위치적 특성은 아시아 어느 곳으로나 연결이 가능하여 교통의 요충지 역할을 할 수 있다.

문제자료 1. 뜯어보기



→ 제시된 지도는 인천 국제공항과 동아시아 주요 도시 간의 비행시간을 나타낸 것이요, 우리나라는 동아시아의 주요 도시를 3시간대 비행 거리에 둔 항공 교통의 중심지로, 동아시아의 인적·물적 자원 이동의 중심 국가로 성장할 잠재력을 갖추고 있어요.

우리나라의 위치적 특징

- 북쪽으로 대륙 진출, 남쪽으로 태평양 진출에 유리
- 동아시아의 중심에 위치한 지리적 요충지

11

우리나라는 반도적 위치 특성을 활용하면 유라시아 대륙과 태평양을 연결하는 중계 무역의 중심지로 성장하여 세계적인 핵심 국가로 발돋움할 수 있을 것이다.

12

남북 분단으로 인해 민족의 이질성 심화, 이산가족의 아픔, 국방비 등 많은 분단 비용 발생 등의 문제가 있다. 또한 한반도의 지리적 장점을 활용하지 못하고 있다. ③은 남북 분단으로 인한 문제점이 아니다.

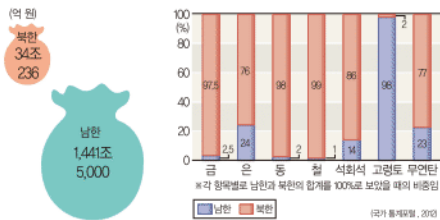
남북 분단의 문제점

- 민족의 이질성 심화, 사회·경제적 발전 저해, 많은 분단 비용 발생, 반도적 위치 장점 상실 등

13

제시된 자료를 통해 남한의 높은 소득과 기술 수준, 북한의 풍부한 자원과 노동력이 결합된다면 높은 경제적 이익을 창출할 것으로 예상할 수 있다.

문제자료 1. 뜯어보기



▲ 남북한의 명목 국민 총소득(2014년)

→ 남한은 북한에 비하여 소득 수준이 매우 높지만, 자원 보유량은 훨씬 적은 편이에요. 따라서 통일이 될 경우 남한이 가지고 있는 자본과 기술, 북한의 풍부한 자원을 활용한다면 높은 경제적 이익을 창출할 수 있어요.

14

남북이 통일이 될 경우, 반도국의 지리적 장점을 극대화할 수 있으며, 균형 있는 국토 공간을 조성하여 일자리 창출이나 생활권 확대가 가능해진다. ① 통일이 된다면 국방비 지출을 줄여 지원이 필요한 다른 분야에 투자할 수 있을 것이다.

15

세계화가 진행되면서 사람과 물자의 교류가 확대되고, 지역 간 경쟁이 치열해지자, 지역 경쟁력을 향상시키기 위한 지역화 전략이 중요해졌다. 따라서 각 지역은 지역 브랜드, 지리적 표시제, 장소 마케팅 등 다양한 지역화 전략을 취하고 있다.

16

지역 자체에 부여한 하나의 고유 상표를 지역 브랜드라고 한다. 지역 브랜드는 지역의 특성을 잘 반영할 수 있도록 슬로건이나 캐릭터 등을 활용하여 지역을 홍보하고 지역의 신뢰도를 향상시키는 데 기여하고 있다.

17

비무장 지대는 군사적 대립을 막기 위해 설정된 구역으로, 일반인의 출입을 통제하여 지난 60여 년 동안 자연 생태계가 잘 보존되었다. 통일 이후 이 지역은 세계 평화의 상징이자, 환경·생태의 중심지로 거듭날 것으로 기대된다.

18

예시답안 지역을 홍보하고, 지역의 경쟁력을 향상시키며, 지역에서 생산되는 상품과 서비스에 대한 신뢰도를 높임으로써 지역 경제 활성화를 이룰 수 있다.

채점기준	등급	평가 기준
	상	지역화 전략의 목적을 세 가지 모두 서술한 경우
	중	지역화 전략의 목적을 두 가지만 서술한 경우
	하	지역화 전략의 목적을 한 가지만 서술한 경우

19

예시답안 지리적 표시제 / 이러한 지역화 전략을 추진하는 이유는 우수한 농산물 및 가공품 보호, 지역 특화 산업 육성, 생산자의 안정적 생산 활동 보장, 소비자의 알 권리 충족, 지역 경제 활성화 등에 기여할 수 있기 때문이다.

채점기준	등급	평가 기준
	상	지리적 표시제를 쓰고, 지역화 전략을 추진하는 이유를 옳게 서술한 경우
	하	지리적 표시제를 썼으나, 지역화 전략을 추진하는 이유를 서술하지 못한 경우

20

예시답안 남북한의 통일이 전제되어야 한다. 우리나라는 반도적 위치의 장점, 즉 대륙과 해양 양방향으로의 진출이 유리하기 때문에, 통일이 될 경우 세계 물류의 중심지가 될 것으로 예상된다.

채점기준	등급	평가 기준
	상	통일에 관해 언급하고, 우리나라의 반도적 장점을 서술한 경우
	하	남북한의 통일에 관해 언급하였으나, 우리나라의 반도적 장점을 서술하지 못한 경우

대단원 완성문제

▶ 기본학습서 105~108쪽

01 ① 02 ② 03 ⑤ 04 ② 05 ② 06 ③ 07 ②
08 ③ 09 ② 10 ④ 11 ③ 12 ⑤ 13 ③ 14 ①
15 ④ 16 ② 17 해설 참조 18 해설 참조 19 해설
참조 20 해설 참조

01

지도에 표시된 A는 오스트리아, B는 몽골이며, 두 국가는 공통적으로 모두 내륙에 위치한다. 이러한 내륙국은 영해가 존재하지 않아 해상 무역이나 수산업이 발달하기에 불리하다.

오답풀이 ②, ⑤ 영해가 없어 해상 무역이나 배타적 경제 수역 설정과 거리가 멀다. ③ 영공은 영토의 상공이므로 설정이 가능하다. ④ 몽골(B)은 영토가 넓은 편이다.

02

영토(B)는 한 국가의 주권이 미치는 땅으로 국토 면적과 일치하며, 영토(B)를 기준으로 영공(A), 영해(C)가 정해지기 때문에 영역 중 가장 중요한 요소이다. 제시된 그림의 A는 영공, B는 영토, C는 영해, D는 배타적 경제 수역, E는 배타적 경제 수역 밖의 공해이다.

영역의 구성

- 영토: 주권이 미치는 육지로 영역 설정의 기준이 됨
- 영해: 주권이 미치는 바다
- 영공: 주권이 미치는 하늘로 영토와 영해의 상공

03

우리나라 영토는 한반도와 그 부속 도서로 구성된다. 전체 면적은 약 22,3만 km^2 으로 영국, 뉴질랜드 등과 비슷하며 이 중 남한 면적은 약 10만 km^2 이다. ⑤ 간척 사업으로 확장된 것은 영토이다.

04

제시된 지도의 (가)는 서해안 일대, (나)는 동해안 일대이다. (가)와 같은 서해안은 섬이 많고 해안선이 복잡하여 직선 기선을 영해 설정의 기준으로 사용한다. 반면, (나)와 같은 동해안과 제주도, 울릉도, 독도는 해안선이 단조로워 최저 조위선에서 12해리까지를 영해로 정하는 통상 기선을 기준으로 사용한다.

오답풀이 ① 최저 조위선을 기준으로 영해를 설정하는 것은 동해안이다. ③ 12해리는 영해의 범위에 해당한다. ④ 동해안은 해안선이 단조로워 최저 조위선을 기준으로 설정한 통상 기선을 적용한다. ⑤ (가), (나) 두 지역은 서로 다른 성격의 영해 기선을 적용하고 있다.

05

우리나라와 중국, 일본은 지리적으로 인접하여 200해리에 해당하는 충분한 배타적 경제 수역의 확보가 어렵다. 따라서 어업 협정을 체결하여 한·일 중간 수역, 한·중 잠정 조치 수역을 설정하여 이곳의 어족 자원을 공동으로 관리하고 있다.

해결의 실마리

한·중, 한·일 간에 지리적으로 인접



200해리의 배타적 경제 수역 확보 불가능



어업 협정 체결



중간 수역 잠정 조치 수역 설정으로 공동 이용 및 관리

06

독도(C)는 우리나라에서 가장 동쪽에 위치하는 섬으로, 해저 화산에 의해 형성된 화산섬이다. 같은 화산섬인 제주도(D)와 울릉도(B)보다 먼저 생겨났으며 다양한 화산 지형이 있어 지질학적으로도 가치가 매우 높다. 제시된 지도의 A는 강화도, B는 울릉도, C는 독도, D는 제주도, E는 우리나라 최남단인 마라도이다.

07

독도 주변의 바다에는 한류와 난류가 교차하는 조정 수역이 형성된다. 조정 수역에는 물고기의 먹이가 되는 플랑크톤이 풍부하여 많은 어족 자원이 분포하므로 이를 이용한 수산업이 발달하기에 유리하다.

08

제시문은 독도의 생태학적·환경적 가치에 관한 내용이다. 독도는 다양한 동식물이 서식하고 독특한 생태계를 가지고 있어 섬 전체가 천연 보호 구역으로 지정되었다.

오답풀이 독도는 동해의 한가운데에 있어 다른 국가의 정세를 파악할 수 있는 등 군사적 요충지에 위치하고, 영해와 배타적 경제 수역 설정의 기준이 되며 해양 심층수 등 자원이 풍부하다. ①, ②, ④, ⑤ 모두 독도에 관한 옳은 설명이지만, 제시문이 설명하고 있는 생태학적 가치와는 관련이 적다.

09

과거 일본에서 제작된 지도인 「삼국점양지도」에 독도는 우리 영토로 표시되어 있다. 이는 독도가 오래전부터 우리 영토였고, 일본 역시 독도를 우리나라의 영토로 인식하고 있었다는 것을 보여 준다.

문제자료 뜯어보기



울릉도와 독도를 조선과 같은 색으로 표현하고 있어요

10

오래전부터 우리 영토인 독도를 일본을 비롯한 다른 세력으로부터 지키기 위해 독도 의용 수비대, 독도 연구소, 사이버외교사절단 반크 등 다양한 단체들이 독도를 알리면서 다양한 활동을 하고 있다.

11

세계화로 인해 지역 간 경쟁이 심화되면서 특정 지역이 세계 정치·경제·사회·문화의 주체로 등장하는 지역화 현상이 강화되었다. 이로 인해 차별화된 지역성을 발굴하는 등 지역화 전략의 필요성이 대두되었다.

12

(가)는 전주의 슬로건, (나)는 순창 고추장이다. (가)와 같은 지역화 전략은 지역을 브랜드화하여 지역 특성을 잘 반영하는 슬로건으로 지역 브랜드이며, (나)와 같은 사례는 특정 상품의 품질이 우수할 때 원산지의 지명을 상표권으로 인정하는 지리적 표시제이다. ⑤ (가), (나) 모두 지역 홍보와 지역 경제 활성화를 기대할 수 있는 지역화 전략에 해당한다.

오답풀이 ① (가)는 지역 브랜드의 사례이다. ② 지역 특산물과 관련 깊은 지역화 전략은 지리적 표시제이다. ③ 지역 브랜드는 해당 지역에서만 상표권을 사용할 수 있도록 하는 제도이다. ④ 지역을 상표화하는 것은 지역 브랜드에 관한 내용이다.

13

김제평야는 우리나라 대표적인 곡창 지대로 유일하게 하늘과 땅이 맞닿은 지평선을 볼 수 있는 곳이다. 이러한 곡창 지대를 배경으로 한 김제 지평선 축제는 지형적 특징을 반영하면서 농촌 및 농업 체험을 할 수 있는 대표적인 축제로 발전하고 있다.

문제자료 뜯어보기



→ 우리나라에서 유일하게 지평선을 볼 수 있는 곳이에요.
→ 땅과 하늘이 맞닿아 경계를 이루는 선을 의미해요.
→ 김제평야는 우리나라 대표적인 곡창 지대예요.

14

제시문은 지리적 요충지 역할을 할 수 있는 우리나라 위치의 중요성에 대한 내용이다. ① 우리나라는 삼면이 바다로 둘러싸인 반도국으로, 대륙 진출과 해양 진출에 유리한 조건을 가지고 있다.

15

제시된 자료는 남북한이 분단되면서 서로 다른 언어 문화가 나타나는 현상을 보여준다. 제시된 사례와 같이 남북한이 분단되면서 언어를 포함한 남북 문화의 이질화가 나타나고 있다.

16

통일 비용은 통일로 인해 발생하는 다양한 비용을 의미한다. 통일 과정에는 적지 않은 비용이 발생하지만, 장기적으로는 통일로 얻는 이익이 더 크다. 이렇게 통일로 얻은 이익을 통일 편익이라고 한다.

오답풀이 ① 남한과 북한의 큰 격차를 해소하기 위해 적지 않은 통일 비용이 필요할 것이다. ③ 장기적으로는 통일을 통해 얻는 편익이 커서 경제가 활성화될 것이다. ④ 통일을 통해 남북한 모두 통일 편익을 얻게 될 것이다. ⑤ 통일 편익이란 경제적 이익은 물론, 사회나 문화 등 다방면에서 얻을 수 있는 이익을 의미한다.

지역 브랜드

의미	지역 자체, 또는 지역에서 생산되는 상품과 서비스에 부여한 하나의 고유한 상표
효과	지역 홍보와 경쟁력 향상에 효과적 → 지역 경제 활성화

해결의 실마리

우리나라는 반도국
↓
대륙과 해양 연결 가능
↓
물류 중심지로 발전 가능성이 높음

17

예시답안 A는 해안선이 복잡하여 가장 외곽의 섬을 직선으로 연결한 직선 기선을 적용하여 12해리까지를 영해로 설정하고 있다. B는 일본과 거리가 가까워 직선 기선에서 3해리까지를 영해로 설정하고 있다. C는 해안선이 단조로워 최저 조위선을 기준으로 통상 기선을 적용하여 12해리까지를 영해로 설정하고 있다.

채점기준	등급	평가 기준
상	상	A, B, C의 영해 설정 특징을 모두 서술한 경우
	하	A, B, C 중 두 가지 이하의 영해 설정 특징만 서술한 경우

18

예시답안 A는 해양 심층수로, 병원균이 거의 없어 식수와 식품, 의약품 또는 화장품의 원료로 사용되는 자원이다. B는 메탄 하이드레이트로, 천연가스가 해저의 저온 고압의 환경에서 얼음처럼 고체화된 것으로 오염 물질 배출이 없어 미래 에너지원으로 주목 받고 있다.

채점기준	등급	평가 기준
상	상	A, B 두 자원에 대해 모두 명확히 서술한 경우
	하	A, B 두 자원 중 한 가지에 대해서만 서술한 경우

19

예시답안 통영의 로고는 많은 섬과 바다가 어우러진 통영의 지역적 특징을 이미지로 나타냈다.

채점기준	등급	평가 기준
상	상	통영 대표 로고의 의미를 지형 특징과 배경으로 서술한 경우
	하	통영 대표 로고의 의미를 지형 특징만으로 서술한 경우

20

예시답안 남한은 자본과 발전된 기술을 바탕으로 1인당 국민 소득이 높고, 농업 기술 또한 발달하여 식량 생산량도 많은 상황이다. 그러나 소득 수준에 비해 천연자원이 부족하여 대부분 해외에서 수입하며 많은 비용을 지출하고 있다. 반면, 북한은 천연자원은 풍부하지만, 기술 발달 수준이 낮아 경제 수준이 비교적 낮고 식량 생산량도 부족한 편이다.

이러한 상황에서 남북한이 통일이 될 경우, 남한의 발달된 기술과 자본, 북한의 천연자원과 노동력이 결합하여 국토의 효율적 이용이 가능해질 것으로 예상된다. 그리고 이러한 영향으로 경제 규모 또한 현재보다 훨씬 커질 것이다. 특히, 남북한 사이에 발생하는 군사비 지출이 큰 폭으로 감소하여, 이 비용을 경제, 사회, 문화, 복지 등 사회의 다양한 분야에 투자할 수 있게 된다면 국가 경쟁력이 강화됨은 물론 국제적 위상 또한 월등히 높아질 것으로 예상된다.

채점기준	등급	평가 기준
상	상	남북한의 비교와 통일로 인한 변화를 명확하게 서술한 경우
	중	남북한의 비교와 통일로 인한 변화는 서술했으나, 그 내용이 미흡한 경우
	하	주어진 조건에 맞추어 서술하지 못한 경우

XII 더불어 사는 세계

1 지구상의 다양한 지리적 문제

학교 시험 적용 문제

▶ 기본학습서 112~115쪽

01 ① 02 ① 03 ① 04 ③ 05 ④ 06 ④ 07 ③
08 ② 09 ③ 10 ① 11 ④ 12 ③ 13 ② 14 ⑤
15 기아 16 ㉠ 이슬람교, ㉡ 힌두교 17 생물 다양성 감
소 18 해설 참조 19 해설 참조 20 해설 참조

01

기아는 인구가 급증하여 식량 수요가 급증하거나, 자연적, 또는 인위적 요인으로 식량 공급이 부족해졌을 때 주로 발생한다. ① 기아는 아프리카 대륙에서 가장 심각하게 발생하는 편이다.

02

기아의 자연적 원인으로는 가뭄, 홍수 등의 자연재해, 병충해 등이 있으며, 인위적 원인으로는 급격한 인구 증가, 식량 분배 및 공급의 불균형 등이 있다.

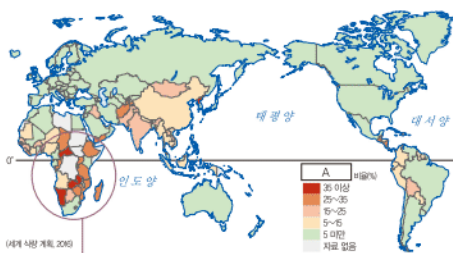
03

제시된 자료는 기아의 원인 중 하나인 과도한 가축 사육에 관한 것이다. 가축을 기르기 위해 필요한 사료 작물을 늘리는 만큼 식량 작물 생산이 줄어 기아가 유발되기도 한다. 또한 가축을 기르기 위한 사료 작물 재배 과정에서 열대 우림이 파괴되면서 지구 온난화가 가속화되기도 한다. **오답풀이** ㄷ. 영토·영해의 자원을 둘러싼 분쟁에 관한 내용이다. ㄹ. 오존층 파괴와 관련된 내용이다.

04

지도에 나타난 지리적 문제 A는 기아이다. 기아는 인간의 생존에 필요한 물이나 영양소가 결핍된 상태를 일컫는 말로, 주로 저개발 지역에서 심각하게 발생한다. **오답풀이** ㄱ. ①, ⑤ 생물 다양성 감소와 관련된 내용이다. ② 기아는 식량 수요가 급증하면서 발생한다. ④ 영토·영해 분쟁과 관련된 내용이다.

문제자료 뜯어보기



기아는 저개발 지역인 아프리카 대륙에서 가장 심각하게 발생하고 있어요.

기아의 원인

자연적 원인	가뭄, 홍수, 태풍 등 자연재해, 병충해로 인한 식량 생산 감소
인위적 원인	급격한 인구 증가, 식량 분배 및 공급의 불균형, 전쟁 및 분쟁

해결의 실마리

과도한 가축 사육
↓
열대 우림 파괴
↓
기아 문제 심화, 환경 오염 심화

05

우리가 함께 살아가는 세계에는 기아, 영토 및 영해 분쟁, 생물 다양성 감소, 환경 오염, 자연재해 등 다양한 지리적 문제가 나타나고 있다. ④ 북극해는 많은 자원이 매장되어 있어 인접국들이 서로 넓은 범위를 차지하기 위해 벌이는 영해 분쟁 지역 중 하나이다.

06

영토나 영해를 차지하기 위해서 여러 국가가 분쟁하는 것은 역사적 배경, 자원의 확보, 민족(종교)의 대립 때문이다. 카스피해와 난사 군도, 쿠릴 열도, 센카쿠 열도는 매장된 지하자원 때문에 발생하는 분쟁 지역이다. ④ 북아일랜드는 크리스티교 중에서 구교(가톨릭) 신도와 개신교 신도가 대립하는 종교 분쟁 지역이다.

07

팔레스타인은 제1차 세계 대전 이후 아랍계 이슬람인과 유대인 간의 민족, 종교 갈등이 발생한 지역이다. **오답풀이** ㄱ. 지하자원으로 인한 분쟁은 카스피해, 난사 군도 등이다. ㄹ. 오염 물질의 이동에 의한 분쟁은 유럽의 산성비 피해 사례 등을 들 수 있다.

08

제시된 지도의 A 지역은 쿠릴 열도이다. 쿠릴 열도는 일본과 러시아의 영토 분쟁이 발생하는 4개의 섬으로, 석유와 천연가스, 금, 수산 자원 등이 매장되어 있어 분쟁이 치열해지고 있다. **오답풀이** ㄱ. ①, ③ 쿠릴 열도의 분쟁 당사국은 일본과 러시아이며, 현재 러시아가 실효 지배국이다. ④ 민족이 독립을 요구하는 과정에서 분쟁이 생긴 곳은 티베트 지역 등이다. ⑤ 서남아시아와 동북아시아를 잇는 교통로에 위치한 분쟁 지역은 난사(쯔엉사, 스프래틀리) 군도 등이다.

09

센카쿠 열도는 해상 교통의 요충지이자 석유 및 천연가스가 풍부한 자원 매장지로서 가치가 높아 영유권 분쟁이 발생하는 지역이다. ㉠ 센카쿠 열도는 중국과 일본 간의 분쟁 지역이다.

10

지도에 표시된 지역은 북아일랜드이다. 북아일랜드는 개신교를 믿는 영국계 주민과 가톨릭교를 믿는 북아일랜드계 주민 사이의 종교 갈등이 일어나는 지역이다.

11

생물 다양성이란 지구 각지의 자연계에 존재하는 생물과 그들이 서식하는 환경의 다양성을 말한다. 생물 다양성, 즉 생태계의 다양성이 풍부해지면 기후 변화 현상이 완화될 것이다. ④ 생물 다양성을 보호하기 위해 체결한 협약은 '생물 다양성 협약'이다.

12

제시된 지도에서 생물 종의 개체 수는 열대 우림이 넓게 위치한 아마존강 유역에 많이 분포함을 확인할 수 있다.

13

제시된 글은 농경지 개발에 따른 생물 종 멸종 위기에 관한 것이다. 농경, 벌목, 수송, 용지 개발, 에너지 생산이나 광산 개발 등으로 인해 서식지가 파괴될 경우 생물 다양성이 감소할 수 있다.

14

열대 우림은 생물 다양성이 가장 풍부한 지역으로, 열대 우림이 파괴되면 이용 가능한 생물 자원이 감소하며, 생태계가 파괴될 것이다. ⑤ 열대 우림이 사라지면 지구 온난화와 생물 다양성 감소가 진행될 수 있다.

15

홍수, 가뭄, 태풍과 같은 자연재해나 전쟁, 식량 분배 및 공급의 불균형, 급격한 인구 증가 등으로 인해 기아가 발생하고 있다.

16

자료에 제시된 카슈미르는 영토를 둘러싸고 인도와 파키스탄 간의 갈등이 나타나는 지역이다. 이슬람교를 주로 믿는 카슈미르 지역을 힌두교 신자가 많은 인도에서 통치하면서 갈등이 발생하였다.

17

남획과 혼획, 수질 오염, 외래종의 유입, 기후 변화, 환경 오염, 동식물의 서식지 파괴 등은 생물 다양성 감소를 일으킬 수 있는 원인이 된다.

18

예시답안 기아가 발생할 경우, 단기적으로는 면역력을 떨어뜨려 전염병을 유행시키며, 장기적으로는 신체적, 정신적 성장을 방해한다.

채점기준	등급	평가 기준
	상	기아로 발생할 수 있는 문제를 두 가지 모두 옳게 서술한 경우
	하	기아로 발생할 수 있는 문제를 한 가지만 서술한 경우

19

예시답안 유대인(이스라엘)과 아랍인(팔레스타인 주민) 간의 종교, 민족 차이로 인한 분쟁이다.

채점기준	등급	평가 기준
	상	팔레스타인 지역에서 발생하는 갈등의 분쟁 국가와 분쟁 원인을 모두 포함하여 옳게 서술한 경우
	하	팔레스타인 지역에서 발생하는 갈등의 분쟁 국가와 분쟁 원인 중 한 가지만 옳게 서술한 경우

생물 다양성 감소의 원인

- 기후 변화
- 환경 오염
- 서식지 감소
- 무분별한 남획
- 외래종의 유입

해결의 실마리

마구잡이로 수산 자원을 잡아들이는 남획



많은 종류의 물고기 멸종 위기



생물 다양성 감소



비료 사용으로 토양과 하천 바다가 오염됨



수상 생물이 폐죽음을 당함



생물 다양성 감소

20

예시답안 다양한 생물을 보존하려는 노력을 통해 기후 변화에 대응할 수 있으며, 인간이 자연을 통해 누릴 수 있는 혜택을 계속해서 누릴 수 있다. 또, 자원을 지속적으로 이용할 수 있다.

채점기준	등급	평가 기준
	상	기후 변화에 대응, 지속 가능한 이용, 자연을 통한 혜택 중 두 가지 이상을 옳게 서술한 경우
	하	기후 변화에 대응, 지속 가능한 이용, 자연을 통한 혜택 중 한 가지만 서술하거나 내용이 미흡한 경우

2 저개발 지역의 발전을 위한 노력

3 지역 간 불평등 완화를 위한 노력

학교 시험 적응 문제

▶ 기본학습서 118~121쪽

01 ⑤ 02 ⑤ 03 ① 04 ④ 05 ③ 06 ① 07 ⑤
08 ① 09 ④ 10 ② 11 ② 12 ⑤ 13 ⑤ 14 ⑤
15 ㉠ 선진국, ㉡ 개발 도상국 16 빈곤 17 국제 비정부 기구(NGO) 18 해설 참조 19 해설 참조 20 해설 참조

01

세계화 시대에 접어들면서 자국의 경제적 이익을 실현하려는 국가 간 경쟁이 더욱 치열해지고 있다. 이에 따라 발전 여건이 좋은 선진국들은 더욱 발전하고, 저개발국은 발전에 어려움을 겪으면서 선진국과 저개발국 간의 발전 격차가 더욱 커지고 있는 상황이다.

02

지역이 발전하면 나타날 수 있는 효과에 대한 기대는 1인당 국내 총생산(GDP)이나, 교육, 보건 및 의료, 성평등 지표 등이 향상되는 것, 기대 수명이 높아지고 부패 지수가 낮아지는 것 등을 들 수 있다. ⑤ 저개발 지역의 발전이 무한 경쟁을 통한 부의 극대화를 가져온다고 보기는 어렵다.

03

제시된 지도의 (가) 지역은 선진국, (나) 지역은 개발 도상국이다. 인간 개발 지수(HDI)란 각국의 교육 수준과 국민 소득, 기대 수명 등을 기준으로 각국의 발전 정도를 평가하는 지수이다.

소답풀이 ㄷ, ㄹ. 인간 개발 지수(HDI)가 높을수록 교육 수준과 국민 소득이 높고, 기대 수명이 길다.

04

제시된 글은 개발 도상국의 사례로, 빈곤 해결을 위한 노력에 관한 내용이다. 지도의 A는 노르웨이, B는 일본, C는 미국, D는 르완다, E는 오스트레일리아이다. 르완다는 과거 민족 간 분쟁이 심한 지역이었으나, 최근 들어 역사 교육을 강화하고 사회를 통합하는 한편, 인재 육성에 집중하여 '아프리카의 기적'으로 불리고 있다.

05

제시된 자료는 적정 기술에 대한 것이다. 저개발 지역에서는 자력으로 성장하기 위한 방안으로 적정 기술 도입을 추진하고 있다.

06

제시문은 보츠와나의 공업화 정책에 관한 내용이다. 저개발 지역에서는 적극적인 공업화 정책을 실시하여 도로, 전력, 통신 시설 등 사회 기반 시설을 확충하고 외국 자본을 유치하여 공장 등을 건설함으로써 소득을 향상시킬 수 있다.

07

제시된 자료는 서아프리카 경제 공동체(ECOWAS)에 대한 내용이다. 개발 도상국은 경제 협력체를 통해 인접국과 교역하면서 서로 판매량을 높이고 질 좋은 제품을 수입하는 등 상호 이익을 추구하고 있다.

오답풀이 ◀ ㄱ. 경제 공동체는 회원국의 정치에 관여하지 않는다. ㄴ. 공정 무역은 주로 선진국의 민간단체가 추진한다.

08

지역 간 불평등 완화를 위해 정부 간 국제기구, 국제 비정부 기구 등이 노력하고 있다. 정부 간 국제기구는 각국 정부를 회원으로 하는 국제기구이고, 국제 비정부 기구는 개인이나 민간단체를 회원으로 하는 국제기구이다. ②, ③, ④, ⑤는 정부 간 국제기구에 속하는 국제 연합 산하의 기구이다. ① 그린피스는 국제 비정부 기구에 속한다.

09

제시된 자료는 옥스팜의 상징 로고이다. 옥스팜은 빈곤 해결과 불공정 무역에 대항하는 국제 비정부 기구로, 빈곤의 원인이 되는 기후 변화에도 관심을 가진다.

오답풀이 ◀ ① 국제 연합(UN) 산하 국제기구는 국제 연합 평화 유지군(PKF), 국제 연합 난민 기구(UNHCR), 국제 연합 아동 기금(UNICEF) 등이다. ② 국경 없는 의사회와 관련된 내용이다. ③ 생물 다양성 감소를 막기 위해 노력하는 단체는 그린피스이다. ⑤ 한국 국제 협력단(KOICA)과 관련된 내용이다.

10

제시된 글은 공정 무역에 관한 것이다. 공정 무역은 개발 도상국의 생산자에게 정당한 가격을 주고 제품을 구매하는 취지의 운동이다.

적정 기술

- 의미: 특정 사회의 문화적·환경적 조건 등을 고려하여 지속적인 생산과 소비가 가능하도록 만들어진 기술
- 사례: 쿼드럼, 라이프스트로, 항아리 냉장고 등

옥스팜

빈곤 해결과 불공정 무역에 대항하기 위해 만들어진 국제 비정부 기구

11

제시된 글은 지역 간 불평등을 완화하기 위해 실천할 수 있는 노력인 키바(KIVA)에 관한 것이다. 키바와 같은 지원은 국가 사업에 필요한 대규모 재원을 조달하는 것이 아니라 개인이 필요로 하는 비용을 여러 명이 도와주기 때문에 기부자의 입장에서는 소규모의 금액으로도 도울 수 있다. 또한 지원 희망자를 직접 고를 수 있는 특징이 있다.

12

같은 지리적 문제라도 지원 방법에 따라 성과와 한계가 다를 수 있다. 제시된 사례의 경우, 목표한 우물의 수를 줄이고 지속적인 관리에 지원하였다면 버려지는 우물 없이 계속적으로 이용 가능하였을 것이다.

13

제시된 그림의 교사는 우간다, 잠비아 등 개발 도상국에서 보내지는 중고 의류 기부에 대한 이야기를 하고 있다. 지역 간 불평등 완화를 위한 노력으로 많은 성과를 내고 있으나, 한계 또한 존재한다. 무상으로 옷을 제공하면 해당 국가의 의류 생산업자가 옷을 판매할 기회가 사라져, 결국 해당 국가의 의류 산업의 자립을 방해하게 된다. 이와 같이 지원하는 방법에 따라 성과와 한계가 다르게 나타날 수 있다.

14

지역 간 불평등을 완화하기 위해 여러 방식의 노력이 이루어지고 있다. 그 중 기술 지원은 개발 도상국의 자발적인 성장을 위한 방안 중 하나이다.

오답풀이 ◀ ① 식량 지원은 당장의 시급한 문제 해결을 위한 것이다. ② 해외 원조는 정부 간 국제기구, 국제 비정부 기구 등이 할 수 있다. ③ 국제 비정부 기구는 국제 연합과 별도로 운영되는 민간 기구이다. ④ 공정 무역 제품은 환경을 보호하며 생산되므로 가격은 다소 높은 편이다.

15

세계의 각 지역은 상대적인 발전 수준에 따라 선진국과 개발 도상국으로 구분할 수 있다.

16

저개발 지역의 빈곤 문제는 인간 생활을 위협할 정도로 심각한 상태이다. 빈곤 문제는 오늘날 세계가 해결해야 할 최우선 과제 중의 하나이다.

17

국제 비정부 기구는 지역이나 정부, 국가와 관계없이 자발적으로 조직된 국제적 비영리 민간단체이다. 대표적인 비정부 기구로는 환경 보호 목적의 그린피스, 의료 봉사 목적의 국경 없는 의사회, 빈곤 퇴치 목적의 옥스팜 등이 있다.

18

예시답안 해당 지역의 교육 수준과 소득, 기대 수명 등이 낮기 때문이다.

채점기준	등급	평가 기준
	상	교육 수준, 소득, 기대 수명 등을 모두 서술한 경우
	하	교육 수준, 소득, 기대 수명 중 일부만 서술한 경우

19

예시답안 농업 기술을 개량하고, 작물 품종을 개발하며, 자연농을 육성하는 등의 노력을 하고 있다.

채점기준	등급	평가 기준
	상	식량 생산량과 관련한 내용을 옳게 서술한 경우
	하	식량 생산량과 관련한 내용의 서술이 미흡한 경우

20

예시답안 공정 무역 / 개발 도상국에서 생산되는 제품들에 대해 선진국의 소비자가 정당한 가격을 지급하여 생산자들에게 무역의 혜택이 돌아가도록 하자는 운동이다.

채점기준	등급	평가 기준
	상	공정 무역의 명칭을 옳게 쓰고, 개발 도상국, 선진국, 소비자, 무역의 혜택 등을 언급하여 옳게 서술한 경우
	하	공정 무역의 명칭은 옳게 썼으나, 개발 도상국, 선진국, 소비자, 무역의 혜택 등의 내용 중 일부만 언급하여 서술한 경우

대단원 완성문제

▶ 기본학습서 125~128쪽

01 ② 02 ⑤ 03 ④ 04 ② 05 ④ 06 ① 07 ③
08 ③ 09 ③ 10 ② 11 ④ 12 ④ 13 ② 14 ①
15 ④ 16 ⑤ 17 해설 참조 18 해설 참조 19 해설
참조 20 해설 참조

01

영양 결핍 인구, 즉 기아 인구 비율이 높은 곳은 개발 도상국이며, 그중 아프리카가 가장 높다. 반면 기아 인구가 낮은 곳은 선진국으로, 유럽과 오세아니아, 앵글로아메리카 등이 해당한다. 앵글로아메리카는 미국과 캐나다를 말하며, 라틴 아메리카는 멕시코부터 남아메리카까지 이르는 국가들을 말한다.

02

제시문은 식량 작물의 용도 변화에 관한 것이다. 생산된 곡물이 식량이 아닌 가축의 사료나 연료 등으로 사용됨으로써 식량으로 사용되는 곡물의 양이 줄어 기아가 발생하게 되었다.

해결의 실마리

저개발 지역의 빈곤 문제 해결



우물, 펌프, 비료 등에 관한 투자



농업 기술 개량을 통한 식량 생산량 증대

카스피해

연안국	아제르바이잔, 카자흐스탄, 투르크메니스탄, 러시아, 이란 등 5개국
갈등 내용	바다로 볼 경우 해안선의 길이에 비례하여, 호수로 볼 경우 공동 분할 → 매장된 자원을 둘러싼 갈등

03

제시된 그림은 아이티에서 나타난 심각한 기아 문제를 표현하고 있다. 지도의 A는 노르웨이, B는 이탈리아, C는 일본, D는 아이티, E는 아르헨티나이다. 아이티는 중앙 아메리카에 위치한 세계에서 가장 빈곤한 나라 중 하나이다. 아이티는 특히 지진과 허리케인 등 자연재해로 인해 기아 문제가 더욱 심각해지고 있다.

04

지도의 A는 서사하라, B는 수단, C는 에티오피아, D는 팔레스타인, E는 카슈미르 지역이다. 수단은 아랍 민족과 아프리카 민족 간의 갈등뿐만 아니라 이슬람교와 크리스티교(토착 종교) 간 갈등을 겪었다. 또한 석유 매장지와 송유관 이용 등을 놓고 갈등을 겪고 있다.

05

팔레스타인 지역은 오랫동안 아랍 민족이 거주하였으나, 제2차 세계 대전 이후 유대인이 국가를 선포하면서 분쟁이 시작되어 지금까지 이어지고 있다.

06

지도의 A는 쿠릴 열도, B는 센카쿠 열도, C는 시사 군도, D는 난사 군도이다. 쿠릴 열도는 러시아와 일본이, 센카쿠 열도는 일본과 중국이 영유권을 주장하고 있다.

07

카슈미르 지역은 파키스탄과 인도 사이에 종교 갈등으로 분쟁 중이다. ③ 중국으로부터 독립을 요구하는 지역은 티베트이다.

08

북아일랜드는 가톨릭교와 개신교 간의 종교 분쟁 지역이고, 북극해는 석유 자원을 두고 벌이는 자원 분쟁 지역이다.

09

지도의 A는 지중해, B는 흑해, C는 카스피해, D는 바이칼 호, E는 페르시아만이다. 카스피해를 사이에 둔 5개 국가는 서로에게 유리한 방향으로 이곳을 바다 또는 호수로 주장하며 경계 설정을 둘러싼 갈등을 벌였다.

10

생물 다양성은 다양한 이유로 감소할 수 있다. 그 원인으로는 농업, 벌목, 수송, 거주지나 상업 용지로의 개발, 에너지 생산이나 광산 개발 등으로 인해 서식지가 파괴될 경우, 지속 가능하지 않은 방식의 사냥 및 밀렵 또는 수확 등으로 무분별하게 남획한 경우, 오염으로 인해 서식지가 생존하기 어려운 환경으로 변하는 경우 등이 있다.

11

제시된 그림의 갑은 열대 우림을 보존해야 한다는 입장,

을은 열대 우림을 개발해야 한다는 입장이다. 갑은 경제적 이득보다는 자연환경을 우선시하며, 생물 다양성 보존을 가지 있게 생각한다. 반면, 을은 환경 보호보다는 경제 성장을 우선시하며, 기아 문제 해결이나 경제 문제 해결을 중요하게 생각한다.

오답풀이 ㄱ. 경제적 이득을 중요시하는 것은 을의 입장이다. ㄴ. 환경을 보호하자는 것은 갑의 입장이다.

12

제시된 자료는 남획으로 인해 발생하는 생물 종 감소에 관한 내용이다. 지속 가능하지 않은 방법으로 이루어지는 어업 행위는 결국 멸종을 유발한다. 따라서 무분별한 남획을 제한하는 조치를 취해야 한다.

13

개발 도상국은 합계 출산율이 높아 인구 증가율이 높게 나타난다. 그러나 기아나 빈곤 문제로 인해 면역력이 낮아 전염병과 같은 질병에 쉽게 노출되며, 이를 치료할 의료 시설 또한 충분하지 않다. 뿐만 아니라 소득 수준과 교육 수준이 낮아 문맹률이 높다.

14

제시된 지도는 세계의 영아 사망률을 보여 주고 있다. 선진국일수록 영아 사망률과 유년층 인구 비율이 낮고 산업이 발달하였으며, 1인당 에너지 소비량이 많다. 또한 의료 수준이 높아 노년층 인구 비율이 높고 기대 수명이 길며, 교육 기회가 많아 취학률이 높고 문맹률이 낮다.

15

공정 무역은 선진국의 소비자들이 정당한 가격을 주고 저개발국에서 생산한 제품을 이용하여 생산자에게 무역의 혜택이 돌아가도록 하는 운동이다. 주요 품목은 사람의 손으로 직접 생산하는 제품들이다.

오답풀이 ㄱ. A는 저개발국, B는 선진국이다.(0점) ㄴ. 공정 무역의 제품은 저개발국(A)에서 생산되어 선진국(B)에서 판매된다.(1점) ㄷ. 공정 무역에서 판매되는 제품은 커피나 차, 또는 손으로 만든 제품 등이다.(1점) ㄹ. 공정 무역은 친환경적인 방법으로 생산되어 일반 제품보다 가격이 저렴하지는 않다.(1점) 따라서 총 3점이다.

16

ㄴ. 개발 도상국이 인도적 지원에만 의존하고 기간 산업을 육성하지 않으면 자립이 어렵다. ㄹ. 공정 무역은 개발 도상국의 생산품을 정당한 가격에 구입하고자 하는 노력이다.

오답풀이 ㄱ. 생물 다양성 감소 문제는 열대림 지역에서 심각하다. ㄴ. 세계 식량 계획은 정부 간 국제 기구에 속하는 국제 연합의 산하 기구이다.

17

예시답안 석유, 천연가스 등과 같은 지하자원이 매장되어 있다

채점기준	등급	평가 기준
	상	지하자원 관련 내용을 명확히 서술한 경우
	하	갈등이 심화된 이유를 명확히 서술하지 못한 경우

18

예시답안 많은 돈을 들이지 않고도 일상생활에서 겪는 어려움에 대처할 수 있다.

채점기준	등급	평가 기준
	상	적은 비용, 일상생활의 어려움 해결 등의 내용을 언급하여 서술한 경우
	하	적은 비용, 일상생활의 어려움 해결 등의 내용이 없이 미흡한 경우

19

예시답안 지속 가능 발전 목표(SDGs) / 국제 연합(UN)이 발표한 지속 가능 발전 목표는 2030년까지 전 세계의 공동 목표로서 빈곤 퇴치를 최우선으로 하여, 지속 가능한 발전을 위협하는 요인을 완화해 나가고자 한다.

채점기준	등급	평가 기준
	상	지속 가능 발전 목표를 정확히 쓰고, 최우선 과제를 빈곤 퇴치라고 명확하게 서술한 경우
	중	지속 가능 발전 목표를 정확히 썼으나, 최우선 과제를 미흡하게 서술한 경우
	하	지속 가능 발전 목표라고만 쓴 경우

20

예시답안 <성과> 생산자 입장에서 공정 무역은 유통 단계를 줄이고 직거래를 활성화하여 유통비를 절약함으로써 수익을 높일 수 있으며, 지속적으로 안정된 소득을 올릴 수 있다. 또한 적절한 노동 시간과 강도가 보장될 수 있다. 소비자는 유기농 제품을 구입하기 때문에 믿을 만한 질 좋은 제품을 구매할 수 있으며, 개발 도상국에 도움을 준다는 만족감을 느낄 수 있다.

<한계> 생산자는 유기농 재배를 해야 하기 때문에 비용과 노동력을 오히려 더 투입해야 할 수도 있다. 소비자는 정당한 가치를 지불하기 때문에 비싼 제품을 구매해야 한다. 공정 무역 커피의 판매 비중은 조금씩 증가하고 있지만, 일반 커피의 판매 비중보다는 여전히 크게 낮기 때문에 소비자는 다양한 공정 무역 커피를 누릴 수 없다. 커피뿐만 아니라 공정 무역을 통해서 이루어지는 다른 제품들도 아직까지는 다양하지 않은 수준이다.

채점기준	등급	평가 기준
	상	자료를 토대로 공정 무역의 성과와 한계를 생산자와 소비자 입장에서 논리적으로 서술한 경우
	중	공정 무역의 성과와 한계를 생산자와 소비자 입장에서 서술하였으나, 그 내용이 논리적이지 않고 미흡한 경우
	하	공정 무역의 성과 또는 한계를 생산자와 소비자 중 어느 한 쪽의 입장에서만 서술한 경우

지역 간 차이를 보여주는 지표

- 선진국: 1인당 국내 총생산(GDP), 인간 개발 지수, 보건 및 의료 수준, 성평등 지수, 기대 수명, 노인 인구 비율 등이 높게 나타남
- 개발 도상국: 영아 사망률, 합계 출산율, 인구 증가율, 부패 지수, 문맹률 등이 높게 나타남

공정 무역의 특징

- 유통 과정 간소화 → 개발 도상국 생산자의 이익을 극대화하는 무역 구조
- 인권을 보장하는 생산 방식 유지



VII 인구 변화와 인구 문제

필수 문제로 학교 시험 대비하기 ▶ 시험대비서 02~05쪽

- ① 인구 밀도 ② 아시아 ③ 자연적 요인 ④ 인구 이동
⑤ 흡인 요인 ⑥ 경제적 이동 ⑦ 고령화 ⑧ 생산 가능
인구 ⑨ 인구 부양력 ⑩ 산아 제한 정책
- 01 ① 02 ③ 03 ④ 04 ① 05 ② 06 ② 07 ⑤
08 ③ 09 ③ 10 ③ 11 ④ 12 ③ 13 ③ 14 ⑤
15 ④ 16 ⑤ 17 ⑤ 18 ③ 19 ③ 20 ③

01

세계 인구는 지구상에 불균등하게 분포한다. 특히 육지가 넓은 북반구, 평야와 해안, 기후가 온화한 중위도 지역에 많은 인구가 거주하고 있다. ① 세계의 인구는 남반구보다 북반구에 더 집중하여 분포한다.

02

제시된 사진은 남부 및 동남아시아 지역(C)에서 활발하게 이루어지는 벼농사의 모습이다. 이 지역은 계절풍의 영향으로 인구 부양력이 높은 벼농사에 유리한 조건이 형성되어 있다.

오답풀이 ① A는 산업이 발달한 유럽으로 인구가 밀집한 지역이다. ② B는 건조한 서남아시아, ④ D는 몹시 한랭한 알래스카, ⑤ E는 연중 덥고 습한 아마존강 유역으로 인구가 희박하다.

03

과거에는 자연적 요인이 인구 분포에 미치는 영향이 컸다. 그러나 최근 과학 기술의 발달로 자연적 요인을 극복할 수 있게 되면서 경제, 산업 등 인문·사회적 요인이 인구 분포에 더 중요하게 작용하고 있다.

04

과거 벼농사가 중심이었던 시기에는 기후가 온화하고 평야가 발달한 남서부 지역에 인구가 밀집하였고, 상대적으로 기온이 낮고 산지가 많은 북동부 지역에는 인구가 희박하였다.

05

산업화로 인해 이촌 향도 현상이 활발하게 진행되면서 산업이 발달한 수도권과 남동 임해 지역을 중심으로 많은 인구가 집중하게 되었다.

06

인구를 다른 지역으로 밀어내는 배출 요인으로는 빈곤, 낮은 임금, 일자리 부족, 열악한 생활 환경, 전쟁과 분쟁 등이 있다. ② 높은 임금은 흡인 요인에 해당한다.

인구 분포에 영향을 주는 자연적 요인

- 인구 밀집 지역: 온화한 기후, 생산 활동에 유리한 평야 및 해안 등
- 인구 희박 지역: 연중 건조한 기후, 연중 고온다습하거나 한랭한 기후, 지형이 험한 산지 등

해결의 실마리

산업화 이전



농업 중심 사회



농업에 유리한 지역



넓은 평야, 온화한 기후 조건

07

제시된 지도에서 인구 유입 지역은 주로 양질의 일자리, 높은 임금 수준 등 흡인 요인이 많은 선진국에 표시되어 있다. 반면, 인구 유출 지역은 낮은 임금, 빈곤, 불안정한 정치적 상황 등 배출 요인이 많은 개발 도상국에 표시되어 있다.

08

아시아에서 앵글로아메리카, 라틴 아메리카에서 앵글로아메리카 등으로 이동하는 것은 주로 일자리를 찾아 이동하는 경제적 이동에 해당한다.

오답풀이 ① 경제적 이동은 주로 개발 도상국에서 선진국 방향으로 이동한다. ② 경제적 이동은 자발적 이동으로 구분된다. ④ 종교적 자유를 찾기 위한 이동은 과거 영국 청교도들의 아메리카 이주 등에서 나타났다. ⑤ 경제적 이동은 오늘날 국제적 인구 이동의 대부분을 차지한다.

09

서남아시아 지역은 내전과 분쟁이 잦은 곳으로, 정치적 불안정을 이유로 난민이 발생하여 주변 지역으로 이동하고 있다.

10

1960년대 이후 우리나라는 산업화를 추진하면서 농촌 인구가 도시로 향하는 이촌 향도 현상이 활발하게 진행되었으며, 이로 인해 농촌 인구가 도시로 집중하게 되었다.

오답풀이 ① 이촌 향도 현상은 주로 경제적 요인으로 이루어지는 인구 이동이다. ② 제시된 지도는 이촌 향도 현상을 보여 주고 있다. ④ 이촌 향도 현상으로 농촌 지역은 인구 유출 지역이 되었으며, 인구 유입 지역이 된 곳은 도시이다. ⑤ 1990년대 이후 나타나는 역도시화 현상에 관한 설명이다.

11

최근 다른 나라에서 우리나라로 유입하는 인구 이동이 늘고 있다. 주로 중국, 베트남, 필리핀 등 동남아시아에서 취업을 위해 인구가 유입되고 있으며, 국제결혼을 통한 인구 유입 또한 증가하는 추세이다.

12

산업 혁명 이후 경제 성장과 의학 기술의 발달, 생활 수준의 향상으로 평균 기대 수명이 증가하고 사망률이 감소하면서 세계 인구가 증가하게 되었다.

13

제시된 그래프의 A는 개발 도상국이다. 선진국은 산업 혁명 이후 완만한 속도로 인구 성장이 이루어졌으며, 현재는 그 속도가 더욱 완만하거나 정체되고 있다. 반면, 개발 도상국은 제2차 세계 대전 이후 경제 성장으로 인구가 급속하게 성장하면서 오늘날 세계 인구 성장을 주도하고 있다. ③ 인구 증가율이 정체하는 것은 선진국에 관한 설명이다.

14

인도와 같은 개발 도상국에서는 높은 출생률과 낮은 사망률로 인해 인구가 폭발적으로 증가한다. 이로 인해 급증한 인구를 부양할 능력이 부족해지고, 급격한 이혼 향도 현상으로 도시 과밀화 현상이 발생하기도 한다. ⑤는 고령화 현상이 나타나는 선진국에서 발생할 수 있는 문제점이다.

15

제시된 자료는 선진국의 인구 피라미드이다. 선진국에서는 여성의 사회 참여 증가, 결혼 및 출산에 대한 가치관 변화, 의학 기술 발달, 평균 수명 연장 등으로 인해 출생률과 사망률이 모두 감소하였다. 이로 인해 유소년층의 인구 비중이 낮고 노년층의 인구 비중이 높은 인구 구조가 나타난다.

16

선진국에서는 저출산·고령화 현상으로 인해 생산 가능 인구가 감소하면서 경제 성장이 둔화되고, 노인 인구 부담이 증가하는 문제점이 나타난다. 또한 외국인 노동자 유입으로 인해 기존 주민들과 문화적 갈등이 발생하기도 한다. ⑤는 개발 도상국에서 나타나는 문제점이다.

17

우리나라는 6·25 전쟁 이후 사회가 안정되면서 출생률이 증가하고 사망률이 감소하여 인구가 급속히 증가하였다. 이에 따라 인구 증가 억제를 위한 가족 계획을 실시하여 출생률이 감소하였으며, 최근에는 출생률의 급속한 저하로 저출산 현상이 뚜렷하게 나타나고 있다.

18

우리나라는 1990년대 이후 여성의 사회 진출이 증가하고 결혼 연령이 상승하였으며, 주택 마련 비용 증가, 육아 및 가사 노동 부담, 소득 및 고용 불안 등 다양한 원인으로 인해 출생률이 급속히 낮아지게 되었다.

19

1960년대 이후 우리나라는 과도한 인구 증가를 억제하기 위해 가족 계획의 일환으로 산아 제한 정책을 실시하였다. 그 결과 출생률이 감소하였으나, 최근 저출산 현상이 뚜렷하게 나타나면서 이를 완화하기 위한 방안으로 출산 장려 정책을 추진하고 있다.

20

우리나라는 최근 들어 고령 사회에 접어들었으나, 고령화 사회에서 초고령 사회로 가는 기간이 매우 짧아 다른 선진국에 비해 빠르게 진행될 것으로 예상된다.

오답풀이 ① 고령화 역사가 매우 짧다. ② 고령화 속도가 매우 빠르다. ④ 심각한 고령화 문제가 나타나고 있다. ⑤ 고령화에 대한 시급한 대책이 요구된다.

인구 밀집 지역

- 산업, 교통 발달로 인구가 밀집한 지역: 서부 유럽, 미국 북동부
- 농업 발달로 인구가 밀집한 지역: 아시아

우리나라의 인구 변화

- 6·25 전쟁 이후: 사회 안정으로 인구 증가
- 1960년대 이후: 급속한 인구 증가로 인구 억제 정책 시행
- 최근: 출생률 저하로 인해 출산 장려 정책 시행

우리나라의 인구 분포

- 인구 밀집 지역: 수도권, 남동 임해 지역, 대도시
- 인구 희박 지역: 강원 산간 및 농어촌 지역

실전 문제로 등급 올리기

▶ 시험대비서 06~09쪽

01 ③ 02 ② 03 ③ 04 ① 05 ③ 06 ⑤ 07 ④
08 ② 09 ⑤ 10 ③ 11 ③ 12 ④ 13 ② 14 ②
15 ① 16 ① 17 ② 18 ③ 19 ② 20 ④ 21 해
설 참조 22 해설 참조 23 해설 참조

01

지도에 표시된 A 지역은 그린란드이다. 이 지역은 연중 기온이 낮은 곳으로, 자연적 요인에 의해 인구가 매우 희박한 지역이다.

02

지도의 A는 서부 유럽, B는 사하라 사막, C는 동남아시아, D는 미국 북동부, E는 안데스 산지 부근이다. 서부 유럽(A) 지역과 미국 북동부(D) 지역은 산업과 경제 발달로 인구가 밀집된 대표적인 지역이다.

03

제시된 그래프의 A는 아시아이다. 아시아 지역은 계절풍의 영향을 받는 지역으로, 인구 부양력이 매우 높은 벼농사가 발달해 있다.

04

우리나라의 북동부 지역(A)은 기후가 한랭하고 산지가 분포하여 인구가 비교적 희박하다. 반면 남서부 지역은 기후가 온화하고 넓은 평야가 펼쳐져 농업에 유리하여 과거 많은 인구가 집중 분포하였다.

05

제시된 지도의 A는 서울, B는 경기도, C는 강원 산간 지역, D는 전북 내륙 지역, E는 부산 중심의 남동 임해 지역이다. ③ 산업이 발달하여 인구가 밀집된 지역은 수도권이나 남동 임해 지역이다.

06

인구 유입 지역에서는 노동력 부족 문제가 완화되고 경제가 활성화되는 등의 긍정적인 효과가 나타난다. 그러나 다양한 문화 지역의 인구가 유입되면서 이주민과 기존 주민 간 문화적 갈등이 발생하기도 한다.

07

인구의 국제 이동은 계속 증가하는 추세이며, 이동의 대부분은 경제적 목적으로 나타난다. ④ 개발 도상국은 낮은 임금, 열악한 생활 환경 등으로 인구 유출이 많은 지역이다.

08

자료의 인물은 내전으로 발생한 난민임을 알 수 있다. 북동부 아프리카(B) 일대는 내전과 같은 정치적 불안으로 인해 많은 난민이 발생하고 있다.

09

선진국에서는 도시의 과밀화 현상과 집값 상승 등으로 인해 쾌적한 환경을 찾아 도시 주변이나 농촌 지역으로 이동하는 역도시화 현상이 나타나고 있다. ⑤ 시리아와 같은 개발 도상국에서는 일자리가 풍부한 도시 지역으로 향하는 이촌 향도 현상이 나타나고 있다.

10

제시된 지도에 표시된 인구 이동은 과거 유럽인들의 신향로 개척 이후, 노예 무역으로 발생한 강제적 이동이다.

11

1960~1970년대에는 우리나라 젊은이들이 독일에 광부나 간호사로 파견되어 많은 외화를 벌어들였다. 이들의 노력을 바탕으로 우리나라는 경제 성장의 밑거름을 다질 수 있었다.

12

제시된 노래 가사에는 1960년대 농촌을 떠나 도시로 향하는 이촌 향도 현상의 정서가 잘 드러나 있다.

13

①은 선진국이다. 선진국은 과거 산업 혁명 이후 인구가 성장하여 현재는 낮은 출생률과 사망률로 인해 인구 증가 속도가 매우 느리거나 정체된 지역으로 노동력 부족 등의 문제를 겪고 있다.

14

고령화 문제를 해결하기 위해서는 정년 연장, 연금 제도 개선, 노인 일자리 확대 등 다양한 사회 보장 제도와 노인 복지 제도 개선이 요구된다.

15

제시된 자료는 개발 도상국의 인구 구조이다. 개발 도상국은 출생률이 높은 반면 사망률이 낮아 인구가 급격하게 증가하여, 세계 인구 성장을 주도한다.

16

개발 도상국은 증가한 인구에 비해 부족한 인구 부양력으로 인한 문제, 도시 과밀화 문제 등을 겪고 있다.

오답풀이 ② 노인 인구 비중이 높은 선진국에 적절한 대책이다. ③ 출생률이 낮은 선진국에 적절한 대책이다. ④, ⑤ 도시 과밀화 문제를 심화시킬 수 있으므로 적절하지 않은 대책이다.

17

개발 도상국은 인구가 급속히 증가한 데 비해 경제 성장이 늦어 인구 부양력이 낮고, 이촌 향도 현상으로 도시 과밀화 문제가 나타난다. 또, 일부 국가에서는 남아 선호 사상으로 성비 불균형이 나타난다. ② 역도시화 현상은 주로 선진국에서 나타나는 현상이다.

해결의 실마리

낮은 출생률



정부의 적극적인 출산, 육아 지원



출생률 향상 기대

해결의 실마리

1960년 우리나라



산업화 추진 낮은 경제 성장



풍부하고 저렴한 노동력



해외 취업을 위한 경제적 이동

고령화 현상의 대책

노인 일자리 창출, 노인 복지 개선, 정년 연장, 연금 제도 개선, 다양한 사회 보장 제도 실시

18

1990년대 우리나라는 가족 계획 사업을 추진하면서 산아제한 정책을 추진하였다. 이 과정에서 남아 선호 사상의 영향으로 선택적 출산이 급증하고, 이로 인해 성비 불균형 문제가 심각하게 발생하였다.

19

제시문은 프랑스에서 저출산 문제를 해결한 사례에 관한 내용이다. 프랑스 등 유럽의 선진국에서는 출생률을 높이기 위해 여성은 물론 남성에게도 육아 휴직을 의무화하고 아동 수당을 지급하는 등 각종 출산 지원 정책을 펼쳐 저출산 현상을 완화하기 위해 노력하고 있다. ② 연금 제도 개선은 고령화 문제 해결을 위한 내용이다.

20

우리나라는 고령화가 매우 빠르게 진행되고 있다. 따라서 연금 제도 개선, 노인 일자리 창출, 정년 연장 등 다양한 대책이 요구된다.

21

예시답안 (가) 지역은 대도시에 비해 일자리가 적어 청장년층이 다른 지역으로 이동하고 있으며, (나) 지역은 산업화 정책으로 발달한 대표적인 공업 도시로 풍부한 일자리를 바탕으로 지속적인 인구 증가가 나타나고 있다.

등급	평가 기준
상	(가, 나) 지역의 인구 변화를 산업 발달과 관련하여 정확히 서술한 경우
하	(가, 나) 지역의 인구 변화 중 한 지역에 대해서만 그 원인을 서술한 경우

22

예시답안 세계 주요 인구 이동은 대부분 경제적 목적으로 개발 도상국에서 선진국으로 이동한다. 또한 서남아시아나 아프리카 등지에서는 정치적 불안을 피해 이동하는 경우도 증가하고 있다.

등급	평가 기준
상	세계 인구 이동의 방향과 경제적, 정치적 원인을 모두 언급하여 서술한 경우
중	세계 인구 이동의 방향을 서술하고, 경제적 또는 정치적 원인 중 한 가지만 서술한 경우
하	세계 인구 이동의 방향만 서술한 경우

23

예시답안 출산을 장려하기 위해서는 임신과 출산 관련 의료비나 양육비 지원, 각종 보육료 지원, 공공 교육 서비스 확대 등의 방안이 필요하다.

등급	평가 기준
상	출산 장려 정책을 두 가지 이상 서술한 경우
하	출산 장려 정책을 한 가지만 서술한 경우

VIII 사람이 만든 삶터, 도시

필수 문제로 **학교 시험 대비하기** ▶ 시험대비서 10~13쪽

- ① 도시 ② 세계 도시 ③ 지역 분화 ④ 인구 공동화
⑤ 부도심 ⑥ 위성 도시 ⑦ 도시화 ⑧ 가속화 단계
⑨ 슬럼 ⑩ 살기 좋은 도시

- 01 ③ 02 ③ 03 ⑤ 04 ② 05 ④ 06 ② 07 ③
08 ① 09 ⑤ 10 ② 11 ② 12 ④ 13 ③ 14 ③
15 ④ 16 ④ 17 ③ 18 ① 19 ⑤ 20 ③

01

제시된 (㉠)는 도시, (㉡)는 촌락의 경관 사진이다.

오답풀이 ㉠. 도시는 인구가 밀집하므로 촌락보다 인구 밀도가 높다. ㉡. 촌락보다 도시에 거주하는 주민의 직업 구성이 더 다양하다.

02

역사상 최초의 도시는 기원전 3,500년 무렵 이라크의 대하천 유역(C)의 농업에 유리한 조건을 갖춘 고대 문명 발생지에서 형성되었다.

03

사진의 (㉠)는 에콰도르 키토, (㉡)는 일본 도쿄이다. 키토(㉠)는 안데스산맥에 위치한 고산 도시로 연중 봄과 같은 기후가 나타난다. 도쿄(㉡)는 화산재가 쌓인 비옥한 평야에 발달한 도시로 뉴욕, 런던과 함께 세계 금융의 중심지 역할을 하는 세계 도시이다. 지도의 ㉢은 싱가포르이다.

04

자료의 (㉠)는 그리스 아테네, (㉡)는 중국 베이징, (㉢)는 브라질 리우데자네이루이다. 아테네는 고대 문명이 발달하여 역사 유적이 많다. 베이징은 여러 왕조에 걸쳐 오랜 기간 통치의 중심 도시였다. 리우데자네이루는 삼바 축제와 카니발로 잘 알려져 있는 대표적인 관광 도시이다. ㉣은 파르테논 신전, ㉤은 예수 조각상, ㉥은 자금성이다.

05

벨기에 브뤼셀과 미국 뉴욕은 주요 외교·군사적 의사 결정이 이루어지는 국제기구의 본부가 위치해 있으므로 세계의 정치·외교적 영향력이 상당하다.

06

그림의 (㉠) 지역은 대도시의 도심, (㉡) 지역은 주변 지역을 나타낸 것이다. 도심은 주로 업무·상업 기능이 발달하므로 주변 지역보다 농지 비율이 낮게 나타난다.

오답풀이 ㉠, ㉢, ㉣, ㉤ 모두 도심에서 더 높게 나타나는 지표이다.

대도시권

- 의미: 대도시의 영향력이 미치는 공간적 범위
- 배경: 대도시의 성장과 교통의 발달

공업 기능

- 분포: 도시 주변 지역 또는 중간 지역
- 입지 조건: 도시 내에서는 대체로 지가가 저렴하여 넓은 부지를 확보할 수 있는 지역이 유리

도시의 형성과 발달

- 최초의 도시: 기원전 3,500년 무렵 이라크의 티그리스강과 유프라테스강 유역의 문명 발생지에서 형성
- 발달: 중세에는 상업 도시, 근대에는 공업 도시, 현대에는 다양한 기능의 도시 발달

07

신문 기사의 제목은 모두 도심(C)에 관한 것이다. 도심(C)은 높은 접근성으로 지가가 비싸 주거 기능이 쇠퇴하고 업무·상업 기능이 발달한다. 그림의 A는 주변 지역, B는 중간 지역, D는 부도심, E는 위성 도시이다.

08

제시된 그림은 부도심에 대한 대화이다. 서울의 영등포구, 강남구, 송파구 등 곳곳에 도심의 일부 기능을 분담하는 부도심이 발달해 있다.

오답풀이 ㉠. 개발 제한 구역에 대한 설명이다. ㉡. 부도심은 도심과 주변 지역을 연결하는 교통의 요지에 형성된다.

09

제시문은 개발 제한 구역에 관한 내용으로, 녹지 공간을 확보하기 위해 지정된 지역이므로 산림 면적의 비율이 높다.

10

자료는 공업 기능에 관한 내용이다. 공장은 도시 중심부보다는 주변부에 입지하는 경향을 보인다. 공장은 높은 접근성이 요구되는 상업 기능과 달리 넓은 부지를 차지하므로 저렴한 지가가 중시되기 때문이다.

11

도시화는 도시 인구가 증가하고 도시적 생활 양식이 확대되는 현상으로, 도시화가 진행되면 2·3차 산업 종사자의 비중이 증가한다.

12

(㉠)는 도시화의 가속화 단계, (㉡)는 종착 단계에 대한 설명이다. (㉠)의 가속화 단계에서는 본격적인 산업화가 이루어지며, 촌락을 떠나 도시로 이주하는 사람이 크게 증가한다. (㉡)의 종착 단계에 도달하면 3차 산업 중심의 탈공업화 사회로 도시화율의 증가 속도가 둔화되거나 도시 인구가 촌락으로 이주하는 역도시화 현상이 나타난다. 그래프의 A는 초기 단계, B는 가속화 단계, C는 종착 단계이다.

13

그래프의 (㉠)는 도시화의 종착 단계에 접어들 것으로 보아 일찍 산업화 시기를 겪은 국가(영국)이다. (㉡)는 본격적인 산업화와 함께 도시화율이 급증하고 있는 국가(중국)이다. (㉢)는 도시화율의 증가 속도가 완만하며 인구의 대부분이 촌락에 거주하고 있는 국가(니제르)이다.

14

도시 인구가 촌락으로 이동하여 도시 인구가 감소하는 현상을 역도시화라고 한다.

15

제시문의 '이 지역'은 슬럼으로, 대도시 내에서 빈민층이 주로 거주하며 불량 주택이 밀집한 지역이다.

16

사진은 브라질과 베트남의 불량 주택 지역을 보여 주고 있다. 개발 도상국에서는 급속한 도시 인구 성장으로 주택과 같은 기반 시설 부족 문제를 겪는 경우가 많다. 이는 도시화의 가속화 단계에서 나타나는 과도시화와 관련된다.

17

주민의 상당수가 슬럼에 거주하고 있는 인도 뭄바이(C)에서는 슬럼의 독특한 경관과 주민 생활을 이용한 관광 상품이 판매되고 있다. 슬럼 관광은 가난을 상품화한다는 비판이 제기되고 있으나, 여러 개발 도상국에서 성행하고 있다.

18

오스트리아 그라츠는 소득 수준에 따라 동서로 나뉜 주민 간의 소통과 교류를 위한 도시 개발을 실시하였다. 독일 베를린은 노후화된 건물과 시설을 처리하는 도시 재생 과정에서 주민의 의견을 반영하여 기존 건물을 철거하지 않고 문화 및 관광 자원으로 재활용하였다. 두 도시의 공통 점은 주민 중심의 소통과 참여를 통해 도시 문제를 해결해 나가고 있다는 것이다.

19

제시된 '태그 클라우드'의 키워드를 보면 오스트리아 빈, 브라질库里치바, 캐나다 밴쿠버 등과 같이 살기 좋은 도시들이 언급되어 있다. 또한 삶의 질, 의료 복지, 낮은 범죄율, 쾌적한 환경 등과 같이 살기 좋은 도시의 여러 조건이 언급되어 있다.

20

열악한 도시 환경을 개선하여 쾌적한 주거 환경이 형성되면 주민들의 만족도가 향상되어 삶의 질이 높아진다. 제시문에서 브라질의库里치바는 인구 증가와 교통 혼잡, 환경 문제 등으로 몸살을 앓던 지역이었으나, 다양한 환경 개선 노력으로 살기 좋은 도시가 되었다.

과도시화와 도시 문제

- 과도시화: 도시의 수용 능력에 비해 과도한 인구가 거주하는 현상
- 도시 문제: 기반 시설과 서비스 부족에 따른 교통 혼잡, 주택 부족(슬럼 형성), 환경 오염 유발

집중 현상과 이심 현상

- 집중 현상: 업무 기능 및 상업 기능이 도심으로 집중하는 현상
- 이심 현상: 주거 기능, 공업 기능 등 비업무 기능이 도심에서 벗어나는 현상

상주인구와 주간 인구

- 상주인구: 실제 거주하는 인구(도심 < 주변 지역)
- 주간 인구: 낮 시간대에 분포하는 인구(도심 > 주변 지역)

02

A는 촌락에서 높게 나타나는 항목이므로 경지 면적 비율, 1차 산업 종사자 비율 등이 적절하다. B는 도시에서 높게 나타나는 항목이므로 인구 밀도, 3차 산업 종사자 비율 등이 적절하다.

03

제시문의 (가)는 이탈리아 베네치아, (나)는 중국 상하이에 관한 설명이다.

▶ 답풀이 ㄱ. 브라질 리우데자네이루의 거대 예수상 경관이다.

04

제시문의 A는 케냐의 수도인 나이로비로, 사파리 관광이 이루어지는 야생 초원이 국립공원으로 지정되어 있다. B는 멕시코 칸쿤으로, 고급 호텔과 리조트가 많으며 해양 스포츠를 즐길 수 있는 휴양 도시이다. 두 도시 모두 관광과 휴양에 적합한 기후가 나타나는 관광 도시이다.

05

그림에 해당하는 지역은 도심이다. 도심은 도시 내에서 접근성이 가장 높으므로, 토지의 가치인 지가 또한 비싸다. 따라서 비싼 지가의 한정된 토지를 효율적으로 이용하기 위해 고층 건물이 밀집하여 분포한다.

06

그래프의 A는 도심, B는 부도심, C는 주변 지역이다. 부도심(B)은 도심과 주변 지역을 연결하는 교통의 요지에 발달한다.

▶ 답풀이 ① 주변 지역(C)에 관한 설명이다. ② 도심(A)은 퇴근 시간대보다 출근 시간대 유입 인구가 많다. ④ 도시 내에서 시가지가 형성된 시기는 부도심(B)보다 도심(A)이 더 이르다. ⑤ 도심(A)에 관한 설명이다.

07

그림의 A는 주변 지역, B는 중간 지역, C는 도심, D는 부도심, E는 위성 도시이다. ① 접근성이 가장 높은 지역은 도심이다.

08

제시된 A, B 지역은 서울의 내부 지역으로, A는 도심, B는 주변 지역이다. 도심(A)은 접근성과 건물의 평균 높이가 높고, 주변 지역(B)은 출근 시간대 유출 인구가 많다.

09

제시된 기사는 도심의 초등학교 수 감소에 관한 내용이다. 이러한 현상은 도심의 주거 기능이 주변 지역으로 빠져나간 결과이며, 도시 내부의 지역 분화가 뚜렷해지면서 발생한 현상이다.

실전 문제로 등급 올리기

▶ 시험대비서 14~17쪽

01 ⑤ 02 ③ 03 ④ 04 ③ 05 ⑤ 06 ③ 07 ①
08 ② 09 ② 10 ⑤ 11 ⑤ 12 ④ 13 ⑤ 14 ③
15 ② 16 ⑤ 17 ④ 18 ④ 19 ③ 20 ③ 21 해
설 참조 22 해설 참조 23 해설 참조

01

도시는 제조업이나 서비스업이 발달한 곳으로, 다양한 기능이 집중되어 정치, 경제, 문화의 중심지 역할을 한다.

10

사진을 보면 출근길 교통 체증이 (가) 방향에서 나타나고 있다. 따라서 ㉠은 업무 기능이 발달한 도심 또는 부도심, ㉡은 주거 기능이 발달한 주변 지역이다. ㉢ 주변 지역은 야간에 비해 주간인구의 비율이 낮다.

11

도시화란 도시 수의 증가, 도시 면적의 확대, 도시 인구 비율의 증가, 도시적 생활 양식의 확대 등의 의미가 포함되어 있다.

12

그래프의 A는 도시화의 초기 단계, B는 가속화 단계, C는 종착 단계이다. ㉠ 이촌 향도 현상은 B 단계에서 가장 활발하다. ㉡ 역도시화 현상은 C 단계에서 나타난다.

13

제시된 그래프에서 (가) 시기는 도시화 과정의 가속화 단계, (나) 시기는 종착 단계에 해당한다. ㉢ 도시화의 종착 단계에 이르면 이촌 향도하는 인구는 점차 감소한다.

14

선진국은 교통의 발달로 대도시의 영향력이 공간적으로 확대되면서 대도시권이 발달하고 있다. 이 과정에서 대도시의 인구나 기능을 분담하는 위성 도시가 증가하고 있다. 대도시권은 대도시를 중심으로 한 통근 범위, 통학 범위, 재화의 판매 범위 등을 통해 확인할 수 있다.

15

그래프를 보면 1960년대 이후 도시화율이 급격히 상승하고 있다. 따라서 산업화가 진행 중인 개발 도상국의 도시화율 그래프임을 알 수 있다. 지도의 A는 노르웨이, B는 인도네시아, C는 일본, D는 캐나다, E는 뉴질랜드이다. 이들 국가 중 개발 도상국은 인도네시아이고 나머지는 선진국으로 분류된다.

16

선진국의 도시는 비교적 형성된 지 오래되어 노후화된 지역이 나타난다. 특히, 도심 중간 지역의 낡고 오래된 건물 등을 중심으로 슬럼이 형성되는 경우가 많다.

오답풀이 ㉠ 주변 지역에서 나타나는 현상이다. ㉡ 도시의 무분별한 팽창을 막기 위한 방법이다. ㉢ 도심의 주거 기능이 발달할 경우 나타날 수 있는 결과이다. ㉣ 빈민층의 대규모 인구 유입으로 슬럼이 형성되는 것은 아니다.

17

왼쪽 사진은 타이 방콕의 교통이 혼잡한 모습, 오른쪽 사진은 인도 뭍바이의 빈민촌 모습을 보여준다. 자료에 공통적으로 나타난 개발 도상국의 도시 문제는 과도시화 현상으로 발생하며, 증가하는 인구 추세를 도시의 기반 시설이 감당하지 못하면서 나타난다.

우리나라의 도시 성장

- 1960년대 이전: 농업 중심의 도시화 초기 단계
- 1960년대~1980년대: 급속한 산업화와 도시화가 진행된 가속화 단계
- 1990년대 이후: 도시화율이 매우 높아지면서 증가 속도가 느려진 종착 단계

슬럼

- 빈민층이 거주하는 불량 주택 지구
- 과도시화를 겪는 개발 도상국의 다수 도시, 도심 쇠퇴와 노후화 문제가 나타나는 선진국의 일부 도시에서 나타남

18

자료는 북유럽에 위치한 스웨덴 예테보리의 사례를 다루고 있다. 예테보리는 과거 화석 연료에 의존하던 에너지 소비 구조를 탈피하기 위해 재생 에너지 중심의 '탈석유 정책'을 펼치고 있다. 그리고 교통량을 줄이기 위해 대중교통 이용을 적극적으로 장려하고 있다. 이를 통해 쾌적한 환경을 갖추기 위한 도시의 노력을 확인할 수 있다.

19

살기 좋은 도시 건설을 위해 경제적 자립, 각종 시설의 공평한 이용, 자원의 합리적 이용, 생활 편리성 추구, 주민이 참여하는 다양한 행사 개최 등의 노력이 필요하다.

20

영국 리버풀은 오래된 항구 시설을 문화 자원으로 활용하고 있고, 일본 도쿄는 도심의 전통 가옥과 옛 골목길을 잘 가꾸어 역사와 문화가 살아 있는 모습으로 보존하고 있다. 두 도시 모두 지역 고유의 특성을 살려 지역 경제에 활기를 불어넣는 도시 재생 사업이 이루어진 사례이다.

21

예시답안 (가)는 런던, (나)는 도쿄, (다)는 뉴욕이다. 이들 도시는 국제 금융 기관, 다국적 기업의 본사, 국제기구 등이 집중된 세계 도시로, 세계 정치·경제 활동의 중심지 역할을 한다.

채점기준	등급	평가기준
상	하	세 도시의 이름과 기능적 측면의 공통점을 모두 옳게 서술한 경우
	하	세 도시의 이름을 쓰지 않았거나, 기능적 측면의 공통점을 제대로 서술하지 못한 경우

22

예시답안 도심에 해당하는 A는 도시가 성장함에 따라 높은 접근성이 요구되는 업무·상업 기능이 발달하였다. 반면에 기존의 거주 인구가 다른 지역으로 이동하면서 주거 기능이 쇠퇴하였다.

채점기준	등급	평가기준
상	하	도심의 인구 감소 원인을 기능 변화 측면에서 옳게 서술한 경우
	하	도심의 인구 감소 원인을 기능 변화 측면과 무관하게 서술한 경우

23

예시답안 살기 좋은 도시에 대해 절대적인 기준을 세우는 어렵지만, 대체로 살기 좋은 도시로 주목 받는 도시들은 쾌적한 자연환경, 적당한 인구 규모, 도시 기반 시설, 사회적 안정성, 의료·문화 시설 등을 갖추고 있다.

채점기준	등급	평가기준
상	하	살기 좋은 도시의 조건을 두 가지 이상 서술한 경우
	하	살기 좋은 도시의 조건을 한 가지만 서술한 경우

IX 글로벌 경제 활동과 지역 변화

필수 문제로 학교 시험 대비하기

▶ 시험대버서 18~21쪽

- ① 농업의 세계화 ② 곡물 메이저 ③ 플랜테이션
④ 로컬 푸드 운동 ⑤ 다국적 기업 ⑥ 생산 공장 ⑦ 산업
공동화 ⑧ 서비스 산업 ⑨ 탈공업화 ⑩ 공정 여행

- 01 ① 02 ② 03 ④ 04 ④ 05 ① 06 ④ 07 ③
08 ⑤ 09 ② 10 ⑤ 11 ④ 12 ② 13 ② 14 ⑤
15 ① 16 ③ 17 ② 18 ⑤ 19 ① 20 ②

01

세계화 시대의 농업은 쌀, 밀 중심의 자급적 농업에서 부가 가치가 높은 상품 작물 위주의 상업적 농업으로 변화하고 있다. 또한 많은 자본과 기술을 농업에 투입하여 세계 시장을 상대로 농산물을 생산하는 기업들이 생겨났다.

02

전 세계에 수출되는 밀은 주로 곡물 메이저들에 의해 유통되며, 세계 식량 공급에 큰 영향을 미친다. 미국은 세계적인 밀 생산지이자 수출국으로 대형 농기계를 이용하여 곡물을 대량으로 재배하기 때문에 생산비가 저렴하다. ② 기업적 곡물 농업은 주로 미국, 캐나다, 오스트레일리아 등의 넓은 농업 지역에서 이루어진다.

03

제시문의 (가)는 기업적 농목업, (나)는 플랜테이션이다. 기업적 농목업은 주로 아메리카, 오스트레일리아의 대평원에서, 플랜테이션은 아시아와 아프리카의 열대 기후 지역에서 주로 이루어진다. 지도의 A는 영국, B는 사우디아라비아, C는 인도네시아, D는 일본, E는 미국이다.

04

세계화로 인해 농산물의 수출입이 자유로워지자 외국산 농산물의 수입이 증가하고, 상업적 농업이 발달하였으며, 기호 작물의 재배가 증가하게 되었다.

05

바나나, 커피, 카카오, 차 등은 대표적인 플랜테이션 작물로, 주로 열대 기후 지역의 개발 도상국에서 생산되어 선진국으로 이동하여 소비된다. 최근 기호 작물의 소비가 증가하면서 바나나 등의 재배 면적이 확대되고 있다.

06

다국적 기업에 의해 기업적 농장이 운영되면 농업 생산 지역에서는 고용이 창출되어 경제가 활성화되기도 한다. 하지만, 단일 작물을 재배하는 경우가 많고 화학 비료와 농약을 대량으로 사용하여 생태계가 교란될 수 있다.

곡물 메이저

전 세계에 곡물 생산지를 두고 곡물을 수출하고 수입하는 세계적인 거대 곡물 회사

다국적 기업의 생산 공장의 입지 조건

- 개발 도상국: 낮은 임금과 지가 → 생산비 절감
- 선진국: 넓은 소비 시장 확보, 무역 장벽 극복

해결의 실마리

바나나는 기호 작물



플랜테이션 농장에서 상업적으로 재배



소비 증가로 농장 확대

07

농업의 세계화로 세계 각지에서 생산되는 농산물을 저렴하게 구입할 수 있게 되었지만, 국내 농가는 국산 농산물의 소비 감소로 매출이 감소할 수 있다. 또한 농산물이 수입되는 과정에서 방부제나 농약 등을 사용하는 경우가 많아 식품에 대한 안전성 문제가 나타나고 있다.

08

제시된 지도를 보면 청바지를 만들기 위해 여러 국가에서 생산을 거치고 있다. 다국적 기업은 각 생산 과정에 필요한 조건을 고려하여 적절한 지역에서 청바지를 생산하고 판매하여 이익을 극대화하고 있다.

09

제시된 그래프의 (가) 회사들은 연 매출액이 한 국가의 국내 총생산액보다 많을 정도로 경제 규모가 큰 다국적 기업이다. ② 다국적 기업의 본사는 주로 선진국에 위치한다.

10

다국적 기업의 생산 공장은 생산비를 절감하기 위해 인건비와 지가가 저렴한 개발 도상국에 입지하거나, 관세 등 무역 장벽을 피하기 위해 선진국에 입지한다. ⑤ 정보 수집과 자본 확보에 유리한 지역에 위치하는 것은 본사이다.

11

다국적 기업은 여러 국가에 영업 지점, 생산 공장을 세우면서 만들어진다. 기업이 성장하면서 더 많은 이윤을 창출하기 위해 기능을 분산하면서 공간적 분업이 나타난다.

오답풀이 ㄱ. 다국적 기업의 연구소는 대부분 전문 인력이 풍부한 선진국에 위치한다. ㄷ. 다국적 기업의 본사는 대부분 선진국에 위치하며, 개발 도상국으로 이전하는 경우는 드물다.

12

다국적 기업의 본사는 주로 선진국에, 연구소는 전문 인력이 많은 곳에 입지한다. 생산 공장은 대체로 인건비가 저렴하거나 소비 시장을 확보할 수 있는 지역에 위치한다.

13

지도에 표시된 생산 공장은 각각 A는 인도, B는 미국에 위치한다. 인도의 생산 공장은 지가와 인건비가 저렴하여 기업이 생산비 절감 효과를 기대할 수 있는데 비해, 미국의 생산 공장은 인건비는 비싸지만 높은 관세 등의 무역 장벽을 극복할 수 있다는 장점을 가지고 있다.

14

제시문의 중국 광둥성은 다국적 기업의 생산 공장이 다른 지역으로 빠져나가는 변화를 겪고 있다. 따라서 중국 광둥성 공장이 문을 닫으면, 일자리가 줄어 실업률이 증가하고, 지역 경제가 침체되어 진출 인구가 많아질 것이다.

15

다국적 기업들이 베트남으로 생산 공장을 이전하면서 베트남에 일자리가 증가하고 관련 산업이 발달하고 있다. 그러나 섬유, 의류, 신발 등 환경 오염을 유발하는 공장이 이전되어 환경 오염 문제가 나타나기도 한다.

16

탈공업화 현상은 제조업보다 서비스 산업이 경제 성장을 이끄는 것으로, 탈공업화로 서비스업 종사자 비중이 증가하고 있다.

17

경제가 발달하여 주민들의 소비 수준이 높아지면 다양한 서비스에 대한 수요가 증가한다. 따라서 산업에서 서비스 산업이 차지하는 비중은 개발 도상국보다 선진국에서 높게 나타난다.

18

정보 통신의 발달과 세계화의 영향으로 유통, 관광 등 다양한 분야에서 국가 간의 경계가 약화되었다. ⑤ 지역 서점에서 문화 상품권으로 책을 구입하는 것은 전통적인 유통 구조에서 볼 수 있는 사례이다.

19

제시문은 전자 상거래에 관한 내용이다. 전자 상거래는 소비자가 상점을 방문하지 않고도 상품을 구매할 수 있다는 편리성 때문에 전 세계에서 빠른 속도로 성장하고 있다.

오답풀이 < ㄷ. 전자 상거래가 발달하면, 유통 구조를 제대로 갖추지 못한 중소형 규모의 유통 업체는 어려움을 겪을 수 있다. < ㄹ. 교통·통신이 발달할 경우 재래시장보다는 전자 상거래로 유통되는 시장의 상권이 확대된다.

20

관광 산업이 발달하면 지역 경제가 활성화된다. 하지만, 관광객과 새로 들어선 숙박업소, 음식점 등에 의해 환경이 오염되거나 전통문화가 훼손되는 문제가 나타날 수 있다.

베트남의 농업 변화

- 과거: 쌀 주산지
- 현재: 기후 작물의 수요 증가 → 세계 2위의 커피 생산국

해결의 실마리

식생활의 서구화



밀, 육류의 소비 증가



기업적 곡물, 육류 생산량 증가

오답풀이 < ㄹ. 농업의 세계화는 이윤 창출을 목적으로 하는 상업적 농업 방식의 확산과 관련 깊다.

02

제시문은 기업적 농목업을 설명한 것이다.

오답풀이 < ㄴ. 벼농사(ㄴ)와 몽골 초원 지대에서 이루어지는 유목(ㄹ)은 대체로 자급적인 목적으로 행해진다.

03

기업적 곡물 재배나 기업적 목축업은 미국과 캐나다, 오스트레일리아의 대평원 등지, 우크라이나와 러시아 남부에 걸친 흑토 지대에서 활발하게 이루어진다.

04

세계적인 쌀 수출국이었던 베트남은 세계적으로 기후 작물의 수요가 증가하자 쌀보다 커피 생산에 주력하였고, 그 결과 세계 2위의 커피 생산국이 되었다.

05

지도의 A는 기업적 목축, B는 기업적 곡물 재배가 이루어지는 지역을 나타낸 것이다. 이들은 모두 전 세계로 판매할 것을 목적으로 이루어지는 농목업으로, 주로 곡물 메이저와 같은 대규모 농업 기업에 의해 농장이 경영된다.

06

식생활의 서구화로 밀, 육류의 소비량이 증가하고 가축을 먹이기 위한 사료 작물의 수요가 늘면서 기업적 곡물 재배와 기업적 목축 생산량은 증가하고 있다.

07

농업의 세계화와 기업화의 영향으로 상업적 농업이 활발해졌으며, 이익을 극대화하기 위해 농업 생산에 많은 자본과 기술을 투입하는 다국적 농업 기업이 등장하였다.

08

농업의 세계화로 먹거리의 보관, 유통 과정에서의 식품 안전성 문제가 제기되면서 이를 해결하기 위한 로컬 푸드 운동, 푸드 마일리지 등이 확산되고 있다.

오답풀이 < ① 목초지 면적을 확대하면 토양 오염은 심화될 것이다. < ② 플랜테이션 농경지를 확대하면 기후 변화 문제는 심화될 것이다. < ③ 기후 작물 생산은 식량난 해결에 큰 도움이 되지 않는다. < ⑤ 노동자의 임금 감축이 국제 식량 가격 상승의 해결책이 될 수는 없다.

09

다국적 기업은 여러 국가에 판매 지사, 생산 공장 등을 운영하면서 전 세계를 대상으로 생산과 판매 활동을 한다.

오답풀이 < ① 판매 시장 확보를 위해 선진국에 진출하기도 한다. < ② 금융, 보험 등 다양한 분야로 진출하였다. < ③ 일부 다국적 기업은 개발 도상국의 국내 총생산 이상의 경제 규모를 가지기도 한다. < ④ 연구소는 고급 인력이 풍부한 선진국에 주로 입지한다.

실전 문제로 등급 올리기

▶ 시험대비서 22~25쪽

01 ③ 02 ② 03 ④ 04 ② 05 ④ 06 ⑤ 07 ②
08 ④ 09 ⑤ 10 ⑤ 11 ② 12 ⑤ 13 ④ 14 ⑤
15 ③ 16 ② 17 ③ 18 ④ 19 ③ 20 ② 21 해
설 참조 22 해설 참조 23 해설 참조

01

세계화란 국가 간 상호 의존성이 증가함에 따라 세계가 단일한 체계로 나아가는 현상으로, 교통·통신의 발달과 자유 무역의 확산 등이 그 배경이다.

10

세계 무역 기구 체제가 출범하여 세계 경제가 하나의 거대한 시장으로 통합되면서, 여러 국가에서 경제 활동을 하는 다국적 기업의 활동이 활발해졌다. 이들 다국적 기업은 선진국의 기업이 많으며, 제조업뿐만 아니라 농업, 서비스업 등 다양한 분야에 진출하고 있다.

11

다국적 기업의 본사는 정보 수집과 자본 확보에 유리한 선진국에, 생산 공장은 노동비가 저렴한 개발 도상국에 주로 입지한다.

12

지도는 다국적 기업인 H 자동차 회사의 공간적 분업을 나타낸 것이다. ⑤ 저렴한 노동력이 풍부한 지역은 개발 도상국이다. 생산 공장을 선진국에도 입지시킨 이유는 주로 판매 시장을 확보하고 무역 장벽을 피하기 위함이다.

13

다국적 기업의 본사와 연구소는 정보와 자본 확보가 용이하고, 고급 기술 인력이 풍부한 선진국에 주로 입지한다. ④ 원료나 저렴한 노동력 확보는 생산 공장이 개발 도상국에 입지하는 이유이다.

14

다국적 기업의 생산 공장은 임금 수준이 낮은 개발 도상국에 주로 입지하지만, 최근에는 시장 개척을 위해 제품 수요가 많고 소득 수준이 높은 선진국에도 활발하게 진출하고 있다.

오답풀이 ㄱ, 본사의 입지 조건이다. ㄴ, 연구소의 입지 조건이다.

15

제시문은 다국적 기업의 생산 공장이 다른 지역으로 빠져나간 지역에 관한 내용이다. 제시문의 A국과 같이 공장이 빠져나간 지역은 실업률이 높아지고 관련 기업들이 도산하는 등의 문제가 발생할 수 있다.

16

서비스 산업은 사람에 의해 제공되는 것이므로 제공 방식이 다양하며, 소비자의 요구 또한 다양하므로 기계화·표준화하기가 어렵다.

17

교통·통신의 발달은 생산과 소비를 연결하는 유통 분야의 세계화를 가속화한다. 인터넷을 통해 해외 구매 사이트도 쉽게 접속할 수 있기 때문에 소비 활동의 범위가 전 세계로 확대되었으며, 유통 비용이 과거에 비해 저렴해지면서 해외 직접 구매가 계속 증가하고 있다.

농업의 기업화

- 배경: 상업적 농업이 발달하면서, 가격 경쟁력을 갖춘 대규모 농업 기업이 등장함
- 영향: 기업 차원에서 대량으로 농산물을 재배 및 판매하는 기업적 농업으로 변화함

해결의 실마리

공장의 해외 이전



- 일자리 감소
- 실업률 증가



- 지역 경제 침체
- 인구 전출

18

(가)는 전통적인 상거래, (나)는 전자 상거래의 모습이다. 전자 상거래는 전통적인 상거래에 비해 시·공간적 제약이 적어 유통 범위가 넓고 거래 가능 시간이 크게 나타난다.

오답풀이 ㄱ, ㄴ, 전통적인 상거래는 전자 상거래보다 유통 단계가 많고 공간적 제약이 크게 나타난다.

19

제시된 그래프는 관광객 수의 증가를 보여 준다. 교통의 발달로 이동이 편리해지고, 여가 시간이 증가하면서 관광 산업이 발달하고 있다. ③ 세계적인 관광지에는 다국적 기업의 여행사나 숙박업소 등이 많이 진출해 있다. 이 때문에 관광 수익이 현지보다는 다국적 기업의 본사로 보내지면 현지 경제에 큰 도움이 되지 않을 수 있다.

20

인터넷의 발달로 다국적 기업은 인건비와 운영비가 저렴한 개발 도상국에 콜센터를 설치, 운영할 수 있게 되었다. 특히, 영어를 사용하는 인도와 필리핀에는 다국적 기업의 콜센터가 집중적으로 분포한다.

21

예시답안 (가) 플랜테이션과 (나) 기업적 곡물 재배는 기업이 많은 자본을 농업에 투입하여 농작물을 생산하며, 전 세계로 유통된다는 공통점이 있다.

채점 기준	등급	평가 기준
	상	플랜테이션과 기업적 곡물 농업의 공통점을 두 가지 서술한 경우
	하	플랜테이션과 기업적 곡물 농업의 공통점을 한 가지만 서술한 경우

22

(1) 예시답안 다국적 기업은 두 개 이상의 국가에 지사와 연구소, 생산 공장을 설립하여 생산과 판매 활동을 하는 기업이다.

(2) 예시답안 투자 유치국에는 생산 공장이 이전되어 고용 창출 효과가 나타날 수 있고, 기술 이전으로 관련 산업이 발달하여 경제가 활성화된다.

채점 기준	등급	평가 기준
	상	(1), (2) 내용을 모두 옳게 서술한 경우
	하	(1), (2) 내용 중 한 가지만 옳게 서술한 경우

23

예시답안 소비자 서비스업은 숙박업·음식업·소매업 등과 같이 일반 소비자에게 직접 제공되는 서비스이고, 생산자 서비스업은 금융·법률·광고 등과 같이 기업 활동에 도움을 주는 서비스이다.

채점 기준	등급	평가 기준
	상	소비자 서비스업과 생산자 서비스업을 옳게 비교한 경우
	하	소비자 서비스업과 생산자 서비스업 중 하나의 특징만을 옳게 서술한 경우

X 환경 문제와 지속 가능한 환경

필수 문제로 **학교 시험 대비하기** ▶ 시험대비서 26~29쪽

- ① 기후 변화 ② 지구 온난화 ③ 몰디브 ④ 파리 협정
⑤ 공해 유발 산업 ⑥ 전자 쓰레기 ⑦ 바젤 협약 ⑧ 미
세 먼지 ⑨ 유전자 재조합 식품(GMO) ⑩ 로컬 푸드 운동
- 01 ④ 02 ③ 03 ③ 04 ④ 05 ② 06 ③ 07 ②
08 ③ 09 ③ 10 ② 11 ① 12 ③ 13 ① 14 ③
15 ① 16 ① 17 ③ 18 ⑤ 19 ④ 20 ⑤

01

기후 변화에 인위적 요인의 영향이 커진 것은 산업 혁명 이후이다. 화석 연료 사용에 따라 온실가스 배출이 증가하였고, 이는 기후 변화를 가속화하였다.

오답풀이 < 가. 태양 활동의 변화, 다. 화산재 분출 등은 기후 변화의 자연적 요인에 해당한다.

02

오늘날에는 석유, 석탄 등 화석 연료의 사용이 증가함에 따라 대기 중에 이산화 탄소의 농도가 높아지면서 지구의 평균 기온이 상승하는 지구 온난화가 나타나게 되었다.

03

제시된 그래프의 기체들은 온실가스이다. 대기 중 온실가스의 농도가 높아지면 온실 효과가 강화되어 지구의 평균 기온이 상승한다. ③ 글로벌 푸드 대신 로컬 푸드의 소비를 늘린다면 상대적으로 배출량이 줄어드는 효과가 있다.

04

제시된 도표는 지구 온난화의 발생 과정이며, 이 중 (가)에는 지구 온난화의 원인이 들어가야 적절하다. ④ 기상 이변 증가는 지구 온난화의 결과이다.

05

도표의 (나)에는 지구 온난화 현상의 결과가 들어가는 것이 적절하다. 지도의 A는 알프스산맥, B는 히말라야산맥, C는 투발루, D는 그린란드 남부이다. 지구 온난화 현상이 가속화되면서 알프스산맥(A)의 빙하는 후퇴하였고, 투발루(C)는 해수면 상승으로 국토가 침수되었다.

오답풀이 < B. 빙하가 녹으면서 새로운 항로가 개척된 곳은 북극해 지역이다. D. 이상 기후로 태풍 피해가 커진 곳은 서태평양 지역이다.

06

신문 기사의 (가)는 지구 온난화로 인한 해수면 상승이다. 이러한 기후 변화에 대응하기 위한 국제 협약은 기후 변화 협약, 교토 의정서, 파리 협정 등이다.

해결의 실마리

대기 중 온실가스 증가



지구 기온 상승



지구 온난화

환경 문제에 대응하는 국제 협약

- 지구 온난화: 기후 변화 협약, 교토 의정서, 파리 협정
- 유해 폐기물의 국제적 이동: 바젤 협약
- 오존층 파괴: 몬트리올 의정서

07

제시된 사진은 지구 온난화의 영향으로 빙하가 녹은 모습이다. 지구 온난화의 영향으로 해수면이 상승하고 기상 이변이 빈번해졌다.

08

제시문은 지구 온난화 현상이 지속되어 지구의 기온이 더욱 상승할 경우 나타날 수 있는 현상이다. 지구 온난화와 같은 기후 변화의 영향은 전 지구적 차원에서 나타나기 때문에 문제 해결을 위해 전 세계가 함께 노력해야 한다.

09

온실가스 배출량을 줄이기 위한 방안으로 국가적으로는 탄소 성적 표지 제도 등을 추진하거나, 개인적으로는 대중 교통 또는 자전거 이용을 활성화하는 방법 등이 있다.

10

2015년에 체결된 파리 협정에서는 선진국과 개발 도상국 구분 없이 196개국이 자국이 스스로 정한 방식에 따라 온실가스 감축 목표치를 정하고, 2020년부터 의무적으로 실천하는 데에 합의하였다.

11

유럽, 미국, 일본 등 선진국은 환경 관련 규제가 엄격하기 때문에 이곳에 입지했던 공해 유발 산업은 값싼 인건비와 지가, 느슨한 환경 규제를 찾아 개발 도상국으로 이동하고 있다.

12

(가)는 개발 도상국으로, 여러 지역의 전자 쓰레기를 수입하여 가공하는 전자 쓰레기 재활용 산업이 이루어지고 있다. 전자 쓰레기 재활용 산업은 환경 문제를 유발하는 대표적인 산업이며 버려진 스마트폰, 노트북 등을 분해하여 구리, 은과 같은 자원을 추출한다.

13

지도의 A는 전자 쓰레기 유출국이고, B는 전자 쓰레기 유입국이다. 전자 쓰레기는 주로 생활 수준이 높아 전자 제품의 소비가 많은 선진국에서 환경 규제가 덜 엄격한 개발 도상국으로 이동한다.

오답풀이 < 다. 전자 쓰레기 유출국(A)은 대부분 선진국이며, 전자 쓰레기 유입국(B)은 대부분 개발 도상국이다. 라. 인권 및 환경 등에 대한 규제가 적은 곳은 전자 쓰레기 유입국(B)인 개발 도상국이다.

14

네덜란드에서 장미 농장이 이전하면서, 케냐에는 일자리 창출, 지역 경제 활성화, 외화 수입 증가 등의 경제 효과가 발생하였다.

해결의 실마리

지구 온난화



해수면 상승



해발 고도가 낮은 섬나라의 국토 침수

미세 먼지

화석 연료의 사용이 주요 원인, 계절에 무관하게 발생함

15

환경 이슈는 환경 문제 중 원인과 해결 방안이 입장에 따라 서로 다른 것으로, 지역적인 것부터 세계적인 것까지 다양한 규모로 나타난다. 국내에서도 미세먼지, 유전자 재조합 식품 등 다양한 형태의 환경 이슈가 나타나고 있다.

16

미세 먼지는 자동차의 배기가스, 화력 발전소 등에서 발생하는 작은 먼지이다. 각종 호흡기 질환을 유발하거나, 가시거리가 짧아지는 원인이 되어 부정적인 영향을 미치고 있다. 또, 중국에서 발생한 미세 먼지가 황사에 섞여 우리나라로 유입되면 그 정도가 심해지기도 한다.

17

제시문의 (가)는 지구 온난화 현상으로 나타나는 환경 문제에 관한 내용이다. 이와 관련된 국제적 노력으로는 교토 의정서, 파리 협정 등이 있다. (나)는 유해 폐기물의 국가 간 이동과 처리 과정에서 발생하는 문제에 관한 내용이다. 이를 해결하기 위해 바젤 협약이 체결되었다.

18

제시문은 푸드 마일리지에 관한 것이다. 글로벌 푸드의 이동 거리가 길어지면 이산화 탄소 등의 온실가스 배출량이 증가한다. 또, 장거리 이동 시 부패를 막기 위해 방부제를 다량으로 사용하여 식품 안전성 문제가 발생하기도 한다.

19

식품의 이동 거리가 길어질수록 푸드 마일리지의 늘어나고, 식품의 안전성에 대한 문제가 제기되었다. 따라서 안전하고 건강한 먹을거리를 찾기 위해 가까운 지역에서 생산된 농산물을 소비하자는 로컬 푸드 운동이 등장하게 되었다.

20

노후 화력 발전 시설은 미세 먼지를 발생시키는 주요 원인으로, 쓰레기 문제와는 관련이 적다.

실전 문제로 등급 올리기

▶ 시험대비서 30~33쪽

01 ② 02 ③ 03 ③ 04 ③ 05 ④ 06 ⑤ 07 ①
08 ⑤ 09 ⑤ 10 ③ 11 ① 12 ③ 13 ④ 14 ①
15 ① 16 ③ 17 ④ 18 ④ 19 ④ 20 ④ 21 해
설 참조 22 해설 참조 23 해설 참조

01

기후는 화산 활동에 따른 화산재 분출, 태양과 지구의 상대적 위치 변화, 태양 활동의 변화 등 자연적 요인에 의해 변화한다. 또한, 산업 혁명 이후에는 도시화와 산업화, 화석 연료의 사용에 따른 온실가스 배출량 증가 등의 인위적 요인에 의해서도 변화하고 있다.

02

제시문은 지구 온난화 현상으로 인한 해수면 상승과 관련된 내용이다. 지구 온난화의 가장 큰 원인은 화석 연료의 사용 증가에 따른 대기 중 온실가스의 농도 증가이다. 지구 온난화로 극지방의 빙하나 고산 지대의 만년설이 녹아 해수면이 상승하면 해발 고도가 낮은 몰디브, 투발루, 나우루와 같은 일부 섬나라와 방글라데시 등의 해안 저지대가 침수하는 피해가 발생한다.

03

지구 온난화로 지구의 평균 기온이 상승하면 농작물의 재배 가능 기간이 길어지고, 재배 지역도 확대될 것이다.

04

산업화 및 인구 증가에 따른 온실가스의 배출량 증가로 온실 효과가 강화되어 지구의 기온이 급격하게 상승하는 현상을 지구 온난화라고 한다. 온실가스는 이산화 탄소, 메탄가스, 아산화 질소 등이 대표적이다.

05

제시된 자료의 (가)에는 지구 온난화가 들어가기에 적절하다. 지구 온난화 현상으로 지구의 평균 기온은 높아지고, 북극 항로의 항해 일수는 늘어날 것이다.

○ 답풀이 ◀ ㄱ. 극지방의 빙하량이 줄어들 것이다. ㄴ. 영구 동토층의 분포 면적이 줄어들 것이다.

06

지구의 평균 기온이 상승하는 지구 온난화가 발생하면 극지방과 고산 지역의 빙하가 녹고 해수면은 상승한다. 또한, 이로 인해 해안 저지대가 침수되기도 한다. 이와 더불어 비정상적인 기상 현상이 늘어나고, 생태계 변화가 일어나며 열대 질병의 발생 지역이 확대되기도 한다.

07

지구 온난화로 북극 주변에 위치한 그린란드 남부 해안 지역의 빙하가 감소하여 농경지가 증가하였다.

08

제시된 자료는 지구촌 불끄기 행사와 관련된 홍보 자료이다. 이 행사는 지구 온난화의 주범인 탄소 배출에 대한 경각심을 일깨우는 것을 목표로, 전 세계가 각 국가별 시간으로 매년 3월 마지막 주 토요일, 오후 8시부터 9시 반까지 한 시간 동안 전등을 끄는 것이다. ⑤ 화력 발전소를 증축하고 에너지를 저렴하게 공급하면, 에너지 소비가 늘어 탄소 배출도 늘어날 것이다.

09

공해 유발 산업은 주로 선진국에서 개발 도상국으로 이동하며, 공장의 이전과 함께 환경 문제도 함께 이동한다.

10

제시문은 탄소 배출권 거래 제도에 관한 내용으로, 빈칸에 들어갈 내용은 지구 온난화이다. 탄소 배출권은 특정 국가 또는 기업이 허용된 양보다 온실가스를 적게 배출할 경우 남은 배출권을 매매할 수 있도록 한 제도이다.

오답풀이 < 르. 미세 먼지와 관련된 설명이다.

11

제시된 국제 협약들은 온실가스 감축을 위해 체결된 것이다. 기후 변화 협약은 온실가스 감축을 위한 최초의 국제 협약이고, 교토 의정서는 기후 변화 협약의 구체적 이행 방안을 제시한 것이다. 교토 의정서는 주요 선진국만의 온실가스 감축 의무를 부여한데 비해, 파리 협정에서는 선진국과 개발 도상국 모두의 온실가스 감축을 의무화하고 감축 목표치를 자율적으로 정하도록 하였다.

12

①은 공해 유발 산업이다. 석면 산업은 토양 오염, 수질 오염 등을, 섬유 의류 산업은 하천 오염 등을 유발한다.

13

공해 유발 산업은 여러 가지 환경 문제를 일으키기 때문에 환경 규제가 엄격한 선진국에는 공장을 세우기 어렵다. 그래서 다국적 기업들은 상대적으로 환경 규제가 엄격하지 않은 개발 도상국으로 공해 유발 산업을 이전하고 있다.

14

환경 문제를 유발하는 산업의 이전에 따른 부작용을 줄이고 유해 물질의 국가 간 불법적 이동을 제한하기 위한 국제 협약은 바젤 협약이다. 바젤 협약은 1989년 스위스 바젤에서 체결되었다.

15

케냐 정부는 국제적으로 화훼 산업을 유치하기 위해 환경 기준을 완화하였다. 그 결과 화훼 농장은 증가하였지만, 수자원 고갈, 농약과 화학 비료 사용에 의한 수질 및 토양 오염 등의 문제가 발생하였다.

16

미세 먼지는 흙먼지나 꽃가루 등의 자연적 요인과, 화석 연료를 태울 때 나오는 매연, 자동차 배기가스, 건설 현장 등에서 발생하는 날림 먼지 등 인위적 요인에 의해 생성된다. ③ 미세 먼지는 계절에 상관없이 발생하고 있다.

17

본래의 유전자를 변형하여 원하는 특성을 갖도록 개발한 것을 유전자 재조합 식품(GMO)이라고 한다. 인체에 미치는 영향에 대한 우려로 인해 유전자 재조합 식품 생산에 반대하는 의견도 있지만, 다국적 농업 기업의 주도로 세계 곳곳에서 유전자 재조합 식품의 생산 면적이 확대되고 있다.

해결의 실마리

농업의 세계화



농산물의 원거리 이동



온실가스 배출 증가



지구 온난화 가속화

글로벌 푸드와 로컬 푸드

- 글로벌 푸드: 농업의 세계화로, 농산물의 수출입이 증가하면서 장거리 운송을 거쳐 소비자에게 도달하는 식품
- 로컬 푸드: 소비자와 가까운 지역에서 재배된 농산물을 소비자는 운동, 지역 경제를 활성화하고 푸드 마일리지를 줄이는 데 도움이 된다.

곳에서 유전자 재조합 식품의 생산 면적이 확대되고 있다.

18

다른 나라에서 수입되는 먹거리는 먼 거리를 이동하기 때문에 식품의 안전성을 보장하기 어렵고, 운송 과정에서 화석 연료를 사용하여 지구 온난화를 가속화하는 원인이 된다.

오답풀이 < ㄱ, ㄷ. 근거리의 지역에서 생산된 음식을 소비하지는 로컬 푸드 운동과 관련 깊다.

19

제시된 사진은 로컬 푸드 운동과 관련된 것이다. ④ 로컬 푸드를 소비하면 푸드 마일리지가 낮아져 지구의 기온 상승을 완화하는 데 도움을 줄 수 있다.

20

ㄴ. 글로벌 푸드란 해외에서 수입되는 먹을거리로, 대부분 장거리 운송을 거쳐 소비자에게 도달하는 식품이다. 반대로 로컬 푸드는 먹을거리의 운반 거리를 좁혀서, 환경을 지키고 우리 지역의 농산물을 소비할 수 있는 식품이다.

21

예시답안 온실 효과가 강화되면 지구의 평균 기온이 상승하는 지구 온난화 현상이 나타난다. 지구 온난화가 지속되면 극지방의 빙하가 감소하여 해수면이 상승하고 해안 저지대의 침수 피해가 증가하며, 홍수 및 가뭄 등의 자연재해 발생 빈도가 증가한다.

채점기준	등급	평가 기준
	상	지구 온난화임을 밝히고, 그 영향을 율게 서술한 경우
	하	지구 온난화만 쓴 경우

22

예시답안 장미 농장의 이전으로 케냐에서는 일자리가 창출되어 지역 경제가 활성화되고 국가에서는 외화 수입이 증가하는 경제적 효과가 나타났다. 하지만 농장 주변의 물 부족 문제와 함께 과도한 농약, 화학 비료의 사용으로 인한 토양 오염과 수질 오염 심화 등의 문제가 발생하였다.

채점기준	등급	평가 기준
	상	장미 농장 이전이 케냐에 미친 영향을 두 측면에서 모두 서술한 경우
	하	장미 농장의 이전이 케냐에 미친 영향을 한 측면에서만 서술한 경우

23

예시답안 미세 먼지는 화석 연료의 사용이 주원인이므로 대중교통을 이용하거나 에너지를 절약하는 습관을 들인다. 쓰레기 문제는 일회용품의 사용을 줄이고 분리수거를 철저히 하거나 재활용을 하도록 노력한다.

채점기준	등급	평가 기준
	상	두 환경 문제의 해결 방안을 각각 두 가지씩 서술한 경우
	중	두 환경 문제의 해결 방안을 한 가지씩만 서술한 경우
	하	두 환경 문제 중 한 가지의 해결 방안만 서술한 경우

XI 세계 속의 우리나라

필수 문제로 **학교 시험 대비하기** ▶ 시험대비서 34~37쪽

- ① 영역 ② 영공 ③ 직선 기선 ④ 배타적 경제 수역 (EEZ) ⑤ 독도 ⑥ 조경 수역 ⑦ 지역 브랜드 ⑧ 지리적 표시제 ⑨ 장소 마케팅 ⑩ 통일

- 01 ④ 02 ⑤ 03 ③ 04 ③ 05 ② 06 ⑤ 07 ②
08 ② 09 ④ 10 ① 11 ③ 12 ④ 13 ④ 14 ①
15 ④ 16 ④ 17 ⑤ 18 ① 19 ⑤ 20 ③

01

제시된 그림의 A는 영공, B는 영토, C는 영해, D는 배타적 경제 수역, E는 공해이다. 제시된 지도의 (가), (나) 지역은 한·중·일 각국이 지리적으로 인접하므로 200해리에 해당하는 배타적 경제 수역 확보가 어렵다. 따라서 양국 간 어업 협정을 통해 중간 수역 또는 잠정 조치 수역을 설정하여 공동으로 관리하고 있다.

02

배타적 경제 수역(D)과 공해(E)는 연안국의 정치적 주권이 미치지 않는 지역으로, 다른 국가의 선박이나 항공기의 자유로운 운항이 가능하다.

03

한 국가의 정치적 주권이 미치는 영해의 범위는 설정된 기선으로부터 12해리이다.

04

우리나라 영토는 한반도와 그 부속 도서에 해당하며, 총 면적은 약 22.3만 km²로 영국, 우간다, 캄보디아, 뉴질랜드 등과 비슷하다. 또한 남한 면적은 약 10만 km²로 북한의 면적이 더 넓으며, 꾸준한 간척 사업을 통해 영토 면적은 확대되어 왔다.

05

제시된 지도는 동해안 지역이다. 동해안은 해안선이 단조로워 썰물 때의 해수면인 최저 조위선을 기준으로 설정한 통상 기선으로부터 12해리까지를 영해로 설정하고 있다.

06

영해 기선이 표기된 지도는 동해안 지역을 나타내고 있다. 동해안은 통상 기선을 적용하여 영해를 설정한다. 우리나라에서 통상 기선을 적용하여 영해를 설정하는 지역은 동해안과 함께 제주도(D), 울릉도(C), 독도 등이 있다. 제시된 지도의 A는 중부 지방 서해안 일대, B는 남부 지방 서해안 일대, C는 울릉도, D는 제주도이다.

해결의 실마리

정치적 주권에 해당하는 영역



다른 국가의 항공기, 선박 운항 제한

영해 설정의 기준

- 서해안, 남해안: 가장 외곽의 섬 → 직선 기선
- 동해안: 최저 조위선 → 통상 기선

07

조선 시대에 제작된 팔도총도와 일본에서 제작된 삼국점양지도는 모두 독도가 우리 고유의 영토임을 보여 주는 고지도이다.

08

독도는 울릉도에서 약 87.4km 떨어져 위치하고 일본 오키섬에서는 약 157.5km 떨어져 위치한다. 따라서 일본보다 우리나라에 더 인접해 있음을 알 수 있다.

09

독도는 약 460~250만 년 전 해저 2,000m 이하에서 화산 폭발로 형성되었다. 독도는 높이가 2,000m가 넘고 하루 지름이 30km에 이르는 거대한 종 모양의 화산섬이다. 해수면 아래에는 이사부 해산, 심홍택 해산, 안용복 해산 등이 있다.

10

독도 해역에 매장된 메탄 하이드레이트는 천연가스가 저온, 고압의 상황에서 얼음 형태로 형성된 에너지 자원으로, 오염 물질의 배출이 적고, 독도 해역에 많은 양이 매장되어 있는 것으로 확인되고 있다.

11

독도를 지키기 위해 독도 경비대가 주둔하고, 독도 문화대축제를 개최한다. 또한, 독도 관련 민간 단체가 다양한 활동을 하며, 해외 광고 등도 이루어지고 있다.

12

전주는 지역의 특수성을 살려 한옥마을이라는 지역화 전략을 잘 운영하였고, 이를 통해 많은 관광객이 찾는 대표적인 장소가 되었다.

13

세계화의 영향으로 물자와 사람의 교류가 활발해지면서, 지역 간의 경쟁이 치열해지고 있다. 이러한 상황에서 지역성을 활용하여 경쟁력 향상을 위해 노력하는 것을 지역화 전략이라고 한다.

14

제시된 그림은 경상남도 남해군의 통합 브랜드이다. 환경친화적 청정 바다를 의미하는 로고를 활용하여 깨끗한 자연환경을 지역 브랜드로 형상화하고 있다.

15

자료는 지리적 표시제의 마크이다. 지리적 표시제는 생산지의 기후와 지형, 토양 등의 자연환경과 독특한 재배 방법으로 특정 상품을 생산하고 그 품질이 우수할 때, 원산지의 지명을 상표권으로 인정하는 제도이다.

16

제시된 자료는 보령시의 장소 마케팅 사례이다. 보령시는 바다에 발달한 갯벌을 소재로 축제를 개최하여 장소 마케팅에 활용하였고, 매년 많은 관광객이 방문하고 있다. 이처럼 특정 장소가 가지고 있는 자연환경이나 특성을 이용하여 장소를 상품으로 판매하는 활동을 장소 마케팅이라고 한다.

17

우리나라를 포함한 중국, 일본, 러시아, 미국 등 주변 국가들은 활발하게 교류하고 있으며, 역사적·정치적 관계가 밀접하다. 그 중 중국, 러시아 등 천연자원이 풍부하고, 인구 규모가 매우 크다.

오답풀이 ① 우리나라와 교류가 활발하다. ② 역사적 관계가 매우 밀접하다. ③ 인구 규모가 매우 크다. ④ 정치적 연관성이 매우 높다.

18

남북 분단으로 민족 문화의 이질화 심화, 이산가족의 아픔, 분단 비용 증가, 국토의 위치적 장점 활용 불가능 등의 문제점이 나타나고 있다.

19

남북이 통일할 경우 남한의 자본과 기술, 북한의 자원과 저렴한 노동력 등의 장점이 결합하여 통일 한국의 경제 규모가 확대되고, 국제적 위상과 국가 경쟁력이 향상될 것으로 예상된다.

20

통일 이후 우리 국민은 남북 간의 자유로운 왕래 및 교류가 가능해질 것으로 예상된다. ③ 비무장 지대 등은 환경·생태 지역으로 발전할 것이다.

우리나라의 영해

- 동해안, 제주도, 울릉도, 독도 등: 통상 기선 사용, 12해리 설정
- 서해안, 남해안: 직선 기선 사용, 12해리 설정
- 대한 해협: 일본과 인접하여 3해리 설정

02

배타적 경제 수역은 바다에 대한 경제적 권리를 주장할 수 있는 곳으로 연안국의 어업 활동, 자원 탐사 및 개발, 이용, 관리 등에 대한 경제적 권리가 보장된다. 또한, 다른 국가들의 선박이나 항공기 통행이 가능하다.

03

우리나라의 가장 남쪽에 위치하고 있는 섬은 제주도 남단에 위치한 마라도이다.

오답풀이 ② 독도는 우리나라의 가장 동쪽에 위치한 섬이다. ③ 마안도는 우리나라 가장 서쪽에 위치한다. ④, ⑤ 유원진은 우리나라에서 가장 북쪽에 위치한다.

04

우리나라는 기본적으로 기선에서 12해리까지를 영해로 설정하고 있다. 그러나 대한 해협은 일본과 거리가 가까워서 3해리까지를 영해로 인정하고 있다.

05

우리나라의 서해안(A)과 남해안, 대한 해협(C)은 섬이 많고 해안선이 복잡하여 가장 외곽에 위치한 섬들을 연결한 직선 기선으로부터 12해리까지를 영해로 설정하고 있다.

오답풀이 ② 제주도(B), 울릉도(D), 독도(E)는 통상 기선을 적용하여 영해를 설정한다.

06

우리나라와 중국은 지리적으로 거리가 인접하여 200해리의 배타적 경제 수역 확보가 어렵다. 따라서 한·중 어업 협정을 통해 한·중 잠정 조치 수역(A)을 설정하고 이 지역을 공동으로 관리하고 있다.

07

독도는 우리나라의 가장 동쪽에 있는 섬으로, 난류의 영향을 받아 기후가 온화한 편이다.

오답풀이 ㄱ. 독도에는 우리나라 주민이 거주하고 있으며 각종 주민 생활 시설과 경찰 주둔 및 경비 활동을 위한 시설 등이 갖추어져 있다. ㄴ. 우리나라에서 가장 큰 섬은 제주도이다.

08

독도 해역의 수심 200m 이하에 분포하는 해양 심층수는 영양 염류가 풍부하고 식수, 식품, 의약품 등에 활용 가치가 매우 높은 자원이다.

오답풀이 ① 석유는 우리나라에서 거의 매장되어 있지 않은 자원이다. ②, ③ 구리, 철광석은 대부분 산지에 매장되어 있다. ⑤ 메탄 하이드레이트는 독도 주변 바다에 풍부하게 매장되어 있는 자원으로, 천연가스가 얼음처럼 고체화된 것이다.

실전 문제로 등급 올리기

▶ 시험대비서 38~41쪽

01 ④ 02 ① 03 ① 04 ③ 05 ② 06 ⑤ 07 ⑤
08 ④ 09 ③ 10 ① 11 ⑤ 12 ③ 13 ⑤ 14 ③
15 ③ 16 ④ 17 ① 18 ② 19 ⑤ 20 ⑤ 21 해
설 참조 22 해설 참조 23 해설 참조

01

항공 교통이 발달하고 인공위성 관측 기술이 발달됨에 따라 영공의 중요성이 증대되고 있다. 일반적으로 영공의 범위는 항공기가 운항할 수 있는 고도로 국한되지만, 최근 우주 산업의 발달로 그 범위가 확대되고 있다.

해결의 실마리

항공 교통, 인공위성 기술 발달



영공의 중요성 증대

09

독도는 우리나라 영해 및 배타적 경제 수역 설정의 기준점이며, 태평양을 향한 전진 기지 역할을 하는 곳으로, 항공 교통과 방어 기지로서 중요한 군사적 요충지에 해당한다.

10

독도는 바다 깊은 곳에서 여러 차례의 화산 폭발 과정으로 형성되었다. 거대 화산체는 바다에 잠겨 있고 일부가 드러나 있어 해저 화산 연구의 지형학적 가치가 매우 높다.

11

독도는 우리나라의 가장 동쪽에 위치한 섬으로 오래전부터 우리 영토이다. 현재 독도 경비대, 독도 등대, 어민 숙소 등을 볼 수 있다. ⑤ 한라산의 화구호인 백록담이다.

12

지역의 경쟁력을 갖추기 위한 방안으로는 지역 브랜드나 특산물, 지역의 고유한 특성 개발, 환경 개선 등이 있다. ③ 다른 지역의 특성을 모방하는 것은 경쟁력을 갖추기 위한 방안으로 적절하지 않다.

13

제시된 지역은 유네스코에 등재된 유산이 있는 곳이다. 유네스코는 서울 종묘, 수원 화성, 경주 문화 역사 지구 등을 세계 문화유산으로, 한라산, 성산 일출봉, 거문오름 용암 동굴계를 세계 자연 유산으로 등재하였다.

14

지도에 표시된 지역화 전략은 지리적 표시제이다. 지리적 표시제란 해당 지역의 이름을 상표권으로 인정해 주는 제도로, 지리적 표시제를 통해 우수한 농산물을 보호하고 농산물의 품질 향상을 기대할 수 있으며, 지역 특화 산업을 육성하여 지역 경제 활성화를 기대할 수 있다.

15

충청남도 공주시는 과거 백제의 도읍지로 백제의 문화 유산이 많이 남아 있고, 이를 지역을 홍보하는 지역 브랜드로 표현하고 있다.

16

인천 국제공항이 있는 인천은 '동북아시아의 허브 도시'라는 이미지를 강조하기 위한 지역 브랜드를 제작하였다.

오답풀이 ① 섬과 바다가 특징인 통영의 경관과 이름을 이미지로 나타낸 것이다. ② 바다와 지역 특산물인 대게를 형상화한 영덕의 지역 브랜드이다. ③ 청정 바다인 남해의 다양한 농수산물이 생활의 소중한 보물이라는 이미지를 나타낸 것이다. ⑤ 한지, 비빔밥, 영화 등의 문화 콘텐츠가 세계로 뻗어 나가는 것을 표현한 전주의 지역 브랜드이다.

독도의 영역적 가치

- 영해, 배타적 경제 수역 설정의 기준
- 태평양의 전진 기지
- 항공 교통과 군사적 요충지

해결의 실마리

통일



- 남북한 인구 증가로 노동력 확보
- 해외 자원 수입 감소



경제 규모 확대 및 국제 경쟁력 강화

해결의 실마리

세계화의 진행



지역 경쟁력 강화 필요



지역화 전략 필요

17

우리나라는 반도국이라는 위치적 특성 때문에 동아시아의 주요 도시를 연결하는 데 가장 유리한 지리적 조건을 가지고 있다.

18

제시된 지도를 보면 선양에서 인천으로 가는 비행기가 북한의 영공을 지나가지 못하고 먼 항로로 돌아 운행하고 있음을 알 수 있다. 이것은 현재 우리나라와 북한이 분단 상황이기 때문에 일어나는 현상이다.

19

통일 이후 우리나라는 또한 경제 규모 확대, 생산성 증대, 일자리 창출 등으로 인해 GDP 규모가 증대되어 국제 경쟁력에서도 높은 위치를 차지할 수 있을 것이다.

20

통일 이후 우리나라는 유라시아 대륙으로 나아가기에 유리하고, 태평양을 향해 뻗어 나갈 수 있는 위치적 장점을 활용하여 아시아는 물론 세계의 물류 중심지로 발전할 가능성이 높다.

21

예시답안 우리나라와 중국, 일본은 지리적으로 인접하여 200해리에 이르는 배타적 경제 수역을 확보하기 어렵다. 따라서 한·일 간, 한·중 간 어업 협정을 통해 중간 수역과 잠정 조치 수역을 설정하여 이를 공동으로 관리 및 이용하고 있다.

채점기준	등급	평가 기준
	상	우리나라와 일본, 중국과의 지리적 거리를 언급하고, 어업 협정을 통해 공동 관리 및 이용한다는 내용이 서술된 경우
	하	한·중·일 간의 지리적 거리만 언급하고, 어업 협정 관련 내용을 서술하지 못한 경우

22

예시답안 강원도 평창의 지역 브랜드는 해발 고도 700m에 위치한 지형적 특색을 반영하고 있다. 또, 캐릭터 '눈동이'는 눈이 많이 내리는 평창의 기후적 특성을 나타내고 있다.

채점기준	등급	평가 기준
	상	평창의 지역 브랜드 의미를 지리적 특성을 바탕으로 서술한 경우
	하	평창의 지역 브랜드 의미를 미흡하게 서술한 경우

23

예시답안 군사비 지출 감소로 그 비용을 경제, 사회, 문화 등 다양한 분야에 투자할 수 있게 되어 국민의 삶의 질이 향상될 것이다.

채점기준	등급	평가 기준
	상	군사비 지출 감소로 인한 효과를 두 가지 모두 서술한 경우
	하	군사비 지출 감소로 인한 효과를 한 가지만 서술한 경우

XII 더불어 사는 세계

필수 문제로 **학교 시험 대비하기** ▶ 시험대비서 42~45쪽

① 기아 ② 카스피해 ③ 이슬람교, 힌두교 ④ 생물 다양성 협약 ⑤ 인간 개발 지수 ⑥ 빈곤 ⑦ 적정 기술 ⑧ 공적 개발 원조 ⑨ 국제 비정부 기구(NGO) ⑩ 공정 무역

01 ④ 02 ② 03 ② 04 ④ 05 ④ 06 ② 07 ④
08 ② 09 ① 10 ① 11 ⑤ 12 ⑤ 13 ④ 14 ①
15 ③ 16 ⑤ 17 ① 18 ⑤ 19 ④ 20 ③

01

식량 작물이 가축의 사료나 에너지의 원료로 사용되면서 기아 문제의 원인이 되고 있다. 이 외에도 기아는 인구가 급격히 증가하면서 곡물 수요가 증대되거나, 여러 요인으로 식량 생산이 감소하면서 발생할 수 있다.

02

기아는 가뭄, 홍수, 병충해 등 자연적 요인으로 나타나기도 하고, 분쟁, 급격한 인구 증가, 곡물의 용도 변화, 식량 분배의 불균형, 잦은 분쟁 등 인위적 요인으로 나타나기도 한다.

03

기아 발생률이 가장 높은 대륙은 아프리카로, 아프리카의 대부분 국가에서 높은 수치가 나타난다.

오답풀이 ㄴ. 기아 발생률은 극 지방보다 적도 지방에서 높게 나타난다. ㄷ. 기아 발생률이 35% 이상인 국가는 라틴 아메리카보다 아시아에 더 많이 분포한다.

04

기아 문제가 심각한 국가들은 전통적인 가치관의 영향으로 합계 출산율이 높은 편이다. 적도 주변에서 발생하는 태풍 등의 자연재해는 기아 문제를 심화시키기도 한다. 기아 문제가 심각한 나라들은 대체로 전염병을 비롯한 각종 질병 문제 등을 갖고 있으며, 부정 부패나 잦은 분쟁으로 인해 식량 공급이 원활하지 못한 문제점도 지니고 있다.

05

세계의 영토 및 영해를 둘러싼 분쟁은 자원을 둘러싸고 발생하거나, 과거 식민 지배의 영향으로 국경이 모호하여 발생하기도 하며, 서로 다른 종교나 민족이 충돌하면서 발생하기도 한다. ④ 영토 분쟁을 포함한 지리적 문제는 단순히 해당 지역만의 문제가 아닌, 여러 나라의 이해관계가 얽힌 지구 공통의 문제이다.

06

지도에 표시된 분쟁 지역은 각각 팔레스타인, 카슈미르 지역이다. 두 지역은 모두 종교 분쟁 지역으로, 팔레스타인

해결의 실마리

식량 작물의 용도 변화



옥수수, 콩 등 식량으로 쓰이는 작물이 가축 사료, 바이오 에너지의 원료로 사용됨



곡물 가격 상승, 개발 도상국의 기아 문제 심화

생물 다양성 감소를 막기 위한 노력

개인적 노력	아나바다 운동, 환경 표지 제품 구입, 일회용품 소비 줄이기 등
국제적 노력	세계 자연 기금, 생물 다양성 협약 등

은 유대교와 이슬람교, 카슈미르는 이슬람교와 힌두교 간의 분쟁이 발생하고 있다.

07

제시된 지도의 A는 쿠릴 열도, B는 센카쿠 열도, C는 난사 군도, D는 스리랑카, E는 아부무사섬이다. 스리랑카(D)는 서로 다른 민족이 한 국가에 거주하면서 민족 분쟁 및 종교 분쟁이 발생하고 있다.

08

지도에 표시된 (가) 지역은 여러 영해 분쟁이 발생하고 있는 남중국해 지역이다. 이 지역은 해상 교통의 요충지이자 천연자원이 풍부한 곳으로, 영해 및 배타적 경제 수역 설정에 관한 분쟁이 치열하게 벌어지고 있다.

09

지도의 A는 북아일랜드, B는 팔레스타인, C는 수단과 남수단, D는 카슈미르 지역이다. 제시문의 (가)는 북아일랜드(A), (나)는 팔레스타인(B) 지역에 관한 내용이다.

오답풀이 ㄷ. 수단은 이슬람교를 믿는 아랍계 주민이, 남수단은 크리스트교와 토착 신앙을 믿는 아프리카계 주민이 서로 갈등하였다. D. 카슈미르 지역은 이슬람교를 믿는 파키스탄과 힌두교를 믿는 인도 간의 분쟁이 일어났다.

10

토양 오염이나 수질 오염 등의 환경 오염은 동식물이 생존하기 어려운 환경으로 만들어 생물 종을 단기간에 감소시키거나 먹이의 양 또는 생식 능력을 변화시켜 점차 감소시킬 수 있다.

11

적도 주변에 분포하는 열대 우림은 생물 종이 풍부한 지역 중 하나이다. 따라서 열대 우림의 분포와 생물 종의 개체수는 밀접한 관련이 있으며, 열대 우림을 개발할 경우 생물 다양성도 줄어들 것이다.

오답풀이 ㄴ. 열대 우림의 분포 면적이 넓을수록 생물 종도 다양할 것이다. ㄷ. 열대 우림은 주로 적도 주변에 분포한다.

12

제시된 사례는 농사에 쓰인 농약으로 인해 환경이 오염되어, 오히려 농사에 피해를 입게 된 경우를 보여준다. 이처럼 환경과 생물 다양성은 밀접한 관련이 있으며, 인간 생활에도 큰 영향을 미친다. 따라서 환경을 오염시키는 원인을 줄이고, 생물 다양성을 보존하도록 해야 한다.

13

제시된 글은 생물 다양성 협약에 관한 것이다. 생물 다양성 협약은 생물 다양성 보전의 필요성에 관한 범지구적 공

감대 형성에 따라 채택되었다. 생물 다양성 협약은 기후 변화 협약, 사막화 방지 협약과 더불어 세계 3대 환경 협약 중 하나이다.

14

제시된 A 국가는 아프리카의 차드로, 기아 문제가 심각한 나라 중 하나이다. 기아 문제가 심각한 국가들은 영유아 사망률이 높기 때문에 기대 수명이 낮은 편이다.

15

인간 개발 지수란 각국의 교육 수준과 국민 소득, 기대 수명 등을 기준으로 발전 정도를 평가하는 것이다. (가)와 같이 인간 개발 지수가 높게 나타나는 곳은 대부분 선진국이고, (나)와 같이 낮게 나타나는 곳은 대부분 개발 도상국이다.

16

아프리카는 기아로 사망하거나 질병에 의해 사망하는 비율이 가장 높은 대륙이다. 아프리카와 같이 기아 문제가 심각한 지역은 의료 수준이 낮기 때문에 어린 아이의 사망률이 높게 나타나는 편이다.

17

제시된 자료는 개발 도상국의 주민들이 일상생활에서 겪는 어려움에 쉽게 대처할 수 있도록 접근성을 높인 적정 기술에 관한 내용이다.

18

지역 간 불평등 완화를 위해 노력하는 정부 간 국제기구로는 국제 연합(UN) 산하의 세계 식량 계획(WFP), 국제 연합 난민 기구(UNHCR), 국제 연합 아동 기금(UNICEF) 등이 있다.

오답풀이 나. 세이프 더 칠드런은 아동 구호 사업을 하는 국제 비정부 기구이다.

19

그린피스는 환경 분야, 국경 없는 의사회는 의료 분야에서 가장 활발하게 활동하는 국제 비정부 기구(NGO)이다.

오답풀이 옥스팜은 빈곤 퇴치를 목적으로 활동하는 국제 비정부 기구이다.

20

공정 무역은 커피, 차, 카카오와 같이 사람의 손으로 직접 생산하는 농산물을 주로 다루며, 노동의 대가를 제대로 지불함으로써 생산자의 수익이 향상되고 저개발국에게 자립 기회를 주게 된다. 대신 생산자는 친환경적으로 제품을 생산하는 의무를 지니게 되고, 생산된 제품은 주로 민간 업체를 통해서 무역이 이루어진다. ③ 생산 과정을 친환경적으로 제한하고 손으로 만든 제품이 많기 때문에 소비자는 일반 제품보다 선택할 수 있는 제품의 폭이 좁다.

시전 문제로 등급 올리기

▶ 시험대비서 46~48쪽

01 ③ 02 ① 03 ④ 04 ② 05 ③ 06 ④ 07 ③
08 ② 09 ④ 10 ④ 11 ③ 12 ② 13 ④ 14 ④
15 해설 참조 16 해설 참조 17 해설 참조

01

(가)는 엘니뇨로 인한 가뭄으로 식량 부족이 나타난 상황을 보여준다. (나)는 내전으로 빈곤 상태에 놓인 상황을 보여준다. 따라서 (가)에서는 자연재해, (나)에서는 내전이 기아 발생의 원인으로 작용하고 있다. 가뭄이나 홍수와 같은 자연재해, 병충해 등은 기아 발생의 자연적 원인이며, 잦은 분쟁이나 부정 부패, 급격한 인구 증가, 식량 분배의 불균형 등은 기아 발생의 인위적 원인이다.

02

밀줄 친 '이 지역'은 북극해이다. 북극해는 석유 자원을 둘러싼 러시아, 캐나다, 미국, 덴마크, 노르웨이가 갈등을 벌이고 있는 분쟁 지역이다.

03

제시된 세 지역은 모두 석유와 천연가스가 매장된 곳이다. 각 지역의 인근 국가들은 영유권 및 자원의 소유권을 주장하며 갈등하고 있다.

오답풀이 ① 스리랑카, 르완다, 티베트 등에서 발생한다. ② 팔레스타인, 북아일랜드, 카슈미르 등에서 발생한다. ③ 동아시아 인근 바다, 아부무사섬 등에서 발생한다. ⑤ 대부분 국제 하천이 흐르는 지역에서 발생한다.

04

지도의 A는 팔레스타인, B는 카슈미르, C는 티베트, D는 스리랑카, E는 난사 군도이다. 팔레스타인(A)은 유대교와 이슬람교 간의 분쟁 지역이며, 카슈미르(B)는 이슬람교와 힌두교 간의 분쟁 지역, 티베트(C)는 중국으로부터 독립을 하고자 분쟁하는 지역, 스리랑카(D)는 힌두교와 불교 간의 분쟁 지역, 난사 군도(E)는 베트남, 중국 등 6개국이 자원 때문에 영유권을 주장하는 분쟁 지역이다.

05

지도의 (가)는 수단과 남수단이다. 수단은 아프리카에 위치하며, 영국의 식민 지배를 받았다. 수단의 북부 지역은 이슬람교를 믿는 아랍계 주민들이 주로 거주하며, 남부 지역은 크리스티교와 토착 신앙을 믿는 아프리카계 주민들이 주로 거주하였으나, 영국은 민족의 생활 터전을 고려하지 않은 채 두 지역을 하나로 묶어 통치하였다. 수단은 제2차 세계 대전이 끝난 뒤 1956년에 독립하였으나, 민족과 종교적 차이로 인해 수십 년간 북부 지역과 남부 지역이 내전을 치렀다. 2011년 남수단이 독립하여 수단과 남수단으로 분리되었지만, 송유관과 유전 지대의 이용 등을 둘러싼 분쟁이 지속되고 있다.

영토·영해를 둘러싼 분쟁

- 민족, 종교적 차이로 인한 분쟁: 팔레스타인, 북아일랜드, 카슈미르 등
- 자원을 둘러싼 분쟁: 쿠릴 열도, 센카쿠 열도, 난사 군도, 카스피해, 북극해 등

아프리카 지역의 분쟁

- 배경: 아프리카는 강대국의 식민 지배를 받으면서 국경선이 모호하게 설정되어 현재까지도 분쟁이 잦다.
- 서사하라 분쟁, 수단 내전, 에티오피아 분쟁 등

06

환경이 오염되면 동식물이 생활하는 서식지가 생존하기 어려운 환경으로 변하여 생물 다양성이 감소될 수 있다. 해양 선박 사고로 인해 유출된 기름은 해양 생물의 다양성을 감소시킨다.

07

제시된 지도에서 세계의 열대 우림이 파괴된 지역이 매우 넓게 나타난다. 전 지구적으로 삼림 면적이 감소하였으며, 특히 열대 우림의 파괴가 가장 심각하다. 이와 같이 열대 우림이 파괴될 경우, 이용 가능한 생물 자원이 감소할 뿐만 아니라 생물 다양성도 감소하게 된다. ③ 농경지나 도시 지역의 면적은 증가하였을 것이다.

08

개발 도상국의 아동은 5세 이전에 사망하는 경우가 많아 영유아 사망률이 높게 나타나며, 아동 취학률이 낮아 문맹률도 높게 나타난다.

09

지도의 A는 에티오피아로 기아 발생률이 25% 이상이며 B는 오스트레일리아로 기아 발생률이 5% 미만이다. 기아 발생률이 높은 나라는 대부분 개발 도상국으로, 잦은 자연재해, 낙후된 농업 기술에 의한 식량 생산량 부족, 인구의 급격한 증가, 부정 부패, 잦은 분쟁 등으로 식량 공급에 어려움이 많이 기아가 발생한다. ④ A는 개발 도상국으로, 합계 출산율이 높은 편이므로 유소년층의 인구 비율이 높다.

10

(가)와 같이 기대 교육 연한이 짧은 나라들은 개발 도상국이며, (나)와 같이 기대 교육 연한이 긴 나라들은 선진국이다. 개발 도상국은 민주적 절차가 확립되지 않고 분쟁도 많은 편이다. 반면 선진국은 소득 수준이 높고, 이에 따라 보건 및 의료 수준, 인터넷 이용자 비율, 민주적 의견 수렴 정도 등이 높다.

11

제시된 사진은 각각 쿼드럼(Q-Drum), '항아리 속 항아리(Pot in Pot)'인 항아리 냉장고로, 적정 기술의 대표적인 사례이다. 적정 기술이란, 인간이 누려야 할 최소한의 권리조차 누릴 수 없는 조건의 환경에서 인간의 권리를 누릴 수 있도록 만든 기술이다. 단순하면서도 현지에서 사용하기 쉬워 저개발 지역 주민들의 삶의 질을 향상시키는 역할을 하고 있다. ③ 적정 기술은 필요한 전기를 충분히 생산할 수 없는 지역에서 주로 활용된다.

12

제시된 자료는 국제 연합(UN)이 수립한 17가지 지속 가

생물 다양성 감소의 원인과 영향

- 원인: 기후 변화, 환경 오염, 열대 우림 파괴, 무분별한 남획, 외래종의 유입 등
- 영향: 생물 종이 멸종되거나 먹이 사슬이 끊김 → 생태계가 파괴될 수 있음

지속 가능 발전 목표(SDGs)

- 주관: 국제 연합(UN)
- 목표: 세계 빈곤 문제 해결, 지속 가능한 발전을 위협하는 요인 완화

능 발전 목표이다. 이는 전 세계의 빈곤 퇴치를 최우선으로 하여 지속 가능한 발전을 위협하는 요인들을 완화하고자 하는 국제적인 노력이다. ② 지속 가능 발전 목표를 수립한 국제 연합은 정부 간 국제기구이다.

13

그린피스는 지구의 환경을 보존하고 평화를 증진하기 위한 활동을 펼치는 국제 비정부 기구이다. 세이브 더 칠드런은 빈곤 아동의 교육과 보건, 경제적 지원 등을 통해 아동의 권리를 보호하고 긴급 구호 사업을 펼치는 국제 비정부 기구이다.

오답풀이 ◀ 옥스팜은 빈곤 해결과 불공정 무역에 대항하기 위한 비정부 기구이다.

14

공적 개발 원조는 개발 도상국의 경제 발전과 복지 증진 등을 목적으로 정부나 국제기구가 지원을 하는 것으로, 주로 선진국들이 재원 조달에 참여한다. 수혜국이 가장 많은 대륙은 아프리카이며, 아시아와 라틴 아메리카의 다수 국가들도 수혜국이다.

오답풀이 ◀ ① 우리나라는 과거 수혜국이었으나, 2009년부터 참여국이 되었다. ② 선진국은 주로 참여국이다. ③ 공적 개발 원조의 재원은 국가 또는 정부 기관이다. ⑤ 앵글로아메리카는 캐나다와 미국으로 모두 참여국이다.

15

예시답안 개발 도상국의 곡물 수입이 어려워지면서 기아 문제가 심화될 수 있다.

채점 기준	등급	평가 기준
	상	개발 도상국의 곡물 수입, 기아에 관한 내용을 모두 언급하여 명확하게 서술한 경우
	하	기아 문제가 심화된다고만 서술한 경우

16

예시답안 국경선과 각 부족이 거주하는 경계가 서로 달라 하나의 부족이 여러 국가에 걸쳐서 분포하거나 한 국가 내에 여러 부족이 함께 거주하기 때문에 부족(민족) 간에 분쟁이 나타난다.

채점 기준	등급	평가 기준
	상	국경선, 부족 경계에 관한 내용을 유기적으로 잘 서술한 경우
	하	국경선, 부족 경계 내용이 미흡한 경우

17

예시답안 인도주의적 원조가 계속된다면, 개발 도상국은 점차 선진국의 원조에 의존하는 경향이 커지고 지역 실정에 맞는 발전을 이루기 어렵게 되기 때문이다.

채점 기준	등급	평가 기준
	상	개발 도상국, 원조, 의존 등의 내용을 언급하여 서술한 경우
	하	개발 도상국, 원조, 의존 등의 내용을 미흡하게 서술한 경우